

2010 浙江政法干警笔试考试真题

一、数字推理：包括两种类型的题目，共 12 题。

1. 给你一个数列，但其中缺少一项，要求你仔细观察数列的排列规律，然后从四个选项中最符合规律的一项来填补空项。

请开始答题：

1. 8, 11, 15, 20, (), 23

A. 24 B. 25 C. 26 D. 27

2. 3, 2, 5, 9, 44, ()

A. 286 B. 395 C. 412 D. 528

3. 16, 256, 144, 328, 308, ()

A. 422 B. 446 C. 454 D. 482

4. 5, 17, 36, 63, 99, ()

A. 145 B. 152 C. 158 D. 164

5. 26, -26, 2, 2, 10, ()

A. 126 B. 132 C. 148 D. 154

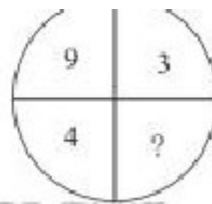
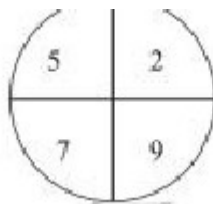
6. 17, 62, 18, 48, 35, 14, 53, 34, ()

A. 79 B. 88 C. 121 D. 132

2. 每题图形中的数字都包含一定的规律，请你总结前两个图形中数字的规律，从四个选项选出你认为问号应该代表的数字。

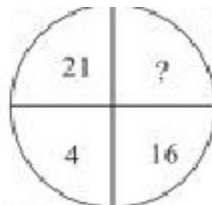
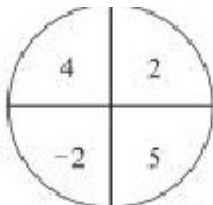
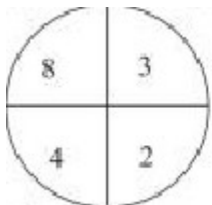
请开始答题：

9.



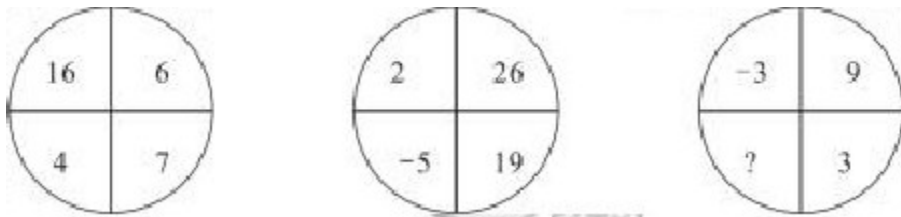
A. 3 B. 5 C. 7 D. 9

10.



A. 2 B. 5 C. 7 D. 9

11.



A.-21 B.-12 C.-7 D.0

14.某人的钱可以买 12 斤苹果或 15 斤香蕉，如果他买了八斤苹果后，剩下的钱全部买香蕉，那么他还可以买多少香蕉？

A.4 斤 B.5 斤 C.6 斤 D.8 斤

15.一共有 180 个苹果，分给加甲乙两班的学生（没人 1 分）。如果先分给甲班，剩下的分给乙班，那么乙班有三分之一的学生分不到苹果；如果先分给乙班的学生，剩下的分给甲班，那么甲班有二分之一的学生分不到苹果。问甲班有学生多少人？

A.135 人 B.120 人 C.105 人 D.90 人

16.5 点 45 分的时候，时钟分针和时针组成的夹角是多少度？

A.92.5 度 B.97.5 度 C.105 度 D.112.5 度

17.有三袋大米，每两袋合称一次，称得他们的重量分别为 108 斤、138 斤和 122 斤，问这三袋大米中最重的一袋比最轻的一袋重多少斤？

A.30 斤 B.28 斤 C.26 斤 D.24 斤

18.一把钥匙只能开一把锁，现在有 9 把钥匙和 9 把锁，最多试多少次才能配好全部钥匙和锁？

A.45 次 B.40 次 C.36 次 D.28 次

19.甲乙丙丁四个人的年龄之和是 180 岁，甲的年龄是己的四分之一；丙再过 8 年和丁今年一样大；16 年后，甲乙的年龄之和等于乙的年龄，问丙今年多大？

A. B. 30 岁 C. 36 岁 D.40 岁

20.一个球从 9 米的高处自由落下，每次着地后又跳回到原来高度的 $\frac{1}{3}$ 再落下，当它第四次着地时，共经过的路程为（ ）米？

A. $13\frac{1}{3}$ B. $13\frac{2}{3}$ C. $17\frac{1}{3}$ D. $17\frac{2}{3}$

21.某兴趣小组的一次测验中，全组的平均成绩为 91 分，其中男生的平均成绩是 88 分，女生的平均成绩是 93 分，问该兴趣小组中女生的人数是男生的几倍？

A.1.2 倍 B.1.5 倍 C.1.8 倍 D.2 倍

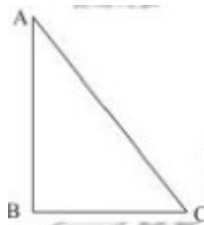
23.有 200 千克的糖水，浓度为 50%。先加入 50 千克的水，再将浓度为 15%的糖水混入其中，最终得到浓度为 25%的糖水。问加入的糖水有多少千克？

A.300 千克 B.325 千克 C.350 千克 D.375 千克

24.如右图所示，直角三角形 ABC 的斜边 AC=15 厘米，
直角边 AB 比 BC 长 3 厘米。

问这个直角三角形的面积是多少平方厘米？

A.66 B.62 C.58 D.54



25.甲乙两地有 600 千米，大车和小车都从甲地开往乙地，大车的速度是 50 千米/小时，大车早上 9 点出发，小车中午 12 点出发，中间没有休息，结果小车比大车提前 3 小时到乙地，小车和大车的速度比是多少？

A.2: 1 B.3: 1 C.12: 5 D.5: 12

26.最近，部分国家主权债务风险持续上升，金融机构的问题集中暴露，主要货币汇率大幅波动，大宗商品价格高位（ ），各种形式的保护主义明显增多。

填入括号部分最准确的一项是：

A.动荡 B.震动 C.震荡 D.徘徊

27.多文的眼睛是敏锐的，他看到了社会的深处，看到了繁华后面的弊端，热闹下面的（ ），高尚掩盖的丑恶。总之，多文看到了病，看到了人的病，心灵的病和社会的病。美化和（ ），于病无益，探索和追问可能引起世人的警觉，有助于这些社会痼疾的治理。

填入括号中最准确的一项是：

A.冷寂 粉饰 B.寂静 掩盖
C.沉寂 掩饰 D.安静 湮没

28.要加强对信用评级机构的监管，减少对信用评级机构的（ ），完善信用评级机构行为准则和问责制度，特别是要（ ）客观，公正，合理，统一的主权信用评级方法和标准，使有关评级结果准备反映一国经济状况和信用级别。

填入括号部分最准确的一项是：

A.依靠 制订 B.依附 制订 C.依托 制定 D.依赖 制定

29.我们生而为人，（ ）为万物之灵，动物中的至尊，以至于不能从其他众生的眼光看生命，也就难以开展真实的（ ）了。填入横线部分最准确的一项是：

A.自封 怜惜 B.自诩 慈悲 C.自称 慈善 D.号称 怜悯

30.四年来，我省在全国率先完成水泥，造纸，味精等行业的结构调整和污染政治，加快淘汰一批落后的化工，印染等（ ），累计淘汰小火电 425.16 万千瓦。

填入括号部分最准确的一项是：

A.产能 B.产值 C.产出 D.产物

31.谁又能想象,倘若没有了这些丰富,()面目多样,蓬勃生长的小客栈,整个云南的面目该会变得多么()和单调?

- A.杂乱 刻板 B.混乱 郁闷 C.混杂 沉闷 D.杂陈 沉重

32.残酷的现实里,人生如意事有一二就不错了,一个人的成熟在于当他的个人意愿不能表达,或能够表达但不可能如意时,能够()地对待,而不()。

填入括号部分最准确的一项是:

- A.若无其事 任劳任怨 B.忍气吞声 自怨自艾
C.息事宁人 怨声载道 D.心平气和 怨天尤人

33.你的城市,最高的地标,最繁华的路段,最()的建筑,最光鲜的场合,最奢侈的场所一定被酒店所(),你可以不喜欢酒店,但你的生活实在绕不开酒店。

填入括号部分最准确的一项是:

- A.炫目 占据 B.绚烂 占有 C.耀眼 拥有 D.醒目 坐落

34.生态文明作为一种崭新的文明形态,是一场大变革,()生产方式,生活方式,价值去想是一种大趋势;始终不能阻挡,不可逾越,不可逆转,是一个大方向;()原始文明,农业文明,工业文明。填入括号部分最准确的一项是:

- A.联结 延续 B.关系 持续 C.关乎 连续 D.关联 接续

阅读以下文字,回答 38—41 题。

令人不忍多加评价的是,芝大教育系的教授们因为收芝大追求“高深学术”这一精神的影响,大都拒绝从事低于大学水平的工作,因此无意中教育中小学教师怎样解决教学问题。即使他们想去做,恐怕也生产不出像医学只是那样的专业只是。在这种底气不足的情况下,如果仍要去影响中小学教育,就得先做好诸多“谈判”工作或积累交情,使愿意接受教育系提供的知识产品。不幸的是,美国各界人士与中小学领域(尤其是中上阶层知名品牌中学),一直都是—种“反教育学”倾向。哪怕是哈佛大学的教育研究生院,也会因为遭受持有此种倾向的人陷入()的困境。选择最恰当的词语,填入上文横线中。

- 38.A.进退两难 B.举棋不定 C.敬而远之 D.举步维艰

39.对文中三个引号的作用,说法正确的是:

- A.第一个引号和第二个引号的作用相同
B.第一个引号和第三个引号的作用相同
C.第二个引号和第三个引号的作用相同
D.三个引号的作用都相同

40.文中“反教育学”具体是指:

- A.掏教育专业知识 B.反对教育改革
C.主张取消高校教育系 D.反对教育学术化

41.文中带着重号的“此种倾向”是指:

- A.追求高深学术的倾向

- B.主张影响中小学教育的倾向
- C.不愿接受大学教育系的知识产品的倾向
- D.坚持教育独立性的倾向

42.假若不对“民族”这个单词及其衍生的关系词汇有所了解，我们几乎无法对近两个世纪的人类历史做出解释。具体到中国近代史，当然也可作入世观。这段话意在表明：

- A.理解“民族”的必要性
- B.解释“历史”的重要性
- C.理解中国近代史的必要性
- D.解释中国近代史的重要性

43.“人类基本精神的丧失，乃是一切生态破坏现象背后最深的根源。为了生态建设，也必须精神重建。”生态的破坏自有多方面的因素，而其中最根本的一点，在于社会生态，文化生态，精神生态的先行破坏。人只有解决好自身的生态问题，才会对世界（包括人和孜然）有一个正确的，健康的认识态度，也才可能最终解决好一切生态问题。事实上一切所谓的生态环境问题其实都是人类制造出来的，是人自身的精神出现了危机，如果不改变我们习以为常的一些观念和思维方式，生态危机仅仅只能治标不治本。

通过这段文字，作者主要想表达的意思是：

- A.人只有解决好自身的生态问题，才能解决好环境生态的问题
- B.只要人类的认识态度正确，生态问题自然会得到解决
- C.一切生态问题其实都是人类自己制造出来的
- D.人类面对生态危机是不可为的，仅仅治标不治本

44.中国传统画论中有一句名言：“外师造化，中得心源。”前面四个字差可与西方古典艺论中“模仿真实世界”相似，“心源”一词初因禅宗而流行，但多用于艺术世界，却恰好与“道心”互为表里，揭示了艺术价值创造的真源所在。

判断下列哪个选项背离了文中所指的“艺术价值创造的真源”？

- A.“胸中自有丘壑”
- B.“笔补造化天无功”
- C.“论画以形似”
- D.“怜渠直道当时语，不着心源傍古人”

45.代之以医学，我们有了医疗产业；代之以大学，我们有了教育产业。医生不再是权威而是雇员，我们不再是病人而是顾客。据说“有位主教也自称 CEO，从而暗示出神父们也是雇员，信众则是接受服务的消费者”。

对上述文字理解最准确的是：

- A.商业利益的介入改变了医院、学校的性质
- B.商业模式被推广到各个领域
- C.必须对职业商品化的趋势进行抵制
- D.医疗和教育是首先被产业化的领域

46.90 后就是这样，因我们的失忆而成为陌生人。承认他们的陌生人身份，是权宜之计，也

是审慎之道。当 90 后被标语化，被某个形象强行代表的时候，我们必须怀着审慎的态度去反对，像电影《十二怒汉》中所说：“必须有人反对，基于慎重对待生命的原则。”这种反对，还有功利一点的原因，如张爱玲所说，我们将来都要“在别人的记忆里寄人篱下”，评判的权力暂时在我们手里，而在将来，将由他们对我们作出评判，包括我们对他们的评判。

通过这段文字，作者主要想表达的意思是：

- A. 不要以个别事件和人物来评价 90 后整体
- B. 承认 90 后的陌生人身份要谨慎
- C. 将来的评判权力在 90 后手里
- D. 对 90 后的一些不当的想法和做法，我们有责任去纠正

47. 纸质媒体还能生存多久？这是每个传媒人都在思考的问题。比尔盖茨说五年，多数人却说没那么悲观。他们已对未来的两个趋势达成共识，一是媒体业肯定会存在，微博和博客取代不了媒体的话语权与意见领袖地位；二是纸质媒体式微，媒介电子化趋势不可避免。电子媒介成为主流，这是今天就摆在眼前的事实。因此，媒体从业者和媒体产业拥有明天，但传统媒体需要拥抱变化。

通过这段文字，作者主要想表达的意思是：

- A. 纸质媒介将成为未来依然乐观
- B. 电子媒介将成为未来媒体的主流
- C. 传统媒体如果不变化就会灭绝
- D. 电子媒介不能取代纸质媒体的地位

48. 应该讲，依托名人实现旅游的“巧”发展是一种出路，但不依托名人的“巧”发展，同样是一条出路。“巧”发展也好，“拙”发展也罢，都要坚持科学发展观。“巧”发展，固然能省去不少设计主题旅游的力气，但若一心弄巧，搞不好真成了拙，因为名人未必就是发展的“胖子”。比方，让西门大官人成为旅游主题，市场不一定就如设计方想象的那样坦然地接受。“拙”发展的“巧”处在于，长期的“拙”，就形成了“巧”。因为这个“拙”里，蕴含着科学的旅游设计和一代代人的不懈努力。

对这段文字的理解最准确的是：

- A. 旅游经济的“拙”发展是没有其他选择之后的选择
- B. 旅游经济发展的“巧”不如“拙”，要遏制各地依托名人发展的思路
- C. 发展旅游经济时，与其苦思冥想弄“巧”，还不如因地制宜实实在在循“拙”渐进
- D. 旅游经济的“巧”发展与“拙”发展的区别在于是否依托名人

49. 我们对整个社会总是有着或多或少的不满，在各种公共事务上极少达成一致，无论是民主宪政还是医疗教育。在这仿佛无休止的争论中，却有一点意外地得到了几乎毫无争议的肯定：法治是我们的必由之路。然而事实却是，当我们在生活中挣扎，对法治翘首以盼，梦想着更好的法律和制度给我们带来幸福生活的时候，失望却不时地将一桶桶凉水泼向我们的热情。我们常常将这种失望归咎于法治的不健全，但当我们把木管转身法制先进的西方社会时，却发现哪里对法律的抱怨和争论更多。

对这段话文字的理解最正确的是：

- A. 人们对公共事务不能达成一致
- B. 法治是解决社会公共事务问题的根本途径
- C. 西方社会的法治也不健全

D. 法治自身很难满足人们的期望

50. 我们总是将黄帝列为正义的一方，说他怎么爱民如子，而将之与对抗的蚩尤丑化为怪兽乱力的邪恶一方，这正应验了所谓成王败寇的习惯思维。其实，黄帝与蚩尤的大战，属于兄弟隔阂，同胞相残，是两个同姓部落之间的权力斗争。而谁是“正义”谁是“邪恶”，也并非完全泾渭分明。胜利者总是最终得到“被批准的暴力”，无论怎样残忍地处置对手，都可以以正义的名义。

对这段文字理解不正确的是：

- A. 正义往往偏袒胜利的一方
- B. 正义与邪恶之间没有明显的分界线
- C. 人们常常会用“以成败论英雄”的思维看待历史人物
- D. 黄帝和蚩尤之战是部落之间的内部斗争

51. 理想：实现

- A. 历史：经验
- B. 文化：传播
- C. 朋友：关心
- D. 信用：透支

52. 旗袍：文化

- A. 劳模：精神
- B. 馄饨：小吃
- C. 书籍：素质
- D. 股市：金融

53. 游乐园：迪斯尼

- A. 奥斯卡：电影
- B. 展览会：世博会
- C. 足球：体育
- D. 纽约：都市

54. 炎热：寒冷

- A. 模糊：醒目
- B. 愉悦：悲愤
- C. 高雅：低俗
- D. 知识：文盲

55. 医生：法官

- A. 资源：环境
- B. 医疗：卫生
- C. 电话：通讯
- D. 导弹：坦克

56. 太阳：圆形

- A. 空调：温度
- B. 窗户：明亮
- C. 城市：繁华
- D. 野兽：凶猛

57. 风帆：尾舵

- A. 鸟语：花香
- B. 键盘：鼠标
- C. 沙漠：湖泊
- D. 摊贩：城管

58. 流星：许愿

- A. 流氓：赌球
- B. 洪水：救援
- C. 乌鸦：厄运
- D. 神迹：膜拜

59. 马尔代夫：海岛

- A. 泰坦尼克：冰山
- B. 厄尔尼诺：气象
- C. 罗曼蒂克：古典
- D. 蝴蝶效应：关联

60. 立法：正义

- A. 运动：健康
- B. 黑客：漏洞
- C. 攻击：骚乱
- D. 批评：警戒

第四部分 资料分析

(共 10 题)

针对下列文字、图或表回答问题，你应根据资料提供的信息计算、处理。

请开始答题：

一、根据以下资料，回答 86—90 题。

2009 年 A 市实现生产总值（GDP）1765.94 亿元，比上年增长 9.0%，其中第一产业增加值 92.13 亿元，增长 4.8%，第二产业增加值“X”亿元，增长 7.4%，第三产业增加值 753.07 亿元，增长 11.6%，全市人均生产总值达到 38179 元，增长 8.5%。

全市农林牧渔业增加值 92.13 亿元，比上年增长 4.8%。全市农作物播种面积 272.8 千公顷，比上年增长 4.5%，其中粮食播种面积为 159.4 千公顷，总产量为 89.55 万吨，分别比上年增长 3.2%和 2.2%；棉花播种面积 5.8 千公顷，产量为 0.94 万吨，分别下降 2.0%和 3.0%；油料播种面积为 25.6 千公顷，产量为 4.64 万吨，分别比上年增长 11.1%和 14.6%；蔬菜播种面积为 42.6 千公顷，产量为 92.49 万吨，分别比上年增长 7.4%和 5.0%；药材播种面积 7.1 千公顷，增长 4.2%；果用瓜种植面积 10.4 千公顷，下降 2.0%，产量 24.25 万吨，下降 3.0%；花卉苗木种植面积 9.4 千公顷，增长 19.9%。

全市完成工业增加值 806.50 亿元，比上年增长 6.5%。全市规模以上工业实现总产值 2652.70 亿元，销售产值 2558.98 亿元，分别增长 5.6%和 4.6%。

全市实现社会消费品零售总额 780.99 亿元，比上年增长 15.6%，城乡消费市场同步增长，其中城市消费品零售额 577.90 亿元，比上年增长 16.0%；农村消费品零售额 203.10 亿元，增长 14.5%。分行业看，批发零售贸易业零售额 693.0 亿元，增长 15.9%；住宿餐饮业零售额 79.20 亿元，增长 14.2%。

86. 资料中“X”的值应为：

- A. 920.74 B 928.44 C 1046.78 D 1092.58

87. 估计 A 市 2009 年年末的总人口数与以下哪个最接近？

- A. 380 万 B 460 万 C 510 万 D 550 万

88. 2009 年 A 市药材的播种面积比棉花多：

- A. 13 公顷 B 130 公顷 C 1300 公顷 D 13000 公顷

89. 2009 年 A 市工业增加值占 GDP 的比重约为：

- A. 26.4% B 34.5% C 41.1% D 45.7%

90. 2008 年，A 市批发零售贸易业零售额约是住宿餐饮业零售额的：

- A. 8.6 倍 B 8.3 倍 C 7.9 倍 D 7.6 倍

二、根据以下资料，回答 91—95 题。

2008 年浙江省建筑业企业房屋建筑面积

地区	房屋建筑施工面积				房屋建筑竣工面积			
	合计	国有企业	集体企业	私营企业	合计	国有企业	集体企业	私营企业
合计	92587.9	550.5	1566.3	40813.3	37381.2	185.5	693.4	18455.8
杭州市	16059.2	175.0	9.8	6107.9	5800.0	65.4	4.9	2865.0
宁波市	10604.0			5755.9	3975.6			2456.0
温州市	5767.1	273.6	1025.8	3451.2	1870.6	57.2	361.9	1097.6
嘉兴市	3857.6			3242.3	1899.6			1656.9
湖州市	2071.0	2.6	7.9	371.9	1031.4	0.4	3.7	185.8
绍兴市	28889.5	0.1	124.2	9369.3	12404.1		67.5	4386.8
金华市	13892.5	86.6	113.9	5668.5	5491.1	52.2	56.9	2781.0
衢州市	1477.9	9.0	6.3	1295.5	861.1	9.0	0.3	773.5
舟山市	776.4	3.5	3.1	446.8	236.7	1.4	1.5	130.1
台州市	8316.5		274.8	4462.4	3448.5		195.7	1850.3
丽水市	876.2		6.5	641.5	362.5		1.1	272.8

91. “房屋建筑施工面积”最大的市的施工面积是最小的:

- A. 119 倍 B 86 倍 C 54 倍 D 37 倍

92. 私营企业的“房屋建筑竣工面积”约占全省“房屋建筑面积”的:

- A. 49% B 38% C 32% D 28%

93. 私营企业的“房屋建筑施工面积”第三大的市是:

- A. 杭州市 B 宁波市 C 金华市 D 台州市

94. 舟山市国有企业的“房屋建筑施工面积”比集体企业多:

- A. 400 平方米 B 100 平方米 C 4000 平方米 D 1000 平方米

95. 绍兴市的“房屋建筑施工面积”与“竣工面积”的总和约为:

- A. 4.1 亿平方米 B 41 亿平方米
 C. 41293.6 平方米 D 16485.4 平方米