

《2011 年公务员考试行测考试 100 套华图真题》

2011 年公务员考试行政能力测试 100 套（含答案）

公务员行政职业能力测验 1

数字推理（数量关系）

（一）给你一个数列，但其中缺少一项，要求你仔细观察数列的排列规律，然后从四个选项中选出你认为最合理的一项来填补空缺项。

例题：

2 9 16 23 30 ()

A、35 B、37 C、39 D、41

解答：这一数列的排列规律是前一个数加 7 等于后一个数，故空缺项应为 37。
正确答案为 B。

请开始答题：

1. 0 2 6 14 () 62

A、40 B、36 C、30 D、38

2. 2 7 28 63 () 215

A、116 B、126 C、138 D、142

3. -1 9 8 () 25 42

A、17 B、11 C、16 D、19

4. 3 4 7 16 () 124

A、33 B、35 C、41 D、43

5. 1 2 3 2 () 6

A、2 3 B、3 C、33 D、5

6. 9 1 3 18 24 31 ()

A. 39 B. 38 C. 37 D. 40

7. 1 7 10 () 3 4 -1

A. 7 B. 6 C. 8 D. 5

8. 0 1 4 13 40 ()

A. 76 B. 85 C. 94 D. 121

9. 6 8 11 16 23 ()

A. 32 B. 34 C. 36 D. 38

10. 6 1 2 19 27 33 () 48

A. 39 B. 40 C. 41 D. 42

11. 0 5 8 1 7 () 37

A. 31 B. 27 C. 24 D. 22

12. 4 9 6 12 8 15 10 ()

A. 18 B. 13 C. 16 D. 15

13. 8 96 140 162 173 ()

A. 178.5 B. 179.5 C. 180.5 D. 181.5

14. 2, 2, 3, 6, 12, 22, 0

A. 35 B. 36 C. 37 D. 38

15. 4, 14, 45, 139, 0

A. 422 B. 412 C. 421 D. 387

16. 1, 2, 4, 4, 1, 0

《2011 年公务员考试行测考试 100 套华图真题》

- A. 16 B. 17 C. $1/32$ D. $1/16$
17. 10, 11, 13, 34, 58, 105, ()
A. 182 B. 149 C. 134 D. 197
18. 1, 2, 3, 7, 8, 17, 15, ()
A. 31 B. 10 C. 9 D. 25
19. 4, 5, (), 14, 23, 37。
A. 6 B. 7 C. 8 D. 9
20. 3, 2, 6, 4, 9, 6, 12, ()。
A. 12 B. 16 C. 15 D. 8
21. 5, 17, 37, 65, (), 145。
A. 99 B. 100 C. 101 D. 102
22. 120, 115, 111, 108, ()。
A. 107 B. 106 C. 105 D. 104
23. 3.1, 4.2, 7.3, (), 18.8。
A. 10.6 B. 11.2 C. 13.9 D. 11.5
24. 3, 7, 11, 15, ()。
A. 16 B. 17 C. 18 D. 19
25. 5.9, 6.2, 6.6, 7.1, ()。
A. 7.6 B. 7.7 C. 7.8 D. 7.9
26. 7, 8, 11, 20, 47, ()。
A. 69 B. 128 C. 108 D. 87
27. 64, 49, (), 25, 16。
A. 36 B. 18 C. 35 D. 42
28. 123, 456, 789, ()。
A. 10112 B. 1122 C. 1012 D. 678
29. 40 23 () 6 11
A. 7 B. 13 C. 17 D. 19
30. 0 -1 () 7 28
A. 2 B. 3 C. 4 D. 5
- 31 题
32. 8 11 16 () 32
A. 25 B. 22 C. 24 D. 23
33. 3 4 () 39 103
A. 7 B. 9 C. 11 D. 12
34. 1 2 2 () 8 32
A. 4 B. 3 C. 5 D. 6
35. 1 7 24 33 46 () 92
A. 65 B. 67 C. 69 D. 71
36. 1 6 1 7 19 22 27 () 45
A. 35 B. 34 C. 36 D. 37
37. 2 8 ()
A. 128 B. 32 C. 64 D. 512
38. 11 22 33 45 () 71
A. 53 B. 55 C. 57 D. 59

《2011 年公务员考试行测考试 100 套华图真题》

(二) 每题图形中的数字都包含一定的规律, 请你总结前两个图形中数字的规律, 从四个选项中选出你认为问号应该代表的数字。

例题

A. 1 B. 2 C. 3 D. 4

【答案】C

【解析】正确答案是 3, 根据前两个图形, 可以看出规律为: $1+3=2+2$; $2+4=3+3$; 因此, $?+5=4+4$ 。所以答案为 C。

请开始答题:

39-43 题

数字推理 (数量关系) 答案

1-5: C、B、A、D、D

6-10: A、A、D、B、B

11-15: C、A、A、C、A

16-20: C、D、A、D、D

21-25: C、B、D、D、B

26-30: B、A、B、C、A

31-35: C、D、D、A、A

35-40: B、D、C、B、C

41-43: A、B、A

文章阅读

本部分均为单选题, 着重考查考生对语言文字的理解和驾驭能力。这种能力包括: 对词、句子、篇章一般意思和特定意义的理解; 对比较复杂的概念和观点的准确理解; 对语句隐含信息的合理推断; 根据上下文, 恰当选用词语; 准确地辨明句义, 筛选信息。

注意: 问题可能是选择一个词语或一个句子, 使表达最为准确, 也可能是考查对文字内容的理解, 你的选择应与题目要求最相符合。

【例题】铁路新线路的开辟与否往往必须在建路花费尽可能少的要求与新建路线的贸易运输量尽可能多的要求之间取得妥协。

这段话主要支持了这样一种论点, 即新建铁路的线路: ()。

A. 应该是一造价最低的线路 B. 其选择决定了新兴贸易中心的位置

C. 决定于是否与终点之间的距离最短 D. 不会总是具有最低建造成本的路
线

【答案】D

【解析】仔细考察四个选项, 您可以发现, 选项 A 与题中“妥协”的含义不相符; 选项 B 和 C 都无法从题中得出; 只有选项 D 是短文支持的一种主要观点, 因此正确答案为 D。

请开始答题:

(1) 阅读以下文字, 完成 1~5 题

你能想像一只绿色老鼠的样子吗? 科学家最近通过基因变化技术使老鼠长出

《2011 年公务员考试行测考试 100 套华图真题》

了绿色的毛，试验的成功让科学家们相信，将相关基因移植入毛囊可以改变毛发的颜色，这意味着对毛囊进行基因变体疗法可能大有作为。

抗癌公司是美国加州圣迭戈的一家生物技术公司，这里的科学家将一种水母基因移植到老鼠的毛囊中，使老鼠长出了在蓝光下呈现荧光绿的毛发。该公司总裁罗伯特·霍夫曼说：“这些毛发之所以是绿色的，是因为其中有荧光绿色的蛋白质。”这种荧光绿蛋白质就是使水母在暗处发绿光的那种基因。霍夫曼将这种水母的基因移入一块剪下的老鼠皮上，他用一种名叫胶原酶的物质将老鼠皮组织软化，胶原酶可使毛囊更容易接受水母的基因，然后将老鼠皮放入培养液中。培养液含有一种腺病毒，这种病毒与平常引起感冒的腺病毒相似。该病毒很快进入老鼠皮上的水母基因细胞中。霍夫曼采取措施使病毒迅速复制，这样病毒细胞就可以将自己携带的基因成分载入老鼠的细胞中。霍夫曼在显微镜下观察细胞的变化过程，他发现，老鼠皮的毛囊中明显出现了绿色蛋白质的斑点，这是每根毛发生长的基础。此后，这块老鼠皮上 80% 的地方长出了绿色的毛。然后，霍夫曼将这块长有绿毛的老鼠皮移植到活老鼠缺少毛发的皮肤上，移植的毛发在老鼠身上不断生长，逐渐遍布全身。

目前，该研究最乐观的前景可能就是让灰白头发恢复成黑发。研究人员已通过基因疗法使白老鼠长出了黑色的毛，这对于治疗灰白头发是重大进步。但这种基因变体技术还要在老鼠身上再做几年试验才能用于人类。科学家们认为，一旦人类掌握了关于头发颜色的基因，基因疗法就可以用于美发。黑头发是因为真黑素在发挥作用，红头发和褐色头发也都有其生成色素，但目前还没破解金发的分子构造。一旦科学家们发现了所有决定头发颜色的基因，那么人们就可以随心所欲地改变头发的颜色，只需激活或减少相关基因，而不是通过染色物质。

霍夫曼同时指出：“毛囊是个了不起的工具。”他相信基因工程能使毛囊产生任何形式的蛋白质，比如胰岛素和干扰素（一种免疫系统蛋白质）。小小的毛囊其实是个巨大的工厂。通过基因疗法，毛囊里不仅能长出健康的头发，还有可能承载某些基因来治疗白化病、糖尿病、癌症等。实际上，把基因疗法用于美发要比治病困难得多。美发需要把头上所有的毛囊都进行处理，而治病只在几个毛囊上进行处理就可以了。

1. 根据文意，下列对文中的“相关基因”和“自己携带的基因成分”的理解，正确的一项是（ ）。

- A. 一种水母基因 水母细胞的基因成分
- B. 关于头发颜色的基因 病毒细胞的原有的基因成分
- C. 一种水母基因 病毒细胞的原有的基因成分
- D. 关于头发颜色的基因 水母细胞的基因成分

2. 文中说“毛囊是个了不起的工具”，下列不能作为这句话的依据的一项是（ ）。

- A. 毛囊能通过基因工程产生任何形式的蛋白质
- B. 小小的毛囊其实是个巨大的工厂，能制造胰岛素和干扰素
- C. 毛囊里能长出健康的头发
- D. 毛囊里可能承载某些基因来治疗白化病等顽症

3. 下列理解符合原文意思的一项是（ ）。

A. 一种水母身上带有能在暗处发绿光的荧光绿蛋白质，将该蛋白质植入老鼠毛发，就能使之发绿光

B. 霍夫曼把一种类似感冒病毒的腺病毒，植入活老鼠缺少毛发的皮肤上并迅

《2011 年公务员考试行测考试 100 套华图真题》

速复制，这样就使老鼠皮的毛囊中明显出现绿色蛋白质的斑点

C. 霍夫曼采用的基因变体疗法就是通过基因变化技术对老鼠的毛囊进行基因改造，从而改变毛发的颜色

D. 科学家们认为，基因疗法能否用于美发，关键在于人类对头发颜色的基因的掌握，如果不能发现所有决定头发颜色的基因，那么人们就很难改变头发的颜色

4. 根据原文所提供的信息，以下推断正确的一项是()。

A. 科学家能通过基因变化技术使老鼠长出绿色的毛，意味着目前也可以通过同样的技术使老鼠长出其他各种颜色的毛

B. 人类的黑头发是因为真黑素在发挥作用，将来科学家只需激活或减少相关基因，而不是通过染色物质，就可能让灰白头发恢复成黑发

C. 霍夫曼移入水母基因细胞时，用一种名叫胶原酶的物质将老鼠皮组织软化，如果不用这种胶原酶，他的实验就不能取得成功

D. 如果利用毛囊进行的基因变体疗法在人身上的试验获得成功，那么人类对白化病、糖尿病和癌症等顽疾的治疗就会轻而易举了

5. 下列哪项最适合作该段文字的标题？()

A. 彩色头发基因技术 B. 老鼠毛色变绿的原因

C. 毛囊的作用 D. 如何利用基因技术

(2) 阅读以下文字，完成 6~10 题

第二次 世界大战期间，美国和前苏联的科学家分别发现，在大洋深处有一些深海声道可以让声波传得很远。在深海声道中，声音可以传播到数千公里之外而没有减弱的迹象。后来的科学家还为此做过一次实验，他们在澳洲南部海中投下深水炸弹，爆炸产生的声波顺着深海声道绕过了好望角，又折向赤道，横穿大西洋，经过 3 小时 43 分钟后，竟然被北美洲 百慕大群岛的测听站收听到了。计算起来，这颗炸弹爆炸后的声波一共“走”了 19200 公里，在海洋中环绕地球达半圈！

经过理论分析，科学家发现，这是因为大自然在大洋深处造成了对声波传播非常有利的深海声道。海水下的声速基本上由温度和海水压力控制：温度愈低，声速也愈慢；而海水压力愈大，则声速愈快。大洋中的水温从总的来说是太阳照射造成的，因此温度总是随深度增加而降低，但到一定深度后温度就不再改变，形成深海等温层。而海水压力却只与深度有关，深度愈大，海水压力就愈大。因此，如果从海面向下观察，就会发现，声速先是随深度增加、温度降低而变慢，当下降到一个最低值时，海水温度不再改变，这时，声速就会随海水压力增大而变快。

这样，声波传播的速度在整个海洋中变成了上下两层，在上面的一层中，水层越深，声速越慢；在下面的一层中，水层越深，声速则越快。在这两层交界的地方，就形成了一个特殊的声道轴，由于声波在传播中总是向声速慢的界面弯曲，因此声道轴上方和下方的声音都会折回声道轴。在上面的一层中，水层越深，声速越慢；在下面的一层中，水层越深，声速则越快。这样，声能被限制在声道上下一定的深度范围内传播，不接触海面和海底，这就像在声道轴上下各放一块反射声音特别好的大平板一样，声音总是在这两块平板之间来回反射，能量不受损失，可以传到很远的地方。这就是“深海声道”。

深海声道经常受到复杂海况的影响，海洋深度的变化、海底山脉的阻挡都是障碍。一般说来，如果海的深度变浅，对声道会有明显的影响，但如果不浅到声

《2011 年公务员考试行测考试 100 套华图真题》

道的下界,影响就不大,如果越过了下界,声道中的部分声波能量就会受损。海底愈浅,声能受损就愈严重。如果海底穿过整个声道,那么声道效应就没有了,声道就消失了。

6. 下列对“深海声道”的理解,正确的一项是()。

A. 深海声道是可以让声音以由快变慢再由慢变快的速度清晰地传播到大洋很深处一定范围内,并总是向声速慢的一面弯曲的特殊界面

B. 深海声道是位处深海一定深度范围内,环绕地球达半圈并且能使声音在其中传播到数千公里之外而没有减弱迹象的特殊声道

C. 深海声道是以深海等温层为界面形成的,因而能保证声波迅速而不受损失地传播到深海一定范围内的特殊的声道轴

D. 深海声道是声能不接触海面和海底而不受损失地在大洋深处的一定深度范围内传播,从而让声音可以传得很远的特殊声道

7. 在海水下的声速与温度和海水压力的关系是()。

A. 温度愈低,声速愈慢 B. 温度愈低,声速愈快

C. 海水压力愈小,声速愈快 D. 海水压力愈大,声速愈慢

8. 根据文意,不属于深海声道“奇异”特点的一项是()。

A. 深海声道可以使声音传播到很远而没有减弱的迹象

B. 在深海声道中声速基本上不再受温度和海水压力的控制

C. 在深海声道中传播的声音能折回声道轴而能量不受损失

D. 声能在深海声道中总是被限定在声道上下一定的深度范围内传播

9. 联系上下文,下列对文中画线句子的理解,与原文意思不符的一项是()。

A. 在声道轴上方,随海水深度的增加,海水温度会越来越低,声速也因此而越来越慢

B. 在声道轴下方,声速和海水深度成正比,和海水温度成反比

C. 这样的声速差别正是使声道轴上下方的声音不断折回声道轴的重要原因

D. 声道轴上下方声速的变化基本上是太阳照射和海水压力影响的结果

10. 根据本文提供的信息,以下推断正确的一项是()。

A. 深海声道形成于大洋深处,这就意味着海洋越深处,声道轴上下方的范围就越大,就越容易形成深海声道,声道效应也就会越明显

B. 深海声道对声波传播非常有利,因此,谁控制了全球深海声道,谁就能从某种程度上控制深海制海权,谁就能提升自身的军事实力

C. 声道效应会受海底障碍的影响,如果人们想获得某一声道效应,可以在条件允许的情况下,采取必要措施清除障碍,以使声道畅通

D. 声波竟然可以顺着深海声道环绕地球达半圈,所以我们可以建成环球深海声道,并利用方向可控的声波来发展通讯事业

(3) 阅读以下文字,完成 11~15 题

南京师范大学地理科学学院沈冠军教授等根据可靠的石制品测年结果,认定云南省宜良县张口洞遗址在距今 4 万~10 万年间存在人类活动,此前的中国原住民并未消亡,现代人类“非洲起源说”的这一重要依据相应不能成立。作者同时认为骨化石的常规 ^{14}C 年龄存在较大误差,不宜在学术研究中引为佐证。这一成果发表于最近出版的《科学通报》上。

众所周知,具有现代解剖特征的智人,即现代人起源的时间和地点,是人类学研究的一大热点。“多地区连续演化”和“非洲起源”这两种主要的学说,已激烈争论了近 20 年。相关遗物年代的准确测定,对澄清这一争议十分重要。沈冠军

《2011 年公务员考试行测考试 100 套华图真题》

认为,过去 20 多年里测年新技术的应用表明,西亚和非洲 10 万年前就有现代人类。而我国相关人类遗址的主要测年手段,是以骨化石为样品的铀系和常规 14C 法,分辨率都很有限,重要晚期智人化石都被定在 3 万年内,同时缺少有确实年代依据的距今 4 万~10 万年间的人类化石,所以尽管我国人类学家多倾向于“多地区连续演化说”,但上述测年数据却更有利于“非洲起源说”。

近年来,沈冠军等基于洞穴次生碳酸盐岩铀系定年,研究了广西通天岩、白莲洞等晚期智人洞穴地点,发现这些原认为 2 万~3 万年前的遗址,实际年代应在 10 万年左右,或者比这更早。也就是说,我国出现现代人类的时间,很可能不晚于西亚和南非,因此当前在学术争议中占上风的“非洲起源说”可能并不成立。

为寻找进一步的证据,沈冠军和云南省宜良县文物管理所李建坤、云南省文物考古研究所吉学平等一起,将目光锁定到位于云南宜良九乡风景区内的张口洞遗址。

据介绍,张口洞遗址于 1989 年被发现,随后共发掘出现代人牙化石 40 余枚、石制品 1800 多件。上部地层炭块和下部地层骨化石的常规 14C 法测年结果,分别是距今 1 万年和 1.5 万年左右。沈冠军等认为,张口洞文化堆积中夹生的钙板多达 10 层,纯净致密、结晶良好的洞穴次生碳酸盐岩可作为铀系年代测定的理想材料,堆积物代表的时间跨度显然远大于原认为的 5 千年左右。为此他们多次进行实地采样,对其人类演化意义进行了“再研究”。

测年结果显示,张口洞的钙板层中表层和第二钙板层小于 1 万年;第四、五钙板层分别为约 5.5 万和 11 万年,其间出土的石制工具是我国这一时段人类活动的确证。因此作为现代人类“非洲起源说”论据的“中国 4 万~10 万年间的人类化石缺环”,很可能只是测年技术系统误差造成的假象。4 万~10 万年是现代人类起源、扩散和演化的关键时期,至少我国南方在这一时段存在人类活动,这里人类演化的时间序列很可能并未间断。

研究表明,张口洞第六钙板层形成年代为 30 万年前,其下堆积远大于骨化石常规 14C 测年给出的约 1.5 万年。因此长久以来在国际学术界颇受质疑的骨化石样常规 14C 年龄,其数据“果真不可相信”。沈冠军认为,上世纪 80 年代前以这一时标测定年代的地点,都应用新技术重新研究;即使暂无可能,也不宜在学术研究中将其引为重要佐证。

11. 文中说:“上述测年数据却更有利于‘非洲起源说’。”下列选项中不属于“上述测年数据”的一项是()。

- A. 云南省宜良县张口洞遗址在距今 4 万~10 万年间存在人类活动
- B. 西亚和非洲 10 万年前就有现代人类
- C. 我国重要晚期智人化石都被定在 3 万年内
- D. 我国缺少有确定年代的距今 4 万~10 万年间的人类化石

12. 沈冠军教授等人对人类起源研究的意义,解说不正确的一项是()

- A. 我国出现现代人类的时间,比西亚、南非都早
- B. 我国 4 万~10 万年间的人类化石缺环可能是测年技术系统误差造成的假象
- C. 我国南方在 4 万~10 万年间存在人类活动,这里人类演化的时间序列很可能未间断
- D. 研究的结果有力地证明了中国人类学家倾向的“多地区连续演化说”。

13. 下列说法不符合文意的一项是()。

- A. 关于现代人的起源,世界上存在“多地区连续演化”和“非洲起源”两个主要观点,已激烈争论了近 20 年

《2011 年公务员考试行测考试 100 套华图真题》

B. 开始是“非洲起源”论占了上风, 后来由于中国考古的发现, “多地区连续演化”论占了上风

C. 骨化石常规 14C 测年法存在较大误差, 因而这种测年方法得出的数据长久以来在国际学术界颇受质疑

D. 沈冠军等人的研究是采用新的方法, 即铀系定年法, 这种方法比 14C 法分辨率更高

14. 根据文中所提供的信息, 下列推断正确的一项是()。

A. 次生碳酸盐岩铀系定年法是我国地理学教授沈冠军发明的

B. 沈冠军之所以把张口洞作为研究的地点是因为那里出土的化石特别多

C. 上世纪 80 年代前所测定的遗址年代都是不准确的, 因而不能在学术研究中加以引用

D. 中国现代人可能不是起源于非洲, “非洲是现代人类的发源地”的观点有可能不成立

15. 对张口洞遗址的考古研究, 其主要是为了说明()。

A. “非洲起源说”可能并不成立

B. 张口洞遗址在距今 4 万~10 万年间存在人类活动

C. 常规 14C 法测年的准确性

D. 我国最早有人类的产生

(4) 阅读以下文字, 完成 16~20 题

关于水族的来源, 国内外专家、学者较为一致的结论是, 水族是我国南方由古代“百越”族群中“骆越”后裔的一支, 逐渐发展成为单一的民族。但是, 水族先民什么时代, 什么原因, 从什么地方来到南方融入百越之中等一系列问题, 一直是水家专家所关注的, 也一直没有更进一步的深入研究。

贵州省水家学会副会长蒙熙林说, 从殷商亡国变迁的历史、水族古文字及水书、水族历法、水族复杂的韵母系统、水族语言中保留着大量的中原古音、水族盛大年节——端节以及 DNA 鉴定等等资料的研究表明, 水族先民可能从北方迁徙而来。

蒙熙林进一步分析说, 荔波县档案局收藏的一本清代水书上印有梅花鹿的图案, 而梅花鹿在南方是绝对没有的。其次, 登高跑马是水族端节活动的一个重要内容, 跑马的时间都在亥日, 相当于汉族春节的大年初一。而水族端节跑马讲究配鞍而骑, 如实在没有者, 也要用色彩艳丽的被面折叠于马背作替代。配鞍而骑是典型的北方民族骑马习俗, 与南方“不鞍而骑”的习俗截然不同。另外, 水族人嫁女儿时, 嫁妆中必须有件羊毛大衣, 这是水族富人富贵的象征。而南方炎热的气候显然与羊毛大衣格格不入。

更具有说服力的是, 医学研究部门通过对水族群体抽血进行 DNA 鉴定, 得到了科学的结论。1997 年, 贵州医学院遗传专家对贵州汉族、苗族、布依族和水族等几个主要世居民族作了人群线粒体 DNA 多态性研究, 将三代都是同一民族家庭的 150 份标本进行了 2600 余次实验, 结果表明, 水家先民确定是西北地区民族的血缘。

专家们分析, 大约在公元前 11 世纪殷商亡国之后, 水族先民第一次举族迁徙, 由中原的睢水流域一带向南迁徙, 使水族先民从殷商的母体文化中分化出来, 逐步融入百越族群之中。水家先民第二次举族大迁徙, 时间大约在公元前 2 世纪秦王朝统一中国, 发兵征服岭南之后。这次迁徙促使水家先民从百越母体中分离出来, 逐步由南溯流向西北迁徙, 进入龙江、都柳江上游地带生息, 大致形成后世

《2011 年公务员考试行测考试 100 套华图真题》

分布的格局。

在生产力发展缓慢的古代。水族地区经历了八九百年的生息发展，到公元 629 年之后，才相继出现唐王朝在水族地区设置应州、抚水州、莪州、劳州、都尚县、婆览县建制的辉煌。水族在发展演变的漫长历史过程中，既有自己的一部分融入到相邻的民族之中，也有相邻民族的一部分融入到水族之中，出现你中有我，我中有你的现象。

因此，在水族民间、在水族研究史上，出现殷人后裔说、两广源流说、江西迁来说、江南迁来说等等，那只不过是水族发展历史过程中某一时段或某一分支的事实。

16. 根据文意，下列对“水族先民可能从北方迁徙而来”的理由说法有误的一项是（ ）。

A. 水族有自己的古文字，水族语言中保存着大量的中原古音，有着复杂的声韵母系统

B. 水族书上印有南方绝对没有的动物梅花鹿的图案，水族人嫁女必送羊毛大衣

C. 水族人骑马讲究配鞍而骑，骑马必配色彩艳丽的被面折叠于马背

D. 水族盛大年节——端节的时间和汉族春节的时间相当，端节的活动——登高跑马的时间亥日相当汉族春节的大年初一

17. 根据文意，下列有关水族的发展演变的说法有误的一项是（ ）。

A. 大约在公元前 11 世纪殷商亡国之后，水族先民由中原的睢水流域一带向南迁徙

B. 水族先民的第一次举族迁徙，融入了岭南的百越族群中

C. 大约在公元前 2 世纪秦王时期，水族逐步由南溯流向西北迁徙，进入龙江、都柳江上游地带生息

D. 一直到了公元 629 年之后，水族才形成了后世分布的格局，有了建制的辉煌

18. 下列理解符合原文意思的一项是（ ）。

A. 水族是由我国南方古代“百越”族的后裔“骆越”族的一支逐渐发展成的单一民族，这是国内外专家、学者较为一致的看法

B. 遗传专家对水族群体作了人群线粒体 DNA 多态性研究，将三代都是同一民族的 150 份标本进行了 2600 余次实验，最终才得出了一个结论

C. 水族从殷商母体文化中分化出来，又从百越母体中分离出去，在发展的过程中又和相邻的民族互相融合

D. 水族先民的两次迁徙，共经历了八九百年的时间，由于生产力发展的缓慢，水族发展的历史是漫长的。

19. 下列关于水族起源的说法，最全面的是（ ）。

A. 殷人后裔说 B. 两广源流说

C. 江南迁来说 D. 以上都不对

20. 根据本文提供的信息，以下推断错误的一项是（ ）

A. 以水族古文字写成的水书，以其独特的魅力和极高的研究价值，受到世界语言学界的瞩目

B. 贵州的汉族、苗族、布依族等世居民族与水族的种群血缘有较大的区别

C. 在对水族群体的 DNA 鉴定中，也发现了有不同于水族特征的个例

D. “西北迁来说”是水族来源研究的最新成果，对学术界长期以来存在的“两

《2011年公务员考试行测考试100套华图真题》

广源流说”、“江西迁来说”、“江南迁来说”的谬误做了纠偏

(5) 阅读以下文字, 完成 21~25 题

世界环境与发展委员会提出一个观念: 主流的社会文化范式认为人类的文化造成今天这样的环境变迁——环境危机、生态冲突等问题, 这跟西方式的社会文化理念有密切关联; 这种西方所主导的观念, 不仅在西方社会发展, 而且慢慢地传染到全世界。这种观点至少有三个特点: 强调竞争与征服; 漠视和谐, 不仅漠视与自然的和谐, 还漠视与其他社会、其他文化的和谐; 无限制地利用物质, 认为资源永远无限, 这是最大的错误。工业革命只是这些观念比较特别的发展, 而这些观念是来自最早期的西方文化理念——两河流域下游的苏末文化。

著名考古学家张光直教授说: “中国与西方两大文明从肇基已基本为不同的原则所支配。”所谓不同的原则, 就是不同的基本文化理念, 即连续性的宇宙观和断裂性的宇宙观。他还说: “中国文明社会的产生, 不是生产技术革命的结果, 也不是商业贸易的起飞, 而是逐渐通过政治程序所造成的财富极度集中的结果。”他认为, 中国文化从新石器时代进入金属时代的过程中, 就表现了一种特别的文化理念, 叫做“延续”或“连续”; 以苏末文化为代表的西方文化的老祖, 从新石器进入金属器时代开始, 其基本的文化理念则是一种“断裂”的理念。这两种文化现象在文明初始阶段已经形成, 并延续至今。

最明显的“连续”表现在生产工具上, 从夏朝转入商朝开始利用青铜器的時候。商朝的青铜器都是用来作为礼器、酒器和兵器, 如“鼎”、“爵”和“戈”等等; 而商朝所用的农器是延续了新石器时代所用的石头、木头、蚌器和骨头。但苏末不同, 它的青铜器最早是用来种植小麦, 用青铜刀来收割成熟的麦穗。从新石器进入青铜器时代是一种突破, 也是一种跟前面关系的断裂。西方学者常常笑话说, 你们中国人好笨, 有青铜器却不用来生产。我们当然知道用青铜器来生产更有效, 产生更多, 但多不一定好。从那个时代开始我们就希望跟自然和谐, 互相尊重; 不愿意用很有效的东西来破坏自然; 我们认为自己跟宇宙是一体的、连续的, 这一点从那时候开始就是我们整个宇宙观念的基本原则。

我们的人际关系也是如此。从夏朝到商朝, 一直到后来的封建时代, 我们都是以氏族、宗教为主体的延伸。但是苏末一开始就放弃了氏族、宗教的团体, 而以地缘的团体来代替。因比, 在人际关系上, 我们延续了宗族关系, 而苏末断裂了, 代之以地缘关系。其他, 如文字应用、城乡关系、财富累积等差别都是如此。

21. 对“多不一定好”理解正确一项是()

A. 中国文明社会的产生, 不是技术革命的结果, 因此“多”不利于社会文明产生

B. 中国文明社会的产生, 不是商业贸易的起飞, 当时社会还没有这样的商业贸易需要, 因此没有“多”的必要

C. “多”造成社会财富的极度集中, 不符合中国文明社会产生的要求

D. “多”会破坏自然的和谐与平衡, 这种不尊重自然的做法会影响人类的连续发展。

22. 对“延续”这一中国文化的理念解说不正确的一项是()。

A. “延续”包含着这样的思想: 人与自然, 与其他人, 与整个宇宙是连成一体的

B. “延续”即保持一种原始的生活状态, 因此商朝所用的农具延续了新石器时代所用的石头、木头、蚌器跟骨头

C. “延续”是一种连续性的宇宙观, 意味着应该维持和谐、平衡的关系

《2011 年公务员考试行测考试 100 套华图真题》

D. “延续”这一中国的文化现象从文明初始阶段就已经形成，它体现在生产工具、人际关系、文字应用、城乡关系、财富累积等方面

23. 下列说法与原文意思相符合的一项是()。

A. 两河流域下游的苏末文化促使工业革命的产生，推进了西方文化理念的发展

B. 西方式的社会文化理念是现代主流的社会文化范式，它影响全世界

C. 西方文明较之中国文明，就其特点看，更多地包含着一些错误的理念

D. 西方式的社会文化理念不仅影响着西方社会，也给发展中的中国带来影响

24. 以下推断不正确的一项是()。

A. 连续与断裂是中西文明理念的差异之所在，这两种文化是可以互补的

B. 一个民族的文化理念，不是后期才产生的，而是从文明一开始出现就形成了

C. 人类文化造成今天这样的环境变迁，是西方社会的发展所造成的，因此我们应引以为戒

D. 作者对工业革命导致环境危机、生态危机等问题的观点持否定态度

25. 下列不属于西方所主导的观念的特点是()。

A. 强调竞争 B. 强调征服

C. 无限制地利用物质 D. 注重和谐

(6) 阅读以下文字，完成 26~30 题

26. 即使动物比人低等，我们这些所谓的“万物之灵”也没有任何理由去折磨、虐待、杀戮他们，这是生命权利的必然，更何况“高等”也仅仅是多了一些“智慧”而已，没有比强大的智慧支撑下的残忍更让这个世界觉得战栗和恐怖的事了。如果仅是黑色的暴力，我们或可根除，但更让人觉得悲哀和无奈的却是那些灰色的“漠然”；无可否认，许多儿童都有一种凌辱小动物的“野性”，这或者可以看为动物的本能，而身负教育引导之责的父母、老师虽戴着文明的冠冕，却有几人担负起文明的教育之责？耳闻杀死了 30 只小猫，有几人从文明教育的深层、从善良人性的角度去探究、思索，因为 30 只小猫在大多数人眼中和 30 个人无法相提并论。

以下选项，最符合上文意思的是()。

A. 人类比动物高等，仅仅是有意识，在生存权利上，人并不比动物享有特殊的权利

B. 在现实中，如果我们将这些虐待、杀戮、残害动物的人绳之以法，将这些黑色的暴力根除，我们将可以让这些可怕的事不再发生

C. 老师和父母一样都应该对富有“野性”的儿童起教育、引导之责，因为他们相对于儿童而言，所有人都是文明人

D. 因为小猫的生命与人的生命无法相提并论，所以在大多数人看来，残杀几只小猫没什么大不了的事

27. 当攻占巴士底狱的号角吹响之时，成千上万的群众在枪弹硝烟中浴血奋战，画家此时不能遏制住激情与斗志，飞扬着手中的画笔，将一位英勇的姑娘幻化为一个战斗的自由女神渲泻在画布之上，迎风飘扬的三色旗帜、横七竖八的尸体以及女神背后代表各个低等阶层的战斗者，都使整个战场在残酷中弥漫出“自由”的气息。德拉克罗瓦这位画坛上的巨匠，准确地把握住这场伟大革命的脉搏与内涵，将光荣与进步永远地留存于世人面前。

以下选项，不符合上文意思的是()。

《2011 年公务员考试行测考试 100 套华图真题》

A. 画中的“自由女神”是根据法国大革命中攻占巴士底狱时的真实人物故事而作的

B. 该画反映了在自由精神的引导下,法国各个阶层为胜利而浴血奋战的场景

C. 画作者德拉克罗瓦在其画作中准确地对这场革命背后的革命精神进行了诠释

D. 德拉克罗瓦通过其画作让人们永远不会忘记这场革命的伟大及其进步意义

28. 文化的繁荣必须植根于经济的发达,隋唐、两宋的历史就是明证;但文化作为上层建筑的一部分,有其独立性,如果沾染了过多的经济元素,沦落成经济的附庸,文化就不再是文化,而成为了庸俗。体育作为一种文化,已经被经济的油彩涂抹得面目全非;艺术作为一种文化,其创造者也在经济的浪潮下趋之若鹜地弃艺从商;文学作为一种文化,在利润的驱使下,“著作”产生速度并不比“速冻饺子”吃到口中慢多少。……因此,古老的城墙被拆毁不再是偶然的决策失误,珍贵的遗迹变得像公园一样热闹不再让人觉得痛心,其他一些文化的堕落现象更是难以尽言,整个社会一方面在口头上高呼发展文化,另一方面却在金钱的面前卑躬屈膝、破坏文化。这对人类社会的发展是福?是祸?

以下选项,最能准确复述上文意思的是()。

A. 文化必须依赖于经济的发展,但不能成为经济的附庸

B. 现代社会存在很多文化被经济所污染的现象,这将破坏社会的发展进程

C. 文化是上层建筑中的一个部分,应该独自发展,如果在金钱面前卑躬屈膝,势必会削弱自身的意义

D. 经济破坏文化的现实情况告诫今天的人们应当立刻警醒,将经济元素尽可能多地从文化中剔除出去

29. 我们总是过多讨论政府如何采取措施来改善社会公共秩序,如何来遏制民工犯罪问题;总是在抱怨,民工们为什么那么脏乱,为什么老是随地吐痰。事实上,所有的市民们都该反省一个问题,我们对民工倾注了多少关切之心,哪怕是同情这心?如果是一个拎着大提包的学生,我们或许会去帮忙拎一下,但有几位市民曾想过去帮一个扛着更大更沉包袱的民工?我们可以为一个年轻的都市女孩让座,有几人会对满脸疲惫的女性民工说声“您请坐”?见到民工,提起民工,我们总是无法掩饰眼中的鄙夷,心中的冷漠,也许从某种程度上说,在我们的心中,他们永远不如我们高贵,不如我们文明。我们一直在呼吁尊重人权,可是我们有否从心底里真正地尊重过他们的人权呢?不保护弱者的社会是一个暴力的社会,不尊重弱者的心理是一种蛮横的心理,两者都远远脱离了文明。

以下各项,能够直接从文中推出的是()。

A. 民工犯罪问题、不遵守文明规则问题的根源在于市民们对这些民工倾注的关心太少,总是歧视他们

B. 遇到一个扛着大包的民工,大多数市民都不会去帮忙,因为普遍地,他们从心底里对民工怀有鄙视、漠然的感情

C. 民工们也有自己的人权,都市人应该从内心深处尊重他们,不排斥他们,从物质和精神上去帮助、关心他们

D. 文明的实现有两个基本的条件,一是一个能保护弱者的社会,二是社会普遍的心态应该是尊重弱者的善心心态

30. 南亚大部分地区位于北纬 $10^{\circ} \sim 30^{\circ}$ 之间,多属热带季风气候,其特点是全年气温较高,且一年分为旱季雨季。这种气候特征制约着南亚的农业,一方

《2011 年公务员考试行测考试 100 套华图真题》

面，高温决定了南亚热带农作物的种属；另一方面，降水量的正常与否又决定着农业的丰歉程度、旱涝情况等。每年 6 月~9 月，西南季风盛行时为雨季；10 月~次年 5 月，东北季风盛行时为旱季。因此，西南季风对南亚的农业有重要影响。正常年份，风调雨顺，农业丰收；异常年份，西南季风过强或过弱，则易形成水灾或旱灾。所以，搞好水利工程建设是南亚农业稳产和高产的关键。

以下关于上文表述的推断不正确的一项是()。

A. 在中国过春节的时候，印度大部分地区正处于东北季风盛行时期，正常情况下，也就是旱灾时期

B. 当澳大利亚人过圣诞节的时候，南亚大部分地区正处于旱季，干冷的气候会制约水稻等需水较多的农作物的生长

C. 2008 年北京奥运会召开之时，孟加拉国将雨量充沛，农作物长势良好，但如果该年西南季风过弱，农业将可能歉收

D. 某年南亚次大陆大部分地区西南季风过于强烈，降雨频繁，但各国农业收成并未有外界预想的糟糕，这说明本区域国家的水利工程可能建设得较好

参考答案：

1-10: D、C、C、B、A、D、A、B、B、C

11-20: A、A、B、D、A、C、D、C、D、D

21-30: D、B、D、C、D、A、B、A、B、B

公务员行政职业能力测验复习 - 片断阅读

一、选词填空：要求你从所给的四个词中选出一个填入句中空格内，从而使句子的意思表达最准确。

例题：

只要方向正确，任何一点积极性都应当得到-----和支持。

A. 尊重 B. 肯定 C. 表彰 D. 重视

解答：用“肯定”填空使句子的意思表达得最准确，故应选 B。

请开始答题：

1. 科学技术的飞速发展给社会带来了-----的变化。

A. 与日俱增 B. 无所不在 C. 一言难尽 D. 日新月异

2. 这家商场越办越差，现在每天去购物的顾客-----。

A. 寥寥无几 B. 门可罗雀 C. 人迹罕至 D. 熙来攘往

3. 山径旁的石壁和殿廊的石碑上，留着不少名人的题咏，词工句丽，书法-----，为湖光山色平添了许多风韵。

A. 精美 B. 精巧 C. 精细 D. 精湛

4. ①以高人一筹的-----教训别人。

②且让我们自己尽量的-----五月的青岛吧。

③语义前后不能-----。

A. 姿态 观赏 连接 B. 姿势 欣赏 连接

C. 姿态 欣赏 衔接 D. 姿势 观赏 衔接

5. 螺赢静悄悄地飞来 动翅膀，向网上一-----，蜘蛛以为有什么飞虫-----住了，赶快来-----，螺赢就用最敏捷的动作，突然把蜘蛛捉住，迅速-----去。

《2011年公务员考试行测考试100套华图真题》

A. 扇 碰 粘 捉 飞 B. 振 撞 粘 看 离

C. 振 撞 粘 捉 飞 D. 振 碰 粘 看 飞

6. 各级政府主管部门和财政机关不再把企业置于直接管理之下,并不等于完全放弃对企业经营活动的-----和-----。

A. 管理 限制 B. 领导 控制

C. 引导 控制 D. 引导 制约

7. 利用合同进行犯罪足一种常见的-----犯罪。

A. 欺诈 B. 讹诈 C. 欺骗 D. 诈骗

8. 由于他事先没有充分准备,因而遇到意外情况时显得-----。

A. 焦躁不安 B. 不知所措 C. 束手束脚 D. 灰心丧气

9. 从社会主义公有制已经显示的优越性和这种优越性还未充分发挥,可以看出,目前许多国有企业存在的某些弊端,-----公有制自身自身问题,-----其表现的具体形式问题,是经济体制问题。

A. 既是 也是 B. 确定 不是

C. 不是 而是 D. 不是 也不是

10. 一位年迈的老人带着孙子,-----在北京西客站前。眺望着这充满民族风格的宏伟建筑群,嘴里不住地啧啧称赞。

A. 屹立 B. 伫立 C. 矗立 D. 挺立

11. 古人有“闻过则喜”之说,而今天有些人则不然,总是-----,对比之下,实在不应该。

A. 瑕不掩瑜 B. 讳疾忌医 C. 刚愎自用 D. 好大喜功

12. 春华秋实,没有那-----的春风,又哪会有这满野秋色的大好收成呢?

A. 温和 B. 温柔 C. 和煦 D. 强劲

13. 讽刺是要夸大的,但不能无中生有,-----。

A. 信口雌黄 B. 捕风捉影 C. 东拼西凑 D. 不着边际

14. 这一套百科全书,内容涉及各个领域、各门学科,真是-----,十富多彩。

A. 洋洋大观 B. 蔚为大观 C. 汗牛充栋 D. 包罗万象

15. 古代动物中有一类动物叫蜥蜴,它-----具有两栖动物的特征,-----具有爬行动物的特征。-----古生物学工作者不容易弄清楚它到底是两栖动物还是爬行动物,-----过去把它放在爬行动物中,-----现在又把它放在两栖动物中去。

A. 既 又 因此 以至 而

B. 不但 而且 不过 尽管 但是

C. 既 又 因此 以致 而

D. 不但 而且 因此 尽管 但是

二、语句表达:

要求你从语法、语气、语义等方面对有关语句作出判断。

例题:

从给出的几句话中选出没有语病的一句:

A. 阅读理解与否,是衡量阅读能力好坏的重要标志。

B. 阅读与理解,是衡量阅读能力好坏的重要标志。

C. 阅读是否理解,是衡量阅读能力的重要标志。

D. 阅读能力好坏的标志是理解。

《2011年公务员考试行测考试 100 套华图真题》

解答：该题的正确答案是 A。

请开始答题：

16. 下列句子中，没有语病的一句是：

- A. 由于使用了新的结算办法，取消了托收承付结算方式，大力推广使用，促进了企业加强资金管理，取得了比较好的效果。
- B. 人类征服沙漠的伟大理想，只有在社会主义制度下，才有实现的可能。
- C. 他的学习成绩之所以好，一个重要的原因是由于勤奋、刻苦。
- D. 第五条，……生了一个孩子，保证不再生两个孩子的，由区、县计划生育办公室发给《独生子女证》。

17. 下列句子中，有语病的一句是：

- A. 如果输入蒙特卡罗模拟中的随机数不是随机数，那么整个的模拟及其预测的结果都必然是错误的。
- B. 成语的正确使用的基础是对成语的确切理解，对成语的理解又不能只从字面的意思推理，而对它产生某些误解。
- C. 她把积攒起来的 400 元零花钱，资助给贫困地区的失学儿童赵长波，确保他能够支付读完小学的费用。
- D. 北京市人民政府办公厅 6 月 17 日发出关于 2002 年 7 月 1 日升挂国旗的通知。

18. 下列句子中没有歧义的是：

- A. 他曾在中山大学就读三个月。
- B. 小范跟他学唱歌。
- C. 父亲从昆明带回来一箱他最爱吃的苹果。
- D. 如果你对象不感兴趣，那就不去了。

19. 下列句子的标点符号使用不正确的一项是：

- A. 王昌龄(?—约 756)，字少伯，太原(?)人。
- B. 原子弹、氢弹的大爆炸，人造卫星的发射、回收，标志着我国科学技术的发展达到了新的水平。
- C. 爸爸是技术能手，妈妈是先进生产者，儿子是三好学生：全家三口，人人向上，谁也不甘落后。
- D. 老师勉励我说：“你要学习鲁迅先生：‘横眉冷对千夫指，俯首甘为孺子牛’的革命精神，全心全意为人民服务”。

20. 下列句子运用的修辞方法与句后括号内所给的不符的是：

- A. 人家是火车头，咱得向人家学习。(暗喻)
- B. 先生，给现洋钱，袁世凯，不行么?(借代)
- C. 松涛呜咽，白雪泪坠，乌云罩日，青天披纱。(拟人)
- D. 说的是马克思主义，行的是自由主义；对人是马克思主义，对己是自由主义。(排比)

21. 下列各项中有歧义的一项是：

- A. 人家都来琢磨怎样提高效率才好
- B. 我们都在研究怎样提高效率
- C. 人们都在考虑怎样教育子女问题
- D. 群众都在思考怎样改善环境卫生

22. 下列各句中有语病的一句是：

- A. 养老保险是为了保障劳动者因年老、丧失劳动能力退出工作岗位后的基本

《2011 年公务员考试行测考试 100 套华图真题》

生活而建立起来的一种社会保险制度。

B. 随着办公用品的现代化和文化用纸的更新,打字蜡纸市场逐步萎缩。

C. 由于我们进行了改革,产品数量提高了百分之二十到三十。

D. 上级领导为了严肃法纪,决定给他行政记过处分,并赔偿部分经济损失。

23. 下列各句中,画线成语使用恰当的一句是:

A. 外出旅游,异地的风物固然让人迷醉,可是在商场购物时遇到的导购的劝说,却常常使人不厌其烦,兴味索然。

B. 位于泉州的千年古刹“开元寺”,檐牙高啄,气宇轩昂,令中外游客大饱眼福。

C. 春运人流尚未散去,在一些大城市火车站一带,一种屡试不爽诈骗手法死灰复燃,愈演愈烈。

D. 这次研讨会开始时气氛有些沉闷,多亏李教授抛砖引玉的一番话,才使大家的发言积极起来。

24. 下列各句中,没有语病、句意明确的一句是:

A. 受厄尔尼诺的影响,今年夏秋海水温度将比正常水温低,美国某些地区会因而干旱。大西洋的飓风会更活跃。

B. “9.11”事件是一起惨绝人寰的人道灾难,这场灾难让众多无辜的孩子和父母陷入了家破人亡的境地。

C. 市政府认真总结造成这一落后局面的原因,从指导思想上,明确树立起依靠科学技术。加快解决这一突出矛盾。

D. 据省气象中心的资料显示,今年新州市除夕最高气温为 12 摄氏度,年初一气温更达 16 度,创 1993 年以来新州市春节最高气温。

25. 下列各句中有语病的一句是:

A. 国务院决定在农村进行的税费改革,是为了切实减轻农民的负担。

B. 美国总统 10 月 16 日在白宫正式签署了国会上周通过的授权总统对伊拉克使用武力的决议。

C. 能否抓住机遇,加快发展,是关系一个政党、一个国家、一个民族兴衰成败的重大问题。

D. 《通知》严禁上级部门不得违反有关规定干预下级机关的机构设置和人员编制配置,强调机构改革涉及的人员要正确对待进退留转,服从组织分配。

26. 下列句子中,没有语病的一句是:

A. 在他的那个寂静的世界里。他像一头牛、一块石头、一弯清澈明净的溪水坦荡地流着……

B. 江西的瓷器是全国产量最高、质量最好的省份之一。

C. 焦裕禄这个名字对青年人可能还有些陌生,可对四十岁以上的人却是很熟悉的。

D. 作者着力刻画了两位主要人物,这两位主要人物的一言一行、一举一动都体现了作者对这两类不同女性的深刻理解和深切同情。

27. 下列句子中,有语病的一句是:

A. 无论美国或其他什么国家,都不能把自己的价值观念强加于他国人民。

B. 经过经理耐心解释,顾客才怒气渐消。带着所购物品离开商场。

C. 我本想这次能在北京与你见面,到京后才知你正忙于创办合资企业,已经到深圳了。 D. 本书作者希望这本书能引导读者在学习英语句型方面起举一反三的作用。

《2011 年公务员考试行测考试 100 套华图真题》

28. 现在许多青年不愿意脚踏实地干一些平凡的工作, 只想有鸣惊人之举, 今天, 在纪念毛泽东同志“向雷锋同志学习”题词发表三十周年的日子里。我们推荐广大青年读一读《雷锋日记》这本好书。以上这个句子的语病是:

A. 句意杂糅 B. 主谓搭配不当 C. 虚词误用 D. 比喻不当

29. 下列句子所用的修辞方法注错的一句是:

A. 各国的船舶穿梭似地来来往往, 码头上吊杆不断起落……但是工人的脚步是稳重的。(比喻)

B. 人的正确思想, 只能从社会实践中来, 只能从社会的生产斗争、阶级斗争和科学实验这三项实践中来。(排比)

C. 他们盛赞它是“引出知识迷宫的线索”、“打开一切科学宝库的钥匙”。给它以极高的地位。(引用)

D. 为什么某些生物的分布广泛而繁多。而它的邻种却分布得狭小而稀少呢?(设问)

30. 在下列一首七律的横线处填一上一句最贴切的句子, 正确的一项是:

江风送月海门东, 人到江心月正中。

-----, 一船鸡犬欲腾空。

帆如云气吹将灭, 灯近银河色不红。

如此宵征信奇绝, 三更三点水精宫。

A. 三千组练挥银刀 B. 半树佛花香易散

C. 万里鱼龙争照影 D. 数丛沙草群鸥散

例题:

阅读以下文字, 回答问题。

板块的边界并不就是海陆的边界, 大部分板块既有陆地又有海洋。作为板块边界的活动构造带有裂谷、俯冲带、碰撞带这三种类型。大洋中[]数万千米的大洋中脊, 中间就是裂谷。地幔物质从这里流出, 形成新的洋底岩石, 并把两边的板块不断推向两侧, 裂谷是洋底的诞生地。某些陆上裂谷(如东非裂谷)可能会产生新的海洋。与裂谷相反, 位于大洋边缘的海沟是海洋板块的消亡带。洋底岩石圈在这里俯冲到大陆岩石圈之下, 如果边界两边都是陆地, 这就成为碰撞带。随着碰撞角度的不同, 这里或因挤压而隆起高山, 或因剪切而形成断层, 或者兼而有之。

例 1. []处填入恰当的措辞是:

A. 遍布 B. 扩展 C. 绵延 D. 延伸

解答: 正确答案是 C。

例 2. 下列判断与文意相符合的一项是:

A. 板块运动的形式有三种: 碰撞、俯冲和裂谷

B. 板块边界的碰撞或俯冲, 和裂谷的情形相反

C. 裂谷位于海洋中或海洋与陆地的交界处

D. 碰撞带和俯冲带位于大洋边缘或陆地之上

解答: 正确答案是 B。

请开始答题:

(一)

语言是交流思想的工具。人类很早就想出了一些使语言传到远方和帮助记忆的方法。例如, 古代我国边境上有敌人入侵时, 就在高台上用柴草燃起烽烟报警, 邻台看见后立即举火, 很快就可传告全体将士。有时也用狼粪来烧, 据说狼粪烧

《2011 年公务员考试行测考试 100 套华图真题》

的烟升得很高、很直，更容易看清楚。还有用旌①旗、锣鼓、篝火来表示某种意思的。再如，古代秘鲁的印加人用不同颜色、不同粗细的绳子，打成不同形状的结，记载各种事情。② 这些方法都有很大的局限性，远远不能满足人们的需要。经过长期的实践，人们创造出了文字。文字是记录语言的符号。它的产生要比语言晚得多。文字把用声音表达的语言变成了有形体的符号，使语言冲破空间和时间的限制，不仅能传到远方，而且能留传后世③。它扩大了语言的使用范围，为交流思想、传播知识提供了新的方法。文字是在语言的基础上产生的，是语言的辅助手段，④文字在记录了语言、形成了书

31. 这段文字运用的说明方法有：

- A. 举例子、下定义 B. 举例子、打比方
C. 下定义、打比方 D. 作比较、打比方

32. ①处的“旌”的拼音是：

- A、zhēng B、kēng C、jīng D、xīng

33. ②、④两划横线处应填入的措辞是：

- A. 所以、而且 B. 但是、但 C. 因此、但 D. 但是、而且

34. ③处“留传后世”中“留”的意思是：

- A. 停留 B. 遗留 C. 长久 D. 不使离去

35. 这段文字说明的中心是：

- A. 语言是交流思想的工具
B. 使语言传到远方和帮助记忆的方法
C. 文字产生的背景和意义
D. 书面语言对口头语言有很大影响

(二)

沙漠化是指非沙漠地区出现以风沙活动、沙丘起伏为主要标志的沙漠景观的环境 ①

过程。沙漠化主要发生在干旱、半干旱及半湿润地区。现在全球有 1 / 3 的陆地被沙漠所占据，70%的干旱土地(36 亿公顷)遭受沙漠化危害，全世界 1— / 6 人口受到沙漠化的影响。从 20 世纪 70 年代以来，全球沙漠化扩展趋势日益加剧。每年有 600 万公顷土地变为沙漠，有 2000 万公顷土地受沙漠化危害而完全丧失生产能力。我国约一半国土分布在干旱、半干旱地带，沙漠化不断扩展，20 世纪 90 年代以来沙漠化扩大速度达 2460 平方公里 / 年，这相当于每年有一个中等县变成沙漠，直接损失达 90 亿元 / 年以上，间接损失更高达几百亿元 / 年。中国最严重的沙漠化发生在东起吉林省白城，西至宁夏回族自治区盐池的 5500 千米长的农牧交叉地带。沙漠化的起因主要是人类 ②，如过度草原农垦、过度草原放牧、过度采伐和水资源利用不当等， ③， ④。干旱、半干旱地区以及临近的半湿润地区生态系统的自然脆弱性，是沙漠化发生的自然因素。

36. ①处横线上应填入的词语是：

- A. 退化 B. 进化 C. 颓化 D. 破坏

37. 文中划曲线的四个词语使用不当的一个是：

- A. 占据 B. 危害 C. 加剧 D. 交叉

38. 文中②、③、④三处横线上按顺序应填入：

- A. 破坏了沙区植被 过度开发旱地资源 导致沙漠化发生、
B. 过度开发旱地资源 破坏了沙区植被 导致沙漠化发生
C. 导致沙漠化发生 过度开发旱地资源 破坏了沙区植被

《2011 年公务员考试行测考试 100 套华图真题》

D. 破坏了沙区植被 导致沙漠化发生 过度开发旱地资源

39、根据文章，下列不可能成为沙漠化的主要原因的是：

- A. 在某些干旱、半干旱地区植被难以生长
- B. 某些干旱、半干旱地区的树木被过度采伐
- C. 人们农垦、放牧的意识和方法不够科学、合理
- D. 水资源被过度利用

40、这篇短文的主要内容是：

- A. 全球沙漠化趋势加速
- B. 沙漠化给我们带来的损失巨大
- C. 沙漠化产生的主要原因
- D. 沙漠化趋势加速及其原因分析

三、阅读理解：每道题包含一段文字(或一个句子)，后面是一个不完整的陈述，要求你从四个选项中选出一个来完成陈述。注意：答案可能是完成对所给文字主要意思的提要，也可能是满足陈述中其他方面的要求，你的选择应与所提要求最相符合。

例题：

钢铁被用来建造桥梁、摩天大楼、地铁、轮船、铁路和汽车等，被用来制造几乎所有的机械，还被用来制造包括农民的长柄大镰刀和妇女的缝衣针在内的成千上万的小物品，这段话主要支持了这样一种观点，即：

- A. 钢铁是一种反映物质生活水平的金属
- B. 钢铁具有许多不同的用途
- C. 钢铁是所有金属中最坚固的
- D. 钢铁是唯一用于建造摩天大楼和桥梁的物质

解答：B

请开始答题：

41. 虽然某些防火建筑的主要部分都是由耐火材料建成，但却可通过门厅和其他通道里的易

燃材料使火势蔓延以致完全被摧毁，这些建筑甚至可能由于金属梁、柱的坍塌而遭到严

重的结构破坏。

这段话主要支持了这样一种论点，即某些防火建筑：

- A. 可能会遭到火灾的严重破坏
- B. 拥有特殊结构的走廊和门厅
- C. 对各种设施的保护不如一般建筑
- D. 受火灾引起的损失小于因金属支撑物坍塌所致的损失

42. 认为“只伤害自己不伤害别人是没有什么大不了”的人忽略了人与人之间互相依赖的关

系。摧毁自己的生命或健康并不意味着帮家人和社会做了一点事；相反它意味着耗费了

社会中的食品、健康服务、教育等有限的资源而对社会没有做出全部的贡献。

下列观点不能直接从以上文字中推出的是：

- A. 伤害自己其实也等于伤害了别人
- B. 年轻人自杀对社会造成的损失比老年人自杀来的大
- C. 我们应该珍惜自己的生命与健康

《2011 年公务员考试行测考试 100 套华图真题》

D. 自杀行为不仅对自身有害，也给社会造成损失

43. 康柏公司总裁菲弗尔认为，以往曾经非常流行的那种垂直结构的电脑工业已经不能适应新的形势，一种新的具有横向层面专门化特征的工业结构已经崭露头角。现在，许多有竞争力的电脑企业集中力量发展和优化自己的核心部件，不再坚持所有的零部件都由自己生产，与那些产品能兼容、优势可互补的公司结成联盟，走联合开发的道路。

这段话主要支持了这样一种观点，即：

A. 康柏公司将集中精力生产具有横卧式结构的电脑

B. 以强调“纯种”来获得优势的经营模式越来越难以适应日益激烈的市场竞争

C. “事事不求人”的垂直结构的电脑生产模式曾经非常流行

D. 在开发自己核心部件的过程中需要加强企业之间的合作

44. 一般说来，越是能直接产生经济效益的科技成果，越应该由受益的经济组织提供激励；越是能产生巨大社会效益和长远、公益性质的科技成果，越是应该由政府提供激励。这一原则符合世界上许多国家的实际情况。

这段话主要支持了这样一种观点，即：

A. 激励应该由适当的主体来承担

B. 激励应该选择适当的客体

C. 政府应对科技成果提供更多的激励

D. 世界上许多国家都很重视对科学研究的鼓励和支持

45. 建立顾客忠诚不是一件孤立的工作，它是整个商务活动中不可缺少的一部分，建立顾客忠诚对企业长远目标的实现将产生深远的影响，它同样还会影响你和你团队所从事的许多业务活动。

这段话说明：

A. 建立顾客忠诚是企业的长远目标

B. 对于一个企业来说，没有什么比建立顾客忠诚更加重要

C. 建立顾客忠诚与企业的其他许多业务活动相关联

D. 作为整个商务活动的一部分，建立顾客忠诚是企业成功的关键

46. 铁路新线路的开辟与否往往必须在建路花费尽可能少的要求与新建路线的商业与贸易运输量尽可能多的要求之间取得妥协。这段话支持了这样一种观点，即新建铁路的线路：

A. 决定了新兴贸易中心的位置

B. 决定于起点与终点之间的距离是否最短

C. 应该是一条造价最低的线路

D. 不会总是建造成本最低的线路

47. 要扭转那种重固定资产积累、轻流动资金积累的偏见，必须保持固定资产投资与流动资金投资的合理比例。据经验，流动资金投资占全部投资的 30% 较为适宜。按有关文件规定，在安排新建企业或扩建老企业时，应安排一定数量的流动资金投资，避免项目建成后，因缺少流动资金而不能形成生产能力。

这段话的主旨是：

A. 要控制固定资产投资的膨胀，加大对流动资金的投资

B. 必须保持固定资产投资和流动资金投资的合理比例

C. 今后要安排一定数量的流动资金投资

D. 要加大对流动资金的投资，首先要扭转轻视流动资金积累的偏见

《2011年公务员考试行测考试 100 套华图真题》

48. 现在的许多文章只因为涂饰太厚，废话太多，所以很不容易觉察出底细来。正如透过密叶投射在地面上的月光，看到的只是点点的碎影。

这段话中被比作文章“真正观点”的是：

A. 月光 B. 碎影 C. 密叶 D. 地面

49. 勿庸赘言，将经济发展纳入计划，有利于维护社会主义的公有制，有利于防止经济发展失去平衡，有利于避免周期性的经济危机和由此导致的浪费。但是，完美的经济运行体制要靠完美的人来保证它的完美。对于中国这样一个有十三亿人口的大国来说，这些制定并执行经济计划的完美的人必须具有绝对超人的智慧，绝对崇高的品德，如同人们崇敬的神明和圣人。

这段话表明了作者这样一种观点，即：

A. 如果由智慧的人来制定和执行经济计划的话，计划经济会比市场经济更有效

B. 市场经济必然会导致资本主义经济危机

C. 与市场经济相比，计划经济有许多优点

D. 不赞成将经济完全纳入计划轨道

50. 生物上的完美令人不寒而栗，因为那等于同种生物没有变异，进化过程失去动力。我们接受生物的多样化，可是却假定完美是物理和工程科学可欲而又可即的目标。这种观念起源于我们对许多简单问题了解得比较透彻，而“简单”往往意味着对缺陷的忽略。

这段话主要支持了这样一种观点，即：

A. 完美不可能在科学上实现

B. 生物科学比物理和工程科学更深奥

C. 缺陷对人类整个技术文明是绝对必须的

D. 在物理和工程科学中完美是可欲而又可即的

51. 按照价格理论，成本是产品价值的基础组成部分，它决定着产品价格的最低界限，如果价格低于成本，企业便无利可图；市场需求影响顾客对产品价值的认识，进而决定着产品价格的上限；而市场竞争状况则调节着价格在上限和下限之间不断波动并最终确定产品的市场价格。

这段话的主要意思是：

A. 产品价格可以在上限和下限之间变动

B. 产品价格究竟多少，应由市场竞争状况来决定

C. 产品价格受成本、市场需求和市场竞争等因素影响

D. 不管市场需求、市场竞争状况如何，企业产品定价必然高于成本

52. 即使不考虑企业破产在工人就业、社会安定等方面所带来的一系列问题，在今天中国的经济条件下，使实际上已经破产的企业都在法律上破产也未必可取。由于市场发育不成熟、竞争机制不完善、市场信号不准确，企业破产的过程并不一定是资源存量良性配置和产业结构调整优化的过程。

这段话主要支持了这样一种观点，即：

A. 工人就业、社会安定等方面出现的问题不单是由企业破产造成的

B. 让长期亏损又毫无希望的企业破产将有利于资源的良性配置

C. 企业破产制度尚需完善

D. 企业实际上的破产并不等于法律上的破产

53. 阅读下面一首七律，在空缺处填上一句，最恰当的一项是：

群山万壑赴荆门，生长明妃尚有村。

《2011 年公务员考试行测考试 100 套华图真题》

-----，独留青冢向黄昏。

画图省识春风面，环佩空归月夜魂。

千载琵琶作胡语，分明怨寸艮曲中论。

A. 一去紫台连朔漠 B. 二月郊原尚朔风

C. 三春白雪归青冢 D. 城中桃李愁风雨

阅读以下短文，回答 49—50 题：

药品经口服和皮下注射，总会有许多问题产生。你给病人皮下注射，药物是可以被迅速吸收，但它是“一次性的”，必须经常重复。一些长效、定时溶解的口服新药，虽然比古老传统的丸药有很大的进步，但医师们相信这些药大多会与胃肠液相互作用而造成损害。

为了避免这些缺点，许多生化学家一直在研究使药品进入人体的新方法。生化学家试图以一种类似天然激素的物质注入人体来使药物适时溶解。其秘诀在于使用含有药物的聚合薄膜。总会有一天这层薄膜不论放在皮肤一亡或放进嘴里，它的药物都能直接被吸收入血液中。

54. 本文的主题是：

A. 口服药物与皮下注射药物的不同 B. 寻找一种药物使用的新方法

C. 如何安全服用药物 D. 薄膜的利用与生物化学的研究

55. 你认为以上这段文字最可能摘自哪里？

A. 报纸 D. 小说 C. 百科全书 D. 广告

(一)

圣马克堂是方场的主人，建筑在十一世纪，原是拜占庭式，以直线为主。十四世纪加上哥特式的装饰，如尖拱门等；十七世纪又参入文艺复兴期的装饰，如阑干等。所以庄严华妙，兼而有之；这正是威尼斯人的漂亮劲儿。教堂里屋顶与墙壁上满是碎玻璃嵌成的画，大概是真金色的地。蓝色或红色的圣灵像。这些像做得非常肃穆。教堂的地是用大理石铺的，颜色花样种种不同。在那种空阔阴暗的氛围中，你觉得伟丽，(甲)觉得森严。教堂左右那两溜儿楼房，式样各别，(乙)不对称；钟楼高三百二十二英尺，(丙)偏在一边儿。(丁)这两溜房子都是三层，都有许多拱门，恰与教堂的门面与圆顶相称；又都是白石造成，越衬出教堂的金碧辉煌来。教堂右边是向运河去的路，是一个小方场，本来显得空阔些，钟楼恰好填了这个空子。好像我们戏里大将出场，后面一杆旗子总是偏着取势；这方场中的建筑，节奏其实是和谐不过的。十八世纪

意大利卡那来陀一派画家专画威尼斯的建筑，取材于这方场的很多。德国德莱司敦画院中有几张，真好。

56. 对“这正是威尼斯人的漂亮劲儿”中的“漂亮劲儿”理解正确的一项是：

A. 对建筑学的不可贡献

B. 充分展示威尼斯建筑的美

C. 在艺术上最善于借鉴与创新

D. 在建筑上最善于去粗取精，弃伪存真

57. 在甲、乙、丙、丁四处分别填词，最恰当的一项是：

A. 更 却 却 且 B. 也 却 也 且

C. 更 并 却 但 D. 也 并 也 但

58. 下列各句中。与画线句子采用的修辞方法一一样的是：

A. 有的松树自得其乐，显出一副潇洒的模样。

B. 那缀满草尖上的水珠却又像数不清的金刚钻。

《2011年公务员考试行测考试100套华图真题》

- C. 仿佛蔚蓝的天融了一块在里面似的，这才这般的鲜润呀！
D. 微风吹过，送来缕缕清香，仿佛远处高楼上渺茫的歌声似的。
59. 对“节奏其实是和谐不过的”中的“节奏”理解正确的是：
A. 指建筑色彩的浓淡强弱和位置的高低错落的情况。
B. 指圣马克方场中各建筑物的式样各别
C. 指钟楼在布置上：的特别之处
D. 指圣马克堂的内外特点鲜明，内部伟丽森严、外部庄严华妙
60. 这段史字的一主要内容是：
A. 圣马克方场中各建筑物的特点以及彼此间的关系
B. 圣马克堂在方场中的位置、建筑特色，以及与其他建筑物的关系
C. 圣马克方场十各建筑物的特色和布局的艺术性
D. 圣马克堂左右两溜儿楼房、钟楼等建筑物的特色

(二)

人愉快时，面呈笑容，哀痛时放出悲声，这种内心情感也能在中国书法里表现出来，像在诗歌音乐里那样，中国的书法何以会有这种特点呢？后汉大书法家蔡邕说：凡欲结构字体，皆须像其一物，若鸟之形，若虫食禾，若山若树，纵横有托，运用合度，方可谓书。”元代赵子昂写“子”字时，先习画鸟飞之形，使这“子”字有鸟飞形象的暗示。他写“为”字时，习画鼠形数种，穷极它的变化。可见这时候的“字”已不仅是一个表达概念的符号，而是一个表现生命的单位，书法家用字的结构来表达物象的结构和生气勃勃的动作。

由于中国古代的书法家要想使“字”也表现生命，成为反映生命的艺术，就须用他所有的方法和工具在字里表现出一个生命体的骨、筋、肉、血的感觉来。但在这里不是完全像绘画，直接模示客观形体，而是通过较抽象的点、线、笔画，使我们从感情和想像里体会到客观形象里的骨、筋、肉、血，就像音乐和建筑也能通过诉之于我们的情感及身体直感的形象来启示人类的生活内容和意义一样。书法家就是借着这些“字”的形象来暗示他自己对这些形象的感情。这些形象在他的书法里不是事物的刻画，而是情景交融的意境。

中国人写的字之所以能够成为艺术品，有两个主要因素：一是由于中国字的起始是象形的，二是中国人用的笔。由于中国字在起始的时候是象形的，这种形象化的意境在后来的“字体”里仍然潜存着、暗示着，在字的笔画里、结构里、章法里显示着形象里面的骨、筋、肉、血以至于动作的关联。所以，写字在古代的正确的称呼是“书”。书者如也，书的任务是如，写出的字要“如”我们心中对物象的把握和理解，用抽象的点画在表达自己的感情的同时反映出或暗示出自然界的各种形象。这种“因情生文，因文见情”的字就升华到艺术境界，具有艺术价值了。

第二个主要因素是笔。殷朝就有了笔，这个特殊的工具才使中国人的书法有可能成为一种世界上独特的艺术，也使中国画有了独特的风格。中国人的笔是把兽毛(主要用兔毛)捆缚起做成的。铺毫抽锋，极富弹性。所以巨细收纵，变化无穷。这是欧洲人用鹅管笔、钢笔、铅笔以及油画笔所不能比拟的。书法家就是运用这支笔创造了世界上独一无二的书法艺术，使中国的书法成为表达民族美感的工具。

61. 联系上下文，“纵横有托，运用合度”的意思是：
A. 久笔画的运用都依托于各种物象，并且分寸把握得当
B. 笔画的运用都依托于各种物象，并且合乎构字的法则

《2011 年公务员考试行测考试 100 套华图真题》

- C. 笔画的运用都寄托着作者的心绪, 并且分寸把握得当
D. 笔画的运用都寄托着作者的心绪, 并且合乎构字的法则

62. 文中划横线的“方法”两字的意思是指:

- A. 汉字的象形特征 B. 作者的感觉、想像
C. 书写时的笔法运用 D. 抽象的点、线、笔画

63. 第三段中“潜存着、暗示着”的意思是:

- A. 字体虽变, 象形仍然是汉字的主要特点
B. 书法家写字时, 字形里仍存在象形的意境
C. 现代汉字中, 象形的特点已不易辨识
D. 经过演变, 汉字已成为抽象的表意符号

66. “书者如也”中的“如”的意思和用法与下面哪一个“如”相同:

- A. 称心如意 B. 一见如故 C. 今不如昔 D. 如数归还

65. 通读全文, 对第一段中“这种内心情感也能在中国书法里表现出来”的正确理解是:

- A. 在我国的书法艺术中, 书法家展现着自己的审美情感。
B. 在我国的书法艺术中, 书法家披露着自己的生活态度。
C. 在我国的书法艺术中, 书法家表达了对客观世界的认识。
D. 在我国的书法艺术中, 书法家倾诉着生活中的喜怒哀乐。

每道题包含一段文字(或一个句子), 后面是一个不完整的陈述, 要求你从四个选项中选出一个来完成陈述。注意, 答案可能是完成对所给文字主要意思的提要, 也可能是满足陈述中其他方面的要求, 你的选择应与所提要求最相符合。

【例题】钢铁被用来建造桥梁、摩天大楼、地铁、轮船、铁路和汽车等, 被用来制造几乎所有的机械, 还被用来制造包括农民的长柄大镰刀和妇女的缝衣针在内的成千上万的小物品。

这段话主要支持了这样一种论点, 即钢铁()。

- A. 是一种储量丰富的金属
B. 具有许多不同用途
C. 是所有金属中最坚固的
D. 是惟一用于建造摩天大楼和桥梁的物质

【解答】正确答案是 B。

请开始答题:

66. 蛋白质功能的关键是其形状, 大多的蛋白质在其存在期间只保持一种形状, 朊毒体则是能突出改变形状或发生错误交叠的蛋白质, 它们不仅自身发生错误交叠, 还会影响同一类型的其他蛋白质也出现这种现象, 这类错误交叠的蛋白质会停止正常功能, 然后死亡或是对细胞——最终对组织——产生致命作用, 可是科学家最近发现, 这种以朊毒体形式活动的蛋白质与维持长期记忆有关。

下列符合文章的一项是()。

- A. 蛋白质吸收越多, 对人体越好
B. 朊毒体是位于中枢神经系统突触上的一种蛋白质
C. 以朊毒体形式活动的蛋白质影响人脑的记忆存储功能
D. 朊毒体错误交叠后会产生癌细胞

67. 地球上生命的历史也就是生物与它们的环境相互作用的历史、动植物的形体和习性在很大程度上是由环境造成的, 而反向作用, 即生物对其所在环境的实际影响则相对较小, 只有到了 20 世纪, 作为物种之一的人类才获得了足够的力量,

《2011 年公务员考试行测考试 100 套华图真题》

有效地改变他所在的世界——大自然。

根据文意，下列对文中“足够的力量”的理解，正确的一项是（ ）。

- A. 人类所获得的空前的改变社会环境的力量
- B. 地球上的生物施加给自然环境的反向作用力
- C. 环境对地球上生物的作用和地球上生物对环境的反作用
- D. 人类在 20 世纪所取得的足以改变自然环境的力量

68. 细菌要在光学显微镜下才能看见，但它除了拥有生命的基本单位核酸外，还有一大套赖以生存的配套设施，包括作为居住“公馆”的细胞壁、储存营养物质的“仓库”以及进行新陈代谢的“

化工车间”，而

病毒就更小了，也可怜得多，且不奢谈“库房”和“车间”，就连作为保护外壳的“茅草房”也没有。

下列原文中划线句子的理解，不正确的一项是（ ）。

- A. 病毒不像细菌那样有一大套赖以生存的配套设施，只有一条“表示生命的核酸”
- B. 使人对病毒“毫无独立生存能力”有直观的认识
- C. 从结构、形态等方面说明病毒生存能力的脆弱
- D. 生动地描绘了病毒的“寒碜”形象，消除了人们对病毒的畏惧感

69. 侠文化中的“文化”观念，不是一个体现在正统化的经书典籍中记载的、可用简明的术语所确认的精神现象，而是一种历史存在与文学想像、社会体验与心理认证、当代视界与价值特指的不断地整合与融会的动态过程。

下列对“侠文化中的‘文化’观念”表述最准确的一项是（ ）。

- A. 是一个极其复杂的精神现象，它不可能从中国的古今典籍中体现出来
- B. 是一个憧憬乌托邦的文化观念，因此，它不能用简明的术语来确认、表述
- C. 是一种历史存在与文学想象、社会体验与心理认证、当代视界与价值特指的不断地整合与融会而形成的不断变化发展的精神现象
- D. 侠文化不是一个精神现象，而是一种历史存在与文学想象、社会体验与心理认证、当代视界与价值特指的不断地整合与融会的过程

70. 大气里飘散着黑烟，江河里漂浮着秽物，是很直观的环境污染，但人们很少能注意到自己脚下的土地也正遭受着严重污染。有的专家说，看得见的污染不一定是最要命的污染。土壤的物理特性决定土壤极易被污染，而土壤污染是个不断累积的过程，一般不易为人们所觉察。跟大气和水体比较起来，土壤对污染物的容纳能力要大很多，但土壤一旦被污染就很难清除。

“看得见的污染不一定是最要命的污染”一句强调的意思是（ ）。

- A. 土壤污染是看不见的，渐近的
- B. 土壤污染具有隐蔽性，很难治理
- C. 土壤污染对生命的危害最直接
- D. 土壤污染的治理目前还没有可行办法

71. 天然气(主要成分是甲烷)和水混合时产生的晶体物质，外貌极似冰雪，点火即可燃烧，故称之为“气冰”或“固体瓦斯”。形成“气冰”至少要满足三个方面的条件。首先是温度，海底温度在 2℃至 4℃时，适合“气冰”的形成，高于 20℃则分解。其次是压力，在 0℃时，只需要 30 个大气压就可以形成“气冰”。如果在海底，海深每增加 10 米，压力就增大 1 个大气压。因此，海深 300 米就可

《2011 年公务员考试行测考试 100 套华图真题》

达到 30 个大气压。海越深，压力越大，“气冰”就越稳定。第三是气源，海底古生物尸体的沉积物，被细菌分解会产生甲烷，或者是天然气在地球深处产生并不断进入地壳。在此情况下，天然气可在介质的空隙中和水生成“气冰”；甲烷分子被若干个水分子形成的笼型结构接纳，生成笼型固体结晶水合物，分散在海底岩层的空隙中。在常温常压下，“气冰”则分解为甲烷和水

下列对“气冰”这一概念的理解，准确的一项是()。

- A. 是天然气和水在一定的温度和压力条件下与介质混合产生的晶体物质
- B. 是细菌分解海底古生物尸体所产生的以甲烷为主要成分的天然气，在介质中生成的固体结晶水合物
- C. 是天然气和水在一定的温度和压力条件下混合时产生的晶体物质
- D. 是天然气被水分子形成的笼型结构接纳，在地壳深处的空隙中与介质生成的笼型固体结晶水合物

72. 中国传统医学界由汉、藏、蒙等多个民族的传统医药学共同组成，它既有东方传统医药学的神秘之处，又往往有现代医药学所不及的奇特功效，它含有神话、传说的成分，它的许多原理至今也无法用现代医学理论进行科学的解释，但这种“神秘”的医药学，却常常有着神奇的功效，比如，藏医，很长一个时期，它的传授是在寺庙中以隐秘的方式进行的，它用青藏高原所独有的植物、动物、矿物对患者进行治疗，对包括癌症、中风在内的多种令现代医学棘手的疾病有着较好的疗效。

中国传统医药学为什么显得“神秘”，下列理解不正确的一项是()。

- A. 它往往与古老的神话和传说紧密结合在一起
- B. 它长期以来以隐秘的方式在寺庙中代代相传
- C. 站在西医学的角度看，它有难以解释的地方
- D. 它的许多原理至今也无法用现代医学理论进行科学的解释

73. 有关祭祀的种种内容之中，如项目、仪式、程序、场合以及参加祭祀的人员等等，就包含了关于人与自然、人与人之间的种种关系。在这些祭祀活动的背后，也反映着当时的各种社会关系和观念。比如说，由谁来主持祭祀活动，哪些人有资格参与祭祀，致祭的次序排列等等，都异乎寻常地显得十分重要。

这段话支持了这样一种观点()。

- A. 祭祀活动的细节能够反映人与人之间的社会关系
- B. 祭祀活动的内容十分重要
- C. 祭祀活动的内容反映当时的社会关系和观念
- D. 从祭祀活动的仪式中，逐渐抽象、概括出反映等级差别和专制要求的精神原则

74. 地球之外究竟有无生命，过去的科学知识告诉我们，地球上的高文明生命形态，在太阳系内是惟一的。1984 年，英国科学家在南极拾到一块陨石，经过美国科学的研究证明，这块来自外太空的陨石内含有高浓度的有机体(或说原始的微生物)，说明地球不是惟一有生命的地方。当外星人近 20 年前首次出现在银幕上的时候，科学家们仍然没有发现任何此类活生生的生命，但是他们认为， 。

填入横线部分最恰当的是()。

- A. 其他星球也具备养育生命的条件
- B. 其他星球不具备养育生命的条件
- C. 其他星球也存在生命
- D. 其他星球不存在生命

75. 现代科学技术开始于 19 世纪末，当时出现了有组织的、规模较大的科学技术研究单位，这有内在的和外部的原因。内在原因是科学技术到这时期比较复

《2011 年公务员考试行测考试 100 套华图真题》

杂，专业、专科很多。外部原因是当时出现的一场技术革命。

这段话主要支持了这样一个论点，（ ）。

- A. 即现代科学技术产生于 19 世纪末
- B. 即现代科学技术是内外两种因素作用的结果
- C. 即现代科学技术产生的外因大于内因
- D. 即现代科学技术的出现使科学技术研究单位变得有组织有规模

76. 如果把超导磁浮列车的实用化算作 100 的话，目前的开发研究已处于 80 的相对阶段，预计在 2010 年可望实现实用化。而下一代的高温超导磁浮列车则将在 2030 年左右投入运行。当前世界上对超导磁浮列车的研究，日本的水平领先于世。

文中“相对阶段”指的是（ ）。

A. 按各国开发研究的平均水平，已完成实用化技术的 80%，有的国家已进入实用化阶段

- B. 按世界最高水平，实用化技术已开发完成 80%，接近于实用化阶段
- C. 有 80% 的国家已经进行开发研究
- D. 80% 的实用化技术领域有待开发，该项技术处于起步阶段

77. 夹用外国字母，不仅仅是文字规范化的问题、书面的形象美观问题；更大程度上，关乎一个国家、一个民族自身的文化尊严，是绝不应该等闲视之的。

这段话支持这样一种观点，即（ ）。

- A. 夹用外国字母关系到文字的规范化问题
- B. 夹用外国字母关系紧要
- C. 夹用外国字母影响书面的形象美观
- D. 夹用外国字母关乎一个国家、一个民族自身的文化尊严

78. 近几年来，关于中国文化，主要是中国传统文化，或者是以中国文化为基础的东方文化，将成为 21 世纪的主导性文化及 21 世纪将成为中国文化或东方文化的世纪的观点，十分流行。西方一些学者也持有此类观点。对此，我则持怀疑态度。

这段话主要支持这样一种观点，即（ ）。

- A. 中国传统文化，就是以中国文化为基础的东方文化
- B. 中国传统文化，将成为 21 世纪的主导性文化
- C. 我对中国传统文化将成为 21 世纪主导性文化的观点持怀疑态度
- D. 西方学者对中国传统文化将成为 21 世纪主导性文化的观点持怀疑态度

79. 中世纪是西方社会最黑暗的时期，基督教处于万流归宗的地位。“中世纪的世界观本质上是神学的世界观”，“中世纪把意识形态的其他一切形式——哲学、政治学、法学都合并到神学中，使之成为神学中的科目”。因此，独立的法学消失了。

对这句话理解错误的是（ ）。

- A. 独立的法学消失了，因此法学思想也随之消失了
- B. 中世纪之所以没有独立的法学，是因为宗教处于统治地位
- C. 法学思想糅合在神学中，被保存和发展下来
- D. 独立的法学消失了，法学作为神学的科目被保存和发展下来

80. 法兰西失尽海外的殖民地，巴黎永远是全世界艺术崇拜者的麦加。罗丹的“思想者”高踞于自家庭院里，天天接待来自全世界各式人种的瞻仰和膜拜。巴黎的地铁靠近罗丹博物馆的那一站，站台两壁张挂的全部是罗丹作品的巨幅照

《2011 年公务员考试行测考试 100 套华图真题》

片，这是旅游广告，也是民族骄傲。

上文反映了()

- A. 艺术具有军事所不可比拟的力量
- B. 法国国力虽不算强，但艺术却令世人瞩目
- C. 巴黎能成为艺术殿堂，和殖民统治分不开
- D. 军事成就是暂时的，艺术成就是永恒的

81. 春秋、战国确是中国历史上举足轻重的“盛世”，虽然政治上混乱不堪、军事上征战连绵，痛苦、泪水、鲜血始终纠缠着这一时期的人们，但对于思想、对于文化、对于科技等等却是前所未有，甚至空前绝后的“黄金时期”，甚至乎从无序的政治混沌角度着眼，旧有政治体系在激烈的社会变革中土崩瓦解，代之以更为先进、更加充满活力的新兴政治架构，亦不失为一种良性事实。即使攻战杀伐不休的军事活动也催生出《孙子兵法》这样的“珍珠”，也用大国吞并小国的方式为中国大地注入了新鲜的血液。如果乱世拥有的只是痛苦，那么璀璨的文明就无以诞生，也无以继复。

根据这段文字，可以推断出下列哪一选项为正确的？()

- A. 春秋、战国这样的“盛世”与唐朝盛世是完全不一致的，前者主要表现在文化上、思想上、科技上，后者则主要体现在平稳的政治上
- B. 如果旧有政治体系在激烈的社会变革中土崩瓦解，国家将会变得更有活力、更加先进，所以动乱也有其合理的一面
- C. 弱肉强食的社会环境对中国的历史发展来说是正当的，因为它可以为中国不断注入新鲜的血液
- D. 乱世有痛苦，但也可以产生灿烂的文明，东晋十六国及南北朝时期虽然战祸连绵，但是文化、科技繁盛，所以不能完全否认其历史意义

82. 墨丘利(Mercury)是罗马神话中诸神的信使，其飞行速度极快，能在瞬间跨越三界，用他为太阳系中最小的行星——水星来命名，无非是为了突出它运行速度的快捷。水星绕太阳一周的时间是 88 个地球日，在九大行星中速度最快，但与之相反，在它上面两次日出时间的间隔却出奇地大，一个水星日相当于 176 个地球日，这意味着如果一个人生活在水星上，他将在一天内增长两岁，却无法过生日或一天内过无数次生日。

以下各项可以准确概括文章主题的是()。

- A. 水星的运行速度非常快
- B. 水星为何会被命名为 Mercury
- C. 水星的公转与自转
- D. 水星日与水星年的不同

83. 中国古代的农民起义，几乎不存在成功的可能性，根本原因在于阶级的局限性，在于所处敌我矛盾中的地位，由于物质欲望、社会地位的诱惑，农民起义的最高目标就是使自己成为地主，“王侯将相，宁有种乎？”的呼声正是这一目标的体现，虽然在后来的农民起义中不时出现“均贫富，等贵贱”的平等、均富思想，但最后无不蜕变成为享乐主义、权力思想的奴隶，作为农民起义的结晶——太平天国的历史清晰地印证了这一事实。还有一个重要的原因在于农民起义必须依赖存有异心的地主知识分子，受教育水平所限，农民起义的领袖们必须由文化水平较高的地主阶级异化成员为其出谋划策，而最终又被他们所同化，农民起义最终演变为迈向皇座的工具或者臣服于旧有的政权结构，坚持者的结局就只剩下孤立、毁灭。

以下各项不符合上文意思的是()。

- A. 中国古代农民起义不能成功的根本原因之一在于农民阶级的局限性

《2011年公务员考试行测考试 100 套华图真题》

B. “王侯将相，宁有种乎？”反映出农民起义的终极目标是为了权位和物质利益

C. “均贫富，等贵贱”口号的提出意味着农民起义者的最高目标发生了转变，但由于内部地主知识分子的同化，最高目标中途夭折

D. 所谓“成也萧何，败也萧何”，地主知识分子帮助农民起义扩大并成功，但又导致了农民起义的蜕化、变质

84. 主流观点认为《三国演义》是在尊刘抑曹、是在贬魏扬蜀，但如果置身其字里行间，不难发现曹、魏实在是光辉的很，而刘、蜀在冠冕堂皇之外总能让入看到背后的阴暗。曹操的败而大笑，刘备的痛哭流涕，曹魏的人才济济，蜀汉的将寡兵微都在暗示着无论以人格魅力还是人心所向上，曹操、魏国是要远远超越于刘备、蜀汉的。写孔明足智多谋而近妖，正反映出蜀汉人才匮乏，需靠人力挽救，相对的曹营谋臣如云，任谁都能提出真知灼见，人力之重显而易见；写勇冠三军的关羽在兵精粮足情况下败走麦城，身首异处，透视出蜀汉政权人才的片面性，而相应的张辽一孤军数次迫退孙权几十万大军，人才的全面性不言而喻。罗贯中事实上一直在用褒扬的语气贬损着正面人物，有时甚至会控制不住对刘备来一句“故把亲儿掷马前”的调侃，一个“故”字，活灵活现。

下面选项最符合文章意思的是()。

A. 主流观点只是看到了《三国演义》的表面意思，而没有发现作者隐含的深意

B. 蜀汉人才的缺乏、片面是主流观点不可能看到的，而除非透过表面看本质才能发现这种缺点

C. “故把亲儿掷马前”中“故”的运用充分反映出主流观点中刘备的宽容和谦和

D. 曹操在主流观点中是作为反面人物而出现的，但在作者观点中，他是正面人物，是光辉形象

85. 自然科学、社会科学是并行不悖的两大学科，但在中国却很难出现与西方一样“兰桂齐芳”的局面，古代自不必言，今天重理轻文的理念也显示出国人对两大学科认识上的偏颇，且不说文理分科时人数比例上的悬殊，也不说就业时文科生所面临的种种困境，单就从广大学生的分科心理来看，就不难窥其端倪，多数学生在分科选择时，首选理科，即使明知数理化竞争实力弱也义无反顾。反观文科，往往是成绩较差学生的首选，似乎学文是在为自己降低难度，实情果真如此吗？至少原子弹可以引爆，“神舟六号”可以上天，但中国却没有一个黑格尔，没有一部《法国民法典》。自然科学可以为我们带来物质上的愉悦，却无法提供精神上、秩序上的需求，一个国家怎能没有哲学家呢？法典怎可以没有人来批判呢？

以下选项不符合文章意思的是()。

A. 与西方不一样，中国从古至今没有出现过自然科学和社会科学共同繁荣的局面

B. 中国人对自然科学和社会科学在认识上是有偏差的，在一些中学生当中也存在认识上的误区

C. 文章用黑格尔、《法国民法典》与“神舟六号”、原子弹比较的例子是为了说明中国在自然科学发展的同时，社会科学在滞后

D. 两个反问句用特例在说明了一个普遍的道理，即社会不能缺乏社会科学，也不能缺乏研究社会科学的人

86. 高薪养廉并不适合于政府官员，至少在中国如此，经济水平跟不上，贫

《2011年公务员考试行测考试100套华图真题》

富差距不宜拉大都是原因，而且单纯从逻辑上讲也是行不通的，我们给公务员的定位是“公仆”，是大家选出来的希望他能为广大人民服务的人，而其本人也认可这种选择，那么有什么理由让主人为仆人的服务行为外的不廉洁而额外买单？服务要基于诚信，我们不能让经济手段来防止人不诚信，那是一种道德的沦丧，我们完全有理由用法律、秩序的手段去控制，又何必用金钱来收买？也不必大谈公务员需要养家糊口，既然选择了这条道路，就必须让渡一部分权利，公务员职位的稳定正是与其经济水平的低下相平衡的，否则何以言“公正”？

以下哪项最适合作该段文章的标题（ ）。

- A. 高薪养廉浅析 B. 如何看待高薪养廉
- C. 高薪养廉的局限性 D. 反对高薪养廉

87. “天下大势，分久必合，合久必分”，这一名断在封建社会的中国是适用的，原因在于另一著名规律：政治、经济发展的不平衡。虽然从整个封建史来看，统一是主流，分裂动乱是例外，但分裂的存在是必然的，也是整个封建国家政治机构所无法克服的。由于自然经济是社会的主流经济形态，那么跟自然经济息息相关的农业生产就成为左右各地发展水平的重要因素，但显然，各地由于各种因素的限制，农业的发展并不平衡，由此产生的地方离心力在“盛世”过后总是积聚膨胀；而且，由于较早确立了土地买卖自由制度，导致土地兼并严重，一方面农民失去土地而揭竿而起，另一方面地方豪强有实力对抗中央，国家的动乱分裂也就在所难免，所以南北朝、五代十国等等的出现都不是偶然，而是必然的。当各种势力重新彻底整合、洗牌、淘漉之后，在人心所向下，一个统一的、崭新的国家又一次屹立于东方大地。

以下哪一选项符合本段作者意思？（ ）

- A. 自然经济的存在决定了中国整个封建社会都无法摆脱国家分裂与动乱
- B. 地方离心力的产生在文中包括自然经济下的农业发展不平衡、土地兼并下的农民起义及地方实力派的兴起
- C. 农业文明是导致中国古代分合无常的根本因素，土地自由买卖则是重要因素
- D. 当动乱过后，旧有势力被摧毁，新势力诞生，统治力量、秩序重新构造，国家也就再次统一和充满活力

88. 提单是承运人在接管货物或把货物装船之后签发给托运人，证明双方已订立运输合同，并保证在目的港按照提单所载明的条件交付货物的一种书面凭证。按照货物表面状况有无不良批注分类，它可以分为清洁提单和不清洁提单，前者的基本标示是“上列外表状况良好的货物已装上船”，后者则会注明“包装不固”、“破包”、“钩损”、“有油污”等。虽然承运人可以为已出具保函的托运人换给清洁提单，但如果一国规定，承运人的该行为视为欺诈的话，他将不得不承担法律责任。通常情况下出于买方及自身利益需求银行只会接受清洁提单作为议付贷款的单据，而承运人出于自身利益的保护却会在提单中加列批注，这意味着，托运人将无法顺利结汇、保函换提单的作法应运而生，但显然，这种做法会因为承运人与卖方的串通而损害买方利益。

以下各项不符合上文意思的是（ ）。

- A. 提单的签发者是承运人，签发对象是托运人，本质上可以说是一种关于货物运输合同成立的证据或者说是一种关于货物的收据
- B. 如果托运人通过保函向承运人换取了清洁提单，一般情况下他将不可能从银行处收到货款，因为银行要以清洁提单作为议付贷款的单据

《2011年公务员考试行测考试 100 套华图真题》

C. 保函的含义在于托运人向承运人表明因提单不清洁而导致货物不被接受或需承担责任时,由托运人负责

D. 保函换清洁提单的做法存在弊端的原因是因为未在双方合意情况下在收到货物之前预先支出货款会给买方造成损失

89. 现代体育与古代体育相比,精神境界已大大降低,金钱与荣誉在争斗中稳占上风,“现实感”很强的人们越来越将体育的经济效益放在首位,而荣誉则置诸脑后,宙斯如果看到当年为祭祀他而举行的盛会居然会被一些大牌明星不屑一顾,不知会作何感想。足球场上的黑哨、假球,田径场上的兴奋剂,各种运动辅助材料的研制……都超出了运动的本意,而靠向了追名,最终还是为了逐利。其实,现在的体育如果放在裸体的古希腊人面前,绝对会嘘声一片,因为它不是人的角逐,而是技术的较量、甚至是阴谋的对抗。

这段文字主要支持了这样一种观点,即()。

A. 现代体育与古代体育相比,已经不再是原汁原味的运动,而带有了太多的功利色彩

B. 现代体育也应该象古希腊的体育那样,裸体而赛

C. 现代体育中出现的种种不良现象违背了运动的本来宗旨

D. 现代体育运动者大多都放弃了荣誉感而追求物质利益

90. 拥挤、混乱一直是北京交通状况的最佳描述,究其原因,不胜枚举。私家车多、开车者素质不高、道路不宽敞、红灯设计不合理等等都可能成为理由,但大家往往不重视另外一个原因,就是非机动车者所带来的障碍,经常可以看到行人无视交通规则,任意横穿马路,越障攀栏,红灯、车辆视若无睹,只要走在马路上,行人都成了无冕之王,自行车是宰相,机动车则成了顺民,惟恐一个不小心,触怒“龙颜”。事实上,这是一种“暴民行径”,机动车作为危险交通工具,注意义务不可豁免,但不应“注意”到连本身基本权利也丧失。试想本为机动车特设的车道而由行人去任意占用,到底是机动车不够安全还是行人蓄意制造这不安全呢?所以和谐的交通不应是单方面的注意义务,各尽其责、各行其道才可以减弱冲突。换句话说,行人也应该尊重机动车的权力。

以下选项中不符合文章意思的是()。

A. 北京交通状况差的原因有很多,有主观的,也有客观的,但根本原因是行人对机动车行驶权利的不尊重

B. 称行人是“无冕之王”是为了批评行人在马路上横冲直撞,无视规则的“霸道”行为

C. 要想建立有序的交通秩序,行人与机动车之间的互相尊重是不可缺少的,不能单纯要求一方承担义务

D. 被大家经常忽视的行人不遵守交通规则的问题如果能够解决是可以改善交通现状的

参考答案:

1-10: D、A、D、C、D、C、D、B、D、B

11-20: B、C、A、D、C、B、B、A、D、D

21-30: C、D、D、A、D、D、D、A、B、C

31-40: A、C、D、C、C、A、D、B、A、D

41-50: A、B、B、A、C、A、B、B、D、A

51-60: C、C、A、B、A、C、D、D、A、B

61-70: B、C、B、B、A、C、D、C、C、B

《2011 年公务员考试行测考试 100 套华图真题》

71-80: C、B、C、A、B、B、D、C、A、B

81-90: D、C、C、A、A、C、B、B、A、A

-----数量关系部分题目溯源:

1、33, 32, 34, 31, 35, 30, 36, 29, ?

A. 33 B. 37 C. 39 D. 41

选 B

解答: 交叉数列 (即隔项或称奇偶数列)。分项后为等差数列。

源自: 国考 2002 年 A 类第 5 题

34、36、35、35、()、34、37、()

都是交叉等差数列, 并且公差为 1 和-1。

2、3, 9, 6, 9, 27, ? , 27

A. 15 B. 18 C. 20 D. 30

选 B

解答: 二级作商周期数列。两两作商得到: 3、2/3、3/2、3、2/3、3/2。

源自: 国考 2003 年 A 类第 1 题

1、4、8、13、16、20、()

原题是二级作差周期数列, 新题是二级作商周期数列。

3、2, 12, 6, 30, 25, 100, ?

A. 96 B. 86 C. 75 D. 50

选 A

解答: 变形奇偶数列。偶数项分别为前项乘以 6、5、4 得到, 奇数项分别为前项减去 6、5、4 得到。

源自: 北京应届 2007 年第 4 题

2, 7, 14, 21, 294, ()

原题为: 奇数项为前两项之乘积, 偶数项为前两项之和。

4、4, 23, 68, 101, ?

A. 128 B. 119 C. 74.75 D. 70.25

选 C

解答: 变倍数递推数列。后一项分别为前一项乘以 6、3、1.5、0.75 再减去 1 得到。

$$4 \times 6 - 1 = 23$$

$$23 \times 3 - 1 = 68$$

$$68 \times 1.5 - 1 = 101$$

$$101 \times 0.75 - 1 = 74.75$$

源自: 北京应届 2007 年第 1 题

《2011 年公务员考试行测考试 100 套华图真题》

2, 13, 40, 61, ()

只是把原题规律当中的加 1 变成了减 1, 连扩大的比例都没有改变。

5、323, 107, 35, 11, 3, ?

A. -5 B. $1/3$ C. 1 D. 2

选 B

解答: 倍数递推数列。前一项减去 2 后乘以 $1/3$ 得到后一项。

$$(323-2) \times 1/3=107$$

$$(107-2) \times 1/3=35$$

$$(35-2) \times 1/3=11$$

$$(11-2) \times 1/3=3$$

$$(3-2) \times 1/3=1/3$$

此题亦可倒过来看, 即是后一项乘以 3 再加 2 得到前一项。

源自: 浙江 2004 年第 3 题

0, 1, 4, 13, 40, ()

把大小变化方向反过来, 就只是把原题规律当中的加 1 变成了新题当中的加 2。

11、甲、乙、丙、丁四人今年分别是 16、12、11、9 岁。问多少年前, 甲、乙的年龄和是丙、丁年龄和的 2 倍?

A、4 B、6 C、8 D、12

源自: 国家 2004 年 B 类第 50 题

祖父年龄 70 岁, 长孙 20 岁, 次孙 13 岁, 幼孙 7 岁, 问多少年后, 三个孙子的年龄之和与祖父的年龄相等?

15、某车间进行季度考核, 整个车间平均分是 85 分, 其中 $2/3$ 的人得 80 分以上 (含 80 分), 他们的平均分是 90 分, 则低于 80 分的人的平均分是多少?

A、68 B、70 C、75 D、78

源自: 国家 2007 年第 52 题

某班男生比女生人数多 80%, 一次考试后, 全班平均成绩为 75 分, 而女生的平均分比男生的平均分高 20%, 则此班女生的平均分是

16、五个瓶子都贴了标签, 其中恰好贴错了三个, 则错的可能情况共有多少种?

A、6 B、10 C、12 D、20

源自: 北京 2006 年第 14 题

五个瓶子都贴有标签, 其中恰好贴错了三个, 贴错的可能情况有多少种?

17、装某种产品的盒子有大、小两种, 大盒每盒能装 11 个, 小盒每盒能装 8 个, 要把 89 个产品装入盒内, 要求每个盒子都恰好装满, 需要大、小盒子各多少个?

《2011 年公务员考试行测考试 100 套华图真题》

A、3, 7 B、4, 6 C、5, 4 D、6, 3

源自：国家 2007 年第 58 题

共有 20 个玩具交给小王手工制作完成。规定，制作的玩具每合格一个得 5 元，不合格一个扣 2 元，未完成的不得不扣。最后小王共收到 56 元，那么他制作的玩具中，不合格的共有（ ）个。

同样的不定方程问题

18、电视台向 100 人调查昨天收看电视情况，有 62 人看过 2 频道，34 人看过 8 频道，11 人两个频道都看过。问，两个频道都没有看过的有多少人？

A、4 B、15 C、17 D、28

源自：国家 2006 年一类第 42 题

现有 50 名学生都做物理、化学实验，如果物理实验做正确的有 40 人，化学实验做正确的有 31 人，两种实验都做错的有 4 人，则两种实验都做对的有多少人？事实上这种题型在国家与各地方考试当中出现过不止一次两次。

19、有一堆螺丝和螺母，若一个螺丝配 2 个螺母，则多 10 个螺母；若 1 个螺丝配 3 个螺母，则少 6 个螺母。共有多少个螺丝？

A、16 B、22 C、42 D、48

源自：北京 2005 应届第 23 题

若干个同学去划船，他们租了一些船，若每船 4 人则多 5 人，若每船 5 人则船上有 4 个空位。共有多少个同学？

25、 $(300+301+302+\dots+397) - (100+101+\dots+197) = ?$

A、19000 B、19200 C、19400 D、19600

源自：北京 2005 社招第 12 题

$(101+103+\dots+199) - (90+92+\dots+188) = ?$

这套试卷 20 道数列数字推理与数学运算题当中，有相当的比例完全沿袭了曾经有过的京考、国考或者外地省考的考题，这当中并没有列出仅仅只是题型相似的其它题目如行程问题、利润问题等，并且从上面的例子来看，好几道题目几乎就是完全照搬过来的。因此，对一个认真备考公务员行测考试的考生来说，以往题型的复习显得格外的重要。

在我们备战下半年的 08 国考或者其它省市如上海、浙江、北京应届、深圳等地的公务员行测考试的时候，研究全国各地的往届真题是相当相当重要的事情。真题的质量是最高最精确的，也是最能把握出题方向的，各地考试之间的借鉴，以及年间借鉴的现象，虽然应该不会有这张试卷这么严重，但仍然是个非常普遍的现象（有机会我可以大张旗鼓的罗列一番）。另外基本题型如行程问题、计算问题、几何问题、等差数列、排列组合、年龄问题、集合图问题、平均数问题、浓度问题、初等数字问题、利润问题、工程问题仍然是各大考试的重点复习对象。

《2011 年公务员考试行测考试 100 套华图真题》

当然，在借鉴的同时一定要重视两个区别：即题型区别和难度区别。比如图形数字推理和多项选择常识、机械推理、知觉速度与判断、中学几何问题就基本分别只是北京、湖南、天津、浙江才会考到的题型，复习的时候一定要注意区分。难度上来讲国考肯定是最难的，所以不应该在备考地方考试时做不出国考而忧心忡忡，亦不应该在备考国考时轻易搞定地方考试而沾沾自喜。总而言之，必须要有一颗激情积极并且理性冷静的公考备考之心。

2007 北京社招行测数量关系真题及详解

第一部分 数量关系

（共 25 题，参考时限 20 分钟）

一、数字推理：本部分包括两种类型的题目，共 10 题。

（一）、每题给你一个数列，但其中缺少一项，要求你仔细观察数列的排列规律综合判断，然后从四个供选择的选项中选出最恰当的一项，来填补空缺项。

例题：1 3 5 7 9 ()

A. 7 B. 8 C. 11 D. 未给出

解答：正确答案是 11，原数列是一个奇数数列，帮应选 C。

请开始答题：

1、33, 32, 34, 31, 35, 30, 36, 29, ?

A. 33 B. 37 C. 39 D. 41

选 B

解答：交叉数列（即隔项或称奇偶数列）。分项后为等差数列。

2、3, 9, 6, 9, 27, ? , 27

A. 15 B. 18 C. 20 D. 30

选 B

解答：二级作商周期数列。两两作商得到：3、2/3、3/2、3、2/3、3/2。

3、2, 12, 6, 30, 25, 100, ?

A. 96 B. 86 C. 75 D. 50

选 A

解答：变形奇偶数列。偶数项分别为前项乘以 6、5、4 得到，奇数项分别为前项减去 6、5、4 得到。

4、4, 23, 68, 101, ?

A. 128 B. 119 C. 74.75 D. 70.25

选 C

解答：变倍数递推数列。后一项分别为前一项乘以 6、3、1.5、0.75 再减去 1 得到。

$$4 \times 6 - 1 = 23$$

$$23 \times 3 - 1 = 68$$

$$68 \times 1.5 - 1 = 101$$

$$101 \times 0.75 - 1 = 74.75$$

《2011 年公务员考试行测考试 100 套华图真题》

5、323, 107, 35, 11, 3, ?

A. -5 B. $1/3$ C. 1 D. 2

选 B

解答：倍数递推数列。前一项减去 2 后乘以 $1/3$ 得到后一项。

$$(323-2) \times 1/3=107$$

$$(107-2) \times 1/3=35$$

$$(35-2) \times 1/3=11$$

$$(11-2) \times 1/3=3$$

$$(3-2) \times 1/3=1/3$$

此题亦可倒过来看，即是后一项乘以 3 再加 2 得到前一项。

(二)、每题图形中的数字都包含一定的规律，请你总结图形中数字的规律，从四个选项中选出最恰当的一项。

例题：

1 2 3

2 3 4

3 ? 5

A. 1 B. 2 C. 3 D. 4

解答：正确的答案是 4，根据所提供的各项条件综合判断，可以得出最恰当的规律为：每一列和每一行都依次增加 1；因此结合所给选项，答案是 D。

开始答题：

6、

16 4 1

32 ? 2

64 16 4

A4 B8 C16 D32

选 B

解答：每一列为一公比为 2 的等比数列。

7、

12 9 -6

2 3 10

1 3 ?

A. 26 B. 17 C. 13 D. 11

选 D

解答：每一行相加和都为 15。

8、

84 9 ?

72 37 218

23 -12 22

A. 106 B. 166 C. 176 D. 186

选 D

解答：每一行前两个数相加再乘以 2 等于第三个数。

《2011 年公务员考试行测考试 100 套华图真题》

9

12 9 ?

11 33 66

8 3 27

A. 35 B. 40 C. 45 D. 55

选 C

解答：每一行中，第一个数乘以 3 加上第二个数等于第三个数。

10、

? 10 28

6 15 36

3 3 9

A. 12 B. 18 C. 9 D. 8

选 D

解答：每一行中，第二个数的两倍加上第一个数等于第三个数。

二、数学运算 你可以在题本上运算，遇到难题，你可以跳过不做，待你有时间再返回来做，共 15 题。

例题：

84.78 元、59.50 元、121.61 元、12.43 元以及 66.50 元的总和是：

A. 343.73 B. 343.83 C. 344.73 D. 344.82

解答：正确答案为 D。实际上你只要把最后一位小数加一下，就会发现和的最后一位数是 2，只有 D 符合要求。就是说你应当动脑筋想出解题的捷径。

11、甲、乙、丙、丁四人今年分别是 16、12、11、9 岁。问多少年前，甲、乙的年龄和是丙、丁年龄和的 2 倍？

A、4 B、6 C、8 D、12

选 B

普通解法：设 x 年前满足条件，则 $(16-x)+(12-x)=[(11-x)+(9-x)] \times 2$

特殊解法：两组年龄差为 8 岁（分别作差 $5+3=8$ ），当第一组为第二组两倍时肯定是 16 与 8 岁。现在第一组和为 28 岁，需要倒退 12 岁到 16 岁，需要 6 年，因为两个人一年一共倒退 2 岁。

注：特殊解法只代表一种较特殊的思维，在有些情况下可以简化计算，但并不代表所有情况下都可以简化计算，这里列出来供大家选择适合自己并且考场之上容易想到的方法，如果无法理解或者考场之上无法想到，建议使用普通解法。下同。

12、李明从图书馆借来一批图书，他先给了甲 5 本和剩下的 $\frac{1}{5}$ ，然后给了乙 4 本和剩下的 $\frac{1}{4}$ ，又给了丙 3 本和剩下的 $\frac{1}{3}$ ，又给了丁 2 本和剩下的 $\frac{1}{2}$ ，最后自己还剩 2 本。李明共借了多少本书？

A、30 B、40 C、50 D、60

选 A

普通解法：设李明共借书 x 本，则 $((((x-5) \times \frac{4}{5}-4) \times \frac{3}{4}-3) \times \frac{2}{3}-2) \times \frac{1}{2}=2$

《2011 年公务员考试行测考试 100 套华图真题》

特殊解法：思维较快的直接倒推用反计算，即用 2 乘 2 加 2 乘 3/2 加 3...

13、商店为某鞋厂代销 200 双鞋，代销费用为销售总额的 8%。全部销售完后，商店向鞋厂交付 6808 元。这批鞋每双售价为多少元？

A、30.02 B、34.04 C、35.6 D、37

选 D

普通解法：设每双售价 x 元，则 $200 \times x \times (1-8\%) = 6808$

特殊解法：交付钱数 6808 元必然能除尽每双售价，依此排除 A、C。如果是 B，很容易发现 200 双正好 6808 元，没有代销费用了。

14、甲、乙二人 2 小时共加工 54 个零件，甲加工 3 小时的零件比乙加工 4 小时的零件还多 4 个。甲每小时加工多少个零件？

A、11 B、16 C、22 D、32

选 B

普通解法：设俩人速度分别为 x 、 y ，则 $2x+2y=54$ ， $3x-4y=4$

特殊解法：从第一句话知 D 不对。从第二句话中知甲每小时加工的零件是 4 的倍数。

15、某车间进行季度考核，整个车间平均分是 85 分，其中 $2/3$ 的人得 80 分以上（含 80 分），他们的平均分是 90 分，则低于 80 分的人的平均分是多少？

A、68 B、70 C、75 D、78

选 C

普通解法：设 x 为所求，假设总共 3 人，其中 2 人 80 以上，1 人低于 80 分。则 $2 \times 90 + 1 \times x = 3 \times 85$ 。记住此处别忘了用尾数法快速得到答案。

特殊解法：利用十字交叉法解决混合平均问题。两部分人比例为 2:1，则其各自平均分到 85 分的距离应该反过来为 1:2=5:10，直接得到 75。

16、五个瓶子都贴了标签，其中恰好贴错了三个，则错的可能情况共有多少种？

A、6 B、10 C、12 D、20

选 D

普通解法：从五个瓶子当中选出三个来为 $C(3, 5) = 10$ ，这三个瓶子都贴错有 2 种可能，即 231、312 两种。 $10 \times 2 = 20$

17、装某种产品的盒子有大、小两种，大盒每盒能装 11 个，小盒每盒能装 8 个，要把 89 个产品装入盒内，要求每个盒子都恰好装满，需要大、小盒子各多少个？

A、3, 7 B、4, 6 C、5, 4 D、6, 3

选 A

普通解法：设大小盒分别为 x 、 y 个。则 $11x+8y=89$ 。在自然数范围内解此不定方程， $0 \leq x \leq 8$ ，根据奇偶还得是个奇数，所以选择 1、3、5、7 代入发现，只有 $x=3$ 可以得到自然数 $y=7$

特殊解法：直接代入。尾数为 9 的只有 A。

18、电视台向 100 人调查昨天收看电视情况，有 62 人看过 2 频道，34 人看过 8

《2011 年公务员考试行测考试 100 套华图真题》

频道，11 人两个频道都看过。问，两个频道都没有看过的有多少人？

A、4 B、15 C、17 D、28

选 B

普通解法：看过的人为 $62+34-11=85$ ，没有看过的自然是 15。

特殊解法：用容斥原理。 $100=62+34-11+x$ 。尾数为 5。

19、有一堆螺丝和螺母，若一个螺丝配 2 个螺母，则多 10 个螺母；若 1 个螺丝配 3 个螺母，则少 6 个螺母。共有多少个螺丝？

A、16 B、22 C、42 D、48

选 A

普通解法：设螺丝和螺母分别为 x 、 y 个。则 $2x+10=y$ ， $3x-6=y$

特殊解法：考虑第二次是在第一次的基础上每个螺丝再加一个螺母，多出来的 10 个螺母还可以加 10 个螺丝，但仍然少 6 个螺丝，因此螺丝就是 $10+6=16$ 个。

20、甲、乙二人上午 8 点同时从东村骑车到西村去，甲每小时比乙多骑 6 千米，中午 12 点甲到达西村后立即返回东村，在距西村 15 千米处遇到乙。东、西两村相距多远？

A、30 B、40 C、60 D、80

选 C

普通解法：设甲的速度为 x ，乙为 $x-6$ ，两村相距为 y ，他们从出发到相遇共用时 t 小时。则 $4x=y$ ， $tx=y+15$ ， $t(x-6)=y-15$

特殊解法：相遇时甲比乙多骑 2 个 15 千米，即多骑 30 千米，而甲比乙每小时多骑 6 千米，说明相遇时一共过了 5 个小时，即为 13 点。说明甲从 12 点到 13 点一个小时走了 15 千米，所以从 8 点到 12 点四个小时应该走 60 千米。

21、某铁路桥长 1000 米，一列火车从桥上通过，测得火车从开始上桥到完全下桥共用 120 秒，整列火车完全在桥上的时间 80 秒，则火车速度是？

A、10 米/秒 B、10.7 米/秒 C、12.5 米/秒 D、500 米/分

选 A

普通解法：设速度为 v ，火车长 s ，则 $1000+s=120v$ ， $1000-s=80v$ 。

特殊解法：从两个时间平均得到 100 秒知，从车头进桥到车头离桥需要 100 秒，这个过程车经过的距离正好就是桥的长度，所以车速为 10。

22、大、小两个数的差是 49.23，较小数的小数点向右移动一位就等于较大的数，求较小的数？

A、4.923 B、5.23 C、5.47 D、6.27

选 C

普通解法：设小数为 x ，则大数为 $10x$ 。 $10x-x=49.23$ 。

特殊解法：直接代入通过尾数排除 A、B，估算排除 D。

23、有 10 个连续奇数，第 1 个数等于第 10 个数的 $5/11$ ，求第 1 个数？

A、5 B、11 C、13 D、15

选 D

《2011 年公务员考试行测考试 100 套华图真题》

普通解法：设第 1 个数为 x ，则第 10 个数应该是 $x+18$ ， $x=5/11(x+18)$ 。

特殊解法：第 1 个数为第 10 个数的 $5/11$ ，则第一个数为 5 的倍数，排除 B、C。如果第一个数为 5，则第 10 个数为 11，显然不对。

24、八个自然数排成一排，从第三个数开始，每个数都是它前面两个数的和，已知第五个数是 7，求第八个数。

A、11 B、18 C、29 D、47

选 C

普通解法： a 、 b 、 c 、 d 、7、 f 、 g 、 h 。因为 $c+d=7$ ，所以 c 和 d 可能是 1+6、2+5、3+4、4+3、5+2、6+1 的组合，验证只有 3+4 满足前面条件，为 2、1、3、4、7、11、18、29

特殊解法：考虑 d 的取值极端情况，两种为 a 、 b 、 c 、0、7、7、14、21 和 a 、 b 、 c 、7、7、14、21、35。两者之间即可。

25、 $(300+301+302+\dots+397) - (100+101+\dots+197) = ?$

A、19000 B、19200 C、19400 D、19600

选 D

普通解法：分别用等差数列求和公式求出俩和再作减法。
 $(300+397)*98/2 - (100+197)*98/2$

特殊解法：括号对应处相减都为 200，一共 98 个 200。

名师解析：数学运算之年龄问题

在整个公务员试卷中，难度最高的题目往往出现在数学运算中。今天，我们就来初步探讨一下公务员试题中经常出现的年龄问题的求解方式。

年龄问题一般有两种方式，一种是涉及到 2 个人，另外一种涉及到 3 个或者 3 个以上人数。年龄问题求解的核心在于“年龄差”不变。以下通过几个公务员历年考试真题，来具体分析此类题目应该如何迅速有效的求解。

第一种类型：涉及 2 人的年龄问题

1. 甲乙两人的年龄和是 63 岁，当甲是乙现在年龄的时，乙当时的年龄是甲现在的年龄，乙比甲大几岁？

A. 10

B. 9

C. 8

D. 7

解析：直接代入选项，能跟题干符合的只有 B。或列方程设甲 X 岁，乙 Y 岁，则 $X+Y=63$ ， $Y-(X-Y/2)=X$ ，解得 $X=27$ ； $Y=36$ ，则 $Y-X=9$ 。

《2011 年公务员考试行测考试 100 套华图真题》

2. 今年父亲年龄是儿子年龄的 10 倍，6 年后父亲年龄是儿子年龄的 4 倍，则今年父亲、儿子的年龄分别是

- A. 60 岁，6 岁
- B. 50 岁，5 岁
- C. 40 岁，4 岁
- D. 30 岁，3 岁

解析：代入法，发现只有 D 满足。

3. 1998 年，甲的年龄是乙的年龄的 4 倍。2002 年，甲的年龄是乙的年龄的 3 倍。问甲、乙二人 2000 年的年龄分别是多少岁？

- A. 34 岁，12 岁
- B. 32 岁，8 岁
- C. 36 岁，12 岁
- D. 34 岁，10 岁

解析：设 2000 年甲乙年龄为 X 和 Y ，可列方程 $X-2=4 \times (Y-2)$ ， $X+2=3 \times (Y+2)$ 解得 $X=34$ ， $Y=10$ 。

第二种类型：涉及 3 人或者 3 人以上的年龄问题

4. 甲、乙、丙三人，甲 21 岁时，乙 15 岁；甲 18 岁时，丙的年龄是乙的 3 倍。当甲 25 岁时，丙的年龄是

- A. 45
- B. 43
- C. 41
- D. 39

解析：甲 18 岁时候，乙的年龄为 12 岁，丙的年龄为 36 岁，甲 25 岁时，丙为 $36 + (25 - 18) = 43$ 岁。

5. 祖父年龄 70 岁，长孙 20 岁，次孙 13 岁，幼孙 7 岁，问多少年后，三个孙子的年龄之和与祖父的年龄相等？(

)

- A. 10

《2011 年公务员考试行测考试 100 套华图真题》

B. 12

C. 15

D. 20

解析：长孙，次孙，幼孙现在的年龄和是 $20 + 13 + 7 = 40$ ，如果设 X 年后三个孙子的年龄之和与祖父的年龄相等，则祖父的年龄增加了 X 岁，而三个孙子的年龄和增加了 $3X$ 岁，故可列 $70 + X = 40 + 3X$ 可解 $X = 15$ 。本题也可采用代入法。

6. 三兄弟中，每两人的平均年龄加上另一人的年龄之和分别是 57, 69, 70, 那么这三兄弟中年龄最大的与最小的相差几岁？

A. 32

B. 28

C. 26

D. 24

解析：设三兄弟的年龄分别为 X, Y, Z 。则有① $(X+Y) \div 2 + Z = 57$ ，② $(X+Z) \div 2 + Y = 69$ ，③ $(Z+Y) \div 2 + X = 70$ ，①+②+③= $2(X+Y+Z) = 196$ ，代入①②③则可求出 $X=42, Y=40, Z=16$ ，所以最大差值为 26。

“年龄差”是求解年龄问题的关键。在公务员考试中，为了迅速的求解，在代入法和方程法之间权衡，看看哪一种类型的题目更适合采用代入法，哪一种类型的题目只能用方程法。只要充分的理解了“年龄差”，年龄问题就不会是你考公务员路上的绊脚石。

1.4 成语的使用与辨析：

①成语的含义（引申/比喻义）

②固定用法

③近义辨析

（02' A 类真题）今年年初以来，马其顿多次爆发大规模反西方抗议示威，麦当劳快餐店[a]，成为人们发泄的目标。

[a]出恰当的措辞是：A 如履薄冰 B 身当矢石 C 首当其冲 D 祸从天降

《2011 年公务员考试行测考试 100 套华图真题》

词语表达解题技巧:

1、正确理解词语的含义:词义的轻重、适用的范围、感情色彩、固定搭配、上下文等等;

2、正确理解成语的特定含义(引申/比喻义)、规范形式、辨析方法(同词语辨析);

3、正确运用虚词:关联词的含义与搭配,通过上下文选择;

4、多多练习,培养语感。

近义词辨析集锦[平时记忆]:

1、暧昧:含糊、不明朗,不光明磊落,不便告人。

暗昧:同“暧昧”。还可表示不聪明,愚昧。

2、哀号:悲哀的号哭。

哀嚎:悲哀的嚎叫。如“饿狼哀嚎”。

3、安定:生活形势等平静正常,稳定。生活安定。

安宁:秩序正常,没有骚扰。边境安宁。

安谧:安宁,安静。主要指环境气氛。

安静:没有声音,安稳平静。

平静:着重指平稳,没有不安与动荡。常形容心情、表情、势态等。

清静:着重指不嘈杂、不杂乱。

4、安顿:安稳,使人或事物有着落,着重指安排妥当,使有确实的着落。

安放:使物件处于一定的位置,是具体的动作。

安置:使人或事物有着落。着重指使工作、生活等有适当的位置。多是处理人事工作的活动。

安排:着重于分清先后、主次、轻重缓急、有条有理地处理人和事。多指工作上的处理活动。

《2011年公务员考试行测考试 100 套华图真题》

5、安全：都指没有事故或危险。安全：着重指不受威胁。使用范围广，能用于国家、生产、交通、操作、人身、生命、财产等。

平安：着重指太平无事，使用范围较窄，多用于人身。

6、按照：同为介词。介绍行为的根据。按照：通用于各种语体，不带尊敬色彩。

依照：多用于书面语体，更适用于国家法规、军政文告等，这时是强调依原样照办，不得走样。

遵照：多用于书面语。带尊敬色彩，表示遵从依照。

7、懊悔：形容词。因未满足心愿而悔恨、烦恼。懊悔：着重指后悔，是心里恨自己不该做错了事或说错了话。

懊恼：着重指烦恼，心里不痛快，是对别人或自己的言行感到烦恼。

8、懊丧：都是形容词。形容因做事或环境不利而失意，情绪低落，精神不振。懊丧：着重指烦恼而丧气，心中郁闷。

沮丧：沮，气色败坏。着重指受挫折后灰心失望。

颓丧：颓，萎靡不振。着重指情绪低落，意志消沉。

9、傲慢：都是形容词。自高自大或自尊自尊之意。傲慢：着重指态度上轻慢，目中无人。也可用于褒义，表示自尊而不可侮。

高傲：着重指思想情绪上把自己看得过高。用于褒义时表示自豪而又高尚。

骄傲：泛指满足已有的成绩，自以为了不起。用于褒义时多表示自豪。也可以作名词。如：李白、杜甫和他们的诗，是中华民族的骄傲。

10、把持：都有按自己的意图掌握住、支配。把持：是贬义词，指公开独占权位。对象常是政权、权力、职位以及地区、单位等。

操纵：中性词。指掌管、使用机器等。引申指用不正当手段暗中支配、控制人或社会性的较重大的事物。

控制：中性词。只指不让任意活动或超出范围。对象常是速度、数字、交通、生产以及思想、感情等。

11、把握：都是动词。用自己能力，把某种事物抓住、控制住。对象可以是

《2011 年公务员考试行测考试 100 套华图真题》

某些具体的或抽象的事物。把握，对象多是具体事物。有时作“有”的宾语，表示对事情能做得好或做得好的信心、力量或根据，是名词。如：有把握。

掌握：比“把握”多一层意思，即不仅能把握住，而且能充分支配运用并控制。对象多指抽象事物，如政策、命运、方法、知识、技术、专业、语言、情况等。

12、颁布：都是动词。公开发布。对象多是宪法、纲领、法律、法令、条例等。颁布：着重指向下颁发。颁布者一般是高级领导机关或成员。颁布的内容常是法令等。

公布：着重指向公众发布。公布者除了高级领导机关或成员外，还可以是一般机关单位、团体。公布的内容，除了法令等以外，还可以是方案、草案、名单、账目、成绩、结果、数字、事实等。

13、办法：都是名词。处理事情所采取的方式、方法和步骤。办法：是泛指，多用于口头语体。

措施：指针对某种情况而采取的办法。较多用于书面语体，特别是公文、政论语体。

14、包含：都是动词。容纳在内，总括在一起。包含：指“内里含有”。着眼于事物的内在关系。对象常是抽象的事物。包容含有。

包涵：原谅、宽恕。

包括：着重指“总括”。着眼在数量、范围上列举各部分或其中一部分。对象不限于抽象的事物。

包罗：着重指网罗很多或一切，着眼于广大的范围、众多的事物。

15、保持：都是动词。使事物继续存在下去，保住不变。保持：着重指使持续不变，时间延续较长，对象是水土、水平、传统、荣誉、警惕、联系等。

维持：指有一定限度地或暂时维护，使不改变原样和现状。对象是秩序、现状、生活、生命、治安等。

16、保存：都是动词。存留下来，不使改变。有时可换用。如“李白的诗保存（留）下来的有九百多首”、“这座城市还保留（存）着一些古代建筑。”保存：着重于“存”，跟“亡”（无）相对，使继续存在，不使失去。

保留：着重于“留”，跟“去”相对，不去掉，不使离开原体。保留还有两个意义：①暂时搁置，如“不同意见暂时～，下次再讨论”；②不公开拿出来，如“教师毫不～地教学生”。这跟“保存”有区别。

《2011 年公务员考试行测考试 100 套华图真题》

17、保护：都是动词。护卫着，看守住，使不受伤害。保护：着重于“护”：妥善护卫、照顾，不使受损伤。手段不一定是用武力。对象多是人或某些事物。

保卫：着重于“卫”：尽力防守住，使得到安全，不受侵犯。手段多指用武力或强大的力量。对象多是重大的抽象的事物，或者是重要人物、众人。

捍卫：着重于“卫”：抵御各种外来势力，确保安全，比“保卫”语义重。色彩较庄重。对象不能是人。

18、保障：（1）动词，确保。有时可换用，如“用生命保障（保证）了整个战斗的胜利”。（2）名词。起确保作用的事物。保障①作动词时，除了可以作于“确保”义以外，最常见的是用于“保护义。它的宾主不常是动词（形容词）及其短语，而常是名词及其短语，如“生命、成果、财产、民主、权利”等。②作名词时，有形象色彩，指象屏障一样的起保护作用的东西。

保证：①作动词时，除了用于“确保”义以外，还常用于“担保做到”义。它的宾语不常是名词（时间、质量）及其短语。②作名词时，指起担保作用的条件。

19、宝贵：都是形容词。极有价值，很贵重，象珍宝似的。可以形容某些抽象的和具体的事物，如时间、书籍、礼物、资料等。宝贵除了可以形容某些具体东西以外，最常见的是形象抽象事物，如生命、经验、意见、贡献、遗产、财富等。

珍贵：指宝贵、稀少、珍奇。可形容某些抽象的事物（如友谊等），常用来形容具体的东西，如纪念品、文物等。

20、饱满：都是形容词。充实、充足、足够。饱满常用于形容人的精神、精力、感情、情绪充足。有时形容风力充足，如“风力饱满，船就象生了翅膀一样”。

丰满：常用于形容人体胖得匀称好看，有时形容鸟的羽毛齐全好看。

21、暴发：都是动词。突然猛烈的发生。有时通用。如“我极力压住感情的爆发（暴发）”。暴发使用范围较窄，常用于洪水，有时指以不正当的手段发财，与“户”字连用，或突然兴起。如山洪、流行病、雪崩。

爆发：本义是弹药爆炸。比喻“象弹药一样突然、迅猛地发生”。使用范围较广，由于爆炸而突发或发生重大事变。如战争、火山、革命、大笑。

22、暴露：都是动词。使隐藏着的事物显露出来。对象可以是矛盾、本质、问题、阴谋、弱点、缺点等。暴露：多是无意地显露，有时是有意地揭露出来。

《2011 年公务员考试行测考试 100 套华图真题》

可以用于自己、自身事物、目标等。

揭露：都指有意地揭出来。一般能用于自己、自身事物、目标等。

23、暴虐：都是形容词。狠毒而凶恶。可以形容敌人及其本性、行为。暴虐：着重指惨无人道，欺凌太甚。多形容敌人及其本性。

残暴：着重指凶狠、横暴。多形容敌人的行动及本性。

残酷：着重指冷酷无情。多形容敌人的行为。有时形容生活、环境、斗争、战争、战斗等，这时着重指环境恶劣、无情。

残忍：着重指心肠狠毒、忍心。多形容敌人的本性及行为。

24、抱怨：都是动词。因不满而责怪别人。抱怨责怪的程度较重。用于人时少用于自己对自己。

埋怨：责怪的程度较轻。除用于人外，可用于事物。

25、悲哀：都是形容词。伤心，难过。“悲哀”、“悲伤”、“悲痛”常通用。悲哀：侧重于内心的哀愁。

悲伤：侧重于心情不好受，产生伤感。

悲痛：侧重于表示悲伤而痛苦，有时比“悲哀”程度重，可以说“悲痛欲绝”。

沉痛：侧重于表示深沉的悲痛。有时还有“深刻，严重”的意思，如“沉痛的教训。”

悲恸：侧重于极度的悲哀，兼指痛哭，一般用于书面语。

26、卑鄙：都是言行恶劣，不道德。卑鄙比“卑劣”的程度轻，如卑鄙无耻。

卑劣：卑劣比“卑鄙”程度重，即卑鄙而恶劣。

27、奔波：都有不辞辛苦地到处急忙活动之意。奔波：指忙忙碌碌地奔走，历尽波折。

奔忙：指奔走繁忙、操劳，也用于交通方面。

奔走：本指急走、快跑，后来多用于传告消息，常说成“奔走相告”。

《2011 年公务员考试行测考试 100 套华图真题》

28、本来：同为副词。拿先前的情况和现实的情况对比，表示语气的前后转变。本来更着重于强调原先的情况，多用于上半句，下半句有时有“可是”、“但是”与之呼应。

原来：更多的是强调对先前的真实情况有所发现或醒悟，多用于下半句，它时常是用真实情况对上半句加以说明或解释。

29、本义：词的本来意义，与引申义、比喻义相对。

本意：心里本来的想法、目的。

30、本领：同为名词。从事某种活动的技术、能力。经常换用，如“烧火煮饭的这点本领（本事）还有”。本领：有时指需要经过特别学习才能掌握的、较高的、较难的或较复杂的技能。这时具有庄重色彩，多用于书面语体。

本事：指技能、能力。多用于口头语体。

31、本质：同为名词。最主要的性质。本质：指事物或人的根本的、本来的属性。

实质：指实在的、内在的或实际的属性，跟“表面的或虚假的东西”对举。一般用于抽象事物。

32、鄙薄：同为动词。轻视，看不起。鄙薄：指以为轻薄、微不足道、看不起、嫌恶。

鄙夷：指以为平庸或浅陋，傲慢、轻蔑地看待，不屑一顾。

33、鄙弃：同为动词。毫不可惜地舍弃。鄙弃：指因看不起而抛弃。

唾弃：指象吐唾沫一样，毫不可惜地舍弃。

厌弃：指厌恶、嫌弃。

34、鄙视：同为动词。看不起。鄙视为鄙贱、低劣。

藐视：（也写作“渺视”）指视为藐小。

蔑视：指用轻蔑的态度小看，根本不放在眼里。

轻视：看不起，与“重视”相对。语义较轻。

35、比赛：同为动词。互相比上下，比高低，比胜负的活动。比赛常用于文艺、体育、娱乐等方面。可以带宾语。

《2011 年公务员考试行测考试 100 套华图真题》

竞赛：指竞争，力争优胜。常用于生产劳动、经济建设、军事等方面。不能带宾语。

【来源：中公网搜狐博客】

一、定义判断

1、程序化决策是可以确定的、在以前已经做过的决策，它们有客观正确的答案而且可以使用简单的规则、政策、数学计算来解决。

非程序化决策则是全新的、复杂的、无章可循的，它们有各种各样的解决方案，而且每个方案都各有优缺点。

下列属于非程序化决策的是（ ）

- A 建筑工人施工 B 医院接受病人的步骤
C 企业中定期记录存货 D 制定公司发展战略

2、自我实现预言是我们对他人的期望会影响到对方的行为，使得对方按照我们对他的期望行事。

下列属于自我实现预言的是（ ）

A 小张本来是一个很普通的孩子，但他的父母望子成龙，于是不惜重金让他读市里最好的高中，但最终小张也只上了一所普通大学。

B 小张是李老师班上一名普通的学生，可是有一天一位智力测量专家告诉李老师小张很有数学天分，于是以后数学课上李老师对小张格外关注，终于在半年后的考试中，校长的数学成绩有了很大的提高。

C 今天是小红的生日，她希望爸爸下班时能买生日蛋糕回来，果然爸爸在下班的时候买了一大盒生日蛋糕。

D 小李从小就希望自己能成为一个工程师，当他大学毕业后他终于到一家公司当上了软件工程师。

3、认知失调是指由于做了一项与态度不一致的行为而引发的不舒服的感觉。

下列属于认知失调的是（ ）

- A 小李和自己喜欢的女孩一起郊游。
B 小李在宴会上不理睬与自己有过节的小刘
C 小李很不喜欢上司的夸夸其谈，但为了面子而不得不恭维他。
D 小李政在戒烟，他的同事给他香烟的时候被他婉言拒绝了。

参考答案：DBC

二、事件排序

1、（1）商品经济出现 （2）资本主义生产方式 （3）生产力发展
（4）资本原始积累 （5）社会分工扩大

A 1---5---3---4---2 B 3---4---2---5---1

C 3---5---1---4---2 D 1---2---3---5---4

2、（1）生命单体 （2）原始水生物 （3）生物大分子 （4）简单有机物 （5）地球生物圈

A 4---1---2---3---5 B 3---2---4---5---1

C 4---3---1---2---5 D 3---4---2---1---5

3、（1）申请专利 （2）研制出新产品 （3）起诉索赔 （4）发现仿制品 （5）败诉

A 、 3---5---2---4---1 B 、 1---2---4---3---5

《2011 年公务员考试行测考试 100 套华图真题》

C、2---1----3----4----5 D、2----4---3-----5-----1

4、(1) 创作电影插曲 (2) 接到配音任务 (3) 歌曲被广为传唱
(4) 到基层体验生活 (5) 电影取得成功

A、2---4---1---3-----5 B、1---3-----2-----5-----4

C、2---4---1---5---3 D、2---1---5-----4--- -3

参考答案: CCDC

三、演绎推理

1、为保护海边建筑物免遭海洋风暴的袭击, 海洋度假地在海滩和建筑物之间建起了巨大的防护墙。这些防护墙不仅遮住了一些建筑物的海景, 而且使海岸本身也变窄了。这是因为在风暴从水的一边对沙子进行侵蚀的时候, 沙子不再向内陆扩展

上述信息最支持的一项论断是 ()

A 为后代保留下海滩应该是海岸管理的首要目标。

B 防护墙最终不会被风暴破坏, 也不需要昂贵的维修和更新。

C 由于海洋风暴的猛烈程度不断加深, 必须在海滩和海边建筑物之间建立起更多的高大的防护墙。

D 通过建筑防护墙来保护海边建筑的努力, 从长远来看作用是适得其反的。

2、政府对基本商品征收的一种税是对出售的每一罐使用油征税两分钱, 税务记录显示, 尽管人口数量保持稳定且税法执行有力, 食用油的税收在税法生效的头两年中还是显著下降了。

如果正确, 最有助于解释食用油税收额下降的一项是:

A 很少家庭在加税后开始生产他们自己的食用油

B 商人在税法实施后开始用比以前更大的罐子售油

C 在食用油税实行后的两年, 政府开始在许多其它基本商品上征税。

D 食用油罐传统上被用作结婚礼物, 税法实施后, 用食用油做礼物增多了。

3、针对某种溃疡, 传统疗法可在 6 个月内将 44% 的患者的溃疡完全治愈。针对这种溃疡的一种新疗法在 6 个月试验中使治疗的 80% 的溃疡取得了明显改善, 61% 的溃疡得到了痊愈。由于该试验只治疗了那些病情比较严重的溃疡, 因此这种新疗法显然在疗效方面比传统疗法更显著。

为更好的对比两种疗法的效果, 还需要补充的证据是:

A 这两种疗法使用的方法有何不同

B 这种疗法的使用成本是否存在很大差别

C 在 6 个月中以传统疗法治疗的该种溃疡的患者中, 有多大比例取得了明显改善。

D 在参加 6 个月的新疗法试验的患者中, 有多大比例的人对康复的比例不满意。

公务员考试名师辅导: 逻辑系列之假设

2007 年 06 月 26 日 11:26 [[我来说两句](#)] [字号: 大 中 小]

【来源: 中公网搜狐博客】

一、命题特点与解题要点

(1) 假设题型的主要表现形式有:

1、 加上一个条件就变成了一个有效的三段论推理。

2、 题干给出前提和结论, 然后提问你假设是什么。

《2011 年公务员考试行测考试 100 套华图真题》

3、以题干为结论，要求在选项中确定能推出题干的前提。

(2) 在解题过程中，要把握住以下几点：

- 1、前提与结论之间有本质联系
- 2、推论可行或有意义
- 3、没有别的因素影响推论
- 4、综合假设

二、典型例题解析

例题 1、有的地质学家认为，如果地球的未勘探地区中单位面积的平均石油储藏量能和已勘探地区一样的话，那么，目前关于地下未开采的能源含量的正确估计因此要乘上一万倍，如果地质学家的这一观点成立，那么，我们可以得出结论：地球上未勘探地区的总面积是已勘探地区的一万倍。为使上述论证成立，以下哪些是必须假设的？

- I. 目前关于地下未开采的能源含量的估计，只限于对已勘探地区
 - II. 目前关于地下未开采的能源含量的估计，只限于对石油含量
 - III. 未勘探地区中的石油储藏量和已勘探地区一样得到有效的勘探和开采
- A. 只有 I B. 只有 II C. 只有 I 和 II D. I、II、III

【答案】C。解析：本题属于假设前提型题目，结论为地球上未勘探地区的总面积是已勘探地区的一万倍。理由是如果地球的未勘探地区中单位面积的平均石油储藏量能和已勘探地区一样的话，那么，目前关于地下未开采的能源含量的正确估计因此要乘上一万倍，由于从平均储藏量到能源含量，到勘测面积，上述比例关系需要判断 I 和 II 必须作为必要条件，至于判断 III 由于不涉及开采问题，所以不是必需假设的。

例题 2、皮肤中胶原蛋白的含量决定皮肤是否光滑细腻，决定人的皮肤是否年轻。相同年龄的男性和女性皮肤中含有相同量的胶原蛋白，而且女性更善于保养，并能从日常保养中提高皮肤胶原蛋白含量，尽管如此，女性却比男性更容易衰老。

以下选项能解释上述矛盾的是：

- A. 男性皮肤内胶原蛋白是网状结构的，而女性是丝状结构的
- B. 女性维持光滑细腻的皮肤、年轻美貌的容颜需要大量胶原蛋白
- C. 只有蹄筋类食物富含胶原蛋白，但是很难被人体消化吸收
- D. 男性的胶原蛋白几乎不消耗，而女性代谢需要消耗大量胶原蛋白

【答案】D。解析：BC 都没有指出男女在利用胶原蛋白方面的不同，不能支持材料结论；A 项虽然指出男女胶原蛋白结构的不同，但没有说明其与“皮肤中胶原蛋白含量”的关系，不能直接支持材料结论；D 项指出女的比男的更容易消耗胶原蛋白，可以解释为什么“女性比男性更容易衰老”。

专家深剖：历年公务员考试逻辑“难题”

2007 年 06 月 25 日 14:31 [我来说两句] [字号：大 中 小]

【来源：中公网】

31. 人文社会科学与自然科学在更高层次上具有统一性和共同性。在我国人文社会科学领域，许多伪劣产品是在人文社会科学与自然科学的学术规范不同的借口之下生产出来、甚至受到好评的。据此可以得出：

- A. 人文社会科学与自然科学需要遵守共同的学术规范
- B. 人文社会科学要引入自然科学的学术规范

《2011 年公务员考试行测考试 100 套华图真题》

- C. 自然科学要引入人文社会科学的学术规范
- D. 人文社会科学与自然科学的两种学术规范是相互独立的

【答案】A。

32. 某厂有五种产品：甲、乙、丙、丁、戊。它们的年销售额之间的关系为：丙没有丁高，甲没有乙高，戊高于丁，而乙不如丙高。

请问，哪种产品的年销售额最高？

- A. 甲 B. 乙 C. 丁 D. 戊

【答案】D。

33. 亚里士多德学院的门口竖着一块牌子。上面写着“不懂逻辑者不得入内”。这天，来了一群人，他们都是懂逻辑的人。如果牌子上的话得到准确的理解和严格的执行，那么以下诸断定中，只有一项是真的。这一真的断定是（ ）。

- A. 他们可能不会被允许进入 B. 他们一定不会被允许进入
- C. 他们一定会被允许进入 D. 他们不可能被允许进入

【答案】A。

34. 当一个高压锋遭遇一个低压锋时，通常会发生降水。气象学家通过测量两个相向移动的锋的速度，可确定它们什么时候、在什么地方相遇，借此来预测降水。据此可知（ ）。

- A. 气象学家的职责是预测降水
- B. 低压锋总是向着高压锋方向移动
- C. 降水不一定需要低压锋的出现
- D. 某些降水的预测是基于高、低压锋的一般反应

【答案】D。

35. 世界食品需求能否保持平衡，取决于人口和经济增长的速度。人口增长会导致食物摄取量的增加；另一方面，经济增长会促使畜产品消费增加，改变人们的食物结构，从而对全球的谷物需求产生影响。

据此可知（ ）。

- A. 人口的增长将影响全球的谷物需求
- B. 改变食物结构将降低全球的谷物需求
- C. 经济的增长可降低全球谷物的需求
- D. 人口的增长会导致世界畜产品消费的增加

【答案】A。

以前有几项研究表明，食用巧克力会增加食用者患心脏病的可能性。而一项最新的、更为可靠的研究得出的结论是：食用巧克力与心脏病发病率无关。估计这项研究成果公布以后，巧克力的消费量将会大大增加。

上述推论基于以下哪项假设？（ ）

- A. 尽管有些人知道食用巧克力会增加患心脏病的可能性，却照样大吃特吃
- B. 人们从来也不相信进食巧克力会更容易患心脏病的说法
- C. 现在许多人吃巧克力是因为他们没有听过巧克力会导致心脏病的说法
- D. 现在许多人不吃巧克力完全是因为他们相信巧克力会诱发心脏病

【答案】D。

36. 在评奖会上，A、B、C、D、E、F、G、H 竞争一项金奖。由一个专家小组投票，票数最多的将获金奖。

如果 A 的票数多于 B，并且 C 的票数多于 D，那么 E 将获得金奖。

如果 B 的票数多于 A，或者 F 的票数多于 G，那么 H 将获得金奖。

《2011 年公务员考试行测考试 100 套华图真题》

如果 D 的票数多于 C，那么 F 将获得金奖。

如果上述断定都是真的，并且事实上 C 的票数多于 D，并且 E 并没有获得金奖，以下哪项一定是真的？（ ）

- A. H 获奖 B. F 的票数多于 G
- C. A 的票数不比 B 多 D. B 的票数不比 F 多

【答案】C。

37. 某珠宝商店失窃，甲、乙、丙、丁四人涉嫌被拘审。四人的口供如下：

甲：案犯是丙。乙：丁是案犯。丙：如果我作案，那么丁是主犯。丁：作案的不是我。四个口供中只有一个是假的。

如果以上断定为真，则以下哪项是真的？（ ）

- A. 说假话的是甲，作案的是乙 B. 说假话的是丁，作案的是丙和丁
- C. 说假话的是乙，作案的是丙 D. 说假话的是丙，作案的是丙

【答案】B。

38. 某律师事务所共有 12 名工作人员。(1)有人会使用计算机；(2)有人不会使用计算机；(3)所长不会使用计算机。这三个命题中只有一个是真的，以下哪项正确地表示该律师事务所会使用计算机的人数？（ ）

- A. 12 人都会使用 B. 12 人没人会使用 C. 仅有一人会使用 D. 不能确定

【答案】A。

39. 最近 15 年，世界技术有很大革新，尤其在通讯、信息和电子等方面。无疑，技术的进步使生产得到了改进，加强技术力量是推动经济增长的一个重要因素。

据此可知（ ）。

- A. 最近 15 年世界经济增长迅速 B. 技术革新可以推动生产发展
- C. 生产发展对技术进步有反作用 D. 技术进步决定了经济的增长

【答案】B。

40. 一方面由于天气恶劣，另一方面由于主要的胡椒种植者转种高价位的可可，所以，三年以来，全世界的胡椒产量已经远远低于销售量了。因此，目前胡椒的供应相当短缺。其结果是：胡椒价格上扬，已经和可可不相上下了。

据此可知（ ）。

- A. 世界市场胡椒的储存量正在减少
- B. 世界胡椒消费已持续三年居高不下
- C. 胡椒种植者正在扩大胡椒的种植面积
- D. 目前可可的价格要低于三年前的价格

【答案】A。

41. 顾客并不像通常所描述的那么容易被操纵。他们知道自己需要什么。他们需要的东西，和别人认为他们需要的东西，可能有很大的差别。

据此可知（ ）。

- A. 广告投资与商品销售不成正比
- B. 大多数人购物认准一种品牌多年不变
- C. 在进入商店前顾客大都知道要买哪种牌子的商品
- D. 顾客在商店购物时一般不喜欢他人的介绍或建议

【答案】A。

42. 令人奇怪的是，洛可可风格竟然首先出现于法兰西。路易十四的统治持续时间太长，对老王朝过分虔诚的时代终于结束，雄伟高贵的凡尔赛不再迫使人

《2011 年公务员考试行测考试 100 套华图真题》

们参加令人生厌的庆典，从此人们聚集于巴黎各公馆的精美沙龙之中。起初，洛可可是一种新型装饰，是为热爱冒险、异国情调、奇思遐想和大自然的高雅、智慧的社会服务的。这种轻盈、精美的风格最适合于现代公寓，房间不大，但均有珍贵的用途。洛可可进入巴洛克风格出尽风头的国家时，是十分谨慎小心的。

从这段话可以得到的正确推论是()。

- A. 路易十四时期法国流行轻盈、精美的巴洛克式室内装潢风格
- B. 洛可可风格首先在法国出现是因为法国人热爱冒险和奇思遐想
- C. 现代公寓都是洛可可式的，因而它们房间不大，但均有珍贵的用途
- D. 与巴洛克风格相比，洛可可风格并不追求雄伟和高贵

【答案】D。

43. 广告业的真理之一是，在广告中很少需要使用有内容的词句。广告所要做的只是吸引可能的顾客的注意力，因为记忆会促成一切。以产品的销售量而言，顾客对某项产品的记忆比对产品某些特性的了解还重要。

该段文字表达了这样一种观点：()。

- A. 广告业对它所促销商品的了解并不多
- B. 要吸引可能的顾客的注意力并不很困难
- C. 人们不需要对某产品有深入的了解就能够记住它
- D. 只为吸引可能的顾客的注意力的广告缺乏真实性

【答案】C。

44. 与中国的贸易，法国远远落后于日本和美国，甚至落后于英国和意大利。中国今年的国民生产总值增长率预计将达 7.5%-7.8%，与 2001 年头 7 个月相比，法国同中国的贸易只增长了 2.7%，而同是竞争者的其他欧洲国家同中国的贸易却平均增长了 10%。

这段话说明()。

- A. 法中贸易增长率低于中国国民生产总值增长率
- B. 法国同中国贸易的发展步伐相对缓慢
- C. 法国同中国的贸易远远落后于其他发达国家
- D. 除法国外的其他欧洲国家与中国的贸易都增长迅速

【答案】B。

45. 在公元之初，牧师们将基督教在整个罗马帝国中传播开来。基督教的普及首先涉及的是各大城市的平民阶层。基督徒们反对皇权意识，因此君主们都把他们视为威胁，并组织起对他们的暴力摧残。然而这并没有中断新信仰的扩展，它一点点赢得了贵族阶级和最有影响力的人士，而且很快触及到了皇帝周围的人和最高君主本人。公元 312 年的米兰敕令为迫害画上了句号。公元 380 年，狄奥多西敕令使基督教成为国教。因此，公元 4 世纪标志着基督教概念中的转折点。

根据这段话，可得到的正确推论是()。

- A. 基督教从开始就反对皇权统治，且一直与罗马皇帝及其政权斗争
- B. 基督教成为国教，意味着它由非法而合法、由被迫害而被推崇
- C. 公元 312 年基督教赢得了贵族阶级和最有影响力的人士的支持
- D. 公元 380 年以后，基督徒不再受到迫害，基督教被承认

【答案】D。

46. 某家庭有 6 个孩子，3 个孩子是女孩。其中 5 个孩子有雀斑，4 个孩子有卷发。

这表明有可能()。

《2011 年公务员考试行测考试 100 套华图真题》

- A. 两个男孩有卷发但没有雀斑 B. 三个有雀斑的女孩都没有卷发
C. 两个有雀斑的男孩都没有卷发 D. 三个有卷发的男孩只有一个有雀斑

【答案】C。

47. “一桌子苹果，别人通常挑一两个，挑三四个。毕加索最可气，每个都咬上一口，每个苹果上都有他的牙印儿。”一位中国画家如此评价毕加索。毕加索一生搞过素描、油画、雕塑、版画，担任过舞台设计，还写过小说、剧本和无标点散文诗。

从这段文字中我们可以推论()。

- A. 毕加索吃苹果，每个都只咬一口。中国作家对这种做法不以为然
B. 很多人都像毕加索一样参与过许多艺术类型的创作
C. 毕加索在艺术领域的许多方面进行过创作的尝试
D. 毕加索是个天才式的人物，没有他不涉及的艺术领域

【答案】C。

48. 四个小偷(每人各偷了一种东西)接受盘问。甲说：每人只偷了一块表；乙说：我只偷了一颗钻石；丙说：我没偷表；丁说：有些人没偷表。经过警察的进一步调查，发现这次审问中只有一人说了实话。

下列判断，没有失误的是()。

- A. 所有人都偷了表 B. 所有人都没偷表
C. 有些人没偷表 D. 乙偷了一颗钻石

【答案】A。

49. 下列表达有错误的是()。

- A. 莱伊恩的阻力来自于他并不出色的建筑才能
B. 伟大表现在即使遇到困难，也要坚持自己的原则
C. 莱伊恩做到了给自己的心灵一个美丽的住所
D. 工作没有惊人成绩也不妨碍一个人成为伟大的人

【答案】A。

50. 作为惟一一支留在世界杯的南美球队，下一场比赛巴西将迎战淘汰了丹麦的英格兰球队。巴西队教头斯科拉里不愿谈论如何与英格兰较量，而他的队员也保持着清醒的头脑。在击败顽强的比利时队后，斯科拉里如释重负：“我脑子里想的第一件事就是好好放松一下。”

依据上文，我们无法推知的是()。

- A. 巴西队本届世界杯中再也不会与南美球队比赛
B. 由于没有做好充分的准备，斯科拉里不愿意谈论与英格兰的较量
C. 与比利时的比赛很艰苦，所以赛后斯科拉里如释重负
D. 英格兰在与巴西比赛之前必须要战胜丹麦

【答案】B。

51. 某著名经济学家说，市场经济是一种开放经济，中国肯百折不回地争取入世，从根本上讲是国内市场化改革导致的必然抉择。中国许多问题的解决都得靠外力的推动。从更深层的层面来看，WTO 是中国加入的最后一个重要国际组织，这是中国自立于世界民族之林的最后一次重大外交行动，也是全面重返国际舞台的显著标志和强烈信号。所以有人曾指出，入世的政治意义大于经济意义。

依据上文，不能推出的结论是()

- A. 加入 WTO 后，中国已经全面重返国际舞台
B. 加入 WTO 后，中国已加入了所有重要的国际组织

《2011 年公务员考试行测考试 100 套华图真题》

- C. 加入 WTO 后，中国的政治发展将快于经济发展
- D. 中国若没有国内市场化的改革，难以取得加入 WTO 的成果

【答案】C。

52. 某国的人口调查数据表明，未婚的三十岁以上的男性超过这个年龄段的未婚女性，比例大约为十比一。这些男性中，大多数确实希望结婚。然而，明显地，除非他们中有许多人娶外国女性，否则大部分人将保持未婚。

上面论述基于下列哪个阶段（）

- A. 移民到国外的女性比男性多。
- B. 与该国外男性相同年龄的三十几岁的该国女性宁愿保持未婚
- C. 大多数未婚的该国男性不可能娶比他们年龄大的女性
- D. 大多数未婚的该国男性不愿意娶非本国的女性

【答案】C。

53. 1998 年度的统计显示，对中国人的健康威胁最大的三种慢性病，按其在总人口中的发病率排列，依次是乙型肝炎、关节炎和高血压。其中，关节炎和高血压的发病率随着年龄的增長而增加，而乙型肝炎在各个年龄段的发病率没有明显的不同。中国人口的平均年龄，在 1998 年至 2010 年之间，将呈明显上升趋势而逐步进入老龄化社会。

根据题干提供的信息，推出以下哪项结论最为恰当？（）

- A. 到 2010 年，发病率最高的将是关节炎
- B. 到 2010 年，发病率最高的将仍是乙型肝炎
- C. 在 1998 年至 2010 年之间，乙型肝炎患者的平均年龄将增大
- D. 到 2010 年，乙型肝炎的老年患者将多于非老年患者

【答案】C。

54. 一份犯罪调研报告揭示，某市近三年来的严重刑事犯罪案件 60% 都为已记录在案的 350 名惯犯所为。报告同时揭示，严重刑事犯罪案件的作案者半数以上是吸毒者。

如果上述断定都是真的，那么，下列哪项断定一定是真的？（）

- A. 350 名惯犯中可能没有吸毒者
- B. 350 名惯犯中一定有吸毒者
- C. 350 名惯犯中大多数是吸毒者
- D. 吸毒者大多数在 350 名惯犯中

【答案】A。

55. 发达国家中冠心病的发病率大约是发展中国家的三倍。有人认为，这主要归咎于发达国家中人们的高脂肪、高蛋白、高热量的食物摄入。相对来说，发展中国家较少有人具备生这种“富贵病”的条件。其实，这种看法很难成立。因为，目前发达国家的人均寿命高于 70 岁，而发展中国家的人均寿命还不到 50 岁。

以下哪项如果成立，最能加强上述反驳？（）

- A. 统计资料显示，冠心病患者相对集中在中老年年龄段，即 45 岁以上
- B. 目前冠心病患者呈年轻化趋势
- C. 发展中国家人们的高脂肪、高蛋白、高热量食物的摄（入）量，无论是总量还是人均量，都在逐年增长
- D. 相对发展中国家来说，发达国家的人们具有较高的防治冠心病的常识和较好的医疗条件

【答案】A。

56. 有时为了医治一些危重病人，医院允许使用海洛因作为止痛药。其实，

《2011 年公务员考试行测考试 100 套华图真题》

这样做是应当禁止的。因为，毒品贩子会通过这种渠道获取海洛因，这会对社会造成严重危害。

以下哪个如果为真，最能削弱以上的论证？（ ）

- A. 有些止痛药可以起到和海洛因一样的止痛效果
- B. 用于止痛的海洛因在数量上与用于做非法交易的比起来是微不足道的
- C. 海洛因如果用量过大就会致死
- D. 在治疗过程中，海洛因的使用不会使病人上瘾

【答案】B。

57. 虽然菠菜中含有丰富的钙，但同时含有大量的浆草酸，浆草酸会有力地阻止人体对钙的吸收。因此，一个人要想摄入足够的钙，就必须用其他含钙丰富的食物来取代菠菜。

以下哪个如果为真，最能削弱题干的论证？（ ）

- A. 大米中不含钙，但含有中和浆草酸并改变其性能的碱性物质
- B. 奶制品中的钙含量要高于菠菜，许多经常食用菠菜的人也食用奶制品
- C. 在人的日常饮食中，除了菠菜以外，事实上大量的蔬菜都含有钙
- D. 菠菜中除了钙以外，还含有其他丰富的营养素；另外，浆草酸只阻止人体对钙的吸收，并不阻止其他营养的吸收

【答案】A。

58. 全国各地的电话公司目前开始为消费者提供电子接线员系统，然而，在近期内，人工接线员并不会因此减少。

除了下列哪项外，其他各项均有助于解释上述现象？（ ）

- A. 需要接线员帮助的电话数量剧增
- B. 尽管已经过测试，新的电子接线员系统要全面发挥功能还需进一步调整
- C. 如果在目前的合同期内解雇人工接线员，有关方面将负法律责任
- D. 新的电子接线眼的工作效率两倍于人工接线员

【答案】D。

59. 今年M市开展了一次前所未有的化妆品广告大战。但是调查表明，只有25%的M市居民实际使用化妆品。这说明化妆品公司的广告投入有很大的盲目性。

以下哪项陈述最有力地加强了上述结论？（ ）

- A. 化妆品公司做广告是因为产品供过于求
- B. 去年实际使用化妆品的M市居民有30%
- C. 大多数不使用化妆品的居民不关心其广告宣传
- D. 正是因为有25%的居民使用化妆品，才要针对他们做广告

【答案】C。

60. 第二次世界大战期间，海洋上航行的商船常常遭到轰炸机的袭击，许多商船都先后在船上架设了高射炮。但是，商船在海上摇晃得比较厉害，用高射炮射击天上的飞机是很难命中的。战争结束后，研究人员发现，从整个战争期间架设过高射炮的商船的统计资料看，击落敌机的命中率只有4%。因此，研究人员认为，商船上架设高射炮是得不偿失的。

以下哪个如果为真，最能削弱上述研究人员的结论？（ ）

- A. 在战争期间，未架设高射炮的商船，被击沉的比例高达25%；而架设了高射炮的商船，被击沉的比例只有不到10%
- B. 架设了高射炮的商船，即使不能将敌机击中，在某些情况下也可能将敌

《2011 年公务员考试行测考试 100 套华图真题》

机吓跑

C. 架设高射炮的费用是一笔不小的投入, 而且在战争结束后, 为了运行的效率, 还要再花费资金将高射炮拆除。

D. 一般来说, 上述商船用于高射炮的费用, 只占整个商船的总价值的极少部分

【答案】A。

中公网加油站: 公考数字推理最热类型

2007 年 06 月 25 日 10:30 [我来说两句] [字号: 大 中 小]

【来源: 中公网搜狐教育博客】

数字推理在公务员行政测试里面历来是固定的题型。数字推理因为其难度高, 使得很多考生无法在开始考试时就进入良好的状态。数字推理考核的数列类型较多, 考核的形式多样。

其中, 平方数列、立方数列及其变式常常出现于各个省市的公务员考试中。下面, 我为大家列举近年来各省市具有代表性的此类题目, 以飨读者。

现在的公务员考试, 单纯的考核平方数列、立方数列已经较为少见, 经常是考核其变式, 即将平方数列和立方数列综合其他数列一起来考察。

1.

() 35 63 80 99 143

A: 24 B: 15 C: 8 D: 1

解析: 这道题目较为简单, 35, 63, 80, 99, 143, 分别是 6, 8, 9, 10, 12 的平方减去 1。而 6, 8, 9, 10, 12 正好又构成了一个合数列。如果考生对合数列不熟悉的话, 那么该题也可能是一道难度。() = $42 - 1 = 15$ 。

2.

100 8 1 $1/4$ ()

A: $1/4$ B: $1/12$ C: $1/20$ D: $1/32$

解析: 这道题目也较为简单, 以上数列分别是 10 的平方, 8 的 1 次方, 6 的 0 次方和 4 的 -1 次方, 那么答案为 2 的 -2 次方。该题把方次由平常常见的自然数列该成一个连续数列并带有负数。考生如果平常做题不多的话, 思路不够开阔的话, 这种题目做起来还是要花一定的时间的。

3.

0 9 26 65 () 217

A: 106 B: 118 C: 124 D: 132

解析: 该道题目加入了奇偶性加减 1 的规律, 但是总体难度不高。 $0 = 13 - 1$, $9 = 23 + 1$, $26 = 33 - 1$, $65 = 43 + 1$, $124 = 53 - 1$, $217 = 63 + 1$ 。

4:

-26, -6, 2, 4, 6, ()。

A: 11 B: 12 C: 13 D: 14

解析: $-26 = (-3)^3 + 1$, $-6 = (-2)^3 + 2$, $2 = (-1)^3 + 3$, $4 = 0^3 + 4$, $6 = 1^3 + 5$, () = $2^3 + 6 = 14$ 。该道题目不仅把考生不熟悉的负数作为立方数列的基本数列, 同时也加入了自然数列, 有一定难度。

《2011 年公务员考试行测考试 100 套华图真题》

5.

3, 30, 29, 12, ()

A. 92 B. 7 C. 8 D. 10

解析: $3=14+2$, $30=33+3$, $29=52+4$, $12=71+5$, $()=90+6=7$ 。本道题目较难, 文中在三个数列上同时采用了等差数列, 思维层面上变化较多。

6.

1 4 16 49 121 ()

A. 256 B. 225 C. 242 D. 224

解析: 数列为 12, 22, 42, 72, 112, ?, 各数开方后相邻两项求差得数列 1, 2, 3, 4, 5 所以所求数应为 $?=(11+5)^2=256$ 。本道题目把平方数列, 二级等差数列综合起来考。

7.

0: 5 2 8 ()

A: 12: 5 B: 27/2 C: 29/2 D: 16

解析: 原式等同于 $1/2 \ 4/2 \ 9/2 \ 16/2 \ (25/2)$, 分子成二级等差数列; 分子依次为 12、22、32、42、52。本道题目在综合了平方数列和二级等差数列的特点外, 还引入了分式的特点。

总体来说, 平方数列、立方数列及其变式仍然还是难度较高的题目, 而且呈现出与其他规律相结合的方式。希望以上提供的思路, 能够为考生冲刺公务员考试加油助跑。

2007 北京社招行测数量关系真题及详解

华图公务员考试研究中心 李委明

第一部分 数量关系

(共 25 题, 参考时限 20 分钟)

一、数字推理: 本部分包括两种类型的题目, 共 10 题。

(一)、每题给你一个数列, 但其中缺少一项, 要求你仔细观察数列的排列规律综合判断, 然后从四个供选择的选项中选出最恰当的一项, 来填补空缺项。

例题: 1 3 5 7 9 ()

A. 7 B. 8 C. 11 D. 未给出

解答: 正确答案是 11, 原数列是一个奇数数列, 帮应选 C。

请开始答题:

1、33, 32, 34, 31, 35, 30, 36, 29, ?

A. 33 B. 37 C. 39 D. 41

选 B

解答: 交叉数列 (即隔项或称奇偶数列)。分项后为等差数列。

2、3, 9, 6, 9, 27, ? , 27

A. 15 B. 18 C. 20 D. 30

《2011 年公务员考试行测考试 100 套华图真题》

选 B

解答：二级作商周期数列。两两作商得到：3、 $2/3$ 、 $3/2$ 、3、 $2/3$ 、 $3/2$ 。

3、2、12、6、30、25、100、？

A. 96 B. 86 C. 75 D. 50

选 A

解答：变形奇偶数列。偶数项分别为前项乘以 6、5、4 得到，奇数项分别为前项减去 6、5、4 得到。

4、4、23、68、101、？

A. 128 B. 119 C. 74.75 D. 70.25

选 C

解答：变倍数递推数列。后一项分别为前一项乘以 6、3、1.5、0.75 再减去 1 得到。

$$4 \times 6 - 1 = 23$$

$$23 \times 3 - 1 = 68$$

$$68 \times 1.5 - 1 = 101$$

$$101 \times 0.75 - 1 = 74.75$$

5、323、107、35、11、3、？

A. -5 B. $1/3$ C. 1 D. 2

选 B

解答：倍数递推数列。前一项减去 2 后乘以 $1/3$ 得到后一项。

$$(323-2) \times 1/3 = 107$$

$$(107-2) \times 1/3 = 35$$

$$(35-2) \times 1/3 = 11$$

$$(11-2) \times 1/3 = 3$$

$$(3-2) \times 1/3 = 1/3$$

此题亦可倒过来看，即是后一项乘以 3 再加 2 得到前一项。

(二)、每题图形中的数字都包含一定的规律，请你总结图形中数字的规律，从四个选项中选出最恰当的一项。

例题：

1	2	3
2	3	4
3	?	5

A. 1 B. 2 C. 3 D. 4

解答：正确的答案是 4，根据所提供的各项条件综合判断，可以得出最恰当的规律为：每一列和每一行都依次增加 1；因此结合所给选项，答案是 D。

开始答题：

6、

16	4	1
32	?	2

《2011 年公务员考试行测考试 100 套华图真题》

64	16	4
----	----	---

A4 B8 C16 D32

选 B

解答：每一列为一公比为 2 的等比数列。

7、

12	9	-6
2	3	10
1	3	?

A. 26 B. 17 C. 13 D. 11

选 D

解答：每一行相加和都为 15。

8、

84	9	?
72	37	218
23	-12	22

A. 106 B. 166 C. 176 D. 186

选 D

解答：每一行前两个数相加再乘以 2 等于第三个数。

9

12	9	?
11	33	66
8	3	27

A. 35 B. 40 C. 45 D. 55

选 C

解答：每一行中，第一个数乘以 3 加上第二个数等于第三个数。

10、

?	10	28
6	15	36
3	3	9

A. 12 B. 18 C. 9 D. 8

选 D

解答：每一行中，第二个数的两倍加上第一个数等于第三个数。

二、数学运算 你可以在题本上运算，遇到难题，你可以跳过不做，待你有时
间再返回来做，共 15 题。

例题：

84.78 元、59.50 元、121.61 元、12.43 元以及 66.50 元的总和是：

A. 343.73 B. 343.83 C. 344.73 D. 344.82

《2011 年公务员考试行测考试 100 套华图真题》

解答：正确答案为 D。实际上你只要把最后一位小数加一下，就会发现和的最后一位数是 2，只有 D 符合要求。就是说你应当动脑筋想出解题的捷径。

11、甲、乙、丙、丁四人今年分别是 16、12、11、9 岁。问多少年前，甲、乙的年龄和是丙、丁年龄和的 2 倍？

A、4 B、6 C、8 D、12

选 B

普通解法：设 x 年前满足条件，则 $(16-x)+(12-x)=[(11-x)+(9-x)] \times 2$

特殊解法：两组年龄差为 8 岁（分别作差 $5+3=8$ ），当第一组为第二组两倍时肯定是 16 与 8 岁。现在第一组和为 28 岁，需要倒退 12 岁到 16 岁，需要 6 年，因为两个人一年一共倒退 2 岁。

注：特殊解法只代表一种较特殊的思维，在有些情况下可以简化计算，但并不代表所有情况下都可以简化计算，这里列出来供大家选择适合自己并且考场之上容易想到的方法，如果无法理解或者考场之上无法想到，建议使用普通解法，下同。

12、李明从图书馆借来一批图书，他先给了甲 5 本和剩下的 $\frac{1}{5}$ ，然后给了乙 4 本和剩下的 $\frac{1}{4}$ ，又给了丙 3 本和剩下的 $\frac{1}{3}$ ，又给了丁 2 本和剩下的 $\frac{1}{2}$ ，最后自己还剩 2 本。李明共借了多少本书？

A、30 B、40 C、50 D、60

选 A

普通解法：设李明共借书 x 本，则 $((((x-5)*\frac{4}{5}-4)*\frac{3}{4}-3)*\frac{2}{3}-2)*\frac{1}{2}=2$

特殊解法：思维较快的直接倒推用反计算，即用 2 乘 2 加 2 乘 $\frac{3}{2}$ 加 3... ..

13、商店为某鞋厂代销 200 双鞋，代销费用为销售总额的 8%。全部销售完后，商店向鞋厂交付 6808 元。这批鞋每双售价为多少元？

A、30.02 B、34.04 C、35.6 D、37

选 D

普通解法：设每双售价 x 元，则 $200 \times x \times (1-8\%)=6808$

特殊解法：交付钱数 6808 元必然能除尽每双售价，依此排除 A、C。如果是 B，很容易发现 200 双正好 6808 元，没有代销费用了。

14、甲、乙二人 2 小时共加工 54 个零件，甲加工 3 小时的零件比乙加工 4 小时的零件还多 4 个。甲每小时加工多少个零件？

A、11 B、16 C、22 D、32

选 B

普通解法：设俩人速度分别为 x 、 y ，则 $2x+2y=54$ ， $3x-4y=4$

特殊解法：从第一句话知 D 不对。从第二句话中知甲每小时加工的零件是 4 的倍数。

15、某车间进行季度考核，整个车间平均分是 85 分，其中 $\frac{2}{3}$ 的人得 80 分以上（含 80 分），他们的平均分是 90 分，则低于 80 分的人的平均分是多少？

A、68 B、70 C、75 D、78

选 C

《2011 年公务员考试行测考试 100 套华图真题》

普通解法：设 x 为所求，假设总共 3 人，其中 2 人 80 以上，1 人低于 80 分。则 $2 \times 90 + 1 \times x = 3 \times 85$ 。记住此处别忘了用尾数法快速得到答案。

特殊解法：利用十字交叉法解决混合平均问题。两部分人比例为 2:1，则其各自平均分到 85 分的距离应该反过来为 1:2=5:10，直接得到 75。

16、五个瓶子都贴了标签，其中恰好贴错了三个，则错的可能情况共有多少种？

A、6 B、10 C、12 D、20

选 D

普通解法：从五个瓶子当中选出三个来为 $C(3, 5)=10$ ，这三个瓶子都贴错有 2 种可能，即 231、312 两种。 $10 \times 2=20$

17、装某种产品的盒子有大、小两种，大盒每盒能装 11 个，小盒每盒能装 8 个，要把 89 个产品装入盒内，要求每个盒子都恰好装满，需要大、小盒子各多少个？

A、3, 7 B、4, 6 C、5, 4 D、6, 3

选 A

普通解法：设大小盒分别为 x 、 y 个。则 $11x+8y=89$ 。在自然数范围内解此不定方程， $0 \leq x \leq 8$ ，根据奇偶还得是个奇数，所以选择 1、3、5、7 代入发现，只有 $x=3$ 可以得到自然数 $y=7$

特殊解法：直接代入。尾数为 9 的只有 A。

18、电视台向 100 人调查昨天收看电视情况，有 62 人看过 2 频道，34 人看过 8 频道，11 人两个频道都看过。问，两个频道都没有看过的有多少人？

A、4 B、15 C、17 D、28

选 B

普通解法：看过的人为 $62+34-11=85$ ，没有看过的自然是 15。

特殊解法：用容斥原理。 $100=62+34-11+x$ 。尾数为 5。

19、有一堆螺丝和螺母，若一个螺丝配 2 个螺母，则多 10 个螺母；若 1 个螺丝配 3 个螺母，则少 6 个螺母。共有多少个螺丝？

A、16 B、22 C、42 D、48

选 A

普通解法：设螺丝和螺母分别为 x 、 y 个。则 $2x+10=y$ ， $3x-6=y$

特殊解法：考虑第二次是在第一次的基础上每个螺丝再加一个螺母，多出来的 10 个螺母还可以加 10 个螺丝，但仍然少 6 个螺丝，因此螺丝就是 $10+6=16$ 个。

20、甲、乙二人上午 8 点同时从东村骑车到西村去，甲每小时比乙多骑 6 千米，中午 12 点甲到达西村后立即返回东村，在距西村 15 千米处遇到乙。东、西两村相距多远？

A、30 B、40 C、60 D、80

选 C

普通解法：设甲的速度为 x ，乙为 $x-6$ ，两村相距为 y ，他们从出发到相遇共用时 t 小时。则 $4x=y$ ， $tx=y+15$ ， $t(x-6)=y-15$

特殊解法：相遇时甲比乙多骑 2 个 15 千米，即多骑 30 千米，而甲比乙每小时多骑 6 千米，说明相遇时一共过了 5 个小时，即为 13 点。说明甲从 12 点到 13

《2011 年公务员考试行测考试 100 套华图真题》

点一个小时走了 15 千米，所以从 8 点到 12 点四个小时应该走 60 千米。

21、某铁路桥长 1000 米，一列火车从桥上通过，测得火车从开始上桥到完全下桥共用 120 秒，整列火车完全在桥上的时间 80 秒，则火车速度是？

A、10 米/秒 B、10.7 米/秒 C、12.5 米/秒 D、500 米/分

选 A

普通解法：设速度为 v ，火车长 s ，则 $1000+s=120v$ ， $1000-s=80v$ 。

特殊解法：从两个时间平均得到 100 秒知，从车头进桥到车头离桥需要 100 秒，这个过程车经过的距离正好就是桥的长度，所以车速为 10。

22、大、小两个数的差是 49.23，较小数的小数点向右移动一位就等于较大的数，求较小的数？

A、4.923 B、5.23 C、5.47 D、6.27

选 C

普通解法：设小数为 x ，则大数为 $10x$ 。 $10x-x=49.23$ 。

特殊解法：直接代入通过尾数排除 A、B，估算排除 D。

23、有 10 个连续奇数，第 1 个数等于第 10 个数的 $\frac{5}{11}$ ，求第 1 个数？

A、5 B、11 C、13 D、15

选 D

普通解法：设第 1 个数为 x ，则第 10 个数应该是 $x+18$ ， $x=\frac{5}{11}(x+18)$ 。

特殊解法：第 1 个数为第 10 个数的 $\frac{5}{11}$ ，则第一个数为 5 的倍数，排除 B、C。如果第一个数为 5，则第 10 个数为 11，显然不对。

24、八个自然数排成一排，从第三个数开始，每个数都是它前面两个数的和，已知第五个数是 7，求第八个数。

A、11 B、18 C、29 D、47

选 C

普通解法： a 、 b 、 c 、 d 、7、 f 、 g 、 h 。因为 $c+d=7$ ，所以 c 和 d 可能是 1+6、2+5、3+4、4+3、5+2、6+1 的组合，验证只有 3+4 满足前面条件，为 2、1、3、4、7、11、18、29

特殊解法：考虑 d 的取值极端情况，两种为 a 、 b 、 c 、0、7、7、14、21 和 a 、 b 、 c 、7、7、14、21、35。两者之间即可。

25、 $(300+301+302+\dots+397)-(100+101+\dots+197)=$?

A、19000 B、19200 C、19400 D、19600

选 D

普通解法：分别用等差数列求和公式求出俩和再作减法。

$(300+397)*98/2-(100+197)*98/2$

特殊解法：括号对应处相减都为 200，一共 98 个 200。（来源：北京华图学校）

2007 北京市社招公务员考试行测“五大难点”

2007 年 06 月 17 日 21:16 [我来说两句(5)] [字号：大 中 小]

【来源：中公网】

《2011 年公务员考试行测考试 100 套华图真题》

2007 年北京市公务员考试刚刚落下帷幕，整体而言，今年北京市公务员考试行政职业能力测验的难度和去年大致持平，题目类型没有发生特别大的变化。但今年北京市公务员考试试题数字推理、数学运算、图形推理、言语理解、逻辑出现了一些新的变化和新的考点，主要表现为以下五个方面：

12	9	-6
2	3	10
1	3	?

难点一：数字推理——九宫格类型数字推理

今年北京市的数字推理仍然延续了历年的风格，分为数列和表格两个部分。但是最为明显的区别，是剔除掉圆圈型的数字推理，代之以九宫格类型的数字推理。在难度上，数列型的数字推理难度与去年持平，九宫格类型的数字推理难度梯度较大。第 6、7、8 道的数字推理难度较为简单，考生观察表格数字间的简单关系就可得出。第 9、10 道题目的数字推理难度较大，对于水平一般的考生难度较大。

例题：

A. 26 B. 17 C. 13 D. 11

解析：每列之和都等于 15。

难点二：数学运算——重视技巧

今年北京市的数学运算仍然保持了 15 道题目的数量。但是，与往年不同的是，今年更重视考察考生的思维技巧而不是运算能力。象第 19 题、第 23 题，如果考生利用方程法来求解的话，是相当麻烦的；如果考生直接采用代入法，那么这两道题目就迎刃而解。另外，第 20 题和第 21 题属于行程问题，但是与以往考题不一样的是，这两道题目所给的信息非常有限，需要考生弄清题目间暗含着的数量关系。

例题：有 10 个连续奇数，第 1 个数等于第 10 个数的 $\frac{5}{11}$ ，求第 1 个数？

A. 5 B. 11 C. 13 D. 15

正确答案 D。第 10 个奇数等于第 1 个数加上 18，用代入法。显然，只有第一个数是 15，第 10 个数是 $15+18=33$ 时， $15/33=5/11$ ，符合题目要求。

难点三：图形推理——方格型图形推理规律

今年的图形推理的数量为 5 题，难度有所提高，重点考核了方块形图案的移动规律。5 道题目中有 3 道题目是方块形图案，可见今年的考核重点过于集中在此类题目上。考核的规律比历年题目的规律，在难度上也有所提高。第 26、29、30 道题目的规律雷同但在难度上有所区别。最简单的是第 29 题的规律，其次是第 26 题的规律，但是第 30 题的规律则是综合了以上两道题目的规律，难度达到了一个较大的程度。第 27、28 题的规律相对简单，但是排除了以往试题中常见的规律。如果考生思路不够开阔的话，也是有一定的难度的。

总之，今年图形的规律跟历年试题的规律比较不同。考生在考试的时候需要保持清醒的头脑，排除惯性思维的影响。

《2011 年公务员考试行测考试 100 套华图真题》

难点四：言语理解——科技文章唱主角

今年的言语部分全部是文章阅读，总共六篇，每篇五道题目，考查范围涉及在特定语境中对词语、句子的理解，对文章主旨的理解等。这部分的难点突出表现在下面几个方面：

(1) 材料内容侧重科技。这部分文章取材于科技、经济和人文领域，其中科技类占大多数。这无形中增加了试题难度。以文章的第一篇为例。它是关于宇宙大爆炸理论的。文章主要谈了宇宙大爆炸理论的两个科学证据：一个是哈勃发现的光谱红移现象，一个是贝尔实验室的两位科学家发现的“宇宙背景辐射”。大部分考生不熟悉这些内容，理解上存在很大困难。

(2) “常识陷阱”。这是科技类论文的常用手段。以 86 题为例。部分考生可能会选 B，这是因为对“红移”的理解错误，总认为物体本身发红光。这就掉进命题人设置的“常识陷阱”中。实际上，“红移”是因为“多普勒效应”的存在，使光的波长变长，接近“红”光。答案选 A。“多普勒效应”其实很常见。比如当火车驶来的时候，人们会感觉到越来越刺耳，这是声波变短的原因；当火车离去的时候，人们又会感觉到声音慢慢变得不尖了，这是声波变长的原因。

(3) “概念交错”。科技类论文为什么难？一个重要原因是文章中的概念比较多。概念之间的交错更使考生一头雾水，搞不清楚它们之间的关系。这也就成为命题人比较青睐的出题陷阱。以 88 题为例。该题涉及的概念有“宇宙膨胀理论”、“聚合状态”、“宇宙背景辐射”、“低温状态”、“大爆炸理论”等，几乎包括了文章中出现的大部分主要概念。所以 88 题比较难，正确答案是 C。“宇宙背景辐射”是宇宙大爆炸后留下的，它只能证明大爆炸理论，不能证明宇宙膨胀理论。

难点五：逻辑部分——多命题推理

多命题推理一直都是难点。在考试时间有限的背景下，其难度更显突出。试题逻辑部分

涉及多道此类题目。31、35 题给了三个命题，32 题给了四个命题，再加上一些条件，使得题目解答起来格外困难。以 31 题为例。如果命题 1 正确，那命题 2 肯定正确。根据题干要求，可以推断命题 1 肯定是错误的。然后运用假设法判断命题 2 和 3。假设命题 2 正确，可以判断出丙就是篮球队的，那甲就是足球队的，与假设矛盾。所以命题 2 错误，命题 3 正确。这样可以推出乙是足球队的，丙是乒乓球队的，甲是篮球队的。答案选 B。

07 年北京市公务员考试预测之言语理解与表达

2007 年 06 月 14 日 11:40 [我来说两句] [字号：大 中 小]

【来源：中公网】

言语理解与表达，是北京市公务员考试的固定题目，共 30 个题目。它的设置，其基本目的是考查公务员理解驾驭语言的能力，良好的语言沟通交流能力，是公务员必须具备的。就近两年考试内容的难易程度而言，这部分题目的难度不大，都是些基础性的知识。

现在就命题的方式、范围、特点和解题技巧作简要地分析和预测。

一、方式：客观性命题，均为单选题。

二、范围：对词、句子、篇章一般意思和特定意义的理解；对比较复杂的概念和观点的准确理解；对语句隐含信息的合理推断；根据上下文，恰当选用词语；准确地辨明句义，筛选信息。

三、特点：形式多样，角度不一。

《2011 年公务员考试行测考试 100 套华图真题》

四、解题技巧：

1、词

A、正确理解并使用词语。首先要正确理解词语的含义。其次根据具体的语言环境来判断，词不离句，不能主观臆测。

B、正确理解辨析近义词。主要包含：语意的轻重；适用范围；感情色彩；语体风格；搭配对象等。

C、正确运用成语。包含成语的含义、感情色彩和适用范围。

D、正确运用虚词。包含关联词语和一般虚词。

例题：

下列各句中，没有语病、句义明确的一句是（ ）

A、在专业研究、试验方面有优势的单位，有派出讲学人员、接受访问学者、举办训练班以及对其他协作单位提供帮助的义务。

B、我们能不能培养出“四优”新人，是关系到我们党和国家前途命运的大事，也是教育战线的根本任务。

C、大家对护林员揭发林业局带头偷运木料的问题，普遍感到非常气愤。

D、有关部门对极少数不尊重环卫工人劳动，无理取闹，甚至殴打、侮辱环卫工人的事件，及时进行了批评教育和严肃处理。

【答案】A

解析：B 句中，前半部分有表示两方面意思的词语“能不能”，后半部分却用了表示一方面意思的短语“是教育战线的根本任务”，这样，就犯了前后意思不一致的逻辑错误。C 句可以理解为大家对护林员的揭发行为气愤，也可以理解为大家对林业局偷运木料的行为气愤，因而这是一个句意不明的歧义句。D 句说“对、、、、时间进行了批评教育”，犯了成分不搭配的错误。

2、句子（一般性掌握）

常见病句和语句连贯。

A、常见病句：语序不当、搭配不当、成分残缺或赘余、结构混乱、表意不明、逻辑含混等。

B、语句连贯：话题一致、语序合理、语言的照应和衔接。

例题：

菲尔丁说：“不好的书也像不好的朋友一样，可能会把你戕害。”这话没错。但也不必为此走向极端，夸大书籍对人的品格的影响。更多的情况是：

A、好人读了坏书受害至深，坏人读了好书受益甚微。

B、好人读了好书取其精华，坏人读了坏书取其糟粕。

C、好人多了好书好上加好，坏人读了坏书不可救药。

D、好人读了坏书仍是好人，坏人读了好书仍是坏人。

【答案】D

解析：根据“语义一致”的原则，作者强调的是不走极端，即好人读了坏书不见的一定变坏，坏人读了好书不见的一定变好。所以选择 D。

3、阅读理解。

北京市公务员考试言语理解与表达的阅读部分主要以科技类说明文为主，以其他社科类文章为辅。科技类文章的内容范围很广，可能会涉及到天文、地理、生物、物理、化学以及当代最新的高科技知识，但其阅读目的并不是为了弄清楚这些知识本身，而是借助基本的知识技能，完成一定的阅读任务。

《2011 年公务员考试行测考试 100 套华图真题》

A 、片段阅读

包括：对片段材料的正确理解、对片段材料主要意思的理解、选项内容与片段材料不一致的理解等。

例题：

任何传统形式的资源在地球上都有一定的储量，可信息资源不但没有限度，永远不会耗尽，而且越来越快的发展；任何传统形式的资源，只能一家独享，例如一吨煤，甲方使用了，乙方就不能再用，而信息资源就不是这样。下列陈述对文意理解正确的是（ ）

- A、传统资源总有一天会耗尽，而信息资源却取之不尽，用之不竭。
- B、传统资源的储量有限不会发展，而信息资源却可以使各方共享。
- C、信息资源之所以特别受重视，就在于它的无限性和共享性。
- D、信息资源的无限性和共享性，决定了它必然取代传统形式的资源。

【答案】C

解析：题干以对比的手法介绍了信息资源的两个特性：无限性和共享性。A 项只阐述了信息资源的无限性；B 项阐述了信息资源的共享性；题干中并没有提到信息资源必然取代传统资源的问题，因此 D 不正确。所以正确的选项应该是 D。

B 文章阅读（科技文为主，社科文为辅助）

包含：根据上下文，对具体词语的理解；对文中信息理解不正确的判断；对选文主旨的正确理解等。

例文：

阅读一下文字，完成下面的题目。

教育的任务就是唤醒人的潜力或潜在本质，使其内部产生一种自动力，最大限度地使其内部灵活性与可能性得到最佳发展。教育实质上是人的灵魂的教育，而不仅仅是知识和认识的积累，而灵魂的成长成熟是没人可以代劳的。按本性说，人都希望成为真正的人，而不是异化的人。我们是什么养的人和别人要求我们成为什么样的人，并靠自身改变自身进而把握自己安身立命之本。人要能健康成长必须经过这样一个内部发展过程。古人说：顺物之性以治物则物不可用，顺人之性以治人则人无不可治。这与老子所说“我无为，而民自化”意思相通。用今天的话说，就是减少不必要的干涉与管束，充分信任新生人的内在机制，使人渐习而日无之，从无序达到有序。而试图过多干预存在物的生长规律，必将损害这些事物，同时也破坏自身的和谐。

从心理上分析，人的这种生成是在不知不觉的无意识中达到的，而“那种最高最好的东西不是根据意识的规定制作的，而是一种自发的或无意识的成长的结果”。所谓“徙善远罪而不知”也。自己订了好的品质自己却不觉得。这是循循善诱中，潜移默化，熏陶渐染有以致之。但人们却常常忽视甚至无视这种无意识的作用，只把注意力放在提高自觉性上。因而习惯于单向灌输，把自己当作主体，把教育对象视为客体，视为活的接受器，惟恐受教育者不能意识到自己在被施教。这实在是教育的一大误区，前苏联教育家苏霍姆林斯基对这个问题有过深刻的论述。他从自己长期的教育实践中认识到，一味强调自觉，必然“会在人身上培植虚伪的性格”，他严厉指责这样做是一种“不道德的行为”，而“这种不道德的行为还有更巧妙，更隐蔽的表现——事先设计故意生造一种教育场景”。可当受教育者“非常准确地看穿这种矫揉造作的把戏”，他的心灵便会做出防御戒备的反应，形象地说，便会扣上全部钮扣，整个封闭起来。所以，他“不得不花费巨大的努力使青少年不致感到他是被人有目的地引导到什么地方去”。事实证明：

《2011年公务员考试行测考试 100 套华图真题》

受教育者越少感到落在自己头上的设想，其教育效果便越大。杜甫的两句诗：随风潜入夜，润物细无声。可作这种教化的形象说明。教育犹如雨露之于草木，受教育者如坐春风，如淋春雨，在潜意识，半潜意识中，导致深层心理结构的变化。

- 1、第一段中“这样一个内部发展过程”指的是（ ）
- A、最大限度地使其内部灵活性与可能性得到最佳发展
 - B、发展自身、决定自身、改变自身、把握自身
 - C、顺人之性以治人，则人无不可治
 - D、减少不必要的干涉和管束，充分信任尊重人的内在机制。

【答案】C

解析：由“我们是什么样的人和别人要求我们成为什么样的人之间是有冲突的，人应该按自身本性发展，自己决定自己成为什么样的人，并靠自身改变进而把握自己安身立命之本”这句话，可以判断答案是C。

- 2、第一段中“不仅仅”所强调的意思是（ ）
- A、我们是什么样的人
 - B、别人要求我们成为什么样的人
 - C、人的灵魂的教育
 - D、知识与认识的积累

【答案】C

解析：把“不仅仅”放到具体的语言环境中去，可以判断“教育实质上是人的灵魂的教育，而不仅仅是知识和认识的积累，而灵魂的成长成熟是没人可以代劳的。”这句话表达的核心是在后面的分句。

3、第二段中“受教育者越少感到落在自己头上的设想，其教育效果便越大”的依据是（ ）。

- A、把自己当作主体，把教育对象视为客体。
- B、一味强调自觉，必然会在人身上培植虚伪的性格。
- C、事先设计故意生造一种教育场景。
- D、在自发的或不自觉的无意识中达到教育目的。

【答案】A

解析：由“因而习惯于单向灌输，把自己当作主体，把教育对象视为客体，视为活的接受器，惟恐受教育者不能意识到自己在被施教。”，可以判断答案为A。

4、第二段中“只把注意力放在提高自觉性”有种种做法、表现，不属于其作法、表现的一项是

- A、在主题班会上，同学们纷纷表决心，保护环境，从我做起。
- B、顺人之性以治人，则人无不可治。
- C、同学们踊跃参加班级足球赛，相互切磋球技，既增进了友谊，又增强了集体凝聚力。
- D、某车间主任竟让刑满释放人员张辛管理仓库，并把钥匙交给了他。

【答案】B

解析：由“但人们却常常忽视甚至无视这种无意识的作用，只把注意力放在提高自觉性上。因而习惯于单向灌输，把自己当作主体，把教育对象视为客体，视为活的接受器，惟恐受教育者不能意识到自己在被施教。”可以判断A、C、D三项都属于“只把注意力放在提高自觉性”的做法。

五、真题回放。

（一）阅读以下文字，完成下面题目。

《2011年公务员考试行测考试 100 套华图真题》

在一定条件下，朦胧比清晰更富美感。古人云：“马上看壮士，月下看美人。”据天文学家称，即使是满月一十五的月亮，其亮度也只相当于阳光的五十万分之一。

长江三峡的神女峰，终年云雾缭绕，其险峻奇诡尽在半遮半掩之中，故有“半入仙境半人间”的飘渺意境。这种“飘渺”亦即朦胧。常导致人们产生创造性的思维活动，叫做“浮想联翩”。倘若有人走近去，实地考察一番，想那如仙似幻的景色必然减半，所得不过一片残山瘦水古树怪石而已。因为美感体验是非反思的、不自觉的，美感体验的关键是体验者与其对象不可分割地融合在一起，而朦胧可以使一些事物得以藏拙遮丑而趋于尽美。“明察秋毫”则很难获得持久的美感享受。

现代企业管理学中有一门课叫做“行为科学”，它用社会心理学来研究人的行为及产生种种行为的原因，认为：人的欲望（或称需要）是人行为的发动器，倘欲望完全被行为实现而满足了，欲望立即消失，产生索然之感，这时候就需要另一种新的欲望来发动新的行为。而“朦胧”总是使人不识庐山真面目，赏美心理永远不能完全满足，也就不会兴味索然。美感最强烈之点是刚刚触到迫切欲赏的美物而又没有完全得到的那一瞬间，这一瞬间就产生“临界点美感”，朦胧的美学功能就包括使人总是保持在兴趣盎然而不是索然的“临界点美感”上。

为满足人类这一固有的审美心理，作家为文则必须含蓄，状物抒情也必须蕴藉，即所谓“意贵透彻，语忌直率”。诚然，朦胧不是晦涩，不是让谁也看不懂，更不是一团漆黑。一言以蔽之：朦胧使美感纯化，使美感丰厚，使美感不衰。

1、对文中概念“临界点美感”理解不正确的一项是（ ）

- A、它产生于刚刚触到迫切欲赏的美物而又没有完全得到的那一瞬间。
- B、“临界点美感”所构成的心理基础是对美的事物的一种完全满足。
- C、从心理学的角度来看，“临界点美感”是最强烈的美的感受。
- D、使人保持在兴趣盎然的“临界点美感”上，是朦胧的美学功能之一

2、下列能作为“朦胧使美感纯化”这个观点的依据的一项是（ ）

- A、朦胧导致人们产生创造性的思维活动，即“浮想联翩”。
- B、朦胧可以使一些事物得以藏拙遮丑而趋于尽美。
- C、朦胧不仅可以使美感丰厚，而且还能使之长久不衰。
- D、“明察秋毫”（不朦胧）则很难获得持久的美感享受。

3、下面不属于朦胧美感的一项是（ ）

- A、隔花人远天涯近
- B、此时无声胜有声
- C、学生听老师讲课似懂非懂
- D、（东邻美女）增之一分则太长，减之一分则太短。

4、对画线句子“人的欲望（或称需要）是人行为的发动器”，在文中的深刻含义理解正确的一项是（ ）

- A、人的欲望永远不可能得到满足。B、人应想方设法满足自己的欲望
- C、体会美感应凭直觉而不能凭反省。
- D、欲望是万恶之源。

5、对文章的内容理解不正确的一项是（ ）

A、第一段引用“马上看壮士，月下观美人”，是要说明不清晰而产生出朦胧的美感。

B、第四段作者从社会心理学角度分析了朦胧能使人产生出强烈而持久的美

《2011 年公务员考试行测考试 100 套华图真题》

感的原因。

C、最后一段通过朦胧与晦涩的比较，使人们对朦胧美有全面的认识，避免了片面性。

D、从全文看，作者认为朦胧是艺术创作的最高境界，只有朦胧才能使美感经久不衰。

(二) 阅读以下文字，完成下面的问题

作为世界工业文明的肇始者，英国正在推进一场全方位的绿色文明革命，以减缓气候变化的脚步。天气成为英国人乐此不疲的恒久话题。然而，这一谈资延续至今，已经增加了新的内容，那就是全球性的气候变化。“气候变化已经成为英国百姓的热门话题。”在民间通讯社工作的安娜小姐给我举了一个例子：前不久英国南部一个小镇发生了洪水，不少人看过

新闻后就说：看哪，这就是气候变暖的结果！安娜指着英国版图说：你看，如果气候继续变暖，多年之后，北极冰雪融化的巨大水流将把墨西哥湾暖流向南推移，英国的温度也将是一个挑战。而且发生改变——这对于目前完全自给自足粮食供应者来说，无疑将是一个挑战。而且，发生改变的还不止是这样，海平面上升导致的陆地减少将更为可怕。与普通民众相比，政府的认识就更为超前和清醒。英国环境、食品与乡村事务部的环保官员萨曼先生告诉我们，早在布莱尔首相上台之初，就把应对气候变化作为自己最重要的工作之一。与态度顽固的美国相比，英国应对气候变化的态度令人称许。萨曼先生认为，在气候变化方面，发达国家的确应该承担更多的责任，并且应该比发展中国家提前采取行动。为此，英国财政部在今年 2 月发布的《能源白皮书》中，将其经济定性为“低碳经济”，具体的温室气体减排目标是：到 2050 年左右，将温室气体的排放量由目前水平降低 60%。据悉，明年英国将担任欧盟及八国集团的轮值主席团。布莱尔首相已经表态：应对气候变化是他担任轮值主席后所要开展的两项重点工作之一。其实，在英国，环境并不是环境、食品与乡村事务部的专利，而是财政、交通、建筑等许多部门“人人有份儿”。作为一个市场经济非常完善的国家，英国在温室气体减排方面除了实行明确的政策导向外，还非常看重税收调节的作用。于 2001 年实施的环境税就是一个成功的范例。这一全球首创的新税种是这样运作的：凡是非居民的用能单位每消耗一度电，就必须上缴 15 便士的气候税，1 年的总税金在 10 亿英镑左右。与此同时，财政部出台了环境税减征制度：企业根据自愿原则，与财政部核定每年的减排目标，凡是如期完成任务的，就可减免 80% 的环境税。目前加入这一协定的已经有 44 个行业企业，基本都能实现自己的减排目标。为鼓励更多的企业提高能效、减少气体排放，财政部还面向大企业设立了上亿英镑的减排基金和针对小企业的碳基金。只要是与财政部签订减排协议的企业，都可申请一定数量的无息贷款，用于技术改造和设备更新等。实践证明，上述措施的效果非常令人满意：与财政部签订协议的企业越来越多，许多企业还超额完成了减排任务。

1、安娜认为气候变化对英国造成的最大的危害是（ ）。

A、气温变化 B、陆地减少 C、粮食减少 D、降雨量的变化

2、关于环境税，下面说法正确的是（ ）

A、是英国独有的税种 B、针对所有能源户

C、达到要求的可减少税率 D、所收税金要用于环境的治理。

3、英国财政部要向一些企业提供无息贷款的原因是：

A、一种税收返还政策。

《2011 年公务员考试行测考试 100 套华图真题》

- B、让这些企业提高减排的能力。
- C、补偿这些企业因减排造成的损失。
- D、奖励这些企业超额完成减排任务。
- 4、下面符合这段话意思的一项（ ）
- A、英国的粮食生产不能再自给自足。
- B、北极的冰雪融化会让英国气温升高。
- C、布莱尔政府的首要工作是应对气候变化。
- D、预计 2050 年英国温室气体排放量为现在的 40%。
- 5、这段话谈论的主题是（ ）
- A、发达国家应对全球气候变化承担更多的责任。
- B、英国未能积极应对气候变化的挑战。
- C、全球气候变化的危害及人类的对策。
- D、英国在应对气候变化方面采取的措施。

在国家历年公务员考试中，考察图形推理能力的具体形式不外以下六种，即图形对比推理，图形类比推理，图形坐标推理，图形序列推理，图形平面组成推理和图形空间构成推理六种。

但从近年来北京公务员考试的情况来看，除 05 年北京社招曾经考过图形序列推理之外，最近几次考试的题型就只有图形对比推理和图形类比推理两种形式。从题目的形式来说，这两种题型本来就是最简单的，尤其以图形类比推理为最简单；从内容上来说，所考察规律的难度和复杂度也要比国家公务员考试和其它如山东，江苏等地的地方公务员考试低得多；除此之外，从近年规律来看，北京社招的考试相对北京应届的考试难度还要低一些。

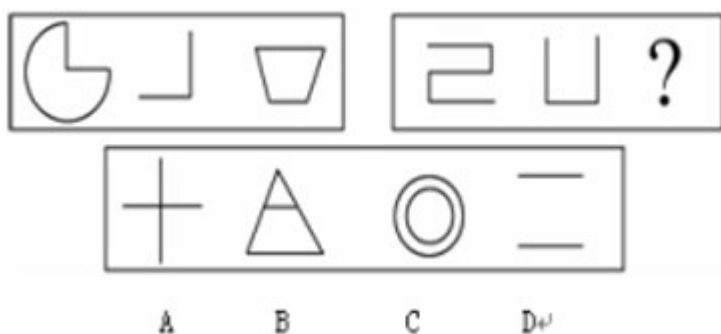
希望考生能够对命题思路有个整体的把握，这是突破图形推理必须迈出的第一步，当建立起这个整体感之后，我们还可以争取在后续的文章中就某些问题进行深入细致地讨论。需要说明一下的是，尽管近年来北京社招考试图形推理涉及的形式较少，仅有对比和类比两种，但不能保证其它的类型就不考，因此，为了增大把握性，更为了使考生能结合实例多了解一些图形推理的规则，在此我们将曾考过的题型做一个全面的介绍，以“走好”突破图形推理的第一步。

一、图形对比推理。

每道题包括两部分图形：第一部分图为题干，分成两套。第一套有三个依一定规律排列的小图形，第二套有两个小图形和一个问号。这两套图形存在差异，但在图形排列方面具有共同规律。第二部分为供选择的四个小图形。考生必须从第一部分图形排列方式中找出两套图形的共同排列规律，并根据此规律从第二部分图形的四个选项中选出最适合取代问号的一个图形。正确的答案不仅使题干中的两套图形表现出一致的规律或最大的相似性，而且应使第二套的图形也表现出自己的特征。

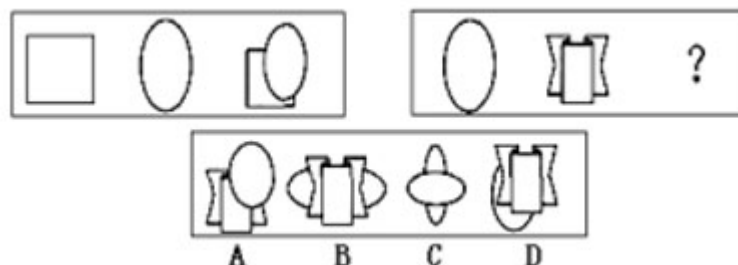
例 1；

《2011 年公务员考试行测考试 100 套华图真题》



解析：第一套图形中三个图形的笔画分别是 3，2，4，是等差数列 2，3，4 的变形。第二套图中前两个图形的笔画分别为 5，3。可推知正确答案应为 4 画，即 B。

例 2：

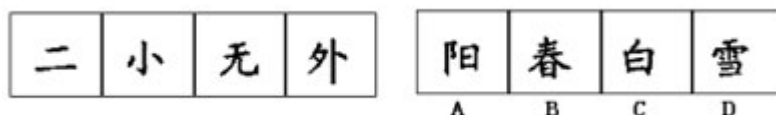


解析：观察第一套图形可发现：第三个图形是第一和第二个图形的组合，且第二个图形覆盖了第一个图形。按此规律，正确答案应为 D。

二、图形类比推理。

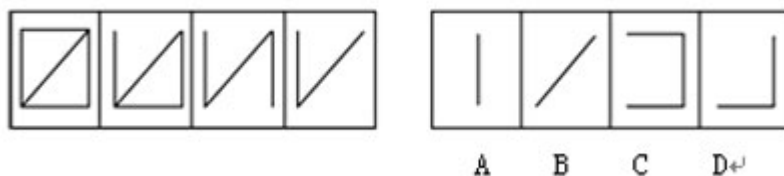
每道试题的左边四个图形呈现一定的规律性，要求考生从右边给出的四个图形中找出与左边图形相匹配的最合理的一个。

例 3：



解析：前四个笔画分别为 2，3，4，5，依次递增，则第五个图应为 6 画，因而 A 为正确选项。

例 4：



解析：规律为每个图形从左到右线段数递减，且减少线的位置规律为横，横，竖，所以，第五个图应该减少一条竖线，答案为 B。

另外说明两点，第一，图形类比推理看似简单，其实其中对规律的观察隐藏有不同的顺序。第二，图形对比推理和图形类比推理之间的异同，相互的关联性，

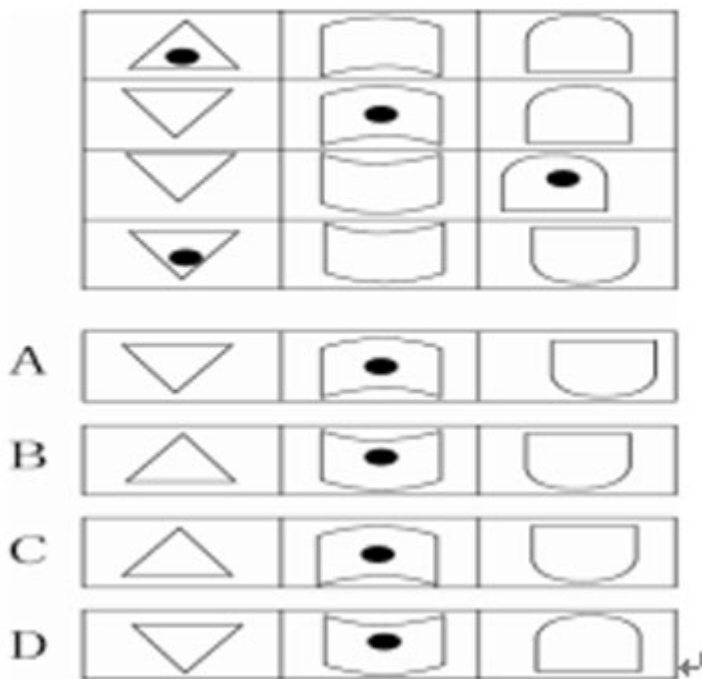
《2011 年公务员考试行测考试 100 套华图真题》

尤其是图形对比推理的特点，也有必要进行深入地讨论，这些内容我们会争取在后续的文章中为考生进行详细的指导。

三、图形序列推理。

给出四组图形构成一个序列，在四个选项中找到所给序列的延续。

例 5:



解析：从每一竖列的规律来看，都为统一的图形，只是上下方向不同，而且规律是每次遇到黑点后的下一个图形与黑点处图形的方向相反，因此，答案为 B。

四、图形坐标推理。

每道试题的题干为九个图形排成九宫格的形状，其中右下角最后一个图形处标问号，观察已有的处于相应位置上的八个图形的规律，从四个备选答案中做出选择。

例 6:



解析：第一行和第二行的三个小图形中均有一条竖线和两条对应的对角线，
第
三行按此规律，可先排除 C 项。第一行和第二行正方形中较大圆所包含图形
均

是不相同的，第三行依此规律，可排除 A 项。第三个规律：第一行和第二行，
第一列和第二列独立的图形(无较大圆包围的小图形)也是不相同的，可以排

《2011 年公务员考试行测考试 100 套华图真题》

除 B

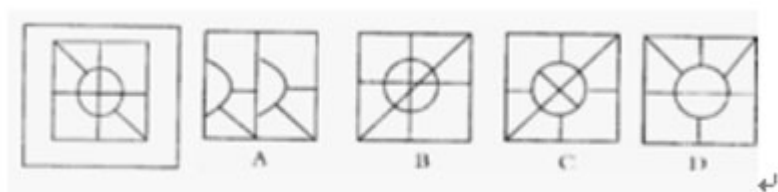
项。故答案为 D。

另外，图形坐标推理问题对规律进行观察的方式和顺序是需要进行专门的说明，我们也争取在后续的文章中为考生做指导。

五、图形平面组成推理。

左边的图形由若干个元素组成，右边的备选图形中只有一个是组成左边图形的元素组成的，需要考生选出这一个。注意，组成新的图形时，只能在同一平面上，方向，位置可能出现变化。

例 7:



解析：A 项和 D 项的半圆内或圆内均缺线条或无线条，与原图不相符合，应排

除；B 项联系对角的线不应穿过圆，即小圆内多了线条，也应排除；只有 C 项符

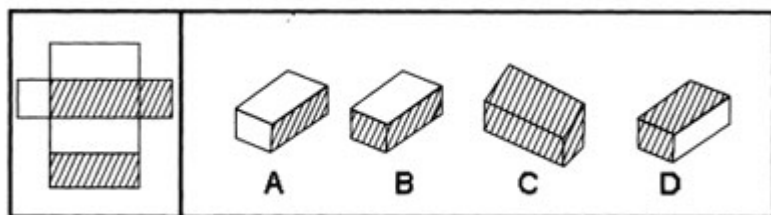
合要求。故答案为 C。

六、图形空间构成推理。

在右边的 4 个图形中，只有一个是由于左边的纸板折叠而成。需要选出正确的一个。

试题要求从所给的平面几何图形选择一个合适该平面图形的空间图形。此种题型要求考生有较好的空间判断力。

例 8:



解析：从左面的平面图形可知“上下底面”为阴影，“右侧面”也为阴影，因此折叠后的图形“上下底面”应该为阴影，由此规律可知正确答案为 D。

需要强调指出，这种空间构成问题其实远不是如此简单，构成后的立体图形有可能在空间中做旋转，因而，所谓“上下底面”只是假设某种情况下的称呼而已。不过，即便是图形可以旋转也能采用统一的分析方法，这些我们也会争取在后续的文章中为考生做出指导。

了解了图形推理的众多题型，还不够，这仅仅是“万里长征迈出的第一步”，接下来要做的就是大量做习题。现在市面上充斥着各色各样，五花八门的公务员模拟试题，考生往往长时间在书店书架旁徘徊，却始终找不到一本权威而合适的模拟试题，或者做了大量的题却又摸索不到规律，既浪费金钱又浪费精力。结果却事倍功半。根据我们的经验，选书不在杂而在权威，做题不在多而在精，因此

《2011 年公务员考试行测考试 100 套华图真题》

考生只需选取一本正版国家历年公务员真题，足矣。注意：要有详细参考答案，且答案分析要到位。认真对待每一道图形推理全真题，仔细研究，掌握其规律，达到“举一反三”，真正掌握每一类题的本质。这不光是图形推理的复习方

式，对于公务员各类题型全面整体复习同样适用。

这里也许会有考生要问，参加的是北京市的考试，却用国家公务员考试题来做复习备考，这样是不是不太合适？

同时，在解答图形推理题时，关键要：仔细观察，找出规律。一般观察要点有：图形的大小变化，图形构成要素的增减，图形的旋转方向以及角度，图形的组合顺序，图形的叠加，以及是否存在相同的图形等等。考生只有找出这些规律，才能从图形千变万化的表象中做出判断，以不变应万变，做对图形推理题，考试不留遗憾。

2007 年北京市公务员考试预测之定义判断

2007 年 06 月 06 日 14:24 [我来说两句(3)] [字号：大 中 小]

【来源：中公网】

定义判断是北京市公务员考试——行政职业能力测验的固定题型，共 10 道题。现就命题的方式、范围、特点和解题技巧作简要地分析。

一、范围：法律概念占据主体，考生备考时要有针对性地选取复习资料，着重复习与人们生活息息相关的法律、法规。

二、方式：客观性命题，单项选择。

三、特点：定义、概念都是该领域内比较基础的，难度不大，基本属于“正的、普遍的、实体概念”。

四、解题技巧：属于记忆性的题目，一般情况下采取直接选择的方法；模糊性质较强的题目，一般采取排除法。

例题：

1. 商标侵权：指他人出于商业目的，未经商标所有人的许可而擅自使用其已注册商标，或把他人注册商标的主要部分用作自己的商标，并使用在相同或类似的商品上，从而产生商标混同，以欺骗消费者。

下面几种情况中不属于商标侵权的事（ ）。

A. 甲企业未经商标所有人乙企业的许可，在与乙企业类似的商品上使用与其注册商标近似的商标。

B. 某毛巾厂注册“4 1 9”牌商标，在市场销路打开以后，有的企业在“4 1 8”前加注某某牌，使“4 1 9”商标化为商品名称。

C. 国内某企业并没把“IBM”商标直接用在其商品上，而用在广告和其他宣传活动中。

D. 国内某商场的名称使用了某房地产企业已获准注册的房地产类“亚细亚”商标名称。

【答案】D。解析：商标侵权的构成要件有四点：一、商业目的；二、未经许可而使用该商标；三、该商标是别人已注册的或是别人注册商标的主要部分；四、商标侵权人要把该商标应用在相同或类似的商品上；五、产生的商标混同。ABC 符合全部四个要件，属于商标侵权；D 项“亚细亚”商标没有用在相同或相似的商品上，故不属于商标侵权。

考生在解决此类问题时一般要遵循下面的原则：

1. 从定义项的“属”入手，如果选项中的案例不属于该定义项中“属”的范畴，就可以判断改选向不符合定义。

《2011年公务员考试行测考试 100 套华图真题》

2. 分析定义项中的“种差”，抓住其中的关键词。
3. 对选项进行归纳和抽象，这是应用以上两种方法的前提。

五. 真题训练:

1. 国家赔偿: 是指国家及其工作人员违法行使职权, 侵犯公民、法人和其他组织的合法权益并造成损害的, 由法律规定的赔偿义务机关对受害人予以赔偿的制度。

- A. 公安侦查人员赵某在审讯时将犯罪嫌疑人打死.
- B. 工商管理机关吊销某违法经营公司的营业执照.
- C. 邮局在邮政传递中给客户造成损失.
- D. 银行工作人员利用职务之便挪用储户资金.

2. 劳动报酬: 是指劳动者因提供劳动而获得的所有报酬的总和, 它等于工资和福利之和. 根据以上定义, 下面哪种组合构成劳动报酬?

- A. 小王超额完成计件任务 5 0 0 件, 按单价 1 0 元计, 公司付给他 5 0 0 0 元人民币.
- B. 小王超额完成任务, 公司除发一定数目的工资外, 给了他两周的带薪假期.
- C. 小王把公司发的 5 0 0 0 元用来购买股票, 获得了 2 0 0 0 元收益.
- D. 小王完成任务后又加班工作了 4 个小时, 公司付给他 4 0 0 元的加班费.

3. 知识产权是指基于创造性智力成果和工商标记依法生产的权利的统称. 下列有关知识产权的说法正确的事 ().

- A. 是一种财产权.
- B. 是一种人身权, 具有永续性的特点.
- C. 以无体物标的, 兼具人身权与财产权的性质.
- D. 在一国取得, 即受世界各国的共同保护.

4. 民事合同是作为平等主体的当事人之间设立、变更或者终止民事关系的协议, 下列不属于民事合同的一项是 ()

- A. 买卖合同
- B. 民事合同
- C. 房屋租赁合同
- D. 农民土地承包合同.

5. 法是反映统治阶级意志的, 由国家制定或认可并以国家强制力保证实施的行为规则的总称. 下列表述正确的一项是 ()

- A. 法在本质上是社会成员公共意志的体现.
- B. 法既执行政治职能, 也执行社会公共职能.
- C. 法最终决定于历史传统、风俗习惯、国家机构.
- D. 法 不受客观规律的影响.

6. 行政许可是指行政机关法人或者其他组织的申请, 经依法审查, 准予其从事特定活动的行为, 下列不得设定行政许可的是 ()

- A. 公路货运业. B. 会计师. C. 煤矿开采. D. 商品价格.

7. 商品差价指同一种商品由于流通环节、购销地区、购销季节及质量不同形成的价格差额. 下列不属于商品差价的是 ()

- A. 同一本书, 刚出版时与两年后价值不同.
- B. 早市萝卜一块钱一斤, 下午则五角一斤.
- C. 富康轿车与大众轿车车价价值不同.

《2011 年公务员考试行测考试 100 套华图真题》

D. 甲地的盐比乙地便宜, 因为甲地产盐。

8. 产品定位: 管理学中产品定位是指企业为了满足目标市场, 确定产品(或服务)的功能、价值、价格、包装、销售渠道、服务方式等。

根据以上定义, 下面哪种行为不属于管理学中产品定位的范畴?

A. 我们的产品将为在校学生服务。

B. 考虑到消费人群的收入状况, 我们的产品将定价在 1 0 0 0 元上下。

C. 我们的服务主要通过上门维修来实现。

D. 我们的服务会让你有美的享受。

07 北京社招公务员考试预测-逻辑推理考试分析

2007 年 06 月 04 日 14: 06 [我来说两句] [字号: 大 中 小]

【来源: 中公网】

一、考试题型概要及题型分析

北京市公务员考试演绎推理部分一般考核 10 至 15 道不同类别的逻辑推理题, 内容涉及自然和社会各个领域, 强调对逻辑关系的正确把握, 考核考生对各种信息的理解、分析、综合、判断、推理等思维能力。

二、练习题目

1. 只要做到依法治国并且真正以人为本, 就能彻底解决拖欠民工工资问题。根据 04 年春节期间的一项调查显示, 有些地方拖欠民工工资现象仍旧严重, 由此可见:

A. 有些地方没有以人为本

B. 有些地方以人为本

C. 有些地方既没有依法治国, 也没有以人为本

D. 有些地方或者没有依法治国, 或者没有以人为本

【答案】D。

2. 唐诗宋词不是一年半载能读完的, 唐代诗人王维的主要作品是诗歌, 《王右丞集》是王维的作品。由此可见:

A. 《王右丞集》不是一年半载能读完的

B. 王维的作品不是一年半载能读完的

C. 唐诗宋词中包括王维的作品

D. 王维的主要作品是《王右丞集》

【答案】C。

3. 在心泉乡发展研讨会上, 王书记认为: “或者发展养蚕业, 或者发展畜牧业”; 周乡长认为 “心泉乡人多地少, 应加强劳动力培训, 大力开发对外劳务输出”; 李书记认为 “只有发展特殊作物种植, 才是山乡心泉的唯一出路”; 张乡长认为 “充分发挥, 心泉优势, 发展旅游业, 别无选择。” 经过专家论证, 上述四位意见有两位被认为是可行的; 那么意见可行的两位是:

A. 王书记和周乡长 B. 王书记和李书记

C. 李书记和周乡长 D. 李书记和张乡长

【答案】A。

4. 只有坚持科学发展观, 才能实现可持续发展。为了子孙后代, 我们必须实现可持续发展, 由此可见:

A. 我们必须加大宣传

B. 实现可持续发展必须和科学管理相结合

C. 为了子孙后代, 我们必须坚持科学发展观

《2011 年公务员考试行测考试 100 套华图真题》

D. 只要坚持科学发展观, 就一定能实现可持续发展

【答案】C。

5. 赵科长和钱科长的能力比孙处长强, 李处长的能力不如孙处长, 而孙处长的能力又不如周处长, 请问哪位能力最差?

A. 赵科长 B. 李处长 C. 周处长 D. 孙处长

【答案】B。

6. 不可能所有的人都成为公务员。由此可见:

- A. 有的人必定成为公务员
- B. 只有少部分人将成为公务员
- C. 必定有些人不能成为公务员
- D. 所有的人都不能成为公务员

【答案】C。

7. 在一次研讨会上, 经过统计参加会议的有 12 人, 有 1 人认识所有的人, 有 1 人认识 6 人, 有 3 人认识 5 人, 有 5 人认识 3 人, 由此可见:

- A. 参加会议的都相互认识
- B. 会长认识所有的人
- C. 有些人认识对方, 但对方不认识他
- D. 有些人是通过别人介绍的

【答案】C。

8. 如果日本成为常任理事国, 那么德国、印度和巴西也都成为了常任理事国, 由此可见

- A. 如果日本没有成为常任理事国, 那么德国、印度和巴西至少有一国没有成为常任理事国
- B. 如果日本没有成为常任理事国, 那么德国、印度和巴西都没有成为常任理事国
- C. 如果德国、印度和巴西都成为了常任理事国, 那么日本也成为了常任理事国
- D. 如果德国没有成为常任理事国, 那么印度和日本不会都是常任理事国

【答案】D。

9. 《冷山》、《海底总动员》和《十面埋伏》不可能都获得奥斯卡奖。由此可见:

- A. 如果《冷山》得奖, 那么《十面埋伏》就没有得奖
- B. 如果《海底总动员》和《十面埋伏》没有得奖, 那么《冷山》就得奖
- C. 如果《冷山》没得奖, 那么《海底总动员》、《十面埋伏》至少有一个得奖
- D. 如果《冷山》、《十面埋伏》得奖, 那么《海底总动员》就没得奖

【答案】D。

10. 根据统计, 有些干部有见义勇为行为, 有些干部廉洁自律, 有些干部既生活简朴又工作热情。由此可见:

- A. 有些干部既有见义勇为行为又工作热情
- B. 有些干部既有见义勇为行为又廉洁自律
- C. 有些干部既廉洁自律又生活简朴
- D. 有的干部生活简朴并且有的干部工作热情

【答案】D。

《2011 年公务员考试行测考试 100 套华图真题》

11. 在某国的总统竞选中，争取连任的现任总统在竞选演说时强调：“本届政府执政期间，失业率降低了两个百分点，可见本届政府的施政纲领是正确的。”如果下列哪项为真，则能有力地削弱以上的申辩？

- A. 政府用调低利率的办法来刺激工商业的发展，使通货膨胀率上升了 40%
- B. 由于减轻了失业压力，从而减少了犯罪率
- C. 就业人数增加，减轻了政府福利开支
- D. 失业率下降，新毕业的大学生就业容易了

【答案】A。

12. 最近南方某保健医院进行为期 10 周的减肥试验，参加者平均减肥 9 公斤，男性参加者平均减肥 13 公斤，女性参加者平均减肥 7 公斤。医生将男女减肥差异归结为男性参加者减肥前体重比女性参加者重。如果以上是事实，那么以下结论正确的是：

- A. 女性参加者减肥前体重都比男性参加者轻
- B. 女性参加者比男性参加者多
- C. 男性参加者比女性参加者多
- D. 男性参加者减肥后体重都比女性参加者轻

【答案】B。

13. 2005 年 11 月，吉林省爆发了震惊全国的松花江污染事件，这件事又再次显示了环境保护问题的严峻性，特别指出的是，此次污染事件由于松花江经由黑龙江流向俄罗斯而变成一个地区性的事件。一国河流污染，影响邻国饮水；一国大气污染，造成邻国遭受酸雨灾害；一国二氧化碳排放过量，造成全球气候变暖，海平面上升，危及所有的国家和地区，以上论述的恰当结论是：

- A. 环境污染已影响国与国之间的关系，可能引发国际争端
- B. 现代化进程的必然后果是环境污染，先污染，后治理，这是无法避免的
- C. 我国在经济发展的过程中，必须走可持续化发展的道路
- D. 环境问题已成为区域化、国际化的问题，解决环境问题是全人类共同面对的任务

【答案】D。

14. 品德高尚的人一定是心地无私的人，一个人如果不能热心于公益事业，那么他一定不是一个心地无私的人。每一个有志于社区服务的人都应该是心地无私的人，一个品德高尚的人。由此可见：

- A. 心地无私的人一定是品德高尚的人
- B. 热心公益事业的人一定是心地无私的人
- C. 品德高尚的人一定是热心公益事业的人
- D. 热心公益事业的人一定是品德高尚的人

【答案】C。

15. 在一次商业谈判中，甲方总经理说：“根据以往贵公司履行合同的情况，有的产品不具

备各合同规定要求，我公司蒙受了损失，希望以后不再出现类似情况。”乙方总经理

说：“在履行合同中出现有不符合要求的产品，按合同规定可退回或要求赔偿。贵公司

当时既不退回产品，又不要求赔偿，这究竟是怎么回事？”

以下哪一项反映了乙方总经理问话中的真实意图？

《2011年公务员考试行测考试 100 套华图真题》

- A. 甲方企图要乙方赔偿上次合同的损失, 这是难以答应的
- B. 甲方说的有的产品不符合要求, 却没有证据
- C. 甲方可能是因为怕麻烦, 没有追究乙方的违约行为
- D. 甲方为了在这次谈判中讨价还价, 故意指责乙方以往有违约行为

【答案】B。

事件排序考试分析

一、考试题型概要及题型分析

北京市事件排序题型中, 每道题给出五个事件。应试者从备选答案的四种顺序中选出能够对这五个事件做出最为合理解释的数字序列。应试者可利用自己的一般知识作出必要的补充, 或者作出合理的假设来填补欠缺的事件。这种逻辑顺序一般是反映事件的时间或因果关系。

二、练习题目

1. (1) 危难受命 (2) 职务升迁
(3) 骄傲腐败 (4) 成绩突出
(5) 银铛入狱

- A. 1-4-2-3-5 B. 2-4-5-3-1
C. 2-1-4-3-5 D. 2-5-1-3-4

【答案】A。

2. (1) 本国货币升值 (2) 财政收入减少
(3) 外贸竞争力降低, 出口减少 (4) 公共服务水平降低
(5) 外向型企业萎缩

- A. 4-1-2-3-5 B. 2-4-5-3-1
C. 2-1-4-3-5 D. 1-3-5-2-4

【答案】D。

3. (1) 将新技术投入生产 (2) 购买一项专利
(3) 获得巨大经济效益 (4) 研制出新的工艺流程
(5) 申请一项专利

- A. 4-5-2-1-3 B. 4-1-2-3-5
C. 2-1-3-5-4 D. 4-1-5-2-3

【答案】A。

4. (1) 研究成果 (2) 申请课题
(3) 起诉索赔 (4) 发现剽窃
(5) 胜诉

- A. 2-1-4-3-5 B. 1-2-4-3-5
C. 2-1-3-4-5 D. 1-2-3-4-5

【答案】A。

5. (1) 公开出售 (2) 予以惩罚
(3) 损害消费者利益 (4) 假冒伪劣产品
(5) 被举报

- A. 1-4-3-5-2 B. 3-4-5-2-1
C. 4-3-1-5-2 D. 4-1-3-5-2

【答案】D。

6. (1) 组织实地考察 (2) 总结会议成果
(3) 拟定会议日程 (4) 与会者积极发言

《2011 年公务员考试行测考试 100 套华图真题》

(5) 发出会议通知

- A. 3-1-5-2-4 B. 1-4-3-5-2
C. 5-3-2-1-4 D. 3-5-4-1-2

【答案】D。

7. (1) 考古挖掘 (2) 绘制壁画
(3) 建造陵墓 (4) 拼接图案
(5) 盗墓取宝

- A. 3-5-1-2-4 B. 3-2-5-1-4
C. 2-3-4-5-1 D. 2-3-5-1-4

【答案】B。

8. (1) 救治无效，家属告状 (2) 身患重病，借款购药
(3) 企业胜诉，报社致歉 (4) 药品鉴定，真伪不同
(5) 记者撰文，药厂蒙冤

- A. 2-4-1-5-3 B. 5-2-4-1-3
C. 2-1-5-4-3 D. 5-4-2-1-3

【答案】C。

9. (1) 市场逐渐达到饱和 (2) 新型 PC 上市
(3) 获得高额利润 (4) 产品供不应求
(5) 利润下降

- A. 2-4-5-1-3 B. 4-3-5-2-1
C. 4-5-3-2-1 D. 2-3-4-1-5

【答案】D。

10. (1) 排放污水 (2) 河水受到污染，变得浑浊
(3) 新建造纸厂 (4) 环保部门对造纸厂进行整治
(5) 河水变得澄清

- A. 3-1-2-4-5 B. 3-2-4-5-1
C. 5-3-2-4-1 D. 3-4-5-2-1

【答案】A。

2007 年北京市公务员考试预测之图形推理

2007 年 06 月 06 日 17:18 [我来说两句] [字号：大 中 小]

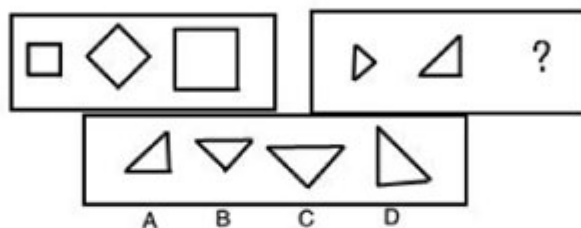
《2011 年公务员考试行测考试 100 套华图真题》

2007 年北京市公务员考试预测之图形推理

图形推理和数字推理相似，都是要在题干给出的几个图形之中找出某种排列的规律，然后选择所求的图形。此类问题考查的是考生对于直观形象的观察力及排除众多干扰因素找到各事物间联系的能力。而我们的任务即是帮助考生全面的了解这一类问题中常见的规律，以便在考试中拿到分数，并争取时间。

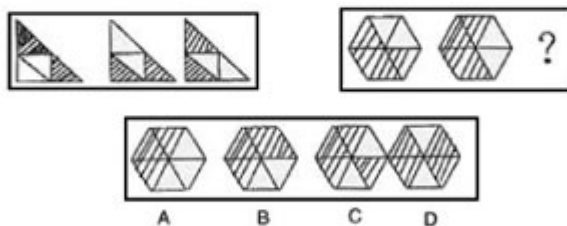
北京市的试题中，图形推理类的题目很少有“无理图”（图形间规律不明显）和“多理图”（图形间有两种以上的规律），命题严谨。这便便于我们逐一分析其中的规律并加以总结：

图形旋转：此类图形问题比较常见而且便于观察理解。




（2005 年北京市真题）

【答案】C。解析：图型经过顺时针旋转 45 度后放大得到结果，选择 C。



（2005 年北京市真题）

【答案】B。解析：图型经过顺时针旋转变化得出答案为 B。



《2011 年公务员考试行测考试 100 套华图真题》

(2006 年北京市真题)

【答案】A。解析：三个图形呈顺时针旋转。



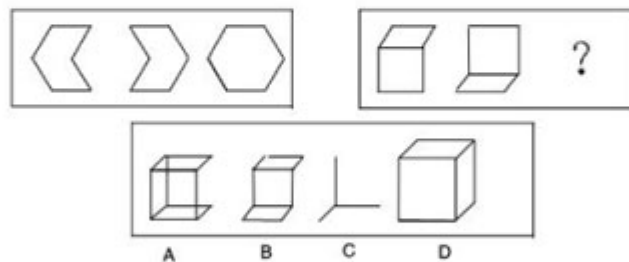
(2006 年北京市真题)

【答案】D。解析：四个小图形成逆时针旋转，每个小图形转到右上角时变为空白。
轴对称与中心对称：
此类问题也是公务员考试图形推理的常考知识点。



(2006 年北京市真题)

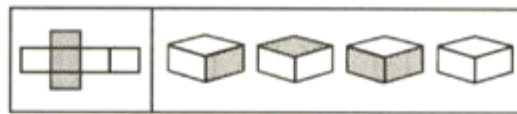
【答案】D。解析：具有轴对称因素。
图形相加（减）：
第 1、第 2 个图形相加得到第 3 个图形，也可看为第 3 个图形减去第 2 个图形得到第 1 个图形。



(2005 年北京市真题)

D 第一组图形中前两个图拼合成第三个图，第二组同理，选择 D。
平面图形的空间还原（“折纸盒”问题）：
近年来此类问题非常流行，主要考察考生的空间想象能力和对事物观察的细致程度。
2005 和 2006 北京市的试题中没有出现这种“折纸盒”问题，今年会有很大的可能性成为图形推理部分的最后两道题目。

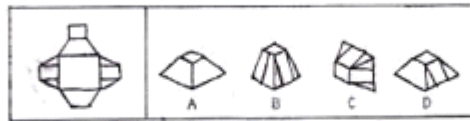
《2011 年公务员考试行测考试 100 套华图真题》



A B C D

(2004 年中央真题)

【答案】A。解析：此题为平面图形的空间还原，显然平面图形经折叠后，四个侧面中黑白两两相对，上下底面黑白相对，所以答案为 A。

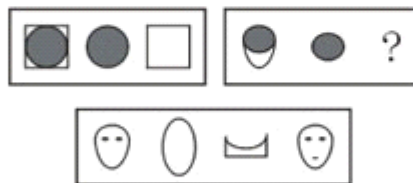


(2005 年中央真题)

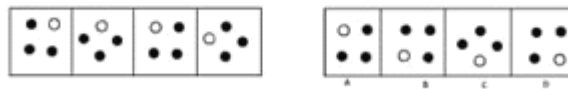
【答案】D。解析：左面的平面纸板，折成立体图形为梯形，且带有两条竖线的侧面是相对的，所以应选择 D 答案。

在此简单介绍了图形推理中几类典型的问题，希望对考生有所启发，下面为大家准备了一些习题巩固知识点。

1.



2.

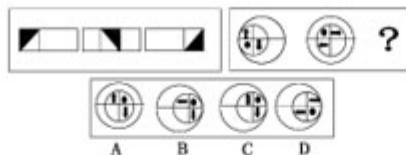


3.

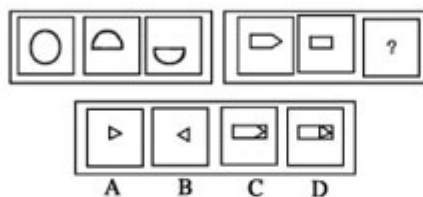


《2011 年公务员考试行测考试 100 套华图真题》

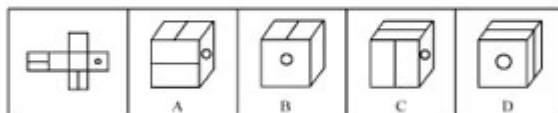
4.



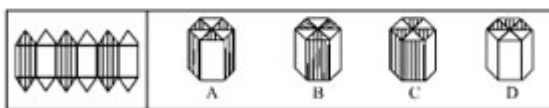
5.



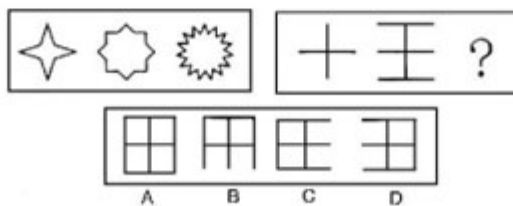
6.



7.



8.



2007 年北京市社招公务员考试预测之数学运算

2007 年 06 月 01 日 10:15 [我来说两句] [字号：大 中 小]

一、题型概要

数学运算考查的是考生对实际问题中数字的理解和运用能力。命题人会根据所要考查的专项知识的情况，专门一日常生活的情境来设计考题，从而增加理解

《2011 年公务员考试行测考试 100 套华图真题》

难度,加大考题难度。对于此类问题我们可以将其分成小类逐一讨论,强化思维。

从 2005 年、2006 年的社招试题来看,北京市公务员考试数学运算的难度大为增加,这要求考生必须知晓大量的题型并且掌握应对这些提醒的专业解题方法与技巧。

二、解答技巧

数学运算在近年来的考试中已经成为一个非常重要的考试内容,因此类题目计算量并不大,解题难点主要在于对题目的理解和运算知识的综合运用。如果掌握了解决此类问题的技巧,那么数学运算就会成为考生最易拿分的题目。考生在进行备考复习这一类型题目的过程中,主要应从以下几个方面入手:

1. 尽可能多的学习新题型,掌握新题型;
2. 重点掌握一些新变化及应对题型的根本理论知识;
3. 在熟练掌握方程法的基础上,加强思维训练;
4. 学会使用代入法和排除法解题;
5. 反复联系、努力提高做题速度。

三、基本解题思想

在解答数学运算这种题型时,以下基本思想对解题至关重要,它关系着解题的正确方

向和解题的速度:

1. 方程的思想;
2. 代入与排除的思想;
3. 猜证结合的思想。

我们做了以上归纳,希望使各位考生能够对数学运算及如何解决这类题目有大概的了解,至于今年试题的数学运算部分如何出题,从 2005 年和 2006 年的北京市社招试题即可见一斑。让我们将前两年考试的数学运算部分试题分类来解析一下:

1. 数字计算

此类问题在数学运算部分中必有一道,并往往是第 1 道题,属于热身题目。

$$(101 + 103 + \dots + 199) - (90 + 92 + \dots + 188) =$$

A. 100 B. 199 C. 550 D. 990

(2005 年北京市真题)

【答案】C。解析:提取公因式法。 $101 - 90 = 11$, $103 - 92 = 11$, ..., $199 - 188 = 11$, 总计有 50 个这样的算式,所以 $50 \times 11 = 550$, 选择 C。

两个数的差是 2345,两数相除的商是 8,求这两个数之和。

A. 2353 B. 2896 C. 3015 D. 3456

(2005 年北京市真题)

【答案】C。解析:根据题意,两数相除商是 8,则说明被除数是除数的 8 倍,两数相减结果 2345 应为除数的 7 倍,从而求得除数 $2345 \div 7 = 335$,被除数为 $335 \times 8 = 2680$,两数和为 $2680 + 335 = 3015$,答案为 C。

$$37 \times 18 + 27 \times 42 = ?$$

A. 1800 B. 1850 C. 1900 D. 2000

(2006 年北京市真题)

【答案】A。解析:原式 = $(27 + 10) \times 18 + 27 \times 42 = 180 + 27 \times (18 + 42) = 180 + 1620 = 1800$

$$1234 + 3142 + 4321 + 2413 = ?$$

《2011 年公务员考试行测考试 100 套华图真题》

A. 10110 B. 11110 C. 11210 D. 12110

(2006 年北京市真题)

【答案】B。解析：各个数位上的数加起来的和都是 10，据此可以得出答案 B。

2. 行程问题

此类题目为数学运算部分的重中之重，考试中必有几道，也是考生最容易失分的题目。行程问题又可细分为相遇问题（核心是“速度和”）、追及问题（核心是“速度差”）和流水问题（核心为“船速 = (顺水速度 + 逆水速度) ÷ 2；水速 = (顺水速度 - 逆水速度) ÷ 2”）。解决此类问题关键在于明确速度、时间和路程之间的关系，如能准确的画出路程图，那么便可迎刃而解。

甲、乙二人练习跑步，若甲让乙先跑 10 米，则甲跑 5 秒可追上乙，若乙比甲先跑 2 秒，则甲跑 4 秒能追上乙，则甲每秒跑多少米？

A. 2 B. 4 C. 6 D. 7

(2005 年北京市真题)

【答案】C。解析：根据题意，可得下列等式 $(4+2) \times \text{乙速} = 4 \times \text{甲速}$ ， $10+5 \times \text{乙速} = 5 \times \text{甲速}$ ，将所给选项代入即可求得答案为 C。

甲、乙两人同进从 A 点背向出发，沿 400 米环形跑道行走，甲每分钟走 80 米，乙每分钟走 50 米，两人至少经过多少分钟才能在 A 点相遇？

A. 10 分钟 B. 12 分钟 C. 13 分钟 D. 40 分钟

(2005 年北京市真题)

【答案】D。解析：甲、乙要在 A 点相遇，则甲、乙行走的路程必是 400 的整数倍数，这样就能排除 A、B、C 三项，选择 D。

一架飞机所带的燃料最多可以用 6 小时，飞机去时顺风，速度为 1500 千米/时，回来时逆风，速度为 1200 千米/时，这架飞机最多飞出多少千米就需往回飞？

A. 2000 B. 3000 C. 4000 D. 4500

(2005 年北京市真题)

【答案】C。解析：风速 = $(1500 - 1200) \div 2 = 150$ 千米/时，则 6 小时最多能飞行路程 $6 \times (1500 - 150) = 8100$ 千米，所以飞机最多只能飞行 $8100 \div 2 = 4050$ 千米，选择 C。

下图是一个边长为 100 米的正三角形，甲自 A 点、乙自 B 点同时出发，按顺时针方向沿三角形的边行进。甲每分钟走 120 米，乙每分钟走 150 米，但过每个顶点时，因转弯都要耽误 10 秒。乙出发后多长时间能追上甲？

A. 3 分钟 B. 4 分钟 C. 5 分钟 D. 6 分钟

(2005 年北京市真题)

【答案】C。解析：追及问题。甲每走 100 米就要休息 10 秒，则甲走 100 米需要 $100 \div 120 \times 60 + 10 = 60$ 秒，甲实际的速度为 $100 \div 60 = 5/3$ 米/秒；乙每走 100 米也要休息 10 秒，则乙走 100 米需要 $100 \div 150 \times 60 + 10 = 50$ 秒，乙实际的速度为 $100 \div 50 = 2$ 米/秒，故乙追上甲需要 $100 \div (2 - 5/3) = 300$ 秒 = 5 分钟，故选择 C。

AB 两城由一条河流相连，轮船匀速前进，从 A 城到 B 城需行 3 天时间，从 B 城到 A 城需行 4 天时间，从 A 城放一个无动力的木筏，它漂到 B 城需几天？

A. 3 天 B. 21 天 C. 24 天 D. 木筏无法漂流到 B 城

(2006 年北京市真题)

【答案】C。解析：为流水行船问题，设船在静水中的速度为 x，水的速度

《2011 年公务员考试行测考试 100 套华图真题》

为 y ，则 $4(x-y)=3(x+y)$ ，那么 $x=7y$ ，则答案为， $=24$ 。

3. 比例问题

此类题目属于非难点的难点，本身只是简单的比例、分数和百分数的运算，但容易混淆其中的增长、减少或剩余的几分之几这样的概念。解决好此类问题，关键要从两点入手：第一，"和谁比"；第二，"增加或下降多少"。

水变成冰后体积增加，冰变化成水时体积减少几分之几？

A. B. C. D.

(2006 年北京市真题)

【答案】A。解析：设水的单位为 1，则水变成冰后的体积为，计算冰变成水时减少的体积，应该以冰的体积为参照，即把冰的体积看成 1，则 $(-1)/() =$ 。

甲读一本书，已读与未读的页数之比是 3: 4，后来又读了 33 页，已读与未读的页数之比变为 5: 3。这本书共有多少页？

A. 152 B. 168 C. 224 D. 280

(2005 年北京市真题)

【答案】B。从题目可知，已读的部分占全书的 $3/7$ ，又读了 33 页后，已读部分占全书的 $5/8$ ，则全书共有 $33 \div (5/8 - 3/7) = 168$ 页，选择 B。

在此简单介绍了数学运算中三类典型的问题，希望对考生有所启发。下面为大家准备了一些习题巩固知识点。

1. $2007 \times 200620062006 - 2006 \times 200720072007 = ?$

2. $(1 + 0.23 + 0.34) \times (0.23 + 0.34 + 0.65) - (1 + 0.23 + 0.34 + 0.65) \times (0.23 + 0.34) = ?$

3. $1+2-3+4+5-6+7+8-9+\dots-606=?$

4. 甲从某地出发匀速前进，一段时间后，乙从同一地点以同样的速度同向前进，在 K 时刻乙距起点 30 米；他们继续前进，当乙走到甲在 K 时刻的位置时，甲离起点 108 米。问：

此时乙离起点多少米？

A. 39 米 B. 69 米 C. 78 米 D. 138 米

5. 甲、乙两车同时从 A、B 两地相向而行，两车在离 B 地 64 千米处第一次相遇，相遇后两车仍以原速继续行驶，并且在到达对方出发点后，立即沿原路返回，途中两车在距 A 地 48 千米处第二次相遇，问两次相遇点相距多少千米？

A. 36 B. 24 C. 32 D. 48

6. 兔子和乌龟在一个 200 米的环形跑道上赛跑，它们从同一地点同时出发，乌龟每爬行 5 米，兔子超过它一圈，当乌龟爬完一圈时，兔子跑了多少圈？

A. 40 B. 41 C. 39 D. 38

7. 甲、乙两人共有人民币若干元，甲占其中的，若乙给甲 240 元，余下的人民币只占总数的，甲有多少元人民币

A. 480 B. 720 C. 840 D. 960

8. 商场促销前先将商品提价 20%，再实行"买 400 送 200"的促销活动（200 元为购物券，使用购物券时不循环赠送）。问在促销期间，商品的实际价格是不提价前商品原价格的几折？

A. 7 折 B. 8 折 C. 9 折 D. 以上都不对

新东方名师：三招帮你快速攻克数字推理

《2011 年公务员考试行测考试 100 套华图真题》

2007 年 06 月 01 日 09:24 [我来说两句] [字号: 大 中 小]

作者: 马崑

【来源: 新东方北斗星公务员考试研究中心】

数字推理虽然在行政职业能力测试这门考试每次只有 5 道或 10 道,但这几道题目在整张试卷中占据的位置与地位是非常重要的。首先,从时间上来考虑,行政职业能力测试平均做每道题的时间(包括图卡)在 50 秒左右,时间是非常紧张的。

例如北京公务员考试无论面向应届生还是社招的行政职业能力测试每年都有 10 道数字推理,如果能在数字推理的每道题目上节省半分钟,那么整个考试就可以节省出 5 分钟,5 分钟对于行政职业能力测试来说,可以说是非常珍贵的时间了。其次,从心理上来考虑,如果能在数字推理上一马平川,又对又快顺利地解决掉数字推理,那么考生在做后面的题目时,心理上是会放松的,而且答题也会越来越自信;相反,如果在数字推理上卡住了,有题目没做出来,那么在后边的答题中肯定会惦记着前面的题目,从而导致考试的紧张情绪,自己的信心也会被削减,甚至由于分神导致一些低级的失误,例如漏答题,图错卡等等。因此,数字推理不论从应考的战术,还是应考的战略上来讲都是非常重要的。

下面就结合近几年国考和北京的真题,介绍考场上快速攻克数字推理题目的“三招”:

第一招:看走向。拿到题目以后,用 2 秒钟迅速判断数列中各项的走向,例如:是越来越大,还是越来越小,还是有起有落。通过判断走向,找出该题的突破口。例如下面这道北京市面向 2007 应届生行测的真题:14, 6, 2, 0, ()

A. -2 B. -1 C. 0 D. 1。我们看到,题目中一直的四个数字是越来越小的,也就是走向是递减的,是一致的。对于这类走向一致的数列,我们通常的做法是从相邻两项的差或比例入手,很明显,这道题目不能从比例入手(因为 $14/6$ 不是整数),那么,我们就作差,相邻两项的差为 8, 4, 2 成等比数列,因此,0 减去所求项应等于 1,故所求项等于 -1,故选 B。利用数列的走向,可以迅速判断出应该采取的方法,所以,走向就是旗帜,走向就是解题的命脉。

第二招,利用特殊数字。一些数字推理题目中出现的数距离一些特殊的数字非常近,这里所指的特殊数字包括平方数,立方数,因此当出现某个整数的平方或者立方周围的数字时,我们可以从这些特殊数字入手,进而找出原数列的规律。例如下面这道 2007 年国家公务员考试行测的真题:0, 9, 26, 65, 124, ()
A. 165 B. 193 C. 217 D. 239

当我们看到 26, 65, 124 时,应该自然的本能的联想到 27, 64, 125, 因为 27, 64 和 125 都是整数的方次,27 是 3 的立方,64 是 4 的立方也是 8 的平方也是 2 的 6 次方,125 是 5 的立方,很明显,我们应该把 64 看作 4 的立方,也就是该数列每一项加 1 或减 1 以后,成为一组特殊的数字,他们是整数的立方,具体的说,就是: $0+1$ 为 1 的立方, $9-1$ 为 2 的立方, $26+1$ 为 3 的立方, $65-1$ 为 4 的立方, $124+1$ 为 5 的立方,因此,所求项减 1 应等于 6 的立方,故所求项为 217,因此该题选 C。从这道题目,我们看到要在考场上做到“作对作快”,必须在备考时进行知识的积累和储备,具体到数字推理部分,就是要在考前将 1 到 20 的平方: 1, 4, 9, 16, 25, 36, 49, 64, 81, 100, 121, 144, 169, 196, 225, 256, 289, 324, 361, 400; 1 到 10 的立方: 1, 8, 27, 64, 125, 216, 343, 512, 729, 1000; 2 的 1 次方到 10 次方: 2, 4, 8, 16, 32, 64, 128, 256, 512, 1024; 5 的 1 次方到 5 次方: 5, 25, 125, 625, 3125 背熟,当数字推理中出现

《2011 年公务员考试行测考试 100 套华图真题》

以上这些数字周围的数字时，要联想到这些特殊的数，从而找出规律，例如，看到 217 就要想到 216。

第三招，“九九乘法口诀”。九九乘法口诀是我国五千年文明的精华，是我们的国粹，作为选拔为国家公务人员的考试，当然要求应试者对我们的国粹有深刻的认识。当在做数字推理题目时，依次读已知的数的时候，应时刻想着乘法口诀，看看题目中的已给的数字是否在乘法口诀有关系，因为九九乘法口诀中所涉及的不仅是简单的乘法口诀，其中蕴涵着大量 100 以内整数的有关整除的信息，因此，很多时候，我们可以仅仅利用九九乘法口诀就找出已给数字的规律。例如下面这道 2005 年国家公务员考试 B 类行测考试的真题：1，1，8，16，7，21，4，16，2，（ ） A. 10 B. 20 C. 30 D. 40，当我们看到 8，16，7，21，4，16 时，如果能意识到它们在九九乘法口诀中的地位，那么我们也就找到了了解这道题的突破口了：1/1=1，16/8=2，21/7=3，16/4=4，因此所求项除以 2 应等于 5，故所求项为 10，故选 A。因此，在做数字推理题时，应该一边读题，一边考虑这些已知的数是否在乘法口诀中出现过，以及它们之间的联系。

以上介绍的“三招”是在公务员考试中经常使用的，理解掌握了以后，就能够快速解决数字推理的题目，达到“作对作快”的目的。

07 公考行测"化曲为直"快速解决复杂行程问题

2007 年 05 月 24 日 16:53 [我来说两句(1)] [字号：大 中 小]

作者：詹凯

【来源：新东方北斗星公务员考试研究中心】

在公务员考试当中，行程问题是一大类问题，也是考试每年必考的热点题目。行程问题的难度在逐年增大，主要表现在，由一个物体的运动增加为多个物体的运动，由在直线上运动变为绕着圈运动等等。

我们把较难的行程问题称为“复杂行程问题”。

今天我们主要目的解决“复杂行程问题”中的一类问题——曲线运动问题，即运动路线不是直线的问题，物体可以来回跑、可以绕着圆圈跑，还可以绕着正方形、三角形等等各种各样的路线跑。

(1) 2003 年国家 A 类考题第 14 题：姐弟俩出游，弟弟先走一步，每分钟走 40 米，走了 80 米之后，姐姐去追他。姐姐每分钟走 60 米，姐姐带的小狗每分钟跑 150 米。小狗追上弟弟又转去找姐姐，碰上姐姐又转去追弟弟，跑来跑去直到姐弟相遇小狗才停下来，则小狗跑了（ ）米

A. 600 B. 800 C. 1200 D. 1600

这是奥数题目中经典的追击、相遇问题。最直接的考虑就是计算出狗第一次追上弟弟跑的路程，然后再回来遇到姐姐跑的路程，扭头再追上弟弟跑的路程，返回跟姐姐相遇跑的路程……把这一系列数相加得到结果。只是这么一分析就会发现，这“一系列”竟然有无穷多项，而且每次计算小狗跑的路程都相当麻烦。怕是考试都已经结束了，这一道题连一半还没有做完。显然不能这么求解。

注意到一个事实，小狗跑的时候速度是不变的，要想知道小狗跑的路程关键就是能够求出小狗跑的时间。只要姐姐还没追上弟弟，小狗就一步不停的在跑。换句话说——小狗跑的总时间正好是姐姐追上弟弟所用的时间。由此可得，小狗跑的路成为，

，选 A。

这道题中，小狗跑的路线就是来回了很多次，然而我们把它跑的路线看成在一条平直的路上跑就轻而易举的求解了。

《2011 年公务员考试行测考试 100 套华图真题》

下面让“化曲为直”发挥更大的作用。

(2) 2005 年国家 A 类考题第 42 题: 甲、乙、丙三人沿着 400 米环形跑道进行 800 米跑比赛, 甲跑 1 圈时, 乙比甲多跑 $\frac{1}{7}$ 圈, 丙比甲少跑 $\frac{1}{7}$ 圈。如果他们各自跑步速度不变, 那么当乙到达终点时, 甲在丙前面 () 米

A. 85 B. 90 C. 100 D. 105

这道题我们把整个 800 米跑看成是沿着一条直线跑, 画一张图来帮助求解。

根据题意, 当甲跑到 400 米处时, 三个人距离 0 点的距离比为 (用角标 1、2、3 分别代表甲、乙、丙),

甲、乙、丙三个人在相同时间内所跑路程之比为上式, 因此他们的速度也为, 当乙跑到 800 米处时, 由于三个人跑步的时间相同, 因此他们所跑的路程比值还是

即, 甲此时跑到了 700 米处, 丙此时跑到了 600 米处, 所以甲在丙前面 100 米。

“化曲为直”之后, 利用简单的比例关系, 难题变得异常容易。

不是圆圈的题目还能变成直线!

(3) 2006 年北京社招考题第 21 题: 某单位围墙外公路围成了边长为 300 米的正方形, 甲、乙两个人分别从两个对角逆时针同时出发, 如果甲每分钟走 90 米, 乙每分钟走 70 米, 那么经过 () 甲就能看到乙

A. 16 分 40 秒 B. 16 分 D. 15 分 D. 14 分 40 秒

此题以上手觉得还算容易——无非是甲、乙两人之间距离小于 300 米, 甲就能看到乙了。仔细想想其实不然——即便是甲、乙就差了 1 米, 但是两个人刚好处于一个拐角的两边, 甲还是看不到乙。这样想下去就会被这道题的方形给“套”进去。

我们来把这个题目换个说法, 变个图样。

这个题现在变成了这样一道题目: 甲、乙沿着一条长直公路行走, 这条公路每 300 米被划分成“一格”, 一开始乙在甲的右端 2 格处, 甲的速度为 90 米/分, 乙的速度为 70 米/分, 请问, 甲、乙两人过多久能够走在同一格内?

这跟原题在本质上是同一道题。

先用答案中比较好算的一个时间来验证一下, 代入 15 分钟这个数值, 发现过了 15 分钟时, 甲走了 1350 米, 乙走了 1050 米, 甲、乙两人的位置关系变成了图中“甲'”和“乙'”所示。而且两人正好处于两个相邻格的正中间。

回过头想想一开始的那个做法, 这里就会出错了。两人距离不超过 300, 但是甲仍然看不到乙。

这时候别急着列式求解, 分析一下题目现在的情况——甲、乙现在距离格档都是 150 米, 然而甲比乙走的快。所以当甲走完剩下的 150 米, 来到下一个格档的时候, 乙还没有走到格档处, 也就是这时候甲就能看到乙了。所以,

再过 $150/90 = 1$ 分 40 秒, 甲就能看到乙了。加上开始的 15 分钟, 一共过了 16 分 40 秒, 甲就能看到乙。

“化曲为直”, 看似无法求解的题目得到完美解答。

当然, 有些题目看似可以用这种方法求解, 但深究就会发现并不这样。比如,

(4) 2005 年北京社招考题第 19 题: 右图是边长为 100 米的正三角形, 甲从 A 点、乙从 B 点同时出发, 按顺时针方向沿三角形的边行进。甲每分钟走 120

《2011 年公务员考试行测考试 100 套华图真题》

米，乙每分钟走 150 米，但过每个顶点时，因转弯都要耽误 10 秒。乙出发（ ）分钟方可追上甲

A. 3 B. 4 C. 5 D. 6

粗看来，这道题跟前一道题异曲同工，企图采用同一种方法求解，结果发现这种方法失效了。

那么是这种“化曲为直”的方法真的失效了么？我们来深究一下这种方法的奥妙。

请注意这样两件事情：第一，根据速度公式 $s=vt$ ；第二，在前三道题中，共同特点是需要计算的运动物体或者人，在运动过程中始终保持匀速运动，没有停止过。

如果 v 始终不变，随着时间的推移， s 发生了变化，但是这种变化与 s 究竟是什么形状没有关系，只与 s 究竟多长有关。

这就是“化曲为直”的内在本质！

再看看第四题，这道题中，甲、乙两人都是走走停停， v 在不断发生变化，这时候再把 s “拉直”就肯定出了问题。而对付这类问题则有这类问题的巧妙解法，将在后续的文章中逐一呈现给大家。

综上所述，“化曲为直”方法解决的“复杂行程问题”，是这样一类问题：无论题目中的运动情况多复杂，运动的物体或者人其运动的速度始终保持不变，这时候运动的路线就成了一个迷惑人的“幌子”，我们把这张幌子“扯平”，把曲线“拉直”，这类问题便迎刃而解。

金路公务员考试专家辅导行测系列第二部分

2007 年 05 月 23 日 11:21 [我来说两句] [字号：大 中 小]

作者：刘新民

【来源：北京金路公务员考试研究中】

1 词语表达（地方公务员考试常考）

1.1 选词填空：

这种题型主要是考查应试者对词义的辨别分析能力。公务员考试中已较少见到这类题目，但应试者仍然应该进行必要的练习。

选词主要是一些同义词或近义词，从所给的几个词中找出一个和所给句子句意符合的词。填入空格的词，必须使句子看起来完整，句意表达清楚。如“我愣在那儿一句话也说不出来，。”四个给出的词为 A：不知所措；B. 不知所云；C. 忘乎所以；D. 不辨东西。根据句意，选 A 可使句意完整。

【专家提示】答选词填空这类题目，一定要提高对同义词或近义词分析、辨别能力。它采取的是虚空待填的考查方法，在一定程度上难度要大于词语替换。

对待选词填空这类题，关键点在于应试者必须拥有大量的词汇储备，对常用词的词义、词的用法、词的结构、词的惯用句式应了如指掌。其次，应试者应将每个词和句意环境联系起来，即在句子中分析、理解词义，这样才能对词义把握得更准确一些。第三，应试者应加强自己的语感练习，可通过多读、多写来达到这个目的，古人云：“书读千遍，其义自见”，即讲的是语感增强后，含义便会豁然开朗、拨云见日。同第一种题型相类似，选词填空题也是考查应试者因词义相同或相近而造成相互干扰的情况中对不同词汇的辨析能力。只不过因为缺少了句中的参考词汇，难度稍微大了一些。我们知道，“字不离词，词不离句”，一个词只有应用到具体的语言环境中，才具有确切的意义。换句话说，只有在具体的语

《2011 年公务员考试行测考试 100 套华图真题》

言环境中，才能把一个词汇理解得准确、具体、透彻。因此，对付这种题型的一个关键是应试者头脑中应当拥有大量的词汇，而且对常用词汇的词义、用法等等都是比较熟悉的；关键之二是应试者能够在最短的时间里迅速而准确地把握整个语句试图表达的意思，也即应当有比较好的语感才行。解答选词填空，应试者一靠理解句义、词义，二靠语感，三靠尝试，即在无法确定的情况下，将每个词都放在空里尝试一下，默念一番；看哪个更通顺、更自然，则选择该词；如果一个词放在空里看着别扭、读着绕口、生硬，便不能选择该词。这种逐一尝试的方法，也可称作排除法。

在这种题型的训练中，语感的强化主要是靠诵读来获得，也就是把每一个词汇放到句子中去，然后默默地诵读一遍或几遍，直到找到语感为止。这是解题的技巧之一。同样重要的是，对每个词汇的准确理解是准确答题的基本条件。如果连词汇的意义都把握不准，是很难做出正确的选择的。因为对词义的正确辨析必须建立在对每个词语的词义的理解基础上。当然，在本测验中，出现的词汇都将是一些主要的常用词，而不会出现偏僻的词汇。词汇量的增加与对词语的运用能力，尤其是语感，必须靠日常的训练和积累。

实例分析：

* 中国古塔的建造，其规模之大，分布之广，数量之多，在古代建筑中是 的。

A. 首屈一指 B. 屈指可数 C. 空前绝后 D. 史无前例

解析：此题的题意指中国古塔各方面在古建筑中都是其他建筑无法比拟的。答案 A “首屈一指”可说是一个最佳的选择，其他三个答案都与题意不符。

* 天山绵延几千里，不论高山、深谷，不论草原、森林，不论溪流、湖泊，处处有丰饶的物产，处处有 的美景。

A. 美丽 B. 奇丽 C. 艳丽 D. 绚丽

解析：此题只有选择“奇丽”才能使句子的意思表达得最准确完整、连贯。虽然美丽、绚丽、艳丽都可以用来形容自然景色或景观，但绚丽是灿烂美丽的意思，艳丽为鲜明美丽的意思，用于此处均不够贴切。若用美丽，则最后一句话就变成“处处有美丽的美景”，更不合适，所以只有“奇丽”最准确。

* 如果你不 压抑自己的情绪，而表现出得意洋洋的姿态，很容易引起旁人的嫉妒。

A. 故意 B. 刻意 C. 决意 D. 有意

解析：在所给四个选词中，似乎都可以填空，但仔细分析后会发现，A “故意”一词有些牵强，C “决意”并非一个常用词，D “有意”流于口语化，所以权衡的结果，应该用 B “刻意”一词。

（02 年 A 类真题）以艾滋病为例，自 1981 年在美国发现首例艾滋病以来，艾滋病病毒在全球以惊人的速度蔓延，逐渐[]成为当前迫切需要解决的全球性问题。

文中[]出恰当的措辞是（ ）

A 演变 B 演进 C 演绎 D 演化

（03’ B 类真题）“五四”前后西方文化大引进，新的政治、科技词语大量[甲]。当前随着改革开放的不断深入，经济方面的新词语尤为活跃，如“知识经济”、“特区”、“下岗”、“炒鱿鱼”等等。核裂变之际，各种微粒高速碰撞，便产生新的微粒。语言现象[乙]。

依次填入甲乙两处的词语，最恰当的是（ ）

A 涌现 与此雷同 B 诞生 与此雷同

《2011 年公务员考试行测考试 100 套华图真题》

C 诞生 与之类似 D 涌现 与之类似
巧变形式, 寻找规律 解决数字推理的一种技巧
2007 年 05 月 21 日 18:45 [我来说两句(8)] [字号: 大 中 小]
作者: 马崑

【来源: 新东方北斗星公务员考试研究中心】

行政职业能力测试的数字推理部分, 不论从分值, 还是时间安排上都有重要意义, 做对做快, 是数字推理部分的目标.

这里介绍处理一类数字推理问题的一个常用技巧—变形.

所谓变形, 就是将已知数列中的一些数转变形式, 继而达到找到规律的目的.

以下面这道 06 年国考题为例: 1, 32, 81, 64, 25, (), 1 A. 5 B. 6 C. 10 D. 12

解答这道题目时, 首先应注意到 32, 81, 64, 25 这几个数字的特殊性, 他们都是某个自然数的多少次方, 32 为 2 的 5 方, 81 为 3 的 4 次方, 也是 9 的平方, 64 为 2 的 6 次方, 也是 4 的 3 次方, 25 为 5 的平方, 那么, 我们要找规律的话, 很自然想到要把这些数, 换成几的几次方的形式以后会有什么规律, 而 32 和 25 只能表示成 2 的 5 次方和 5 的平方 (也就是 5 的 2 次方), 所以我们就要把 81 和 64 变为 3 的几次方和 4 的几次方, 这样底数 (即 32 为 2 的 5 方中的 2) 2, 3, 4, 5 变成连续的自然数了.

也就是, 我们把 32, 81, 64, 25 变形为 $2*2*2*2*2$, $3*3*3*3$, $4*4*4$, $5*5$, 依次为 5, 4, 3, 2 个相同的数相乘, 则下一个数肯定是 1 个 6 相乘, 即 6 的 1 次方等于 6, 故选 B.

总结一下, 就是数字推理中, 如果出现像 25, 81, 121, 343 这种同一个数的方次的数 (25 为 5 的 2 次方, 81 为 3 的 4 次方, 也为 9 的 2 次方, 121 为 11 的 2 次方, 343 为 7 的 3 次方), 我们就要想到把他们变形, 再找规律.

07 北京社招公务员行测试题特点及答题技巧

2007 年 05 月 17 日 10:20 [我来说两句] [字号: 大 中 小]

来源: 搜狐教育

主持人: 行政能力测试的特点是什么呢?

孙景民: 行测它的最主要的特点是测试同学们两个方面, 第一个是做题速度, 第二是测试同学们的反应能力, 这个属于到底有多快, 同学们你们可以做一下计算, 有的人说他是 54 秒钟必须得做完一个题目, 有人说 50 秒钟必须得做完一道题.

实际上我给同学们提醒一下, 因为要求的是速度, 要求的是反应能力, 有的题你必须在半分钟之内做完, 剩余的 20 秒怎么办呢? 剩下的 20 秒就应该放在比较难做的难判断的试题上. 我举一个例子, 在数量关系上这样的试题中, 所有的试题你的答题速度不能超过 40 秒, 为什么呢? 剩下的这些时间应该怎么做呢? 剩下的这些时间应该用在了语言理解和判断推理上, 因为判断推理和语言的理解和表达这两个题型它要求的时间会比较长. 有的考生按照正常速度, 一分钟也做不了一个题, 这样占用了时间, 而且我们大家都知道, 这样的题占的分量又比较多, 而且这些阅读语言的理解和表达, 再加上它的判断推理又是我们能不能在行测方面取得胜利的观点. 因此就要求我们把其他的类型试题答题时间拿过来放在语言理解与表达和判断推理这两个题型上, 我给同学们的这个忠告, 同学们一定要在现在的练习当中强化训练自己. 比如同学们现在可以用十个、二十个, 甚至于三十个这样的语言理解试题来自己倒计时, 来训练自己. 看看能不能在 55 秒钟之内回答完成这样的试题, 如果你答完了, 而且正确率比较高, 证明你

《2011 年公务员考试行测考试 100 套华图真题》

在这样的行测方面会取得主动，如果你一分半钟还答不了这样的试题，同学们你就应该从现在开始加强训练这方面的能力和技巧。

主持人：行测答题技巧主要有哪些呢？

孙景民：行测方面答题技巧有下面几个。我们分头给大家说一下。行测分为五大类型。

第一个类型它是常识判断。第二个类型就是语言的理解与表达，第三个是数量关系，第四个是判断推理，第五个是资料分析。它们每一个的题型有着不同的答题技巧。我先说常识和资料分析，常识部分按照我们考纲上的要求，它是历史、法律、政治、经济、文化等各方面的内容都可能会出。因此，这种题型不要过多的去训练它，因为这个是平常积累的。如果靠这一个月里有很大的提高，也不现实。

我们现在要加大力度来训练我们的另外的三种题型，一个是语言理解与表达，一个是数量关系，另外一个就是判断推理。这三个是我们能否取得行测高分的观点。因此，关于语言方面理解它的考试有哪些内容呢？关于语言理解方面，主要两方面，一个是全文阅读，一个是片断阅读，这两方面各有各的答题技巧。

另外数量关系，它也是从两个方面来测试同学们。哪两个方面呢？一个是数字推理，一个是数学运算。数字推理同学们你就不用去复习，为什么你就不用复习呢？因为你只要做到迅速的反应就可以，这个题规律性很强。另外数学运算这一块一定要掌握最基本的数学运算公式，特别是乘法，特别是某三个字的二次方、三次方，甚至于五次方，然后把它乘起来最后得出这样一个答案。实际上这样有简单的运算公式，同学们这个简单的运算公式你做的速度越快越好。因此在这方面有着很强的技巧性，这个要认真的准备一下。

行测上确切的说就是考察你的反应能力。这个时候它的答题技巧一定要做到它有两大大端，所有的行测出题都有两大极端，第一个这个题出现非常明显的规律性，第二个这个题可能会出现非常明显的不规律性。无论是规律性还是不规律性都是我们在答题当中必须掌握的方法。为什么不规律性也成为规律呢？实际上给你几个图形，每一个图形都丝毫的没有规律，答案你就选择一个没有规定的答案，这个就是它的正确答案。有的是非常强规律性，我们一看迅速能够抓住这种规律，抓住某一种他们的间隔，他们之间的数，他们之间的这种变化模式，我们就可以在考试当中取得比较好的成绩。这是关于它的答题的技巧，一会儿我给同学们讲讲不同方面它的具体答题技巧是什么。

主持人：数量关系的命题形式与技巧是什么呢？

孙景民：主持人提这个问题，我刚才已经涉及到一些了。数量关系，我首先强调的同学们一定要在这个问题上讲究速度。数量关系它怎么命题实际上就大致从两个方面命题。一个是数字推理，一个是数学的运算。数字推理你只要掌握住它的规律性，它有间隔，我举考纲上的说明的例子。你像 2、9、16、23、30 让你答题答案有 35、37、39、41，你一看你就把握这个点，中间间隔是几节可以了。所以这个时候，同学们凡是数字推理的时候，你一定把第一个数字和第二个数字用减法计算起来，其他的可能会有明显的规律性就出来了。所以同学们答这个题时候，尤其文科的学生，理科学生答这个题不成问题，有明显优势。文科考生答题就有一些困难了。因此，同学们要注意他们第一个和第二个数字它们之间的加减，要么是和，要么是差，注意二者之间的规律，把二者之间的差和计算起来，往往就是它的答案。

关于数学运算，公务员考试，特别是行测考试是用相当大精力来考试同学们

《2011 年公务员考试行测考试 100 套华图真题》

的运算能力，因此，考生一定要掌握基本的数学运算公式。尤其是文科的考生同学，你们要把基本的数学的运算公式要在短短的一个月内要掌握一部分，这样我们可以在数量关系这个试题上我们取得比较好的成绩。注意，这些题我们都不应该丢分的。因为这些题如果我们掌握了方法，都是会给我们的考试来增添分数的，因此我们绝对不能应该在这个方面来失分。这就是关于它的技巧问题。

主持人：言语理解与表达主要是哪些方面呢？

孙景民：关于言语的理解与表达方面，我们北京市的大纲规定的很清楚。它主要是考察同学们下面的四个能力：

第一，对一般句子和一般意义上的理解；

第二，是对比较复杂的观念和观点的准确的理解；

第三，是对隐含信息的合理推测。

第四，是在干扰比较多的情况下能够比较准确的辩明它的意义，筛选它的信息。同学们这一点，在我们大纲上规定这四个方面的测试的要点。根据我的研究，同学们在这个命题实际上，同学们最容易失分的就是第三个方面，就是对语句它的隐含意义的合理推断。

这个很多的试题实际上考生这个分数它丢也就是在这个试题上丢得分数，咱们可以举一个大纲上的例子。大纲上曾经给我们这样一个阅读的文章。关于板块的边界并不就是海陆的边界，这个我不念了，实际上命的两个题。这两个题都是考察的第三个方面。也就是对语句它的隐含含义的合理判断问题。因此，这个题因为在原答案上找不到，就要求我们要进行合理的推测，这个合理的推测主要是咱们大家知道，主要是从哪些方面，每一段的第一句话或者是最后一句话，或者是总之以后的那个结论性的话来寻找我们的答案。如果不这样做，如果寻找原句子，我们在句子里面是根本找不到的。这是我给同学们提醒的。

言语理解与表达考两方面，一个是文章阅读，一个是片断阅读。文章阅读主要是考察同学们对言语的隐含意义的理解，它的准确理解。而片断阅读是考察同学们的用词的准确性。在这里我给同学们说一个技巧，这个技巧是什么呢？如果一个题它的题干的题是客观性的试题的话，下面的这四个答案里面 ABCD 你就挑一个答案是客观性的词，而不要挑那些具有感情色彩的词，反之，如果前面的这个片断是包含情感含义的一句话，我们这样的词要挑一个具有感情色彩的词。现在我给同学们实际举这么一个例子，例如，你看考纲上有这么一个题，就能很准确的说明我跟你得这么一个答题技巧。旅游胜地名泉多，但是天下第一泉就有四处，而神州名泉一书，列为天下第一的名泉就达十处，到底谁是第一恐怕陆羽在世，也会什么什么，这个按照我这个跟你说的这个大题技巧，你可以迅速选择判断答案不用过多思考。旅游胜地比较多，这个就是短短几句话，没有任何感情色彩，你这一看 ABCD 里面前三个有感情色彩，立马排除，最后难断就是客观性叙述的题，客观的这个词就是准确答案，不要把过多的进行对照，你看苦恼、愁肠、劳神都是感情色彩。前面是客观叙述的，这个不着边布达佩，我们如果做到迅速的答题，在语言上判断，有的同学失分很多，这个我感到很惋惜，实际上抓住这个技巧，不用过多的去思考去忧郁就可以选出这么一个词就可以了。这是关于言语的理解和表达所注意的几个问题，我就给同学们谈这么多。

主持人：下面请孙老师谈一下判断分析需要注意的方面有哪些。

孙景民：判断推理有几个方面，第一个是图形判断，第二个是演绎判断，第三定义判断，第四是事件的排列顺序的判断。这四个方面。最难的就是演绎判断和定义判断。具体图形判断有很多同学很简单的就可以辨别出来，因为图形判断

《2011 年公务员考试行测考试 100 套华图真题》

里面有很明显的技巧，而演义判断我为什么说这么难，因为它后面的答案有很多的干扰因素，从我们普通的考生看来，它们的答案基本上哪一个觉得都像，哪一个都可以做一个标准答案。实际上这是一个命题误区。这个很多的在这个演绎推理里面，一定要在题干上找出原话，只要找出它的原话，它的答案就在原话里面。我给同学们读一个具体的案例。咱们可以判断一下。

这个案例也在我们的考试大纲上，我用考试大纲的例子来给同学们举例。例如彭平是一个计算机编程专家，姚新是数学专家，其实所有的计算机编程专家都是数学家，我们知道今天中国大多数综合大学都在培养着计算机编程专家，因此我们可以认为，四个答案，第一彭平由综合性大学培养的。第二个答案是大多数计算机编程专家是由综合性大学培养的，第三个姚新并不是毕业综合性大学，第四有些数学家是计算机编程专家，这些题看哪一个都像。我教大家一个技巧，你在这个题干里面找出原话。我们一看所有的计算机编程专家都是数学家，这一句话是我们的题干里面的原话，那么这一句话可以反过来说，也就是数学家相当的一部分就是计算机编程专家，这个题就是这样答的。既然是所有的计算机编程专家都是数学家，至少数学家里有一部分是计算机编程专家，这样反过来就是我们这个题的答案，这个答案是哪一个呢？一看 ABCD 里只有 D 是的。就是题干这一句话里演变过来的，这个就是答案。同学们就这么简单，因此我们掌握住技巧对于我们行测的考试看起来有多么重要。

金路公务员李祖华谈常识判断宪法学考点

2007 年 05 月 10 日 17:20 [我来说两句] [字号：大 中 小]

作者：李祖华

【来源：金路公务员】

第二节 国家性质

一、国家性质概述

国家制度是一个国家通过宪法、法律确立的有关国家性质和国家形式的制度的总和。国家性质是指国家的根本属性，在国家制度中，国家性质具有决定性的意义，它决定着国家政权的组织形式和国家的结构形式，因此，国家性质是国家制度的核心内容。

二、我国是人民民主专政的社会主义国家

我国是工人阶级领导的、以工农联盟为基础的人民民主专政的社会主义国家。

我国的国家性质包含以下基本点：①人民民主专政实质上是无产阶级专政；②人民民主专政必须以工人阶级为领导、以工农联盟为基础；③人民民主专政是最大多数人的民主；④人民民主专政是民主与专政的结合；⑤在人民民主专政国家政权内部，建立了极其广泛的爱国统一战线，形成了中国 GCD 领导的多党合作和政治协商制度。

三、中国 GCD 领导的多党合作和政治协商制度

中国 GCD 领导的多党合作和政治协商制度是我国的一项基本政治制度，是我国政治制度的特点和优点，是一种符合中国国情的社会主义政党制度，将长期存在和发展。这一制度包括：①中国 GCD 是中国社会主义的领导核心，是执政党；②各民主党派是各自所联系的社会主义劳动者和爱国者的政治联盟，是接受中国 GCD 领导的，同中国 GCD 通力合作，共同致力于社会主义事业的亲密友党，是参政党；③坚持四项基本原则，是中国 GCD 同各民主党派合作的政治基础；④“长期共存、互相监督、肝胆相照、荣辱与共”是中国 GCD 与各民主党派合作的基本

《2011 年公务员考试行测考试 100 套华图真题》

方针；⑤以参政议政和互相监督作为多党合作的主要内容；⑥以坚持社会主义初级阶段的基本路线，把我国建设成为富强、民主、文明的社会主义现代化国家和统一祖国、振兴中华为中国 GCD 和各民主党派的目标；⑦以宪法为多党合作的根本活动准则。

在目前阶段，中国 GCD 领导的多党合作和政治协商的形式主要有：①中国 GCD 与民主党派政治协商，主要采取民主协商会、谈心会、座谈会以及就重大问题向中共中央提出书面政策性建议和约请中共中央负责人交谈等方式；②民主党派成员或无党派人士在国家权力机关参政议政和进行民主监督；③民主党派成员和无党派人士担任各级政府及司法机关领导职务；④通过中国人民政治协商会议发挥各民主党派的作用。

四、统一战线与中国人民政治协商会议

1 统一战线

统一战线是我国革命和建设胜利的重要法宝之一，在不同时期有不同的性质和任务。2004 年宪法修正案在宪法关于统一战线的表述中增加“社会主义事业的建设者”，将宪法序言第十自然段第二句关于统一战线的表述修改为：“在长期的革命和建设过程中，已经结成由中国共产党领导的，有各民主党派和各人民团体参加的，包括全体社会主义劳动者、社会主义事业的建设者、拥护社会主义的爱国者和拥护祖国统一的爱国者的广泛的爱国统一战线，这个统一战线将继续巩固和发展。”

2 中国人民政治协商会议

中国人民政治协商会议是有广泛代表性的统一战线的组织，是中国共产党领导的多党合作和政治协商的重要组织形式。政协按其性质不属于国家机构，也不同于一般的人民团体。

中国人民政治协商会议的主要职能是：对国家的大政方针、地方重要事务、政策和法律的贯彻、群众生活和统一战线的重大问题，进行政治协商和民主监督。

第三节 经济制度

一、基本经济制度

国家在社会主义初级阶段，坚持公有制为主体、多种所有制经济共同发展的基本经济制度。我国社会主义经济制度的基础是生产资料的社会主义公有制，即全民所有制和劳动群众集体所有制：

(1) 国有经济，即社会主义全民所有制经济，是国民经济中的主导力量。

(2) 农村集体经济组织实行家庭承包经营为基础、统分结合的双层经营体制。农村中的生产、供销、信用、消费等各种形式的合作经济以及城镇中的手工业、工业、建筑业、运输业、商业、服务业等行业中的各种形式的合作经济，是社会主义劳动群众集体所有制经济。

(3) 在法律范围内的个体经济、私营经济等非公有制经济，是社会主义市场经济的重要组成部分。国家允许外国的企业和其他经济组织或个人依照中国法律的规定在中国投资，同中国的企业或者其他经济组织进行各种形式的经济合作。

2004 年宪法修正案将宪法第 11 条第 2 款“国家保护个体经济、私营经济的合法的权利和利益。国家对个体经济、私营经济实行引导、监督和管理。”修改为：“国家保护个体经济、私营经济等非公有制经济的合法的权利和利益。国家鼓励、支持和引导非公有制经济的发展，并对非公有制经济依法实行监督和管理。”

二、分配制度

《2011 年公务员考试行测考试 100 套华图真题》

社会主义公有制消灭人剥削人的制度，实行各尽所能、按劳分配的原则；国家在社会主义初级阶段，坚持按劳分配为主体、多种分配方式并存的分配制度。

三、经济体制

国家实行社会主义市场经济。国家加强经济立法，完善宏观调控，国家依法禁止任何组织或个人扰乱社会经济秩序。

四、其他规定

宪法规定，社会主义的公共财产神圣不可侵犯。国家保护公民的合法财产的所有权和继承权。

2004 年宪法修正案将宪法第 13 条“国家保护公民的合法的收入、储蓄、房屋和其他合法财产的所有权。”“国家依照法律规定保护公民的私有财产的继承权。”修改为：“公民的合法的私有财产不受侵犯。”“国家依照法律规定保护公民的私有财产权和继承权。”“国家为了公共利益的需要，可以依照法律规定对公民的私有财产实行征收或者征用，并给予补偿。”

2004 年宪法修正案将宪法第 10 条第 3 款“国家为了公共利益的需要，可以依照法律规定对土地实行征用。”修改为：“国家为了公共利益的需要，可以依照法律规定对土地实行征收或者征用，并给予补偿。”

2004 年宪法修正案在宪法第 14 条中增加一款，作为第 4 款：“国家建立健全同经济发展水平相适应的社会保障制度。”

第四节 国家形式

一、政权组织形式

1 政权组织形式的概念和分类

政权组织形式是指特定社会的统治者采取何种原则和方式去组织政权机关的制度。

现代国家政权组织形式主要分为立宪君主制的政权组织形式和共和制的政权组织形式。君主制是指君主在实际上或名义上掌握国家最高权力、君主终身任职并实行世袭的政权组织形式。君主制可分为专制君主制和立宪君主制两种。现代国家主要采取立宪君主制形式，君主的权力受宪法的一定限制。共和制是指国家最高权力掌握在由选举产生的并有一定任期的国家机关或公职人员手中的政权组织形式，共和制的政权组织形式在西方国家主要有议会共和制和总统共和制两种。前者，由在议会中占多数席位的政党组织政府，政府对议会负责；后者，由通过民选的总统组织政府，毋需对议会负责。社会主义国家则实行人民代表大会制度。

2 我国的人民代表大会制度

我国的政权组织形式是人民代表大会制度，它包括以下基本内容：①国家的一切权力属于人民；②人民在民主基础上选派代表，组成全国人民代表大会和地方各级人民代表大会，作为人民行使国家权力的机关；③国家行政机关、审判机关、检察机关由人民代表大会产生，对它负责，受它监督；④人民代表大会常务委员会对本级人民代表大会负责，人民代表大会对人民负责。

人民代表大会制度是符合中国国情的政治制度，人民代表大会制的适宜性和优越性表现在：①人民代表大会制度是中国人民在长期革命斗争中创造起来的，因而是适合中国国情的；②人民代表大会制度比较全面地体现我国人民民主专政的国家性质；③人民代表大会制度便于人民群众参加国家管理，从政治上组织上保障人民实现当家作主的权力；④人民代表大会制度实行民主集中制原则，既保证了国家权力的统一，又使各个国家机关更好地分工合作；既保证中央的统一领

《2011 年公务员考试行测考试 100 套华图真题》

导，又便于发挥地方的主动性和积极性。

二、国家结构形式

1 国家结构形式的概念和分类

国家结构形式是指国家按照一定的原则，在其领土范围内划分区域，调整国家整体与组成部分之间相互关系的制度。现代国家的结构形式主要有两大类：单一制和复合制。

单一制是指由若干普通地方或自治地方组成主权国家的结构形式。其基本特征：①国家整体与组成部分之间是中央与地方的关系；②各组成部分不可分离；③全国只有一部宪法；④公民只有一种国籍；⑤国家是唯一的国际法主体，享有完全独立的国家主权。

复合制是指由两个或两个以上的成员国联合组成联盟国家或国家联盟的结构形式。分为邦联和联邦两种形式。邦联是几个主权独立的国家基于共同目的结成的比较松散的国家联合体，如苏联解体后，俄罗斯等 11 个主权独立的国家成立的“独立国家联合体”。邦联不是完全意义上的国家，不是国家主体。联邦是由两个或两个以上的成员国(州、邦、共和国等)组成的复合制国家。联邦制的基本特征：①国家整体与组成部分之间的关系是联邦与各成员国的关系，联邦与各成员国不是中央与地方的关系，各成员国以下的政府才是地方政府；②联邦与各成员国的权力及相互联系多由宪法或法律规定并加以保障；③除联邦宪法外，各成员国还可以有自己的宪法；④除联邦国籍外，有的国家的各成员国公民可以有自己的国籍；⑤各成员国加入联邦后不再有完全独立的主权和外交权，但有的国家允许各成员国可以同外国签订某些协定，有的国家允许各成员国有选择加入或退出联邦的权利。

2 我国是统一的多民族国家

我国自古以来，就是统一的多民族国家。建立统一的多民族的社会主义国家，是我国各族人民长期共同斗争和生活的必然结果，对于维护国家的独立、统一和安全，进行社会主义现代化建设，发展社会主义民族关系，具有极为重要的意义。正是这样，我国采用单一制的社会主义国家结构形式，并在历次宪法中加以确定。

根据现行宪法的规定，全国分为省、自治区、直辖市；省、自治区分为自治州、县、自治县、市；县、自治县分为乡、民族乡、镇。直辖市和较大的市分为区、县。自治州分为县、市。国家在必要时设立特别行政区。

我国单一制的国家结构形式大致分为：①普通的地方制度：在各级地方按行政区划设立各级政权机关。各级地方国家行政机关、审判机关、检察机关都由本级人民代表大会产生，对它负责，受它监督；中央和地方国家机构职权的划分，遵循在中央的统一领导下，充分发挥地方的主动性、积极性的原则。②民族自治地方实行的民族区域自治制度：在国家统一领导下，各少数民族聚居的地方实行区域自治，设立自治机关。各民族自治地方的自治机关不仅行使宪法规定的地方国家机关的职权，同时依照宪法、民族区域自治法和其他法律规定的权限行使自治权。③特别行政区实行的高度自治制度：根据“一国两制”的构想，特别行政区是我国的一级地方行政区域，直辖于中央人民政府；在特别行政区不实行社会主义制度和政策，保持原有的资本主义制度和生活方式，50 年不变；特别行政区实行高度自治，享有行政管理权、立法权、独立的司法权和终审权以及自行处理有关对外事务的权力，但是：①中央人民政府负责管理特别行政区的外交、防务；任命特别行政区行政长官和行政机关的主要官员；②全国人民代表大会常务委员会如认为特别行政区立法机关制定的任何法律不符合基本法的有关条款，可

《2011 年公务员考试行测考试 100 套华图真题》

将有关法律发回；有权决定特别行政区进入紧急状态；并对基本法有解释权；③全国人民代表大会对基本法享有修改权。

第五节公民的基本权利和义务

一、概述

1 公民的概念

公民是指具有一国国籍的人。我国宪法规定，凡具有中华人民共和国国籍的人都是中华人民共和国公民。

2 公民基本权利和义务的概念

公民基本权利是指公民按照宪法和法律的规定，可作或不作某行为，也可要求国家和其他公民作或不作某种行为。公民基本义务是指宪法和法律规定的公民必须履行的某种责任。

3 尊重和保障人权

2004 年宪法修正案在宪法第二章“公民的基本权利和义务”头一条即第 33 条中增加一款，作为第 3 款：“国家尊重和保障人权。”

二、我国公民的基本权利和义务

1 我国公民的基本权利

(1) 公民在法律面前一律平等。

(2) 政治权利和自由：①选举权和被选举权，年满 18 周岁的中华人民共和国公民，都有选举权和被选举权；但依法被剥夺政治权利的人除外；②言论、出版、集会、结社、游行、示威的自由。

(3) 宗教信仰自由。

(4) 人身自由，包括：①人身自由不受侵犯；②人格尊严不受侵犯；③住宅不受侵犯；④通信自由和通信秘密受法律保护。

(5) 批评、建议、申诉、控告、检举和取得赔偿权。

(6) 社会、经济、文化、教育权利：①劳动权；②休息权；③退休人员生活受保障权；④公民在年老、疾病或丧失劳动能力情况下获得物质帮助的权利；⑤受教育权；⑥进行科学研究、文学艺术创作和其他文化活动的自由。其中，劳动和受教育既是公民权利又是公民义务。

(7) 特定人的权利：①实行男女平等，保护妇女的权利和利益；②保护婚姻、家庭、母亲、儿童和老人；③保障残废军人、烈军属的权利；④照顾残疾公民；⑤保护华侨的正当权利和利益，保护归侨和侨眷的合法权利和利益。

2 我国公民的基本义务

(1) 维护国家统一和各民族团结。

(2) 遵守宪法和法律，保守国家秘密，爱护公共财产，遵守劳动纪律，遵守公共秩序，尊重社会公德。

(3) 维护祖国的安全、荣誉和利益。

(4) 保卫祖国、抵抗侵略，依法服兵役和参加民兵组织。

(5) 依法纳税。

(6) 其他义务：①夫妻双方实行计划生育；②父母抚养教育未成年子女；③成年子女赡养扶助父母。

3 我国公民行使自由和权利的指导原则

依照宪法规定，我国公民在行使自由和权利的时候，不得损害国家的、社会的、集体的利益和其他公民的合法的自由和权利。

《2011 年公务员考试行测考试 100 套华图真题》

第六节 国家机构

一、全国人民代表大会及其常务委员会

1 全国人民代表大会

(1) 全国人民代表大会的性质、地位、组成和任期：全国人民代表大会是最高国家权力机关，又是行使国家立法权的机关。全国人民代表大会的性质决定了它在整个国家机构体系中居于最高地位。全国人民代表大会由省、自治区、直辖市和军队选出的代表组成，各少数民族都应当有适当名额的代表。全国人民代表大会每届任期 5 年。如遇非常情况不能进行下届选举，由全国人民代表大会常务委员会以全体组成人员的 $2/3$ 以上的多数通过，可以推迟选举，延长本届任期，但在非常情况结束后 1 年内，必须完成下届全国人民代表大会代表的选举。

2004 年宪法修正案在宪法第 59 条第 1 款关于全国人民代表大会组成的规定中增加“特别行政区”，将这一款修改为：“全国人民代表大会由省、自治区、直辖市、特别行政区和军队选出的代表组成。各少数民族都应当有适当名额的代表。”

(2) 全国人民代表大会的主要职权：全国人民代表大会行使修改宪法，监督宪法的实施，制定和修改基本法律，组织其他中央国家机关，决定重大国家事项，罢免其他中央国家机关组成人员等职权。

2 全国人民代表大会常务委员会

(1) 全国人民代表大会常务委员会的性质、地位、组成和任期：全国人民代表大会常务委员会是全国人民代表大会的常设机关，是全国人民代表大会闭会期间经常行使国家权力的机关，又是行使国家立法权的机关。全国人民代表大会常务委员会对全国人民代表大会负责并报告工作。全国人民代表大会常务委员会由委员长、副委员长若干人、秘书长、委员若干人组成，并应当有适当名额的少数民族代表。这些组成人员不得担任国家行政机关、审判机关和检察机关的职务。全国人民代表大会常务委员会每届任期同全国人民代表大会每届任期相同。全国人民代表大会常务委员会委员长、副委员长连续任职不得超过两届。

(2) 全国人民代表大会常务委员会的主要职权：全国人民代表大会常务委员会行使解释宪法和法律，监督宪法实施，制定和修改基本法律以外的其他法律，任免国家机关领导人员，决定重大国家事项，审查行政法规和地方性法规的合宪、合法性，对国务院、中央军事委员会、最高人民法院和最高人民检察院的工作进行监督以及全国人民代表大会授予的其他职权。

2004 年宪法修正案将宪法第 67 条规定的全国人大常委会职权第二十项“决定全国或者个别省、自治区、直辖市的戒严”修改为“决定全国或者个别省、自治区、直辖市进入紧急状态”，并相应地将宪法第 80 条规定的中华人民共和国主席根据全国人大常委会的决定“发布戒严令”修改为“宣布进入紧急状态”；将宪法第 89 条规定的国务院职权第十六项“决定省、自治区、直辖市的范围内部分地区的戒严”修改为“依照法律规定决定省、自治区、直辖市的范围内部分地区进入紧急状态”。

二、中华人民共和国主席

1 国家主席的性质、地位、产生和任期

国家主席是我国国家机构的重要组成部分，是一个相对独立的国家机关。中华人民共和国主席对外代表国家。中华人民共和国主席、副主席由全国人民代表大会选举。有选举权和被选举权的年满 45 周岁的中华人民共和国公民可以被选为中华人民共和国主席、副主席。中华人民共和国主席、副主席每届任期同全国

《2011 年公务员考试行测考试 100 套华图真题》

人民代表大会每届任期相同，连续任职不得超过两届。

2 国家主席的职权

根据宪法的规定，我国国家主席的职权主要有：根据全国人民代表大会及其常务委员会的决定，公布法律，任免国务院总理、副总理、国务委员、各部部长、各委员会主任、审计长、秘书长，授予国家的勋章和荣誉称号，发布特赦令、戒严令，宣布战争状态，发布动员令；代表中华人民共和国，进行国事活动，接受外国使节；根据全国人民代表大会常务委员会的决定，派遣和召回驻外全权代表，批准和废除同外国缔结的条约和重要协定。

2004 年宪法修正案将宪法第 81 条中“中华人民共和国主席代表中华人民共和国，接受外国使节”修改为“中华人民共和国主席代表中华人民共和国，进行国事活动，接受外国使节”。

三、国务院

1 性质、地位、组成和任期

中华人民共和国国务院，即中央人民政府，是最高国家权力机关的执行机关，是最高国家行政机关。国务院由全国人民代表大会产生，对全国人民代表大会及其常务委员会负责并报告工作。

国务院由总理、副总理若干人、国务委员若干人、各部部长、各委员会主任、审计长、秘书长组成。国务院每届任期同全国人民代表大会每届任期相同。总理、副总理、国务委员连续任职不得超过两届。

2 国务院的职权和领导体制

根据宪法的规定，国务院职权主要有：①根据宪法和法律，规定行政措施，制定行政法规，发布决定、命令；②提出议案；③组织领导全国性行政工作；④领导和管理各部门、各行业的行政工作；⑤保护正当和合法权益；⑥监督有关行政机关的工作；⑦全国人民代表大会及其常务委员会授予的其他职权。

国务院实行总理负责制，总理领导国务院的工作，副总理、国务委员协助总理工作。总理、副总理、国务委员和秘书长组成国务院常务会议。国务院全体会议由国务院全体成员组成。国务院工作中的重大问题，必须以国务院常务会议或者国务院全体会议讨论决定。

四、中央军事委员会

中华人民共和国中央军事委员会领导全国武装力量，是全国武装力量的最高领导机关。中央军事委员会由主席、副主席若干人、委员若干人组成。中央军事委员会实行主席负责制，中央军事委员会主席对全国人民代表大会及其常务委员会负责。中央军事委员会每届任期同全国人民代表大会每届任期相同。

五、地方各级人民代表大会和地方各级人民政府

1 地方各级人民代表大会

(1) 地方各级人民代表大会性质、地位、组成和任期：地方各级人民代表大会是地方国家权力机关。本级的地方国家行政机关、审判机关和检察机关都由地方国家权力机关产生，在本行政区域内对它负责并报告工作，受它监督。省、自治区、直辖市、自治州、设区的市的人民代表大会由下一级人民代表大会选举的代表组成。县、不设区的市、市辖区、乡、民族乡、镇的人民代表大会由选民直接选举的代表组成。

关于地方各级人民代表大会的任期，2004 年宪法修正案将宪法第 98 条“省、直辖市、县、市、市辖区的人民代表大会每届任期 5 年。乡、民族乡、镇的人民代表大会每届任期 3 年。”修改为：“地方各级人民代表大会每届任期 5

《2011年公务员考试行测考试 100 套华图真题》

年。”

(2) 地方各级人民代表大会的主要职权：在本行政区域内，保证宪法、法律、行政法规和上级决议的遵守和执行；选举和罢免本级地方国家机关组成人员和领导人员；决定重大的地方性国家事务；监督其他地方国家机关的工作；保护各种权利。此外，省、自治区、直辖市的人民代表大会，省、自治区人民政府所在地的市和经国务院批准的较大的市的人民代表大会，在不同宪法、法律、行政法规和本省、自治区的地方性法规相抵触的前提下，可以制定地方性法规。

2 县级以上的地方各级人民代表大会常务委员会

(1) 县级以上的地方各级人民代表大会常务委员会的性质、地位、组成和任期：县级以上的地方各级人民代表大会设立常务委员会。县级以上的地方各级人民代表大会常务委员会是本级人民代表大会的常设机关，是在本级人民代表大会闭会期间经常行使地方国家权力的机关，对本级人民代表大会负责并报告工作。省、自治区、直辖市、自治州、设区的市的人民代表大会常务委员会，由本级人民代表大会在代表中选举主任、副主任若干人、秘书长和委员若干人组成；县、不设区的市、市辖区的人民代表大会常务委员会由本级人民代表大会在代表中选举主任、副主任若干人和委员若干人组成。常务委员会组成人员不得担任国家行政机关、审判机关和检察机关的职务。常务委员会每届任期同本级人民代表大会每届任期相同。

(2) 县级以上的地方各级人民代表大会常务委员会的主要职权：在本行政区域内，保证宪法、法律、行政法规和上级决议的遵守和执行；主持选举和召集会议；决定本级地方国家机关组成人员或领导人员的任免或职务撤销；决定重大的地方性国家事务；监督其他地方国家机关的工作。此外，省、自治区、直辖市的人民代表大会常务委员会，省、自治区人民政府所在地的市和经国务院批准的较大的市的人民代表大会常务委员会，在不同宪法、法律、行政法规和本省、自治区的地方性法规相抵触的前提下，可以制定地方性法规。

3 地方各级人民政府

(1) 地方各级人民政府的性质、地位、组成和任期：地方各级人民政府是地方各级国家权力机关的执行机关，是地方各级国家行政机关。地方各级人民政府由同级国家权力机关产生，对它负责并报告工作，受它监督。同时，地方各级人民政府还要对上一级国家行政机关负责并报告工作，并服从国务院统一领导。各省、自治区、直辖市、自治州、设区的市的人民政府分别由省长、副省长，自治区主席、副主席，市长、副市长，州长、副州长和秘书长、厅长、局长、委员会主任等组成；县、自治县、不设区的市、市辖区的人民政府分别由县长、副县长，市长、副市长，区长、副区长和局长、科长等组成；乡、民族乡的人民政府设乡长、副乡长，镇人民政府设镇长、副镇长。地方各级人民政府每届任期同本级人民代表大会每届任期相同。

(2) 地方各级人民政府的职权和领导体制

地方各级人民政府的主要职权：执行本级地方国家权力机关的决议和上级国家行政机关的决定和命令；领导和管理本行政区域的经济、教育、科学、文化、卫生、体育事业、环境和资源保护、城乡建设事业和财政、民政、民族事务、司法行政、监察、计划生育等行政工作；保护各种合法权利。县级以上地方各级人民政府还有权发布决定和命令，规定行政措施，领导所属各工作部门和下级人民政府的工作，并有权改变或撤销所属各工作部门的不适当的命令、指示和下级人民政府不适当的决定和命令等。此外，省、自治区、直辖市的人民政府和省、自

《2011年公务员考试行测考试100套华图真题》

治区人民政府所在地的市和经国务院批准的较大的市的人民政府，还可以制定地方政府规章。

地方各级人民政府的领导体制：地方各级人民政府分别实行省长、自治区主席、市长、州长、县长、区长、乡长、镇长负责制。县级以上地方各级人民政府组成人员组成地方各级人民政府全体会议，常务会议则由县级以上的地方各级人民政府首长及其副职参加。省、自治区、直辖市、自治州和设区的市的人民政府的常务会议还有秘书长参加。政府工作中的重大问题，须经政府常务会议或全体会议讨论决定。

4 居民委员会和村民委员会

城市和农村按居民居住地设立的居民委员会或村民委员会是基层群众性自治组织。居民委员会和村民委员会不属于国家机关，但与基层政权有密切关系：基层政权对居民委员会或村民委员会的工作给予指导、支持和帮助；居民委员会或村民委员会协助基层政权开展工作。居民委员会、村民委员会的主任、副主任和委员由居民或村民选举。居民委员会、村民委员会根据需要设人民调解、治安保卫、公共卫生等委员会，办理本居住地区的公共事务和公益事业，调解民间纠纷，协助维护社会治安，并且向人民政府反映群众的意见、要求和提出建议以及办理法律规定的其他事项。居民委员会或村民委员会向居民会议或村民会议负责并报告工作。

六、民族自治地方的自治机关

我国的民族自治地方有自治区、自治州、自治县。民族自治地方的自治机关是自治区、自治州、自治县的人民代表大会和人民政府。民族自治地方的人民代表大会常务委员会中应当有实行区域自治的民族的公民担任主任或副主任；自治区主席、自治州州长、自治县县长由实行区域自治的民族的公民担任。

民族自治地方的自治机关行使宪法规定的地方国家机关的职权，同时依照宪法、民族区域自治法和其他法律规定的权限行使自治权：①根据本地方的实际情况贯彻执行国家的法律、政策，上级国家机关的决议、决定、命令和指示，如有不适合民族自治地方实际情况的，自治机关可以报经该上级国家机关批准，变通执行或停止执行；②制定自治条例和单行条例；③自主地管理地方财政；④自主地安排和管理地方经济建设事业；⑤自主地管理本地方的教育、科学、文化、卫生、体育事业；⑥组织本地方维护社会治安的公安部队；⑦使用和发展当地通用的一种或几种语言文字；⑧培养干部、专业人才和技术工人。

七、人民法院和人民检察院

1 人民法院的性质和地位

人民法院是国家的审判机关。各级人民法院由同级国家权力机关产生，对它负责并报告工作，受它监督。

2 人民法院的组织

我国设立最高人民法院、地方各级人民法院和军事法院等专门人民法院。地方各级人民法院包括基层人民法院、中级人民法院和高级人民法院。专门人民法院主要是指军事法院。

最高人民法院是最高国家审判机关，监督地方各级人民法院和专门人民法院的审判工作，上级人民法院监督下级人民法院的工作。

3 人民法院的审判工作原则

- (1) 人民法院独立行使审判权，不受行政机关、社会团体和个人的干涉；
- (2) 在适用法律上一律平等；

《2011 年公务员考试行测考试 100 套华图真题》

- (3) 公开审判;
- (4) 有权获得辩护;
- (5) 使用本民族语言文字进行诉讼。

4 人民检察院的性质和地位

人民检察院是国家的法律监督机关,依照法律规定独立行使检察权,不受行政机关、社会团体和个人的干涉。

5 人民检察院的组织和领导体制

我国设立最高人民检察院、地方各级人民检察院和军事检察院等专门人民检察院。地方各级人民检察院包括:①省、自治区、直辖市人民检察院;②省、自治区、直辖市人民检察院分院,自治州和省辖市人民检察院;③县、市、自治县和市辖区人民检察院。专门人民检察院主要是指军事检察院。

最高人民检察院是最高检察机关。最高人民检察院领导地方各级人民检察院和专门人民检察院的工作,上级人民检察院领导下级人民检察院的工作。最高人民检察院对全国人民代表大会及其常务委员会负责,地方各级人民检察院对产生它的国家权力机关和上级人民检察院负责并报告工作。

6 人民法院、人民检察院和公安机关的关系

人民法院、人民检察院和公安机关办理刑事案件,应当分工负责,互相配合,互相制约,以保证准确有效地执行法律。

(责任编辑:刘建伟)

山东省 04 年公务员录用考试行测真题与答案

2007 年 03 月 30 日 17:19 [我来说两句(6)] [字号: 大 中 小]

说 明

这项测验共有五个部分,100 道题,总时限为 90 分钟。各部分不分别计时,但都给出了参考时限,供你参考以分配时间。

这项测验科目代码为“2”。请在答题卡上严格按照要求填写自己的姓名,涂写准考证号、科目代码。

请仔细阅读下面的注意事项,这对你获得成功非常重要:

1. 题目应在答题卡上作答,不要在题本上作任何记

号。

2. 监考人员宣布考试开始时,你才可以开始答题。

3. 监考人员宣布考试结束时,你应立即放下铅笔,将试题本、答题卡和草稿纸都留在桌上,然后离开。

如果你违反了以上任何一项要求,都将影响你的成绩。

4. 在这项测验中,可能有一些试题较难,因此你不要在一道题上思考时间太久,遇到不会答的题目,可先跳过去,如果有时间再去思考。否则,你可能没有时间完成后面的题目。

5. 试题答错不倒扣分

6. 特别提醒你注意,涂写答案时一定要认准题号。严禁折叠答题卡!

停!请不要往下翻!听候监考老师的指示。

否则,会影响你的成绩。

第一部分 数量关系

《2011 年公务员考试行测考试 100 套华图真题》

(共 15 题, 参考时限 15 分钟)

本部分包括一种类型的试题。

数学运算, 完成 1-15 题。你可以在草稿纸上运算, 遇到难题, 你可以跳过不做, 待你有时间再返回来做。

1. $96 \div 42 = ()$

A. 5 B. 7 C. 8 D. 6

2. $782 + 222 + 2 \times 78 \times 22$ 的值是 $()$

A. 10000 B. 1000 C. 1500 D. 20000

3. $(313 - 312 - 31) \div 31$ 的值是 $()$

A. 929 B. 939 C. 919 D. 829

4. 出租车在开始 10 千米以内收费 10.4 元, 以后每走 1 千米, 收费 1.6 元, 请问走 20 千米需收多少钱? $()$

A. 20.8 B. 26 C. 26.4 D. 20

5. 水结冰后, 体积比原来增加 $1/11$, 1.1 升水结冰后的体积是多少升? $()$

A. 1.2 B. 1.21 C. 1.1 D. 1.0

6. 2 小时 25 分合多少秒? $()$

A. 8750 B. 9650 C. 8700 D. 9700

7. 一单位运来 34 吨煤, 烧了 18 吨, 烧了的比剩下的多几分之几? $()$

A. $1/8$ B. $1/9$ C. $1/6$ D. $1/10$

8. 李华每周储蓄 35 元, 如果他现在已有 100 元存款, 那么需多少天他能买上一台价值 240 元的割草机? $()$

A. 4 B. 6 C. 28 D. 21

9. 一间会议室, 长 8.5 米, 宽 6 米, 用长 20 厘米, 宽 10 厘米的长方形砖铺地, 要用多少块? $()$

A. 2550 B. 2500 C. 2450 D. 2650

10. 用同样长的铁丝围成三角形、圆形、正方形、菱形、其中面积最大的是 $()$

A. 正方形 B. 菱形 C. 三角形 D. 圆形

11. 一猫每天吃由食品 A 和食品 B 搅拌成的食物 300 克, 食品 A 的蛋白质含量为 10%, 食品 B 的蛋白质含量为 15%. 如果该猫每天需要 38 克蛋白质, 问食物中食品 A 的比重是百分之几? $()$

A. $7/15$ B. 40% C. $1/3$ D. 50%

12. 某次测验有 50 道判断题, 每做对一题得 3 分, 不做或做错一题倒扣 1 分, 某学生共得 82 分, 问答对题数和答错题数相差多少? $()$

A. 33 B. 99 C. 17 D. 16

13. 某单位有青年员工 85 人, 其中 68 人会骑自行车, 62 人会游泳, 既不会骑车又不会游泳的有 12 人, 则既会骑车又会游泳的有 $()$ 人

A. 57 B. 73 C. 130 D. 69

14. 某班 50 名学生, 在第一次测验中 26 人满分, 在第二次测验中 21 人满分, 如果两次测验中都没得到满分的学生有 17 人, 那么两次测验中都获得满分的人数是 $()$

A. 14 B. 12 C. 17 D. 20

15. 一件工程, 甲单独完成需 2 天, 乙单独完成需要 4 天, 如果甲干完一天后, 剩下的工程由乙单独完成, 则干完此项工程共需多少天? $()$

《2011 年公务员考试行测考试 100 套华图真题》

A. 3 天 B. 4 天 C. 15 天 D. 6 天

第一部分结束, 请继续做第二部分!

第二部分 言语理解与表达

(共 20 题, 参考时限 20 分钟)

本部分包括二种类型的试题

每道题包含一段短文, 短文后面是一个不完整的陈述, 要求你从四个选项中选出一项来完成这一陈述。

一、 阅读片断, 完成 16-25 题。

16. 随着生产的发展, 人们的分工越来越细, 科学与文学逐渐分开, 形成了“科学界”、“文学界”。如今, 分工更细了, 研究科学的人, 一辈子只限于某一学科、某一专业, 以至某一专题。这样, “隔行如隔山”, 常使人的视听囿于很小的天地, 成为分工的奴隶。这段话直接支持了这样一种观点, 即 ()

- A. 生产的发展, 导致“科学”和“文学”的分开
- B. 文与理密不可分, 学文的应该懂点“理”, 学理的应该懂点“文”
- C. 文理分科是必要的, 但各自不应画地为牢, 研究者应该文理兼通
- D. 要同等地对待文科和理科, 既不能重文轻理, 也不应重理轻文

17. 信息仿生学研究的是生物体中信息接收、存储、加工和利用。人的大脑是目前世界上最完美、最小巧的“信息处理机”, 深入研究大脑思维与记忆的生理过程及其算法, 研究神经细胞的工作机理, 我们就将有可能用大脑的工作原理和模拟元件去制造性能优异的仿生计算机和自动控制装置。对这段话最准确的复述是 ()

- A. 信息仿生学研究人的大脑思维与记忆的生理过程及算法和神经细胞的工作原理
- B. 信息仿生学研究人与动物的感觉器官接收信息和信息的预加工系统。
- C. 信息仿生学研究大脑的工作原理和模拟元件制造性能优异的仿生计算机和自动控装置
- D. 信息仿生学研究大脑及人和动物的感觉器官和接收、存储、加工和利用信息的原理去制造仿生装置, 如各种机械、仪器等。

18. 当年中国工农红军赢得两万五千里长征的胜利, 震惊世界, “震惊”不是歼敌之多, 而主要是红军过雪山草地时那种在极度寒冷、饥饿、疲惫、缺氧和污浊的条件下的生存能力。许多国家都在缺路、缺水、缺食、缺火、缺光、缺氧等极度艰苦的条件下, 训练官兵的生存能力。这段话直接支持了这样一种观点, 即 ()

- A. 吃苦能造就强人, 能吃苦是强者的一种特征。
- B. 苦中凝聚着人类顽强的生存能力
- C. 不要把吃苦当作低能者的无奈生活
- D. 培养孩子和年轻一代人的吃苦精神, 实在是关系国家发展与竞争的大计

19. 不论人们在主观上承认与否, 在客观的效果上, 教育的努力最终在处于未来背景下的某一特定的社会阶段中表现出来, 也就是, 教育总是要表现出一种为未来社会服务的职能。这段话中划线处应填上的最恰当的短语是 ()

- A. 有必要也应当
- B. 总能而且只可能
- C. 需要而且必然
- D. 有可能也一定会

《2011 年公务员考试行测考试 100 套华图真题》

20. 人大代表在选举的基础上产生。根据选举法规定, 中华人民共和国年满十八周岁的公民, 不分民族、种族、性别、职业、家庭出身、宗教信仰、教育程度、财产状况和居住期限, 都有选举权和被选举权; 但是依照法律被剥夺政治权利的人没有选举权和被选举权。这段话可以理解为 ()

- A. 人大代表的产生方式是选举
- B. 选举法规定年满十八周岁的中华人民共和国公民享有选举权
- C. 选举权的行使不受任何非法限制和剥夺
- D. 选举权的行使受到政治法律等方面限制。

21. 不发达国家粮食仍要靠进口, 在自然灾害面前无能为力。农牧业、矿业是主要经济部门, 劳动人口主要在这类部门工作。文化教育水平和人们的生活水平都很低。这段话主要支持了这样一种观点, 即不发达国家 ()

- A. 在自然灾害面前无能为力
- B. 只有农牧业和矿业两个经济部门
- C. 人们生活水平很低, 文盲很多
- D. 处于极端落后的农业国或农牧业阶段

22. 有一对夫妻, 他们有一个儿子, 一天, 来了一个陌生人, 他说他认识这对夫妻, 还说他认识这对夫妻的儿子。最能准确的概括句意的是 ()

- A. 新来的人认识这对夫妻和他们的儿子
- B. 新来的陌生人认识这对夫妻和他们的儿子
- C. 新来的陌生人认识这对夫妻和他的儿子
- D. 新来的陌生人自称认识这对夫妻和他们的儿子

23. 社会保险是通过国家立法在全体国民或部分国民中强制实行的, 而商业保险主要依靠商业原则来经营, 是一种契约关系。这段话主要支持这样一种观点 ()

- A. 社会保险和商业保险不宜交叉经办
- B. 社会保险和商业保险可以交叉经办
- C. 统一社会保障的管理机构和政策比较好
- D. 应加强社会保险和商业保险中的法制化

24. 有几个慈祥的老板到菜场去收集一些菜叶, 用盐一浸, 这就是他们惟一的佳肴。这句话中是对老板赞扬还是揭露? ()

- A. 揭露 B. 赞扬 C. 歌颂 D. 无所谓褒贬

25. 笔迹检验就是研究如何通过文字符号的书写动作习惯特点, 文字布局习惯特点, 书面语言习惯特点, 来认定书写人的一项物证检验专门技术方法。这段话主要支持了这样一种论点, 即笔迹检验 ()

- A. 内容很广泛
- B. 是一项物证检验专门技术方法
- C. 操作方法
- D. 研究方向

二、 阅读下面两篇短文, 完成 26-35 题

近几年, 通信技术网络的超高速化, 已成为世界上的发展潮流。空间技术与计算机融合成跨越时间与空间的信息基础结构, 它将逐渐深入千家万户, 从根本上改变人们的生产、生活和相互交往的方式, 加速人类文明和文化的传播, 增进相互理解和全球意识。

空间信息的高速公路, 这一名词是借鉴信息高速公路概念, 也是信息高速公

《2011 年公务员考试行测考试 100 套华图真题》

路的拓宽与延伸。所谓空间信息高速公路，我们可以形象地将它理解为以卫星、光纤再辅之以其他通信手段作为“公路”，而以集电脑、电话、传真等为一体的多媒体作为“汽车”，使信息高速传递并能共享的通信网络。这种网络遍布全国乃全球。在我国则将它称之为国家经济信息化基础设施，其内涵包括 4 项要素：网络与通信、计算机与信息化设备、信息资源与服务、人与信息化环境。

卫星通信和数字网络光缆就像高速公路一样，是促进社会经济发展的基础设施。它不仅包括地面光缆数字通信网络系统，而且还包括通信卫星、卫星定位系统和环境、灾害监测技术系统。此外，还有不断更新的社会、经济统计数据库和自然资源数据系列，以及宏观调控、规则决策和工程设计服务及知识库，逻辑推理机等人工专家系统，这样，才能有效地实现以信息交流代替人流、物流与能量流。

加速发展空间技术，多方面、高效率利用空间技术，特别是充分利用空间信息资源，促进社会生产力的发展，已成为当今世界的共识。通信卫星具有通信容量（ ）、可靠性（ ）、传输距离（ ）、不受地理环境影响等许多优点，所以备受各国的重视可欢迎。在空间信息高速公路中，卫星无线电频率宽，极容易实现双向高速率的数据和可视电信业务。并适用于单相多路的电视节目以及新闻报道，对大多数用户都有实用价值。对发展中国家来说，空间信息高速公路的建设，可弥补通信基础设施差与区域性通信空缺之不足。例如，地面信息高速公路的成本昂贵，需要 10-15 年甚至更长时间才能建成，是一个无法在短期内普及服务的巨额投资项目，而卫星接收设备费用大约只需 200 美元，其技术是现成的，是一个在短期内能普及并能满足绝大多数用户需求的业务项目。

26. 在文中括号内填上恰当的词语是（ ）

- A. 大，高，远 B. 多，高，近
- C. 大，强，小 D. 小，低，远

27. 第一段“它将逐步深入千家万户”与第三段“它不仅包括地面光缆数字通信网络系统”两句中的“它”，各指的是（ ）

- A. 都是指空间信息高速公路
- B. 都是指卫星通信和数字网络光缆
- C. 前一个“它”指空间信息高速公路，后一个“它”指卫星通信和数字网络光缆
- D. 前一个“它”指空间技术与计算机融合成跨越时间与空间的信息基础结构，后一个“它”指空间信息高速公路。

28. 什么是“空间信息高速公路”？选出下列理解不正确的一项是（ ）

- A. 是空间技术与计算机融合成跨越时间与空间的信息基础结构
- B. 是以卫星、光纤再辅之以其他通信手段作为“公路”，以集电脑、电话、传真等作为“汽车”的一种高速传递信息的通信网络。

C. 需要 10-15 年甚至更长时间才能建成，是一个无法在短期内普及服务的巨额投资项目

- D. 是一种能使全球的信息起高速传递并能使入网各国共享其利的通信网络

29. 选出对“卫星通信和数字网络光缆”理解不正确的一项是（ ）

- A. 它是地面光缆数字通信网络系统
- B. 它能以信息交流代替人流、物流和能量流，从而使后者变得无意义
- C. 它包含各种各样数据库系列和知识库系列
- D. 它具有通信卫星、卫星定位系统和环境、灾害监测技术系统

《2011年公务员考试行测考试 100 套华图真题》

30. 最适合本文标题的一项是 ()

- A. 通信技术网络怎样超高速化
- B. 空间信息高速公路
- C. 卫星通信和数字网络光缆
- D. 卫星通信和数字网络光缆的超高速化

(一) 诚实作为一种优良品质,在道德上历来是备受推崇的。但道德评价与历史评价常常相互背离,当道德对诚实给予高度肯定的时候,它从政治或经济方面得到的回应有时恰好是否定的。伽利略捍卫、宣传“日心说”,塞尔维特提出“血液循环说”,都是诚实的表现,他们也因为这种深刻的诚实而为当代和后世所景仰,但他们的诚实却动摇了上帝的地位从而得罪了教会,因此在受人尊崇的同时,不是被烧死就是被禁闭。对诚实的否定固然令人遗憾,但尚可从精神上、道德上的肯定中得到弥补;诚实的人面对诚实给他带来的困境时,他可以从中引发出一种做人的高贵感、豪迈感、庄严感,也可以自足、自愿、自我平衡。

(二) 社会发展到今天这个地步,对诚实的物质否定要文明得多、温和得多了,人们已不必再担心因为说真话而衣食无着、走投无路。但诚实的人们却发现:当诚实政治上已大体不成问题的时候,在道德上却或多或少地失去了庇护,金钱至上的观念正在大面积地蚕食着人们的灵魂,金钱标准居然已成了不少人衡量一个人社会地位和公众形象的重要标准,大把的票子不仅可以将一个人塑造成能干人,而且会将他包装成高尚人。至于他的金钱来历如何,一概无须过问。人们只看目的和结果,而不在乎原因和手段。这种实用主义的处世观、做人观,大大扩展了社会道德的包容性。其重要表现就是现在的社会对吹牛、说谎等不诚实行为的宽容。相形之下,诚实的人们为了保持自己的诚实所做的种种努力,就显得软弱无力,可怜无助了。而对两种品格的大拼杀,“道德”不仅没有给挣扎中的诚实者助一臂之力,甚至将他们嘲弄一番:它不是让不诚实者为他们的不诚实而内疚自责,却是让诚实者为他们竟然不能放弃自己的诚实而自惭形秽。

(三) 市场经济的发展解放了人们曾经备受压抑的自然本性,而市场经济本身却没有也来不及为人们自然本性的弘扬勾划一个界限,于是我们看到了这样一种现象,诚实的堤坎以日甚一日的速度被一段一段地冲决了。比如笔者有一个当教师的朋友,填写副教授申报表的“外语水平”栏时,不按照统一口径填写“熟练阅读”,却据实写了“略知一二”,但“略知一二”却不符合副教授的任职条件,所以他很轻松地就被淘汰,直到次年填了“熟练阅读”,才获取了副教授的头衔。相对于大多数教授们的外语水平来讲,“略知一二”,本来还是他的优势,但能否评上副教授,主要并不在于你的外语程度怎么样,而在于你怎么说。至于那些经验材料、报告之类的公文里有多少水分,人们早已不想去辨别。

(四) 现在,物质产品生产领域和精神产品领域的“打假”活动声势正旺。但我总怀疑这类活动能否取和什么大的成效。产品假不过是心灵假的一种外化和物化形态,心中缺少了诚实,假冒伪劣产品能少得了吗?

31. 第(一)段阐述的中心论点是 ()

- A. 诚实作为一种优良品格,在道德上历来备受推崇
- B. 诚实的道德评价与历史评价常常相互背离
- C. 当道德对诚实给予肯定时,从政治或经济得到的回应有时恰好是否定的
- D. 对诚实的否定可以从精神上、道德上的肯定中得到弥补

32. 第(二)段支持的观点是 ()

- A. 当今社会,对诚实的物质否定要文明得多,温和得多

《2011 年公务员考试行测考试 100 套华图真题》

- B. 当今社会，诚实在政治上大体不成问题时，在道德上却或多或少失去庇护
C. 金钱至上的观点正大面积蚕食人们的灵魂，金钱已成为衡量人的重要标准
D. 实用主义的处世观扩展了社会道德的包容性，对不诚实行为表现宽容。

33. 第(三)段作者列举某教师填写申报表的事例，本文中是为了说明什么？
下面准确复述的一项是()

- A. 社会对不诚实的行为表现了宽容
B. 人们保持自己的诚实软弱无力，可怜无助，最终受到嘲弄
C. 市场经济未能为诚实的张扬划定一个界限
D. 现实无情地将这位教师的诚实的堤坎冲决了

34. 第(四)段，作者支持的观点是()

- A. 精神产品假导致物质产品假
B. 物质产品假导致精神产品假
C. 物质产品假与精神产品假无关
D. 精神产品假可以使物质产品不假

35. 对“这种实用主义的处世观、做人观、大大扩展了社会道德的包容性”的实质的阐释，准确复述的一项是()

- A. 社会道德的标准被扭曲了，衡量一个人只看金钱和包装，不看原因和手段
B. 社会道德的观念改变了，衡量一个人可以只看目的和结果，不看原因和手段
C. 社会对吹牛、说谎等不诚实行为表现宽容
D. 社会道德对诚实的人的自持和挣扎，不仅不助一臂之力，反而予以嘲弄。

第二部分结束，请继续做第三部分！

第三部分 判断推理

(共 30 题，参考时限 30 分钟)

本部分包括三种类型的试题

一、图形推理，完成 36-43 题。每道题包含两套图形和可供选择的 4 个图天。这两套图形具有某种相似性，也存在某种差异。要求你从四个选项中选择你认为最适合取代问号的一个。正确的答案不仅使两套图形表现出最大的相似性，而且使第二套图形也表现出自己的特征。

36. 37. 38 39. 40. 41. 42. 43. (空缺)

二、逻辑推理，完成 44-55 题。每道题给出一段陈述，这段陈述被假设是正确的，不容置疑的。要求你根据这段陈述，选出一个答案。注意，正确的答案应与所给的陈述相符合，不需要任何附加说明即可以从陈述中趋势推出。

44. “勿以善小而不为，勿以恶小而为之。”这是一句千年古训，下面对它的理解的是()

- A. 只有很小的善事才是值得做的
B. 事物的发展是一个从量变到质变的过程，大善大恶都是从很小的事情发展而来的
C. 做事应敢于面对挑战，做恶就一定要作大恶，容易的事情不值得做
D. 应当“为小善，为大恶。”

45. 在资本主义发展的初期，强调管得最少的政府，政府充当一个守夜人的角色；到垄断资本主义时期，资本主义走向国际竞争，加强了国家对经济的控制，凯恩斯主义盛行；到现在，国家则主要对经济进行宏观上的调控。可见()

《2011 年公务员考试行测考试 100 套华图真题》

A. 国家对经济实行怎样的控制是由当时经济发展的需要来确定的,是随时在调整的

B. 国家实行什么样的经济政策是任意的

C. 早期资本主义国家无力控制经济

D. 社会主义制度优于资本主义

46. 小李有一次坐轮船,忽然发现自己的包不见了,望远处一看,一个人正提着自己的包在走,追上以后,那人客气地向他道歉说拿错了,然后继续往前走,这时一个民警冲过来扭住那人说他是小偷。那么 ()

A. 那人不是小偷,因为他把包还了小李

B. 那人不是小偷,因为他拿错了包

C. 那人是小偷,因为他不去找自己的包

D. 那人是小偷,因为他拿了小李的包

47. 妈妈有三块糖,两块软糖,一块奶糖,给了两个儿子各一块,让他们根据自己手中的糖来猜剩下的一块是什么糖。两个儿子拿到糖后愣了一下,然后有一个聪明的马上就猜出来了。由以上可知 ()

A. 比较聪明的小孩拿的是奶糖

B. 没猜出来的小孩拿的是奶糖

C. 两个人一个拿的是奶糖,一个拿的软糖

D. 两个人拿的都是软糖

48. MBA 是一种高级企业管理人才,其最重要的一点在于企业家精神,具有企业家精神的 MBA 是市场中的佼佼者。我国现在有 50 多所院校都招生 MBA,有很多还宣称与国外院校合办,但大多是一些三流院校,有的连正式的教材都没有,其良莠不齐可见一般,由此可推知 ()

A. 中国缺的不是 MBA,而是具有企业家精神的真正的 MBA

B. 中国的 MBA 都是不合格的

C. 中国要培养真正的 MBA 必须与国外知名院校联合

D. 只有拥有 MBA 学位的人才能管好企业

49. 实践是检验真理的惟一标准,根据这句话,如下阐述不正确的是 ()

A. 实践可以检验真理

B. 只有实践可以检验真理

C. 一定还存在其他检验真理的标准

D. 其他任何标准都不能检验真理

50. 同宿舍四个人,规定谁回来最晚谁关灯,有一天忘了关灯了,管理员盘问谁回来最晚?

小杨说:“我回来时,小林刚要睡。”

小袁说:“我回来时,小夏睡着了。”

小林说:“我回来时,小袁正好上床睡觉。”

小夏说:“我上床就睡了,什么也不知道。”

假设他们四人说的都是实话,请你推测一下谁回来最晚 ()

A. 小杨 B. 小袁 C. 小 D. 小夏

51. 古代有一个地方,只有两种人,骑士和无赖,骑士说真话,无赖说假话,但从外表上看不出什么分别,一个学者遇到两个人, A 和 B,他问 A:“你们两个当中肯定有一个骑士?” A 说:“没有”。请你判断 A 和 B 分别是什么人? ()

A. A 是骑士, B 是无赖 B. A、B 都是骑士

《2011 年公务员考试行测考试 100 套华图真题》

C. A 是无赖, B 是骑士 D. A 和 B 都是无赖

52. 目前, 我国社会主义民主与法制还在逐步完善阶段, 有法不依、执法不严的现象还程度不同地存在着, 依法自觉纳税还没有成为每个公民头脑里紧绷的一根弦, 特别是个人所得税自开征以来, 征纳状况一直令人不太满意。因此 ()

- A. 需切实增强公民的纳税意识
- B. 对不交纳个人所得税的公民要加以逮捕
- C. 对不交纳个人所得税的公民要课以重罚
- D. 需对所有的公民开征个人所得税

53. 旅行社刚刚为 3 位旅客预定了飞机票. 这 3 位旅客是荷兰人比尔、加拿大人伯托和英国人丹皮。他们 3 人一个去荷兰、一个去加拿大、一个去英国。据悉比尔不打算去荷兰, 丹皮不打算去英国, 伯托即不去加拿大, 也不去英国。所以 ()

- A. 伯托去荷兰, 丹皮去英国, 比尔去加拿大
- B. 伯托去英国, 丹皮去荷兰, 比尔去回加拿大
- C. 伯托去荷兰, 丹皮去加拿大, 比尔去英国
- D. 伯托去加拿大, 丹皮去英国, 比尔去荷兰

54. 经济体制是属于生产关系的范畴。目前, 尽管公有制的生产关系在我国占主导地位, 但生产力低下, 使得其与生产关系的矛盾十分突出, 因此 ()

- A. 我国的生产关系超前了
- B. 如果目前的趋势再持续下去, 在不久的将来, 公有制将失去主导地位
- C. 生产关系决定生产力
- D. 要改革经济体制, 首先要大力发展生产力

55. 市场经济发达国家的实践充分表明, 假冒伪劣产品的泛滥程度与市场经济的发展水平呈负相关变化。市场经济内在的竞争机制本身就倡导公平与质量取胜, 只有符合社会需求的高质量商品才能得到社会的认可。可见 ()

- A. 在市场经济发达国家, 不存在假冒伪劣
- B. 假冒伪劣产品一般存在于非市场经济的国家中
- C. 只有不断完善市场经济体制, 才能制止假冒伪劣产品的泛滥
- D. 实行市场经济, 假冒伪劣产品必然泛滥

三、定义判断, 完成 56-65 题。每道题先给出一个概念的定义, 然后分别列出四种情况, 要求你严格依据定义从中选出一个最符合或最不符合该定义的答案。注意: 假设这个定义是正确的, 不容置疑的。

56. 法律, 是指由国家行使立法权的机关依照立法程序制定和颁布的涉及国家重大问题的规范性文件。下列哪一项不属于法律 ()

- A. 中华人民共和国中学生守则
- B. 中华人民共和国宪法
- C. 中华人民共和国刑法
- D. 中华人民共和国治安处罚条例

57. 广告, 是指为了商业目的, 由商品经营者或服务提供者承担费用, 通过一定媒介或一定形式, 如通过报刊、电视、路牌、橱窗等, 直接或间接地对自己推销的商品或者所提供的服务所进行的公开的宣传促销活动。下列属于广告活动的是 ()

- A. 水泥厂的厂长为了更好地销售水泥, 向邻县的包工头送礼一百万
- B. 小布什为了当总统, 不惜重金在电视和报刊上发表演说

《2011 年公务员考试行测考试 100 套华图真题》

C. 李宁牌服装赞助中国体育代表团出征奥运会, 获得良好的社会效应和经济效益

D. 老师规定学生考试一定要用圆珠笔

58. 作为和不作为共同构成了法律行为。作为是指主体应当作出一定的作为。不作为是以消极的没有外部举动的方式表现出来的法律行为, 以下谁的行为是作为 ()

A. 护士小张看书而忘记给 A 床拔点滴

B. 看见一小孩掉入昆明湖而径直离去的小黄

C. 知道邻村有人盗窃光缆而不上报的董某

D. 因口角生根将农药投入王某家鸡饮料中的段某

59. 纵火, 是指明知会造成他人或国家集体财物损失或威胁他人生命安全, 故意点火。下列哪种行为属于纵火行为 ()

A. 张某不满厂长克扣奖金, 于某日晚偷偷地在厂长家厨房内放火, 幸被人发现, 未能得逞

B. 李某在家中把对方的来信付之一炬

C. 高某在剧院看戏, 不小心将烟头扔在沙发上引起火灾

D. 包某感到难以忍受这种境遇, 浑身浇满汽油, 在闹市口引火自焚

60. 规律, 是指事物之间内在的必然的联系。这种联系不断重复出现, 在一定条件下常起作用。下面不属于规律的是 ()

A. 蒋某一看到有人在高空铁索行走就吓得不得了

B. 地球绕着太阳转

C. 生来便失明的人不会成为画家

D. 人缺少氧气就不能生存

61. 制度化, 指在定型的社会生活规范、风俗习惯、礼节仪式和政令法律纪律的基础上, 人们将某种行为模式、行为规范内在化和习惯化, 从而当他们以某种社会角色出现时, 自觉不自觉地按这种行为模式和行为规范行事的现象。下列不属于制度化的一项是 ()

A. 天安门每天升国旗的时间与太阳升起的时间一致

B. 以后开班会每人都必须自带凳子

C. 初恋之中的他们俩隔三差五地去看电影

D. 每年祭神的时候, 都要从村民中选出一位主祭来念祷文, 主持活动

62. 系统, 指相互关联、制约和依赖的若干组成要素 (元素、部分), 按一定的秩序相结合, 并在一定环境之中组成具有特定功能的有机整体。下列不属于系统的一项是 ()

A. 人体的各种器官所构成的体系

B. 学校的各种机构协作的体系

C. 水杯被买回来装东西的概率

D. 政治主体与客体及环境的相互作用

63. 充分授权, 也叫一般授权, 是指上级行政主体在下达任务时, 只发布一般工作指示, 而非指派特定的事务, 允许下属自己决定行动方案, 并能进行创造。下列不属于充分授权的一项是 ()

A. 柔性授权, 即领导者对工作不作具体安排, 仅指示出一个大纲或轮廓, 下属可随机应变, 因地制宜地处理工作, 有比较大的自由

B. 模糊授权, 即授权者一般不明确地说清工作的事项与范围, 只指示所要达

《2011 年公务员考试行测考试 100 套华图真题》

到的任务和目标，被授权者自由去选择完成的具体途径

C. 惰性授权，即领导者把自己不愿处理的纷乱繁琐事务交托给下属处理

D. 刚性授权，上级对下级的工作范围，内容，就达到的绩效目标都有详细规定

64. 无效婚姻，是指欠缺婚姻成立条件的男女结合情形，它包括违反法定条件的无效婚姻和违反法定程序的婚姻。结婚的法定条件为：①必须男女双方完全自愿；②必须达到法定婚龄；③必须符合一夫一妻制。结婚程序大致分为申请、审查、登记三个环节。根据上述定义，下列属于无效婚姻的是（ ）

A. 两个 70 多岁的老人因同时丧偶失去照顾，遂登记后结为夫妻

B. 小林与三姐青梅竹马，但双方父母都很反对这门亲事，于是二人毅然私奔过上了事实上的夫妻生活

C. 一个 50 岁的中年画家娶了一个 27 岁的女青年为妻，生活幸福

D. 张大哥与冯二姐的婚姻是父母找人撮合的，但也经过了他们个人的同意

65. 行政实施，是指从行政决策一经形成或最后批准时起，行政机关及其工作人员贯彻决策、实施决策的全部活动或整个过程。（ ）

A. 行政部门为推行一项决策，检查行政决策是否与有关法律法规相抵触

B. 行政部门执行政策时遇上国庆，放假休息

C. 行政部门准备执行救灾措施所需要的经费和物资装备

D. 为推动群众爱城自觉行动，县政府召开动员大会，发布动员令

第三部分结束，请继续做第四部分！

第四部分基础知识

（共 20 题，参考时限 10 分钟）

本部分试题为不定项选择，错选、多选、少选均不得分，但也不倒扣分。

66. 国家教育部与各省、自治区、直辖市的教育厅之间属于（ ）

A. 平行关系 B. 不相隶属的关系

C. 业务指导关系 D. 隶属关系

67. 宪法的特征主要有（ ）

A. 宪法具有最高效力

B. 宪法规定国家的根本性问题

C. 宪法的制定要通过特定的程序

D. 宪法的修改要通过特定的程序

68. 从唯物辩证法的观点来看，水果与苹果、梨子、香蕉之间的关系是（ ）

A. 整体与部分的关系

B. 共性与个性的关系

C. 多数与少数的关系

D. 质量和数量的关系

69. 依《民法通则》规定，我国公民的住所是（ ）

A. 公民户籍所在地

B. 公民的经常居住地

C. 公民的实际滞留地

D. 公民的居所地

70. 民族自治地方的人民代表大会有权按照当地的民族的政治、经济和文化的特点制定（ ）

A. 地方性法规 B. 行政法规

《2011 年公务员考试行测考试 100 套华图真题》

- C. 单行条例 D. 自治条例
71. 公文结尾的方式很多, 最常用的主要有 ()
- A. 专用术语垫后 B. 介绍制发公文的内容及背景
- C. 强调重申式 D. 交待施行时间或处罚措施
72. 下列国家中, 被 1997 年亚太经合组织温哥华会议正式吸收为成员国的是 ()
- A. 柬埔寨 B. 巴西 C. 俄罗斯 D. 秘鲁
73. 社会道德是做人的根基, 是为人最起码的要求. 中共中央印发《公民道德建设实施纲要》在全社会大力提倡的公民基本道德规范, 不仅包括爱国守法, 还包括 ()
- A. 明礼诚信 B. 团结友善 C. 勤俭自强 D. 敬业奉献
74. 十六大报告指出, 有条件的农村可按照 () 的原则进行土地承包经营权流转
- A. 依法 B 自愿 C. 互惠 D. 有偿
75. 坚持“三个有利于”标准, 有利于 ()
- A. 解放思想, 敢于实践
- B. 少搞争论、多干实事
- C. 否定阶级斗争存在论
- D. 坚持党的基本中级不动摇
76. 到目前为止, 人类成功发射了 4000 多颗卫星, 这些卫星大多数用于 ()
- A. 军事目的 B. 通信目的 C. 科研目的 D. 气象观测
77. 俗话说: “人有旦夕祸福, 月有阴晴圆缺. 月亮的圆缺变化是由 () 引起的
- A. 地球的自转 B. 地球的公转
- C. 月球的自转 D. 月球绕地球的公转
78. 海洋资源包括 ()
- A. 生物资源 B. 矿产资源 C. 化学资源 D. 水力资源
79. 为什么许多鸟全都停在电线上却很安全 ()
- A. 因为这些鸟只站在一根电线上
- B. 因为这些鸟是绝缘体
- C. 因为鸟的体积很小
- D. 因为鸟的爪子与人不同
80. 近些年来, 用激光治疗得到迅速发展. 其不可能的原因是 ()
- A. 用激光治疗可使病人不出血或少出血
- B. 激光治疗作用区域小
- C. 不伤害周围的健康组织
- D. 激光治疗比常规方法花费低
81. 行政许可的申请可通过以下方式提出 ()
- A. 信函 B. 电报和电传 C. 传真 D. 电子邮件
82. 行政机关作出准予行政许可的决定, 应当自作出决定之日起多少天内向申请人颁发, 送达行政许可证件, 或者加贴、加盖检验、检测、检疫印章。()
- A. 3 B. 5 C. 7 D. 10
83. 行政机关作出准予行政许可的决定, 根据民事诉讼的规定, 向申请人送达的方式有 ()

《2011 年公务员考试行测考试 100 套华图真题》

A. 直接送达 B. 留置送达 C. 委托送达 D. 邮寄送达

84. 行政机关依法办理有关行政许可注销的手续有 ()

A. 行政许可有效期满未延续的

B. 赋予公民特定资格的行政许可, 该公民死亡或丧失行为能力的

C. 法人或其他组织依法终止的

D. 因不可抗力导致行政许可无法实施的

85. 对行政机关行使权力的监督, 按照监督的来源划分有外部监督和内部监督, 下列属于外部监督的有 ()

A. 国家权力机关对行政机关监督

B. 司法机关对行政机关的监督

C. 审计监督

D. 监察机关的监督

第四部分结束, 请继续做第五部分!

第五部分 资料分析

(共 15 题, 参考时限 15 分钟)

所给出的图、表或一段文字均有 5 个问题要你回答。你应根据资料提供的信息进行分析、比较、计算和判断处理

请根据下表回答 86-90 题

法国文官数目变化 单位: 千人

年份 工业类 非工业类 共计 (空缺)

86. 根据上表所列可以得知, 法国文官可以划分为 ()

A. 工业类和非工业类

B. 农业类和非农业类

C. 政务官和事务官

D. 专业类和非专业类

87. 1981 年, 法国工业类文官比非工业类文官少多少? ()

A. 390 人 B. 3900 人 C. 39000 人 D. 390 千人

88. 以下说法不正确的是 ()

A. 1980 年到 1987 年, 法国工业类文官逐年下降

B. 1980 年到 1987 年, 法国非工业类文官逐年下降

C. 1980 年到 1987 年, 法国政府机构不断精简

D. 1983 年法国共有文官 666000 人

89. 法国文官精简人员最多的年份是 ()

A. 1980 年 B. 1981 年 C. 1984 年 D. 1986 年

90. 1986 年法国文官比 1985 年减少多少人? ()

A. 25 万人 B. 2.5 万人 C. 2500 人 D. 2.5 千人

请根据下图回答 91-95 题

91. 我国国务院 (含政务院) 机构最多时达到多少个? ()

A. 81 B. 79 C. 99 D. 59

92. 我国国务院 (含政务院) 机构最少时是在哪一年? ()

A. 1949 年 B. 1955 年 C. 1970 年 D. 1993 年

93. 新中国成立之初, 我国政务院所属机构有多少个? ()

A. 35 B. 64 C. 81 D. 60

94. 我国 1982 年机构改革, 共精简国务院机构多少个? ()

《2011 年公务员考试行测考试 100 套华图真题》

A. 61 B. 31 C. 38 D. 无法确定

95. 以下说法正确的是 ()

A. 新中国成立以来,我国对国务院机构进行了多次精简

B. 与 1959 年相比,1965 年国务院机构增加了 19 个

C. 我国国务院机构沿革呈“精简—膨胀一再精简一再膨胀”的状态

D. 以上说法都正确

请根据下面的文字资料回答 96-100 题

据统计,1985 年北京市建筑企业共完成总产值 47.2 亿元,比上年增长 31.5%(扣除价格因素的影响,实际增长 22.2%。其中,中央在京施工企业完成 8.2 亿元,比上年增长 28%,地方全民所有制施工企业完成 24.1 亿元,比上年增长 24.4%,特别是地方集体所有制施工企业发展更快,完成总产值 14.9 亿元,比上年增长 47.3%。全市建筑企业按总产值计算的全员劳动生产率为 7743 元,比上年提高 13.4%。(扣除价格因素影响则提高 6%)。全员平均产值达到万元以上的企业,由上年的 20 个增加到 55 个。市建筑工程总公司所属二公司、四公司和设备安装公司,门头沟区建筑公司,市水利工程二处,水利机械施工处等 12 个企业的全员劳动生产率超过了 15000 元,扣除价格因素影响,北京市 1985 年建筑企业总产值

96. 比 1984 年实际增长多少? ()

A. 31.5% B. 22.2% C. 28% D. 24.4%

97. 与 1984 年相比,1985 年北京市哪一种类型的施工企业其产值增长速度最快? ()

A. 中央在京施工企业

B. 地方全民所有制施工企业

C. 地方集体所有制施工企业

D. 无法确定

98. 1985 年,全员平均产值达到万元以上的施工企业比 1984 年增加了多少个? ()

A. 20 B. 55 C. 35 D. 12

99. 1985 年,北京市哪一种类型的施工企业其产值所占全市当年建筑业总产值的比重最大? ()

A. 中央在京施工企业

B. 地方全民所有制施工企业

C. 地方集体所有制施工企业

D. 无法确定

100. 北京市建筑工程总公司所属四公司 1985 年全员劳动生产率为 ()

A. 7743 元 B. 10000 元 C. 接近 15000 元 D. 15000 元以上

全部测验到此结束

参考答案

第一部分 数量关系

1-5: DAACA 6-10: CACAD 11-15: ADAAA

第二部分 言语理解与表达

16-20: CDBCA 21-25: DDAAB 26-30: ACCBB 31-35: BBCAB

第三部分 判断推理

36-40: BCCBA 41-45: DCDBA 46-50: CDACA 51-55: CACDC

《2011 年公务员考试行测考试 100 套华图真题》

56-60: ACDA 61-65: CCDBB

第四部分 基础知识

66-70: C, ABCD, AB, AB, ACD 71-75: CD, CD, ABCD, ABD, ABD

76-80: A, D, ABCD, D, CD 81-85: ABCD, D, ABCD, ABCD, ABD

第五部分 资料分析

86-90: ADBBB 91-95: CCACD 96-100: BCCBD

山东 05 年公务员考试行政职业能力测试题

2007 年 03 月 30 日 17:11 [我来说两句(3)] [字号: 大 中 小]

第一题:

有从 1 到 8 编号的 8 个球, 有两个比其他的轻 1 克, 用天平称了三次, 结果如下: 第一次 $1+2>3+4$ 第二次 $5+6<7+8$ 第三次 $1+3+5=2+4+8$, 求轻的两个球的编号!

选项: A: 1 和 2 B: 1 和 5 C: 2 和 4 D: 4 和 5

这个题很简单, 答案是 D

第二题: 有两个班的小学生要到少年宫参加活动, 但只有一辆车接送。

第一班的学生做车从学校出发的同时, 第二班学生开始步行; 车到途中某处, 让第一班学生下车步行, 车立刻返回接第二班学生上车并直接开往少年宫。学生步行速度为每小时 4 公里, 载学生时车速每小时 40 公里, 空车是 50 公里/小时, 学生步行速度是 4 公里/小时, 要使两个班的学生同时到达少年宫, 第一班的学生步行了全程的几分之几? (学生上下车时间不计)

A: $1/7$ B: $1/6$ C: $3/4$ D: $2/5$ 这题的答案 我觉得是 C

分析: 假设在第一班同学下车后, 车没有使用时间的到了第二班的地点, 然后和一班的同时到了少年宫, 那么 1 班步行的路程是 $1/2$, 而加上车返回的时间, 只有 C 是大于 $1/2$ 的! 具体的做法懒的想了! -

第三题: 奥运五环标志。这五个环相交成 9 部分, 设 A-I, 请将数字 1—9 分别填入这 9 个部分中, 使得这五个环内的数字之和恰好构成 5 个连续的自然数。那么这 5 个连续自然数的和的最大值为多少。

A: 65 B: 75 C: 70 D: 102

分析: $A+8$ 、 $B+C+D$ 、 $D+E+F$ 、 $F+G+H$ 、 $H+I$

五个环数字相加, 就是求 $(A+C+E+G+I) + 2(B+D+F+H)$ 最大值

也很简单的: 把 BDFH 赋予 6、7、8、9 然后相加得到本题答案: 75

第四题: 正方形的面积是 1 平方厘米, 其他点都是它所在边的重点, 求阴影三角形的面积! 画不出图来, 就不写了! 答案是 C: $3/32$

第五题、把自然数按由小到大的顺序排列起来组成一串数: 1、2、3、4、5、6、7、8、9、10 等, 把这串数中两位以上的数全部隔开成一位数字, 形成第二串数: 1、2、3、9、1、0、1、1、-, 则第一串中 100 的个位数字 0 在第二串数中的第几个数?

A: 188 B: 198 C: 192 D: 202

这个题也不难。

从 1 到 9 共 9 个数

从 10 开始到 99 共 90 个数

100 的个位数是最后的一个 0 再加上 3

答案是 192

《2011 年公务员考试行测考试 100 套华图真题》

第六题, 10000 本书发给前获奖的前五名, 名次在前的代表队获奖的本数多, 且每一名次的奖品都是 100 的整数。如果第一名所得的本数是第二名与第三名所得的本数之后, 第二名所得的本书是第四名与第五名的本数之和, 那么第三名最多可以获得多少本?

A: 1600 B: 1800 C: 1700 D: 2100

第七题: 抓奖的。有三个白球、三个黑球, 放在一个袋子里, 让人摸球中奖。2 元一次, 一次能抓三个。如果全是白球, 可得到 10 元, 那么中奖的概率是多少, 如果一天有 300 人摸奖, 摊主能骗走多少元?

A: $1/40$, 350 B $1/20$, 400 C $1/30$ 420 D $1/10$ 450

这个题也很简单! 学过概率的考生一眼就能看出来! 答案是 B, 不赘述了! 并且这个题出的不够严谨, 应该是摸了 300 次, 而不是 300 个人摸!

第八题: 两人合养了 n 羊, 到一定时间后, 全部卖出后, 平均每只羊正好卖了 n 元。两人商定平分这些钱。由甲先拿 10 元, 再由乙拿 10 元, 然后再是甲,, 最后甲拿过之后, 剩下的不足 10 元, 问: 甲应该给乙多少元?

A: 8 B: 2 C: 4 D: 6

排除法剩下 BC

考虑到从 1 到 9 这些数的平方没有得 4 的!

只可能的结果是 $4*4=16$ 或者 $6*6=36$

所以这个题选 B

第九题: 甲乙丙三个班向希望工程捐赠图书, 甲班有 1 人捐 6 本, 有 2 人各捐 7 本, 其余的捐 11 本; 乙班有 1 人捐 6 本, 有 3 人捐 8 本, 其余捐 10 本; 丙班 2 人捐 4 本, 6 人捐 7 本, 其余各捐 9 本, 甲班比乙班多 28, 乙班比丙班多 101 本, 各班捐书总数在 400-500 之间, 求三个班人数。

A: 48, 50, 53 B: 49, 51, 53 C: 51, 53, 49 D: 49, 53, 51

第十题: 某公共汽车从起点开往终点站, 途中共有 13 个停车站。如果这辆公共汽车从起点站开出, 除终点站外, 每一站上车的乘客中, 正好各有一位乘客从这一站到以后的第一站。为了是每位乘客都有座位, 那么, 这辆公共汽车至少应有多少个座位? ?

A: 48 B: 52 C: 56 D: 54

第 11 题: 往一个圆柱体容器里注水, 已知容器地面半径为 10cm, 高为 40cm, 当注入水柱高为 h , 水柱高由低到高变化时, 水柱体积 v (cm 的平方) 也随之发生变化, 下列说法中, 不正确的是:

A: v 和 h 都是变量。

B: h 是自变量, v 是因变量。

C、 v 和 h 之间的关系可为 $v=100\pi h$

D: $v=150\pi \text{cm}$ 立方时, $h=25\text{cm}$ 。

E: 当 h 是 40cm 时, v 最大为 400π , 此时不能再注入水。

第 12 题: 有一路电车从甲站开往乙站, 每 5 分钟发一趟, 全程走 15 分钟。有一人从乙站骑自行车沿电车路线去甲站。出发时, 恰好有一辆电车到达乙站, 在路上他又遇到了 10 辆迎面开来的电车, 到站时恰好有一辆电车从甲站开出, 那么, 他从乙站到甲站共用多少分钟? 11463045

A: 40 B: 6 C: 48.15 D: 45

第 13 题: 用铁皮剪成两个三角形:

1、如果剪成顶角相等, 并且有一条腰相等的两个等腰三角形, 则他们全等。

《2011 年公务员考试行测考试 100 套华图真题》

2、如果都有一个角等于 42° ，且有两边相等，则他们全等。

3、如果剪成的三角形 ABC 和三角形 A1B1C1 中，角 C=角 C1= 90° ，那么不论是 $BC=B1C1$ ， $AC=A1C1$ ，还是 $BC=A1C1$ ， $AC=B1C1$ ，所剪的两个三角形都。

上面说法正确的是：

A: 1 B: 2 和 1 C: 2 和 3 D: 1 和

第 14 题：机床厂有四个车间，其中第二个车间的职工人数比第一个车间人数的 $\frac{2}{3}$ 多 48 人，而比第三车间人数的 $\frac{5}{4}$ 倍少 15 人，且已知第一车间的人数比第三车间人数多 14 人，又知第四车间人数站全厂总人数的 $\frac{2}{5}$ ，那么机床厂总人数是多少。

A: 620 B: 670 C: 590 D: 710

第 15 题：如图， $AD=DB=DC=10\text{cm}$ ，那么，图中阴影部分的面积是多少平方米？

A、109 B、110 C、107 D、110.25

第 66 题：某消费者的下列行为中，属于货币执行支付手段职能的有：A: 购买商品房，合同约定 30 万 B: 按购房合同约定，第二年付房款 10 万元。 C: 缴纳房屋契税 9000 元。D: 在装饰材料市场现购材料 5 万元。E: 支付车库租金 200 元。

第 67 题：2005 年“中央一号文件”再次锁定“三农”，从去年的“促进农民增收”到今年

A: 提高农业综合生产能力。

B: 稳定和完善土地联产承包责任制。

C: 加大农村产业结构调整。

D: 冻结非农占地审批。

E: 加快农村剩余劳动力转移。

第 68 题：下列争议中，不可提起行政复议的有：

A: 中纪委作出的具体处理决定。

B: 国家发改委所制定的规章。

C: 济南市人民政府作出的具体处理决定。

D: 某民族自治县人大指定的自治条例。

第 69 题：市场经济之所以需要国家加强宏观调控，是因为市场调节存在着固有的弱点和缺陷，具体表现在市场调节的：

A: 自发性 B: 竞争性 C: 盲目性

D: 滞后性 E: 不确定性

第 70 题：温家宝总理在十届人大三次会议所作的《政府工作报告》中强调，要加快政府自身改革和建设步伐。下列选项属于采取的措施是：

A: 深化政府机构改革。

B: 加快转变政府职能。

C: 改进经济管理方式方法。

D: 努力建设管理与服务型政府。

E: 提高政府办事效率。

第 71 题：我国现阶段按生产要素分配取得的收入有

A: 股份公司股票持有者的股息投入。

B: 股份合作制经济的投资分红收入。

C: 集体企业职工的工资资金收入。

《2011 年公务员考试行测考试 100 套华图真题》

D: 房产出租者取得的租金收入。

E: 科研人员的成果转让收入。

第 72 题: “三个代表”重要思想标志着我们党的认识达到了一个新高度, 主要是指深化了

A: 对共产党执政规律的认识。

B: 对改革开放规律的认识。

C: 对社会主义建设规律的认识。

D: 对人类社会发 展规律的认识。

第 73 题: 党的先进性是具体的、历史的, 理解党的先进性必须

A: 放到推动当代中国先进生产力的发展中去考察。

B: 放到推动当代中国先进文化的发展中去考察。

C: 放到维护和保持社会稳定、人民团结的局面中去考察

D: 放到维护和实现最广大人民的根本利益中去考察。

E: 要看党在推动历史前进中的实际作用。

第 74 题: 我国成功地将杂交技术应用于水稻育种, 并提出了三系育种理论, 极大地丰富了遗传育种理论。其中“三系”是指

A: 不育系 B: 保持系 C: 发展系

D: 恢复系 E: 生长系

第 75 题: 我国国家公务员与所在国家机关之间的职务关系是一种

A: 单方的行政法关系。

B: 双方的行政法关系。

C: 内部行政法关系。

D: 民事法律关系。

第 76 题: 我国航天技术达到世界先进水平的有

A: 卫星回收技术。

B: 多级火箭分离技术。

C: 载人航天技术。

D: 一箭多星技术。

E: 通讯卫星制造技术。

第 77 题: 构成我国国家创新体系的主要部分有

A: 创新资源 B: 创新机构 C: 创新机制

D: 创新环境 E: 创新体制

第 78 题: 我国有权没收用来制造假冒和盗版产品设备及其他侵权证据的部门有:

A: 国家工商行政管理局

B: 国家版权局

C: 国家文化部

D: 国家质量监督检验检疫总局

E: 国家新闻出版署

07 国家公务员考试行测数字推理真题解析

[来源: 华图公务员]

桑业龙今天中央机关及其直属机构招考公务员结束以后, 很多考生反映题目

《2011 年公务员考试行测考试 100 套华图真题》

较之去年，难度明显增加。特别是数字推理部分，耽误了大量的时间，最后还有一些题目没做出来。

但是在和华图学员交流中，他们反映尽管题目较难，但只要按照华图辅导班老师教的方法去思考，很快就能找到规律，得出答案。

我在讲课中讲到，数字推理其实不难，每一道题目都有规律，寻找这个规律关键要从数列本身和四个备选答案出发，仔细观察数列的项数多、少、，数字的大、小，以及数字自身有何特点，这样 5 秒内就可以确定正确的解题思路。

下面用我讲的解题方法，来分析一下 2007 年中央机关公考的 5 道题目。

第 41 题：2 12 36 80 ()

A. 100 B. 125 C. 150 D. 175

拿到题目一眼可以看出四个选项中最大的数字和 80 相差不大，里面必然包含加法运算，而且题干中的数全是偶数，就可以知道必须用组合或加法的变化。可以把此数列拆成 2×1 、 3×4 、 4×9 、 5×16 下一个必然是 6×25 ；或者可以看成 $13 + 1$ 、 $23 + 22$ 、 $33 + 32$ 、 $43 + 42$ 下一个必然是 $53 + 52$ 。故答案选 C。

第 42 题：1 3 4 1 9 ()

A. 5 B. 11 C. 14 D. 64

题目明显特征就是全是个位数，而且数字大小没规律，我在讲课中已讲到的，很明显就是减法的变化。相邻两项的差的平方等于后一项。故选 D。

第 43 题：0 9 26 65 124 ()

A. 165 B. 193 C. 217 D. 239

这道题是老题，国家机关和地方招考公务员过去都考到过的题目，只不过稍加变化而已。就是立方规律的变化，每一项增加或减少 1 就构成了一个立方数列。我讲稿上有这个例子。答案选 C。

第 44 题：0 4 16 40 80 ()

A. 160 B. 128 C. 136 D. 140

题目四个选项的最大数和 80 相差不大，故可以用减法，三级等差。答案选 D。

第 45 题：0 2 10 30 ()

A. 68 B. 74 C. 60 D. 70

这道题目项数比较少，选项和 30 相差不大，且都是偶数，规律非常明显，和第一题解题思路可以完全相同。可以把此数列拆成 0×1 、 1×2 、 2×5 、 3×10 下一个必然是 4×17 ；或者可以看成 $03 + 0$ 、 $13 + 1$ 、 $23 + 2$ 、 $33 + 3$ 下一个必然是 $43 + 4$ 。故答案选 A。

此外，数学运算完全在基础班和冲刺班给出的范围之内，都是一些老题目。像第 49 题，考的就是抽屉原理，对大多数学员可能较生疏，而我给学员的十几题重点附加题上就有这个题目。

2007 年中央国家机关公务员行测变化分析

[来源: 中公网]

一、行测的总体变化情况

1、试卷结构与题量发生变化

(1)、总题量由于 135 题变化为 140 题

(2)、言语理解由去年的 30 题变化为 40 题

《2011 年公务员考试行测考试 100 套华图真题》

- (3)、图形推理由去年的 10 题减少为 5 题
- (4)、逻辑题量由去年的 15 题减少 10 题
- (5)、常识题量由去年的 20 题增加到 25 题

2、试卷综合难度增大

数学计算与资料分析难度有所增加，其余部分难度变化不大，但题型变化较为丰富，总的来讲试卷的综合难度增大。

3、试卷内容考核面增大

4、更加注重基础能力、分析能力考查

二、分题型情况来看

1、言语理解与表达

特点：题型分为两部分，片段阅读 20 题、选词填空 20 题。考查内容广泛，提问形式较为丰富。

例 2007 年真卷第 2 题：

在今天的商业世界中，供过于求是普遍现象。为了说服顾客买自己的产品，大规模竞争就在同类商品的生产企业之间展开了。他们得经常设法向消费者提醒自己产品的名字和优等的质量。这就需要靠广告。对这段文字概括最恰当的是：

- A. 广告是商业世界的必然产物
- B. 各商家之间用广告开展竞争
- C. 广告就是要说服顾客买东西
- D. 广告是经济活动中供过于求的产物

这是一个概括题型的考查，A 过于绝对，BC 不是强调的重点，所以选 D。

例 2007 年真卷第 3 题：

空间探索自开始以来一直受到指责，但我们已经成功的通过卫星进行远程通信、预报天气、开采石油。空间探索项目还会有助于我们发现新能源和新化学元素，而那些化学元素也许会帮助我们治愈现在的不治之症。

这段文字主要告诉我们，空间探索：

- A. 利弊并存 B. 可治绝症 C. 存在争议 D. 意义重大

显然本题告诉我们的是空间探索的意义，所以选 D。

2、数字推理

特点：重点考查基本题型与基本能力，考了三个多次方变化，两个三级等差，一个项数相加，还有第 42 题存在不同答案 AD。

41. 2 12 36 80 ()

- A. 100 B. 125 C. 150 D. 175

C 正确。

42. 1 3 4 1 9

- A. 5 B. 11 C. 14 D. 64

AD 正确。

43. 0 9 26 65 124

- A. 165 B. 193 C. 217 D. 239

C 正确。

44. 0 4 16 40 80

- A. 160 B. 128 C. 136 D. 140

A 正确。

45. 0 2 10 30

《2011 年公务员考试行测考试 100 套华图真题》

A. 68 B. 74 C. 60 D. 70

A 正确。

3、数学运算

特点：考查基本方法+新题型

46. 某高校 2006 年度毕业学生 7650 名，比上年度增长 2%，其中本科生毕业数量比上年度减少 2%，而研究生毕业数量比上年度增加 10%，那么，这所高校今年毕业的本科生有：

A. 3920 人 B. 4410 C. 4900 人 D. 5490 人

采用方程法或代入法：

方程法：设今年 X 为本科生，Y 为研究生。

则 $X+Y=7650 \times 0.98$ $0.98X+1.1Y=7650$

解得 $X=5000$ ，则所求为 $5000 \times 0.98=4900$ 选项 C。

49. 从一副完整的扑克牌中，至少抽出（ ）张牌，才能保证至少 6 张牌的花色相同。

A. 21 B. 22 C. 23 D. 24

抽屉原理：选 C。

60. 有一食品店某天购进了 6 箱食品，分别装着饼干和面包，重量分别为 8，9，16，20，22，27 公斤，该店卖了一箱面包，在剩下的 5 箱中，饼干的重量是面包的两倍，则当天的食品店购进面包（ ）公斤。

A. 44 B. 45 C. 50 D. 52

代入法选 D。

4、类比推理

特点：总体难度不大，注意细微区分即可。

76、太空：卫星

A. 铁轨：火车 B. 公路：自行车 C. 机场：直升飞机 D. 城市：公共汽车
选 D。

77. 阳光：紫外线

A. 电脑：辐射 B. 海水：氯化钠 C. 混合物：单质 D. 微波炉：微波
选 B。

78. 正方形：边长

A. 矩形：对角线 B. 菱形：高 C. 圆形：半径 D. 三角形：底边
选 C。

5、逻辑

特点：难度明显降低，考查的实际上是言语型逻辑，而非纯逻辑。

86. 许多上了年纪的老北京都对小时候庙会上看到的绝活念念不忘，如今，这些绝活有了更为正式的称呼——民间艺术。然而，随着社会主义现代化进程加快，中国民俗文化面临前所未有的生存危机。城市环境不断变化，人们兴趣及爱好快速分流和转移，加上民间艺术人才逐渐消失。这一切都使民间艺术发展面临困境。

从这段文字可以推出：

- A. 市场化是民间艺术的出路
- B. 民俗文化需要抢救性保护
- C. 城市建设应突出文化特色
- D. 应提高民间艺术人才的地位

解析：显然 ACD 都是材料没有提及的，所以只有选 B。

《2011 年公务员考试行测考试 100 套华图真题》

6. 常识

(1)、严格遵照考试大纲要求,全部常识均为法律常识;不涉及公共基础知识、人文科技等常识。

(2)、考核范围广,除以往常考的宪法、行政诉讼法、行政复议法、行政处罚法、刑法、民法,以及最新的公务员法,还考查了刑事诉讼法、民事诉讼法、仲裁法、商标法、对外贸易法、国家保密条例等。大量的题目具有综合性,一道题往往考查几个知识点。

(3)、常考的法律考核的较深,而对于不长考核的法律则考查的较为基础;

(4)、总体上属于常识性考查,个别题目专业性较强,干扰项的干扰性不是很强,只要能掌握相关的基础知识,并不难作出选择判断。

考核范围广

常识判断

96、民族区域自治制度、特别行政区制度是我国宪法制度中具有自身特色的两项制度,下列对这两项制度的表述不正确的是:

- A 民族自治地方包括自治区、自治州、自治县
- B 自治区可以制定自治条例、单行条例,报全国人大常委会批准
- C 特别行政区行政长官通过选举或协商产生,由中央人民政府任命
- D 特别行政区的高度自治包括立法权、行政管理权、独立的司法、终审权、独立的外交权。

选 D。

97、小李是某工商局副局长,因工作需要派到某国有企业担任一定职务,在该国有企业工作时间为一年,工作期间其人事行政关系仍在原单位,这种公务员交流方式称为:

- A 调任 B 转任 C 轮岗 D 挂职锻炼

选 D

98、我国宪法规定了公民的基本权利和义务,公民在法律面前一律平等。下列关于公民基本权利的表述不正确的一项是:

- A 国家培养和选拔妇女干部,实行男女同工同酬
- B 年满 18 周岁、未被剥夺政治权利的中国公民均享有选举权和被选举权
- C 社会、经济、文化教育方面的权利不包括公民在年老、疾病、丧失劳动能力时的物质帮助权
- D 国家保护华侨的正当权益,保护归侨和侨眷的合法权益

选 C。

100 下列规范性文件中不得设定行政许可的是:

- A 法律 B 县级政府的决定 C 行政法规 D 地方性法规

选 B。

7、资料分析

综合难度明显加大,关键强调通过对给定材料的分析找到相关的运算关系。

《2011 年公务员考试行测考试 100 套华图真题》

2007 年已经将“演绎推理”改为“逻辑判断”，表述更加科学，更加符合考题的实际，也将对考生的逻辑基础知识提出更高的要求。

一、对当关系的判断

根据逻辑方阵中的矛盾关系，可以从一个直言命题为真推出与该直言命题具有矛盾关系的命题为假，也可以从一个直言命题为假推出与该直言命题具有矛盾关系的命题为真。

即一个直言命题和一个与其具有矛盾关系命题的否定之间可以互相推出。

例：某珠宝商店失窃，甲、乙、丙、丁四人涉嫌被拘审。四人的口供如下：

甲：案犯是丙。

乙：丁是案犯。

丙：如果我作案，那么丁是主犯。

丁：作案的不是我。

四个口供中只有一个是假的。

如果以上断定为真，则以下哪项是真的？（ ）（2004 年中央 A 类真题）

- A. 说假话的是甲，作案的是乙 B. 说假话的是丁，作案的是丙和丁
C. 说假话的是乙，作案的是丙 D. 说假话的是丙，作案的是丙

正确答案 B。

解析：应用直言命题的矛盾关系来解题，互为矛盾的两个命题必有一真一假，上述命题中乙和丁是互为矛盾的命题，可见必有一假一真，而题干说明四个人的口供只有一个是假的，那么可以断定甲和丙就说的真话。由甲说的是真话，可推出案犯是丙；由丙说的是真话可推出丁是主犯，可见丙是罪犯，丁是主犯，从而我们再来分析甲和丁之间谁说的是真话和假话，显然可以推断说假话的是丁，所以选择 B。

二、计算法

有些逻辑试题，需要考生首先进行必要的数字计算，尤其是当题干或备选项中出现了数据或者与数据有关的文字的时候。做这些题时，考生一定不要怕麻烦，如果考生动手计算计算，答案自然就出来了。

例：在国庆 50 周年仪仗队的训练营地，某连队一百多个战士在练习不同队形的转换。如果他们排成五列人数相等的横队，只剩下连长在队伍前面喊口令；如果他们排成七列这样的横队，只有连长仍然可以在前面领队；如果他们排成八列，就可以有两人作为领队了。在全营排练时，营长要求他们排成三列横队。

以下哪项是最可能出现的情况？

- A. 该连队官兵正好排成三列横队。
B. 除了连长外，正好排成三列横队。
C. 排成了整齐的三列横队，加有两人作为全营的领队。
D. 排成了整齐的三列横队，其中有一人是其他连队的。
E. 排成了三列横队，连长在队外喊口令，但连长临时排在队中。

解析：正确答案是 B。该题属于“逻辑运算型”，是“直接推论题”的一个特例。应该采用数字计算法来求解。这道题的关键在于算出连队的具体人数，题干中说一百多人，但具体是多少呢？根据题干，这个数字被 5 除还余 1，被 7 除也余 1，5 和 7 的公倍数是 35，往上是 70，105，140，175，等，所以这个数应该是 106 或者 141 或者 176。又根据题干，这个数被 8 除还余 2，于是该数只能是 106 了。由于 105 能被 3 除尽，所以 106 被 3 除后还余 1。

三、因果关系法

《2011 年公务员考试行测考试 100 套华图真题》

因果关系法是探求事物现象之间因果关系的逻辑方法，一般有五种方法即求同法、求异法、求同求异并用法、共变法、剩余法，有时几种方法需要综合运用。一般公务员考试常考的包括正向因果推理即题干论述了充分理由，要求运用合乎逻辑的方法在答案中寻找正确的结果。另一种是反向因果推理，题干给出了推理的结果，但理由不充分，需要在答案中寻找一个与题干结论有密切因果联系的理由补充进去，以构成一个严密的逻辑推理。

例：针对某种溃疡，传统疗法可在 6 个月内将 44% 的患者的溃疡完全治愈。针对这种溃疡的一种新疗法在 6 个月试验中使治疗的 80% 的溃疡取得了明显改善，61% 的溃疡得到了痊愈。由于该试验只治疗了那些病情比较严重的溃疡，因此这种新疗法显然在疗效方面比传统疗法更显著。

为更好的对比两种疗法的效果，还需要补充的证据是：（2005 年中央甲类真题）

- A. 这两种疗法使用的方法有何不同
- B. 这两种疗法的使用成本是否存在很大差别
- C. 在 6 个月中以传统疗法治疗的该种溃疡的患者中，有多大比例取得了明显改善
- D. 在参加 6 个月的新疗法试验的患者中，有多大比例的人对康复的比例不满意

正确答案 C。

解析：本题让补充比较两种疗法的效果的证据，属于反向因果推理型题目，可以采用因果关系法求解。从问题出发我们看题干，传统疗法 6 个月治愈溃疡患者 44%；新疗法 6 个月 80% 明显改善，61% 治愈。结论是新疗法比传统疗法在疗效方面更显著；而比较两者的疗效，是要比较二者的改善比例和治愈患者的比例，二者都有治愈情况，还应比较二者的明显改善比例情况。看选项，A、B、D 都不是说二种方法的疗效情况，只有 C 增加后能说明二者的疗效，所以选择 C。

金路专家谈行测法律常识之<合同法>要点

[来源: 北京金路公务员考试研究中心]

一、《合同法》的基本原则：

- A、平等原则 B、自愿原则 C、公平原则 D、诚实信用原则
- E、遵守法律、不损害社会公共利益原则

二、合同的订立

- 1、当事人——具有相应民事权利能力和民事行为能力的法人、组织和个人；
- 2、可以委托代理人订立合同；
- 3、形式：书面形式、口头形式、其它形式（推定形式——默示合同）
- 4、主要条款：
 - A、当事人的名称或者姓名和住所
 - B、标的 C、数量 D、质量 E、价款或者报酬 F、履行期限、地点和方式 G、违约责任 H、解决争议的方式
- 5、条款中注意的问题：
 - A、任何一个条款，必须清楚、明确、准确
 - B、合同标的的种类：有形财产、无形财产、劳务、工作成果
 - C、质量条款：国家有强制性标准规定的，必须按照规定的标准执行

《2011 年公务员考试行测考试 100 套华图真题》

D、履行地点：买卖合同中，买方提货的，履行地为提货地；卖方送货的，买方收货地为履行地；履行地的相应一级法院有管辖权。

合同履行地：购销合同中当事人对交货地点没有约定的，依交货方式确定合同履行地。采用送货方式的，以货物送达地为合同履行地；加工承揽合同，以加工行为地为合同履行地；财产租赁合同，以租赁物使用地为合同履行地；因保险合同纠纷提起的诉讼，如果保险标的物是运输工具或者运输中的货物，由被告住所地或者运输工具登记注册地、运输目的地、保险事故发生

E、解决争议的方式：通过诉讼解决争议的，可以不约定；如果通过其它途径解决争议的应在事先（合同中）或者事后（争议发生后）约定

6、格式条款：

A、不能加重对方的义务或减轻自己的义务

B、不能有两种以上不同的解释，如果有两种以上不同的解释，使用通常的解释；如不能作通常的解释，则对提供格式合同的一方使用不利的解释

C、提供格式合同的一方应提请对方注意免除或者限制其责任的条款

7、要约：

A、条件：要约的内容必须具有足以是合同成立的主要条件

B、要约邀请不是要约，但是商业广告的内容符合要约规定的视为要约

C、生效：到达主义

D、撤回：发出后、生效以前（到达以前）或同时

E、撤销：生效后。两种要约不得撤销——确定承诺期限或明示不可撤销的、对方有理由认为不可撤销并已经履行合同作了准备工作的

F、失效：对方否认、要约人撤销、对方在承诺期限内未作表示、对方提出反要约

8、承诺：

A、条件：收要约人作出、对要约人作出、与要约的内容一致、在有效期内作出（案例：某学校向商店要求购买 25 寸彩电，要求送货上门，货到付款；商店讲，给 19 寸的彩电如何？学校不作表示，商店将彩电送上门，并要求付款。问：学校有权拒绝收货并拒绝付款吗？回答该问题的关键是：合同成立吗？合同成立的标准是什么？有人作出承诺吗？）

B、方式：通知（口头、书面）、行为或其它形式

C、期限：在要约规定的期限内作出；如果要约中未规定期限则适用如下原则——对话方式，即时作出；非对话方式，在合理的时间内作出

D、生效：到达主义

E、撤回：到达以前或同时

9、合同成立的时间：

A、承诺生效时

B、合同书，签字或者盖章时

C、信件、数据电文，并要求签订确认书的，在确认书签订时

D、应采取书面形式，但未用书面形式，一方已经履行主要义务对方接受的，合同成立

E、采用合同书形式，签字盖章以前，一方已经履行主要义务对方接受的，合同成立

10. 合同成立的地点：

A、承诺生效的地点

《2011 年公务员考试行测考试 100 套华图真题》

B、数据电文形式，收件人的主营业地点或经常居住地

C、合同书形式，签字或者盖章的地点

11、缔约过失责任：

A、假借订立合同，恶意进行磋商的

B、故意隐瞒与订立合同有关的重要事实或者提供虚假情况

C、其它违背诚实信用原则的行为

有上述行为，导致合同不成立并给对方造成损失的，应当承担损害赔偿责任

12、合同的双方当事人可以在书面合同中协议选择被告住所地、合同履行地、合同签订地、原告住所地、标的物所在地人民法院管辖，但不得违反级别管辖和专属管辖的规定；

三、合同的效力

（一）基于“效力”标准对合同的分类

1、有效合同：必须履行，否则属于违约行为，应承担违约责任；

2、无效合同：法律不承认，不保护，当事人不得履行；正在履行，应终止履行；已经履行完毕，应将财产恢复原状；因为履行无效合同而给对方、第三人、国家或者社会公众造成损失的，将带来惩罚性的后果（如赔偿损失）；

3、效力待定的合同：限制民事行为能力人订立的合同、无权代理、无处分权人处分他人的财产

4、可撤销的合同：重大误解、显失公平、一方以欺诈、胁迫手段或者乘人之危订立合同

（撤销的法律效力：合同未被撤销，则有效；如不被撤销，则有效）

（二）无效合同的法律标准：

1、一方以欺诈、胁迫手段订立合同，损害国家利益；

2、恶意串通，损害国家、集体或者第三人的利益；

3、以合法形式掩盖非法目的；

4、损害社会公共利益；

5、违反法律、行政法规的强制性规定。

（三）可撤销的合同：

1、法律特征：被撤销前是有效的、意思表示不真实、通过撤销权的形式来实现、合同的变更可撤销应由法院或者仲裁机构作出；

2、合同的撤销不影响解决争议条款的效力；

3、撤销权行使的期间是一年。

（四）效力待定的合同：

1、法定代理人和被代理人追认的时间是 1 年；

2、在追认的期间内如果未作任何表示，视为否认，合同无效。

（五）合同生效的要件：

1、当事人具有相应的民事行为能力和民事权利能力；

2、意思表示真实；

3、不违反法律或者社会公共利益。

四、合同的履行

抗辩权

1、同时履行的抗辩权： A、互负债务的，无先后履行顺序的，一方不履行或履行不符合约定的，另一方有权拒绝履行的要求； B、条件：必须是双务合同；当事人约定应同时履行的合同；双方的债务已到清偿期；有对方未履行或未适当

《2011年公务员考试行测考试100套华图真题》

履行的证据；对方有履行的可能性； C、效力：暂时阻止对方请求权的行使，并非终止合同；对方履行合同后，自己的抗辩权就消灭；一方正确行使抗辩权致使合同迟延履行由对方承担。

2、后履行抗辩权： A、互负债务的，有先后履行顺序的，先履行一方不履行或履行不当的，后履行一方有权拒绝对方的履行要求； B、条件：双务合同，互负债务；有先后顺序；应当先履行一方未履行或履行不当；抗辩权的行使人是后履行一方； C、效力：暂时阻止当事人的请求权。

3、不安抗辩： A、互负债务，有先后履行顺序，先履行一方有证据证明另一方丧失履行债务能力时，对方未提供担保前，可以中止履行； B、条件（法定事由）：经营状况严重恶化；转移财产、抽逃资金，以逃避债务；丧失商业信誉；其它情形； C、适用：行使不安抗辩权的当事人给对方造成损失的，应承担违约责任； D、效力：中止合同的履行、解除合同

保全措施

1、代位权： A、债务人怠于行使其到期的债权（对第三人享有到期的非专属于债务人自身的债权）； B、债务人的这一行为给另一合同的债权人的到期债权造成损害； C、债权人可通过诉讼程序，通过法院以自己的名义代位行使债务人的债权。代位权的限制：同一债权不能重复行使代位权；行使代位权的债权人无优先受偿权；债权人行使代位权的费用，由债务人承担。

2、撤销权： A、合同的债务人一一放弃自己的到期债权、无偿转让财产、以明显不合理的低价转让财产且受让人知道该情形（非善意第三人），给债权人造成损害的，债权人可以请求法院撤销债务人的行为，撤销后，债务人的行为归于无效一一取得财产对方当事人应返还财产。 B、溯及力：债务人和第三人的行为自始无效； C、时效和期间：撤销权的行使时间是1年（与合同撤销的时间相同）；除斥期间是5年。 D、费用：由债务人负担。

五、合同的变更（协议变更）

1、时间：生效以后，履行完毕以前

2、原因：主客观情况发生变化

3、限制： A、主体不变（如果主体变更则为合同的转让） B、合同的性质和标的不变

4、方法：协商

5、约定不明确：推定为未变更

六、合同的转让：（事实上就是合同主体的变更）

1、合同权利的转让：

形式：合同权利的全部转让、合同权利的部分转让

效力：合同的权利全部转让的，原合同关系消灭，受让人取代原债权人的地位成为新的债权人；合同的权利部分转让的，原合同关系不消灭，受让人和原债权人共同享有债权；债务人对让与人享有同期或到期债权的，可以抵消；债务人对债权人（让与人）的抗辩，可以向债权人主张。

从随主：主权利转让的，从权利也随之转让（从权利专属于原债权人自身的除外）

不得转让的合同：

根据合同的性质不得转让（基于身份关系订立的合同一一抚养费、赡养费等；基于信任关系订立的合同一一委托合同、赠与合同、接受特定的医疗服务）；

根据当事人约定不得转让；

《2011年公务员考试行测考试100套华图真题》

法律规定不得转让（涉及国家及社会公共利益）；

程序：无需经原债务人同意，但应该通知债务人。通知不得撤销（经债务人同意的除外）；

2、合同义务的转让：

A、种类：合同义务的全部转让、合同义务的部分转让

B、效力：全部转让——新的债务人取代原债务人，承担全面履行义务的责任，享有全部的抗辩权；从债务也转移（专属于原债务人自身的除外）；部分转让——新债务人假如到原债务中，与原债务人共同承担债务。C、程序：债务人应当通知债权人，并征得债权人的同意，否则不发生效力。

3、合同权利义务的一并转让：A、程序：转让合同权利义务的一方应征得另一方的同意；B、限制性的规定：不得转让法律禁止的权利；

从权利一并转让（专属于自身的除外）不影响债务人抗辩权的行使

债务人对让与人享有债权的，可以主张抵消 必要时办理批准、登记手续。

七、合同的权利义务的终止（合同的消灭）

（一）合同权利义务终止的情形（法定事由）

1、履行终止 2、解除 3、抵消 4、提存 5、免除 6、混同 7、其它

（二）合同的解除

1、种类：协商解除、法定解除（单方解除、通知解除）

2、约定解除：

（1）、协商解除：A. 时间：合同生效后，履行完毕之前 B. 程序：协商一致 C. 限制：不能违反合同成立的条件、不能损害国家利益或社会公共利益

（2）约定解除权：A. 即约定行使解除权的条件，当条件成就时，一方当事人可以解除合同 B. 不得违反法律、行政法规的规定；不得违反社会公共利益；必要时（法律规定）要经有关部门的批准。

3、法定解除：（1）时间：合同生效后，履行完毕以前（2）解除权的行使者：合同中的任何一方当事人（3）法定事由：A. 因不可抗力致使不能实现合同的目的 B. 履行期限届满以前，当事人一方明确表示或自己的行为表示不履行主要义务 C. 当事人一方迟延履行主要债务，经催告后在合理的期限内仍未履行 D. 当事人一方迟延履行主要债务或者由其它违约行为致使不能实现合同的目的 E. 其他情形。（4）程序：通知，到达时生效；对方有异议的，请求法院或者仲裁机构确认（5）限制：必要时要经批准、登记（6）效力：尚未履行的终止履行；已经履行的，恢复原状、采取补救措施、赔偿损失；

不影响原合同中结算和清理条款的效力

4、抵消：A、当事人互负到期的债务，互享债权 B、通知 C、不得附条件和期限

5、提存：A、法定事由 B、通知债权人（下落不明除外）、继承人、监护人 C、风险、孳息、费用一并转移给债权人 D、债权人提取提存物的除斥期间是5年

6、免除：A、债权人放弃债权 B、从权利也随之消灭

7、混同：主要发生在当事人合并、以及继承关系中

8、其他：

代理人死亡、丧失民事行为能力时，委托代理关系中止（委托合同消灭）

八、违约责任（违反合同的责任）

1、针对有效合同

2、条件：A、合同履行期限届满时才能追究；

《2011年公务员考试行测考试100套华图真题》

B、但是，在履行期限届满前，一方明确表示或以自己的行为表面不履行义务的，对方在履行期限届满之前，也可以主张。

3、主要形式：继续履行、采取补救措施、赔偿损失、支付违约金、定金罚则、价格制裁、信贷制裁等。

继续履行：A、法定事由：一方未支付价款或报酬、一方不履行非金钱债务；

B、除外：不能履行（事实和法律上）；履行费用过高；债权人未请求。

补救措施：修理、更换、重作、退货、减少价款或报酬。仅仅针对履行质量不符合约定

赔偿损失：A、法定事由：一方违约、采取补救措施后对方还有损失的

B、额度：直接损失和间接损失（可得利益损失），不得超过违反合同一方订立合同时预见到或者应当预见到的因违反合同可能造成的损失。

支付违约金：A、违约金具有惩罚性：无论非违约方有无经济损失，违约方都应支付违约金；

B、违约金是经济补偿手段：违约金低于损失的，可以要求增加；违约金高于损失的，可以要求减少。

C、支付了违约金，就不能再要求赔偿损失；但是，不排除继续履行。

定金：A、定金罚则； B、定金和违约金不能并用； C、定金不能弥补损失的，可以请求赔偿损失。

免除：A、法定事由——不可抗力、 B、限制：迟延履行后发生不可抗力的不能免责；法律规定因不可抗力造成违约不能免责的，应承担无过错责任

专家谈行测法律常识之<仲裁法>考试要点

[来源：北京金路公务员考试研究中心]

一、不能仲裁事项

婚姻、收养、监护、扶养、继承、行政机关侵犯其合法经营自主权的纠纷等纠纷不能仲裁；依法应当由行政机关处理的行政争议不能仲裁。

二、仲裁的基本原则

（一）当事人意思自治原则。

裁的自愿原则体现：决定是否将争议提交仲裁；决定仲裁解决的争议事项；自愿选择仲裁机构和仲裁员；自愿选择仲裁地点；自愿选择仲裁规则或者仲裁适用的法律

（二）根据事实、符合法律、公平合理地解决纠纷的原则。

（三）独立公正原则。

（四）一裁终局原则是指（仲裁裁决作出后，当事人就同一纠纷再申请仲裁或者向人民法院起诉的，仲裁委员会或者人民法院不予受理）。

三、仲裁协议

（一）仲裁协议的内容：请求仲裁的意思表示；仲裁事项；选定的仲裁委员会。

（二）仲裁协议的效力：对当事人、对仲裁机构、对法院。

（三）仲裁条款的独立性：仲裁条款具有独立于主合同的效力。

四、仲裁程序

（一）申请和受理。1、申请仲裁的条件：有仲裁协议、有具体的仲裁请求和事实理由、属于仲裁委员会受案范围。2、仲裁申请书。3、仲裁受理。

《2011年公务员考试行测考试 100 套华图真题》

(二) 审理和裁决。1、开庭准备; 2、庭审调查; 3、庭审辩论; 4、调解; 5、评议与裁决。

(三) 财产保全: 由当事人申请, 由仲裁委员会将申请提交给被申请人住所地或财产所在地法院裁定。

五、仲裁委员会性质

中国国际经济贸易仲裁委员会是(民间组织)

六、有下列情形之一的, 仲裁协议无效: (一) 约定的仲裁事项超出法律规定的仲裁范围的; (二) 无民事行为能力人或者限制民事行为能力人订立的仲裁协议; (三) 一方采取胁迫手段, 迫使对方订立仲裁协议的。

七、被申请人提出证据证明仲裁裁决有下列情形之一的, 经人民法院组成合议庭审查核实, 裁定不予执行:

(一) 当事人在合同中没有订有仲裁条款或者事后没有达成书面仲裁协议的; (二) 裁决的事项不属于仲裁协议的范围或者仲裁机构无权仲裁的; (三) 仲裁庭的组成或者仲裁的程序违反法定程序的; (四) 认定事实的主要证据不足的; (五) 适用法律确有错误的; (六) 仲裁员在仲裁该案时有贪污受贿, 徇私舞弊, 枉法裁决行为的。

金路专家谈行测法律常识之<公司法>要点

[来源: 北京金路公务员考试研究中心]

1、有限责任公司由五十个以下股东出资设立

2、有限责任公司的注册资本为在公司登记机关登记的全体股东认缴的出资额。公司全体股东的首次出资额不得低于注册资本的百分之二十, 也不得低于法定的注册资本最低限额, 其余部分由股东自公司成立之日起两年内缴足; 其中, 投资公司可以在五年内缴足。

3、有限责任公司注册资本的最低限额为人民币三万元。法律、行政法规对有限责任公司注册资本的最低限额有较高规定的, 从其规定。

4、全体股东的货币出资金额不得低于有限责任公司注册资本的百分之三十。

5、股东会会议作出修改公司章程、增加或者减少注册资本的决议, 以及公司合并、分立、解散或者变更公司形式的决议, 必须经代表三分之二以上表决权的股东通过。

6、监事会应当包括股东代表和适当比例的公司职工代表, 其中职工代表的比例不得低于三分之一,

7、董事、高级管理人员不得兼任监事。

8、一人有限责任公司的注册资本最低限额为人民币十万元。股东应当一次足额缴纳公司章程规定的出资额。

8、国有独资公司, 是指国家单独出资、由国务院或者地方人民政府授权本级人民政府国有资产监督管理机构履行出资人职责的有限责任公司。国有独资公司不设股东会股份有限公司

1、股份有限公司的设立, 可以采取发起设立或者募集设立的方式。

2、发起设立, 是指由发起人认购公司应发行的全部股份而设立公司。股份有限公司采取发起设立方式设立的, 注册资本为在公司登记机关登记的全体发起人认购的股本总额。公司全体发起人的首次出资额不得低于注册资本的百分之二十, 其余部分由发起人自公司成立之日起两年内缴足; 其中, 投资公司可以在五年内

《2011年公务员考试行测考试 100 套华图真题》

缴足。在缴足前，不得向他人募集股份。

3、募集设立，是指由发起人认购公司应发行股份的一部分，其余股份向社会公开募集或者向特定对象募集而设立公司。股份有限公司采取募集方式设立的，注册资本为在公司登记机关登记的实收股本总额。以募集设立方式设立股份有限公司的，发起人认购的股份不得少于公司股份总数的百分之三十五；

4、设立股份有限公司，应当有二人以上二百人以下为发起人，其中须有半数以上的发起人在中国境内有住所。

5、股份有限公司注册资本的最低限额为人民币五百万元。法律、行政法规对股份有限公司注册资本的最低限额有较高规定的，从其规定。

6、发行股份的股款缴足后，必须经依法设立的验资机构验资并出具证明。发起人应当自股款缴足之日起三十日内主持召开公司创立大会。创立大会由发起人、认股人组成。

7、发行的股份超过招股说明书规定的截止期限尚未募足的，或者发行股份的股款缴足后，发起人在三十日内未召开创立大会的，认股人可以按照所缴股款并加算银行同期存款利息，要求发起人返还。

8、发起人应当在创立大会召开十五日前将会议日期通知各认股人或者予以公告。创立大会应有代表股份总数过半数的发起人、认股人出席，方可举行。

9、股东大会作出决议，必须经出席会议的股东所持表决权过半数通过。但是，股东大会作出修改公司章程、增加或者减少注册资本的决议，以及公司合并、分立、解散或者变更公司形式的决议，必须经出席会议的股东所持表决权的三分之二以上通过。

1 股份有限公司设董事会，其成员为五人至十九人。

股份有限公司设监事会，其成员不得少于三人。董事、高级管理人员不得兼任监事。

11、发起人持有的本公司股份，自公司成立之日起一年内不得转让。公司公开发行股份前已发行的股份，自公司股票在证券交易所上市交易之日起一年内不得转让。

12、公司董事、监事、高级管理人员应当向公司申报所持有的本公司的股份及其变动情况，在任职期间每年转让的股份不得超过其所持有本公司股份总数的百分之二十五；所持本公司股份自公司股票上市交易之日起一年内不得转让。上述人员离职后半年内，不得转让其所持有的本公司股份。

专家谈行测法律常识之<证券法>考试要点

[来源: 北京金路公务员考试研究中心]

一、有下列情形之一的，为公开发行：

- (一) 向不特定对象发行证券；
- (二) 向累计超过二百人的特定对象发行证券；
- (三) 法律、行政法规规定的其他发行行为。

非公开发行证券，不得采用广告、公开劝诱和变相公开方式

公司公开发行新股，应当符合下列条件：

- (一) 具备健全且运行良好的组织机构；
- (二) 具有持续盈利能力，财务状况良好；
- (三) 最近三年财务会计文件无虚假记载，无其他重大违法行为；

《2011年公务员考试行测考试 100 套华图真题》

(四)经国务院批准的国务院证券监督管理机构规定的其他条件。

二、公开发行公司债券，应当符合下列条件：

(一)股份有限公司的净资产不低于人民币三千万元，有限责任公司的净资产不低于人民币六千万元；

(二)累计债券余额不超过公司净资产的百分之四十；

(三)最近三年平均可分配利润足以支付公司债券一年的利息；

(四)筹集的资金投向符合国家产业政策；

(五)债券的利率不超过国务院限定的利率水平；

(六)国务院规定的其他条件。

公开发行公司债券筹集的资金，必须用于核准的用途，不得用于弥补亏损和非生产性支出。上市公司发行可转换为股票的公司债券，除应当符合第一款规定的条件外，还应当符合本法关于公开发行股票的条件，并报国务院证券监督管理机构核准。

三、有下列情形之一的，不得再次公开发行公司债券：

(一)前一次公开发行的公司债券尚未募足；

(二)对已公开发行的公司债券或者其他债务有违约或者延迟支付本息的事实，仍处于继续状态；

(三)违反本法规定，改变公开发行公司债券所募资金的用途。

四、证券承销

向不特定对象公开发行的证券票面总值超过人民币五千万元的，应当由承销团承销。承销团应当由主承销和参与承销的证券公司组成。证券的代销、包销期限最长不得超过九十日。证券公司在代销、包销期内，对所代销、包销的证券应当保证先行出售给认购人，证券公司不得为本公司预留所代销的证券和预先购入并留存所包销的证券。

五、股票发行采取溢价发行

其发行价格由发行人与承销的证券公司协商确定。股票发行采用代销方式，代销期限届满，向投资者出售的股票数量未达到拟公开发行股票数量百分之七十的，为发行失败。发行人应当按照发行价并加算银行同期存款利息退还股票认购人。

六、股票转让

上市公司董事、监事、高级管理人员、持有上市公司股份百分之五以上的股东，将其持有的该公司的股票在买入后六个月内卖出，或者在卖出后六个月内又买入，由此所得收益归该公司所有，公司董事会应当收回其所得收益。但是，证券公司因包销购入售后剩余股票而持有百分之五以上股份的，卖出该股票不受六个月时间限制。

七、股份有限公司申请股票上市，应当符合下列条件：

(一)股票经国务院证券监督管理机构核准已公开发行；

(二)公司股本总额不少于人民币三千万元；

(三)公开发行的股份达到公司股份总数的百分之二十五以上；公司股本总额超过人民币四亿元的，公开发行股份的比例为百分之十以上；

(四)公司最近三年无重大违法行为，财务会计报告无虚假记载。

八、公司申请公司债券上市交易，应当符合下列条件：

(一)公司债券的期限为一年以上；

(二)公司债券实际发行额不少于人民币五千万元；

《2011 年公务员考试行测考试 100 套华图真题》

(三)公司申请债券上市时仍符合法定的公司债券发行条件。

九、重大事件

(一)公司的经营方针和经营范围的重大变化;

(二)公司的重大投资行为和重大的购置财产的决定;

(三)公司订立重要合同,可能对公司的资产、负债、权益和经营成果产生重要影响;

(四)公司发生重大债务和未能清偿到期重大债务的违约情况;

(五)公司发生重大亏损或者重大损失;

(六)公司生产经营的外部条件发生的重大变化;

(七)公司的董事、三分之一以上监事或者经理发生变动;

(八)持有公司百分之五以上股份的股东或者实际控制人,其持有股份或者控制公司的情况发生较大变化;

(九)公司减资、合并、分立、解散及申请破产的决定;

(十)涉及公司的重大诉讼,股东大会、董事会决议被依法撤销或者宣告无效;

(十一)公司涉嫌犯罪被司法机关立案调查,公司董事、监事、高级管理人员涉嫌犯罪被司法机关采取强制措施;

(十二)国务院证券监督管理机构规定的其他事项。

十、股份超比例规定

通过证券交易所的证券交易,投资者持有或者通过协议、其他安排与他人共同持有一个上市公司已发行的股份达到百分之五时,应当在该事实发生之日起三日内,向国务院证券监督管理机构、证券交易所作出书面报告,通知该上市公司,并予公告;在上述期限内,不得再行买卖该上市公司的股票。

投资者持有或者通过协议、其他安排与他人共同持有一个上市公司已发行的股份达到百分之五后,其所持该上市公司已发行的股份比例每增加或者减少百分之五,应当依照前款规定进行报告和公告。在报告期限内和作出报告、公告后二日内,不得再行买卖该上市公司的股票。

通过证券交易所的证券交易,投资者持有或者通过协议、其他安排与他人共同持有一个上市公司已发行的股份达到百分之三十时,继续进行收购的,应当依法向该上市公司所有股东发出收购上市公司全部或者部分股份的要约。

收购上市公司部分股份的收购要约应当约定,被收购公司股东承诺出售的股份数额超过预定收购的股份数额的,收购人按比例进行收购。收购要约约定的收购期限不得少于三十日,并不得超过六十日。在上市公司收购中,收购人持有的被收购的上市公司的股票,在收购行为完成后的十二个月内不得转让。

十一、设立证券公司,应当具备下列条件:

(一)有符合法律、行政法规规定的公司章程;

(二)主要股东具有持续盈利能力,信誉良好,最近三年无重大违法违规记录,净资产不低于人民币二亿元;

(三)有符合本法规定的注册资本;

(四)董事、监事、高级管理人员具备任职资格,从业人员具有证券从业资格;

(五)有完善的风险管理与内部控制制度;

(六)有合格的经营场所和业务设施;

(七)法律、行政法规规定的和经国务院批准的国务院证券监督管理机构规定的其他条件。

证券公司不得为其股东或者股东的关联人提供融资或者担保。

《2011 年公务员考试行测考试 100 套华图真题》

国家机关工作人员和法律、行政法规规定的禁止在公司中兼职的其他人员，不得在证券公司中兼任职务。

十二、证券公司可以经营下列部分或者全部业务

- (一) 证券经纪；
- (二) 证券投资咨询；
- (三) 与证券交易、证券投资活动有关的财务顾问；
- (四) 证券承销与保荐；
- (五) 证券自营；
- (六) 证券资产管理；
- (七) 其他证券业务。

证券公司经营(一)项至第(三)项业务的，注册资本最低限额为人民币五千万元；经营第(四)项至第(七)项业务之一的，注册资本最低限额为人民币一亿元；经营第(四)项至第(七)项业务中两项以上的，注册资本最低限额为人民币五亿元。证券公司的注册资本应当是实缴资本。

十三、证券登记结算机构

是为证券交易提供集中登记、存管与结算服务，不以营利为目的的法人。设立证券登记结算机构必须经国务院证券监督管理机构批准。

十四、设立证券登记结算机构，应当具备下列条件：

- (一) 自有资金不少于人民币二亿元；
- (二) 具有证券登记、存管和结算服务所必须的场所和设施；
- (三) 主要管理人员和从业人员必须具有证券从业资格；
- (四) 国务院证券监督管理机构规定的其他条件。证券登记结算机构的名称中应当标明证券登记结算字样。

十五、证券登记结算机构履行下列职能：

- (一) 证券账户、结算账户的设立；
- (二) 证券的存管和过户；
- (三) 证券持有人名册登记；
- (四) 证券交易所上市证券交易的清算和交收；
- (五) 受发行人的委托派发证券权益；
- (六) 办理与上述业务有关的查询；
- (七) 国务院证券监督管理机构批准的其他业务。

十六、证券服务机构

投资咨询机构、财务顾问机构、资信评级机构、资产评估机构、会计师事务所从事证券服务业务，必须经国务院证券监督管理机构和有关主管部门批准。

证券业协会是证券业的自律性组织，是社会团体法人。证券公司应当加入证券业协会。

2007 年行政职业能力测试数量关系精讲

【来源：北京金路公务员考试研究中心】

如何应对《测验》

用长远的眼光来看待你的课程，投入极大的兴趣，付出艰辛，用自己行动来证明自己。胜利将向你挥手，成功之门为你而开。

答题方略

《2011 年公务员考试行测考试 100 套华图真题》

1, 把握考试时间

2, 答题的顺序

3, 严守考场纪律

4, 保持心理稳定

5, 学会放弃

数字敏感度训练

1、现在有 10 颗树，以怎样的栽植方式，能保证每行每列都是 4 颗？（画出种植图）

化学与数学的结合题型

2、水光潋影晴方好，山色空蒙雨亦奇。

欲把西湖比西子，淡妆浓抹总相宜。

[宋]苏轼《饮湖上初晴后雨》

后人追随意境，写了对联：

山山水水，处处明明秀秀。

晴晴雨雨，时时好好奇奇。

在 以下两式的左边添加适当的数学符号，使其变成正确的等式：

1122334455=10000

6677889900=10000

我们首先应该掌握的数列及平方数

自然数列：1, 2, 3.....

奇数数列：1, 3, 5.....

偶数数列：2, 4, 6.....

素数数列（质数数列）：1, 3, 5, 7, 11, 13.....

自然数平方数列：1*, 2*, 3*..... *=2

自然数立方数列：1*, 2*, 3*... *=3

等差数列：1, 6, 11, 16, 21, 26.....

等比数列：1, 3, 9, 27, 81, 243.....

无理式数列：..... 等

平方数应该掌握 20 以下的，立方数应该掌握 10 以下的；特殊平方数的规律也的掌握：如，15, 25,.. 的平方心算法。

数量关系

数量关系测验主要是测验考生对数量关系的理解与计算的能力，体现了一个人抽象思维的发展水平。

数量关系测验含有速度与难度的双重性质。解答数量关系测验题不仅要求考生具有数字的直觉能力，还需要具有判断、分析、推理、运算等能力。

知识程度的要求：大多数为小学知识，初中高中知识也只占极少部分。

一、数字推理

1. 2000 年—2003 年国家公务员考试数字推理的题量为 5 道题，2004 年国家公务员考试取消了对数字推理这一题型的考查，2005 年又恢复了对该题型的考查，但题量增加为 10 道题，从试卷结构分析来看，2006 年这一题型的题量为 5 道题左右。2007 年可能会增加至

在 10 道题。

2. 题型考查重点将由二级数列转向三级数列

3. 将由以前重点研究两个数字之间的关系到现在重点研究三个数字之间的关

《2011年公务员考试行测考试 100 套华图真题》

系

4. 由以前顺序研究两个数字的关系, 到跳跃研究数字之间的关系

5. 平方数列将出现新的变化

6. 数字与汉字的结合, 会成为考试的一个难点

数字推理的题型分析

一、 等差数列及其变式

二、 等比数列及其变式

三、 等差与等比混合式

四、 求和相加式与求差相减式

五、 求积相乘式与求商相除式

六、 求平方数及其变式

七、 求立方数及其变式

八、 双重数列

九、 简单有理化式

十、 汉字与数字结合的推理题型

十一、 纯数字排列题目

二级等差数列的变式

1、 相减后构成自然数列即新的等差数列

25, 33, (), 52, 63

2、 相减后的数列为等比数列

9, 13, 21, (), 69

3、 相减后构成平方数列

111, 107, 98, (), 57

4、 相减后构成立方数列

1, 28, 92, (), 433

5、 平方数列的隐藏状态

10, 18, 33, (), 92

二级等比数列的变式

1、 相比后构成自然数列 (或等差数列)

6, 6, 12, 36, 144, ()

2、 与交替规律的结合 (相比后构成循环数列)

6, 9, 18, 27 ()

8, 8, 12, 24, 60, ()

3、 常数的参与 (采用+, -, *, /)

11, 23, 48, 99, ()

3, 8, 25, 74, ()

也可称做+1, -1 法则

其他例题我会尽快编出, 供大家参考.

数字推理常见的排列规律

(1) 奇偶数规律: 各个数都是奇数 (单数) 或偶数 (双数); [自然数列, 质数数列等]

(2) 等差: 相邻数之间的差值相等, 整个数字序列依次递增或递减。

(3) 等比: 相邻数之间的比值相等, 整个数字序列依次递增或递减;

(4) 二级等差: 相邻数之间的差或比构成了一个等差数列;

《2011 年公务员考试行测考试 100 套华图真题》

- (5) 二级等比数列：相邻数之间的差或比构成一个等比数列；
- (6) 加法规律：前两个数之和等于第三个数；
- (7) 减法规律：前两个数之差等于第三个数；
- (8) 乘法(除法)规律：前两个数之乘积(或相除)等于第三个数；
- (9) 完全平方数：数列中蕴含着一个完全平方数序列，或明显、或隐含；

2. 数学运算

数学运算题主要考查解决四则运算等基本数字问题的能力。

数学运算的试题一般比较简短，其知识内容和原理多限于小学数中的加、减、乘、除四则运算

解决实际问题的基本步骤：

实际问题（数字应用题）----- 数学模型

推理

演算

实际问题的解-----还原说明-----数学模型的解

1. 数学计算的题量将继续保持在 15 道题左右

2000 年—2004 年国家公务员考试数学计算的题量为 10 道题，2005 年国家公务员考试这一题型的题量增加为 15 道题，从试卷结构分析来看，2006、2007 年这一题型的题量将继续保持在 15 道题左右。

2. 和日常生活结合起来考查专项知识

3. 容斥原理重点考查三个集合的容斥关系

4. 时钟问题将成为新考点

5. 极为复杂的讨论题将成为考试的最难点

时钟问题

. 时钟问题

.... 时针的速度是分针速度的 $\frac{1}{12}$ ，所以分针每分钟比时针多走 $\frac{11}{12}$ 格。

例 1: 现在是 3 点，什么时候时针与分针第一次重合？

[分析]

.... 3 点时分针与时针相差 15 格，要使分针与时针重合，即要分针比时针多走 15 格，才能追上时针。而分针每分钟比时针多走 $\frac{11}{12}$ 格，所以

.... $15 / (\frac{11}{12}) = 16 \text{ 又 } \frac{4}{11} (\text{分})$.

例 7: 在 10 点与 11 点之间，钟面上时针与分针在什么时刻垂直？

[分析]

..... (1)、第一种情况：10 点时分针与时针相差 10 格，要使分针与时针垂直，分针要比时针相差 15 格才行，所以分针要多走 5 格后才能与时针垂直。

..... $5 / (\frac{11}{12}) = 5 \text{ 又 } \frac{5}{11} (\text{分})$

..... (2)、第二种情况：第二次垂直，分针要比时针多走 $50 - 15 = 35$ 格，所以

..... $35 / (\frac{11}{12}) = 38 \text{ 又 } \frac{2}{11} (\text{分})$.

例 8: 在 9 点与 10 点之间的什么时刻，分针与时针在一条直线上？

[分析]

..... 分针与时针成 180 度角时，分针与时针相差 30 格，而 9 点时分针与时针相差 15 格，所以要分针多走 15 格。

..... $15 / (\frac{11}{12}) = 16 \text{ 又 } \frac{4}{11} (\text{分})$

集合与容斥原理

《2011 年公务员考试行测考试 100 套华图真题》

集合是一种基本数学语言、一种基本数学工具。[19 世纪末,德国数学家康托]

有限集元素的个数(容斥原理)

解题公式: (1) $\text{card}(A \cup B) = \text{card}(A) + \text{card}(B) - \text{card}(A \cap B)$; (2) $\text{card}(A \cup B \cup C) = \text{card}(A) + \text{card}(B) + \text{card}(C) - \text{card}(A \cap B) - \text{card}(A \cap C) - \text{card}(B \cap C) + \text{card}(A \cap B \cap C)$

如下图所示:

例题:

开运动会时,高一某班共有 28 名同学参加比赛,有 15 人参加游泳比赛,有 8 人参加田径比赛,有 14 人参加球类比赛,同时参加游泳比赛和田径比赛的有 3 人,同时参加游泳比赛和球类比赛的有 3 人,没有人同时参加三项比赛,问同时参加田径比赛和球类比赛的有多少人?只参加游泳一项比赛的有多少人?

设 $A = \{\text{参加游泳比赛的同学}\}$, $B = \{\text{参加田径比赛的同学}\}$, $C = \{\text{参加球类比赛的同学}\}$

则 $\text{card}(A)=15$, $\text{card}(B)=8$, $\text{card}(C)=14$, $\text{card}(A \cup B \cup C)=28$

且 $\text{card}(A \cap B)=3$, $\text{card}(A \cap C)=3$, $\text{card}(A \cap B \cap C)=0$

由公式②得 $28 = 15 + 8 + 14 - 3 - 3 - \text{card}(B \cap C) + 0$

即 $\text{card}(B \cap C)=3$

所以同时参加田径和球类比赛的共有 3 人,而只参加游泳比赛的人有 $15 - 3 - 3 = 9$ (人)

数学计算的题型分析

1. 四则运算、平方、开方基本计算题型

2. 大小判断

3. 典型问题

(1) 比例问题 (2) 盈亏问题 (3) 工程问题 (4) 行程问题 (5) 栽树问题 (6) 方阵问题 (7) “动物同笼”思维模型 (8) 年龄问题 (9) 利润问题 (10) 面积问题 (11) 爬绳计算又称跳井问题 (12) 台阶问题 (13) 余数计算 (14) 日月计算 (15) 溶液问题 (16) 和差倍问题 (17) 排列组合问题 (18) 计算预资问题 (19) 归一问题 (20) 抽屉原理 (21) 其他问题

数字计算的解题方法

1. 加强训练 提高对数字的敏感度

2. 掌握一些数学计算的解题方法及技巧

3. 认真审题 把握题意

4. 寻找捷径 多用简便方法

5. 利用排除法提高做题 www.wttw.com

数字计算的规律方法概括

1. 基本计算方法

(1) 尾数估算法

(2) 尾数确定法

(3) 凑整法 是简便运算中最常用的方法,即根据交换律、结合律把可以凑成 10、20、30、50、100... 的数放在一起运算,从而提高运算速度。基本的凑整算式: $25 \times 8 = 200$ 等。

(4) 补数法 a、直接利用补数法巧算

b、间接利用补数法巧算又称凑整去补法

《2011 年公务员考试行测考试 100 套华图真题》

(5) 基准数法 当遇到两个以上的数相加且这些数相互接近时, 取一个数做基准数, 然后再加上每个加数与基准数的差, 从而求和。

(6) 数学公式求解法

如: 完全平方差、完全平方和公式的运用考查。

(7) 科学计数法的巧用

2. 工程问题的数量关系

工作量 = 工作效率 \times 工作时间

工作效率 = 工作量 / 工作时间

总工作量 = 各分工作量之和

此类题: 一般设总的工作量为 1;

3. 行程问题

(1) 相遇问题

甲从 a 地到 b 地, 乙从 b 地到 a 地, 然后两人在途中相遇, 实质上是甲乙一起走了 ab 之间这段路程, 如果两人同时出发, 那么: ab 之间的路程 = 甲走的路程 + 乙走的路程 = 甲的速度 \times 相遇时间 + 乙的速度 \times 相遇时间 = 甲乙速度和 \times 相遇时间

相遇问题的核心是速度和时间的问题

(2) 追及问题

追及路程 = 甲走的路程 - 乙走的路程 = 甲乙速度差 \times 追及时间

追及问题的核心是速度差问题

(3) 流水问题

顺水速度 = 船速 + 水速 逆水速度 = 船速 - 水速

因此 船速 = (顺水速度 + 逆水速度) / 2

水速 = (顺水速度 - 逆水速度) / 2

4. 植树问题

(1) 不封闭路线

(a) 两端植树, 则颗树比段数多 1;

颗树 = 全长 / 段数 + 1

(b) 一端植树, 则颗数与段数相等;

颗数 = 全长 / 段数

(c) 两端不植树, 则颗数比段数少 1。

颗数 = 全长 / 段数 - 1

(2) 封闭路线

植树的颗数 = 全长 / 段数

6. 跳井问题或称爬绳问题

完成任务的次数 = 井深或绳长 - 每次所爬米数 + 1

7. 年龄问题

方法 1: 几年后的年龄 = 大小年龄差 / 倍数差 - 小年龄

几年前的年龄 = 小年龄 - 大小年龄差 / 倍数差

方法 2: 一元一次方程解法

方法 3: 结果代入法, 此乃最优方法

甲对乙说: 当我的岁数是你现在岁数时, 你才 4 岁。乙对甲说: 当我的岁数到你现在岁数时, 你将有 67 岁。甲乙现在各有 ()。

A. 45 岁, 26 岁 B. 46 岁, 25 岁

《2011 年公务员考试行测考试 100 套华图真题》

C. 47 岁, 24 岁 D. 48 岁, 23 岁

甲-4=甲-乙, 67-甲=甲-乙

8, 鸡兔同笼问题

1, 《孙子算经》解法: 设头数为 a , 足数是 b 。则 $b/2-a$ 是兔数, $a-(b/2-a)$ 是鸡数。

2, 《丁巨算法》解法: 鸡数= $(4 \times \text{头总数} - \text{总足数}) / 2$ 兔数=总数-鸡数

兔数= $(\text{总足数} - 2 \times \text{头总数}) / 2$

鸡数=总数-兔数

著名古典小说《镜花缘》中的米兰芬算灯用的也是鸡兔同笼问题的解法。

9, 溶液问题

溶液=溶质+溶剂

浓度=溶质/溶液=溶质的质量分数

此类题涉及的考查类型:

(1) 稀释后, 求溶质的质量分数;

(2) 饱和溶液的计算问题;

注意: 一种溶剂可以同时和几种溶质互溶。

有关溶液混合的计算公式是:

$m(\text{浓}) \times c\%(\text{浓}) + m(\text{稀}) \times c\%(\text{稀}) = m(\text{混}) \times c\%(\text{混})$

由于 $m(\text{混}) = m(\text{浓}) + m(\text{稀})$, 上式也可以写成:

$m(\text{浓}) \times c\%(\text{浓}) + m(\text{稀}) \times c\%(\text{稀})$

$= [m(\text{浓}) + m(\text{稀})] \times c\%(\text{混})$

此式经整理可得:

$m(\text{浓}) \times [c\%(\text{浓}) - c\%(\text{混})]$

$= m(\text{稀}) \times [c\%(\text{混}) - c\%(\text{稀})]$

10、利润问题

利润=销售价(卖出价)-成本

利润率=利润/成本=(销售价-成本)/成本=销售价/成本-1

销售价=成本*(1+利润率)

成本=销售价/(1+利润率)

利润总额=营业利润+投资收益(减投资损失)+补贴收入+营业外收入-营业外支出

营业利润=主营业务利润+其他业务利润-营业费用-管理费用-财务费用

主营业务利润=主营业务收入-主营业务成本-主营业务税金及附加 其他业利润=其他业务收入-其他业务支出

1、资本金利润率 是衡量投资者投入企业资本的获利能力的指标。其计算公式为:

资本金利润率=利润总额/资本金总额 X100%

企业资本金利润率越高, 说明企业资本的获利能力越强。 2、销售收入利润率 是衡量企业销售收入的收益水平的指标, 其计算公式是:

销售收入利润率=利润总额/销售收入净额 X100%

销售收入利润率是反映企业获利能力的重要指标, 这项指标越高, 说明企业销售收入获取利润的能力越强。 3、成本费用利润率 是反映企业成本费用与利润的关系的指标。其计算公式为:

《2011 年公务员考试行测考试 100 套华图真题》

成本费用利润率=利润总额/成本费用总额 X100%

1 1、预资问题

对预资问题的分析，我们会发现此类问题与比例问题是相通的。按照比例问题的解法对预资问题同样适用。

1 2、面积问题

解决面积问题的核心是“割、补”思维，既当我们看到一个关于求解面积的问题，不要立刻套用公式去求解，这样解会进如误区。

对于此类问题的通常解法是“辅助线法”，即通过引入新的辅助线将图形分割或者补全为很容易求得面积的规则图形，从而快速求的面积。

1 3、和、差、倍问题

求大小两个数的值

$$1、(和 + 差) / 2 = 较大数$$

$$2、(和 - 差) / 2 = 较小数$$

和差问题的基本解题方法是：

$$1、(和 + 差) / 2 = 较大数$$

$$较大数 - 差 = 较小数$$

$$(和 - 差) / 2 = 较小数$$

$$较小数 + 差 = 较大数$$

2、一元一次方程解法

1、南京长江大桥共分两层，上层是公路桥，下层是铁路桥。铁路桥和公路桥共长 11270 米，铁路桥比公路桥长 2270 米，问南京长江大桥的公路和铁路桥各长多少米？

2、三个小组共有 180 人，一、二两个小组人数之和比第三小组多 20 人，第一小组比第二小组少 2 人，求第一小组的人数

3、甲、乙两筐苹果，甲筐比乙筐多 19 千克，从甲筐取出多少千克放入乙筐，就可以使乙筐中的苹果比甲筐的多 3 千克？

4、在一个减法算式里，被减数、减数与差的和等于 120，而减数是差的 3 倍，那么差等于多少？

1 分析：和差基本问题，和 1127 米，差 2270 米，大数=（和+差）/2，小数=（和-差）/2。解：铁路桥长=(11270+2270)/2=6770 米，公路桥长=(11270-2270)/2=4500 米。

2 分析：先将一、二两个小组作为一个整体，这样就可以利用基本和差问题公式得出第一、二两个小组的人数和，然后对第一、二两个组再作一次和差基本问题计算，就可以得出第一小组的人数。

3 分析：从甲筐取出放入乙筐，总数不变。甲筐原来比乙筐多 19 千克，后来比乙筐少 3 千克，也即对 19 千克进行重分配，甲筐得到的比乙筐少 3 千克。于是，问题就变成最基本的和差问题：和 19 千克，差 3 千克。

4 分析：被减数=减数+差，所以，被减数和减数与差的和就各自等于被减数、减数与差的和的一半，即：被减数=减数+差=（被减数+减数+差）/2。因此，减数与差的和=120/2=60。这样就是基本的和倍问题了。小数=和/（倍数+1）解：减数与差的和=120/2=60，差=60/（3+1）=15

1 4、排列、组合问题

例 1. 书架上放有 3 本不同的数学书，5 本不同的语文书，6 本不同的英语书。

（1）若从这些书中任取一本，有多少种不同的取法？（2）若从这些书中取数学

《2011 年公务员考试行测考试 100 套华图真题》

书、语文书、英语书各一本，有多少种不同的取法？（3）若从这些书中取不同的科目的书两本，有多少种不同的取法。解：（1）由于从书架上任取一本书，就可以完成这件事，故应分类，由于有 3 种书，则分为 3 类然后依据加法原理，得到的取法种数是： $3+5+6=14$ 种。（2）由于从书架上任取数学书、语文书、英语书各 1 本，需要分成 3 个步骤完成，据乘法原理，得到不同的取法种数是： $3 \times 5 \times 6=90$ （种）。（3）由于从书架上任取不同科目的书两本，可以有 3 类情况（数语各 1 本，数英各 1 本，语英各 1 本）而在每一类情况中又需分 2 个步骤才能完成。故应依据加法与乘法两个原理计算出共得到的不同的取法种数是： $3 \times 5+3 \times 6+5 \times 6=63$ （种）。

例 2、5 位高中毕业生，准备报考 3 所高等院校，每人报且只报一所，不同的报名方法共有多少种？

解：5 个学生中每人都可以在 3 所高等院校中任选一所报名，因而每个学生都有 3 种不同的报名方法，根据乘法原理，得到不同报名方法总共有

$$3 \times 3 \times 3 \times 3 \times 3=3^5=243 \text{ (种)}$$

15、盈亏问题

把一定数量（未知）平分成一定份数（未知），根据两次试分的盈（或亏）数量与每次试分的每份数量，求总数量和份数的公式是

份数=两次盈（或亏）的相差数量÷两次每份数量差，

总数量=每份数量×份数+盈（或-亏）

1、用绳测井深，把绳三折，井外余 2 米，把绳四折，还差 1 米不到井口，那么井深多少米？绳长多少米？

典型盈亏问题。盈亏总数= $3 \times 2+4 \times 1=10$ 米。解答：井深= $(3 \times 2+4 \times 1) / (4-3)=10$ 米，绳长= $(10+2) \times 3=36$ 米。

2、有一个班的同学去划船。他们算了一下，如果增加 1 条船，正好每条船坐 6 人；如果减少 1 条船，正好每条船坐 9 个人。问：这个班共有多少名同学？

分析：增加一条和减少一条，前后相差 2 条，也就是说，每条船坐 6 人正好，每条船坐 9 人则空出两条船。这样就是一个盈亏问题的标准形式了。解答：增加一条船后的船数= $9 \times 2 / (9-6)=6$ 条，这个班共有 $6 \times 6=36$ 名同学。

重要书籍介绍

《十万个为什么》数学篇

小学奥数-华罗庚专题讲座

国考行政职业能力测试：法律常识判断习题

【来源：北京金路公务员考试研究中心】

2、共同历史传统的国家或者地区的法律的总称，在法学上，称为（ ）。

- A. 法律体系 B. 法的历史类型
C. 法系 D. 法律制度

3. 委任状、逮捕证、营业执照都属于（ ）。

- A. 规范性法律文件 B. 非规范性法律文件
C. 司法机关公文 D. 证据

4. 法系的分类标准是（ ）。

- A. 法的历史类型 B. 法的历史传统
C. 法律体系 D. 法律部门

《2011年公务员考试行测考试 100 套华图真题》

5. 以判例作为正式意义上的法律渊源的有()。
A. 罗马法系 B. 社会主义法系
C. 罗马法系和普通法系 D. 普通法系
6. 根据《宪法》的规定,全国人民代表大会常务委员会有权制定()。
A. 基本法律 B. 行政法规
C. 特别行政区的基本法 D. 除基本法律以外的其他法律
7. 原始社会的社会规范是()。
A. 自然法 B. 习惯性
C. 不成文法 D. 习惯
8. 大陆法系在法的形式主要采用()。
A. 判例法 B. 习惯法
C. 法典 D. 不成文法
9. 在我国,专门的法律监督机关是指()。
A. 人民法院 B. 人民检察院
C. 公安机关 D. 纪律检查委员会
10. 社会主义法制建设的中心环节是()。
A. 有法可依 B. 有法必依
C. 执法必严 D. 违法必究
11. 司法解释是指()。
A. 司法机关在适用法律时对法所作的解释
B. 最高司法机关在适用法律过程中对具体应用法律问题所作的解释
C. 各级人民法院在审理案件中对法律的解释
D. 各级人民检察院在检察工作中对法律所作的解释
12. 划分国内法与国际法的标准为()。
A. 法律效力范围的不同
B. 法律关系的主体的不同
C. 法律规定的内容的不同
D. 法律地位、法律效力、内容和制定程序的不同
13. 违法客体是指法律所保护的而为违法行为所侵害的()。
A. 人和物 B. 违法对象
C. 社会关系 D. 社会秩序
14. 法律事实包括:一法律事件,二()。
A. 法律后果 B. 法律制裁
C. 法律行为 D. 法律责任
15. 社会主义法产生的特点是()。
A. 在没有自己的经济基础的条件下产生的
B. 在已有自己的经济基础的条件下产生的
C. 最初以资本主义作为自己的经济基础而建立起来的
D. 不需要有自己的经济基础
16. 社会主义法与社会主义道德的共同点是()。
A. 调整范围相同 B. 规范内容相同
C. 要求相同 D. 历史使命相同
17. 法典编纂是指()。
A. 是对原有全部规范性文件进行整理

《2011 年公务员考试行测考试 100 套华图真题》

- B. 是在不改变原有规范性文件内容的前提下进行加工
C. 是对属于某一法律部门的规范性文件进行整理加工,编制成新的系统化的法律文件因而是一种立法活动
D. 不是一种立法活动
18. 根据法律效力的强弱程度,可将法律规范分为()。
A. 确定性规范和准用性规范 B. 委任性规范和准用性规范
C. 强行性规范和任意性规范 D. 授权性规范和义务性规范
19. 法律规定的不以当事人的主观意志为转移的能引起法律关系的产生、变更和消灭的属于()。
A. 法律解释 B. 法律事件
C. 法律行为 D. 法律部门
20. 作为我国社会主义法律渊源之一的国际条约是指()。
A. 国际宣言
B. 国际公约
C. 国际协定
D. 我国同外国缔结或我国加入并生效的国际规范性法律文件
21. 全国人民代表大会常务委员会对法律所作的解释属于()。
A. 立法解释 B. 司法解释
C. 审判解释 D. 行政解释
22. 社会主义法同一切剥削阶级法的一个根本区别,就在于社会主义法体现了()。
A. 阶级性与社会性的统一 B. 阶级性与人民性的统一
C. 阶级性与强制性的统一 D. 阶级性与规范性的统一
23. 法律关系参加者能以自己的行为享有权和承担义务的资格在法学上,称为()。
A. 权利能力 B. 行为能力
C. 法律事实 D. 法律关系内容
24. 在我国,16 周岁以上的未成年人以自己的劳动收入为主要生活来源的,应视为()。
A. 限制行为能力人 B. 无行为能力人
C. 完全行为能力人 D. 部分限制行为能力人
25. 法律对社会发展能否起进步作用,决定于()。
A. 是否适用一切经济基础的需要
B. 是否能积极地为自己的经济基础服务
C. 法律所服务的经济基础是否适应生产力的需要
D. 是否适应国家的需要
26. 最高人民法院对在审判过程中如何具体应用法律、法律规范所作的解释()。
A. 对下级法院具有普遍约束力 B. 没有普遍约束力
C. 对下级法院没有约束力 D. 有普遍的约束力
27. 法律调整的对象是划分部门法的()。

《2011 年公务员考试行测考试 100 套华图真题》

- A. 客观标准 B. 唯一标准
C. 唯一的客观标准 D. 首要标准
28. 贯彻“以事实为根据，以法律为准绳”这一原则，适用法律时()。
A. 不应以党的政策为指导 B. 应该以党的政策为指导
C. 有时也要以党的政策为指导 D. 法律应无条件地服从党的政策
29. 法律规范生效的时间，如无明文规定时，其生效时间应是()。
A. 法律通过之日 B. 法律公布之日
C. 法律批准之日 D. 法律签署之日
30. 允许法律关系参加者自行确定其权利和义务具体内容的规范，属于()。
A. 任意性规范 B. 授权性规范
C. 委任性规范 D. 准用性规范
31. 监察机关有权对下列哪种对象实施监察活动?()
A. 国家司法机关。
B. 国家立法机关及其工作人员。
C. 司法机关及其工作人员。
D. 国家行政机关、国家公务员和国家行政机关任命的其他人员。
32. 对违法行为给予行政处罚的规定必须公开，未经公开的，不得作为行政处罚的依
据，这属于《行政处罚法》规定的行政处罚原则中的哪一项?()
A. 处罚法定原则。 B. 处罚公正公开原则。
C. 处罚与教育相结合原则。 D. 保障相对人权利。
33. 行政机关作出责令停产停业行政处罚决定前，当事人要求听证的，应当
在行政机
关告知后几日内提出；行政机关应当在听证前几日通知当事人举行听证的时间，
地点？对此，依次两个日期都正确的选项是哪项?()
A. 5 日，10 日。 B. 7 日，15 日。
C. 3 日，7 日。 D. 5 日，7 日。
34. 部委规章可以创设行政处罚的范围是下列哪个选项?()
A. 警告与罚金。
B. 警告与一定数额的罚款。
C. 警告、罚款与没收财产。
D. 限制人身自由、吊销营业执照以外的行政处罚。
35. 限制人身自由的行政处罚()。
A. 只能由法律设定
B. 只能由行政法规设定
C. 可以由国务院部、委员会制定的规章设定
D. 可以由地方性法规设定
36. 下列关于行政裁决特征的表述，()是不正确的。
A. 行政裁决的对象是特定的民事、刑事纠纷
B. 行政裁决的主体是法律授权的特定行政机关
C. 行政裁决在形式上具有准司法性
D. 行政裁决在效果上具有强制性
37. 下列有关我国国家公务员的论述，正确的一项是()。

《2011 年公务员考试行测考试 100 套华图真题》

- A. 国家公务员就是我国行政机关的一切工作人员
- B. 国家公务员包括行政机关、司法机关中执行国家公务的人员
- C. 国家公务员分为政务类公务员和业务类公务员
- D. 国家公务员分为各级人民政府组成人员的公务员和一般公务员

38. 行政制裁，是指国家行政机关对行政违法者依其行政责任所实施的强制性惩罚

措施。行政制裁不包括()。

- A: 行政处罚 B. 行政处理
- C. 行政处分 D. 劳动教养

39. 根据《立法法》的规定，法律案审议的结果不可能是()。

- A. 签署公布 B. 终止审议
- C. 进一步审议 D. 提请表决

40. 行政诉讼中的原、被告一般是()。

- A. 原告为公民、法人或其他组织，被告是国家行政机关
- B. 原告是国家机关，被告是国家行政机关工作人员
- C. 原被告均是国家机关行政工作人员
- D. 原告是国家行政机关，被告是公民、法人或其他组织

41. 我国历史上第一部社会主义类型的宪法是()。

- A. 1954 年宪法
- B. 《中华苏维埃共和国宪法大纲》
- C. 1957 年宪法
- D. 《中国人民政治协商会议共同纲领》

42. 欧洲大陆上第一部成文宪法是()。

- A. 1689 年英国《权利法案》 B. 1791 年法国宪法
- C. 1789 年法国《人权宣言》 D. 1919 年法国《魏玛宪法》

43. 新中国成立后，从()起宪法以根本法形式确认人民代表大会制度是我国的

政权组织形式。

- A. 1954 年 B. 1975 年
- C. 1978 年 D. 1982 年

44. 将宪法划分为社会主义类型的宪法和资本主义类型的宪法，这种分类的科学性，

是因为它()。

- A. 指出了宪法的内容 B. 总结了宪法形式上的特点
- C. 揭示了宪法的本质属性 D. 指出了国家的不同类型

45. 1954 年宪法所确认的基本原则是()。

- A. 政治协商原则
- B. 民主集中制原则
- C. 本国经验和外国经验相结合的原则
- D. 人民民主原则与社会主义原则

46. 世界历史上第一部资产阶级成文宪法是()。

- A. 1689 年英国《权利法案》 B. 1776 年美国《独立宣言》
- C. 1787 年美国宪法 D. 1791 年法国宪法

47. 我国现行的宪法是新中国建立以来的第()部宪法。

《2011年公务员考试行测考试 100 套华图真题》

A. 2 B. 3 C. 4 D. 5

48. 世界各国普遍重视对宪法实施的保障,其根本原因是()。

- A. 宪法具有最高的法律效力
- B. 宪法确认、维护统治阶级的根本利益
- C. 宪法有严格的修改程序
- D. 宪法规定了公民的基本权利和义务

49. 《共同纲领》规定中央人民政府委员会是当时的()。

- A. 最高国家政务机关 B. 最高国家管理机关
- C. 最高国家行政机关 D. 最高国家权力机关

50. 《宪法》规定今后国家的根本任务是()。

- A. 进行经济体制和政治体制改革 B. 进行社会主义物质文明建设
- C. 进行社会主义精神文明建设 D. 进行社会主义现代化建设

51. 《宪法》规定,我国行使宪法解释权的机关是()。

- A. 全国人民代表大会 B. 全国人大常委会
- C. 全国人大法律委员会 D. 全国人大法工委

52. 把宪法划分为成文宪法和不成文宪法的依据是()。

- A. 是否有统一的法典形式 B. 是否有最高法律效力
- C. 是否容易修改 D. 是否是书面形式

53. 在社会主义现代化建设的新的历史时期,统一战线称为()。

- A. 社会主义统一战线 B. 爱国统一战线
- C. 民族统一战线 D. 广泛的统一战线

54. 我国人民代表大会制度的核心内容和实质是()。

- A. 国家的一切权力属于人民 B. 少数服从多数原则
- C. 平等原则 D. 集体行使职权

55. 中华人民共和国的国家机构实行()原则。

- A. 首长负责制 B. 少数服从多数
- C. 民主集中制 D. 议行合一

56. 全国人大开展工作的基本形式是()。

- A. 组成代表团视察工作 B. 组成特定问题调查委员会
- C. 召开全国人大会议 D. 听取全国人大常委会的工作报告

57. 全国人大代表按照()组成代表团。

- A. 民族 B. 选举单位
- C. 地域 D. 职业

58. 全国人大常委会的重要日常工作,由()处理。

- A. 专门委员会 B. 委员会
- C. 委员长会议 D. 秘书长

59. 我国现行《宪法》规定,全国人民代表大会,委员会的组成人员中,应当有适当名额的()。

- A. 少数民族代表 B. 妇女代表
- C. 华侨代表 D. 军队代表

60. ()以上的地方各级人民政府设立审计机关。

- A. 设区的市 B. 县级
- C. 自治州 D. 省级

《2011 年公务员考试行测考试 100 套华图真题》

61. 地方各级人民法院对()负责。
- A. 上级人民法院
 - B. 本级人民法院
 - C. 本级人民代表团大会及其常务委员会
 - D. 上级人民代表大会及其常委会
62. 我国现行《选举法》规定, 选区划分的原则()。
- A. 可以按地区人口划分
 - B. 可以按居住状况划分
 - C. 可以按生产单位、事业单位或工作单位划分
 - D. 可以按居住状况划分, 也可以按生产单位、事业单位或工作单位划分
63. 选举权的普遍性是指()。
- A. 一切公民在平等的基础上进行选举
 - B. 一个国家内享有选举权的公民的广泛程度
 - C. 所有公民都享有选举权
 - D. 全国人民都有选举权
64. 我国《宪法》规定, 中华人民共和国公民在()的情况下, 有从国家和社会获得物质帮助的权利。
- A. 有病 B. 年老
 - C. 丧失劳动能力 D. 年老、疾病或丧失劳动能力
65. 全国人大会议每年举行一次, 由()召集。
- A. 全国人大常委会 B. 全国人大主席团
 - C. 委员长 D. 委员长会议
66. 下列哪项内容不属于我国行政诉讼受案范围?()
- A. 收容审查。 B. 劳动教养。
 - C. 行政拘留。 D. 逮捕犯罪嫌疑人。
67. 经复议的案件, 复议机关改变原具体行政行为的, 由下列哪个人民法院管辖?()
- A. 最初作出具体行政行为的行政机关所在地。
 - B. 复议机关所在地。
 - C. 最初作出具体行政行为的行政机关所在地人民法院或复议机关所在地。
 - D. c 选项中人民法院共同的上一级法院指定的。
68. 公民、法人或其他组织对具体行政行为在法定期限内不提起诉讼又不履行的, 行政机关可以申请人民法院强制执行其具体行政行为, 由下列哪个法院受理执行?()
- A. 申请人所在地的基层人民法院。 B. 被执行人所在地的基层人民法院。
 - C. 一审人民法院。 D. 终审人民法院。
69. 《行政诉讼法》第 55 条规定, 人民法院判决被告重新作出具体行政行为的, 被告不得以同一事实和理由作出与原具体行政行为基本相同的具体行政行为。下列哪项内容属该条规定的例外情况?()
- A. 人民法院以具体行政行为主要证据不足为由判决撤销的。

《2011 年公务员考试行测考试 100 套华图真题》

- B. 人民法院以具体行政行为适用法律, 法规错误为由判决撤销的。
- C. 人民法院以具体行政行为违反法定程序为由判决撤销的。
- D. 人民法院以行政机关工作人员滥用职权为由判决撤销该具体行政行为的。

70. 土管局批准了陈某建房申请, 陈某房子建好后, 某县水利局因其为违章建筑责令

拆除。陈某以县水利局为被告提起行政诉讼, 人民法院受理后应按下列哪种方

式办理 7. ()

- A. 应追加县土管局为被告, 并通知其参加诉讼。
- B. 应通知县土管局作为共同原告参加诉讼。
- C. 应通知县土管局以第三人的身份参加诉讼。
- D. 应通知县土管局以证人的身份参加诉讼。

71. 在行政诉讼的执行措施中, 不可以对行政机关采取 ()。

- A. 划拨 B. 查封
- C. 扣押 D. 司法建议

72. 行政诉讼法规定, 因限制人身自由的强制措施引起的行政诉讼, 由原告或被告所

在地人民法院管辖, 这里的原告所在地不包括 ()。

- A. 临时居住地 B. 经常居住地
- C. 被限制人身自由所在地 D. 户籍所在地

73. 行政诉讼强制的主体是 ()。

- A. 行政主体 B. 有权国家机关
- C. 人民检察院 D. 人民法院

74. 在诉讼中, 人民法院审理下列哪类案件, 不可以根据原告申请, 依法书面裁定先

予执行? ()

- A. 起诉行政机关没有依法发给抚恤金的。
- B. 起诉行政机关没有依法发给社会保险金的。
- C. 起诉行政机关没有依法发给最低生活保障费的。
- D. 起诉行政机关没有就其违法行政行为给予赔偿的。

75. 行政机关对于重大违法行为给予较重的行政处罚时, 在证据可能灭失的情况下,

下列选项哪个是正确的? ()

- A. 经行政机关负责人批准, 可以先行封存证据。
- B. 经行政机关集体讨论决定, 可以先行扣押证据。
- C. 经行政机关负责人批准, 可以先行登记保存证据。
- D. 犯罪行为所侵害的对象。

76. 下列哪个选项所列人员可以成为非法剥夺公民宗教信仰自由罪的主体? ()

- A. 乡政府办公室秘书。 B. 大学校长。
- C. 电视台主持人。 D. 国有公司经理。

77. 某机场的机械师陆某对机场领导人员心怀不满, 在某次为等待执行任务的一架

波音 747 客机进行机械检修时, 故意对飞机的发动机装置进行了破坏。但恰

《2011 年公务员考试行测考试 100 套华图真题》

好

时

这架飞机此次没有投入运营。在第二天运营前机械师陈某在对飞机进行检修

发现了故障及时进行了排除。对陆某的行为如何认定?()

A. 故意毁坏公私财物罪未遂。 B. 破坏交通工具罪未遂。

C. 故意毁坏公私财物罪既遂。 D. 破坏交通工具罪既遂。

78. 以下犯罪行为的主体哪一种不限于国家机关工作人员?()

A. 玩忽职守罪。 B. 帮助犯罪分子逃避处罚罪。

C. 失职造成珍贵文物损毁、流失罪。 D. 故意泄露国家秘密罪。

79. 行为人以谋利为目的, 意欲运送他人偷越国(边)境, 但由于交通工具简陋不具备必要的安全条件, 导致被运送人多人重伤、死亡后果, 对该行为应如何认定?()

)

A. 运送他人偷越国(边)境罪的严重情节。

B. 运送他人偷越国(边)境界与过失致人死亡、过失致人重伤罪并罚。

C. 运送他人偷越国(边)境罪与过失致人死亡罪, 过失致人重伤罪择一重罪处罚。

D. 过失致人死亡罪与过失致人重伤罪并罚。

80. 行为人高某在盗掘古墓葬的过程中, 造成大量的珍贵文物严重毁损, 对高某的行

为如何认定?()

A. 盗掘古墓葬罪的严重情节。

B. 故意损毁珍贵文物罪。

C. 盗掘古墓葬罪与故意损毁珍贵文物罪并罚。

D. 盗掘古墓葬罪与故意损毁珍贵文物罪择一重罪处罚。

81. 行为人在实施抢劫行为后, 出于灭口的目的而将被害人杀害, 对行为人的行为如

何认定?()

A. 抢劫罪的加重情节。 B. 抢劫罪。

C. 抢劫罪与故意杀人罪并罚。 D. 故意杀人罪。

82. 某市黄某开办的个体小煤窑只开了采煤通道即开始采煤, 主管部门检查后发现

该煤窑只有送风口, 没有排风口, 即书面通知其停业整顿, 黄某拖延不改继续采

矿, 终于因瓦斯浓度太高, 发生爆炸致 9 名矿工死亡。黄某的行为构成何种犯

罪?()

A. 重大责任事故罪。 B. 工程重大安全事故罪。

C. 重大劳动安全事故罪。 D. 过失爆炸罪。

83. 因暴力干涉婚姻自由不成而将被干涉者杀害的行为构成下列哪种罪?()

A. 暴力干涉婚姻自由罪。

B. 故意杀人罪。

C. 属暴力干涉婚姻自由罪的加重罪状。

D. 暴力干涉婚姻自由罪与故意杀人罪。

《2011 年公务员考试行测考试 100 套华图真题》

84. 某国家机关的机要人员林某利用职务上的便利, 将其所知悉、掌握的大量国家机

密, 绝密提供给境外的反动组织, 对该行为如何认定? ()

- A. 故意泄露国家秘密罪。
- B. 为境外非法提供国家秘密、情报罪。
- C. 故意泄露国家秘密罪与为境外非法提供国家秘密、情报罪。
- D. 非法获取国家秘密罪与为境外非法提供国家秘密、情报罪。

85. 季某的父母对其与村民小张之间恋爱极为不满, 极力进行破坏, 以致发生下列哪

种行为公安机关不可以主动立案侦查? ()

- A. 当众殴打季某后将其禁闭, 季某自杀的。
- B. 将季某捆绑过紧致其身亡的。
- C. 殴打季某, 将季某打成重伤, 由于抢救不及时而死亡的。
- D. 先将季某吊起来毒打, 后又私自将季某许配他人的。

86. 公司犯下下列哪些罪时, 实行双罚, 即单位处罚金, 同时要求直接负责的主管人

员或其他责任人员承担刑事责任? ()

- A. 提供虚假财会报告罪。 B. 欺诈发行股票、债券罪。
- C. 挪用公款罪。 D. 非法经营同类营业罪。 ,

87. 工厂、矿山、林场、建筑业或其他企事业单位的职工不服管理, 违章作业, 造成下

列哪些损失, 不构成重大责任事故罪? ()

- A. 1 人死亡的。
- B. 3 人重伤的。
- C. 直接经济损失达 4. 5 万元。
- D. 直接经济损失达 30 万元, 车间停产 10 天的。

88. 下列各种行为哪项实行数罪并罚? ()

A. 实施了非法制造枪支、非法运输弹药、非法储存爆炸物及非法邮寄弹药行为的。

- B. 犯重大责任事故罪致人重伤、死亡的。
- C. 为追索债务而非法拘禁他人并使用暴力使他人重伤、死亡的。
- D. 强奸妇女后, 又实行杀人行为以图灭口的。

89. 公安局预审员王某在审理卷烟厂女工陈某盗窃案时, 对陈某犯盗窃甲级香烟 209

条(价值 1600 余元)的罪行, 不追查, 不取证, 还将罪证材料销毁, 掩护陈某逃避

惩罚。陈某在王某的掩护下获得释放后, 王某以此要挟, 将陈某多次奸污。

对王

某的行为下列哪项表述正确? ()

- A. 包庇罪和强奸罪。 B. 徇私枉法罪和强奸罪。
- C. 伪证罪和强奸罪。 D. 玩忽职守罪与强奸罪。

90. 行为人王某生产了假冒他人注册商标的商品后, 又销售这种商品的, 对王某行为

的认定与处罚哪项是正确的? ()

《2011 年公务员考试行测考试 100 套华图真题》

- A. 假冒注册商标罪。
- B. 销售假冒注册商标的商品罪。
- C. 假冒注册商标罪与销售假冒注册商标的商品罪并罚。
- D. 假冒注册商标罪与销售假冒注册商标的商品罪择一重罪处罚。

91. 某纳税单位足额缴纳税款后，又采取假报出口或其他欺骗手段骗取全部所缴纳

的税款，数额巨大，对本案的表述下列哪项是正确的？（ ）

- A. 构成偷税罪。
- B. 构成骗取出口退税罪。
- C. 按偷税罪与骗取出口退税罪实行数罪并罚。
- D. 偷税罪与骗取出口退税罪择一重罪处罚。

92. 被告人的下列行为中不属于构成重伤行为的有哪些？（ ）

- A. 伤者当场因失血过多而休克，但及时抢救恢复正常。
- B. 伤者当时表面伤情较轻，但实际伤在脑内，后来因脑组织破裂压迫脑神经死亡。

- c. 伤者当时伤情较轻，及时送往医院，但由于医生治疗错误而导致其死亡。
- D. 伤者当时伤情较重，但事后没有后遗症，身体恢复正常。

93. 姜某使用伪造、变造的金融票据，在签订履行合同的过程中，骗取对方当事人

信任，并骗得其财物，数额较大。下述关于对姜某的行为认定的表述哪项是正确

的？（ ）

- A. 金融票据诈骗罪。
- B. 合同诈骗罪。
- C. 金融票据诈骗罪与合同诈骗罪实行数罪并罚。
- D. 金融票据诈骗罪与合同诈骗罪择一重罪处罚。

94. 一货轮在海上航行，突起大风，并收到强台风警报，当时靠岸避风已不可能。而气象

台预报，台风中正要经过货轮航行的海域，为使货轮和船员的生命免遭损害，船

长下令抛去部分货物（价值 3 万元），以减轻货轮的负载。但当台风刚刚接近该

轮航线海域时，突改方向，并未殃及货轮安全，对船长的行为应如何认定？（ ）

- A. 紧急避险。 B. 假想避险。 -
- C. 事中避险。 D. 事前避险。

95. 刁某花 5000 元从人贩子手中买来一名受骗的四川姑娘作妻子，姑娘知道真相后

欲逃跑，刁某将其手脚捆住，强行与其同房，发生性关系，事后为防止其逃跑将其

锁在屋内，一个月后女方哥哥领公安人员前来解救，刁某持械堵住屋门不许公安

人员进入，相持一个多小时，致使全村的许多人前来围观，后公安人员制服刁某

使该四川姑娘得救，两名公安人员在与刁某搏斗时受轻伤。本案刁某的行为

《2011 年公务员考试行测考试 100 套华图真题》

构

不成下列哪些犯罪?()

- A. 聚众阻碍解救被收买的妇女罪。 B. 强奸罪。
- C. 收买被拐卖的妇女罪。 D. 非法拘禁罪、妨害公务罪。

96. 合伙合同存续期间, 合伙人以外的第三人要求入伙, 关于法律是否允许的问题下

列表述哪项是正确的?()

- A. 依合伙合同的约定决定是否允许。
- B. 不允许。因为合伙合同是基于合伙人间的信任关系而存在。
- C. 合伙合同有约定的, 依合同处理, 无约定的, 须全体合伙人一致同意。
- D. 合同有约定的依约定处理, 无约定的, 须经全体合伙人过半数同意。

97. 下列行为中, 哪项属于默示的民事法律行为?()

- A. 租期届满后, 承租人继续交付租金, 出租人继续收取租金。
- B. 代理期限届满后, 委托人没有继续委托, 而代理人仍然进行代理行为。
- C. 甲向乙提出书面要约, 双方在此之前未有联系。甲在要约中明确提出, 若

乙

不在 1 个月内提出反对意见, 视为同意, 1 个月后, 乙沉默。

- D. 甲向其妻子乙提出离婚, 乙沉默, 后甲以乙的此行为要求法院判决离婚。

98. 下列情形中, 哪一项的诉讼时效为 1 年?()

- A. 某甲买了 1 台电热水器, 使用中因电热水器漏电而受伤。
- B. 某甲与某乙签订了一承包经营合同, 后某乙违约。
- C. 某甲借给某乙 1 万元, 某乙到期不还欠款。
- D. 某甲在某乙处定作一套西服, 到期后某甲未及时领取西服, 30 天后某乙

将西

服卖掉。

99. 对宣告死亡与宣告失踪的区别, 表述正确的是哪些?()

- A. 宣告死亡的效果在于终止下落不明人以其住所地为中心的人身和财产关系; 宣告失踪仅在于为完全行为能力失踪人设立财产代管人。
- B. 宣告死亡的法定下落不明期间一般为 2 年, 特殊情况下为 1 年; 宣告失踪

的

法定失踪期间一律为 2 年。

- C. 宣告死亡的公告期间为 2 年, 而宣告失踪的公告期间为 3 个月。

D. 宣告失踪被撤销, 发生返还财产, 恢复婚姻关系等效果; 宣告死亡撤销则没有

这种效果。

100. 下列哪项不属于附条件的民事法律行为?()

- A. 甲乙两公司在租赁合同中约定, 如果 3 个月后甲公司有空闲的建筑施工设备, 则租给乙公司两台, 租期 4 个月。
- B. 甲立下遗嘱: 如果自己的儿子在 2 年之内犯罪, 则将自己的遗产遗赠给朋友乙。

- C. 丙立下遗嘱: 如果自己的儿子不故意杀害自己, 就将遗产留给他。

D. A 矿场与 B 公司的约定如果矿山开采不发生重大事故, 则矿石买卖合同生效。

101. 期待权不包括下列哪项权利?()

《2011 年公务员考试行测考试 100 套华图真题》

A. 已具备全部要件, 从而被当事人实际享有的权利。

B. 以附停止条件和附始期法律行为所设定的权利。

C. 由既存债权产生的将来债权。

D. 继承开始前的继承权。

102. 在下列情形中哪项构成承诺?()

A. 甲向乙发出要约, 丙得知后表示接受甲的条件。

B. 丙向乙发出要约, 丁考虑后向戊表示同意甲的要约。

C. 何某向刘某发出要约, 要求 10 天内给予答复, 过期视承诺, 刘某未能如期答复。

D. 袁某根据广告上刊登的价格, 给某体育用品厂汇款购买某型号的体育用品。

103. 下列选项中哪项应认定为有效的民事行为?()

A. 某甲与某县政府商定, 某甲赠给某县政府一台轿车, 但实际上此台轿车归某乙所有。

B. 间歇性精神病人, 在确能证明的发病期间实施的民事行为。

C. 某甲把一幅古画真品错当成复制品卖给某乙。

D. 11 岁的某丙接受了从英国来的叔叔送给他的一台电脑, 价值 1.5 万元。

104. 甲、乙双方签订了货物买卖合同, 由甲方向乙方提供货物。后经甲方同意, 乙方

将合同中的权利、义务转给丙。这样, 法律关系的()就发生了变更。

A. 主体、客体 B. 内容

C. 客体 D. 主体

105. 牛明村未成年人甲的父母在一次车祸中重伤, 丧失监护能力, 现甲的祖父母和外

祖父母就甲的监护人问题发生争议, 可由谁指定监护人?()

A. 甲的经常居住地的村民委员会。

B. 甲的父母的所在单位。

C. 甲的祖父母或外祖父母的住所地的村民委员会。

D. 以上都不对。

106. 遗产是指公民死亡时遗留下来的()。

A. 个人所有财产 B. 依法规定享有的财产

C. 个人合法财产 D. 公民收入和储蓄

107. 某甲 17 周岁, 已参加工作, 有固定收入, 某日因某甲在街上寻衅滋事, 将某乙打

伤, 某乙要求赔偿医药费, 对此下列表述哪些不正确?()

A. 某甲的父母必须承担赔偿医药费的义务。

B. 某甲的父母无须承担赔偿医药费的义务。

C. 某甲的父母可以选择是否替某甲赔偿医药费。

D. 某甲的父母如赔偿了医药费, 则对某甲有追偿权。

108. 肖强下落不明已达 3 年, 下列哪些人可以向人民法院申请宣告肖强为失踪人?()

A. 肖强的好友。 B. 肖强之妻。

《2011 年公务员考试行测考试 100 套华图真题》

C. 与肖强有权利义务关系的雇主。 D. 上述三个选项都对。

109. 下列合同中, 属于可撤销的合同()。

A. 甲、乙签订质押合同, 约定甲不能如期履行合同义务, 则乙取得质物的所有权

B. 甲、乙两企业之间的资金借贷合同

C. 甲为逃避法院的强制执行, 将其财产赠与乙

D. 甲因治病急需钱, 乙提出以低于市场接近 5 倍的价格购买甲的珍贵油画, 甲无奈之下与乙签订了合同

110. 杜某和钟某 1997 年合伙开饭店, 因经营有方, 饭店生意兴隆, 1998 年 5 月, 钟某

的妻弟李某要求入伙, 以下哪项表述不正确的?()

A. 设杜某不同意李某入伙而钟某同意, 则李某不能入伙。

B. 设杜某和钟某都同意李某入伙, 但在入伙协议中约定李某不执行合伙事务并不能自营饭店。

C. 设李某入伙后, 饭店经营不善致合伙散伙, 对于 1998 年 5 月以前合伙债务李某

某不负偿还之责。

D. 设李某入伙后, 饭店经营不善致合伙散伙, 对入伙之前债务李某与杜某、钟某

负连带责任, 但有权就其承担数额向杜某、钟某追偿。

习题答案

2. C 3. B 4. B 5. D 6; D

7. D 8. C 9. B 10. B 11. B 12; B

13. C 14. C 15. A 16. D 17. C 18; C

19. B 20. D 21. A 22. B 23. B 24-C

25. C 26. A 27. D 28. B 29-B 30; A

31. D 32. B 33. C 34. B 35. A 36; A

37. D 38. B 39. A 40. A 41. A 42; B

43. A 44. C 45. D 46. C 47. C 48; B

49. D 50. D 51. B 52. A 53. B 54; A

55. C 56. C 57. B 58. C 59. A 60-B

61. C 62. D 63. B 64. D 65. A 66; D

67. C 68. A 69. C 70. C 71. B 72; A

73. D 74. D 75、C 76. A 77. D 78; D

79. A 80. A 81. C 82. C 83. B 84-B

85. D 86. B 87. C 88. D 89. B 90; A

91. A 92. C 93. B 94. D 95. A 96; C

97. A 98. A 99. A 100. C 101. A 102; D

103. D 104. D 105. B 106. C 107. A 108; B

109. D 110. C

《2011 年公务员考试行测考试 100 套华图真题》

07 年行政职业能力测验备考：数字推理题规律

[来源: 北京金路公务员考试研究中心]

1、自然数列规律

4, 5, 6, 7, ()

A、8 B、9 C、10 D、11

这个大家当然明白

2、奇数规律

略

3、偶数规律

略

4、等差数列

略

5、二级等差数列，相邻数之间的差构成等差数列。

(分量可能较大)

2, 3, 5, 8, ()

A、8 B、9 C、15 D、12 答案 D

6、等差数列的变式

3, 4, 6, 9, (), 18

A、11 B、13 C、12 D、18 答案 B

7、等比数列，相邻两数的比值相等，整个数列递增或者递减

2, 4, 8, 16, ()

答案 32

8、二级等比数列，相邻数字之间的比构成等比数列

1, 3, 18, 216, ()

A、1023 B、1892 C、243 D、5184 答案 D

(感觉象大数数列了)

9、等比数列的变式

3, 5, 9, 17, ()

A、23 B、33 C、43 D、25 答案 B

10、加法数列，前两数字之和等于第三数

1, 0, 1, 1, 2, (), 5

A、4 B、3 C、5 D、7 答案 B

难一些的:

0, 1, 1, 2, 4, 8, (), 32

A、14 B、16 C、12 D、18 答案 B

(后面的数字为前面所有项的和)

11、减法数列，前两数字之差等于第三数

5, 3, 2, 1, (), 0

A、1 B、-1 C、-2 D、-3 答案 A

难一些的:

60, 67, 53, 74, ()

《2011 年公务员考试行测考试 100 套华图真题》

A、56 B、64 C、46 D、84 答案 C

12、乘法数列，后项为前二项之积

1, 2, 2, 4, 8, ()

A、12 B、15 C、32 D、30 答案 C

13、除法数列，后项为前二项之商

8, 4, 2, 2, 1, ()

A、3 B、4 C、5 D、2 答案 D

14、平方数列数列中的 各数为一个数列的平方（或明或暗）

1, 4, 9, 16, ()

A、23 B、24 C、25 D、26 答案 C

经常考的变式：

2, 3, 10, 15, 26, 35, ()

A、40 B、50 C、55 D、60 答案 B

（1 平方加 1，2 平方减 1，3 平方加 1，4 平方减 1。。。）

15、立方数列数列中的各数为一个数列的立方（或明或暗）

1, 8, 27, 64, ()

A、100 B、115 C、120 D、125 答案 D

立方变式：

3, 10, 29, 66, ()

A、123 B、124 C、126 D、127 答案 D

（N 的立方加 2）

16、质数系列规律

2, 3, 5, 7, ()

A、8 B、9 C、10 D、11 答案 D

17、质数系列的变式

20, 22, 25, 30, 37, ()

A、40 B、42 C、48 D、50 答案 C

（前项加质数，2002 年的考题）

18、双重数列，分为奇数项与偶数项

257, 178, 259, 173, 261, 168, 263 ()

A、275 B、279 C、164 D、163 答案 D

19、混合型数列，由上述两种以上的规律组成的数列

1, 2, 6, 15, 31, ()

A、45 B、50 C、56 D、60 答案 C

1/19, 38, 1/76, 152, 1/304, ()

A、380 B、608 C、719 D、1216 答案 B

6, 14, 30, 62, ()

A、85 B、92 C、126 D、250 答案 C

前项 2 倍加 2

20、题目中出现大数的规律

3, 7, 47, 2207, ()

A、4414 B、6621 C、8828 D、4870847 答案 D

这样的题目中间后面的数字大，用等差的方法显然不行，我们应该想到平方或者

《2011 年公务员考试行测考试 100 套华图真题》

立方，此题目为前项的平方减 2

21、纯数字排列题目

9, 98, 987, 9876, ()

A、9875 B、98765 C、98764 D、98763 答案

22、除法规律加上加法规律

5, 17, 21, 25, ()

A、30 B、31 C、32 D、34 答案 B

除 2 余 1

23、减法加等比的规律

4, 7, 16, 43, 124, ()

A、367 B、248 C、372 D、496 答案 A

24、加法加等比规律

3, 6, 21, 60, ()

A、183 B、189 C、190 D、243 答案 A

前后两个数字相加为：9, 27, 81, 成为公比为 3 的数列。

$81 \times 3 - 60 = 183$

25、立方加加法规律

2, 9, 28, 65, ()

A、128 B、124 C、126 D、129 答案 C

5 的立方加 1=129

27、双重数列加上加法（或者减法）规律

1, 28, 4, 65, 9, 126, 16, ()

A、125 B、216 C、217 D、218 答案 C

$28=3$ 的立方加 1

28、整数加小数的规律

1.1, 2.2, 4.3, 7.4, 11.5, ()

A、16.6 B、15.5 C、15.6 D、15.8 答案 A

将整数和小数分开来看，小数为 12345

整数为前一项数字的和

1. 256, 269, 286, 302, ()

A. 254 B. 307 C. 294 D. 316

分析： $2+5+6=13$ $256+13=269$

$2+6+9=17$ $269+17=286$

$2+8+6=16$ $286+16=302$

$?=302+3+2=307$

2. 72, 36, 24, 18, ()

A. 12 B. 16 C. 14.4 D. 16.4

分析：

（方法一）

相邻两项相除，

《2011 年公务员考试行测考试 100 套华图真题》

72 36 24 18

\ / \ / \ /

2/1 3/2 4/3 (分子与分母相差 1 且前一项的分子是后一项的分母)

接下来貌似该轮到 5/4, 而 18/14.4=5/4. 选 C

(方法二)

$6 \times 12 = 72$, $6 \times 6 = 36$, $6 \times 4 = 24$, $6 \times 3 = 18$, $6 \times X$ 现在转化为求 X

12, 6, 4, 3, X

12/6, 6/4, 4/3, 3/X 化简得 2/1, 3/2, 4/3, 3/X, 注意前三项有规律, 即分子比分母大一, 则 3/X=5/4

可解得: $X = 12/5$

再用 $6 \times 12/5 = 14.4$

3. 8, 10, 14, 18, ()

A. 24 B. 32 C. 26 D. 20

分析: 8, 10, 14, 18 分别相差 2, 4, 4, ? 可考虑满足 $2/4 = 4/?$ 则 ? = 8

所以, 此题选 $18 + 8 = 26$

4. 3, 11, 13, 29, 31, ()

A. 52 B. 53 C. 54 D. 55

分析: 奇偶项分别相差 $11 - 3 = 8$, $29 - 13 = 16 = 8 \times 2$, ? - 31 = 24 = 8×3 则可得 ? = 55, 故此题选 D

5. 25, 15, 10, 5, 5, ()

A. 10 B. 5 C. 0 D. -5

分析: $25 - 15 = 10$; $15 - 10 = 5$; $10 - 5 = 5$; $5 - 5 = 0$

6. 16 8 8 12 24 60 ()

A 90 B 120 C 180 D 240

分析: 相邻两项的商为 0.5, 1, 1.5, 2, 2.5, 3,

所以选 180

7. 2, 3, 6, 9, 17, ()

A、18 B、23 C、36 D、45

分析: $6 + 9 = 15 = 3 \times 5$

$3 + 17 = 20 = 4 \times 5$ 那么 $2 + ? = 5 \times 5 = 25$ 所以 ? = 23

8. 3, 2, 5/3, 3/2, ()

A 7/5 B 5/6 C 3/5 D 3/4

分析: 通分 3/1 4/2 5/3 6/4 -----7/5

9. 34, 36, 35, 35, (), 34, 37, ()

A 36, 33 B 33, 36 C 37, 34 D 34, 37

分析: 隔项成等差数列

奇数项为 34, 35, (), 37, 则括号中为 36

《2011 年公务员考试行测考试 100 套华图真题》

偶数项为 36, 35, 34, (), 则括号中为 33

10. 20, 22, 25, 30, 37, ()

A 39 B 45 C 48 D 51

分析: 它们相差的值分别为 2, 3, 5, 7。都为质数, 则下一个质数为 11
则 $37+11=48$

11. 5, 5, 14, 38, 87, ()

A. 167 B. 168

C. 169 D. 170

A

分析: 前三项相加再加一个常数 \times 变量

(即: N_1 是常数; N_2 是变量, $a+b+c+N_1 \times N_2$)

$5+5+14+14 \times 1=38$

$38+87+14+14 \times 2=167$

12. () 36 19 10 5 2

A. 77 B

科技文献版公务员行测: 阅读理解基本功训练

【来源: 金路公务员】

第四节 阅读理解基本功训练

考点分析

这一种类型的题目一般包括选词填空、词语替换、语句表达等几种形式的题型, 其中语句表达能力又通过病句判断、歧义辨析、长句理解三种形式来检验。

这一方面的试题在国家公务员考试中考得比较少, 但却是地方公务员考试的常考题型。阅读理解的这些基础能力的考查通过文章阅读与片断阅读综合体现出来。

知识必备

无论是病句判断、歧义判断, 还是长句判断、选句填空或词语判断等, 都需要熟悉基本的语法知识, 依靠语法知识对句子进行分析。重点检查句子成分是否残缺、搭配是否恰当、次序是否合理、修饰成分运用得是否得当等。同时, 还要注意语感, 注重语意表达的准确性。此外, 要注意新题型的出题规律和解题方法, 在语句表达题目中, 往往有一个或者是几个选项后面没有文字, 这就要求应试者到短文的相关部分(一般是字下面带黑线或黑点等标记)去寻找。因此, 要求应试者悉心熟悉新题型。

典型例题分类详解

一、词语替换◆

这种题型主要考查考生对语句中某一重要词语的理解, 一般是先呈现一个句子, 句子中某个词语下面预先画有一条横线, 要求在四个词语选项中找出一个意义最为贴切的进行替换。

【例题】由于某种人为的原因, 这次实验到年底不得不中止, 但将来总会完

《2011年公务员考试行测考试 100 套华图真题》

成的。()

A. 终止 B. 结束 C. 中断 D. 截止

【解析】正确答案为 C。从句中看，“中止”是在未完成的情况下停止的。而“终止”和“结束”都有完成的意思，“截止”则是指到一定的期限停止，所以答案只能是 C。

二、选词填空◆

这种题型主要是考查应试者对词义的辨别分析能力。一般是先呈现一个句子，在某些关键词的地方已经留出空格，要求你从题后的四个选项中选出一个填入句中空格内，从而使句子的意思表达得最准确、最连贯和最完整。同词语替换题型相类似，选词填空题也是考查应试者因词义相同或相近而造成相互干扰的情况中对不同词汇的辨析能力。只不过因为缺少了句中的参考词汇，难度稍微大了一些。

【例题 1】随着工业和人口的发展，排放的废污水量也相应增加，致使许多江、河、湖、库乃至地下水受污染。()

A. 剧烈 B. 激烈 C. 急剧 D. 加剧

【解析】正确答案为 C。本句是指废污水增加的速度快而猛烈，“剧烈”和“激烈”仅是猛烈的意思，是指程度，没有时间的意义；“加剧”是指比以前更猛烈，有比较的意思，此句没有这个含义，所以用“急剧”恰当。

【例题 2】天山绵延几千里，不论高山、深谷，不论草原、森林，不论溪流、湖泊，处处有丰饶的物产，处处有-----的美景。()

A. 美丽 B. 奇丽 C. 艳丽 D. 绚丽

【解析】正确答案为 B。此题只有选择“奇丽”才能使句子的意思表达得最准确、完整、连贯。虽然“美丽”、“绚丽”、“艳丽”都可以用来形容自然景色或景观，但“绚丽”是灿烂美丽的意思，“艳丽”为鲜明美丽的意思，用于此处均不够贴切。若用“美丽”，则最后一句话就变成“处处有美丽的的美景”，更不合适，所以只有“奇丽”最准确。

三、病句判断◆

这种题型通常是给出四句话，其中只有一句话正确，其他三句都存在着语病，要求应试者找出正确的一句话来。在考试中一般出现的语病有用词不当、语法错误、修辞错误和逻辑错误四种。

1. 用词不当

病句中最常出现的错误之一就是用词不当，主要体现在混淆对象、感情色彩不符、风格色彩不协调、搭配有问题等方面。

【例题】对金钱的强烈欲望，已经把他改造成一个冷血运物。

【解析】在此句中，“改造”一词通常指将习惯不好的人变成一个好人，用在这个句子中显然不合适，可以将这个词改成“扭曲”或者“变成”，更符合题意。

2. 语法错误

语法方面的错误，主要有以下表现形式：

(1) 词性误用。所谓词性误用，是把甲类词当乙类词用，如形容词当动词用，名词当动词用，副词当动词用等。

【例题】吃进去的食物足以补充由于运动而消耗的能量，并用来发达我们的身体。

【解析】“发达”是形容词，这里用做及物动词了，可以把最后一句改为“并且用来滋养我们的身体”。

(2) 代词使用不当。代词使用不当一般存在两种情况：一种情况是用错了代

《2011年公务员考试行测考试100套华图真题》

词；另一种是代词指代不清。这两种情况都会让人产生语义的误解。

【例题】《贫嘴张大民的幸福生活》是刘恒的一篇反映现实平民生活的小说，他用诙谐的语言表现了市井寻常百姓的生活。

【解析】此句话存在着指代不清的问题，句中的“他”可以理解为小说的主人公张大民，因为张大民是一个极诙谐有趣的人，也可以指代作者，应将此句中的“他”给以明确化，改为“小说中的主人公”，这样整个句子意思通顺，指代清楚。

(3) 介词使用不当。介词使用不当表现为两种情况：一种情况是用错介词；另一种情况是介词同宾语配合不当。

【例题】这篇文章，对揭露“法轮功”的本质起了重大作用。

【解析】此句中介词使用错误，即“对……上”有误，属于错用介词，应改为“这篇文章，对揭露‘法轮功’的本质起了重大作用。”删掉介词“上”或者也可改为“这篇文章在揭露‘法轮功’的本质起了重大的作用。”

(4) 连词使用不当。此处所指的连词，也包括常用的一些关联词。连词出现的错误常见为搭配不当。

【例题】这是一个伟大的思想，并且缺乏实际意义。

【解析】此句中的连词“并且”使用后，使前、后句意思出现了不连贯的问题，不能准确表达句意，应将这个连词改为“但是”或者“可是”，这样意思更顺畅一些。

(5) 句子成分欠缺。句子中最容易欠缺的成分是主语和宾语，尤其是主语的欠缺，表现得很隐蔽，难以察觉。

【例题】经过一般时间的刻苦学习，使我的成绩有了很大的提高。

【解析】这样的表达，在很多人的言语中和文章中都见过。仔细分析，“使”在句中作谓语，“经过”之后是状语，因此缺少主语。有两种修改方法：删去“经过”，让“一段时间的刻苦学习”作主语；或删去“使”，让“成绩”作主语。

(6) 搭配不当。词与词之间搭配不当是常见的错误。这种错误主要表现为两种情况：一种是主语与谓语搭配不当；另一种是动词与宾语搭配欠妥，造成句子意义有误。

【例题】一个人如果保养好的话，他的寿命能活到一百二十岁。

【解析】此句中的后半句的主语“寿命”与句中谓语“活”并不是正确的搭配，正确的应为：一是删去“的寿命”，让“他”作主语；二是将谓语“能活到”改为“有”，这样主、谓语就搭配得当。

(7) 句子次序颠倒。句子次序颠倒分两种情况：一是句子中语词的次序不正确；二是句子间的次序不对。

【例题】虽然她只有七岁，但是对于父亲的死，她格外显得冷静。

【解析】此句中的“格外”是程度副词，应当用来修饰形容词，因此，应把“格外”和“显得”之间次序颠倒，变成“她显得格外冷静”。

(8) 杂混。所谓杂混，即将两种格式混淆起来。对于这种原因造成的病句，可根据上下文的需要选取其中一个格式。

【例题】这栋建筑有三十层组成。

【解析】这个句子的问题是将“有三十层”和“由三十层组成”两个格式杂混起来，因此，可以把这个句子改成“这栋建筑由三十层组成”。

3. 修辞错误

言语表达中，修辞手法的运用是必不可少的，它能够使句子生动、语言丰富

《2011年公务员考试行测考试100套华图真题》

多彩，富有感染力。因此，正确地使用修辞手法，是每个考生必备的能力。修辞方面的错误，常表现为以下几种情况：

(1) 比喻不当。句子使用的比喻不贴切、不恰当。

【例题】小王非常热爱本职工作，他经常对同事们讲，要像发疯一样热爱自己的事业。

【解析】热爱事业属于理智的行动，而喻体“发疯”常指人丧失理智、不能正常做事，这个比喻是不恰当的。

(2) 重复多余。所谓重复多余，指句子中那些不必要的重复出现的词语，为使句子简练，就应删掉多余而又重复的词语。但有些情况下，句中的反复修辞方法不属于多余重复的情况，对此应认真分析。

【例题】我们十分、十分地热爱伟大的祖国！

【解析】此句中连用了两个“十分”，并不属于重复多余，而且一种表达充沛感情的、一种必要的修辞方法。

(3) 苟简。所谓苟简，即过分简略句子必要成分，使句子出现意思不完整，造成了病句。

【例题】五中教师座谈会，教师们提了许多条意见。

【解析】此句的弊病在于逗号前后两句话不能有效地衔接，应将第一句话加上必要的成分，改为“在五中教师座谈会上”，这样前后连贯起来。

4. 逻辑错误

因为逻辑问题而出现的病句、错句、问题句，在实践中非常多。在这里我们仅从逻辑的角度来分析病句。常见的逻辑方面错误有以下情况：

(1) 错用概念。一般情况下，错用概念表现为错用实词，因为实词通常都能表达概念。

【例题】创作时最棘手的问题之一是，有些句子不知道该怎么形容好，找不到恰当的形容词。

【解析】此句中的“句子”一词，实际上用错了概念，因为“句子”不用形容，应将“句子”改为“事物”。

(2) 偷换概念。也称暗换概念，表现为表面上使用了某一概念，实际上却用了另一个概念。

【例题】陕西李自成的起义，均田免粮，英勇抗击明军的围剿。

【解析】此句中的“起义”这个概念，本是一种行动，不可能有后面的行为，有行为的是人，所以“起义”已经暗换成“起义军”的概念了。

(3) 大小概念并列。句子将外延大小不一致的概念并列起来。

【例题】剧团演出了文艺节目、耍狮子、表演轻功等。

【解析】此句中的“文艺节目”是属概念，而后面的“耍狮子、表演轻功”为种概念，是不能并列的。

(4) 主词宾词不相应。一般情况下，主语相当于逻辑中的主词，谓语（包括宾语）相当于逻辑中的宾词，一般判断采取“主词+系词+宾词”的形式，由于主词和宾词不相符合，造成病句的出现。

【例题】幼儿教育是开发人的智力的最好时期。

【解析】此句中的主词“幼儿教育”是教育的一种类型，跟宾词中的“时期”不是一类概念，用系词“是”把二者联系起来，属不当判断，应把主词改为“幼儿教育时期”。

(5) 逻辑自相矛盾。语句中常出现前后说法不一，后边否定前边的错误，即

《2011年公务员考试行测考试100套华图真题》

自相矛盾。

【例题】整座大楼漆黑一片，只有小王的办公室还灯火通明。

【解析】此句中“漆黑一片”与句尾的“灯火通明”犯了自相矛盾的错误，应改为“整座大楼其他的灯已经灭了，只有小王的办公室还灯火通明”。

(6) 否定不当。在表达否定的句子中，应当清楚，一次否定是否定，两次否定为肯定，三次否定又是否定。一般情况下，反问相当于一次否定。

【例题】进山之前，导游小姐反复强调要防止不发生意外。

【解析】此句意即“不要发生意外”，但多用了否定词“不”后，反倒成了要发生事故，应删去否定词“不”。

四、歧义辨析◆

在汉语文字中，一词多义是非常普遍的，这就使语句的表达因为结构、顺序、理解者所站的角度不同，造成同一个句子也会有不同的理解。在这些不同的理解中，有些是扭曲了原义，有些是误解了原义，造成理解的歧义。

歧义辨析的考查目的，是使应试者在能够准确地把握词义的基础上，从而能够准确地把握整个句子的意思。在语言实践中，造成句子理解歧义的原因主要有词义不明确、层次不清、句法结构不固定三种。

1. 词义不明确

多义词是产生歧义的重要原因，在实际的词语运用中，多义词是歧义产生的重要原因。

【例题】听爷爷说，小叔走了有半个月了。

【解析】此句中的“走”一般意义为“离开”、“行走”，但某些地方却为“死”之意。所以对于“走”这样的多义词就应引起注意，结合上下文的联系来理解、掌握。

2. 层次不清

句子的概念层次之间交代不清，让读者产生歧义。

【例题】陕西和山西的部分地区持续干旱。

【解析】此句存在着层次混乱问题，既可理解为“陕西”和“山西”的部分地区，也可理解为陕西的全部和山西的部分地区。

3. 句法结构不固定

实际中，由于句法结构处于不稳定状态，亦很容易造成句子的歧义。

【例题】领导人民一定要注意相关的政策和原则。

【解析】此句的“领导人民”是一个并列结构的词组，即“领导与人民”，也可以是一个动宾结构的词组“领导着人民”，所以在理解上产生了歧义。

五、长句理解◆

长句是指结构复杂、语句较长的句子，长句并不是很多见，但不乏有时会碰到这类在结构上多重、句子很长的句子。正如英语中的长句一样，中文中的长句在考查时需要应试者对长句有整体的理解能力、把握能力，甚至应用能力。

一般情况下，长句理解的出题方式，是给出一个比较复杂的长句子，然后针对此长句提出一个问题，提供四种可能的理解，要求应试者在理解长句句意基础上，作出正确的选择。

【例题】在对待伊拉克的问题上成员国不得不对美英这种不通过联合国解决问题的方式表示极大的遗憾。

成员国对美英的做法（ ）。

A. 赞成 B. 反对 C. 未置可否 D. 不确定

《2011 年公务员考试行测考试 100 套华图真题》

【解析】正确答案为 B。首先找出句子的主干，即“成员国不得不对英美这种方式表示遗憾。”“不得不”是一个双重否定的用法，表示肯定意味，所以原句的意思是“成员国对英美这种方式表示遗憾”。故正确答案为 B。

高分技巧点拨

1. 词语替换

做词语替换的关键是能够准确而迅速地把握每一个选项的词义。这种题型主要是在词义的相互干扰上做文章，只要善于辨别词语的真实含义，找准语句流畅的感觉，就可以解出这种题了。

2. 选词填空

这种题型的解决，关键在于将备选词，放到整个句子中去，看该词是否能准确地帮助语句完成准确的意思表达，平时要多留意词语的常见用法。

3. 病句判断

做这种题型，有如下几种方法：

(1) 紧缩语句，简化句子从精简后的句子主要成分中判断句子是否表达正确，有没有语病。

(2) 语感分析，通过审读语句，来感觉语句是否有毛病，只要读起来不觉得别扭，就是表达正确的句子。

(3) 分析逻辑意义，概念使用、判断、推理方面考虑是否得当，语句的前后顺序，句子间关系是否合适来确定句子是否表达正确。

(4) 类比造句，即按题中语句模式选一个常用的句子，看是否表达正确。

4. 歧义辨析

对有歧义的短语和句子划分的主要方法是：

(1) 增加或变换词语。如“我营一连发起三次进攻”，可以在“一连”前加“第”或把“一连”换成“连续”。

(2) 变换句式（一般是由简到繁）。如“关心自己的孩子”可变成“这个孩子是关心自己的”或“自己的孩子被人关心”。

(3) 添加上下文（依靠语境）。如“他走了一个钟头了”后边可添加“还没到学校”或“半个钟头前就到了”。又如“是瓦特发明的蒸汽机”前边可分别用“谁发明了蒸汽机”、“这是什么”来提问。

(4) 标明重音和停顿。如“农村中小学教师”可在“中”的前后标明停顿，分别表示农村的中学和小学教师或农村的小学教师。

(5) 正确运用标点。如“有的作品写年轻的妻子死了丈夫发誓不再结婚”可分别在“死了”和“丈夫”后边加逗号。

5. 长句理解

提出句子主干，再逐层按其修饰限制成分分别组成连续的短句。如果长句属肯定句型，则按主语分析含义；长句如果属于否定句型，应把握双重否定即肯定的规律，进行正确的判断分析。

专项梯度训练

一、选词填空

1. 大酒店越来越多，一流厨师供不应求，于是不少店家争相出高价招聘，有人戏称：“酒店挖，肥了大厨师。”（ ）

A. 墙头 B. 墙根 C. 墙脚 D. 墙角

2. 许多农村剩余劳动力从土地的-----中解放出来，纷纷投入到第三产业中去。（ ）

《2011 年公务员考试行测考试 100 套华图真题》

A. 枷锁 B. 约束 C. 拘束 D. 束缚

3. 中共中央、国务院近日发出通知, 要求各级政府抓住机遇, -----经济体制改革。()

A. 加强 B. 强化 C. 深化 D. 深入

4. 本来, 他想靠自己的力量完成大学学业, 但开学临近, 他还没有筹措到足够的学杂费。无奈之余, 他只好含着泪水向学生处递交了特困-----申请书。()

A. 援助 B. 支援 C. 救济 D. 补助

5. 大学新生入学的日子到了, 父亲坚决反对母亲小明去大学, 认为小明到了应该自立的时候了。()

A. 携同 B. 偕同 C. 陪同 D. 随同

6. 现代逻辑是以 19 世纪中期出现的数理逻辑为起点的, 它使用特别符号和形式系统的方法来研究演绎推理及逻辑规律, 是传统形式逻辑的直接延续和。()

A. 延伸 B. 变革 C. 发展 D. 变化

7. 不同历史发展阶段, 不同地域的人们, 由于生活经验的范围和性质不同, 所而形成的思维框架、思维模式也就不同。()

A. 沉淀 B. 积淀 C. 积累 D. 发展

8. 大中小医院都处于高度戒备状态, 以 () 突如其来的不明病疫。()

A. 控制 B. 处理 C. 应付 D. 戒备

9. 十月革命一声炮响, 为全世界无产阶级争取解放了一条崭新的道路。()

A. 开创 B. 开辟 C. 创立 D. 创建

10. 我这块迷人的土地, 这里曾播撒过我许多的梦想。()

A. 留念 B. 依恋 C. 迷恋 D. 爱恋

二、词语替换

1. 技术员陈肯花了整整三个月的时间, 攻克了这个技术难题。()

A. 克服 B. 攻坚 C. 攻下 D. 解决

2. 郑培民同志崇高的品德, 永远是我们学习的榜样。()

A. 伟大 B. 高尚 C. 宏伟 D. 高大

3. 从根本上说, 科技的发展, 经济的振兴, 乃至整个社会的进步, 都有赖于劳动者素质的提高和大量合格人才的培养。()

A. 取决于 B. 鉴于 C. 有待于 D. 寓于

4. 任何违背客观规律的做法都必定遭到失败。()

A. 违反 B. 背离 C. 有悖 D. 偏离

5. 这是一块富饶的土地。()

A. 富有 B. 丰富 C. 丰收 D. 富足

6. 你完全不必牺牲自己的合法利益来迁就那些唯利是图的老板。()

A. 屈就 B. 凑合 C. 奉承 D. 迎合

7. 国民党反动派在制定伪宪法时, 一再标榜是遵循孙中山先生的“遗教”。()

A. 表扬 B. 宣扬 C. 标志 D. 标示

8. 在研究、试验和观察的时候, 要力求不停留在事实的表面上, 不要变成事实的保管人, 要坚持不懈寻求那些支配事实的规律。()

A. 锲而不舍 B. 坚持不懈 C. 坚韧不拔 D. 坚贞不屈

9. 李老师桃李满天下, 在庆贺他 60 大寿时, 时贤名流皆至。宾客盈门, 高朋满座。()

A. 济济一堂 B. 高谈阔论 C. 胜友如云 D. 欢声笑语

《2011年公务员考试行测考试100套华图真题》

10. 朋友们的鼓励和支持, 我永远铭记在心。()

A. 牢记 B. 谨记 C. 死记 D. 默记

三、病句判断

1. 从给出的几句话中找出没有语病的一句()。

- A. 微风吹过平静的河面, 水面上荡起细细的波纹
- B. 这次外出旅游, 见闻甚广, 今选择较有意义之事三件, 记录如后
- C. 穿着一身笔直西装的王道吉老先生, 到车站迎接前来贺喜的亲朋好友
- D. 前几年他尽管遇到许多麻烦事但他一点也没有计较

2. 下列各句中, 没有语病的一句是()。

A. 因策划实施美国驻东非大使馆而被通缉的阿布纳斯近日在苏丹首都喀土穆落网, 现被关押在当地一所监狱里

B. 《谈艺录》对许多问题都做了前无古人的发掘和辨析, 出版之初就以视角的独特、观点的新颖和材料的丰赡震动了学界

C. 和传统书法艺术不同, 现代书法艺术追求的是视觉艺术性, 更注重以造型来抒发自己的感情和主张

D. 要提高现代文阅读题的准确率, 考生平时应多读例文、精做习题是行之有效的办法

3. 下列各句中, 没有语病的一句是()。

- A. 1999年, 刘永行被美国《福布斯》杂志评为中国第二首富
- B. 目前, 我国各方面人才的数量和质量还不能满足经济和社会发展
- C. 眼前, 沙沙沙的浪声和银光闪闪的海面构成了一幅美妙绝伦的图画
- D. 欧洲舆论指出, 贫铀弹调查没有透明度, 北约在多大程度上说了真话令人怀疑

4. 从所给出的四句话中, 选出“从”字使用不当的一个病句()。

- A. 小李乘火车从北京到天津用了一个半小时
- B. 小刘的观点上看, 从客观来讲, 他是支持小赵的
- C. 小张从3月到5月不在上海
- D. 小马从院子的南面找到北面, 也没找到他丢的钥匙

5. 找出没有语病的句子()。

- A. 易可的语言天赋早在三岁时就已经显露出来了
- B. 因为他经常做这些事, 于是大家一看到这事就首先想到了他
- C. 幼儿园那些可爱的孩子无时无刻盼望我, 我必须尽快回去
- D. 应聘的外国专家的正式工资一般应高于或维持应用期工资而不低于试用期工资

工资

四、歧义辨析

1. 下列四句话中, 只有一句没有歧义, 请把这句话找出来。()

- A. 香溪发源于鄂西的大神农架群山中
- B. 新来的老王的助手登台唱了一首歌
- C. 他替父亲收集了他自己的一些照片
- D. 李先生感兴趣的是组装电视机

2. 找出没有歧义的一句()。

- A. 你这儿经常有人来吗
- B. 他吩咐张三领人去挖树坑
- C. 湖南和湖北的部分地区今晚有小到大雪
- D. 咬死了猎人的狗怎么办

3. 找出没有歧义的一句()。

- A. 晓萌的哥哥和姐姐的朋友来单位看他
- B. 事物总是处在不断变化中
- C. 这是一个部门全年的财力情况统计表
- D. 这是一个工人工资表

《2011年公务员考试行测考试 100 套华图真题》

4. 找出没有歧义的一句 ()。

- A. 热爱人民军队是符合我们时代需要的 B. 难道我老得连你都认不出了吗
C. 校长对任课老师说, 他应该做的事太多了 D. 老张告诉何伯, 他的孩子考上大学了

5. 下列句子中有歧义的句子是 ()。

- A. 我以为你让外星人劫走了呢
B. 我已经跟主任说定了, 明天他跟咱们一同去
C. 演员和观众以热烈的掌声欢迎这位英雄的父亲
D. 这部电影我不知道你妈妈看得懂看不懂

五、长句理解

1. 对于领导者来说, 为了实现领导, 不能没有一定的职位权力, 否则难以推进他所负责的并不轻松的工作。

领导者要不要有一定的职位权力? ()

- A. 要 B. 不要 C. 无所谓 D. 无关

2. 有不少人认为对这件事不予理会是最佳选择, 他却不以为然。

他认为对这件事是否应该给予理会 ()。

- A. 应该 B. 不应该 C. 不清楚 D. 无所谓

3. 你认为小明的观点偏激的说法, 我是不能不表示反对的。

我对小明观点是否偏激的表态是 ()。

- A. 偏激 B. 不偏激 C. 不表态 D. 无所谓

4. 中国队今天并非很轻松地重新夺回奖杯, 与一年前的情形不大一样。

一年前中国队可以很轻松地夺回奖杯吗? ()

- A. 是 B. 不是 C. 不清楚 D. 无所谓

5. 陈策不验明银器是真银就不卖, 为此他赎回了先前卖出去的银器是另有原因。

陈策先前卖出的银器是否真银? ()

- A. 是 B. 不是 C. 不清楚 D. 无所谓

参考答案及解析

一、词语填空

1. C 【解析】墙角, 两堵墙相接而形成的角; 墙脚, 墙根。

2. D 【解析】“枷锁”比喻所受压迫和束缚; “约束”限制管束使不超越范围; “拘束”过分约束; “束缚”捆绑, 指约束限制。

3. C 【解析】“加强”增强, 使变得更强和更有效; “强化”增强, 加强; “深化”向更深的程度发展; “深入”: ①研究、思考深刻、透彻; ②进入事物内部或中心。

4. D 【解析】“探助”支援, 帮助; “支援”支持援助; “救济”用金钱或物资帮助生活困难的人。

5. C 【解析】“携同”跟别人做某事, “偕同”跟别人一起; “陪同”陪伴着一起 (进行某一活动); 随同跟着陪着。

6. C 【解析】“延伸”, 即伸展; “变革”是指事物在本质上的改革和改进; “发展”指事物由小到大, 由低级到高级, 由旧到新的不断运动变化; “变化”是指事物在形态上或本质上产生新的状况。现代逻辑既然是传统形式的直接延续, 那只能是它的不断发展, 故正确答案为 C。

7. B 【解析】这句话是说长时间继承、积累下来而形成的思维方式和思维框架。

《2011 年公务员考试行测考试 100 套华图真题》

“沉淀”多指具体难溶的物质在溶液中沉积到下层，不指抽象的事物；“积累”仅指一点一点不断聚集，逐渐增多，但“一层一层地留下来”的意义不如“积淀”；“发展”是指由小到大，由简单到复杂，由低级到高级的变化、扩大，而无“积累”的意思。

8. C 【解析】“应付”是指对人或对事采取的方法和措施。一般指事情的前期准备，其他选项都是指事物中或事后的处理，不符合题意，故正确答案为 C。

9. B 【解析】“开创”开始建立；“开辟”打开通路；“创立”初次建立；“创建”创立。

10. A 【解析】“留念”留作记念；“依恋”留恋；舍不得离开；“迷恋”对某一事物过度爱好而难以舍弃；“爱恋”热爱而难以分离。

二、词语替换

1. D 【解析】“攻克”攻下，指解决了某一疑难问题；“攻坚”比喻努力解决某项任务中最困难的问题；“解决”处理某个问题使有结果。

2. B 【解析】“崇高”最高的，最高尚的，一般用来形容人的精神；“高尚”道德水平高。

3. A 【解析】“有赖于”有依赖于、决定于的意思，所以用“取决于”替换“有赖于”最能符合原意。

4. A 【解析】“违背”违反，不遵守；“违反”不遵守。

5. A 【解析】“富饶”物产多，财富多。

6. C 【解析】“迁就”将就别人；“屈就”客套话，用于请人提任职务；“奉承”用好听的话恭维别人。在本题中用奉承比较合适。

7. B 【解析】“标榜”意为吹嘘，夸耀，含贬义。“表扬”是褒义词，不能替换。“标志”表示某种事物或情况像记号那样，显示另一事物或情况特征。“标示”的意思与“标志”相近；“宣扬”是对外张扬的意思，可作为贬义词使用，与“标榜”最为接近，因此正确答案为 B。

8. A 【解析】用“锲而不舍”替换“坚持不懈”最能保持原意。

9. A 【解析】用“济济一堂”来替换“高朋满座”最能保持原意。

10. A 【解析】“铭记”指深深地记在心时里。“牢记”指牢牢地记住。这两个词都可作动词，都有永志不忘的意思。“谨记”指慎重、小心地记住上级或长辈的话语，有郑重、恭敬的意味。C 或 D 明显不合题意，故正确答案为 A。

三、病句判断

1. A 【解析】仔细分析所给以四个选项，发现 B、C、D 三项缺少主语，故不能选。

2. B 【解析】A 搭配不当，“实施……大使馆”不搭配；C 搭配不当，“抒发……主张”不搭配；D 句式杂糅，“应多读例文、精做习题”和“多读例文，精做习题是行之有效的办法”两种句式杂糅在一起。

3. D 【解析】A 不合逻辑；B 成分残缺，“满足”缺宾语；C 搭配不当，“浪声……构成……图画”不搭配。

4. B 【解析】这是由于介词使用不当而产生病句的一道题。A “从”引导的是地点，C “从”引导的是时间，D “从”引导的方向，A、C、D 都正确。B 句中，在“小刘”前，少了一个“从”字。“客观”前面的“从”应该移到“小刘”的前面，使句子变成“从小刘的观点上看，客观来讲，他是支持小赵的”，“从”用在“客观”前有迷惑性。

5. A 【解析】分析这四个选项可以知道，B 项因果连词使用不当，和“因为”

《2011 年公务员考试行测考试 100 套华图真题》

搭配的应该是“所以”。C 项否定不当，应在“盼望”前加上“不在”。D 项中应在“不”后加上“应该”二字。故正确答案为 A。

四、歧义辨析

1. A 【解析】B 项的主语“新来的老王”是一个结构层次不同的多义短语，既可以理解为老王的助手是新来的，也可以理解为老王是新来的。C 项属于人称指代不清楚，收集的照片，既可以理解为是“他”的，也可以理解为是“父亲”的。D 项属于语词歧义，李先生可能是对组装的电视机有兴趣，也可能是自己喜欢动手组装。

2. A 【解析】B 产生歧义：①他领人去挖树坑；②张三领人去挖树坑；C 项的歧义：①两省的部分地区；②湖北的部分地区；D 项歧义：①狗咬死了猎人；②猎人的狗被咬死了。

3. B 【解析】A 项歧义：①姐姐的朋友；②哥哥和姐姐两个人的朋友；C 项歧义：①整个部门；②众多部门中的一个；D 项歧义：①一个人的工人工资表；②整个单位的工人工资表。

4. A 【解析】通过对四个选项的逐一分析，知 B、C、D 三项都有歧义，故正确答案为 A。

5. C 【解析】因为选项 C 既可以理解为“英雄的父亲”，又可以理解为“父亲本人是英雄”。

五、长句理解

1. A 【解析】对长句进行压缩可得：领导者为了实现领导，没有一定的职位权力，就难以推进他的工作。

2. A 【解析】对长句可理解成：他对认为这件事不予理会是最佳选择不以为然。

3. B 【解析】注意到本题双重否定表示肯定的句子。

4. A 【解析】前半句叙述中国队现在状况，后半句说一年前的情况与现在不大一样，通过前半句可以知道中国队现在并不轻松，由此可推知中国队一年前很轻松。故正确答案为 A。

5. A 【解析】长句的前半句是一个双重否定表肯定的结构，意思是陈策验明银器是真银才卖，所以陈策先前卖出去的银器是真银。故正确答案为 A。

科技文献版公务员行测：片段阅读

[来源：北京金路公务员考试研究中心]

第二节 片段阅读

考点分析

这种阅读理解一般只有一段话，要求应试者能把握这段话所表述的中心思想和支持的观点以及其他细节问题。

供选择的答案有时可能是对短文内容的复述，有时则满足陈述中其他方面的要求。有一些片段阅读题要求应试者根据自己对材料的理解来找出具体的细节信息，如一些人称代词的具体指代内容。

知识必备

片段阅读所考查的类型主要有：一是对所给片段材料的局部理解与把握，如对片段中某词语或句子的理解；二是对片段材料的整体把握，如由所给的片段材料推出某一方面的信息。

《2011 年公务员考试行测考试 100 套华图真题》

解答这类题首要的问题是需要完整、准确地理解给定材料的意义，并找出关键句子，进而概括出材料的主题或主要内容。适当使用排除法，在确定正确选项时，即便某项的观点或内容是正确的，但与短文的陈述无关或不是短文主要内容的，也应排除，只有这样才能选出正确的答案。

在片段阅读中，要求应试者回答的问题主要有以下三种类型：（1）给了一段陈述事实的短文，要求考生从题后可供选择的答案中，找出支持前面短文论点或观点的选项；（2）要求考生从短文后给出的四个句子中找出一个最能准确复述这段短文的句子，这就要求考生能够把握短文的中心思想或主题，尤其要注意文意中的一些关键词；（3）给出一段短文，其中某个句子下面画线或者需要填入一句话，要求考生选出对该句理解正确的选项或者需要填入的句子是正确的选项。

典型例题分类详解

一、概括主旨型◆

这种类型要求考生概括所给文字资料的主旨、中心思想、主要内容等，概括要求准确、全面。这种类型提问的形式往往是“这段话的主要观点是……”、“这段话主要说明的是……”、“这段话的中心思想是……”、“这段话的中心意思是……”等。

【例题 1】佛教虽提倡超凡脱俗，四大皆空，但到底不能离开人间，所以它也并不能完全免俗。佛教中也有不少财神爷，看来，爱财之心，根除也难。据佛经上讲，佛祖释迦曾接受过龙女的布施——一颗价值三千大世界的珠宝！释迦马上让她立地成佛。

这段话主要支持的观点是（ ）。

- A. 佛教也不能免俗
- B. 爱财之心，人之常情
- C. 提倡四大皆空的佛教也有爱财之心
- D. 面对财宝，提倡四大皆空的佛教也不能完全免俗

【解析】正确答案为 D。在判断作者的观点时，特别要注意“但”、“但是”、“然而”等转折词，因为作者的观点经常掩藏在转折词的后面，此题就是如此。作者的观点在“但”后面即“（佛教）到底不能离开人间，所以它也并不能完全免俗”。虽然 A、D 都提到了“免俗”，但短文是针对“爱财”的，故 A 项应排除。

【例题 2】凡能创造美的艺术家，其学习起点必高。如其起点甚卑，则易与世俗同流。现代一些老艺术家，其起步多在 20 世纪 30 年代之初，师承鲁迅现实主义之教，投身中国革命洪流，根底甚厚。其积累之经验，可为后代言传身教者，当亦不少。

不符合本文段意思的是（ ）。

- A. 学习起点高的艺术家，可如鲁迅一样不与世俗同流
- B. 学习起点高，可以创造美，并可为后代言传身教
- C. 一些老艺术家师承鲁迅，投身革命，可为后代师表
- D. 学习起点高低，影响艺术家品格，也影响艺术造诣

【解析】正确的答案为 A。这段话前两句说明学习起点高的艺术家多创造美，起点非常低的，容易与世俗同流，这两句概括起来就是本段话的论点：学习起点的高低影响艺术家的品格和创作，故选项 B、D 符合文义。所给这段话后两句通过举例来说明论点，20 世纪 30 年代初的一些艺术家师承鲁迅，很多人可以为后代言传身教，故选项 C 也符合文义。在举例中，最后一句话说：“可为后代言传身教者，当亦不少”，即可以有高成就高品格的人应当不少，但没有肯定全部；选项 A

《2011 年公务员考试行测考试 100 套华图真题》

却肯定了全部，不符合文义。

二、文意推断型◆

此种类型的题目要求考生根据已给的资料准确推断出与文中意思相符合的结果，提问形式往往是“从这段文字可以推出……”、“这段话主要支持这样一种观点……”、“这段话的观点是……”、“这段话说明了这样一个论点……”、“下列哪些观点符合文中观点……”等。也有不少文意推断型属于逆向型的，即不是寻找符合推断结果的答案，而是找出不是推断已给结论的选项，具体提问方式如“不能从这段文字中推出的一项是……”等。

【例题 1】有的地方上一任或上几任领导打下了很好的基础，经济繁荣、社会稳定、人民群众生活富裕、地方财力雄厚，现任领导工作就会很省力。有些新任领导任职时间虽短，但总结起来成绩、经验却很多，这虽有自身努力的因素，但主要是得益于前任的工作基础。我们要做历史的分析，不能仅凭现有的发展水平来衡量现任领导的政绩。

这段话所支持的观点是（ ）。

- A. 现任领导应按前领导制定的政策行事
- B. 现任领导的政绩主要都是得益于前任的工作基础
- C. 现有的发展水平不能用来衡量现任领导的政绩
- D. 应该历史地、综合地评价领导的政绩

【解析】正确答案为 D。由题中可知新任领导虽然任职的时间短，但是业绩与经验却很多，其主要原因是得益于前任所留下的工作基础，由此可推知这段话所支持的观点应该是综合地、历史地评价领导的政绩，而不应单纯地从成绩与经验来评价领导的政绩。

【例题 2】发达国家对发展中国家的经济战略有它的“三部曲”：第一部是输出产品，第二部是输出资本，第三部是输出牌子。输出牌子就是要在市场上进一步打响他们牌子，同时压倒中国的牌子，并起到“征服人心”的作用。如果广大的消费者更多地认同外国牌子，则民族工业必将遇到难以克服的困难。

这段话支持了这样一种观点（ ）。

- A. 发达国家总是要对发展中国家进行经济侵略
- B. 发达国家的“牌子”输出对我国民族工业威胁很大
- C. 外国产品的质量优于国内产品
- D. “牌子”比产品质量更重要

【解析】正确答案为 B。本文的开头先介绍了发达国家对发展中国家的经济战略的“三部曲”，后又着重阐述了输出牌子对我国民族工业的巨大威胁；A、C、D 三项均不能由文段中直接推出，只有 B 项是文段中的内容所支持的观点。

三、词义、句意的理解型◆

1. 对词义的理解，侧重考查一个词或一个短语的理解，这种情况又分为以下两种：

（1）明显的，其含义可以在上下文中找到具体的文字。此类题主要考查考生对代词指代性内容的理解，如“这样”、“它”等。

（2）隐晦的，虽然在语境中有具体的内容，但作者并未用文字明确表示出来，需考生调动自己的知识经验、分析归纳、判断推理，最后结合选项进行分析以选择正确答案。

【例题】今年 2 月份，科尔尼公司对全球 134 家公司进行调查时，85%的公司表示今年将保持或增加外国直接投资。在这次调查中，95%的公司决策人表示对目

《2011 年公务员考试行测考试 100 套华图真题》

前世界经济的担心甚于去年，但他们当中 2/3 的人表示，外国直接投资保持去年的水平。

文段中的“他们”指代的是（ ）。

- A. 科尔尼公司的工作人员
- B. 调查中 85% 的公司人员
- C. 调查中 95% 的公司决策人
- D. 134 家公司中的决策人

【解析】正确答案为 C。本题主要考查在对整段文意理解的基础上，结合上下文来全面把握关键词。A 项“科尔尼公司的工作人员”显然是调查的主体，而非调查的对象，所以应该排除；B 项是第一句话中的内容，且与第二句话无本质联系，故排除；再看第二句话用了一个转折性的关联词“但”，意味着这“95% 的公司决策人不看好经验形式，但却认为外国直接投资保持去年水平”，由此可知正确答案为 C。

2. 对句义的理解，往往考查一些对文段主旨有重要影响的句子，或者容易造成误解的句子。在科技性片段中，直接宣告科学中的新发现或假想的句子，证明或说明这种发现或假想的正确性的句子，介绍新技术的操作过程和方法的句子，对新发现、新发明进行评价的句子都是重要的句子，比较容易作为考查对象。

【例题】有人也许认为，“写文章只要不妨害所表达的义理，材料细节有点出入是无所谓的。”义理是文章的灵魂，大凡写文章，不会不关注这一点。这种关注就应包含对支撑义理的材料审慎核查与选用。

对画横线文字理解最准确的一项是（ ）。

- A. 批评了只重视表达义理，但是不重视材料真实性的错误认识
- B. 肯定了既重视义理的表达，也重视材料细节必须真实的主张
- C. 批评了借口不妨害表达义理，而忽视材料真实性的错误认识
- D. 肯定了材料对表达义理的作用，不主张苛求材料细节的真实

【解析】正确答案为 C。这句话中的“眼”是“也许认为”，“认为”往往显示说话人的态度是不赞成。根据这一点，首先可以排除 B、D 两个选项。说话人反对的观点是“只要不妨害所表达的义理，材料细节有点出入是无所谓的”。这是一个偏正复句，表达的重点在于后面的分句，前面的条件“不妨害义理”是后面的结论“无所谓”的条件。由此可知，说话人批评的是以不妨害义理为由忽视材料真实性的看法。而选项 A 是转折关系，没有体现这种条件关系，所以不正确，只有 C 符合题意。

四、词语、句子填空型◆

这一类题目就是要求考生根据空白处前后句子间的关系来进行选择，所选择的内容要求做到简明、连贯、得体。这一类题目所考查的内容一般是同义词、近义词的辨析，不同句子与已给材料上的逻辑的契合度。

【例题 1】通过社会的认可获得自身价值的实现，这原本无可厚非。但在一浮躁的时代里，过多的一夜成名被认同为最快捷的成功方式，现实的浮躁在某种程度上也纵容了一些年轻人的冒险心理。对于还没有来得及面对生离死别的年轻人来说，还很难真正理解生命的责任。但一个生命的产生和消失，对于一个家庭的意义却十分深远。所以说，-----。

填入横线上最恰当的一项是（ ）。

- A. 年轻人不能无所顾忌地外出冒险
- B. 没有家庭的团圆就没有社会的安定
- C. 珍惜生命是对社会应尽的责任和义务
- D. 没有人可以随意将生命置于无谓的牺牲

【解析】正确答案为 D。横线前提到的是“对于一个家庭的意义……”，因此

《2011 年公务员考试行测考试 100 套华图真题》

合适的用语是“没有人可以随意将生命置于无谓的牺牲”，而不应再强调责任和义务，因此选 D 最恰当。

【例题 2】如果我们只把以前的学习文件照抄一遍，-----，更谈不到用其正确地解决问题，那样，即使我们口头上大讲拥护“三个代表”重要思想，实际上也只能是南辕北辙而已。

填在横线上最恰当的句子是（ ）。

- A. 那就是连一般问题也解决不了了 B. 那就不能解决什么问题
C. 那就不能解决任何问题 D. 那就不是解决问题的办法

【解析】正确答案为 B。这是一道需应试者补充的复句题，属语句判断填空题。要把复句补充完整，就先要弄清楚复句中的“如果……，更……”这样两个层次的逻辑关系。第一个层次是假设关系，第二个层次是递进关系，即和“不能正确地解决问题”构成递进关系的是“不能解决问题”。选项 A、C、D 都不能与构成递进关系，只有 B 选项所表达的内容才是如此。

五、作者观点型◆

既指整个文段的态度立场，又包括文段中局部对某个具体问题的立场和观点。这些观点和态度有的直接表达出来，有的是融在文段中，这就需要对那些表示立场性的词语、句子有足够的敏感度，而对文段中引述别人的观点时需要特别小心，必须弄清楚作者对所引述的观点是持肯定、否定还是其他态度，即要分辨它们是否一致。

这种类型常用的提问方式为“作者想要表达的观点是”、“这段话想表达的主要观点是”、“作者支持的观点是”、“这段话主要支持这样一种观点”、“这段话直接支持这样一种观点”、“这段文字是针对下面哪种现象谈的”、“这段文字批判的是”等。

【例题】生长在水中或水边的动植物的遗体是最容易被保存下来的，因为保存动植物遗体的必要条件是快速掩埋，而在淤泥不断淤积的海洋、河流乃至湖泊中，动植物的遗体以及其他东西能够被快速掩埋。

这段话主要支持了这样一种观点，即（ ）。

- A. 动植物遗体很容易在淤泥不断淤积的海洋、河流乃至湖泊中保存下来
B. 只有生长在水中或水边的动植物的遗体才能被保存下来
C. 淤泥不断淤积的海洋、河流乃至湖泊是保存动植物遗体的最佳环境
D. 只要被快速掩埋，动植物遗体就能被保存

【解析】正确答案为 A。B、D 两项的说法过于绝对，应排除；C 项的说法并未从文段的内容出发来理解，材料中只说明了“海洋、河流、湖泊”易于保存动植物的遗体，并未说明是否是最佳环境，故 C 项也应排除。

经典真题回顾

1. [2004 年中央卷（B 类）第 22 题]

曾任全国政协委员的百岁老人袁晓园说：长寿其实没有任何秘诀，想吃就吃，想睡就睡，顺其自然到百年，这就是我的养生之道。英国哲学家罗素活了 98 岁，从来也不认为长寿有什么秘诀，主张该干什么就干什么，想吃什么就吃什么，一切顺其自然。人体的差异性很大，健康虽有一定之规，但没有什么一成不变的养生之道和长寿秘诀。

对画横线的文字理解准确的是（ ）。

- A. 作者完全同意袁晓园和罗素的主张 B. 作者有保留地同意袁晓园和罗素的主张

《2011 年公务员考试行测考试 100 套华图真题》

C. 作者不同意袁晓园和罗素的主张 D. 作者批评了袁晓园和罗素的主张

【解析】正确答案为 A。本段话的作者意在批评一种以为长期有某种特定的长寿秘诀的观点，因此通过袁晓园和罗素的例子来说明没有一成不变的养生之道和长寿秘诀，袁晓园、罗素和作者的观点是一致的，故选 A。

2. [2005 年中央卷（一类）第 14 题]

人，就是想探寻宇宙奥秘，觅其所未见，因之为探天险而丧生者已为数众多。人类必须征服自然，金沙江之类的天堑改造成通途，事关国计民生，造福古今后世。不意缆车之发明却大大发展了旅游事业，大量赚钱，满足了弱者也能登临天险的好奇心，后果却摧毁了人间天险。

对这段文字的主旨最准确的概括是（ ）。

- A. 缆车的发明可以使自然界的天险变成通途
- B. 缆车既使旅游业赚钱，也满足了游客探险的愿望
- C. 缆车可以让弱者登临天险而不必担心有生命危险
- D. 缆车满足了人的好奇心，也限制了人对自然的探寻

【解析】正确答案为 D。第一句话是说人就是想探寻奥秘，甚至因此丧生；第二句话是说征服自然，造福后世；第三句是说缆车发展了旅游、满足了好奇心，但也摧毁了人对自然的探寻。由此，可以看出 A、B、C 三项仅概括了缆车的正面作用，而没有概括由于缆车而产生的负面效果，故正确答案为 D。

3. [2006 年中央卷（一类）第 23 题]

改革开放以来，确实出现了富豪阶层。然而，这个阶层与广大的人民群众相比，毕竟是凤毛麟角。中国的奢侈品消费增长点主要还在“中产阶级”身上，是他们的超前消费，支撑了奢侈品市场。而中国目前的“中产阶级”，无论从收入水平、消费能力还是消费结构上看，都远不能与发达国家的“中产阶级”相比。

这段话表达主要观点是（ ）。

- A. 富豪不是我国消费者的主体
- B. 我国的“中产阶级”引导着消费潮流
- C. 我国的“中产阶级”不同于发达国家
- D. 我国的“奢侈品时代”还远没有到来

【解析】正确答案为 D。A、B 选项不能从文中推导出来，而 C 选项并非短文所要表达的主要观点，根据“是他们的超前消费，支撑了奢侈品市场”和“而中国目前的‘中产阶级’，无论从收入水平、消费能力还是消费结构上看，都远不能与发达国家的‘中产阶级’相比”，可知作者主要是想说明我国的“奢侈品时代”还远没有到来，故选 D。

4. [2006 年中央卷（一类）第 30 题]

数字图书馆是计算机技术、多媒体技术、网络技术和其他相关技术发展的产物，有着传统图书馆无法比拟的优势和特征，其服务的范围大大超出图书馆的围墙。凡网络所联之地，均可使用，可实现全天候、全自动、智能化的服务。近年来，数字图书馆的建设和研究在国内取得了很大的发展，包括公共图书馆、高校图书馆以及各类情报机构等，相继开展了各类不同规模的数字图书馆建设，提供形式多样的服务。

这段话概括最准确的一项是（ ）。

- A. 数字图书馆代表了未来图书馆的发展方向
- B. 数字图书馆具有很多优势，在国内发展很快
- C. 国内数字图书馆的建设和研究取得了很大发展
- D. 数字图书馆具有传统图书馆无法比拟的优势和特征

《2011 年公务员考试行测考试 100 套华图真题》

【解析】正确答案为 B。所给的材料前半段主要介绍数字图书馆的特征与优势，后半段主要介绍我国数字图书馆的建设与研究发展。对比所给的四个选项，只有 B 项概括得最全面，故正确答案为 B。

5. [2006 年中央卷（二类）第 9 题]

在单独的一次博弈中存在较大的机会主义，也就是只要有可能，每个人都倾向于利用自身的优势为自己谋求最大化的利益，这就可能给对方带来损失，而对方也是同样的人，只要有机会也会这么做，于是双方都要采取措施来防范对方，白白增加了很多“交易成本”。

这段话的核心意思是（ ）。

- A. 怎样避免“交易成本” B. 单次博弈中存在“交易成本”
C. 在博弈活动中必须抢先抓住机会

公务员行政法律理论辅导讲座：企业破产法

【来源：北京金路公务员考试研究中心】

第一章 总则

第一条 为规范企业破产程序，公平清理债权债务，保护债权人和债务人的合法权益，维护社会主义市场经济秩序，制定本法。

第二条 企业法人不能清偿到期债务，并且资产不足以清偿全部债务或者明显缺乏清偿能力的，依照本法规定清理债务。

企业法人有前款规定情形，或者有明显丧失清偿能力可能的，可以依照本法规定进行重整。

第三条 破产案件由债务人住所地人民法院管辖。

第四条 破产案件审理程序，本法没有规定的，适用民事诉讼法的有关规定。

第五条 依照本法开始的破产程序，对债务人在中华人民共和国领域外的财产发生效力。

对外国法院作出的发生法律效力的破产案件的判决、裁定，涉及债务人在中华人民共和国领域内的财产，申请或者请求人民法院承认和执行的，人民法院依照中华人民共和国缔结或者参加的国际条约，或者按照互惠原则进行审查，认为不违反中华人民共和国法律的基本原则，不损害国家主权、安全和社会公共利益，不损害中华人民共和国领域内债权人的合法权益的，裁定承认和执行。

第六条 人民法院审理破产案件，应当依法保障企业职工的合法权益，依法追究破产企业经营管理人员的法律责任。

第二章 申请和受理

第一节 申请

第七条 债务人有本法第二条规定的情形，可以向人民法院提出重整、和解或者破产清算申请。

债务人不能清偿到期债务，债权人可以向人民法院提出对债务人进行重整或者破产清算的申请。

企业法人已解散但未清算或者未清算完毕，资产不足以清偿债务的，依法负有清算责任的人应当向人民法院申请破产清算。

第八条 向人民法院提出破产申请，应当提交破产申请书和有关证据。

《2011年公务员考试行测考试 100 套华图真题》

破产申请书应当载明下列事项：

- (一) 申请人、被申请人的基本情况；
- (二) 申请目的；
- (三) 申请的事实和理由；
- (四) 人民法院认为应当载明的其他事项。

债务人提出申请的，还应当向人民法院提交财产状况说明、债务清册、债权清册、有关财务会计报告、职工安置预案以及职工工资的支付和社会保险费用的缴纳情况。

第九条 人民法院受理破产申请前，申请人可以请求撤回申请。

第二节 受理

第十条 债权人提出破产申请的，人民法院应当自收到申请之日起五日内通知债务人。债务人对申请有异议的，应当自收到人民法院的通知之日起七日内向人民法院提出。人民法院应当自异议期满之日起十日内裁定是否受理。

除前款规定的情形外，人民法院应当自收到破产申请之日起十五日内裁定是否受理。

有特殊情况需要延长前两款规定的裁定受理期限的，经上一级人民法院批准，可以延长十五日。

第十一条 人民法院受理破产申请的，应当自裁定作出之日起五日内送达申请人。

债权人提出申请的，人民法院应当自裁定作出之日起五日内送达债务人。债务人应当自裁定送达之日起十五日内，向人民法院提交财产状况说明、债务清册、债权清册、有关财务会计报告以及职工工资的支付和社会保险费用的缴纳情况。

第十二条 人民法院裁定不受理破产申请的，应当自裁定作出之日起五日内送达申请人并说明理由。申请人对裁定不服的，可以自裁定送达之日起十日内向上一级人民法院提起上诉。

人民法院受理破产申请后至破产宣告前，经审查发现债务人不符合本法第二条规定情形的，可以裁定驳回申请。申请人对裁定不服的，可以自裁定送达之日起十日内向上一级人民法院提起上诉。

第十三条 人民法院裁定受理破产申请的，应当同时指定管理人。

第十四条 人民法院应当自裁定受理破产申请之日起二十五日内通知已知债权人，并予以公告。

通知和公告应当载明下列事项：

- (一) 申请人、被申请人的名称或者姓名；
- (二) 人民法院受理破产申请的时间；
- (三) 申报债权的期限、地点和注意事项；
- (四) 管理人的名称或者姓名及其处理事务的地址；
- (五) 债务人的债务人或者财产持有人应当向管理人清偿债务或者交付财产的要求；
- (六) 第一次债权人会议召开的时间和地点；
- (七) 人民法院认为应当通知和公告的其他事项。

第十五条 自人民法院受理破产申请的裁定送达债务人之日起至破产程序终结之日，债务人的有关人员承担下列义务：

- (一) 妥善保管其占有和管理的财产、印章和账簿、文书等资料；
- (二) 根据人民法院、管理人的要求进行工作，并如实回答询问；

《2011年公务员考试行测考试 100 套华图真题》

- (三) 列席债权人会议并如实回答债权人的询问;
- (四) 未经人民法院许可,不得离开住所地;
- (五) 不得新任其他企业的董事、监事、高级管理人员。

前款所称有关人员,是指企业的法定代表人;经人民法院决定,可以包括企业的财务管理人员和其他经营管理人员。

第十六条 人民法院受理破产申请后,债务人对个别债权人的债务清偿无效。

第十七条 人民法院受理破产申请后,债务人的债务人或者财产持有人应当向管理人清偿债务或者交付财产。

债务人的债务人或者财产持有人故意违反前款规定向债务人清偿债务或者交付财产,使债权人受到损失的,不免除其清偿债务或者交付财产的义务。

第十八条 人民法院受理破产申请后,管理人对破产申请受理前成立而债务人和对方当事人均未履行完毕的合同有权决定解除或者继续履行,并通知对方当事人。管理人自破产申请受理之日起二个月内未通知对方当事人,或者自收到对方当事人催告之日起三十日内未答复的,视为解除合同。

管理人决定继续履行合同的,对方当事人应当履行;但是,对方当事人有权要求管理人提供担保。管理人不提供担保的,视为解除合同。

第十九条 人民法院受理破产申请后,有关债务人财产的保全措施应当解除,执行程序应当中止。

第二十条 人民法院受理破产申请后,已经开始而尚未终结的有关债务人的民事诉讼或者仲裁应当中止;在管理人接管债务人的财产后,该诉讼或者仲裁继续进行。

第二十一条 人民法院受理破产申请后,有关债务人的民事诉讼,只能向受理破产申请的人民法院提起。

第三章 管理人

第二十二条 管理人由人民法院指定。

债权人会议认为管理人不能依法、公正执行职务或者有其他不能胜任职务情形的,可以申请人民法院予以更换。

指定管理人和确定管理人报酬的办法,由最高人民法院规定。

第二十三条 管理人依照本法规定执行职务,向人民法院报告工作,并接受债权人会议和债权人委员会的监督。

管理人应当列席债权人会议,向债权人会议报告职务执行情况,并回答询问。

第二十四条 管理人可以由有关部门、机构的人员组成的清算组或者依法设立的律师事务所、会计师事务所、破产清算事务所等社会中介机构担任。

人民法院根据债务人的实际情况,可以在征询有关社会中介机构的意见后,指定该机构具备相关专业知识和取得执业资格的人员担任管理人。

有下列情形之一的,不得担任管理人:

- (一) 因故意犯罪受过刑事处罚;
- (二) 曾被吊销相关专业执业证书;
- (三) 与本案有利害关系;
- (四) 人民法院认为不宜担任管理人的其他情形。

个人担任管理人的,应当参加执业责任保险。

第二十五条 管理人履行下列职责:

- (一) 接管债务人的财产、印章和账簿、文书等资料;
- (二) 调查债务人财产状况,制作财产状况报告;

《2011年公务员考试行测考试100套华图真题》

- (三) 决定债务人的内部管理事务;
- (四) 决定债务人的日常开支和其他必要开支;
- (五) 在第一次债权人会议召开之前, 决定继续或者停止债务人的营业;
- (六) 管理和处分债务人的财产;
- (七) 代表债务人参加诉讼、仲裁或者其他法律程序;
- (八) 提议召开债权人会议;
- (九) 人民法院认为管理人应当履行的其他职责。

本法对管理人的职责另有规定的, 适用其规定。

第二十六条 在第一次债权人会议召开之前, 管理人决定继续或者停止债务人的营业或者有本法第六十九条规定行为之一的, 应当经人民法院许可。

第二十七条 管理人应当勤勉尽责, 忠实执行职务。

第二十八条 管理人经人民法院许可, 可以聘用必要的工作人员。

管理人的报酬由人民法院确定。债权人会议对管理人的报酬有异议的, 有权向人民法院提出。

第二十九条 管理人没有正当理由不得辞去职务。管理人辞去职务应当经人民法院许可。

第四章 债务人财产

第三十条 破产申请受理时属于债务人的全部财产, 以及破产申请受理后至破产程序终结前债务人取得的财产, 为债务人财产。

第三十一条 人民法院受理破产申请前一年内, 涉及债务人财产的下列行为, 管理人有权请求人民法院予以撤销:

- (一) 无偿转让财产的;
- (二) 以明显不合理的价格进行交易的;
- (三) 对没有财产担保的债务提供财产担保的;
- (四) 对未到期的债务提前清偿的;
- (五) 放弃债权的。

第三十二条 人民法院受理破产申请前六个月内, 债务人有本法第二条第一款规定的情形, 仍对个别债权人进行清偿的, 管理人有权请求人民法院予以撤销。但是, 个别清偿使债务人财产受益的除外。

第三十三条 涉及债务人财产的下列行为无效:

- (一) 为逃避债务而隐匿、转移财产的;
- (二) 虚构债务或者承认不真实的债务的。

第三十四条 因本法第三十一条、第三十二条或者第三十三条规定的行为而取得的债务人的财产, 管理人有权追回。

第三十五条 人民法院受理破产申请后, 债务人的出资人尚未完全履行出资义务的, 管理人应当要求该出资人缴纳所认缴的出资, 而不受出资期限的限制。

第三十六条 债务人的董事、监事和高级管理人员利用职权从企业获取的非正常收入 and 侵占的企业财产, 管理人应当追回。

第三十七条 人民法院受理破产申请后, 管理人可以通过清偿债务或者提供为债权人接受的担保, 取回质物、留置物。

前款规定的债务清偿或者替代担保, 在质物或者留置物的价值低于被担保的债权额时, 以该质物或者留置物当时的市场价值为限。

第三十八条 人民法院受理破产申请后, 债务人占有的不属于债务人的财产, 该财产的权利人可以通过管理人取回。但是, 本法另有规定的除外。

《2011年公务员考试行测考试100套华图真题》

第三十九条 人民法院受理破产申请时，出卖人已将买卖标的物向作为买受人的债务人发运，债务人尚未收到且未付清全部价款的，出卖人可以取回在运途中的标的物。但是，管理人可以支付全部价款，请求出卖人交付标的物。

第四十条 债权人在破产申请受理前对债务人负有债务的，可以向管理人主张抵销。但是，有下列情形之一的，不得抵销：

（一）债务人的债务人在破产申请受理后取得他人对债务人的债权的；

（二）债权人已知债务人有不能清偿到期债务或者破产申请的事实，对债务人负担债务的；但是，债权人因为法律规定或者有破产申请一年前所发生的原因而负担债务的除外；

（三）债务人的债务人已知债务人有不能清偿到期债务或者破产申请的事实，对债务人取得债权的；但是，债务人的债务人因为法律规定或者有破产申请一年前所发生的原因而取得债权的除外。

第五章 破产费用和共益债务

第四十一条 人民法院受理破产申请后发生的下列费用，为破产费用：

（一）破产案件的诉讼费用；

（二）管理、变价和分配债务人财产的费用；

（三）管理人执行职务的费用、报酬和聘用工作人员的费用。

第四十二条 人民法院受理破产申请后发生的下列债务，为共益债务：

（一）因管理人或者债务人请求对方当事人履行双方均未履行完毕的合同所产生的债务；

（二）债务人财产受无因管理所产生的债务；

（三）因债务人不当得利所产生的债务；

（四）为债务人继续营业而应支付的劳动报酬和社会保险费用以及由此产生的其他债务；

（五）管理人或者相关人员执行职务致人损害所产生的债务；

（六）债务人财产致人损害所产生的债务。

第四十三条 破产费用和共益债务由债务人财产随时清偿。

债务人财产不足以清偿所有破产费用和共益债务的，先行清偿破产费用。

债务人财产不足以清偿所有破产费用或者共益债务的，按照比例清偿。

债务人财产不足以清偿破产费用的，管理人应当提请人民法院终结破产程序。人民法院应当自收到请求之日起十五日内裁定终结破产程序，并予以公告。

第六章 债权申报

第四十四条 人民法院受理破产申请时对债务人享有债权的债权人，依照本法规定的程序行使权利。

第四十五条 人民法院受理破产申请后，应当确定债权人申报债权的期限。债权申报期限自人民法院发布受理破产申请公告之日起计算，最短不得少于三十日，最长不得超过三个月。

第四十六条 未到期的债权，在破产申请受理时视为到期。

附利息的债权自破产申请受理时起停止计息。

第四十七条 附条件、附期限的债权和诉讼、仲裁未决的债权，债权人可以申报。

第四十八条 债权人应当在人民法院确定的债权申报期限内向管理人申报债权。

债务人所欠职工的工资和医疗、伤残补助、抚恤费用，所欠的应当划入职工

《2011年公务员考试行测考试100套华图真题》

个人账户的基本养老保险、基本医疗保险费用，以及法律、行政法规规定应当支付给职工的补偿金，不必申报，由管理人调查后列出清单并予以公示。职工对清单记载有异议的，可以要求管理人更正；管理人不予更正的，职工可以向人民法院提起诉讼。

第四十九条 债权人申报债权时，应当书面说明债权的数额和有无财产担保，并提交有关证据。申报的债权是连带债权的，应当说明。

第五十条 连带债权人可以由其中一人代表全体连带债权人申报债权，也可以共同申报债权。

第五十一条 债务人的保证人或者其他连带债务人已经代替债务人清偿债务的，以其对债务人的求偿权申报债权。

债务人的保证人或者其他连带债务人尚未代替债务人清偿债务的，以其对债务人的将来求偿权申报债权。但是，债权人已经向管理人申报全部债权的除外。

第五十二条 连带债务人人数人被裁定适用本法规定的程序的，其债权人有权就全部债权分别在各破产案件中申报债权。

第五十三条 管理人或者债务人依照本法规定解除合同的，对方当事人以因合同解除所产生的损害赔偿请求权申报债权。

第五十四条 债务人是委托合同的委托人，被裁定适用本法规定的程序，受托人不知该事实，继续处理委托事务的，受托人以由此产生的请求权申报债权。

第五十五条 债务人是票据的出票人，被裁定适用本法规定的程序，该票据的付款人继续付款或者承兑的，付款人以由此产生的请求权申报债权。

第五十六条 在人民法院确定的债权申报期限内，债权人未申报债权的，可以在破产财产最后分配前补充申报；但是，此前已进行的分配，不再对其补充分配。为审查和确认补充申报债权的费用，由补充申报人承担。

债权人未依照本法规定申报债权的，不得依照本法规定的程序行使权利。

第五十七条 管理人收到债权申报材料后，应当登记造册，对申报的债权进行审查，并编制债权表。

债权表和债权申报材料由管理人保存，供利害关系人查阅。

第五十八条 依照本法第五十七条规定编制的债权表，应当提交第一次债权人会议核查。

债务人、债权人对债权表记载的债权无异议的，由人民法院裁定确认。

债务人、债权人对债权表记载的债权有异议的，可以向受理破产申请的人民法院提起诉讼。

第七章 债权人会议

第一节 一般规定

第五十九条 依法申报债权的债权人为债权人会议的成员，有权参加债权人会议，享有表决权。

债权尚未确定的债权人，除人民法院能够为其行使表决权而临时确定债权额的外，不得行使表决权。

对债务人的特定财产享有担保权的债权人，未放弃优先受偿权利的，对于本法第六十一条第一款第七项、第十项规定的事项不享有表决权。

债权人可以委托代理人出席债权人会议，行使表决权。代理人出席债权人会议，应当向人民法院或者债权人会议主席提交债权人的授权委托书。

债权人会议应当有债务人的职工和工会的代表参加，对有关事项发表意见。

第六十条 债权人会议设主席一人，由人民法院从有表决权的债权人中指定。

《2011年公务员考试行测考试 100 套华图真题》

债权人会议主席主持债权人会议。

第六十一条 债权人会议行使下列职权：

- (一) 核查债权；
- (二) 申请人民法院更换管理人，审查管理人的费用和报酬；
- (三) 监督管理人；
- (四) 选任和更换债权人委员会成员；
- (五) 决定继续或者停止债务人的营业；
- (六) 通过重整计划；
- (七) 通过和解协议；
- (八) 通过债务人财产的管理方案；
- (九) 通过破产财产的变价方案；
- (十) 通过破产财产的分配方案；
- (十一) 人民法院认为应当由债权人会议行使的其他职权。

债权人会议应当对所议事项的决议作成会议记录。

第六十二条 第一次债权人会议由人民法院召集，自债权申报期限届满之日起十五日内召开。

以后的债权人会议，在人民法院认为必要时，或者管理人、债权人委员会、占债权总额四分之一以上的债权人向债权人会议主席提议时召开。

第六十三条 召开债权人会议，管理人应当提前十五日通知已知的债权人。

第六十四条 债权人会议的决议，由出席会议的有表决权的债权人过半数通过，并且其所代表的债权额占无财产担保债权总额的二分之一以上。但是，本法另有规定的除外。

债权人认为债权人会议的决议违反法律规定，损害其利益的，可以自债权人会议作出决议之日起十五日内，请求人民法院裁定撤销该决议，责令债权人会议依法重新作出决议。

债权人会议的决议，对于全体债权人均有约束力。

第六十五条 本法第六十一条第一款第八项、第九项所列事项，经债权人会议表决未通过的，由人民法院裁定。

本法第六十一条第一款第十项所列事项，经债权人会议二次表决仍未通过的，由人民法院裁定。

对前两款规定的裁定，人民法院可以在债权人会议上宣布或者另行通知债权人。

第六十六条 债权人对人民法院依照本法第六十五条第一款作出的裁定不服的，债权额占无财产担保债权总额二分之一以上的债权人对人民法院依照本法第六十五条第二款作出的裁定不服的，可以自裁定宣布之日或者收到通知之日起十五日内向该人民法院申请复议。复议期间不停止裁定的执行。

第二节 债权人委员会

第六十七条 债权人会议可以决定设立债权人委员会。债权人委员会由债权人会议选任的债权人代表和一名债务人的职工代表或者工会代表组成。债权人委员会成员不得超过九人。

债权人委员会成员应当经人民法院书面决定认可。

第六十八条 债权人委员会行使下列职权：

- (一) 监督债务人财产的管理和处分；
- (二) 监督破产财产分配；

《2011年公务员考试行测考试 100 套华图真题》

(三) 提议召开债权人会议;

(四) 债权人会议委托的其他职权。

债权人委员会执行职务时, 有权要求管理人、债务人的有关人员对其职权范围内的事务作出说明或者提供有关文件。

管理人、债务人的有关人员违反本法规定拒绝接受监督的, 债权人委员会有权就监督事项请求人民法院作出决定; 人民法院应当在五日内作出决定。

第六十九条 管理人实施下列行为, 应当及时报告债权人委员会:

(一) 涉及土地、房屋等不动产权益的转让;

(二) 探矿权、采矿权、知识产权等财产权的转让;

(三) 全部库存或者营业的转让;

(四) 借款;

(五) 设定财产担保;

(六) 债权和有价证券的转让;

(七) 履行债务人和对方当事人均未履行完毕的合同;

(八) 放弃权利;

(九) 担保物的取回;

(十) 对债权人利益有重大影响的其他财产处分行为。

未设立债权人委员会的, 管理人实施前款规定的行为应当及时报告人民法院。

第八章 重整

第一节 重整申请和重整期间

第七十条 债务人或者债权人可以依照本法规定, 直接向人民法院申请对债务人进行重整。

债权人申请对债务人进行破产清算的, 在人民法院受理破产申请后、宣告债务人破产前, 债务人或者出资额占债务人注册资本十分之一以上的出资人, 可以向人民法院申请重整。

第七十一条 人民法院经审查认为重整申请符合本法规定的, 应当裁定债务人重整, 并予以公告。

第七十二条 自人民法院裁定债务人重整之日起至重整程序终止, 为重整期间。

第七十三条 在重整期间, 经债务人申请, 人民法院批准, 债务人可以在管理人的监督下自行管理财产和营业事务。

有前款规定情形的, 依照本法规定已接管债务人财产和营业事务的管理人应当向债务人移交财产和营业事务, 本法规定的管理人的职权由债务人行使。

第七十四条 管理人负责管理财产和营业事务的, 可以聘任债务人的经营管理人员负责营业事务。

第七十五条 在重整期间, 对债务人的特定财产享有的担保权暂停行使。但是, 担保物有损坏或者价值明显减少的可能, 足以危害担保权的, 担保物权人可以在重整期间, 债务人或者管理人为继续营业而借款的, 可以为该借款设定担保。

第七十六条 债务人合法占有的他人财产, 该财产的权利人在重整期间要求取回的, 应当符合事先约定的条件。

第七十七条 在重整期间, 债务人的出资人不得请求投资收益分配。

在重整期间, 债务人的董事、监事、高级管理人员不得向第三人转让其持有的债务人的股权。但是, 经人民法院同意的除外。

《2011年公务员考试行测考试 100 套华图真题》

第七十八条 在重整期间，有下列情形之一的，经管理人或者利害关系人请求，人民法院应当裁定终止重整程序，并宣告债务人破产：

- （一）债务人的经营状况和财产状况继续恶化，缺乏挽救的可能性；
- （二）债务人有欺诈、恶意减少债务人财产或者其他显著不利于债权人的行为；

- （三）由于债务人的行为致使管理人无法执行职务。

第二节 重整计划的制定和批准

第七十九条 债务人或者管理人应当自人民法院裁定债务人重整之日起六个月内，同时向人民法院和债权人会议提交重整计划草案。

前款规定的期限届满，经债务人或者管理人请求，有正当理由的，人民法院可以裁定延期三个月。

债务人或者管理人未按期提出重整计划草案的，人民法院应当裁定终止重整程序，并宣告债务人破产。

第八十条 债务人自行管理财产和营业事务的，由债务人制作重整计划草案。

管理人负责管理财产和营业事务的，由管理人制作重整计划草案。

第八十一条 重整计划草案应当包括下列内容：

- （一）债务人的经营方案；
- （二）债权分类；
- （三）债权调整方案；
- （四）债权受偿方案；
- （五）重整计划的执行期限；
- （六）重整计划执行的监督期限；
- （七）有利于债务人重整的其他方案。

第八十二条 下列各类债权的债权人参加讨论重整计划草案的债权人会议，依照下列债权分类，分组对重整计划草案进行表决：

- （一）对债务人的特定财产享有担保权的债权；
- （二）债务人所欠职工的工资和医疗、伤残补助、抚恤费用，所欠的应当划入职工个人账户的基本养老保险、基本医疗保险费用，以及法律、行政法规规定应当支付给职工的补偿金；
- （三）债务人所欠税款；
- （四）普通债权。

人民法院在必要时可以决定在普通债权组中设小额债权组对重整计划草案进行表决。

第八十三条 重整计划不得规定减免债务人欠缴的本法第八十二条第一款第二项规定以外的社会保险费用；该项费用的债权人不参加重整计划草案的表决。

第八十四条 人民法院应当自收到重整计划草案之日起三十日内召开债权人会议，对重整计划草案进行表决。

出席会议的同一表决组的债权人过半数同意重整计划草案，并且其所代表的债权额占该组债权总额的三分之二以上的，即为该组通过重整计划草案。

债务人或者管理人应当向债权人会议就重整计划草案作出说明，并回答询问。

第八十五条 债务人的出资人代表可以列席讨论重整计划草案的债权人会议。

重整计划草案涉及出资人权益调整事项的，应当设出资人组，对该事项进行表决。

《2011年公务员考试行测考试100套华图真题》

第八十六条 各表决组均通过重整计划草案时，重整计划即为通过。

自重整计划通过之日起十日内，债务人或者管理人应当向人民法院提出批准重整计划的申请。人民法院经审查认为符合本法规定的，应当自收到申请之日起三十日内裁定批准，终止重整程序，并予以公告。

第八十七条 部分表决组未通过重整计划草案的，债务人或者管理人可以同未通过重整计划草案的表决组协商。该表决组可以在协商后再表决一次。双方协商的结果不得损害其他表决组的利益。

未通过重整计划草案的表决组拒绝再次表决或者再次表决仍未通过重整计划草案，但重整计划草案符合下列条件的，债务人或者管理人可以申请人民法院批准重整计划草案：

（一）按照重整计划草案，本法第八十二条第一款第一项所列债权就该特定财产将获得全额清偿，其因延期清偿所受的损失将得到公平补偿，并且其担保权未受到实质性损害，或者该表决组已经通过重整计划草案；

（二）按照重整计划草案，本法第八十二条第一款第二项、第三项所列债权将获得全额清偿，或者相应表决组已经通过重整计划草案；

（三）按照重整计划草案，普通债权所获得的清偿比例，不低于其在重整计划草案被提请批准时依照破产清算程序所能获得的清偿比例，或者该表决组已经通过重整计划草案；

（四）重整计划草案对出资人权益的调整公平、公正，或者出资人组已经通过重整计划草案；

（五）重整计划草案公平对待同一表决组的成员，并且所规定的债权清偿顺序不违反本法第一百一十三条的规定；

（六）债务人的经营方案具有可行性。

人民法院经审查认为重整计划草案符合前款规定的，应当自收到申请之日起三十日内裁定批准，终止重整程序，并予以公告。

第八十八条 重整计划草案未获得通过且未依照本法第八十七条的规定获得批准，或者已通过的重整计划未获得批准的，人民法院应当裁定终止重整程序，并宣告债务人破产。

第三节 重整计划的执行

第八十九条 重整计划由债务人负责执行。

人民法院裁定批准重整计划后，已接管财产和营业事务的管理人应当向债务人移交财产和营业事务。

第九十条 自人民法院裁定批准重整计划之日起，在重整计划规定的监督期内，由管理人监督重整计划的执行。

在监督期内，债务人应当向管理人报告重整计划执行情况和债务人财务状况。

第九十一条 监督期届满时，管理人应当向人民法院提交监督报告。自监督报告提交之日起，管理人的监督职责终止。

管理人向人民法院提交的监督报告，重整计划的利害关系人有权查阅。

经管理人申请，人民法院可以裁定延长重整计划执行的监督期限。

第九十二条 经人民法院裁定批准的重整计划，对债务人和全体债权人均有约束力。

债权人未依照本法规定申报债权的，在重整计划执行期间不得行使权利；在重整计划执行完毕后，可以按照重整计划规定的同类债权的清偿条件行使权利。

债权人对债务人的保证人和其他连带债务人所享有的权利，不受重整计划的

《2011年公务员考试行测考试 100 套华图真题》

影响。

第九十三条 债务人不能执行或者不执行重整计划的，人民法院经管理人或者利害关系人请求，应当裁定终止重整计划的执行，并宣告债务人破产。

人民法院裁定终止重整计划执行的，债权人在重整计划中作出的债权调整的承诺失去效力。债权人因执行重整计划所受的清偿仍然有效，债权未受清偿的部分作为破产债权。

前款规定的债权人，只有在其他同顺位债权人同自己所受的清偿达到同一比例时，才能继续接受分配。

有本条第一款规定情形的，为重整计划的执行提供的担保继续有效。

第九十四条 按照重整计划减免的债务，自重整计划执行完毕时起，债务人不再承担清偿责任。

第九章 和解

第九十五条 债务人可以依照本法规定，直接向人民法院申请和解；也可以在人民法院受理破产申请后、宣告债务人破产前，向人民法院申请和解。

债务人申请和解，应当提出和解协议草案。

第九十六条 人民法院经审查认为和解申请符合本法规定的，应当裁定和解，予以公告，并召集债权人会议讨论和解协议草案。

对债务人的特定财产享有担保权的权利人，自人民法院裁定和解之日起可以行使权利。

第九十七条 债权人会议通过和解协议的决议，由出席会议的有表决权的债权人过半数同意，并且其所代表的债权额占无财产担保债权总额的三分之二以上。

第九十八条 债权人会议通过和解协议的，由人民法院裁定认可，终止和解程序，并予以公告。管理人应当向债务人移交财产和营业事务，并向人民法院提交执行职务的报告。

第九十九条 和解协议草案经债权人会议表决未获得通过，或者已经债权人会议通过的和解协议未获得人民法院认可的，人民法院应当裁定终止和解程序，并宣告债务人破产。

第一百条 经人民法院裁定认可的和解协议，对债务人和全体和解债权人均有约束力。

和解债权人是指人民法院受理破产申请时对债务人享有无财产担保债权的人。

和解债权人未依照本法规定申报债权的，在和解协议执行期间不得行使权利；在和解协议执行完毕后，可以按照和解协议规定的清偿条件行使权利。

第一百零一条 和解债权人对债务人的保证人和其他连带债务人所享有的权利，不受和解协议的影响。

第一百零二条 债务人应当按照和解协议规定的条件清偿债务。

第一百零三条 因债务人的欺诈或者其他违法行为而成立的和解协议，人民法院应当裁定无效，并宣告债务人破产。

有前款规定情形的，和解债权人因执行和解协议所受的清偿，在其他债权人所受清偿同等比例的范围内，不予返还。

第一百零四条 债务人不能执行或者不执行和解协议的，人民法院经和
亡饲肭螭 Φ輩枚口罩购徒庠 榈闹葱校 (12) 颢 祥似撇 ?BR>人民法院裁定终止和解协议执行的，和解债权人在和解协议中作出的债权调整的承诺失去效力。和解债权人因执行和解协议所受的清偿仍然有效，和解债权未受清偿的部分作为

《2011年公务员考试行测考试100套华图真题》

破产债权。

前款规定的债权人，只有在其他债权人同自己所受清偿达到同一比例时，才能继续接受分配。

有本条第一款规定情形的，为和解协议的执行提供的担保继续有效。

第一百零五条 人民法院受理破产申请后，债务人与全体债权人就债权债务的处理自行达成协议的，可以请求人民法院裁定认可，并终结破产程序。

第一百零六条 按照和解协议减免的债务，自和解协议执行完毕时起，债务人不再承担清偿责任。

第十章 破产清算

第一节 破产宣告

第一百零七条 人民法院依照本法规定宣告债务人破产的，应当自裁定作出之日起五日内送达债务人和管理人，自裁定作出之日起十日内通知已知债权人，并予以公告。

债务人被宣告破产后，债务人称为破产人，债务人财产称为破产财产，人民法院受理破产申请时对债务人享有的债权称为破产债权。

第一百零八条 破产宣告前，有下列情形之一的，人民法院应当裁定终结破产程序，并予以公告：

- (一)第三人为债务人提供足额担保或者为债务人清偿全部到期债务的；
- (二)债务人已清偿全部到期债务的。

第一百零九条 对破产人的特定财产享有担保权的权利人，对该特定财产享有优先受偿的权利。

第一百一十条 享有本法第一百零九条规定权利的债权人行使优先受偿权利未能完全受偿的，其未受偿的债权作为普通债权；放弃优先受偿权利的，其债权作为普通债权。

第二节 变价和分配

第一百一十一条 管理人应当及时拟订破产财产变价方案，提交债权人会议讨论。

管理人应当按照债权人会议通过的或者人民法院依照本法第六十五条第一款规定裁定的破产财产变价方案，适时变价出售破产财产。

第一百一十二条 变价出售破产财产应当通过拍卖进行。但是，债权人会议另有决议的除外。

破产企业可以全部或者部分变价出售。企业变价出售时，可以将其中的无形资产和其他财产单独变价出售。

按照国家规定不能拍卖或者限制转让的财产，应当按照国家规定的方式处理。

第一百一十三条 破产财产在优先清偿破产费用和共益债务后，依照下列顺序清偿：

- (一)破产人所欠职工的工资和医疗、伤残补助、抚恤费用，所欠的应当划入职工个人账户的基本养老保险、基本医疗保险费用，以及法律、行政法规规定应当支付给职工的补偿金；
- (二)破产人欠缴的除前项规定以外的社会保险费用和破产人所欠税款；
- (三)普通破产债权。

破产财产不足以清偿同一顺序的清偿要求的，按照比例分配。

破产企业的董事、监事和高级管理人员的工资按照该企业职工的平均工资计算。

《2011年公务员考试行测考试100套华图真题》

第一百一十四条 破产财产的分配应当以货币分配方式进行。但是，债权人会议另有决议的除外。

第一百一十五条 管理人应当及时拟订破产财产分配方案，提交债权人会议讨论。

破产财产分配方案应当载明下列事项：

- (一) 参加破产财产分配的债权人名称或者姓名、住所；
- (二) 参加破产财产分配的债权额；
- (三) 可供分配的破产财产数额；
- (四) 破产财产分配的顺序、比例及数额；
- (五) 实施破产财产分配的方法。

债权人会议通过破产财产分配方案后，由管理人将该方案提请人民法院裁定认可。

第一百一十六条 破产财产分配方案经人民法院裁定认可后，由管理人执行。

管理人按照破产财产分配方案实施多次分配的，应当公告本次分配的财产额和债权额。管理人实施最后分配的，应当在公告中指明，并载明本法第一百一十七条第二款规定的事项。

第一百一十七条 对于附生效条件或者解除条件的债权，管理人应当将其分配额提存。

管理人依照前款规定提存的分配额，在最后分配公告日，生效条件未成就或者解除条件成就的，应当分配给其他债权人；在最后分配公告日，生效条件成就或者解除条件未成就的，应当交付给债权人。

第一百一十八条 债权人未受领的破产财产分配额，管理人应当提存。债权人自最后分配公告之日起满二个月仍不领取的，视为放弃受领分配的权利，管理人或者人民法院应当将提存的分配额分配给其他债权人。

第一百一十九条 破产财产分配时，对于诉讼或者仲裁未决的债权，管理人应当将其分配额提存。自破产程序终结之日起满二年仍不能受领分配的，人民法院应当将提存的分配额分配给其他债权人。

第三节 破产程序的终结

第一百二十条 破产人无财产可供分配的，管理人应当请求人民法院裁定终结破产程序。

管理人在最后分配完结后，应当及时向人民法院提交破产财产分配报告，并提请人民法院裁定终结破产程序。

人民法院应当自收到管理人终结破产程序的请求之日起十五日内作出是否终结破产程序的裁定。裁定终结的，应当予以公告。

第一百二十一条 管理人应当自破产程序终结之日起十日内，持人民法院终结破产程序的裁定，向破产人的原登记机关办理注销登记。

第一百二十二条 管理人于办理注销登记完毕的次日终止执行职务。但是，存在诉讼或者仲裁未决情况的除外。

第一百二十三条 自破产程序依照本法第四十三条规定终结之日起二年内，有下列情形之一的，管理人应当及时报告人民法院：
(一) 发现有依照本法第三十一条、第三十二条、第三十三条、第三十六条规定应当追回的财产的；

(二) 发现破产人有应当供分配的其他财产的。

有前款规定情形，但财产数量不足以支付分配费用的，不再进行追加分配，

《2011年公务员考试行测考试100套华图真题》

由人民法院将其上交国库。

第一百二十四条 破产人的保证人和其他连带债务人，在破产程序终结后，对债权人依照破产清算程序未受清偿的债权，依法继续承担清偿责任。

第十一章 法律责任

第一百二十五条 企业董事、监事或者高级管理人员违反忠实义务、勤勉义务，致使所在企业破产的，依法承担民事责任。

有前款规定情形的人员，自破产程序终结之日起三年内不得担任任何企业的董事、监事、高级管理人员。

第一百二十六条 有义务列席债权人会议的债务人的有关人员，经人民法院传唤，无正当理由拒不列席债权人会议的，人民法院可以拘传，并依法处以罚款。债务人的有关人员违反本法规定，拒不陈述、回答，或者作虚假陈述、回答的，人民法院可以依法处以罚款。

第一百二十七条 债务人违反本法规定，拒不向人民法院提交或者提交不真实的财产状况说明、债务清册、债权清册、有关财务会计报告以及职工工资的支付情况和社会保险费用的缴纳情况的，人民法院可以对直接责任人员依法处以罚款。

债务人违反本法规定，拒不向管理人移交财产、印章和账簿、文书等资料的，或者伪造、销毁有关财产证据材料而使财产状况不明的，人民法院可以对直接责任人员依法处以罚款。

第一百二十八条 债务人有本法第三十一条、第三十二条、第三十三条规定的行为，损害债权人利益的，债务人的法定代表人和其他直接责任人员依法承担赔偿责任。

第一百二十九条 债务人的有关人员违反本法规定，擅自离开住所地的，人民法院可以予以训诫、拘留，可以依法并处罚款。

第一百三十条 管理人未依照本法规定勤勉尽责，忠实执行职务的，人民法院可以依法处以罚款；给债权人、债务人或者第三人造成损失的，依法承担赔偿责任。

第一百三十一条 违反本法规定，构成犯罪的，依法追究刑事责任。

第十二章 附则

第一百三十二条 本法施行后，破产人在本法公布之日前所欠职工的工资和医疗、伤残补助、抚恤费用，所欠的应当划入职工个人账户的基本养老保险、基本医疗保险费用，以及法律、行政法规规定应当支付给职工的补偿金，依照本法第一百一十三条的规定清偿后不足以清偿的部分，以本法第一百零九条规定的特定财产优先于对该特定财产享有担保权的权利人受偿。

第一百三十三条 在本法施行前国务院规定的期限和范围内的国有企业实施破产的特殊事宜，按照国务院有关规定办理。

第一百三十四条 商业银行、证券公司、保险公司等金融机构有本法第二条规定情形的，国务院金融监督管理机构可以向人民法院提出对该金融机构进行重整或者破产清算的申请。国务院金融监督管理机构依法对出现重大经营风险的金融机构采取接管、托管等措施的，可以向人民法院申请中止以该金融机构为被告或者被执行人的民事诉讼程序或者执行程序。

金融机构实施破产的，国务院可以依据本法和其他有关法律的规定制定实施办法。

第一百三十五条 其他法律规定企业法人以外的组织的清算，属于破产清算

《2011 年公务员考试行测考试 100 套华图真题》

的，参照适用本法规定的程序。

第一百三十六条 本法自 2007 年 6 月 1 日起施行，《中华人民共和国企业破产法（试行）》同时废止。

公务员考试行政法律理论辅导讲座：证券法

[来源: 北京金路公务员考试研究中心]

中华人民共和国证券法(1998 年 12 月 29 日第九届全国人民代表大会常务委员会第六次会议通过 根据 2004 年 8 月 28 日第十届全国人民代表大会常务委员会第十一次会议《关于修改〈中华人民共和国证券法〉的决定》修正 2005 年 10 月 27 日第十届全国人民代表大会常务委员会第十八次会议修订)

第一章 总 则

第一条 为了规范证券发行和交易行为，保护投资者的合法权益，维护社会经济秩序和社会公共利益，促进社会主义市场经济的发展，制定本法。

第二条 在中华人民共和国境内，股票、公司债券和国务院依法认定的其他证券的发行和交易，适用本法；本法未规定的，适用《中华人民共和国公司法》和其他法律、行政法规的规定。

政府债券、证券投资基金份额的上市交易，适用本法；其他法律、行政法规有特别规定的，适用其规定。证券衍生品种发行、交易的管理办法，由国务院依照本法的原则规定。

第三条 证券的发行、交易活动，必须实行公开、公平、公正的原则。

第四条 证券发行、交易活动的当事人具有平等的法律地位，应当遵守自愿、有偿、诚实信用的原则。

第五条 证券的发行、交易活动，必须遵守法律、行政法规；禁止欺诈、内幕交易和操纵证券市场的行为。

第六条 证券业和银行业、信托业、保险业实行分业经营、分业管理，证券公司与银行、信托、保险业务机构分别设立。国家另有规定的除外。

第七条 国务院证券监督管理机构依法对全国证券市场实行集中统一监督管理。

国务院证券监督管理机构根据需要可以设立派出机构，按照授权履行监督管理职责。

第八条 在国家对证券发行、交易活动实行集中统一监督管理的前提下，依法设立证券业协会，实行自律性管理。

第九条 国家审计机关依法对证券交易所、证券公司、证券登记结算机构、证券监督管理机构进行审计监督。

第二章 证券发行

第十条 公开发行证券，必须符合法律、行政法规规定的条件，并依法报经国务院证券监督管理机构或者国务院授权的部门核准；未经依法核准，任何单位和个人不得公开发行证券。

有下列情形之一的，为公开发行：

(一) 向不特定对象发行证券；

《2011年公务员考试行测考试100套华图真题》

(二)向累计超过二百人的特定对象发行证券;

(三)法律、行政法规规定的其他发行行为。非公开发行证券,不得采用广告、公开劝诱和变相公开方式。

第十一条 发行人申请公开发行股票、可转换为股票的公司债券,依法采取承销方式的,或者公开发行法律、行政法规规定实行保荐制度的其他证券的,应当聘请具有保荐资格的机构担任保荐人。

保荐人应当遵守业务规则和行业规范,诚实守信,勤勉尽责,对发行人的申请文件和信息披露资料进行审慎核查,督导发行人规范运作。

保荐人的资格及其管理办法由国务院证券监督管理机构规定。

第十二条 设立股份有限公司公开发行股票,应当符合《中华人民共和国公司法》规定的条件和经国务院批准的国务院证券监督管理机构规定的其他条件,向国务院证券监督管理机构报送募股申请和下列文件:

(一)公司章程;

(二)发起人协议;

(三)发起人姓名或者名称,发起人认购的股份数、出资种类及验资证明;

(四)招股说明书;

(五)代收股款银行的名称及地址;

(六)承销机构名称及有关的协议。依照本法规定聘请保荐人的,还应当报送保荐人出具的发行保荐书。

法律、行政法规规定设立公司必须报经批准的,还应当提交相应的批准文件。

第十三条 公司公开发行新股,应当符合下列条件:

(一)具备健全且运行良好的组织机构;

(二)具有持续盈利能力,财务状况良好;

(三)最近三年财务会计文件无虚假记载,无其他重大违法行为;

(四)经国务院批准的国务院证券监督管理机构规定的其他条件。

上市公司非公开发行新股,应当符合经国务院批准的国务院证券监督管理机构规定的条件,并报国务院证券监督管理机构核准。

第十四条 公司公开发行新股,应当向国务院证券监督管理机构报送募股申请和下列文件:

(一)公司营业执照;

(二)公司章程;

(三)股东大会决议;

(四)招股说明书;

(五)财务会计报告;

(六)代收股款银行的名称及地址;

(七)承销机构名称及有关的协议。依照本法规定聘请保荐人的,还应当报送保荐人出具的发行保荐书。

第十五条 公司对公开发行股票所募集资金,必须按照招股说明书所列资金用途使用。改变招股说明书所列资金用途,必须经股东大会作出决议。擅自改变用途而未作纠正的,或者未经股东大会认可的,不得公开发行新股,上市公司也不得非公开发行新股。

第十六条 公开发行公司债券,应当符合下列条件:

(一)股份有限公司的净资产不低于人民币三千万元,有限责任公司的净资产不低于人民币六千万元;

《2011年公务员考试行测考试 100 套华图真题》

- (二) 累计债券余额不超过公司净资产的百分之四十;
- (三) 最近三年平均可分配利润足以支付公司债券一年的利息;
- (四) 筹集的资金投向符合国家产业政策;
- (五) 债券的利率不超过国务院限定的利率水平;
- (六) 国务院规定的其他条件。

公开发行公司债券筹集的资金，必须用于核准的用途，不得用于弥补亏损和非生产性支出。上市公司发行可转换为股票的公司债券，除应当符合第一款规定的条件外，还应当符合本法关于公开发行股票的条件，并报国务院证券监督管理机构核准。

第十七条 申请公开发行公司债券，应当向国务院授权的部门或者国务院证券监督管理机构报送下列文件：

- (一) 公司营业执照;
- (二) 公司章程;
- (三) 公司债券募集办法;
- (四) 资产评估报告和验资报告;
- (五) 国务院授权的部门或者国务院证券监督管理机构规定的其他文件。

依照本法规定聘请保荐人的，还应当报送保荐人出具的发行保荐书。

第十八条 有下列情形之一的，不得再次公开发行公司债券：

- (一) 前一次公开发行的公司债券尚未募足;
- (二) 对已公开发行的公司债券或者其他债务有违约或者延迟支付本息的事实，仍处于继续状态;
- (三) 违反本法规定，改变公开发行公司债券所募资金的用途。

第十九条 发行人依法申请核准发行证券所报送的申请文件的格式、报送方式，由依法负责核准的机构或者部门规定。

第二十条 发行人向国务院证券监督管理机构或者国务院授权的部门报送的证券发行申请文件，必须真实、准确、完整。

为证券发行出具有关文件的证券服务机构和人员，必须严格履行法定职责，保证其所出具文件的真实性、准确性和完整性。

第二十一条 发行人申请首次公开发行股票的，在提交申请文件后，应当按照国务院证券监督管理机构的规定预先披露有关申请文件。

第二十二条 国务院证券监督管理机构设发行审核委员会，依法审核股票发行申请。

发行审核委员会由国务院证券监督管理机构的专业人员和所聘请的该机构外的有关专家组成，以投票方式对股票发行申请进行表决，提出审核意见。发行审核委员会的具体组成办法、组成人员任期、工作程序，由国务院证券监督管理机构规定。

第二十三条 国务院证券监督管理机构依照法定条件负责核准股票发行申请。核准程序应当公开，依法接受监督。

参与审核和核准股票发行申请的人员，不得与发行人有利害关系，不得直接或者间接接受发行申请人的馈赠，不得持有所核准的发行申请的股票，不得私下与发行人进行接触。

国务院授权的部门对公司债券发行申请的核准，参照前两款的规定执行。

第二十四条 国务院证券监督管理机构或者国务院授权的部门应当自受理证券发行申请文件之日起三个月内，依照法定条件和法定程序作出予以核准或者不

《2011年公务员考试行测考试 100 套华图真题》

予核准的决定，发行人根据要求补充、修改发行申请文件的时间不计算在内；不予核准的，应当说明理由。

第二十五条 证券发行申请经核准，发行人应当依照法律、行政法规的规定，在证券公开发行前，公告公开发行募集文件，并将该文件置备于指定场所供公众查阅。发行证券的信息依法公开前，任何知情人不得公开或者泄露该信息。

发行人不得在公告公开发行募集文件前发行证券。

第二十六条 国务院证券监督管理机构或者国务院授权的部门对已作出的核准证券发行的决定，发现不符合法定条件或者法定程序，尚未发行证券的，应当予以撤销，停止发行。已经发行尚未上市的，撤销发行核准决定，发行人应当按照发行价并加算银行同期存款利息返还证券持有人；保荐人应当与发行人承担连带责任，但是能够证明自己没有过错的除外；发行人的控股股东、实际控制人有过错的，应当与发行人承担连带责任。

第二十七条 股票依法发行后，发行人经营与收益的变化，由发行人自行负责；由此变化引致的投资风险，由投资者自行负责。

第二十八条 发行人向不特定对象公开发行的证券，法律、行政法规规定应当由证券公司承销的，发行人应当同证券公司签订承销协议。证券承销业务采取代销或者包销方式。

证券代销是指证券公司代发行人发售证券，在承销期结束时，将未售出的证券全部退还给发行人的承销方式。证券包销是指证券公司将发行人的证券按照协议全部购入或者在承销期结束时将售后剩余证券全部自行购入的承销方式。

第二十九条 公开发行证券的发行人有权依法自主选择承销的证券公司。证券公司不得以不正当竞争手段招揽证券承销业务。

第三十条 证券公司承销证券，应当同发行人签订代销或者包销协议，载明下列事项：

- (一) 当事人的名称、住所及法定代表人姓名；
- (二) 代销、包销证券的种类、数量、金额及发行价格；
- (三) 代销、包销的期限及起止日期；
- (四) 代销、包销的付款方式及日期；
- (五) 代销、包销的费用和结算办法；
- (六) 违约责任；
- (七) 国务院证券监督管理机构规定的其他事项。

第三十一条 证券公司承销证券，应当对公开发行募集文件的真实性、准确性、完整性进行核查；发现有虚假记载、误导性陈述或者重大遗漏的，不得进行销售活动；已经销售的，必须立即停止销售活动，并采取纠正措施。

第三十二条 向不特定对象公开发行的证券票面总值超过人民币五千万元的，应当由承销团承销。承销团应当由主承销和参与承销的证券公司组成。

第三十三条 证券的代销、包销期限最长不得超过九十日。

证券公司在代销、包销期内，对所代销、包销的证券应当保证先行出售给认购人，证券公司不得为本公司预留所代销的证券和预先购入并留存所包销的证券。

第三十四条 股票发行采取溢价发行的，其发行价格由发行人与承销的证券公司协商确定。

第三十五条 股票发行采用代销方式，代销期限届满，向投资者出售的股票数量未达到拟公开发行股票数量百分之七十的，为发行失败。发行人应当按照发行价并加算银行同期存款利息返还股票认购人。

《2011年公务员考试行测考试 100 套华图真题》

第三十六条 公开发行股票，代销、包销期限届满，发行人应当在规定的期限内将股票发行情况报国务院证券监督管理机构备案。

第三章 证券交易

第一节 一般规定

第三十七条 证券交易当事人依法买卖的证券，必须是依法发行并交付的证券。

非依法发行的证券，不得买卖。

第三十八条 依法发行的股票、公司债券及其他证券，法律对其转让期限有限制性规定的，在限定的期限内不得买卖。

第三十九条 依法公开发行的股票、公司债券及其他证券，应当在依法设立的证券交易所上市交易或者在国务院批准的其他证券交易场所转让。

第四十条 证券在证券交易所上市交易，应当采用公开的集中交易方式或者国务院证券监督管理机构批准的其他方式。

第四十一条 证券交易当事人买卖的证券可以采用纸面形式或者国务院证券监督管理机构规定的其他形式。

第四十二条 证券交易以现货和国务院规定的其他方式进行交易。

第四十三条 证券交易所、证券公司和证券登记结算机构的从业人员、证券监督管理机构的工作人员以及法律、行政法规禁止参与股票交易的其他人员，在任期或者法定限期内，不得直接或者以化名、借他人名义持有、买卖股票，也不得收受他人赠送的股票。任何人在成为前款所列人员时，其原已持有的股票，必须依法转让。

第四十四条 证券交易所、证券公司、证券登记结算机构必须依法为客户开立的账户保密。

第四十五条 为股票发行出具审计报告、资产评估报告或者法律意见书等文件的证券服务机构和人员，在该股票承销期内和期满后六个月内，不得买卖该种股票。除前款规定外，为上市公司出具审计报告、资产评估报告或者法律意见书等文件的证券服务机构和人员，自接受上市公司委托之日起至上述文件公开后五日内，不得买卖该种股票。

第四十六条 证券交易的收费必须合理，并公开收费项目、收费标准和收费办法。

证券交易的收费项目、收费标准和管理办法由国务院有关主管部门统一规定。

第四十七条 上市公司董事、监事、高级管理人员、持有上市公司股份百分之五以上的股东，将其持有的该公司的股票在买入后六个月内卖出，或者在卖出后六个月内又买入，由此所得收益归该公司所有，公司董事会应当收回其所得收益。但是，证券公司因包销购入售后剩余股票而持有百分之五以上股份的，卖出该股票不受六个月时间限制。

公司董事会不按照前款规定执行的，股东有权要求董事会在三十日内执行。公司董事会未在上述期限内执行的，股东有权为了公司的利益以自己的名义直接向人民法院提起诉讼。

公司董事会不按照第一款的规定执行的，负有责任的董事依法承担连带责任。

第二节 证券上市

第四十八条 申请证券上市交易，应当向证券交易所提出申请，由证券交易所依法审核同意，并由双方签订上市协议。

证券交易所根据国务院授权的部门的决定安排政府债券上市交易。

《2011年公务员考试行测考试100套华图真题》

第四十九条 申请股票、可转换为股票的公司债券或者法律、行政法规规定实行保荐制度的其他证券上市交易，应当聘请具有保荐资格的机构担任保荐人。本法第十一条第二款、第三款的规定适用于上市保荐人。

第五十条 股份有限公司申请股票上市，应当符合下列条件：

(一) 股票经国务院证券监督管理机构核准已公开发行；

(二) 公司股本总额不少于人民币三千万元；

(三) 公开发行的股份达到公司股份总数的百分之二十五以上；公司股本总额超过人民币四亿元的，公开发行股份的比例为百分之十以上；

(四) 公司最近三年无重大违法行为，财务会计报告无虚假记载。

证券交易所可以规定高于前款规定的上市条件，并报国务院证券监督管理机构批准。

第五十一条 国家鼓励符合产业政策并符合上市条件的公司股票上市交易。

第五十二条 申请股票上市交易，应当向证券交易所报送下列文件：

(一) 上市报告书；

(二) 申请股票上市的股东大会决议；

(三) 公司章程；

(四) 公司营业执照；

(五) 依法经会计师事务所审计的公司最近三年的财务会计报告；

(六) 法律意见书和上市保荐书；

(七) 最近一次的招股说明书；

(八) 证券交易所上市规则规定的其他文件。

第五十三条 股票上市交易申请经证券交易所审核同意后，签订上市协议的公司应当在规定的期限内公告股票上市的有关文件，并将该文件置备于指定场所供公众查阅。

第五十四条 签订上市协议的公司除公告前条规定的文件外，还应当公告下列事项：

(一) 股票获准在证券交易所交易的日期；

(二) 持有公司股份最多的前十名股东的名单和持股数额；

(三) 公司的实际控制人；

(四) 董事、监事、高级管理人员的姓名及其持有本公司股票和债券的情况。

第五十五条 上市公司有下列情形之一的，由证券交易所决定暂停其股票上市交易：

(一) 公司股本总额、股权分布等发生变化不再具备上市条件；

(二) 公司不按照规定公开其财务状况，或者对财务会计报告作虚假记载，可能误导投资者；

(三) 公司有重大违法行为；

(四) 公司最近三年连续亏损；

(五) 证券交易所上市规则规定的其他情形。

第五十六条 上市公司有下列情形之一的，由证券交易所决定终止其股票上市交易：

(一) 公司股本总额、股权分布等发生变化不再具备上市条件，在证券交易所规定的期限内仍不能达到上市条件；

(二) 公司不按照规定公开其财务状况，或者对财务会计报告作虚假记载，且拒绝纠正；

《2011年公务员考试行测考试100套华图真题》

- (三)公司最近三年连续亏损,在其后一个年度内未能恢复盈利;
- (四)公司解散或者被宣告破产;
- (五)证券交易所上市规则规定的其他情形。

第五十七条 公司申请公司债券上市交易,应当符合下列条件:

- (一)公司债券的期限为一年以上;
- (二)公司债券实际发行额不少于人民币五千万元;
- (三)公司申请债券上市时仍符合法定的公司债券发行条件。

第五十八条 申请公司债券上市交易,应当向证券交易所报送下列文件:

- (一)上市报告书;
- (二)申请公司债券上市的董事会决议;
- (三)公司章程;
- (四)公司营业执照;
- (五)公司债券募集办法;
- (六)公司债券的实际发行数额;
- (七)证券交易所上市规则规定的其他文件。申请可转换为股票的公司债券上市交易,还应当报送保荐人出具的上市保荐书。

第五十九条 公司债券上市交易申请经证券交易所审核同意后,签订上市协议的公司应当在规定的期限内公告公司债券上市文件及有关文件,并将其申请文件置备于指定场所供公众查阅。

第六十条 公司债券上市交易后,公司有下列情形之一的,由证券交易所决定暂停其公司债券上市交易:

- (一)公司有重大违法行为;
- (二)公司情况发生重大变化不符合公司债券上市条件;
- (三)公司债券所募集资金不按照核准的用途使用;
- (四)未按照公司债券募集办法履行义务;
- (五)公司最近二年连续亏损。

第六十一条 公司有前条第(一)项、第(四)项所列情形之一经查实后果严重的,或者有前条第(二)项、第(三)项、第(五)项所列情形之一,在限期内未能消除的,由证券交易所决定终止其公司债券上市交易。公司解散或者被宣告破产的,由证券交易所终止其公司债券上市交易。

第六十二条 对证券交易所作出的不予上市、暂停上市、终止上市决定不服的,可以向证券交易所设立的复核机构申请复核。

第三节 持续信息公开

第六十三条 发行人、上市公司依法披露的信息,必须真实、准确、完整,不得有虚假记载、误导性陈述或者重大遗漏。

第六十四条 经国务院证券监督管理机构核准依法公开发行股票,或者经国务院授权的部门核准依法公开发行公司债券,应当公告招股说明书、公司债券募集办法。依法公开发行新股或者公司债券的,还应当公告财务会计报告。

第六十五条 上市公司和公司债券上市交易的公司,应当在每一会计年度的上半年结束之日起二个月内,向国务院证券监督管理机构和证券交易所报送记载以下内容的中期报告,并予公告:

- (一)公司财务会计报告和经营情况;
- (二)涉及公司的重大诉讼事项;
- (三)已发行的股票、公司债券变动情况;

《2011年公务员考试行测考试 100 套华图真题》

- (四)提交股东大会审议的重要事项;
- (五)国务院证券监督管理机构规定的其他事项。

第六十六条 上市公司和公司债券上市交易的公司,应当在每一会计年度结束之日起四个月内,向国务院证券监督管理机构和证券交易所报送记载以下内容的年度报告,并予公告:

- (一)公司概况;
- (二)公司财务会计报告 and 经营情况;
- (三)董事、监事、高级管理人员简介及其持股情况;
- (四)已发行的股票、公司债券情况,包括持有公司股份最多的前十名股东名单和持股数额;
- (五)公司的实际控制人;
- (六)国务院证券监督管理机构规定的其他事项。

第六十七条 发生可能对上市公司股票交易价格产生较大影响的重大事件,投资者尚未得知时,上市公司应当立即将有关该重大事件的情况向国务院证券监督管理机构和证券交易所报送临时报告,并予公告,说明事件的起因、目前的状态和可能产生的法律后果。下列情况为前款所称重大事件:

- (一)公司的经营方针和经营范围的重大变化;
- (二)公司的重大投资行为和重大的购置财产的决定;
- (三)公司订立重要合同,可能对公司的资产、负债、权益和经营成果产生重要影响;
- (四)公司发生重大债务和未能清偿到期重大债务的违约情况;
- (五)公司发生重大亏损或者重大损失;
- (六)公司生产经营的外部条件发生的重大变化;
- (七)公司的董事、三分之一以上监事或者经理发生变动;
- (八)持有公司百分之五以上股份的股东或者实际控制人,其持有股份或者控制公司的情况发生较大变化;
- (九)公司减资、合并、分立、解散及申请破产的决定;
- (十)涉及公司的重大诉讼,股东大会、董事会决议被依法撤销或者宣告无效;
- (十一)公司涉嫌犯罪被司法机关立案调查,公司董事、监事、高级管理人员涉嫌犯罪被司法机关采取强制措施;
- (十二)国务院证券监督管理机构规定的其他事项。

第六十八条 上市公司董事、高级管理人员应当对公司定期报告签署书面确认意见。

上市公司监事会应当对董事会编制的公司定期报告进行审核并提出书面审核意见。

上市公司董事、监事、高级管理人员应当保证上市公司所披露的信息真实、准确、完整。

第六十九条 发行人、上市公司公告的招股说明书、公司债券募集办法、财务会计报告、上市报告文件、年度报告、中期报告、临时报告以及其他信息披露资料,有虚假记载、误导性陈述或者重大遗漏,致使投资者在证券交易中遭受损失的,发行人、上市公司应当承担赔偿责任;发行人、上市公司的董事、监事、高级管理人员和其他直接责任人员以及保荐人、承销的证券公司,应当与发行人、上市公司承担连带赔偿责任,但是能够证明自己没有过错的除外;发行人、上市公司的控股股东、实际控制人有过错的,应当与发行人、上市公司承担连带赔偿

《2011年公务员考试行测考试 100 套华图真题》

责任。

第七十条依法必须披露的信息，应当在国务院证券监督管理机构指定的媒体发布，同时将其置备于公司住所、证券交易所，供社会公众查阅。

第七十一条国务院证券监督管理机构对上市公司年度报告、中期报告、临时报告以及公告的情况进行监督，对上市公司分派或者配售新股的情况进行监督，对上市公司控股股东及其他信息披露义务人的行为进行监督。证券监督管理机构、证券交易所、保荐人、承销的证券公司及有关人员，对公司依照法律、行政法规规定必须作出的公告，在公告前不得泄露其内容。

第七十二条证券交易所决定暂停或者终止证券上市交易的，应当及时公告，并报国务院证券监督管理机构备案。

第四节 禁止的交易行为

第七十三条禁止证券交易内幕信息的知情人和非法获取内幕信息的人利用内幕信息从事证券交易活动。

第七十四条证券交易内幕信息的知情人包括：

- (一) 发行人的董事、监事、高级管理人员；
- (二) 持有公司百分之五以上股份的股东及其董事、监事、高级管理人员，公司的实际控制人及其董事、监事、高级管理人员；
- (三) 发行人控股的公司及其董事、监事、高级管理人员；
- (四) 由于所任公司职务可以获取公司有关内幕信息的人员；
- (五) 证券监督管理机构工作人员以及由于法定职责对证券的发行、交易进行管理的人员；
- (六) 保荐人、承销的证券公司、证券交易所、证券登记结算机构、证券服务机构的有关人员；
- (七) 国务院证券监督管理机构规定的其他人员。

第七十五条证券交易活动中，涉及公司的经营、财务或者对该公司证券的市场价格有重大影响的尚未公开的信息，为内幕信息。

下列信息皆属内幕信息：

- (一) 本法第六十七条第二款所列重大事件；
- (二) 公司分配股利或者增资的计划；
- (三) 公司股权结构的重大变化；
- (四) 公司债务担保的重大变更；
- (五) 公司营业用主要资产的抵押、出售或者报废一次超过该资产的百分之三十；
- (六) 公司的董事、监事、高级管理人员的行为可能依法承担重大损害赔偿责任；
- (七) 上市公司收购的有关方案；
- (八) 国务院证券监督管理机构认定的对证券交易价格有显著影响的其他重要信息。

第七十六条证券交易内幕信息的知情人和非法获取内幕信息的人，在内幕信息公开前，不得买卖该公司的证券，或者泄露该信息，或者建议他人买卖该证券。持有或者通过协议、其他安排与他人共同持有公司百分之五以上股份的自然人、法人、其他组织收购上市公司的股份，本法另有规定的，适用其规定。内幕交易行为给投资者造成损失的，行为人应当依法承担赔偿责任。

第七十七条禁止任何人以下列手段操纵证券市场：

《2011年公务员考试行测考试 100 套华图真题》

(一)单独或者通过合谋,集中资金优势、持股优势或者利用信息优势联合或者连续买卖,操纵证券交易价格或者证券交易量;

(二)与他人串通,以事先约定的时间、价格和方式相互进行证券交易,影响证券交易价格或者证券交易量;

(三)在自己实际控制的账户之间进行证券交易,影响证券交易价格或者证券交易量;

(四)以其他手段操纵证券市场。

操纵证券市场行为给投资者造成损失的,行为人应当依法承担赔偿责任。

第七十八条禁止国家工作人员、传播媒介从业人员和有关人员编造、传播虚假信息,扰乱证券市场。禁止证券交易所、证券公司、证券登记结算机构、证券服务机构及其从业人员,证券业协会、证券监督管理机构及其工作人员,在证券交易活动中作出虚假陈述或者信息误导。

各种传播媒介传播证券市场信息必须真实、客观,禁止误导。

第七十九条禁止证券公司及其从业人员从事下列损害客户利益的欺诈行为:

(一)违背客户的委托为其买卖证券;

(二)不在规定时间内向客户提供交易的书面确认文件;

(三)挪用客户所委托买卖的证券或者客户账户上的资金;

(四)未经客户的委托,擅自为客户买卖证券,或者假借客户的名义买卖证券;

(五)为牟取佣金收入,诱使客户进行不必要的证券买卖;

(六)利用传播媒介或者通过其他方式提供、传播虚假或者误导投资者的信息;

(七)其他违背客户真实意思表示,损害客户利益的行为。

欺诈客户行为给客户造成损失的,行为人应当依法承担赔偿责任。

第八十条禁止法人非法利用他人账户从事证券交易;禁止法人出借自己或者他人的证券账户。

第八十一条依法拓宽资金入市渠道,禁止资金违规流入股市。

第八十二条禁止任何人挪用公款买卖证券。

第八十三条国有企业和国有资产控股的企业买卖上市交易的股票,必须遵守国家有关规定。

第八十四条证券交易所、证券公司、证券登记结算机构、证券服务机构及其从业人员对证券交易中发现的禁止的交易行为,应当及时向证券监督管理机构报告。

第四章 上市公司的收购

第八十五条投资者可以采取要约收购、协议收购及其他合法方式收购上市公司。

第八十六条通过证券交易所的证券交易,投资者持有或者通过协议、其他安排与他人共同持有一个上市公司已发行的股份达到百分之五时,应当在该事实发生之日起三日内,向国务院证券监督管理机构、证券交易所作出书面报告,通知该上市公司,并予公告;在上述期限内,不得再行买卖该上市公司的股票。

投资者持有或者通过协议、其他安排与他人共同持有一个上市公司已发行的股份达到百分之五后,其所持该上市公司已发行的股份比例每增加或者减少百分之五,应当依照前款规定进行报告和公告。在报告期限内和作出报告、公告后二日内,不得再行买卖该上市公司的股票。

第八十七条依照前条规定所作的书面报告和公告,应当包括下列内容:

(一)持股人的名称、住所;

《2011年公务员考试行测考试 100 套华图真题》

(二)持有的股票的名称、数额;

(三)持股达到法定比例或者持股增减变化达到法定比例的日期。

第八十八条通过证券交易所的证券交易,投资者持有或者通过协议、其他安排与他人共同持有一个上市公司已发行的股份达到百分之三十时,继续进行收购的,应当依法向该上市公司所有股东发出收购上市公司全部或者部分股份的要约。

收购上市公司部分股份的收购要约应当约定,被收购公司股东承诺出售的股份数额超过预定收购的股份数额的,收购人按比例进行收购。

第八十九条依照前条规定发出收购要约,收购人必须事先向国务院证券监督管理机构报送上市公司收购报告书,并载明下列事项:

(一)收购人的名称、住所;

(二)收购人关于收购的决定;

(三)被收购的上市公司名称;

(四)收购目的;

(五)收购股份的详细名称和预定收购的股份数额;

(六)收购期限、收购价格;

(七)收购所需资金额及资金保证;

(八)报送上市公司收购报告书时持有被收购公司股份数占该公司已发行的股份总数的比例。收购人还应当将上市公司收购报告书同时提交证券交易所。

第九十条收购人在依照前条规定报送上市公司收购报告书之日起十五日后,公告其收购要约。在上述期限内,国务院证券监督管理机构发现上市公司收购报告书不符合法律、行政法规规定的,应当及时告知收购人,收购人不得公告其收购要约。

收购要约约定的收购期限不得少于三十日,并不得超过六十日。

第九十一条在收购要约确定的承诺期限内,收购人不得撤销其收购要约。收购人需要变更收购要约的,必须事先向国务院证券监督管理机构及证券交易所提出报告,经批准后,予以公告。

第九十二条收购要约提出的各项收购条件,适用于被收购公司的所有股东。

第九十三条采取要约收购方式的,收购人在收购期限内,不得卖出被收购公司的股票,也不得采取要约规定以外的形式和超出要约的条件买入被收购公司的股票。

第九十四条采取协议收购方式的,收购人可以依照法律、行政法规的规定同被收购公司的股东以协议方式进行股份转让。

以协议方式收购上市公司时,达成协议后,收购人必须在三日内将该收购协议向国务院证券监督管理机构及证券交易所作出书面报告,并予公告。

在公告前不得履行收购协议。

第九十五条采取协议收购方式的,协议双方可以临时委托证券登记结算机构保管协议转让的股票,并将资金存放于指定的银行。

第九十六条采取协议收购方式的,收购人收购或者通过协议、其他安排与他人共同收购一个上市公司已发行的股份达到百分之三十时,继续进行收购的,应当向该上市公司所有股东发出收购上市公司全部或者部分股份的要约。但是,经国务院证券监督管理机构免除发出要约的除外。

收购人依照前款规定以要约方式收购上市公司股份,应当遵守本法第八十九条至第九十三条的规定。

第九十七条收购期限届满,被收购公司股权分布不符合上市条件的,该上市

《2011年公务员考试行测考试100套华图真题》

公司的股票应当由证券交易所依法终止上市交易；其余仍持有被收购公司股票的股东，有权向收购人以收购要约的同等条件出售其股票，收购人应当收购。

收购行为完成后，被收购公司不再具备股份有限公司条件的，应当依法变更企业形式。

第九十八条在上市公司收购中，收购人持有的被收购的上市公司的股票，在收购行为完成后的十二个月内不得转让。

第九十九条收购行为完成后，收购人与被收购公司合并，并将该公司解散的，被解散公司的原有股票由收购人依法更换。

第一百条收购行为完成后，收购人应当在十五日内将收购情况报告国务院证券监督管理机构和证券交易所，并予公告。

第一百零一条收购上市公司中由国家授权投资的机构持有的股份，应当按照国务院的规定，经有关主管部门批准。

国务院证券监督管理机构应当依照本法的原则制定上市公司收购的具体办法。

第五章 证券交易所

第一百零二条证券交易所是为证券集中交易提供场所和设施，组织和监督证券交易，实行自律管理的法人。证券交易所的设立和解散，由国务院决定。

第一百零三条设立证券交易所必须制定章程。证券交易所章程的制定和修改，必须经国务院证券监督管理机构批准。

第一百零四条证券交易所必须在其名称中标明证券交易所字样。其他任何单位或者个人不得使用证券交易所或者近似的名称。

第一百零五条证券交易所可以自行支配的各项费用收入，应当首先用于保证其证券交易场所和设施的正常运行并逐步改善。

实行会员制的证券交易所的财产积累归会员所有，其权益由会员共同享有，在其存续期间，不得将其财产积累分配给会员。

第一百零六条证券交易所设理事会。

第一百零七条证券交易所设总经理一人，由国务院证券监督管理机构任免。

第一百零八条有《中华人民共和国公司法》第一百四十七条规定的情形或者下列情形之一的，不得担任证券交易所的负责人：

(一)因违法行为或者违纪行为被解除职务的证券交易所、证券登记结算机构的负责人或者证券公司的董事、监事、高级管理人员，自被解除职务之日起未逾五年；

(二)因违法行为或者违纪行为被撤销资格的律师、注册会计师或者投资咨询机构、财务顾问机构、资信评级机构、资产评估机构、验证机构的专业人员，自被撤销资格之日起未逾五年。

第一百零九条因违法行为或者违纪行为被开除的证券交易所、证券登记结算机构、证券服务机构、证券公司的从业人员和被开除的国家机关工作人员，不得招聘为证券交易所的从业人员。

第一百一十条进入证券交易所参与集中交易的，必须是证券交易所的会员。

第一百一十一条投资者应当与证券公司签订证券交易委托协议，并在证券公司开立证券交易账户，以书面、电话以及其他方式，委托该证券公司代其买卖证券。

第一百一十二条证券公司根据投资者的委托，按照证券交易规则提出交易申报，参与证券交易所场内的集中交易，并根据成交结果承担相应的清算交收责任；

《2011年公务员考试行测考试 100 套华图真题》

证券登记结算机构根据成交结果，按照清算交收规则，与证券公司进行证券和资金的清算交收，并为证券公司客户办理证券的登记过户手续。

第一百一十三条证券交易所应当为组织公平的集中交易提供保障，公布证券交易即时行情，并按交易日制作证券市场行情表，予以公布。

未经证券交易所许可，任何单位和个人不得发布证券交易即时行情。

第一百一十四条因突发性事件而影响证券交易的正常进行时，证券交易所可以采取技术性停牌的措施；因不可抗力的突发性事件或者为维护证券交易的正常秩序，证券交易所可以决定临时停市。

证券交易所采取技术性停牌或者决定临时停市，必须及时报告国务院证券监督管理机构。

第一百一十五条证券交易所对证券交易实行实时监控，并按照国务院证券监督管理机构的要求，对异常的交易情况提出报告。

证券交易所应当对上市公司及相关信息披露义务人披露信息进行监督，督促其依法及时、准确地披露信息。证券交易所根据需要，可以对出现重大异常交易情况的证券账户限制交易，并报国务院证券监督管理机构备案。

第一百一十六条证券交易所应当从其收取的交易费用和会员费、席位费中提取一定比例的金额设立风险基金。风险基金由证券交易所理事会管理。

风险基金提取的具体比例和使用办法，由国务院证券监督管理机构会同国务院财政部门规定。

第一百一十七条证券交易所应当将收存的风险基金存入开户银行专门账户，不得擅自使用。

第一百一十八条证券交易所依照证券法律、行政法规制定上市规则、交易规则、会员管理规则和其他有关规则，并报国务院证券监督管理机构批准。

第一百一十九条证券交易所的负责人和其他从业人员在执行与证券交易有关的职务时，与其本人或者其亲属有利害关系的，应当回避。

第一百二十条按照依法制定的交易规则进行的交易，不得改变其交易结果。对交易中违规交易者应负的民事责任不得免除；在违规交易中所获利益，依照有关规定处理。

第一百二十一条在证券交易所内从事证券交易的人员，违反证券交易所有关交易规则的，由证券交易所给予纪律处分；对情节严重的，撤销其资格，禁止其入场进行证券交易。

第六章 证券公司

第一百二十二条设立证券公司，必须经国务院证券监督管理机构审查批准。未经国务院证券监督管理机构批准，任何单位和个人不得经营证券业务。

第一百二十三条本法所称证券公司是指依照《中华人民共和国公司法》和本法规定设立的经营证券业务的有限责任公司或者股份有限公司。

第一百二十四条设立证券公司，应当具备下列条件：

(一)有符合法律、行政法规规定的公司章程；

(二)主要股东具有持续盈利能力，信誉良好，最近三年无重大违法违规记录，净资产不低于人民币二亿元；

(三)有符合本法规定的注册资本；

(四)董事、监事、高级管理人员具备任职资格，从业人员具有证券从业资格；

(五)有完善的风险管理与内部控制制度；

(六)有合格的经营场所和业务设施；

《2011年公务员考试行测考试 100 套华图真题》

(七)法律、行政法规规定的和经国务院批准的国务院证券监督管理机构规定的其他条件。

第一百二十五条经国务院证券监督管理机构批准，证券公司可以经营下列部分或者全部业务：

- (一) 证券经纪；
- (二) 证券投资咨询；
- (三) 与证券交易、证券投资活动有关的财务顾问；
- (四) 证券承销与保荐；
- (五) 证券自营；
- (六) 证券资产管理；
- (七) 其他证券业务。

第一百二十六条证券公司必须在其名称中标明证券有限责任公司或者证券股份有限公司字样。

第一百二十七条证券公司经营本法第一百二十五条第(一)项至第(三)项业务的，注册资本最低限额为人民币五千万元；经营第(四)项至第(七)项业务之一的，注册资本最低限额为人民币一亿元；经营第(四)项至第(七)项业务中两项以上的，注册资本最低限额为人民币五亿元。证券公司的注册资本应当是实缴资本。国务院证券监督管理机构根据审慎监管原则和各项业务的风险程度，可以调整注册资本最低限额，但不得少于前款规定的限额。

第一百二十八条国务院证券监督管理机构应当自受理证券公司设立申请之日起六个月内，依照法定条件和法定程序并根据审慎监管原则进行审查，作出批准或者不予批准的决定，并通知申请人；不予批准的，应当说明理由。证券公司设立申请获得批准的，申请人应当在规定的期限内向公司登记机关申请设立登记，领取营业执照。证券公司应当自领取营业执照之日起十五日内，向国务院证券监督管理机构申请经营证券业务许可证。未取得经营证券业务许可证，证券公司不得经营证券业务。

第一百二十九条证券公司设立、收购或者撤销分支机构，变更业务范围或者注册资本，变更持有百分之五以上股权的股东、实际控制人，变更公司章程中的重要条款，合并、分立、变更公司形式、停业、解散、破产，必须经国务院证券监督管理机构批准。

证券公司在境外设立、收购或者参股证券经营机构，必须经国务院证券监督管理机构批准。

第一百三十条国务院证券监督管理机构应当对证券公司的净资本，净资本与负债的比例，净资本与净资产的比例，净资本与自营、承销、资产管理等业务规模的比例，负债与净资产的比例，以及流动资产与流动负债的比例等风险控制指标作出规定。

证券公司不得为其股东或者股东的关联人提供融资或者担保。

第一百三十一条证券公司的董事、监事、高级管理人员，应当正直诚实，品行良好，熟悉证券法律、行政法规，具有履行职责所需的经营管理能力，并在任职前取得国务院证券监督管理机构核准的任职资格。有《中华人民共和国公司法》第一百四十七条规定的情形或者下列情形之一的，不得担任证券公司的董事、监事、高级管理人员：

(一) 因违法行为或者违纪行为被解除职务的证券交易所、证券登记结算机构的负责人或者证券公司的董事、监事、高级管理人员，自被解除职务之日起未逾

《2011年公务员考试行测考试 100 套华图真题》

五年；(二)因违法行为或者违纪行为被撤销资格的律师、注册会计师或者投资咨询机构、财务顾问机构、资信评级机构、资产评估机构、验证机构的专业人员，自被撤销资格之日起未逾五年。

第一百三十二条因违法行为或者违纪行为被开除的证券交易所、证券登记结算机构、证券服务机构、证券公司的从业人员和被开除的国家机关工作人员，不得招聘为证券公司的从业人员。

第一百三十三条国家机关工作人员和法律、行政法规规定的禁止在公司中兼职的其他人员，不得在证券公司中兼任职务。

第一百三十四条国家设立证券投资者保护基金。证券投资者保护基金由证券公司缴纳的资金及其他依法筹集的资金组成，其筹集、管理和使用的具体办法由国务院规定。

第一百三十五条证券公司从每年的税后利润中提取交易风险准备金，用于弥补证券交易的损失，其提取的具体比例由国务院证券监督管理机构规定。

第一百三十六条证券公司应当建立健全内部控制制度，采取有效隔离措施，防范公司与客户之间、不同客户之间的利益冲突。

证券公司必须将其证券经纪业务、证券承销业务、证券自营业务和证券资产管理业务分开办理，不得混合操作。

第一百三十七条证券公司的自营业务必须以自己的名义进行，不得假借他人名义或者以个人名义进行。证券公司的自营业务必须使用自有资金和依法筹集的资金。

证券公司不得将其自营账户借给他人使用。

第一百三十八条证券公司依法享有自主经营的权利，其合法经营不受干涉。

第一百三十九条证券公司客户的交易结算资金应当存放在商业银行，以每个客户的名义单独立户管理。具体办法和实施步骤由国务院规定。

证券公司不得将客户的交易结算资金和证券归入其自有财产。禁止任何单位或者个人以任何形式挪用客户的交易结算资金和证券。证券公司破产或者清算时，客户的交易结算资金和证券不属于其破产财产或者清算财产。非因客户本身的债务或者法律规定的其他情形，不得查封、冻结、扣划或者强制执行客户的交易结算资金和证券。

第一百四十条证券公司办理经纪业务，应当置备统一制定的证券买卖委托书，供委托人使用。采取其他委托方式的，必须作出委托记录。

客户的证券买卖委托，不论是否成交，其委托记录应当按照规定的期限，保存于证券公司。

第一百四十一条证券公司接受证券买卖的委托，应当根据委托书载明的证券名称、买卖数量、出价方式、价格幅度等，按照交易规则代理买卖证券，如实进行交易记录；买卖成交后，应当按照规定制作买卖成交报告单交付客户。

证券交易中确认交易行为及其交易结果的对账单必须真实，并由交易经办人员以外的审核人员逐笔审核，保证账面证券余额与实际持有的证券相一致。

第一百四十二条证券公司为客户买卖证券提供融资融券服务，应当按照国务院的规定并经国务院证券监督管理机构批准。

第一百四十三条证券公司办理经纪业务，不得接受客户的全权委托而决定证券买卖、选择证券种类、决定买卖数量或者买卖价格。

第一百四十四条证券公司不得以任何方式对客户证券买卖的收益或者赔偿证券买卖的损失作出承诺。

《2011年公务员考试行测考试 100 套华图真题》

第一百四十五条证券公司及其从业人员不得未经过其依法设立的营业场所私下接受客户委托买卖证券。

第一百四十六条证券公司的从业人员在证券交易活动中，执行所属的证券公司的指令或者利用职务违反交易规则的，由所属的证券公司承担全部责任。

第一百四十七条证券公司应当妥善保存客户开户资料、委托记录、交易记录以及与内部管理、业务经营有关的各项资料，任何人不得隐匿、伪造、篡改或者毁损。上述资料的保存期限不得少于二十年。

第一百四十八条证券公司应当按照规定向国务院证券监督管理机构报送业务、财务等经营管理信息和资料。国务院证券监督管理机构有权要求证券公司及其股东、实际控制人在指定的期限内提供有关信息、资料。证券公司及其股东、实际控制人向国务院证券监督管理机构报送或者提供的信息、资料，必须真实、准确、完整。

第一百四十九条国务院证券监督管理机构认为有必要时，可以委托会计师事务所、资产评估机构对证券公司的财务状况、内部控制状况、资产价值进行审计或者评估。具体办法由国务院证券监督管理机构会同有关主管部门制定。

第一百五十条证券公司的净资本或者其他风险控制指标不符合规定的，国务院证券监督管理机构应当责令其限期改正；逾期未改正，或者其行为严重危及该证券公司的稳健运行、损害客户合法权益的，国务院证券监督管理机构可以区别情形，对其采取下列措施：

- (一) 限制业务活动，责令暂停部分业务，停止批准新业务；
- (二) 停止批准增设、收购营业性分支机构；
- (三) 限制分配红利，限制向董事、监事、高级管理人员支付报酬、提供福利；
- (四) 限制转让财产或者在财产上设定其他权利；
- (五) 责令更换董事、监事、高级管理人员或者限制其权利；
- (六) 责令控股股东转让股权或者限制有关股东行使股东权利；
- (七) 撤销有关业务许可。

证券公司整改后，应当向国务院证券监督管理机构提交报告。国务院证券监督管理机构经验收，符合有关风险控制指标的，应当自验收完毕之日起三日内解除对其采取的前款规定的有关措施。

第一百五十一条证券公司的股东有虚假出资、抽逃出资行为的，国务院证券监督管理机构应当责令其限期改正，并可责令其转让所持证券公司的股权。在前款规定的股东按照要求改正违法行为、转让所持证券公司的股权前，国务院证券监督管理机构可以限制其股东权利。

第一百五十二条证券公司的董事、监事、高级管理人员未能勤勉尽责，致使证券公司存在重大违法违规行为或者重大风险的，国务院证券监督管理机构可以撤销其任职资格，并责令公司予以更换。

第一百五十三条证券公司违法经营或者出现重大风险，严重危害证券市场秩序、损害投资者利益的，国务院证券监督管理机构可以对该证券公司采取责令停业整顿、指定其他机构托管、接管或者撤销等监管措施。

第一百五十四条在证券公司被责令停业整顿、被依法指定托管、接管或者清算期间，或者出现重大风险时，经国务院证券监督管理机构批准，可以对该证券公司直接负责的董事、监事、高级管理人员和其他直接责任人员采取以下措施：

- (一) 通知出境管理机关依法阻止其出境；
- (二) 申请司法机关禁止其转移、转让或者以其他方式处分财产，或者在财产

《2011年公务员考试行测考试 100 套华图真题》

上设定其他权利。

第七章 证券登记结算机构

第一百五十五条证券登记结算机构是为证券交易提供集中登记、存管与结算服务，不以营利为目的的法人。设立证券登记结算机构必须经国务院证券监督管理机构批准。

第一百五十六条设立证券登记结算机构，应当具备下列条件：

- (一) 自有资金不少于人民币二亿元；
- (二) 具有证券登记、存管和结算服务所必须的场所和设施；
- (三) 主要管理人员和从业人员必须具有证券从业资格；
- (四) 国务院证券监督管理机构规定的其他条件。证券登记结算机构的名称中应当标明证券登记结算字样。

第一百五十七条证券登记结算机构履行下列职能：

- (一) 证券账户、结算账户的设立；
- (二) 证券的存管和过户；
- (三) 证券持有人名册登记；
- (四) 证券交易所上市证券交易的清算和交收；
- (五) 受发行人的委托派发证券权益；
- (六) 办理与上述业务有关的查询；
- (七) 国务院证券监督管理机构批准的其他业务。

第一百五十八条证券登记结算采取全国集中统一的运营方式。

证券登记结算机构章程、业务规则应当依法制定，并须经国务院证券监督管理机构批准。

第一百五十九条证券持有人持有的证券，在上市交易时，应当全部存管在证券登记结算机构。证券登记结算机构不得挪用客户的证券。

第一百六十条证券登记结算机构应当向证券发行人提供证券持有人名册及其有关资料。

证券登记结算机构应当根据证券登记结算的结果，确认证券持有人持有证券的事实，提供证券持有人登记资料。证券登记结算机构应当保证证券持有人名册和登记过户记录真实、准确、完整，不得隐匿、伪造、篡改或者毁损。

第一百六十一条证券登记结算机构应当采取下列措施保证业务的正常进行：

- (一) 具有必备的服务设备和完善的数据安全保护措施；
- (二) 建立完善的业务、财务和安全防范等管理制度；
- (三) 建立完善的风险管理系统。

第一百六十二条证券登记结算机构应当妥善保存登记、存管和结算的原始凭证及有关文件和资料。其保存期限不得少于二十年。

第一百六十三条证券登记结算机构应当设立结算风险基金，用于垫付或者弥补因违约交收、技术故障、操作失误、不可抗力造成的证券登记结算机构的损失。证券结算风险基金从证券登记结算机构的业务收入和收益中提取，并可以由结算参与人按照证券交易业务量的一定比例缴纳。

证券结算风险基金的筹集、管理办法，由国务院证券监督管理机构会同国务院财政部门规定。

第一百六十四条证券结算风险基金应当存入指定银行的专门账户，实行专项管理。

证券登记结算机构以风险基金赔偿后，应当向有关责任人追偿。

《2011年公务员考试行测考试 100 套华图真题》

第一百六十五条证券登记结算机构申请解散，应当经国务院证券监督管理机构批准。

第一百六十六条投资者委托证券公司进行证券交易，应当申请开立证券账户。证券登记结算机构应当按照规定以投资者本人的名义为投资者开立证券账户。投资者申请开立账户，必须持有证明中国公民身份或者中国法人资格的合法证件。国家另有规定的除外。

第一百六十七条证券登记结算机构为证券交易提供净额结算服务时，应当要求结算参与人按照货银对付的原则，足额交付证券和资金，并提供交收担保。在交收完成之前，任何人不得动用用于交收的证券、资金和担保物。

结算参与人未按时履行交收义务的，证券登记结算机构有权按照业务规则处理前款所述财产。

第一百六十八条证券登记结算机构按照业务规则收取的各类结算资金和证券，必须存放于专门的清算交收账户，只能按业务规则用于已成交的证券交易的清算交收，不得被强制执行。

第八章 证券服务机构

第一百六十九条投资咨询机构、财务顾问机构、资信评级机构、资产评估机构、会计师事务所从事证券服务业务，必须经国务院证券监督管理机构和有关主管部门批准。

投资咨询机构、财务顾问机构、资信评级机构、资产评估机构、会计师事务所从事证券服务业务的审批管理办法，由国务院证券监督管理机构和有关主管部门制定。

第一百七十条投资咨询机构、财务顾问机构、资信评级机构从事证券服务业务的人员，必须具备证券专业知识和从事证券业务或者证券服务业务二年以上经验。认定其证券从业资格的标准和管理办法，由国务院证券监督管理机构制定。

第一百七十一条投资咨询机构及其从业人员从事证券服务业务不得有下列行为：

- (一)代理委托人从事证券投资；
- (二)与委托人约定分享证券投资收益或者分担证券投资损失；
- (三)买卖本咨询机构提供服务的上市公司股票；
- (四)利用传播媒介或者通过其他方式提供、传播虚假或者误导投资者的信息；
- (五)法律、行政法规禁止的其他行为。有前款所列行为之一，给投资者造成损失的，依法承担赔偿责任。

第一百七十二条从事证券服务业务的投资咨询机构和资信评级机构，应当按照国务院有关主管部门规定的标准或者收费办法收取服务费用。

第一百七十三条证券服务机构为证券的发行、上市、交易等证券业务活动制作、出具审计报告、资产评估报告、财务顾问报告、资信评级报告或者法律意见书等文件，应当勤勉尽责，对所制作、出具的文件内容的真实性、准确性、完整性进行核查和验证。其制作、出具的文件有虚假记载、误导性陈述或者重大遗漏，给他人造成损失的，应当与发行人、上市公司承担连带赔偿责任，但是能够证明自己没有过错的除外。

第九章 证券业协会

第一百七十四条证券业协会是证券业的自律性组织，是社会团体法人。

证券公司应当加入证券业协会。

证券业协会的权力机构为全体会员组成的会员大会。

《2011年公务员考试行测考试 100 套华图真题》

第一百七十五条证券业协会章程由会员大会制定，并报国务院证券监督管理机构备案。

第一百七十六条证券业协会履行下列职责：

- (一) 教育和组织会员遵守证券法律、行政法规；
- (二) 依法维护会员的合法权益，向证券监督管理机构反映会员的建议和要求；
- (三) 收集整理证券信息，为会员提供服务；
- (四) 制定会员应遵守的规则，组织会员单位的从业人员的业务培训，开展会员间的业务交流；
- (五) 对会员之间、会员与客户之间发生的证券业务纠纷进行调解；
- (六) 组织会员就证券业的发展、运作及有关内容进行研究；
- (七) 监督、检查会员行为，对违反法律、行政法规或者协会章程的，按照规定给予纪律处分；
- (八) 证券业协会章程规定的其他职责。

第一百七十七条证券业协会设理事会。理事会成员依章程的规定由选举产生。

第十章 证券监督管理机构

第一百七十八条国务院证券监督管理机构依法对证券市场实行监督管理，维护证券市场秩序，保障其合法运行。

第一百七十九条国务院证券监督管理机构在对证券市场实施监督管理中履行下列职责：

- (一) 依法制定有关证券市场监督管理的规章、规则，并依法行使审批或者核准权；
- (二) 依法对证券的发行、上市、交易、登记、存管、结算，进行监督管理；
- (三) 依法对证券发行人、上市公司、证券交易所、证券公司、证券登记结算机构、证券投资基金管理公司、证券服务机构的证券业务活动，进行监督管理；
- (四) 依法制定从事证券业务人员的资格标准和行为准则，并监督实施；
- (五) 依法监督检查证券发行、上市和交易的信息公开情况；
- (六) 依法对证券业协会的活动进行指导和监督；
- (七) 依法对违反证券市场监督管理法律、行政法规的行为进行查处；
- (八) 法律、行政法规规定的其他职责。国务院证券监督管理机构可以和其他国家或者地区的证券监督管理机构建立监督管理合作机制，实施跨境监督管理。

第一百八十条国务院证券监督管理机构依法履行职责，有权采取下列措施：

- (一) 对证券发行人、上市公司、证券公司、证券投资基金管理公司、证券服务机构、证券交易所、证券登记结算机构进行现场检查；
- (二) 进入涉嫌违法行为发生场所调查取证；
- (三) 询问当事人和与被调查事件有关的单位和个人，要求其对与被调查事件有关的事项作出说明；
- (四) 查阅、复制与被调查事件有关的财产权登记、通讯记录等资料；
- (五) 查阅、复制当事人和与被调查事件有关的单位和个人的证券交易记录、登记过户记录、财务会计资料及其他相关文件和资料；对可能被转移、隐匿或者毁损的文件和资料，可以予以封存；
- (六) 查询当事人和与被调查事件有关的单位和个人的资金账户、证券账户和银行账户；对有证据证明已经或者可能转移或者隐匿违法资金、证券等涉案财产或者隐匿、伪造、毁损重要证据的，经国务院证券监督管理机构主要负责人批准，可以冻结或者查封；

《2011年公务员考试行测考试 100 套华图真题》

(七)在调查操纵证券市场、内幕交易等重大证券违法行为时，经国务院证券监督管理机构主要负责人批准，可以限制被调查事件当事人的证券买卖，但限制的期限不得超过十五个交易日；案情复杂的，可以延长十五个交易日。

第一百八十一条国务院证券监督管理机构依法履行职责，进行监督检查或者调查，其监督检查、调查的人员不得少于二人，并应当出示合法证件和监督检查、调查通知书。监督检查、调查的人员少于二人或者未出示合法证件和监督检查、调查通知书的，被检查、调查的单位有权拒绝。

第一百八十二条国务院证券监督管理机构工作人员必须忠于职守，依法办事，公正廉洁，不得利用职务便利牟取不正当利益，不得泄露所知悉的有关单位和个人的商业秘密。

第一百八十三条国务院证券监督管理机构依法履行职责，被检查、调查的单位和个人应当配合，如实提供有关文件和资料，不得拒绝、阻碍和隐瞒。

第一百八十四条国务院证券监督管理机构依法制定的规章、规则和监督管理工作制度应当公开。国务院证券监督管理机构依据调查结果，对证券违法行为作出的处罚决定，应当公开。

第一百八十五条国务院证券监督管理机构应当与国务院其他金融监督管理机构建立监督管理信息共享机制。国务院证券监督管理机构依法履行职责，进行监督检查或者调查时，有关部门应当予以配合。

第一百八十六条国务院证券监督管理机构依法履行职责，发现证券违法行为涉嫌犯罪的，应当将案件移送司法机关处理。

第一百八十七条国务院证券监督管理机构的人员不得在被监管的机构中任职。

第十一章 法律责任

第一百八十八条未经法定机关核准，擅自公开或者变相公开发行证券的，责令停止发行，退还所募资金并加算银行同期存款利息，处以非法所募资金金额百分之一以上百分之五以下的罚款；对擅自公开或者变相公开发行证券设立的公司，由依法履行监督管理职责的机构或者部门会同县级以上地方人民政府予以取缔。对直接负责的主管人员和其他直接责任人员给予警告，并处以三万元以上三十万元以下的罚款。

第一百八十九条发行人不符合发行条件，以欺骗手段骗取发行核准，尚未发行证券的，处以三十万元以上六十万元以下的罚款；已经发行证券的，处以非法所募资金金额百分之一以上百分之五以下的罚款。对直接负责的主管人员和其他直接责任人员处以三万元以上三十万元以下的罚款。

发行人的控股股东、实际控制人指使从事前款违法行为的，依照前款的规定处罚。

第一百九十条证券公司承销或者代理买卖未经核准擅自公开发行的证券的，责令停止承销或者代理买卖，没收违法所得，并处以违法所得一倍以上五倍以下的罚款；没有违法所得或者违法所得不足三十万元的，处以三十万元以上六十万元以下的罚款。给投资者造成损失的，应当与发行人承担连带赔偿责任。对直接负责的主管人员和其他直接责任人员给予警告，撤销任职资格或者证券从业资格，并处以三万元以上三十万元以下的罚款。

第一百九十一条证券公司承销证券，有下列行为之一的，责令改正，给予警告，没收违法所得，可以并处三十万元以上六十万元以下的罚款；情节严重的，暂停或者撤销相关业务许可。给其他证券承销机构或者投资者造成损失的，依法

《2011年公务员考试行测考试 100 套华图真题》

承担赔偿责任。对直接负责的主管人员和其他直接责任人员给予警告，可以并处三万元以上三十万元以下的罚款；情节严重的，撤销任职资格或者证券从业资格：

(一)进行虚假的或者误导投资者的广告或者其他宣传推介活动；

(二)以不正当竞争手段招揽承销业务；

(三)其他违反证券承销业务规定的行为。

第一百九十二条保荐人出具有虚假记载、误导性陈述或者重大遗漏的保荐书，或者不履行其他法定职责的，责令改正，给予警告，没收业务收入，并处以业务收入一倍以上五倍以下的罚款；情节严重的，暂停或者撤销相关业务许可。对直接负责的主管人员和其他直接责任人员给予警告，并处以三万元以上三十万元以下的罚款；情节严重的，撤销任职资格或者证券从业资格。

第一百九十三条发行人、上市公司或者其他信息披露义务人未按照规定披露信息，或者所披露的信息有虚假记载、误导性陈述或者重大遗漏的，由证券监督管理机构责令改正，给予警告，处以三十万元以上六十万元以下的罚款。对直接负责的主管人员和其他直接责任人员给予警告，并处以三万元以上三十万元以下的罚款。发行人、上市公司或者其他信息披露义务人未按照规定报送有关报告，或者报送的报告有虚假记载、误导性陈述或者重大遗漏的，由证券监督管理机构责令改正，处以三十万元以上六十万元以下的罚款。对直接负责的主管人员和其他直接责任人员给予警告，并处以三万元以上三十万元以下的罚款。

发行人、上市公司或者其他信息披露义务人的控股股东、实际控制人指使从事前两款违法行为的，依照前两款的规定处罚。

第一百九十四条发行人、上市公司擅自改变公开发行证券所募集资金的用途的，责令改正，对直接负责的主管人员和其他直接责任人员给予警告，并处以三万元以上三十万元以下的罚款。

发行人、上市公司的控股股东、实际控制人指使从事前款违法行为的，给予警告，并处以三十万元以上六十万元以下的罚款。对直接负责的主管人员和其他直接责任人员依照前款的规定处罚。

第一百九十五条上市公司的董事、监事、高级管理人员、持有上市公司股份百分之五以上的股东，违反本法第四十七条的规定买卖本公司股票的，给予警告，可以并处三万元以上十万元以下的罚款。

第一百九十六条非法开设证券交易场所的，由县级以上人民政府予以取缔，没收违法所得，并处以违法所得一倍以上五倍以下的罚款；没有违法所得或者违法所得不足十万元的，处以十万元以上五十万元以下的罚款。对直接负责的主管人员和其他直接责任人员给予警告，并处以三万元以上三十万元以下的罚款。

第一百九十七条未经批准，擅自设立证券公司或者非法经营证券业务的，由证券监督管理机构予以取缔，没收违法所得，并处以违法所得一倍以上五倍以下的罚款；没有违法所得或者违法所得不足三十万元的，处以三十万元以上六十万元以下的罚款。对直接负责的主管人员和其他直接责任人员给予警告，并处以三万元以上三十万元以下的罚款。

第一百九十八条违反本法规定，聘任不具有任职资格、证券从业资格的人员的，由证券监督管理机构责令改正，给予警告，可以并处十万元以上三十万元以下的罚款；对直接负责的主管人员给予警告，可以并处三万元以上十万元以下的罚款。

第一百九十九条法律、行政法规规定禁止参与股票交易的人员，直接或者以化名、借他人名义持有、买卖股票的，责令依法处理非法持有的股票，没收违法

《2011年公务员考试行测考试 100 套华图真题》

所得，并处以买卖股票等值以下的罚款；属于国家工作人员的，还应当依法给予行政处分。

第二百条证券交易所、证券公司、证券登记结算机构、证券服务机构的从业人员或者证券业协会的工作人员，故意提供虚假资料，隐匿、伪造、篡改或者毁损交易记录，诱骗投资者买卖证券的，撤销证券从业资格，并处以三万元以上十万元以下的罚款；属于国家工作人员的，还应当依法给予行政处分。

第二百零一条为股票的发行、上市、交易出具审计报告、资产评估报告或者法律意见书等文件的证券服务机构和人员，违反本法第四十五条的规定买卖股票的，责令依法处理非法持有的股票，没收违法所得，并处以买卖股票等值以下的罚款。

第二百零二条证券交易内幕信息的知情人或者非法获取内幕信息的人，在涉及证券的发行、交易或者其他对证券的价格有重大影响的信息公开前，买卖该证券，或者泄露该信息，或者建议他人买卖该证券的，责令依法处理非法持有的证券，没收违法所得，并处以违法所得一倍以上五倍以下的罚款；没有违法所得或者违法所得不足三万元的，处以三万元以上六十万元以下的罚款。单位从事内幕交易的，还应当对直接负责的主管人员和其他直接责任人员给予警告，并处以三万元以上三十万元以下的罚款。证券监督管理机构工作人员进行内幕交易的，从重处罚。

第二百零三条违反本法规定，操纵证券市场的，责令依法处理其非法持有的证券，没收违法所得，并处以违法所得一倍以上五倍以下的罚款；没有违法所得或者违法所得不足三十万元的，处以三十万元以上三百万元以下的罚款。单位操纵证券市场的，还应当对直接负责的主管人员和其他直接责任人员给予警告，并处以十万元以上六十万元以下的罚款。

第二百零四条违反法律规定，在限制转让期限内买卖证券的，责令改正，给予警告，并处以违法买卖证券等值以下的罚款。对直接负责的主管人员和其他直接责任人员给予警告，并处以三万元以上三十万元以下的罚款。

第二百零五条证券公司违反本法规定，为客户买卖证券提供融资融券的，没收违法所得，暂停或者撤销相关业务许可，并处以非法融资融券等值以下的罚款。对直接负责的主管人员和其他直接责任人员给予警告，撤销任职资格或者证券从业资格，并处以三万元以上三十万元以下的罚款。

第二百零六条违反本法第七十八条第一款、第三款的规定，扰乱证券市场的，由证券监督管理机构责令改正，没收违法所得，并处以违法所得一倍以上五倍以下的罚款；没有违法所得或者违法所得不足三万元的，处以三万元以上二十万元以下的罚款。

第二百零七条违反本法第七十八条第二款的规定，在证券交易活动中作出虚假陈述或者信息误导的，责令改正，处以三万元以上二十万元以下的罚款；属于国家工作人员的，还应当依法给予行政处分。

第二百零八条违反本法规定，法人以他人名义设立账户或者利用他人账户买卖证券的，责令改正，没收违法所得，并处以违法所得一倍以上五倍以下的罚款；没有违法所得或者违法所得不足三万元的，处以三万元以上三十万元以下的罚款。对直接负责的主管人员和其他直接责任人员给予警告，并处以三万元以上十万元以下的罚款。证券公司为前款规定的违法行为提供自己或者他人的证券交易账户的，除依照前款的规定处罚外，还应当撤销直接负责的主管人员和其他直接责任人员的任职资格或者证券从业资格。

《2011年公务员考试行测考试 100 套华图真题》

第二百零九条证券公司违反本法规定，假借他人名义或者以个人名义从事证券自营业务的，责令改正，没收违法所得，并处以违法所得一倍以上五倍以下的罚款；没有违法所得或者违法所得不足三十万元的，处以三十万元以上六十万元以下的罚款；情节严重的，暂停或者撤销证券自营业务许可。对直接负责的主管人员和其他直接责任人员给予警告，撤销任职资格或者证券从业资格，并处以三万元以上十万元以下的罚款。

第二百一十条证券公司违背客户的委托买卖证券、办理交易事项，或者违背客户真实意思表示，办理交易以外的其他事项的，责令改正，处以一万元以上十万元以下的罚款。给客户造成损失的，依法承担赔偿责任。

第二百一十一条证券公司、证券登记结算机构挪用客户的资金或者证券，或者未经客户的委托，擅自为客户买卖证券的，责令改正，没收违法所得，并处以违法所得一倍以上五倍以下的罚款；没有违法所得或者违法所得不足十万元的，处以十万元以上六十万元以下的罚款；情节严重的，责令关闭或者撤销相关业务许可。对直接负责的主管人员和其他直接责任人员给予警告，撤销任职资格或者证券从业资格，并处以三万元以上三十万元以下的罚款。

第二百一十二条证券公司办理经纪业务，接受客户的全权委托买卖证券的，或者证券公司对客户买卖证券的收益或者赔偿证券买卖的损失作出承诺的，责令改正，没收违法所得，并处以五万元以上二十万元以下的罚款，可以暂停或者撤销相关业务许可。对直接负责的主管人员和其他直接责任人员给予警告，并处以三万元以上十万元以下的罚款，可以撤销任职资格或者证券从业资格。

第二百一十三条收购人未按照本法规定履行上市公司收购的公告、发出收购要约、报送上市公司收购报告书等义务或者擅自变更收购要约的，责令改正，给予警告，并处以十万元以上三十万元以下的罚款；在改正前，其持有或者通过协议、其他安排与他人共同持有被收购公司股份超过百分之三十的部分不得行使表决权。对直接负责的主管人员和其他直接责任人员给予警告，并处以三万元以上三十万元以下的罚款。

第二百一十四条收购人或者收购人的控股股东利用上市公司收购损害被收购公司及其股东的合法权益的，责令改正，给予警告；情节严重的，并处以十万元以上六十万元以下的罚款。给被收购公司及其股东造成损失的，依法承担赔偿责任。对直接负责的主管人员和其他直接责任人员给予警告，并处以三万元以上三十万元以下的罚款。

第二百一十五条证券公司及其从业人员违反本法规定，私下接受客户委托买卖证券的，责令改正，给予警告，没收违法所得，并处以违法所得一倍以上五倍以下的罚款；没有违法所得或者违法所得不足十万元的，处以十万元以上三十万元以下的罚款。

第二百一十六条证券公司违反规定，未经批准经营非上市证券的交易的，责令改正，没收违法所得，并处以违法所得一倍以上五倍以下的罚款。

第二百一十七条证券公司成立后，无正当理由超过三个月未开始营业的，或者开业后自行停业连续三个月以上的，由公司登记机关吊销其公司营业执照。

第二百一十八条证券公司违反本法第一百二十九条的规定，擅自设立、收购、撤销分支机构，或者合并、分立、停业、解散、破产，或者在境外设立、收购、参股证券经营机构的，责令改正，没收违法所得，并处以违法所得一倍以上五倍以下的罚款；没有违法所得或者违法所得不足十万元的，处以十万元以上六十万元以下的罚款。对直接负责的主管人员给予警告，并处以三万元以上十万元以下

《2011 年公务员考试行测考试 100 套华图真题》

的罚款。

证券公司违反本法第一百二十九条的规定,擅自变更有关事项的,责令改正,并处以十万元以上三十万元以下的罚款。对直接负责的主管人员给予警告,并处以五万元以下的罚款。

第二百一十九条证券公司违反本法规定,超出业务许可范围经营证券业务的,责令改正,没收违法所得,并处以违法所得一倍以上五倍以下的罚款;没有违法所得或者违法所得不足三十万元的,处以三十万元以上六十万元以下罚款;情节严重的,责令关闭。对直接负责的主管人员和其他直接责任人员给予警告,撤销任职资格或者证券从业资格,并处以三万元以上十万元以下的罚款。

第二百二十条证券公司对其证券经纪业务、证券承销业务、证券自营业务、证券资产管理业务,不依法分开办理,混合操作的,责令改正,没收违法所得,并处以三十万元以上六十万元以下的罚款;情节严重的,撤销相关业务许可。对直接负责的主管人员和其他直接责任人员给予警告,并处以三万元以上十万元以下的罚款;情节严重的,撤销任职资格或者证券从业资格。

第二百二十一条提交虚假证明文件或者采取其他欺诈手段隐瞒重要事实骗取证券业务许可的,或者证券公司在证券交易中有严重违法行为,不再具备经营资格的,由证券监督管理机构撤销证券业务许可。

第二百二十二条证券公司或者其股东、实际控制人违反规定,拒不向证券监督管理机构报送或者提供经营管理信息和资料,或者报送、提供的经营管理信息和资料有虚假记载、误导性陈述或者重大遗漏的,责令改正,给予警告,并处以三万元以上三十万元以下的罚款,可以暂停或者撤销证券公司相关业务许可。对直接负责的主管人员和其他直接责任人员,给予警告,并处以三万元以下的罚款,可以撤销任职资格或者证券从业资格。证券公司为其股东或者股东的关联人提供融资或者担保的,责令改正,给予警告,并处以十万元以上三十万元以下的罚款。对直接负责的主管人员和其他直接责任人员,处以三万元以上十万元以下的罚款。股东有过错的,在按照要求改正前,国务院证券监督管理机构可以限制其股东权利;拒不改正的,可以责令其转让所持证券公司股权。

第二百二十三条证券服务机构未勤勉尽责,所制作、出具的文件有虚假记载、误导性陈述或者重大遗漏的,责令改正,没收业务收入,暂停或者撤销证券服务业务许可,并处以业务收入一倍以上五倍以下的罚款。对直接负责的主管人员和其他直接责任人员给予警告,撤销证券从业资格,并处以三万元以上十万元以下的罚款。

第二百二十四条违反本法规定,发行、承销公司债券的,由国务院授权的部门依照本法有关规定予以处罚。

第二百二十五条上市公司、证券公司、证券交易所、证券登记结算机构、证券服务机构,未按照有关规定保存有关文件和资料的,责令改正,给予警告,并处以三万元以上三十万元以下的罚款;隐匿、伪造、篡改或者毁损有关文件和资料的,给予警告,并处以三十万元以上六十万元以下的罚款。

第二百二十六条未经国务院证券监督管理机构批准,擅自设立证券登记结算机构的,由证券监督管理机构予以取缔,没收违法所得,并处以违法所得一倍以上五倍以下的罚款。

投资咨询机构、财务顾问机构、资信评级机构、资产评估机构、会计师事务所未经批准,擅自从事证券服务业务的,责令改正,没收违法所得,并处以违法所得一倍以上五倍以下的罚款。

《2011 年公务员考试行测考试 100 套华图真题》

证券登记结算机构、证券服务机构违反本法规定或者依法制定的业务规则的，由证券监督管理机构责令改正，没收违法所得，并处以违法所得一倍以上五倍以下的罚款；没有违法所得或者违法所得不足十万元的，处以十万元以上三十万元以下的罚款；情节严重？/

行政法律理论辅导讲座：国际经济法（一）

窗

体时间：2006 年 11 月 02 日

顶15:17

部



我来说两句

Sogou 搜狗

搜索

窗体底部

精彩世界杯 精彩进球视频

【作者：李祖华】

【来源：北京金路公务员考试研究中心】

第一章 绪论

第一节 国际经济法的产生和发展

国际经济法，是泛指国际经济关系的各种法律规范。换句话说，它是调整国际经济关系的各种法律规范的总称。

国际经济交往中所发生的国际经济关系，在每一特定历史阶段，往往形成某种相对稳定的格局、结构或模式，通常称之为国际经济秩序。国际经

济秩序的建立和变迁，取决于国际社会种类成员间的经济、政治和军事实力对比。国际经济秩序与国际经济法之间，有着极其密切的关系。

国际经济法，就其广义的内涵而言，是各国统治阶级在国际经济交往方面协调意志或个别意志的表现。

国际经济法是巩固现存经济秩序的重要工具，也是促进变革旧国际经济秩序、建立新国际经济秩序的重要手段。

一、萌芽阶段的国际经济法

（一）罗得法

某些商事法规或商事习惯法，实质上就是国际经济法的最初萌芽。

长年实践积累形成的商务习惯常为当地的商务法庭断案时所援引适用，并且逐渐被汇编为法典，这就是传说中的“罗得法”。

（三）中世纪的国际性商事法典

这些特设的商务法庭依据求同存异的商业习惯或共同的行为规范所作出的判决，往往被编纂为各种商事习惯法法典，成为日后处理同类案件的依据。其中影

《2011 年公务员考试行测考试 100 套华图真题》

响最大、颇负盛名的是大约编纂于 13 世纪的《康索拉多海商法典》。

该法典与其他海事商法法典其共同特点则在于它们都不单一国家的国内立法，而都是用来调整国际商务关系的国际习惯法，在不同程序上得到了国际社会的承认。

二、发展阶段的国际经济法

从 17 世纪到 20 世纪 40 年代以前，数百年间，用以调整国际经济关系的国际条约、国际习惯和国内立法，大量出现，日益完备。

（一）双边国际商务条约

在各国之间大量的双边商务条约相继出现以后，由于其中许多主要条款基本相同或相似，这些条款及其所体现的国际经济贸易惯例，就逐渐形成用以调整国际经济关系的国际法的一般规则或具有普遍约束力的国际行为准则。

（三）多边国际商务专题公约

其中影响较大的，如 1883 年签订的《关于保护工业产权的巴黎公约》。

第二节 国际经济法涵义

一、狭义说：国际经济法是国际公法的新分支

持此类观点的主要代表人物，有英国的施瓦曾伯格、日本的金泽良雄以及法国的卡罗等人。

二、广义说：国际经济法是调整国际（跨国）经济关系的国际法、国内法的边缘性综合体

它所调整的对象，不仅仅限于国家政府相互之间、国际组织相互之间以及国家政府与国际组织之间的经济关系，而且包括大量的分属于不同国家的个人之间、法人之间、个人与法人之间以及他们与异国政府或国际组织之间的各种经济关系。

在国际经济法发挥调整作用的过程中，在国际经济关系领域里享受法定权利和承担法定义务的主体，即国际经济法的主体，不但包括从事跨越国境的经济交往的国家政府和国际组织，而且包括从事此种经济交往的一切自然人和法人。

因此，国际经济法的内容并不仅仅局限于调整国际（跨国）经济关系的国际公约、条约、协定以及属于公法性质的各种国际惯例，它还理应包括用以调整一切跨越国境的经济关系的国际私法、国际商法和国际商务惯例，以及各国民商法和经济法的涉外部分。

持此类观点的主要代表人物，有美国的杰塞普、斯泰纳、杰克逊、洛文费尔德以及日本的樱井雅夫等人。

第三节 国际经济法的范围及其与相邻法律部门的交错

一、国际经济法与国际公法的联系与区别

大体说来，用以调整国际经济关系的国际公法规范，属于国际经济法范畴；用以调整国际政治关系以及其他非经济关系的国际公法规范，不属于国际经济法范畴。

二、国际经济法与国际私法的联系与区别

国际私法中涉及经济方面的冲突规范是国际经济法的渊源，国际私法中与经济无关的冲突规范并非国际经济法的渊源。

只有在特殊的情况下，如果国家以及各国政府间组织不以主权实体的身份，而以非主权实体的身份，即一般私法法人的身份，从事超越一国国界的经济交往或经贸活动，它们才可能成为国际私法关系上的主体。

如果单从调整的对象方面看，国际经济法所调整的对象范围，远比国际私法狭窄；从总体上看，国际经济法所调整的对象的范围，又远比国际私法广泛得多。

《2011 年公务员考试行测考试 100 套华图真题》

四、国际经济法与国际商务惯例的联系和区别

国际商务惯例当然也是国际经济法这一边缘性综合体的有机组成部分。换句话说，它既不属于国际公法范畴，也不属于国际私法（冲突法）或各国经济法的范畴，却自成一类。其独特之处在于：

第一，它的确立，并非基于国家的立法或国家间的缔约。

第二，它对于特定当事人具有的法律上的约束力，并非来源于国家主权或其他强制力，而是来源于当事人各方的共同协议和自愿选择，如果没有当事人的合意采用，它就毫无约束力可言。

第三，当事人在订立合同时，对于某一项现在的国际商务惯例，只要各方合意议定，就既可以全盘采用，也可以有所增删，悉听自便。

第四，国际商务惯例对于特定当事人的约束力，虽然并非来源于国家主权或其他强制权力，但是，这种约束力的实施或兑现，却往往必须借助于国家的主权或其他强制权。

第二章 国际经济法的基本原则

国际经济法的基本原则，指的是贯串于调整国际经济关系的各类法律规范之中的主要精神和指导思想，是这些法律规范的基础和核心。

二、经济主权原则的基本内容及其形成过程

经济主权原则是国际经济法中的首要基本规范。

1974 年 12 月 12 日，联合国大会第 29 届会议通过了《各国经济权利和义务宪章》。

经济主权原则的主要内容体现在《宪章》第 2 条：“每个国家对本国的财富、自然资源以及全部经济活动，都享有并且可以自由行使完整的、永久的主权，其中包括占有、使用和处置的权利。”

国家经济主权原则的具体内容大体上可分为以下三个方面：

（一）各国对境内的一切自然资源享有永久主权

（二）各国对境内的外国投资以及跨国公司的活动享有管理监督权

（三）各国对境内的外国资产有权收归国有或征用

第三节 公平互利原则

二、公平互利原则的初步实践一例：非互惠的普遍优惠待遇

为了加速发展中国家的经济增长，消除发达国家与发展中国家之间的经济鸿沟，发达国家应当尽可能在国际经济合作的领域内给予发展中国家普遍优惠的、不要求互惠的和不加以歧视的待遇。

发达国家对发展中国家实行“非互惠的普惠待遇”，是公平互利原则的一种具体运用和初步体现。

第四节 全球合作原则

全球合作的基本目标：实行世界经济结构改革，建立公平合理的国际经济关系和国际经济新秩序，使全球所有国家都实现更普遍的繁荣，所有民族都达到更高的生活水平。

全球合作的基本范围：合作是多领域、多层次和全方位的。

全球合作的首要途径：所有国家在法律上一律平等，并且作为国际社会的平等成员，有权充分地 and 切实有效地参加解决世界性经济、财政、货币问题的国际决策，从而公平地分享由此而来的各种利益。

全球合作的中心环节：在于开展南北合作。

一、全球合作原则的中心环节：南北合作

《2011年公务员考试行测考试100套华图真题》

当代国际社会各类成员之间，存在着许多对矛盾与合作的关系。其中比较重要的有：“东西关系”，通常指社会主义国家与资本主义发达国家之间的关系；“南北关系”，通常是指发展中国家与发达国家之间的关系；“南南关系”，通常指发展中国家相互之间的关系；“北北关系”，通常指发达国家之间的关系。

南北关系是全世界政治经济关系中的主要矛盾。

南北矛盾实质是发达国家凭借历史上长期形成的、在国际经济体系中的垄断地位和绝对优势，继续控制和盘剥发展中国家，力图维护国际经济旧秩序；而历史上长期积贫积弱的发展中国家，不愿继续忍受发达国家的控制和剥削，起而抗争，维护本国的民族经济权益，力图变革国际经济旧秩序和建立国际经济新秩序。

二、南北合作原则的初步实践一例：《洛美协定》

《洛美协定》的全称是《欧洲经济共同体——非洲、加勒比和太平洋（国家）洛美协定》。简称《洛美协定》或《洛美公约》。它在当前的南北关系中，是最大的经济贸易集团，缔约成员国已达80个。

1975年2月，在西非国家多哥的首都洛美，签订了贸易和经济协定，有效期5年。通称第一个《洛美协定》。

1979年10月在多哥洛美签订的《洛美协定》，通称第二个《洛美协定》，有效期仍为5年。

1984年12月在多哥洛美签订的《洛美协定》，通称第三个《洛美协定》，有效期也是5年。

1989年12月在多哥洛美签订的《洛美协定》，通称第四个《洛美协定》，有效期延长一倍，即10年。

综观上述四个《洛美协定》的发展进程，可以看出：发展中国家与发达国家之间的互利使用关系是有生命力的。

但也应当看到：迄今为止，《洛美协定》式的南北合作，仍然远未能从根本上改变南北双方之间很不平等、很不公平的经济关系。

三、全球合作的新兴模式和强大趋势：南南合作

南南合作与南北合作，都是全球合作的重要组成部分，这是两者的共同点。但南南合作的政治基础、经济基础、内在实质及实践效应，却与南北合作有重大的差异。

简言之，第三世界各国独立以来经济结构的变化和经济力量的增强，乃是发展南南合作的良好经济基础。

第五节 有约必守原则

这里所阐述的“有约必守”原则，就包括“条约必须遵守”以及“合同（契约）必须遵守”这两重涵义。

一、有约必守原则的基本内容

就国家间的条约而言，“有约必守”指的是当事国一旦参加签订双边经济条约或多边经济条约，就在享受该项条约赋予的国际经济权利的同时，也受到该条约和国际法的约束，必须信守条约的规定，实践自己作为缔约国的诺言，履行自己的国际经济义务。否则，不履行条约所课予自己一方的国际义务，就意味着侵害了他方缔约国的国际权利，构成了国际侵权行为或国际不法行为，就要承担由此引起的国家责任。

有约必守原则已被正式载入国际公约：《维也纳条约法公约》、《各国经济权利和义务宪章》。

就自然人、法人相互间或他们与国家之间的合同（契约）而言，“有约必守”

《2011年公务员考试行测考试100套华图真题》

指的是有关各方当事人一旦达成协议，依法订立合同，它就具有法律上的约束力，非依法律或当事人重新协议，不得单方面擅自改变。任何一方无合法原因不履行或不完全履行合同义务时，对方有权请求履行或解除合同；并有权就不履行或迟延履行所造成的损失要求赔偿。在近现在各国民商立法中，普遍都有这一类基本条款规定。

二、有约必守原则的限制

对有约必守原则的限制，主要有以下两个方面：

（一）合同或条约必须是合法、有效的。

1. 就合同而言，违法合同和缺乏其他必备条件的合同，都是自始无效的。

2. 就条约而言，要贯彻有约必守原则，其前提条件也在于条约本身必须是合法、有效的。

（二）合同或条约往往受“情势变迁”的制约

一般认为，上述条文可作如下解释：

第一，条文以否定式、消极性的措词，规定了适用“情势变迁”的狭小范围，即在一般情况下“不得”援引它作为理由要求废约或退约，“除非”在特殊情况下才可以援用这个理由。

第二，实现这种例外，必须同时具备许多要件，即：

1. 发生情势变迁的时间必须是在缔约之后。

2. 情势变迁的程度必须是根本性的。

3. 情势变迁的实况必须是当事国所未预见的。

4. 情势变迁的结果必须是丧失了当事国当初同意接受该条约拘束的必要基础或基本前提。

5. 情势变迁的影响必须是势将根本改变依据该条约尚待履行的义务的范围或程度。

6. 情势变迁的原因必须不是出于该当事国本身的违约行为。

7. “情势变迁”原则适用的对象必须不是边界条约或边界条款。

第三章 国际货物买卖法

第一节 国际货物买卖法概说

二、国际货物买卖的法律

国际货物买卖的法律，主要包括三部分：1. 国际贸易惯例；2. 各国有关国际货物买卖的国内立法及其冲突规范；3. 国际货物买卖公约。

第二节 国际货物买卖合同

二、国际货物买卖合同的订立

（一）合同的成立要件

1. 实质要件

（1）关于发价

A. 发价的含义：发价是一方当事人以进行国际货物买卖为目的，向另一方当事人发出的愿按一定条件和他订立合同的意思表示。在外贸实践中，发价亦称“报价”、“发盘”、“开盘”。作此意思表示的人是发价人，对方是被发价人。

B. 发价的构成：“向一个或一个以上特定的人提出的订立合同的建议，如果十分确定并且表明发价人在得到接受时承受约束的意旨，即构成发价”。可见一项发价的构成，必须具备三个条件：一是应向一个或一个以上特定的人提出。二是建议的内容必须十分确定，以便对方考虑。三则必须表明发价人在其发价一旦得到接受就将受其约束，亦即发价人与被发价人之间将按发价内容成立合同，发价

《2011 年公务员考试行测考试 100 套华图真题》

人应允承担卖方或买方的全部义务。

C. 发价的效力：发价于到达发价人时生效。

D. 发价的撤回和撤销：发价在送达被发价人之间，尚未发生效力，发价人可以随时把它撤回，便发价不发生效力；即使是不可撤销的发价，也可以撤回。但如有下列两种情况之一，发价不得撤销：一、发价写明接受发价的期限或以其他方式表示发价是不可撤销的；二、被发价人有理由信赖该项发价是不可撤销的，而且被发价人已本着对该项发价的依赖行事。

（2）关于接受

A. 接受的含义：接受是被发价人作出的同意发价的意思表示；这意思，有时也以某种行为来表示。但缄默或不行动本身不等于接受。

B. 接受的效力：被发价人表示了接受的意思，是发价人、被发价人之间已达成协议，合同即告成立。这便是接受的效力。

C. 逾期的接受：接受没有在应到达的时间内到达，是为逾期的接受，亦即迟到的接受。前已提及，逾期的接受无效；但有例外：其一为倘若发价人在收到接受函电时，毫不迟延地用口头或书面通知被发价人说，接受虽已逾期，但他仍视之为有效的接受，则接受即为有效，可以订立合同，迟到的接受实际到达之时，即为合同成立时。另一为如果载有逾期接受的信件或其他书面文件表明，依照它寄发时的情况，只要传递正常，它本应是能够在期限内到达的，则此项逾期接受应被认为具有接受的效力，除非发价人毫不迟延地用口头或书面通知被发价人：他认为他的发价已经失效，从而不能因该接受而订立合同。

（4）“第三方要求”问题

所谓“第三方要求”的问题，也就是权利担保问题。

六、违反合同及其补救

（一）违反合同与补救

2. 有一种违反合同特别严重，《公约》称之为“根本违反合同”。根据公约 25 条，一方当事人违反合同的结果，如使另一方当事人蒙受损害，以至于实际上剥夺了他根据合同规定有权期待得到的东西，即为根本违反合同。

是不是根本违反合同，引致的法律后果很不一样：是根本违反合同，受损害的一方有权宣告合同无效，有权要求损害赔偿；如果不是根本违反合同，则受损害的一方不能宣告合同无效，而只能要求损害赔偿和采取其他补救措施办法。

《公约》第 74 条：“一方当事人违反合同应负的损害赔偿额，应与另一方当事人因他违反合同而遭受的包括利润在内的损失额相等。”

但赔偿额有一个限制，即“这种损害赔偿不得超过违反合同一方在订立合同时，依照他当时已知道或理应知道的事实和情况，对违反合同预料到或理应预料到的可能损失”。

七、风险的转移

（一）风险转移的含义

在国际货物买卖，依据合同，货物要由卖方交付给买方，货物的所有权要由卖方转移给买方。货物的风险，原是卖方承担着的，也应于某个时候，改归买方承担，这就是国际货物买卖中的风险转移。

（二）风险转移的时间

风险转移问题的要害在转移的时间，即风险在什么时候从卖方转移给买方。

第三节 国际货物买卖公约

一、国际货物买卖公约的性质、作用和它的制定

《2011 年公务员考试行测考试 100 套华图真题》

《公约》已于 1988 年 1 月 1 日起生效，对我国有约束力。

二、关于《联合国国际货物销售合同公约》

(三)《公约》的适用范围

1. 属于《公约》适用范围的货物买卖及其他有关事项

(1) 据《公约》，营业在不同国家的当事人之间所订立的货物销售合同，如果这些国家是缔约国，即属于《公约》的适用范围。

(2) 据《公约》，营业地在不同国家的当事人之间所订立的合同，这些国家或其中一个国家虽非缔约国，但如果国际私法规则导致适用某一缔约国的法律，也就属于《公约》的适用范围。

2. 不属于《公约》适用范围的货物买卖或其他事项

(1) 据《公约》第 2 条规定，它不适用下列六种销售：

- (a) 购供私人、家人或家庭使用的货物的销售；
- (b) 经由拍卖的销售；
- (c) 根据法律执行令状或其他令状的销售；
- (d) 公债、股票、投资证券、流通票据或货币的销售；
- (e) 船舶、船只、气垫船或飞机的销售；
- (f) 电力的销售。

《公约》明文许可的保留，有以下三项：

1. 对《公约》的“合同的订立”部分或“货物销售”部分可以声明保留（92 条）；

2. 对《公约》的“国际私法规则导致适用”的规定，可以声明保留（95 条）；

3. 《公约》规定，合同的订立、更改或终止，无须以书面为之。对这一规定，可以声明保留（96 条）。

我国在核准《公约》时，即据《公约》第 95 条、第 96 条的规定，作了保留声明。

第六节 国际货物买卖中的支付

三、信用证

(一) 信用证的含义和作用

信用证是银行应国际货物买卖中买方的请求，开给卖方的一种在一定条件下保证付款的凭证。

(二) 信用证的当事人和他们之间的关系

信用证的当事人，可以多达六、七个，他们是：

- 1. 开证申请人，即买卖合同中的买方；
- 2. 开证行；

开证行通常是开证申请人所在地的银行。开证申请人与开证行之间存在着一种委托关系；

- 3. 受益人，即买卖合同中的卖方；

受益人有权享有信用证上的利益。受益人在接收了开证行开出的不可撤销的信用证之时，他们之间便形成了以信用证条款为内容的合同关系。受益人与开证申请人没有直接关系；至于他们之间本来存在买卖合同关系，那是另一问题。

4. 通知行，即接受开证行的委托，负责将信用证通知受益人，它通常是卖方即受益人所在地的银行；

通知行与开证行是委托代理关系，通知行与受益人之间没有合同关系。

- 5. 议付行，即愿意买入或贴现受益人按信用证所开出的汇票的银行；

《2011 年公务员考试行测考试 100 套华图真题》

6. 付款行，即信用证上指定的付款银行；

7. 保兑行，即就开证行开出的不可撤销的信用证愿承担保兑责任的银行。在信用证的诸多当事人中，并不一定有保兑行。

第七节 国际货物买卖的管制

新规定的措施，则有如下三种：

一、保障措施

《对外贸易法》第 29 条规定：“因进口产品数量增加，使国内相同产品或者与其直接竞争的产品的生产者受到严重损害或者严重损害的威胁时，国家可以采取必须的保障措施，消除或者减轻这种损害或者损害的威胁。”

二、反倾销

三、反补贴

第四章 国际技术转让法

第一节 国际技术转让法的概说

四、国际技术转让法

（一）国际技术法律让的概念

国际技术转让法是调整跨越国界有偿技术转让的法律规范的总称，它是国际贸易法的组成部分。国际技术转让法有如下法律特点：

第一，国际技术转让法的主体，即国际技术转让关系的当事人是处于不同国家境内的自然人、法人以及其他经济组织。

第二，国际技术转让法的客体，是一种无形财产——技术知识和经验的使用权。

第三，国际技术转让法调整的对象是跨越国界的技术转让法律关系。

（二）国际技术转让法的渊源

1. 国内立法

2. 法院判例

3. 国际条约

五、国际技术转让合同

专利技术的概念：专利技术是依照法律规定取得专利权的技术。

专有技术的概念：专有技术是指一种在长期生产实践中形成和积累起来的，为从事生产活动所必需的，从未公开过并可转让又未取得专利保护的专门技术知识、工艺程序、经验、设计和技能。

专有技术不仅包括产业性技术知识，也包括商务性技术知识，即商业秘密或行为秘密。

专有技术和专利技术无论是在法律上还是在技术范围上都是不相同的，区别两者的意义在于，国际技术转让当事人可在国际技术转让交易中选择对自己更为合适、更为有利的技术。但他们之间存在着很大的差异，主要有以下几个方面：

（1）专有技术是没有取得工业产权保护的技术，但不等于说专有技术就不受法律保护，只是其由于其法律性质的不确定性，各国对其保护的情况不同，有的根据民法、合同法；有的根据禁止不正当竞争法、侵权行为法；有的根据刑法的规定对其进行法律保护。而专利技术有被批准的专利证书，受有关国家专利法和国际公约的保护，是一种法定的权利，除法律规定外，任何人实施他人专利技术都必须取得专利权人的许可，否则即构成侵权行为。

（2）专有技术是不向社会公开的技术，它是一种以保密性为条件的事实上的独占性。专有技术包括本身不具备专利条件的技术知识和经验，也包括本身具备

《2011年公务员考试行测考试100套华图真题》

专利条件但其所有人不愿意在申请专利时被披露，因而没有申请专利权。选择自行保密的技术知识和经验。这样，专有技术包含的范围较为庞杂，通常表现为技术知识、经验、数据、方法、配方等。专利技术是必须依专利法向社会公开的技术，并依专利法享有独占权。专利技术的范围比较狭窄，通常是指发明、实用新型和外观设计专利技术。

(3) 专有技术是依靠所有人自行保密的具有事实上的独占权的技术和经验，没有严格的时间限制和地域限制。只要该项专有技术未泄露，其所有人便可以在事实上独占该项专有技术，法律也就保护其所有人的这种独占权。专利技术作为国家依专利法公开给予保护的技术，因而具有严格的时间限制和地域限制。如果超过了法定的期限，该项专利技术就是社会共同的财富；如果超越授予专利权的国家，该项专利技术也不受保护。

(4) 从总体技术水平上说，专有技术的范围既广又杂，既包括技术知识、设计方案，又包括经验、方法、配方，因而缺乏规范性，总体技术水平比较低。而专利技术的范围较窄又简单，一般只有发明、实用新型、外观设计，而且取得专利权必须依法具有新颖性、实用性和先进性，因而有较强的规范性，总体技术水平比较高。

第二节 国际许可合同

一、国际许可合同的概念和种类

它是指营业地在不同国家的当事人，一方准许另一方用自己所拥有的工业产权无形财产或专有技术的使用权，并收取使用费，而另一方获得该项使用权并支付使用费的书面协议。

根据供方授予使用权的大小以及受方在生产经营范围和地域上所受到的限制，可以把国际许可合同分为以下几种：

- (一) 独占许可合同
- (二) 排它许可合同
- (三) 普通许可合同

根据许可合同对受方是否有权把受让的技术再行转让的规定，国际许可合同又可分为以下两种：

- (一) 可转让许可合同
- (二) 不可转让许可合同

合同的价格和支付方式：

- 1. 统包价格，也称为“一次总算”。
- 2. 提成价格，也称为“提成支付”。
- 3. 固定与提成相结合的价格。分为固定和滑动两部分，固定部分通常叫初付费或入门费。

第五章 国际投资法

第一节 国际投资法概说

国际投资法，是调整国际（跨国）投资活动的各种法律规范的总称，是国际经济法的一个重要分支。它的主要组成部分，包含发展中国家和发达国家的涉外投资法或对外投资法；涉及跨国投资问题的各类双边性国际条约、区域性国际条约和全球性国际公约；以及国际政府间机构制定的有关跨国投资活动的规范性文件；还有有关投资的国际惯例，等等。

第二节 发展中国家的涉外投资立法

一国的涉外投资法，通常包含两个基本方面：吸引外国投资的立法和向外国

《2011 年公务员考试行测考试 100 套华图真题》

投资的立法。

一、发展中国家吸收外国投资的法制

与发达国家相比较，发展中国家的外资立法主要有以下特征：

第一，大多数发展中国家吸收外资的立法都以法典或系列性专门法规的形式，对有关外资的审批、待遇、国有化及补偿、财税优惠及争端解决等法律问题，作出特别规定，以与国内投资相区别；发展中国家甚至在宪法中专门规定了有关吸收外国投资的立法原则，以其对外国投资之重视。而发达国家除少数例外，一般不对外国投资进行系列的特别规定；其适用于内国投资的法规，往往同样适用外国投资。

第二，发展中国家的外资立法在对外资进行限制、管理、监督的同时，往往在税收、外汇使用及争端解决等许多方面，给予外资优于内资的种种特惠待遇，这在发达国家的外资立法中是鲜有的。

第三，20 世纪 60—70 年代的对外投资实行国有化的国际风潮及 80 年代的债务危机，使得 80 年代流向发展中国家的外国直接投资在国际直接资本跨国流动总额中的比例急剧下降。在认识到充分利用外国直接投资以促进本国经济发展的重要作用之后，发展中国家竞相采取适应形势发展的新措施，以吸引外资。因此他们的外资立法晚近的发展趋势是逐步放宽限制，给予外资更多的是保护和优惠，从而促使大量国际游资向发展中国家回流。可以说，自第二次世界大战后数十年来，发展中国家吸收外资的立法经历了一个“波浪式”的发展进程。

以下从对外国投资的管制以及对外国投资的保护和鼓励这两个方面，简述发展中国家外资立法的基本内容：

（一）对外国投资的管制

1. 外国投资项目的审批。
2. 投资范围和出资比例的限制
3. 经营管理和雇佣职工的限制
4. 对外投资期限的限制
5. 对外国投资“本地化”的要求
6. 对外商投资企业行为的管理监督

（二）对外国投资的保护和鼓励

主要体现在以下几个方面：

1. 待遇

在中国，外资企业在所得税、关税、外汇、进出口权等许多方面享有的待遇远比内资企业优惠（超国民待遇）。

2. 资本和利润汇出的保障

3. 慎重征收（或国有化）及给予补偿

许多发展中国家规定在一般情况下对外商投资企业不实行国有化和征收，在特殊情况下，国家可以根据社会公共利益的需要，对外商投资企业实行征收，但必须通过合法手段和法定程序，并予以补偿。

4. 给予各种财税优惠

5. 妥善解决涉外投资争端

第三节 发达国家的涉外投资立法

一、发达国家鼓励海外投资的法制

（一）信贷优惠

（二）避免双重征税

《2011 年公务员考试行测考试 100 套华图真题》

（三）其他援助

二、发达国家的海外投资保险制度

（五）承保的政治风险险别

各资本输出国的投资保险机构通常承保三种主要的政治风险，分别是外汇禁兑险、财产征用险和战争内乱险。

二、保护国际投资的双边条约的类型

有关国际投资保护的双边条约，有如下三种模式：

（一）友好通商航海条约

（二）投资保证协议（美国式）

（三）促进和保护投资协定（德国式）

目前国际法学文献中所称的“双边投资条约”或“双边投资保护条约”，一般是指此协定。

第七节 《华盛顿公约》与 ICSID 体制

三、“中心”的管辖权

凡双方已经书面表示同意提交“中心”管辖的争端，应当受到三项限制：（1）当事人任何一方不得片面撤回其同意；（2）除非另有声明，提交“中心”仲裁应视为双方同意排除其他任何救济办法。但东道国可以要求优先用尽当地的各种行政救济或司法救济手段，作为它同意提交“中心”仲裁的条件；（3）对于已经书面同意提交“中心”仲裁的争端，投资者国籍所属国家不得另外主张给予外交保护或提出国际索赔要求，除非东道国不遵守和不履行对此项争端所作出的裁决。

第八节 《汉城公约》与 MIGA 体制

多边投资担保机构成立于 1988 年 4 月。

ICSID 通过受理和处断国际投资争端，为海外投资家在东道国所可能遇到的各种政治风险（非商业性风险），提供法律上的保障；MIGA 则通过直接承保各种政治风险，为海外投资家提供经济上的保障，并且进一步加强法律上的保障。

二、MIGA 的法律地位和内部组织机构

MIGA 作为世界银行集团的一个成员，拥有完全的法人地位，有权缔结合同，取得并处理不动产和动产及进行法律诉讼。

MIGA 内设理事会、董事会、总裁和职员。

四、MIGA 的担保业务

（二）合格的投资

《MIGA 公约》除了要求前来投保的投资须是在投保申请注册之后才开始执行的新的投资（包括现有投资的更新、扩大或发展以及利润的再投资）。还特别要求该投资符合以下几个条件：（1）必须具备经济合理性；（2）能够给东道国带来良好的经济、社会效益；（3）符合东道国的法律和条例（这一点以东道国事先批准 MIGA 对该项投资的担保为准）；（4）与东道国宣布的发展目标和发展重点相一致；（5）在东道国可以得到公平待遇和法律保护。

《2011 年公务员考试行测考试 100 套华图真题》

【来源：北京金路公务员考试研究中心】

第六章 国际货币金融法

（重点内容：1. 各国家对自己货币的安排；2. 国际贷款。）

第一节 国际货币金融法概说

第一部分涉及国际货币法律制度。

第二部分涉及国际资金融通的法律问题。

第三部分涉及对跨国银行的法律管制。

第二节 国际货币法律制度

一、各国涉外货币法律制度

（一）各国货币性质的确定

1. 确定本国货币为完全可兑换的货币。
2. 确定本国货币为部分可兑换的货币。
3. 确定本国货币为不可兑换的货币。

（二）各国汇率制度的选择

1. 固定汇率制
2. 浮动汇率制

二、国际货币体系

（三）金融资助

2. 基金组织的贷款

基金组织只对各会员国政府贷款，贷款的额度与该会员国缴纳的份额成正比，贷款主要用于解决该会员国国际收支不平衡。

目前，基金组织主要向各会员国提供以下几类贷款：

- （1）普通贷款
- （2）出口波动补偿贷款
- （3）缓冲库存贷款
- （4）中期贷款
- （5）扩大资金贷款
- （6）结构性调整贷款
- （7）追加结构性调整贷款

3. 基金组织的特别提款权

- （1）特别提款权的概念
- （2）特别提款权的使用
- （3）特别提款权的定值

第四节 国际贷款的法律问题

一、国际定期贷款

二、欧洲货币贷款

欧洲货币贷款是指在贷款货币发行国以外国家的国际金融市场上发放的一种国际商业贷款。

三、国际银团贷款

四、项目贷款

目前，国际上一般都采用有限追索权的项目贷款方式。这种项目贷款方式牵涉到诸多当事人，从当事人签订的各种协议的层次来分，主要采用以下三种形式：

1. 双层次结构项目贷款

双层次结构项目贷款的当事人涉及：（1）贷款人。（2）项目主办人。（3）项

《2011 年公务员考试行测考试 100 套华图真题》

目公司。

主办人与贷款人或项目公司签订以下三种担保协议，由主办人向贷款人提供担保：

- (1) 完工担保协议。
- (2) 投资协议。
- (3) 购买协议。

第五节 国际证券发行与流通的法律制度

一、国际证券概述

国际证券种类繁多，各国对国际证券范围的界定也不尽相同，主要有国际股票和国际债券两大类：

- (一) 国际股票
- (二) 国际债券

二、国际证券发行的方式

- 1. 国际证券的私募发行
- 2. 国际证券的公募发行

第六节 国际租赁的法律与实务

一、融资性租赁

融资性租赁是国际租赁业务中使用最多、最基本的形式。通常由一国出租人按另一国承租人的要求购买租赁物并出租给承租人使用，而租赁的维修和保养由承租人承担的一种租赁方式。

二、经营性租赁

经营性租赁，又称服务性租赁，这种租赁的出租人除提供租赁物外，还负责租赁物的维修和保养等服务。

三、维修租赁

维修租赁由融资性租赁与出租人提供多项服务相结合构成。

四、综合租赁

综合租赁是租赁与其他贸易方式结合在一起的一种租赁形式。

第七节 对跨国银行的法律管制

一、跨国银行的概念

跨国银行分支机构的形式及主要特点如下：

- (一) 代表处
- (二) 经理处
- (三) 分行
- (四) 附属银行
- (五) 联属银行
- (六) 联营银行

第七章 国际税法

第二节 税收管辖权

一、居民税收管辖权

居民有自然人与法人之分。

- (一) 自然人居民身份的确定

居所与居住期限相结合，是国际上最常用的确定居民身份的方法。

- (二) 法人居民身份的确定

1. 法人注册成立地标准

《2011年公务员考试行测考试 100 套华图真题》

2. 实际控制与管理中心所在地标准

3. 总机构所在地标准

二、收入来源地税收管辖权

收入来源地税收管辖权是征税国，即收入来源国用来针对非居民来自境内的所得。非居民在收入来源国的所得一般包括四个方面，要对这些所得实行收入来源地税收管辖权，必须首先确定它们的来源地，分述如下：

（一）营业所得

（二）投资所得

（三）劳务所得

（四）财产所得

财产所得指转让各种财产的所得。

第三节 国际重复征税与重叠征税

一、国际重复征税的概念

国际重复征税是国际税收关系的焦点，一般指两个国家各自依据自己的税收管辖权按同一税种对同一纳税人的同一征税对象在同一征税期限内同时征税。

二、国际重复征税的消除或缓解

（一）免税制

（二）抵免制

（三）扣除制

（四）减税制

同其他避免国际重复征税的方法相比较，减税制最为灵活。

第四节 国际避税与逃税

一、国际避税与逃税的概念及方式

跨国公司在国际避税和国际逃税方面就能够采取两个主要的手段：一是设立基地公司；另一是大搞转让定价。

所谓基地公司，就是跨国公司在避税港设立的公司，其本身往往并不从事实际经营，而将跨国公司在世界各地的投资、贸易、信贷、劳务、技术转让等所得归在它的名下，以达到不纳税或少纳税的目的。

所谓转让定价，就是跨国公司在内部交易中利用各国税率高低不一和税收规定各异人为地抬价或压价以达到逃避税收的一种手段。

第八章 国际海事法

第一节 国际海事法概说

一、国际海事法的概念

国际海事法是调整国际（跨国）商业活动中海上运输关系及其他涉及船舶的各种关系的法律规范的总称，是国际经济法的又一个重要分支。

二、国际海事法的渊源

国际海事法的渊源，是指国际海事法的规范形式。国际海事规范形式有：各国海事法、国际海事公约以及国际海事惯例。

三、国际海事法的特点

（一）国际海事法具有悠久的历史

（二）国际海事法拥有独特的法律制度

海难救助、共同海损、责任限制、船舶优先权等制度，就是国际海事法所独有的制度。

（三）国际海事法所涉及的法律关系比较复杂

《2011年公务员考试行测考试 100 套华图真题》

(四) 国际海事法有着明显的统一性

第二节 国际班轮运输合同

一、国际班轮运输合同的涵义

国际班轮运输合同是指船公司按照预先公布的固定的时间、航线、港口顺序和运费率，从事国际货物运输所订立的合同。

二、提单

(一) 提单的种类

1. 已装船提单与收货待运提单。这是以货物是否实际装船为分类标准的。
2. 记名提单、指示提单与不记名提单。这是以提单上由托运人填写的收货人一栏中的抬头为分类标准的。
3. 清洁提单与不清洁提单。这是以承运人在提单上是否对货物的外在状况进行不良批注为划分标准的。

(二) 提单的法律性质

1. 提单是货物运输合同的证明
2. 提单是承运人接管货物的证据
3. 提单是据以提取货物的凭证

三、有关提单的国际公约

目前，管制提单的国际公约有三个，即《海牙规则》、《维斯比规则》以及《汉堡规则》。

第五节 船舶碰撞

二、船舶碰撞的责任原则

(一) 过失碰撞

1. 船员过失。
2. 船东过失。
3. 推定过失。

(二) 无过失碰撞，包括：

1. 不可避免的碰撞
2. 原因不明的碰撞

(三) 过失碰撞的损害赔偿制度

1. 单方过失。
2. 双方过失。

三、损害赔偿的计算方法

从上例中看出，船舶碰撞事故发生的货物损坏的赔偿，一般不包括本船对本船所载货物的赔偿。

第六节 海难救助

一、海难救助的概念及其成立要件

海难救助是指在海上或者与海相通的可航水域，有遇险的船舶或其他财产进行救助而在被救助人与救助之间产生的法律关系。

海难救助是海事法特有的制度，其核心是给予海难救助者救助报酬，借以鼓励人们积极参预救助行动。

一般认为，海难救助法律关系的成立，也即如救助者请求被救助者支付海难救助报酬，须满足以下三个条件（习惯上称之为“海难救助三原则”）：

1. 船舶或者货物及其他财产遭受了某种不能自救的海上危险。
2. 救助人的救助行为必须是自愿的，救助者并无法定义务进行救助。

《2011 年公务员考试行测考试 100 套华图真题》

3. 救助须有效果，这是指船舶、货物或其他财产全部或部分得救。

二、海难救助报酬原则及其例外

《1989 年救助公约》“特别补偿条款”规定，对有污染环境危险的船舶以及船上的财产进行救助，救助人可以按照下列标准得到被救助船东的特别补偿：

（1）如果没有获救价值，或者虽有，按传统无效果无报酬原则计算的救助报酬少于本条的特别补偿，救助入至少有权获得相当于他消耗的救助费用的特别补偿。

（2）如果救助人在保护环境方面有功绩，他还可获得相当于救助费用的 30-100% 的特别补偿；

（3）如果因救助人的过失未能防止和减少环境污染，救助入则丧失取得全部或部分补偿的权利。

1990 年劳氏救助合同格式也根据《1989 年救助公约》，对于 1980 年劳氏救助合同格式进行了修订，规定了与该公约大致相同的特别补偿。

三、海难救助法律关系

（二）劳氏救助合同格式

1990 年劳氏救助合同的主要特点为：

第一，规定了无效果、无报酬的原则，并对环境污损救助问题作出例外规定。

第二，规定了救助报酬由经验丰富的伦敦仲裁员事后根据多种客观标准予以确定。

第三，规定了一套较完整的担保和执行仲裁裁决的程序。

第七节 共同海损

共同海损是指在同一海上航程中，船舶、货物和其他财产遭遇共同危险，为了共同安全，有意和合理地采取措施所直接造成的特殊牺牲、支付的特殊费用。海损的成立，必须满足如下条件：

（一）船舶及货物必须处于共同危险情境中。

（二）采取的措施必须是有意的、合理的。

（三）所发生的损失必须是特殊的。

三、共同海损损失的构成

共同海损损失可分为两大类，即共同海损牺牲和共同海损费用。

（一）共同海损牺牲

共同海损牺牲是指船舶或货物所遭受的物质损害，它包括：

1. 船舶牺牲

（1）起浮搁浅船舶所遭受的损坏。

（2）船舶有意搁浅。

（3）锚和锚链的牺牲。

（4）将船用物料充作燃料。

（5）为共同安全抛弃船舶属具、开舱、凿洞以及救火造成船舶的部分牺牲。

2. 货物牺牲

（1）抛弃货物。

（2）为灭火致使货物损失。

3. 运费牺牲

（二）共同海损费用

共同海损费用指具有共同海损性质的费用支出。包括：

1. 避难港费用。

《2011 年公务员考试行测考试 100 套华图真题》

- (1) 驶往、驶离避难港口的费用;
- (2) 避难港的港口费;
- (3) 避难期间船员的工资、伙食以及所耗用的物料和燃料;
- (4) 修理船舶所必需的在船上搬移或卸下货物、燃料或物料的费用。

2. 救助费用。

3. 代替费用。

五、共同海损理算

共同海损理算是指由专门机构认定共同海损是否成立以及如果成立, 为确定共同海损损失金额及受益方应分摊的金额而进行专业技术性较强的核算工作。

第九节 船舶优先权

一、船舶优先权的涵义

船舶优先权, 是指以船舶为标的, 以担保特定的债权为目的, 特定的债权人通过司法程序扣押船舶以至变卖船舶, 得以从变卖船舶的所得价款中依法定程序优先受偿的权利。

二、船舶优先权的特征

(一) 船舶优先权具有优先性

其一般原则是:

- (1) 有担保的债权优先于无担保的债权;
- (2) 有担保的债权之间, 船舶优先权优先于受抵押权、留置权担保的债权;
- (3) 受同一种担保物权担保的债权之间, 其受偿位序由法律规定。抵押权以登记先后为准, 先登记的抵押权优先于其后登记的抵押权。

(二) 船舶优先权具有附着性

(三) 船舶优先权具有秘密性

(四) 船舶优先权具有法定性

四、船舶优先权的标的

船舶优先权的对象是船舶。这里所谓“船舶”, 应理解为船舶本身的价值、运费、其他附属权益, 但不包括船舶的保险赔偿金。

五、船舶优先权的消灭有以下三种情形:

1. 船舶优先权自产生之日起已满 1 年, 优先权人仍未行使 (指向法院提出申请, 扣押船舶, 主张优先受偿)。
2. 船舶经法院强制出售。
3. 船舶灭失。

船舶优先权消灭, 原来享有船舶优先权的债权就转化为普通债权, 只是丧失了船舶优先权的优先受偿性。

第十节 海上保险

四、海上保险的索赔与理赔

(一) 海上保险的索赔与理赔

所谓推定全损, 是指保险标的发生保险事故后, 认为实际全损已经不可避免, 或者为避免发生实际全损所需支付的费用 (如保险标的是货物则再加上继续将货物运抵目的地的费用) 超过保险价值的, 为推定全损。

(二) 代位求偿权与委付

2. 委付

委付是指保险标的发生推定全损时, 被保险人向保险人发出书面通知, 将有关保险标的物的权利义务转让给保险人, 由保险人按全部损失予以赔偿的做法。

《2011年公务员考试行测考试100套华图真题》

委付如成立，须具备以下条件：

(1) 保险标的发生承保范围内的推定全损；
(2) 被保险人向保险人发出不附带任何条件的委付通知，其中载明将保险标的物的权利义务转移给保险人的意愿；

(3) 保险人接受委付。委付一经保险人接受，不得撤回。

委付成立后，其法律后果是：

(1) 保险人取得保险标的相关权利，并承担相应义务；

(2) 保险人应按全部损失赔偿被保险人。

委付如未成立，其法律后果是：

(1) 如保险标的物未发生推定全损，只是发生了局部损失，或者被保险人在保险标的物发生推定全损时未及时发出委付通知，则保险人有权按局部损失赔偿被保险人，保险标的归被保险人所有；

(2) 如果保险标的物发生了推定全损，保险人不接受被保险人发出的委付通知，则保险人仍有义务按推定全损赔偿被保险人，保险标的仍归被保险人所有。

第十章 国际经济争端处理法

第一节 国际经济争端处理法概说

一、处理国际经济争端的主要方式

国际经济争端是指国际经济法主体之间在国际经济交往中产生的法律争端，国际经济法的主体包括自然人、法人、国家和国际经济组织。

(一) 司法解决方式

1. 国际司法解决方式

国际司法解决方式是指将国际经济争端提交国际法院解决的方式。

国际法院是联合国主要法定组织之一。《国际法院规约》有关国际法院诉讼管辖权的规定是：(1) 国际法院的诉讼当事人限于国家，任何组织、团体或个人均不得成为诉讼当事人；(2) 国际法院管辖的案件主要包括：各当事国提交的一切案件；《联合国宪章》或现行条约及协定中所特定的一切事件；关于条约的解释、国际法的任何问题、任何事实的存在如经确定即属违反国际义务者；因违反国际义务而应予赔偿的性质及其范围等四类争端，以当事国声明接受强制管辖为前提。

2. 国内司法解决方式

国内司法解决方式是指将国际经济争端提交各国法院解决的方式。

(二) 调解解决方式

调解是争端当事人在中立的第三人（即调解人）协助下解决争端的程序。

(三) 仲裁解决方式

仲裁指双方当事人自愿将争端提交第三者审理，由其作出裁决。

仲裁成为解决国际经济争端的最主要方式。

仲裁解决方式包括特设仲裁庭仲裁和常设仲裁机构仲裁两种方式。特设仲裁庭根据争端当事人合意并按照一定程序组成，案件审理完毕即自动解散。常设仲裁机构则依国际条约或国内法律而设立，可分为世界性常设仲裁机构、区域性常设仲裁机构和各国常设仲裁机构三种类型。特设仲裁庭和常设仲裁机构仲裁两种方式紧密联系，并相互影响。例如，《联合国国际贸易法委员会仲裁规则》是根据一些常设仲裁机构（即国际商会、美国仲裁协会、美洲国家商事仲裁委员会）的仲裁规则制定的。

第三节 各国常设仲裁机构及其规则

三、中国国际经济贸易仲裁委员会及其仲裁规则

《2011 年公务员考试行测考试 100 套华图真题》

对外贸易仲裁委员会根据 1954 年国务院通过的《关于在中国国际贸易促进委员会内设立对外贸易仲裁委员会的决定》于 1956 年成立。

1988 年 6 月，国务院批准中国贸促会“对外经济贸易仲裁委员会”改名为“中国国际经济贸易仲裁委员会”。

（三）审理

仲裁庭应开庭审理案件，但经双方当事人申请或者征得双方当事人同意，仲裁庭也认为不必开庭审理的，仲裁庭可以只依据书面文件进行审理并作出裁决。如果双方当事人要求公开审理，则由仲裁庭作出决定。

（四）仲裁裁决

仲裁庭对其作出的仲裁裁决，应当说明裁决所依据的理由，但按照双方当事人和解协议的内容作出的裁决除外。仲裁裁决是终局的，任何一方均不得向法院起诉，也不得向其他机构提出变更。

金路专家王一丁解答行政职业能力题(四)

[来源: 金路公务员]

一题：小明和小强都是张老师的学生，张老师的生日是 M 月 N 日，2 人都有知道张老师和生日是下列 10 组中的一天，张老师把 M 值告诉了小明，把 N 值告诉了小强，张老师问他们知道他的生日是那一天？

3 月 4 日 3 月 5 日 3 月 8 日 6 月 4 日 6 月 7 日

9 月 1 日 9 月 5 日 12 月 1 日 12 月 2 日 12 月 8 日

小明说：如果我不知道的话，小强肯定也不知道

小强说：本来我也不知道，但现在我知道了

小明说：哦，那我也知道了

请根据以上对话推断出张老师的生日是那一天

答：小明说：“如果我不知道的话，小强肯定也不知道”

说明生日所在月份中不存在与其他月份无重复的日期，即不是 6 月或 12 月。

小强说：“本来我也不知道，但是现在我知道了”

根据小明的话，小强这么说，说明日期不是 9 月或 12 中共有的 5 号

小明说：“哦，那我也知道了”

剩下的日子中，若是 3 月 4 号或 8 号，小强能判断，但小明不能。只有是 9 月 1 号小明才能判断。

答案是 9 月 1 日

二题：1, 2, 3, 5, 7, (), 13 a12 b9 c11 d10

答：两两之间的差为：1, 1, 2, 2, 3, 3, 选 10

三题：8, 17, 24, 35, () a47 b50 c53 d69

答：8=3²-1, 17=4²+1, 24=5²-1, 35=6²-1, 7²+1=50

四题：0, 853, 752, 561, 154 a235 b952 c358 d352

答：D, 百位与十位的差的绝对值等于个位

五题：小明家的电话号码是 7 位数。将前四位数组成的数与后三位数组成的数相加得 9534，将前三位组成的数与后四位组成的数相加得 2523。那么小明家的电话号码是？

解析：设电话号码为 ABCDEFG，根据题意得：

《2011 年公务员考试行测考试 100 套华图真题》

ABCD+EFG ...

答:

$$\begin{array}{r} | \text{ ABCD } | \text{ ABC } | \\ | + \text{ EFG } | + \text{ DEFG } | \\ | \text{ ————— } | \text{ ————— } | \\ | = 9534 | = 2523 | \end{array}$$

这就是竖式

六题: 34、36、35、35、()、()、34、37

A、36、33 B、33、36 C、34、37 D、37、34

请问老师这题怎么解

答: 已知数项数大于等于 6 项的, 首先考虑双数列

有两个空缺项的题目, 95% 的可能性是双数列

综上所述, 99% 的几率为双数列

选 A

注: 双数列的规律是奇数项和偶数项呈不同的规律

七题: 批商品按期望获得 50% 的利润来定价, 结果只销售 70%, 为销售其余商品, 决定打折出售, 实际所获得的利润是原期望利润的 82%, 打多少折扣?

A, 6 B, 7 C, 8 D, 9

答: 期望值是 150, 实际销售额是 $100 \times (1 + 50\% \times 82\%) = 141$

打折前销售了: $150 \times 70\% = 105$, 打折后销售了: $141 - 105 = 36$

而这 30% 的实际期望值是 45, $36 \div 45 = 80\%$, 八折

八题: 一批商品按期望获得 50% 的利润来定价, 结果只销售 70%, 为销售其余商品, 决定打折出售, 实际所获得的利润是原期望利润的 82%, 打多少折扣?

A, 6 B, 7 C, 8 D, 9

答: 设原价为 100, 则期望值是 150, 卖了 70%, $150 \times 70\% = 105$, 还要卖 45 才能达到期望值

实际利润: $50\% \times 82\% = 41\%$, 打折后实际售出: $141 - 105 = 36$, $36 \div 45 = 80\%$, 8 折

九题: 无因管理, 是债发生的一种依据, 它是指没有法定的或约定的义务, 为避免他人受到损失而进行管理和服务的行为。根据以上定义, 下列情况中发生无因管理之债的是:

A. 未受委托, 为他人代收货物 B. 未受委托, 代他人放弃继承权

C. 路遇自杀者进行抢救 D. 受人委托, 代人看管家禽

答: 这道题应该都是选 A

十题: 价格需求弹性: 指需求对价格变动的反应程度或敏感程度, 其大小以系数 $E_p = \text{需求变动}(\%) \div \text{价格变动}(\%)$ 的绝对值来表示。根据上述定义, 下面哪一种说法是正确的?

A. 当需求价格弹性系数 $E_p > 1$ 时, 表示价格的变化会引起需求量较大幅度的变化

B. 当 $E_p = 1$ 时, 表明价格变动对需求量变动的影响很小, 因而可以尽可能提价销售

C. E_p 的大小实际上反应了需求对成本变动的敏感程度

D. 根据供求规律, 不可能存在 $E_p < 1$ 的商品

答: 这道题应该都是选 A

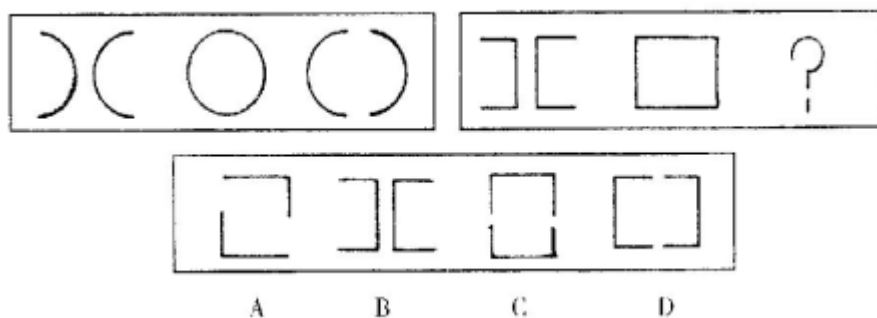
《2011 年公务员考试行测考试 100 套华图真题》

图形推理

一：

图形推理：每道题包含两套图形和可供选择的 4 个图形，这两套图形具有某种相似性，也存在某种差异，要求你从四个选项中选择你认为最适合取代问号的一个，正确的答案应不仅使两套图形表现出最大的相似性，而且使第二套图形也表现出自己的特征。

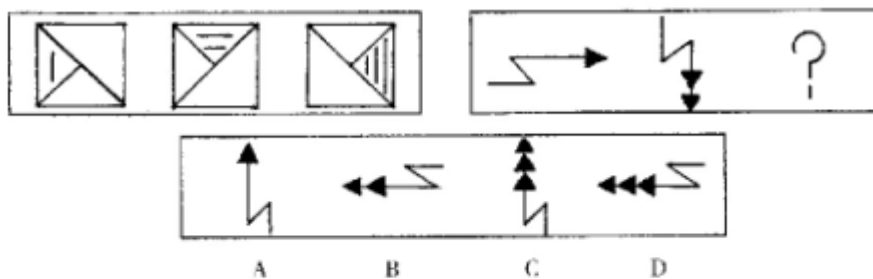
例题：



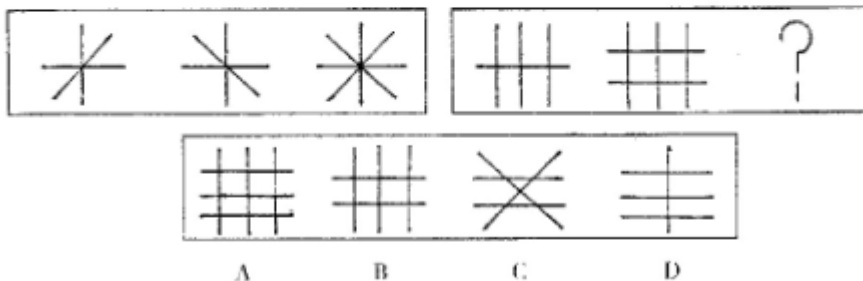
解答：正确答案为 D。因为只有 D 能使两套图形具有相似性，仅仅元素不同，一个是半圆，一个是正方形，但两组图形中元素的排列规律相同。

请开始答题：

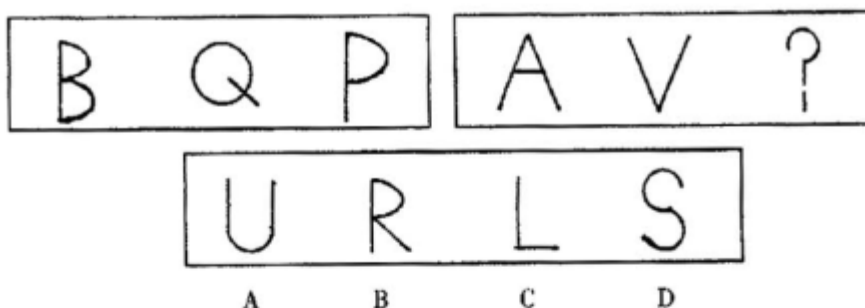
36.



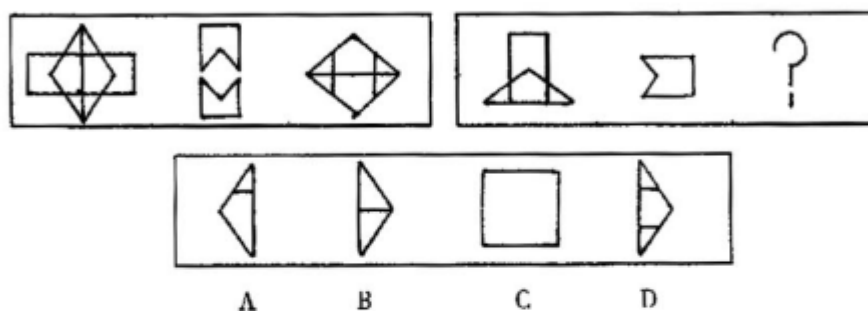
37.



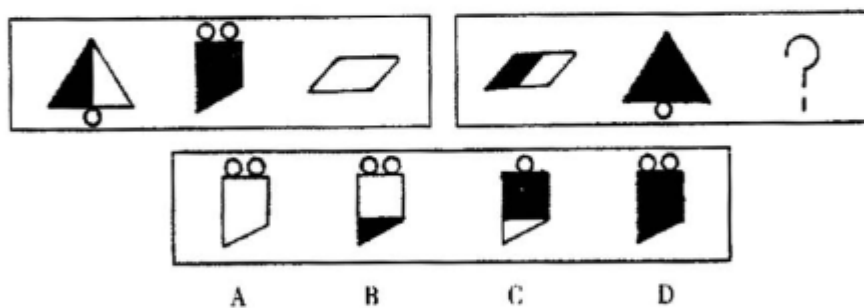
38.



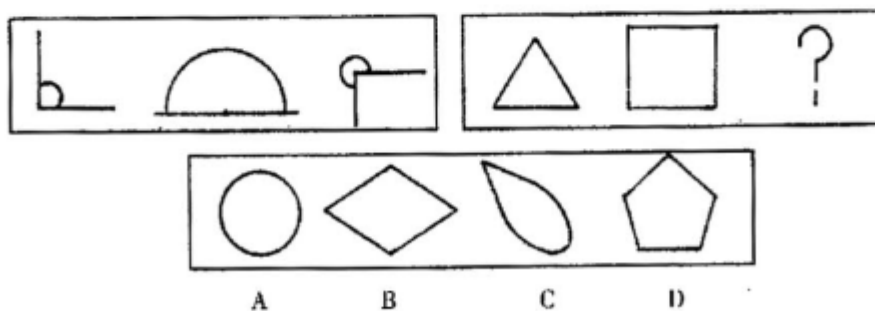
39.



40.

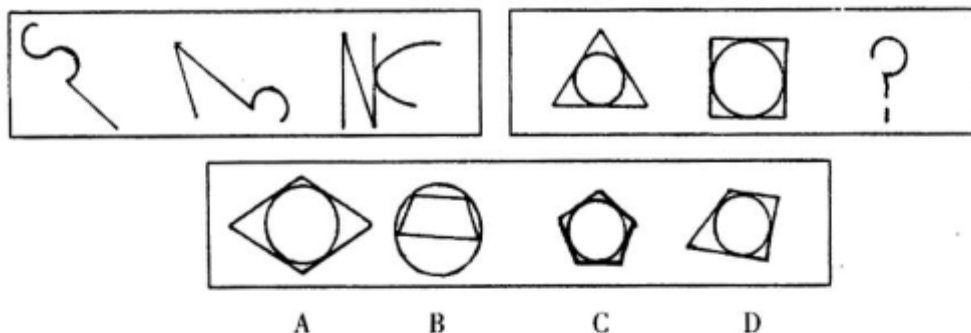


41.

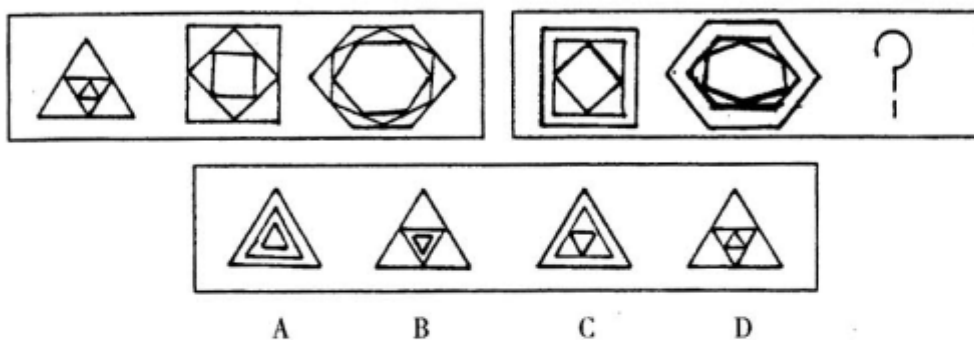


《2011 年公务员考试行测考试 100 套华图真题》

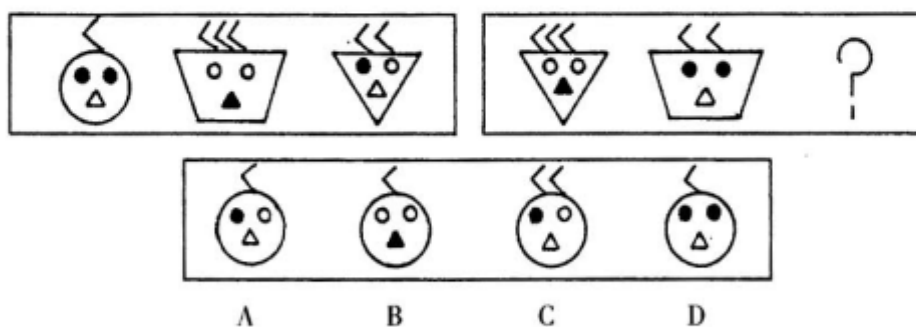
42.



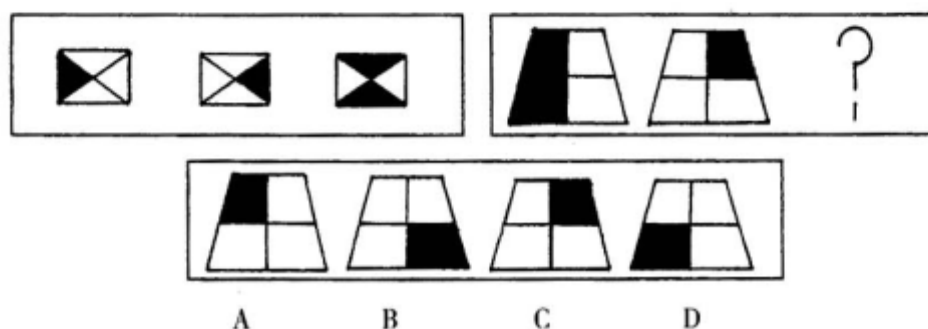
43.



44.



45.



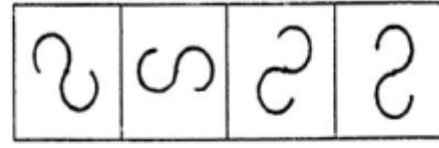
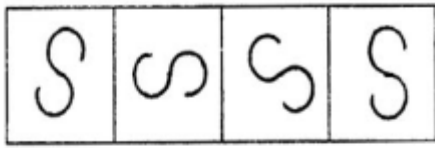
二:

图形推理：包括三种类型的题目，共 10 题。

每道题目的左边 4 个图形呈现一定的规律性。根据这种规律，你需要在右边所给出的备选答案中选出一个最合理的答案。每道题只有一个正确答案。

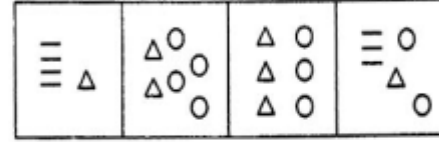
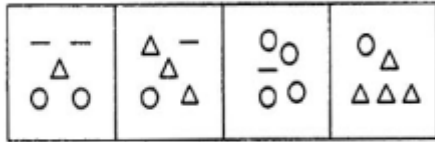
《2011 年公务员考试行测考试 100 套华图真题》

51.



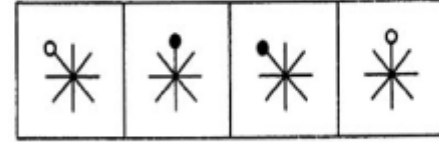
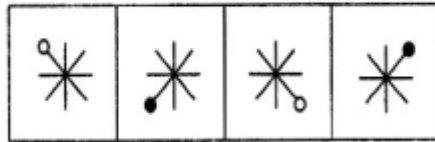
A. B. C. D.

52.



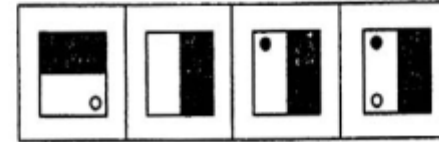
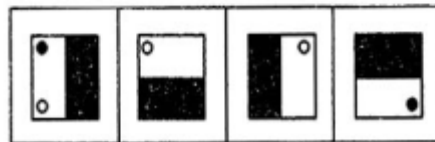
A. B. C. D.

53.



A. B. C. D.

54.



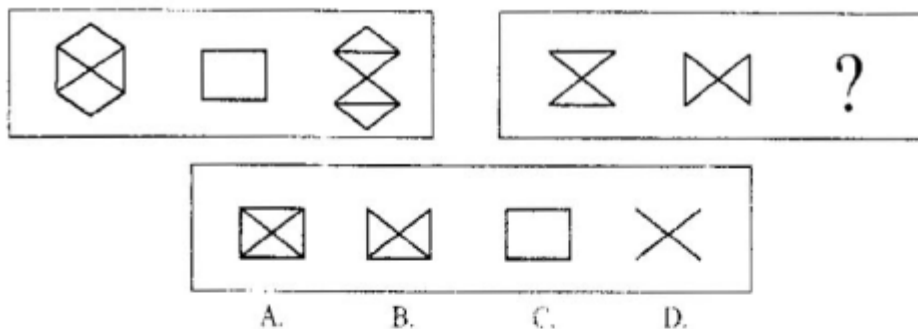
A. B. C. D.

2. 每道题包含两套图形。这两套图形具有某种相似性，也存在某种差异。要求你从四个选项中选择你认为最适合取代问号的一个。正确的答案应不仅使两套图形表现出最大的相似性，而且使第二套图形也表现出自己的特征。

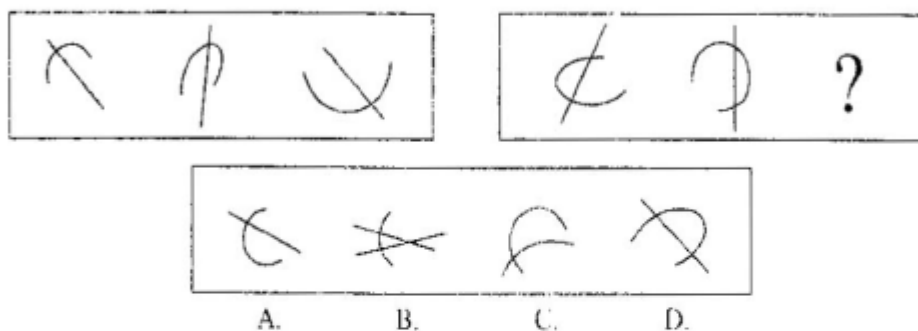
请开始答题：

《2011 年公务员考试行测考试 100 套华图真题》

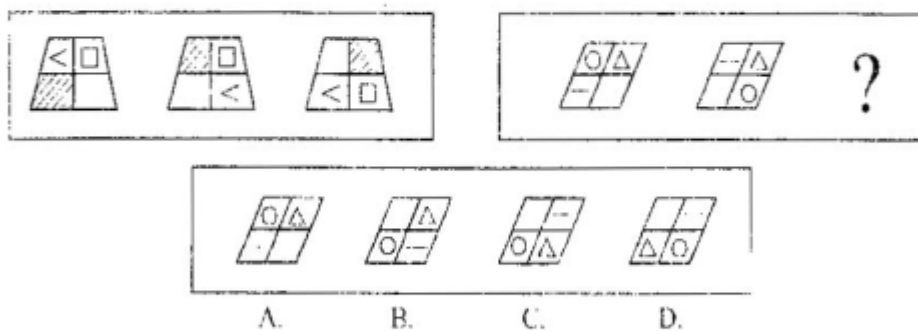
55.



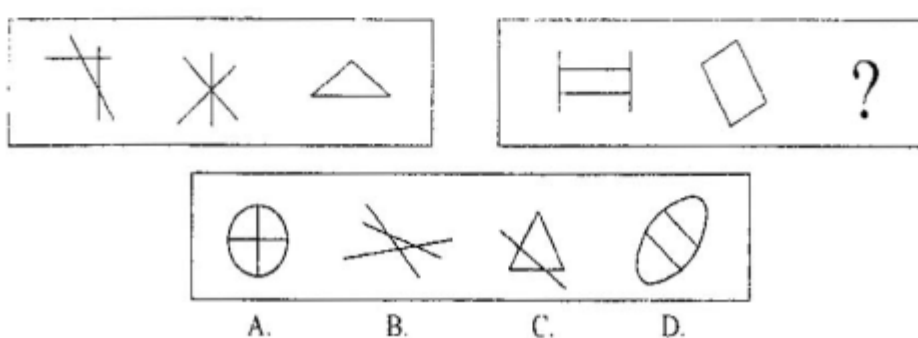
56.



57.



58.

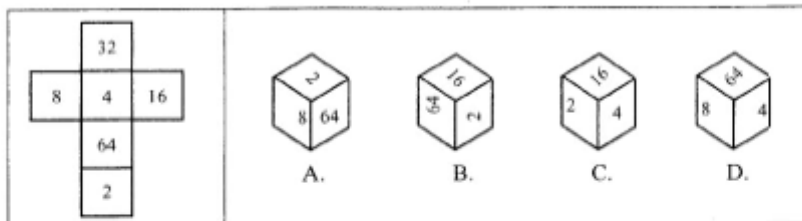


3. 在右面的 4 个图形中，只有一个是左面的纸板折叠而成的。你需要选出正确的一个。

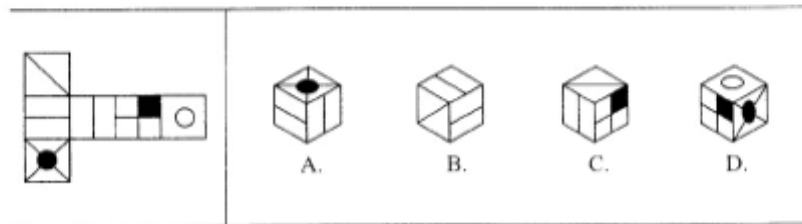
《2011 年公务员考试行测考试 100 套华图真题》

请开始答题:

59.



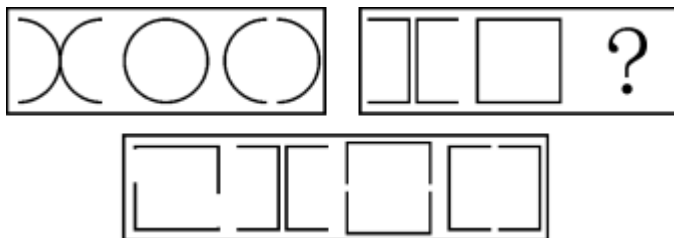
60.



三:

图形推理（共 10 题。每道题包含两套图形和可供选择的 4 个图形。这两套图形具有某种相似性，也存在某种差异。要求你从四个选项中选择你认为最适合取代问号的一个。正确的答案应不仅使两套图形表现出最大的相似性，而且使第二套图形也表现出自己的特征。）

【例题】



A B C D

【答案】 D

【解析】 因为只有 D 能使两套图形具有相似性，仅仅元素不同，一个是半圆，一个是半个正方形，但两组图形中元素的排列规律完全相同。

请开始答题:

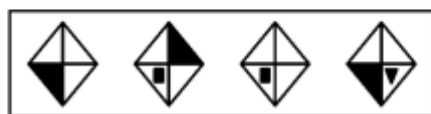
26. ()

《2011 年公务员考试行测考试 100 套华图真题》



A B C D

27. ()



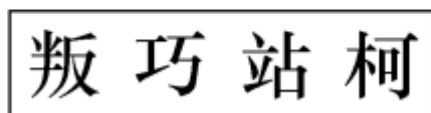
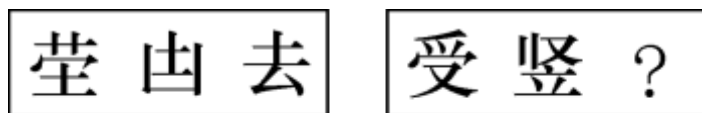
A B C D

28. ()



A B C D

29. ()



A B C D

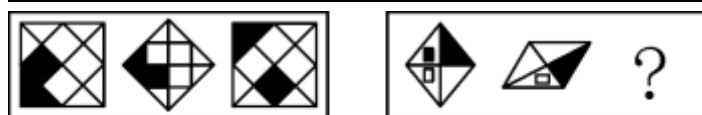
30. ()



A B C D

31. ()

《2011 年公务员考试行测考试 100 套华图真题》



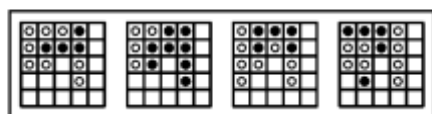
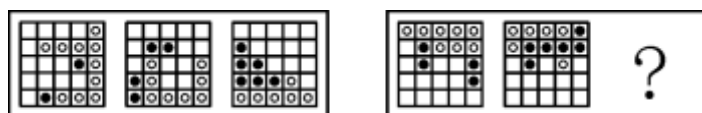
A B C D

32. ()



A B C D

33. ()



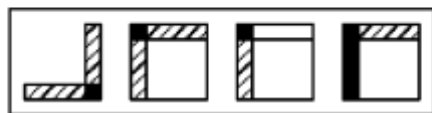
A B C D

34. ()



A B C D

35. ()



A B C D

四:

图形推理: 本部分包括三种类型的题目, 共 10 题。

《2011 年公务员考试行测考试 100 套华图真题》

(一) 每道题目的左边 4 个图形呈现一定的规律性。你需要在右边所给出的备选答案中选出一个最合理的正确答案。每道题只有一个正确答案。

请看例题。

【例题】



A B C D



A B C D

【解答】在例题 1 中，最左边的图形中的直线是向上直立的，其后的图形中的直线逐渐向右倒下，第五个图形中的直线应该恰好倒下。因此，正确的答案是 D。在例题 2 中，墨点在正方形中，顺时针移动。在第五个图形中，墨点应该正好移动到左上角。因此，正确的答案是 B。

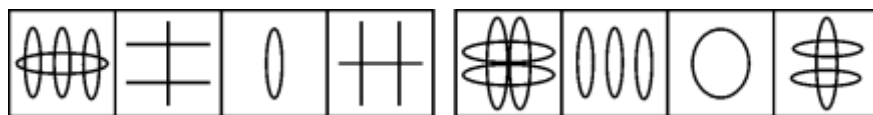
请开始答题：

51.



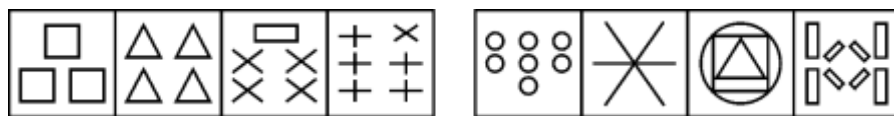
A B C D

52.



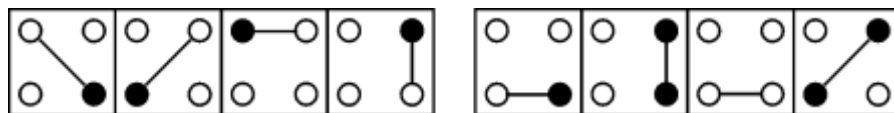
A B C D

53.



A B C D

54.



A B C D

(二) 每道题包含两套图形和可供选择的 4 个图形。这两套图形具有某种相似性，也存在某种差异。要求你从四个选项中选择你认为最适合取代问号的一个。正确的答案应不仅使两套图形表现出最大的相似性，而且使第二套图形也表现出自己的特征。

【例题】

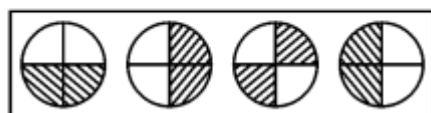
《2011 年公务员考试行测考试 100 套华图真题》



A B C D

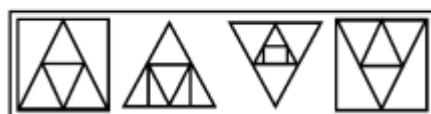
【解答】 正确答案为 B。因为只有 B 能使两套图形具有相似性，仅仅元素不同，一个是半圆，一个是半正方形，但两组图形中元素的排列规律完全相同。请开始答题：

55.



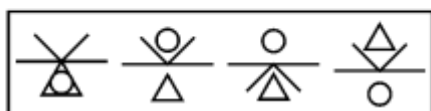
A B C D

56.



A B C D

57.

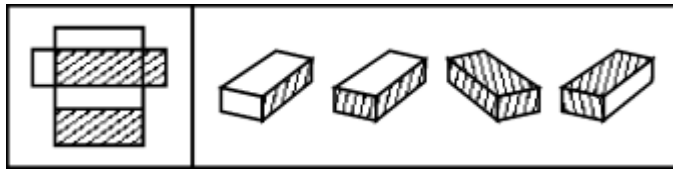


A B C D

《2011 年公务员考试行测考试 100 套华图真题》

(三) 在右面的 4 个图形中, 只有一个是由左边的纸板折叠而成。你需要选出正确的一个。

【例题】

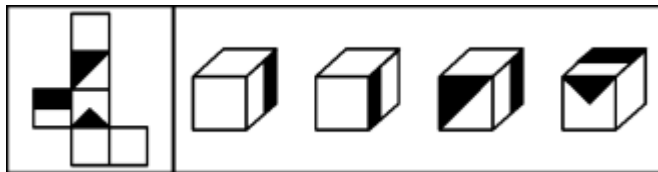


A B

C D

【解答】在例题中, 只有 D 可以由左边的纸板折叠而成。因此, 正确答案是 D。请开始答题:

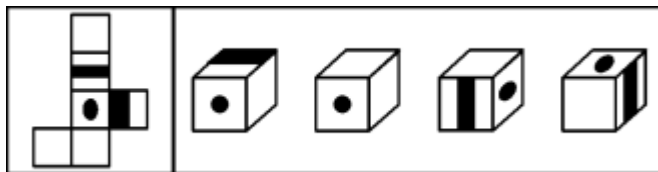
58.



A B

C D

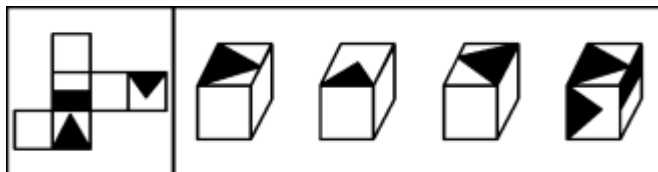
59.



A B

C D

60.



A B

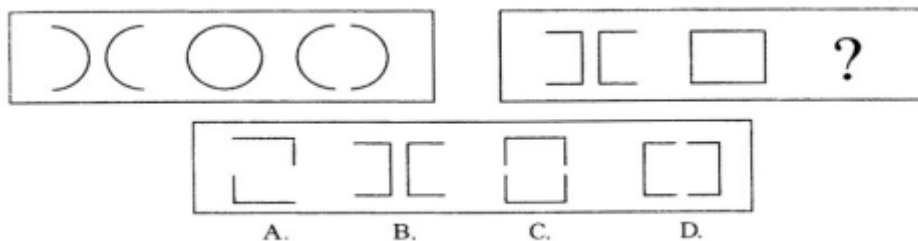
C D

五:

图形推理: 共 5 题, 每道题包含两套图形和可供选择的 4 个图形。这两套图形具有某种相似性, 也存在某种差异。要求你从四个选项中选择你认为最适合取代问号的一个。正确的答案应不仅使两套图形表现出最大的相似性, 而且使第二套图形也表现出自己的特征。

例题:

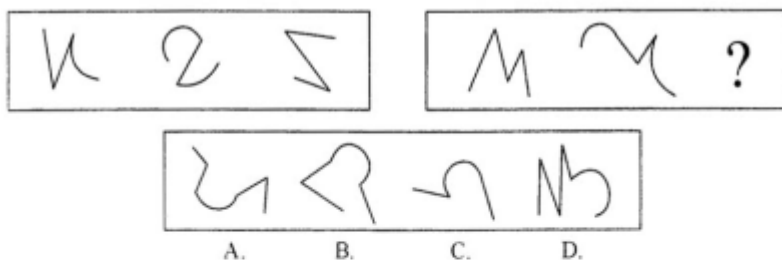
《2011 年公务员考试行测考试 100 套华图真题》



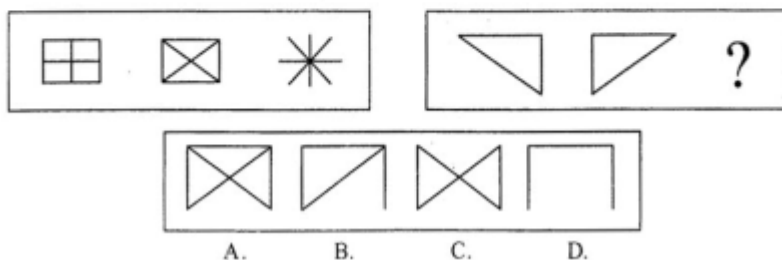
解答：正确答案为 D。因为只有 D 能使两套图形具有相似性，仅仅元素不同，一个是半圆，一个是正方形，但两组图形中元素的排列规律相同。

请开始答题：

66.

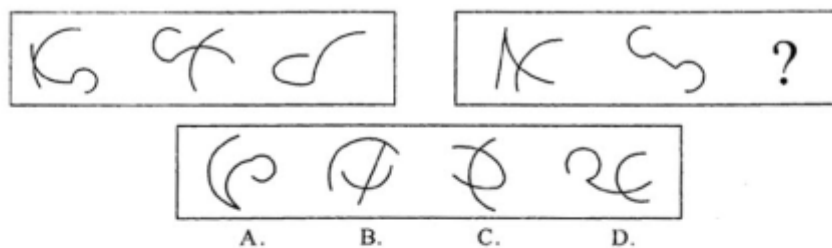


67.

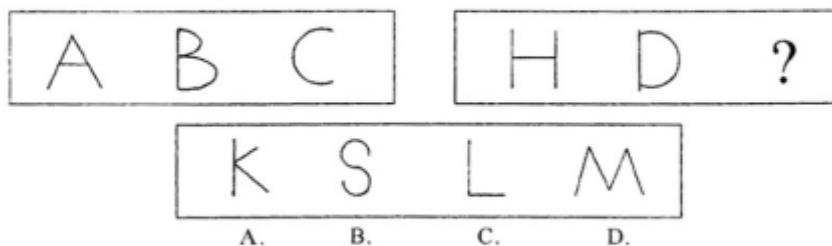


《2011 年公务员考试行测考试 100 套华图真题》

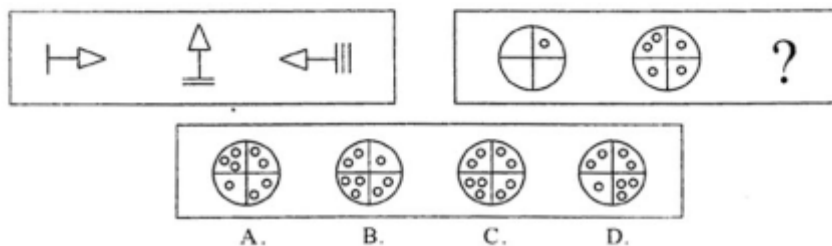
68.



69.



70.



图形推理（判断推理）答案

一：36-45：D、A、C、D、A、D、C、C、A、B

二：51-60：B、A、A、D、C、D、C、C、B、C

三：26-35：B、A、D、A、A、C、A、B、A、B

四：51-60：B、A、A、A、B、A、D、A、B、B

五：66-70：B、C、C、B、C

资料分析：①文字资料②统计表③统计图

针对下列文字、图或表回答问题。你应根据资料提供的信息进行分析、比较、计算、处理。

一、根据下列文字材料回答 1-5 题。

最新统计数字显示，截至 2000 年底，全国党员总数已达 6451 万名，占全国人口

《2011 年公务员考试行测考试 100 套华图真题》

总数的 5.2%；女党员 1119 万名，占党员总数的 17.4%；少数民族党员 401.1 万名，占党员总数的 6.2%。

党员队伍结构不断改善，分布状况更趋合理。目前全国 35 岁以下的党员有 1439.1 万名，占党员总数的 22.3%。党员队伍中具有高中以上学历的 3237.4 万名，占党员总数的 50.2%。其中，大学本、专科学历 1319.3 万名，占 20.5%；研究生学历 41.1 万名，占 0.6%。

2000 年底，党员队伍中有工人、农牧渔民 3166 万名，占党员总数的 49.1%；各类专业技术人员 776.3 万名；机关干部 592.3 万名；事业、企业单位管理人员 618.2 万名。

据介绍，近年来，全国发展党员数量保持均衡，1990 年至 2000 年，全国共发展党员 2175.9 万名，平均每年发展党员 197.8 万名；新党员的构成、分布明显改善，去年全国发展的党员中，35 岁以下青年占 73.95%，生产、工作一线的党员约占 50%；同时女党员在党员队伍中所占比例明显增长，1995 年全国发展女党员数占新党员总数的 20.9%，2000 年达到 26.7%。入党积极分子队伍不断壮大，到 2000 年底，全国共有入党申请人 1395.4 万名，入党积极分子 764.6 万名，分别比 10 年前增加了 315.2 万名和 211.6 万名。

1. 截至 2000 年底，我国男性党员人数为：

- A. 5332 万 B. 1439 万 C. 6451 万 D. 3794 万

2. 2000 年底党员队伍中，具有大学本、专科学历以上的党员约有：

- A. 3237.4 万 B. 2157.2 万 C. 1360.4 万 D. 784.8 万

3. 2000 年底事业企业单位管理人员中的党员人数占全国党员总数的比例约为：

- A. 9.2% B. 9.6% C. 9.3% D. 9.8%

4. 2000 年全国新发展的女党员占新党员总数的比例与 1995 年相比，高出了几个百分点：

- A、5.6 B、7.2 C、6.4 D、5.8

5. 1990 年底全国共有入党申请人和入党积极分子各多少人：

- A. 1080.2 万 627.8 万 B. 897.6 万 627.8 万
C. 1080.2 万 553 万 D. 897.6 万 553 万

二、根据下列文字和图表回答 6—10 题。

“九五”期间(1996—2000年),我国全面完成了现代化建设第二步战略部署:1996—2000年,我国国内生产总值(GDP)分别为67884.6亿元,74462.6亿元,78345.1亿元,81910.9亿元和89404亿元;全社会固定资产投资总额分别为22913.5亿元,24941.1亿元,28406.2亿元,29854.7亿元和32619亿元。附:“九五”期间我国经济增长率和商品零售价格增长率图:

A、21519.4
B、7493.1
C、8757.3
D、14941.1

Figure 1 is a combined bar and line chart showing the 'Economic Growth Rate' (represented by bars) and the 'Consumer Price Index Growth Rate' (represented by a line with square markers) from 1994 to 2000. The Y-axis represents the percentage growth rate, ranging from -5% to 25% in increments of 5. The X-axis lists the years from 1994 to 2000. The Economic Growth Rate starts at 12.6% in 1994 and declines to 8.0% in 2000. The Consumer Price Index Growth Rate starts at 21.7% in 1994 and declines to -1.5% in 2000, crossing below zero in 1998.

Year	Economic Growth Rate (%)	Consumer Price Index Growth Rate (%)
1994	12.6	21.7
1995	10.5	14.8
1996	9.6	6.1
1997	8.8	0.8
1998	7.8	-2.6
1999	7.1	-3
2000	8.0	-1.5

A. 25 %
B. 30 %
C. 35 %
D. 40 %

A. 1998 年
B. 1999 年
C. 1998 年和 1999 年
D. 2000 年

A. 29854.7 亿元 B. 32619 亿元
C. 22913.5 亿元 D. 81910.9 亿元

C、针对“九五”后期出现需求不足的迹象，我国应实施积极的财政政策和

《2011 年公务员考试行测考试 100 套华图真题》

稳健的货币政策。
D. “九五”期间，我国经济增长率出现明显的下降趋势，商品零售价格增长率的持续回落表明我国经济已进入到相当严重的通货紧缩期。

三、根据下列图表回答 11—14 题。

【例题】根据下表，回答①～②题：

博物馆四个入口处自动计数器的读数

自动计数器在不同时间的读数（人数）					
入口(时间)	7：00	8：00	9：00	10：00	11：00
1	7111	7905	8342	8451	8485
2	8432	9013	9152	9237	9306
3	5555	5921	5989	6143	6233
4	954	1063	1121	1242	1299

① 从早上 7：00 到 11：00 通过入口 1 进入博物馆的参观人数是（ ）。
A. 580 B. 94 C. 1 374 D. 1 594

② 在早上 7：00 到 8：00 之间，通过人数最多的入口是（ ）。
A. 1 B. 2 C. 3 D. 4

【解答】题①应为 8 485-7 111=1 374，答案是 C；

题②比较两数之间的差，差值最大的是入口 1 的两个数，故答案是 A。

20 世纪 90 年代中国出口商品结构变动情况

	出口额(亿美元)		比重(%)		1989 年—1998 年 平均增长率(%)
	1989 年	1998 年	1989 年	1998 年	
全部产品	525.4	1837.6	100.0	100.0	14.9
初级产品	150.7	206.0	28.7	11.2	3.5
食品及活动物	61.4	106.2	11.2	5.8	6.3
动植物油脂及蜡	0.9	3.1	0.2	0.2	14.7
饮料及烟类	3.1	9.8	0.6	0.5	13.6
非食用原料(燃料除外)	42.1	35.2	8.0	1.9	-2.0
矿物燃料和润滑油及有关原料	43.2	51.8	8.0	2.8	19.9
工业制成品	374.6	1631.6	71.3	88.8	17.8
机械及运输设备	38.7	502.3	7.4	27.3	33.0
化学成品及有关产品	32.0	103.2	6.1	5.6	13.9

《2011 年公务员考试行测考试 100 套华图真题》

钢铁	7.1	31.8	1.4	1.7	18.1
有色金属	4.5	25.8	0.9	1.4	21.4
纺纱和织物制品及有关产品	69.9	128.2	13.3	7.0	7.0
服装及衣着附件	61.3	300.6	11.7	16.4	19.3
旅游用品和手提包及类似品	4.0	32.6	0.8	1.8	26.3

资料来源：中国统计年鉴相关年份

11. 1998 年中国初级产品的出口额比 1989 年增加了多少亿美元：
 A. 1312.2 B. 55.3
 C. 45.3 D. 1278.2

12. 1998 年与 1989 年相比，出口比重下降的工业制成品是：
 A. 钢铁 B. 服装及衣着附件
 C. 饮料及烟类 D. 化学成品及有关产品

13. 在七类工业制成品中，1989—1998 年的平均增长率低于 20%的有几种：
 A. 5 B. 2 C. 2 D. 4

99. 全部十二类出口商品中，在 1998 年出口额最高的是：

14. 以下说法不正确的是：
 A. 在 1989 年和 1998 年，动植物油脂及蜡的出口额在各类出口商品中都是最低的
 B. 自 1989 年—1998 年，非食用原料的出口呈下降状态
 C. 1989—1998 年间，机械及运输设备的平均增长速度最快
 C. 在 1989 年，初级产品的出口额比工业制成品高

四、根据下列图表回答 15—19 题。

2001 年苏南五市与广东五市经济发展比较

城市	土地面积(平方公里)	国内生产总值(亿元)	人均国内生产总值(万元)	第一产业占 GDP 比重(%)	第三产业占 GDP 比重(%)	出口依存度(%)	城镇居民人均可支配收入(元)	农民人均纯收入(元)
苏州	8488	1760	3.04	5.2	38.0	57.9	1.515	5796
无锡	4650	1360	3.12	4.0	40.8	21.9	9454	5524

《2011 年公务员考试行测考试 100 套华图真题》

常州	4375	673	1.97	7.0	36.4	26.6	9406	4896
南京	6598	1150	2.06	5.1	47.3	41.4	8848	4311
镇江	3843	503	1.89	6.7	38.1	12.3	7698	4191
广州	3719	2674	3.80	3.6	54.0	36.0	14416	6446
东莞	2465	578	3.76	5.4	39.5	271.8	16938	7366
中山	1800	359	2.68	6.8	36.3	100.4	12803	6738
顺德	807	389	3.61	5.3	39.5	65.7	15113	5282
深圳	1949	1908	4.23	0.9	46.5	162.6	23544	9869

15. 10 城市中，土地面积最大与最小的城市分别是：
 A. 南京 镇江 B. 苏州 镇江 C. 苏州 顺德
 D. 广州 顺德
16. 2001 年深圳市城镇居民人均可支配收入比南京市高：
 A. 5558 元 B. 758 元 C. 1 5396 元
 D. 14696 元
17. 下面的描述不正确的是：
 A. 2001 年，10 城市中农民人均纯收入低于 5000 元的城市有 3 个
 B. 总的来看，广东五市经济发展的出口依存度高于苏南五市
 C. 2001 年，广东五市的国内生产总值大于苏南五市的国内生产总值
 D. 广州市的人均国内生产总值在 10 城市中处于首位
18. 根据上表，我们可以推算出 2001 年广州市第二产业的产值约为：
 A. 1134 亿元 B. 1144 亿元 C. 997.6 亿元
 D. 1096.8 亿元
19. 如果 2001 年南京市的城镇居民人均可支配收入比 2000 年增长了 7.5%，那么 2000 年南京市的城镇居民人均可支配收入约为：
 A. 8276 元 B. 8231 元 C. 8195 元
 D. 8849 元

五、根据下列文字资料，完成 20—24 题。

截至 2002 年底，全省建设银行本外币一般性存款余额为 1411.52 亿元，比年初新增 252.86 亿元，增幅为 21.82%，其中人民币一般性存款余额 1363.2 亿元(人

《2011 年公务员考试行测考试 100 套华图真题》

民币企业存款余额 776.16 亿元，新增 150.95 亿元；个人储蓄存款余额 587.04 亿元，新增 104.70 亿元），新增 255.65 亿元，增幅为 23.08%。

截至 2002 年底，全行本外币贷款余额为 1031.29 亿元，比年初新增 250.24 亿元，其中人民币贷款余额 1020.47 亿元，新增 245.59 亿元。

2002 年全行实现中间业务收入 2.12 亿元，比上年增长 53.10%。全年完成国际结算

35.34 亿美元，比上年增加 7.02 亿美元。全年累计结售汇 23.51 亿美元，比上年增加 4.60 亿美元。实现个人外汇买卖交易 13 亿美元。累计发行龙卡 751.2 万张，实现龙卡消费交易额 21.3 亿元，比上年增加 6.8 亿元。办理速汇通业务 203.33 万笔，累计汇入汇出金额 412.19 亿元，实现手续费收入 2144.5 万元，比上年增长 79.6%。资金清算系统累计汇划业务量为 385 万笔，汇划金额 4972 亿元。审价咨询业务继续保持同业领先水平，其中造价咨询实现收入 8560 万元，比上年增长 10.51%。

截至 2002 年底，全行“一逾两呆”（即逾期、呆滞、呆账贷款）口径本外币不良贷款余额为 42.59 亿元，比年初下降 5.67 亿元；不良率为 4.13%，比年初下降 2.05 个百分点。全年全行实现本外币账面利润 17.14 亿元。

20. 2002 年初，全省建设银行人民币一般性存款余额为：

- A. 1411.52 亿
元
B. 1363.2 亿元
C. 1158.66 亿
元
D. 1107.55 亿元

21. 已知 2001 年底全省建设银行本外币贷款余额比 2001 年初增加了 132.92 亿元，则 2001 年初全行本外币贷款余额为：

- A. 648.13 亿
元
B. 732.18 亿元
C. 675.41 亿
元
D. 710.42 亿元

22. 2001 年全省建设银行实现中间业务收入约多少亿元？

- A. 0.57 亿元
B. 1.38 亿元
C. 2.05 亿元
D. 2.46 亿元

23. 下图的阴影部分最能体现 2002 年底全行人民币个人储蓄存款余额占人民币一般性存款余额的比例的是：

《2011 年公务员考试行测考试 100 套华图真题》



24. 根据资料所提供的信息，下列说法正确的是：

I：2002 年全行累计结售汇 23.51 亿美元

II：2002 年全省实行造价咨询收入 8560 万元

III：2002 年初，全行“一逾两呆”口径本外币不良贷款余额为 36.92 亿元

A. I、II B. I、III

C. II、III D. I、II、III 都正确

六、根据下列图表、文字资料，完成 25—29 题。

2001 年，在世界旅游业出现负增长的不利形势下，中国入境旅游市场继续全面增长：入境旅游人数达 8901.29 万人次，比上年增长 6.7%，其中：外国人 1122.63 万人次，比上年增长 10.5% 香港同胞 5856.85 万人次，与上年持平；澳门同胞 1577.61 万人次，比上年增长 36.7%；台湾同胞 344.20 万人次，比上年增长 10.7%。国际旅游（外汇）收入达 177.92 亿美元，比上年增长 9.7%。首次跃居世界第 5 倍。

1995 年—2001 年中国旅游产业概况表

年份	入境旅游人数(单位: 万人次)			国际旅游(外汇)收入		
	总计	外国人	港澳台同胞	旅游(外汇)收入(亿美元)	旅游(外汇)收入世界排名	发展指数(1978 年为 100)
1995	4638.65	588.67	4049.98	87.33	10	3321.7
1996	5112.75	674.43	4438.32	102	9	3880
1997	5758.79	742.8	5015.99	120.74	8	4592.7
1998	6347.84	710.77	5637.07	126.02	7	4793.4
1999	7279.56	843.23	6436.33	140.99	7	5362.7
2000	8344.39	1016.04	7326.80	162.24	7	6171.2
2001	8901.29	1122.63	×	177.92	5	6767.6

25. 上表中 2001 年港澳台同胞的入境旅游人数是用“X”表示的，“X”应为：

A.

7778.66

B. 7814.85

C. 7863.21

D. 8014.9

2

26. 1998 年我国的国际旅游(外汇)收入比 1997 年增长了：

A. 10.3%

B. 9.6%

C. 6.7

%

D. 4.4%

27. 2001 年我国的入境旅游人数比 1995 年多多少万人次？

A. 3945.12

B. 4076.37

C. 4262.64

D. 5138.06

《2011 年公务员考试行测考试 100 套华图真题》

28. 下面的描述中不正确的是:

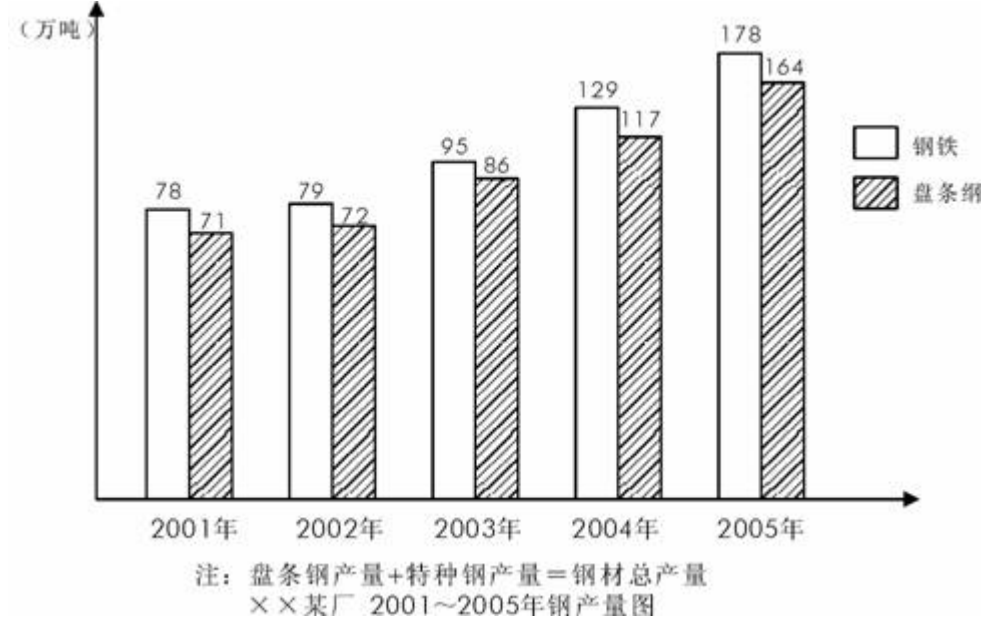
- A. 1995—2001 年我国的入境旅游人数呈逐年递增状态
- B. 1998 年我国的入境旅游外国人比 1997 年减少了 32.03 万人次
- C. 1996—2001 年, 港澳台同胞入境旅游人数的增幅都很大, 每年都比上一年增加 350 万人次以上
- D. 1995—2001 年, 我国的国际旅游(外汇)收入总值超过了 1000 亿美元

29. 1978 年我国的国际旅游(外汇)收入约为多少亿美元?

- A. 0.38 亿美元
- B. 2.63 亿美元
- C. 0.76 亿美元
- D. 3.29 亿美元

七、根据下列统计图完成 30—34 题。

自 2001 年至 2005 年, 出口特种钢材的增加带来了外汇收入的增加。自 2001 年至 2005 年, 各年度为 7900 万美元、8000 万美元、9000 万美元、1.2 亿美元、1.3 亿美元。



30. 2002 年该钢厂出口的特种钢材量占总产量的多少? ()

- A. 9%
- B. 10%
- C. 7%
- D. 6%

31. 自 2001 年至 2005 年, 该钢厂总共出口了多少吨特种钢材? ()

- A. 48 万
- B. 53 万
- C. 49 万
- D. 51 万

32. 该钢厂哪一年出口的特种钢材增加的最多? ()

- A. 2002 年
- B. 2003 年
- C. 2004 年
- D. 2005 年

《2011 年公务员考试行测考试 100 套华图真题》

33. 该钢厂出口的特种钢材增加的最少的一年的钢材总量为多少? ()
A. 78 B. 79 C. 95 D. 178
34. 2005 年比 2002 年相比, 该钢厂出口的特种钢材数量增加了多少? ()
A. 12.8% B. 100% C. 56% D. 228%

八、根据下列统计表回答 35-39 问题

亚洲各国和地区的人口 单位: 万人

国家和地区	1990	1995
(1) 日本	12 361	12 557
(2) 新加坡	271	299
(3) 中国香港	570	619
(4) 中国台湾	2 023	2 122
(5) 韩国	4 287	4 485
(6) 泰国	5 630	5 946
(7) 印度尼西亚	17 948	19 375
(8) 中国大陆	114 333	121 121
(9) 巴基斯坦	11 240	13 025
(10) 孟加拉国	10 812	12 043

35. 1990 年, 人口最少的国家比人口最多的国家少多少? ()
A. 99.8% B. 98.7% C. 40.6% D. 76.8%
36. 1990~1995 年, 人口增长率最大的国家是 ()。
A. 新加坡 B. 孟加拉国 C. 巴基斯坦 D. 印度尼西亚
37. 1990~1995 年, 人口增长量最多的国家比人口增长量最少的国家多多少? ()
A. 6760 万 B. 4980 万 C. 5780 万 D. 7680 万
38. 1990~1995 年, 中国大陆平均每年增加多少万人口? ()
A. 11313000 B. 1131.3 C. 13576000 D. 1357.6
39. 下列说法错误的是 ()。
A. 孟加拉国的人口增长率约为 11% B. 泰国平均每年增加 63.2 万人
C. 韩国的人口增长率最低 D. 新加坡的人口最少

《2011 年公务员考试行测考试 100 套华图真题》

九、根据下列统计表回答 40-44 问题

H、L 地区劳动人口分布表（前面为 H 地区数据，后面为 L 地区）

	第一产业人口所 占比例（%）	第二产业人口所 占比例（%）	第三产业人口所 占比例（%）	劳动人口（万 人）
2004 年	(50.4, 30.5)	(14.4, 34)	(35.2, 35.5)	(190, 106)
2005 年	(50, 17.5)	(16.3, 40.8)	(33.7, 41.7)	(220, 152)

40. 2005 年，地区 L 的劳动人口为地区 H 的百分之几？（ ）
A. 69 % B. 80 % C. 60 %
D. 75 %
41. 2004 年地区 H 的劳动人口比地区 L 多多少倍？（ ）
A. 0.79 B. 0.5
C. 1.79 D. 2
42. 2004 年到 2005 年，地区 L 劳动人口增幅为（ ）。
A. 150 % B. 60 % C. 140 %
D. 43 %
43. 2005 年地区 H 与地区 L 相比较，现代化较高的是哪个地区？（ ）
A. 地区 H B. 地区 L C. 总体相同
D. 无可比性
44. 地区 L，2005 年农业人口与第二产业人口的比例是多少？（ ）
A. 1 : 2.3 B. 1 : 3.3 C. 1 : 4.3
D. 1 : 4.3

十、根据下列统计表回答 45-49 问题

2005 年，国民经济保持较快增长，某地区实现国内生产总值 3478 亿元，同比增长 11.84 %；共批准外商投资 43200 个，其中外商直接投资占 83.4 %，同比增长 24 %；利用外资规模基本稳定，实现利用外资 460 亿元，占全国的 11.4 %；进出口贸易总额达 886 亿元，占全国的 18.7 %。

某地区的商业、服务网点共 1740 个，比去年增加了 240 个；就业人员 0.7 万人，同比增加了 1.6 倍。城乡人民的生活水平继续提高，在消费品零售额中，日用品类占 26.7 %，同比增加 14 个百分点；服装类占 19.3 %，同比增加 4 个百分点；文化娱乐类占 34 %，同比增加 12 个百分点；其他类占 20 %。

45. 2004 年，某地区共批准多少个外商直接投资？（ ）
A. 29055 B. 30016 C. 29016
D. 30055

《2011 年公务员考试行测考试 100 套华图真题》

17645

D. 25430

46. 2004 年, 某地区的就业人员是多少? ()

A. 0.479 万

B. 0.157 万

C.

0.269 万

D. 0.43 万

47. 假如该地区共吸引外商投资 967 亿元, 则外资的实际利用率是多少? ()

A. 40 %

B. 48 %

C.

56 %

D. 61 %

48. 2005 年, 某地区实现的国内生产总值比去年多多少? ()

A. 279.4 亿元

B. 411.8 亿元

C. 478.6

亿元

D. 368.2 亿元

49. 下列说法中, 错误的是 ()。

A. 2004 年, 在消费品零售额中, 其他类占 50 %

B. 2005 年, 我国进出口贸易总额为 4738 亿元

C. 2005 年, 全国利用外资 4035 亿元

D. 2004 年, 在所占消费品零售额的比重中, 日用品所占比重高于服装类所占比重

十一、根据下列统计表回答 50-54 问题

小明的父亲上周六买进某公司股票 1000 股, 每股 27 元, 下表为本周内每日该股票的涨跌情况 (单位: 元)

星期	一	二	三	四	五	六	每股
涨跌	+4	+4.5	-1	-2.5	-6	+2	

50. 星期三收盘时, 每股是多少元? ()

A. 34.5

B. 31.5

C. 26

D. 21

51. 本周内最高价与最低价的差是多少元? ()

A. 10.5

B. 9.5

C. 8.5

D. 4.5

52. 小明的父亲哪天将股票卖出, 获利最多? ()

A. 星期一

B. 星期二

C. 星期三

D. 星期四

53. 如果小明的父亲星期一将股票卖出, 又于星期五买入, 星期六再卖出, 他可以获利多少元? ()

A. 12000

B. 8000

C. 6000

D. 4000

54. 已知小明父亲买进股票时付了 1.5‰ 的手续费, 卖出时需付成交额 1.5‰ 的手续费和 1‰ 的交易税, 如果他在星期六将全部股票卖出, 他的收益情况如何? ()

A. 收益 860.5 元

B. 损失 879.5 元


C. 损失 883.5 元

D. 收益 889.5

《2011 年公务员考试行测考试 100 套华图真题》

元

十二、根据下列统计表回答 55-59 问题



1990~2003 年我国铜版纸市场总体走势

55. 我国铜版纸自给量最高的是 () 年。
A. 2003 B. 2001 C. 1990 D. 1995
56. 1990 年我国铜版纸的消费量是 2003 年的 ()。
A. 10 % B. 17 % C. 25 % D. 26.7 %
57. 我国铜版纸进口最多的一年进口量是 ()。
A. 50 万吨 B. 90 万吨 C. 100 万吨 D. 108 万吨
58. 2003 年我国铜版纸出口量比进口量少 ()。
A. 51 % B. 40 % C. 30 % D. 22 %
59. 下列判断正确的是 ()。
A. 我国铜版纸消费量有逐渐增大的趋势
B. 我国铜版纸国内产量逐渐增大
C. 我国铜版纸出口量有逐渐减小的趋势
D. 我国铜版纸进口量有逐渐增大的趋势

十三、根据下列统计表回答 60-69 问题

根据中国汽车工业协会统计,截止到 2004 年 6 月底,我国汽车累计产量为 267.71 万辆,同比增长 27.10%,累计销售汽车 255.36 万辆,同比增长 24.15%,与上年同期相比,产销增幅同比分别降低了 7.03 个百分点和 7.84 个百分点。

据中国汽车工业协会统计,2004 年 1~7 月,我国汽车累计产量突破 300 万辆,达到 303.05 万辆,同比增长 23.5%。累计销售 289 万辆,同比增长 20.6%,产销率为 95.6%。

其中,轿车累计产销 144.89 万辆和 133.55 万辆,同比分别增长 30.2%和 27.1%;

《2011 年公务员考试行测考试 100 套华图真题》

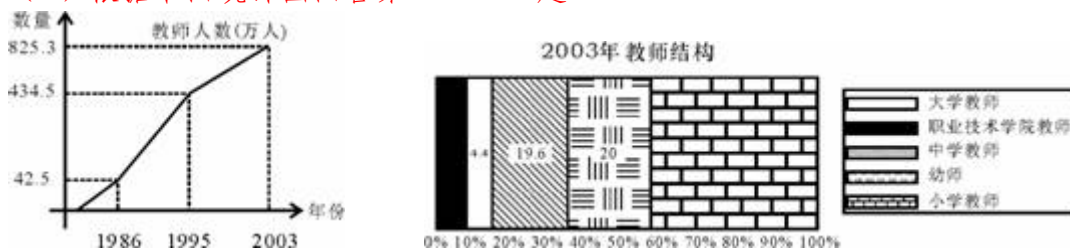
客车累计产销 73.37 万辆和 70.84 万辆，同比分别增长 20.9% 和 10.1%；载货车累计产销 84.78 万辆和 85.40 万辆，同比分别增长 15.7% 和 20.4%。

与上年同期相比，整体上汽车产销仍然保持了 20% 以上的较快增长速度。前 7 个月汽车产量已接近 2000 年全年产量，其中轿车产量更是比 2000 年全年轿车产量多出近 40 万辆。

60. 2004 年 7 月我国汽车的产量是多少万辆？()
 A. 35.34 B. 33.64 C. 27.10 D. 24.15
61. 2003 年 1~7 月，我国轿车的产量是 () 万辆。
 A. 110.65 B. 111.28 C. 101.13 D. 207.59
62. 2000 年全年轿车产量是 () 万辆。
 A. 33.37 B. 30.84 C. 104.89 D. 93.55
63. 2003 年 1~7 月，我国汽车的产销率是 ()。
 A. 97.66% B. 98.97% C. 99.1% D. 97.97%
64. 客车产量占汽车总产量的百分比用图形表示，是下列 ()。



(4) 根据下面统计图回答第 131~135 题:



65. 与 1986 年相比，1995 年我国教师人数增加了 ()。
 A. 6 倍 B. 7 倍 C. 8 倍 D. 9 倍
66. 2003 年教师中所占比重最大的是 ()。
 A. 大学教师 B. 中学教师 C. 幼师 D. 小学教师
67. 2003 年，我国中学教师有 ()。
 A. 16175.88 人 B. 161758800 人 C. 1617588 人 D. 16175880 人
68. 2003 年我国幼师比大学教师多 () 万人。

《2011 年公务员考试行测考试 100 套华图真题》

A. 12875 B. 128.75 C. 125.43 D. 123.86

69. 下列说法正确的是（ ）。
- A. 1986 年我国教师数量比 2003 年少 95%
 - B. 我国教师中人数最少的是职业技术学院教师
 - C. 我国小学教师占教师比例的 50%
 - D. 我国小学教师有 217.2 万人

十四、根据下列统计表回答 70-74 问题

2001 年部分沿海省市国民经济主要指标

(一)

2001 年部分沿海省市国民经济主要指标

省市名	国内生产总值 (亿元)	人均国内生产总值 (元)	出口总值 (亿美元)	进口总值 (亿美元)	全社会固定资产投资总额 (亿元)	社会消费品零售总额 (亿元)	城镇居民人均可支配收入 (元)	农村居民人均纯收入 (元)
上海	4950.8	37300	276.3	332.7	1994.7	1861.3	12883	5850
天津	1827	19986	95	86.9	705	832.7	8959	4825
辽宁	5033.1	12041	111.1	88	1421	2034.9	5797	2558
山东	9438.3	10465	181.29	108.3	2778.44	2834.92	7101.08	2804.51
江苏	9511.91	12922	288.8	224.8	3303.0	2868.99	7375	3785
浙江	6748.15	14655	229.77	98.22	2776.69	2555.46	10465	4582
福建	4253.68	12362	139.22	87.04	1134.48	1499.46	8313	3381
广东	10557	13730	954.2	810.7	3547	4515.3	10415	3770

70. 2001 年浙江省的国内生产总值比上海市多多少亿元?
- A. 1797.35 B. 1897.35
 - C. 1798.35 D. 1898.35
71. 进出口呈现顺差的省市有:
- A. 1 B. 2 C. 6 D. 7
72. 全社会固定资产投资总额最多的两个省市的投资总额之和为:
- A. 6850 亿元 B. 6081.44 亿元
 - C. 6079.69 亿元 D. 5555.13 亿元
73. 城镇居民人均可支配收入与农村居民人均纯收入差距最大的省市是:
- A. 广东省 B. 浙江省 C. 山东省 D. 上海市
74. 以下说法中, 不正确的是:
- A. 广东省的出口总值居第一位
 - B. 上海市的人均国内生产总值超过其他任何两个省市的人均国内生产总值之和

《2011 年公务员考试行测考试 100 套华图真题》

- C. 除了人均国内生产总值, 天津市的其他经济指标都是最低的
D. 浙江省的社会消费品零售总额居第四位

十五、根据下列统计表回答 75-84 问题

1999 年, 杭州市全市 GDP 达 1225 亿元, 同比增长 10.2%, 已连续第 9 年保持两位数增长; 全市人均 GDP 为 2414 美元, 比上年增长 9.5%, 其中市区人均 GDP 达到 4171 美元, 继续

在全国各大城市中名列前茅。市区居民恩格尔系数为 42.2%, 比上年下降 2.5 个百分点。

附: 1999 年杭州市主要经济数据表:

类 别	金 额	比上年增幅
国内生产总值 (GDP)	1225 亿元	10.2%
外贸出口总额	50.79 亿美元	15%
财政总收入	102.66 亿元	7.3%
农村人均纯收入	4209 元	5.1%

75.1 998 年杭州市人均 GDP 约为多少美元?

- A. 2205 B. 2250 C. 2287 D. 2310

76. 按人民币: 美元 8.27: 1 的汇率计算, 可知 1999 年杭州市人口总数约为:

- A. 575 万 B. 599 万 C. 613 万 D. 627 万

77. 按上述汇率计算, 1999 年杭州市区人均 GDP 达到多少元(人民币)?

- A. 19964 B. 20877 C. 31055 D. 34494

78. 1999 年杭州市农村人均纯收入比 1998 年增加了多少?

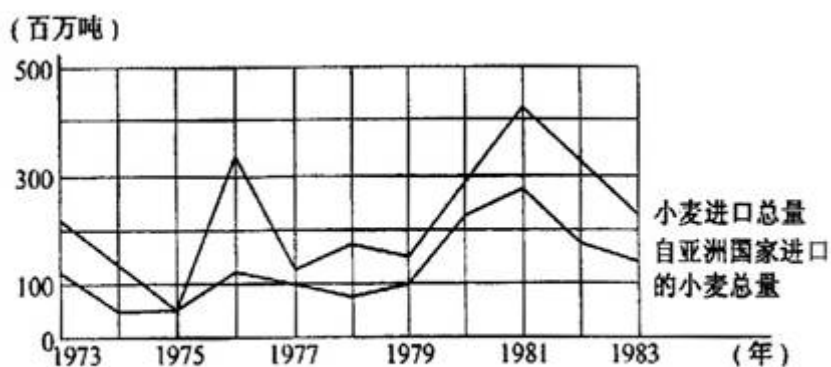
- A. 205 元 B. 215 元 C. 225 元 D. 235 元

79. 下列叙述中, 错误的是:

- A. 1998 年杭州市财政总收入不到 96 亿元
B. 1998 年杭州市外贸进出口总额不到 45 亿美元
C. 1999 年杭州市区人均 GDP 1 比全市人均 GDP 高出约 73 个百分点
D. 1999 年杭州市区人均 GDP 的增长速度大于全市 GDP 的增长速度

(三)

《2011 年公务员考试行测考试 100 套华图真题》



图：某国 1973—1983 年小麦进口量

80. 从 1973 年到 1977 年中，该国大约共从亚洲国家进口多少吨小麦？
A. 450 万 B. 400 万 C. 350 万 D. 300 万
81. 该国小麦年进口量大于 200 百万吨的年份有几个？
A. 8 B. 6 C. 5 D. 7
82. 该国在哪一年，自亚洲以外其他国家进口的小麦数量最多？
A. 1976 年 B. 1978 年 C. 1981 年 D. 1983 年
83. 该国在进口小麦几乎完全依赖于从亚洲进口的这一年中，进口的小麦总量比上一年减少了几个百分点？
A. 16 B. 20 C. 56 D. 70
84. 在小麦进口量最多的那个年份里，从亚洲进口的小麦量与从亚洲以外的其他国家进口的小麦量之比约为：
A. 1:3 B. 1:2 C. 2:1 D. 3:2

参考答案：

资料分析：①文字资料②统计表③统计图 答案：

20: ACBDC BBCAD BDDDC DDABC

21-40: A BCBA DCDBA CCBBA CADCA

41-60: ADBA A CBDDA BBCDA BDDAA

61-84: BCDDD DCBA A DADCA CDADA BACC

公务员行政职业能力测验复习－演绎推理

每题给出一段陈述，这段陈述被假设为正确的，不容置疑的。要求你根据这段陈述，选择一个答案。注意，正确的答案应与所给的陈述相符合，不需要任何附加说明即可从陈述中直接推出。

《2011 年公务员考试行测考试 100 套华图真题》

例题：

对于穿鞋来说，正合脚的鞋子比过大的好。

不过，在寒冷的天气，尺寸稍大点的毛衣与正合身的毛衣的差别不大。这意味着：

- A. 不合脚的鞋不能在冬天穿
- B. 毛衣的大小只不过是式样的问题，与其功能无关
- C. 不合身的衣服有时仍有穿用价值
- D. 在买礼物时，尺寸不如用途那样重要

解答：只有 C 是可以从陈述中直接推出的，故选 c。

请开始答题：

1. 有甲、乙、丙、丁四个果园，其中甲园的各种果树都能在乙园找到，丙园的果树种类包含所有的乙园果树种类，而丙园中有一些果树在丁园也有种植，则：

- A. 甲园中有二些果树能在丁园中找到
- B. 甲园中所有的果树都能在丙园中找到
- C. 丁园中所有的果树都能在乙园中找到
- D. 乙园中有一些果树能在丁园中找到

2. 在一次社会调查中发现，A 市的人均国民生产总值高于 B 市和 c 市，而 D 市的人均国民生产总值比 C 市高又低于 E 市，由此可以推出：

- A. E 市的人均国民生产总值高于 A 市
- B. B 市的人均国民生产总值高于 C 市
- C. A 市的人均国民生产总值高于 D 市
- D. 在五个城市的人均国民生产总值中，C 市最多名列第四

3. 有 A、B、C、D、E 五个亲戚，其中 4 人每人讲了一个真实情况，如下：① B 是我父亲的兄弟，② E 是我的岳母，③ c 是我女婿的兄弟，④ A 是我兄弟的妻子。上面提到的每个人都是这五个人中的一个(例如，①中“我父亲”和“我父亲的兄弟”都是 A、B、C、D、E 五人中的一个)，则由此可以推出

- A. B 和 D 是兄弟关系 B. A 是 B 的妻子
- C. E 是 C 的岳母 D. D 是 B 的子女

4. 下列推理中错误的一项是：

A. 病毒都需要侵入细胞中进行复制和繁殖。这种病原体侵入到了细胞中，所以它是一种病毒。

B. 中子是一种基本粒子，而中子是不带电的，所以有些基本粒子不带电。

C. 企鹅虽是鸟类但不会飞，居住在新西兰的仙企鹅自然也是只会游泳不会飞了。

D. 吸烟者不一定都患肺癌，但不少肺癌者都有 10 年至 20 年以上的吸烟史，其中绝大多数是烟瘾过大者。所以肺癌和吸烟特别是大量吸烟有很大关系。

5. 在智囊团里有这样一个倾向：机构中每一个较低层的成员在把信息传递到上一级机构前，都对信息进行筛选、修改。这样信息被渲染或歪曲以迎合上级的期望。这种倾向的典型例子是东京湾事件。虽然玛多克斯驱逐舰发出了第二条消息以取代第一条消息，并要求给予时间对数据重新估价。但第二条消息被官僚机构截取了。中层机构的负责人没有把消息传给总统是因为他们知道他。

下面哪一条能合理地完成上文？

- A. 已经知道了第二条消息的内容
- B. 对第一条消息的内容感到满意

《2011 年公务员考试行测考试 100 套华图真题》

C. 对第一条消息的内容不感兴趣

D. 已经在第一条消息的基础上做出了决定

6. 西方每一个国家的现代化都有各自的特点。中国许多东西都有自己的传统, 这些传统与西方很不一样, 所以:

A. 中国不需要向外国学习

B. 中国现代化会自发地实现

C. 中国现代化特点与西方的现代化特点有着明显的区别

D. 中国的传统与现代化之间不存在矛盾

7. 市场是有效的资源配置方式; 市场对经济活动的反应具有客观性\直接性\灵敏性等特点, 现在世界上大多数国家都采用市场经济制度, 但是完全靠市场机制自发调节的国家是不存在的, 市场调节的滞后性\盲目性以及市场失灵等问题要求国家对国民经济进行宏观调控。所以:

A. 市场是惟一的资源配置方式

B. 市场制度自身不存在任何缺陷

C. 只要采用市场经济制度, 一国的经济就会快速发展

D. 社会主义市场经济条件下实行政府宏观调控是现代市场经济的客观要求

8. 甲、乙、丙三人是同一家公司的职员, 他们的未婚妻 A、B、C 也都是这家公司的职员。知情者介绍说: “A 的未婚夫是乙的好友, 并在三个男子中最年轻; 丙的年龄比 C 的未婚夫大。” 依据该知情者提供的信息, 我们可以推出三对夫妻分别是:

A. 甲—A, 乙—B, 丙—C B. 甲—A, 乙—C, 丙—B

C. 甲—B, 乙—C, 丙—A D. 甲—C, 乙—B, 丙—A

9. 许多研究者相信: 脑细胞中的 RNA 是记忆的生理基础, 也就是说, RNA 使我们具有记忆能力。由于某些化学物质抑制体内 RNA 的合成, 所以我们可以利用这种 RNA 抑制剂来检验上面的说法正确与否。现把 RNA 抑制剂注入那些已掌握了某些特殊反应的动物, 然后检验那些动物对所学反应的记忆情况。问: 下面哪一种检验结果最能反驳上面的说法?

A. 注射了 RNA 抑制剂后, 这些动物就学不会新的反应了

B. 注射了 RNA 抑制剂后, 这些动物忘记了原来已掌握的反应

C. 注射了 RNA 抑制剂后, 包括原已掌握的反应在内, 许多行为受到影响

D. 一些以前不能一致地对所学到的反应有所表现的动物, 在注射了 RNA 抑制剂后, 就能有所表现了

10. 在目前财政拮据的情况下, 在 A 市增加警力的建议不可取。在计算增加警力所需的经费开支时, 光考虑到支付新增警员的工资是不够的, 同时还要考虑到支付法庭和监狱新雇员的工资, 由于警力的增加带来的逮捕、宣判和监管任务的增加, 势必需要相关机构同时增员。以下哪项如果为真, 最能削弱上述论证?

A. 虽然财政状况比较紧张, 但新增警员需要的费用在整个财政支出中的比例是很小的

B. 增加一定的警力后, A 市的犯罪率会大大降低

C. 去年 B 市的警力增加了 15%, 逮捕个案增加了 37%, 判决个案增加了 9.5%

D. 可通过其他途径来承担一部分由于新增警力而带来的费用

11. 有三名国际象棋特级大师和三名国际象棋大师进行一场循环比赛, 即每一名选手都要和其他五名选手比赛。比赛计分规则如下: 击败国际象棋特级大师

《2011 年公务员考试行测考试 100 套华图真题》

可得 2 分，击败国际象棋女大师可得 1 分；国际象棋特级大师输一场失 2 分，国际象棋大师输一场失 1 分。如果；有一名国际象棋特级大师已输了两场，那么他最高可获几分？

A. 0 分 B. 1 分 C. 2 分 D. 3 分

12. 乒乓球教练组将从右手执拍的选手 R、S、T 和左手执拍的选手 L、M、N、O 中选出四名队员去参加奥运会。要求至少有两名右手执拍的选手，而且选出的四名队员都可以互相配对进行双打。已知 s 不能与 L 配对，T 不能与 N 配对，M 不能与 L 或 N 配对。若 R 不被选入队中，那么有几种不同的选法？

A. 只有一种 B. 两种 C. 三种 D. 四种

13. 几乎所有的地方国有企业都是地方专业银行的债务人。而其中的亏损企业又大都挂有地方专业银行的呆账。债权人出于对呆账变成死账的担心而反对债务人破产是一种可以理解的市场行为动机。但是，许多地方却宁愿继续给长期亏损企业贷款，继续使贷款成为已成定局的“死账”这其中的原因是：只要企业不破产，反映银行工作成绩的指标——“贷款余额”就不会下滑。从这段话中我们可以知道：

- A. 在地方专业银行的“贷款余额”中实际有相当数量的“死账”
- B. 地方专业银行反对企业破产的主要原因是担心呆账变成死账
- C. 亏损企业的破产将损害银行的长期经济利益
- D. 银行的财务利益直接影响到银行贷款工作人员的个人利益

14 在美国，献血者所献血液中的 45% 是 O 型血，O 型血在紧急情况下是必不可少的，因为在紧急情况下根本没有时间去检验受血者的血型，而 O 型血可供任何人使用。O 型血的独特性在于：它和一切类型的血都相合，因而不论哪一种血型的人都可以接受它，但是正因为它的这种特性，O 型血长期短缺。由此可知：

- A. 血型为 O 型的献血者越来越受欢迎
- B. O 型血的特殊用途在于它与大多数人的血型是一样的
- C. 输非 O 型血给受血者必须知道受血者的血型
- D. 在美国，45% 的人的血型为 O 型，O 型是大多数人共同的血型

15. 南方航空公司目前开始为旅行者提供网上订票服务。然而，在近期内，电话订票并不会因此减少。以下各项不能解释上述现象的是：

- A. 网上订票系统处于试用期，许多旅行者为了保险起见更愿意选择电话订票
- B. 目前正值旅游旺季，订票数量将大大增加
- C. 绝大多数通过电话订票的旅行者还没有条件使用网络
- D. 网上订票服务的成本大大低于电话订票，而且还具有电话订票所没有的其他服务功能

16. 要从编号为 A、B、C、D、E、F 的六个侦察员中挑选若干人去破案，人员的配备要求如下：A、B 中至少去一人；A、D 不能一起去；A、E、F 中要派两人去；B、C 都去或都不去；C、D 中去一人；若 D 不去，则 E 也不去。由此可见，被挑去的人是：

A. A、B、F B. A、B、C、F C. B、C、E D. B、C、D、E

17. 对二百只同一种类且都没患有白血病的老鼠进行试验，让它们接受相同剂量、相同强度

的某种射线的照射，然后一半的老鼠不被限制地吃它们平常所吃的食物，而另一半给它

们提供相同的食物，但量是有所限定的。结果发现，前一组有 55 只老鼠得了

《2011 年公务员考试行测考试 100 套华图真题》

白血病，而

后一组只有 3 只老鼠得了白血病。由此可知：

- A. 无论是否受到某种射线的照射，让老鼠吃它们平常所吃的食物会增加患白血病的可 能性
- B. 对任何种类的老鼠，患白血病与受到某种射线是没有关系的
- C. 通过控制这些老鼠的食物数量，可以减少它们因某种射线的照射而患上白血病的可 能性
- D. 凡是受到某种射线照射的老鼠最终一定会患上白血病

18. 为了减少汽车追尾事故，有些国家的法律规定，汽车在白天行驶时也必须打开尾灯。一般地说，一个国家的地理位置离赤道越远，其白天的能见度越差；而白天的能见度越差，实施上述法律的效果越显著。事实上，目前世界上实施上述法律的国家都比中国离赤道远。

上述断定最能支持以下哪项相关结论？

- A. 中国离赤道较近，没有必要制定和实施上述法律
- B. 在实施上述法律的国家中，能见度差是造成白天汽车追尾的最主要原因
- C. 一般地说，和目前已实施上述法律的国家相比，如果在中国实施上述法律，其效果将较不显著
- D. 如果离赤道的距离相同，则实施上述法律的国家每年发生的白天汽车追尾事故的数量，少于未实施上述法律的国家

19. 在州长任职的三年里经常被指控对女性有性别歧视的态度。然而，他已经在他的管理层的 19 个高层空缺职位中任用了 5 名妇女，她们中的所有人仍在服务，这表明州长并不是一名性别歧视者。

下列哪一个如果正确，最反对上面的结论？（ ）

- A. 州长任命的一名高层职位的女性正准备辞职
- B. 州长所在政党的纲领要求他在高层职位中至少任命 5 名女性
- C. 三年前的州长投票中，47% 的女性投票支持这位州长
- D. 州长在其管理层任命了两名黑人，两名西班牙裔美国人，一名亚裔美国人

20. 恐龙专家：一些古生物学家声称鸟类是一群叫做 dromeosaurs 的恐龙的后裔。他们求助于化石记录，结果发现，与鸟类和大多数的恐龙相比，dromeosaurs 具有的特征与鸟类更为相似。但是，他们的论述存在致命的缺点，已发现的最早的鸟类的化石比最古老的已知 dromeosaurs 的化石早几千万年，因此，古生物学家的声明是错误的。

专家的论述依赖于下面哪条假设？（ ）

- A. 具有相似的特征不是不同类型的生物在进化上相联系的标志
- B. dromeosaurs 和鸟类可能会有共同的祖先
- C. dromeosaurs 化石和早期鸟类化石的知识是完整的
- D. 已知化石揭示了鸟类和 dromemaurs 起源的确定日期

21. 一群在实验室里研究老鼠体内钙的新陈代谢的科学家发现去除老鼠的甲状旁腺可以导致老鼠血液中钙的水平比正常水平低很多，这个发现使科学家们假设甲状旁腺的功能是调节血液中的钙的水平。当钙的水平降到正常范围之下，它就升高钙的水平。在进一步的实验中，科学家们不但去除了老鼠的甲状旁腺，而且去除了它们的肾上腺，他们出人意料地发现老鼠血液内钙的水平的下降比单是去除甲状旁腺时慢很多。

下面哪一项，如果正确，能与科学家的假设相一致地解释那个出人意料的发

《2011 年公务员考试行测考试 100 套华图真题》

现? ()

- A. 甲状旁腺的缺乏能促使肾上腺增加血液中的钙水平
- B. 肾上腺与甲状旁腺在调节血液内的钙的水平时的作用是一样的
- C. 肾上腺的作用是降低血液中的钙的水平
- D. 如果只是把老鼠的肾上腺,而没有把其他的腺移去,这只老鼠的血液内的钙的水平将会维持不变

22. 设想一下三条鱼成群而游。一条鱼可能被捕食者 Y 看到的空间是以该鱼为圆心, Y 能看到的最远距离为半径的圆。当 Y 在这三个圆之中的一个时, 该鱼群可能受到攻击。由于三条鱼的鱼群之间距离很近, 这三个圆在很大程度上重叠在一起。

下面哪一项是从上面一段中得出的结论? ()

- A. 捕食者 Y 攻击四条鱼的鱼群的可能性比攻击三条鱼的鱼群的可能性小
- B. 整个鱼群的易受攻击性比鱼群中的每一条鱼的易受攻击性大不了多少
- C. 一条鱼能被看见的最大距离不怎么取决于鱼的大小,而更多地取决于该鱼是否成群地游动
- D. 如果捕食者 Y 本身游在一群 Y 之中,则 Y 能看到其他猎物的最大距离有所增加

23. 轻型实用卡车已越来越受流水作业消费者的欢迎, 他们购买这种卡车主要是因为它们具有结实的外表。然而尽管这类卡车看起来制作结实, 但是它们并不需要达到政府的汽车安全标准, 该标准规定了车顶的最低强度和汽车最低抗冲击能力。因此, 如果这类卡车遇上了一起非常严重的高速碰撞事故。这类卡车的司机就很有可能比那些符合政府标准的汽车司机更易受伤害。

上述论述依赖于下列哪个假设? ()

- A. 那些买车时只在乎汽车外表的人很可能比其他的人开车粗心
- B. 轻型实用卡车比其他类型的车辆更易卷入致使伤残的事故
- C. 卡车坚固的外表具有欺骗性, 因为他们的发动机不是特别地强劲有力
- D. 轻型实用卡车达到汽车安全标准的可能性不如那些符合标准的汽车大

24. 一政府机构出版了航空公司的信用等级, 把晚点航班比例最小的航空公司列入最高信誉等级, 这家机构的目的是要建立一个客观的方法来衡量不同航空公司在遵守出版的航空时刻表方面的相对有效性。

以下哪项如果为真, 将使得这家机构信用等级的使用无效?

()

- A. 班机经常由于糟糕的天气条件而晚点, 而某些航空公司受坏天气影响要多于其他航空公司
- B. 所有航空公司的班机时刻表允许班机有额外的时间进入或离开繁忙的机场
- C. 航空公司的职员意识到这家政府机构正在监管所有晚点的航空公司班机
- D. 当且仅当班机比预定到达时间晚到 15 分钟以上时, 才定义为班机晚点, 并且记录他们晚点超过 15 分钟的时间

25. 最近几年, 北亚的气候普遍比较凉。但是, 在北亚的日平均气温和湿度比正常水平稍高的那段时间内, 那儿生长的庄稼的产量却显著增加。在下个世纪, 在那一段时间内获得的增加的日平均气温和湿度将有望成为下个世纪的正常状态。然而科学家预测。在下个世纪大多数地区的庄稼的年产量会下降。

下面哪一点, 如果正确, 最能有助于解决以上信息中的矛盾? ()

《2011 年公务员考试行测考试 100 套华图真题》

A. 即使南亚地区的日平均气温和湿度都比现在有所增加后,那儿的庄稼产量也有望保持不变

B. 任何有关温度和湿度的增加,都伴随着大气中二氧化碳含量的升高,二氧化碳对农作物的呼吸是至关重要的

C. 北亚最近几年的气候普遍太冷太干燥使得许多庄稼害虫不能大规模地生长

D. 在亚洲的许多地方,气候变得温暖湿润致使每年的降雨量增加,从而使大多数的可食作物茂盛地生长

26. 在某次税务检查后,四个工商管理人员有如下结论:

甲:所有个体户都没纳税。

乙:服装个体户陈老板没有纳税。

丙:个体户不都没有纳税。

丁:有的个体户没纳税。

如果四人中只有一个断定属实,则以下哪项是真的? ()

A. 甲断定属实,陈老板没有纳税 B. 丙断定属实,陈老板纳了税

C. 丙断定属实,但陈老板没纳税 D. 丁断定属实,陈老板未纳税

27. 在某国进行的人口普查中,婚姻状况分为四种:未婚、已婚、离婚和丧偶。其中,已婚分为正常婚姻和分居;分居分为合法分居和非法分居;非法分居指分居者与人非法同居;非法同居指无婚姻关系的异性之间的同居。普查显示,2003 年,非法同居的分居者中,女性比男性多 100 万。

如果以上调查及数据都是真实的,并且上述非法同居者都是该国人,则以下关于该国的断定哪些必为真? ()

I. 与分居者非法同居的未婚、离婚或丧偶者中,男性多于女性。

II. 与分居者非法同居的人中,男性多于女性。

III. 与分居者非法同居的分居者中,男性多于女性。

A. 仅 I B. 仅 III C. I、II 和 III D. I 和 II

28. 现在国土的概念已不仅限于陆地,领海领空同为国家主权范围。按照现有国际法,沿某国海岸线延伸 200 海里范围内的岛屿为该国所有,因而许多国家展开了争夺岛屿的斗争。我国的南沙群岛被东南亚各国侵占,可见 ()。

A. 中国领土过多,管不过来

B. 这是战争的前奏

C. 东南亚各国国力贫弱,以争夺新国土来扩充资源

D. 南沙群岛与东南亚许多国家相邻

29. 一位海关检查员认为,他在特殊工作经历中培养了一种特殊的技能,即能够准确的判定一个人是否在欺骗他。他的根据是,在海关通道执行公务时,短短的几句话就能使他确定对方是否可疑;而在他认为可疑的人身上,无一例外地都查出了违禁物品。

以下哪项如果为真,能削弱上述海关员检查员的论证? ()

I. 在他认为不可疑而未经检查的入关人员中,有人无意地携带了违禁物品。

II. 在他认为不可疑而未经检查的入关人员中,有人有意地携带了违禁物品。

III. 在他认为可疑并查出违禁物品的入关人员中,有人是无意地携带了违禁物品。

A. 只有 I B. 只有 II C. 只有 III D. 只有 II 和 III

30. 桌子上摆着金匣子、银匣子和铜匣子。金匣子上写着一句话:“珠宝不在

《2011 年公务员考试行测考试 100 套华图真题》

此匣中”，银匣子上写着一句话：“珠宝在金匣中”，铜匣子上写着一句话：“珠宝不在此匣中”。

现已知道，这三句话中，只有一句话是真的，那么（ ）。

- A. 珠宝在金匣中 B. 珠宝在银匣中
- C. 珠宝在铜匣中 D. 珠宝不在任何匣中

31. “子非鱼，安知鱼乐。”

“子亦非鱼，安知鱼之非乐。”

下面哪项与上文的对话最为类似？（ ）

- A. “你为什么不去送行？”“你怎么知道我没有去呢？”
- B. “你怎么负的伤？”“我怎么回忆得起当时的情况呢？”
- C. “你为什么到军事禁区里来？”“难道我不能到这里来看看吗？”
- D. “唐玄宗来烧过香，你有什么证据？”“你又有什么证据说唐玄宗没来烧过香？”

32. 在中国，能不能做好各项工作，很大程度上取决于干部能不能一身正气，起带头作用。天津市和平区在建设精神文明的过程中，首先抓的是由群众评选十佳公仆这个活动。这有效地提高了干部的素质。因此（ ）。

- A. 和平区的干部个个都清正廉洁
- B. 和平区的经济发展水平在天津市是最高的
- C. 和平区在精神文明建设中，克服了一个又一个困难，成果丰硕
- D. 和平区一劳永逸地解决了精神文明建设问题

33. 传统的问题解决方法强调以往的知识经验，而现代问题解决方法则强调从达到目标的所有可能途径中选择出最佳的一种，由于两者均不能成功地解决所有问题，因此（ ）。

- A. 应该根据不同的问题选择一种方法
- B. 根据实际情况来决定用适合的方法，或者传统或者现代
- C. 不能只采用一种方法
- D. 没有完全满意的解决方法

34. 罗素是数学家，罗素是哲学家。

可见（ ）。

- A. 罗素要么是数学家，要么是哲学家 B. 有些数学家是哲学家
- C. 数学家都是哲学家 D. 哲学家都是数学家

35. 北美自由贸易协定规定：在 5 年内，美国对墨西哥出口 3/4 的零件的关税将取消，立即取消 2.5 亿美元美国向墨西哥出口的纺织品和服装的贸易限制，将在 6 年内取消对另外 7 亿美元的纺织品和服装的限制。墨西哥开放金融服务市场，允许美国银行和证券公司建立独资机构，允许目前的公司到 1996 年获得 100% 的所有权。可见（ ）。

- A. 墨西哥将成为美国的第一大出口市场
- B. 墨西哥将成为美国具有极大潜力的出口市场
- C. 墨西哥的纺织业与服装业将被美国商品挤垮
- D. 美国将控制墨西哥的金融业

36. 根据男婴出生率，甲和乙展开了辩论。

甲：人口统计发现一条规律：在新生婴儿中，男婴的出生率总是摆动于 22 / 43 这个数值，而不是 1/2。

乙：不对，许多资料都表明，多数国家和地区，例如苏联、日本、美国、西

《2011 年公务员考试行测考试 100 套华图真题》

德，以及我国的台湾省都是女人比男人多。可见，认为男婴出生率总在 22 / 43 上下波动是不成立的。

试分析甲乙的对话，指出下列选项中哪一个能说明甲或乙的逻辑错误？（ ）

- A. 甲所说的统计规律不存在
- B. 甲的统计调查不符合科学
- C. 乙的资料不可信
- D. 乙混淆了概念

37. 罗伯特、欧文、叶赛宁都新买了汽车，汽车的牌子是奔驰、本田、皇冠。他们一起来到朋友汤姆家里，让汤姆猜猜他们三人各买的是什么牌子的车。汤姆猜道：“罗伯特买的是奔驰车，叶赛宁买的肯定不是皇冠车，欧文自然不会是奔驰车。”很可惜，汤姆的这种猜法，只猜对了一个。

据此可以推知（ ）。

- A. 罗伯特买的是本田车，欧文买的是奔驰车，叶赛宁买的是皇冠车
- B. 罗伯特买的是奔驰车，欧文买的是皇冠车，叶赛宁买的是本田车
- C. 罗伯特买的是奔驰车，欧文买的是本田车，叶赛宁买的是皇冠车
- D. 罗伯特买的是皇冠车，欧文买的是奔驰车，叶赛宁买的是本田车

38. 为了防止利益冲突，国会可以阻止高级政府官员离开政府后的三年内接受说客的职务。然而一位官员断言，这个限制是不幸的。因为它将阻止高级官员三年的谋生之道。

这位政府官员的结论逻辑依靠以下哪条假设？（ ）

- A. 法律不应限制前政府官员的行为
- B. 说客主要由曾在政府担任高级官员的人来担任
- C. 政府的低级官员离开政府后不经常担任说客
- D. 高级官员离开政府后只能以说客谋生

39. 泰山电影院实行对中小学生购票半价优惠，这实际上是吸引顾客的一种经营策略，电影院并没有实际让利，因为当某场电影的满座率超过 90% 时，就停售当场的学生优惠票，而在目前电影业不景气的情况下，电影院的满座率很少超过 90%。有座位空着，何不以优惠价促销它呢？

以下哪项如果是真的，将最有力地削弱上述论证？（ ）

- A. 绝大多数中小观众并不是因为票价优惠才选择泰山电影院看电影的
- B. 泰山电影院实施学生优惠价的 7 月份的营业额比未实行优惠价的 2 月份增加了 30%
- C. 实施学生优惠票价是表示对教育青少年的一种重视，不应从功利角度对此进行评价
- D. 泰山电影院在实施学生优惠价的同时，实施早、午场优惠价

40. 主人每天早晨给小猴子三颗荔枝，晚上四颗，小猴子很不高兴。于是主人很大方地说：“好吧！从明天起早晨给你四颗，晚上三颗。”小猴子开心极了。

下列哪项与上述寓言有相同的欺骗手法？（ ）

- A. 许多厂家为了推销自己的产品，常常给对方经办人员 5% 左右的回扣，以此为诱饵，增加对方的订货
- B. “佳美”羊毛衫零售价一般是 200 元，但销路很不好，某一商店突发奇招，在柜台前贴一张海报：佳美羊毛衫，原价 250 元，现价 200 元，八折优惠。从此门庭若市
- C. 张某为实现自己的非分之想，给领导李某 1 万元好处费，结果是李某开心，张某称心
- D. 某烟贩销售假“红塔山”，8 元一包，并谎称是批发价，结果顾客抢购如

《2011 年公务员考试行测考试 100 套华图真题》

潮

41. 在对某生产事故原因的民意调查中, 70% 的人认为是设备故障; 30% 的人认为是违章操作; 25% 的人认为原因不清, 需要深入调查。

以下哪项最能合理地解释上述看来包含矛盾的陈述? ()

- A. 被调查的有 125 人
- B. 有的被调查者后来改变了自己的观点
- C. 有的被调查者认为事故的发生既有设备故障的原因, 也有违章操作的原因
- D. 很多认为原因不清的被调查实际上有自己倾向性的判断, 但是不愿意透露

42. 甲、乙、丙、丁四人涉嫌某案被传讯。

甲说: 作案者是乙。

乙说: 作案者是甲。

丙说: 作案者不是我。

丁说: 作案者在我们四人中。

如果四人中有且只有一个说真话, 则以下哪项断定成立? ()

- A. 作案者是甲 B. 作案者是乙
- C. 作案者是丙 D. 题干中的条件不足以断定谁是作案者

43. 以下一组字母是一组常用英语词的第二个字母, 请推理其下一个字母:

N, W, H, O, I, I, ——

- A. F B. E C. A D. K

44. 某地有两个奇怪的村庄, A 庄的人在星期一、三、五说谎, B 庄的人在星期二、四、六说谎。在其他日子他们都说实话。一天, 外地的孙铁来到这里, 见到两个人, 分别向他们提出关于日期的问题。两个人都说: “前天是我说谎的日子。” 如果此两人分别来自 A、B 两庄, 那么最可能为真的是:

- A. 这一天是星期日或星期五 B. 这一天是星期六或星期三
- C. 这一天是星期四或星期二 D. 这一天是星期三或星期一

45. 某日, A 夫妇邀请了三对夫妇来吃饭, 他们分别是 B 夫妇、C 夫妇和 D 夫妇。用餐时, 他们八人均匀地坐在一张圆桌旁, 且只有一对夫妇是被隔开的, 现已知 I: A 太太对面的人是坐在 B 先生左边的先生。 II: C 太太左边的人是坐在 D 先生对面的一位女士:。 III: D 先生右边的人是位女士, 她坐在 A 先生左边第二位置上的女士的对面。问哪对夫妇在安排座位时被隔开了:

- A. A 夫妇 B. B 夫妇 C. C 夫妇 D. 夫妇

46. 四个人在谈论老田的存款。甲说: “老田至少有五千元存款。” 乙说: “不对, 至少有一万元。” 丙说: “他的存款不到两万。” 丁说: “老田的存折上最少有一百元钱。” 实际上他们只有一个人说得对。据此, 可以得到:

- A. 甲说得对 B. 丁说得对
- C. 老田的存款连一百元钱都不到 D. 老田的存款在五千元到两万元之间

47. 在美国, 企业高级主管和董事们买卖他们手里的本公司股票是很普遍的。一般来说, 某种股票内部卖与买的比率低于 2 / 1 时, 股票价格会迅速上升。近些天来, 虽然 MEGA 公司的股票价格一直在下跌, 但公司的高级主管和董事们购进的股票却九倍于卖出的股票。以上事实最能支持以下哪种预测?

- A. MEGA 股票的价格会马上上涨
- B. MEGA 股票的内部购买会马上停止
- C. MEGA 股票的价格会继续下降, 但速度放慢
- D. MEGA 股票的大部分仍将由其高级主管和董事们持有

《2011 年公务员考试行测考试 100 套华图真题》

48. 某旅馆内住着不同职业、不同国籍的 A、B、C、D 四个人，他们来自英、法、德、美四个国家，现已知德国人是医生，美国人年龄最小且是警察，C 比德国人年纪大，B 是法官且是英国人的朋友，D 从未学过医。由此可知 C 是：

A. 英国人 B. 法国人 C. 美国人 D. 不确定

49. 美国前总统林肯说：“最高明的骗子，可能在某个时刻欺骗所有的人，也可能在所有的时刻欺骗某些人，但不可能在所有时刻欺骗所有的人。”如果林肯的上述断定是真的，那么下述哪项断定是假的？

A. 林肯可能在任何时刻都不受骗
B. 不存在某一时刻有人可能不受骗
C. 林肯可能在某个时刻受骗
D. 不存在某一时刻所有的人都必然不受骗

50. 在司法审判中，所谓肯定性误判是指把无罪者判为有罪，否定性误判是指把有罪判为无罪。肯定性误判就是所谓的错判，否定性误判就是所谓的错放。而司法公正的根本原则是“不放过一个坏人，不冤枉一个好人”。某法学家认为，目前，衡量一个法院在办案中对司法公正的原则贯彻得是否足够好，就看它的肯定性误判率是否足够低。以下哪项如果为真，能最有力地支持上述法学家的观点？

A. 各个法院的办案正确率普遍有明显的提高
B. 各个法院的否定性误判率基本相同
C. 错放，只是放过了坏人；错判，则是既放过了坏人，又冤枉了好人
D. 错放造成的损失，大多是可以弥补的；错判对被害人造成的伤害，是不可弥补的

51. 据《科学日报》消息，1998 年 5 月，瑞典科学家在研究中首次提出，一种对防治老年痴呆症有特殊功效的微量元素，只有在未经加工的加勒比椰果中才能提取。如果《科学日报》的上述消息是真实的，那么，以下哪项不可能是真实的？

(1) 1977 年 4 月，芬兰科学家在相关领域的研究中提出过，对防治老年痴呆症有特殊功效的微量元素，除了未经加工的加勒比椰果，不可能在其他对象中提取。

(2) 荷兰科学家在相关领域的研究中证明，在未经加工的加勒比椰果中，并不能提取对防治老年痴呆症有特殊功效的微量元素，这种微量元素可以在某些深海微生物中提取。

(3) 著名的苏格兰医生查理博士在相关的研究领域中证明，该微量元素对防治老年痴呆症并没有特殊功效。

A. (1) B. (2) C. (3) D. (2) 和 (3)

52. 下列推理有错误的一句是：

A. 伯尔蒂昂认为人体各部分尺寸的比例是长久不变的，且因人而异的，据此可以查出重复犯罪的罪犯。有一次，他查出名叫杜邦的犯罪分子同已释放的马尔顿身体各部分比例相同，因而断定杜邦可能就是马尔顿。

B. 现场发现的烟头上有牙咬痕迹，而查出高某牙齿痕迹正好与之相同，因而推断高某可能到过现场。

C. 商店窗子被撬后什么也没有丢，但是后来查账时却发现了 6000 多元的现金缺口，因而肯定是商店贪污分子为转移注意而假造了撬窗现场。

D. 很多罪犯多次作案时，总是使用同样的方法，马某总用假支票作案，此次案犯也使用了假支票，因而此次案犯可能是马某。

《2011 年公务员考试行测考试 100 套华图真题》

演绎（逻辑）推理 答案：

1-10: B、D、B、A、B、C、D、B、B、A

11-20: D、A、C、A、D、B、C、C、B、D

21-30: C、B、D、A、C、B、D、D、B、C

31-40: D、C、B、B、B、D、D、D、A、B

41-52: C、C、B、D、C、C、A、A、B、B、D、C

数字运算

你可以在草稿纸上运算，遇到难题，你可以跳过不做，待有时间再返回来做。

例题：

84.78、59.50、121.61、12.43 以及 66.50 的总和是：

A、343.73

B、343.83

C、344.73

D、344.82

解答，正确答案为 D。实际上你只要把最后一位小数加一下，就会发现的未位是 2，只有 D 符合要求。

请开始答题：

1. $32.8+76.4+67.2+23.6-17$ 的值是 L

A、176

B、182.4

C、183

D、173

2. 已知正数 a 、 b 满足 $a+b=1$ ，则 $\sqrt{2a+1} + \sqrt{2b+1}$ 的值。

A、 $>2\sqrt{2}$

B、 $\geq 3\sqrt{2}$

C、 $\leq \sqrt{6}$

D、 $\leq 2\sqrt{2}$

3. $478 \times 365 - 1$ 的值是：

A、174473

B、174469

C、16729

D、16723

4. 少先队第四中队发动队员种蓖麻，第一天种了 180 棵，第二天种了 166 棵，第三天种了 149 棵。平均每天种了多少棵：

A、166

B、167

C、164

D、165

5. 如图一所示，平行四边形 ABCD 的周长是 28cm， $CA-AD=2\text{cm}$ ，则 AB 的长度是：

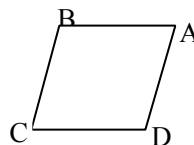
A、8cm

B、6cm

C、7cm

D、9cm

(图一)



6. 已知 $X=-2$ ， $Y=\frac{2}{3}$ ，则 $\frac{1}{2}X-2(X-\frac{1}{3}Y^2)-(\frac{3}{2}X-\frac{1}{3}Y^2)$ 的值是：

A、 $\frac{50}{9}$

B、 $-\frac{50}{9}$

C、 $\frac{58}{9}$

D、 $-\frac{58}{9}$

7. 一瓶内装有酒精，倒进 500 克以后又倒出一半，然后再倒进 500 克，这时瓶内有酒精 1200 克，问瓶内原有酒精多少克：

A、750 克

B、800 克

C、850 克

D、900 克

8. 我国粮食总产量，新中国成立前的 1936 年是 8488 万吨，1949 年比 1936 年多 2830 万吨，1989 年比 1949 年的 3 倍还多 6801 万吨。1989 年我国粮食产量是

《2011 年公务员考试行测考试 100 套华图真题》

多少万吨:

- A、42875 万吨 B、40755 万吨 C、37625 万吨 D、39875 万吨

9. 下列选项中, 值最小的是:

- A、 $\sqrt{3}$ B、 $\frac{1}{\sqrt{3}}$ C、 $\sqrt{3} - 1$ D、 $\frac{\sqrt{3}}{2}$

10. 如图二所示, 直线 SA 垂直于正方形 ABCD, AC 与 BD 相交于 O, $AB=2\sqrt{2}$ cm, $SC=5$ cm, 则点 S 到直线 BC 的距离是:

- A、 $\sqrt{15}$ cm B、4cm
C、 $\sqrt{17}$ cm D、 $3\sqrt{2}$ cm



11. $2745 \times 962 - 2746 \times 1961$ 的值是:

- A. 674 B. 694 C. 754 D. 784

12. $72 \times 22 + 64 \times 31 + 99 + 7$ 的值是:

- A. 3872 B. 3759 C. 3674 D. 35

13. “胜利”号货轮在 3 天内共航行了 150 海里, 请问货轮平均每天约航行多少千米?

- A. 92.6 千米 B. 78.4 千米 C. 120.6 千米 D. 140.5 千米

14. 小蔡去超市购物, 她买了 1.6 千克苹果, 4 磅食油和 3.8 市斤芦柑。请问小蔡买的这二种食品最重的是哪一种?

- A. 苹果 B. 食油 C. 芦柑 D. 三者一样重

15. 浙江大学紫金港校区一期工程的占地面积约为 2400 市亩, 如果用另两个常用面积单位“公顷”和“平方米”来表示, 它的面积分别约为:

- A. 80 公顷 8×10^5 平方米 B. 80 公顷 16×10^5 平方米
C. 160 公顷 8×10^5 平方米 D. 160 公顷 16×10^5 平方米

16. 一个等腰三角形, 一边长是 30 厘米, 另一边长是 65 厘米, 则这个三角形的周长是:

- A. 125 厘米 B. 160 厘米 C. 125 厘米或 160 厘米 D. 无法确定

17. 一个圆能把平面分成两个区域, 两个圆能把平面分成四个区域, 四个圆最多能把平面分成多少个区域?

- A. 13 B. 14 C. 15 D. 16

18. 两个工人必须完成一项生产任务, 第一个工人单独干, 可以在 5 天内完成, 第二个工人单独干, 可以在 4 天内完成, 如果两个人一起干, 一天以后, 他们还剩下多少任务?

- A. $\frac{4}{9}$ B. $\frac{11}{20}$ C. $\frac{1}{3}$ D. $\frac{3}{5}$

19. 右图是由 9 个等边三角形拼成的六边形, 现已知中间最小的等边三角形的边长是 a, 问这个六边形的周长是多少?

- A. 30a

32a

34a



《2011 年公务员考试行测考试 100 套华图真题》

无法计算

20. A、B 两人步行的速度之比是 7: 5, A、B 两人分别从 C、D 两地同时出发。如果相向而行, 0.5 / 小时后相遇, 如果同向而行, A 追上 B 需要几小时?

- A. 2.5 / 小时 B. 3 / 小时 C. 3.5 / 小时 D. 4 小时

21. 甲、乙两盒共有棋子 108 颗, 先从甲盒中取出 $\frac{1}{4}$ 放入乙盒, 再从乙盒取出 $\frac{1}{4}$ 放回甲盒, 这时两盒的棋子数相等, 问甲盒原有棋子多少颗?

- A. 40 颗 B. 48 颗 C. 52 颗 D. 60 颗

22. 某班有 35 个学生, 每个学生至少参加英语小组、语文小组、数学小组中的一个课外活动小组。现已知参加英语小组的有 17 人。参加语文小组的有 30 人, 参加数学小组的有 13 人。如果有 5 个学生三个小组全参加了, 问有多少个学生只参加了一个小组?

- A. 15 人 B. 16 人 C. 17 人 D. 18 人

23. 我们知道。一个正方形可以剪成 4 个小正方形, 那么一个正方形能否剪成 9 个正方形, 能否剪成 11 个正方形 (大小不一定要相同)

- A. 前者能、后者不能 B. 前者不能、后者能
C. 两者都不能 D. 两者都能

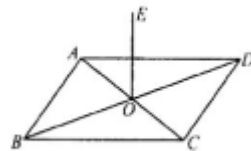
24. 如图所示, 在 $\triangle ABC$ 中。AB = AC, D 是 BC 延长线上一点, E 是 AB 上任意一点, DE 交 AC 于 F, 则:

- A. AE < AF
B. AE = AF
C. AE < AF 或 AE = AF
D. 不确定



25. 如图所示, ABCD 是边长为 a 的正方形, AC、BD 相交于 O. OE \perp 平面 ABCD, 已知 OE = b, 则点 E 到 AB 的距离为:

- A. $\frac{1}{4}\sqrt{a^2 + 4b^2}$
B. $\frac{1}{4}\sqrt{4a^2 + b^2}$
C. $\frac{1}{2}\sqrt{a^2 + 4b^2}$
D. $\frac{1}{2}\sqrt{4a^2 + b^2}$

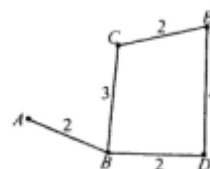


26. 从装有 100 克浓度为 10% 的盐水瓶中倒出 10 克盐水后, 再向瓶中倒入 10 克清水, 这样算一次操作, 照这样进行下去, 第三次操作完成后, 瓶中盐水的浓度为:

- A. 7% B. 7.12% C. 7.22% D. 7.29%

27. 如图所示, A、B、C、D、E 五所学校间有公路相通, 图上标出了每段公路的长度。现要选择一个学校召开一次会议, 已知出席会议的代表人数为: A 校 6 人、B 校 4 人、C 校 8 人、D 校 7 人, E 校 10 人, 问为使参加会议的代表所走的路程总和最小, 会议应选在哪个学校召开?

- A 校
B 校
C 校



《2011 年公务员考试行测考试 100 套华图真题》

D 校

28. $1 \div (2 \div 3) \div (3 \div 4) \div (4 \div 5) \div (5 \div 6)$ 的值是 ()。
- A. $\frac{1}{6}$ B. $\frac{1}{2}$ C. 3 D. 6
29. 一根铁丝用去 $\frac{2}{5}$ ，再用去 8 米，这样共用去这根铁丝的 $\frac{3}{4}$ 还多 1 米。求这根铁丝原长多少米？ ()
- A. 20 B. 24 C. 30 D. 18
30. 用 0~9 这 10 个数字可以组成多少个没有重复数字的四位偶数？ ()
- A. 5040 B. 4000 C. 9000 D. 2296
31. 四个工程队合筑一条渠道，各队参加人数之比为：甲：乙 = 8：7，乙：丙 = 5：6，丙：丁 = 14：15，已知丁队参加 45 人，求甲队参加的人数 ()。
- A. 35 B. 40 C. 27 D. 55
32. 1986 年春节 (2 月 9 日) 是星期日，再过 1988^{1986} 天是星期几？ ()
- A. 星期一 B. 星期日 C. 星期五 D. 星期四
33. 甲数除以 13 余 7，乙数除以 13 余 9，现将甲乙两数相乘，积除以 13 应该余几？ ()
- A. 16 B. 3 C. 11 D. 7
34. 有四个小朋友，他们的年龄恰好是一个比一个大一岁，他们年龄相乘的积是 360。其中年龄最大的一个是多少岁？ ()
- A. 6 B. 12 C. 5 D. 8
35. 4 点钟后，时针与分针在什么时刻成直线？ ()
- A. 4 点 30 分 B. 4 点 45 分 C. 4 点 $54\frac{6}{11}$ 分 D. 4 点 57 分
36. 在酒与水之比是 6：1 的混合酒若干千克中掺水 3 千克，这样，酒与水之比成为 3：1。问原来的混合酒有多少千克？ ()
- A. 20 B. 16 C. 14 D. 21
37. 一个水池子，甲、乙两管同时开，5 小时灌满，乙、丙两管同时开，4 小时灌满。如果乙管先开 6 小时，还需要甲、丙两管同时开 2 小时才能灌满 (这时乙管关闭)，那么乙管单独灌满水池需要 () 小时。
- A. 15 B. 10 C. 20 D. 25
38. 125 名乒乓球运动员进行淘汰赛，最后决出冠军，共需打 () 场球。
- A. 124 B. 62 C. 98 D. 125
39. 有甲、乙两掘土机，甲每小时比乙多掘土 60 米³，现甲工作了 20 时，乙工作了 18 时，共掘土 10320 米³。问甲每小时掘土多少立方米？ ()
- A. 300 B. 240 C. 260 D. 280
40. 一批苹果平均分装在 20 个筐中，如果每筐多装 $\frac{1}{9}$ ，可省下 () 只筐。
- A. 3 B. 4 C. 2 D. 1
41. 小明爷爷的年龄是一个二位数，将此二位数的数字交换得到的数就是小明爸爸的年龄，又知道他们的年龄之差是小明年龄的 4 倍。求小明的年龄？ ()
- A. 8 岁 B. 12 岁 C. 10 岁 D. 9 岁

《2011 年公务员考试行测考试 100 套华图真题》

42. 某银行设立大学生助学贷款,分 3~4 年期,5~7 年期两种。贷款年利率分别为 6.03%、6.21%,贷款利息的 50%由国家财政贴补。某大学生预计 7 年后能一次性偿还 3 万元,问他现在大约可以贷款多少(精确到 0.1 万元)? ()

A. 2.5 万 B. 1.7 万 C. 2.3 万 D. 2.7 万

43. $1+2+3+4+5+6+\dots+20$ 的值是 ()。

A. 105 B. 210 C. 360 D. 189

44. $(36^2-18) \div 36$ 的值是 ()。

A. 20 B. 35.5 C. 19 D. 36

45. $793504+999999+999999$ 的值为 ()。

A. 2793502 B. 2793594 C. 2593520 D. 2593549

46. $895+896+897+898+899+900$ 的和为 ()。

A. 5375 B. 5385 C. 5355 D. 5185

47. 一个数是 $10\frac{1}{2}$, 另一个数比它小 2.75, 另一个数是多少? ()

A. 2.75 B. 7.55 C. 7.75 D. $10\frac{1}{2}$

48. 最大的四位数与最小的五位数相差多少? ()

A. 1 B. 10000 C. 1000 D. 1111

49. $(24 \times 0.8 \times 3.5) \div (7 \times 4.8 \times 16 \times 10)$ 的值为 ()。

A. 0.125 B. 0.0125 C. 1.25 D. 12.5

50. $18\frac{1}{4} \times 11\frac{4}{5} - 11\frac{4}{5} \times 17\frac{1}{4}$ 的值为 ()。

A. 1 B. $\frac{4}{5}$ C. $11\frac{4}{5}$ D. $1\frac{4}{5}$

51. 一个正方形边长增加 20%后, 它的面积增加百分之几? ()

A. 36% B. 40% C. 44% D. 48%

52. 今年, 小冬爸爸的年龄正好是小冬的 5 倍, 已知爸爸比小冬大 28 岁, 求小冬和他爸爸今年各多少岁? ()

A. 835 B. 735 C. 636 D. 836

53. 一个正方形操场, 面积为 2500 米^2 , 那么周长为 () 米。

A. 50 B. 100 C. 150 D. 200

54. 今有鸡兔同笼, 上有 35 个头, 下有 94 只脚, 问鸡兔各有多少只? ()

A. 鸡 23, 兔 12 B. 鸡 12, 兔 23 C. 鸡 21, 兔 9 D. 鸡 9, 兔 21

55. 有一条长 360 米的公路, 在路的一旁每隔 8 米种树一棵, 共需种树多少棵? ()

A. 45 B. 46 C. 47 D. 48

56. 两地相距 170 千米, 甲、乙两辆汽车同时从两地相向开出, 甲车每小时行 32 千米, 乙车每小时行 36 千米, 两车开出后几小时相遇? ()

A. 1.5 B. 2 C. 2.5 D. 3

57. 一件工程, A 单独做需 10 天完成, B 单独做需 15 天完成。两人合作需 () 天完成?

《2011 年公务员考试行测考试 100 套华图真题》

A. 10 B. 15 C. 6 D. 8

58. 已知 $a = b^2 + 1$, 且 a 的算术平方根为 3, 则 b 的值是:

A. $\pm 2\sqrt{2}$ B. $\pm \sqrt{10}$ C. $\pm 4\sqrt{3}$ D. 以上都不对

59. $54.54 - 0.87 - 3.54 + 7.96 - 0.13$ 的值与以下哪个数最接近:

A. 56.92 B. 56.95 C. 57.94 D. 57.99

60. 已知 $x = \frac{1}{49}$, $y = \frac{1}{7}$, 则 $7x - 3(\frac{2}{3}y^2 + \frac{1}{5}x) - (y^2 + \frac{2}{5}x) + 2y^2$ 的值是:

A. 0 B. 1 C. -1 D. $\frac{5}{49}$

61. 甲、乙、丙三人沿湖边散步, 同时从湖边一固定点出发。甲按顺时针方向行走, 乙与丙按逆时针方向行走, 甲第一次遇到乙后 $1\frac{1}{4}$ 分钟遇到丙, 再过 $3\frac{3}{4}$ 分钟第二次遇到乙。

已知乙的速度是甲的 $\frac{2}{3}$, 湖的周长为 600 米, 则丙的速度为:

A. 24 米/分 B. 25 米/分 C. 26 米/分 D. 27 米/分

62. 在一个长 16 米, 宽 12 米, 高 8 米的库房中最多可以装下多少只长 4 市尺, 宽 3 市尺, 高 2 市尺的箱子;

A. 1564 B. 1728 C. 1686 D. 1835

63. 甲容器中有浓度为 4% 的盐水 150 克, 乙容器中有某种浓度的盐水若干, 从乙中取出 450 克盐水, 放入甲中混合成浓度为 8.2% 的盐水。那么, 乙容器中的浓度是:

A. 9.6% B. 9.8% C. 9.9% D. 10.1%

64. 某城市共有四个区, 甲区人口数是全城的 $\frac{4}{13}$, 乙区的人口数是甲区的 $\frac{5}{6}$,

丙区人口数是前两区人口数的 $\frac{4}{11}$, 丁区比丙区多 4000 人, 全城共有人口:

A. 18.6 万 B. 15.6 万 C. 21.8 万 D. 22.3 万

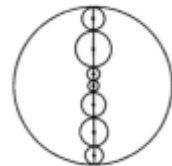
65. 某校的学生刚好排成一个方阵, 最外层的人数是 96 人, 问这个学校共有学生:

A. 600 人 B. 615 人 C. 625 人 D. 640 人

66. 如图所示, 以大圆的一条直径上的七个点为圆心, 画出七个圆的周长紧密相连的小圆。请问, 大圆的周长与大圆内部七个小圆的周长之和相比较, 结果是

A. 大圆的周长大于小圆的周长之和
B. 圆的周长之和大于大圆的周长
C. 一样长

D. 无法判断



67. 一辆汽车从 A 地到 B 地的速度为每小时 30 千米, 返回时速度为 20 千米, 则它的平均速度为: 每小时

《2011 年公务员考试行测考试 100 套华图真题》

A. 24 千米 / 小时 / 小时

B. 24.5 千米

C. 25 千米 / 小时

D. 25.5 千米 / 时

68. 商家对其新鲜葡萄进行减价促销活动, 规定每天比前一天减价 20%. 某人在出售的第二天买了 3 千克, 在出售的第三天又买了 5 千克, 两次共花了 42 元, 问如果这 8 千克葡萄第四天买只要:

A. 30.72 元

B. 31.64 元

C. 31.84 元

D. 32.08 元

69. 已知: 如图 $\triangle ABC$ 是等腰三角形, $AB = AC$, P 是 BC 上的任意一点, $PE \perp AC$, $PD \perp AB$, $BF \perp AC$, 则 $PE + PD$ 的长度之和与 BF 的长度关系为:

$PE + PD = BF$

$PE + PD > BF$

$PE + PD < BF$

不确定

70. 在直角三角形 ABC 中, 已知 $\angle ACB = 90^\circ$, $AC = 3$, $BC = 4$, PC 垂直于平面 ABC , 且 $PC = \frac{9}{5}$. 则点 P 到直线 AB 的距离为:

A. 2.6

B. 2.8

C. 3.2

D. 3

71. 如图, PA 、 PB 与圆相切于 A 和 B , C 是圆上的一点, 若 $\angle P = 80^\circ$, 则 $\angle ACB =$

45°

B. 50°

55°

D. 60°

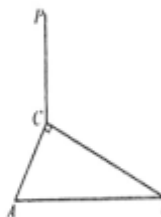
72. 用七条直线最多可画出几个不重叠的三角形?

A. 10 个

B. 11 个

C. 12 个

D. 13 个



数字运算 (数量关系) 答案

1-10: C、D、B、D、A、C、D、B、B、C

11-20: D、C、A、C、D、B、B、B、A、B

21-30: B、A、D、A、C、D、C、C、A、D

31-40: B、B、C、A、C、D、C、A、A、C

41-50: D、A、B、B、A、B、C、A、B、C

51-60: C、B、D、A、B、C、C、A、C、D

61-70: A、B、A、B、C、C、A、A、A、D

71-72: B、B

行政职业能力测验复习 - 事件排序

《2011 年公务员考试行测考试 100 套华图真题》

顶部

窗体底部

精彩世界杯 精彩进球视频

(在回答问题时,要根据自己的一般知识和对事件间的逻辑关系的理解做些补充或合理的假设,以填补缺欠的信息。)

每道题给出五个事件,每个事件是以简短语句表述的,接着给出四种假定发生顺序的数字序列,请你选择其中最合乎逻辑的一种事件顺序。

注意要以最少的假设来联系和安排这五个事件的发生顺序。

【例题】(1)收集书籍 (2)购买材料 (3)打造书架 (4)雇用木工 (5)排列书籍

A. 4-3-1-2-5 B. 1-4-2-3-5 C. 4-3-2-1-5 D. 3-2-1-5-4

【答案】 B

【解析】 此题正确答案为 B: 收集书籍(1)——雇用木工(4)——购买材料(2)——打造书架(3)——排列书籍(5),这一顺序相对于其它顺序而言最合理。

请开始答题:

1. ①月黑风高夜,杀人越货时 ②携宝乘孤帆,见财起贪念
③推司细思谋,悬赏擒疑凶 ④误事因贪杯,俯首供其罪
⑤浮尸漂江渚,惊煞夜路人

A. ①-②-⑤-③-④ B. ②-①-⑤-③-④
C. ②-①-④-③-⑤ D. ⑤-③-④-①-②

2. ①植被被破坏,黄河泛滥 ②改堵为疏,治黄根本
③泥沙沉积,水位上升 ④修筑堤坝,消除灾祸
⑤增高堤坝,遂成“悬河”

A. ②-①-③-④-⑤ B. ①-③-⑤-④-②
C. ②-④-①-③-⑤ D. ①-④-③-⑤-②

3. ①官中多谄媚,宁不事权贵 ②仗剑思报国,高歌盛唐情
③少时多乖蹇,老妪劝其行 ④寓情山水间,斗酒赋诗篇
⑤十载凤不鸣,一鸣震九鼎

A. ③-②-⑤-④-① B. ②-③-①-⑤-④
C. ③-⑤-②-①-④ D. ③-①-⑤-④-②

4. ①原恒星收缩,核反应开始,恒星发光
②恒星核收缩后最终爆炸,形成超新星,恒星结束
③恒星膨胀,发出红光,形成红巨星
④氢气耗尽,恒星核收缩,表面气体膨胀
⑤气尘云在自身引力作用下,形成原恒星

A. ③-②-⑤-①-④ B. ⑤-①-④-②-③

《2011 年公务员考试行测考试 100 套华图真题》

- C. ⑤ - ① - ④ - ③ - ② D. ⑤ - ④ - ② - ① - ③
5. ①艺术家对树根进行细致加工 ②发现奇形怪状的大块树根
③对根雕价款归属产生争议 ④经过法院协商调解解决
⑤根雕被拍卖, 价值 8 万元
A. ① - ② - ③ - ⑤ - ④ B. ② - ① - ③ - ⑤ - ④
C. ② - ① - ⑤ - ③ - ④ D. ② - ⑤ - ③ - ① - ④
6. (1) 某地风景秀丽 (2) 某地成为旅游胜地
(3) 政府决定开发旅游资源 (4) 投资修建旅游景点
(5) 吸引大批游客
A. 3—1—4—2—5 B. 1—5—3—2—4
C. 1—3—5—4—2 D. 1—3—4—2—5
7. (1) 鲜菜摆上货架 (2) 给西红柿浇水
(3) 建造玻璃暖房 (4) 给炉子添加煤炭
(5) 采摘成熟果实
A. 3—4—2—5—1 B. 5—1—3—2—4
C. 2—5—1—3—4 D. 1—2—3—5—4
8. (1) 有关部门将王村开辟为旅游景点
(2) 记者对王村的溶洞作了报道
(3) 王村的许多农民搞起了第三产业
(4) 王村发现了一个天然溶洞
(5) 许多人到王村来参观溶洞
A. 2—4—5—3—1 B. 4—1—5—2—3
C. 3—4—1—2—5 D. 4—2—1—5—3
9. (1) 同学们希望听到名家讲京戏
(2) 同学们对京戏有了更进一步的了解和喜爱
(3) 某高校开设了一门京剧课程
(4) 引起同学们极大兴趣
(5) 学校邀请著名京剧艺术家来校办讲座
A. 3—4—1—5—2 B. 2—5—4—1—3
C. 2—4—5—1—3 D. 3—2—4—1—5
10. (1) 足球滚入球门
(2) 对方前锋抬脚怒射
(3) 教练员愤怒地离开球场
(4) 报纸抨击球员打假球
(5) 守门员表现失常
A. 5—1—2—3—4 B. 2—5—1—3—4
C. 3—2—4—1—5 D. 1—4—5—3—2
11. (1) 记者与当事人电话联系
(2) 记者听说一件资助失学少年的事情
(3) 一篇感人的报道引起了反响
(4) 当事人不愿将自己的事情“曝光”
(5) 记者到学校进行调查和采访
A. 2—1—4—5—3 B. 3—4—5—1—2
C. 1—2—4—5—3 D. 2—5—3—4—1

《2011 年公务员考试行测考试 100 套华图真题》

12. (1) 大雁好几年未孵出雏雁
(2) 公园小岛上的雁卵常常被偷
(3) 大学生自愿为大雁巢值守
(4) 某企业捐资表彰大学生
(5) 小雁顺利诞生
A. 1—2—3—4—5 B. 1—2—3—5—4
C. 2—1—3—5—4 D. 2—3—5—1—4
13. (1) 推广可重复使用的竹筷 (2) 推广使用一次性木筷
(3) 对生产木筷作出限制 (4) 生产木筷出口创汇
(5) 森林资源日趋萎缩
A. 1—2—4—3—5 B. 2—4—5—3—1
C. 1—2—3—4—5 D. 2—4—3—5—1
14. (1) 攀登比斯特峰 (2) 与队伍失去联系
(3) 被采药人抬下山 (4) 遇到雪崩
(5) 昏迷冻伤
A. 1—2—4—3—5 B. 4—1—5—2—3
C. 1—4—2—5—3 D. 2—1—4—3—5
15. (1) 去钓鱼 (2) 发现很多蚯蚓
(3) 向朋友借渔具 (4) 挖坑栽树苗
(5) 改变计划
A. 4—3—1—2—5 B. 1—4—2—3—5
C. 4—2—5—3—1 D. 3—2—1—5—4
16. (1) 考古学家买了一个古陶器 (2) 一个古陶器被人发现
(3) 考古学家寻找一座古城堡 (4) 古陶器被卖给小贩
(5) 考古学家发现了一座古城堡
A. 2—4—1—3—5 B. 5—3—4—2—1
C. 1—2—4—5—3 D. 5—2—4—3—1
17. (1) 洗脸刷牙 (2) 吃早饭
(3) 起床 (4) 做早饭
(5) 出门上班
A. 3—4—2—1—5 B. 3—4—1—2—5
C. 5—4—3—2—1 D. 3—1—2—4—5
18. (1) 射门得分 (2) 玻璃被打碎
(3) 孩子们吓跑了 (4) 孩子们在踢足球
(5) 房屋主人寻找肇事者
A. 3—4—2—5—1 B. 5—2—3—1—4
C. 4—1—2—5—3 D. 1—4—2—5—3
19. (1) 中场才至 (2) 一人独往
(3) 久等不来 (4) 约好看电影
(5) 电影已开演
A. 4—3—2—1—5 B. 5—4—2—3—1
C. 4—3—2—5—1 D. 5—2—3—4—1
20. (1) 面试 (2) 岗前培训
(3) 上岗工作 (4) 通知录取

《2011 年公务员考试行测考试 100 套华图真题》

(5) 申请工作

- A. 5—1—4—2—3 B. 5—1—4—3—2
C. 1—2—3—5—4 D. 1—3—2—4—5

21. (1) 效益提高 (2) 政企分开

(3) 国力增强 (4) 上缴利税增多

(5) 企业活力增强

- A. 1—5—3—4—2 B. 3—4—1—5—2
C. 4—3—5—2—1 D. 2—5—1—4—3

22. (1) 打碎花瓶 (2) 父母回家

(3) 清理卫生 (4) 受到表扬

(5) 主动承认错误

- A. 3—2—5—1—4 B. 1—5—2—3—4
C. 1—2—3—5—4 D. 3—1—2—5—4

23. (1) 依法查处 (2) 牟取暴利

(3) 建筑物倒塌 (4) 判刑入狱

(5) 偷工减料

- A. 5—2—3—1—4 B. 2—3—1—4—5
C. 2—4—5—3—1 D. 1—4—3—2—5

24. (1) 小孩得救 (2) 追认烈士

(3) 楼房失火 (4) 冲入火海

(5) 伤重去世

- A. 4—3—1—5—2 B. 3—4—1—5—2
C. 2—3—1—5—4 D. 1—3—5—4—2

25. (1) 救治无效，家属告状 (2) 身患重病，借款购药

(3) 企业胜诉，报社致歉 (4) 药品鉴定，真伪不同

(5) 记者撰文，药厂蒙冤

- A. 2—4—1—5—3 B. 5—2—4—1—3
C. 2—1—5—4—3 D. 5—4—2—1—3

26. (1) 准备射门 (2) 恢复知觉

(3) 急救 (4) 防守队员犯规

(5) 比赛达到高潮

- A. 1—4—5—3—2 B. 5—1—4—3—2
C. 2—3—5—1—4 D. 3—1—5—4—2

27. (1) 中场才到 (2) 一人独往

(3) 久等不来 (4) 约好看电影

(5) 电影已开演

- A. 4—3—2—1—5 B. 5—4—2—3—1
C. 4—3—2—5—1 D. 5—2—3—4—1

28. (1) 点火 (2) 倒计时

(3) 腾空而起 (4) 准备就绪

(5) 进入预定轨道

- A. 2—1—5—4—3 B. 5—4—3—2—1
C. 4—2—1—3—5 D. 1—2—4—3—5

29. (1) 小孩得救 (2) 追认烈士

《2011年公务员考试行测考试100套华图真题》

- (3) 楼房失火 (4) 冲入火海
(5) 伤重去世
A. 4-3-1-5-2 B. 3-4-1-5-2
C. 2-3-1-5-4 D. 1-3-5-4-2
30. (1) 下岗 (2) 优化组合
(3) 设备更新 (4) 重新上岗
(5) 学习新技能
A. 3-2-1-5-4 B. 2-1-3-4-5
C. 1-2-4-5-3 D. 4-5-1-3-2
31. (1) 考古挖掘 (2) 绘制壁画 (3) 建造陵墓 (4) 拼接图案 (5) 盗墓取宝
A. 3-5-1-2-4 B. 3-2-5-1-4
C. 2-3-4-5-1 D. 2-3-5-1-4
32. (1) 救治无效, 家属告状 (2) 身患重病, 借款购药 (3) 企业胜诉, 报社致歉 (4) 药品鉴定, 真伪不同 (5) 记者撰文, 药厂蒙冤
A. 2-4-1-5-3 B. 5-2-4-1-3
C. 2-1-5-4-3 D. 5-4-2-1-3
33. (1) 绿叶葱葱, 森林茂密 (2) 厂房林立, 马达轰鸣 (3) 钻机飞转, 原油滚滚 (4) 燃气发电, 远程送电
(5) 阳光明媚, 百花齐放
A. 3-4-5-1-2 B. 5-4-1-2-3
C. 1-2-3-4-5 D. 5-1-3-4-2
34. (1) 融入异族自谋出路 (2) 一支残部向西突围 (3) 跨过界河向北征战 (4) 战火熄灭回国通商
(5) 青年男子被征入伍
A. 3-5-2-1-4 B. 3-2-1-4-5
C. 5-2-3-4-1 D. 5-3-2-1-4
35. (1) 嫌疑人聚焦在印刷厂一名职工身上 (2) 死者所穿衣服完好无损 (3) 工作服前襟上有一块补丁 (4) 战火熄回国通商 (5) 青年男子被征入伍
A. 2-5-1-4-3 B. 2-5-4-3-1
C. 5-2-4-1-3 D. 5-2-3-4-1
36. (1) 大量有机物积聚 (2) 形成石油 (3) 复杂的化学变化 (4) 剧列的质变化 (5) 古浮游生物残骸沉积海底
A. 1-5-3-4-2 B. 5-4-1-2-3
C. 3-1-2-5-4 D. 1-2-3-4-5
37. (1) 诸葛亮显示出卓越的军事才华 (2) 三顾茅庐 (3) 刘备拜诸葛亮为军师 (4) 赤壁之战大败曹军
(5) 提出三分天下战略
A. 1-4-5-2-3 B. 5-4-3-2-1
C. 2-5-3-4-1 D. 1-2-3-4-5
38. (1) 商品经济出现 (2) 资本主义生产方式产生 (3) 生产力发展 (4) 资本原始积累 (5) 地球生物圈
A. 1-5-3-4-2 B. 3-4-2-5-1
C. 3-5-1-4-2 D. 1-2-3-5-4
39. (1) 生命单体 (2) 原始水生物 (3) 生物大分子 (4) 简单有机物 (5)

《2011 年公务员考试行测考试 100 套华图真题》

地球生物圈

A 4-1-2-3-5 B 3-2-4-5-1

C 4-3-1-2-5 D 3-4-2-1-5

40 (1) 工人失业增多 (2) 自由竞争 (3) 劳动生产率提高 (4) 贫富差距加大 (5) 采用先进生产技术

A 5-3-2-4-1 B 2-5-3-1-4

C 5-2-3-4-1 D 1-2-5-3-4

事件排序 (判断推理) 答案:

1-10: B、D、C、C、C、D、A、D、A、B

11-20: A、C、B、C、C、A、B、C、C、A

21-30: D、D、A、B、C、B、C、C、B、A

31-40: B、C、D、D、C、D、C、C、C、B

行政职业能力测验复习 - 类比推理

每道题给出一对相关的词, 然后要求考生在备选答案中找出一对与之在逻辑关系上最为贴近或相似的词。

【例题】努力 : 成功

A. 生根 : 发芽 B. 耕耘 : 收获

C. 城市 : 乡村 D. 原告 : 被告

【解答】此题的正确答案为 B。

题干中的两个词具有某种条件 (或因果) 关系, 即只有努力才能成功或者说努力是成功必不可少的原因之一。

请开始答题:

1. 义工 : 职员

A. 球迷 : 球员 B. 学生 : 教师

C. 初学者 : 生手 D. 志愿者 : 雇员

2. 努力 : 成功

A. 生根 : 发芽 B. 耕耘 : 收获

C. 城市 : 乡村 D. 原告 : 被告

3. 锯子 : 木头

A. 窗户 : 玻璃 B. 刀片 : 铅笔

C. 剪刀 : 布匹 D. 牙膏 : 牙刷

4. 售货员 : 顾客

A. 董事长 : 经理 B. 作家 : 读者

C. 政府 : 官员 D. 江苏 : 园林

5. 风俗 : 习惯

A. 男生 : 女生 B. 青年 : 男人

C. 江苏 : 泰州 D. 跳跃 : 动作

6. 温度计 : 气温

A. 南京 : 江苏 B. 饮料 : 矿泉水

C. 愉快 : 高兴 D. 磅秤 : 重量

7. 射击 : 手枪

《2011 年公务员考试行测考试 100 套华图真题》

- A. 投掷：石头 B. 个性：温和
C. 小桥：流水 D. 追求：光明
8. 熊猫：动物
A. 中国：国家 B. 植物：药材
C. 楚国：赵国 D. 数学：几何
9. 杀人：犯罪
A. 书法：艺术 B. 美丽：漂亮
C. 鲁迅：周树人 D. 历史：通史
10. 番茄：西红柿
A. 泰州：南京 B. 亚洲：欧洲
C. 菠萝：凤梨 D. 果酱：柑桔
11. 自行车：公路
A. 河流：芦苇 B. 飞机：天空
C. 城市：农村 D. 家具：灯具
12. 聊斋志异：蒲松龄
A. 吴承恩：西游记 B. 水浒：施耐庵
C. 黄飞虎：封神演义 D. 王勃：长恨歌
13. 红薯：地瓜
A. 铅笔：钢笔 B. 土豆：马铃薯
C. 苹果：水果 D. 扬子江：黄河
14. 老师：学生
A. 水杯：玻璃杯 B. 医生：病人
C. 电脑：计算机 D. 苏州：常州
15. 面粉：小麦
A. 大米：稻谷 B. 桔子：葡萄
C. 饼干：面粉 D. 罐头：菠萝
16. 雨果：法国
A. 园林：苏州 B. 德国：希特勒
C. 马克·吐温：美国 D. 长城：中国
17. 勤奋：成功
A. 失败：胜利 B. 破坏：损坏
C. 懒惰：灾难 D. 耕耘：收获
18. 书籍：纸张
A. 毛笔：宣纸 B. 文具：文具盒
C. 菜肴：萝卜 D. 飞机：大炮
19. 红孩儿：西游记
A. 水浒传：林冲 B. 蒲松龄：聊斋志异
C. 黄飞虎：封神演义 D. 红楼梦：林黛玉
20. 馒头：食物
A. 食品：饼干 B. 头：身体
C. 手：食指 D. 钢铁：金属
21. 水：龙头
A. 电：电线 B. 电：开关
C. 电：发电 D. 电：电灯

《2011 年公务员考试行测考试 100 套华图真题》

22. 稠密：稀疏

A. 宽敞：明亮 B. 词语：词汇

C. 伟大：平凡 D. 酷热：炎热

23. 节约：浪费

A. 成功：失败 B. 进：让

C. 软：弱 D. 复杂：深奥

24. 比尔盖茨：微软

A. 爱因斯坦：相对论 B. 法拉第：汽车

C. 牛顿：蒸汽机 D. 史蒂芬孙：蒸汽机车

25. 三令五申：孙武

A. 以卵击石：孔子 B. 欺世盗名：班固

C. 鹿死谁手：曹操 D. 退避三舍：重耳

26. 茄子：蔬菜

A. 马铃薯：土豆 B. 工人：农民

C. 猫：动物 D. 花菜：大白菜

27. 画圣：吴道子

A. 武圣：张飞 B. 医圣：华佗

C. 酒圣：杜康 D. 茶圣：陆游

28. 《静夜思》：李白

A. 《示儿》：辛弃疾 B. 《春日》：朱熹

C. 《清明》：王安石 D. 《题西林壁》：苏彻

29. 世界环境日：6 月 5 日

A. 地球日：4 月 22 日 B. 中国植树节：3 月 1 日

C. 世界无烟日：5 月 30 日 D. 世界艾滋病日：2 月 1 日

30. 上海：沪

A. 河南：豫 B. 福建：鲁

C. 江西：皖 D. 河北：赣

31. 马：牲畜

A. 蜘蛛：琥珀 B. 南瓜：瓜农

C. 铁：金属 D. 布：纺织

32. 面粉：馒头

A. 鱼：池塘 B. 鸡蛋：母鸡

C. 米：米饭 D. 茶叶：茶水

33. 黑龙江：哈尔滨

A. 湖北：湖南 B. 海南：海口

C. 四川：重庆 D. 青海：银川

34. 杭州：西湖

A. 长城：北京 B. 无锡：太湖影视城

C. 杭州：留园 D. 青岛：趵突泉

35. 聪明：愚笨

A. 强壮：瘦弱 B. 新鲜：健康

C. 黑暗：亮光 D. 水：土

36. 温暖：暖和

A. 镇定：冷默 B. 夸奖：批评

《2011年公务员考试行测考试 100 套华图真题》

- C. 珍贵：贵重 D. 愉快：烦恼
37. 士别三日：吕蒙
- A. 窃符救赵：信陵君 B. 奇货可居：张骞
- C. 纸上谈兵：关羽 D. 一发千钧：王安石
38. 车厢：火车
- A. 手指：身体 B. 花架：花盆
- C. 课本：书包 D. 茶叶：开水
39. 资治通鉴：司马光
- A. 史记：司马迁 B. 汉书：班超
- C. 论语：孔子 D. 春秋：老子
40. 本是同根生，相煎何太急：曹植
- A. 儿童相见不相识，笑问客从何处来：贺知章
- B. 羌笛何须怨杨柳，春风不度玉门关：李白
- C. 野旷天低树，江清月近人：孟浩然
- D. 空山不见人，但闻人语响：白居易
41. 山城：重庆
- A. 羊城：银川 B. 泉城：青岛
- C. 雾城：伦敦 D. 成都：花城
42. 水：火
- A. 大：强 B. 苦：辣
- C. 多：少 D. 笨：拙
43. 思考：思索
- A. 支持：反对 B. 谦虚：谨慎
- C. 鄙视：赞许 D. 奔跑：奔走
44. 衣服：人
- A. 羽毛：鸟 B. 捕食：动物
- C. 水：鱼 D. 勋章：军服
45. 负荆请罪：廉颇
- A. 天涯海角：李白 B. 中饱私囊：和绅
- C. 一丘之貉：曹操 D. 洛阳纸贵：左思
46. 老三界：陆定一
- A. 巴黎圣母院：大仲马 B. 红与黑：雨果
- C. 人间喜剧：马克·吐温 D. 安娜·卡列尼娜：列夫·托尔斯泰
47. 张家界：湖南
- A. 九寨沟：贵州 B. 黄果树瀑布：贵州
- C. 黄山：海南 D. 华山：北京
48. 鲁智深：《水浒传》
- A. 红娘：《白蛇传》 B. 姜子牙：《西游记》
- C. 刘备：《三国演义》 D. 司马迁：《史记》
49. 瓷都：景德镇
- A. 陶都：宜兴 B. 煤都：大同
- C. 钢都：宝山 D. 盐都：商丘
50. 苏东坡：宋代
- A. 韩愈：唐代 B. 王安石：唐代

《2011 年公务员考试行测考试 100 套华图真题》

- C. 白居易：宋代 D. 杨万里：唐代
51. 春分：谷雨
- A. 小满：芒种 B. 处暑：秋分
- C. 大暑：立秋 D. 大雪：大寒
52. 但丁：《神曲》
- A. 拉伯雷：《巨人传》 B. 屠格涅夫：《猎人笔记》
- C. 惠特曼：《草叶集》 D. 雨果：《巴黎圣母院》
53. 鱼：卵
- A. 师傅：徒弟 B. 鸟：蛋
- C. 狮子：母狮 D. 机枪：子弹
54. 孔乙己：鲁迅
- A. 水浒传：鲁智深 B. 鲁迅：闰土
- C. 红粉世家：张恨水 D. 贾宝玉：曹雪芹
55. 丝线：刺绣
- A. 中国：国家 B. 瓷砖：镶嵌
- C. 山脉：山峦 D. 书：书籍
56. 紫竹：物学家
- A. 金属：非金属 B. 直接经验：间接经验
- C. 动物：植物 D. 蝴蝶：昆虫学家
57. 瓷器：黏土
- A. 花朵：芳香 B. 喜讯：开心
- C. 米酒：粮食 D. 名人：默默无闻
58. 普陀山：浙江
- A. 龙虎山：江西 B. 衡山：湖南
- C. 泰山：山东 D. 九华山：安徽
59. 春秋：孔子
- A. 南明：朱熹 B. 南宋：程颐
- C. 南唐：董仲舒 D. 南汉：黄宗羲
60. 森林：树林
- A. 头：身体 B. 花：菊花
- C. 山脉：山 D. 身体：身躯
61. 皮带：带扣
- A. 鞋子：鞋带 B. 子弹：步枪
- C. 手套：围巾 D. 帽子：头发
62. 啤酒：杯子
- A. 漏斗：木桶 B. 电灯：插座
- C. 眼镜：镜盒 D. 象棋：棋盘
63. 售货员：顾客
- A. 学校：学生 B. 奶奶：孙子
- C. 医生：病人 D. 工人：机器
64. 李时珍：《本草纲目》
- A. 孔子：《论语》 B. 孙武：《孙子兵法》
- C. 周瑜：《公羊传》 D. 诸葛亮：《东周列国志》
65. 出席：缺席

《2011 年公务员考试行测考试 100 套华图真题》

- A. 左：右 B. 敌人：邻居
C. 悲观：悲伤 D. 朝气：傍晚
66. 抱怨：埋怨
A. 胆怯：怯弱 B. 真挚：虚假
C. 精确：近似 D. 隐蔽：公开
67. 完璧归赵：蔺相如
A. 勾践：卧薪尝胆 B. 身在曹营：周瑜
C. 高枕无忧：孙权 D. 呆若木鸡：秦王
68. 家祭无忘告乃翁：陆游
A. 每逢佳节倍思亲：王维 B. 一片冰心在玉壶：冰心
C. 不知明镜里：李白 D. 润物细无声：杜牧
69. 长江：亚洲
A. 尼罗河：非洲 B. 亚马逊河：北美洲
C. 莱茵河：澳洲 D. 阿尔卑斯山：北美洲
70. 自然灾害：海啸
A. 生物：牛 B. 省会城市：重庆
C. 篮球：比赛 D. 轻工业：采矿业
71. 猪：猪腿树：（ ）
A. 果树 B. 绿色
C. 草地 D. 树枝
72. 中国：北京
A. 日本：东京 B. 美国：纽约
C. 泰国：老挝 D. 西班牙：海牙
73. 香蕉：水果
A. 高山：天山 B. 树枝：树木
C. 黄梨：香梨 D. 桌子：家具
74. 荷花：芙蕖
A. 嫦娥：月亮 B. 住宅：高楼
C. 兄弟：姐妹 D. 寺庙：伽蓝
75. 面条：食物
A. 苹果：水果 B. 手指：身体
C. 菜肴：萝卜 D. 食品：巧克力
76. 香瓜：木瓜
A. 绿豆：豌豆 B. 松鼠：树林
C. 鲨鱼：鲸鱼 D. 家具：灯具
77. 铅笔：笔
A. 馒头：食物 B. 食品：饼干
C. 头：身体 D. 金属：钢铁
78. 售货员：顾客
A. 董事长：经理 B. 作家：读者
C. 政府：官员 D. 江苏：园林
79. 南京：江苏
A. 石家庄：河北 B. 渤海：中国
C. 泰州：江苏 D. 秦岭：淮河

《2011 年公务员考试行测考试 100 套华图真题》

80. 易卜生：玩偶之家

- A. 堂吉诃德：塞万提斯 B. 闰土：鲁迅
C. 欧?亨利：麦琪的礼物 D. 宋江：水浒传

81. 兄弟：手足

- A. 父母：昆仲 B. 夫妻：配偶
C. 妇女：须眉 D. 男子：巾帼

82. 锯子：木头

- A. 窗户：玻璃 B. 刀片：铅笔
C. 剪刀：布匹 D. 牙膏：牙刷

83. 佛教：印度

- A. 基督教：罗马 B. 儒教：中国
C. 伊斯兰教：古兰经 D. 锡克教：瑞士

84. 火把节：风俗

- A. 泼水节：傣族 B. 端午节：屈原
C. 元旦：节日 D. 国庆：祝福

85. 马铃薯：土豆

- A. 地瓜：红薯 B. 西红花：玫瑰
C. 甘蓝：大白菜 D. 杨花：柳絮

86. 逗号：中止

- A. 拂晓：黎明 B. 节省：吝啬
C. 回车：换行 D. 好像：好比

87. 红楼梦：林黛玉

- A. 孙悟空：西游记 B. 罗贯中：三国演义
C. 水浒传：宋江 D. 聊斋志异：蒲松龄

类比推理（判断推理）答案：

1. D 2. B 3. C 4. B 5. D 6. D 7. A 8. A 9. A 10. C 11. B 12. B 13. B 14. B 15.
A 16. C
17. D 18. C 19. C 20. D 21. B 22. C 23. A 24. A 25. D 26. C 27. C 28.
B 29. A 30. A
31. C 32. C 33. B 34. B 35. A 36. C 37. A 38. A 39. A 40. A 41. C 42.
C 43. D 44. A
45. D 46. D 47. B 48. C 49. A 50. A 51. B 52. A 53. B 54. D 55. B 56.
D
57. C 58. D 59. B 60. C 61. A 62. C 63. C 64. B 65. A 66. A 67. A 68.
A 69. A 70. A
71. D 72. A 73. D 74. D 75. A 76. A 77. A 78. B 79. A 80. C 81. B 82. C 83. B
84. C 85. C 86. C 87. C

《2011 年公务员考试行测考试 100 套华图真题》

窗

体时间：2006 年 10 月 26 日
顶11:08



我来说两句

Sogou 搜狗

搜索

窗体底部

部

精彩世界杯 精彩进球视频

每道题先给出一个概念的定义，然后分别列出四种行为，要求你严格依据定义从中选出一个最符合或最不符合定义的答案。注意：假设这个定义是正确的，不容置疑的。

例题：

服从：指在他人命令域要求下所实现的自己本来不愿做的行为，亦即按他人旨意行事。

根据此定义，下列哪一项属于服从：

- A. 他按照图纸说明组装了一台电视机。
- B. 大家一致推举他做班

长，他只好做了。

- C. 经他人提醒，小王才想起自己有件事才做了一半，得马上完成它。
- D. 小王星期日携妻子逛街购物。

解答：严格依据定义进行衡量，此题的正确答案为 B。

请开始答题：

1. 抽象行政行为，是指由行政主体针对不特定的行政相对人，单方作出的具有普遍约束力的行政行为。根据以上定义，下列属于抽象行政行为的是：

- A. 工商局对某企业的处罚决定
- B. 行政机关购买办公用品
- C. 县级人民政府制定规范性文件
- D. 人民法院执行行政法规关于处罚的决定

2. 我国《刑法》第 25 条第 1 款规定：共同犯罪是指二人以上共同故意犯罪，根据以上定义，下列属于共同犯罪的是：

A、甲、乙两人共谋要给丙一点教训，在去丙家的路上，乙因为家中有急事而返回家中，甲仍然入室殴打丙。

B. 甲欲杀乙，故意将装好子弹的枪支给丙，并骗丙说是空枪，叫丙向乙瞄准恐吓乙，结果枪走火乙中弹身亡。

C、两辆汽车相撞后一同冲向路边压死行人。

D. 甲、乙合谋抢劫丙的录音机，甲先将丙打伤，乙趁机将录音机枪走。

3、健康：指一个智力正常，行为合乎情理，能够适应正常工作、社会交往或者学习，能够抵御一般疾病。根据健康的定义，下列属于健康的是：

A. 大学教授老李，虽然 50 多岁但工作起来仍然精力充沛，在今年春天患过流感。

《2011 年公务员考试行测考试 100 套华图真题》

B. 张婶 19 岁的儿子肖聪, 读书 11 年还是小学二年级水平, 但是从小到大没生过什么大病, 体力活可以干得很好。

C. 小胡硕士毕业后, 工作表现一直很优秀。自一次事故后, 当工作压力比较大的时候就会精神失常。

D. 小刘身体很好, 工作非常努力, 孝敬父母, 但是很多同事说他古怪, 不愿与其交往。

4、正当防卫, 是指为了使国家、公共利益, 本人或者他人的人身、财产和其他权利免受正在进行的不法侵害, 而对不法侵害者所实施的有限度的行为。根据以上定义, 下列属于正当防卫的是:

A. 甲持刀抢劫乙的财物, 乙奋起反击搏斗夺下甲的刀, 并将甲腿刺伤, 甲动弹不得, 随后乙用刀将甲杀死。

B. 甲在公共场合多次扬言, 要杀死乙, 乙听后既气愤又害怕, 就决定先下手为强, 乘甲不备时将其杀死。

C. 甲处心积虑想谋害乙且又苦于没有借口, 一日甲见到乙, 就用辱骂等方式挑逗, 引诱乙先动手, 乙动手后甲拿出事先准备好的菜刀将乙杀死。

D. 某晚, 小红遭遇抢劫, 抢劫犯手持匕首, 扬言如不交出钱财就要杀人, 小红不得已交出身上的钱包, 当抢劫犯低头数钱时, 她拾起一块砖头砸晕了抢劫犯, 然后拿起自己的钱包离开现场。后来获知抢劫犯因抢救无效死亡。

5、社区是指人们共同生活的一定区域, 也称为占有一定地域的人口集中体, 它由五个要素组成, 分别是人口、地域、制度、政策和机构。根据以上定义, 下列哪一项不属于社区?

A. 工厂 B. 公园 C. 学校 D. 居委会

6、演绎, 是从某些一般性规律出发, 并将其运用于特殊事件。下列哪一项属于演绎?

A. 孙华比王刚高, 王刚比李健高, 因此孙华比李健高。

B. 北方人比南方人的身材高大, 这是生活条件差异造成的

C. 市场比集市大, 集市比市场小。

D. 发达国家的人均 GDP 都高于中国, 加拿大是发达国家, 所以加拿大的人均 GDP 也高于中国。

7、无因管理, 是债发生的一种依据, 它是指没有法定的或约定的义务, 为避免他人受到损失而进行管理和服务的行为。根据以上定义, 下列情况中发生无因管理之债的是:

A. 未受委托, 为他人代收货物 B. 未受委托, 代他人放弃继承权

C. 路遇自杀者进行抢救 D. 受人委托, 代人看管家禽

8. 不当得利, 是指没有法律和合同上的根据而受利益, 致使他人受到损失。按法律规定, 受损失的一方有请求不当得利人返还所得到的利益的权利。而不当得利人有返还利益的义务, 据此定义, 下列属于不当得利的是:

A. 债务人清偿未到期的债务

B. 顾客多付售货员的货款

C. 给付因赌博而输的钱

D. 养子女给其生父母的赡养费

9. 非程序化决策: 指管理者在计划管理中对不经常出现的新问题所进行的非常规的决策。根据上述定义, 下列属于非程序化决策的是:

A. 制定工资定额 B. 确定年终奖的分配方法

《2011 年公务员考试行测考试 100 套华图真题》

C. 确定产品的销售价格 D. 决定是否要跨行业经营

10. 诬告陷害罪是指以陷害他人受刑事处罚为目的,捏造事实,伪造证据。向有关机关虚假告发的行为。根据上述定义,下列行为不属于诬陷罪的是:

- A. 为了报复王某的无情无意,孙某无中生有.向公安机关说王某强奸了她
- B. 为了整垮别人,孙某向检察机关举报总经理有重大经济问题,但经检察机关审查,总经理并无经济问题
- C. 张某多次绘声绘色造谣葛某与孙某有不正当的男女关系,结果造成葛某夫妻关系破裂
- D. 为了报复,钱某谎称自己家里的财物被盗,并向公安机关提供蒋某有重大嫌疑的假线索

11. 价格需求弹性:指需求对价格变动的反应程度或敏感程度,其大小以系数 $E_p = \text{需求变动}(\%) \div \text{价格变动}(\%)$ 的绝对值来表示。根据上述定义,下面哪一种说法是正确的?

- A. 当需求价格弹性系数 $E_p > 1$ 时,表示价格的变化会引起需求量较大幅度的变化
- B. 当 $E_p = 1$ 时,表明价格变动对需求量变动的影响很小,因而可以尽可能提价销售
- C. E_p 的大小实际上反应了需求对成本变动的敏感程度
- D. 根据供求规律,不可能存在 $E_p < 1$ 的商品

12. 类比推理:指根据两个对象在一系列上是相同的,而且已知其中一个还具有其他属性,由此推出另一个对象也具有相同的其他属性的结论。根据上述定义,下列属于类比推理的是:

- A. 水星、金星、地球、火星、木星都是沿椭圆形轨道绕太阳运行的,所以所有的太阳系大行星都是沿椭圆轨道绕太阳运行的
- B. 美国加利福尼亚州与我国南方地区的自然环境相似,我国南方地区适合于种植柑橘,所以美国加利福尼亚州也适合于种植柑橘
- C. 只有建立必要的规章制度,生产才能顺利进行。A 工厂的生产没有顺利进行,所以该工厂一定没有建立起必要的规章制度
- D. 我们反对一切不正之风,以权谋私是不正之风,所以,我们反对以权谋私

13. 妨害公务罪:指以暴力威胁的方法,阻碍国家工作人员执行公务的行为。根据上述定义。下列行为属于妨害公务罪的是:

- A. 某公安人员骑车上街买东西时,与一人相撞,被撞者怒气冲冲,揪住公安人员不放,引起众人围观,严重影响了交通秩序
- B. 某检察院检察员小刘在侦查一起贪污案时,被该案嫌疑犯吴某的家属围攻、谩骂、殴打,并扬言若继续调查就将小刘家的房子砸烂
- C. 某公司会计叶某被告犯有贪污罪,检察人员到叶某公司查账,检察员杨某因为生气将一本账本的封页撕碎了,叶某公司的经理对此十分不满,与杨某争吵并收回了账本
- D. 胡某是一名个体户,因偷税而被罚款,为此胡某非常痛恨税务干部。一天胡某纠集了几个流氓,找到税务所干部董某家,将其家的门窗玻璃全部砸碎后扬长而去

14. 事实婚姻:指男女双方虽未办理结婚登记,但符合结婚实质条件,并且以夫妻名义同居生活所形成的男女关系。所谓结婚实质条件包括法定条件和禁止条件,前者指双方自愿、达到法定婚龄、一夫一妻(第二项可随着时间变化而由

《2011 年公务员考试行测考试 100 套华图真题》

不具备变为具备);后者指直系血亲 and 三代以内的旁系血亲以及患有医学上认为不应当结婚的疾病。这种婚姻形式同时要求当事人双方必须具有终生共同生活的意思,并以夫妻名义公开共同生活,群众也认为是夫妻关系,否则仍不能认为其有效。

以下属于事实婚姻的是()。

A. 李云与程红结婚时身体健康,但程红只有 18 岁,而且两人只举行了简单婚礼,并未去登记;5 年后,两人欲离婚,此时两人的婚姻关系

B. 赵飞与黄花系同年表兄妹,自小青梅竹马,两人于 25 岁时在某教堂举行了隆重婚礼,亲朋好友纷纷到场祝贺,二人因嫌麻烦就未到婚姻登记机关办理结婚证

C. 史密斯系英籍华人,在英已结婚,后在中国结识了中国姑娘陶莹,二人共坠爱河,遂同居在一起,周围邻居均认为他们是一对非常般配的夫妻

D. 卢雄与张咪大学时曾是公开的恋人,毕业后即同居在一起,但后来卢雄想与张咪分手,张咪多次以死相威胁,卢无奈,只有和张继续一起生活,并在某市一起办理了结婚登记

15. 时效取得领土:指国际法上一国凭借非武力手段长期不间断和公开地占有和统治他国部分领土而取得该部分领土的主权,这种行为并不以“善意”为条件,即使最初是不正当地或非法地占有他国的部分领土。但这种做法只限于解决历史遗留问题,20 世纪八九十年代之后不再适用。

以下取得领土方式属于时效取得领土的是()。

A. 甲国东部有一片面积约 1 万平方公里的荒地无人居住,但历史上一直处于其管辖范围内。“一战”期间,与其邻接的乙国通过逐步定居方式占有该荒地,甲国一直未提出异议

B. 丙国南部有面积 8 万平方公里的领土,丁国凭借强大的经济实力作后盾,于 1815 年通过领土买卖正式将此地划入自己版图

C. 戊国于 1905 年在枪炮的掩护下强行侵占己国的一个岛屿,己国奋起反抗,但最终失败

D. 庚国在 18 世纪发现了西太平洋深处的一个面积为 6000 平方公里的岛屿,遂派兵占领,并迁移居民到此定居

16. 窝藏、包庇罪:指非共同犯罪人明知他人犯罪,而为其提供隐藏处所、财物,帮助其逃匿或者作假证明包庇的行为:

以下属于窝藏、包庇罪的是()。

A. 张老汉亲眼目睹一青年人在夜晚杀死一年轻姑娘,后在法庭作证中,他害怕犯罪嫌疑人事后报复,遂说他在白天看到的杀人情景,结果该青年在该时段有不在场的证明,最终被无罪释放

B. 李老太的儿子酒后开车撞死了人,神情紧张地跑回家中。李老太问明情况下,遂和儿子一起擦洗了汽车上的血迹,并拿出三千块钱让其到外地躲避风头

C. 秦某、李某共谋去窃取一家珠宝店,后二人分工,由秦某去准备逃往处省的车辆及假身份证,而身手灵活的李某则入室行窃,后二人得手,秦某开车将李某送出本地

D. 黄女士一天早晨发现门口趴着一个浑身尘土、发着高烧的流浪汉,出于好心,将其扶进屋内,并和丈夫一起照料。后该人恢复健康,千恩万谢下拿着两人义赠的 500 块钱远走高飞。翌日,两人通过电视发现此人乃是公安部通缉的要犯

17. 演绎作品:又称派生作品,指在已有作品的基础上,经过改编、翻译、

《2011 年公务员考试行测考试 100 套华图真题》

注释、整理等创造性劳动而产生的作品。改编，是指改变作品，创作出具有独创性的新作品；翻译，是指将作品从一种语言文字转换成为另一种语言文字；注释，是指对文字作品中的字、词、句进行解释；整理，是指对内容零散、层次不清的已有文字作品或材料进行条理化、系统化的加工。

以下不属于演绎作品的是（ ）。

- A. 《〈红楼梦〉精典诗句评析》
- B. 《巴黎圣母院》日文版
- C. 《三个火枪手》电影剧本
- D. 《〈古文观止〉难点词汇释义》

18. 上诉：指因民事、行政诉讼当事人或刑事诉讼被告人不服各级审判机关生效的第一审裁定、判决而在法定期间内向上级审判机关提起诉讼、请求改判的诉讼程序。

下列属于上诉的是（ ）。

- A. 胡某与刘某因债务纠纷诉至林阳区基层人民法院，一审结束后，两人均无异议。一年后，刘某发现了新的证据，遂再次提起诉讼
- B. 吴某一审中被认定为故意伤害罪既遂，判处有期徒刑 1 年，检察院认为刑罚太轻，于是要求上级人民法院重新审理
- C. 陈某因不服公安机关对其行政拘留的处罚而提起诉讼，一审后，公安机关认为法院判决不当，在两日后向上级人民法院提出重新审理的要求
- D. 卜某因与邻居发生纠纷而持刀砍伤了邻居，后派出所违反治安管理规定为由处罚了卜某，卜某对该处罚不满，遂要求公安局重新作出决定

19. 电子商务：是指通过数字通讯进行商品和服务的买卖以及资金的转账。

下列不属于电子商务的是（ ）。

- A. 新浪网每天向人们提供大量的商品信息
- B. 企业与企业之间通过网络银行实现转账支付
- C. 微软公司建立自己的主页，提供网上订购电脑软件业务
- D. 亚马逊网上书店在网络上接受订单，但通过邮寄的方法交付产品

20. 马太效应：指社会对已经出名（得到社会承认）的人才，给予愈来愈多，而对不出名的人才，则连应该给予也不给予的现象。

下列不属于马太效应的是（ ）。

- A. 社会对已成名的科学家，不断地加给他们各种头衔、名誉和各种优厚待遇
- B. 某科学院院士成名后仍刻苦求进，不断攻克科学难题，获得很大成功
- C. 许多科学家没有成名以前，论文无处发表，成果无人承认，甚至生活无所着落
- D. 当一个知名教授与一个学生争执不下时，人们总是相信教授是对的

21. 企业倒闭：指企业经济状况恶化，产品销售困难或没有销路，货款收不回来，不能支付工人工资和原材料费，不能偿还银行到期贷款，从而使企业不能再继续营业。

下列不属于企业倒闭主要原因的是（ ）。

- A. 企业投放的资本被工厂的机器、设备、原材料和库存产品等长期占用而造成资金周转不灵
- B. 投资和技术开发失败，销售呆滞和发生劳资纠纷
- C. 银行不信任而对企业停止支援
- D. 企业领导离婚了

22. 卡特尔：垄断组织形式之一，指同一生产部门的资本主义企业，以获取垄断高额利润加强自己在竞争中的地位为目的，彼此之间签订关于销售市场、商

《2011 年公务员考试行测考试 100 套华图真题》

品产量和商品价格的一种垄断联合。

下列不属于卡特尔的一项是 ()。

A. 各生产者签订协议, 规定销售市场

B. 各生产者签订协议, 规定销售价格

C. 各生产者签订协议, 规定生产和销售商品的一定数量, 并要求每个参加者遵守

D. 迫于成本核算, 各商家停止了打折竞争

23. 公共政策是以政府为主的公共机构, 为确保社会朝着政治系统所确定、承诺的正确方向发展, 通过广泛参与和连续的抉择, 以及具体实施产生效果的途径, 利用公共资源, 达到解决社会公共问题, 平衡、协调社会公众利益为目的的公共管理活动过程。

下列不符合这一定义的是 ()。

A. 公共政策制定的主体是以政府为主的一系列公共机构

B. 公共政策就是政府要少花钱多办事的各种方法和途径

C. 公共政策的目的在于确保社会朝着政治系统所确定、承诺的正确方向发展

D. 公共政策是一种公共管理活动过程

24. 虐待罪: 是指对共同生活的家庭成员, 经常以打骂、冻饿、禁闭、强迫过度劳动, 有病不给治疗或者其他方法进行摧残、折磨的行为。

根据定义, 下列不构成虐待罪的是 ()。

A. 王浩的父亲经常生病, 王浩觉得其父已是知天命之年, 所以也就不给其医治

B. 某企业老板经常强迫员工过度劳动, 克扣员工工资

C. 张志看妻子不顺眼, 经常对其进行毒打或关禁闭

D. 李某常使用体罚来教育调皮的儿子, 有时还不让做错事的儿子吃饭

25. 考核: 是指各级行政机关根据法定的管理权限, 在一定时间内, 对公务员的工作成绩和服务情形进行定期和不定期的考察与评价。

下列不属于考核的一项是 ()。

A. 机关规定, 公务员在规定时间内, 必须按时上、下班, 以考察勤勉程度

B. 英国文官被要求考察工作知识、人格性情、判断力、热心情形等因素

C. 机关团委组织去泰山秋游, 书记建议大家比一比谁先上到山顶

D. 美国实行工作标准考绩制, 主要对公务员的工作数量、工作质量和工作适应能力进行考察评定

26. 民事诉讼是人民法院和诉讼参加人, 在审理民事案件的过程中所进行的各种诉讼活动的总和。

下列不属于民事诉讼的一项是 ()。

A. 赵某为取回李某欠付的一万元装修费而起诉

B. 李老汉到法院起诉, 要求村里必须按遗赠抚养协议办事

C. 张某在押 15 天里, 无故受看守员殴打致重伤, 故起诉

D. 李某和黄某不和, 退出合伙, 遂向法院起诉, 要求分割合伙财产

27. 《中华人民共和国担保法》规定, 本法所称留置, 是指依照本法的有关规定, 债权人按照合同约定占有债务人的财产, 债务人不按照合同约定的期限履行债务的, 债权人有权依照本法规定留置该财产, 以该财产折价或以拍卖、变卖该财产的价款优先受偿。

请根据《中华人民共和国担保法》有关留置的规定, 判断下列哪项正确? ()

《2011 年公务员考试行测考试 100 套华图真题》

A. 因保管合同、运输合同、加工承揽合同发生的债权，债务人不履行债务的，债权人享有留置权

B. 留置的财产为可分物的，留置物的价值应当大于债务的金额

C. 债权人与债务人应当在合同中约定，债权人留置财产后，债权人应当在不少于六个月的期限内履行债务，债权人与债务人在合同中未约定的，债权人留置债务人财产后，应当确定三个月以上期限，通知债务人在该期限内履行债务

D. 当事人不可以在合同中约定不得留置的财物

28. 不当得利：指一方并非因为自己的违法行为而获得利益，但利益的获得又没有合法根据，致使他人利益受到损害的情况。

根据上述定义，下列哪种情况属于不当得利？（ ）

A. 小章在一次运货中，虽然发现对方因失误算多了很多的货物，但是没有告诉对方

B. 某甲为某乙介绍一笔生意给某丙，然后他分别从某乙和某丙处提取“联系费”

C. 卖水果的鲁某将顾客遗忘在水果摊上的手提包加以藏匿，将财物据为己有

D. 王某偷的 5000 元钱

29. 从众行为：个人因受到群体的压力而在知觉判断、动作等方面做出的与众人趋于一致的行为。下列哪一例不属于从众行为？

A. 演讲并不精彩，但别人都鼓掌，我也鼓掌

B. 我打心眼里认为这首歌好，没想到这歌确实很流行

C. 今年流行皮大衣，虽然我不宽裕，但还是咬牙买了件皮大衣

D. 既然大家都同意，我也没有什么说的，我同意大家的意见

30. 重婚：有配偶而又与他人结婚，或者明知他人有配偶而与之结婚的行为。根据以上定义，下面哪一种为重婚？

A. 李小青与王刚相恋多年，举行了正式的订婚仪式，并已接受了王刚家的许多彩礼，但后来李小青撕毁婚约与一外地男人结婚。

B. 黄某因受其夫虐待，遂与本厂一同事相好，两人有时一起偷偷外出旅行，其夫知道后，向法院起诉，状告黄某与其同事重婚。但黄某则说，她心目中真正的丈夫就是那位同事。

C. 阿雪家住江西一偏远乡村，已婚且有一子。在一次外出途中，被一同乡拐骗至安徽一偏远山村，卖给了该村的邱某，未经登记就做了邱某的妻子。

D. 孙某与周某结婚一年，因性格不合决定离婚，周某的父母也立即把女儿接回家。半年后，在未办理离婚手续的情况下，孙某又与另一外地女子结婚，周某也嫁给了邻村一男子。

31. 行政复议参加人：是指行政争议的当事人和与行政争议的具体行政行为有利害关系而参加行政复议的人。根据以上定义，下列不是行政复议参加人的是：

A. 行政复议的第三人 B. 行政复议的鉴定人

C. 行政复议的被申请人 D. 行政复议第三人委托的律师

32. 取保候审：人民法院、人民检察院和公安机关责令被告人提供保证人，由保证人担保被告人不逃避或妨碍侦查、起诉和审判并随传随到的一种强制措施。根据以上定义，下面哪种情况是取保候审？

A. 张青因伤害罪被判处有期徒刑一年有期徒刑，因其是初犯，且认罪态度极好，法院为他规定了一年半的考验期，即在一一年半之内张不再犯罪，就不必去监狱服刑。考验期内由张青所在单位考察。

《2011 年公务员考试行测考试 100 套华图真题》

B. 王荣，女，因过失杀人罪被判八年有期徒刑，服刑期间，王某积极改造，四年后被提前释放，但规定了四年考验期，考验期内如果不犯罪了，剩下的刑期不再执行。考验期内由公安机关监督。

C. 董某，女，因涉嫌贪污而被检察机关审查，经查贪污属实，且数额较大，应当逮捕。但检查人员考虑其孩子尚不满一周岁，就决定在判决前暂不羁押，由其单位领导出面保证，她随时接受检察院和法院的传唤。

D. 马某因诈骗罪被判处五年有期徒刑，在监狱服刑两年后患了严重的风湿性心脏病，由其家人担保转到一家医院治疗。治疗期间公安机关负责监督。半年后病愈回到监狱服完剩下的刑期。

33. 诉讼时效中止：指在诉讼时效期间最后 6 个月内，因不可抗力或者其他障碍，权利人不能行使请求权，而使诉讼时效停止计算。根据以上定义，下面哪种情形将导致诉讼时效中止？

A. 甲向法院起诉，要求乙偿还欠款。法院受理了此案。在审理过程中，甲突然死亡

B. 甲借给乙人民币若干，约定一年后归还。到期后，乙未归还。经甲催讨，乙同意归还。

C. 甲于前年 2 月 15 日被乙自行车撞伤，造成很大损失。经协商，由乙赔偿给甲 2500 元。直到今年 2 月 10 日，乙仍未支付赔款。甲准备起诉，但由于山洪暴发，道路不通，持续了十几天，因此直到 2 月底，甲才向法院提起诉讼。

D. 小张与小黄系夫妻，两人感情一直不和。小张向法院起诉，要求与小黄离婚。法院受理了此案。在审理终结前，小张在出差中因车祸死亡。

定义判断（判断推理）答案：

1-10: C、D、A、D、B、D、A、B、D、C

11-20: A、B、B、A、A、B、A、C、A、B

21-30: D、D、B、B、C、C、A、A、B、D

31-33: B、C、C

行政职业能力测验复习 - 政治常识

解题技巧：

1. 淘汰法。对于单选题，利用淘汰法以节省时间。
2. 去同存异法。确定一个选择项为参照项，其他选择项与之比较。
3. 印象认定法。选择最先在头脑中形成正确答案。
4. 比较法。

把四个选项进行纵横向比较。

5. 大胆猜测法。

△ 注意平时多阅览报刊、多看电视，了解相关常识并善于寻找社会问题的深层次原因。多掌握信息、多观察生活、多注意思考。

考点直击

1. 哲学基本知识。
2. 马克思列宁主义、毛泽东思想、邓小平理论。
3. 我国的政治制度、社会发展，旧民主主义革命开始至今的重大历史事件。
4. “三个代表”。
5. 时事。

《2011 年公务员考试行测考试 100 套华图真题》

经典例题透析

例 1. 不是德国古典哲学主要代表人物的是 ()。

A. 康德 B. 黑格尔 C. 谢林 D. 尼采

【解析】 答案为 D。

相关链接:

德国古典哲学最著名的代表人物是康德、谢林和黑格尔。康德继承和发展了西方哲学史上关于认识过程的三分法,用“感性”、“知性”和“理性”三个环节构成了他的整个认识论的体系。黑格尔创立了西方哲学史上最庞大的哲学体系,第一个系统地自觉地阐述了辩证法的一般运动形式,谢林也是德国古典哲学的主要代表之一。尼采则是唯意志论和生命哲学的主要代表。

例 2. 2004 年 8 月 29 日,第 28 届奥运会圆满落下帷幕。我国体育健儿取得枚金牌、17 枚银牌、14 枚铜牌的优异成绩,高居奥运会金牌榜第二位,实现了历史性突破,开辟了中国体育的新纪元。

A. 29 B. 30 C. 31 D. 32

【解析】 答案为 D。

例 3. 我国国家最高监督权的行使机构是 ()。

A. 最高人民法院 B. 最高人民检察院
C. 全国人民代表大会 D. 中共中央纪律检查委员会

【解析】 答案为 C。

相关链接:

人民代表大会制度是中国的根本政治制度,是中国人民民主专政的政权组织形式,是中国的政体。全国人民代表大会是最高国家权力机关,由省、自治区、直辖市、特别行政区和军队选出的代表组成。各少数民族都应当有适当名额的代表。它行使国家立法权,决定国家政治生活中的重大问题。全国人民代表大会主要职权是:修改宪法,监督宪法的实施,制定和修改刑事、民事、国家机构和其他的基本法律;审查和批准国民经济和社会发展规划和计划执行情况的报告,以及国家的预算和预算执行情况的报告;批准省、自治区和直辖市的建置,决定特别行政区的设立及其制度;决定战争和和平问题;选举、决定最高国家机关领导人员,即选举全国人民代表大会常务委员会组成人员,选举国家主席、副主席,决定国务院总理和其他组成人员的人选,选举中央军事委员会主席和决定其他组成人员的人选,选举最高人民法院院长,选举最高人民检察院检察长。全国人民代表大会有权罢免上述人员。全国人民代表大会每届任期五年,每年举行一次会议。在全国人民代表大会闭会期间,由它的常设机关常务委员会行使国家最高权力。全国人民代表大会常务委员会由委员长、副委员长、秘书长和委员组成。中国立法包括全国人大及其常委会立法、国务院及其部门立法、一般地方立法、民族自治地方立法、经济特区和特别行政区立法。

例 4. 下列国家中,尚未加入欧元区的是 ()。

A. 西班牙 B. 比利时 C. 卢森堡公国 D. 英国

【解析】 答案为 D。

相关链接:

欧元区总共包括 12 个国家,它们分别是:奥地利、比利时、德国、希腊、法国、芬兰、爱尔兰、意大利、卢森堡、荷兰、葡萄牙、西班牙。

实战演习

1 胡锦涛同志在“七一”讲话中指出:“三个代表”重要思想是()。

《2011 年公务员考试行测考试 100 套华图真题》

- A 马克思主义在中国发展的最新成果
B 毛泽东思想在中国发展的最新成果
C 邓小平理论在中国发展的最新成果
D 中华民族优秀传统文化在中国发展的最新成果
- 2 胡锦涛同志在“七一”讲话中指出：决定一个政党、一个政权盛衰的根本因素是（）。
- A 经济的发展 B 人心向背
C 政权的性质 D 党的执政能力
- 3 2003 年 2 月，中国共产党第十六届中央委员会第二次全体会议在北京举行。会议讨论了（）。
- A 《全面贯彻党的十六大精神，努力开创党风廉政建设和反腐败工作新局面》的报告
B 《关于深化行政管理体制和机构改革的意见》
C 《关于中央政治局同志出国访问的规定》
D 《关于进一步改进会议和领导同志活动新闻报道的意见》
- 4 马克思主义的理论来源是（）。
- A 19 世纪德国古典哲学 B 古希腊朴素唯物主义哲学
C 17 世纪英国唯物主义哲学 D 18 世纪德国古典哲学
- 5 社会发展的决定力量是（）。
- A 生产方式 B 经济基础
C 生产关系 D 上层建筑
- 6 国体决定政体，政体反映国体。我国是人民民主专政的社会主义国家，我国的根本政治制度是（）。
- A 民主集中制 B 人民代表大会制
C 单一制 D 三权分立制
7. 哲学与具体科学之间的关系表现为（）。
- A. 一般和特殊的关系 B. 理性认识和感性认识的关系
C. 本质和现象的关系 D. 无限和有限的关系
- 8 认识过程的第二次飞跃是（）。
- A 从实践到认识 B 从理性认识到实践
C 从感觉到知觉 D 从具体到抽象
- 9 2010 年的主要目标是（）。
- A 建成一个中等发达国家的水平，基本实现现代化
B 实现国民生产总值比 2000 年翻一番
C 形成比较完善的社会主义市场经济体制
D 人民生活达到小康水平
- 10 实践作为检验认识的标准具有不确定性，是指（）。
- A 实践标准是不可靠的
B 实践不是检验认识真理性的唯一标准
C 实践有历史局限性，它对真理的检验是一个过程
D 科学理论也是检验真理的标准
- 11 一个社会的上层建筑的核心是（）。
- A 军队 B 政党 C 政权 D 思想
- 12 改革的实质和目的是（）。

《2011年公务员考试行测考试100套华图真题》

- A 否定或取消社会主义基本制度 B 完善和发展社会主义
C 实现现代化军事强国的战略目标 D 否定中国共产党的领导
- 13 从唯物辩证法的观点看,水果与苹果、梨子、香蕉之间的关系是()。
A 整体与部分的关系 B 共性与个性的关系
C 多数与少数的关系 D 质量和数量的关系
- 14 党的干部路线要以()为原则。
A 任人唯贤 B 五湖四海
C 德才兼备 D 群众公认
- 15 国家的实质是()。
A 阶级调和的机关 B 为全民服务的机关
C 正义、公正的社会组织 D 统治阶级进行阶级压迫的暴力工具
- 16 “三个有利于”的判断标准是由()提出来的。
A 毛泽东 B 江泽民 C 周恩来 D 邓小平
- 17 在我国,()是解决社会主要矛盾的根本途径。
A 切实加强党的领导 B 确保公有制经济的主导地位
C 走共同富裕之路 D 大力发展生产力
- 18 从邓小平同志关于社会主义本质的新概括来看,实现社会主义的关键是()。
A 必须抓住经济建设这个中心 B 要发展生产力,就必须坚持改革开放
C 必须坚持公有制和按劳分配的主体地位 D 坚持共同富裕,防止两极分化
- 19 反对霸权主义和强权政治,维护世界和平,是()。
A 我国外交政策的基本目标 B 我国外交政策的根本原则
C 我国处理国际关系的基本原则 D 我国对外政策的纲领
20. 社会主义精神文明的基础工程是()。
A. 道德建设 B. 理想教育
C. 发展教育事业 D. 开展群众性文化活动
21. 关于苏联解体、东欧剧变的说法不正确的是()。
A. 使国际共产主义运动和世界社会主义事业受到严重挫折
B. 标志着雅尔塔体系的解体
C. 俄罗斯不再是世界政治舞台中重要的一极
D. 对世界格局产生深远影响
22. 我国坚持独立自主的和平外交政策,要把()。
A. 实行真正的不结盟放在首位
B. 国家主权和国家利益放在首位
C. 对国际问题采取客观公正的态度放在首位
D. 反对霸权主义,维护世界和平放在首位
23. 中国共产党十六大报告指出,中国共产党坚持先进性和增强创造力的决定性因素是()。
A. 坚持党的思想路线,解放思想,实事求是,与时俱进
B. 搞清楚什么是社会主义以及如何建设社会主义
C. 坚持党的基本路线和基本纲领
D. 加强和改进党的作风
24. 实现“一国两制”的前提和核心是()。

《2011 年公务员考试行测考试 100 套华图真题》

- A. 港、澳、台享有高度自治权
B. 港、澳、台保持原有的资本主义制度不变
C. 中国坚持社会主义
D. 国家的主权统一于中华人民共和国
25. 中国共产党十六大报告指出,贯彻“三个代表”重要思想,本质在于()。
A. 坚持以经济建设为中心 B. 坚持四项基本原则
C. 坚持改革开放 D. 坚持执政为民
26. 在社会主义初级阶段,非公有制经济是()。
A. 社会主义公有制经济的补充 B. 社会主义市场经济的重要组成部分
C. 具有公有性质的经济 D. 逐步向公有制过渡的经济
27. 胡锦涛同志在“七一”讲话中指出:十六大提出的一个战略举措是()。
A. 兴起全面建设小康社会新高潮
B. 兴起学习贯彻“三个代表”重要思想新高潮
C. 兴起学习贯彻“依法治国”方略新高潮
D. 兴起全面推动改革开放和现代化建设新高潮
28. 胡锦涛同志在“七一”讲话中指出:“三个代表”重要思想创造性地回答了()。
A. 建设中国特色社会主义的思想路线成果
B. 什么是社会主义、怎样建设社会主义
C. 建设什么样的党、怎样建设党的问题
D. 建设中国特色社会主义的发展道路问题
29. 胡锦涛同志在“七一”讲话中指出:“三个代表”重要思想坚持党的最高纲领和最低纲领的统一,为我们()。
A. 在新的时代运用辩证唯物主义和历史唯物主义认识 and 把握社会发展规律、更好地推进我国社会主义事业作出了新理论概括
B. 坚持马克思主义的最终奋斗目标、根据实际制定和实施推动我国社会主义发展的战略提供新的理论基础
C. 坚持马克思主义的群众观点、不断实现最广大人民的根本利益提出了理论要求
D. 坚持马克思主义基本原理、不断在实践中推进理论创新打开了新的理论视野
30. 胡锦涛同志在“七一”讲话中指出,“三个代表”重要思想系统概括我们党对社会主义建设规律探索成果,科学预测现代化建设的的发展趋势,规划了()。
A. 社会主义工业化的道路
B. 中国特色社会主义发展的宏伟蓝图和一整套发展战略
C. 共产主义的宏伟蓝图
D. 可持续发展的战略
31. 胡锦涛同志在“七一”讲话中指出:衡量有没有真正学懂,是不是真心实践“三个代表”重要思想最重要的村志,是必须()。
A. 牢牢把握立党为公、执政为民 B. 把发展作为第一要务
C. 加强和改善党的领导 D. 牢牢把握以经济建设为中心
32. 2003 年 2 月,中国共产党第十六届中央委员会第二次全体会议在北京举行,会议讨论了()。
A. 《全面贯彻党的十六大精神,努力开创党风廉政建设和反腐败工作新局面》

《2011 年公务员考试行测考试 100 套华图真题》

- B. 《关于深化行政管理体制和机构改革的意见》
- C. 《关于中央政治局同志出国访问的决定》
- D. 《关于进一步改进会议和领导同志活动新闻报道的意见》

33. 2004 年 2 月,“朝核问题”第二轮六方会谈在北京举行,六方会谈的最终目标是实现()。

- A. 东北亚无核化 B. 亚洲无核化
- C. 朝鲜半岛无核化 D. 朝鲜无核化

34. 2004 年 9 月 15 日,胡锦涛在首都各界纪念全国人民代表大会成立 50 周年大会上的讲话中指出,中国社会主义民主政治最鲜明的特点是()。

- A. 人民民主专政
- B. 人民代表大会制度
- C. 人民当家作主
- D. 党的领导、人民当家作主和依法治国的有机统一

35. 2004 年 2 月 20 日,中共中央、国务院在北京隆重举行了国家科学技术奖励大会。荣获 2003 年度国家最高科学技术奖的是()。

- A. 吴文俊、袁隆平 B. 王选、黄昆 C. 刘东生、王永志 D. 金怡濂、徐匡迪

36. 胡锦涛于 2003 年 12 月 26 日在纪念毛泽东同志诞辰 110 周年座谈会上的讲话(以下简称《讲话》)中指出,关系中国革命能否取得成功的极为关键的问题或无产阶级革命上极其复杂的新课题是()。

- A. 用马克思列宁主义革命理论和革命风格武装起来的无产阶级政党
- B. 在党的绝对领导下为人民的解放事业英勇奋战的人民军队
- C. 团结全民族绝大多数人共同奋斗的统一战线
- D. 结合当时的中国国情和时代条件,适合适合中国实际的革命道路和革命方略,并作出科学的理论概括

政治常识(常识部分)答案

- 1. A2. B3. B4. A5. A6. B
- 7. A8. B9. B10. C11. C12. B
- 13. B14. C15. D16. D17. D18. B
- 19. D20. C21. C22. B23. A24. D
- 25. D26. B27. B28. C29. B30. B
- 31. A32. B33. C34. B35. C36. D

行政职业能力测验复习 - 科技常识

考点直击

- 1. 最新科学技术,例如基因、纳米等。
- 2. 与日常生活密切相关的科技知识。
- 3. 科学与技术,科学精神及特征,科学技术是第一生产力。
- 4. 注意热点事件所反应的科技知识及本学科的其他主要基本知识。

经典例题透析

例 1. 人类最早使用的金属是 O。

- A. 铜 B. 铁 C. 银 D. 铅

【解析】 答案为 A。

相关链接:

《2011 年公务员考试行测考试 100 套华图真题》

铜是人类认识并应用最早的金属之一。我国是最早使用铜器的国家之一。到目前为止，发现的中国最早的青铜器出自新石器时代后期。在商代早期遗址中出土了较大型的青铜器。

中国商代早期的大型青铜器还很粗陋，器壁厚，外形多模仿陶器，花纹多为线条的兽面纹。1939 年在安阳市出土的礼器“司母戊鼎”是殷代前期青铜器的代表作，是商王为其母铸造的，重达 875 kg，高 133 cm，横长 110 cm，宽 78 cm。经检测，铜占 84.11%，锡占 11.64%，铅占 2.79%，是世界上最大的出土青铜器。

我国古代很早就认识到铜盐溶液里的铜能被铁取代，从而发明了“水法炼铜”的新途径，这一方法以我国为最早，是湿法冶金技术的起源，在世界化学史上是一项重大贡献。

在现代，铜仍旧有着极其广泛的用途。铜的导电性能仅次于银，居金属中的第二位，大量用于电气工业。

铜和铁、锰、铝、硼、锌、钴等元素都可用作微量元素肥料。微量元素是植物正常生命活动所不可缺少的，它可以提高酶的活性，促进糖、淀粉、蛋白质、核酸、维生素和酶的合成，有利于植物的生长。

铜在生命系统中有重要作用，人体中有 30 多种蛋白质和酶含有铜元素，现已知铜的最重要生理功能是人血清中的铜蓝蛋白，它有催化铁的生理代谢过程功能。铜还可以提高白细胞消灭细菌的能力，增强某些药物的治疗效果。铜虽然是生命攸关的元素，但如果摄入过多，会引起多种疾病。

例 2. 电话的发明者是 ()。

A. 摩尔 B. 爱迪生 C. 贝尔 D. 法拉第

【解析】 答案为 C。

例 3. 在人类社会的发展史上，经历了三次科技革命，其标志为 ()。

- A. 蒸汽机的发明、纺织机的发明、电子计算机的发明
- B. 蒸汽机的发明、电力的发明、电子计算机的发明
- C. 蒸汽机的发明、电力的发明、电子计算机的发明和原子能的发明和使用
- D. 蒸汽机的发明、纺织机的发明、原子能的发明和使用

【解析】 答案为 C。

例 4. 全球气候变暖是世界各国所关注的问题，大气中能产生温室效应的气体已经发现近 30 种，造成温室效应最重要的气体是 ()。

A. 二氧化碳 B. 氟利昂 C. 一氧化二氮 D. 臭氧

【解析】 答案为 A。

相关链接：

温室有两个特点：温度较室外高，不散热。生活中我们可以见到的玻璃育花房和蔬菜大棚就是典型的温室。使用玻璃或透明塑料薄膜来做温室，是让太阳光能够直接照射进温室，加热室内空气，而玻璃或透明塑料薄膜又可以不让室内的热空气向外散发，使室内的温度保持高于外界的状态，以提供有利于植物快速生长的条件。由环境污染引起的温室效应是指地球表面变热的现象。它会带来以下几种恶果：1) 地球上的病虫害增加；2) 海平面上升；3) 气候反常，海洋风暴增多；4) 土地干旱，沙漠化面积增大。科学家预测：如果地球表面温度的升高按现在的速度继续发展，到 2050 年全球温度将上升 2~4 摄氏度，南北极地冰山将大幅度融化，导致海平面大大上升，一些岛屿国家和沿海城市将淹于水中，其中包括几个著名的国际大城市：纽约，上海，东京和悉尼。温室效应主要是由于现代化

《2011 年公务员考试行测考试 100 套华图真题》

工业社会过多燃烧煤炭、石油和天然气，这些燃料燃烧后放出大量的二氧化碳气体进入大气造成的。二氧化碳气体具有吸热和隔热的功能。它在大气中增多的结果是形成一种无形的玻璃罩，使太阳辐射到地球上的热量无法向外层空间发散，其结果是地球表面变热起来。因此，二氧化碳也被称为温室气体。人类活动和大自然还排放其他温室气体，它们是：氯氟烃（CFC）、甲烷、低空臭氧和氮氧化物气体、地球上可以吸收大量二氧化碳的是海洋中的浮游生物和陆地上的森林，尤其是热带雨林。

实战演习

1. 沙漠中生长的植物其叶子都比较小，而根却极深，其原因主要是 0。

- A. 沙漠中降雨量少，气候干旱，叶小是为了减少蒸发，根深利于吸收水分
- B. 沙漠中生长的植物品种都是那种叶小根深的
- C. 叶小有利减少日晒面积，不会被晒死
- D. 根深不会被风吹倒

2. 在互联网迅速发展的基础上，电子商务正在悄然兴起，但差不多所有的电子商务网站都在亏损，这主要原因是因为 0。

- A. 顾客太少，没有人上网购物
- B. 初期投资巨大，短期难以实现盈利
- C. 商品过于便宜，低于成本
- D. 税务负担沉重，增加了成本

3. 在冰箱产业中，无氟冰箱似乎正成为主流产品，厂家纷纷上马无氟冰箱生产线，消费者对无氟冰箱也很青睐，其主要原因是 0。

- A. 无氟冰箱的功能更先进
- B. 无氟冰箱的技术含量高

C. 由于氟对保护人类免受紫外线伤害的臭氧层有很大的破坏作用，而我国的公众与产业界的环保意识日益增强

- D. 生产无氟冰箱比较低，因而销售价值也比较低

4. 冬天人们用煤炉取暖，而且窗户紧闭时有时会发生煤气中毒，其原因是 0。

- A. 煤燃烧用去了大部公的氧气，产生的二氧化碳使人窒息
- B. 由于各种原因，煤不完全燃烧产生的一氧化碳会阻止人的血液与氧的结合
- C. 煤炭中会含有少量的硫等矿物质，其燃烧后产生的气体有剧毒
- D. 有些人对煤燃烧后的气体过敏

5. 近几年，电信业对电话等通信费用不断下调，这样做的原因是 0。

- A. 电信行为为人民利益着想

B. 电信部门在中国有巨大垄断利益，这种不合理现象招致全国范围的不满，同时通信费用下调幅度不足危及其自身利益和地位

- C. 电信业属国家所有

- D. 中外合资合作的结果

6. 在晴朗的夜晚，偶尔抬头仰望星空，我们可能发现星星在“眨眼睛”，星星为什么会眨眼睛呢？（ ）

- A. 星星在不同时刻释放的能量不同
 - B. 亮度不同的星星的光线相互影响的结果
 - C. 人们的眼睛要不停的眨，所以看起来星星是在眨眼睛了
 - D. 星星穿过大气层时产生折射的结果
7. 走路或坐在车上时，不适合看书，是因为 0。

《2011 年公务员考试行测考试 100 套华图真题》

A. 车太拥挤，不方便看书

B. 因为不断震动，对眼睛的刺激较大，不利于眼睛

C. 车内太暗，看不清字

D. 走路的时候应该听音乐，而不是看书

8. 在社会各个领域迅速发展的今天，全球却面临着气候方面的危机——“温室效应”，这种“温室效应”的最终原因是 O。

A. 人类大量砍伐树木

B. 工业生产当中大量的二氧化碳进入到大气层中

C. 全球的植被面积的减少

D. 人口的增多

9. 民间通常所说的“鬼火”是化学中的 O 现象。

A. 焰色反应 B. 自燃

C. 潮解 D. 熔化

10. 目前环境污染在世界范围内很大部分的原因是对能源的利用引起的，这主要是 O。

A. 化石资源利用 B. 煤炭资源利用

C. 电磁能利用 D. 核裂变能利用

11. 人们在谈到计算机的时候，往往要谈到计算机的 386、486 或 586，那么 X86 到底代表什么呢？简单的说，它代表着计算机的 O。

A. 主机板 B. 硬盘

C. 内存 D. CPU（中央处理器）

12. 与复印机、激光打印机一起构成现代化的光电子印刷技术，从而彻底取代了铅字手工排版的是 O。

A. 打字机 B. 计算机

C. 激光照排机 D. 激光印刷机

13. 形成风的主要原因是 O。

A. 空气上升与下降的对流运动

B. 水平方向上气压的差异

C. 地势高低的不同

D. 不同高度空气的密度不同

14. 一架飞机从北京飞往乌鲁木齐，用了 3.5 个小时，而从乌鲁木齐返航北京时，飞行速度不变，却只需要 3 小时，原因是 O。

A. 地球自转的影响

B. 两地时差的影响

C. 中纬度高空西风的影响

D. 飞行线路的影响

15. 被西方称为“物理学之父”，并提出了“只要给我一个支点，我就通俗拍手撬动地球”的名言的物理学家是 O。

A. 亚里士多德 B. 阿基米德

C. 伽利略 D. 开普勒

16. 第一个公开向神学挑战并宣告自然科学的独立的科学家是 O。

A. 亚里士多德 B. 哥白尼

C. 伽利略 D. 牛顿

17. 20 世纪 60 年代出现的“绿色革命”的含义是 O。

《2011 年公务员考试行测考试 100 套华图真题》

- A. 扩大耕地面积，提高单位产量
- B. 抓好育苗，培育新品种
- C. 改造沙漠，营造人工牧场
- D. 采用农作物高产良种

18. 我国制定的旨在使高科技成果商品化和产业化的计划是 0。

- A. “火炬”计划 B. “星火”计划
- C. “863”计划 D. “信息”计划

19. 在 18 世纪英国的产业革命中，被称之为改变了整个世界的发明是 0。

- A. 工厂制度的建立
- B. 以纺织机为代表的工具的革新
- C. 蒸汽机的发明和应用
- D. 机床的发明和应用]

20. 分子生物学的研究表明 0。

- A. 细胞是遗传信息的载体
- B. 信息的获取、传递技术
- C. DNA 是遗传信息的载体
- D. 染色体是遗传信息的载体

21. 月球表面之所以没有空气主要是因为 0。

- A. 月球离地球太远，越是高空的位置空气越稀薄
- B. 月球体积小，其引力不足以吸引住太空中的气体
- C. 月球上温度太低，空气都以液体或固体的形式存在
- D. 月球上没有植物，也没有动物，用不着空气

22. 航天飞机以很高的速度绕地球飞行，宇航员能够离开航天飞机在太空中行走而不被甩掉的原因是 0。

- A. 宇航员用一根绳子与航天飞机相连
- B. 这种传闻是错误的，人不可能在太空行走
- C. 他们身上都背着一个火箭助推器，使他们的速度与航天飞机同步
- D. 太空中没有阻力，他们在太空中仍然保持着与航天飞机相同的速度

23. 炎热的夏季使人难以忍受，年轻的王龙躲进有空调的小汽车里过夜，第二天人们发现他时，他已死在车里多时，经法医解剖，排除了王龙因疾病死亡的可能和被人谋杀的可能。那么王龙是怎么死的 0

- A. 汽车里缺氧而死 B. 温度调得太低冻死
- C. 一氧化碳中毒死亡 D. 不能确定

24. 把带有水分的钢片，放在酒精灯上烤一烤后拿开，钢片上会有一层蓝色的光，这是因为 0。

- A. 火苗是蓝色的
- B. 铁和水在高温下发生化合，生成蓝色的四氧化三铁
- C. 人的视觉在钢片加热后产生错觉
- D. 火光照耀下的铁片上的蓝色特别显眼

25. “月有阴晴圆缺”，用科学的观点看待这件事，原因是 0。

- A. 人有悲欢离合
- B. 地球绕太阳转动，月球绕地球转动，两者转速不一样，出现偏角，使地球掩住了月球的一部分
- C. 地球绕月球转动偏角不同

《2011 年公务员考试行测考试 100 套华图真题》

- D. 太阳光照射不均匀
26. 南极上空臭氧空洞的形成是因为 ()。
- A. 太阳光太强
B. 南极太冷
C. 人类活动中排放大量氟化化合物的缘故
D. 空气中二氧化碳太多, 形成温室效应
27. 出海远行的船, 在视线中最后消失的是船的桅杆, 既然水是平的, 为什么会出现这种情况? ()
- A. 船越走越远, 人的眼看不清楚
B. 船下沉了
C. 海平面并不是平的, 它和地球表面是平行的, 是一个平滑的球面
D. 是类似于海市蜃楼的一种错觉
28. 因为坚持哥白尼的日心学说被宗教裁判所活活烧死的科学家是 ()。
- A. 哥伦布 B. 布鲁诺
C. 伽利略 D. 达尔文
29. 太阳系中的小行星带位于 ()。
- A. 火星轨道和木星轨道之间
B. 木星轨道和土星轨道之间
C. 地球轨道和火星轨道之间
D. 火星轨道和金星轨道之间
30. 本世纪 80 年代初出现的“蓝色革命”新构想, 其含义是运用现代科学技术向蓝色海洋乃至内陆水域索取人们所需要的众多的优质水产品。提出蓝色革命的国家是 ()。
- A. 印度 B. 中国
C. 日本 D. 澳大利亚
31. 纳米是一种 ()。
- A. 水稻的一种 B. 长度单位
C. 粒子 D. 时间单位
32. 一天之中气温最高值出现在 ()。
- A. 正午时分 B. 午时 2 时前后
C. 上午 8.9 点钟 D. 日落之时
33. 计算机的运算采用 ()。
- A. 十进位制 B. 八进位制
C. 二进位制 D. 六十进位制
34. 当炉火快要熄灭时, 往里面撒一把盐, 火将变旺起来, 其原因是 ()。
- A. 盐里的水分能燃烧 B. 盐能助燃
C. 盐能燃烧; D. 盐里的水分助燃

科技常识 (常识部分) 答案

1. A 2. B 3. C 4. B 5. B 6. D 7. B 8. B 9. B 10. A 11. D 12. C 13. B 14. C 15. B 16. B 17. D 18. A 19. C 20. C 21. B 22. D 23. C 24. B 25. B 26. C 27. C 28. B 29. A 30. B 31. B 32. B 33. C 34. D

《2011 年公务员考试行测考试 100 套华图真题》

行政职业能力测验复习 - 经济常识

考点直击

1. 西方经济学的经典理论的提出者及其内容,例如亚当·斯密的“看不见的手”理论。
2. 与当前经济形势密切相关的经济理论,例如通货膨胀与通货紧缩。
3. 商品经济的基本理论知识,例如商品二因素、价值规律等等。
4. 社会主义市场经济与资本主义市场经济之异同。

经典例题透析

例 1. 理性经济人假设是西方经济学理论的逻辑基础,这一理论基础的核心是认为人()。

- A. 追求经济利益的最大化 B. 追求自我利益的最大化
C. 没有利他心 D. 追求经济利益和社会利益的最大化

【解析】 答案为 D。

相关链接:

西方经济学、管理科学及行为科学的理论基础之一就是关于人的理性的假设:每个人都以其效用最大化为目标,而效用通常指个人利益,或者是从个人出发的自我实现。人们的行为和思维活动只表现为个人需要的单回路结构。古典经济学中“经济人”的假设,也称为 X 理论,认为被管理对象是由无组织的个人组成,他们在行动和思想上力求符合个人利益,追求最大限度的个人收入。行为学派中最有影响的代表人物是美国的马斯洛。他主张人的需要有五个层次:基本需要、安全需要、归属和爱的需要、受尊重的需要、自我实现的需要。有人把马斯洛描写的追求自我实现的人叫做“成就人”。马斯洛后来又补充了求知的需要和审美的需要。现代管理理论中有两个著名的理论:经济人与社会人。经济人的假设认为人的本性是懒惰的,尽可能逃避工作,不愿承担责任等;而社会人的假设则认为人都是勤奋的。人们可以自我激励、自我控制,在人群中存在着高度的想象力和创造性。经济人的假设,必然导致“胡萝卜加大棒”的管理方式。而这正是一些小企业的管理方式——时刻监督,处处防范,惩罚严厉,常常喜欢“杀一儆百”。然而,按社会人假设,管理者应采取的是截然相反的管理方式——创造适宜的工作环境;满足职工的尊严需要和自我实现需要;让职工担负更多的责任,使他们发挥潜力,自我控制,以达到个人与组织目标的一体化。虽然社会人假设仅是一种理想状态,但是真正尊重人就会把人性好的一面发扬光大,同时使企业的利益最大化。如果是把员工当作“经济人”,员工的自尊心得不到满足,久而久之,员工就会真的变成“经济人”,对工作不满,能少干就少干,并时刻酝酿离开这个“大棒”常现的地方。

当代管理学派中对人性的假设也犹如丛林,其中较有代表性的是西蒙在他的决策理论中阐述的决策人假设。他认为管理就是决策,并且在组织中,不同层次的员工都在做决策,所以都是决策人。

随着知识经济时代的到来,管理学对人性的假设必将超越经济人、社会人、决策人假设,升华为复杂人假设。

例 2. 经济学领域所谓的“看不见的手”的最初提出者是()。

- A. 亚当·斯密 B. 凯恩斯
C. 大卫·李嘉图 D. 萨缪尔森

【解析】 答案为 A。

《2011 年公务员考试行测考试 100 套华图真题》

相关链接:

亚当·斯密把市场形容为一只“看不见的手”，指的是市场可以把个人的自利行为化为共同的

社会福利的奇妙结果。经济学有一个“看不见的手”原理，讲的是市场像一只看不见的手，对资源配置起

基础性作用。亚当·斯密提出了“劳动分工”，哈耶克则提出了“知识分工”，亚当·斯密提出了“看不见的手”，哈耶克则提出了“自生秩序”。萨缪尔森

在经济理论上的卓越贡献是对数理经济学的发展。他在哈佛大学获得博士学位的论文 Foundations of Economic Analysis (1947 年) 提出, 所有经济行为的研究都可以用数学分析的方法解决最大化问题。为此, 1970 年, 他成为美国历史上第一个诺贝尔经济学奖获得者。但是, 给萨缪尔森带来国际声誉的却是一本普及性的经济学教科书——《经济学》。《经济学》出版于 1948 年。最初写作这本教科书的目的是为了将凯恩斯的宏观经济学和马歇尔的微观经济学进行综合, 从而推动经济学的普及。实际上,《经济学》出版后不仅成为美国最畅销的经济学教科书, 而且畅销世界各国。

实战演习

1 转变政府职能的关键是 ()。

- A 处理好计划与市场的关系 B 处理好价格与价值的关系
C 中央与地方分权 D 政企职能分开

2 市场经济在本质上是一种 ()。

- A. 保护型经济 B. 竞争型经济 C. 垄断型经济 D. 封闭型经济

3 市场调节是指 ()。

- A 通过制定国民经济发展方案, 有目的、有计划地进行调节
B 通过市场竞争, 由价值规律自发地进行调节
C 把市场作为基础和主要手段的资源配置方式
D 以市场为基础, 辅之以必要的宏观调控

4 市场机制作用得到充分发挥的前提是 ()。

- A. 政府放弃宏观调控 B. 政府加强宏观调控
C. 完备、统一的市场体系 D. 计划与市场相结合

5 货币的本质是 ()。

- A 商品交换的媒介 B 衡量商品价值大小的尺度
C 一般等价物 D 社会财富的代表

6 因为变质而卖不出去的商品有没有价值, 下列看法你认为哪个是正确的?

()

- A 有价值, 因为这些商品同样凝结了人类的一般劳动
B 没有价值, 因为商品卖不出去, 意味着生产商品的劳动没有得到社会承认

认

- C 有价值, 只不过这些商品的价值没有得到实现
D 没有价值, 但仍然有一定的使用价值

7 商品内在的使用价值和价值的矛盾, 其完备的外在表现形式是 ()。

- A. 商品与商品的对立 B. 私人劳动与社会劳动的对立
C. 商品与货币的对立 D. 具体劳动与抽象劳动的对立

8 现代企业制度一般采用 ()。

- A 公司制 B 股份合作制 C 业主制 D 合伙制

《2011 年公务员考试行测考试 100 套华图真题》

- 9 影响社会总供求形成的最根本的因素是 ()。
- A 物质生产的发展规模和水平 B 进口商品的规模和水平
C 出口商品的规模和水平 D 商品储备动用的规模
- 10 据《经济学家》杂志刊登,1995 年全球保险费用首次超过 2 万亿美元。《经济学家》指出,私人保险费用支出最多的国家往往是最富有的。在这些国家,购买保险是一种大众化的投资手段。其主要原因是 ()。
- A 贫穷国家开展保险事业的效用很小
B 经济实力是保险业的坚实后盾,现代保险业日益发达
C 保险费占 CNP 比重的增长导致了基础投资不足
D 保险只是富人或富国的事
- 11 企业兼并 ()。
- A 可以跨地区、跨行业,但不能跨所有制
B 可以跨行业、跨所有制,但不能跨地区
C 可以跨所有制、跨地区,但不能跨行业
D 既可以跨地区、跨所有制,也可以跨行业
- 12 我国社会保障制度的目标是 ()。
- A 推动社会保障事业逐步走向规范化 B 提高社会成员的生活质量
C 保证国民经济持续健康发展 D 推动市场经济的健康发展
- 13 存款储蓄有多种形式,其中能够最大限度地吸收社会闲散资金的有效形式是 ()。
- A 活期存款 B 整存整取
C 零存整取 D 整存零取
- 14 近年来,随着我国经济从卖方市场转向买方市场,许多企业根据市场需求变化,积极开发和研制新产品,取得良好的经济效益。但也有一些企业因商品滞销而减产甚至停产。这说明 ()。
- A 生产水平决定消费水平 B 消费对生产具有反作用
C 消费结构决定生产结构 D 消费方式决定生产方式
- 15 要采取积极措施,依靠社会各方面的力量,关心和安排好下岗职工的生活, (), 推进再就业工程。
- A 搞好失业救济 B 搞好社会福利
C 搞好职业培训,拓宽就业门路 D 搞好就业再教育工作
- 16 我国国有经济在国民经济发展中的主导作用和优势,主要是通过 ()。
- A 国有资产在社会总资产中的量的优势体现出来
B 国有大型企业和企业集团的规模和实力体现出来
C 对经济发展的控制力和其市场竞争力体现出来
D 国家对市场活动的正确指导和有效调控体现出来
- 17 世界市场,也叫国际市场,它主要指的是 ()。
- A 各国之间的商品流通活动 B 各国之间的科学技术联系
C 各国之间的思想文化交流 D 各国之间的劳务相互交换
- 18 对股票价格的认识,下列说法正确的是 ()。
- A 股票价格和股票的票面金额通常是一致的
B 股票价格是可以变动的
C 股票价格趋向涨高,银行存款利息往往上涨
D 股票价格与预期股息成正比

《2011 年公务员考试行测考试 100 套华图真题》

- 19 我国现行税制把税种分为（ ）。
- A. 流转税、所得税和财产税 B. 中央税、共享税和地方税
C. 增值税、营业税和消费税 D. 企业所得税和个人所得税
- 20 经济全球化是（ ）。
- A. 资本主义基本矛盾发展的客观趋势
B. 生产社会化发展的客观趋势
C. 垄断资本主义发展的客观趋势
D. 发达资本主义国家进行资本输出的客观趋势

经济常识（常识部分）答案

1. D 2. B 3. B 4. C 5. C 6. C 7. D 8. A
9. A 10. B 11. D 12. A 13. A 14. B 15. C
16. C 17. B 18. B 19. C 20. B

行政职业能力测验复习 - 管理常识

考点直击

1. 公共管理基本知识。
2. 企业管理基本知识。
3. 行政管理基本知识。
4. 注意热点事件所反映的知识及本学科的其他基本知识。

实战演习

1. 在行政决策组织体系中被称为“神经系统”的是（ ）。
- A. 信息系统
B. 中枢系统
C. 控制系统
D. 研究咨询系统
2. 国家教委与各省、自治区、直辖市教委之间属于（ ）。
- A. 平行关系
B. 不相隶属的关系
C. 业务指导关系
D. 隶属关系
3. 我国公务员制度同西方文官制度强调的官方“政治中立”具有本质区别的是（ ）。
- A. 坚持党管干部的原则
B. 坚持为人民服务的宗旨
C. 坚持党的基本路线
D. 坚持德才兼备的用人标准
4. 在归部委管理的国家局中，国家技术监督局归哪个部（委）管理？（ ）
- A. 国家计划委员会
B. 国家经济贸易委员会
C. 国家科学技术委员会
D. 国家教育委员会
5. H 省审计厅内设各处，上与国家审计署各司，下与各县市审计局各股相对

《2011年公务员考试行测考试 100 套华图真题》

应，其上下对应的部门业务性质相同，其管理幅度随级别升高而扩大，这种体制是按 O 类型而设定的。

A. 职能制 B. 层级制

C. 分级制 D. 分权制

6. 我国行政首长负责制的行政首长进行决策最重要的关键环节是 O。

A. 同工作首长负责制以及工作责任制相结合

B. 领导本级政府的工作

C. 召集和主持本级政府的全体会议和常务会议

D. 向本级人民代表大会及其常委会负责

7. 某市人民政府就开展国有资产核定工作向所属下级机关行文，阐述该项工作的必要性，并交代具体的工作任务及时间安排，同时针对有关的步骤方法、政策界限、注意事项、报告方式与期限等提出具体要求。这时可选用的文种包括 O。

A. 命令 B. 指示 C. 通告 D. 条例

8. 程序化决策主要是对日常的、重复出现的、具有规则性的问题作出决策，在一个组织部门中 O。

A. 管理部门的层次越低，越少负责程序化决策问题

B. 管理部门的层次越高，越少负责程序化决策问题

C. 战略性的决策一般都属于程序化决策

D. 非程序化决策都是无关紧要的

9. 政府通过制定和运用财政税收政策和货币政策，对整个国民经济运行进行间接的宏观的调控是政府的 O 职能。

A. 社会 B. 文化 C. 经济 D. 政治

10. “首长制”的特点是 O。

A. 职权集中，责任明确，行动迅速，减少权力冲突和摩擦

B. 能集思广益，合乎民主精神，彼此监督，利于克服滥用权力

C. 能够兼容各种领导体制的长处

D. 能够消除集权制和分权制的短处

11. 中国行政体制改革的目标是 O。

A. 提高政府的整体管理水平

B. 推进“市场模式”的行政改革

C. 建立具有中国特色的行政管理体系

D. 促进社会主义市场经济和现代化建设

12. “一头狮子率领的一群绵羊可以打败一头绵羊率领的一群狮子”，这句话的哲理在于说明 O。

A. 领导群体的士气至关重要

B. 领导班子结构合理化至关重要

C. 领导班子中一把手的选用至关重要

D. 领导者和被领导者的合作至关重要

13. 行政监督的对象是 O。

A. 国家公务员的公务行为 B. 国家公务员的日常行为

C. 国家公务员的一切行为 D. 国家公务员的民事诉讼行为

14. 政府机构之间最重要的关系是 ()。

A. 协调关系 B. 业务关系

C. 协作关系 D. 领导关系

《2011年公务员考试行测考试 100 套华图真题》

15. 可以自由选择沟通渠道,具有感情交流特点的沟通是()。
- A. 下行沟通 B. 上行沟通 C. 平行沟通 D. 非正式沟通
16. 向同一系统的同级机关或非同一系统的任何机关发送的文件是()。
- A. 上行公文 B. 下行公文 C. 平行公文 D. 领导指导性公文
17. 当作者与主要受文者存在不相隶属关系时,只能选取()。
- A. 上行文 B. 平行文 C. 下行文 D. 公布性文件
18. 公文区别于其他信息记录的特点是()。
- A. 传播知识 B. 具备查考知识
C. 书面文字材料 D. 具备法定的权威性
19. 公文的作者是指()。
- A. 撰拟文章机关工作人员 B. 制发文件的机关
C. 审核签发文件的机关工作人员 D. 参与文件形成过程的全体机关工作人员
20. 文件的连续性指()。
- A. 对同一行为加以约束和规范的文件之间必要的继承关系
B. 文件结构与语言必须周严有效
C. 文件内容、形式同其他文件、同作者权利的高度统一和一致关系
D. 指整个文件的所有部分所具有高度的一体性关联
21. 当问题重大,确急需直接向上级和更高层次的上级机关同时了解公文内容时可采用()。
- A. 超级行文 B. 直接行文 C. 多级行文 D. 逐级行文
22. 向下级机关的重要行文,应抄送()。
- A. 所有上级机关 B. 直接上级机关
C. 上两级机关 D. 所有上级领导机关
23. 来函收悉。关于征地的有关()请速与××市人民政府联系解决。
- A. 事情 B. 事务 C. 事实 D. 事宜
24. 领导者把决策权力交给下级,对下级的工作不闻不问,这种领导方式称作()。
- A. 民主型领导方式 B. 参与型领导方式
C. 放任型领导方式 D. 自决型领导方式
25. 为了维护政令一致,凡下行公文()。
- A. 都要请示上级
B. 都要和有关机关协商
C. 内容涉及其他机关的职权范围时,行文前应与其协商一致
D. 都与有关部门联合发文
26. 清退保密文件时,要()。
- A. 摘录文件内容 B. 复制原文
C. 按原文标注密级处理 D. 按平件清退
27. 公务员在任职方式中,由用人单位与应聘人签订协约的任命方式是()。
- A. 委任制 B. 选举制 C. 聘任制 D. 考任制
28. 决定必须由()。
- A. 党政机关联合发文 B. 会议讨论之后才能发文
C. 政府部门制发 D. 党、政府领导机关制发
29. 批复不具有下列哪个特点?()
- A. 法定的权威性和执行性 B. 指导性

《2011 年公务员考试行测考试 100 套华图真题》

C. 被动性 D. 针对性

30. 应立卷归档的公文是 ()。

A. 具有查考价值的已处理完毕的公文

B. 明令撤消的公文

C. 秘密公文

D. 未经本人审阅的领导人讲话稿

31. 我国人事制度历来不可动摇的根本原则是 ()。

A. 公平竞争原则 B. 依法管理原则

C. 党管干部原则 D. 分类管理原则

32. 行政领导者决策能力的强弱与决策艺术高低主要体现在 () 上。

A. 宏观决策 B. 风险型决策

C. 非程序性决策 D. 理想决策

33. 在政府部门担任领导职务的人员，为有效完成组织目标，对下属人员所采取的各种影响和激励的过程，是 () 职能。

A. 计划 B. 控制

C. 领导 D. 组织

34. 行政领导把主要精力集中于一些重要的例外事情，即超常好或特别坏的情形，是行政控制中的 ()。

A. 例外原则 B. 事前控制原则

C. 适应行政 D. 符合计划要求原则

35. 我国现行的中央和地方的预算编制方式为 ()。

A. 单一预算 B. 复式预算

C. 零基预算 D. 绩效预算

36. 国家公务员回避制度的种类不包括 ()。

A. 任职回避 B. 工作性质回避

C. 公务回避 D. 地区回避

37. 国家公务员录用的首要原则是 () 原则。

A. 平等 B. 公开

C. 竞争 D. 择优

38. 根据被管理者的成就需要、权利需要和合群需要对其进行管理，其出发点是将被管理者视为 ()。

A. 经济人 B. 社会人

C. 决策人 D. 文化人

39. 围绕目标，制定实施方案，在政府管理运行中所处的阶段为 ()。

A. 计划职能 B. 组织职能

C. 领导职能 D. 控制职能

40. 下列几种形式中，不属于国家公务员惩处种类的是 ()。

A. 降级 B. 降职

C. 撤职 D. 开除

41. 国家公务员向有关单位提出申诉的必要理由是 ()。

A. 对公务员个人的处理不公正

B. 公务员涉及本人的人事处理决定不服

C. 公务员认为自身受到的处理或待遇不合理

D. 须有涉及公务员个人的处理决定

《2011年公务员考试行测考试 100 套华图真题》

管理常识（常识部分）答案

1. A2. C3. A4. B5. D6. C
7. B8. B9. C10. A11. C12. C
13. A14. D15. D16. C17. B18. D
19. B20. A21. C22. B23. D24. C
25. C26. C27. C28. D29. C30. A
31. C32. C33. C34. A35. B36. B
37. B38. B39. A40. B41. B

行政职业能力测验复习 - 法律常识

考点直击

1. 与日常生活密切相关的基本法律及法规。
2. 注意热点事件所反应的知识及本学科的其他基本知识。

经典例题透析

例题. 《汉谟拉比法典》出自 O。

- A. 古埃及 B. 古巴比伦 C. 古罗马 D. 古印度

【解析】 答案为 B。

相关链接:

美索不达米亚平原上苏美尔人制定了《乌尔纳木法典》，古巴比伦人制定了《汉谟拉比法典》。

实战演习

- 1 我国社会主义法制的中心环节是 ()。
A 有法可依 B 有法必依 C 执法必严 D 违法必究
- 2 2004 年，在《公民道德建设实施纲要》印发两周年之际，经党中央同意，中央精神文明建设指导委员会决定，将《纲要》印发的时间定为“公民道德宣传日”，即 ()。
A 7 月 20 日 B 9 月 20 日
C 8 月 20 日 D 9 月 20 日
- 3 下列哪种情形，国家不承担赔偿责任？ ()
A 工商局工作人员刘某在市场检查时发现个体摊贩王某售卖的食品不合格，便没收了王某的营业执照，后来发现产品合格
B 政府工作人员张某周日借用单位的车去商场买家具，途中将一小学生撞伤
C 某公安局认为李某是某重大案件嫌疑犯，便将其逮捕，后发现李某确实无罪
D 某乡政府以整修公路为由，从农民的公粮款中扣留了一笔款项
- 4 立法监督是指 ()。
A 各级政府对其下属行政机关及公务员的监督
B 各级政协对国家行政机关及其公务员的监督
C 各级人大及其常务委员会对国家行政机关及其公务员的监督
D 社会各阶层对国家行政机关及其公务员的监督
- 5 国家机关工作人员行使职权时违背法律授权的宗旨，超越职权范围或者违反职权行使的程序，从而导致公共财产、国家和人民利益遭受重大损失的行为，

《2011 年公务员考试行测考试 100 套华图真题》

应判处 ()。

- A 玩忽职守罪
- B 滥用职权罪
- C 徇私枉法罪
- D 徇私舞弊罪

6 营业税按次纳税的起征为每次 (日) 营业额 () 元。

- A 500 B 200 C 100 D 50

7 行政许可由 () 行政机关在法定职权范围内行使。

- A 具有管理公共事务职能的
- B 具有行政管理权的
- C 具有行政许可权的
- D 各级人民政府的

8. 下列哪项行为属于行政处罚? ()

- A. 市环保局对某造纸厂的超标排污行为给予 1 万元的罚款
- B. 村委会对农民张甲私捞塘鱼给予 50 元罚款
- C. 公司领导批准对违反厂规厂纪的鲁某给予 100 元的罚款
- D. 税务局对某厂延迟纳税征滞纳金

9 法律、法规授权的具有 () 职能的组织, 在法定授权范围内以自己的名义实施行政许可。

- A 行政管理
- B 行政收费
- C 行政审批
- D 管理公共事务

10 下列关于行政许可实施程序的说法错误的是 ()。

- A 违反法定程序, 作出行政许可决定的, 应当一律予以撤销
- B 国务院实施行政许可的程序, 适用有关法律、行政法规的规定
- C 公民、法人或者其他组织从事特定活动, 依法需要取得行政许可的, 应当向行政机关提出申请
- D 行政机关受理或者不予受理行政许可申请, 应当出具加盖本行政机关专用印章和注明日期的书面凭证

11 行政机关在其法定职权范围内, 依照法律、法规、规章的规定, 可以委托 () 实施行政许可。

- A 其他行政机关
- B 其他国家机关
- C 有关企业、事业组织
- D 具有管理公共事务职能的社会团体

12 经国务院批准, () 人民政府根据精简、统一、效能的原则, 可以决定一个行政机关行使有关行政机关的行政许可权。

- A 较大的市 B 设区的市
- C 县级以上 D 省、自治区、直辖市

13 行政许可依法由地方人民政府两个以上部门分别实施的, 本级人民政府可以确定一个部门受理行政许可申请并转告有关部门分别提出意见后 (), 或者组织有关部门 ()、()。

- A 统一办理 联合办理 集中办理

《2011 年公务员考试行测考试 100 套华图真题》

- B 集中办理 统一办理 联合办理
- C 集中办理 联合办理 分别办理
- D 联合办理 集中办理 统一办理

14 行政机关实施行政许可，依照法律、行政法规收取费用的，应当按照公布的（ ）收费；所收取的费用必须全部上缴（ ），任何机关或者个人不得以任何形式截留、挪用、私分或者变相私分。

- A 标准和内容 本级人民政府
- B 法定项目和标准 国库
- C 法定范围 上级行政机关
- D 法定项目和标准 财政

15 2004 年 3 月 5 日，温家宝总理在政府工作报告中指出，（ ）是我国现代化建设中的一个重大战略问题。

- A 促进区域协调发展
- B 推进西部大开发
- C 促进中部地区崛起
- D 振兴东北地区等老工业基地

16 关于行政许可审查，下列说法错误的是（ ）。

A 申请人提交的申请材料齐全、符合法定形式，能够当场决定的，行政机关应当当场作出书面的行政许可决定

B 根据法定条件和程序，需要对申请材料的实质内容进行核实的，行政机关应当指派两名以上工作人员进行核查

C 依法应当先经下级行政机关审查后报上级行政机关决定的行政许可，下级行政机关应当在法定期限内将初步审查意见和全部申请材料直接报送上级行政机关

D 行政机关发现行政许可事项关系他人利益的，应当告知该利害关系人

17 行政机关作出行政许可决定，正确的是（ ）。

A 行政机关作出行政许可决定，包括作出准予行政许可决定和作出不予行政许可决定

B 行政机关作出行政许可决定，可以说明理由

C 行政机关作出行政许可决定，应当予以公开，公众有权查阅

D 行政机关作出准予行政许可的决定，应当向申请人颁发加盖本行政机关印章的行政许可证件

18 关于行政许可变更和延续，下列说法错误的是（ ）。

A 行政机关不可以主动变更行政许可事项

B 变更行政许可事项，应当符合法定条件、标准

C 行政机关应当在行政许可有效期届满前作出是否准予延续的决定

D 行政机关逾期未作延续行政许可决定的，视为准予延续

19 除可以当场作出行政许可决定的外，行政机关应当自受理行政许可申请之日起多少日内作出行政许可决定？（ ）

- A 15 日 B 10 日 C 20 日 D 5 日

20 下列关于行政许可的说法正确的是（ ）。

A 行政审批都是行政许可

B 行政许可包括行政机关对其直接管理的事业单位的人事、财务、外事等事项的审批

《2011 年公务员考试行测考试 100 套华图真题》

C 行政许可，是指行政机关根据公民、法人或者其他组织的申请，经依法审查，准予其从事特定活动的行为

D 行政许可包括基于所有者身份对国有资产管理事项的许可

21. 公民、法人或者其他组织依法取得的行政许可，下列说法错误的是（ ）。

A. 行机关可以依法变更或者撤回已经生效的行政许可

B. 行政机关不得擅自改变已经生效的行政许可

C. 法律、法规规定依照法定条件和程序可以转让

D. 行政机关可以随时撤消

22. 行政诉讼由下列何种机关或团体来主持？()

A. 人民法院

B. 人民检察院

C. 原行政机关

D. 原行政机关的上级行政机关

23. 国家对下列行为承担赔偿责任的有()。

A. 司法机关的民事行为

B. 国家机关和国家机关工作人员违法行使职权的行为

C. 工作人员的个人行为

D. 省民政厅盖办公大楼，因违约而与包工方发生纠纷，导致的 20 万元经济损失

24. 死刑只适用于()犯罪分子。

A. 危害国家安危的

B. 危害公共安全的

C. 罪行极其严重的

D. 贪污贿赂的

25. 以下不属于犯罪特征的是()。

A. 严重的社会危害性

B. 刑事违法性

C. 应受刑罚处罚性

D. 应该被判处有期徒刑

26. 下列哪项属于单位犯罪？()

A. 个体户王某偷税 1 万元

B. 骆马公司向某官员行贿 3 万元

C. 李某为谋取不正当利益，向远方公司行贿 1 万元

D. 天奇公司董事长因玩忽职守，严重不负责任，在与外商签订贸易合同时被骗，致使国家损失 600 万元

27. 以下属于防卫过当的是()。

A. 张某欲强奸赵某，赵某趁张某不备，一砖头砸死张某

B. 小明发觉王某正在偷窃自己的钱包，摸出水果刀，一刀刺死王某

C. 陈某在一头疯牛冲过来的时候，急忙躲进别人的屋里

D. 张某见郑某正在持刀抢劫一少女的手机，趁郑某不备，一棍子将郑某打伤

28. 民事法律行为成立的条件不包括()。

A. 行为人具有相应的民事行为能力

B. 有承担行为后果的财力

C. 不违反法律

《2011 年公务员考试行测考试 100 套华图真题》

- D. 采用法律要求的形式
29. 下列不属于民事诉讼的一项是 ()。
- A. 李某和妻子感情破裂，遂向法院起诉，要求离婚并分割财产
- B. 张某被公安机关拘留 15 日，他认为公安机关的做法是违法的，故提起诉讼
- C. 赵某为取回邻居欠他的一万元债而起诉
- D. 王奶奶到法院起诉，要求她的儿子必须按时给她赡养费
30. 某工厂有法人资格，法人应该是 ()。
- A. 该厂厂长
- B. 该厂的党支部书记
- C. 该厂
- D. 该厂的工会主席

经济常识（常识部分）答案

1. B 2. C 3. B 4. C 5. B 6. C 7. C 8. A
9. D 10. A 11. A 12. D 13. A 14. B 15. A 16. D
17. A 18. A 19. C 20. C 21. D 22. A 23. B 24. C
25. D 26. B 27. B 28. B 29. B 30. C

公务员行政知识阅读篇 - 法律篇

对于法律专业的学生来说，行政职业能力测验中的法律常识是非常简单的；但对于非法律专业的学生来说，又是非常棘手的，原因在于他们没学过法律，更不知道会考些什么。为了帮助广大考生把握复习方向，明确复习重点，下面就一些经常会考到的知识点作简要论述。

一、法律的概念

法，是由国家制定或认可，并由国家强制力保证实施的，反映统治阶级意志的规范体系，这一意志的内容是由统治阶级的物质生活条件决定的，它通过规定人们相互关系中的权利和义务，确认、保护和发展对统治阶级有利的社会关系和社会秩序。

二、当代中国的法律体系

法律体系，也称为部门法体系，是指一国的现行法律规范，按照一定的标准和原则，划分为不同的法律部门而形成的内部和谐一致、有机联系的整体。当代中国的法律体系通常包括下列部门法：宪法、行政法、刑法、民法、商法、经济法、劳动与社会保障法、自然资源与环境保护法、诉讼法。

三、宪法修正案(四)

第十届全国人民代表大会第二次会议于 2004 年 3 月 14 日通过了中华人民共和国宪法修正案。由于宪法是国家的根本大法，具有最高法律效力和权威，因此对于宪法的每一次修改，都会引起各界的广泛关注。这一次修改是对 1982 年宪法的第四次修改，共 14 条。

四、《中华人民共和国行政许可法》的颁布实施

2003 年 8 月 27 日，备受关注的《中华人民共和国行政许可法》获第十届全国人民代表大会常务委员会第四次会议通过，2004 年 7 月 1 日起正式施行。该法

《2011 年公务员考试行测考试 100 套华图真题》

的颁布与实施，是继 1989 年《行政诉讼法》及 1996 年《行政处罚法》颁布实施后行政法制建设领域又一部极其重要的法律，是我国民主法制建设史上的又一座里程碑。

五、行政赔偿

行政赔偿，是指国家行政机关或者行政机关的工作人员，在行使职权时侵犯了公民、法人或者其他组织的合法权益，并造成了损害，由行政机关作为赔偿义务机关对造成的损害履行赔偿义务。构成行政赔偿的，必须同时具备以下四个条件：

(1) 必须是行政机关行使职权的行为。

(2) 必须是行为依法确认违法的。

(3) 必须存在损害事实。

(4) 损害事实是在执行公务、行使行政管理权过程中发生的，而且与违法的具体行政行为有因果关系。

根据《行政诉讼法》第 68 条规定，行政机关作出的具体行政行为造成的损害，由该行政机关负责赔偿；行政机关工作人员作出的具体行政行为造成的损害，由该工作人员所在的行政机关负责赔偿，行政机关赔偿后，应当责令有故意或者重大过失的行政机关工作人员承担部分或者全部赔偿费用。

六、犯罪

《刑法》第 13 条规定：“一切危害国家主权、领土完整和安全，分裂国家、颠覆人民民主专政的政权和推翻社会主义制度，破坏社会秩序和经济秩序，侵犯国有财产或者劳动群众集体所有的财产，侵犯公民私人所有的财产，侵犯公民的人身权利、民主权利和其他权利，以及其他危害社会的行为，依照法律应当受刑罚处罚的，都是犯罪，但是情节显著轻微危害不大的，不认为是犯罪。”

七、年龄与承担刑事责任的关系

(1) 我国刑法规定公民完全承担刑事责任年龄为 16 周岁，相对负刑事责任年龄为 14 周岁，完全不负刑事责任年龄为 14 周岁以下。

(2) 已满 14 周岁的公民，犯以下各罪应承担刑事责任：故意杀人、故意伤害致人重伤或死亡、强奸、抢劫、贩卖毒品、放火、爆炸、投毒。

八、刑事追诉时效期限

犯罪行为经过下列期限不再追诉：

(1) 法定最高刑为不满 5 年有期徒刑的经过 5 年；

(2) 法定最高刑为 5 年以上不满 10 年有期徒刑的经过 10 年；

(3) 法定最高刑为 10 年以上不满 15 年有期徒刑的经过 15 年；

(4) 法定最高刑为无期徒刑、死刑的经过 20 年，如果 20 年以后认为必须追诉的须报请最高人民检察院核准。

在人民检察院、公安机关、国家安全机关立案侦查或者人民法院受理案件以后逃避侦查或者审判的，不受追诉时效期限的限制，被害人在追诉期限内提出控告，人民法院、人民检察院、公安机关应当立案而不予立案的，不受追诉期限的限制。

追诉期限从犯罪之日起计算，犯罪行为有连续或继续状态的，从犯罪行为终了之日起计算，在追诉期限以内又犯罪的前罪追诉的期限从犯后罪之日起计算。

九、合同的一般条款

除由法律、法规直接规定外，合同双方当事人的权利义务是通过合同条款来确定的。因此，《合同法》第 12 条规定，合同的内容由当事人约定，但一般包括

《2011年公务员考试行测考试100套华图真题》

以下条款：

(1) 当事人的姓名或者名称和住所。(2) 标的。(3) 数量。(4) 质量。(5) 价款或者报酬。(6) 履行期限、地点和方式。

十、解决合同争议的途径

公正地及时地解决合同争议对于保护当事人的合法权益，加强合同领域的法治建设，有着不可忽视的重大意义。根据《合同法》第128条之规定，当事人可以通过4种途径解决合同争议，即：(1) 协商和解；(2) 调解；(3) 提请仲裁机构仲裁；(4) 向人民法院提起诉讼。当事人不愿和解、调解或者和解、调解不成的，可以根据仲裁协议向仲裁机构申请仲裁。涉外合同的当事人可以根据仲裁协议向中国仲裁机构或者其他仲裁机构申请仲裁。当事人没有订立仲裁协议或者仲裁协议无效的，可以向人民法院起诉。当事人应当履行发生法律效力的判决、仲裁裁决、调解书；拒不履行的，对方可以请求人民法院执行。

十一、劳动争议的解决

因签订、履行劳动合同发生的劳动争议，当事人可以向本单位劳动争议调解委员会申请调解，调解不成，当事人一方要求仲裁的，应当自劳动争议发生之日起六十日内向劳动争议仲裁委员会提出书面申请。当事人一方也可以直接向劳动争议仲裁委员会申请仲裁。对仲裁裁决不服的，可以向人民法院提起诉讼。

十二、关于民间借贷

(1) 民间借贷的利率可以适当高于银行的利率，但最高不得超过银行同类贷款利率的四倍（包含利率本数）。

(2) 根据我国的法律规定和司法实践，借款的利息不得预先在本金中扣除。在借款时将利息扣除的，应当按实际借款数返还并计算利息。

(3) 在借贷关系中，仅起联系、介绍作用，对债务的履行没有保证意思表示的，不承担保证责任。

(4) 有保证人的借贷债务到期后，债务人有清偿能力的，由债务人承担责任；债务人不能履行债务的或者债务人下落不明的，由保证人承担连带责任。

十三、无效婚姻、可撤销婚姻

修订后的婚姻法增设了无效婚姻和可撤销婚姻制度，规定：

(一) 有下列情形之一的，婚姻无效：(1) 重婚的；(2) 有禁止结婚的亲属关系的；(3) 婚前患有医学上认为不应当结婚的疾病，婚后尚未治愈的；(4) 未到法定婚龄的。

(二) 因胁迫结婚的，受胁迫的一方可以向婚姻登记机关或人民法院请求撤销该婚姻。

(三) 无效或被撤销的婚姻，自始无效。当事人不具有夫妻的权利义务。同居期间所得的财产，由当事人协议处理，协议不成时，由人民法院根据照顾无过错方利益的原则判决。对重婚导致的婚姻无效的财产处理，不得侵害合法婚姻当事人的财产权益。当事人所生的子女，适用本法有关父母子女的规定。

十四、夫妻共同财产、个人所有财产和约定财产

修改后的婚姻法对夫妻共同财产、个人特有财产和约定财产制作出具体规定：

1. 共同财产，规定：夫妻在婚姻关系存续期间所得的下列财产，归夫妻共同所有：(1) 工资、奖金；(2) 生产、经营的收益；(3) 知识产权的收益；(4) 因继承或赠予所得的财产，但遗嘱或赠予合同中确定只归夫或妻一方的财产除外；(5) 其他共同所有的财产。

2. 个人所有财产，规定：有下列情形之一的，为夫妻一方的财产：(1) 一方

《2011年公务员考试行测考试 100 套华图真题》

的婚前财产；(2) 一方因身体受到伤害获得的医疗费、残疾人生活补助费等费用；(3) 遗嘱或赠与合同中确定只归夫或妻一方的财产；(4) 一方专用的生活用品；(5) 其他应当归一方的财产。

3. 约定财产，规定：(1) 夫妻可以约定婚姻关系存续期间所得的财产以及婚前财产归共同所有、各自所有或部分共同所有、部分各自所有。没有约定或约定不明确的，适用婚姻法关于共同财产制或个人财产制的规定。(2) 夫妻对婚姻关系存续期间所得的财产以及婚前财产的约定，对双方具有约束力。(3) 夫妻对婚姻关系存续期间所得的财产约定归各自所有的，夫或妻一方对外所负的债务，第三人知道该约定的，以夫或妻一方的财产清偿。(4) 离婚时，原为夫妻共同生活所负的债务，应当共同偿还。共同财产不足清偿的，或财产归各自所有的，由双方协议清偿，协议不成时，由人民法院判决。

十五、遗产

根据《继承法》的有关规定，遗产必须符合三个特征：第一，必须是公民死亡时遗留的财产；第二，必须是公民个人所有的财产；第三，必须是合法财产。这三个条件必须同时具备，才能成为遗产。遗产包括以下几项：

(1) 公民的合法收入。如，工资、奖金、存款利息、从事合法经营的收入、继承或接受赠予所得的财产。

(2) 公民的房屋、储蓄、生活用品。

(3) 公民的树木、牲畜和家禽。树木，主要指公民在宅基地上自种的树木和自留山上种的树木。

(4) 公民的文物、图书资料。公民的文物一般指公民自己收藏的书画、古玩、艺术品等。如果上述文物之中有特别珍贵的文物，应按《中华人民共和国文物保护法》的有关规定处理。

(5) 法律允许公民个人所有的生产资料。如农村承包专业户的汽车、拖拉机、加工机具等。城市个体经营者、华侨和港、澳、台同胞在内地投资所拥有的各类生产资料。

(6) 公民的著作权、专利权中的财产权利，即基于公民的著作被出版而获得的稿费、奖

金，或者因发明被利用而取得的专利转让费和专利使用费等。

(7) 公民的其他合法财产，如公民的国库券、债券、股票等有价证券，复员、转业军人

的复员费、转业费，公民的离退休金、养老金等。

十六、法定继承的顺序

法定继承，遗产按照下列顺序继承：

第一顺序：配偶、父母、子女。

第二顺序：兄弟姐妹、祖父母、外祖父母。

继承开始后，由第一顺序继承人继承，第二顺序继承人不继承。没有第一顺序继承人继承的，由第二顺序继承人继承。

继承法所说的子女，包括婚生子女、非婚生子女、养子女和有扶养关系的继子女。父母，包括生父母、养父母和有扶养关系的继父母。兄弟姐妹，包括同父母的兄弟姐妹、同父异母或者同母异父的兄弟姐妹、养兄弟姐妹、有扶养关系的继兄弟姐妹。

十七、仲裁

仲裁制度是指民（商）事争议的双方当事人达成协议，自愿将争议提交选定

《2011 年公务员考试行测考试 100 套华图真题》

的第三者根据一定程序规则和公正原则作出裁决，并有义务履行裁决的一种法律制度。

仲裁通常为行业性的民间活动，是一种私行为，即私人裁判行为，而非国家裁判行为，它与和解、调解、诉讼并列为解决民（商）事争议的方式。但仲裁依法受国家监督，国家通过法院对仲裁协议的效力、仲裁程序的制定以及仲裁裁决的执行和遇有当事人不自愿执行的情况时可按照审判地法律所规定的范围进行干预。因此，仲裁活动具有司法性，是中国司法制度的一个重要组成部分。

十八、证据

《民事诉讼法》第 63 条规定了证据有下列几种：

- （一）书证；
- （二）物证；
- （三）视听资料；
- （四）证人证言；
- （五）当事人的陈述；
- （六）鉴定结论；
- （七）勘验笔录。

由当事人提交的，主要有书证、物证和视听资料。书证应当提交原件，物证应当提交原物，提交原件或原物确有困难的，可以提交复制品。

十九、管辖

管辖是人民法院对符合受理条件的案件确定应由何级、何地法院受理的法律制度，分为级别管辖和地域管辖。

按照《民事诉讼法》第 29 条的规定，因侵权提起的诉讼，由侵权行为地或者被告住所地人民法院管辖。

按照《民事诉讼法》第 24 条规定，因合同纠纷提起的诉讼，由被告住所地或者合同履行地人民法院管辖。（因经济纠纷案件大都涉及合同）。

二十、简易程序

简易程序就是简化了的普通程序，是基层人民法院和它派出的法庭审理简单的民事案件所适用的程序。适用简易程序，在起诉方式、传唤方式以及开庭审理等方面比普通程序更简便易行，极大地方便了当事人进行诉讼。同时，快速、及时审结案件，可以减少当事人的讼累，提高办案效率，节省诉讼成本，并为人民法院集中力量审理好复杂、重大的民事案件腾出必要的时间和精力。

行政职业能力测验应试技巧

第一节数量关系解答技巧与题型介绍

一、数量关系的含义

对数量关系的理解与基本的运算能力，体现了一个人抽象思维的发展水平，是人类认识世界的基本能力之一。

几乎所有的智力问题专家都十分看重数量关系，并把它作为预测人们在事业上能否成功的标准之一。

数量关系的理解能力有多种表现形式，因而对其测量的方法也是多种多样的。在行政职业能力测验中主要从数字推理和数学运算两个角度来测查应试者的数量关系理解能力和反应速

《2011 年公务员考试行测考试 100 套华图真题》

度。

数量关系测验含有速度与难度测验的双重性质。在速度方面,要求应试者反应灵活,思维敏捷;在难度方面,其实是很有意思的,该测验涉及的数学知识或原理都不超过初中水平,甚至多数是小学水平的。如果时间充足,获得正确答案是不成问题的。但在一定的时间限制下,要求考生答题既快又准,个体之间的能力差异就显现出来了。可见,该测验难并不难在数字的运算上,而在于对规律的发现和把握,它实际测验的是个体的抽象思维能力。因此,解答数量关系测验题不仅要求考生具有数字知觉能力,还需要判别、分析、推理、运算等能力的综合运用。

二、数量关系题的解答方法

数量关系测验题的解答,要把握下面 5 个原则:

(1) 运算题尽可能采用心算。该测验共有 15 道题,其中 5 题是数字推理题,10 题是数学运算题,作答时限为 10 分钟。也就是说,平均一道题仅有 40 秒的时间作答,可见对速度的要求之高了。而在数量关系测验中,运算题一般比较简单,采用心算可以节省时间,将十分有限的时间尽量集中用于较难试题的解答上。

(2) 遇到一时做不出来的题目,可以先跳过去,待完成其他较容易的试题后,若有时间再回头攻坚。总之,不能在一道题目上停留太久。如果因一题解答受阻,而失去解答更多试题的机会,造成不应有的丢分,那实在太可惜了。

(3) 数字推理题应从逻辑关系上把握,不能仅从数字外形上判断。譬如,若题干数列均由奇数组成,就判定正确答案应是奇数,这种判断显然过于简单武断了。

(4) 对于数量关系测验来说,速度十分重要,但必须要在准确性的前提下来追求速度。如果做得很快却无一正确,结果毫无意义。为此,每道题最好在心算基础上都验算一次,以保证准确无误。

(5) 不少数学运算题可以采用简便的速算方法,而不需要死算。为此,拿到题目后,先花一点时间考察有没有简便算法来解题,这点时间的花费是值得的,也是必要的。如果找到简便算法,会大大减少解题所用的时间,取得事半功倍的作用。

第二节 数字推理题解答技巧与题型介绍

数字推理含义

数字推理题由题干与选项组成。

题干是由一组按某种规律排列的数字组成的(其中缺少一个数字),选项为 4 个数字,要求应试者分析题干数列的排列规律,根据规律推导出空

缺中应填入的数字,然后从选项列出的数字中选出应填的一个,将题目答案填写在答题纸上。

做数字推理题的基本思路是“尝试错误”。很多数字推理题都不能一眼就看出规律,找到答案,而要经过两三次的尝试,逐步排除错误的假设,最后才能找到正确的规律。目前这类题目倾向于越出越难,应试者更需要在心理上做好这种思想准备。当然,考前进行适度的练习,注意总结经验,了解有关的出题形式,会使考试时更为得心应手。

《2011年公务员考试行测考试100套华图真题》

数字推理题难度较大,但并非无规律可循,了解和掌握一定的方法和技巧,对解答数字推理问题大有帮助。

(1)在解答数字推理题时,反应要快,一般要先快速扫描已给出的几个数字,仔细观察和分析各数之间的关系,尤其是前三个数之间的关系,大胆假设出一种符合这个数字关系的规律,并迅速将这种假设应用到下一个数字之间的关系上,如果得到验证,就说明假设的规律是正确的,问题即迎刃而解;如果假设被否定,马上改变思路,提出另一种数量规律的假设。如此反复,直到找到正确规律为止。当然,有一些题型是需要首先考察前三项(如前两项之和等于第三项的数字排列规律)甚至是前四项(如双重数列的排列规律)才会发现规律的。另外,有时从后往前推,或者“中间开花”向两边推也是较为有效的。

(2)推导规律时,往往需要简单计算,为节省时间,要尽量多用心算,少用笔算或不用笔算。

(3)空缺项在最后的,从前往后推导规律;空缺项在最前面的,则从后往前寻找规律;空缺项在中间的可以两边同时推导。

(4)若一时难以找出规律,可用常见的规律来“对号入座”,加以验证。常见的排列规律有:

①奇偶数规律:各个数都是奇数(单数)或偶数(双数)。

②等差:相邻数之间的差值相等,整个数字序列依列递增或递减。

③等比:相邻数之间的比值相等,整个数字序列依次递增或递减。

④二级等差:相邻数之间的差或比构成了一个等差数列。

⑤二级等比数列:相邻数之间的差或比构成一个等比数列。

⑥加法规律:前两个数之和等于第三个数。

⑦减法规律:前两个数之差等于第三个数。

⑧乘法(除法)规律:前两个数之乘积(或相除)等于第三个数。

⑨完全平方数:数列中蕴含着一个完全平方数序列,或明显、或隐含。

⑩混合型规律:由以上基本规律组合而成,可以是二级、三级的基本规律,也可能是两个规律的数列交叉组合成一个数列。需要补充说明一点,近年来数学推理题的趋势是越来越难。因此,当遇到难题时,可以先跳过去做其他较容易的题目,等有时间再返回来答难题。这种处理不但节省了时间,保证了容易题目的得分率,甚至会对难题的解答有所帮助。有时一道题之所以解不出来,是因为我们的思路走进了死胡同,无法变化角度思考问题。此时,与其死“卡”在这里,不如抛开这道题做别的题。在做其他题的过程中也许就会有新的解题思路。在解答阅读理解试题时,考生应注意以下一些重要环节。

1. 注重对文章中关键词语的理解

阅读理解的困难之一,主要表现为对文章中一些关键词语的正确理解。

它又分为两种情况:一是意义明显的,可以在上下文中找到解释;另一种情况是意义隐晦的词语,虽然在语言环境中具体的内容,但作者并没有把它用文字明确地表示出来,需要应试者调动自己以往的知识和经验,通过归纳和分析,用自己的语言表达出来。

针对文章中关键词语出题的基本形式,是词语替换和选词填空,即原有的两种基本题型。另外,还有可能直接让考生判别关键词的准确含义或挑出用得不当的词语。在解答这些题时,考生应把握以下两点:

(1)首先要准确理解整个句子的意义。一个词只有在具体的语言环境中才有其确切含义,只有依靠具体的语言环境,才能把词义理解准确、透彻。对字义、

《2011 年公务员考试行测考试 100 套华图真题》

词义的理解，其基本原则是“字不离词，词不离句”。

(2) 把选项中的词代入到句中，默念一遍，找语感。

2. 注重对文章中的关键语句的理解

关键语句是指在文章中起关键作用的语句，在意义或结构上起衔接、照应的作用。要理解它们的含义，离不开具体的语言环境。

在应付针对关键语句命制的试题时，考生应注意以下两点：

(1) 熟悉基本的语法知识，依靠语法知识对句子进行分析，重点检查句子成分是否残缺，搭配是否恰当，次序是否合理，定语修饰的主体是否明确等等。

(2) 要依赖于语感，注重语意表达的准确性。

3. 对片段或文章的概括理解能力

概括文章的内容，是一种从具体到抽象、从个别到一般、从现象到本质的提炼与升华过程。在这个过程中，要做到内容完整而不片面、语言恰当而不偏颇、文字简明而不拖沓。当然，阅读的主要目的是从书面语言中吸取有用的信息，这些信息往往分布在文章的各个部分。因此，阅读理解不仅仅是对某一个词语或语句的分析，更重要的是对文章的大量重要信息进行筛选，以便作出正确的理解。

4. 把握作者的写作意图和目的

这一点至关重要。考生可通过以下途径来实现这个目标：

(1) 首先应对整篇文章有完整、准确的理解，从总体上把握文章的主题；

(2) 要善于抓住文中关键句子或关键词，它们有时会出现于文章的开头，有时也会出现在文章的结尾或中间；

(3) 要对文章的引申含义进行分析和深加工；

(4) 从选项与原文在意思上是否一致入手。

(一) 事件排序的技巧

事件排序主要是考查应试者为掌握全部事实的条件下解决问题的能力，一般都是基本

的生活事实，可以根据生活常识来判断，这里介绍几种方法：

(1) 排除法。

做这类题首先迅速看一遍题干，粗略判断最先环节或者最后一个环节，把备选答案中最不可能的选项排除。

(2) 假设法。迅速浏览一遍题干，利用自己掌握的基本常识做出判断，并对已知的事实做出大胆的假设，然后按事件发生的先后顺序进行排列。

(3) 合理性。看完题干对所给出的事实有一定的了解，根据自己已有的知识，做出合理的分析，从反向的角度进行推理，从而得到正确的顺序。

(二) 图形推理的技巧

从近年来中央、国家机关录用考试的情况看，图形推理基本包括两套图形。这类试题的解答需要掌握一定的技巧和方法。

(1) 排除法。先观察给出的图形，找出大概的规律性，再看备选图形，把最明显违背这一规律的予以排除。

(2) 观察点。仔细观察，同时注意常考的基本观察点，主要有方向性，元素的多少，折叠伸展、形状的相似性等。

(三) 演绎推理的技巧

(1) 掌握法则。行政职业能力考试考查的演绎推理包括简单推理和复杂推理，多数是逻辑性的，要掌握一定的推断法则，由于在演绎推理中，前提与结论之间有必然性的联系，结论不能超出前提所断定的范围。因此，在解答此种试题

《2011年公务员考试行测考试100套华图真题》

时，必须紧扣题干部分陈述的内容，正确答案应与所给的陈述相符。

(2) 直接推出。这部分试题的备选答案一般都具有很强的迷惑性，每个选项看上去都有道理，但有道理并不等于与这段陈述相关。所以要选择与陈述直接有关的，即从陈述中直接推出答案。

(3) 避免干扰。演绎推理过程包括一系列的语句，其中最后一句是结论，它是从前几句的逻辑中推理出来的。结论的正确性取决于前提的正确性。然而在行政职业能力考试中，题干的陈述有的合乎常理，有的可能不太合乎常理。但必须明白这段陈述被假设是正确的，不容置疑的，所以避免为常理所干扰。

(四) 定义判断的技巧

(1) 抓住关键。在定义判断中，一定要理解定义的正确含义，抓住定义的关键，然后把选项与定义相对照，选择符合定义规定和要求的选项。

(2) 对比排除。仔细读完题干定义，对备选项进行分析，不符合题干定义要求的逐个对比排除。

一、邓小平理论的形成

首先，邓小平理论是总结我国和其他社会主义国家进行社会主义建设的历史经验和教训，对社会主义进行再认识的产物。

其次，当代国际形势的新发展所形成的新的时代特征，要求社会主义顺乎世界潮流，反映时代变化，这是邓小平理论形成的国际大背景。

二、邓小平理论的探索与实践过程

十二大以后，确立了解放思想、实事求是的思想路线，将工作中心转移到经济建设上来，并及时提出必须坚持四项基本原则，初步形成“一个中心，两个基本点”的思想。

十二大到十三大，提出社会主义商品经济和社会主义初级阶段理论。

十三大系统地论证了社会主义初级阶段的理论和党在社会主义初级阶段的基本路线，阐述了党在十一届三中全会以来社会主义理论方面取得的成果，回答了我国社会主义建设的发展阶段、任务、动力、条件、步骤以及所处的国际环境和时代特征问题，构成了邓小平理论的基本轮廓。

十四大对建设有中国特色社会主义理论的形成、基本内容做了全面的概括和论述，并将建立社会主义市场经济体制确立为我国经济体制改革的目标，至此，邓小平理论形成比较完整的科学体系。

三、邓小平理论精髓

邓小平理论的精髓是解放思想、实事求是。其二者的共同要求是：人的主观认识要符合客观实际，要随着实践的发展而发展。

首要问题是要搞清楚什么是社会主义、怎样建设社会主义。社会主义的本质：“解放生产力，发展生产力，消灭剥削，消除两极分化，最终达到共同富裕”。

四、社会主义初级阶段

社会主义初级阶段的基本特征 首先，我国已具备了社会主义社会的一般特征：GCD领导的人民民主专政的国家政权；以马克思主义为指导的思想文化；以公有制和按劳分配为主体的经济基础。

其次，我国尚处于不发达的社会主义阶段。

第三，建设社会主义需要一个较长的历史阶段。

五、社会主义初级阶段的主要矛盾

《2011 年公务员考试行测考试 100 套华图真题》

在社会主义基本完成以后,我国的主要矛盾是人民日益增长的物质文化需要同落后的社会生产力之间的矛盾。

社会主义初级阶段的主要矛盾决定了党和国家的工作中心是经济建设,根本任务是集中力量发展社会生产力。

党在社会主义初级阶段的基本路线 我国还处在社会主义初级阶段的科学论述是邓小平建设有中国特色社会主义理论的重要基础,是我们制定路线、方针、政策的根本出发点。

党在社会主义初级阶段的基本路线是:“领导和团结全国各族人民,以经济建设为中心,坚持四项基本原则,坚持改革开放,自力更生,艰苦创业,为把我国建设成为富强、民主、文明的社会主义现代化国家而奋斗。”

社会主义的根本任务是发展生产力:

六、三个有利于判断的标准是

是否有利于发展社会主义社会的生产力,是否有利于增强社会主义国家的综合国力,是否有利于提高人民的生活水平。

七、社会主义市场经济基本特征

与资本主义经济的共同特征:企业的自主经营,资源配置的市场性,经济活动的开放性,完善的市场体系,市场管理的法制性,宏观调控的间接性,市场竞争的平等性。

社会主义市场经济自身特征:(1)在所有制结构上,以公有制为主体,多种所有制经济共同发展。(2)在分配制度上,坚持按劳分配为主体,多种分配方式并存的制度。(3)在宏观调控上,能把人民的当前利益与长远利益、局部利益与整体利益结合起来,更好地发挥计划和市场两手段的长处。(4)在政治制度上,中国共产党领导下的人民民主政权是社会主义的基本政治制度。

八、现代企业制度

现代企业制度是以企业法人制度为主体、以有限责任制度为核心、以经营为特征的新型企业制度。

企业制度的形式:个人业主企业;合伙制企业;公司制企业

我国要建立的现代企业制度特征:(1)产权清晰:主要是由法律明确界定出包括国家在内的出资者权利和企业法人财产权利,实现出资者所有权与法人财产权的分离。(2)权责明晰:指所有者(出资者)同企业经营者有各自明确的权利和责任。(3)政企分开:企业和政府之间不存在行政机构的隶属关系,政府作为社会经济管理者不能直接干预企业的生产经营活动。(4)管理科学:指建立科学的企业领导体系和组织管理制度,调节所有者、经营者和职工之间的关系,形成激励和约束相结合的经营机制。建立合理的决策、执行和监督体系,防止国有资产流失

九、市场体系

市场体系是相互联系各类市场的有机统一体,商品市场、资本市场、劳动力市场是市场体系的最基本内容,是市场体系的三大支柱。

市场体系中的各类市场

(1)商品市场主要包括消费资料市场和生产资料市场。

消费资料市场的特点:多样性、层次性、分散性、流动性。

生产资料市场的特点:购买者以各类企业为主;以中间产品的交换为主;生产企业对生产资料的需求变化小但需求量大;需求相对稳定,决定了生产资料市场有可能相对集中和相对独立,有利于发展期货市场。

《2011年公务员考试行测考试100套华图真题》

生产资料市场的功能：制约社会发展的速度和规模；制约社会物质资料的生产结构；制约社会经济资源的配置。

(2) 金融市场：金融是指货币资金的融通，包括货币的发行、流通和回笼，贷款的吸收和提取，贷款的发放和收回，投资资金的筹集等一切与货币流通有关的活动。

金融市场的主要作用：引导资金合理配置资源；聚集资金扩大生产规模；影响利率实现宏观调控；提供竞争改善经营管理。

(3) 劳动力市场：劳动力市场是指劳动力进行流通和交流的场所。其作用是运用市场机制调节劳动力供求关系，推动人才的合理流动，实现劳动力资源的合理配置。劳动力市场上流动的是人的劳动能力，包括体力和智力两个方面。

在市场经济条件下，劳动力的供求是由市场机制决定的，劳动力市场的特点在于：具有很强的地域性；具有流动性；具有相对稳定性；具有双向选择性。

(4) 房地产市场

房地产的市场组织形式主要有六种：

A. 土地的一级市场。由国家采取公开拍卖、招标、协议等方式^{①②}或划拨土地使用权。

B. 房地产开发市场。主要包括资金筹措和建筑施工两大环节的活动。

C. 房地产交易市场。指有组织、有领导建立的有形房地产交易市场。包括所有与房地产经营有关的活动，如集资建房、房屋互换、房地产信托代办、新房^{①②}和预售、旧房的买卖和租赁。

D. 商品销售市场。有两种形式：房屋产权^{①②}；房屋使用权的转让。

E. 房地产金融市场。

F. 涉外房地产市场

(5) 技术和信息市场

广义的技术市场是指技术商品交换关系的总和，包括技术商品的开发、应用和流通的全过程；狭义的技术市场是指技术商品交换的场所。

(6) 期货市场

狭义的期货市场是指期货交易的场所，即期货交易所；广义的期货市场是指构成期货交易的全部要素，包括交易所、经纪公司、结算所、期货交易者等。

十、宏观调控的目标和手段

宏观调控体系与现代企业制度、市场体系、收入分配制度和社会保障制度构成社会主义市场经济体制的基本框架。

党的十四届三中全会《中共中央关于建立社会主义市场经济体制若干问题的决定》中要求建立以间接手段为主的完善的宏观调控体系。

宏观调控的目标：保持社会总供给与总需求的基本平衡；保持国民经济的适度增长率；合理调整产业结构；保持物价总水平的基本稳定；实现劳动力的充分就业；公平的收入分配；国际收支平衡。

宏观调控的基本手段：经济手段(为主)；行政手段；法律手段。

宏观调控的经济政策：财政政策；货币政策；产业政策。

十一、社会保障制度

(1) 社会保险。是社会保障的核心内容，是社会保障体系的基本纲领，起到补偿劳动者收入损失的功能。

(2) 社会救助。其目的是帮助社会成员获得最低限度的生活条件，是社会保障体系中的最低纲领。

《2011 年公务员考试行测考试 100 套华图真题》

(3) 社会福利。一个国家的社会福利状况,是其国民经济发展水平的重要反映,是社会保障体系的最高纲领。

(4) 社会优抚。是社会保障体系中的特殊纲领。

(5) 社会互助和个人储蓄积累。是社会保障体系的补充纲领。

十二、改革

改革是社会发展的动力,是解决社会主义社会基本矛盾,推动社会主义发展的直接动力。

我国经济体制改革的目标是逐步完善和建立社会主义市场经济体制,

政治保证 坚持四项基本原则是党在社会主义初级阶段基本路线的两个基本点之一,是立国之本,是社会主义建设的政治保证。

中国 GCD 的领导是四项基本原则的核心,也是建设有中国特色社会主义的根本保证。

深入、扎实、持久地用邓小平理论武装全党,是党的建设的首要任务。

十三、外交政策

独立自主是我国外交政策的根本原则,维护我国的独立和主权,促进世界的和平发展,是我国外交政策的基本目标。

和平共处五项原则是我国处理国际关系的基本原则。

反对霸权主义和强权政治,维护世界和平,是我国对外政策的基本方针和首要任务。

建立国际经济政治新秩序,是我国外交为之奋斗的基本目标。

十四、一国两制

1979 年邓小平同志出访美国时表示:“只要台湾和大陆统一,我们将尊重台湾的生活方式和现行制度。”首次表达了一国两制的思想。

1982 年邓小平同志在会见撒切尔夫人时,对关于恢复香港主权问题,明确提出可以用“一个国家,两种制度”的方法解决。

1984 年第六届人大二次会议将“一国两制”作为基本国策。

1997 年 7 月 1 日,香港回归祖国。

1999 年 12 月 20 日,澳门回归祖国

公务员考试行测常识判断—信息技术知识判断

1. 在计算机中,用文字、图像、语言、情景、现象等所表示的内容都可称为信息。

2. 信息的主要特征:可传递性和共享性、载体的可变换性、可处理性和可增值性;

3. 信息技术 (Information Technology, IT) 主要包括感测技术、通信技术、计算机技术、控制技术等。

4. 信息技术的五次革命:语言的使用、文字的使用、印刷术的使用、电报电话广播电视的发明和普及、计算机技术与现代通讯技术的发明和使用。第五次信息技术革命将人类社会推进到信息化时代。

5. 1946 年 2 月在美国宾夕法尼亚大学(),世界上第一台被称作 ENIAC 的电子计算机在美国问世,美籍匈牙利数学家冯·诺依曼是主要设计者之一,他的理论的最基本思想是存储程序和程序控制。

6. 计算机发展的四个阶段:第一代计算机(1946-1957)主要部件为电子管;第二代计算机(1958-1964)主要部件为晶体管;第三代计算机(1965-1970)主

《2011 年公务员考试行测考试 100 套华图真题》

要部件为中小规模集成电路；第四代计算机（1971 到现在）主要部件大规模或超大规模集成电路。电子计算机主要就是以电子元件划分发展阶段的。我们现在所使用的个人计算机（简称微机）属于第四代计算机，它是在 70 年代随着集成电路的发展而发展起来的，而最早的计算机主要由电子管元件组成的，其用途主要是用于科学计算。

7. 计算机的主要特点有：惊人的运算速度是计算机的重要特征，除此以外还有很高的计算机精度、超强的存贮能力、准确的逻辑判断能力、自动控制能力。

8. 计算机的应用主要应用在：数值计算、信息处理、过程控制、计算机辅助系统、人工智能。

9. 信息、物质、能源并称为人类社会必不可少的三大资源，计算机是处理信息的最重要工具。

10. 信息处理是指运用计算机实现信息的收集、加工、存贮和传输、利用信息进行决策的全过程。

11. CAI：多媒体辅助教学系统，CAD：计算机辅助设计系统，CAM：计算机辅助制造。

12. 计算机的分类：根据规模大小可分为巨型计算机、大型计算机、中型计算机、小型计算机、微型计算机五类

13. 计算机的发展方向将向网络化、智能化、高度集成化的方向发展

14. 一台完整的计算机必须由软件和硬件两部分组成

15. 计算机硬件一般由运算器、控制器、存贮器、输入设备和输出设备五部分组成。

16. 中央处理器简称 CPU，由运算器和控制器组成，计算机的最主要部件，是计算机的“中枢神经”。CPU 的好坏、档次高低，基本决定一台计算机的好坏与档次高低，CPU 是计算机的核心部件。主频是 CPU 的运算速度的标志，数字越大，运算速度越快，即 CPU 越好。

17. 存储器分为内存储器（简称内存）和外存储器（简称辅存）组成；内存储器又由只读存储器（ROM）和随机存储器（RAM）两部分组成；只读存贮器（ROM）存贮计算机本身特征，内部数据，不能修改，能长久保存内部数据，容量较小；随机存贮器（RAM）是 CPU 吞吐数据的场所，其存贮的内容可读可写，关机或停电后，存贮内容全部丢失。内存条是计算机的主存中的 RAM 部分。辅助存储器主要有硬盘、软盘、光盘、优盘等。

18. 输入设备：键盘、鼠标、手写笔、麦克风、扫描仪（Scanner）、视频输入设备、条形码扫描器、数码相机、数码摄像机等向计算机输入数据与指令的设备。

19. 输出设备：显示器、打印机、绘图仪、音箱等向操作提供输出结果的设备。

20. 既属于输入设备又属于输出设备的有：磁盘驱动器、触摸屏显示器等。

21. 存贮速度最快而容量最小的是 CPU 内部的寄存器。访问速度由快到慢依次是快存（寄存器）、主存、辅存。

22. 计算机软件一般分为系统软件、应用软件、应用支持软件三大类。

23. 计算机是通过电信号来控制电脑操作的，这些简单的电信号及其组合被称为计算机的指令，这些指令用一系列的二进制符号表示（即 0 和 1 表示），计算机能直接读懂他们，所以称这些二进制指令及其所代表的意义为机器语言。机器语言属于低级语言。计算机所能直接识别和执行的语言就只有机器语言。

《2011 年公务员考试行测考试 100 套华图真题》

24. 1 字节的空间能存贮一个英文字符的编码, 而需 2 字节才能存贮下一个汉字的编码

25. 文件是一个个的应用程序或一些数据资料, 是计算机里组织信息的基本单元。文件夹是计算机用来将一些列相关的程序和数据文件关联在一起的组织形式。文件名的组成: 主文件名. 文件扩展名。主文件名和文件扩展名中间用英文句点隔开。文件扩展名决定了文件的类型。计算机内的数据和程序都是以文件形式存储在磁盘上的。文件的创建日期和最新修改日期可以在资源管理器中看到。在树型目录结构中, 同一个磁盘的同一个文件目录下不允许出现两个文件名(包括主文件名和扩展文件名)完全相同。

26. Windows 资源管理器是 Windows 系统的重要内容, 是系统提供给用户管理软硬件资源的界面。某些资源名前带有“+”号的方框, 表示该资源可被展开并显示下属关系, 点击该方框则展开; 有的带有“-”号的方框, 表示其下属关系已展开, 点击则该方框折叠。文件查找是资源管理器的一项重要功能。两个通配符“*”和“?”的使用方法与区别, “*”可以代表任何多个字符, “?”只代表一个字符。

27. Windows 系统启动后在内存中开辟一块空间, 称做剪贴板。

28. Windows98 中的回收站是一个特殊的文件夹, 存放的只能是硬盘上被删除的文件或文件夹; 从软盘或优盘上删除的文件或文件夹, 将会被直接删除而不会放到回收站去。

29. 文件类型: .txt——纯文本文件(记事本生成的默认文件)、.doc——Word 生成的文本文件、图像文件主要有: .bmp、.jpg、.gif 等; 声音文件主要有: .wav、.mid、.mp3、.wma 等; 视频动画文件主要有: .mpg、.avi、.mov 等。可执行文件有: 扩展名为 .exe 的可执行文件、.com 的命令文件、.bat 的批处理文件三类。如果在同一目录下存在两个或三个扩展名不同而主文件名相同的可执行文件, 则计算机每次只能执行其中一个, 其执行的优先顺序为: .com、.exe、.bat

30. 计算机病毒最早出现于上世纪 80 年代, 所谓的计算机病毒, 实质上它是人为制造、蓄意编制的一种特殊程序。其特殊性表现在隐蔽性、繁衍性、传染性、破坏性等方面。

31. 计算机的产生与发展

计算机的产生是 20 世纪最重要的科学技术大事件之一。世界上的第一台计算机(ENIAC)于 1946 年诞生在美国宾夕法尼亚大学, 到目前为止, 计算机的发展大致经历了四代:

① 第一代电子管计算机, 始于 1946 年, 结构上以 CPU 为中心, 使用计算机语言, 速度慢, 存储量小, 主要用于数值计算;

② 第二代晶体管计算机, 始于 1958 年, 结构上以存储器为中心, 使用高级语言, 应用范围扩大到数据处理和工业控制;

③ 第三代中小规模集成电路计算机, 始于 1964 年, 结构上仍以存储器为中心, 增加了多种外部设备, 软件得到了一定的发展, 文字图象处理功能加强;

④ 第四代大规模和超大规模集成电路计算机, 始于 1971 年, 应用更广泛, 很多核心部件可集成在一个或多个芯片上, 从而出现了微型计算机。

我国从 1956 年开始电子计算机的科研和教学工作, 1983 年研制成功 1 亿/秒运算速度的“银河”巨型计算机, 1992 年 11 月研制成功 10 亿/秒运算速度的“银河 II”巨型计算机, 1997 年研制了每秒 130 亿运算速度的“银河 III”巨型计算机。

《2011 年公务员考试行测考试 100 套华图真题》

目前计算机的发展向微型化和巨型化、多媒体化和网络化方向发展。计算机的通信产业已经成为新型的高科技产业。计算机网络的出现,改变了人们的工作方式、学习方式、思维方式和生活方式。

32. 计算机的系统组成

计算机系统由软件和硬件两部分组成。硬件即构成计算机的电子元器件;软件即程序和有关文档资料。

(1) 计算机的主要硬件

输入设备:键盘、鼠标、扫描仪等。

输出设备:显示器、打印机、绘图仪等。

中央处理器(CPU):包括控制器和运算器运算器,可以进行算术运算和逻辑运算;控制器是计算机的指挥系统,它的操作过程是取指令——分析指令——执行指令。

存储器:具有记忆功能的物理器件,用于存储信息。存储器分为内存和外存

①内存是半导体存储器(主存):

它分为只读存储器(ROM)和随机存储器(RAM)和高速缓冲存储器(Cache);

ROM:只能读,不能用普通方法写入,通常由厂家生产时写入,写入后数据不容易丢失,也可以用特殊方法(如紫外线擦除(EPROM)或电擦除(EEPROM)存储器);

RAM:可读可写,断电后内容全部丢失;

Cache:因为CPU读写RAM的时间需要等待,为了减少等待时间,在RAM和CPU间需要设置高速缓存Cache,断电后其内容丢失。

②外存:磁性存储器——软盘和硬盘;光电存储器——光盘,它们可以作为永久存储器;

③存储器的两个重要技术指标:存取速度和存储容量。内存的存取速度最快(与CPU速度相匹配),软盘存取速度最慢。存储容量是指存储的信息量,它用字节(Byte)作为基本单位,

1字节用8位二进制数表示,1KB=1024B,1MB=1024KB,1GB=1024MB

(2) 计算机的软件

计算机的软件主要分为系统软件和应用软件两类:

①系统软件:为了使用和管理计算机的软件,主要有操作系统软件如,WINDOWS 95/98/2000/NT4.0、DOS 6.0、UNIX等;WINDOWS 95/98/2000/NT4.0是多任务可视化图形界面,而DOS是字符命令形式的单任务的操作系统。

②应用软件:为了某个应用目的而编写的软件,主要有辅助教学软件(CAI)、辅助设计软件(CAD)、文字处理软件、工具软件以及其他的应用软件。

33. 计算机的网络安全

(1)、不同环境中的应用中的网络安全

运行系统安全,即保证信息处理和传输系统的安全。它侧重于保证系统正常运行,避免因系统的崩溃和损坏而对系统存储、处理和传输的信息造成破坏和损失,避免因电磁泄漏,产生信息泄露,干扰他人,受他人干扰。

网络上系统信息的安全。包括用户口令鉴别,用户存取权限控制,数据存取权限、方式控制,安全审计,安全问题跟踪,计算机病毒防治,数据加密。

网络上信息传播安全,即信息传播后果的安全。包括信息过滤等。它侧重于防止和控制非法、有害的信息进行传播后的后果。避免公用网络上大量自由传输的信息失控。

网络上信息内容的安全。它侧重于保护信息的保密性、真实性和完整性。避

《2011 年公务员考试行测考试 100 套华图真题》

免攻击者利用系统的安全漏洞进行窃听、冒充、诈骗等有益于合法用户的行为。本质上是保护用户的利益和隐私。

网络安全的特征

(2)、网络安全应具有以下四个方面的特征:

保密性: 信息不泄露给非授权用户、实体或过程, 或供其利用的特性。

完整性: 数据未经授权不能进行改变的特性。即信息在存储或传输过程中保持不被修改、不被破坏和丢失的特性。

可用性: 可被授权实体访问并按需求使用的特性。即当需要时能否存取所需的信息。例如网络环境下拒绝服务、破坏网络和有关系统的正常运行等都属于对可用性的攻击;

可控性: 对信息的传播及内容具有控制能力。

(3)、主要的网络安全威胁

自然灾害、意外事故;

计算机犯罪;

人为行为, 比如使用不当, 安全意识差等;

“黑客” 行为: 由于黑客的入侵或侵扰, 比如非法访问、拒绝服务计算机病毒、非法连接等;

内部泄密;

外部泄密;

信息丢失;

电子谍报, 比如信息流量分析、信息窃取等;

信息战;

网络协议中的缺陷, 例如 TCP/IP 协议的安全问题等等。

1) ——政府职能的含义

1. 含义:

亦称行政职能, 是国家行政机关, 依法对国家和社会公共事务进行管理时应承担的职责和所具有的功能。

2. 包括几层意思

行政职能

a. 实施主体: 政府机构

b. 主要内容: 管理国家和社会公共事务

c. 实施手段: 依法行政

d. 是完整统一的体系

2) ——政府职能的发展变化

1. 自然经济状态下的政府职能: 御外和安内。

2. 近代资本主义国家的政府职能:

御外、安内和建设公共设施

3. 现代资本主义国家的政府职能:

提供公共产品和服务

稳定宏观经济

调节社会分配

《2011 年公务员考试行测考试 100 套华图真题》

维护市场秩序

4. 传统社会主义国家计划体制下的政府职能：

正在转变

3) ——政府职能的重要地位

政府职能

- a. 体现了公共行政的本质要求
- b. 是政府机构设置的根本依据
- c. 转变是行政管理体制和机构改革的关键
- d. 政府职能的实施情况是衡量行政效率的重要标准

4) ——政府的基本职能

1. 定义：

依据政府管理的事务性质横向划分的政府职能称为政府的基本职能。

2. 内容

- a. 政治职能(包括军事保卫、外交、治安、民主政治建设)
- b. 经济职能(宏观调控、提供公共产品和服务、市场监督)
- c. 文化职能(教育、科技、文化、卫生、体育、新闻出版、广播影视)
- c. 社会职能(其他的社会公共性的职能)

5) ——政府的层级职能

1. 含义：

是按政府所辖行政区域划分的职能。

2. 政府层级职能包括：

- a. 中央政府专有职能
- b. 地方政府专有职能
- c. 中央和地方政府共享的职能(如：社会治安、公共福利、城市发展、环境保护、国土管理、民族事务、司法监察)

注：

目前，我国政府层级职能并没有在宪法或法律上明确规定。

6) ——政府的管理运行职能

1. 含义：

是按照管理运行程序划分的职能。符合管理学中的“封闭性原则”

2. 可分为：

计划职能

组织职能

领导职能

控制职能

7) ——影响与制约政府职能转变的因素

- 1. 社会环境的变迁(是转变的外因)
- 2. 公共行政的科学化(是转变的内在动力)
- 3. 技术手段的创新(是转变的根本保障)
- 4. 传统行政文化的影响(是转变的制约因素)

8) ——政府职能转变的内容

主要有三个方面：

- 1. 政府职能的外部转移
(政府与非政府组织之间)

《2011 年公务员考试行测考试 100 套华图真题》

2. 政府职能的系统转移
(或叫内部转移, 是政府内部重划分职能)

3. 行政管理方式的转变
(包括工作方式、工作作风、运行程序等)

9) ——政府职能转变的关键

关键是: 政企分开

10) ——政府机构的含义

广义:

是指国家的立法、司法、行政机关等所有国家机构的总称。

狭义:

国家行政机关

11) ——政府机构与非政府机构的关系

注意区分政府机构与其它机构之间的联系和区别:

1. 国家机构: 国家机构包含政府机构。

2. 政党组织

3. 群众组织:

如工会、共青团、妇联、文联、村委会、居委会

4. 事业单位(因为不以行政管理为主要职责, 因而不属于政府机构): 如地震局、气象局

12) ——机构编制管理

1. 领导体制:

统一领导、分级管理

2. 管理机关:

党中央、国务院设立中央机构编制委员会。

地方各级党委和政府设机构编制委员会。

3. 主要任务:

a. 职能管理: “三定” -

定职能、定机构、定人员编制

b. 机构管理

c. 人员编制管理:

即人员总额、人员结构、领导职数、职位配置

注: 政府机构的名称一般包括:

域名(表明地理位置或管理范围)、矢名(表明管理内容)、格名(表明规格级别)。

13) ——职能优先原则

主要有四层意思:

1. 职能是机构存在的前提

(因职能而设机构)

2. 科学界定政府总体职能

3. 科学配置和划分政府总体职能

4. 以政府职能是否顺利实现来检验政府机构设置的合理性

14) ——完整统一原则

主要有三层意思:

1. 政府职能是完整统一的

《2011 年公务员考试行测考试 100 套华图真题》

2. 行政权力是完整统一的

3. 政府机构设置是完整统一的

15) ——管理幅度与层次相适应的原则

在实际运用中，要遵循以下几条规律：

1. 在管理对象和内容不变的情况下，管理幅度和层次成反比。

2. 管理幅度与事务的难易程度成反比

3. 管理幅度同管理者的能力及管理手段的先进程度成正比

4. 管理幅度与下属人员的能力成正比

5. 管理层次与组织效率成反比

注：管理幅度指管理的数额

16) ——权责一致原则

有三层意思

1. 设计合理的职位体系

2. 权责相称的制约机制

3. 奖惩分明的激励机制

注：一般来讲，上级对下级的权力应负连带责任。

17) ——精简与效能的原则

包括三层意思：

1. 机构设置要精简

2. 人员编制要精干

3. 办事程序要简化

18) ——依法设置的原则

包括二层意思：

1. 政府机构设置程序要依照有关法律法规进行。

2. 有关政府机构的各项规范要由法律法规来确定。

19) ——政府机构改革的动因

原因如下：

a. 经济体制改革的需要

b. 政治体制改革的需要

c. 精简机构和人员的需要

d. 减轻财政负担的需要

e. 提高行政效率的需要

20) ——政府机构改革的渐进式过渡与阶段性突破

我国政府机构改革采取渐进式。

1. 1982 年改革：

a. 提出干部的四化，

"革命化、知识化、专业化、年轻化"。

b. 实行首长负责制，并将这一原则写入宪法。

2. 1988 年改革：

a. 提出转变政府职能的概念。

b. 提出政企分开、党政分开的原则。

3. 1993 年改革：

a. 把适应社会主义市场经济体制作为机构改革的目标。

b. 强调了转变职能的根本途径是政企分开。

《2011 年公务员考试行测考试 100 套华图真题》

c. 提出行政管理体制改革的概念。

4. 1998 年改革：

仍是过渡性方案

21) ——中央人民政府的架构

1. 国务院是最高国家行政机关。

2. 国务院的组织体制：

(1) 国务院组成人员：

总理、副总理、国务委员、部长、委员会主任、审计长、秘书长

(2) 任期：5 年，总理、副总理、国务院委员连续任职不得超过两届

(3) 领导体制：

总理负责制

(4) 会议制度：国务院实行全体会议、常务会议、总理办公会议制度。注：常务会议由总理、副总理、国务委员、秘书长组成。

3. 国务院行政机构：

包括：

国务院办公厅、

国务院组成部门、

国务院直属机构、

国务院办事机构、

国务院组成部门管理的 国家行政机构、

国务院议事协调机构

注：

(1) 国务院组成部门包括：各部、各委员会、中国人民银行、审计署

(2) 国务院直属机构具有独立行政管理职能，但行政首长不属于国务院组成人员，但可列席国务院全体会议。

(3) 国务院办事机构不具有独立的行政管理职能。

22) ——地方各级人民政府的架构

1. 地方各级人民政府组成：

a. 省、地级市设秘书长。秘书长是领导职务。

b. 乡镇原则上不设工作部门。

2. 任期：

省、市、县(区)：五年

乡镇：三年

正副行政首长均由人大选举产生。

3. 地方各级人民政府实行首长负责制。即省长、市长、镇长负责制。

4. 地方政府工作部门与上级垂直管理部门、派出机构的关系：

a. 地方政府工作部门的设立增加减少合并，要由本级政府报请上级政府批准，并报本级人大常委会备案。

b. 实行中央业务主管部门垂直管理的机构有：

中国人民银行、海关、国家税务

c. 实行省级政府垂直的有：地方税务、工商管理、质量技术监督管理

5. 派出机构：

其不属于一级行政机关，但它有权以自己的名义实施管理，并在管理效力上与派出它的政府或政府部门相同。

《2011 年公务员考试行测考试 100 套华图真题》

23)——我国公务员制度建立的过程

1. 我国公务员的定义:

是指各级国家行政机关中除工勤人员以外的工作人员 (包括国家行政机关中从事党团工作的专职人员)

2. 制度

1993 年颁布的《国家公务员暂行条例》+ 以后制定的近 40 个单项法规

3. 我国公务员制度建立的过程:

第一阶段. 1984-93 年: 国家公务员制度的创立。

第二阶段. 1993-96 年:

在全国推行公务员制度

注:

(1) 1982-86 年, 草拟《国家工作人员法》后改名为《国家行政机关工作人员条例》

(2) 1986-88 年, 将上述条例更名, 并在党的十三大和七届全国人大上, 分别将建立公务员制度作为政治体制及干部从事制度改革的重点, 还形成了建立国家公务员制度的三大要件:

组建从事部、筹建国家行政学院、制定公务员法规

24)——我国公务员制度的特色

特色有 4 点:

1. 坚持党的基本路线, 国家公务员不搞"政治中立"

2. 坚持为人民服务的宗旨, 国家公务员不是独立的利益集团。

3. 坚持党管干部的原则, 国家公务员不搞"两官分途"

4. 坚持德才兼备的用人标准

25)——我国公务员制度的实施范围与公务员的义务权利

1. 实施公务员制度的对象:

行政机关中除工勤人员以外的工作人员 + 行使国家行政职能的事业单位中除工勤人员以外的工作人员 + 从事党群工作的人员

2. 实施公务员制度的机关:

国务院办公厅各部委 + 直属机构 + 办事机构 + 国家局 + 派出机构 + 行使政府行政职能的事业单位 + 议事协调机构 + 各级人民政府及其部门

注: 凡实行国家公务员制度的单位, 不实行企业、事业单位的职称、工资、奖金等人事管理制度。

3. 参照实行国家公务员制度的范围:

党的机关、一些群众组织

4. 不属于实施范围的单位: 不具有行政职能的事业单位 (如新华通讯社)、学会、协会、其他培训机构

5. 国家公务员义务共八项:

遵守宪法、法律和法规; 依照国家法律、法规、政策执行公务; 密切联系群众, 倾听群众意见, 接受群众监督, 努力为人民服务; 维护国家的安全、荣誉和利益; 忠于职守, 勤奋工作, 尽职尽责, 服从命令; 保守国家秘密和工作秘密; 公正廉洁, 克己奉公; 宪法和法律规定的其他义务。

6. 国家公务员权利共八项:

非因法定事由和非经法定程序不得被免职、降职、辞退或者行政处分; 获得履行职责所应有的权力; 获得劳动报酬和享受保险、福利待遇; 参加政治理论和

《2011 年公务员考试行测考试 100 套华图真题》

业务知识的培训；对国家行政机关及其领导人员的工作提出批评和建议；提出申诉和控告；依照规定辞职；宪法和法律规定的其他权利。

26) ——国家公务员录用制度

1. 录用的前提条件：

- a. 职位出现空缺
- b. 根据空缺职位确定资格条件

2. 录用的职务范围：

办事员、科员、副主任科员、主任科员
(全是非领导职务)

注：从政府机关以外选拔人员担任领导职务或者助理调研员以上非领导职务的，不属录用的范围。

3. 录用的原则：

公开、平等、竞争、择优、德才兼备、因事择人

4. 录用国家公务员的程序：七个步骤

发布公告

报名和资格审查

考试

录用体检

提出拟录用人员名单报 设区的市以上人民政府人事部门审批

试用

培训

27) ——国家公务员考核制度

1. 原则：

客观公正的原则

民主公开的原则

注重实绩的原则

依法考核的原则

2. 内容：

德、勤、能、绩

3. 标准：

划分为优秀、称职、不称职

4. 方法：

平时考核 + 年度考核

5. 程序：

准备、进行考核、反馈与运用考核的结果

6. 考核结果的使用：

a. 连续三年被确定为优秀或连续五年称职以上的，在本职务级别内晋升一级。

b. 连续二年优秀或连续三年称职以上的，具有晋升职务的资格。

7. 有关规定：

a. 受党内警告处分的：当年不得被评为优秀

b. 受党内严重警告处分的：不称职或不确定等次

c. 受留党察看处分的：

当年：不称职

《2011 年公务员考试行测考试 100 套华图真题》

d. 受开除党籍处分的:

当年: 不称职

第二、第三年: 只写评语不确定等次

28) ——国家公务员奖励制度

1. 原则:

a. 精神鼓励与物质鼓励相结合, 以精神为主的原则

b. 公平合理, 奖不虚施的原则

c. 奖励及时、注重时效的原则

2. 种类:

嘉奖、记三等功、二等功、一等功、授予荣誉称号

3. 程序:

评定、审批、实施

4. 权限:

嘉奖、记三等功:

县级以上政府批准

二等功:

地级以上政府批准

一等功:

省、直辖市以上

荣誉称号:

国务院

29) ——国家公务员纪律与行政处分制度

1. 种类:

警告

记过

记大过

降级

撤职

开除

说明:

(1) 没有"降职"是因为, "降职"是由于不称职, 而不是由于受处分

(2) 受处分期间, 不得晋升职务、级别; 若受的是警告, 年度考核定为"称职"还可以按时晋升工资档次。

2. 解除公务员行政处分的期限:

警告: 自决定之日起满 半年

记过、记大过、降级:

满一年

撤职: 满二年

注: 提前解除期限不得超过原行政处分解除期限的一半。

30) ——国家公务员培训交流回避制度

1. 培训的类型:

a. 新录用人员的培训

b. 晋升领导职务的任职培训

c. 专门业务培训

《2011 年公务员考试行测考试 100 套华图真题》

d. 更新知识培训

注：每人每年参加培训的时间不得少于 7 天。

2. 交流制度：

四种形式：

调任、转任、轮换、挂职锻炼

3. 回避的类型：

任职回避

公务回避

地区回避

注：一般由职务较低的一方回避。

31) ——国家公务员工资保险福利制度

1. 工资构成：

职务工资+级别+基础工资+工龄工资+地区津贴+岗位津贴

注：前四项为工资的基本形式。后二项目为补充形式。

2. 保险制度：

生育、养老、疾病、伤残、死亡保险

32) ——国家公务员辞职辞退退休制度

1. 辞职条件：

a. 本人愿意并提出申请

b. 满最低服务年限(三至五年)

c. 正在接受审查的不得辞职

说明：

(1) 辞职后，不得重新录用

(2) 二年内到与原机关有隶属关系的企业或事业单位任职，须经原任免机关批准

2. 辞退条件：

a. 连续二年不称职

b. 不胜任现职又不接受其他安排的

c. 旷工连续超过 15 年，或一年内累计超过 30 年

d. 其他

3. 退休条件：

a. 男年满 60 岁

b. 女年满 55 岁

c. 丧失工作能力的

4. 提前退休条件

a. 男 55 女 50+工作年限满 20

b. 或工作年限满 30

33) ——国家公务员申诉控告制度

注：

申诉、控告只能向国家行政机关提出。因为它们不属于行政诉讼的范围，属于内部行政行为。

34) ——行政领导体制的类型

1. 按职权是由首长一人或者由委员数人行使，或者一部分职权由首长，一部分由委员数人行使分：

《2011 年公务员考试行测考试 100 套华图真题》

首长制

委员制

混合制

2. 按上下级行政组织享有的职权大小分:

集权制 (权力集中在上级)

分权制

均权制

3. 按机关业务性质及其管辖范围不同划分:

层级制

职能制

并用制

4. 按处于同一层级的各政府行政机关的指挥监控权, 集中或分散于上级一个或多个主体的不同而划分:

完整制: 集中于一人

分离制: 分属于多人

35) ——行政首长负责制

1. 时间:

(1) 1982 年以前: 我国行政领导体制一直是委员制。

(2) 1982 年 12 月 4 日五届全国人大五次会议通过: 实行行政首长负责制。

2. "首长"的范围:

a. 第一类: 法定的首长: 包括国务院总理、各委员会主任、部长、省长、自治区主席、市长、州长、县长、区长、镇长、乡长

b. 第二类: 推定的首长:

包括国务院秘书长、中国人民银行行长、审计署审计长、国务院直属机构的正职领导、县级以上地方各级政府组成部门的正职领导+其他

3. 主要内容:

a. 向谁负责:

向本级人大及其常委会负责、向国务院负责, 向上级行政机关负责、向本级政府负责

b. 负什么责:

行政责任/政治责任/领导责任

36) ——行政领导职务及其非领导职务序列

1. 行政领导职务序列:

(1) 中央国家行政机关: 8 个等级, 最低为副处。

(2) 地方: 8 个等级, 最低为副科。

(3) 对应的级别有 13 个:

国务院总理: 一级

国务院副总理, 国务委员: 二至三级

省部级正职: 三至四

省部级副职: 四至五

厅司级正职: 五至七

厅司级副职: 六至八

县处级正职: 七至十

县处级副职: 八至十一

《2011年公务员考试行测考试 100 套华图真题》

乡科级正职：九至十二

乡科级副职：九至十三

2. 非领导职务序列：

共 8 个：

巡视员

助理巡视员

调研员

助理调研员

主任科员

副主任科员

科员

办事员

37)——行政领导者的产生方式

共有四种：

a. 选任制

b. 委任制

c. 考任制

d. 聘任制

注：

(1) 省人大常委会有权任命副省长，无权任命省长。

(2) 聘任制主要用于专业技术职务和基层行政职务，不适用于高层行政领导

者

38)——行政领导的职务升降

1. 行政领导职务升降的人员范围：

有两类：

a. 各级政府组成人员，升降由同级人大和常委会决定。

(其实是领导组成人员)

b. 非政府组成人员，其升降由行政系统自身决定。

2. 行政领导职务晋升的资格条件：

a, 文化程度：

晋升科级正副职：

高中、中专以上学历

晋升副处-正司：

大专以上学历

晋升副部级：

本科以上学历

b. 下一级任职年限：

晋升科、处正职：

应分别任下一级职务 两年以上

晋升科、处、司、部副职：三年以上

注：非领导职务的公务员晋升与此相同

39)——行政领导职务任免

1. 任免的主体：

即各级人大及其常委会，国务院和县级以上地方各级人民政府及其工作部

《2011 年公务员考试行测考试 100 套华图真题》

门。

2. 权限:

a. 各级人大有权任命或决定各级政府组成人员、除各级政府组成人员外的领导职务(如市政府的副局长)

b. 政府: 任免其他公务员职务(包括非领导职务)

3. 行政领导兼职的规定:

原则上实行一人一职。确因需要, 只可兼任一职。但也有两个例外: a. 常设机关领导职务担任非常设机关领导职务

b. 名义上兼职而实际上还是本职范围内的职责

40) ——转向现代科学行政决策的标志

主要体现在以下五个方面:

1. 决策主体由个人转向集体

2. 决策过程由主观随意转向程序化

3. "谋"与"断"相对分离

4. "断"与"行"相对分离

5. 决策手段的运用日益增强

41) ——现代行政决策组织体制的架构

架构主要有:

1. 行政决策的中枢系统:

重要任务是"断"。

2. 行政决策信息系统

3. 研究咨询系统

4. 审批控制系统

注: 我国具有综合性审批控制职能的组织系统有二:

a. 全国和县级以上地方各级人大常委会

b. 中央和地方各级国家行政机关

42) ——行政决策过程

过程如下:

a. 问题的确认

b. 问题进入决策议程

c. 决策规划的拟订

d. 决策合法化与采纳

43) ——行政执行及其层级、手段

1. 定义:

是国家行政机关及其国家公务员实施决策中心发出的决策指令, 以达到预期目的职务行为。

2. 层次:

中央级

省级

县级

乡级

3. 手段:

法律手段

行政手段

经济手段

《2011 年公务员考试行测考试 100 套华图真题》

44) ——行政执行的环节

五个主要环节：

- a. 行政执行计划
- b. 组织落实与人员配置
- c. 行政执行中的指挥
- d. 行政执行中的控制
- e. 行政执行评估总结

45) ——行政协调的含义与作用

1. 定义：

是指协商、调整行政系统与其外部环境之间、行政系统内部纵横向之间的各种关系，使之分工合作、权责清晰，相互配合，有效地实现行政目标和提高整体效能的行为。

2. 作用：

- a. 协调与外部环境的关系，增强行政系统的适应力、创新力。
- b. 协调内部纵横向的关系，以增强行政系统的协作力、整合力。
- c. 协调内外部、纵横向的人际关系，增强行政系统的凝聚力、驱动力。

46) ——行政协调的类型及其机制

1. 分类：

a. 以协调的主体及内容分

与外部环境的...

内部纵横向的...

内外部、纵横向人际关系的...

b. 以协调所解决的中心问题及其具有的性质分：

(同上)

c. 以协调所涉及的管理层次和管理手段分：

高层、中层、基层；

权责体制、规制协调；

利益、心理协调；

2. 几种类型的行政协调及其机制：

a. 与外部环境的：

协调机制主要有三种：

行政反馈(首要机制)

职能调查

行政参与

b. 内部纵横向的：

(1)纵向垂直府际关系：关键是解决好事权与财权、人事权与决策权的配置机制。

(2)横向平行府际关系：

关键是解决好分工又合作的机制。

47) ——行政协调的前提条件

1. 前提条件是：

行政沟通

2. 行政沟通的种类：

下行沟通

《2011 年公务员考试行测考试 100 套华图真题》

上行沟通

平行沟通

48) ——加强行政监督的重要性

1. 教育是加强依法监督的基础
2. 法制是加强依法监督的保证

49) ——我国行政系统的内部监督

1. 内部监督主要包括:

- a. 一般监督(上、下级之间的相互监督; 职能部门和主管业务部门的监督)
- b. 专门监督(主要指行政监察和审计监督)

2. 行政监察:

指政府系统内部的专门监察机构, 主要是监察部、地方各级监察厅、局。

(1) 监察对象:

政府各部门及其国家公务员、政府任命的其他人员、下一级政府及其领导人

员

(2) 领导体制:

监察机关实行双重领导, 既受本级人民政府领导, 又受上一级监察机关领导。

(3) 程序:

立项、调查、提出检查处理情况报告、作出监察决定或建议

3. 审计监督:

(1) 审计机关拥有检查权、调查权、建议权和处理权

(2) 审计机关的领导体制:

双重领导体制。

50) ——我国行政系统的外部监督

1. 外部监督主要包括:

国家权力机关的监督

人民法院的监督

人民检察院的监督

政党监督

社会及舆论的监督

2. 国家权力机关的监督包括:

- a. 听取和审议工作报告(这是监督最基本的形式)
- b. 审查和批准国民经济计划和财政预算、决算
- c. 审查政府的法规、决定 和命令
- d. 质询和询问
- e. 代表视察和执法检查
- f. 罢免政府组成人员

注: 各级人大有权撤销同级政府不适当的决定和命令。

3. 人民检察院的监督有:

法纪检察

经济检察

侦查检察

监所监督

4. 政党监督:

主要方式有三:

《2011 年公务员考试行测考试 100 套华图真题》

各级党委监督

党的基层组织监督

党的各级纪检监督

行政与行政诉讼法--第四章 具体行政行为

中法网学校

字体 大 中 小 关闭

第四章 具体行政行为

第一节 具体行政行为概念

第二节 具体行政行为的成立和效力

第三节 具体行政行为的一般合法要件

第四节 具体行政行为的类型

第一节 具体行政行为概念

一、具体行政行为的定义和构成

具体行政行为，是国家行政机关依法就特定事项对特定的公民、法人和其他组织的权利义务作出的行政职权行为。构成具体行政行为的基本要素有以下各项：

1. 具体行政行为是法律行为。具体行政行为是行政机关对公民、法人或者其他组织作出的行政意思表示。这种意思表示的目的是要发生一定的法律后果，使行政法上的权利义务得以建立、变更或者消灭。

2. 具体行政行为是对特定人与特定事项的处理。个别性特征具体行政行为区别于抽象行政行为的主要标志。它表现为以下三种形式：第一是就特定事项对特定人的处理。第二是就特定事项对可以确定的一群人的处理。第三是就特定事项对不特定人的处理。无论是哪种情形，归根结底还是看这个行为有没有直接地、确定地影响当事人的权利和义务。

3. 具体行政行为绝大多数属于单方行使职权行为。具体行政行为是对公民、法人或者其他组织所安排的权利义务，是行政机关依据国家行政法律以命令形式单方面设定的，不需要公民、法人或者其他组织的同意。

4. 具体行政行为是外部性处理。具体行政行为是对公民、法人或者其他组织权利义务的排列，是实现行政职能的外部行为措施，而不是行政机关的内部措施。

二、具体行政行为的分类

1. 依职权的和依申请的具体行政行为。划分标准是行政机关是否以当事人的申请作为作出具体行政行为的条件。前者指行政机关不需要公民、法人或其他组织申请，直接依职权采取具体行政行为；后者则需要经过当事人的申请，行政机关才能作出具体行政行为。

这种分类的标准，是看谁能启动行政行为。如果是依职权的行为，行政机关根据自己的判断就可以直接启动，如果是一个依申请的行为，必须由当事人申请，行政机关才能启动。谁可以启动，就直接决定了这个行政行为合法的要件。如果是一个依申请的行为，当事人没有提出申请，行政机关自己启动，那么这个行为就是无效的。所以，依职权和依申请的分类，目的主要是判断具体行政行为合法

《2011年公务员考试行测考试 100 套华图真题》

性的标准是什么。

2. 羁束的和裁量的具体行政行为。划分标准是具体行政行为受法律拘束的程度。立法对具体行政行为的范围、方法、手段等条件作出严格规定，行政机关采取时基本没有选择余地，是羁束的具体行政行为；立法对具体行政行为的范围、方法、手段等方面给予行政机关根据实际情况裁量余地的，是裁量的具体行政行为。

这个区分的意义是，对于羁束行为，行政机关必须按照法律规定去做，违反了法律规定，直接的法律后果是违法。对于裁量行为，行政机关有一定的裁判空间，违反了这个裁判空间的规定，直接的法律后果是不合理、不适当。超出这个裁判空间以外，才构成违法不违法的问题。

3. 授益的和负担的具体行政行为。划分标准是具体行政行为与当事人之间的权益关系。为当事人授予权利、利益或者免除负担义务的，是授益的具体行政行为；为当事人设定义务或者剥夺其权益的，是负担的具体行政行为。

4. 要式的与不要式的具体行政行为。划分标准是具体行政行为是否需要具备法定的形式。需要具备书面文字等其他特定意义符号为生效必要条件的，是要式的具体行政行为；不需要具备书面文字或者其他特定意义符号就可以生效的，是不要式的具体行政行为。

比如说，行政机关在作出行政处罚决定之前，必须听取当事人的陈述和申辩。但是法律没有规定行政机关听取当事人陈述和申辩的具体方式，可以打电话，可以当面谈。

如果是吊销许可证和执照、责令停产停业、较大数额的罚款，必须以听证的方式来听取当事人陈述和申辩。行政机关作出行政处罚决定，必须采取书面形式，如果没有书面处罚决定，行政处罚决定就无效。如果行政机关当场收取罚款，没有出具省级财政部门统一制发的收据，而是打白条，就是无效的。因为，这些都是要式行政行为。

第二节 具体行政行为的成立和效力

一、具体行政行为的成立

具体行政行为的成立，是指具体行政行为在法律上存在。具体行政行为成立的一般条件是：

1. 在主体上，作出具体行政行为的是享有行政职权的行政机关，实施该具体行政行为的工作人员意志健全具有行为能力。
2. 在内容上，向对方当事人作出具有效果意思的表示。
3. 在程序上，按照法律规定的时间和方式进行送达。

一般情况下行政行为的成立要件是这些。在单行法律另有规定的情况下，成立要件可能还有其他的要件。如：《行政处罚法》第 41 条规定，行政机关根据一般程序在作出行政处罚决定之前，必须要告知对方当事人将要作出处罚的事实、理由和根据。行政机关在告知以后还要听取当事人的陈述和申辩。行政机关如果没有履行这两个程序作出的处罚决定，按《行政处罚法》的规定叫“不成立”。那么这两个要件，就是在三个要件的基础上多出来的。

二、具体行政行为效力的种类

具体行政行为的公定力。这是具体行政行为具有效力的基本前提。什么是公定力？行政机关作出一个具体行政行为，这种行为完成以后，送达当事人，有两

《2011年公务员考试行测考试100套华图真题》

种可能性：一种是合法，一种是违法。如果这个行政行为合法，就有效；如果违法，就无效。合法就有效，有什么效？有效就是指行政行为具有确定力、拘束力、执行力。如果无效，根本就不产生这些效力。我们讲的公定力是什么呢？行政机关作出一个行为，这个行为一旦作出，就假定这个行为是合法的。如果将来法院根据法律程序撤销它，另外再说。但是一旦作出，就假定合法。既然合法，当然就有效。

合法就有效，有效会产生什么效力？产生了三个效力：

1. 确定力，是指具体行政行为不再争议、不得更改的效力，具体行政行为因此取得不可撤销性。确定力就是指行政机关作出决定以后，就不能轻易更改。这个力，叫确定力，内容具有确定性。行政机关如果改变已经确定的内容而给当事人造成损失的，要予以补偿。

这就是信赖保护原则。已经确定的内容才能去拘束当事人，并且强制执行。

2. 拘束力，是指具体行政行为一经生效，行政机关和对方当事人都必须遵守，其他国家机关和社会成员必须予以尊重的效力。

3. 执行力，是指国家强制力迫使当事人履行义务或者以其他方式实现具体行政行为权利义务安排的效力。行政行为的执行力是与其确定力和拘束力联系在一起的，是最终保障性效力。行政行为的这三种效力是行政法上诸多规则产生的基础，比如在行政法上，对于生效的行政行为一般采取不停止执行的原则，即使相对人有异议，或在申请行政复议或提起行政诉讼期间，也不能停止行政行为的执行。只有在例外的情形下，才可以暂停行政行为的执行。

行政机关的具体行为都是有确定力、拘束力，但不一定都有执行力。执行力产生的条件有两个，一个是负有作为的义务，一个是不作为。

三、具体行政行为的无效、撤销和废止

(一)具体行政行为的开始、停止和终止

具体行政行为效力的开始。符合具体行政行为的成立条件，不存在具体行政行为的无效因素，具体行政行为在理论上就可以开始发生法律效力。行政行为的开始有三种方法，一种是送达生效，一种是附期限生效。在实践中最主要的是第一种，自送达之日起生效。具体行政行为效力的停止。申请行政复议和提起行政诉讼可能会导致具体行政行为执行力的停止。我国《行政诉讼法》、《行政复议法》规定了停止具体行政行为执行的情形。特殊情况下停止，不停止是原则，停止是例外。什么情况下停止呢？行政复议当中规定了四种情况，行政诉讼当中规定了三种情况。

行政复议中的四种情况是：(1)被申请人认为需要停止的。被申请人即作出行政行为的行政机关。(2)复议机关依申请停止的。(3)复议机关依职权停止的。(4)法律规定停止的。

行政诉讼当中三种需要停止的情况：(1)被告认为需要停止执行的。(2)法院依申请需要停止的(不能依职权停止)。(3)法律规定的停止。

谁可以去停止呢？三类机关：(1)作出行为的机关。(2)复议机关：依申请、依职权。(3)人民法院：依申请。

导致具体行政行为效力终止的原因，可以分为没有违法因素的和有违法因素的两类情形。有违法因素的情形主要有：无效的具体行政行为，可撤销的具体行政行为。两者的区别是违法的程度不同。

(二)无效的具体行政行为

1. 构成具体行政行为无效的条件。如果一个具体行政行为有严重和明显的法

《2011年公务员考试行测考试100套华图真题》

律缺陷，这种违法达到一个有正常理智的普通人的常识性理解都可以明显看出的程度，那么它就是无效的具体行政行为。

如果一个具体行政行为发生如下情形，就可以构成无效的理由：(1)要求从事将构成犯罪的违法行为。(2)明显缺乏法律依据的。(3)明显缺乏事实根据的。

2. 具体行政行为无效的后果。无效就意味着这个行为根本就没有，意味着相对人可以不去抵抗，可以不服从，因为它没有公定力。如在行政处罚当中，行政机关如果当场收缴罚款的话，必须要提交省级财政部门统一制发的收据，如果没有提交收据，被处罚人可以拒绝交纳罚款，因为它明显违法。如果在此情形下，去法院起诉，没有一个时效问题，什么时候都可以去法院起诉，对于无效行为，法院应当怎么判呢？法院只能确认它无效，自始无效。但是，法院不能去撤销，因为行为从开始就没有。

在实体法上，无效的具体行政行为自它发布之时就没有任何法律约束力，当事人不受它的拘束，其他国家机关和其他社会成员也可以不尊重它。当事人不履行它所规定的义务，不承担法律责任。

在程序法上，该具体行政行为致使其合法权益受到损害的公民、法人或者其他组织，可以在任何时候主张该具体行政行为无效，有权国家机关可在任何时候宣布该具体行政行为无效，因为无效行政行为不具有确定力。在后果处理上，具体行政行为被确定无效后，原则上应当尽可能恢复到具体行政行为发布以前的状态。

(三)可撤销的具体行政行为

1. 可撤销的具体行政行为的条件。构成可撤销具体行政行为的条件，主要是具体行政行为违法和明显不适当。

2. 可撤销的具体行政行为的后果。在程序法上，可撤销的具体行政行为必须经过法定程序由国家有权机关作出撤销决定，才能否定法律效力。法定程序是指行政复议、行政诉讼和行政监督程序。

在实体法上，具体行政行为被撤销的效力可以溯及至该具体行政行为成立之日。在处理后果上，具体行政行为因为被撤销而丧失或者不能取得法律效力后，如果相关义务已经履行或者已经执行的，能够恢复原状的应当恢复原状。违法不一定无效，违法在大部分情况下无效，少量的情况下有效。如果确认无效的弊大于利，就承认它的效力。

具体行为违法不一定都予以撤销，无法撤销的或者撤销会导致更严重后果的，只能确认其违法。

再来比较一下吊销和撤销的关系。撤销的对象是行政机关的行为，撤销的原因是行政行为违法。吊销的对象是当事人所获得的许可证和执照，原因是当事人违法，而不是行政机关的行为违法。吊销是一种处罚，撤销不是一种处罚。吊销是对当事人的处罚，而撤销是对行政机关责任的追究。《行政处罚法》里只有吊销而没有撤销，撤销是一种管理活动，不适用于行政处罚法的程序。行政机关发给当事人一个许可证，这是正确的合法的。当事人领到许可证以后运用许可证中赋予他的资格、权能时发生违法行为，这时予以吊销。撤销一般情况下自始无效，吊销是从吊销那一天开始无效，被吊销之前是有效的。

(四)具体行政行为的废止

1. 具体行政行为废止的条件。废止是行政机关依职权使具体行政行为丧失法律效力的行为。废止的理由和条件是由于客观条件的变化，具体行政行为没有继续保持其效力的必要。

《2011 年公务员考试行测考试 100 套华图真题》

废止的条件通常有：

- (1) 具体行政行为所依据的法律、法规、规章、政策，已经为有权机关依法修改、废止或撤销。
- (2) 具体行政行为所根据的客观事实已经发生重大变化或者已经不复存在，具体行政行为的继续存在已经没有事实根据，需要废止原来的具体行政行为；
- (3) 具体行政行为所期望的法律效果已经实现，没有继续存在的必要。

2. 行政行为废止的法律结果。被废止的具体行政行为，自废止之日起丧失效力。如果废止使当事人的合法权益受到严重损失，或者带来严重的社会不公正，行政机关应当给予受到损失的当事人以必要的补偿。

第三节 具体行政行为的一般合法要件

判断具体行政行为合法性的基本标准是：(1) 行使行政职权的主体合法；(2) 合乎法定职权范围；(3) 作出具体行政行为的证据确凿；(4) 适用法律、法规正确；(5) 符合法定程序；(6) 不滥用职权。

一、有确凿的事实证据要求行政决定应当有确实可靠的证据。

第一，作出行政决定首先要有事实，即存在需要行使行政职权的客观事实。

第二，事实应当是确实充分的。

二、正确适用法律、法规行政管理是一种适用法律的国家活动。

适用法律不能取决于行政官员的任意和偏好，而必须以法律所要求的事实条件作为适用法律的根据。

三、遵守法定行政程序

法定程序赋予这些方法和形式以权利义务的法律属性，要求行政机关行使职权时必须遵守，成为判断行政行为是否正确合法的重要标准。目前行政法中对行政程序规定比较好的和体现时代精神的，是《行政处罚法》。该法规定了行政处罚的决定程序和执行程序。

四、不得超越职权和滥用职权

关于超越职权的要件，是要求行政机关应当在法律授予的权限以内活动。行政机关的职权范围主要由行政组织法和授权法规定。

行政机关在进行行政管理时，不只是机械和简单地按照有关法律和有关条款办事，而且还要执行法律的精神和立法目的，不能滥用职权。

第四节 具体行政行为的类型

一、行政许可

《行政许可法》的内容和考点与《行政处罚法》比较相似，但是前者比后者有很多进步，所以可考的地方更多一些。常考的内容应当是行政许可的设定、实施和监督等。

(一) 行政许可的概念和特点

《行政许可法》第 2 条规定：“本法所称行政许可，是指行政机关根据公民、法人或者其他组织的申请，经依法审查，准予其从事特定活动的行为。”

要理解《行政许可法》的基本原则和规定，必须首先要理解什么是行政许可。行政许可是什么呢？在法律基于正当理由确定的范围之内，行政许可实际上是一种禁止的解除。《行政许可法》实质上是控制政府权力、保障公民权利的法。政

《2011 年公务员考试行测考试 100 套华图真题》

府只有基于正当理由在法定范围内去设定人们经过许可后才能做什么事情,只能按照法定条件和程序去实施行政许可,其余的都是人们自由的空间。

行政许可的特点:(1)行政许可是行政主体对管理相对人所为的具体行政行为。它是对被许可人这一特定对象,就被许可事项这一特定事实而作出的产生直接法律效果的行为。(2)行政许可是依申请的行政行为。(3)行政许可是承认被许可人有某种能力或资格的行为。

(二)行政许可的种类

根据不同的标准,可将行政许可作如下分类:

1. 以许可的性质为标准,分为行为许可和资格许可。行为许可是指允许符合条件的申请人从事某项活动的许可,如生产、经营许可。这类许可在内容上仅限于许可被许可人进行某种行为活动,不包含资格权能的特别证明内容,也无需对被许可人进行资格能力方面的考核。资格许可是指行政主体应申请人的申请,经过一定的考核程序核发一定的证明文书,允许其享有某种资格或具备某种能力的许可,如律师证、会计师执照、驾驶执照等。一般来说,资格许可中同时也包含了对被许可人的行为许可。

2. 以许可的书面形式及其能否单独使用为标准,分为独立许可和附文件许可。独立许可指许可证已经规定了所有许可内容,不需其它文件补充说明的许可。如林木采伐许可证,特种刀具购买证等。明确的范围、事项、时间等是独立许可的显著特点。附文件许可是指由于特殊条件的限制,需要附文件加以说明的许可。这种许可在申请、审批或使用,均应将附加文件附在许可证后作补充性说明,如商标许可证书中还需附有商标的设计图样,否则许可证将无法使用。

3. 以许可是否附有附加义务为标准,分为权利性许可和附义务的许可。权利性许可也称无条件放弃的许可,指申请人取得行政许可后,并不承担作为义务,可自由放弃被许可的权利,并且并不因此承担任何法律责任的许可,如持枪证、排污许可证等。附义务的许可也称有条件放弃的许可,指被许可人获得许可的同时,亦承担一定期限内从事该活动的义务,否则要承担一定法律责任的许可。承担法律责任的方式一般表现为丧失被许可的权利。如我国《企业登记管理条例》规定,企业在获准登记,取得营业执照后一年内应开展经营活动,否则将视为自动放弃,工商行政管理部门有权吊销营业执照。这种许可就是附义务的许可。

4. 以许可享有的程度为标准,分为排他性许可和非排他性许可。排他性许可又称独占许可,是指某个人或组织获得该项许可后,其他任何人或组织均不能再获得该项许可,最具代表性的是商标许可。非排他性许可又称共存许可,是指可以为具备法定条件的任何个人或组织所申请并获得的许可,大部分行政许可是非排他性许可。

5. 以许可的范围为标准,分为一般许可和特殊许可。一般许可是指行政主体对符合法定条件的许可申请人直接发放许可证,无特殊限制的许可,如申请驾驶执照的许可。特殊许可是指除符合一般许可的条件外,对申请人还规定有特别限制的许可,又称特许。如持枪许可,只有符合《中华人民共和国枪支管理办法》规定的五种人可以获得持枪许可,其他人员均不能获得此种权利。

6. 以许可有效期的长短,分为长期许可和短期许可。长期许可是指许可机关赋予申请人许可证的有效期较长的一种许可。行政许可机关根据申请人条件和法律赋予其许可证的有效期较短,则称其为临时许可或短期许可。

(三)行政许可的原则

1. 法定原则。《行政许可法》第4条规定:“设定和实施行政许可,应当依照

《2011 年公务员考试行测考试 100 套华图真题》

法定的权限、范围、条件和程序。”这是行政许可的一项最基本原则，即行政许可的法定性。

2. 公开、公平、公正原则。《行政许可法》第 5 条规定：“设定和实施行政许可，应当遵循公开、公平、公正的原则。有关行政许可的规定应当公布；未经公布的，不得作为实施行政许可的依据。行政许可的实施和结果，除涉及国家秘密、商业秘密或者个人隐私的外，应当公开。符合法定条件、标准的，申请人有依法取得行政许可的平等权利，行政机关不得歧视。”

3. 便民原则。《行政许可法》第 6 条规定：“实施行政许可，应当遵循便民的原则，提高办事效率，提供优质服务。”

4. 救济原则。《行政许可法》第 7 条规定：“公民、法人或者其他组织对行政机关实施行政许可，享有陈述权、申辩权；有权依法申请行政复议或者提起行政诉讼；其合法权益因行政机关违法实施行政许可受到损害的，有权依法要求赔偿。”

5. 信赖保护原则。《行政许可法》第 8 条规定：“公民、法人或者其他组织依法取得的行政许可受法律保护，行政机关不得擅自改变已经生效的行政许可。行政许可所依据的法律、法规、规章修改或者废止，或者准予行政许可所依据的客观情况发生重大变化的，为了公共利益的需要，行政机关可以依法变更或者撤回已经生效的行政许可。由此给公民、法人或者其他组织造成财产损失的，行政机关应当依法给予补偿。”这是我国法律中第一次对这一原则的确定，具有非同寻常的意义。

6. 禁止转让原则。《行政许可法》第 9 条规定：“依法取得的行政许可，除法律、法规规定依照法定条件和程序可以转让的外，不得转让。”

7. 监督原则。《行政许可法》第 10 条规定：“县级以上人民政府应当建立健全对行政机关实施行政许可的监督制度，加强对行政机关实施行政许可的监督检查。行政机关应当对公民、法人或者其他组织从事行政许可事项的活动实施有效监督。”

(四) 行政许可的设定

行政许可的设定是指国家机关依照职权和实际需要，在有关法律、法规、规章中自行创制行政许可的行为。

行政许可的设定原则是：“设定行政许可，应当遵循经济和社会发展规律，有利于发挥公民、法人或者其他组织的积极性、主动性，维护公共利益和社会秩序，促进经济、社会和生态环境协调发展。”这是《行政许可法》第 11 条的规定。

根据《行政许可法》第 12 条规定，下列事项可以设定行政许可：

1. 直接涉及国家安全、公共安全、经济宏观调控、生态环境保护以及直接关系人身健康、生命财产安全等特定活动，需要按照法定条件予以批准的事项；

2. 有限自然资源开发利用、公共资源配置以及直接关系公共利益的特定行业的市场准入等，需要赋予特定权利的事项；

3. 提供公众服务并且直接关系公共利益的职业、行业，需要确定具备特殊信誉、特殊条件或者特殊技能等资格、资质的事项；

4. 直接关系公共安全、人身健康、生命财产安全的重要设备、设施、产品、物品，需要按照技术标准、技术规范，通过检验、检测、检疫等方式进行审定的事项；

5. 企业或者其他组织的设立等，需要确定主体资格的事项；

6. 法律、行政法规规定可以设定行政许可的其他事项。

同时，《行政许可法》第 13 条还规定即使是以上事项，通过下列方式能够予

《2011 年公务员考试行测考试 100 套华图真题》

以规范的，可以不设定行政许可：(1)公民、法人或者其他组织能够自主决定的；(2)市场竞争机制能够有效调节的；(3)行业组织或者中介机构能够自律管理的；(4)行政机关采用事后监督等其他行政管理方式能够解决的。

有关行政许可的设定权问题，法律分别规定了法律、行政法规、地方性法规和规章的权限。

《行政许可法》第 14 条规定：“本法第十二条所列事项，法律可以设定行政许可。尚未制定法律的，行政法规可以设定行政许可。必要时，国务院可以采用发布决定的方式设定行政许可。实施后，除临时性行政许可事项外，国务院应当及时提请全国人民代表大会及其常务委员会制定法律，或者自行制定行政法规。”

《行政许可法》第 15 条规定：“本法第十二条所列事项，尚未制定法律、行政法规的，地方性法规可以设定行政许可；尚未制定法律、行政法规和地方性法规的，因行政管理的需要，确需立即实施行政许可的，省、自治区、直辖市人民政府规章可以设定临时性的行政许可。临时性的行政许可实施满一年需要继续实施的，应当提请本级人民代表大会及其常务委员会制定地方性法规。地方性法规和省、自治区、直辖市人民政府规章，不得设定应当由国家统一确定的公民、法人或者其他组织的资格、资质的行政许可；不得设定企业或者其他组织的设立登记及其前置性行政许可。其设定的行政许可，不得限制其他地区的个人或者企业到本地区从事生产经营和提供服务，不得限制其他地区的商品进入本地区市场。”

《行政许可法》第 16 条规定：“行政法规可以在法律设定的行政许可事项范围内，对实施该行政许可作出具体规定。地方性法规可以在法律、行政法规设定的行政许可事项范围内，对实施该行政许可作出具体规定。规章可以在上位法设定的行政许可事项范围内，对实施该行政许可作出具体规定。法规、规章对实施上位法设定的行政许可作出的具体规定，不得增设行政许可；对行政许可条件作出的具体规定，不得增设违反上位法的其他条件。”《行政许可法》第 17 条规定：“除本法第十四条、第十五条规定的外，其他规范性文件一律不得设定行政许可。”

上述关于行政许可设定权的分配，特别需要注意以下几点：

第一，与《行政处罚法》中关于行政处罚设定权分配规定相比较，其中的相同点和不同点是什么。

第二，国务院行政法规之外的决定的设定权问题。

第三，规章关于行政许可的设定权问题。

第四，地方性法规和省级政府规章设定行政许可的限制。

《行政许可法》还规定了行政许可的评价制度和授权停止实施行政许可制度。

该法第 20 条规定：行政许可的设定机关应当定期对其设定的行政许可进行评价；对已设定的行政许可，认为通过本法第十三条所列方式能够解决的，应当对设定该行政许可的规定及时予以修改或者废止。行政许可的实施机关可以对已设定的行政许可的实施情况及存在的必要性适时进行评价，并将意见报告该行政许可的设定机关。公民、法人或者其他组织可以向行政许可的设定机关和实施机关就行政许可的设定和实施提出意见和建议。

第 21 条规定，省、自治区、直辖市人民政府对行政法规设定的有关经济事务的行政许可，根据本行政区域经济和社会发展的情况，认为通过本法第十三条所列方式能够解决的，报国务院批准后，可以在本行政区域内停止实施该行政许可。

(五) 行政许可的实施机关

《2011 年公务员考试行测考试 100 套华图真题》

《行政许可法》第 22 条至第 28 条对此作出了规定。

1. 行政许可由具有行政许可权的行政机关在其法定职权范围内实施。法律、法规授权的具有管理公共事务职能的组织，在法定授权范围内，以自己的名义实施行政许可。被授权的组织适用本法有关行政机关的规定。

2. 行政机关在其法定职权范围内，依照法律、法规、规章的规定，可以委托其他行政机关实施行政许可。委托机关应当将受委托行政机关和受委托实施行政许可的内容予以公告；委托行政机关对受委托行政机关实施行政许可的行为应当负责监督，并对该行为的后果承担法律责任。受委托行政机关在委托范围内，以委托行政机关名义实施行政许可；不得再委托其他组织或者个人实施行政许可。

3. 经国务院批准，省、自治区、直辖市人民政府根据精简、统一、效能的原则，可以决定一个行政机关行使有关行政机关的行政许可权。

4. 行政许可需要行政机关内设的多个机构办理的，该行政机关应当确定一个机构统一受理行政许可申请，统一送达行政许可决定。行政许可依法由地方人民政府两个以上部门分别实施的，本级人民政府可以确定一个部门受理行政许可申请并转告有关部门分别提出意见后统一办理，或者组织有关部门联合办理、集中办理。

理解行政许可的实施机关需要与理解行政处罚的实施机关结合起来。可以实施行政许可的主体通常都可以实施行政处罚，但有权实施行政处罚的主体不一定可以实施行政许可，如综合执法机关、行政机关的派出机关和派出机构、行政机关委托的组织等。

行政机关实施行政许可，不得向申请人提出购买指定商品、接受有偿服务等不正当要求。行政机关工作人员办理行政许可，不得索取或者收受申请人的财物，不得谋取其他利益。

对直接关系公共安全、人身健康、生命财产安全的设备、设施、产品、物品的检验、检测、检疫，除法律、行政法规规定由行政机关实施的外，应当逐步由符合法定条件的专业技术组织实施。专业技术组织及其有关人员对所实施的检验、检测、检疫结论承担法律责任。

(六) 行政许可的实施程序

《行政许可法》第 29 条至第 57 条对此作出规定。

1. 申请与受理。

公民、法人或者其他组织从事特定活动，依法需要取得行政许可的，应当向行政机关提出申请。

行政机关应当将法律、法规、规章规定的有关行政许可的事项、依据、条件、数量、程序、期限以及需要提交的全部材料的目录和申请书示范文本等在办公场所公示。申请人要求行政机关对公示内容予以说明、解释的，行政机关应当说明、解释，提供准确、可靠的信息。

申请人申请行政许可，应当如实向行政机关提交有关材料和反映真实情况，并对其申请材料实质内容的真实性负责。行政机关不得要求申请人提交与其申请的行政许可事项无关的技术资料和其他材料。

2. 审查与决定。

行政机关应当对申请人提交的申请材料进行审查。申请人提交的申请材料齐全、符合法定形式，行政机关能够当场作出决定的，应当当场作出书面的行政许可决定。根据法定条件和程序，需要对申请材料的实质内容进行核实的，行政机

《2011 年公务员考试行测考试 100 套华图真题》

关应当指派两名以上工作人员进行核查。

依法应当先经下级行政机关审查后报上级行政机关决定的行政许可，下级行政机关应当在法定期限内将初步审查意见和全部申请材料直接报送上级行政机关。上级行政机关不得要求申请人重复提供申请材料。

行政机关对行政许可申请进行审查时，发现行政许可事项直接关系他人重大利益的，应当告知该利害关系人。申请人、利害关系人有权进行陈述和申辩。行政机关应当听取申请人、利害关系人的意见。

行政机关对行政许可申请进行审查后，除当场作出行政许可决定的外，应当在法定期限内按照规定程序作出行政许可决定。申请人的申请符合法定条件、标准的，行政机关应当依法作出准予行政许可的书面决定。行政机关依法作出不予行政许可的书面决定的，应当说明理由，并告知申请人享有依法申请行政复议或者提起行政诉讼的权利。

行政机关作出准予行政许可的决定，需要颁发行政许可证件的，应当向申请人颁发加盖本行政机关印章的下列行政许可证件：(1)许可证、执照或者其他许可证书；(2)资格证、资质证或者其他合格证书；(3)行政机关的批准文件或者证明文件；(4)法律、法规规定的其他行政许可证件。行政机关实施检验、检测、检疫的，可以在检验、检测、检疫合格的设备、设施、产品、物品上加贴标签或者加盖检验、检测、检疫印章。

法律、行政法规设定的行政许可，其适用范围没有地域限制的，申请人取得的行政许可在全国范围内有效。

3. 期限。

除可以当场作出行政许可决定的外，行政机关应当自受理行政许可申请之日起 20 日内作出行政许可决定。20 日内不能作出决定的，经本行政机关负责人批准，可以延长 10 日，并应当将延长期限的理由告知申请人。但是，法律、法规另有规定的，依照其规定。依照本法第二十六条的规定，行政许可采取统一办理或者联合办理、集中办理的，办理的时间不得超过 45 日；45 日内不能办结的，经本级人民政府负责人批准，可以延长 15 日，并应当将延长期限的理由告知申请人。

4. 听证。

法律、法规、规章规定实施行政许可应当听证的事项，或者行政机关认为需要听证的其他涉及公共利益的重大行政许可事项，行政机关应当向社会公告，并举行听证。

行政许可直接涉及申请人与他人之间重大利益关系的，行政机关在作出行政许可决定前，应当告知申请人、利害关系人享有要求听证的权利；申请人、利害关系人在被告知听证权利之日起 5 日内提出听证申请的，行政机关应当在 20 日内组织听证。申请人、利害关系人不承担行政机关组织听证的费用。

听证按照下列程序进行：(1)行政机关应当于举行听证的七日前将举行听证的时间、地点通知申请人、利害关系人，必要时予以公告；(2)听证应当公开举行；(3)行政机关应当指定审查该行政许可申请的工作人员以外的人员为听证主持人，申请人、利害关系人认为主持人与该行政许可事项有直接利害关系的，有权申请回避；(4)举行听证时，审查该行政许可申请的工作人员应当提供审查意见的证据、理由，申请人、利害关系人可以提出证据，并进行申辩和质证；(5)听证应当制作笔录，听证笔录应当交听证参加人确认无误后签字或者盖章。行政机关应当根据听证笔录，作出行政许可决定。

《2011年公务员考试行测考试100套华图真题》

5. 特别规定。国务院实施行政许可的程序，适用有关法律、行政法规的规定。

实施本法第十二条第二项所列事项的行政许可的，行政机关应当通过招标、拍卖等公平竞争的方式作出决定。但是，法律、行政法规另有规定的，依照其规定。实施本法第十二条第三项所列事项的行政许可，赋予公民特定资格，依法应当举行国家考试的，行政机关根据考试成绩和其他法定条件作出行政许可决定；赋予法人或者其他组织特定的资格、资质的，行政机关根据申请人的专业人员构成、技术条件、经营业绩和管理水平等的考核结果作出行政许可决定。但是，法律、行政法规另有规定的，依照其规定。

实施本法第十二条第四项所列事项的行政许可的，应当按照技术标准、技术规范依法进行检验、检测、检疫，行政机关根据检验、检测、检疫的结果作出行政许可决定。行政机关实施检验、检测、检疫，应当自受理申请之日起五日内指派两名以上工作人员按照技术标准、技术规范进行检验、检测、检疫。不需要对检验、检测、检疫结果作进一步技术分析即可认定设备、设施、产品、物品是否符合技术标准、技术规范的，行政机关应当当场作出行政许可决定。行政机关根据检验、检测、检疫结果，作出不予行政许可决定的，应当书面说明不予行政许可所依据的技术标准、技术规范。

实施本法第十二条第五项所列事项的行政许可，申请人提交的申请材料齐全、符合法定形式的，行政机关应当当场予以登记。需要对申请材料的实质内容进行核实的，行政机关依照本法第三十四条第三款的规定办理。

有数量限制的行政许可，两个或者两个以上申请人的申请均符合法定条件、标准的，行政机关应当根据受理行政许可申请的先后顺序作出准予行政许可的决定。但是，法律、行政法规另有规定的，依照其规定。

(七) 行政许可的费用

行政机关实施行政许可和对行政许可事项进行监督检查，不得收取任何费用。但是，法律、行政法规另有规定的，依照其规定。

行政机关提供行政许可申请书格式文本，不得收费。

行政机关实施行政许可所需经费应当列入本级行政机关的预算，由本级财政予以保障，按照批准的预算予以核拨。

行政机关实施行政许可，依照法律、行政法规收取费用的，应当按照公布的法定项目和标准收费；所收取的费用必须全部上缴国库，任何机关或者个人不得以任何形式截留、挪用、私分或者变相私分。财政部门不得以任何形式向行政机关返还或者变相返还实施行政许可所收取的费用。

(八) 监督检查

行政机关可以对被许可人生产经营的产品依法进行抽样检查、检验、检测，对其生产经营场所依法进行实地检查。检查时，行政机关可以依法查阅或者要求被许可人报送有关材料；被许可人应当如实提供有关情况和材料。行政机关根据法律、行政法规的规定，对直接关系公共安全、人身健康、生命财产安全的重要设备、设施进行定期检验。对检验合格的，行政机关应当发给相应的证明文件。

行政机关实施监督检查，不得妨碍被许可人正常的生产经营活动，不得索取或者收受被许可人的财物，不得谋取其他利益。

取得直接关系公共利益的特定行业的市场准入行政许可的被许可人，应当按照国家规定的服务标准、资费标准和行政机关依法规定的条件，向用户提供安全、方便、稳定和价格合理的服务，并履行普遍服务的义务；未经作出行政许可决定的行政机关批准，不得擅自停业、歇业。被许可人不履行前款规定的义务的，行

《2011年公务员考试行测考试 100 套华图真题》

政机关应当责令限期改正，或者依法采取有效措施督促其履行义务。

有下列情形之一的，作出行政许可决定的行政机关或者其上级行政机关，根据利害关系人的请求或者依据职权，可以撤销行政许可：(1)行政机关工作人员滥用职权、玩忽职守作出准予行政许可决定的；(2)超越法定职权作出准予行政许可决定的；(3)违反法定程序作出准予行政许可决定的；(4)对不具备申请资格或者不符合法定条件的申请人准予行政许可的；(5)依法可以撤销行政许可的其他情形。被许可人以欺骗、贿赂等不正当手段取得行政许可的，应当予以撤销。依照前两款的规定撤销行政许可，可能对公共利益造成重大损害的，不予撤销。依照本条第一款的规定撤销行政许可，被许可人的合法权益受到损害的，行政机关应当依法给予赔偿。依照本条第二款的规定撤销行政许可的，被许可人基于行政许可取得的利益不受保护。撤销的事由是行政机关实施行政许可的行为违法，因此，撤销决定具有溯及力，行政许可自始无效。

有下列情形之一的，行政机关应当依法办理有关行政许可的注销手续：(1)行政许可有效期届满未延续的；(2)赋予公民特定资格的行政许可，该公民死亡或者丧失行为能力的；(3)法人或者其他组织依法终止的；(4)行政许可依法被撤销、撤回，或者行政许可证件依法被吊销的；(5)因不可抗力导致行政许可事项无法实施的；(6)法律、法规规定的应当注销行政许可的其他情形。注销的事由是基于合法原因行政许可不能或没有必要继续存续，因此，注销决定没有溯及力，自注销之日起无效。

(九) 法律责任

违反本法第十七条规定设定的行政许可，有关机关应当责令设定该行政许可的机关改正，或者依法予以撤销。

行政机关及其工作人员违反本法的规定，有下列情形之一的，由其上级行政机关或者监察机关责令改正；情节严重的，对直接负责的主管人员和其他直接责任人员依法给予行政处分：(1)对符合法定条件的行政许可申请不予受理的；(2)不在办公场所公示依法应当公示的材料的；(3)在受理、审查、决定行政许可过程中，未向申请人、利害关系人履行法定告知义务的；(4)申请人提交的申请材料不齐全、不符合法定形式，不一次告知申请人必须补正的全部内容的；(5)未依法说明不予受理行政许可申请或者不予行政许可的理由的；(6)依法应当举行听证而不举行听证的。

行政机关实施行政许可，有下列情形之一的，由其上级行政机关或者监察机关责令改正，对直接负责的主管人员和其他直接责任人员依法给予行政处分；构成犯罪的，依法追究刑事责任：(1)对不符合法定条件的申请人准予行政许可或者超越法定职权作出准予行政许可决定的；(2)对符合法定条件的申请人不予行政许可或者不在法定期限内作出准予行政许可决定的；(3)依法应当根据招标、拍卖结果或者考试成绩择优作出准予行政许可决定，未经招标、拍卖或者考试，或者不根据招标、拍卖结果或者考试成绩择优作出准予行政许可决定的。

行政机关违法实施行政许可，给当事人的合法权益造成损害的，应当依照《国家赔偿法》的规定给予赔偿。

行政许可申请人隐瞒有关情况或者提供虚假材料申请行政许可的，行政机关不予受理或者不予行政许可，并给予警告；行政许可申请属于直接关系公共安全、人身健康、生命财产安全事项的，申请人在一年内不得再次申请该行政许可。被许可人以欺骗、贿赂等不正当手段取得行政许可的，行政机关应当依法给予行政处罚；取得的行政许可属于直接关系公共安全、人身健康、生命财产安全事项

《2011年公务员考试行测考试100套华图真题》

的，申请人在三年内不得再次申请该行政许可；构成犯罪的，依法追究刑事责任。

被许可人有下列行为之一的，行政机关应当依法给予行政处罚；构成犯罪的，依法追究刑事责任：(1)涂改、倒卖、出租、出借行政许可证件，或者以其他形式非法转让行政许可的；(2)超越行政许可范围进行活动的；(3)向负责监督检查的行政机关隐瞒有关情况、提供虚假材料或者拒绝提供反映其活动情况的真实材料的；(4)法律、法规、规章规定的其他违法行为。

公民、法人或者其他组织未经行政许可，擅自从事依法应当取得行政许可的活动的，行政机关应当依法采取措施予以制止，并依法给予行政处罚；构成犯罪的，依法追究刑事责任。

二、行政强制措施

行政强制措施，是指行政机关为了防止和制止可能发生或者正在发生的违法行为，或者进行行政调查检查，对公民、法人或者其他组织的人身、财产等采取的国家行政强制措施。行政强制措施和行政强制执行不一样，行政强制措施的对象有两种，一是违法行为，为了控制、预防、调查违法行为，而对违法行为人的人身自由或财产加以控制的措施。另外一种主要对危害公共安全的人加以限制，比如把传染病人、吸毒者限制起来，是为了公共安全。行政强制执行是什么呢？

行政强制措施分为：

1. 对人身的强制。是指国家有权机关，如公安、海关等对那些可能威胁现行的社会秩序或公共利益或者拒不履行法定或规定义务的行政相对人所采取的限制人身自由或迫使其履行义务的强制措施。根据我国现行有关法律、法规的规定，对人身的强制措施主要有：收容审查、强制治疗、强制戒毒、强制传唤、强制扣留、强制隔离、强制遣返、强制带离现场等。

2. 对财产的强制。是指行政主体对负有履行法定财产义务，却拒不履行的行政相对人，所采取的迫使其履行义务或达到与履行义务相同状态的强制措施。根据我国现行法律、法规的规定，对财产的强制措施主要有：查封、冻结、扣押、划拨、扣缴、强行拆除建筑物、变价出售、强制抵缴、强制退还等。

3. 对行为的强制。是指行政主体对拒不履行行政作为或不作为义务行政相对人，所采取的强制其履行作为或不作为义务的行政强制措施。如强制许可、强制登记、强制检定。

三、行政征收

行政征收，是行政机关为保证国家机关进行正常职能活动或者为保证提供公共服务，无偿和强制地向公民、法人或者其他组织征收钱物的活动，征收内容主要是税和费。

特别需要掌握其两个特点：强制、无偿，以区别于行政征用和行政征购。行政征用和行政征购都是强制的，然而是有偿的。而行政征收是无偿的，最突出的是税收，是强制的、无偿的。

从我国现行法律、法规的规定来看，行政征收的内容主要有：

1. 税收征收，它是行政征收中最主要的方面，从我国的税法规定来看，包括对内税收征收和涉外税收征收两方面的内容。

2. 资源费征收。在我国，城市土地、矿藏、水流、山岭、草原、荒地、滩涂等自然资源属于国家所有。单位和个人在开采、使用国有自然资源时必须依法向国家缴纳资源费。如水资源费的征收、矿产资源补偿费的征收等。

3. 建设资金征收。这是为确保国家的重点建设，解决重点建设资金不足问题

《2011年公务员考试行测考试100套华图真题》

面向公民、法人或其他组织实施的征收。例如，公路养路费的征收、港口建设费的征收、国家能源交通重点建设基金的征收等。

四、行政裁决

行政裁决，是行政机关依法裁决公民、法人或者其他组织之间权益争议的活动。行政裁决的特征有以下方面：(1)行政裁决的主体是法律授权的特定行政机关。(2)行政裁决的对象是特定的民事、经济纠纷。(3)行政裁决在形式上具有准司法性。(4)行政裁决在效果上具有强制性。

根据我国现行法律的规定，行政裁决主要有以下几类：(1)损害赔偿裁决。这是指行政机关对平等主体之间发生的、因涉及与行政管理相关的合法权益受到侵害而引起的赔偿争议所作的裁决。(2)权属纠纷裁决。这是指行政主体对平等主体之间，因涉及与行政管理相关的某一财产、资源的所有权、使用权的归属发生争议所作出的裁决。(3)侵权纠纷裁决。这是指在平等主体之间，一方当事人认为其行政法上的合法权益受到了另一方侵犯时，依法请求行政机关制止侵害，并责令侵权方对其侵害行为已造成的损失予以赔偿。

比较一下，行政裁决和行政复议。行政裁决，裁决的对象是民事纠纷，行政复议的对象是行政纠纷。两者之间的共同点都是行政机关解决争议，行政机关的作用类似法院，所以有时把这两种行为概括称为“行政司法”。两者的不同点是对象的不同，行政裁决的对象是民事纠纷，行政复议的对象是行政纠纷。一般说来，民事纠纷发生后，一方当事人可诉至法院。为什么行政机关也可以裁决民事争议呢？主要有两个条件，一个是法律授权行政机关解决；二是当事人提出了申请。只有在这两种情况下，行政机关才能解决民事纠纷。

行政调解和仲裁的对象也是民事纠纷。但是，行政机关调解民事纠纷不属于具体行政行为。因为经行政机关调解，民事纠纷双方当事人所达成的调解协议体现的是纠纷双方当事人的意思，并没有体现行政机关的意思，行政机关在一方当事人不履行协议时不能强制执行，即调解行为不具有行政法上的效力，所以不是具体行政行为。在行政管理中，对民事纠纷的仲裁只有一种，即劳动合同争议仲裁。劳动合同发生争议，到劳动局里的劳动合同争议仲裁委员会去仲裁，仲裁也不是具体行政行为。因为劳动局里的劳动合同争议仲裁委员会不是行政机关，而是具有中立性的社会组织。当事人不服行政仲裁，可以提起民事诉讼。

五、行政应急

(一)行政应急的概念与基本原则

行政应急是指行政机关依法运用行政紧急权力控制突发紧急事态以恢复正常社会秩序的制度。行政应急制度的基本特征是：(1)出现了突发紧急事态，而且该事态达到了运用平时的行政管理手段无法应对的程度；(2)有权国家机关依法启动紧急程序，授权政府依法运用紧急权力、采取紧急措施；(3)在进入紧急状态下，某些宪法和法律的条款处于中止状态，公民的某些宪法权利和法律权利处于中止状态、某些公民权利受到比平时状态更多的限制。

行政应急的基本原则主要有三项：

(1)法治原则。行政机关在紧急状态下所拥有的行政紧急权力可以使宪法和法律的某些条款处于中止状态，也就是公民的某些基本权利处于克减状态，如果不对这种特殊状态下的行政权力预先在法律上作出设定，不规定这种特殊权力行使时的条件和程序，这种权力必然会被滥用。

(2)人权保障原则。行政机关在紧急状态下之所以要拥有行政紧急权力，是为了迅速恢复秩序，保障人权；而行政机关拥有行政紧急权力也可能侵犯人权。因

《2011 年公务员考试行测考试 100 套华图真题》

此，行政机关在采取行政应急措施时，必须从人权保障出发。

(3) 比例原则。行政机关所采取的行政应急措施必须是以应对紧急事态、恢复秩序为目的；行政机关所采取的行政应急措施必须是对社会成员的合法权益造成最低限度损害的措施；行政机关所采取的行政应急措施必须是为了保护更大利益，才可以牺牲更小的利益。

我国宪法规定，全国人大常委会有权决定全国范围和省、自治区、直辖市范围进入紧急状态；国务院有权决定省、自治区、直辖市范围内部分地区进入紧急状态。需要采取行政应急措施的紧急事态通常有严重的自然灾害、安全事故、公共卫生、经济危机、社会冲突等。

(二) 行政应急措施

根据行政机关所采取的行政应急措施对社会成员的权利义务产生的影响，可以将其分为以下三类：

1. 授益性行政应急措施。即行政机关为在紧急事态中受害的公民或者组织提供救助和保护的措施。如提供救助物质、食品、医疗措施等。

2. 负担性行政应急措施。即行政机关临时性征用公民或者组织的物质、人力、房屋、土地等。

3. 限制性行政应急措施。即行政机关对公民或者组织的宪法权利或者法律权利作出必要的限制的措施。如在宣布进入紧急状态的情况下，宪法规定的公民的集会、游行、示威自由处于中止状态；在出现严重公共卫生事件时，某些公民或者某个区域的公民的人身自由要受到限制。

数字推理（数量关系）

(一) 给你一个数列，但其中缺少一项，要求你仔细观察数列的排列规律，然后从四个选项中选出你认为最合理的一项来填补空缺项。

例题：

2 9 16 23 30 ()

A、35 B、37 C、39 D、41

解答：这一数列的排列规律是前一个数加 7 等于后一个数，故空缺项应为 37。正确答案为 B。

请开始答题：

1. 0 2 6 14 () 62

A、40 B、36 C、30 D、38

2. 2 7 28 63 () 215

A、116 B、126 C、138 D、142

《2011 年公务员考试行测考试 100 套华图真题》

3. $-1\ 9\ 8(\)\ 25\ 42$
A、17 B、11 C、16 D、19
4. $3\ 4\ 7\ 16(\)\ 124$
A、33 B、35 C、41 D、43
5. $1\ 2\ 3\ 2(\)\ 6$
A、2 B、3 C、33 D、5
6. $9\ 1\ 3\ 18\ 24\ 31(\)$
A. 39 B. 38 C. 37 D. 40
7. $1\ 7\ 10(\)\ 3\ 4\ -1$
A. 7 B. 6 C. 8 D. 5
8. $0\ 1\ 4\ 13\ 40(\)$
A. 76 B. 85 C. 94 D. 121
9. $6\ 8\ 11\ 16\ 23(\)$
A. 32 B. 34 C. 36 D. 38
10. $6\ 1\ 2\ 19\ 27\ 33(\)\ 48$
A. 39 B. 40 C. 41 D. 42
11. $0\ 5\ 8\ 1\ 7(\)\ 37$
A. 31 B. 27 C. 24 D. 22
12. $4\ 9\ 6\ 12\ 8\ 15\ 10(\)$
A. 18 B. 13 C. 16 D. 15
13. $8\ 96\ 140\ 162\ 173(\)$
A. 178.5 B. 179.5 C. 180.5 D. 181.5
14. $2,\ 2,\ 3,\ 6,\ 12,\ 22,\ 0$
A. 35 B. 36 C. 37 D. 38
15. $4,\ 14,\ 45,\ 139,\ 0$
A. 422 B. 412 C. 421 D. 387
16. $1,\ 2,\ 4,\ 4,\ 1,\ 0$
A. 16 B. 17 C. $1/32$ D. $1/16$
17. $10,\ 11,\ 13,\ 34,\ 58,\ 105,\ 0$
A. 182 B. 149 C. 134 D. 197
18. $1,\ 2,\ 3,\ 7,\ 8,\ 17,\ 15,\ 0$
A. 31 B. 10 C. 9 D. 25
19. $4,\ 5,\ (),\ 14,\ 23,\ 37。$
A. 6 B. 7 C. 8 D. 9
20. $3,\ 2,\ 6,\ 4,\ 9,\ 6,\ 12,\ ()。$
A. 12 B. 16 C. 15 D. 8
21. $5,\ 17,\ 37,\ 65,\ (),\ 145。$
A. 99 B. 100 C. 101 D. 102
22. $120,\ 115,\ 111,\ 108,\ ()。$
A. 107 B. 106 C. 105 D. 104
23. $3.1,\ 4.2,\ 7.3,\ (),\ 18.8。$
A. 10.6 B. 11.2 C. 13.9 D. 11.5
24. $3,\ 7,\ 11,\ 15,\ ()。$
A. 16 B. 17 C. 18 D. 19

《2011 年公务员考试行测考试 100 套华图真题》

25. 5.9, 6.2, 6.6, 7.1, ()。

A. 7.6 B. 7.7 C. 7.8 D. 7.9

26. 7, 8, 11, 20, 47, ()。

A. 69 B. 128 C. 108 D. 87

27. 64, 49, (), 25, 16。

A. 36 B. 18 C. 35 D. 42

28. 123, 456, 789, ()。

A. 10112 B. 1122 C. 1012 D. 678

29. 40 23 () 6 11

A. 7 B. 13 C. 17 D. 19

30. 0 -1 () 7 28

A. 2 B. 3 C. 4 D. 5

31 题

32. 8 11 16 () 32

A. 25 B. 22 C. 24 D. 23

33. 3 4 () 39 103

A. 7 B. 9 C. 11 D. 12

34. 1 2 2 () 8 32

A. 4 B. 3 C. 5 D. 6

35. 1 7 24 33 46 () 92

A. 65 B. 67 C. 69 D. 71

36. 1 6 1 7 19 22 27 () 45

A. 35 B. 34 C. 36 D. 37

37. 2 8 ()

A. 128 B. 32 C. 64 D. 512

38. 11 22 33 45 () 71

A. 53 B. 55 C. 57 D. 59

(二) 每题图形中的数字都包含一定的规律, 请你总结前两个图形中数字的规律, 从四个选项中选出你认为问号应该代表的数字。

例题

A. 1 B. 2 C. 3 D. 4

【答案】C

【解析】正确答案是 3, 根据前两个图形, 可以看出规律为: $1+3=2+2$; $2+4=3+3$; 因此, $?+5=4+4$ 。所以答案为 C。

请开始答题:

39-43 题

数字推理 (数量关系) 答案

1-5: C、B、A、D、D

6-10: A、A、D、B、B

11-15: C、A、A、C、A

16-20: C、D、A、D、D

21-25: C、B、D、D、B

26-30: B、A、B、C、A

31-35: C、D、D、A、A

《2011 年公务员考试行测考试 100 套华图真题》

35-40: B、D、C、B、C

41-43: A、B、A

文章阅读

本部分均为单选题，着重考查考生对语言文字的理解和驾驭能力。这种能力包括：对词、句子、篇章一般意思和特定意义的理解；对比较复杂的概念和观点的准确理解；对语句隐含信息的合理推断；根据上下文，恰当选用词语；准确地辨明句义，筛选信息。

注意：问题可能是选择一个词语或一个句子，使表达最为准确，也可能是考查对文字内容的理解，你的选择应与题目要求最相符合。

【例题】铁路新线路的开辟与否往往必须在建路花费尽可能少的要求与新建路线的贸易运输量尽可能多的要求之间取得妥协。

这段话主要支持了这样一种论点，即新建铁路的线路：（ ）。

A. 应该是一造价最低的线路 B. 其选择决定了新兴贸易中心的位置

C. 决定于是否与终点之间的距离最短 D. 不会总是具有最低建造成本的路
线

【答案】D

【解析】仔细考察四个选项，您可以发现，选项 A 与题中“妥协”的含义不相符；选项 B 和 C 都无法从题中得出；只有选项 D 是短文支持的一种主要观点，因此正确答案为 D。

请开始答题：

(1) 阅读以下文字，完成 1~5 题

你能想像一只绿色老鼠的样子吗？科学家最近通过基因变化技术使老鼠长出了绿色的毛，试验的成功让科学家们相信，将相关基因移植入毛囊可以改变毛发的颜色，这意味着对毛囊进行基因变体疗法可能大有作为。

抗癌公司是美国加州圣迭戈的一家生物技术公司，这里的科学家将一种水母基因移植到老鼠的毛囊中，使老鼠长出了在蓝光下呈现荧光绿的毛发。该公司总裁罗伯特·霍夫曼说：“这些毛发之所以是绿色的，是因为其中有荧光绿色的蛋白质。”这种荧光绿蛋白质就是使水母在暗处发绿光的那种基因。霍夫曼将这种水母的基因移入一块剪下的老鼠皮上，他用一种名叫胶原酶的物质将老鼠皮组织软化，胶原酶可使毛囊更容易接受水母的基因，然后将老鼠皮放入培养液中。培养液含有一种腺病毒，这种病毒与平常引起感冒的腺病毒相似。该病毒很快进入老鼠皮上的水母基因细胞中。霍夫曼采取措施使病毒迅速复制，这样病毒细胞就可以将自己携带的基因成分载入老鼠的细胞中。霍夫曼在显微镜下观察细胞的变化过程，他发现，老鼠皮的毛囊中明显出现了绿色蛋白质的斑点，这是每根毛发生长的基础。此后，这块老鼠皮上 80% 的地方长出了绿色的毛。然后，霍夫曼将这块长有绿毛的老鼠皮移植到活老鼠缺少毛发的皮肤上，移植的毛发在老鼠身上不断生长，逐渐遍布全身。

目前，该研究最乐观的前景可能就是让灰白头发恢复成黑发。研究人员已通过基因疗法使白老鼠长出了黑色的毛，这对于治疗灰白头发是重大进步。但这种

《2011 年公务员考试行测考试 100 套华图真题》

基因变体技术还要在老鼠身上再做几年试验才能用于人类。科学家们认为，一旦人类掌握了关于头发颜色的基因，基因疗法就可以用于美发。黑头发是因为真黑素在发挥作用，红头发和褐色头发也都有其生成色素，但目前还没破解金发的分子构造。一旦科学家们发现了所有决定头发颜色的基因，那么人们就可以随心所欲地改变头发的颜色，只需激活或减少相关基因，而不是通过染色物质。

霍夫曼同时指出：“毛囊是个了不起的工具。”他相信基因工程能使毛囊产生任何形式的蛋白质，比如胰岛素和干扰素(一种免疫系统蛋白质)。小小的毛囊其实是个巨大的工厂。通过基因疗法，毛囊里不仅能长出健康的头发，还有可能承载某些基因来治疗白化病、糖尿病、癌症等。实际上，把基因疗法用于美发要比治病困难得多。美发需要把头上所有的毛囊都进行处理，而治病只在几个毛囊上进行处理就可以了。

1. 根据文意，下列对文中的“相关基因”和“自己携带的基因成分”的理解，正确的一项是()。

- A. 一种水母基因 水母细胞的基因成分
- B. 关于头发颜色的基因 病毒细胞的原有的基因成分
- C. 一种水母基因 病毒细胞的原有的基因成分
- D. 关于头发颜色的基因 水母细胞的基因成分

2. 文中说“毛囊是个了不起的工具”，下列不能作为这句话的依据的一项是()。

- A. 毛囊能通过基因工程产生任何形式的蛋白质
- B. 小小的毛囊其实是个巨大的工厂，能制造胰岛素和干扰素
- C. 毛囊里能长出健康的头发
- D. 毛囊里可能承载某些基因来治疗白化病等顽症

3. 下列理解符合原文意思的一项是()。

A. 一种水母身上带有能在暗处发绿光的荧光绿蛋白质，将该蛋白质植入老鼠毛发，就能使之发绿光

B. 霍夫曼把一种类似感冒病毒的腺病毒，植入活老鼠缺少毛发的皮肤上并迅速复制，这样就使老鼠皮的毛囊中明显出现绿色蛋白质的斑点

C. 霍夫曼采用的基因变体疗法就是通过基因变化技术对老鼠的毛囊进行基因改造，从而改变毛发的颜色

D. 科学家们认为，基因疗法能否用于美发，关键在于人类对头发颜色的基因的掌握，如果不能发现所有决定头发颜色的基因，那么人们就很难改变头发的颜色

4. 根据原文所提供的信息，以下推断正确的一项是()。

A. 科学家能通过基因变化技术使老鼠长出绿色的毛，意味着目前也可以通过同样的技术使老鼠长出其他各种颜色的毛

B. 人类的黑头发是因为真黑素在发挥作用，将来科学家只需激活或减少相关基因，而不是通过染色物质，就可能让灰白头发恢复成黑发

C. 霍夫曼移入水母基因细胞时，用一种名叫胶原酶的物质将老鼠皮组织软化，如果不用这种胶原酶，他的实验就不能取得成功

D. 如果利用毛囊进行的基因变体疗法在人身上的试验获得成功，那么人类对白化病、糖尿病和癌症等顽疾的治疗就会轻而易举了

5. 下列哪项最适合作该段文字的标题?()

- A. 彩色头发基因技术 B. 老鼠毛色变绿的原因

《2011 年公务员考试行测考试 100 套华图真题》

C. 毛囊的作用 D. 如何利用基因技术

(2) 阅读以下文字, 完成 6~10 题

第二次 世界大战期间, 美国和前苏联的科学家分别发现, 在大洋深处有一些深海声道可以让声波传得很远。在深海声道中, 声音可以传播到数千公里之外而没有减弱的迹象。后来的科学家还为此做过一次实验, 他们在澳洲南部海中投下深水炸弹, 爆炸产生的声波顺着深海声道绕过了好望角, 又折向赤道, 横穿大西洋, 经过 3 小时 43 分钟后, 竟然被北美洲 百慕大群岛的测听站收听到了。计算起来, 这颗炸弹爆炸后的声波一共“走”了 19200 公里, 在海洋中环绕地球达半圈!

经过理论分析, 科学家发现, 这是因为大自然在大洋深处造成了对声波传播非常有利的深海声道。海水下的声速基本上由温度和海水压力控制: 温度愈低, 声速也愈慢; 而海水压力愈大, 则声速愈快。大洋中的水温从总的来说是太阳照射造成的, 因此温度总是随深度增加而降低, 但到一定深度后温度就不再改变, 形成深海等温层。而海水压力却只与深度有关, 深度愈大, 海水压力就愈大。因此, 如果从海面向下观察, 就会发现, 声速先是随深度增加、温度降低而变慢, 当下降到一个最低值时, 海水温度不再改变, 这时, 声速就会随海水压力增大而变快。

这样, 声波传播的速度在整个海洋中变成了上下两层, 在上面的一层中, 水层越深, 声速越慢; 在下面的一层中, 水层越深, 声速则越快。在这两层交界的地方, 就形成了一个特殊的声道轴, 由于声波在传播中总是向声速慢的界面弯曲, 因此声道轴上方和下方的声音都会折回声道轴。在上面的一层中, 水层越深, 声速越慢; 在下面的一层中, 水层越深, 声速则越快。这样, 声能被限制在声道上下一定的深度范围内传播, 不接触海面 and 海底, 这就像在声道轴上下各放一块反射声音特别好的大平板一样, 声音总是在这两块平板之间来回反射, 能量不受损失, 可以传到很远的地方。这就是“深海声道”。

深海声道经常受到复杂海况的影响, 海洋深度的变化、海底山脉的阻挡都是障碍。一般说来, 如果海的深度变浅, 对声道会有明显的影响, 但如果不浅到声道的下界, 影响就不大, 如果越过了下界, 声道中的部分声波能量就会受损。海底愈浅, 声能受损就愈严重。如果海底穿过整个声道, 那么声道效应就没有了, 声道就消失了。

6. 下列对“深海声道”的理解, 正确的一项是()。

A. 深海声道是可以让声音以由快变慢再由慢变快的速度清晰地传播到大洋很深处一定范围内, 并总是向声速慢的一面弯曲的特殊界面

B. 深海声道是位处深海一定深度范围内, 环绕地球达半圈并且能使声音在其中传播到数千公里之外而没有减弱迹象的特殊声道

C. 深海声道是以深海等温层为界面形成的, 因而能保证声波迅速而不受损失地传播到深海一定范围内的特殊的声道轴

D. 深海声道是声能不接触海面和海底而不受损失地在大洋深处的一定深度范围内传播, 从而让声音可以传得很远的特殊声道

7. 在海水下的声速与温度和海水压力的关系是()。

A. 温度愈低, 声速愈慢 B. 温度愈低, 声速愈快

C. 海水压力愈小, 声速愈快 D. 海水压力愈大, 声速愈慢

8. 根据文意, 不属于深海声道“奇异”特点的一项是()。

A. 深海声道可以使声音传播到很远而没有减弱的迹象

《2011 年公务员考试行测考试 100 套华图真题》

- B. 在深海声道中声速基本上不再受温度和海水压力的控制
- C. 在深海声道中传播的声音能折回声道轴而能量不受损失
- D. 声能在深海声道中总是被限定在声道上下一定的深度范围内传播

9. 联系上下文, 下列对文中画线句子的理解, 与原文意思不符的一项是()。

A. 在声道轴上方, 随海水深度的增加, 海水温度会越来越低, 声速也因此而越来越慢

- B. 在声道轴下方, 声速和海水深度成正比, 和海水温度成反比
- C. 这样的声速差别正是使声道轴上下方的声音不断折回声道轴的重要原因
- D. 声道轴上下方声速的变化基本上是太阳照射和海水压力影响的结果

10. 根据本文提供的信息, 以下推断正确的一项是()。

A. 深海声道形成于大洋深处, 这就意味着海洋越深处, 声道轴上下方的范围就越大, 就越容易形成深海声道, 声道效应也就会越明显

B. 深海声道对声波传播非常有利, 因此, 谁控制了全球深海声道, 谁就能从某种程度上控制深海制海权, 谁就能提升自身的军事实力

C. 声道效应会受海底障碍的影响, 如果人们想获得某一声道效应, 可以在条件允许的情况下, 采取必要措施清除障碍, 以使声道畅通

D. 声波竟然可以顺着深海声道环绕地球达半圈, 所以我们可以建成环球深海声道, 并利用方向可控的声波来发展通讯事业

(3) 阅读以下文字, 完成 11~15 题

南京师范大学地理科学学院沈冠军教授等根据可靠的石制品测年结果, 认定云南省宜良县张口洞遗址在距今 4 万~10 万年间存在人类活动, 此前的中国原住民并未消亡, 现代人类“非洲起源说”的这一重要依据相应不能成立。作者同时认为骨化石的常规 14C 年龄存在较大误差, 不宜在学术研究中引为佐证。这一成果发表于最近出版的《科学通报》上。

众所周知, 具有现代解剖特征的智人, 即现代人起源的时间和地点, 是人类学研究的一大热点。“多地区连续演化”和“非洲起源”这两种主要的学说, 已激烈争论了近 20 年。相关遗物年代的准确测定, 对澄清这一争议十分重要。沈冠军认为, 过去 20 多年里测年新技术的应用表明, 西亚和非洲 10 万年前就有现代人类。而我国相关人类遗址的主要测年手段, 是以骨化石为样品的铀系和常规 14C 法, 分辨率都很有限, 重要晚期智人化石都被定在 3 万年内, 同时缺少有确实年代依据的距今 4 万~10 万年间的人类化石, 所以尽管我国人类学家多倾向于“多地区连续演化说”, 但上述测年数据却更有利于“非洲起源说”。

近年来, 沈冠军等基于洞穴次生碳酸盐岩铀系定年, 研究了广西通天岩、白莲洞等晚期智人洞穴地点, 发现这些原认为 2 万~3 万年前的遗址, 实际年代应在 10 万年左右, 或者比这更早。也就是说, 我国出现现代人类的时间, 很可能不晚于西亚和南非, 因此当前在学术争议中占上风的“非洲起源说”可能并不成立。

为寻找进一步的证据, 沈冠军和云南省宜良县文物管理所李建坤、云南省文物考古研究所吉学平等一起, 将目光锁定到位于云南宜良九乡风景区内的张口洞遗址。

据介绍, 张口洞遗址于 1989 年被发现, 随后共发掘出现代人牙化石 40 余枚、石制品 1800 多件。上部地层炭块和下部地层骨化石的常规 14C 法测年结果, 分别是距今 1 万年和 1.5 万年左右。沈冠军等认为, 张口洞文化堆积中夹生的钙板多达 10 层, 纯净致密、结晶良好的洞穴次生碳酸盐岩可作为铀系年代测定的理想材料, 堆积物代表的时间跨度显然远大于原认为的 5 千年左右。为此他们多次进行

《2011 年公务员考试行测考试 100 套华图真题》

实地采样，对其人类演化意义进行了“再研究”。

测年结果显示，张口洞的钙板层中表层和第二钙板层小于 1 万年；第四、五钙板层分别为约 5.5 万和 11 万年，其间出土的石制工具是我国这一时段人类活动的确证。因此作为现代人类“非洲起源说”论据的“中国 4 万~10 万年间的人类化石缺环”，很可能只是测年技术系统误差造成的假象。4 万~10 万年是现代人类起源、扩散和演化的关键时期，至少我国南方在这一时段存在人类活动，这里人类演化的时间序列很可能并未间断。

研究结果表明，张口洞第六钙板层形成年代为 30 万年前，其下堆积远大于骨化石常规 14C 测年给出的约 1.5 万年。因此长久以来在国际学术界颇受质疑的骨化石样常规 14C 年龄，其数据“果真不可相信”。沈冠军认为，上世纪 80 年代前以这一时标测定年代的地点，都应用新技术重新研究；即使暂无可能，也不宜在学术研究中将其引为重要佐证。

11. 文中说：“上述测年数据却更有利于‘非洲起源说’。”下列选项中不属于“上述测年数据”的一项是（ ）。

- A. 云南省宜良县张口洞遗址在距今 4 万~10 万年间存在人类活动
- B. 西亚和非洲 10 万年前就有现代人类
- C. 我国重要晚期智人化石都被定在 3 万年内
- D. 我国缺少有确定年代的距今 4 万~10 万年间的人类化石

12. 沈冠军教授等人对人类起源研究的意义，解说不正确的一项是（ ）

- A. 我国出现现代人类的时间，比西亚、南非都早
- B. 我国 4 万~10 万年间的人类化石缺环可能是测年技术系统误差造成的假象
- C. 我国南方在 4 万~10 万年间存在人类活动，这里人类演化的时间序列很可能未间断
- D. 研究的结果有力地证明了中国人类学家倾向的“多地区连续演化说”。

13. 下列说法不符合文意的一项是（ ）。

A. 关于现代人的起源，世界上存在“多地区连续演化”和“非洲起源”两个主要观点，已激烈争论了近 20 年

B. 开始是“非洲起源”论占了上风，后来由于中国考古的发现，“多地区连续演化”论占了上风

C. 骨化石常规 14C 测年法存在较大误差，因而这种测年方法得出的数据长久以来在国际学术界颇受质疑

D. 沈冠军等人的研究是采用新的方法，即铀系定年法，这种方法比 14C 法分辨率更高

14. 根据文中所提供的信息，下列推断正确的一项是（ ）。

A. 次生碳酸盐岩铀系定年法是我国地理学教授沈冠军发明的

B. 沈冠军之所以把张口洞作为研究的地点是因为那里出土的化石特别多

C. 上世纪 80 年代前所测定的遗址年代都是不准确的，因而不能在学术研究中加以引用

D. 中国现代人可能不是起源于非洲，“非洲是现代人类的发源地”的观点有可能不成立

15. 对张口洞遗址的考古研究，其主要是为了说明（ ）。

A. “非洲起源说”可能并不成立

B. 张口洞遗址在距今 4 万~10 万年间存在人类活动

C. 常规 14C 法测年的准确性

《2011 年公务员考试行测考试 100 套华图真题》

D. 我国最早有人类的产生

(4) 阅读以下文字, 完成 16~20 题

关于水族的来源, 国内外专家、学者较为一致的结论是, 水族是我国南方由古代“百越”族群中“骆越”后裔的一支, 逐渐发展成为单一的民族。但是, 水族先民什么时代, 什么原因, 从什么地方来到南方融入百越之中等一系列问题, 一直是水家专家所关注的, 也一直没有更进一步的深入研究。

贵州省水家学会副会长蒙熙林说, 从殷商亡国变迁的历史、水族古文字及水书、水族历法、水族复杂的韵母系统、水族语言中保留着大量的中原古音、水族盛大年节——端节以及 DNA 鉴定等等资料的研究表明, 水族先民可能从北方迁徙而来。

蒙熙林进一步分析说, 荔波县档案局收藏的一本清代水书上印有梅花鹿的图案, 而梅花鹿在南方是绝对没有的。其次, 登高跑马是水族端节活动的一个重要内容, 跑马的时间都在亥日, 相当于汉族春节的大年初一。而水族端节跑马讲究配鞍而骑, 如实在没有者, 也要用色彩艳丽的被面折叠于马背作替代。配鞍而骑是典型的北方民族骑马习俗, 与南方“不鞍而骑”的习俗截然不同。另外, 水族人嫁女儿时, 嫁妆中必须有件羊毛大衣, 这是水族人富贵的象征。而南方炎热的气候显然与羊毛大衣格格不入。

更具有说服力的是, 医学研究部门通过对水族群体抽血进行 DNA 鉴定, 得到了科学的结论。1997 年, 贵州医学院遗传专家对贵州汉族、苗族、布依族和水族等几个主要世居民族作了人群线粒体 DNA 多态性研究, 将三代都是同一民族家庭的 150 份标本进行了 2600 余次实验, 结果表明, 水家先民确定是西北地区民族的血缘。

专家们分析, 大约在公元前 11 世纪殷商亡国之后, 水族先民第一次举族迁徙, 由中原的睢水流域一带向南迁徙, 使水族先民从殷商的母体文化中分化出来, 逐步融入百越族群之中。水家先民第二次举族大迁徙, 时间大约在公元前 2 世纪秦王朝统一中国, 发兵征服岭南之后。这次迁徙促使水家先民从百越母体中分离出来, 逐步由南溯流向西北迁徙, 进入龙江、都柳江上游地带生息, 大致形成后世分布的格局。

在生产力发展缓慢的古代。水族地区经历了八九百年的生息发展, 到公元 629 年之后, 才相继出现唐王朝在水族地区设置应州、抚水州、莪州、劳州、都尚县、婆览县建制的辉煌。水族在发展演变的漫长历史过程中, 既有自己的一部分融入到相邻的民族之中, 也有相邻民族的一部分融入到水族之中, 出现你中有我, 我中有你的现象。

因此, 在水族民间、在水族研究史上, 出现殷人后裔说、两广源流说、江西迁来说、江南迁来说等等, 那只不过是水族发展历史过程中某一时段或某一分支的事实。

16. 根据文意, 下列对“水族先民可能从北方迁徙而来”的理由说法有误的一项是()。

A. 水族有自己的古文字, 水族语言中保存着大量的中原古音, 有着复杂的声韵母系统

B. 水族书上印有南方绝对没有的动物梅花鹿的图案, 水族人嫁女必送羊毛大衣

C. 水族人骑马讲究配鞍而骑, 骑马必配色彩艳丽的被面折叠于马背

D. 水族盛大年节——端节的时间和汉族春节的时间相当, 端节的活动——登

《2011 年公务员考试行测考试 100 套华图真题》

高跑马的时间亥日相当汉族春节的大年初一

17. 根据文意, 下列有关水族的发展演变的说法有误的一项是()。

A. 大约在公元前 11 世纪殷商亡国之后, 水族先民由中原的睢水流域一带向南迁徙

B. 水族先民的第一次举族迁徙, 融入了岭南的百越族群中

C. 大约在公元前 2 世纪秦王时期, 水族逐步由南溯流向西北迁徙, 进入龙江、都柳江上游地带生息

D. 一直到了公元 629 年之后, 水族才形成了后世分布的格局, 有了建制的辉煌

18. 下列理解符合原文意思的一项是()。

A. 水族是由我国南方古代“百越”族的后裔“骆越”族的一支逐渐发展成的单一民族, 这是国内外专家、学者较为一致的看法

B. 遗传专家对水族群体作了人群线粒体 DNA 多态性研究, 将三代都是同一民族的 150 份标本进行了 2600 余次实验, 最终才得出了一个结论

C. 水族从殷商母体文化中分化出来, 又从百越母体中分离出去, 在发展的过程中又和相邻的民族互相融合

D. 水族先民的两次迁徙, 共经历了八九百年的时间, 由于生产力发展的缓慢, 水族发展的历史是漫长的。

19. 下列关于水族起源的说法, 最全面的是()。

A. 殷人后裔说 B. 两广源流说

C. 江南迁来说 D. 以上都不对

20. 根据本文提供的信息, 以下推断错误的一项是()

A. 以水族古文字写成的水书, 以其独特的魅力和极高的研究价值, 受到世界语言学界的瞩目

B. 贵州的汉族、苗族、布依族等世居民族与水族的种群血缘有较大的区别

C. 在对水族群体的 DNA 鉴定中, 也发现了有不同于水族特征的个例

D. “西北迁来说”是水族来源研究的最新成果, 对学术界长期以来存在的“两广源流说”、“江西迁来说”、“江南迁来说”的谬误做了纠偏

(5) 阅读以下文字, 完成 21~25 题

世界环境与发展委员会提出一个观念: 主流的社会文化范式认为人类的文化造成今天这样的环境变迁——环境危机、生态冲突等问题, 这跟西方式的社会文化理念有密切关联; 这种西方所主导的观念, 不仅在西方社会发展, 而且慢慢地传染到全世界。这种观点至少有三个特点: 强调竞争与征服; 漠视和谐, 不仅漠视与自然的和谐, 还漠视与其他社会、其他文化的和谐; 无限制地利用物质, 认为资源永远无限, 这是最大的错误。工业革命只是这些观念比较特别的发展, 而这些观念是来自最早期的西方文化理念——两河流域下游的苏末文化。

著名考古学家张光直教授说: “中国与西方两大文明从肇基已基本为不同的原则所支配。”所谓不同的原则, 就是不同的基本文化理念, 即连续性的宇宙观和断裂性的宇宙观。他还说: “中国文明社会的产生, 不是生产技术革命的结果, 也不是商业贸易的起飞, 而是逐渐通过政治程序所造成的财富极度集中的结果。”他认为, 中国文化从新石器时代进入金属时代的过程中, 就表现了一种特别的文化理念, 叫做“延续”或“连续”; 以苏末文化为代表的西方文化的老祖, 从新石器进入金属器时代开始, 其基本的文化理念则是一种“断裂”的理念。这两种文化现象在文明初始阶段已经形成, 并延续至今。

《2011 年公务员考试行测考试 100 套华图真题》

最明显的“连续”表现在生产工具上，从夏朝转入商朝开始利用青铜器的時候。商朝的青铜器都是用来作为礼器、酒器和兵器，如“鼎”、“爵”和“戈”等等；而商朝所用的农器是延续了新石器时代所用的石头、木头、蚌器和骨头。但苏末不同，它的青铜器最早是用来种植小麦，用青铜刀来收割成熟的麦穗。从新石器进入青铜器时代是一种突破，也是一种跟前面关系的断裂。西方学者常常笑话说，你们中国人好笨，有青铜器却不用来生产。我们当然知道用青铜器来生产更有效，产生更多，但多不一定好。从那个时代开始我们就希望跟自然和谐，互相尊重；不愿意用很有效的东西来破坏自然；我们认为自己跟宇宙是一体的、连续的，这一点从那时候开始就是我们整个宇宙观念的基本原则。

我们的人际关系也是如此。从夏朝到商朝，一直到后来的封建时代，我们都是以氏族、宗教为主体的延伸。但是苏末一开始就放弃了氏族、宗教的团体，而以地缘的团体来代替。因比，在人际关系上，我们延续了宗族关系，而苏末断裂了，代之以地缘关系。其他，如文字应用、城乡关系、财富累积等差别都是如此。

21. 对“多不一定好”理解正确一项是()

- A. 中国文明社会的产生，不是技术革命的结果，因此“多”不利于社会文明产生
- B. 中国文明社会的产生，不是商业贸易的起飞，当时社会还没有这样的商业贸易需要，因此没有“多”的必要
- C. “多”造成社会财富的极度集中，不符合中国文明社会产生的要求
- D. “多”会破坏自然的和谐与平衡，这种不尊重自然的做法会影响人类的连续发展。

22. 对“延续”这一中国文化的理念解说不正确的一项是()。

- A. “延续”包含着这样的思想：人与自然，与其他人，与整个宇宙是连成一体的
- B. “延续”即保持一种原始的生活状态，因此商朝所用的农具延续了新石器时代所用的石头、木头、蚌器跟骨头
- C. “延续”是一种连续性的宇宙观，意味着应该维持和谐、平衡的关系
- D. “延续”这一中国的文化现象从文明初始阶段就已经形成，它体现在生产工具、人际关系、文字应用、城乡关系、财富累积等方面

23. 下列说法与原文意思相符合的一项是()。

- A. 两河流域下游的苏末文化促使工业革命的产生，推进了西方文化理念的发展
- B. 西方式的社会文化理念是现代社会主流的社会文化范式，它影响全世界
- C. 西方文明较之中国文明，就其特点看，更多地包含着一些错误的理念
- D. 西方式的社会文化理念不仅影响着西方社会，也给发展中的中国带来影响

24. 以下推断不正确的一项是()。

- A. 连续与断裂是中西文明理念的差异之所在，这两种文化是可以互补的
- B. 一个民族的文化理念，不是后期才产生的，而是从文明一开始出现就形成了
- C. 人类文化造成今天这样的环境变迁，是西方社会的发展所造成的，因此我们应引以为戒
- D. 作者对工业革命导致环境危机、生态危机等问题的观点持否定态度

25. 下列不属于西方所主导的观念的特点是()。

- A. 强调竞争 B. 强调征服

《2011 年公务员考试行测考试 100 套华图真题》

C. 无限制地利用物质 D. 注重和谐

(6) 阅读以下文字, 完成 26~30 题

26. 即使动物比人低等, 我们这些所谓的“万物之灵”也没有任何理由去折磨、虐待、杀戮他们, 这是生命权利的必然, 更何况“高等”也仅仅是多了一些“智慧”而已, 没有比强大的智慧支撑下的残忍更让这个世界觉得战栗和恐怖的事了。如果仅是黑色的暴力, 我们或可根除, 但更让人觉得悲哀和无奈的却是那些灰色的“漠然”; 无可否认, 许多儿童都有一种凌辱小动物的“野性”, 这或者可以看为动物的本能, 而身负教育引导之责的父母、老师虽戴着文明的冠冕, 却有几人担负起文明的教育之责? 耳闻杀死了 30 只小猫, 有几人从文明教育的深层、从善良人性的角度去探究、思索, 因为 30 只小猫在大多数人眼中和 30 个人无法相提并论。

以下选项, 最符合上文意思的是()。

A. 人类比动物高等, 仅仅是有意识, 在生存权利上, 人并不比动物享有特殊的权利

B. 在现实中, 如果我们将这些虐待、杀戮、残害动物的人绳之以法, 将这些黑色的暴力根除, 我们将可以让这些可怕的事不再发生

C. 老师和父母一样都应该对富有“野性”的儿童起教育、引导之责, 因为他们相对于儿童而言, 所有人都是文明人

D. 因为小猫的生命与人的生命无法相提并论, 所以在大多数人看来, 残杀几只小猫没什么大不了的事

27. 当攻占巴士底狱的号角吹响之时, 成千上万的群众在枪弹硝烟中浴血奋战, 画家此时不能遏制住激情与斗志, 飞扬着手中的画笔, 将一位英勇的姑娘幻化为一个战斗的自由女神渲泻在画布之上, 迎风飘扬的三色旗帜、横七竖八的尸体以及女神背后代表各个低等阶层的战斗者, 都使整个战场在残酷中弥漫出“自由”的气息。德拉克罗瓦这位画坛上的巨匠, 准确地把握住这场伟大革命的脉搏与内涵, 将光荣与进步永远地留存于世人面前。

以下选项, 不符合上文意思的是()。

A. 画中的“自由女神”是根据法国大革命中攻占巴士底狱时的真实人物故事而作的

B. 该画反映了在自由精神的引导下, 法国各个阶层为胜利而浴血奋战的场景

C. 画作者德拉克罗瓦在其画作中准确地对这场革命背后的革命精神进行了诠释

D. 德拉克罗瓦通过其画作让人们永远不会忘记这场革命的伟大及其进步意义

28. 文化的繁荣必须植根于经济的发达, 隋唐、两宋的历史就是明证; 但文化作为上层建筑的一部分, 有其独立性, 如果沾染了过多的经济元素, 沦落成经济的附庸, 文化就不再是文化, 而成为了庸俗。体育作为一种文化, 已经被经济的油彩涂抹得面目全非; 艺术作为一种文化, 其创造者也在经济的浪潮下趋之若鹜地弃艺从商; 文学作为一种文化, 在利润的驱使下, “著作”产生速度并不比“速冻饺子”吃到口中慢多少。……因此, 古老的城墙被拆毁不再是偶然的决策失误, 珍贵的遗迹变得像公园一样热闹不再让人觉得痛心, 其他一些文化的堕落现象更是难以尽言, 整个社会一方面在口头上高呼发展文化, 另一方面却在金钱的面前卑躬屈膝、破坏文化。这对人类社会的发展是福? 是祸?

以下选项, 最能准确复述上文意思的是()。

《2011年公务员考试行测考试 100 套华图真题》

- A. 文化必须依赖于经济的发展,但不能成为经济的附庸
- B. 现代社会存在很多文化被经济所污染的现象,这将破坏社会的发展进程
- C. 文化是上层建筑中的一个部分,应该独自发展,如果在金钱面前卑躬屈膝,势必会削弱自身的意义
- D. 经济破坏文化的现实情况告诫今天的人们应当立刻警醒,将经济元素尽可能多地从文化中剔除出去

29. 我们总是过多讨论政府如何采取措施来改善社会公共秩序,如何来遏制民工犯罪问题;总是在抱怨,民工们为什么那么脏乱,为什么老是随地吐痰。事实上,所有的市民们都该反省一个问题,我们对民工倾注了多少关切之心,哪怕是同情这心?如果是一个拎着大提包的学生,我们或许会去帮忙拎一下,但有几位市民曾想过去帮一个扛着更大更沉包袱的民工?我们可以为一个年轻的都市女孩让座,有几人会对满脸疲惫的女性民工说声“您请坐”?见到民工,提起民工,我们总是无法掩饰眼中的鄙夷,心中的冷漠,也许从某种程度上说,在我们的心中,他们永远不如我们高贵,不如我们文明。我们一直在呼吁尊重人权,可是我们有无从心底里真正地尊重过他们的人权呢?不保护弱者的社会是一个暴力的社会,不尊重弱者的心理是一种蛮横的心理,两者都远远脱离了文明。

以下各项,能够直接从文中推出的是()。

- A. 民工犯罪问题、不遵守文明规则问题的根源在于市民们对这些民工倾注的关心太少,总是歧视他们
- B. 遇到一个扛着大包的民工,大多数市民都不会去帮忙,因为普遍地,他们从心底里对民工怀有鄙视、漠然的感情
- C. 民工们也有自己的人权,都市人应该从内心深处尊重他们,不排斥他们,从物质和精神上去帮助、关心他们
- D. 文明的实现有两个基本的条件,一是一个能保护弱者的社会,二是社会普遍的心态应该是尊重弱者的善心心态

30. 南亚大部分地区位于北纬 $10^{\circ} \sim 30^{\circ}$ 之间,多属热带季风气候,其特点是全年气温较高,且一年分为旱季雨季。这种气候特征制约着南亚的农业,一方面,高温决定了南亚热带农作物的种属;另一方面,降水量的正常与否又决定着农业的丰歉程度、旱涝情况等。每年6月~9月,西南季风盛行时为雨季;10月~次年5月,东北季风盛行时为旱季。因此,西南季风对南亚的农业有重要影响。正常年份,风调雨顺,农业丰收;异常年份,西南季风过强或过弱,则易形成水灾或旱灾。所以,搞好水利工程建设是南亚农业稳产和高产的关键。

以下关于上文表述的推断不正确的一项是()。

- A. 在中国过春节的时候,印度大部分地区正处于东北季风盛行时期,正常情况下,也就是旱灾时期
- B. 当澳大利亚人过圣诞节的时候,南亚大部分地区正处于旱季,干冷的气候会制约水稻等需水较多的农作物的生长
- C. 2008年北京奥运会召开之时,孟加拉国将雨量充沛,农作物长势良好,但如果该年西南季风过弱,农业将可能歉收
- D. 某年南亚次大陆大部分地区西南季风过于强烈,降雨频繁,但各国农业收成并未有外界预想的糟糕,这说明本区域国家的水利工程可能建设得较好

参考答案:

1-10: D、C、C、B、A、D、A、B、B、C

11-20: A、A、B、D、A、C、D、C、D、D

《2011 年公务员考试行测考试 100 套华图真题》

21-30: D、B、D、C、D、A、B、A、B、B

公务员行政职业能力测验复习 - 片断阅读

一、选词填空：要求你从所给的四个词中选出一个填入句中空格内，从而使句子的意思表达最准确。

例题：

只要方向正确，任何一点积极性都应当得到-----和支持。

A. 尊重 B. 肯定 C. 表彰 D. 重视

解答：用“肯定”填空使句子的意思表达得最准确，故应选 B。

请开始答题：

1. 科学技术的飞速发展给社会带来了-----的变化。

A. 与日俱增 B. 无所不在 C. 一言难尽 D. 日新月异

2. 这家商场越办越差，现在每天去购物的顾客-----。

A. 寥寥无几 B. 门可罗雀 C. 人迹罕至 D. 熙来攘往

3. 山径旁的石壁和殿廊的石碑上，留着不少名人的题咏，词工句丽，书法-----，为湖光山色平添了许多风韵。

A. 精美 B. 精巧 C. 精细 D. 精湛

4. ①以高人一筹的-----教训别人。

②且让我们自己尽量的-----五月的青岛吧。

③语义前后不能-----。

A. 姿态 观赏 连接 B. 姿势 欣赏 连接

C. 姿态 欣赏 衔接 D. 姿势 观赏 衔接

5. 螺赢静悄悄地飞来 动翅膀，向网上一-----，蜘蛛以为有什么飞虫-----住了，赶快来-----，螺赢就用最敏捷的动作，突然把蜘蛛捉住，迅速-----去。

A. 扇 碰 粘 捉 飞 B. 振 撞 粘 看 离

C. 振 撞 粘 捉 飞 D. 振 碰 粘 看 飞

6. 各级政府主管部门和财政机关不再把企业置于直接管理之下，并不等于完全放弃对企业经营活动的-----和-----。

A. 管理 限制 B. 领导 控制

C. 引导 控制 D. 引导 制约

7. 利用合同进行犯罪足一种常见的-----犯罪。

A. 欺诈 B. 讹诈 C. 欺骗 D. 诈骗

8. 由于他事先没有充分准备，因而遇到意外情况时显得-----。

A. 焦躁不安 B. 不知所措 C. 束手束脚 D. 灰心丧气

9. 从社会主义公有制已经显示的优越性和这种优越性还未充分发挥，可以看出，目前许多国有企业存在的某些弊端，-----公有制自身自身问题，-----其表现的具体形式问题，是经济体制问题。

A. 既是 也是 B. 确定 不是

C. 不是 而是 D. 不是 也不是

10. 一位年迈的老人带着孙子，-----在北京西客站前。眺望着这充满民族风格的宏伟建筑群，嘴里不住地啧啧称赞。

《2011 年公务员考试行测考试 100 套华图真题》

A. 屹立 B. 伫立 C. 矗立 D. 挺立

11. 古人有“闻过则喜”之说，而今天有些人则不然，总是-----，对比之下，实在不应该。

A. 瑕不掩瑜 B. 讳疾忌医 C. 刚愎自用 D. 好大喜功

12. 春华秋实，没有那-----的春风，又哪会有这满野秋色的大好收成呢？

A. 温和 B. 温柔 C. 和煦 D. 强劲

13. 讽刺是要夸大的，但不能无中生有，-----。

A. 信口雌黄 B. 捕风捉影 C. 东拼西凑 D. 不着边际

14. 这一套百科全书，内容涉及各个领域、各门学科，真是-----，十富多彩。

A. 洋洋大观 B. 蔚为大观 C. 汗牛充栋 D. 包罗万象

15. 古代动物中有一类动物叫蜥蜴，它-----具有两栖动物的特征，-----具有爬行动物的特征。-----古生物学工作者不容易弄清楚它到底是两栖动物还是爬行动物，-----过去把它放在爬行动物中，-----现在又把它放在两栖动物中去。

A. 既 又 因此 以至 而

B. 不但 而且 不过 尽管 但是

C. 既 又 因此 以致 而

D. 不但 而且 因此 尽管 但是

二、语句表达：

要求你从语法、语气、语义等方面对有关语句作出判断。

例题：

从给出的几句话中选出没有语病的一句：

A. 阅读理解与否，是衡量阅读能力好坏的重要标志。

B. 阅读与理解，是衡量阅读能力好坏的重要标志。

C. 阅读是否理解，是衡量阅读能力的重要标志。

D. 阅读能力好坏的标志是理解。

解答：该题的正确答案是 A。

请开始答题：

16. 下列句子中，没有语病的一句是：

A. 由于使用了新的结算办法，取消了托收承付结算方式，大力推广使用，促进了企业加强资金管理，取得了比较好的效果。

B. 人类征服沙漠的伟大理想，只有在社会主义制度下，才有实现的可能。

C. 他的学习成绩之所以好，一个重要的原因是由于勤奋、刻苦。

D. 第五条，……生了一个孩子，保证不再生两个孩子的，由区、县计划生育办公室发给《独生子女证》。

17. 下列句子中，有语病的一句是：

A. 如果输入蒙特卡罗模拟中的随机数不是随机数，那么整个的模拟及其预测的结果都必然是错误的。

B. 成语的正确使用的基础是对成语的确切理解，对成语的理解又不能只从字面的意思推理，而对它产生某些误解。

C. 她把积攒起来的 400 元零花钱，资助给贫困地区的失学儿童赵长波，确保他能够支付读完小学的费用。

D. 北京市人民政府办公厅 6 月 17 日发出关于 2002 年 7 月 1 日升挂国旗的通

《2011年公务员考试行测考试 100 套华图真题》

知。

18、下列句子中没有歧义的是：

- A. 他曾在中山大学就读三个月。
- B. 小范跟他学唱歌。
- C. 父亲从昆明带回来一箱他最爱吃的苹果。
- D. 如果你对象不感兴趣，那就不去了。

19、下列句子的标点符号使用不正确的一项是：

- A. 王昌龄(?—约 756)，字少伯，太原(?)人。
- B. 原子弹、氢弹的大爆炸，人造卫星的发射、回收，标志着我国科学技术的发展达到了新的水平。
- C. 爸爸是技术能手，妈妈是先进生产者，儿子是三好学生：全家三口，人人向上，谁也不甘落后。
- D. 老师勉励我说：“你要学习鲁迅先生：‘横眉冷对千夫指，俯首甘为孺子牛’的革命精神，全心全意为人民服务”。

20、下列句子运用的修辞方法与句后括号内所给的不符的是：

- A. 人家是火车头，咱得向人家学习。(暗喻)
- B. 先生，给现洋钱，袁世凯，不行么?(借代)
- C. 松涛呜咽，白雪泪坠，乌云罩日，青天披纱。(拟人)
- D. 说的是马克思主义，行的是自由主义；对人是马克思主义，对己是自由主义。(排比)

21. 下列各项中有歧义的一项是：

- A. 人家都来琢磨怎样提高效率才好
- B. 我们都在研究怎样提高学习效率
- C. 人们都在考虑怎样教育子女问题
- D. 群众都在思考怎样改善环境卫生

22. 下列各句中有语病的一句是：

- A. 养老保险是为了保障劳动者因年老、丧失劳动能力退出工作岗位后的基本生活而建立起来的一种社会保险制度。
- B. 随着办公用品的现代化和文化用纸的更新，打字蜡纸市场逐步萎缩。
- C. 由于我们进行了改革，产品数量提高了百分之二十到三十。
- D. 上级领导为了严肃法纪，决定给他行政记过处分，并赔偿部分经济损失。

23. 下列各句中，画线成语使用恰当的一句是：

- A. 外出旅游，异地的风物固然让人迷醉，可是在商场购物时遇到的导购的劝说，却常常使人不厌其烦，兴味索然。
- B. 位于泉州的千年古刹“开元寺”，檐牙高啄，气宇轩昂，令中外游客大饱眼福。

C. 春运人流尚未散去，在一些大城市火车站一带，一种屡试不爽诈骗手法死灰复燃，愈演愈烈。

D. 这次研讨会开始时气氛有些沉闷，多亏李教授抛砖引玉的一番话，才使大家的发言积极起来。

24. 下列各句中，没有语病、句意明确的一句是：

- A. 受厄尔尼诺的影响，今年夏秋海水温度将比正常水温低，美国某些地区会因而干旱。大西洋的飓风会更活跃。
- B. “9.11”事件是一起惨绝人寰的人道灾难，这场灾难让众多无辜的孩子和

《2011 年公务员考试行测考试 100 套华图真题》

父母陷入了家破人亡的境地。

C. 市政府认真总结造成这一落后局面的原因，从指导思想，明确树立起依靠科学技术。加快解决这一突出矛盾。

D. 据省气象中心的资料显示，今年新州市除夕最高气温为 12 摄氏度，年初一气温更达 16 度，创 1993 年以来新州市春节最高气温。

25. 下列各句中有语病的一句是：

A. 国务院决定在农村进行的税费改革，是为了切实减轻农民的负担。

B. 美国总统 10 月 16 日在白宫正式签署了国会上周通过的授权总统对伊拉克使用武力 的决议。

C. 能否抓住机遇，加快发展，是关系一个政党、一个国家、一个民族兴衰成败的重大问题。

D. 《通知》严禁上级部门不得违反有关规定干预下级机关的机构设置和人员编制配置，强调机构改革涉及的人员要正确对待进退留转，服从组织分配。

26. 下列句子中，没有语病的一句是：

A. 在他的那个寂静的世界里。他像一头牛、一块石头、一弯清澈明净的溪水坦荡地流着……

B. 江西的瓷器是全国产量最高、质量最好的省份之一。

C. 焦裕禄这个名字对青年人可能还有些陌生，可对四十岁以上的人却是很熟悉的。

D. 作者着力刻画了两位主要人物，这两位主要人物的一言一行、一举一动都体现了作者对这两类不同女性的深刻理解和深切同情。

27. 下列句子中，有语病的一句是：

A. 无论美国或其他什么国家，都不能把自己的价值观念强加于他国人民。

B. 经过经理耐心解释，顾客才怒气渐消。带着所购物品离开商场。

C. 我本想这次能在北京与你见面，到京后才知你正忙于创办合资企业，已经到深圳了。 D. 本书作者希望这本书能引导读者在学习英语句型方面起举一反三的作用。

28. 现在许多青年不愿意脚踏实地干一些平凡的工作，只想有鸣惊人之举，今天，在纪念毛 泽东同志“向雷锋同志学习”题词发表三十周年的日子里。我们推荐广大青年读一读《雷锋 日记》这本好书。以上这个句子的语病是：

A. 句意杂糅 B. 主谓搭配不当 C. 虚问误用 D. 比喻不当

29. 下列句子所用的修辞方法注错的一句是：

A. 各国的船舶穿梭似地来来往往，码头上吊杆不断起落……但是工人的脚步是稳重的。（比喻）

B. 人的正确思想，只能从社会实践中来，只能从社会的生产斗争、阶级斗争和科学实验这三项实践中来。（排比）

C. 他们盛赞它是“引出知识迷宫的线索”、“打开一切科学宝库的钥匙”。给它以极高的地位。（引用）

D. 为什么某些生物的分布广泛而繁多。而它的邻种却分布得狭小而稀少呢？（设问）

30. 在下列一首七律的横线处填一上一句最贴切的句子，正确的一项是：

江风送月海门东，人到江心月正中。

-----，一船鸡犬欲腾空。

帆如云气吹将灭，灯近银河色不红。

《2011年公务员考试行测考试 100 套华图真题》

如此宵征信奇绝，三更三点水精官。

- A. 三千组练挥银刀 B. 半树佛花香易散
C. 万里鱼龙争照影 D. 数丛沙草群鸥散

例题：

阅读以下文字，回答问题。

板块的边界并不就是海陆的边界，大部分板块既有陆地又有海洋。作为板块边界的活动构造带有裂谷、俯冲带、碰撞带这三种类型。大洋中[]数万千米的大洋中脊，中间就是裂谷。地幔物质从这里流出，形成新的洋底岩石，并把两边的板块不断推向两侧，裂谷是洋底的诞生地。某些陆上裂谷(如东非裂谷)可能会产生新的海洋。与裂谷相反，位于大洋边缘的海沟是海洋板块的消亡带。洋底岩石圈在这里俯冲到大陆岩石圈之下，如果边界两边都是陆地，这就成为碰撞带。随着碰撞角度的不同，这里或因挤压而隆起高山，或因剪切而形成断层，或者兼而有之。

例 1. []处填入恰当的措辞是：

- A. 遍布 B. 扩展 C. 绵延 D. 延伸

解答：正确答案是 C。

例 2. 下列判断与文意相符合的一项是：

- A. 板块运动的形式有三种：碰撞、俯冲和裂谷
B. 板块边界的碰撞或俯冲，和裂谷的情形相反
C. 裂谷位于海洋中或海洋与陆地的交界处
D. 碰撞带和俯冲带位于大洋边缘或陆地之上

解答：正确答案是 B。

请开始答题：

(一)

语言是交流思想的工具。人类很早就想出了一些使语言传到远方和帮助记忆的方法。例如，古代我国边境上有敌人入侵时，就在高台上用柴草燃起烽烟报警，邻台看见后立即举火，很快就可传告全体将士。有时也用狼粪来烧，据说狼粪烧的烟升得很高、很直，更容易看清楚。还有用旌①旗、锣鼓、篝火来表示某种意思的。再如，古代秘鲁的印加人用不同颜色、不同粗细的绳子，打成不同形状的结，记载各种事情。② 这些方法都有很大的局限性，远远不能满足人们的需要。经过长期的实践，人们创造出了文字。文字是记录语言的符号。它的产生要比语言晚得多。文字把用声音表达的语言变成了有形体的符号，使语言冲破空间和时间的限制，不仅能传到远方，而且能留传后世③。它扩大了语言的使用范围，为交流思想、传播知识提供了新的方法。文字是在语言的基础上产生的，是语言的辅助手段，④文字在记录了语言、形成了书

31. 这段文字运用的说明方法有：

- A. 举例子、下定义 B. 举例子、打比方
C. 下定义、打比方 D. 作比较、打比方

32. ①处的“旌”的拼音是：

- A、zhēng B、kēng C、jīng D、xīng

33. ②、④两划横线处应填入的措辞是：

- A. 所以、而且 B. 但是、但 C. 因此、但 D. 但是、而且

34. ③处“留传后世”中“留”的意思是：

- A. 停留 B. 遗留 C. 长久 D. 不使离去

《2011 年公务员考试行测考试 100 套华图真题》

35. 这段文字说明的中心是:

- A. 语言是交流思想的工具
- B. 使语言传到远方和帮助记忆的方法
- C. 文字产生的背景和意义
- D. 书面语言对口头语言有很大影响

(二)

沙漠化是指非沙漠地区出现以风沙活动、沙丘起伏为主要标志的沙漠景观的环境 ①

过程。沙漠化主要发生在干旱、半干旱及半湿润地区。现在全球有 1 / 3 的陆地被沙漠所占据, 70% 的干旱土地 (36 亿公顷) 遭受沙漠化危害, 全世界 1 — / 6 人口受到沙漠化的影响。从 20 世纪 70 年代以来, 全球沙漠化扩展趋势日益加剧。每年有 600 万公顷土地变为沙漠, 有 2000 万公顷土地受沙漠化危害而完全丧失生产能力。我国约一半国土分布在干旱、半干旱地带, 沙漠化不断扩展, 20 世纪 90 年代以来沙漠化扩大速度达 2460 平方公里 / 年, 这相当于每年有一个中等县变成沙漠, 直接损失达 90 亿元 / 年以上, 间接损失更高达几百亿元 / 年。中国最严重的沙漠化发生在东起吉林省白城, 西至宁夏回族自治区盐池的 5500 千米长的农牧交叉地带。沙漠化的起因主要是人类 ②, 如过度草原农垦、过度草原放牧、过度采伐和水资源利用不当等, ③, ④。干旱、半干旱地区以及临近的半湿润地区生态系统的自然脆弱性, 是沙漠化发生的自然因素。

36. ①处横线上应填入的词语是:

- A. 退化 B. 进化 C. 颓化 D. 破坏

37. 文中划曲线的四个词语使用不当的一个是:

- A. 占据 B. 危害 C. 加剧 D. 交叉

38. 文中②、③、④三处横线上按顺序应填入:

- A. 破坏了沙区植被 过度开发旱地资源 导致沙漠化发生、
- B. 过度开发旱地资源 破坏了沙区植被 导致沙漠化发生
- C. 导致沙漠化发生 过度开发旱地资源 破坏了沙区植被
- D. 破坏了沙区植被 导致沙漠化发生 过度开发旱地资源

39. 根据文章, 下列不可能成为沙漠化的主要原因的是:

- A. 在某些干旱、半干旱地区植被难以生长
- B. 某些干旱、半干旱地区的树木被过度采伐
- C. 人们农垦、放牧的意识和方法不够科学、合理
- D. 水资源被过度利用

40. 这篇短文的主要内容是:

- A. 全球沙漠化趋势加速
- B. 沙漠化给我们带来的损失巨大
- C. 沙漠化产生的主要原因
- D. 沙漠化趋势加速及其原因分析

三、阅读理解: 每道题包含一段文字 (或一个句子), 后面是一个不完整的陈述, 要求你从四个选项中选出一个来完成陈述。注意: 答案可能是完成对所给文字主要意思的提要, 也可能是满足陈述中其他方面的要求, 你的选择应与所提要求最相符合。

例题:

钢铁被用来建造桥梁、摩天大楼、地铁、轮船、铁路和汽车等, 被用来制造

《2011 年公务员考试行测考试 100 套华图真题》

几乎所有的机械，还被用来制造包括农民的长柄大镰刀和妇女的缝衣针在内的成千上万的小物品，这段话主要支持了这样一种观点，即：

- A. 钢铁是一种反映物质生活水平的金属
- B. 钢铁具有许多不同的用途
- C. 钢铁是所有金属中最坚固的
- D. 钢铁是唯一用于建造摩天大楼和桥梁的物质

解答：B

请开始答题：

41. 虽然某些防火建筑的主要部分都是由耐火材料建成，但却可通过门厅和其他通道里的易

燃材料使火势蔓延以致完全被摧毁，这些建筑甚至可能由于金属梁、柱的坍塌而遭到严

重的结构破坏。

这段话主要支持了这样一种论点，即某些防火建筑：

- A. 可能会遭到火灾的严重破坏
- B. 拥有特殊结构的走廊和门厅
- C. 对各种设施的防火保护不如一般建筑
- D. 受火灾引起的损失小于因金属支撑物坍塌所致的损失

42. 认为“只伤害自己不伤害别人是没有什么大不了”的人忽略了人与人之间互相依赖的关

系。摧毁自己的生命或健康并不意味着帮家人和社会做了一点事；相反它意味着耗费了

社会中的食品、健康服务、教育等有限的资源而对社会没有做出全部的贡献。

下列观点不能直接从以上文字中推出的是：

- A. 伤害自己其实也等于伤害了别人
- B. 年轻人自杀对社会造成的损失比老年人自杀来的大
- C. 我们应该珍惜自己的生命与健康
- D. 自杀行为不仅对自身有害，也给社会造成损失

43. 康柏公司总裁菲弗尔认为，以往曾经非常流行的那种垂直结构的电脑工业已经不能适应新的形势，一种新的具有横向层面专门化特征的工业结构已经崭露头角。现在，许多有竞争力的电脑企业集中力量发展和优化自己的核心部件，不再坚持所有的零部件都由自己生产，与那些产品能兼容、优势可互补的公司结成联盟，走联合开发的道路。

这段话主要支持了这样一种观点，即：

A. 康柏公司将集中精力生产具有横卧式结构的电脑
B. 以强调“纯种”来获得优势的经营模式越来越难以适应日益激烈的市场竞争

- C. “事事不求人”的垂直结构的电脑生产模式曾经非常流行
- D. 在开发自己核心部件的过程中需要加强企业之间的合作

44. 一般说来，越是能直接产生经济效益的科技成果，越应该由受益的经济组织提供激励；越是能产生巨大社会效益和长远、公益性质的科技成果，越是应该由政府提供激励。这一原则符合世界上许多国家的实际情况。

这段话主要支持了这样一种观点，即：

- A. 激励应该由适当的主体来承担

《2011 年公务员考试行测考试 100 套华图真题》

- B. 激励应该选择适当的客体
- C. 政府应对科技成果提供更多的激励
- D. 世界上许多国家都很重视对科学研究的鼓励和支持

45. 建立顾客忠诚不是一件孤立的工作，它是整个商务活动中不可缺少的一部分，建立顾客忠诚对企业长远目标的实现将产生深远的影响，它同样还会影响你和你团队所从事的许多业务活动。

这段话说明：

- A. 建立顾客忠诚是企业的长远目标
- B. 对于一个企业来说，没有什么比建立顾客忠诚更加重要
- C. 建立顾客忠诚与企业的其他许多业务活动相关联
- D. 作为整个商务活动的一部分，建立顾客忠诚是企业成功的关键

46. 铁路新线路的开辟与否往往必须在建路花费尽可能少的要求与新建路线的商业与贸易运输量尽可能多的要求之间取得妥协。这段话支持了这样一种观点，即新建铁路的线路：

- A. 决定了新兴贸易中心的位置
- B. 决定于起点与终点之间的距离是否最短
- C. 应该是一条造价最低的线路
- D. 不会总是建造成本最低的线路

47. 要扭转那种重固定资产积累、轻流动资金积累的偏见，必须保持固定资产投资与流动资金投资的合理比例。据经验，流动资金投资占全部投资的 30% 较为适宜。按有关文件规定，在安排新建企业或扩建老企业时，应安排一定数量的流动资金投资，避免项目建成后，因缺少流动资金而不能形成生产能力。

这段话的主旨是：

- A. 要控制固定资产投资的膨胀，加大对流动资金的投资
- B. 必须保持固定资产投资和流动资金投资的合理比例
- C. 今后要安排一定数量的流动资金投资
- D. 要加大对流动资金的投资，首先要扭转轻视流动资金积累的偏见

48. 现在的许多文章只因为涂饰太厚，废话太多，所以很不容易觉察出底细来。正如透过密叶投射在地面上的月光，看到的只是点点的碎影。

这段话中被比作文章“真正观点”的是：

- A. 月光 B. 碎影 C. 密叶 D. 地面

49. 勿庸赘言，将经济发展纳入计划，有利于维护社会主义的公有制，有利于防止经济发展失去平衡，有利于避免周期性的经济危机和由此导致的浪费。但是，完美的经济运行体制要靠完美的人来保证它的完美。对于中国这样一个有十三亿人口的大国来说，这些制定并执行经济计划的完美的人必须具有绝对超人的智慧，绝对崇高的品德，如同人们崇敬的神明和圣人。

这段话表明了作者这样一种观点，即：

- A. 如果由智慧的人来制定和执行经济计划的话，计划经济会比市场经济更有效
- B. 市场经济必然会导致资本主义经济危机
- C. 与市场经济相比，计划经济有许多优点
- D. 不赞成将经济完全纳入计划轨道

50. 生物上的完美令人不寒而栗，因为那等于同种生物没有变异，进化过程失去动力。我们接受生物的多样化，可是却假定完美是物理和工程科学可欲而又

《2011 年公务员考试行测考试 100 套华图真题》

可即的目标。这种观念起源于我们对许多简单问题了解得比较透彻，而“简单”往往意味着对缺陷的忽略。

这段话主要支持了这样一种观点，即：

- A. 完美不可能在科学上实现
- B. 生物科学比物理和工程科学更深奥
- C. 缺陷对人类整个技术文明是绝对必须的
- D. 在物理和工程科学中完美是可欲而又可即的

51. 按照价格理论，成本是产品价值的基础组成部分，它决定着产品价格的最低界限，如果价格低于成本，企业便无利可图；市场需求影响顾客对产品价值的认识，进而决定着产品价格的上限；而市场竞争状况则调节着价格在上限和下限之间不断波动并最终确定产品的市场价格。

这段话的主要意思是：

- A. 产品价格可以在上限和下限之间变动
- B. 产品价格究竟多少，应由市场竞争状况来决定
- C. 产品价格受成本、市场需求和市场竞争等因素影响
- D. 不管市场需求、市场竞争状况如何，企业产品定价必然高于成本

52. 即使不考虑企业破产在工人就业、社会安定等方面所带来的一系列问题，在今天中国的经济条件下，使实际上已经破产的企业都在法律上破产也未必可取。由于市场发育不成熟、竞争机制不完善、市场信号不准确，企业破产的过程并不一定是资源存量良性配置和产业结构调整优化的过程。

这段话主要支持了这样一种观点，即：

- A. 工人就业、社会安定等方面出现的问题不单是由企业破产造成的
- B. 让长期亏损又毫无希望的企业破产将有利于资源的良性配置
- C. 企业破产制度尚需完善
- D. 企业实际上的破产并不等于法律上的破产

53. 阅读下面一首七律，在空缺处填上一句，最恰当的一项是：

群山万壑赴荆门，生长明妃尚有村。

-----，独留青冢向黄昏。

画图省识春风面，环佩空归月夜魂。

千载琵琶作胡语，分明怨寸艮曲中论。

- A. 一去紫台连朔漠 B. 二月郊原尚朔风
- C. 三春白雪归青冢 D. 城中桃李愁风雨

阅读以下短文，回答 49—50 题：

药品经口服和皮下注射，总会有许多问题产生。你给病人皮下注射，药物是可以被迅速吸收，但它是“一次性的”，必须经常重复。一些长效、定时溶解的口服新药，虽然比古老传统的丸药有很大的进步，但医师们相信这些药大多会与胃肠液相互作用而造成损害。

为了避免这些缺点，许多生化学家一直在研究使药品进入人体的新方法。生化学家试图以一种类似天然激素的物质注入人体来使药物适时溶解。其秘诀在于使用含有药物的聚合薄膜。总会有一天这层薄膜不论放在皮肤一亡或放进嘴里，它的药物都能直接被吸收入血液中。

54. 本文的主题是：

- A. 口服药物与皮下注射药物的不同 B. 寻找一种药物使用的新方法
- C. 如何安全服用药物 D. 薄膜的利用与生物化学的研究

《2011 年公务员考试行测考试 100 套华图真题》

55. 你认为以上这段文字最可能摘自哪里？

A. 报纸 D. 小说 C. 百科全书 D. 广告

(一)

圣马克堂是方场的主人，建筑在十一世纪，原是拜占庭式，以直线为主。十四世纪加上哥特式的装饰，如尖拱门等；十七世纪又参入文艺复兴期的装饰，如阑干等。所以庄严华妙，兼而有之；这正是威尼斯人的漂亮劲儿。教堂里屋顶与墙壁上满是碎玻璃嵌成的画，大概是真金色的地。蓝色或红色的圣灵像。这些像做得非常肃穆。教堂的地是用大理石铺的，颜色花样种种不同。在那种空阔阴暗的氛围中，你觉得伟丽，(甲)觉得森严。教堂左右那两溜儿楼房，式样各别，(乙)不对称；钟楼高三百二十二英尺，(丙)偏在一边儿。(丁)这两溜房子都是三层，都有许多拱门，恰与教堂的门面与圆顶相称；又都是白石造成，越衬出教堂的金碧辉煌来。教堂右边是向运河去的路，是一个小方场，本来显得空阔些，钟楼恰好填了这个空子。好像我们戏里大将出场，后面一杆旗子总是偏着取势；这方场中的建筑，节奏其实是和谐不过的。十八世纪

意大利卡那来陀一派画家专画威尼斯的建筑，取材于这方场的很多。德国德莱司敦画院中有几张，真好。

56. 对“这正是威尼斯人的漂亮劲儿”中的“漂亮劲儿”理解正确的一项是：

- A. 对建筑学的不可朽贡献
- B. 充分展示威尼斯建筑的美
- C. 在艺术上最善于借鉴与创新
- D. 在建筑上最善于去粗取精，弃伪存真

57. 在甲、乙、丙、丁四处分别填词，最恰当的一项是：

- A. 更 却 却 且 B. 也 却 也 且
- C. 更 并 却 但 D. 也 并 也 但

58. 下列各句中。与画线句子采用的修辞方法一一样的是：

- A. 有的松树自得其乐，显出一副潇洒的模样。
- B. 那缀满草尖上的水珠却又像数不清的金刚钻。
- C. 仿佛蔚蓝的天融了一块在里面似的，这才这般的鲜润呀！
- D. 微风吹过，送来缕缕清香，仿佛远处高楼上渺茫的歌声似的。

59. 对“节奏其实是和谐不过的”中的“节奏”理解正确的是：

- A. 指建筑色彩的浓淡强弱和位置的高低错落的情况。
- B. 指圣马克方场中各建筑物的式样各别
- C. 指钟楼在布置上：的特别之处
- D. 指圣马克堂的内外特点鲜明，内部伟丽森严、外部庄严华妙

60. 这段史字的一主要内容是：

- A. 圣马克方场中各建筑物的特点以及彼此间的关系
- B. 圣马克堂在方场中的位置、建筑特色，以及与其他建筑物的关系
- C. 圣马克方场十各建筑物的特色和布局的艺术性
- D. 圣马克堂左右两溜儿楼房、钟楼等建筑物的特色

(二)

人愉快时，面呈笑容，哀痛时放出悲声，这种内心情感也能在中国书法里表现出来，像在诗歌音乐里那样，中国的书法何以会有这种特点呢？后汉大书法家蔡邕说：凡欲结构字体，皆须像其一物，若鸟之形，若虫食禾，若山若树，纵横有托，运用合度，方可谓书。”元代赵子昂写“子”字时，先习画鸟飞之形，使这

《2011 年公务员考试行测考试 100 套华图真题》

“子”字有鸟飞形象的暗示。他写“为”字时，习画鼠形数种，穷极它的变化。可见这时候的“字”已不仅是一个表达概念的符号，而是一个表现生命的单位，书法家用字的结构来表达物象的结构和生气勃勃的动作。

由于中国古代的书法家要想使“字”也表现生命，成为反映生命的艺术，就须用他所有的方法和工具在字里表现出一个生命体的骨、筋、肉、血的感觉来。但在这里不是完全像绘画，直接模拟客观形体，而是通过较抽象的点、线、笔画，使我们从感情和想像里体会到客观形象里的骨、筋、肉、血，就像音乐和建筑也能通过诉之于我们的情感及身体直感的形象来启示人类的生活内容和意义一样。书法家就是借着这些“字”的形象来暗示他自己对这些形象的感情。这些形象在他的书法里不是事物的刻画，而是情景交融的意境。

中国人写的字之所以能够成为艺术品，有两个主要因素：一是由于中国字的起始是象形的，二是中国人用的笔。由于中国字在起始的时候是象形的，这种形象化的意境在后来的“字体”里仍然潜存着、暗示着，在字的笔画里、结构里、章法里显示着形象里面的骨、筋、肉、血以至于动作的关联。所以，写字在古代的正确的称呼是“书”。书者如也，书的任务是如，写出的字要“如”我们心中对物象的把握和理解，用抽象的点画在表达自己的感情的同时反映出或暗示出自然界的各种形象。这种“因情生文，因文见情”的字就升华到艺术境界，具有艺术价值了。

第二个主要因素是笔。殷朝就有了笔，这个特殊的工具才使中国人的书法有可能成为一种世界上独特的艺术，也使中国画有了独特的风格。中国人的笔是把兽毛(主要用兔毛)捆缚起做成的。铺毫抽锋，极富弹性。所以巨细收纵，变化无穷。这是欧洲人用鹅管笔、钢笔、铅笔以及油画笔所不能比拟的。书法家就是运用这支笔创造了世界上独一无二的书法艺术，使中国的书法成为表达民族美感的工具。

61. 联系上下文，“纵横有托，运用合度”的意思是：

- A. 久笔画的运用都依托于各种物象，并且分寸把握得当
- B. 笔画的运用都依托于各种物象，并且合乎构字的法则
- C. 笔画的运用都寄托着作者的心绪，并且分寸把握得当
- D. 笔画的运用都寄托着作者的心绪，并且合乎构字的法则

62. 文中划横线的“方法”两字的意思是指：

- A. 汉字的象形特征 B. 作者的感觉、想像
- C. 书写时的笔法运用 D. 抽象的点、线、笔画

63. 第三段中“潜存着、暗示着”的意思是：

- A. 字体虽变，象形仍然是汉字的主要特点
- B. 书法家写字时，字形里仍存在象形的意境
- C. 现代汉字中，象形的特点已不易辨识
- D. 经过演变，汉字已成为抽象的表意符号

66. “书者如也”中的“如”的意思和用法与下面哪一个“如”相同：

- A. 称心如意 B. 一见如故 C. 今不如昔 D. 如数归还

65. 通读全文，对第一段中“这种内心情感也能在中国书法里表现出来”的正确理解是：

- A. 在我国的书法艺术中，书法家展现着自己的审美情感。
- B. 在我国的书法艺术中，书法家披露着自己的生活态度。
- C. 在我国的书法艺术中，书法家表达了对客观世界的认识。

《2011 年公务员考试行测考试 100 套华图真题》

D. 在我国的书法艺术中, 书法家倾诉着生活中的喜怒哀乐。

每道题包含一段文字(或一个句子), 后面是一个不完整的陈述, 要求你从四个选项中选出一个来完成陈述。注意, 答案可能是完成对所给文字主要意思的提要, 也可能是满足陈述中其他方面的要求, 你的选择应与所提要求最相符合。

【例题】钢铁被用来建造桥梁、摩天大楼、地铁、轮船、铁路和汽车等, 被用来制造几乎所有的机械, 还被用来制造包括农民的长柄大镰刀和妇女的缝衣针在内的成千上万的小物品。

这段话主要支持了这样一种论点, 即钢铁()。

- A. 是一种储量丰富的金属
- B. 具有许多不同用途
- C. 是所有金属中最坚固的
- D. 是惟一用于建造摩天大楼和桥梁的物质

【解答】正确答案是 B。

请开始答题:

66. 蛋白质功能的关键是其形状, 大多的蛋白质在其存在期间只保持一种形状, 朊毒体则是能突出改变形状或发生错误交叠的蛋白质, 它们不仅自身发生错误交叠, 还会影响同一类型的其他蛋白质也出现这种现象, 这类错误交叠的蛋白质会停止正常功能, 然后死亡或是对细胞——最终对组织——产生致命作用, 可是科学家最近发现, 这种以朊毒体形式活动的蛋白质与维持长期记忆有关。

下列符合文章的一项是()。

- A. 蛋白质吸收越多, 对人体越好
- B. 朊毒体是位于中枢神经系统突触上的一种蛋白质
- C. 以朊毒体形式活动的蛋白质影响人大脑的记忆存储功能
- D. 朊毒体错误交叠后会产生癌细胞

67. 地球上生命的历史也就是生物与它们的环境相互作用的历史、动植物的形体和习性在很大程度上是由环境造成的, 而反向作用, 即生物对其所在环境的实际影响则相对较小, 只有到了 20 世纪, 作为物种之一的人类才获得了足够的力量, 有效地改变他所在的世界——大自然。

根据文意, 下列对文中“足够的力量”的理解, 正确的一项是()。

- A. 人类所获得的空前的改变社会环境的力量
- B. 地球上的生物施加给自然环境的反向作用力
- C. 环境对地球上生物的作用和地球上生物对环境的反作用
- D. 人类在 20 世纪所取得的足以改变自然环境的力量

68. 细菌要在光学显微镜下才能看见, 但它除了拥有生命的基本单位核酸外, 还有一大套赖以生存的配套设施, 包括作为居住“公馆”的细胞壁、储存营养物质的“仓库”以及进行新陈代谢的“

化工车间”, 而

病毒就更小了, 也可怜得多, 且不奢谈“库房”和“车间”, 就连作为保护外壳的“茅草房”也没有。

下列原文中划线句子的理解, 不正确的一项是()。

- A. 病毒不像细菌那样有一大套赖以生存的配套设施, 只有一条“表示生命的核酸”
- B. 使人对病毒“毫无独立生存能力”有直观的认识
- C. 从结构、形态等方面说明病毒生存能力的脆弱

《2011 年公务员考试行测考试 100 套华图真题》

D. 生动地描绘了病毒的“寒碜”形象，消除了人们对病毒的畏惧感

69. 侠文化中的“文化”观念，不是一个体现在正统化的经书典籍中记载的、可用简明的术语所确认的精神现象，而是一种历史存在与文学想像、社会体验与心理认证、当代视界与价值特指的不断地整合与融会的动态过程。

下列对“侠文化中的‘文化’观念”表述最准确的一项是()。

A. 是一个极其复杂的精神现象，它不可能从中国的古今典籍中体现出来

B. 是一个憧憬乌托邦的文化观念，因此，它不能用简明的术语来确认、表述

C. 是一种历史存在与文学想象、社会体验与心理认证、当代视界与价值特指的不断地整合与融会而形成的不断变化发展的精神现象

D. 侠文化不是一个精神现象，而是一种历史存在与文学想象、社会体验与心理认证、当代视界与价值特指的不断地整合与融会的过程

70. 大气里飘散着黑烟，江河里漂浮着秽物，是很直观的环境污染，但人们很少能注意到自己脚下的土地也正遭受着严重污染。有的专家说，看得见的污染不一定是最要命的污染。土壤的物理特性决定土壤极易被污染，而土壤污染是个不断累积的过程，一般不易为人们所觉察。跟大气和水体比较起来，土壤对污染物的容纳能力要大很多，但土壤一旦被污染就很难清除。

“看得见的污染不一定是最要命的污染”一句强调的意思是()。

A. 土壤污染是看不见的，渐近的

B. 土壤污染具有隐蔽性，很难治理

C. 土壤污染对生命的危害最直接

D. 土壤污染的治理目前还没有可行办法

71. 天然气(主要成分是甲烷)和水混合时产生的晶体物质，外貌极似冰雪，点火即可燃烧，故称之为“气冰”或“固体瓦斯”。形成“气冰”至少要满足三个方面的条件。首先是温度，海底温度在 2°C 至 4°C 时，适合“气冰”的形成，高于 20°C 则分解。其次是压力，在 0°C 时，只需要30个大气压就可以形成“气冰”。如果在海底，海深每增加10米，压力就增大1个大气压。因此，海深300米就可达到30个大气压。海越深，压力越大，“气冰”就越稳定。第三是气源，海底古生物尸体的沉积物，被细菌分解会产生甲烷，或者是天然气在地球深处产生并不断进入地壳。在此情况下，天然气可在介质的空隙中和水生成“气冰”；甲烷分子被若干个水分子形成的笼型结构接纳，生成笼型固体结晶水合物，分散在海底岩层的空隙中。在常温常压下，“气冰”则分解为甲烷和水

下列对“气冰”这一概念的理解，准确的一项是()。

A. 是天然气和水在一定的温度和压力条件下与介质混合产生的晶体物质

B. 是细菌分解海底古生物尸体所产生的以甲烷为主要成分的天然气，在介质中生成的固体结晶水合物

C. 是天然气和水在一定的温度和压力条件下混合时产生的晶体物质

D. 是天然气被水分子形成的笼型结构接纳，在地壳深处的空隙中与介质生成的笼型固体结晶水合物

72. 中国传统医学界由汉、藏、蒙等多个民族的传统医药学共同组成，它既有东方传统医药学的神秘之处，又往往有现代医药学所不及的奇特功效，它含有神话、传说的成分，它的许多原理至今也无法用现代医学理论进行科学的解释，但这种“神秘”的医药学，却常常有着神奇的功效，比如，藏医，很长一个时期，它的传授是在寺庙中以隐秘的方式进行的，它用青藏高原所独有的植物、动物、

《2011 年公务员考试行测考试 100 套华图真题》

矿物对患者进行治疗，对包括癌症、中风在内的多种令现代医学棘手的疾病有着较好的疗效。

中国传统医药学为什么显得“神秘”，下列理解不正确的一项是（ ）。

- A. 它往往与古老的神话和传说紧密结合在一起
- B. 它长期以来以隐秘的方式在寺庙中代代相传
- C. 站在西医学的角度看，它有难以解释的地方
- D. 它的许多原理至今也无法用现代医学理论进行科学的解释

73. 有关祭祀的种种内容之中，如项目、仪式、程序、场合以及参加祭祀的人员等等，就包含了关于人与自然、人与人之间的种种关系。在这些祭祀活动的背后，也反映着当时的各种社会关系和观念。比如说，由谁来主持祭祀活动，哪些人有资格参与祭祀，致祭的次序排列等等，都异乎寻常地显得十分重要。

这段话支持了这样一种观点（ ）。

- A. 祭祀活动的细节能够反映人与人之间的社会关系
- B. 祭祀活动的内容十分重要
- C. 祭祀活动的内容反映当时的社会关系和观念
- D. 从祭祀活动的仪式中，逐渐抽象、概括出反映等级差别和专制要求的精神原则

74. 地球之外究竟有无生命，过去的科学知识告诉我们，地球上的高文明生命形态，在太阳系内是惟一的。1984 年，英国科学家在南极拾到一块陨石，经过美国科学的研究证明，这块来自外太空的陨石内含有高浓度的有机体（或说原始的微生物），说明地球不是惟一有生命的地方。当外星人近 20 年前首次出现在银幕上的时候，科学家们仍然没有发现任何此类活生生的生命，但是他们认为， 。

填入横线部分最恰当的是（ ）。

- A. 其他星球也具备养育生命的条件
- B. 其他星球不具备养育生命的条件
- C. 其他星球也存在生命
- D. 其他星球不存在生命

75. 现代科学技术开始于 19 世纪末，当时出现了有组织的、规模较大的科学技术研究单位，这有内在的和外部的原因。内在原因是科学技术到这时期比较复杂，专业、专科很多。外部原因是当时出现的一场技术革命。

这段话主要支持了这样一个论点，（ ）。

- A. 即现代科学技术产生于 19 世纪末
- B. 即现代科学技术是内外两种因素作用的结果
- C. 即现代科学技术产生的外因大于内因
- D. 即现代科学技术的出现使科学技术研究单位变得有组织有规模

76. 如果把超导磁浮列车的实用化算作 100 的话，目前的开发研究已处于 80 的相对阶段，预计在 2010 年可望实现实用化。而下一代的高温超导磁浮列车则将在 2030 年左右投入运行。当前世界上对超导磁浮列车的研究，日本的水平领先于世。

文中“相对阶段”指的是（ ）。

- A. 按各国开发研究的平均水平，已完成实用化技术的 80%，有的国家已进入实用化阶段
- B. 按世界最高水平，实用化技术已开发完成 80%，接近于实用化阶段
- C. 有 80% 的国家已经进行开发研究
- D. 80% 的实用化技术领域有待开发，该项技术处于起步阶段

77. 夹用外国字母，不仅仅是文字规范化的问题、书面的形象美观问题；更

《2011 年公务员考试行测考试 100 套华图真题》

大程度上，关乎一个国家、一个民族自身的文化尊严，是绝不应该等闲视之的。

这段话支持这样一种观点，即（ ）。

- A. 夹用外国字母关系到文字的规范化问题
- B. 夹用外国字母关系紧要
- C. 夹用外国字母影响书面的形象美观
- D. 夹用外国字母关乎一个国家、一个民族自身的文化尊严

78. 近几年来，关于中国文化，主要是中国传统文化，或者是以中国文化为基础的东方文化，将成为 21 世纪的主导性文化及 21 世纪将成为中国文化或东方文化的世纪的观点，十分流行。西方一些学者也持有此类观点。对此，我则持怀疑态度。

这段话主要支持这样一种观点，即（ ）。

- A. 中国传统文化，就是以中国文化为基础的东方文化
- B. 中国传统文化，将成为 21 世纪的主导性文化
- C. 我对中国传统文化将成为 21 世纪主导性文化的观点持怀疑态度
- D. 西方学者对中国传统文化将成为 21 世纪主导性文化的观点持怀疑态度

79. 中世纪是西方社会最黑暗的时期，基督教处于万流归宗的地位。“中世纪的世界观本质上是神学的世界观”，“中世纪把意识形态的其他一切形式——哲学、政治学、法学都合并到神学中，使之成为神学中的科目”。因此，独立的法学消失了。

对这句话理解错误的是（ ）。

- A. 独立的法学消失了，因此法学思想也随之消失了
- B. 中世纪之所以没有独立的法学，是因为宗教处于统治地位
- C. 法学思想糅合在神学中，被保存和发展下来
- D. 独立的法学消失了，法学作为神学的科目被保存和发展下来

80. 法兰西失尽海外的殖民地，巴黎永远是全世界艺术崇拜者的麦加。罗丹的“思想者”高踞于自家庭院里，天天接待来自全世界各式人种的瞻仰和膜拜。巴黎的地铁靠近罗丹博物馆的那一站，站台两壁张挂的全部是罗丹作品的巨幅照片，这是旅游广告，也是民族骄傲。

上文反映了（ ）

- A. 艺术具有军事所不可比拟的力量
- B. 法国国力虽不算强，但艺术却令世人瞩目
- C. 巴黎能成为艺术殿堂，和殖民统治分不开
- D. 军事成就是暂时的，艺术成就是永恒的

81. 春秋、战国确是中国历史上举足轻重的“盛世”，虽然政治上混乱不堪、军事上征战连绵，痛苦、泪水、鲜血始终纠缠着这一时期的人们，但对于思想、对于文化、对于科技等等却是前所未有的，甚至空前绝后的“黄金时期”，甚至乎从无序的政治混沌角度着眼，旧有政治体系在激烈的社会变革中土崩瓦解，代之以更为先进、更加充满活力的新兴政治架构，亦不失为一种良性事实。即使攻战杀伐不休的军事活动也催生出《孙子兵法》这样的“珍珠”，也用大国吞并小国的方式为中国大地注入了新鲜的血液。如果乱世拥有的只是痛苦，那么璀璨的文明就无以诞生，也无以继复。

根据这段文字，可以推断出下列哪一选项为正确的？（ ）

A. 春秋、战国这样的“盛世”与唐朝盛世是完全不一致的，前者主要表现在文化上、思想上、科技上，后者则主要体现在平稳的政治上

《2011 年公务员考试行测考试 100 套华图真题》

B. 如果旧有政治体系在激烈的社会变革中土崩瓦解,国家将会变得更有活力、更加先进,所以动乱也有其合理的一面

C. 弱肉强食的社会环境对中国的历史发展来说是正当的,因为它可以为中国不断注入新鲜的血液

D. 乱世有痛苦,但也可以产生灿烂的文明,东晋十六国及南北朝时期虽然战祸连绵,但是文化、科技繁盛,所以不能完全否认其历史意义

82. 墨丘利(Mercury)是罗马神话中诸神的信使,其飞行速度极快,能在瞬间跨越三界,用他为太阳系中最小的行星——水星来命名,无非是为了突出它运行速度的快捷。水星绕太阳一周的时间是 88 个地球日,在九大行星中速度最快,但与之相反,在它上面两次日出时间的间隔却出奇地大,一个水星日相当于 176 个地球日,这意味着如果一个人生活在水星上,他将在一天内增长两岁,却无法过生日或一天内过无数次生日。

以下各项可以准确概括文章主题的是()。

A. 水星的运行速度非常快 B. 水星为何会被命名为 Mercury

C. 水星的公转与自转 D. 水星日与水星年的不同

83. 中国古代的农民起义,几乎不存在成功的可能性,根本原因在于阶级的局限性,在于所处敌我矛盾中的地位,由于物质欲望、社会地位的诱惑,农民起义的最高目标就是使自己成为地主,“王侯将相,宁有种乎?”的呼声正是这一目标的体现,虽然在后来的农民起义中不时出现“均贫富,等贵贱”的平等、均富思想,但最后无不蜕变成成为享乐主义、权力思想的奴隶,作为农民起义的结晶——太平天国的历史清晰地印证了这一事实。还有一个重要的原因在于农民起义必须依赖存有异心的地主知识分子,受教育水平所限,农民起义的领袖们必须由文化水平较高的地主阶级异化成员为其出谋划策,而最终又被他们所同化,农民起义最终演变为迈向皇座的工具或者臣服于旧有的政权结构,坚持者的结局就只剩下孤立、毁灭。

以下各项不符合上文意思的是()。

A. 中国古代农民起义不能成功的根本原因之一在于农民阶级的局限性

B. “王侯将相,宁有种乎?”反映出农民起义的终极目标是为了权位和物质利益

C. “均贫富,等贵贱”口号的提出意味着农民起义者的最高目标发生了转变,但由于内部地主知识分子的同化,最高目标中途夭折

D. 所谓“成也萧何,败也萧何”,地主知识分子帮助农民起义扩大并成功,但又导致了农民起义的蜕化、变质

84. 主流观点认为《三国演义》是在尊刘抑曹、是在贬魏扬蜀,但如果置身其字里行间,不难发现曹、魏实在是光辉的很,而刘、蜀在冠冕堂皇之外总能让人看到背后的阴暗。曹操的败而大笑,刘备的痛哭流涕,曹魏的人才济济,蜀汉的将寡兵微都在暗示着无论以人格魅力还是人心所向上,曹操、魏国是要远远超越于刘备、蜀汉的。写孔明足智多谋而近妖,正反映出蜀汉人才匮乏,需靠人力挽救,相对的曹营谋臣如云,任谁都能提出真知灼见,人力之重显而易见;写勇冠三军的关羽在兵精粮足情况下败走麦城,身首异处,透视出蜀汉政权人才的片面性,而相应的张辽一孤军数次迫退孙权几十万大军,人才的全面性不言而喻。罗贯中事实上一直在用褒扬的语气贬损着正面人物,有时甚至会控制不住对刘备来一句“故把亲儿掷马前”的调侃,一个“故”字,活灵活现。

下面选项最符合文章意思的是()。

《2011年公务员考试行测考试100套华图真题》

A. 主流观点只是看到了《三国演义》的表面意思，而没有发现作者隐含的深意

B. 蜀汉人才的缺乏、片面是主流观点不可能看到的，而除非透过表面看本质才能发现这种缺点

C. “故把亲儿掷马前”中“故”的运用充分反映出主流观点中刘备的宽容和谦和

D. 曹操在主流观点中是作为反面人物而出现的，但在作者观点中，他是正面人物，是光辉形象

85. 自然科学、社会科学是并行不悖的两大学科，但在中国却很难出现与西方一样“兰桂齐芳”的局面，古代自不必言，今天重理轻文的理念也显示出国人对两大学科认识上的偏颇，且不说文理分科时人数比例上的悬殊，也不说就业时文科生所面临的种种困境，单就从广大学生的分科心理来看，就不难窥其端倪，多数学生在分科选择时，首选理科，即使明知数理化竞争实力弱也义无反顾。反观文科，往往是成绩较差学生的首选，似乎学文是在为自己降低难度，实情果真如此吗？至少原子弹可以引爆，“神舟六号”可以上天，但中国却没有一个黑格尔，没有一部《法国民法典》。自然科学可以为我们带来物质上的愉悦，却无法提供精神上、秩序上的需求，一个国家怎能没有哲学家呢？法典怎可以没有人来批判呢？

以下选项不符合文章意思的是（ ）。

A. 与西方不一样，中国从古至今没有出现过自然科学和社会科学共同繁荣的局面

B. 中国人对自然科学和社会科学在认识上是有偏差的，在一些中学生当中也存在认识上的误区

C. 文章用黑格尔、《法国民法典》与“神舟六号”、原子弹比较的例子是为了说明中国在自然科学发展的同时，社会科学在滞后

D. 两个反问句用特例在说明了一个普遍的道理，即社会不能缺乏社会科学，也不能缺乏研究社会科学的人

86. 高薪养廉并不适合于政府官员，至少在中国如此，经济水平跟不上，贫富差距不宜拉大都是原因，而且单纯从逻辑上讲也是行不通的，我们给公务员的定位是“公仆”，是大家选出来的希望他能为人民服务的人，而其本人也认可这种选择，那么有什么理由让主人为仆人的服务行为外的不廉洁而额外买单？服务要基于诚信，我们不能让经济手段来防止人不诚信，那是一种道德的沦丧，我们完全有理由用法律、秩序的手段去控制，又何必用金钱来收买？也不必大谈公务员需要养家糊口，既然选择了这条道路，就必须让渡一部分权利，公务员职位的稳定正是与其经济水平的低下相平衡的，否则何以言“公正”？

以下哪项最适合作该段文章的标题（ ）。

A. 高薪养廉浅析 B. 如何看待高薪养廉

C. 高薪养廉的局限性 D. 反对高薪养廉

87. “天下大势，分久必合，合久必分”，这一名断在封建社会的中国是适用的，原因在于另一著名规律：政治、经济发展的不平衡。虽然从整个封建史来看，统一是主流，分裂动乱是例外，但分裂的存在是必然的，也是整个封建国家政治机构所无法克服的。由于自然经济是社会的主流经济形态，那么跟自然经济息息相关的农业生产就成为左右各地发展水平的重要因素，但显然，各地由于各种因素的限制，农业的发展并不平衡，由此产生的地方离心力在“盛世”过后总是积聚膨胀；而且，由于较早确立了土地买卖自由制度，导致土地兼并严重，一方面

《2011 年公务员考试行测考试 100 套华图真题》

农民失去土地而揭竿而起，另一方面地方豪强有实力对抗中央，国家的动乱分裂也就在所难免，所以南北朝、五代十国等等的出现都不是偶然，而是必然的。当各种势力重新彻底整合、洗牌、淘漉之后，在人心所向下，一个统一的、崭新的国家又一次屹立于东方大地。

以下哪一选项符合本段作者意思？（ ）

- A. 自然经济的存在决定了中国整个封建社会都无法摆脱国家分裂与动乱
- B. 地方离心力的产生在文中包括自然经济下的农业发展不平衡、土地兼并下的农民起义及地方实力派的兴起
- C. 农业文明是导致中国古代分合无常的根本因素，土地自由买卖则是重要因素
- D. 当动乱过后，旧有势力被摧毁，新势力诞生，统治力量、秩序重新构造，国家也就再次统一和充满活力

88. 提单是承运人在接管货物或把货物装船之后签发给托运人，证明双方已订立运输合同，并保证在目的港按照提单所载明的条件交付货物的一种书面凭证。按照货物表面状况有无不良批注分类，它可以分为清洁提单和不清洁提单，前者的基本标示是“上列外表状况良好的货物已装上船”，后者则会注明“包装不固”、“破包”、“钩损”、“有油污”等。虽然承运人可以为已出具保函的托运人换给清洁提单，但如果一国规定，承运人的该行为视为欺诈的话，他将不得不承担法律责任。通常情况下出于买方及自身利益需求银行只会接受清洁提单作为议付货款的单据，而承运人出于自身利益的保护却会在提单中加列批注，这意味着，托运人将无法顺利结汇、保函换提单的作法应运而生，但显然，这种做法会因为承运人与卖方的串通而损害买方利益。

以下各项不符合上文意思的是（ ）。

- A. 提单的签发者是承运人，签发对象是托运人，本质上可以说是一种关于货物运输合同成立的证据或者说是一种关于货物的收据
- B. 如果托运人通过保函向承运人换取了清洁提单，一般情况下他将不可能从银行处收到货款，因为银行要以清洁提单作为议付货款的单据
- C. 保函的含义在于托运人向承运人表明因提单不清洁而导致货物不被接受或需承担责任时，由托运人负责
- D. 保函换清洁提单的做法存在弊端的原因是因为未在双方合意情况下在收到货物之前预先支出货款会给买方造成损失

89. 现代体育与古代体育相比，精神境界已大大降低，金钱与荣誉在争斗中稳占上风，“现实感”很强的人们越来越将体育的经济效益放在首位，而荣誉则置诸脑后，宙斯如果看到当年为祭祀他而举行的盛会居然会被一些大牌明星不屑一顾，不知会作何感想。足球场上的黑哨、假球，田径场上的兴奋剂，各种运动辅助材料的研制……都超出了运动的本意，而靠向了追名，最终还是为了逐利。其实，现在的体育如果放在裸体的古希腊人面前，绝对会嘘声一片，因为它不是人的角逐，而是技术的较量、甚至是阴谋的对抗。

这段文字主要支持了这样一种观点，即（ ）。

- A. 现代体育与古代体育相比，已经不再是原汁原味的运动，而带有了太多的功利色彩
- B. 现代体育也应该象古希腊的体育那样，裸体而赛
- C. 现代体育中出现的种种不良现象违背了运动的本来宗旨
- D. 现代体育运者大多都放弃了荣誉感而追求物质利益

《2011 年公务员考试行测考试 100 套华图真题》

90. 拥挤、混乱一直是北京交通状况的最佳描述，究其原因，不胜枚举。私家车多、开车者素质不高、道路不宽敞、红灯设计不合理等等都可能成为理由，但大家往往不重视另外一个原因，就是非机动车者所带来的障碍，经常可以看到行人无视交通规则，任意横穿马路，越障攀栏，红灯、车辆视若无睹，只要走在马路上，行人都成了无冕之王，自行车是宰相，机动车则成了顺民，惟恐一个不小心，触怒“龙颜”。事实上，这是一种“暴民行径”，机动车作为危险交通工具，注意义务不可豁免，但不应“注意”到连本身基本权利也丧失。试想本为机动车特设的车道而由行人去任意占用，到底是机动车不够安全还是行人蓄意制造这不安全呢？所以和谐的交通不应是单方面的注意义务，各尽其责、各行其道才可以减弱冲突。换句话说，行人也应该尊重机动车的权力。

以下选项中不符合文章意思的是（ ）。

A. 北京交通状况差的原因有很多，有主观的，也有客观的，但根本原因是行人对机动车行驶权利的不尊重

B. 称行人是“无冕之王”是为了批评行人在马路上横冲直撞，无视规则的“霸道”行为

C. 要想建立有序的交通秩序，行人与机动车之间的互相尊重是不可缺少的，不能单纯要求一方承担义务

D. 被大家经常忽视的行人不遵守交通规则的问题如果能够解决是可以改善交通现状的

参考答案：

1-10: D、A、D、C、D、C、D、B、D、B

11-20: B、C、A、D、C、B、B、A、D、D

21-30: C、D、D、A、D、D、D、A、B、C

31-40: A、C、D、C、C、A、D、B、A、D

41-50: A、B、B、A、C、A、B、B、D、A

51-60: C、C、A、B、A、C、D、D、A、B

61-70: B、C、B、B、A、C、D、C、C、B

71-80: C、B、C、A、B、B、D、C、A、B

81-90: D、C、C、A、A、C、B、B、A、A

-----数量关系部分题目溯源：

1、33， 32， 34， 31， 35， 30， 36， 29， ？

A. 33 B. 37 C. 39 D. 41

选 B

解答：交叉数列（即隔项或称奇偶数列）。分项后为等差数列。

源自：国考 2002 年 A 类第 5 题

34、36、35、35、（ ）、34、37、（ ）

都是交叉等差数列，并且公差为 1 和-1。

2、3， 9， 6， 9， 27， ？， 27

A. 15 B. 18 C. 20 D. 30

选 B

《2011 年公务员考试行测考试 100 套华图真题》

解答：二级作商周期数列。两两作商得到：3、 $2/3$ 、 $3/2$ 、3、 $2/3$ 、 $3/2$ 。

源自：国考 2003 年 A 类第 1 题

1、4、8、13、16、20、()

原题是二级作差周期数列，新题是二级作商周期数列。

3、2、12、6、30、25、100、？

A. 96 B. 86 C. 75 D. 50

选 A

解答：变形奇偶数列。偶数项分别为前项乘以 6、5、4 得到，奇数项分别为前项减去 6、5、4 得到。

源自：北京应届 2007 年第 4 题

2、7、14、21、294、()

原题为：奇数项为前两项之乘积，偶数项为前两项之和。

4、4、23、68、101、？

A. 128 B. 119 C. 74.75 D. 70.25

选 C

解答：变倍数递推数列。后一项分别为前一项乘以 6、3、1.5、0.75 再减去 1 得到。

$$4 \times 6 - 1 = 23$$

$$23 \times 3 - 1 = 68$$

$$68 \times 1.5 - 1 = 101$$

$$101 \times 0.75 - 1 = 74.75$$

源自：北京应届 2007 年第 1 题

2、13、40、61、()

只是把原题规律当中的加 1 变成了减 1，连扩大的比例都没有改变。

5、323、107、35、11、3、？

A. -5 B. $1/3$ C. 1 D. 2

选 B

解答：倍数递推数列。前一项减去 2 后乘以 $1/3$ 得到后一项。

$$(323-2) \times 1/3 = 107$$

$$(107-2) \times 1/3 = 35$$

$$(35-2) \times 1/3 = 11$$

$$(11-2) \times 1/3 = 3$$

$$(3-2) \times 1/3 = 1/3$$

此题亦可倒过来看，即是后一项乘以 3 再加 2 得到前一项。

源自：浙江 2004 年第 3 题

0、1、4、13、40、()

把大小变化方向反过来，就只是把原题规律当中的加 1 变成了新题当中的加 2。

《2011 年公务员考试行测考试 100 套华图真题》

11、甲、乙、丙、丁四人今年分别是 16、12、11、9 岁。问多少年前，甲、乙的年龄和是丙、丁年龄和的 2 倍？

A、4 B、6 C、8 D、12

源自：国家 2004 年 B 类第 50 题

祖父年龄 70 岁，长孙 20 岁，次孙 13 岁，幼孙 7 岁，问多少年后，三个孙子的年龄之和与祖父的年龄相等？

15、某车间进行季度考核，整个车间平均分是 85 分，其中 $\frac{2}{3}$ 的人得 80 分以上（含 80 分），他们的平均分是 90 分，则低于 80 分的人的平均分是多少？

A、68 B、70 C、75 D、78

源自：国家 2007 年第 52 题

某班男生比女生人数多 80%，一次考试后，全班平均成绩为 75 分，而女生的平均分比男生的平均分高 20%，则此班女生的平均分是

16、五个瓶子都贴了标签，其中恰好贴错了三个，则错的可能情况共有多少种？

A、6 B、10 C、12 D、20

源自：北京 2006 年第 14 题

五个瓶子都贴有标签，其中恰好贴错了三个，贴错的可能情况有多少种？

17、装某种产品的盒子有大、小两种，大盒每盒能装 11 个，小盒每盒能装 8 个，要把 89 个产品装入盒内，要求每个盒子都恰好装满，需要大、小盒子各多少个？

A、3，7 B、4，6 C、5，4 D、6，3

源自：国家 2007 年第 58 题

共有 20 个玩具交给小王手工制作完成。规定，制作的玩具每合格一个得 5 元，不合格一个扣 2 元，未完成的不得不扣。最后小王共收到 56 元，那么他制作的玩具中，不合格的共有（ ）个。

同样的不定方程问题

18、电视台向 100 人调查昨天收看电视情况，有 62 人看过 2 频道，34 人看过 8 频道，11 人两个频道都看过。问，两个频道都没有看过的有多少人？

A、4 B、15 C、17 D、28

源自：国家 2006 年一类第 42 题

现有 50 名学生都做物理、化学实验，如果物理实验做正确的有 40 人，化学实验做正确的有 31 人，两种实验都做错的有 4 人，则两种实验都做对的有多少人？事实上这种题型在国家与各地方考试当中出现过不止一次两次。

《2011 年公务员考试行测考试 100 套华图真题》

19、有一堆螺丝和螺母，若一个螺丝配 2 个螺母，则多 10 个螺母；若 1 个螺丝配 3 个螺母，则少 6 个螺母。共有多少个螺丝？

A、16 B、22 C、42 D、48

源自：北京 2005 应届第 23 题

若干个同学去划船，他们租了一些船，若每船 4 人则多 5 人，若每船 5 人则船上有 4 个空位。共有多少个同学？

25、 $(300+301+302+\dots+397) - (100+101+\dots+197) = ?$

A、19000 B、19200 C、19400 D、19600

源自：北京 2005 社招第 12 题

$(101+103+\dots+199) - (90+92+\dots+188) = ?$

这套试卷 20 道数列数字推理与数学运算题当中，有相当的比例完全沿袭了曾经有过的京考、国考或者外地省考的考题，这当中并没有列出仅仅只是题型相似的其它题目如行程问题、利润问题等，并且从上面的例子来看，好几道题目几乎就是完全照搬过来的。因此，对一个认真备考公务员行测考试的考生来说，以往题型的复习显得格外的重要。

在我们备战下半年的 08 国考或者其它省市如上海、浙江、北京应届、深圳等地的公务员行测考试的时候，研究全国各地的往届真题是相当相当重要的事情。真题的质量是最高最精确的，也是最能把握出题方向的，各地考试之间的借鉴，以及年间借鉴的现象，虽然应该不会有这张试卷这么严重，但仍然是个非常普遍的现象（有机会我可以大张旗鼓的罗列一番）。另外基本题型如行程问题、计算问题、几何问题、等差数列、排列组合、年龄问题、集合图问题、平均数问题、浓度问题、初等数字问题、利润问题、工程问题仍然是各大考试的重点复习对象。

当然，在借鉴的同时一定要重视两个区别：即题型区别和难度区别。比如图形数字推理和多项选择常识、机械推理、知觉速度与判断、中学几何问题就基本分别只是北京、湖南、天津、浙江才会考到的题型，复习的时候一定要注意区分。难度上来讲国考肯定是最难的，所以不应该在备考地方考试时做不出国考而忧心忡忡，亦不应该在备考国考时轻易搞定地方考试而沾沾自喜。总而言之，必须要有一颗激情积极并且理性冷静的公考备考之心。

2007 北京社招行测数量关系真题及详解

第一部分 数量关系

（共 25 题，参考时限 20 分钟）

一、数字推理：本部分包括两种类型的题目，共 10 题。

（一）、每题给你一个数列，但其中缺少一项，要求你仔细观察数列的排列规律综合判断，然后从四个供选择的选项中选出最恰当的一项，来填补空缺项。

例题：1 3 5 7 9 ()

A. 7 B. 8 C. 11 D. 未给出

解答：正确答案是 11，原数列是一个奇数数列，帮应选 C。

《2011 年公务员考试行测考试 100 套华图真题》

请开始答题:

1、33, 32, 34, 31, 35, 30, 36, 29, ?

A. 33 B. 37 C. 39 D. 41

选 B

解答: 交叉数列 (即隔项或称奇偶数列)。分项后为等差数列。

2、3, 9, 6, 9, 27, ? , 27

A. 15 B. 18 C. 20 D. 30

选 B

解答: 二级作商周期数列。两两作商得到: 3、2/3、3/2、3、2/3、3/2。

3、2, 12, 6, 30, 25, 100, ?

A. 96 B. 86 C. 75 D. 50

选 A

解答: 变形奇偶数列。偶数项分别为前项乘以 6、5、4 得到, 奇数项分别为前项减去 6、5、4 得到。

4、4, 23, 68, 101, ?

A. 128 B. 119 C. 74.75 D. 70.25

选 C

解答: 变倍数递推数列。后一项分别为前一项乘以 6、3、1.5、0.75 再减去 1 得到。

$$4 \times 6 - 1 = 23$$

$$23 \times 3 - 1 = 68$$

$$68 \times 1.5 - 1 = 101$$

$$101 \times 0.75 - 1 = 74.75$$

5、323, 107, 35, 11, 3, ?

A. -5 B. 1/3 C. 1 D. 2

选 B

解答: 倍数递推数列。前一项减去 2 后乘以 1/3 得到后一项。

$$(323-2) \times 1/3 = 107$$

$$(107-2) \times 1/3 = 35$$

$$(35-2) \times 1/3 = 11$$

$$(11-2) \times 1/3 = 3$$

$$(3-2) \times 1/3 = 1/3$$

此题亦可倒过来看, 即是后一项乘以 3 再加 2 得到前一项。

(二)、每题图形中的数字都包含一定的规律, 请你总结图形中数字的规律, 从四个选项中选出最恰当的一项。

例题:

1 2 3

2 3 4

3 ? 5

《2011 年公务员考试行测考试 100 套华图真题》

A. 1 B. 2 C. 3 D. 4

解答：正确的答案是 4，根据所提供的各项条件综合判断，可以得出最恰当的规律为：每一列和每一行都依次增加 1；因此结合所给选项，答案是 D。

开始答题：

6、

16 4 1

32 ? 2

64 16 4

A4 B8 C16 D32

选 B

解答：每一列为一公比为 2 的等比数列。

7、

12 9 -6

2 3 10

1 3 ?

A. 26 B. 17 C. 13 D. 11

选 D

解答：每一行相加和都为 15。

8、

84 9 ?

72 37 218

23 -12 22

A. 106 B. 166 C. 176 D. 186

选 D

解答：每一行前两个数相加再乘以 2 等于第三个数。

9

12 9 ?

11 33 66

8 3 27

A. 35 B. 40 C. 45 D. 55

选 C

解答：每一行中，第一个数乘以 3 加上第二个数等于第三个数。

10、

? 10 28

6 15 36

3 3 9

A. 12 B. 18 C. 9 D. 8

选 D

解答：每一行中，第二个数的两倍加上第一个数等于第三个数。

《2011 年公务员考试行测考试 100 套华图真题》

二、数学运算 你可以在题本上运算，遇到难题，你可以跳过不做，待你有时间再返回来做，共 15 题。

例题：

84.78 元、59.50 元、121.61 元、12.43 元以及 66.50 元的总和是：

A. 343.73 B. 343.83 C. 344.73 D. 344.82

解答：正确答案为 D。实际上你只要把最后一位小数加一下，就会发现和的最后一位数是 2，只有 D 符合要求。就是说你应当动脑筋想出解题的捷径。

11、甲、乙、丙、丁四人今年分别是 16、12、11、9 岁。问多少年前，甲、乙的年龄和是丙、丁年龄和的 2 倍？

A、4 B、6 C、8 D、12

选 B

普通解法：设 x 年前满足条件，则 $(16-x)+(12-x)=[(11-x)+(9-x)] \times 2$

特殊解法：两组年龄差为 8 岁（分别作差 $5+3=8$ ），当第一组为第二组两倍时肯定是 16 与 8 岁。现在第一组和为 28 岁，需要倒退 12 岁到 16 岁，需要 6 年，因为两个人一年一共倒退 2 岁。

注：特殊解法只代表一种较特殊的思维，在有些情况下可以简化计算，但并不代表所有情况下都可以简化计算，这里列出来供大家选择适合自己并且考场之上容易想到的方法，如果无法理解或者考场之上无法想到，建议使用普通解法。下同。

12、李明从图书馆借来一批图书，他先给了甲 5 本和剩下的 $\frac{1}{5}$ ，然后给了乙 4 本和剩下的 $\frac{1}{4}$ ，又给了丙 3 本和剩下的 $\frac{1}{3}$ ，又给了丁 2 本和剩下的 $\frac{1}{2}$ ，最后自己还剩 2 本。李明共借了多少本书？

A、30 B、40 C、50 D、60

选 A

普通解法：设李明共借书 x 本，则 $((((x-5) \times \frac{4}{5}-4) \times \frac{3}{4}-3) \times \frac{2}{3}-2) \times \frac{1}{2}=2$

特殊解法：思维较快的直接倒推用反计算，即用 2 乘 2 加 2 乘 $\frac{3}{2}$ 加 3……

13、商店为某鞋厂代销 200 双鞋，代销费用为销售总额的 8%。全部销售完后，商店向鞋厂交付 6808 元。这批鞋每双售价为多少元？

A、30.02 B、34.04 C、35.6 D、37

选 D

普通解法：设每双售价 x 元，则 $200 \times x \times (1-8\%)=6808$

特殊解法：交付钱数 6808 元必然能除尽每双售价，依此排除 A、C。如果是 B，很容易发现 200 双正好 6808 元，没有代销费用了。

14、甲、乙二人 2 小时共加工 54 个零件，甲加工 3 小时的零件比乙加工 4 小时的零件还多 4 个。甲每小时加工多少个零件？

A、11 B、16 C、22 D、32

选 B

普通解法：设俩人速度分别为 x 、 y ，则 $2x+2y=54$ ， $3x-4y=4$

特殊解法：从第一句话知 D 不对。从第二句话中知甲每小时加工的零件是 4 的倍数。

《2011 年公务员考试行测考试 100 套华图真题》

15、某车间进行季度考核，整个车间平均分是 85 分，其中 $\frac{2}{3}$ 的人得 80 分以上（含 80 分），他们的平均分是 90 分，则低于 80 分的人的平均分是多少？

A、68 B、70 C、75 D、78

选 C

普通解法：设 x 为所求，假设总共 3 人，其中 2 人 80 以上，1 人低于 80 分。则 $2 \times 90 + 1 \times x = 3 \times 85$ 。记住此处别忘了用尾数法快速得到答案。

特殊解法：利用十字交叉法解决混合平均问题。两部分人比例为 2:1，则其各自平均分到 85 分的距离应该反过来为 1:2=5:10，直接得到 75。

16、五个瓶子都贴了标签，其中恰好贴错了三个，则错的可能情况共有多少种？

A、6 B、10 C、12 D、20

选 D

普通解法：从五个瓶子当中选出三个来为 $C(3, 5) = 10$ ，这三个瓶子都贴错有 2 种可能，即 231、312 两种。 $10 \times 2 = 20$

17、装某种产品的盒子有大、小两种，大盒每盒能装 11 个，小盒每盒能装 8 个，要把 89 个产品装入盒内，要求每个盒子都恰好装满，需要大、小盒子各多少个？

A、3, 7 B、4, 6 C、5, 4 D、6, 3

选 A

普通解法：设大小盒分别为 x 、 y 个。则 $11x + 8y = 89$ 。在自然数范围内解此不定方程， $0 \leq x \leq 8$ ，根据奇偶还得是个奇数，所以选择 1、3、5、7 代入发现，只有 $x=3$ 可以得到自然数 $y=7$

特殊解法：直接代入。尾数为 9 的只有 A。

18、电视台向 100 人调查昨天收看电视情况，有 62 人看过 2 频道，34 人看过 8 频道，11 人两个频道都看过。问，两个频道都没有看过的有多少人？

A、4 B、15 C、17 D、28

选 B

普通解法：看过的人为 $62 + 34 - 11 = 85$ ，没有看过的自然是 15。

特殊解法：用容斥原理。 $100 = 62 + 34 - 11 + x$ 。尾数为 5。

19、有一堆螺丝和螺母，若一个螺丝配 2 个螺母，则多 10 个螺母；若 1 个螺丝配 3 个螺母，则少 6 个螺母。共有多少个螺丝？

A、16 B、22 C、42 D、48

选 A

普通解法：设螺丝和螺母分别为 x 、 y 个。则 $2x + 10 = y$ ， $3x - 6 = y$

特殊解法：考虑第二次是在第一次的基础上每个螺丝再加一个螺母，多出来的 10 个螺母还可以加 10 个螺丝，但仍然少 6 个螺丝，因此螺丝就是 $10 + 6 = 16$ 个。

20、甲、乙二人上午 8 点同时从东村骑车到西村去，甲每小时比乙多骑 6 千米，中午 12 点甲到达西村后立即返回东村，在距西村 15 千米处遇到乙。东、西两村

《2011 年公务员考试行测考试 100 套华图真题》

相距多远？

A、30 B、40 C、60 D、80

选 C

普通解法：设甲的速度为 x ，乙为 $x-6$ ，两村相距为 y ，他们从出发到相遇共用时 t 小时。则 $4x=y$ ， $tx=y+15$ ， $t(x-6)=y-15$

特殊解法：相遇时甲比乙多骑 2 个 15 千米，即多骑 30 千米，而甲比乙每小时多骑 6 千米，说明相遇时一共过了 5 个小时，即为 13 点。说明甲从 12 点到 13 点一个小时走了 15 千米，所以从 8 点到 12 点四个小时应该走 60 千米。

21、某铁路桥长 1000 米，一列火车从桥上通过，测得火车从开始上桥到完全下桥共用 120 秒，整列火车完全在桥上的时间 80 秒，则火车速度是？

A、10 米/秒 B、10.7 米/秒 C、12.5 米/秒 D、500 米/分

选 A

普通解法：设速度为 v ，火车长 s ，则 $1000+s=120v$ ， $1000-s=80v$ 。

特殊解法：从两个时间平均得到 100 秒知，从车头进桥到车头离桥需要 100 秒，这个过程车经过的距离正好就是桥的长度，所以车速为 10。

22、大、小两个数的差是 49.23，较小数的小数点向右移动一位就等于较大的数，求较小的数？

A、4.923 B、5.23 C、5.47 D、6.27

选 C

普通解法：设小数为 x ，则大数为 $10x$ 。 $10x-x=49.23$ 。

特殊解法：直接代入通过尾数排除 A、B，估算排除 D。

23、有 10 个连续奇数，第 1 个数等于第 10 个数的 $5/11$ ，求第 1 个数？

A、5 B、11 C、13 D、15

选 D

普通解法：设第 1 个数为 x ，则第 10 个数应该是 $x+18$ ， $x=5/11(x+18)$ 。

特殊解法：第 1 个数为第 10 个数的 $5/11$ ，则第一个数为 5 的倍数，排除 B、C。如果第一个数为 5，则第 10 个数为 11，显然不对。

24、八个自然数排成一排，从第三个数开始，每个数都是它前面两个数的和，已知第五个数是 7，求第八个数。

A、11 B、18 C、29 D、47

选 C

普通解法： a 、 b 、 c 、 d 、7、 f 、 g 、 h 。因为 $c+d=7$ ，所以 c 和 d 可能是 1+6、2+5、3+4、4+3、5+2、6+1 的组合，验证只有 3+4 满足前面条件，为 2、1、3、4、7、11、18、29

特殊解法：考虑 d 的取值极端情况，两种为 a 、 b 、 c 、0、7、7、14、21 和 a 、 b 、 c 、7、7、14、21、35。两者之间即可。

25、 $(300+301+302+\dots\dots+397)-(100+101+\dots\dots197)=$?

A、19000 B、19200 C、19400 D、19600

选 D

《2011 年公务员考试行测考试 100 套华图真题》

普通解法：分别用等差数列求和公式求出俩和再作减法。
 $(300+397) \times 98 / 2 - (100+197) \times 98 / 2$

特殊解法：括号对应处相减都为 200，一共 98 个 200。

名师解析：数学运算之年龄问题

在整个公务员试卷中，难度最高的题目往往出现在数学运算中。今天，我们就来初步探讨一下公务员试题中经常出现的年龄问题的求解方式。

年龄问题一般有两种方式，一种是涉及到 2 个人，另外一种涉及到 3 个或者 3 个以上人数。年龄问题求解的核心在于“年龄差”不变。以下通过几个公务员历年考试真题，来具体分析此类题目应该如何迅速有效的求解。

第一种类型：涉及 2 人的年龄问题

1. 甲乙两人的年龄和是 63 岁，当甲是乙现在年龄的 时，乙当时的年龄是甲现在的年龄，乙比甲大几岁？

A. 10

B. 9

C. 8

D. 7

解析：直接代入选项，能跟题干符合的只有 B。或列方程设甲 X 岁，乙 Y 岁，则 $X + Y = 63$ ， $Y - (X - Y/2) = X$ ，解得 $X = 27$ ； $Y = 36$ ，则 $Y - X = 9$ 。

2. 今年父亲年龄是儿子年龄的 10 倍，6 年后父亲年龄是儿子年龄的 4 倍，则今年父亲、儿子的年龄分别是

A. 60 岁，6 岁

B. 50 岁，5 岁

C. 40 岁，4 岁

D. 30 岁，3 岁

解析：代入法，发现只有 D 满足。

3. 1998 年，甲的年龄是乙的年龄的 4 倍。2002 年，甲的年龄是乙的年龄的 3 倍。问甲、乙二人 2000 年的年龄分别是多少岁？

《2011 年公务员考试行测考试 100 套华图真题》

A. 34 岁, 12 岁 B. 32 岁, 8 岁 C. 36 岁, 12 岁 D. 34 岁, 10 岁

解析: 设 2000 年甲乙年龄为 X 和 Y , 可列方程 $X-2=4 \times (Y-2)$, $X+2=3 \times (Y+2)$ 解得 $X=34$, $Y=10$ 。

第二种类型: 涉及 3 人或者 3 人以上的年龄问题

4. 甲、乙、丙三人, 甲 21 岁时, 乙 15 岁; 甲 18 岁时, 丙的年龄是乙的 3 倍。当甲 25 岁时, 丙的年龄是

A. 45

B. 43

C. 41

D. 39

解析: 甲 18 岁时候, 乙的年龄为 12 岁, 丙的年龄为 36 岁, 甲 25 岁时, 丙为 $36 + (25-18) = 43$ 岁。

5. 祖父年龄 70 岁, 长孙 20 岁, 次孙 13 岁, 幼孙 7 岁, 问多少年后, 三个孙子的年龄之和与祖父的年龄相等?(

)

A. 10

B. 12

C. 15

D. 20

解析: 长孙, 次孙, 幼孙现在的年龄和是 $20 + 13 + 7 = 40$, 如果设 X 年后三个孙子的年龄之和与祖父的年龄相等, 则祖父的年龄增加了 X 岁, 而三个孙子的年龄和增加了 $3X$ 岁, 故可列 $70 + X = 40 + 3X$ 可解 $X = 15$ 。本题也可采用代入法。

6. 三兄弟中, 每两人的平均年龄加上另一人的年龄之和分别是 57, 69, 70, 那么这三兄弟中年龄最大的与最小的相差几岁?

A. 32

《2011 年公务员考试行测考试 100 套华图真题》

B. 28

C. 26

D. 24

解析：设三兄弟的年龄分别为 X, Y, Z 。则有① $(X+Y) \div 2 + Z = 57$ ，② $(X+Z) \div 2 + Y = 69$ ，③ $(Z+Y) \div 2 + X = 70$ ，①+②+③=2 $(X+Y+Z) = 196$ ，代入①②③则可求出 $X=42, Y=40, Z=16$ ，所以最大差值为 26。

“年龄差”是求解年龄问题的关键。在公务员考试中，为了迅速的求解，在代入法和方程法之间权衡，看看哪一种类型的题目更适合采用代入法，哪一种类型的题目只能用方程法。只要充分的理解了“年龄差”，年龄问题就不会是你考公务员路上的绊脚石。

1.4 成语的使用与辨析：

①成语的含义（引申/比喻义）

②固定用法

③近义辨析

（02' A 类真题）今年年初以来，马其顿多次爆发大规模反西方抗议示威，麦当劳快餐厅[a]，成为人们发泄的目标。

[a]出恰当的措辞是：A 如履薄冰 B 身当矢石 C 首当其冲 D 祸从天降

词语表达解题技巧：

1、正确理解词语的含义：词义的轻重、适用的范围、感情色彩、固定搭配、上下文等等；

2、正确理解成语的特定含义（引申/比喻义）、规范形式、辨析方法（同词语辨析）；

3、正确运用虚词：关联词的含义与搭配，通过上下文选择；

4、多多练习，培养语感。

近义词辨析集锦[平时记忆]：

1、暧昧：含糊、不明朗，不光明磊落，不便告人。

暗昧：同“暧昧”。还可表示不聪明，愚昧。

《2011 年公务员考试行测考试 100 套华图真题》

2、哀号：悲哀的号哭。

哀嚎：悲哀的嚎叫。如“饿狼哀嚎”。

3、安定：生活形势等平静正常，稳定。生活安定。

安宁：秩序正常，没有骚扰。边境安宁。

安谧：安宁，安静。主要指环境气氛。

安静：没有声音，安稳平静。

平静：着重指平稳，没有不安与动荡。常形容心情、表情、势态等。

清静：着重指不嘈杂、不杂乱。

4、安顿：安稳，使人或事物有着落，着重指安排妥当，使有确实的着落。

安放：使物件处于一定的位置，是具体的动作。

安置：使人或事物有着落。着重指使工作、生活等有适当的位置。多是处理人事工作的活动。

安排：着重于分清先后、主次、轻重缓急、有条有理地处理人和事。多指工作上的处理活动。

5、安全：都指没有事故或危险。安全：着重指不受威胁。使用范围广，能用于国家、生产、交通、操作、人身、生命、财产等。

平安：着重指太平无事，使用范围较窄，多用于人身。

6、按照：同为介词。介绍行为的根据。按照：通用于各种语体，不带尊敬色彩。

依照：多用于书面语体，更适用于国家法规、军政文告等，这时是强调依原样照办，不得走样。

遵照：多用于书面语。带尊敬色彩，表示遵从依照。

7、懊悔：形容词。因未满足心愿而悔恨、烦恼。懊悔：着重指后悔，是心里恨自己不该做错了事或说错了话。

懊恼：着重指烦恼，心里不痛快，是对别人或自己的言行感到烦恼。

《2011 年公务员考试行测考试 100 套华图真题》

8、懊丧：都是形容词。形容因做事或环境不利而失意，情绪低落，精神不振。懊丧：着重指烦恼而丧气，心中郁闷。

沮丧：沮，气色败坏。着重指受挫折后灰心失望。

颓丧：颓，萎靡不振。着重指情绪低落，意志消沉。

9、傲慢：都是形容词。自高自大或自尊自尊之意。傲慢：着重指态度上轻慢，目中无人。也可用于褒义，表示自尊而不可侮。

高傲：着重指思想情绪上把自己看得过高。用于褒义时表示自豪而又高尚。

骄傲：泛指满足已有的成绩，自以为了不起。用于褒义时多表示自豪。也可以作名词。如：李白、杜甫和他们的诗，是中华民族的骄傲。

10、把持：都有按自己的意图掌握住、支配。把持：是贬义词，指公开独占权位。对象常是政权、权力、职位以及地区、单位等。

操纵：中性词。指掌管、使用机器等。引申指用不正当手段暗中支配、控制人或社会性的较重大的事物。

控制：中性词。只指不让任意活动或超出范围。对象常是速度、数字、交通、生产以及思想、感情等。

11、把握：都是动词。用自己能力，把某种事物抓住、控制住。对象可以是某些具体的或抽象的事物。把握，对象多是具体事物。有时作“有”的宾语，表示对事情能做得好或做得好的信心、力量或根据，是名词。如：有把握。

掌握：比“把握”多一层意思，即不仅能把握住，而且能充分支配运用并控制。对象多指抽象事物，如政策、命运、方法、知识、技术、专业、语言、情况等。

12、颁布：都是动词。公开发布。对象多是宪法、纲领、法律、法令、条例等。颁布：着重指向下颁发。颁布者一般是高级领导机关或成员。颁布的内容常是法令等。

公布：着重指向公众发布。公布者除了高级领导机关或成员外，还可以是一般机关单位、团体。公布的内容，除了法令等以外，还可以是方案、草案、名单、账目、成绩、结果、数字、事实等。

13、办法：都是名词。处理事情所采取的方式、方法和步骤。办法：是泛指，多用于口头语体。

《2011年公务员考试行测考试 100 套华图真题》

措施：指针对某种情况而采取的办法。较多用于书面语体，特别是公文、政论语体。

14、包含：都是动词。容纳在内，总括在一起。包含：指“内里含有”。着眼于事物的内在关系。对象常是抽象的事物。包容含有。

包涵：原谅、宽恕。

包括：着重指“总括”。着眼在数量、范围上列举各部分或其中一部分。对象不限于抽象的事物。

包罗：着重指网罗很多或一切，着眼于广大的范围、众多的事物。

15、保持：都是动词。使事物继续存在下去，保住不变。保持：着重指使持续不变，时间延续较长，对象是水土、水平、传统、荣誉、警惕、联系等。

维持：指有一定限度地或暂时维护，使不改变原样和现状。对象是秩序、现状、生活、生命、治安等。

16、保存：都是动词。存留下来，不使改变。有时可换用。如“李白的诗保存（留）下来的有九百多首”、“这座城市还保留（存）着一些古代建筑。”保存：着重于“存”，跟“亡”（无）相对，使继续存在，不使失去。

保留：着重于“留”，跟“去”相对，不去掉，不使离开原体。保留还有两个意义：①暂时搁置，如“不同意见暂时～，下次再讨论”；②不公开拿出来，如“教师毫不～地教学生”。这跟“保存”有区别。

17、保护：都是动词。护卫着，看守住，使不受伤害。保护：着重于“护”：妥善护卫、照顾，不使受损伤。手段不一定是用武力。对象多是人或某些事物。

保卫：着重于“卫”：尽力防守住，使得到安全，不受侵犯。手段多指用武力或强大的力量。对象多是重大的抽象的事物，或者是重要人物、众人。

捍卫：着重于“卫”：抵御各种外来势力，确保安全，比“保卫”语义重。色彩较庄重。对象不能是人。

18、保障：（1）动词，确保。有时可换用，如“用生命保障（保证）了整个战斗的胜利”。（2）名词。起确保作用的事物。保障①作动词时，除了可以作于“确保”义以外，最常见的是用于“保护义。它的宾主不常是动词（形容词）及其短语，而常是名词及其短语，如“生命、成果、财产、民主、权利”等。②作名词时，有形象色彩，指象屏障一样的起保护作用的东西。

《2011年公务员考试行测考试 100 套华图真题》

保证：①作动词时，除了用于“确保”义以外，还常用于“担保做到”义。它的宾语不常是名词（时间、质量）及其短语。②作名词时，指起担保作用的条件。

19、宝贵：都是形容词。极有价值，很贵重，象珍宝似的。可以形容某些抽象的和具体的事物，如时间、书籍、礼物、资料等。宝贵除了可以形容某些具体东西以外，最常见的是形象抽象事物，如生命、经验、意见、贡献、遗产、财富等。

珍贵：指宝贵、稀少、珍奇。可形容某些抽象的事物（如友谊等），常用来形容具体的东西，如纪念品、文物等。

20、饱满：都是形容词。充实、充足、足够。饱满常用于形容人的精神、精力、感情、情绪充足。有时形容风力充足，如“风力饱满，船就象生了翅膀一样”。

丰满：常用于形容人体胖得匀称好看，有时形容鸟的羽毛齐全好看。

21、暴发：都是动词。突然猛烈的发生。有时通用。如“我极力压住感情的爆发（暴发）”。暴发使用范围较窄，常用于洪水，有时指以不正当的手段发财，与“户”字连用，或突然兴起。如山洪、流行病、雪崩。

爆发：本义是弹药爆炸。比喻“象弹药一样突然、迅猛地发生”。使用范围较广，由于爆炸而突发或发生重大事变。如战争、火山、革命、大笑。

22、暴露：都是动词。使隐藏着的事物显露出来。对象可以是矛盾、本质、问题、阴谋、弱点、缺点等。暴露：多是无意地显露，有时是有意地揭露出来。可以用于自己、自身事物、目标等。

揭露：都指有意地揭出来。一般能用于自己、自身事物、目标等。

23、暴虐：都是形容词。狠毒而凶恶。可以形容敌人及其本性、行为。暴虐：着重指惨无人道，欺凌太甚。多形容敌人及其本性。

残暴：着重指凶狠、横暴。多形容敌人的行动及本性。

残酷：着重指冷酷无情。多形容敌人的行为。有时形容生活、环境、斗争、战争、战斗等，这时着重指环境恶劣、无情。

残忍：着重指心肠狠毒、忍心。多形容敌人的本性及行为。

24、抱怨：都是动词。因不满而责怪别人。抱怨责怪的程度较重。用于人时少用于自己对自己。

《2011 年公务员考试行测考试 100 套华图真题》

埋怨：责怪的程度较轻。除用于人外，可用于事物。

25、悲哀：都是形容词。伤心，难过。“悲哀”、“悲伤”、“悲痛”常通用。悲哀：侧重于内心的哀愁。

悲伤：侧重于心情不好受，产生伤感。

悲痛：侧重于表示悲伤而痛苦，有时比“悲哀”程度重，可以说“悲痛欲绝”。

沉痛：侧重于表示深沉的悲痛。有时还有“深刻，严重”的意思，如“沉痛的教训。”

悲恸：侧重于极度的悲哀，兼指痛哭，一般用于书面语。

26、卑鄙：都是言行恶劣，不道德。卑鄙比“卑劣”的程度轻，如卑鄙无耻。

卑劣：卑劣比“卑鄙”程度重，即卑鄙而恶劣。

27、奔波：都有不辞辛苦地到处急忙活动之意。奔波：指忙忙碌碌地奔走，历尽波折。

奔忙：指奔走繁忙、操劳，也用于交通方面。

奔走：本指急走、快跑，后来多用于传告消息，常说成“奔走相告”。

28、本来：同为副词。拿先前的情况和现实的情况对比，表示语气的前后转变。本来更着重于强调原先的情况，多用于上半句，下半句有时有“可是”、“但是”与之呼应。

原来：更多的是强调对先前的真实情况有所发现或醒悟，多用于下半句，它时常是用真实情况对上半句加以说明或解释。

29、本义：词的本来意义，与引申义、比喻义相对。

本意：心里本来的想法、目的。

30、本领：同为名词。从事某种活动的技术、能力。经常换用，如“烧火煮饭的这点本领（本事）还有”。本领：有时指需要经过特别学习才能掌握的、较高的、较难的或较复杂的技能。这时具有庄重色彩，多用于书面语体。

本事：指技能、能力。多用于口头语体。

《2011 年公务员考试行测考试 100 套华图真题》

31、本质：同为名词。最主要的性质。本质：指事物或人的根本的、本来的属性。

实质：指实在的、内在的或实际的属性，跟“表面的或虚假的东西”对举。一般用于抽象事物。

32、鄙薄：同为动词。轻视，看不起。鄙薄：指以为轻薄、微不足道、看不起、嫌恶。

鄙夷：指以为平庸或浅陋，傲慢、轻蔑地看待，不屑一顾。

33、鄙弃：同为动词。毫不可惜地舍弃。鄙弃：指因看不起而抛弃。

唾弃：指象吐唾沫一样，毫不可惜地舍弃。

厌弃：指厌恶、嫌弃。

34、鄙视：同为动词。看不起。鄙视为鄙贱、低劣。

藐视：（也写作“渺视”）指视为藐小。

蔑视：指用轻蔑的态度小看，根本不放在眼里。

轻视：看不起，与“重视”相对。语义较轻。

35、比赛：同为动词。互相比上下，比高低，比胜负的活动。比赛常用于文艺、体育、娱乐等方面。可以带宾语。

竞赛：指竞争，力争优胜。常用于生产劳动、经济建设、军事等方面。不能带宾语。

【来源：中公网搜狐博客】

一、定义判断

1、程序化决策是可以确定的、在以前已经做过的决策，它们有客观正确的答案而且可以使用简单的规则、政策、数学计算来解决。

非程序化决策则是全新的、复杂的、无章可循的，它们有各种各样的解决方案，而且每个方案都各有优缺点。

下列属于非程序化决策的是（ ）

- A 建筑工人施工 B 医院接受病人的步骤
C 企业中定期记录存货 D 制定公司发展战略

2、自我实现预言是我们对他人的期望会影响到对方的行为，使得对方按照我们对他的期望行事。

下列属于自我实现预言的是（ ）

A 小张本来是一个很普通的孩子，但他的父母望子成龙，于是不惜重金让他读市里最好的高中，但最终小张也只上了一所普通大学。

《2011 年公务员考试行测考试 100 套华图真题》

B 小张是李老师班上一名普通的学生,可是有一天一位智力测量专家告诉李老师小张很有数学天分,于是以后数学课上李老师对小张格外关注,终于在半年后的考试中,校长的数学成绩有了很大的提高。

C 今天是小红的生日,她希望爸爸下班时能买生日蛋糕回来,果然爸爸在下班的时候买了一大盒生日蛋糕。

D 小李从小就希望自己能成为一个工程师,当他大学毕业后他终于到一家公司当上了软件工程师。

3、认知失调是指由于做了一项与态度不一致的行为而引发的不舒服的感觉。下列属于认知失调的是()

A 小李和自己喜欢的女孩一起郊游。

B 小李在宴会上不理睬与自己有过节的小刘

C 小李很不喜欢上司的夸夸其谈,但为了面子而不得不恭维他。

D 小李政在戒烟,他的同事给他香烟的时候被他婉言拒绝了。

参考答案: DBC

二、事件排序

1、(1) 商品经济出现 (2) 资本主义生产方式 (3) 生产力发展
(4) 资本原始积累 (5) 社会分工扩大

A 1---5---3---4---2 B 3---4---2---5---1

C 3---5---1---4---2 D 1---2---3---5---4

2、(1) 生命单体 (2) 原始水生物 (3) 生物大分子 (4) 简单有机物 (5) 地球生物圈

A 4---1---2---3---5 B 3---2---4---5---1

C 4---3---1---2---5 D 3---4---2---1---5

3、(1) 申请专利 (2) 研制出新产品 (3) 起诉索赔 (4) 发现仿制品 (5) 败诉

A 、 3---5---2---4---1 B 、 1---2---4---3---5

C 、 2---1---3---4---5 D 、 2---4---3---5---1

4、(1) 创作电影插曲 (2) 接到配音任务 (3) 歌曲被广为传唱
(4) 到基层体验生活 (5) 电影取得成功

A 、 2---4---1---3---5 B 、 1---3---2---5---4

C 、 2---4---1---5---3 D 、 2---1---5---4---3

参考答案: CCDC

三、演绎推理

1、为保护海边建筑物免遭海洋风暴的袭击,海洋度假地在海滩和建筑物之间建起了巨大的防护墙。这些防护墙不仅遮住了一些建筑物的海景,而且使海岸本身也变窄了。这是因为在风暴从水的一边对沙子进行侵蚀的时候,沙子不再向内陆扩展

上述信息最支持的一项论断是()

A 为后代保留下海滩应该是海岸管理的首要目标。

B 防护墙最终不会被风暴破坏,也不需要昂贵的维修和更新。

C 由于海洋风暴的猛烈程度不断加深,必须在海滩和海边建筑物之间建立起更多的高大的防护墙。

D 通过建筑防护墙来保护海边建筑的努力,从长远来看作用是适得其反的。

《2011 年公务员考试行测考试 100 套华图真题》

2、政府对基本商品征收的一种税是对出售的每一罐食用油征税两分钱，税务记录显示，尽管人口数量保持稳定且税法执行有力，食用油的税收在税法生效的头两年中还是显著下降了。

如果正确，最有助于解释食用油税收额下降的一项是：

- A 很少家庭在加税后开始生产他们自己的食用油
- B 商人在税法实施后开始用比以前更大的罐子售油
- C 在食用油税实行后的两年，政府开始在许多其它基本商品上征税。
- D 食用油罐传统上被用作结婚礼物，税法实施后，用食用油做礼物增多了。

3、针对某种溃疡，传统疗法可在 6 个月内将 44% 的患者的溃疡完全治愈。针对这种溃疡的一种新疗法在 6 个月试验中使治疗的 80% 的溃疡取得了明显改善，61% 的溃疡得到了痊愈。由于该试验只治疗了那些病情比较严重的溃疡，因此这种新疗法显然在疗效方面比传统疗法更显著。

为更好的对比两种疗法的效果，还需要补充的证据是：

- A 这两种疗法使用的方法有何不同
- B 这种疗法的使用成本是否存在很大差别
- C 在 6 个月中以传统疗法治疗的该种溃疡的患者中，有多大比例取得了明显改善。
- D 在参加 6 个月的新疗法试验的患者中，有多大比例的人对康复的比例不满意。

公务员考试网名师辅导：逻辑系列之假设

2007 年 06 月 26 日 11:26 [我来说两句] [字号：大 中 小]

【来源：中公网搜狐博客】

一、命题特点与解题要点

(1) 假设题型的主要表现形式有：

- 1、 加上一个条件就变成了一个有效的三段论推理。
- 2、 题干给出前提和结论，然后提问你假设是什么。
- 3、 以题干为结论，要求在选项中确定能推出题干的前提。

(2) 在解题过程中，要把握住以下几点：

- 1、 前提与结论之间有本质联系
- 2、 推论可行或有意义
- 3、 没有别的因素影响推论
- 4、 综合假设

二、典型例题解析

例题 1、有的地质学家认为，如果地球的未勘探地区中单位面积的平均石油储藏量能和已勘探地区一样的话，那么，目前关于地下未开采的能源含量的正确估计因此要乘上一万倍，如果地质学家的这一观点成立，那么，我们可以得出结论：地球上未勘探地区的总面积是已勘探地区的一万倍。为使上述论证成立，以下哪些是必须假设的？

- I．目前关于地下未开采的能源含量的估计，只限于对已勘探地区
 - II．目前关于地下未开采的能源含量的估计，只限于对石油含量
 - III．未勘探地区中的石油储藏量和已勘探地区一样得到有效的勘探和开采
- A. 只有 I B. 只有 II C. 只有 I 和 II D. I、II、III

【答案】C。解析：本题属于假设前提型题目，结论为地球上未勘探地区的

《2011 年公务员考试行测考试 100 套华图真题》

总面积是已勘探地区的一万倍。理由是如果地球的未勘探地区中单位面积的平均石油储藏量能和已勘探地区一样的话,那么,目前关于地下未开采的能源含量的正确估计因此要乘上一万倍,由于从平均储藏量到能源含量,到勘测面积,上述比例关系需要判断 I 和 II 必须作为必要条件,至于判断 III 由于不涉及开采问题,所以不是必需假设的。

例题 2、皮肤中胶原蛋白的含量决定皮肤是否光滑细腻,决定人的皮肤是否年轻。相同年龄的男性和女性皮肤中含有相同量的胶原蛋白,而且女性更善于保养,并能从日常保养中提高皮肤胶原蛋白含量,尽管如此,女性却比男性更容易衰老。

以下选项能解释上述矛盾的是:

- A. 男性皮肤内胶原蛋白是网状结构的,而女性是丝状结构的
- B. 女性维持光滑细腻的皮肤、年轻美貌的容颜需要大量胶原蛋白
- C. 只有蹄筋类食物富含胶原蛋白,但是很难被人体消化吸收
- D. 男性的胶原蛋白几乎不消耗,而女性代谢需要消耗大量胶原蛋白

【答案】D。解析:BC 都没有指出男女在利用胶原蛋白方面的不同,不能支持材料结论;A 项虽然指出男女胶原蛋白结构的不同,但没有说明其与“皮肤中胶原蛋白含量”的关系,不能直接支持材料结论;D 项指出女的比男的更容易消耗胶原蛋白,可以解释为什么“女性比男性更容易衰老”。

专家深剖:历年公务员考试逻辑“难题”

2007 年 06 月 25 日 14:31 [我来说两句] [字号: 大 中 小]

【来源: 中公网】

31. 人文社会科学与自然科学在更高层次上具有统一性和共同性。在我国人文社会科学领域,许多伪劣产品是在人文社会科学与自然科学的学术规范不同的借口之下生产出来、甚至受到好评的。据此可以得出:

- A. 人文社会科学与自然科学需要遵守共同的学术规范
- B. 人文社会科学要引入自然科学的学术规范
- C. 自然科学要引入人文社会科学的学术规范
- D. 人文社会科学与自然科学的两种学术规范是相互独立的

【答案】A。

32. 某厂有五种产品:甲、乙、丙、丁、戊。它们的年销售额之间的关系为:丙没有丁高,甲没有乙高,戊高于丁,而乙不如丙高。

请问,哪种产品的年销售额最高?

- A. 甲 B. 乙 C. 丁 D. 戊

【答案】D。

33. 亚里士多德学院的门口竖着一块牌子。上面写着“不懂逻辑者不得入内”。这天,来了一群人,他们都是懂逻辑的人。如果牌子上的话得到准确的理解和严格的执行,那么以下诸断定中,只有一项是真的。这一真的断定是()。

- A. 他们可能不会被允许进入 B. 他们一定不会被允许进入
- C. 他们一定会被允许进入 D. 他们不可能被允许进入

【答案】A。

34. 当一个高压锋遭遇一个低压锋时,通常会发生降水。气象学家通过测量两个相向移动的锋的速度,可确定它们什么时候、在什么地方相遇,借此来预测降水。据此可知()。

《2011 年公务员考试行测考试 100 套华图真题》

- A. 气象学家的职责是预测降水
- B. 低压锋总是向着高压锋方向移动
- C. 降水不一定需要低压锋的出现
- D. 某些降水的预测是基于高、低压锋的一般反应

【答案】D。

35. 世界食品需求能否保持平衡, 取决于人口和经济增长的速度。人口增长会导致食物摄取量的增加; 另一方面, 经济增长会促使畜产品消费增加, 改变人们的食物结构, 从而对全球的谷物需求产生影响。

据此可知()。

- A. 人口的增长将影响全球的谷物需求
- B. 改变食物结构将降低全球的谷物需求
- C. 经济的增长可降低全球谷物的需求
- D. 人口的增长会导致世界畜产品消费的增加

【答案】A。

以前有几项研究表明, 食用巧克力会增加食用者患心脏病的可能性。而一项最新的、更为可靠的研究得出的结论是: 食用巧克力与心脏病发病率无关。估计这项研究成果公布以后, 巧克力的消费量将会大大增加。

上述推论基于以下哪项假设?()

- A. 尽管有些人知道食用巧克力会增加患心脏病的可能性, 却照样大吃特吃
- B. 人们从来也不相信进食巧克力会更容易患心脏病的说法
- C. 现在许多人吃巧克力是因为他们没有听过巧克力会导致心脏病的说法
- D. 现在许多人不吃巧克力完全是因为他们相信巧克力会诱发心脏病

【答案】D。

36. 在评奖会上, A、B、C、D、E、F、G、H 竞争一项金奖。由一个专家小组投票, 票数最多的将获金奖。

如果 A 的票数多于 B, 并且 C 的票数多于 D, 那么 E 将获得金奖。

如果 B 的票数多于 A, 或者 F 的票数多于 G, 那么 H 将获得金奖。

如果 D 的票数多于 C, 那么 F 将获得金奖。

如果上述断定都是真的, 并且事实上 C 的票数多于 D, 并且 E 并没有获得金奖, 以下哪项一定是真的?()

- A. H 获奖 B. F 的票数多于 G
- C. A 的票数不比 B 多 D. B 的票数不比 F 多

【答案】C。

37. 某珠宝商店失窃, 甲、乙、丙、丁四人涉嫌被拘审。四人的口供如下:

甲: 案犯是丙。乙: 丁是案犯。丙: 如果我作案, 那么丁是主犯。丁: 作案的不是我。四个口供中只有一个是假的。

如果以上断定为真, 则以下哪项是真的?()

- A. 说假话的是甲, 作案的是乙 B. 说假话的是丁, 作案的是丙和丁
- C. 说假话的是乙, 作案的是丙 D. 说假话的是丙, 作案的是丙

【答案】B。

38. 某律师事务所共有 12 名工作人员。(1) 有人会使用计算机; (2) 有人不会使用计算机; (3) 所长不会使用计算机。这三个命题中只有一个是真的, 以下哪项正确地表示该律师事务所会使用计算机的人数?()

- A. 12 人都会使用 B. 12 人没人会使用 C. 仅有一人会使用 D. 不能确定

《2011 年公务员考试行测考试 100 套华图真题》

【答案】A。

39. 最近 15 年, 世界技术有很大革新, 尤其在通讯、信息和电子等方面。无疑, 技术的进步使生产得到了改进, 加强技术力量是推动经济增长的一个重要因素。

据此可知()。

- A. 最近 15 年世界经济增长迅速
- B. 技术革新可以推动生产发展
- C. 生产发展对技术进步有反作用
- D. 技术进步决定了经济的增长

【答案】B。

40. 一方面由于天气恶劣, 另一方面由于主要的胡椒种植者转种高价位的可可, 所以, 三年以来, 全世界的胡椒产量已经远远低于销售量了。因此, 目前胡椒的供应相当短缺。其结果是: 胡椒价格上扬, 已经和可可不相上下了。

据此可知()。

- A. 世界市场胡椒的储存量正在减少
- B. 世界胡椒消费已持续三年居高不下
- C. 胡椒种植者正在扩大胡椒的种植面积
- D. 目前可可的价格要低于三年前的价格

【答案】A。

41. 顾客并不像通常所描述的那么容易被操纵。他们知道自己需要什么。他们需要的东西, 和别人认为他们需要的东西, 可能有很大的差别。

据此可知()。

- A. 广告投资与商品销售不成正比
- B. 大多数人购物认准一种品牌多年不变
- C. 在进入商店前顾客大都知道要买哪种牌子的商品
- D. 顾客在商店购物时一般不喜欢他人的介绍或建议

【答案】A。

42. 令人奇怪的是, 洛可可风格竟然首先出现于法兰西。路易十四的统治持续时间太长, 对老王朝过分虔诚的时代终于结束, 雄伟高贵的凡尔赛不再迫使人们参加令人生厌的庆典, 从此人们聚集于巴黎各公馆的精美沙龙之中。起初, 洛可可是一种新型装饰, 是为热爱冒险、异国情调、奇思遐想和大自然的高雅、智慧的社会服务的。这种轻盈、精美的风格最适合于现代公寓, 房间不大, 但均有珍贵的用途。洛可可进入巴洛克风格出尽风头的国家时, 是十分谨慎小心的。

从这段话可以得到的正确推论是()。

- A. 路易十四时期法国流行轻盈、精美的巴洛克式室内装潢风格
- B. 洛可可风格首先在法国出现是因为法国人热爱冒险和奇思遐想
- C. 现代公寓都是洛可可式的, 因而它们房间不大, 但均有珍贵的用途
- D. 与巴洛克风格相比, 洛可可风格并不追求雄伟和高贵

【答案】D。

43. 广告业的真理之一是, 在广告中很少需要使用有内容的词句。广告所要做的只是吸引可能的顾客的注意力, 因为记忆会促成一切。以产品的销售量而言, 顾客对某项产品的记忆比对产品某些特性的了解还重要。

该段文字表达了这样一种观点: ()。

- A. 广告业对它所促销商品的了解并不多
- B. 要吸引可能的顾客的注意力并不很困难
- C. 人们不需要对某产品有深入的了解就能够记住它

《2011 年公务员考试行测考试 100 套华图真题》

D. 只为吸引可能的顾客的注意力的广告缺乏真实性

【答案】C。

44. 与中国的贸易,法国远远落后于日本和美国,甚至落后于英国和意大利。中国今年的国民生产总值增长率预计将达 7.5%-7.8%,与 2001 年头 7 个月相比,法国同中国的贸易只增长了 2.7%,而同是竞争者的其他欧洲国家同中国的贸易却平均增长了 10%。

这段话说明()。

- A. 法中贸易增长率低于中国国民生产总值增长率
- B. 法国同中国贸易的发展步伐相对缓慢
- C. 法国同中国的贸易远远落后于其他发达国家
- D. 除法国外的其他欧洲国家与中国的贸易都增长迅速

【答案】B。

45. 在公元之初,牧师们将基督教在整个罗马帝国中传播开来。基督教的普及首先涉及的是各大城市的平民阶层。基督徒们反对皇权意识,因此君主们都把他们视为威胁,并组织起对他们的暴力摧残。然而这并没有中断新信仰的扩展,它一点点赢得了贵族阶级和最有影响力的人士,而且很快触及到了皇帝周围的人和最高君主本人。公元 312 年的米兰敕令为迫害画上了句号。公元 380 年,狄奥多西敕令使基督教成为国教。因此,公元 4 世纪标志着基督教概念中的转折点。

根据这段话,可得到的正确推论是()。

- A. 基督教从开始就反对皇权统治,且一直与罗马皇帝及其政权斗争
- B. 基督教成为国教,意味着它由非法而合法、由被迫害而被推崇
- C. 公元 312 年基督教赢得了贵族阶级和最有影响力的人士的支持
- D. 公元 380 年以后,基督徒不再受到迫害,基督教被承认

【答案】D。

46. 某家庭有 6 个孩子,3 个孩子是女孩。其中 5 个孩子有雀斑,4 个孩子有卷发。

这表明有可能()。

- A. 两个男孩有卷发但没有雀斑
- B. 三个有雀斑的女孩都没有卷发
- C. 两个有雀斑的男孩都没有卷发
- D. 三个有卷发的男孩只有一个有雀斑

【答案】C。

47. “一桌子苹果,别人通常挑一两个,挑三四个。毕加索最可气,每个都咬上一口,每个苹果上都有他的牙印儿。”一位中国画家如此评价毕加索。毕加索一生搞过素描、油画、雕塑、版画,担任过舞台设计,还写过小说、剧本和无标点散文诗。

从这段文字中我们可以推论()。

- A. 毕加索吃苹果,每个都只咬一口。中国作家对这种做法不以为然
- B. 很多人都像毕加索一样参与过许多艺术类型的创作
- C. 毕加索在艺术领域的许多方面进行过创作的尝试
- D. 毕加索是个天才式的人物,没有他不涉及的艺术领域

【答案】C。

48. 四个小偷(每人各偷了一种东西)接受盘问。甲说:每人只偷了一块表;乙说:我只偷了一颗钻石;丙说:我没偷表;丁说:有些人没偷表。经过警察的进一步调查,发现这次审问中只有一人说了实话。

下列判断,没有失误的是()。

《2011 年公务员考试行测考试 100 套华图真题》

- A. 所有人都偷了表 B. 所有人都没偷表
C. 有些人没偷表 D. 乙偷了一颗钻石

【答案】A。

49. 下列表达有错误的是()。

- A. 莱伊恩的阻力来自于他并不出色的建筑才能
B. 伟大表现在即使遇到困难，也要坚持自己的原则
C. 莱伊恩做到了给自己的心灵一个美丽的住所
D. 工作没有惊人成绩也不妨碍一个人成为伟大的人

【答案】A。

50. 作为惟一一支留在世界杯的南美球队，下一场比赛巴西将迎战淘汰了丹麦的英格兰球队。巴西队教头斯科拉里不愿谈论如何与英格兰较量，而他的队员也保持着清醒的头脑。在击败顽强的比利时队后，斯科拉里如释重负：“我现在脑子里想的第一件事就是好好放松一下。”

依据上文，我们无法推知的是()。

- A. 巴西队本届世界杯中再也不会与南美球队比赛
B. 由于没有做好充分的准备，斯科拉里不愿意谈论与英格兰的较量
C. 与比利时的比赛很艰苦，所以赛后斯科拉里如释重负
D. 英格兰在与巴西比赛之前必须要战胜丹麦

【答案】B。

51. 某著名经济学家说，市场经济是一种开放经济，中国肯百折不回地争取入世，从根本上讲是国内市场化改革导致的必然抉择。中国许多问题的解决都得靠外力的推动。从更深广的层面来看，WTO 是中国加入的最后一个重要国际组织，这是中国自立于世界民族之林的最后一次重大外交行动，也是全面重返国际舞台的显著标志和强烈信号。所以有人曾指出，入世的政治意义大于经济意义。

依据上文，不能推出的结论是()

- A. 加入 WTO 后，中国已经全面重返国际舞台
B. 加入 WTO 后，中国已加入了所有重要的国际组织
C. 加入 WTO 后，中国的政治发展将快于经济发展
D. 中国若没有国内市场化改革，难以取得加入 WTO 的成果

【答案】C。

52. 某国的人口调查数据表明，未婚的三十岁以上的男性超过这个年龄段的未婚女性，比例大约为十比一。这些男性中，大多数确实希望结婚。然而，明显地，除非他们中有许多人娶外国女性，否则大部分人将保持未婚。

上面论述基于下列哪个阶段()

- A. 移民到国外的女性比男性多。
B. 与该国男性相同年龄的三十几岁的该国女性宁愿保持未婚
C. 大多数未婚的该国男性不可能娶比他们年龄大的女性
D. 大多数未婚的该国男性不愿意娶非本国的女性

【答案】C。

53. 1998 年度的统计显示，对中国人的健康威胁最大的三种慢性病，按其在总人口中的发病率排列，依次是乙型肝炎、关节炎和高血压。其中，关节炎和高血压的发病率随着年龄的增長而增加，而乙型肝炎在各个年龄段的发病率没有明显的不同。中国人口的平均年龄，在 1998 年至 2010 年之间，将呈明显上升态势而逐步进入老龄化社会。

《2011 年公务员考试行测考试 100 套华图真题》

根据题干提供的信息，推出以下哪项结论最为恰当? ()

- A. 到 2010 年，发病率最高的将是关节炎
- B. 到 2010 年，发病率最高的将仍是乙型肝炎
- C. 在 1998 年至 2010 年之间，乙型肝炎患者的平均年龄将增大
- D. 到 2010 年，乙型肝炎的老年患者将多于非老年患者

【答案】C。

54. 一份犯罪调研报告揭示，某市近三年来的严重刑事犯罪案件 60% 都为已记录在案的 350 名惯犯所为。报告同时揭示，严重刑事犯罪案件的作案者半数以上是吸毒者。

如果上述断定都是真的，那么，下列哪项断定一定是真的? ()

- A. 350 名惯犯中可能没有吸毒者
- B. 350 名惯犯中一定有吸毒者
- C. 350 名惯犯中大多数是吸毒者
- D. 吸毒者大多数在 350 名惯犯中

【答案】A。

55. 发达国家中冠心病的发病率大约是发展中国家的三倍。有人认为，这主要归咎于发达国家中人们的高脂肪、高蛋白、高热量的食物摄入。相对来说，发展中国家较少有人具备生这种“富贵病”的条件。其实，这种看法很难成立。因为，目前发达国家的人均寿命高于 70 岁，而发展中国家的人均寿命还不到 50 岁。

以下哪项如果成立，最能加强上述反驳? ()

- A. 统计资料显示，冠心病患者相对集中在中老年年龄段，即 45 岁以上
- B. 目前冠心病患者呈年轻化趋势
- C. 发展中国家人们的高脂肪、高蛋白、高热量食物的摄(入)量，无论是总量还是人均量，都在逐年增长
- D. 相对发展中国家来说，发达国家的人们具有较高的防治冠心病的常识和较好的医疗条件

【答案】A。

56. 有时为了医治一些危重病人，医院允许使用海洛因作为止痛药。其实，这样做是应当禁止的。因为，毒品贩子会通过这种渠道获取海洛因，这会对社会造成严重危害。

以下哪个如果为真，最能削弱以上的论证? ()

- A. 有些止痛药可以起到和海洛因一样的止痛效果
- B. 用于止痛的海洛因在数量上与用于做非法交易的比起来是微不足道的
- C. 海洛因如果用量过大就会致死
- D. 在治疗过程中，海洛因的使用不会使病人上瘾

【答案】B。

57. 虽然菠菜中含有丰富的钙，但同时含有大量的浆草酸，浆草酸会有力地阻止人体对钙的吸收。因此，一个人要想摄入足够的钙，就必须用其他含钙丰富的食物来取代菠菜。

以下哪个如果为真，最能削弱题干的论证? ()

- A. 大米中不含钙，但含有中和浆草酸并改变其性能的碱性物质
- B. 奶制品中的钙含量要高于菠菜，许多经常食用菠菜的人也食用奶制品
- C. 在人的日常饮食中，除了菠菜以外，事实上大量的蔬菜都含有钙
- D. 菠菜中除了钙以外，还含有其他丰富的营养素；另外，浆草酸只阻止人体对钙的吸收，并不阻止其他营养的吸收

《2011 年公务员考试行测考试 100 套华图真题》

【答案】A。

58. 全国各地的电话公司目前开始为消费者提供电子接线员系统, 然而, 在近期内, 人工接线员并不会因此减少。

除了下列哪项外, 其他各项均有助于解释上述现象? ()

- A. 需要接线员帮助的电话数量剧增
- B. 尽管已经过测试, 新的电子接线员系统要全面发挥功能还需进一步调整
- C. 如果在目前的合同期内解雇人工接线员, 有关方面将负法律责任
- D. 新的电子接线员的工作效率两倍于人工接线员

【答案】D。

59. 今年 M 市开展了一次前所未有的化妆品广告大战。但是调查表明, 只有 25% 的 M 市居民实际使用化妆品。这说明化妆品公司的广告投入有很大的盲目性。

以下哪项陈述最有力地加强了上述结论? ()

- A. 化妆品公司做广告是因为产品供过于求
- B. 去年实际使用化妆品的 M 市居民有 30 %
- C. 大多数不使用化妆品的居民不关心其广告宣传
- D. 正是因为有 25 % 的居民使用化妆品, 才要针对他们做广告

【答案】C。

60. 第二次世界大战期间, 海洋上航行的商船常常遭到轰炸机的袭击, 许多商船都先后在船上架设了高射炮。但是, 商船在海上摇晃得比较厉害, 用高射炮射击天上的飞机是很难命中的。战争结束后, 研究人员发现, 从整个战争期间架设过高射炮的商船的统计资料看, 击落敌机的命中率只有 4 %。因此, 研究人员认为, 商船上架设高射炮是得不偿失的。

以下哪个如果为真, 最能削弱上述研究人员的结论? ()

- A. 在战争期间, 未架设高射炮的商船, 被击沉的比例高达 25 %; 而架设了高射炮的商船, 被击沉的比例只有不到 10 %
- B. 架设了高射炮的商船, 即使不能将敌机击中, 在某些情况下也可能将敌机吓跑
- C. 架设高射炮的费用是一笔不小的投入, 而且在战争结束后, 为了运行的效率, 还要再花费资金将高射炮拆除。
- D. 一般来说, 上述商船用于高射炮的费用, 只占整个商船的总价值的极少部分

【答案】A。

中公网加油站: 公考数字推理最热类型

2007 年 06 月 25 日 10: 30 [我来说两句] [字号: 大 中 小]

【来源: 中公网搜狐教育博客】

数字推理在公务员行政测试里面历来是固定的题型。数字推理因为其难度高, 使得很多考生无法在开始考试时就进入良好的状态。数字推理考核的数列类型较多, 考核的形式多样。

其中, 平方数列、立方数列及其变式常常出现于各个省市的公务员考试中。下面, 我为大家列举近年来各省市具有代表性的此类题目, 以飨读者。

现在的公务员考试, 单纯的考核平方数列、立方数列已经较为少见, 经常是考核其变式, 即将平方数列和立方数列综合其他数列一起来考察。

《2011 年公务员考试行测考试 100 套华图真题》

1.

() 35 63 80 99 143

A: 24 B: 15 C: 8 D: 1

解析：这道题目较为简单，35，63，80，99，143，分别是 6，8，9，10，12 的平方减去 1。而 6，8，9，10，12 正好又构成了一个合数列。如果考生对合数列不熟悉的话，那么该题也可能是一道难度。 $() = 42 - 1 = 15$ 。

2.

100 8 1 1/4 ()

A: 1/4 B: 1/12 C: 1/20 D: 1/32

解析：这道题目也较为简单，以上数列分别是 10 的平方，8 的 1 次方，6 的 0 次方和 4 的 -1 次方，那么答案为 2 的 -2 次方。该题把方次由平常常见的自然数列该成一个连续数列并带有负数。考生如果平常做题不多的话，思路不够开阔的话，这种题目做起来还是要花一定的时间的。

3.

0 9 26 65 () 217

A: 106 B: 118 C: 124 D: 132

解析：该道题目加入了奇偶性加减 1 的规律，但是总体难度不高。 $0 = 13 - 1$ ， $9 = 23 + 1$ ， $26 = 33 - 1$ ， $65 = 43 + 1$ ， $124 = 53 - 1$ ， $217 = 63 + 1$ 。

4:

-26, -6, 2, 4, 6, ()。

A: 11 B: 12 C: 13 D: 14

解析： $-26 = (-3)^3 + 1$ ， $-6 = (-2)^3 + 2$ ， $2 = (-1)^3 + 3$ ， $4 = 0^3 + 4$ ， $6 = 1^3 + 5$ ， $() = 2^3 + 6 = 14$ 。该道题目不仅把考生不熟悉的负数作为立方数列的基本数列，同时也加入了自然数列，有一定难度。

5.

3, 30, 29, 12, ()

A. 92 B. 7 C. 8 D. 10

解析： $3 = 14 + 2$ ， $30 = 33 + 3$ ， $29 = 52 + 4$ ， $12 = 71 + 5$ ， $() = 90 + 6 = 7$ 。本道题目较难，文中在三个数列上同时采用了等差数列，思维层面上变化较多。

6.

1 4 16 49 121 ()

A. 256 B. 225 C. 242 D. 224

解析：数列为 12，22，42，72，112，？，各数开方后相邻两项求差得数列 1，2，3，4，5 所以所求数应为 $? = (11 + 5)^2 = 256$ 。本道题目把平方数列，二级等差数列综合起来考。

7.

0: 5 2 8 ()

A: 12: 5 B: 27/2 C: 29/2 D: 16

《2011 年公务员考试行测考试 100 套华图真题》

解析：原式等同于 $1/2 \ 4/2 \ 9/2 \ 16/2 \ (25/2)$ ，分子成二级等差数列；分子依次为 12、22、32、42、52。本道题目在综合了平方数列和二级等差数列的特点外，还引入了分式的特点。

总体来说，平方数列、立方数列及其变式仍然还是难度较高的题目，而且呈现出与其他规律相结合的方式。希望以上提供的思路，能够为考生冲刺公务员考试加油助跑。

2007 北京社招行测数量关系真题及详解

华图公务员考试研究中心 李委明

第一部分 数量关系

(共 25 题，参考时限 20 分钟)

一、数字推理：本部分包括两种类型的题目，共 10 题。

(一)、每题给你一个数列，但其中缺少一项，要求你仔细观察数列的排列规律综合判断，然后从四个供选择的选项中选出最恰当的一项，来填补空缺项。

例题：1 3 5 7 9 ()

A. 7 B. 8 C. 11 D. 未给出

解答：正确答案是 11，原数列是一个奇数数列，帮应选 C。

请开始答题：

1、33, 32, 34, 31, 35, 30, 36, 29, ?

A. 33 B. 37 C. 39 D. 41

选 B

解答：交叉数列（即隔项或称奇偶数列）。分项后为等差数列。

2、3, 9, 6, 9, 27, ? , 27

A. 15 B. 18 C. 20 D. 30

选 B

解答：二级作商周期数列。两两作商得到：3、2/3、3/2、3、2/3、3/2。

3、2, 12, 6, 30, 25, 100, ?

A. 96 B. 86 C. 75 D. 50

选 A

解答：变形奇偶数列。偶数项分别为前项乘以 6、5、4 得到，奇数项分别为前项减去 6、5、4 得到。

4、4, 23, 68, 101, ?

A. 128 B. 119 C. 74.75 D. 70.25

选 C

解答：变倍数递推数列。后一项分别为前一项乘以 6、3、1.5、0.75 再减去 1 得到。

$$4 \times 6 - 1 = 23$$

$$23 \times 3 - 1 = 68$$

$$68 \times 1.5 - 1 = 101$$

《2011 年公务员考试行测考试 100 套华图真题》

$$101 \times 0.75 - 1 = 74.75$$

5、323, 107, 35, 11, 3, ?

A. -5 B. $1/3$ C. 1 D. 2

选 B

解答：倍数递推数列。前一项减去 2 后乘以 $1/3$ 得到后一项。

$$(323-2) \times 1/3 = 107$$

$$(107-2) \times 1/3 = 35$$

$$(35-2) \times 1/3 = 11$$

$$(11-2) \times 1/3 = 3$$

$$(3-2) \times 1/3 = 1/3$$

此题亦可倒过来看，即是后一项乘以 3 再加 2 得到前一项。

(二)、每题图形中的数字都包含一定的规律，请你总结图形中数字的规律，从四个选项中选出最恰当的一项。

例题：

1	2	3
2	3	4
3	?	5

A. 1 B. 2 C. 3 D. 4

解答：正确的答案是 4，根据所提供的各项条件综合判断，可以得出最恰当的规律为：每一列和每一行都依次增加 1；因此结合所给选项，答案是 D。

开始答题：

6、

16	4	1
32	?	2
64	16	4

A4 B8 C16 D32

选 B

解答：每一列为一公比为 2 的等比数列。

7、

12	9	-6
2	3	10
1	3	?

A. 26 B. 17 C. 13 D. 11

选 D

解答：每一行相加和都为 15。

8、

84	9	?
72	37	218

《2011 年公务员考试行测考试 100 套华图真题》

23	-12	22
----	-----	----

A. 106 B. 166 C. 176 D. 186

选 D

解答：每一行前两个数相加再乘以 2 等于第三个数。

9

12	9	?
11	33	66
8	3	27

A. 35 B. 40 C. 45 D. 55

选 C

解答：每一行中，第一个数乘以 3 加上第二个数等于第三个数。

10、

?	10	28
6	15	36
3	3	9

A. 12 B. 18 C. 9 D. 8

选 D

解答：每一行中，第二个数的两倍加上第一个数等于第三个数。

二、数学运算 你可以在题本上运算，遇到难题，你可以跳过不做，待你有时间再返回来做，共 15 题。

例题：

84.78 元、59.50 元、121.61 元、12.43 元以及 66.50 元的总和是：

A. 343.73 B. 343.83 C. 344.73 D. 344.82

解答：正确答案为 D。实际上你只要把最后一位小数加一下，就会发现和的最后一位数是 2，只有 D 符合要求。就是说你应当动脑筋想出解题的捷径。

11、甲、乙、丙、丁四人今年分别是 16、12、11、9 岁。问多少年前，甲、乙的年龄和是丙、丁年龄和的 2 倍？

A、4 B、6 C、8 D、12

选 B

普通解法：设 x 年前满足条件，则 $(16-x) + (12-x) = [(11-x) + (9-x)] \times 2$

特殊解法：两组年龄差为 8 岁（分别作差 $5+3=8$ ），当第一组为第二组两倍时肯定是 16 与 8 岁。现在第一组和为 28 岁，需要倒退 12 岁到 16 岁，需要 6 年，因为两个人一年一共倒退 2 岁。

注：特殊解法只代表一种较特殊的思维，在有些情况下可以简化计算，但并不代表所有情况下都可以简化计算，这里列出来供大家选择适合自己并且考场之上容易想到的方法，如果无法理解或者考场之上无法想到，建议使用普通解法。下同。

12、李明从图书馆借来一批图书，他先给了甲 5 本和剩下的 $\frac{1}{5}$ ，然后给了乙 4

《2011 年公务员考试行测考试 100 套华图真题》

本和剩下的 $\frac{1}{4}$ ，又给了丙 3 本和剩下的 $\frac{1}{3}$ ，又给了丁 2 本和剩下的 $\frac{1}{2}$ ，最后自己还剩 2 本。李明共借了多少本书？

A、30 B、40 C、50 D、60

选 A

普通解法：设李明共借书 x 本，则 $((((x-5) \times \frac{4}{5}-4) \times \frac{3}{4}-3) \times \frac{2}{3}-2) \times \frac{1}{2}=2$

特殊解法：思维较快的直接倒推用反计算，即用 2 乘 2 加 2 乘 $\frac{3}{2}$ 加 3……

13、商店为某鞋厂代销 200 双鞋，代销费用为销售总额的 8%。全部销售完后，商店向鞋厂交付 6808 元。这批鞋每双售价为多少元？

A、30.02 B、34.04 C、35.6 D、37

选 D

普通解法：设每双售价 x 元，则 $200 \times x \times (1-8\%)=6808$

特殊解法：交付钱数 6808 元必然能除尽每双售价，依此排除 A、C。如果是 B，很容易发现 200 双正好 6808 元，没有代销费用了。

14、甲、乙二人 2 小时共加工 54 个零件，甲加工 3 小时的零件比乙加工 4 小时的零件还多 4 个。甲每小时加工多少个零件？

A、11 B、16 C、22 D、32

选 B

普通解法：设俩人速度分别为 x 、 y ，则 $2x+2y=54$ ， $3x-4y=4$

特殊解法：从第一句话知 D 不对。从第二句话中知甲每小时加工的零件是 4 的倍数。

15、某车间进行季度考核，整个车间平均分是 85 分，其中 $\frac{2}{3}$ 的人得 80 分以上（含 80 分），他们的平均分是 90 分，则低于 80 分的人的平均分是多少？

A、68 B、70 C、75 D、78

选 C

普通解法：设 x 为所求，假设总共 3 人，其中 2 人 80 以上，1 人低于 80 分。则 $2 \times 90 + 1 \times x = 3 \times 85$ 。记住此处别忘了用尾数法快速得到答案。

特殊解法：利用十字交叉法解决混合平均问题。两部分人比例为 2:1，则其各自平均分到 85 分的距离应该反过来为 1:2=5:10，直接得到 75。

16、五个瓶子都贴了标签，其中恰好贴错了三个，则错的可能情况共有多少种？

A、6 B、10 C、12 D、20

选 D

普通解法：从五个瓶子当中选出三个来为 $C(3, 5)=10$ ，这三个瓶子都贴错有 2 种可能，即 231、312 两种。 $10 \times 2=20$

17、装某种产品的盒子有大、小两种，大盒每盒能装 11 个，小盒每盒能装 8 个，要把 89 个产品装入盒内，要求每个盒子都恰好装满，需要大、小盒子各多少个？

A、3, 7 B、4, 6 C、5, 4 D、6, 3

选 A

普通解法：设大小盒分别为 x 、 y 个。则 $11x+8y=89$ 。在自然数范围内解此不定方程， $0 \leq x \leq 8$ ，根据奇偶还得是个奇数，所以选择 1、3、5、7 代入发现，只

《2011 年公务员考试行测考试 100 套华图真题》

有 $x=3$ 可以得到自然数 $y=7$

特殊解法：直接代入。尾数为 9 的只有 A。

18、电视台向 100 人调查昨天收看电视情况，有 62 人看过 2 频道，34 人看过 8 频道，11 人两个频道都看过。问，两个频道都没有看过的有多少人？

A、4 B、15 C、17 D、28

选 B

普通解法：看过的人为 $62+34-11=85$ ，没有看过的自然是 15。

特殊解法：用容斥原理。 $100=62+34-11+x$ 。尾数为 5。

19、有一堆螺丝和螺母，若一个螺丝配 2 个螺母，则多 10 个螺母；若 1 个螺丝配 3 个螺母，则少 6 个螺母。共有多少个螺丝？

A、16 B、22 C、42 D、48

选 A

普通解法：设螺丝和螺母分别为 x 、 y 个。则 $2x+10=y$ ， $3x-6=y$

特殊解法：考虑第二次是在第一次的基础上每个螺丝再加一个螺母，多出来的 10 个螺母还可以加 10 个螺丝，但仍然少 6 个螺丝，因此螺丝就是 $10+6=16$ 个。

20、甲、乙二人上午 8 点同时从东村骑车到西村去，甲每小时比乙多骑 6 千米，中午 12 点甲到达西村后立即返回东村，在距西村 15 千米处遇到乙。东、西两村相距多远？

A、30 B、40 C、60 D、80

选 C

普通解法：设甲的速度为 x ，乙为 $x-6$ ，两村相距为 y ，他们从出发到相遇共用时 t 小时。则 $4x=y$ ， $tx=y+15$ ， $t(x-6)=y-15$

特殊解法：相遇时甲比乙多骑 2 个 15 千米，即多骑 30 千米，而甲比乙每小时多骑 6 千米，说明相遇时一共过了 5 个小时，即为 13 点。说明甲从 12 点到 13 点一个小时走了 15 千米，所以从 8 点到 12 点四个小时应该走 60 千米。

21、某铁路桥长 1000 米，一列火车从桥上通过，测得火车从开始上桥到完全下桥共用 120 秒，整列火车完全在桥上的时间 80 秒，则火车速度是？

A、10 米/秒 B、10.7 米/秒 C、12.5 米/秒 D、500 米/分

选 A

普通解法：设速度为 v ，火车长 s ，则 $1000+s=120v$ ， $1000-s=80v$ 。

特殊解法：从两个时间平均得到 100 秒知，从车头进桥到车头离桥需要 100 秒，这个过程车经过的距离正好就是桥的长度，所以车速为 10。

22、大、小两个数的差是 49.23，较小数的小数点向右移动一位就等于较大的数，求较小的数？

A、4.923 B、5.23 C、5.47 D、6.27

选 C

普通解法：设小数为 x ，则大数为 $10x$ 。 $10x-x=49.23$ 。

特殊解法：直接代入通过尾数排除 A、B，估算排除 D。

《2011 年公务员考试行测考试 100 套华图真题》

23、有 10 个连续奇数，第 1 个数等于第 10 个数的 $\frac{5}{11}$ ，求第 1 个数？

A、5 B、11 C、13 D、15

选 D

普通解法：设第 1 个数为 x ，则第 10 个数应该是 $x+18$ ， $x=\frac{5}{11}(x+18)$ 。

特殊解法：第 1 个数为第 10 个数的 $\frac{5}{11}$ ，则第一个数为 5 的倍数，排除 B、C。如果第一个数为 5，则第 10 个数为 11，显然不对。

24、八个自然数排成一排，从第三个数开始，每个数都是它前面两个数的和，已知第五个数是 7，求第八个数。

A、11 B、18 C、29 D、47

选 C

普通解法：a、b、c、d、7、f、g、h。因为 $c+d=7$ ，所以 c 和 d 可能是 1+6、2+5、3+4、4+3、5+2、6+1 的组合，验证只有 3+4 满足前面条件，为 2、1、3、4、7、11、18、29

特殊解法：考虑 d 的取值极端情况，两种为 a、b、c、0、7、7、14、21 和 a、b、c、7、7、14、21、35。两者之间即可。

25、 $(300+301+302+\dots+397)-(100+101+\dots+197)=?$

A、19000 B、19200 C、19400 D、19600

选 D

普通解法：分别用等差数列求和公式求出俩和再作减法。
 $(300+397)*98/2-(100+197)*98/2$

特殊解法：括号对应处相减都为 200，一共 98 个 200。（来源：北京华图学校）

2007 北京市社招公务员考试行测“五大难点”

2007 年 06 月 17 日 21:16 [我来说两包(5)] [字号：大 中 小]

【来源：中公网】

2007 年北京市公务员考试刚刚落下帷幕，整体而言，今年北京市公务员考试行政职业能力测验的难度和去年大致持平，题目类型没有发生特别大的变化。但今年北京市公务员考试试题数字推理、数学运算、图形推理、言语理解、逻辑出现了一些新的变化和新的考点，主要表现为以下五个方面：

12	9	-6
2	3	10
1	3	?

难点一：数字推理——九宫格类型数字推理

今年北京市的数字推理仍然延续了历年的风格，分为数列和表格两个部分。但是最为明显的区别，是剔除掉圆圈型的数字推理，代之以九宫格类型的数字推理。在难度上，数列型的数字推理难度与去年持平，九宫格类型的数字推理难度

《2011 年公务员考试行测考试 100 套华图真题》

梯度较大。第 6、7、8 道的数字推理难度较为简单，考生观察表格数字间的简单关系就可得出。第 9、10 道题目的数字推理难度较大，对于水平一般的考生难度较大。

例题：

A. 26 B. 17 C. 13 D. 11

解析：每列之和都等于 15。

难点二：数学运算——重视技巧

今年北京市的数学运算仍然保持了 15 道题目的数量。但是，与往年不同的是，今年更重视考察考生的思维技巧而不是运算能力。象第 19 题、第 23 题，如果考生利用方程法来求解的话，是相当麻烦的；如果考生直接采用代入法，那么这两道题目就迎刃而解。另外，第 20 题和第 21 题属于行程问题，但是与以往考题不一样的是，这两道题目所给的信息非常有限，需要考生弄清题目间暗含着的数量关系。

例题：有 10 个连续奇数，第 1 个数等于第 10 个数的 $\frac{5}{11}$ ，求第 1 个数？

A. 5 B. 11 C. 13 D. 15

正确答案 D。第 10 个奇数等于第 1 个数加上 18，用代入法。显然，只有第一个数是 15，第 10 个数是 $15+18=33$ 时， $15/33=5/11$ ，符合题目要求。

难点三：图形推理——方格型图形推理规律

今年的图形推理的数量为 5 题，难度有所提高，重点考核了方块形图案的移动规律。5 道题目中有 3 道题目是方块形图案，可见今年的考核重点过于集中在此类题目上。考核的规律比历年题目的规律，在难度上也有所提高。第 26、29、30 道题目的规律雷同但在难度上有所区别。最简单的是第 29 题的规律，其次是第 26 题的规律，但是第 30 题的规律则是综合了以上两道题目的规律，难度达到了一个较大的程度。第 27、28 题的规律相对简单，但是排除了以往试题中常见的规律。如果考生思路不够开阔的话，也是有一定的难度的。

总之，今年图形的规律跟历年试题的规律比较不同。考生在考试的时候需要保持清醒的头脑，排除惯性思维的影响。

难点四：言语理解——科技文章唱主角

今年的言语部分全部是文章阅读，总共六篇，每篇五道题目，考查范围涉及在特定语境中对词语、句子的理解，对文章主旨的理解等。这部分的难点突出表现在下面几个方面：

(1) 材料内容侧重科技。这部分文章取材于科技、经济和人文领域，其中科技类占大多数。这无形中增加了试题难度。以文章的第一篇为例。它是关于宇宙大爆炸理论的。文章主要谈了宇宙大爆炸理论的两个科学证据：一个是哈勃发现的光谱红移现象，一个是贝尔实验室的两位科学家发现的“宇宙背景辐射”。大部分考生不熟悉这些内容，理解上存在很大困难。

(2) “常识陷阱”。这是科技类论文的常用手段。以 86 题为例。部分考生可能会选 B，这是因为对“红移”的理解错误，总认为物体本身发红光。这就掉进命题人设置的“常识陷阱”中。实际上，“红移”是因为“多普勒效应”的存在，使光的波长变长，接近“红”光。答案选 A。“多普勒效应”其实很常见。比如当火车驶来的时候，人们会感觉到越来越刺耳，这是声波变短的原因；当火车离去的时候，人们又会感觉到声音慢慢变得不尖了，这是声波变长的原因。

(3) “概念交错”。科技类论文为什么难？一个重要原因是文章中的概念比较多。概念之间的交错更使考生一头雾水，搞不清楚它们之间的关系。这也就成

《2011 年公务员考试行测考试 100 套华图真题》

为命题人比较青睐的出题陷阱。以 88 题为例。该题涉及的概念有“宇宙膨胀理论”、“聚合状态”、“宇宙背景辐射”、“低温状态”、“大爆炸理论”等，几乎包括了文章中出现的大部分主要概念。所以 88 题比较难，正确答案是 C。“宇宙背景辐射”是宇宙大爆炸后留下的，它只能证明大爆炸理论，不能证明宇宙膨胀理论。

难点五：逻辑部分——多命题推理

多命题推理一直都是难点。在考试时间有限的背景下，其难度更显突出。试题逻辑部分

涉及多道此类题目。31、35 题给了三个命题，32 题给了四个命题，再加上一些条件，使得题目解答起来格外困难。以 31 题为例。如果命题 1 正确，那命题 2 肯定正确。根据题干要求，可以推断命题 1 肯定是错误的。然后运用假设法判断命题 2 和 3。假设命题 2 正确，可以判断出丙就是篮球队的，那甲就是足球队的，与假设矛盾。所以命题 2 错误，命题 3 正确。这样可以推出乙是足球队的，丙是乒乓球队的，甲是篮球队的。答案选 B。

07 年北京市公务员考试预测之言语理解与表达

2007 年 06 月 14 日 11:40 [我来说两句] [字号：大 中 小]

【来源：中公网】

言语理解与表达，是北京市公务员考试的固定题目，共 30 个题目。它的设置，其基本目的是考查公务员理解驾驭语言的能力，良好的语言沟通交流能力，是公务员必须具备的。就近两年考试内容的难易程度而言，这部分题目的难度不大，都是些基础性的知识。

现在就命题的方式、范围、特点和解题技巧作简要地分析和预测。

一、方式：客观性命题，均为单选题。

二、范围：对词、句子、篇章一般意思和特定意义的理解；对比较复杂的概念和观点的准确理解；对语句隐含信息的合理推断；根据上下文，恰当选用词语；准确地辨明句义，筛选信息。

三、特点：形式多样，角度不一。

四、解题技巧：

1、词

A、正确理解并使用词语。首先要正确理解词语的含义。其次根据具体的语言环境来判断，词不离句，不能主观臆测。

B、正确理解辨析近义词。主要包含：语意的轻重；适用范围；感情色彩；语体风格；搭配对象等。

C、正确运用成语。包含成语的含义、感情色彩和适用范围。

D、正确运用虚词。包含关联词语和一般虚词。

例题：

下列各句中，没有语病、句义明确的一句是（ ）

A、在专业研究、试验方面有优势的单位，有派出讲学人员、接受访问学者、举办训练班以及对其他协作单位提供帮助的义务。

B、我们能不能培养出“四优”新人，是关系到我们党和国家前途命运的大事，也是教育战线的根本任务。

C、大家对护林员揭发林业局带头偷运木料的问题，普遍感到非常气愤。

D、有关部门对极少数不尊重环卫工人劳动，无理取闹，甚至殴打、侮辱环卫工人的事件，及时进行了批评教育和严肃处理。

《2011 年公务员考试行测考试 100 套华图真题》

【答案】A

解析：B 句中，前半部分有表示两方面意思的词语“能不能”，后半部分却用了表示一方面意思的短语“是教育战线的根本任务”，这样，就犯了前后意思不一致的逻辑错误。C 句可以理解为大家对护林员的揭发行为气愤，也可以理解为大家对林业局偷运木料的行为气愤，因而这是一个句意不明的歧义句。D 句说“对、、、、时间进行了批评教育”，犯了成分不搭配的错误。

2、句子（一般性掌握）

常见病句和语句连贯。

A、常见病句：语序不当、搭配不当、成分残缺或赘余、结构混乱、表意不明、逻辑含混等。

B、语句连贯：话题一致、语序合理、语言的照应和衔接。

例题：

菲尔丁说：“不好的书也像不好的朋友一样，可能会把你戕害。”这话没错。但也不必为此走向极端，夸大书籍对人的品格的影响。更多的情况是：

- A、好人读了坏书受害至深，坏人读了好书受益甚微。
- B、好人读了好书取其精华，坏人读了坏书取其糟粕。
- C、好人多了好书好上加好，坏人读了坏书不可救药。
- D、好人读了坏书仍是好人，坏人读了好书仍是坏人。

【答案】D

解析：根据“语义一致”的原则，作者强调的是不走极端，即好人读了坏书不见的一定变坏，坏人读了好书不见的一定变好。所以选择 D。

3、阅读理解。

北京市公务员考试言语理解与表达的阅读部分主要以科技类说明文为主，以其他社科类文章为辅。科技类文章的内容范围很广，可能会涉及到天文、地理、生物、物理、化学以及当代最新的高科技知识，但其阅读目的并不是为了弄清楚这些知识本身，而是借助基本的知识技能，完成一定的阅读任务。

A、片段阅读

包括：对片段材料的正确理解、对片段材料主要意思的理解、选项内容与片段材料不一致的理解等。

例题：

任何传统形式的资源在地球上都有一定的储量，可信息资源不但没有限度，永远不会耗尽，而且越来越快的发展；任何传统形式的资源，只能一家独享，例如一吨煤，甲方使用了，乙方就不能再用，而信息资源就不是这样。下列陈述对文意理解正确的是（ ）

- A、传统资源总有一天会耗尽，而信息资源却取之不尽，用之不竭。
- B、传统资源的储量有限不会发展，而信息资源却可以使各方共享。
- C、信息资源之所以特别受重视，就在于它的无限性和共享性。
- D、信息资源的无限性和共享性，决定了它必然取代传统形式的资源。

【答案】C

解析：题干以对比的手法介绍了信息资源的两个特性：无限性和共享性。A 项只阐述了信息资源的无限性；B 项阐述了信息资源的共享性；题干中并没有提到信息资源必然取代传统资源的问题，因此 D 不正确。所以正确的选项应该是 D。

B 文章阅读（科技文为主，社科文为辅助）

《2011 年公务员考试行测考试 100 套华图真题》

包含：根据上下文，对具体词语的理解；对文中信息理解不正确的判断；对选文主旨的正确理解等。

例文：

阅读一下文字，完成下面的题目。

教育的任务就是唤醒人的潜力或潜在本质，使其内部产生一种自动力，最大限度地使其内部灵活性与可能性得到最佳发展。教育实质上是人的灵魂的教育，而不仅仅是知识和认识的积累，而灵魂的成长成熟是没人可以代劳的。按本性说，人都希望成为真正的人，而不是异化的人。我们是什么养的人和别人要求我们成为什么样的人，并靠自身改变自身进而把握自己安身立命之本。人要能健康成长必须经过这样一个内部发展过程。古人说：顺物之性以治物则物不可用，顺人之性以治人则人无不可治。这与老子所说“我无为，而民自化”意思相通。用今天的话说，就是减少不必要的干涉与管束，充分信任新生人的内在机制，使人渐习而日无之，从无序达到有序。而试图过多干预存在物的生长规律，必将损害这些事物，同时也破坏自身的和谐。

从心理上分析，人的这种生成是在不知不觉的无意识中达到的，而“那种最高最好的东西不是根据意识的规定制作的，而是一种自发的或无意识的成长的结果”。所谓“徙善远罪而不知”也。自己订了好的品质自己却不觉得。这是循循善诱中，潜移默化，熏陶渐染有以致之。但人们却常常忽视甚至无视这种无意识的作用，只把注意力放在提高自觉性上。因而习惯于单向灌输，把自己当作主体，把教育对象视为客体，视为活的接受器，惟恐受教育者不能意识到自己在被施教。这实在是教育的一大误区，前苏联教育家苏霍姆林斯基对这个问题有过深刻的论述。他从自己长期的教育实践中认识到，一味强调自觉，必然“会在人身上培植虚伪的性格”，他严厉指责这样做是一种“不道德的行为”，而“这种不道德的行为还有更巧妙，更隐蔽的表现——事先设计故意生造一种教育场景”。可当受教育者“非常准确地看穿这种矫揉造作的把戏”，他的心灵便会做出防御戒备的反应，形象地说，便会扣上全部钮扣，整个封闭起来。所以，他“不得不花费巨大的努力使青少年不致感到他是被人有目的地引导到什么地方去”。事实证明：受教育者越少感到落在自己头上的设想，其教育效果便越大。杜甫的两句诗：随风潜入夜，润物细无声。可作这种教化的形象说明。教育犹如雨露之于草木，受教育者如坐春风，如淋春雨，在潜意识，半潜意识中，导致深层心理结构的变化。

1、第一段中“这样一个内部发展过程”指的是（ ）

- A、最大限度地使其内部灵活性与可能性得到最佳发展
- B、发展自身、决定自身、改变自身、把握自身
- C、顺人之性以治人，则人无不可治
- D、减少不必要的干涉和管束，充分信任尊重人的内在机制。

【答案】C

解析：由“我们是什么样的人和别人要求我们成为什么样的人之间是有冲突的，人应该按自身本性发展，自己决定自己成为什么样的人，并靠自身改变进而把握自己安身立命之本”这句话，可以判断答案是 C。

2、第一段中“不仅仅”所强调的意思是（ ）

- A、我们是什么样的人
- B、别人要求我们成为什么样的人
- C、人的灵魂的教育
- D、知识与认识的积累

《2011 年公务员考试行测考试 100 套华图真题》

【答案】C

解析：把“不仅仅”放到具体的语言环境中去，可以判断“教育实质上是人的灵魂的教育，而不仅仅是知识和认识的积累，而灵魂的成长成熟是没人可以代劳的。”这句话表达的核心是在后面的分句。

3、第二段中“受教育者越少感到落在自己头上的设想，其教育效果便越大”的依据是（ ）。

- A、把自己当作主体，把教育对象视为客体。
- B、一味强调自觉，必然会在人身上培植虚伪的性格。
- C、事先设计故意生造一种教育场景。
- D、在自发的或不自觉的无意识中达到教育目的。

【答案】A

解析：由“因而习惯于单向灌输，把自己当作主体，把教育对象视为客体，视为活的接受器，惟恐受教育者不能意识到自己在被施教。”，可以判断答案为 A。

4、第二段中“只把注意力放在提高自觉性”有种种做法、表现，不属于其作法、表现的一项是

- A、在主题班会上，同学们纷纷表决心，保护环境，从我做起。
- B、顺人之性以治人，则人无不可治。
- C、同学们踊跃参加班级足球赛，相互切磋球技，既增进了友谊，又增强了集体凝聚力。
- D、某车间主任竟让刑满释放人员张辛管理仓库，并把钥匙交给了他。

【答案】B

解析：由“但人们却常常忽视甚至无视这种无意识的作用，只把注意力放在提高自觉性上。”因而习惯于单向灌输，把自己当作主体，把教育对象视为客体，视为活的接受器，惟恐受教育者不能意识到自己在被施教。”可以判断 A、C、D 三项都属于“只把注意力放在提高自觉性”的做法。

五、真题回放。

（一）阅读以下文字，完成下面题目。

在一定条件下，朦胧比清晰更富美感。古人云：“马上看壮士，月下看美人。”据天文学家称，即使是满月一十五的月亮，其亮度也只相当于阳光的五十万分之一。

长江三峡的神女峰，终年云雾缭绕，其险峻奇诡尽在半遮半掩之中，故有“半入仙境半人间”的飘渺意境。这种“飘渺”亦即朦胧。常导致人们产生创造性的思维活动，叫做“浮想联翩”。倘若有人走近去，实地考察一番，想那如仙似幻的景色必然减半，所得不过一片残山瘦水古树怪石而已。因为美感体验是非反思的、不自觉的，美感体验的关键是体验者与其对象不可分割地融合在一起，而朦胧可以使一些事物得以藏拙遮丑而趋于尽美。“明察秋毫”则很难获得持久的美感享受。

现代企业管理学中有一门课叫做“行为科学”，它用社会心理学来研究人的行为及产生种种行为的原因，认为：人的欲望（或称需要）是人行为的发动器，倘欲望完全被行为实现而满足了，欲望立即消失，产生索然之感，这时候就需要另一种新的欲望来发动新的行为。而“朦胧”总是使人不识庐山真面目，赏美心理永远不能完全满足，也就不会兴味索然。美感最强烈之点是刚刚触到迫切欲赏的美物而又没有完全得到的那一瞬间，这一瞬间就产生“临界点美感”，朦胧的美学功能就包括使人总是保持在兴趣盎然而不是索然的“临界点美感”上。

《2011年公务员考试行测考试100套华图真题》

为满足人类这一固有的审美心理，作家为文则必须含蓄，状物抒情也必须蕴藉，即所谓“意贵透彻，语忌直率”。诚然，朦胧不是晦涩，不是让谁也看不懂，更不是一团漆黑。一言以蔽之：朦胧使美感纯化，使美感丰厚，使美感不衰。

1、对文中概念“临界点美感”理解不正确的一项是（ ）

- A、它产生于刚刚触到迫切欲赏的美物而又没有完全得到的那一瞬间。
- B、“临界点美感”所构成的心理基础是对美的事物的一种完全满足。
- C、从心理学的角度来看，“临界点美感”是最强烈的美的感受。
- D、使人保持在兴趣盎然的“临界点美感”上，是朦胧的美学功能之一

2、下列能作为“朦胧使美感纯化”这个观点的依据的一项是（ ）

- A、朦胧导致人们产生创造性的思维活动，即“浮想联翩”。
- B、朦胧可以使一些事物得以藏拙遮丑而趋于尽美。
- C、朦胧不仅可以使美感丰厚，而且还能使之长久不衰。
- D、“明察秋毫”（不朦胧）则很难获得持久的美感享受。

3、下面不属于朦胧美感的一项是（ ）

- A、隔花人远天涯近
- B、此时无声胜有声
- C、学生听老师讲课似懂非懂
- D、（东邻美女）增之一分则太长，减之一分则太短。

4、对画线句子“人的欲望（或称需要）是人行为的发动机”，在文中的深刻含义理解正确的一项是（ ）

- A、人的欲望永远不可能得到满足。B、人应想方设法满足自己的欲望
- C、体会美感应凭直觉而不能凭反省。
- D、欲望是万恶之源。

5、对文章的内容理解不正确的一项是（ ）

A、第一段引用“马上看壮士，月下观美人”，是要说明不清晰而产生出朦胧的美感。

B、第四段作者从社会心理学角度分析了朦胧能使人产生出强烈而持久的美感的原因。

C、最后一段通过朦胧与晦涩的比较，使人们对朦胧美有全面的认识，避免了片面性。

D、从全文看，作者认为朦胧是艺术创作的最高境界，只有朦胧才能使美感经久不衰。

（二）阅读以下文字，完成下面的问题

作为世界工业文明的肇始者，英国正在推进一场全方位的绿色文明革命，以减缓气候变化的脚步。天气成为英国人乐此不疲的恒久话题。然而，这一谈资延续至今，已经增加了新的内容，那就是全球性的气候变化。“气候变化已经成为英国百姓的热门话题。”在民间通讯社工作的安娜小姐给我举了一个例子：前不久英国南部一个小镇发生了洪水，不少人看过

新闻后就说：看哪，这就是气候变暖的结果！安娜指着英国版图说：你看，如果气候继续变暖，多年之后，北极冰雪融化的巨大水流将把墨西哥湾暖流向南推移，英国的温度也将是一个挑战。而且发生改变——这对于目前完全自给自足粮食供应者来说，无疑将是一个挑战。而且，发生改变的还不止是这样，海平面上升导致的陆地减少将更为可怕。与普通民众相比，政府的认识就更为超前和清醒。英国环境、食品与乡村事务部的环保官员萨曼先生告诉我们，早在布莱尔

《2011 年公务员考试行测考试 100 套华图真题》

首相上台之初，就把应对气候变化作为自己最重要的工作之一。与态度顽固的美国相比，英国应对气候变化的态度令人称许。萨曼先生认为，在气候变化方面，发达国家的确应该承担更多的责任，并且应该比发展中国家提前采取行动。为此，英国财政部在今年 2 月发布的《能源白皮书》中，将其经济定性为“低碳经济”，具体的温室气体减排目标是：到 2050 年左右，将温室气体的排放量由目前水平降低 60%。据悉，明年英国将担任欧盟及八国集团的轮值主席团。布莱尔首相已经表态：应对气候变化是他担任轮值主席后所要开展的两项重点工作之一。其实，在英国，环境并不是环境、食品与乡村事务部的专利，而是财政、交通、建筑等许多部门“人人有份儿”。作为一个市场经济非常完善的国家，英国在温室气体减排方面除了实行明确的政策导向外，还非常看重税收调节的作用。于 2001 年实施的环境税就是一个成功的范例。这一全球首创的新税种是这样运作的：凡是非居民的用能单位每消耗一度电，就必须上缴 15 便士的气候税，1 年的总税金在 10 亿英镑左右。与此同时，财政部出台了环境税减征制度：企业根据自愿原则，与财政部核定每年的减排目标，凡是如期完成任务的，就可减免 80% 的环境税。目前加入这一协定的已经有 44 个行业企业，基本都能实现自己的减排目标。为鼓励更多的企业提高能效、减少气体排放，财政部还面向大企业设立了上亿英镑的减排基金和针对小企业的碳基金。只要是与财政部签订减排协议的企业，都可申请一定数量的无息贷款，用于技术改造和设备更新等。实践证明，上述措施的效果非常令人满意：与财政部签订协议的企业越来越多，许多企业还超额完成了减排任务。

- 1、安娜认为气候变化对英国造成的最大的危害是（ ）。
A、气温变化 B、陆地减少 C、粮食减少 D、降雨量的变化
- 2、关于环境税，下面说法正确的是（ ）
A、是英国独有的税种 B、针对所有能源户
C、达到要求的可减少税率 D、所收税金要用于环境的治理。
- 3、英国财政部要向一些企业提供无息贷款的原因是：
A、一种税收返还政策。
B、让这些企业提高减排的能力。
C、补偿这些企业因减排造成的损失。
D、奖励这些企业超额完成减排任务。
- 4、下面符合这段话意思的一项（ ）
A、英国的粮食生产不能再自给自足。
B、北极的冰雪融化会让英国气温升高。
C、布莱尔政府的首要工作是应对气候变化。
D、预计 2050 年英国温室气体排放量为现在的 40%。
- 5、这段话谈论的主题是（ ）
A、发达国家应对全球气候变化承担更多的责任。
B、英国未能积极应对气候变化的挑战。
C、全球气候变化的危害及人类的对策。
D、英国在应对气候变化方面采取的措施。

在国家历年公务员考试中，考察图形推理能力的具体形式不外以下六种，即图形对比推理，图形类比推理，图形坐标推理，图形序列推理，图形平面组成推理和图形空间构成推理六种。

但从近年来北京公务员考试的情况来看，除 05 年北京社招曾经考过图形序

《2011 年公务员考试行测考试 100 套华图真题》

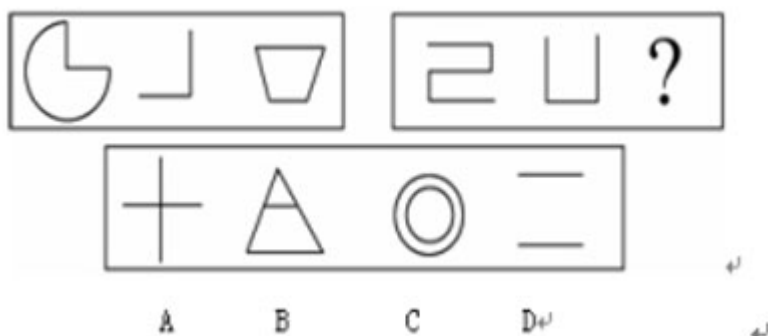
列推理之外，最近几次考试的题型就只有图形对比推理和图形类比推理两种形式。从题目的形式来说，这两种题型本来就是最简单的，尤其以图形类比推理为最简单；从内容上来说，所考察规律的难度和复杂度也要比国家公务员考试和其它如山东，江苏等地的地方公务员考试低得多；除此之外，从近年规律来看，北京社招的考试相对北京应届的考试难度还要低一些。

希望考生能够对命题思路有个整体的把握，这是突破图形推理必须迈出的第一步，当建立起这个整体感之后，我们还可以争取在后续的文章中就某些问题进行深入细致地讨论。需要说明一下的是，尽管近年来北京社招考试图形推理涉及的形式较少，仅有对比和类比两种，但不能保证其它的类型就不考，因此，为了增大把握性，更为了使考生能结合实例多了解一些图形推理的规则，在此我们将曾考过的题型做一个全面的介绍，以“走好”突破图形推理的第一步。

一、图形对比推理。

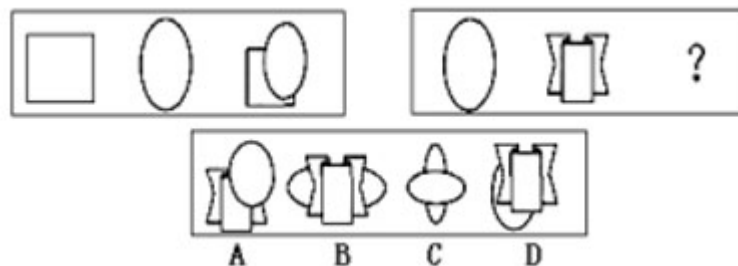
每道题包括两部分图形：第一部分图为题干，分成两套。第一套有三个依一定规律排列的小图形，第二套有两个小图形和一个问号。这两套图形存在差异，但在图形排列方面具有共同规律。第二部分为供选择的四个小图形。考生必须从第一部分图形排列方式中找出两套图形的共同排列规律，并根据此规律从第二部分图形的四个选项中选出最适合取代问号的一个图形。正确的答案不仅使题干中的两套图形表现出一致的规律或最大的相似性，而且应使第二套的图形也表现出自己的特征。

例 1：



解析：第一套图形中三个图形的笔画分别是 3，2，4，是等差数列 2，3，4 的变形。第二套图中前两个图形的笔画分别为 5，3。可推知正确答案应为 4 画，即 B。

例 2：



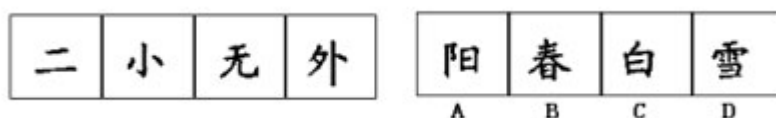
解析：观察第一套图形可发现：第三个图形是第一和第二个图形的组合，且第二个图形覆盖了第一个图形。按此规律，正确答案应为 D。

二、图形类比推理。

《2011 年公务员考试行测考试 100 套华图真题》

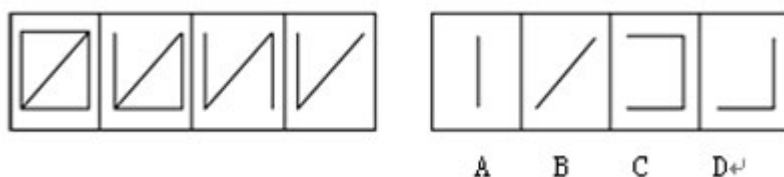
每道试题的左边四个图形呈现一定的规律性，要求考生从右边给出的四个图形中找出与左边图形相匹配的最合理的一个。

例 3:



解析：前四个笔画分别为 2，3，4，5，依次递增，则第五个图为 6 画，因而 A 为正确选项。

例 4:



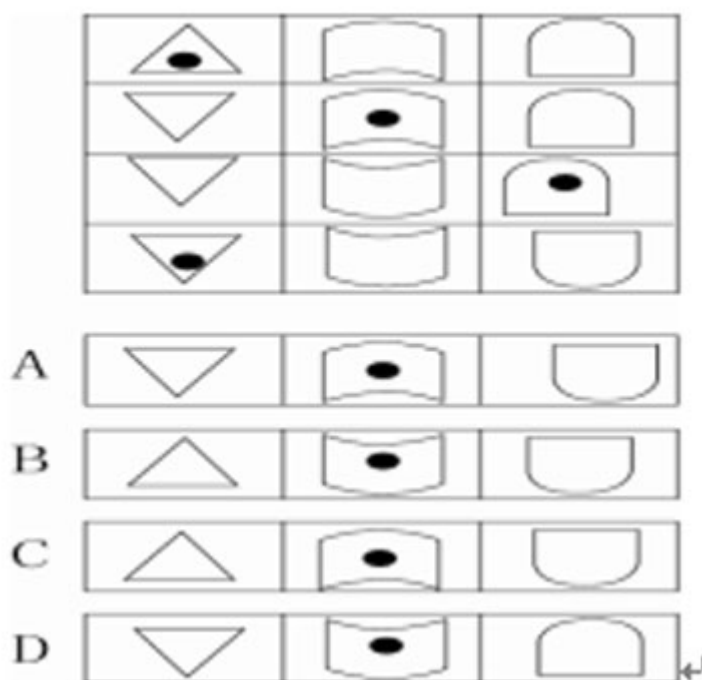
解析：规律为每个图形从左到右线段数递减，且减少线的位置规律为横，横，竖，所以，第五个图应该减少一条竖线，答案为 B

另外说明两点，第一，图形类比推理看似简单，其实其中对规律的观察隐藏有不同的顺序。第二，图形对比推理和图形类比推理之间的异同，相互的关联性，尤其是图形对比推理的特点，也有必要进行深入地讨论，这些内容我们会争取在后续的文章中为考生进行详细的指导。

三、图形序列推理。

给出四组图形构成一个序列，在四个选项中找到所给序列的延续。

例 5:



《2011 年公务员考试行测考试 100 套华图真题》

解析：从每一竖列的规律来看，都为统一的图形，只是上下方向不同，而且规律是每次遇到黑点后的下一个图形与黑点处图形的方向相反，因此，答案为 B。

四、图形坐标推理。

每道试题的题干为九个图形排成九宫格的形状，其中右下角最后一个图形处标问号，观察已有的处于相应位置上的八个图形的规律，从四个备选答案中做出选择。

例 6：



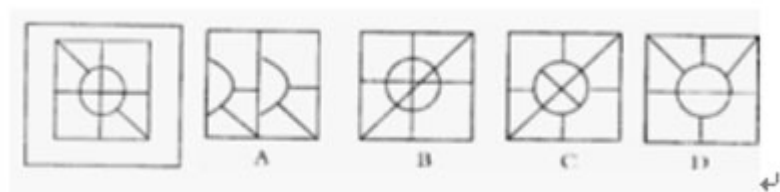
解析：第一行和第二行的三个小图形中均有一条竖线和两条对应的对角线，第三行按此规律，可先排除 C 项。第一行和第二行正方形中较大圆所包含图形均是不相同的，第三行依此规律，可排除 A 项。第三个规律：第一行和第二行，第一列和第二列独立的图形（无较大圆包围的小图形）也是不相同的，可以排除 B 项。故答案为 D。

另外，图形坐标推理问题对规律进行观察的方式和顺序是需要进行专门的说明，我们也争取在后续的文章中为考生做指导。

五、图形平面组成推理。

左边的图形由若干个元素组成，右边的备选图形中只有一个是组成左边图形的元素组成的，需要考生选出这一个。注意，组成新的图形时，只能在同一平面上，方向，位置可能出现变化。

例 7：



解析：A 项和 D 项的半圆内或圆内均缺线条或无线条，与原图不相符合，应排除；B 项联系对角的线不应穿过圆，即小圆内多了线条，也应排除；只有 C 项符合要求。故答案为 C。

六、图形空间构成推理。

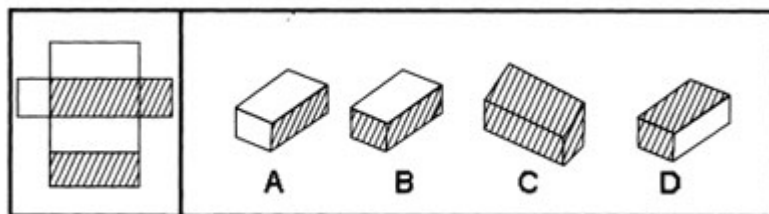
在右边的 4 个图形中，只有一个是由于左边的纸板折叠而成。需要选出正确的一个。

试题要求从所给的平面几何图形选择一个合适该平面图形的空间图形。此种

《2011 年公务员考试行测考试 100 套华图真题》

题型要求考生有较好的空间判断力。

例 8:



解析：从左面的平面图形可知“上下底面”为阴影，“右侧面”也为阴影，因此折叠后的图形“上下底面”应该为阴影，由此规律可知正确答案为 D。

需要强调指出，这种空间构成问题其实远不是如此简单，构成后的立体图形有可能在空间中做旋转，因而，所谓“上下底面”只是假设某种情况下的称呼而已。不过，即便是图形可以旋转也能采用统一的分析方法，这些我们也会争取在后续的文章中为考生做出指导。

了解了图形推理的众多题型，还不够，这仅仅是“万里长征迈出的第一步”，接下来要做的就是大量做习题。现在市面上充斥着各色各样，五花八门的公务员模拟试题，考生往往长时间在书店书架旁徘徊，却始终找不到一本权威而合适的模拟试题，或者做了大量的题却又摸索不到规律，既浪费金钱又浪费精力。结果却事倍功半。根据我们的经验，选书不在杂而在权威，做题不在多而在精，因此考生只需选取一本正版国家历年公务员真题，足矣。注意：要有详细参考答案，且答案分析要到位。认真对待每一道图形推理全真题，仔细研究，掌握其规律，达到“举一反三”，真正掌握每一类题的本质。这不光是图形推理的复习方

式，对于公务员各类题型全面整体复习同样适用。

这里也许会有考生要问，参加的是北京市的考试，却用国家公务员考试题来做复习备考，这样是不是不太合适？

同时，在解答图形推理题时，关键要：仔细观察，找出规律。一般观察要点有：图形的大小变化，图形构成要素的增减，图形的旋转方向以及角度，图形的组合顺序，图形的叠加，以及是否存在相同的图形等等。考生只有找出这些规律，才能从图形千变万化的表象中做出判断，以不变应万变，做对图形推理题，考试不留遗憾。

2007 年北京市公务员考试预测之定义判断

2007 年 06 月 06 日 14:24 [我来说两句(3)] [字号：大 中 小]

【来源：中公网】

定义判断是北京市公务员考试——行政职业能力测验的固定题型，共 10 道题。现就命题的方式、范围、特点和解题技巧作简要地分析。

一．范围：法律概念占据主体，考生备考时要有针对性地选取复习资料，着重复习与人们生活息息相关的法律、法规。

二．方式：客观性命题，单项选择。

三．特点：定义、概念都是该领域内比较基础的，难度不大，基本属于“正的、普遍的、实体概念”。

四．解题技巧：属于记忆性的题目，一般情况下采取直接选择的方法；模糊性质较强的题目，一般采取排除法。

例题：

《2011 年公务员考试行测考试 100 套华图真题》

1. 商标侵权：指他人出于商业目的，未经商标所有人的许可而擅自使用其已注册商标，或把他人注册商标的主要部分用作自己的商标，并使用在相同或类似的商品上，从而产生商标混同，以欺骗消费者。

下面几种情况中不属于商标侵权的事（ ）。

A. 甲企业未经商标所有人乙企业的许可，在与乙企业类似的商品上使用与其注册商标近似的商标。

B. 某毛巾厂注册“4 1 9”牌商标，在市场销路打开以后，有的企业在“4 1 8”前加注某某牌，使“4 1 9”商标化为商品名称。

C. 国内某企业并没把“IBM”商标直接用在其商品上，而用在广告和其他宣传活动中。

D. 国内某商场的名称使用了某房地产企业已获准注册的房地产类“亚细亚”商标名称。

【答案】D。解析：商标侵权的构成要件有四点：一．商业目的；二．未经许可而使用该商标；三．该商标是别人已注册的或是别人注册商标的主要部分；四．商标侵权人要把该商标应用在相同或类似的商品上；五．产生的商标混同。ABC 符合全部四个要件，属于商标侵权；D 项“亚细亚”商标没有用在相同或相似的商品上，故不属于商标侵权。

考生在解决此类问题时一般要遵循下面的原则：

1. 从定义项的“属”入手，如果选项中的案例不属于该定义项中“属”的范畴，就可以判断改选向不符合定义。

2. 分析定义项中的“种差”，抓住其中的关键词。

3. 对选项进行归纳和抽象，这是应用以上两种方法的前提。

五. 真题训练：

1. 国家赔偿：是指国家及其工作人员违法行使职权，侵犯公民、法人和其他组织的合法权益并造成损害的，由法律规定的赔偿义务机关对受害人予以赔偿的制度。

A. 公安侦查人员赵某在审讯时将犯罪嫌疑人打死。

B. 工商管理机关吊销某违法经营公司的营业执照。

C. 邮局在邮政传递中给客户造成损失。

D. 银行工作人员利用职务之便挪用储户资金。

2. 劳动报酬：是指劳动者因提供劳动而获得的所有报酬的总和，它等于工资和福利之和。根据以上定义，下面哪种组合构成劳动报酬？

A. 小王超额完成计件任务 5 0 0 件，按单价 1 0 元计，公司付给他 5 0 0 0 元人民币。

B. 小王超额完成任务，公司除发一定数目的工资外，给了他两周的带薪假期。

C. 小王把公司发的 5 0 0 0 元用来购买股票，获得了 2 0 0 0 元收益。

D. 小王完成任务后又加班工作了 4 个小时，公司付给他 4 0 0 元的加班费。

3. 知识产权是指基于创造性智力成果和工商标记依法生产的权利的统称。下列有关知识产权的说法正确的事（ ）。

A. 是一种财产权。

B. 是一种人身权，具有永续性的特点。

C. 以无体物标的，兼具人身权与财产权的性质。

D. 在一国取得，即受世界各国的共同保护。

《2011 年公务员考试行测考试 100 套华图真题》

4. 民事合同是作为平等主体的当事人之间设立、变更或者终止民事关系的协议, 下列不属于民事合同的一项是 ()

- A. 买卖合同
- B. 民事合同
- C. 房屋租赁合同
- D. 农民土地承包合同.

5. 法是反映统治阶级意志的, 由国家制定或认可并以国家强制力保证实施的行为规则的总称. 下列表述正确的一项是 ()

- A. 法在本质上是社会成员公共意志的体现.
- B. 法既执行政治职能, 也执行社会公共职能.
- C. 法最终决定于历史传统、风俗习惯、国家机构.
- D. 法 不受客观规律的影响.

6. 行政许可是指行政机关法人或者其他组织的申请, 经依法审查, 准予其从事特定活动的行为, 下列不得设定行政许可的是 ()

- A. 公路货运业. B. 会计师. C. 煤矿开采. D. 商品价格.

7. 商品差价指同一种商品由于流通环节、购销地区、购销季节及质量不同形成的价格差额. 下列不属于商品差价的是 ()

- A. 同一本书, 刚出版时与两年后价值不同.
- B. 早市萝卜一块钱一斤, 下午则五角一斤.
- C. 富康轿车与大众轿车车价价值不同.
- D. 甲地的盐比乙地便宜, 因为甲地产盐.

8. 产品定位: 管理学中产品定位是指企业为了满足目标市场, 确定产品 (或服务) 的功能、价值、价格、包装、销售渠道、服务方式等。

根据以上定义, 下面哪种行为不属于管理学中产品定位的范畴?

- A. 我们的产品将为在校学生服务.
- B. 考虑到消费人群的收入状况, 我们的产品将定价在 1 0 0 0 元上下.
- C. 我们的服务主要通过上门维修来实现.
- D. 我们的服务会让你有美的享受.

07 北京社招公务员考试预测-逻辑推理考试分析

2007 年 06 月 04 日 14: 06 [我来说两包] [字号: 大 中 小]

【来源: 中公网】

一、考试题型概要及题型分析

北京市公务员考试演绎推理部分一般考核 10 至 15 道不同类别的逻辑推理题, 内容涉及自然和社会各个领域, 强调对逻辑关系的正确把握, 考核考生对各种信息的理解、分析、综合、判断、推理等思维能力。

二、练习题目

1. 只要做到依法治国并且真正以人为本, 就能彻底解决拖欠民工工资问题。根据 04 年春节期间的一项调查显示, 有些地方拖欠民工工资现象仍旧严重, 由此可见:

- A. 有些地方没有以人为本
- B. 有些地方以人为本
- C. 有些地方既没有依法治国, 也没有以人为本
- D. 有些地方或者没有依法治国, 或者没有以人为本

【答案】D。

《2011 年公务员考试行测考试 100 套华图真题》

2. 唐诗宋词不是一年半载能读完的,唐代诗人王维的主要作品是诗歌,《王右丞集》是王维的作品。由此可见:

- A. 《王右丞集》不是一年半载能读完的
- B. 王维的作品不是一年半载能读完的
- C. 唐诗宋词中包括王维的作品
- D. 王维的主要作品是《王右丞集》

【答案】C。

3. 在心泉乡发展研讨会上,王书记认为:“或者发展养蚕业,或者发展畜牧业”;周乡长认为“心泉乡人多地少,应加强劳动力培训,大力开发对外劳务输出”;李书记认为“只有发展特殊作物种植,才是山乡心泉的唯一出路”;张乡长认为“充分发挥,心泉优势,发展旅游业,别无选择。”经过专家论证,上述四位的意见有两位被认为是可行的;那么意见可行的两位是:

- A. 王书记和周乡长
- B. 王书记和李书记
- C. 李书记和周乡长
- D. 李书记和张乡长

【答案】A。

4. 只有坚持科学发展观,才能实现可持续发展。为了子孙后代,我们必须实现可持续发展,由此可见:

- A. 我们必须加大宣传
- B. 实现可持续发展必须和科学管理相结合
- C. 为了子孙后代,我们必须坚持科学发展观
- D. 只要坚持科学发展观,就一定能实现可持续发展

【答案】C。

5. 赵科长和钱科长的能力比孙处长强,李处长的能力不如孙处长,而孙处长的能力又不如周处长,请问哪位能力最差?

- A. 赵科长
- B. 李处长
- C. 周处长
- D. 孙处长

【答案】B。

6. 不可能所有的人都成为公务员。由此可见:

- A. 有的人必定成为公务员
- B. 只有少部分人将成为公务员
- C. 必定有些人不能成为公务员
- D. 所有的人都不能成为公务员

【答案】C。

7. 在一次研讨会上,经过统计参加会议的有 12 人,有 1 人认识所有的人,有 1 人认识 6 人,有 3 人认识 5 人,有 5 人认识 3 人,由此可见:

- A. 参加会议的都相互认识
- B. 会长认识所有的人
- C. 有些人认识对方,但对方不认识他
- D. 有些人是通过别人介绍的

【答案】C。

8. 如果日本成为常任理事国,那么德国、印度和巴西也都成为了常任理事国,由此可见

A. 如果日本没有成为常任理事国,那么德国、印度和巴西至少有一国没有成为常任理事国

B. 如果日本没有成为常任理事国,那么德国、印度和巴西都没有成为常任

《2011 年公务员考试行测考试 100 套华图真题》

理事国

C. 如果德国、印度和巴西都成为了常任理事国，那么日本也成为了常任理事国

D. 如果德国没有成为常任理事国，那么印度和日本不会都是常任理事国

【答案】D。

9. 《冷山》、《海底总动员》和《十面埋伏》不可能都获得奥斯卡奖。由此可见：

A. 如果《冷山》得奖，那么《十面埋伏》就没有得奖

B. 如果《海底总动员》和《十面埋伏》没有得奖，那么《冷山》就得奖

C. 如果《冷山》没得奖，那么《海底总动员》、《十面埋伏》至少有一个得奖

D. 如果《冷山》、《十面埋伏》得奖，那么《海底总动员》就没得奖

【答案】D。

10. 根据统计，有些干部有见义勇为行为，有些干部廉洁自律，有些干部既生活简朴又工作热情。由此可见：

A. 有些干部既有见义勇为行为又工作热情

B. 有些干部既有见义勇为行为又廉洁自律

C. 有些干部既廉洁自律又生活简朴

D. 有的干部生活简朴并且有的干部工作热情

【答案】D。

11. 在某国的总统竞选中，争取连任的现任总统在竞选演说时强调：“本届政府执政期间，失业率降低了两个百分点，可见本届政府的施政纲领是正确的。”如果下列哪项为真，则能有力地削弱以上的申辩？

A. 政府用调低利率的办法来刺激工商业的发展，使通货膨胀率上升了 40%

B. 由于减轻了失业压力，从而减少了犯罪率

C. 就业人数增加，减轻了政府福利开支

D. 失业率下降，新毕业的大学生就业容易了

【答案】A。

12. 最近南方某保健医院进行为期 10 周的减肥试验，参加者平均减肥 9 公斤，男性参加者平均减肥 13 公斤，女性参加者平均减肥 7 公斤。医生将男女减肥差异归结为男性参加者减肥前体重比女性参加者重。如果以上是事实，那么以下结论正确的是：

A. 女性参加者减肥前体重都比男性参加者轻 B. 女性参加者比男性参加者多

C. 男性参加者比女性参加者多 D. 男性参加者减肥后体重都比女性参加者轻

【答案】B。

13. 2005 年 11 月，吉林省爆发了震惊全国的松花江污染事件，这件事又再次显示了环境保护问题的严峻性，特别指出的是，此次污染事件由于松花江经由黑龙江流向俄罗斯而变成一个地区性的事件。一国河流污染，影响邻国饮水；一国大气污染，造成邻国遭受酸雨灾害；一国二氧化碳排放过量，造成全球气候变暖，海平面上升，危及所有的国家和地区，以上论述的恰当结论是：

A. 环境污染已影响国与国之间的关系，可能引发国际争端

B. 现代化进程的必然后果是环境污染，先污染，后治理，这是无法避免的

《2011 年公务员考试行测考试 100 套华图真题》

- C. 我国在经济发展的过程中, 必须走可持续化发展的道路
D. 环境问题已成为区域化、国际化的问题, 解决环境问题是全人类共同面对的任务

【答案】D。

14. 品德高尚的人一定是心地无私的人, 一个人如果不能热心于公益事业, 那么他一定不是一个心地无私的人。每一个有志于社区服务的人都应该是心地无私的人, 一个品德高尚的人。由此可见:

- A. 心地无私的人一定是品德高尚的人
B. 热心公益事业的人一定是心地无私的人
C. 品德高尚的人一定是热心公益事业的人
D. 热心公益事业的人一定是品德高尚的人

【答案】C。

15. 在一次商业谈判中, 甲方总经理说: “根据以往贵公司履行合同的情况, 有的产品不具

备各合同规定要求, 我公司蒙受了损失, 希望以后不再出现类似情况。” 乙方总经理

说: “在履行合同中出现有不符合要求的产品, 按合同规定可退回或要求赔偿。贵公司

当时既不退回产品, 又不要求赔偿, 这究竟是怎么回事?”

以下哪一项反映了乙方总经理问话中的真实意图?

- A. 甲方企图要乙方赔偿上次合同的损失, 这是难以答应的
B. 甲方说的有的产品不符合要求, 却没有证据
C. 甲方可能是因为怕麻烦, 没有追究乙方的违约行为
D. 甲方为了在这次谈判中讨价还价, 故意指责乙方以往有违约行为

【答案】B。

事件排序考试分析

一、考试题型概要及题型分析

北京市事件排序题型中, 每道题给出五个事件。应试者从备选答案的四种顺序中选出能够对这五个事件做出最为合理解释的数字序列。应试者可利用自己的一般知识作出必要的补充, 或者作出合理的假设来填补欠缺的事件。这种逻辑顺序一般是反映事件的时间或因果关系。

二、练习题目

1. (1) 危难受命 (2) 职务升迁
(3) 骄傲腐败 (4) 成绩突出
(5) 锒铛入狱

- A. 1-4-2-3-5 B. 2-4-5-3-1
C. 2-1-4-3-5 D. 2-5-1-3-4

【答案】A。

2. (1) 本国货币升值 (2) 财政收入减少
(3) 外贸竞争力降低, 出口减少 (4) 公共服务水平降低
(5) 外向型企业萎缩

- A. 4-1-2-3-5 B. 2-4-5-3-1
C. 2-1-4-3-5 D. 1-3-5-2-4

【答案】D。

《2011 年公务员考试行测考试 100 套华图真题》

3. (1) 将新技术投入生产 (2) 购买一项专利
(3) 获得巨大经济效益 (4) 研制出新的工艺流程
(5) 申请一项专利

A. 4-5-2-1-3 B. 4-1-2-3-5
C. 2-1-3-5-4 D. 4-1-5-2-3

【答案】A。

4. (1) 研究成果 (2) 申请课题
(3) 起诉索赔 (4) 发现剽窃
(5) 胜诉

A. 2-1-4-3-5 B. 1-2-4-3-5
C. 2-1-3-4-5 D. 1-2-3-4-5

【答案】A。

5. (1) 公开出售 (2) 予以惩罚
(3) 损害消费者利益 (4) 假冒伪劣产品
(5) 被举报

A. 1-4-3-5-2 B. 3-4-5-2-1
C. 4-3-1-5-2 D. 4-1-3-5-2

【答案】D。

6. (1) 组织实地考察 (2) 总结会议成果
(3) 拟定会议日程 (4) 与会者积极发言
(5) 发出会议通知

A. 3-1-5-2-4 B. 1-4-3-5-2
C. 5-3-2-1-4 D. 3-5-4-1-2

【答案】D。

7. (1) 考古挖掘 (2) 绘制壁画
(3) 建造陵墓 (4) 拼接图案
(5) 盗墓取宝

A. 3-5-1-2-4 B. 3-2-5-1-4
C. 2-3-4-5-1 D. 2-3-5-1-4

【答案】B。

8. (1) 救治无效，家属告状 (2) 身患重病，借款购药
(3) 企业胜诉，报社致歉 (4) 药品鉴定，真伪不同
(5) 记者撰文，药厂蒙冤

A. 2-4-1-5-3 B. 5-2-4-1-3
C. 2-1-5-4-3 D. 5-4-2-1-3

【答案】C。

9. (1) 市场逐渐达到饱和 (2) 新型 PC 上市
(3) 获得高额利润 (4) 产品供不应求
(5) 利润下降

A. 2-4-5-1-3 B. 4-3-5-2-1
C. 4-5-3-2-1 D. 2-3-4-1-5

【答案】D。

10. (1) 排放污水 (2) 河水受到污染，变得浑浊
(3) 新建造纸厂 (4) 环保部门对造纸厂进行整治

《2011 年公务员考试行测考试 100 套华图真题》

(5) 河水变得澄清

- A. 3-1-2-4-5 B. 3-2-4-5-1
C. 5-3-2-4-1 D. 3-4-5-2-1

【答案】A。

2007 年北京市公务员考试预测之图形推理

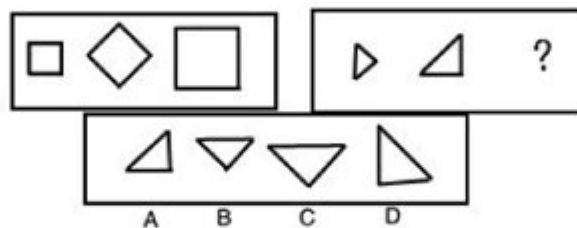
2007 年 06 月 06 日 17:18 [我来说两句] [字号：大 中 小]

2007 年北京市公务员考试预测之图形推理

图形推理和数字推理相似，都是要在题干给出的几个图形之中找出某种排列的规律，然后选择所求的图形。此类问题考查的是考生对于直观形象的观察力及排除众多干扰因素找到各事物间联系的能力。而我们的任务即是帮助考生全面的了解这一类问题中常见的规律，以便在考试中拿到分数，并争取时间。

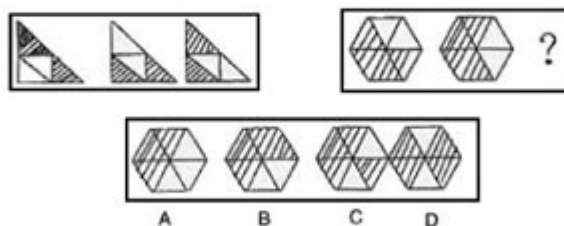
北京市的试题中，图形推理类的题目很少有“无理图”（图形间规律不明显）和“多理图”（图形间有两种以上的规律），命题严谨。这便便于我们逐一分析其中的规律并加以总结：

图形旋转：此类图形问题比较常见而且便于观察理解。




(2005 年北京市真题)

【答案】C。解析：图型经过顺时针旋转 45 度后放大得到结果，选择 C。



(2005 年北京市真题)

【答案】B。解析：图型经过顺时针旋转变化得出答案为 B。



《2011 年公务员考试行测考试 100 套华图真题》

(2006 年北京市真题)

【答案】A。解析：三个图形呈顺时针旋转。



(2006 年北京市真题)

【答案】D。解析：四个小图形成逆时针旋转，每个小图形转到右上角时变为空白。
轴对称与中心对称：
此类问题也是公务员考试网图形推理的常考知识点。

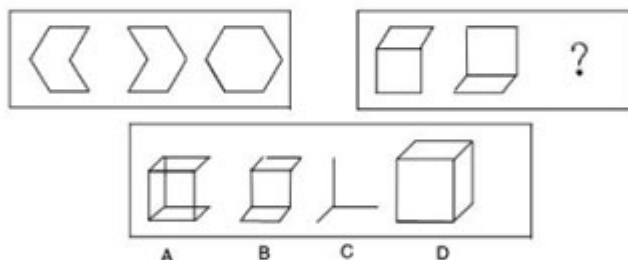


(2006 年北京市真题)

【答案】D。解析：具有轴对称因素。

图形相加（减）：

第 1、第 2 个图形相加得到第 3 个图形，也可看为第 3 个图形减去第 2 个图形得到第 1 个图形。



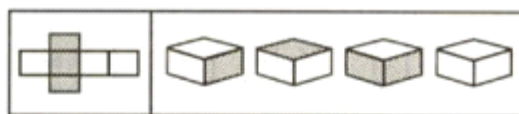
(2005 年北京市真题)

D 第一组图形中前两个图拼合成第三个图，第二组同理，选择 D。

平面图形的空间还原（“折纸盒”问题）：

近年来此类问题非常流行。主要考察考生的空间想象能力和对事物观察的细致程度。
2005 和 2006 北京市的试题中没有出现这种“折纸盒”问题，今年会有很大的可能性成为图形推理部分的最后两道题目。

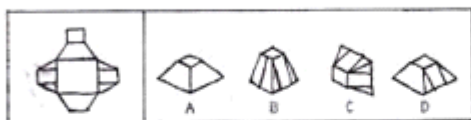
《2011 年公务员考试行测考试 100 套华图真题》



A B C D

(2004 年中央真题)

【答案】A。解析：此题为平面图形的空间还原，显然平面图形经折叠后，四个侧面中黑白两两相对，上下底面黑白相对，所以答案为 A。

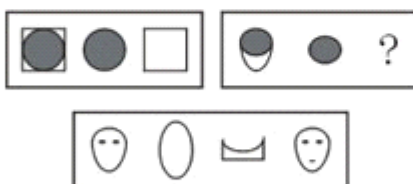


(2005 年中央真题)

【答案】D。解析：左面的平面纸板，折成立体图形为梯形，且带有两条竖线的侧面是相对的，所以应选择 D 答案。

在此简单介绍了图形推理中几类典型的问题，希望对考生有所启发，下面为大家准备了一些习题巩固知识点。

1.



2.

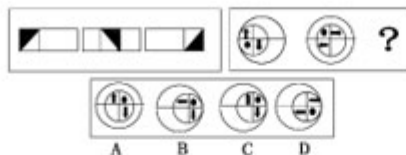


3.

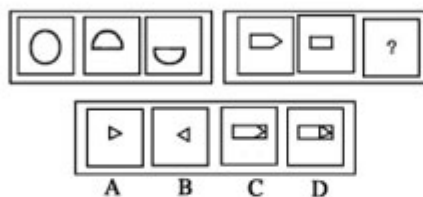


《2011 年公务员考试行测考试 100 套华图真题》

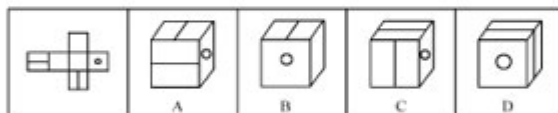
4.



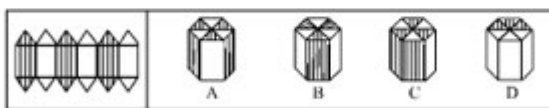
5.



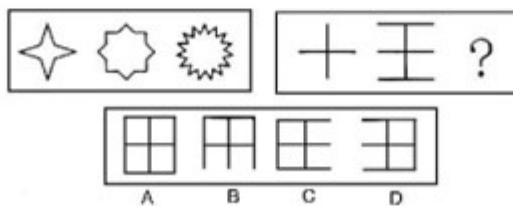
6.



7.



8.



2007 年北京市社招公务员考试预测之数学运算

2007 年 06 月 01 日 10:15 [我来说两句] [字号: 大 中 小]

一、题型概要

数学运算考查的是考生对实际问题中数字的理解和运用能力。命题人会根据所要考查的专项知识的情况,专门一日常生活的情境来设计考题,从而增加理解

《2011 年公务员考试行测考试 100 套华图真题》

难度,加大考题难度。对于此类问题我们可以将其分成小类逐一讨论,强化思维。

从 2005 年、2006 年的社招试题来看,北京市公务员考试数学运算的难度大为增加,这要求考生必须知晓大量的题型并且掌握应对这些提醒的专业解题方法与技巧。

二、解答技巧

数学运算在近年来的考试中已经成为一个非常重要的考试内容,因此类题目计算量并不大,解题难点主要在于对题目的理解和运算知识的综合运用。如果掌握了解决此类问题的技巧,那么数学运算就会成为考生最易拿分的题目。考生在进行备考复习这一类型题目的过程中,主要应从以下几个方面入手:

1. 尽可能多的学习新题型,掌握新题型;
2. 重点掌握一些新变化及应对题型的根本理论知识;
3. 在熟练掌握方程法的基础上,加强思维训练;
4. 学会使用代入法和排除法解题;
5. 反复联系、努力提高做题速度。

三、基本解题思想

在解答数学运算这种题型时,以下基本思想对解题至关重要,它关系着解题的正确方

向和解题的速度:

1. 方程的思想;
2. 代入与排除的思想;
3. 猜证结合的思想。

我们做了以上归纳,希望使各位考生能够对数学运算及如何解决这类题目有大概的了解,至于今年试题的数学运算部分如何出题,从 2005 年和 2006 年的北京市社招试题即可见一斑。让我们将前两年考试的数学运算部分试题分类来解析一下:

1. 数字计算

此类问题在数学运算部分中必有一道,并往往是第 1 道题,属于热身题目。

$$(101 + 103 + \dots + 199) - (90 + 92 + \dots + 188) =$$

A. 100 B. 199 C. 550 D. 990

(2005 年北京市真题)

【答案】C。解析:提取公因式法。 $101 - 90 = 11$, $103 - 92 = 11$, ..., $199 - 188 = 11$, 总计有 50 个这样的算式,所以 $50 \times 11 = 550$, 选择 C。

两个数的差是 2345,两数相除的商是 8,求这两个数之和。

A. 2353 B. 2896 C. 3015 D. 3456

(2005 年北京市真题)

【答案】C。解析:根据题意,两数相除商是 8,则说明被除数是除数的 8 倍,两数相减结果 2345 应为除数的 7 倍,从而求得除数 $2345 \div 7 = 335$,被除数为 $335 \times 8 = 2680$,两数和为 $2680 + 335 = 3015$,答案为 C。

$$37 \times 18 + 27 \times 42 = ?$$

A. 1800 B. 1850 C. 1900 D. 2000

(2006 年北京市真题)

【答案】A。解析:原式 = $(27 + 10) \times 18 + 27 \times 42 = 180 + 27 \times (18 + 42) = 180 + 1620 = 1800$

$$1234 + 3142 + 4321 + 2413 = ?$$

《2011 年公务员考试行测考试 100 套华图真题》

A. 10110 B. 11110 C. 11210 D. 12110

(2006 年北京市真题)

【答案】B。解析：各个数位上的数加起来的和都是 10，据此可以得出答案 B。

2. 行程问题

此类题目为数学运算部分的重中之重，考试中必有几道，也是考生最容易失分的题目。行程问题又可细分为相遇问题（核心是“速度和”）、追及问题（核心是“速度差”）和流水问题（核心为“船速 = (顺水速度 + 逆水速度) ÷ 2；水速 = (顺水速度 - 逆水速度) ÷ 2”）。解决此类问题关键在于明确速度、时间和路程之间的关系，如能准确的画出路程图，那么便可迎刃而解。

甲、乙二人练习跑步，若甲让乙先跑 10 米，则甲跑 5 秒可追上乙，若乙比甲先跑 2 秒，则甲跑 4 秒能追上乙，则甲每秒跑多少米？

A. 2 B. 4 C. 6 D. 7

(2005 年北京市真题)

【答案】C。解析：根据题意，可得下列等式 $(4+2) \times \text{乙速} = 4 \times \text{甲速}$ ， $10+5 \times \text{乙速} = 5 \times \text{甲速}$ ，将所给选项代入即可求得答案为 C。

甲、乙两人同进从 A 点背向出发，沿 400 米环形跑道行走，甲每分钟走 80 米，乙每分钟走 50 米，两人至少经过多少分钟才能在 A 点相遇？

A. 10 分钟 B. 12 分钟 C. 13 分钟 D. 40 分钟

(2005 年北京市真题)

【答案】D。解析：甲、乙要在 A 点相遇，则甲、乙行走的路程必是 400 的整数倍数，这样就能排除 A、B、C 三项，选择 D。

一架飞机所带的燃料最多可以用 6 小时，飞机去时顺风，速度为 1500 千米/时，回来时逆风，速度为 1200 千米/时，这架飞机最多飞出多少千米就需往回飞？

A. 2000 B. 3000 C. 4000 D. 4500

(2005 年北京市真题)

【答案】C。解析：风速 = $(1500 - 1200) \div 2 = 150$ 千米/时，则 6 小时最多能飞行路程 $6 \times (1500 - 150) = 8100$ 千米，所以飞机最多只能飞行 $8100 \div 2 = 4050$ 千米，选择 C。

下图是一个边长为 100 米的正三角形，甲自 A 点、乙自 B 点同时出发，按顺时针方向沿三角形的边行进。甲每分钟走 120 米，乙每分钟走 150 米，但过每个顶点时，因转弯都要耽误 10 秒。乙出发后多长时间能追上甲？

A. 3 分钟 B. 4 分钟 C. 5 分钟 D. 6 分钟

(2005 年北京市真题)

【答案】C。解析：追及问题。甲每走 100 米就要休息 10 秒，则甲走 100 米需要 $100 \div 120 \times 60 + 10 = 60$ 秒，甲实际的速度为 $100 \div 60 = 5/3$ 米/秒；乙每走 100 米也要休息 10 秒，则乙走 100 米需要 $100 \div 150 \times 60 + 10 = 50$ 秒，乙实际的速度为 $100 \div 50 = 2$ 米/秒，故乙追上甲需要 $100 \div (2 - 5/3) = 300$ 秒 = 5 分钟，故选择 C。

AB 两城由一条河流相连，轮船匀速前进，从 A 城到 B 城需行 3 天时间，从 B 城到 A 城需行 4 天时间，从 A 城放一个无动力的木筏，它漂到 B 城需几天？

A. 3 天 B. 21 天 C. 24 天 D. 木筏无法漂流到 B 城

(2006 年北京市真题)

【答案】C。解析：为流水行船问题，设船在静水中的速度为 x，水的速度

《2011 年公务员考试行测考试 100 套华图真题》

为 y ，则 $4(x-y)=3(x+y)$ ，那么 $x=7y$ ，则答案为， $=24$ 。

3. 比例问题

此类题目属于非难点的难点，本身只是简单的比例、分数和百分数的运算，但容易混淆其中的增长、减少或剩余的几分之几这样的概念。解决好此类问题，关键要从两点入手：第一，"和谁比"；第二，"增加或下降多少"。

水变成冰后体积增加，冰变化成水时体积减少几分之几？

A. B. C. D.

(2006 年北京市真题)

【答案】A。解析：设水的单位为 1，则水变成冰后的体积为，计算冰变成水时减少的体积，应该以冰的体积为参照，即把冰的体积看成 1，则 $(-1)/() =$ 。

甲读一本书，已读与未读的页数之比是 3: 4，后来又读了 33 页，已读与未读的页数之比变为 5: 3。这本书共有多少页？

A. 152 B. 168 C. 224 D. 280

(2005 年北京市真题)

【答案】B。从题目可知，已读的部分占全书的 $3/7$ ，又读了 33 页后，已读部分占全书的 $5/8$ ，则全书共有 $33 \div (5/8 - 3/7) = 168$ 页，选择 B。

在此简单介绍了数学运算中三类典型的问题，希望对考生有所启发。下面为大家准备了一些习题巩固知识点。

1. $2007 \times 200620062006 - 2006 \times 200720072007 = ?$

2. $(1 + 0.23 + 0.34) \times (0.23 + 0.34 + 0.65) - (1 + 0.23 + 0.34 + 0.65) \times (0.23 + 0.34) = ?$

3. $1+2-3+4+5-6+7+8-9+\dots-606=?$

4. 甲从某地出发匀速前进，一段时间后，乙从同一地点以同样的速度同向前进，在 K 时刻乙距起点 30 米；他们继续前进，当乙走到甲在 K 时刻的位置时，甲离起点 108 米。问：

此时乙离起点多少米？

A. 39 米 B. 69 米 C. 78 米 D. 138 米

5. 甲、乙两车同时从 A、B 两地相向而行，两车在离 B 地 64 千米处第一次相遇，相遇后两车仍以原速继续行驶，并且在到达对方出发点后，立即沿原路返回，途中两车在距 A 地 48 千米处第二次相遇，问两次相遇点相距多少千米？

A. 36 B. 24 C. 32 D. 48

6. 兔子和乌龟在一个 200 米的环形跑道上赛跑，它们从同一地点同时出发，乌龟每爬行 5 米，兔子超过它一圈，当乌龟爬完一圈时，兔子跑了多少圈？

A. 40 B. 41 C. 39 D. 38

7. 甲、乙两人共有人民币若干元，甲占其中的，若乙给甲 240 元，余下的人民币只占总数的，甲有多少元人民币

A. 480 B. 720 C. 840 D. 960

8. 商场促销前先将商品提价 20%，再实行"买 400 送 200"的促销活动（200 元为购物券，使用购物券时不循环赠送）。问在促销期间，商品的实际价格是不提价前商品原价格的几折？

A. 7 折 B. 8 折 C. 9 折 D. 以上都不对

新东方名师：三招帮你快速攻克数字推理

《2011 年公务员考试行测考试 100 套华图真题》

2007 年 06 月 01 日 09:24 [我来说两句] [字号: 大 中 小]

作者: 马崑

【来源: 新东方北斗星公务员考试研究中心】

数字推理虽然在行政职业能力测试这门考试每次只有 5 道或 10 道,但这几道题目在整张试卷中占据的位置与地位是非常重要的。首先,从时间上来考虑,行政职业能力测试平均做每道题的时间(包括图卡)在 50 秒左右,时间是非常紧张的。

例如北京公务员考试无论面向应届生还是社招的行政职业能力测试每年都有 10 道数字推理,如果能在数字推理的每道题目上节省半分钟,那么整个考试就可以节省出 5 分钟,5 分钟对于行政职业能力测试来说,可以说是非常珍贵的时间了。其次,从心理上来考虑,如果能在数字推理上一马平川,又对又快顺利地解决掉数字推理,那么考生在做后面的题目时,心理上是会放松的,而且答题也会越来越自信;相反,如果在数字推理上卡住了,有题目没做出来,那么在后边的答题中肯定会惦记着前面的题目,从而导致考试的紧张情绪,自己的信心也会被削减,甚至由于分神导致一些低级的失误,例如漏答题,图错卡等等。因此,数字推理不论从应考的战术,还是应考的战略上来讲都是非常重要的。

下面就结合近几年国考和北京的真题,介绍考场上快速攻克数字推理题目的“三招”:

第一招:看走向。拿到题目以后,用 2 秒钟迅速判断数列中各项的走向,例如:是越来越大,还是越来越小,还是有起有落。通过判断走向,找出该题的突破口。例如下面这道北京市面向 2007 应届生行测的真题:14, 6, 2, 0, ()

A. -2 B. -1 C. 0 D. 1。我们看到,题目中一直的四个数字是越来越小的,也就是走向是递减的,是一致的。对于这类走向一致的数列,我们通常的做法是从相邻两项的差或比例入手,很明显,这道题目不能从比例入手(因为 $14/6$ 不是整数),那么,我们就作差,相邻两项的差为 8, 4, 2 成等比数列,因此,0 减去所求项应等于 1,故所求项等于 -1,故选 B。利用数列的走向,可以迅速判断出应该采取的方法,所以,走向就是旗帜,走向就是解题的命脉。

第二招,利用特殊数字。一些数字推理题目中出现的数距离一些特殊的数字非常近,这里所指的特殊数字包括平方数,立方数,因此当出现某个整数的平方或者立方周围的数字时,我们可以从这些特殊数字入手,进而找出原数列的规律。例如下面这道 2007 年国家公务员考试行测的真题:0, 9, 26, 65, 124, ()
A. 165 B. 193 C. 217 D. 239

当我们看到 26, 65, 124 时,应该自然的本能的联想到 27, 64, 125, 因为 27, 64 和 125 都是整数的方次,27 是 3 的立方,64 是 4 的立方也是 8 的平方也是 2 的 6 次方,125 是 5 的立方,很明显,我们应该把 64 看作 4 的立方,也就是该数列每一项加 1 或减 1 以后,成为一组特殊的数字,他们是整数的立方,具体的说,就是: $0+1$ 为 1 的立方, $9-1$ 为 2 的立方, $26+1$ 为 3 的立方, $65-1$ 为 4 的立方, $124+1$ 为 5 的立方,因此,所求项减 1 应等于 6 的立方,故所求项为 217,因此该题选 C。从这道题目,我们看到要在考场上做到“作对作快”,必须在备考时进行知识的积累和储备,具体到数字推理部分,就是要在考前将 1 到 20 的平方: 1, 4, 9, 16, 25, 36, 49, 64, 81, 100, 121, 144, 169, 196, 225, 256, 289, 324, 361, 400; 1 到 10 的立方: 1, 8, 27, 64, 125, 216, 343, 512, 729, 1000; 2 的 1 次方到 10 次方: 2, 4, 8, 16, 32, 64, 128, 256, 512, 1024; 5 的 1 次方到 5 次方: 5, 25, 125, 625, 3125 背熟,当数字推理中出现

《2011 年公务员考试行测考试 100 套华图真题》

以上这些数字周围的数字时，要联想到这些特殊的数，从而找出规律，例如，看到 217 就要想到 216。

第三招，“九九乘法口诀”。九九乘法口诀是我国五千年文明的精华，是我们的国粹，作为选拔为国家公务人员的考试，当然要求应试者对我们的国粹有深刻的认识。当在做数字推理题目时，依次读已知的数的时候，应时刻想着乘法口诀，看看题目中的已给的数字是否在乘法口诀有关系，因为九九乘法口诀中所涉及的不仅是简单的乘法口诀，其中蕴涵着大量 100 以内整数的有关整除的信息，因此，很多时候，我们可以仅仅利用九九乘法口诀就找出已给数字的规律。例如下面这道 2005 年国家公务员考试 B 类行测考试的真题：1，1，8，16，7，21，4，16，2，（ ） A. 10 B. 20 C. 30 D. 40，当我们看到 8，16，7，21，4，16 时，如果能意识到它们在九九乘法口诀中的地位，那么我们也就找到了了解这道题的突破口了：1/1=1，16/8=2，21/7=3，16/4=4，因此所求项除以 2 应等于 5，故所求项为 10，故选 A。因此，在做数字推理题时，应该一边读题，一边考虑这些已知的数是否在乘法口诀中出现过，以及它们之间的联系。

以上介绍的“三招”是在公务员考试中经常使用的，理解掌握了以后，就能够快速解决数字推理的题目，达到“作对作快”的目的。

07 公考行测"化曲为直"快速解决复杂行程问题

2007 年 05 月 24 日 16:53 [我来说两句(1)] [字号：大 中 小]

作者：詹凯

【来源：新东方北斗星公务员考试研究中心】

在公务员考试当中，行程问题是一大类问题，也是考试每年必考的热点题目。行程问题的难度在逐年增大，主要表现在，由一个物体的运动增加为多个物体的运动，由在直线上运动变为绕着圈运动等等。

我们把较难的行程问题称为“复杂行程问题”。

今天我们主要目的解决“复杂行程问题”中的一类问题——曲线运动问题，即运动路线不是直线的问题，物体可以来回跑、可以绕着圆圈跑，还可以绕着正方形、三角形等等各种各样的路线跑。

(1) 2003 年国家 A 类考题第 14 题：姐弟俩出游，弟弟先走一步，每分钟走 40 米，走了 80 米之后，姐姐去追他。姐姐每分钟走 60 米，姐姐带的小狗每分钟跑 150 米。小狗追上弟弟又转去找姐姐，碰上姐姐又转去追弟弟，跑来跑去直到姐弟相遇小狗才停下来，则小狗跑了（ ）米

A. 600 B. 800 C. 1200 D. 1600

这是奥数题目中经典的追击、相遇问题。最直接的考虑就是计算出狗第一次追上弟弟跑的路程，然后再回来遇到姐姐跑的路程，扭头再追上弟弟跑的路程，返回跟姐姐相遇跑的路程……把这一系列数相加得到结果。只是这么一分析就会发现，这“一系列”竟然有无穷多项，而且每次计算小狗跑的路程都相当麻烦。怕是考试都已经结束了，这一道题连一半还没有做完。显然不能这么求解。

注意到一个事实，小狗跑的时候速度是不变的，要想知道小狗跑的路程关键就是能够求出小狗跑的时间。只要姐姐还没追上弟弟，小狗就一步不停的在跑。换句话说——小狗跑的总时间正好是姐姐追上弟弟所用的时间。由此可得，小狗跑的路成为，

，选 A。

这道题中，小狗跑的路线就是来回了很多次，然而我们把它跑的路线看成在一条平直的路上跑就轻而易举的求解了。

《2011 年公务员考试行测考试 100 套华图真题》

下面让“化曲为直”发挥更大的作用。

(2) 2005 年国家 A 类考题第 42 题: 甲、乙、丙三人沿着 400 米环形跑道进行 800 米跑比赛, 甲跑 1 圈时, 乙比甲多跑 $\frac{1}{7}$ 圈, 丙比甲少跑 $\frac{1}{7}$ 圈。如果他们各自跑步速度不变, 那么当乙到达终点时, 甲在丙前面 () 米

A. 85 B. 90 C. 100 D. 105

这道题我们把整个 800 米跑看成是沿着一条直线跑, 画一张图来帮助求解。

根据题意, 当甲跑到 400 米处时, 三个人距离 0 点的距离比为 (用角标 1、2、3 分别代表甲、乙、丙),

甲、乙、丙三个人在相同时间内所跑路程之比为上式, 因此他们的速度也为, 当乙跑到 800 米处时, 由于三个人跑步的时间相同, 因此他们所跑的路程比值还是

即, 甲此时跑到了 700 米处, 丙此时跑到了 600 米处, 所以甲在丙前面 100 米。

“化曲为直”之后, 利用简单的比例关系, 难题变得异常容易。

不是圆圈的题目还能变成直线!

(3) 2006 年北京社招考题第 21 题: 某单位围墙外公路围成了边长为 300 米的正方形, 甲、乙两个人分别从两个对角逆时针同时出发, 如果甲每分钟走 90 米, 乙每分钟走 70 米, 那么经过 () 甲就能看到乙

A. 16 分 40 秒 B. 16 分 D. 15 分 D. 14 分 40 秒

此题以上手觉得还算容易——无非是甲、乙两人之间距离小于 300 米, 甲就能看到乙了。仔细想想其实不然——即便是甲、乙就差了 1 米, 但是两个人刚好处于一个拐角的两边, 甲还是看不到乙。这样想下去就会被这道题的方形给“套”进去。

我们来把这个题目换个说法, 变个图样。

这个题现在变成了这样一道题目: 甲、乙沿着一条长直公路行走, 这条公路每 300 米被划分成“一格”, 一开始乙在甲的右端 2 格处, 甲的速度为 90 米/分, 乙的速度为 70 米/分, 请问, 甲、乙两人过多久能够走在同一格内?

这跟原题在本质上是同一道题。

先用答案中比较好算的一个时间来验证一下, 代入 15 分钟这个数值, 发现过了 15 分钟时, 甲走了 1350 米, 乙走了 1050 米, 甲、乙两人的位置关系变成了图中“甲'”和“乙'”所示。而且两人正好处于两个相邻格的正中间。

回过头想想一开始的那个做法, 这里就会出错了。两人距离不超过 300, 但是甲仍然看不到乙。

这时候别急着列式求解, 分析一下题目现在的情况——甲、乙现在距离格档都是 150 米, 然而甲比乙走的快。所以当甲走完剩下的 150 米, 来到下一个格档的时候, 乙还没有走到格档处, 也就是这时候甲就能看到乙了。所以,

再过 $150/90 = 1$ 分 40 秒, 甲就能看到乙了。加上开始的 15 分钟, 一共过了 16 分 40 秒, 甲就能看到乙。

“化曲为直”, 看似无法求解的题目得到完美解答。

当然, 有些题目看似可以用这种方法求解, 但深究就会发现并不这样。比如,

(4) 2005 年北京社招考题第 19 题: 右图是边长为 100 米的正三角形, 甲从 A 点、乙从 B 点同时出发, 按顺时针方向沿三角形的边行进。甲每分钟走 120

《2011 年公务员考试行测考试 100 套华图真题》

米，乙每分钟走 150 米，但过每个顶点时，因转弯都要耽误 10 秒。乙出发（ ）分钟方可追上甲

A. 3 B. 4 C. 5 D. 6

粗看来，这道题跟前一道题异曲同工，企图采用同一种方法求解，结果发现这种方法失效了。

那么是这种“化曲为直”的方法真的失效了么？我们来深究一下这种方法的奥妙。

请注意这样两件事情：第一，根据速度公式 $s=vt$ ；第二，在前三道题中，共同特点是需要计算的运动物体或者人，在运动过程中始终保持匀速运动，没有停止过。

如果 v 始终不变，随着时间的推移， s 发生了变化，但是这种变化与 s 究竟是什么形状没有关系，只与 s 究竟多长有关。

这就是“化曲为直”的内在本质！

再看看第四题，这道题中，甲、乙两人都是走走停停， v 在不断发生变化，这时候再把 s “拉直”就肯定出了问题。而对付这类问题则有这类问题的巧妙解法，将在后续的文章中逐一呈现给大家。

综上所述，“化曲为直”方法解决的“复杂行程问题”，是这样一类问题：无论题目中的运动情况多复杂，运动的物体或者人其运动的速度始终保持不变，这时候运动的路线就成了一个迷惑人的“幌子”，我们把这张幌子“扯平”，把曲线“拉直”，这类问题便迎刃而解。

金路公务员考试专家辅导行测系列第二部分

2007 年 05 月 23 日 11:21 [我来说两句] [字号：大 中 小]

作者：刘新民

【来源：北京金路公务员考试研究中】

1 词语表达（地方公务员考试常考）

1.1 选词填空：

这种题型主要是考查应试者对词义的辨别分析能力。公务员考试中已较少见到这类题目，但应试者仍然应该进行必要的练习。

选词主要是一些同义词或近义词，从所给的几个词中找出一个和所给句子句意符合的词。填入空格的词，必须使句子看起来完整，句意表达清楚。如“我愣在那儿一句话也说不出来，。”四个给出的词为 A：不知所措；B. 不知所云；C. 忘乎所以；D. 不辨东西。根据句意，选 A 可使句意完整。

【专家提示】答选词填空这类题目，一定要提高对同义词或近义词分析、辨别能力。它采取的是虚空待填的考查方法，在一定程度上难度要大于词语替换。

对待选词填空这类题，关键点在于应试者必须拥有大量的词汇储备，对常用词的词义、词的用法、词的结构、词的惯用句式应了如指掌。其次，应试者应将每个词和句意环境联系起来，即在句子中分析、理解词义，这样才能对词义把握得更准确一些。第三，应试者应加强自己的语感练习，可通过多读、多写来达到这个目的，古人云：“书读千遍，其义自见”，即讲的是语感增强后，含义便会豁然开朗、拨云见日。同第一种题型相类似，选词填空题也是考查应试者因词义相同或相近而造成相互干扰的情况中对不同词汇的辨析能力。只不过因为缺少了句中的参考词汇，难度稍微大了一些。我们知道，“字不离词，词不离句”，一个词只有应用到具体的语言环境中，才具有确切的意义。换句话说，只有在具体的语

《2011 年公务员考试行测考试 100 套华图真题》

言环境中，才能把一个词汇理解得准确、具体、透彻。因此，对付这种题型的一个关键是应试者头脑中应当拥有大量的词汇，而且对常用词汇的词义、用法等等都是比较熟悉的；关键之二是应试者能够在最短的时间里迅速而准确地把握整个语句试图表达的意思，也即应当有比较好的语感才行。解答选词填空，应试者一靠理解句义、词义，二靠语感，三靠尝试，即在无法确定的情况下，将每个词都放在空里尝试一下，默念一番；看哪个更通顺、更自然，则选择该词；如果一个词放在空里看着别扭、读着绕口、生硬，便不能选择该词。这种逐一尝试的方法，也可称作排除法。

在这种题型的训练中，语感的强化主要是靠诵读来获得，也就是把每一个词汇放到句子中去，然后默默地诵读一遍或几遍，直到找到语感为止。这是解题的技巧之一。同样重要的是，对每个词汇的准确理解是准确答题的基本条件。如果连词汇的意义都把握不准，是很难做出正确的选择的。因为对词义的正确辨析必须建立在对每个词语的词义的理解基础上。当然，在本测验中，出现的词汇都将是一些主要的常用词，而不会出现偏僻的词汇。词汇量的增加与对词语的运用能力，尤其是语感，必须靠日常的训练和积累。

实例分析：

* 中国古塔的建造，其规模之大，分布之广，数量之多，在古代建筑中是 的。

A. 首屈一指 B. 屈指可数 C. 空前绝后 D. 史无前例

解析：此题的题意指中国古塔各方面在古建筑中都是其他建筑无法比拟的。答案 A “首屈一指”可说是一个最佳的选择，其他三个答案都与题意不符。

* 天山绵延几千里，不论高山、深谷，不论草原、森林，不论溪流、湖泊，处处有丰饶的物产，处处有 的美景。

A. 美丽 B. 奇丽 C. 艳丽 D. 绚丽

解析：此题只有选择“奇丽”才能使句子的意思表达得最准确完整、连贯。虽然美丽、绚丽、艳丽都可以用来形容自然景色或景观，但绚丽是灿烂美丽的意思，艳丽为鲜明美丽的意思，用于此处均不够贴切。若用美丽，则最后一句话就变成“处处有美丽的美景”，更不合适，所以只有“奇丽”最准确。

* 如果你不 压抑自己的情绪，而表现出得意洋洋的姿态，很容易引起旁人的嫉妒。

A. 故意 B. 刻意 C. 决意 D. 有意

解析：在所给四个选词中，似乎都可以填空，但仔细分析后会发现，A “故意”一词有些牵强，C “决意”并非一个常用词，D “有意”流于口语化，所以权衡的结果，应该用 B “刻意”一词。

（02 年 A 类真题）以艾滋病为例，自 1981 年在美国发现首例艾滋病以来，艾滋病病毒在全球以惊人的速度蔓延，逐渐[]成为当前迫切需要解决的全球性问题。

文中[]出恰当的措辞是（ ）

A 演变 B 演进 C 演绎 D 演化

（03’ B 类真题）“五四”前后西方文化大引进，新的政治、科技词语大量[甲]。当前随着改革开放的不断深入，经济方面的新词语尤为活跃，如“知识经济”、“特区”、“下岗”、“炒鱿鱼”等等。核裂变之际，各种微粒高速碰撞，便产生新的微粒。语言现象[乙]。

依次填入甲乙两处的词语，最恰当的是（ ）

A 涌现 与此雷同 B 诞生 与此雷同

《2011 年公务员考试行测考试 100 套华图真题》

C 诞生 与之类似 D 涌现 与之类似
巧变形式, 寻找规律 解决数字推理的一种技巧
2007 年 05 月 21 日 18:45 [我来说两句(8)] [字号: 大 中 小]
作者: 马崑

【来源: 新东方北斗星公务员考试研究中心】

行政职业能力测试的数字推理部分, 不论从分值, 还是时间安排上都有重要意义, 做对做快, 是数字推理部分的目标.

这里介绍处理一类数字推理问题的一个常用技巧—变形.

所谓变形, 就是将已知数列中的一些数转变形式, 继而达到找到规律的目的.

以下面这道 06 年国考题为例: 1, 32, 81, 64, 25, (), 1 A. 5 B. 6 C. 10 D. 12

解答这道题目时, 首先应注意到 32, 81, 64, 25 这几个数字的特殊性, 他们都是某个自然数的多少次方, 32 为 2 的 5 方, 81 为 3 的 4 次方, 也是 9 的平方, 64 为 2 的 6 次方, 也是 4 的 3 次方, 25 为 5 的平方, 那么, 我们要找规律的话, 很自然想到要把这些数, 换成几的几次方的形式以后会有什么规律, 而 32 和 25 只能表示成 2 的 5 次方和 5 的平方 (也就是 5 的 2 次方), 所以我们就要把 81 和 64 变为 3 的几次方和 4 的几次方, 这样底数 (即 32 为 2 的 5 方中的 2) 2, 3, 4, 5 变成连续的自然数了.

也就是, 我们把 32, 81, 64, 25 变形为 $2*2*2*2*2$, $3*3*3*3$, $4*4*4$, $5*5$, 依次为 5, 4, 3, 2 个相同的数相乘, 则下一个数肯定是 1 个 6 相乘, 即 6 的 1 次方等于 6, 故选 B.

总结一下, 就是数字推理中, 如果出现像 25, 81, 121, 343 这种同一个数的方次的数 (25 为 5 的 2 次方, 81 为 3 的 4 次方, 也为 9 的 2 次方, 121 为 11 的 2 次方, 343 为 7 的 3 次方), 我们就要想到把他们变形, 再找规律.

07 北京社招公务员行测试题特点及答题技巧

2007 年 05 月 17 日 10:20 [我来说两句] [字号: 大 中 小]

来源: 搜狐教育

主持人: 行政能力测试的特点是什么呢?

孙景民: 行测它的最主要的特点是测试同学们两个方面, 第一个是做题速度, 第二是测试同学们的反应能力, 这个属于到底有多快, 同学们你们可以做一下计算, 有的人说他是 54 秒钟必须得做完一个题目, 有人说 50 秒钟必须得做完一道题.

实际上我给同学们提醒一下, 因为要求的是速度, 要求的是反应能力, 有的题你必须在半分钟之内做完, 剩余的 20 秒怎么办呢? 剩下的 20 秒就应该放在比较难做的难判断的试题上. 我举一个例子, 在数量关系上这样的试题中, 所有的试题你的答题速度不能超过 40 秒, 为什么呢? 剩下的这些时间应该怎么做呢? 剩下的这些时间应该用在了语言理解和判断推理上, 因为判断推理和语言的理解和表达这两个题型它要求的时间会比较长. 有的考生按照正常速度, 一分钟也做不了一个题, 这样占用了时间, 而且我们大家都知道, 这样的题占的分量又比较多, 而且这些阅读语言的理解和表达, 再加上它的判断推理又是我们能不能在行测方面取得胜利的观点. 因此就要求我们把其他的类型试题答题时间拿过来放在语言理解与表达和判断推理这两个题型上, 我给同学们的这个忠告, 同学们一定要在现在的练习当中强化训练自己. 比如同学们现在可以用十个、二十个, 甚至于三十个这样的语言理解试题来自己倒计时, 来训练自己. 看看能不能在 55 秒钟之内回答完成这样的试题, 如果你答完了, 而且正确率比较高, 证明你

《2011 年公务员考试行测考试 100 套华图真题》

在这样的行测方面会取得主动，如果你一分半钟还答不了这样的试题，同学们你就应该从现在开始加强训练这方面的能力和技巧。

主持人：行测答题技巧主要有哪些呢？

孙景民：行测方面答题技巧有下面几个。我们分头给大家说一下。行测分为五大类型。

第一个类型它是常识判断。第二个类型就是语言的理解与表达，第三个是数量关系，第四个是判断推理，第五个是资料分析。它们每一个的题型有着不同的答题技巧。我先说常识和资料分析，常识部分按照我们考纲上的要求，它是历史、法律、政治、经济、文化等各方面的内容都可能会出。因此，这种题型不要过多的去训练它，因为这个是平常积累的。如果靠这一个月里有很大的提高，也不现实。

我们现在要加大力度来训练我们的另外的三种题型，一个是语言理解与表达，一个是数量关系，另外一个就是判断推理。这三个是我们能否取得行测高分的观点。因此，关于语言方面理解它的考试有哪些内容呢？关于语言理解方面，主要两方面，一个是全文阅读，一个是片断阅读，这两方面各有各的答题技巧。

另外数量关系，它也是从两个方面来测试同学们。哪两个方面呢？一个是数字推理，一个是数学运算。数字推理同学们你就不用去复习，为什么你就不用复习呢？因为你只要做到迅速的反应就可以，这个题规律性很强。另外数学运算这一块一定要掌握最基本的数学运算公式，特别是乘法，特别是某三个字的二次方、三次方，甚至于五次方，然后把它乘起来最后得出这样一个答案。实际上这样有简单的运算公式，同学们这个简单的运算公式你做的速度越快越好。因此在这方面有着很强的技巧性，这个要认真的准备一下。

行测上确切的说就是考察你的反应能力。这个时候它的答题技巧一定要做到它有两大极端，所有的行测出题都有两大极端，第一个这个题出现非常明显的规律性，第二个这个题可能会出现非常明显的不规律性。无论是规律性还是不规律性都是我们在答题当中必须掌握的方法。为什么不规律性也成为一个规律呢？实际上给你几个图形，每一个图形都丝毫的没有规律，答案你就选择一个没有规定的答案，这个就是它的正确答案。有的是非常强规律性，我们一看迅速能够抓住这种规律，抓住某一种他们的间隔，他们之间的数，他们之间的这种变化模式，我们就可以在考试当中取得比较好的成绩。这是关于它的答题的技巧，一会儿我给同学们讲讲不同方面它的具体答题技巧是什么。

主持人：数量关系的命题形式与技巧是什么呢？

孙景民：主持人提这个问题，我刚才已经涉及到一些了。数量关系，我首先强调的同学们一定要在这个问题上讲究速度。数量关系它怎么命题实际上就大致从两个方面命题。一个是数字推理，一个是数学的运算。数字推理你只要掌握住它的规律性，它有间隔，我举考纲上的说明的例子。你像 2、9、16、23、30 让你答题答案有 35、37、39、41，你一看你就把握这个点，中间间隔是几节可以了。所以这个时候，同学们凡是数字推理的时候，你一定把第一个数字和第二个数字用减法计算起来，其他的可能会有明显的规律性就出来了。所以同学们答这个题时候，尤其文科的学生，理科学生答这个题不成问题，有明显优势。文科考生答题就有一些困难了。因此，同学们要注意他们第一个和第二个数字它们之间的加减，要么是和，要么是差，注意二者之间的规律，把二者之间的差和计算起来，往往就是它的答案。

关于数学运算，公务员考试，特别是行测考试是用相当大精力来考试同学们

《2011 年公务员考试行测考试 100 套华图真题》

的运算能力，因此，考生一定要掌握基本的数学运算公式。尤其是文科的考生同学，你们要把基本的数学的运算公式要在短短的一个月内要掌握一部分，这样我们可以在数量关系这个试题上我们取得比较好的成绩。注意，这些题我们都不应该丢分的。因为这些题如果我们掌握了方法，都是会给我们的考试来增添分数的，因此我们绝对不能应该在这个方面来失分。这就是关于它的技巧问题。

主持人：言语理解与表达主要是哪些方面呢？

孙景民：关于言语的理解与表达方面，我们北京市的大纲规定的很清楚。它主要是考察同学们下面的四个能力：

第一，对一般句子和一般意义上的理解；

第二，是对比较复杂的观念和观点的准确的理解；

第三，是对隐含信息的合理推测。

第四，是在干扰比较多的情况下能够比较准确的辩明它的意义，筛选它的信息。同学们这一点，在我们大纲上规定这四个方面的测试的要点。根据我的研究，同学们在这个命题实际上，同学们最容易失分的就是第三个方面，就是对语句它的隐含意义的合理推断。

这个很多的试题实际上考生这个分数它丢也就是在这个试题上丢得分数，咱们可以举一个大纲上的例子。大纲上曾经给我们这样一个阅读的文章。关于板块的边界并不就是海陆的边界，这个我不念了，实际上命的两个题。这两个题都是考察的第三个方面。也就是对语句它的隐含含义的合理判断问题。因此，这个题因为在原答案上找不到，就要求我们要进行合理的推测，这个合理的推测主要是咱们大家知道，主要是从哪些方面，每一段的第一句话或者是最后一句话，或者是总之以后的那个结论性的话来寻找我们的答案。如果不这样做，如果寻找原句子，我们在句子里面是根本找不到的。这是我给同学们提醒的。

言语理解与表达考两方面，一个是文章阅读，一个是片断阅读。文章阅读主要是考察同学们对言语的隐含意义的理解，它的准确理解。而片断阅读是考察同学们的用词的准确性。在这里我给同学们说一个技巧，这个技巧是什么呢？如果一个题它的题干的题是客观性的试题的话，下面的这四个答案里面 ABCD 你就挑一个答案是客观性的词，而不要挑那些具有感情色彩的词，反之，如果前面的这个片断是包含情感含义的一句话，我们这样的词要挑一个具有感情色彩的词。现在我给同学们实际举这么一个例子，例如，你看考纲上有这么一个题，就能很准确的说明我跟你得这么一个答题技巧。旅游胜地名泉多，但是天下第一泉就有四处，而神州名泉一书，列为天下第一的名泉就达十处，到底谁是第一恐怕陆羽在世，也会什么什么，这个按照我这个跟你说的这个大题技巧，你可以迅速选择判断答案不用过多思考。旅游胜地比较多，这个就是短短几句话，没有任何感情色彩，你这一看 ABCD 里面前三个有感情色彩，立马排除，最后难断就是客观性叙述的题，客观的这个词就是准确答案，不要把过多的进行对照，你看苦恼、愁肠、劳神都是感情色彩。前面是客观叙述的，这个不着边布达佩，我们如果做到迅速的答题，在语言上判断，有的同学失分很多，这个我感到很惋惜，实际上抓住这个技巧，不用过多的去思考去忧郁就可以选出这么一个词就可以了。这是关于言语的理解和表达所注意的几个问题，我就给同学们谈这么多。

主持人：下面请孙老师谈一下判断分析需要注意的方面有哪些。

孙景民：判断推理有几个方面，第一个是图形判断，第二个是演绎判断，第三定义判断，第四是事件的排列顺序的判断。这四个方面。最难的就是演绎判断和定义判断。具体图形判断有很多同学很简单的就可以辨别出来，因为图形判断

《2011 年公务员考试行测考试 100 套华图真题》

里面有很明显的技巧，而演义判断我为什么说这么难，因为它后面的答案有很多的干扰因素，从我们普通的考生看来，它们的答案基本上哪一个觉得都像，哪一个都可以做一个标准答案。实际上这是一个命题误区。这个很多的在这个演绎推理里面，一定要在题干上找出原话，只要找出它的原话，它的答案就在原话里面。我给同学们读一个具体的案例。咱们可以判断一下。

这个案例也在我们的考试大纲上，我用考试大纲的例子来给同学们举例。例如彭平是一个计算机编程专家，姚新是数学专家，其实所有的计算机编程专家都是数学家，我们知道今天中国大多数综合大学都在培养着计算机编程专家，因此我们可以认为，四个答案，第一彭平由综合性大学培养的。第二个答案是大多数计算机编程专家是由综合性大学培养的，第三个姚新并不是毕业综合性大学，第四有些数学家是计算机编程专家，这些题看哪一个都像。我教大家一个技巧，你在这个题干里面找出原话。我们一看所有的计算机编程专家都是数学家，这一句话是我们的题干里面的原话，那么这一句话可以反过来说，也就是数学家相当的一部分就是计算机编程专家，这个题就是这样答的。既然是所有的计算机编程专家都是数学家，至少数学家里有一部分是计算机编程专家，这样反过来就是我们这个题的答案，这个答案是哪一个呢？一看 ABCD 里只有 D 是的。就是题干这一句话里演变过来的，这个就是答案。同学们就这么简单，因此我们掌握住技巧对于我们行测的考试看起来有多么重要。

金路公务员李祖华谈常识判断宪法学考点

2007 年 05 月 10 日 17:20 [我来说两句] [字号：大 中 小]

作者：李祖华

【来源：金路公务员】

第二节 国家性质

一、国家性质概述

国家制度是一个国家通过宪法、法律确立的有关国家性质和国家形式的制度的总和。国家性质是指国家的根本属性，在国家制度中，国家性质具有决定性的意义，它决定着国家政权的组织形式和国家的结构形式，因此，国家性质是国家制度的核心内容。

二、我国是人民民主专政的社会主义国家

我国是工人阶级领导的、以工农联盟为基础的人民民主专政的社会主义国家。

我国的国家性质包含以下基本点：①人民民主专政实质上是无产阶级专政；②人民民主专政必须以工人阶级为领导、以工农联盟为基础；③人民民主专政是最大多数人的民主；④人民民主专政是民主与专政的结合；⑤在人民民主专政国家政权内部，建立了极其广泛的爱国统一战线，形成了中国 GCD 领导的多党合作和政治协商制度。

三、中国 GCD 领导的多党合作和政治协商制度

中国 GCD 领导的多党合作和政治协商制度是我国的一项基本政治制度，是我国政治制度的特点和优点，是一种符合中国国情的社会主义政党制度，将长期存在和发展。这一制度包括：①中国 GCD 是中国社会主义的领导核心，是执政党；②各民主党派是各自所联系的社会主义劳动者和爱国者的政治联盟，是接受中国 GCD 领导的，同中国 GCD 通力合作，共同致力于社会主义事业的亲密友党，是参政党；③坚持四项基本原则，是中国 GCD 同各民主党派合作的政治基础；④“长期共存、互相监督、肝胆相照、荣辱与共”是中国 GCD 与各民主党派合作的基本

《2011 年公务员考试行测考试 100 套华图真题》

方针；⑤以参政议政和互相监督作为多党合作的主要内容；⑥以坚持社会主义初级阶段的基本路线，把我国建设成为富强、民主、文明的社会主义现代化国家和统一祖国、振兴中华为中国 GCD 和各民主党派的共同目标；⑦以宪法为多党合作的根本活动准则。

在目前阶段，中国 GCD 领导的多党合作和政治协商的形式主要有：①中国 GCD 与民主党派政治协商，主要采取民主协商会、谈心会、座谈会以及就重大问题向中共中央提出书面政策性建议和约请中共中央负责人交谈等方式；②民主党派成员或无党派人士在国家权力机关参政议政和进行民主监督；③民主党派成员和无党派人士担任各级政府及司法机关领导职务；④通过中国人民政治协商会议发挥各民主党派的作用。

四、统一战线与中国人民政治协商会议

1 统一战线

统一战线是我国革命和建设胜利的重要法宝之一，在不同时期有不同的性质和任务。2004 年宪法修正案在宪法关于统一战线的表述中增加“社会主义事业的建设者”，将宪法序言第十自然段第二句关于统一战线的表述修改为：“在长期的革命和建设过程中，已经结成由中国 GCD 领导的，有各民主党派和各人民团体参加的，包括全体社会主义劳动者、社会主义事业的建设者、拥护社会主义的爱国者和拥护祖国统一的爱国者的广泛的爱国统一战线，这个统一战线将继续巩固和发展。”

2 中国人民政治协商会议

中国人民政治协商会议是有广泛代表性的统一战线的组织，是中国 GCD 领导的多党合作和政治协商的重要组织形式。政协按其性质不属于国家机构，也不同于一般的人民团体。

中国人民政治协商会议的主要职能是：对国家的大政方针、地方重要事务、政策和法律的贯彻、群众生活和统一战线的重大问题，进行政治协商和民主监督。

第三节经济制度

一、基本经济制度

国家在社会主义初级阶段，坚持公有制为主体、多种所有制经济共同发展的基本经济制度。我国社会主义经济制度的基础是生产资料的社会主义公有制，即全民所有制和劳动群众集体所有制：

(1) 国有经济，即社会主义全民所有制经济，是国民经济中的主导力量。

(2) 农村集体经济组织实行家庭承包经营为基础、统分结合的双层经营体制。农村中的生产、供销、信用、消费等各种形式的合作经济以及城镇中的手工业、工业、建筑业、运输业、商业、服务业等行业中的各种形式的合作经济，是社会主义劳动群众集体所有制经济。

(3) 在法律范围内的个体经济、私营经济等非公有制经济，是社会主义市场经济的重要组成部分。国家允许外国的企业和其他经济组织或个人依照中国法律的规定在中国投资，同中国的企业或者其他经济组织进行各种形式的经济合作。

2004 年宪法修正案将宪法第 11 条第 2 款“国家保护个体经济、私营经济的合法的权利和利益。国家对个体经济、私营经济实行引导、监督和管理。”修改为：“国家保护个体经济、私营经济等非公有制经济的合法的权利和利益。国家鼓励、支持和引导非公有制经济的发展，并对非公有制经济依法实行监督和管理。”

二、分配制度

《2011 年公务员考试行测考试 100 套华图真题》

社会主义公有制消灭人剥削人的制度，实行各尽所能、按劳分配的原则；国家在社会主义初级阶段，坚持按劳分配为主体、多种分配方式并存的分配制度。

三、经济体制

国家实行社会主义市场经济。国家加强经济立法，完善宏观调控，国家依法禁止任何组织或个人扰乱社会经济秩序。

四、其他规定

宪法规定，社会主义的公共财产神圣不可侵犯。国家保护公民的合法财产的所有权和继承权。

2004 年宪法修正案将宪法第 13 条“国家保护公民的合法的收入、储蓄、房屋和其他合法财产的所有权。”“国家依照法律规定保护公民的私有财产的继承权。”修改为：“公民的合法的私有财产不受侵犯。”“国家依照法律规定保护公民的私有财产权和继承权。”“国家为了公共利益的需要，可以依照法律规定对公民的私有财产实行征收或者征用，并给予补偿。”

2004 年宪法修正案将宪法第 10 条第 3 款“国家为了公共利益的需要，可以依照法律规定对土地实行征用。”修改为：“国家为了公共利益的需要，可以依照法律规定对土地实行征收或者征用，并给予补偿。”

2004 年宪法修正案在宪法第 14 条中增加一款，作为第 4 款：“国家建立健全同经济发展水平相适应的社会保障制度。”

第四节 国家形式

一、政权组织形式

1 政权组织形式的概念和分类

政权组织形式是指特定社会的统治者采取何种原则和方式去组织政权机关的制度。

现代国家政权组织形式主要分为立宪君主制的政权组织形式和共和制的政权组织形式。君主制是指君主在实际上或名义上掌握国家最高权力、君主终身任职并实行世袭的政权组织形式。君主制可分为专制君主制和立宪君主制两种。现代国家主要采取立宪君主制形式，君主的权力受宪法的一定限制。共和制是指国家最高权力掌握在由选举产生的并有一定任期的国家机关或公职人员手中的政权组织形式，共和制的政权组织形式在西方国家主要有议会共和制和总统共和制两种。前者，由在议会中占多数席位的政党组织政府，政府对议会负责；后者，由通过民选的总统组织政府，毋需对议会负责。社会主义国家则实行人民代表大会制度。

2 我国的人民代表大会制度

我国的政权组织形式是人民代表大会制度，它包括以下基本内容：①国家的一切权力属于人民；②人民在民主基础上选派代表，组成全国人民代表大会和地方各级人民代表大会，作为人民行使国家权力的机关；③国家行政机关、审判机关、检察机关由人民代表大会产生，对它负责，受它监督；④人民代表大会常务委员会对本级人民代表大会负责，人民代表大会对人民负责。

人民代表大会制度是符合中国国情的政治制度，人民代表大会制的适宜性和优越性表现在：①人民代表大会制度是中国人民在长期革命斗争中创造起来的，因而是适合中国国情的；②人民代表大会制度比较全面地体现我国人民民主专政的国家性质；③人民代表大会制度便于人民群众参加国家管理，从政治上组织上保障人民实现当家作主的权力；④人民代表大会制度实行民主集中制原则，既保证了国家权力的统一，又使各个国家机关更好地分工合作；既保证中央的统一领

《2011 年公务员考试行测考试 100 套华图真题》

导，又便于发挥地方的主动性和积极性。

二、国家结构形式

1 国家结构形式的概念和分类

国家结构形式是指国家按照一定的原则，在其领土范围内划分区域，调整国家整体与组成部分之间相互关系的制度。现代国家的结构形式主要有两大类：单一制和复合制。

单一制是指由若干普通地方或自治地方组成主权国家的结构形式。其基本特征：①国家整体与组成部分之间是中央与地方的关系；②各组成部分不可分离；③全国只有一部宪法；④公民只有一种国籍；⑤国家是唯一的国际法主体，享有完全独立的国家主权。

复合制是指由两个或两个以上的成员国联合组成联盟国家或国家联盟的结构形式。分为邦联和联邦两种形式。邦联是几个主权独立的国家基于共同目的结成的比较松散的国家联合体，如苏联解体后，俄罗斯等 11 个主权独立的国家成立的“独立国家联合体”。邦联不是完全意义上的国家，不是国家主体。联邦是由两个或两个以上的成员国(州、邦、共和国等)组成的复合制国家。联邦制的基本特征：①国家整体与组成部分之间的关系是联邦与各成员国的关系，联邦与各成员国不是中央与地方的关系，各成员国以下的政府才是地方政府；②联邦与各成员国的权力及相互联系多由宪法或法律规定并加以保障；③除联邦宪法外，各成员国还可以有自己的宪法；④除联邦国籍外，有的国家的各成员国公民可以有自己的国籍；⑤各成员国加入联邦后不再有完全独立的主权和外交权，但有的国家允许各成员国可以同外国签订某些协定，有的国家允许各成员国有选择加入或退出联邦的权利。

2 我国是统一的多民族国家

我国自古以来，就是统一的多民族国家。建立统一的多民族的社会主义国家，是我国各族人民长期共同斗争和生活的必然结果，对于维护国家的独立、统一和安全，进行社会主义现代化建设，发展社会主义民族关系，具有极为重要的意义。正是这样，我国采用单一制的社会主义国家结构形式，并在历次宪法中加以确定。

根据现行宪法的规定，全国分为省、自治区、直辖市；省、自治区分为自治州、县、自治县、市；县、自治县分为乡、民族乡、镇。直辖市和较大的市分为区、县。自治州分为县、市。国家在必要时设立特别行政区。

我国单一制的国家结构形式大致分为：①普通的地方制度：在各级地方按行政区划设立各级政权机关。各级地方国家行政机关、审判机关、检察机关都由本级人民代表大会产生，对它负责，受它监督；中央和地方国家机构职权的划分，遵循在中央的统一领导下，充分发挥地方的主动性、积极性的原则。②民族自治地方实行的民族区域自治制度：在国家统一领导下，各少数民族聚居的地方实行区域自治，设立自治机关。各民族自治地方的自治机关不仅行使宪法规定的地方国家机关的职权，同时依照宪法、民族区域自治法和其他法律规定的权限行使自治权。③特别行政区实行的高度自治制度：根据“一国两制”的构想，特别行政区是我国的一级地方行政区域，直辖于中央人民政府；在特别行政区不实行社会主义制度和政策，保持原有的资本主义制度和生活方式，50 年不变；特别行政区实行高度自治，享有行政管理权、立法权、独立的司法权和终审权以及自行处理有关对外事务的权力，但是：①中央人民政府负责管理特别行政区的外交、防务；任命特别行政区行政长官和行政机关的主要官员；②全国人民代表大会常务委员会如认为特别行政区立法机关制定的任何法律不符合基本法的有关条款，可

《2011 年公务员考试行测考试 100 套华图真题》

将有关法律发回；有权决定特别行政区进入紧急状态；并对基本法有解释权；③全国人民代表大会对基本法享有修改权。

第五节公民的基本权利和义务

一、概述

1 公民的概念

公民是指具有一国国籍的人。我国宪法规定，凡具有中华人民共和国国籍的人都是中华人民共和国公民。

2 公民基本权利和义务的概念

公民基本权利是指公民按照宪法和法律的规定，可作或不作某行为，也可要求国家和其他公民作或不作某种行为。公民基本义务是指宪法和法律规定的公民必须履行的某种责任。

3 尊重和保障人权

2004 年宪法修正案在宪法第二章“公民的基本权利和义务”头一条即第 33 条中增加一款，作为第 3 款：“国家尊重和保障人权。”

二、我国公民的基本权利和义务

1 我国公民的基本权利

(1) 公民在法律面前一律平等。

(2) 政治权利和自由：①选举权和被选举权，年满 18 周岁的中华人民共和国公民，都有选举权和被选举权；但依法被剥夺政治权利的人除外；②言论、出版、集会、结社、游行、示威的自由。

(3) 宗教信仰自由。

(4) 人身自由，包括：①人身自由不受侵犯；②人格尊严不受侵犯；③住宅不受侵犯；④通信自由和通信秘密受法律保护。

(5) 批评、建议、申诉、控告、检举和取得赔偿权。

(6) 社会、经济、文化、教育权利：①劳动权；②休息权；③退休人员生活受保障权；④公民在年老、疾病或丧失劳动能力情况下获得物质帮助的权利；⑤受教育权；⑥进行科学研究、文学艺术创作和其他文化活动的自由。其中，劳动和受教育既是公民权利又是公民义务。

(7) 特定人的权利：①实行男女平等，保护妇女的权利和利益；②保护婚姻、家庭、母亲、儿童和老人；③保障残废军人、烈军属的权利；④照顾残疾公民；⑤保护华侨的正当权利和利益，保护归侨和侨眷的合法权利和利益。

2 我国公民的基本义务

(1) 维护国家统一和各民族团结。

(2) 遵守宪法和法律，保守国家秘密，爱护公共财产，遵守劳动纪律，遵守公共秩序，尊重社会公德。

(3) 维护祖国的安全、荣誉和利益。

(4) 保卫祖国、抵抗侵略，依法服兵役和参加民兵组织。

(5) 依法纳税。

(6) 其他义务：①夫妻双方实行计划生育；②父母抚养教育未成年子女；③成年子女赡养扶助父母。

3 我国公民行使自由和权利的指导原则

依照宪法规定，我国公民在行使自由和权利的时候，不得损害国家的、社会的、集体的利益和其他公民的合法的自由和权利。

《2011 年公务员考试行测考试 100 套华图真题》

第六节 国家机构

一、全国人民代表大会及其常务委员会

1 全国人民代表大会

(1) 全国人民代表大会的性质、地位、组成和任期：全国人民代表大会是最高国家权力机关，又是行使国家立法权的机关。全国人民代表大会的性质决定了它在整个国家机构体系中居于最高地位。全国人民代表大会由省、自治区、直辖市和军队选出的代表组成，各少数民族都应当有适当名额的代表。全国人民代表大会每届任期 5 年。如遇非常情况不能进行下届选举，由全国人民代表大会常务委员会以全体组成人员的 $2/3$ 以上的多数通过，可以推迟选举，延长本届任期，但在非常情况结束后 1 年内，必须完成下届全国人民代表大会代表的选举。

2004 年宪法修正案在宪法第 59 条第 1 款关于全国人民代表大会组成的规定中增加“特别行政区”，将这一款修改为：“全国人民代表大会由省、自治区、直辖市、特别行政区和军队选出的代表组成。各少数民族都应当有适当名额的代表。”

(2) 全国人民代表大会的主要职权：全国人民代表大会行使修改宪法，监督宪法的实施，制定和修改基本法律，组织其他中央国家机关，决定重大国家事项，罢免其他中央国家机关组成人员等职权。

2 全国人民代表大会常务委员会

(1) 全国人民代表大会常务委员会的性质、地位、组成和任期：全国人民代表大会常务委员会是全国人民代表大会的常设机关，是全国人民代表大会闭会期间经常行使国家权力的机关，又是行使国家立法权的机关。全国人民代表大会常务委员会对全国人民代表大会负责并报告工作。全国人民代表大会常务委员会由委员长、副委员长若干人、秘书长、委员若干人组成，并应当有适当名额的少数民族代表。这些组成人员不得担任国家行政机关、审判机关和检察机关的职务。全国人民代表大会常务委员会每届任期同全国人民代表大会每届任期相同。全国人民代表大会常务委员会委员长、副委员长连续任职不得超过两届。

(2) 全国人民代表大会常务委员会的主要职权：全国人民代表大会常务委员会行使解释宪法和法律，监督宪法实施，制定和修改基本法律以外的其他法律，任免国家机关领导人员，决定重大国家事项，审查行政法规和地方性法规的合宪、合法性，对国务院、中央军事委员会、最高人民法院和最高人民检察院的工作进行监督以及全国人民代表大会授予的其他职权。

2004 年宪法修正案将宪法第 67 条规定的全国人大常委会职权第二十项“决定全国或者个别省、自治区、直辖市的戒严”修改为“决定全国或者个别省、自治区、直辖市进入紧急状态”，并相应地将宪法第 80 条规定的中华人民共和国主席根据全国人大常委会的决定“发布戒严令”修改为“宣布进入紧急状态”；将宪法第 89 条规定的国务院职权第十六项“决定省、自治区、直辖市的范围内部分地区的戒严”修改为“依照法律规定决定省、自治区、直辖市的范围内部分地区进入紧急状态”。

二、中华人民共和国主席

1 国家主席的性质、地位、产生和任期

国家主席是我国国家机构的重要组成部分，是一个相对独立的国家机关。中华人民共和国主席对外代表国家。中华人民共和国主席、副主席由全国人民代表大会选举。有选举权和被选举权的年满 45 周岁的中华人民共和国公民可以被选为中华人民共和国主席、副主席。中华人民共和国主席、副主席每届任期同全国

《2011 年公务员考试行测考试 100 套华图真题》

人民代表大会每届任期相同，连续任职不得超过两届。

2 国家主席的职权

根据宪法的规定，我国国家主席的职权主要有：根据全国人民代表大会及其常务委员会的决定，公布法律，任免国务院总理、副总理、国务委员、各部部长、各委员会主任、审计长、秘书长，授予国家的勋章和荣誉称号，发布特赦令、戒严令，宣布战争状态，发布动员令；代表中华人民共和国，进行国事活动，接受外国使节；根据全国人民代表大会常务委员会的决定，派遣和召回驻外全权代表，批准和废除同外国缔结的条约和重要协定。

2004 年宪法修正案将宪法第 81 条中“中华人民共和国主席代表中华人民共和国，接受外国使节”修改为“中华人民共和国主席代表中华人民共和国，进行国事活动，接受外国使节”。

三、国务院

1 性质、地位、组成和任期

中华人民共和国国务院，即中央人民政府，是最高国家权力机关的执行机关，是最高国家行政机关。国务院由全国人民代表大会产生，对全国人民代表大会及其常务委员会负责并报告工作。

国务院由总理、副总理若干人、国务委员若干人、各部部长、各委员会主任、审计长、秘书长组成。国务院每届任期同全国人民代表大会每届任期相同。总理、副总理、国务委员连续任职不得超过两届。

2 国务院的职权和领导体制

根据宪法的规定，国务院职权主要有：①根据宪法和法律，规定行政措施，制定行政法规，发布决定、命令；②提出议案；③组织领导全国性行政工作；④领导和管理各部门、各行业的行政工作；⑤保护正当和合法权益；⑥监督有关行政机关的工作；⑦全国人民代表大会及其常务委员会授予的其他职权。

国务院实行总理负责制，总理领导国务院的工作，副总理、国务委员协助总理工作。总理、副总理、国务委员和秘书长组成国务院常务会议。国务院全体会议由国务院全体成员组成。国务院工作中的重大问题，必须以国务院常务会议或者国务院全体会议讨论决定。

四、中央军事委员会

中华人民共和国中央军事委员会领导全国武装力量，是全国武装力量的最高领导机关。中央军事委员会由主席、副主席若干人、委员若干人组成。中央军事委员会实行主席负责制，中央军事委员会主席对全国人民代表大会及其常务委员会负责。中央军事委员会每届任期同全国人民代表大会每届任期相同。

五、地方各级人民代表大会和地方各级人民政府

1 地方各级人民代表大会

(1) 地方各级人民代表大会性质、地位、组成和任期：地方各级人民代表大会是地方国家权力机关。本级的地方国家行政机关、审判机关和检察机关都由地方国家权力机关产生，在本行政区域内对它负责并报告工作，受它监督。省、自治区、直辖市、自治州、设区的市的人民代表大会由下一级人民代表大会选举的代表组成。县、不设区的市、市辖区、乡、民族乡、镇的人民代表大会由选民直接选举的代表组成。

关于地方各级人民代表大会的任期，2004 年宪法修正案将宪法第 98 条“省、直辖市、县、市、市辖区的人民代表大会每届任期 5 年。乡、民族乡、镇的人民代表大会每届任期 3 年。”修改为：“地方各级人民代表大会每届任期 5

《2011年公务员考试行测考试 100 套华图真题》

年。”

(2) 地方各级人民代表大会的主要职权：在本行政区域内，保证宪法、法律、行政法规和上级决议的遵守和执行；选举和罢免本级地方国家机关组成人员和领导人员；决定重大的地方性国家事务；监督其他地方国家机关的工作；保护各种权利。此外，省、自治区、直辖市的人民代表大会，省、自治区人民政府所在地的市和经国务院批准的较大的市的人民代表大会，在不同宪法、法律、行政法规和本省、自治区的地方性法规相抵触的前提下，可以制定地方性法规。

2 县级以上的地方各级人民代表大会常务委员会

(1) 县级以上的地方各级人民代表大会常务委员会的性质、地位、组成和任期：县级以上的地方各级人民代表大会设立常务委员会。县级以上的地方各级人民代表大会常务委员会是本级人民代表大会的常设机关，是在本级人民代表大会闭会期间经常行使地方国家权力的机关，对本级人民代表大会负责并报告工作。省、自治区、直辖市、自治州、设区的市的人民代表大会常务委员会，由本级人民代表大会在代表中选举主任、副主任若干人、秘书长和委员若干人组成；县、不设区的市、市辖区的人民代表大会常务委员会由本级人民代表大会在代表中选举主任、副主任若干人和委员若干人组成。常务委员会组成人员不得担任国家行政机关、审判机关和检察机关的职务。常务委员会每届任期同本级人民代表大会每届任期相同。

(2) 县级以上的地方各级人民代表大会常务委员会的主要职权：在本行政区域内，保证宪法、法律、行政法规和上级决议的遵守和执行；主持选举和召集会议；决定本级地方国家机关组成人员或领导人员的任免或职务撤销；决定重大的地方性国家事务；监督其他地方国家机关的工作。此外，省、自治区、直辖市的人民代表大会常务委员会，省、自治区人民政府所在地的市和经国务院批准的较大的市的人民代表大会常务委员会，在不同宪法、法律、行政法规和本省、自治区的地方性法规相抵触的前提下，可以制定地方性法规。

3 地方各级人民政府

(1) 地方各级人民政府的性质、地位、组成和任期：地方各级人民政府是地方各级国家权力机关的执行机关，是地方各级国家行政机关。地方各级人民政府由同级国家权力机关产生，对它负责并报告工作，受它监督。同时，地方各级人民政府还要对上一级国家行政机关负责并报告工作，并服从国务院统一领导。各省、自治区、直辖市、自治州、设区的市的人民政府分别由省长、副省长，自治区主席、副主席，市长、副市长，州长、副州长和秘书长、厅长、局长、委员会主任等组成；县、自治县、不设区的市、市辖区的人民政府分别由县长、副县长，市长、副市长，区长、副区长和局长、科长等组成；乡、民族乡的人民政府设乡长、副乡长，镇人民政府设镇长、副镇长。地方各级人民政府每届任期同本级人民代表大会每届任期相同。

(2) 地方各级人民政府的职权和领导体制

地方各级人民政府的主要职权：执行本级地方国家权力机关的决议和上级国家行政机关的决定和命令；领导和管理本行政区域的经济、教育、科学、文化、卫生、体育事业、环境和资源保护、城乡建设事业和财政、民政、民族事务、司法行政、监察、计划生育等行政工作；保护各种合法权利。县级以上地方各级人民政府还有权发布决定和命令，规定行政措施，领导所属各工作部门和下级人民政府的工作，并有权改变或撤销所属各工作部门的不适当的命令、指示和下级人民政府不适当的决定和命令等。此外，省、自治区、直辖市的人民政府和省、自

《2011年公务员考试行测考试100套华图真题》

治区人民政府所在地的市和经国务院批准的较大的市的人民政府，还可以制定地方政府规章。

地方各级人民政府的领导体制：地方各级人民政府分别实行省长、自治区主席、市长、州长、县长、区长、乡长、镇长负责制。县级以上地方各级人民政府组成人员组成地方各级人民政府全体会议，常务会议则由县级以上的地方各级人民政府首长及其副职参加。省、自治区、直辖市、自治州和设区的市的人民政府的常务会议还有秘书长参加。政府工作中的重大问题，须经政府常务会议或全体会议讨论决定。

4 居民委员会和村民委员会

城市和农村按居民居住地设立的居民委员会或村民委员会是基层群众性自治组织。居民委员会和村民委员会不属于国家机关，但与基层政权有密切关系：基层政权对居民委员会或村民委员会的工作给予指导、支持和帮助；居民委员会或村民委员会协助基层政权开展工作。居民委员会、村民委员会的主任、副主任和委员由居民或村民选举。居民委员会、村民委员会根据需要设人民调解、治安保卫、公共卫生等委员会，办理本居住地区的公共事务和公益事业，调解民间纠纷，协助维护社会治安，并且向人民政府反映群众的意见、要求和提出建议以及办理法律规定的其他事项。居民委员会或村民委员会向居民会议或村民会议负责并报告工作。

六、民族自治地方的自治机关

我国的民族自治地方有自治区、自治州、自治县。民族自治地方的自治机关是自治区、自治州、自治县的人民代表大会和人民政府。民族自治地方的人民代表大会常务委员会中应当有实行区域自治的民族的公民担任主任或副主任；自治区主席、自治州州长、自治县县长由实行区域自治的民族的公民担任。

民族自治地方的自治机关行使宪法规定的地方国家机关的职权，同时依照宪法、民族区域自治法和其他法律规定的权限行使自治权：①根据本地方的实际情况贯彻执行国家的法律、政策，上级国家机关的决议、决定、命令和指示，如有不适合民族自治地方实际情况的，自治机关可以报经该上级国家机关批准，变通执行或停止执行；②制定自治条例和单行条例；③自主地管理地方财政；④自主地安排和管理地方经济建设事业；⑤自主地管理本地方的教育、科学、文化、卫生、体育事业；⑥组织本地方维护社会治安的公安部队；⑦使用和发展当地通用的一种或几种语言文字；⑧培养干部、专业人才和技术工人。

七、人民法院和人民检察院

1 人民法院的性质和地位

人民法院是国家的审判机关。各级人民法院由同级国家权力机关产生，对它负责并报告工作，受它监督。

2 人民法院的组织

我国设立最高人民法院、地方各级人民法院和军事法院等专门人民法院。地方各级人民法院包括基层人民法院、中级人民法院和高级人民法院。专门人民法院主要是指军事法院。

最高人民法院是最高国家审判机关，监督地方各级人民法院和专门人民法院的审判工作，上级人民法院监督下级人民法院的工作。

3 人民法院的审判工作原则

- (1) 人民法院独立行使审判权，不受行政机关、社会团体和个人的干涉；
- (2) 在适用法律上一律平等；

《2011 年公务员考试行测考试 100 套华图真题》

- (3) 公开审判;
- (4) 有权获得辩护;
- (5) 使用本民族语言文字进行诉讼。

4 人民检察院的性质和地位

人民检察院是国家的法律监督机关,依照法律规定独立行使检察权,不受行政机关、社会团体和个人的干涉。

5 人民检察院的组织和领导体制

我国设立最高人民检察院、地方各级人民检察院和军事检察院等专门人民检察院。地方各级人民检察院包括:①省、自治区、直辖市人民检察院;②省、自治区、直辖市人民检察院分院,自治州和省辖市人民检察院;③县、市、自治县和市辖区人民检察院。专门人民检察院主要是指军事检察院。

最高人民检察院是最高检察机关。最高人民检察院领导地方各级人民检察院和专门人民检察院的工作,上级人民检察院领导下级人民检察院的工作。最高人民检察院对全国人民代表大会及其常务委员会负责,地方各级人民检察院对产生它的国家权力机关和上级人民检察院负责并报告工作。

6 人民法院、人民检察院和公安机关的关系

人民法院、人民检察院和公安机关办理刑事案件,应当分工负责,互相配合,互相制约,以保证准确有效地执行法律。

(责任编辑:刘建伟)

山东省 04 年公务员录用考试行测真题与答案

2007 年 03 月 30 日 17:19 [我来说两句(6)] [字号: 大 中 小]

说 明

这项测验共有五个部分,100 道题,总时限为 90 分钟。各部分不分别计时,但都给出了参考时限,供你参考以分配时间。

这项测验科目代码为“2”。请在答题卡上严格按照要求填写自己的姓名,涂写准考证号、科目代码。

请仔细阅读下面的注意事项,这对你获得成功非常重要:

1. 题目应在答题卡上作答,不要在题本上作任何记

号。

2. 监考人员宣布考试开始时,你才可以开始答题。

3. 监考人员宣布考试结束时,你应立即放下铅笔,将试题本、答题卡和草稿纸都留在桌上,然后离开。

如果你违反了以上任何一项要求,都将影响你的成绩。

4. 在这项测验中,可能有一些试题较难,因此你不要在一道题上思考时间太久,遇到不会答的题目,可先跳过去,如果有时间再去思考。否则,你可能没有时间完成后面的题目。

5. 试题答错不倒扣分

6. 特别提醒你注意,涂写答案时一定要认准题号。严禁折叠答题卡!

停!请不要往下翻!听候监考老师的指示。

否则,会影响你的成绩。

第一部分 数量关系

《2011 年公务员考试行测考试 100 套华图真题》

(共 15 题, 参考时限 15 分钟)

本部分包括一种类型的试题。

数学运算, 完成 1-15 题。你可以在草稿纸上运算, 遇到难题, 你可以跳过不做, 待你有时间再返回来做。

1. $96 \div 42 = ()$

A. 5 B. 7 C. 8 D. 6

2. $782 + 222 + 2 \times 78 \times 22$ 的值是 $()$

A. 10000 B. 1000 C. 1500 D. 20000

3. $(313 - 312 - 31) \div 31$ 的值是 $()$

A. 929 B. 939 C. 919 D. 829

4. 出租车在开始 10 千米以内收费 10.4 元, 以后每走 1 千米, 收费 1.6 元, 请问走 20 千米需收多少钱? $()$

A. 20.8 B. 26 C. 26.4 D. 20

5. 水结冰后, 体积比原来增加 $1/11$, 1.1 升水结冰后的体积是多少升? $()$

A. 1.2 B. 1.21 C. 1.1 D. 1.0

6. 2 小时 25 分合多少秒? $()$

A. 8750 B. 9650 C. 8700 D. 9700

7. 一单位运来 34 吨煤, 烧了 18 吨, 烧了的比剩下的多几分之几? $()$

A. $1/8$ B. $1/9$ C. $1/6$ D. $1/10$

8. 李华每周储蓄 35 元, 如果他现在已有 100 元存款, 那么需多少天他能买上一台价值 240 元的割草机? $()$

A. 4 B. 6 C. 28 D. 21

9. 一间会议室, 长 8.5 米, 宽 6 米, 用长 20 厘米, 宽 10 厘米的长方形砖铺地, 要用多少块? $()$

A. 2550 B. 2500 C. 2450 D. 2650

10. 用同样长的铁丝围成三角形、圆形、正方形、菱形、其中面积最大的是 $()$

A. 正方形 B. 菱形 C. 三角形 D. 圆形

11. 一猫每天吃由食品 A 和食品 B 搅拌成的食物 300 克, 食品 A 的蛋白质含量为 10%, 食品 B 的蛋白质含量为 15%. 如果该猫每天需要 38 克蛋白质, 问食物中食品 A 的比重是百分之几? $()$

A. $7/15$ B. 40% C. $1/3$ D. 50%

12. 某次测验有 50 道判断题, 每做对一题得 3 分, 不做或做错一题倒扣 1 分, 某学生共得 82 分, 问答对题数和答错题数相差多少? $()$

A. 33 B. 99 C. 17 D. 16

13. 某单位有青年员工 85 人, 其中 68 人会骑自行车, 62 人会游泳, 既不会骑车又不会游泳的有 12 人, 则既会骑车又会游泳的有 $()$ 人

A. 57 B. 73 C. 130 D. 69

14. 某班 50 名学生, 在第一次测验中 26 人满分, 在第二次测验中 21 人满分, 如果两次测验中都没得到满分的学生有 17 人, 那么两次测验中都获得满分的人数是 $()$

A. 14 B. 12 C. 17 D. 20

15. 一件工程, 甲单独完成需 2 天, 乙单独完成需要 4 天, 如果甲干完一天后, 剩下的工程由乙单独完成, 则干完此项工程共需多少天? $()$

《2011 年公务员考试行测考试 100 套华图真题》

A. 3 天 B. 4 天 C. 15 天 D. 6 天

第一部分结束, 请继续做第二部分!

第二部分 言语理解与表达

(共 20 题, 参考时限 20 分钟)

本部分包括二种类型的试题

每道题包含一段短文, 短文后面是一个不完整的陈述, 要求你从四个选项中选出一项来完成这一陈述。

一、 阅读片断, 完成 16-25 题。

16. 随着生产的发展, 人们的分工越来越细, 科学与文学逐渐分开, 形成了“科学界”、“文学界”。如今, 分工更细了, 研究科学的人, 一辈子只限于某一学科、某一专业, 以至某一专题。这样, “隔行如隔山”, 常使人的视听囿于很小的天地, 成为分工的奴隶。这段话直接支持了这样一种观点, 即 ()

- A. 生产的发展, 导致“科学”和“文学”的分开
- B. 文与理密不可分, 学文的应该懂点“理”, 学理的应该懂点“文”
- C. 文理分科是必要的, 但各自不应画地为牢, 研究者应该文理兼通
- D. 要同等地对待文科和理科, 既不能重文轻理, 也不应重理轻文

17. 信息仿生学研究的是生物体中信息接收、存储、加工和利用。人的大脑是目前世界上最完美、最小巧的“信息处理机”, 深入研究大脑思维与记忆的生理过程及其算法, 研究神经细胞的工作机理, 我们就将有可能用大脑的工作原理和模拟元件去制造性能优异的仿生计算机和自动控制装置。对这段话最准确的复述是 ()

- A. 信息仿生学研究人的大脑思维与记忆的生理过程及算法和神经细胞的工作原理
- B. 信息仿生学研究人与动物的感觉器官接收信息和信息的预加工系统。
- C. 信息仿生学研究大脑的工作原理和模拟元件制造性能优异的仿生计算机和自动控装置
- D. 信息仿生学研究大脑及人和动物的感觉器官和接收、存储、加工和利用信息的原理去制造仿生装置, 如各种机械、仪器等。

18. 当年中国工农红军赢得两万五千里长征的胜利, 震惊世界, “震惊”不是歼敌之多, 而主要是红军过雪山草地时那种在极度寒冷、饥饿、疲惫、缺氧和污浊的条件下的生存能力。许多国家都在缺路、缺水、缺食、缺火、缺光、缺氧等极度艰苦的条件下, 训练官兵的生存能力。这段话直接支持了这样一种观点, 即 ()

- A. 吃苦能造就强人, 能吃苦是强者的一种特征。
- B. 苦中凝聚着人类顽强的生存能力
- C. 不要把吃苦当作低能者的无奈生活
- D. 培养孩子和年轻一代人的吃苦精神, 实在是关系国家发展与竞争的大计

19. 不论人们在主观上承认与否, 在客观的效果上, 教育的努力最终在处于未来背景下的某一特定的社会阶段中表现出来, 也就是, 教育总是要表现出一种为未来社会服务的职能。这段话中划线处应填上的最恰当的短语是 ()

- A. 有必要也应当
- B. 总能而且只可能
- C. 需要而且必然
- D. 有可能也一定会

《2011 年公务员考试行测考试 100 套华图真题》

20. 人大代表在选举的基础上产生。根据选举法规定, 中华人民共和国年满十八周岁的公民, 不分民族、种族、性别、职业、家庭出身、宗教信仰、教育程度、财产状况和居住期限, 都有选举权和被选举权; 但是依照法律被剥夺政治权利的人没有选举权和被选举权。这段话可以理解为 ()

- A. 人大代表的产生方式是选举
- B. 选举法规定年满十八周岁的中华人民共和国公民享有选举权
- C. 选举权的行使不受任何非法限制和剥夺
- D. 选举权的行使受到政治法律等方面限制。

21. 不发达国家粮食仍要靠进口, 在自然灾害面前无能为力。农牧业、矿业是主要经济部门, 劳动人口主要在这类部门工作。文化教育水平和人们的生活水平都很低。这段话主要支持了这样一种观点, 即不发达国家 ()

- A. 在自然灾害面前无能为力
- B. 只有农牧业和矿业两个经济部门
- C. 人们生活水平很低, 文盲很多
- D. 处于极端落后的农业国或农牧业阶段

22. 有一对夫妻, 他们有一个儿子, 一天, 来了一个陌生人, 他说他认识这对夫妻, 还说他认识这对夫妻的儿子。最能准确的概括句意的是 ()

- A. 新来的人认识这对夫妻和他们的儿子
- B. 新来的陌生人认识这对夫妻和他们的儿子
- C. 新来的陌生人认识这对夫妻和他的儿子
- D. 新来的陌生人自称认识这对夫妻和他们的儿子

23. 社会保险是通过国家立法在全体国民或部分国民中强制实行的, 而商业保险主要依靠商业原则来经营, 是一种契约关系。这段话主要支持这样一种观点 ()

- A. 社会保险和商业保险不宜交叉经办
- B. 社会保险和商业保险可以交叉经办
- C. 统一社会保障的管理机构和政策比较好
- D. 应加强社会保险和商业保险中的法制化

24. 有几个慈祥的老板到菜场去收集一些菜叶, 用盐一浸, 这就是他们惟一的佳肴。这句话中是对老板赞扬还是揭露? ()

- A. 揭露 B. 赞扬 C. 歌颂 D. 无所谓褒贬

25. 笔迹检验就是研究如何通过文字符号的书写动作习惯特点, 文字布局习惯特点, 书面语言习惯特点, 来认定书写人的一项物证检验专门技术方法。这段话主要支持了这样一种论点, 即笔迹检验 ()

- A. 内容很广泛
- B. 是一项物证检验专门技术方法
- C. 操作方法
- D. 研究方向

二、 阅读下面两篇短文, 完成 26-35 题

近几年, 通信技术网络的超高速化, 已成为世界上的发展潮流。空间技术与计算机融合成跨越时间与空间的信息基础结构, 它将逐渐深入千家万户, 从根本上改变人们的生产、生活和相互交往的方式, 加速人类文明和文化的传播, 增进相互理解和全球意识。

空间信息的高速公路, 这一名词是借鉴信息高速公路概念, 也是信息高速公

《2011 年公务员考试行测考试 100 套华图真题》

路的拓宽与延伸。所谓空间信息高速公路，我们可以形象地将它理解为以卫星、光纤再辅之以其他通信手段作为“公路”，而以集电脑、电话、传真等为一体的多媒体作为“汽车”，使信息高速传递并能共享的通信网络。这种网络遍布全国乃全球。在我国则将它称之为国家经济信息化基础设施，其内涵包括 4 项要素：网络与通信、计算机与信息化设备、信息资源与服务、人与信息化环境。

卫星通信和数字网络光缆就像高速公路一样，是促进社会经济发展的基础设施。它不仅包括地面光缆数字通信网络系统，而且还包括通信卫星、卫星定位系统和环境、灾害监测技术系统。此外，还有不断更新的社会、经济统计数据库和自然资源数据系列，以及宏观调控、规则决策和工程设计服务及知识库，逻辑推理机等人工专家系统，这样，才能有效地实现以信息交流代替人流、物流与能量流。

加速发展空间技术，多方面、高效率利用空间技术，特别是充分利用空间信息资源，促进社会生产力的发展，已成为当今世界的共识。通信卫星具有通信容量（ ）、可靠性（ ）、传输距离（ ）、不受地理环境影响等许多优点，所以备受各国的重视可欢迎。在空间信息高速公路中，卫星无线电频率宽，极容易实现双向高速率的数据和可视电信业务。并适用于单相多路的电视节目以及新闻报道，对大多数用户都有实用价值。对发展中国家来说，空间信息高速公路的建设，可弥补通信基础设施差与区域性通信空缺之不足。例如，地面信息高速公路的成本昂贵，需要 10-15 年甚至更长时间才能建成，是一个无法在短期内普及服务的巨额投资项目，而卫星接收设备费用大约只需 200 美元，其技术是现成的，是一个在短期内能普及并能满足绝大多数用户需求的业务项目。

26. 在文中括号内填上恰当的词语是（ ）

- A. 大，高，远 B. 多，高，近
- C. 大，强，小 D. 小，低，远

27. 第一段“它将逐步深入千家万户”与第三段“它不仅包括地面光缆数字通信网络系统”两句中的“它”，各指的是（ ）

- A. 都是指空间信息高速公路
- B. 都是指卫星通信和数字网络光缆
- C. 前一个“它”指空间信息高速公路，后一个“它”指卫星通信和数字网络光缆
- D. 前一个“它”指空间技术与计算机融合成跨越时间与空间的信息基础结构，后一个“它”指空间信息高速公路。

28. 什么是“空间信息高速公路”？选出下列理解不正确的一项是（ ）

- A. 是空间技术与计算机融合成跨越时间与空间的信息基础结构
- B. 是以卫星、光纤再辅之以其他通信手段作为“公路”，以集电脑、电话、传真等作为“汽车”的一种高速传递信息的通信网络。
- C. 需要 10-15 年甚至更长时间才能建成，是一个无法在短期内普及服务的巨额投资项目
- D. 是一种能使全球的信息起高速传递并能使入网各国共享其利的通信网络

29. 选出对“卫星通信和数字网络光缆”理解不正确的一项是（ ）

- A. 它是地面光缆数字通信网络系统
- B. 它能以信息交流代替人流、物流和能量流，从而使后者变得无意义
- C. 它包含各种各样数据库系列和知识库系列
- D. 它具有通信卫星、卫星定位系统和环境、灾害监测技术系统

《2011年公务员考试行测考试 100 套华图真题》

30. 最适合本文标题的一项是 ()

- A. 通信技术网络怎样超高速化
- B. 空间信息高速公路
- C. 卫星通信和数字网络光缆
- D. 卫星通信和数字网络光缆的超高速化

(一) 诚实作为一种优良品质,在道德上历来是备受推崇的。但道德评价与历史评价常常相互背离,当道德对诚实给予高度肯定的时候,它从政治或经济方面得到的回应有时恰好是否定的。伽利略捍卫、宣传“日心说”,塞尔维特提出“血液循环说”,都是诚实的表现,他们也因为这种深刻的诚实而为当代和后世所景仰,但他们的诚实却动摇了上帝的地位从而得罪了教会,因此在受人尊崇的同时,不是被烧死就是被禁闭。对诚实的否定固然令人遗憾,但尚可从精神上、道德上的肯定中得到弥补;诚实的人面对诚实给他带来的困境时,他可以从中引发出一种做人的高贵感、豪迈感、庄严感,也可以自足、自愿、自我平衡。

(二) 社会发展到今天这个地步,对诚实的物质否定要文明得多、温和得多了,人们已不必再担心因为说真话而衣食无着、走投无路。但诚实的人们却发现:当诚实政治上已大体不成问题的时候,在道德上却或多或少地失去了庇护,金钱至上的观念正在大面积地蚕食着人们的灵魂,金钱标准居然已成了不少人衡量一个人社会地位和公众形象的重要标准,大把的票子不仅可以将一个人塑造成能干人,而且会将他包装成高尚人。至于他的金钱来历如何,一概无须过问。人们只看目的和结果,而不在乎原因和手段。这种实用主义的处世观、做人观,大大扩展了社会道德的包容性。其重要表现就是现在的社会对吹牛、说谎等不诚实行为的宽容。相形之下,诚实的人们为了保持自己的诚实所做的种种努力,就显得软弱无力,可怜无助了。而对两种品格的大拼杀,“道德”不仅没有给挣扎中的诚实者助一臂之力,甚至将他们嘲弄一番:它不是让不诚实者为他们的不诚实而内疚自责,却是让诚实者为他们竟然不能放弃自己的诚实而自惭形秽。

(三) 市场经济的发展解放了人们曾经备受压抑的自然本性,而市场经济本身却没有也来不及为人们自然本性的弘扬勾划一个界限,于是我们看到了这样一种现象,诚实的堤坎以日甚一日的速度被一段一段地冲决了。比如笔者有一个当教师的朋友,填写副教授申报表的“外语水平”栏时,不按照统一口径填写“熟练阅读”,却据实写了“略知一二”,但“略知一二”却不符合副教授的任职条件,所以他很轻松地就被淘汰,直到次年填了“熟练阅读”,才获取了副教授的头衔。相对于大多数教授们的外语水平来讲,“略知一二”,本来还是他的优势,但能否评上副教授,主要并不在于你的外语程度怎么样,而在于你怎么说。至于那些经验材料、报告之类的公文里有多少水分,人们早已不想去辨别。

(四) 现在,物质产品生产领域和精神产品领域的“打假”活动声势正旺。但我总怀疑这类活动能否取和什么大的成效。产品假不过是心灵假的一种外化和物化形态,心中缺少了诚实,假冒伪劣产品能少得了吗?

31. 第(一)段阐述的中心论点是 ()

- A. 诚实作为一种优良品格,在道德上历来备受推崇
- B. 诚实的道德评价与历史评价常常相互背离
- C. 当道德对诚实给予肯定时,从政治或经济得到的回应有时恰好是否定的
- D. 对诚实的否定可以从精神上、道德上的肯定中得到弥补

32. 第(二)段支持的观点是 ()

- A. 当今社会,对诚实的物质否定要文明得多,温和得多

《2011 年公务员考试行测考试 100 套华图真题》

- B. 当今社会，诚实在政治上大体不成问题时，在道德上却或多或少失去庇护
C. 金钱至上的观点正大面积蚕食人们的灵魂，金钱已成为衡量人的重要标准
D. 实用主义的处世观扩展了社会道德的包容性，对不诚实行为表现宽容。

33. 第(三)段作者列举某教师填写申报表的事例，本文中是为了说明什么？
下面准确复述的一项是()

- A. 社会对不诚实的行为表现了宽容
B. 人们保持自己的诚实软弱无力，可怜无助，最终受到嘲弄
C. 市场经济未能为诚实的张扬划定一个界限
D. 现实无情地将这位教师的诚实的堤坎冲决了

34. 第(四)段，作者支持的观点是()

- A. 精神产品假导致物质产品假
B. 物质产品假导致精神产品假
C. 物质产品假与精神产品假无关
D. 精神产品假可以使物质产品不假

35. 对“这种实用主义的处世观、做人观、大大扩展了社会道德的包容性”的实质的阐释，准确复述的一项是()

- A. 社会道德的标准被扭曲了，衡量一个人只看金钱和包装，不看原因和手段
B. 社会道德的观念改变了，衡量一个人可以只看目的和结果，不看原因和手段
C. 社会对吹牛、说谎等不诚实行为表现宽容
D. 社会道德对诚实的人的自持和挣扎，不仅不助一臂之力，反而予以嘲弄。

第二部分结束，请继续做第三部分！

第三部分 判断推理

(共 30 题，参考时限 30 分钟)

本部分包括三种类型的试题

一、图形推理，完成 36-43 题。每道题包含两套图形和可供选择的 4 个图天。这两套图形具有某种相似性，也存在某种差异。要求你从四个选项中选择你认为最适合取代问号的一个。正确的答案不仅使两套图形表现出最大的相似性，而且使第二套图形也表现出自己的特征。

36. 37. 38 39. 40. 41. 42. 43. (空缺)

二、逻辑推理，完成 44-55 题。每道题给出一段陈述，这段陈述被假设是正确的，不容置疑的。要求你根据这段陈述，选出一个答案。注意，正确的答案应与所给的陈述相符合，不需要任何附加说明即可以从陈述中趋势推出。

44. “勿以善小而不为，勿以恶小而为之。”这是一句千年古训，下面对它的理解的是()

- A. 只有很小的善事才是值得做的
B. 事物的发展是一个从量变到质变的过程，大善大恶都是从很小的事情发展而来的
C. 做事应敢于面对挑战，做恶就一定要作大恶，容易的事情不值得做
D. 应当“为小善，为大恶。”

45. 在资本主义发展的初期，强调管得最少的政府，政府充当一个守夜人的角色；到垄断资本主义时期，资本主义走向国际竞争，加强了国家对经济的控制，凯恩斯主义盛行；到现在，国家则主要对经济进行宏观上的调控。可见()

《2011 年公务员考试行测考试 100 套华图真题》

A. 国家对经济实行怎样的控制是由当时经济发展的需要来确定的,是随时在调整的

B. 国家实行什么样的经济政策是任意的

C. 早期资本主义国家无力控制经济

D. 社会主义制度优于资本主义

46. 小李有一次坐轮船,忽然发现自己的包不见了,望远处一看,一个人正提着自己的包在走,追上以后,那人客气地向他道歉说拿错了,然后继续往前走,这时一个民警冲过来扭住那人说他是小偷。那么 ()

A. 那人不是小偷,因为他把包还了小李

B. 那人不是小偷,因为他拿错了包

C. 那人是小偷,因为他不去找自己的包

D. 那人是小偷,因为他拿了小李的包

47. 妈妈有三块糖,两块软糖,一块奶糖,给了两个儿子各一块,让他们根据自己手中的糖来猜剩下的一块是什么糖。两个儿子拿到糖后愣了一下,然后有一个聪明的马上就猜出来了。由以上可知 ()

A. 比较聪明的小孩拿的是奶糖

B. 没猜出来的小孩拿的是奶糖

C. 两个人一个拿的是奶糖,一个拿的软糖

D. 两个人拿的都是软糖

48. MBA 是一种高级企业管理人才,其最重要的一点在于企业家精神,具有企业家精神的 MBA 是市场中的佼佼者。我国现在有 50 多所院校都招生 MBA,有很多还宣称与国外院校合办,但大多是一些三流院校,有的连正式的教材都没有,其良莠不齐可见一般,由此可推知 ()

A. 中国缺的不是 MBA,而是具有企业家精神的真正的 MBA

B. 中国的 MBA 都是不合格的

C. 中国要培养真正的 MBA 必须与国外知名院校联合

D. 只有拥有 MBA 学位的人才能管好企业

49. 实践是检验真理的惟一标准,根据这句话,如下阐述不正确的是 ()

A. 实践可以检验真理

B. 只有实践可以检验真理

C. 一定还存在其他检验真理的标准

D. 其他任何标准都不能检验真理

50. 同宿舍四个人,规定谁回来最晚谁关灯,有一天忘了关灯了,管理员盘问谁回来最晚?

小杨说:“我回来时,小林刚要睡。”

小袁说:“我回来时,小夏睡着了。”

小林说:“我回来时,小袁正好上床睡觉。”

小夏说:“我上床就睡了,什么也不知道。”

假设他们四人说的都是实话,请你推测一下谁回来最晚 ()

A. 小杨 B. 小袁 C. 小 D. 小夏

51. 古代有一个地方,只有两种人,骑士和无赖,骑士说真话,无赖说假话,但从外表上看不出什么分别,一个学者遇到两个人, A 和 B,他问 A:“你们两个当中肯定有一个骑士?” A 说:“没有”。请你判断 A 和 B 分别是什么人? ()

A. A 是骑士, B 是无赖 B. A、B 都是骑士

《2011 年公务员考试行测考试 100 套华图真题》

C. A 是无赖, B 是骑士 D. A 和 B 都是无赖

52. 目前, 我国社会主义民主与法制还在逐步完善阶段, 有法不依、执法不严的现象还程度不同地存在着, 依法自觉纳税还没有成为每个公民头脑里紧绷的一根弦, 特别是个人所得税自开征以来, 征纳状况一直令人不太满意。因此 ()

- A. 需切实增强公民的纳税意识
- B. 对不交纳个人所得税的公民要加以逮捕
- C. 对不交纳个人所得税的公民要课以重罚
- D. 需对所有的公民开征个人所得税

53. 旅行社刚刚为 3 位旅客预定了飞机票. 这 3 位旅客是荷兰人比尔、加拿大人伯托和英国人丹皮。他们 3 人一个去荷兰、一个去加拿大、一个去英国。据悉比尔不打算去荷兰, 丹皮不打算去英国, 伯托即不去加拿大, 也不去英国。所以 ()

- A. 伯托去荷兰, 丹皮去英国, 比尔去加拿大
- B. 伯托去英国, 丹皮去荷兰, 比尔去回加拿大
- C. 伯托去荷兰, 丹皮去加拿大, 比尔去英国
- D. 伯托去加拿大, 丹皮去英国, 比尔去荷兰

54. 经济体制是属于生产关系的范畴。目前, 尽管公有制的生产关系在我国占主导地位, 但生产力低下, 使得其与生产关系的矛盾十分突出, 因此 ()

- A. 我国的生产关系超前了
- B. 如果目前的趋势再持续下去, 在不久的将来, 公有制将失去主导地位
- C. 生产关系决定生产力
- D. 要改革经济体制, 首先要大力发展生产力

55. 市场经济发达国家的实践充分表明, 假冒伪劣产品的泛滥程度与市场经济的发展水平呈负相关变化。市场经济内在的竞争机制本身就倡导公平与质量取胜, 只有符合社会需求的高质量商品才能得到社会的认可。可见 ()

- A. 在市场经济发达国家, 不存在假冒伪劣
- B. 假冒伪劣产品一般存在于非市场经济的国家中
- C. 只有不断完善市场经济体制, 才能制止假冒伪劣产品的泛滥
- D. 实行市场经济, 假冒伪劣产品必然泛滥

三、定义判断, 完成 56-65 题。每道题先给出一个概念的定义, 然后分别列出四种情况, 要求你严格依据定义从中选出一个最符合或最不符合该定义的答案。注意: 假设这个定义是正确的, 不容置疑的。

56. 法律, 是指由国家行使立法权的机关依照立法程序制定和颁布的涉及国家重大问题的规范性文件。下列哪一项不属于法律 ()

- A. 中华人民共和国中学生守则
- B. 中华人民共和国宪法
- C. 中华人民共和国刑法
- D. 中华人民共和国治安处罚条例

57. 广告, 是指为了商业目的, 由商品经营者或服务提供者承担费用, 通过一定媒介或一定形式, 如通过报刊、电视、路牌、橱窗等, 直接或间接地对自己推销的商品或者所提供的服务所进行的公开的宣传促销活动。下列属于广告活动的是 ()

- A. 水泥厂的厂长为了更好地销售水泥, 向邻县的包工头送礼一百万
- B. 小布什为了当总统, 不惜重金在电视和报刊上发表演说

《2011 年公务员考试行测考试 100 套华图真题》

C. 李宁牌服装赞助中国体育代表团出征奥运会, 获得良好的社会效应和经济效益

D. 老师规定学生考试一定要用圆珠笔

58. 作为和不作为共同构成了法律行为。作为是指主体应当作出一定的作为。不作为是以消极的没有外部举动的方式表现出来的法律行为, 以下谁的行为是作为 ()

A. 护士小张看书而忘记给 A 床拔点滴

B. 看见一小孩掉入昆明湖而径直离去的小黄

C. 知道邻村有人盗窃光缆而不上报的董某

D. 因口角生根将农药投入王某家鸡饮料中的段某

59. 纵火, 是指明知会造成他人或国家集体财物损失或威胁他人生命安全, 故意点火。下列哪种行为属于纵火行为 ()

A. 张某不满厂长克扣奖金, 于某日晚偷偷地在厂长家厨房内放火, 幸被人发现, 未能得逞

B. 李某在家中把对方的来信付之一炬

C. 高某在剧院看戏, 不小心将烟头扔在沙发上引起火灾

D. 包某感到难以忍受这种境遇, 浑身浇满汽油, 在闹市口引火自焚

60. 规律, 是指事物之间内在的必然的联系。这种联系不断重复出现, 在一定条件下常起作用。下面不属于规律的是 ()

A. 蒋某一看到有人在高空铁索行走就吓得不得了

B. 地球绕着太阳转

C. 生来便失明的人不会成为画家

D. 人缺少氧气就不能生存

61. 制度化, 指在定型的社会生活规范、风俗习惯、礼节仪式和政令法律纪律的基础上, 人们将某种行为模式、行为规范内在化和习惯化, 从而当他们以某种社会角色出现时, 自觉不自觉地按这种行为模式和行为规范行事的现象。下列不属于制度化的一项是 ()

A. 天安门每天升国旗的时间与太阳升起的时间一致

B. 以后开班会每人都必须自带凳子

C. 初恋之中的他们俩隔三差五地去看电影

D. 每年祭神的时候, 都要从村民中选出一位主祭来念祷文, 主持活动

62. 系统, 指相互关联、制约和依赖的若干组成要素 (元素、部分), 按一定的秩序相结合, 并在一定环境之中组成具有特定功能的有机整体。下列不属于系统的一项是 ()

A. 人体的各种器官所构成的体系

B. 学校的各种机构协作的体系

C. 水杯被买回来装东西的概率

D. 政治主体与客体及环境的相互作用

63. 充分授权, 也叫一般授权, 是指上级行政主体在下达任务时, 只发布一般工作指示, 而非指派特定的事务, 允许下属自己决定行动方案, 并能进行创造。下列不属于充分授权的一项是 ()

A. 柔性授权, 即领导者对工作不作具体安排, 仅指示出一个大纲或轮廓, 下属可随机应变, 因地制宜地处理工作, 有比较大的自由

B. 模糊授权, 即授权者一般不明确地说清工作的事项与范围, 只指示所要达

《2011 年公务员考试行测考试 100 套华图真题》

到的任务和目标，被授权者自由去选择完成的具体途径

C. 惰性授权，即领导者把自己不愿处理的纷乱繁琐事务交托给下属处理

D. 刚性授权，上级对下级的工作范围，内容，就达到的绩效目标都有详细规定

64. 无效婚姻，是指欠缺婚姻成立条件的男女结合情形，它包括违反法定条件的无效婚姻和违反法定程序的婚姻。结婚的法定条件为：①必须男女双方完全自愿；②必须达到法定婚龄；③必须符合一夫一妻制。结婚程序大致分为申请、审查、登记三个环节。根据上述定义，下列属于无效婚姻的是（ ）

A. 两个 70 多岁的老人因同时丧偶失去照顾，遂登记后结为夫妻

B. 小林与三姐青梅竹马，但双方父母都很反对这门亲事，于是二人毅然私奔过上了事实上的夫妻生活

C. 一个 50 岁的中年画家娶了一个 27 岁的女青年为妻，生活幸福

D. 张大哥与冯二姐的婚姻是父母找人撮合的，但也经过了他们个人的同意

65. 行政实施，是指从行政决策一经形成或最后批准时起，行政机关及其工作人员贯彻决策、实施决策的全部活动或整个过程。（ ）

A. 行政部门为推行一项决策，检查行政决策是否与有关法律法规相抵触

B. 行政部门执行政策时遇上国庆，放假休息

C. 行政部门准备执行救灾措施所需要的经费和物资装备

D. 为推动群众爱城自觉行动，县政府召开动员大会，发布动员令

第三部分结束，请继续做第四部分！

第四部分基础知识

（共 20 题，参考时限 10 分钟）

本部分试题为不定项选择，错选、多选、少选均不得分，但也不倒扣分。

66. 国家教育部与各省、自治区、直辖市的教育厅之间属于（ ）

A. 平行关系 B. 不相隶属的关系

C. 业务指导关系 D. 隶属关系

67. 宪法的特征主要有（ ）

A. 宪法具有最高效力

B. 宪法规定国家的根本性问题

C. 宪法的制定要通过特定的程序

D. 宪法的修改要通过特定的程序

68. 从唯物辩证法的观点来看，水果与苹果、梨子、香蕉之间的关系是（ ）

A. 整体与部分的关系

B. 共性与个性的关系

C. 多数与少数的关系

D. 质量和数量的关系

69. 依《民法通则》规定，我国公民的住所是（ ）

A. 公民户籍所在地

B. 公民的经常居住地

C. 公民的实际滞留地

D. 公民的居所地

70. 民族自治地方的人民代表大会有权按照当地的民族的政治、经济和文化的特点制定（ ）

A. 地方性法规 B. 行政法规

《2011 年公务员考试行测考试 100 套华图真题》

- C. 单行条例 D. 自治条例
71. 公文结尾的方式很多, 最常用的主要有 ()
- A. 专用术语垫后 B. 介绍制发公文的内容及背景
- C. 强调重申式 D. 交待施行时间或处罚措施
72. 下列国家中, 被 1997 年亚太经合组织温哥华会议正式吸收为成员国的是 ()
- A. 柬埔寨 B. 巴西 C. 俄罗斯 D. 秘鲁
73. 社会道德是做人的根基, 是为人最起码的要求. 中共中央印发《公民道德建设实施纲要》在全社会大力提倡的公民基本道德规范, 不仅包括爱国守法, 还包括 ()
- A. 明礼诚信 B. 团结友善 C. 勤俭自强 D. 敬业奉献
74. 十六大报告指出, 有条件的农村可按照 () 的原则进行土地承包经营权流转
- A. 依法 B. 自愿 C. 互惠 D. 有偿
75. 坚持“三个有利于”标准, 有利于 ()
- A. 解放思想, 敢于实践
- B. 少搞争论、多干实事
- C. 否定阶级斗争存在论
- D. 坚持党的基本中级不动摇
76. 到目前为止, 人类成功发射了 4000 多颗卫星, 这些卫星大多数用于 ()
- A. 军事目的 B. 通信目的 C. 科研目的 D. 气象观测
77. 俗话说: “人有旦夕祸福, 月有阴晴圆缺. 月亮的圆缺变化是由 () 引起的
- A. 地球的自转 B. 地球的公转
- C. 月球的自转 D. 月球绕地球的公转
78. 海洋资源包括 ()
- A. 生物资源 B. 矿产资源 C. 化学资源 D. 水力资源
79. 为什么许多鸟全都停在电线上却很安全 ()
- A. 因为这些鸟只站在一根电线上
- B. 因为这些鸟是绝缘体
- C. 因为鸟的体积很小
- D. 因为鸟的爪子与人不同
80. 近些年来, 用激光治疗得到迅速发展. 其不可能的原因是 ()
- A. 用激光治疗可使病人不出血或少出血
- B. 激光治疗作用区域小
- C. 不伤害周围的健康组织
- D. 激光治疗比常规方法花费低
81. 行政许可的申请可通过以下方式提出 ()
- A. 信函 B. 电报和电传 C. 传真 D. 电子邮件
82. 行政机关作出准予行政许可的决定, 应当自作出决定之日起多少天内向申请人颁发, 送达行政许可证件, 或者加贴、加盖检验、检测、检疫印章。()
- A. 3 B. 5 C. 7 D. 10
83. 行政机关作出准予行政许可的决定, 根据民事诉讼的规定, 向申请人送达的方式有 ()

《2011 年公务员考试行测考试 100 套华图真题》

A. 直接送达 B. 留置送达 C. 委托送达 D. 邮寄送达

84. 行政机关依法办理有关行政许可注销的手续有 ()

- A. 行政许可有效期限届满未延续的
- B. 赋予公民特定资格的行政许可, 该公民死亡或丧失行为能力的
- C. 法人或其他组织依法终止的
- D. 因不可抗力导致行政许可无法实施的

85. 对行政机关行使权力的监督, 按照监督的来源划分有外部监督和内部监督, 下列属于外部监督的有 ()

- A. 国家权力机关对行政机关监督
- B. 司法机关对行政机关的监督
- C. 审计监督
- D. 监察机关的监督

第四部分结束, 请继续做第五部分!

第五部分 资料分析

(共 15 题, 参考时限 15 分钟)

所给出的图、表或一段文字均有 5 个问题要你回答。你应根据资料提供的信息进行分析、比较、计算和判断处理

请根据下表回答 86-90 题

法国文官数目变化 单位: 千人

年份 工业类 非工业类 共计 (空缺)

86. 根据上表所列可以得知, 法国文官可以划分为 ()

- A. 工业类和非工业类
- B. 农业类和非农业类
- C. 政务官和事务官
- D. 专业类和非专业类

87. 1981 年, 法国工业类文官比非工业类文官少多少? ()

- A. 390 人 B. 3900 人 C. 39000 人 D. 390 千人

88. 以下说法不正确的是 ()

- A. 1980 年到 1987 年, 法国工业类文官逐年下降
- B. 1980 年到 1987 年, 法国非工业类文官逐年下降
- C. 1980 年到 1987 年, 法国政府机构不断精简
- D. 1983 年法国共有文官 666000 人

89. 法国文官精简人员最多的年份是 ()

- A. 1980 年 B. 1981 年 C. 1984 年 D. 1986 年

90. 1986 年法国文官比 1985 年减少多少人? ()

- A. 25 万人 B. 2.5 万人 C. 2500 人 D. 2.5 千人

请根据下图回答 91-95 题

91. 我国国务院(含政务院)机构最多时达到多少个? ()

- A. 81 B. 79 C. 99 D. 59

92. 我国国务院(含政务院)机构最少时是在哪一年? ()

- A. 1949 年 B. 1955 年 C. 1970 年 D. 1993 年

93. 新中国成立之初, 我国政务院所属机构有多少个? ()

- A. 35 B. 64 C. 81 D. 60

94. 我国 1982 年机构改革, 共精简国务院机构多少个? ()

《2011 年公务员考试行测考试 100 套华图真题》

A. 61 B. 31 C. 38 D. 无法确定

95. 以下说法正确的是 ()

A. 新中国成立以来,我国对国务院机构进行了多次精简

B. 与 1959 年相比,1965 年国务院机构增加了 19 个

C. 我国国务院机构沿革呈“精简—膨胀一再精简一再膨胀”的状态

D. 以上说法都正确

请根据下面的文字资料回答 96-100 题

据统计,1985 年北京市建筑企业共完成总产值 47.2 亿元,比上年增长 31.5%(扣除价格因素的影响,实际增长 22.2%。其中,中央在京施工企业完成 8.2 亿元,比上年增长 28%,地方全民所有制施工企业完成 24.1 亿元,比上年增长 24.4%,特别是地方集体所有制施工企业发展更快,完成总产值 14.9 亿元,比上年增长 47.3%。全市建筑企业按总产值计算的全员劳动生产率为 7743 元,比上年提高 13.4%。(扣除价格因素影响则提高 6%)。全员平均产值达到万元以上的企业,由上年的 20 个增加到 55 个。市建筑工程总公司所属二公司、四公司和设备安装公司,门头沟区建筑公司,市水利工程二处,水利机械施工处等 12 个企业的全员劳动生产率超过了 15000 元,扣除价格因素影响,北京市 1985 年建筑企业总产值

96. 比 1984 年实际增长多少? ()

A. 31.5% B. 22.2% C. 28% D. 24.4%

97. 与 1984 年相比,1985 年北京市哪一种类型的施工企业其产值增长速度最快? ()

A. 中央在京施工企业

B. 地方全民所有制施工企业

C. 地方集体所有制施工企业

D. 无法确定

98. 1985 年,全员平均产值达到万元以上的施工企业比 1984 年增加了多少个? ()

A. 20 B. 55 C. 35 D. 12

99. 1985 年,北京市哪一种类型的施工企业其产值所占全市当年建筑业总产值的比重最大? ()

A. 中央在京施工企业

B. 地方全民所有制施工企业

C. 地方集体所有制施工企业

D. 无法确定

100. 北京市建筑工程总公司所属四公司 1985 年全员劳动生产率为 ()

A. 7743 元 B. 10000 元 C. 接近 15000 元 D. 15000 元以上

全部测验到此结束

参考答案

第一部分 数量关系

1-5: DAACA 6-10: CACAD 11-15: ADAAA

第二部分 言语理解与表达

16-20: CDBCA 21-25: DDAAB 26-30: ACCBB 31-35: BBCAB

第三部分 判断推理

36-40: BCCBA 41-45: DCDBA 46-50: CDACA 51-55: CACDC

《2011 年公务员考试行测考试 100 套华图真题》

56-60: ACDA 61-65: CCDBB

第四部分 基础知识

66-70: C, ABCD, AB, AB, ACD 71-75: CD, CD, ABCD, ABD, ABD

76-80: A, D, ABCD, D, CD 81-85: ABCD, D, ABCD, ABCD, ABD

第五部分 资料分析

86-90: ADBBB 91-95: CCACD 96-100: BCCBD

山东 05 年公务员考试行政职业能力测试题

2007 年 03 月 30 日 17:11 [我来说两句(3)] [字号: 大 中 小]

第一题:

有从 1 到 8 编号的 8 个球,有两个比其他的轻 1 克,用天平称了三次,结果如下: 第一次 $1+2>3+4$ 第二次 $5+6<7+8$ 第三次 $1+3+5=2+4+8$, 求轻的两个球的编号!

选项: A: 1 和 2 B: 1 和 5 C: 2 和 4 D: 4 和 5

这个题很简单, 答案是 D

第二题: 有两个班的小学生要到少年宫参加活动, 但只有一辆车接送。

第一班的学生做车从学校出发的同时, 第二班学生开始步行; 车到途中某处, 让第一班学生下车步行, 车立刻返回接第二班学生上车并直接开往少年宫。学生步行速度为每小时 4 公里, 载学生时车速每小时 40 公里, 空车是 50 公里/小时, 学生步行速度是 4 公里/小时, 要使两个班的学生同时到达少年宫, 第一班的学生步行了全程的几分之几? (学生上下车时间不计)

A: $1/7$ B: $1/6$ C: $3/4$ D: $2/5$ 这题的答案 我觉得是 C

分析: 假设在第一班同学下车后, 车没有使用时间的到了第二班的地点, 然后和一班的同时到了少年宫, 那么 1 班步行的路程是 $1/2$, 而加上车返回的时间, 只有 C 是大于 $1/2$ 的! 具体的做法懒的想了! -

第三题: 奥运五环标志。这五个环相交成 9 部分, 设 A-I, 请将数字 1—9 分别填入这 9 个部分中, 使得这五个环内的数字之和恰好构成 5 个连续的自然数。那么这 5 个连续自然数的和的最大值为多少。

A: 65 B: 75 C: 70 D: 102

分析: $A+8$ 、 $B+C+D$ 、 $D+E+F$ 、 $F+G+H$ 、 $H+I$

五个环数字相加, 就是求 $(A+C+E+G+I) + 2(B+D+F+H)$ 最大值

也很简单的: 把 BDFH 赋予 6、7、8、9 然后相加得到本题答案: 75

第四题: 正方形的面积是 1 平方厘米, 其他点都是它所在边的重点, 求阴影三角形的面积! 画不出图来, 就不写了! 答案是 C: $3/32$

第五题、把自然数按由小到大的顺序排列起来组成一串数: 1、2、3、4、5、6、7、8、9、10 等, 把这串数中两位以上的数全部隔开成一位数字, 形成第二串数: 1、2、3、9、1、0、1、1、-, 则第一串中 100 的个位数字 0 在第二串数中的第几个数?

A: 188 B: 198 C: 192 D: 202

这个题也不难。

从 1 到 9 共 9 个数

从 10 开始到 99 共 90 个数

100 的个位数是最后的一个 0 再加上 3

答案是 192

《2011 年公务员考试行测考试 100 套华图真题》

第六题, 10000 本书发给前获奖的前五名, 名次在前的代表队获奖的本数多, 且每一名次的奖品都是 100 的整数。如果第一名所得的本数是第二名与第三名所得的本数之后, 第二名所得的本书是第四名与第五名的本数之和, 那么第三名最多可以获得多少本?

A: 1600 B: 1800 C: 1700 D: 2100

第七题: 抓奖的。有三个白球、三个黑球, 放在一个袋子里, 让人摸球中奖。2 元一次, 一次能抓三个。如果全是白球, 可得到 10 元, 那么中奖的概率是多少, 如果一天有 300 人摸奖, 摊主能骗走多少元?

A: $1/40$, 350 B $1/20$, 400 C $1/30$ 420 D $1/10$ 450

这个题也很简单! 学过概率的考生一眼就能看出来! 答案是 B, 不赘述了! 并且这个题出的不够严谨, 应该是摸了 300 次, 而不是 300 个人摸!

第八题: 两人合养了 n 羊, 到一定时间后, 全部卖出后, 平均每只羊正好卖了 n 元。两人商定平分这些钱。由甲先拿 10 元, 再由乙拿 10 元, 然后再是甲,, 最后甲拿过之后, 剩下的不足 10 元, 问: 甲应该给乙多少元?

A: 8 B: 2 C: 4 D: 6

排除法剩下 BC

考虑到从 1 到 9 这些数的平方没有得 4 的!

只可能的结果是 $4*4=16$ 或者 $6*6=36$

所以这个题选 B

第九题: 甲乙丙三个班向希望工程捐赠图书, 甲班有 1 人捐 6 本, 有 2 人各捐 7 本, 其余的捐 11 本; 乙班有 1 人捐 6 本, 有 3 人捐 8 本, 其余捐 10 本; 丙班 2 人捐 4 本, 6 人捐 7 本, 其余各捐 9 本, 甲班比乙班多 28, 乙班比丙班多 101 本, 各班捐书总数在 400-500 之间, 求三个班人数。

A: 48, 50, 53 B: 49, 51, 53 C: 51, 53, 49 D: 49, 53, 51

第十题: 某公共汽车从起点开往终点站, 途中共有 13 个停车站。如果这辆公共汽车从起点站开出, 除终点站外, 每一站上车的乘客中, 正好各有一位乘客从这一站到以后的第一站。为了是每位乘客都有座位, 那么, 这辆公共汽车至少应有多少个座位? ?

A: 48 B: 52 C: 56 D: 54

第 11 题: 往一个圆柱体容器里注水, 已知容器地面半径为 10cm, 高为 40cm, 当注入水柱高为 h , 水柱高由低到高变化时, 水柱体积 v (cm 的平方) 也随之发生变化, 下列说法中, 不正确的是:

A: v 和 h 都是变量。

B: h 是自变量, v 是因变量。

C、 v 和 h 之间的关系可为 $v=100\pi h$

D: $v=150\pi \text{cm}$ 立方时, $h=25\text{cm}$ 。

E: 当 h 是 40cm 时, v 最大为 400π , 此时不能再注入水。

第 12 题: 有一路电车从甲站开往乙站, 每 5 分钟发一趟, 全程走 15 分钟。有一人从乙站骑自行车沿电车路线去甲站。出发时, 恰好有一辆电车到达乙站, 在路上他又遇到了 10 辆迎面开来的电车, 到站时恰好有一辆电车从甲站开出, 那么, 他从乙站到甲站共用多少分钟? 11463045

A: 40 B: 6 C: 48.15 D: 45

第 13 题: 用铁皮剪成两个三角形:

1、如果剪成顶角相等, 并且有一条腰相等的两个等腰三角形, 则他们全等。

《2011 年公务员考试行测考试 100 套华图真题》

2、如果都有一个角等于 42° ，且有两边相等，则他们全等。

3、如果剪成的三角形 ABC 和三角形 $A_1B_1C_1$ 中，角 $C=$ 角 $C_1=90^\circ$ ，那么不论是 $BC=B_1C_1$ ， $AC=A_1C_1$ ，还是 $BC=A_1C_1$ ， $AC=B_1C_1$ ，所剪的两个三角形都。

上面说法正确的是：

A: 1 B: 2 和 1 C: 2 和 3 D: 1 和

第 14 题：机床厂有四个车间，其中第二个车间的职工人数比第一个车间人数的 $\frac{2}{3}$ 多 48 人，而比第三车间人数的 $\frac{5}{4}$ 倍少 15 人，且已知第一车间的人数比第三车间人数多 14 人，又知第四车间人数站全厂总人数的 $\frac{2}{5}$ ，那么机床厂总人数是多少。

A: 620 B: 670 C: 590 D: 710

第 15 题：如图， $AD=DB=DC=10\text{cm}$ ，那么，图中阴影部分的面积是多少平方米？

A、109 B、110 C、107 D、110.25

第 66 题：某消费者的下列行为中，属于货币执行支付手段职能的有：A: 购买商品房，合同约定 30 万 B: 按购房合同约定，第二年付房款 10 万元。 C: 缴纳房屋契税 9000 元。D: 在装饰材料市场现购材料 5 万元。E: 支付车库租金 200 元。

第 67 题：2005 年“中央一号文件”再次锁定“三农”，从去年的“促进农民增收”到今年

A: 提高农业综合生产能力。

B: 稳定和完善土地联产承包责任制。

C: 加大农村产业结构调整。

D: 冻结非农占地审批。

E: 加快农村剩余劳动力转移。

第 68 题：下列争议中，不可提起行政复议的有：

A: 中纪委作出的具体处理决定。

B: 国家发改委所制定的规章。

C: 济南市人民政府作出的具体处理决定。

D: 某民族自治县人大指定的自治条例。

第 69 题：市场经济之所以需要国家加强宏观调控，是因为市场调节存在着固有的弱点和缺陷，具体表现在市场调节的：

A: 自发性 B: 竞争性 C: 盲目性

D: 滞后性 E: 不确定性

第 70 题：温家宝总理在十届人大三次会议所作的《政府工作报告》中强调，要加快政府自身改革和建设步伐。下列选项属于采取的措施是：

A: 深化政府机构改革。

B: 加快转变政府职能。

C: 改进经济管理方式方法。

D: 努力建设管理与服务型政府。

E: 提高政府办事效率。

第 71 题：我国现阶段按生产要素分配取得的收入有

A: 股份公司股票持有者的股息投入。

B: 股份合作制经济的投资分红收入。

C: 集体企业职工的工资资金收入。

《2011 年公务员考试行测考试 100 套华图真题》

D: 房产出租者取得的租金收入。

E: 科研人员的成果转让收入。

第 72 题: “三个代表”重要思想标志着我们党的认识达到了一个新高度, 主要是指深化了

A: 对共产党执政规律的认识。

B: 对改革开放规律的认识。

C: 对社会主义建设规律的认识。

D: 对人类社会发 展规律的认识。

第 73 题: 党的先进性是具体的、历史的, 理解党的先进性必须

A: 放到推动当代中国先进生产力的发展中去考察。

B: 放到推动当代中国先进文化的发展中去考察。

C: 放到维护和保持社会稳定、人民团结的局面中去考察

D: 放到维护和实现最广大人民的根本利益中去考察。

E: 要看党在推动历史前进中的实际作用。

第 74 题: 我国成功地将杂交技术应用于水稻育种, 并提出了三系育种理论, 极大地丰富了遗传育种理论。其中“三系”是指

A: 不育系 B: 保持系 C: 发展系

D: 恢复系 E: 生长系

第 75 题: 我国国家公务员与所在国家机关之间的职务关系是一种

A: 单方的行政法关系。

B: 双方的行政法关系。

C: 内部行政法关系。

D: 民事法律关系。

第 76 题: 我国航天技术达到世界先进水平的有

A: 卫星回收技术。

B: 多级火箭分离技术。

C: 载人航天技术。

D: 一箭多星技术。

E: 通讯卫星制造技术。

第 77 题: 构成我国国家创新体系的主要部分有

A: 创新资源 B: 创新机构 C: 创新机制

D: 创新环境 E: 创新体制

第 78 题: 我国有权没收用来制造假冒和盗版产品设备及其他侵权证据的部门有:

A: 国家工商行政管理局

B: 国家版权局

C: 国家文化部

D: 国家质量监督检验检疫总局

E: 国家新闻出版署

07 国家公务员考试行测数字推理真题解析

[来源: 华图公务员]

桑业龙今天中央机关及其直属机构招考公务员结束以后, 很多考生反映题目

《2011 年公务员考试行测考试 100 套华图真题》

较之去年，难度明显增加。特别是数字推理部分，耽误了大量的时间，最后还有一些题目没做出来。

但是在和华图学员交流中，他们反映尽管题目较难，但只要按照华图辅导班老师教的方法去思考，很快就能找到规律，得出答案。

我在讲课中讲到，数字推理其实不难，每一道题目都有规律，寻找这个规律关键要从数列本身和四个备选答案出发，仔细观察数列的项数多、少、，数字的大、小，以及数字自身有何特点，这样 5 秒内就可以确定正确的解题思路。

下面用我讲的解题方法，来分析一下 2007 年中央机关公考的 5 道题目。

第 41 题：2 12 36 80 ()

A. 100 B. 125 C. 150 D. 175

拿到题目一眼可以看出四个选项中最大的数字和 80 相差不大，里面必然包含加法运算，而且题干中的数全是偶数，就可以知道必须用组合或加法的变化。可以把此数列拆成 2×1 、 3×4 、 4×9 、 5×16 下一个必然是 6×25 ；或者可以看成 $13 + 1$ 、 $23 + 22$ 、 $33 + 32$ 、 $43 + 42$ 下一个必然是 $53 + 52$ 。故答案选 C。

第 42 题：1 3 4 1 9 ()

A. 5 B. 11 C. 14 D. 64

题目明显特征就是全是个位数，而且数字大小没规律，我在讲课中已讲到的，很明显就是减法的变化。相邻两项的差的平方等于后一项。故选 D。

第 43 题：0 9 26 65 124 ()

A. 165 B. 193 C. 217 D. 239

这道题是老题，国家机关和地方招考公务员过去都考到过的题目，只不过稍加变化而已。就是立方规律的变化，每一项增加或减少 1 就构成了一个立方数列。我讲稿上有这个例子。答案选 C。

第 44 题：0 4 16 40 80 ()

A. 160 B. 128 C. 136 D. 140

题目四个选项的最大数和 80 相差不大，故可以用减法，三级等差。答案选 D。

第 45 题：0 2 10 30 ()

A. 68 B. 74 C. 60 D. 70

这道题目项数比较少，选项和 30 相差不大，且都是偶数，规律非常明显，和第一题解题思路可以完全相同。可以把此数列拆成 0×1 、 1×2 、 2×5 、 3×10 下一个必然是 4×17 ；或者可以看成 $03 + 0$ 、 $13 + 1$ 、 $23 + 2$ 、 $33 + 3$ 下一个必然是 $43 + 4$ 。故答案选 A。

此外，数学运算完全在基础班和冲刺班给出的范围之内，都是一些老题目。像第 49 题，考的就是抽屉原理，对大多数学员可能较生疏，而我给学员的十几题重点附加题上就有这个题目。

2007 年中央国家机关公务员行测变化分析

[来源: 中公网]

一、行测的总体变化情况

1、试卷结构与题量发生变化

(1)、总题量由于 135 题变化为 140 题

(2)、言语理解由去年的 30 题变化为 40 题

《2011 年公务员考试行测考试 100 套华图真题》

- (3)、图形推理由去年的 10 题减少为 5 题
- (4)、逻辑题量由去年的 15 题减少 10 题
- (5)、常识题量由去年的 20 题增加到 25 题

2、试卷综合难度增大

数学计算与资料分析难度有所增加，其余部分难度变化不大，但题型变化较为丰富，总的来讲试卷的综合难度增大。

3、试卷内容考核面增大

4、更加注重基础能力、分析能力考查

二、分题型情况来看

1、言语理解与表达

特点：题型分为两部分，片段阅读 20 题、选词填空 20 题。考查内容广泛，提问形式较为丰富。

例 2007 年真卷第 2 题：

在今天的商业世界中，供过于求是普遍现象。为了说服顾客买自己的产品，大规模竞争就在同类商品的生产企业之间展开了。他们得经常设法向消费者提醒自己产品的名字和优等的质量。这就需要靠广告。对这段文字概括最恰当的是：

- A. 广告是商业世界的必然产物
- B. 各商家之间用广告开展竞争
- C. 广告就是要说服顾客买东西
- D. 广告是经济活动中供过于求的产物

这是一个概括题型的考查，A 过于绝对，BC 不是强调的重点，所以选 D。

例 2007 年真卷第 3 题：

空间探索自开始以来一直受到指责，但我们已经成功的通过卫星进行远程通信、预报天气、开采石油。空间探索项目还会有助于我们发现新能源和新化学元素，而那些化学元素也许会帮助我们治愈现在的不治之症。

这段文字主要告诉我们，空间探索：

- A. 利弊并存 B. 可治绝症 C. 存在争议 D. 意义重大

显然本题告诉我们的是空间探索的意义，所以选 D。

2、数字推理

特点：重点考查基本题型与基本能力，考了三个多次方变化，两个三级等差，一个项数相加，还有第 42 题存在不同答案 AD。

41. 2 12 36 80 ()

- A. 100 B. 125 C. 150 D. 175

C 正确。

42. 1 3 4 1 9

- A. 5 B. 11 C. 14 D. 64

AD 正确。

43. 0 9 26 65 124

- A. 165 B. 193 C. 217 D. 239

C 正确。

44. 0 4 16 40 80

- A. 160 B. 128 C. 136 D. 140

A 正确。

45. 0 2 10 30

《2011 年公务员考试行测考试 100 套华图真题》

A. 68 B. 74 C. 60 D. 70

A 正确。

3、数学运算

特点：考查基本方法+新题型

46. 某高校 2006 年度毕业学生 7650 名，比上年度增长 2%，其中本科生毕业数量比上年度减少 2%，而研究生毕业数量比上年度增加 10%，那么，这所高校今年毕业的本科生有：

A. 3920 人 B. 4410 C. 4900 人 D. 5490 人

采用方程法或代入法：

方程法：设今年 X 为本科生，Y 为研究生。

则 $X+Y=7650 \times 0.98$ $0.98X+1.1Y=7650$

解得 $X=5000$ ，则所求为 $5000 \times 0.98=4900$ 选项 C。

49. 从一副完整的扑克牌中，至少抽出（ ）张牌，才能保证至少 6 张牌的花色相同。

A. 21 B. 22 C. 23 D. 24

抽屉原理：选 C。

60. 有一食品店某天购进了 6 箱食品，分别装着饼干和面包，重量分别为 8, 9, 16, 20, 22, 27 公斤，该店卖了一箱面包，在剩下的 5 箱中，饼干的重量是面包的两倍，则当天的食品店购进面包（ ）公斤。

A. 44 B. 45 C. 50 D. 52

代入法选 D。

4、类比推理

特点：总体难度不大，注意细微区分即可。

76、太空：卫星

A. 铁轨：火车 B. 公路：自行车 C. 机场：直升飞机 D. 城市：公共汽车
选 D。

77. 阳光：紫外线

A. 电脑：辐射 B. 海水：氯化钠 C. 混合物：单质 D. 微波炉：微波
选 B。

78. 正方形：边长

A. 矩形：对角线 B. 菱形：高 C. 圆形：半径 D. 三角形：底边
选 C。

5、逻辑

特点：难度明显降低，考查的实际上是言语型逻辑，而非纯逻辑。

86. 许多上了年纪的老北京都对小时候庙会上看到的绝活念念不忘，如今，这些绝活有了更为正式的称呼——民间艺术。然而，随着社会主义现代化进程加快，中国民俗文化面临前所未有的生存危机。城市环境不断变化，人们兴趣及爱好快速分流和转移，加上民间艺术人才逐渐消失。这一切都使民间艺术发展面临困境。

从这段文字可以推出：

- A. 市场化是民间艺术的出路
- B. 民俗文化需要抢救性保护
- C. 城市建设应突出文化特色
- D. 应提高民间艺术人才的地位

解析：显然 ACD 都是材料没有提及的，所以只有选 B。

《2011 年公务员考试行测考试 100 套华图真题》

6. 常识

(1)、严格遵照考试大纲要求,全部常识均为法律常识;不涉及公共基础知识、人文科技等常识。

(2)、考核范围广,除以往常考的宪法、行政诉讼法、行政复议法、行政处罚法、刑法、民法,以及最新的公务员法,还考查了刑事诉讼法、民事诉讼法、仲裁法、商标法、对外贸易法、国家保密条例等。大量的题目具有综合性,一道题往往考查几个知识点。

(3)、常考的法律考核的较深,而对于不长考核的法律则考查的较为基础;

(4)、总体上属于常识性考查,个别题目专业性较强,干扰项的干扰性不是很强,只要能掌握相关的基础知识,并不难作出选择判断。

考核范围广

常识判断

96、民族区域自治制度、特别行政区制度是我国宪法制度中具有自身特色的两项制度,下列对这两项制度的表述不正确的是:

- A 民族自治地方包括自治区、自治州、自治县
- B 自治区可以制定自治条例、单行条例,报全国人大常委会批准
- C 特别行政区行政长官通过选举或协商产生,由中央人民政府任命
- D 特别行政区的高度自治包括立法权、行政管理权、独立的司法、终审权、独立的外交权。

选 D。

97、小李是某工商局副局长,因工作需要派到某国有企业担任一定职务,在该国有企业工作时间为一年,工作期间其人事行政关系仍在原单位,这种公务员交流方式称为:

- A 调任 B 转任 C 轮岗 D 挂职锻炼

选 D

98、我国宪法规定了公民的基本权利和义务,公民在法律面前一律平等。下列关于公民基本权利的表述不正确的一项是:

- A 国家培养和选拔妇女干部,实行男女同工同酬
- B 年满 18 周岁、未被剥夺政治权利的中国公民均享有选举权和被选举权
- C 社会、经济、文化教育方面的权利不包括公民在年老、疾病、丧失劳动能力时的物质帮助权
- D 国家保护华侨的正当权益,保护归侨和侨眷的合法权益

选 C。

100 下列规范性文件中不得设定行政许可的是:

- A 法律 B 县级政府的决定 C 行政法规 D 地方性法规

选 B。

7、资料分析

综合难度明显加大,关键强调通过对给定材料的分析找到相关的运算关系。

《2011 年公务员考试行测考试 100 套华图真题》

2007 年已经将“演绎推理”改为“逻辑判断”，表述更加科学，更加符合考题的实际，也将对考生的逻辑基础知识提出更高的要求。

一、对当关系的判断

根据逻辑方阵中的矛盾关系，可以从一个直言命题为真推出与该直言命题具有矛盾关系的命题为假，也可以从一个直言命题为假推出与该直言命题具有矛盾关系的命题为真。

即一个直言命题和一个与其具有矛盾关系命题的否定之间可以互相推出。

例：某珠宝商店失窃，甲、乙、丙、丁四人涉嫌被拘审。四人的口供如下：

甲：案犯是丙。

乙：丁是案犯。

丙：如果我作案，那么丁是主犯。

丁：作案的不是我。

四个口供中只有一个是假的。

如果以上断定为真，则以下哪项是真的？（ ）（2004 年中央 A 类真题）

- A. 说假话的是甲，作案的是乙 B. 说假话的是丁，作案的是丙和丁
C. 说假话的是乙，作案的是丙 D. 说假话的是丙，作案的是丙

正确答案 B。

解析：应用直言命题的矛盾关系来解题，互为矛盾的两个命题必有一真一假，上述命题中乙和丁是互为矛盾的命题，可见必有一假一真，而题干说明四个人的口供只有一个是假的，那么可以断定甲和丙就说的真话。由甲说的是真话，可推出案犯是丙；由丙说的是真话可推出丁是主犯，可见丙是罪犯，丁是主犯，从而我们再来分析甲和丁之间谁说的是真话和假话，显然可以推断说假话的是丁，所以选择 B。

二、计算法

有些逻辑试题，需要考生首先进行必要的数字计算，尤其是当题干或备选项中出现了数据或者与数据有关的文字的时候。做这些题时，考生一定不要怕麻烦，如果考生动手计算计算，答案自然就出来了。

例：在国庆 50 周年仪仗队的训练营地，某连队一百多个战士在练习不同队形的转换。如果他们排成五列人数相等的横队，只剩下连长在队伍前面喊口令；如果他们排成七列这样的横队，只有连长仍然可以在前面领队；如果他们排成八列，就可以有两人作为领队了。在全营排练时，营长要求他们排成三列横队。

以下哪项是最可能出现的情况？

- A. 该连队官兵正好排成三列横队。
B. 除了连长外，正好排成三列横队。
C. 排成了整齐的三列横队，加有两人作为全营的领队。
D. 排成了整齐的三列横队，其中有一人是其他连队的。
E. 排成了三列横队，连长在队外喊口令，但连长临时排在队中。

解析：正确答案是 B。该题属于“逻辑运算型”，是“直接推论题”的一个特例。应该采用数字计算法来求解。这道题的关键在于算出连队的具体人数，题干中说一百多人，但具体是多少呢？根据题干，这个数字被 5 除还余 1，被 7 除也余 1，5 和 7 的公倍数是 35，往上是 70，105，140，175，等，所以这个数应该是 106 或者 141 或者 176。又根据题干，这个数被 8 除还余 2，于是该数只能是 106 了。由于 105 能被 3 除尽，所以 106 被 3 除后还余 1。

三、因果关系法

《2011 年公务员考试行测考试 100 套华图真题》

因果关系法是探求事物现象之间因果关系的逻辑方法，一般有五种方法即求同法、求异法、求同求异并用法、共变法、剩余法，有时几种方法需要综合运用。一般公务员考试常考的包括正向因果推理即题干论述了充分理由，要求运用合乎逻辑的方法在答案中寻找正确的结果。另一种是反向因果推理，题干给出了推理的结果，但理由不充分，需要在答案中寻找一个与题干结论有密切因果联系的理由补充进去，以构成一个严密的逻辑推理。

例：针对某种溃疡，传统疗法可在 6 个月内将 44% 的患者的溃疡完全治愈。针对这种溃疡的一种新疗法在 6 个月试验中使治疗的 80% 的溃疡取得了明显改善，61% 的溃疡得到了痊愈。由于该试验只治疗了那些病情比较严重的溃疡，因此这种新疗法显然在疗效方面比传统疗法更显著。

为更好的对比两种疗法的效果，还需要补充的证据是：（2005 年中央甲类真题）

- A. 这两种疗法使用的方法有何不同
- B. 这两种疗法的使用成本是否存在很大差别
- C. 在 6 个月中以传统疗法治疗的该种溃疡的患者中，有多大比例取得了明显改善
- D. 在参加 6 个月的新疗法试验的患者中，有多大比例的人对康复的比例不满意

正确答案 C。

解析：本题让补充比较两种疗法的效果的证据，属于反向因果推理型题目，可以采用因果关系法求解。从问题出发我们看题干，传统疗法 6 个月治愈溃疡患者 44%；新疗法 6 个月 80% 明显改善，61% 治愈。结论是新疗法比传统疗法在疗效方面更显著；而比较两者的疗效，是要比较二者的改善比例和治愈患者的比例，二者都有治愈情况，还应比较二者的明显改善比例情况。看选项，A、B、D 都不是说二种方法的疗效情况，只有 C 增加后能说明二者的疗效，所以选择 C。

金路专家谈行测法律常识之<合同法>要点

[来源: 北京金路公务员考试研究中心]

一、《合同法》的基本原则：

- A、平等原则 B、自愿原则 C、公平原则 D、诚实信用原则
- E、遵守法律、不损害社会公共利益原则

二、合同的订立

- 1、当事人——具有相应民事权利能力和民事行为能力的法人、组织和个人；
- 2、可以委托代理人订立合同；
- 3、形式：书面形式、口头形式、其它形式（推定形式——默示合同）
- 4、主要条款：
 - A、当事人的名称或者姓名和住所
 - B、标的 C、数量 D、质量 E、价款或者报酬 F、履行期限、地点和方式 G、违约责任 H、解决争议的方式
- 5、条款中注意的问题：
 - A、任何一个条款，必须清楚、明确、准确
 - B、合同标的的种类：有形财产、无形财产、劳务、工作成果
 - C、质量条款：国家有强制性标准规定的，必须按照规定的标准执行

《2011 年公务员考试行测考试 100 套华图真题》

D、履行地点：买卖合同中，买方提货的，履行地为提货地；卖方送货的，买方收货地为履行地；履行地的相应一级法院有管辖权。

合同履行地：购销合同中当事人对交货地点没有约定的，依交货方式确定合同履行地。采用送货方式的，以货物送达地为合同履行地；加工承揽合同，以加工行为地为合同履行地；财产租赁合同，以租赁物使用地为合同履行地；因保险合同纠纷提起的诉讼，如果保险标的物是运输工具或者运输中的货物，由被告住所地或者运输工具登记注册地、运输目的地、保险事故发生

E、解决争议的方式：通过诉讼解决争议的，可以不约定；如果通过其它途径解决争议的应在事先（合同中）或者事后（争议发生后）约定

6、格式条款：

A、不能加重对方的义务或减轻自己的义务

B、不能有两种以上不同的解释，如果有两种以上不同的解释，使用通常的解释；如不能作通常的解释，则对提供格式合同的一方使用不利的解释

C、提供格式合同的一方应提请对方注意免除或者限制其责任的条款

7、要约：

A、条件：要约的内容必须具有足以是合同成立的主要条件

B、要约邀请不是要约，但是商业广告的内容符合要约规定的视为要约

C、生效：到达主义

D、撤回：发出后、生效以前（到达以前）或同时

E、撤销：生效后。两种要约不得撤销——确定承诺期限或明示不可撤销的、对方有理由认为不可撤销并已经履行合同作了准备工作的

F、失效：对方否认、要约人撤销、对方在承诺期限内未作表示、对方提出反要约

8、承诺：

A、条件：收要约人作出、对要约人作出、与要约的内容一致、在有效期内作出（案例：某学校向商店要求购买 25 寸彩电，要求送货上门，货到付款；商店讲，给 19 寸的彩电如何？学校不作表示，商店将彩电送上门，并要求付款。问：学校有权拒绝收货并拒绝付款吗？回答该问题的关键是：合同成立吗？合同成立的标准是什么？有人作出承诺吗？）

B、方式：通知（口头、书面）、行为或其它形式

C、期限：在要约规定的期限内作出；如果要约中未规定期限则适用如下原则——对话方式，即时作出；非对话方式，在合理的时间内作出

D、生效：到达主义

E、撤回：到达以前或同时

9、合同成立的时间：

A、承诺生效时

B、合同书，签字或者盖章时

C、信件、数据电文，并要求签订确认书的，在确认书签订时

D、应采取书面形式，但未用书面形式，一方已经履行主要义务对方接受的，合同成立

E、采用合同书形式，签字盖章以前，一方已经履行主要义务对方接受的，合同成立

10. 合同成立的地点：

A、承诺生效的地点

《2011 年公务员考试行测考试 100 套华图真题》

B、数据电文形式，收件人的主营业地点或经常居住地

C、合同书形式，签字或者盖章的地点

11、缔约过失责任：

A、假借订立合同，恶意进行磋商的

B、故意隐瞒与订立合同有关的重要事实或者提供虚假情况

C、其它违背诚实信用原则的行为

有上述行为，导致合同不成立并给对方造成损失的，应当承担损害赔偿责任

12、合同的双方当事人可以在书面合同中协议选择被告住所地、合同履行地、合同签订地、原告住所地、标的物所在地人民法院管辖，但不得违反级别管辖和专属管辖的规定；

三、合同的效力

（一）基于“效力”标准对合同的分类

1、有效合同：必须履行，否则属于违约行为，应承担违约责任；

2、无效合同：法律不承认，不保护，当事人不得履行；正在履行，应终止履行；已经履行完毕，应将财产恢复原状；因为履行无效合同而给对方、第三人、国家或者社会公众造成损失的，将带来惩罚性的后果（如赔偿损失）；

3、效力待定的合同：限制民事行为能力人订立的合同、无权代理、无处分权人处分他人的财产

4、可撤销的合同：重大误解、显失公平、一方以欺诈、胁迫手段或者乘人之危订立合同

（撤销的法律效力：合同未被撤销，则有效；如不被撤销，则有效）

（二）无效合同的法律标准：

1、一方以欺诈、胁迫手段订立合同，损害国家利益；

2、恶意串通，损害国家、集体或者第三人的利益；

3、以合法形式掩盖非法目的；

4、损害社会公共利益；

5、违反法律、行政法规的强制性规定。

（三）可撤销的合同：

1、法律特征：被撤销前是有效的、意思表示不真实、通过撤销权的形式来实现、合同的变更可撤销应由法院或者仲裁机构作出；

2、合同的撤销不影响解决争议条款的效力；

3、撤销权行使的期间是一年。

（四）效力待定的合同：

1、法定代理人和被代理人追认的时间是 1 年；

2、在追认的期间内如果未作任何表示，视为否认，合同无效。

（五）合同生效的要件：

1、当事人具有相应的民事行为能力和民事权利能力；

2、意思表示真实；

3、不违反法律或者社会公共利益。

四、合同的履行

抗辩权

1、同时履行的抗辩权： A、互负债务的，无先后履行顺序的，一方不履行或履行不符合约定的，另一方有权拒绝履行的要求； B、条件：必须是双务合同；当事人约定应同时履行的合同；双方的债务已到清偿期；有对方未履行或未适当

《2011年公务员考试行测考试100套华图真题》

履行的证据；对方有履行的可能性； C、效力：暂时阻止对方请求权的行使，并非终止合同；对方履行合同后，自己的抗辩权就消灭；一方正确行使抗辩权致使合同迟延履行责任由对方承担。

2、后履行抗辩权： A、互负债务的，有先后履行顺序的，先履行一方不履行或履行不当的，后履行一方有权拒绝对方的履行要求； B、条件：双务合同，互负债务；有先后顺序；应当先履行一方未履行或履行不当；抗辩权的行使人是后履行一方； C、效力：暂时阻止当事人的请求权。

3、不安抗辩： A、互负债务，有先后履行顺序，先履行一方有证据证明另一方丧失履行债务能力时，对方未提供担保前，可以中止履行； B、条件（法定事由）：经营状况严重恶化；转移财产、抽逃资金，以逃避债务；丧失商业信誉；其它情形； C、适用：行使不安抗辩权的当事人给对方造成损失的，应承担违约责任； D、效力：中止合同的履行、解除合同

保全措施

1、代位权： A、债务人怠于行使其到期的债权（对第三人享有到期的非专属于债务人自身的债权）； B、债务人的这一行为给另一合同的债权人的到期债权造成损害； C、债权人可通过诉讼程序，通过法院以自己的名义代位行使债务人的债权。代位权的限制：同一债权不能重复行使代位权；行使代位权的债权人无优先受偿权；债权人行使代位权的费用，由债务人承担。

2、撤销权： A、合同的债务人一一放弃自己的到期债权、无偿转让财产、以明显不合理的低价转让财产且受让人知道该情形（非善意第三人），给债权人造成损害的，债权人可以请求法院撤销债务人的行为，撤销后，债务人的行为归于无效一一取得财产对方当事人应返还财产。 B、溯及力：债务人和第三人的行为自始无效； C、时效和期间：撤销权的行使时间是1年（与合同撤销的时间相同）；除斥期间是5年。 D、费用：由债务人负担。

五、合同的变更（协议变更）

1、时间：生效以后，履行完毕以前

2、原因：主客观情况发生变化

3、限制： A、主体不变（如果主体变更则为合同的转让） B、合同的性质和标的不变

4、方法：协商

5、约定不明确：推定为未变更

六、合同的转让：（事实上就是合同主体的变更）

1、合同权利的转让：

形式：合同权利的全部转让、合同权利的部分转让

效力：合同的权利全部转让的，原合同关系消灭，受让人取代原债权人的地位成为新的债权人；合同的权利部分转让的，原合同关系不消灭，受让人和原债权人共同享有债权；债务人对让与人享有同期或到期债权的，可以抵消；债务人对债权人（让与人）的抗辩，可以向债权人主张。

从随主：主权利转让的，从权利也随之转让（从权利专属于原债权人自身的除外）

不得转让的合同：

根据合同的性质不得转让（基于身份关系订立的合同一一抚养费、赡养费等；基于信任关系订立的合同一一委托合同、赠与合同、接受特定的医疗服务）；

根据当事人约定不得转让；

《2011年公务员考试行测考试100套华图真题》

法律规定不得转让（涉及国家及社会公共利益）；

程序：无需经原债务人同意，但应该通知债务人。通知不得撤销（经债务人同意的除外）；

2、合同义务的转让：

A、种类：合同义务的全部转让、合同义务的部分转让

B、效力：全部转让——新的债务人取代原债务人，承担全面履行义务的责任，享有全部的抗辩权；从债务也转移（专属于原债务人自身的除外）；部分转让——新债务人假如到原债务中，与原债务人共同承担债务。C、程序：债务人应当通知债权人，并征得债权人的同意，否则不发生效力。

3、合同权利义务的一并转让：A、程序：转让合同权利义务的一方应征得另一方的同意；B、限制性的规定：不得转让法律禁止的权利；

从权利一并转让（专属于自身的除外）不影响债务人抗辩权的行使

债务人对让与人享有债权的，可以主张抵消 必要时办理批准、登记手续。

七、合同的权利义务的终止（合同的消灭）

（一）合同权利义务终止的情形（法定事由）

1、履行终止 2、解除 3、抵消 4、提存 5、免除 6、混同 7、其它

（二）合同的解除

1、种类：协商解除、法定解除（单方解除、通知解除）

2、约定解除：

（1）、协商解除：A. 时间：合同生效后，履行完毕之前 B. 程序：协商一致 C. 限制：不能违反合同成立的条件、不能损害国家利益或社会公共利益

（2）约定解除权：A. 即约定行使解除权的条件，当条件成就时，一方当事人可以解除合同 B. 不得违反法律、行政法规的规定；不得违反社会公共利益；必要时（法律规定）要经有关部门的批准。

3、法定解除：（1）时间：合同生效后，履行完毕以前（2）解除权的行使者：合同中的任何一方当事人（3）法定事由：A. 因不可抗力致使不能实现合同的目的 B. 履行期限届满以前，当事人一方明确表示或自己的行为表示不履行主要义务 C. 当事人一方迟延履行主要债务，经催告后在合理的期限内仍未履行 D. 当事人一方迟延履行主要债务或者由其它违约行为致使不能实现合同的目的 E. 其他情形。（4）程序：通知，到达时生效；对方有异议的，请求法院或者仲裁机构确认（5）限制：必要时要经批准、登记（6）效力：尚未履行的终止履行；已经履行的，恢复原状、采取补救措施、赔偿损失；

不影响原合同中结算和清理条款的效力

4、抵消：A、当事人互负到期的债务，互享债权 B、通知 C、不得附条件和期限

5、提存：A、法定事由 B、通知债权人（下落不明除外）、继承人、监护人 C、风险、孳息、费用一并转移给债权人 D、债权人提取提存物的除斥期间是5年

6、免除：A、债权人放弃债权 B、从权利也随之消灭

7、混同：主要发生在当事人合并、以及继承关系中

8、其他：

代理人死亡、丧失民事行为能力时，委托代理关系中止（委托合同消灭）

八、违约责任（违反合同的责任）

1、针对有效合同

2、条件：A、合同履行期限届满时才能追究；

《2011年公务员考试行测考试100套华图真题》

B、但是，在履行期限届满前，一方明确表示或以自己的行为表面不履行义务的，对方在履行期限届满之前，也可以主张。

3、主要形式：继续履行、采取补救措施、赔偿损失、支付违约金、定金罚则、价格制裁、信贷制裁等。

继续履行：A、法定事由：一方未支付价款或报酬、一方不履行非金钱债务；

B、除外：不能履行（事实和法律上）；履行费用过高；债权人未请求。

补救措施：修理、更换、重作、退货、减少价款或报酬。仅仅针对履行质量不符合约定

赔偿损失：A、法定事由：一方违约、采取补救措施后对方还有损失的

B、额度：直接损失和间接损失（可得利益损失），不得超过违反合同一方订立合同时预见到或者应当预见到的因违反合同可能造成的损失。

支付违约金：A、违约金具有惩罚性：无论非违约方有无经济损失，违约方都应支付违约金；

B、违约金是经济补偿手段：违约金低于损失的，可以要求增加；违约金高于损失的，可以要求减少。

C、支付了违约金，就不能再要求赔偿损失；但是，不排除继续履行。

定金：A、定金罚则； B、定金和违约金不能并用； C、定金不能弥补损失的，可以请求赔偿损失。

免除：A、法定事由——不可抗力、 B、限制：迟延履行后发生不可抗力的不能免责；法律规定因不可抗力造成违约不能免责的，应承担无过错责任

专家谈行测法律常识之<仲裁法>考试要点

[来源：北京金路公务员考试研究中心]

一、不能仲裁事项

婚姻、收养、监护、扶养、继承、行政机关侵犯其合法经营自主权的纠纷等纠纷不能仲裁；依法应当由行政机关处理的行政争议不能仲裁。

二、仲裁的基本原则

（一）当事人意思自治原则。

裁的自愿原则体现：决定是否将争议提交仲裁；决定仲裁解决的争议事项；自愿选择仲裁机构和仲裁员；自愿选择仲裁地点；自愿选择仲裁规则或者仲裁适用的法律

（二）根据事实、符合法律、公平合理地解决纠纷的原则。

（三）独立公正原则。

（四）一裁终局原则是指（仲裁裁决作出后，当事人就同一纠纷再申请仲裁或者向人民法院起诉的，仲裁委员会或者人民法院不予受理）。

三、仲裁协议

（一）仲裁协议的内容：请求仲裁的意思表示；仲裁事项；选定的仲裁委员会。

（二）仲裁协议的效力：对当事人、对仲裁机构、对法院。

（三）仲裁条款的独立性：仲裁条款具有独立于主合同的效力。

四、仲裁程序

（一）申请和受理。1、申请仲裁的条件：有仲裁协议、有具体的仲裁请求和事实理由、属于仲裁委员会受案范围。2、仲裁申请书。3、仲裁受理。

《2011年公务员考试行测考试 100 套华图真题》

(二) 审理和裁决。1、开庭准备; 2、庭审调查; 3、庭审辩论; 4、调解; 5、评议与裁决。

(三) 财产保全: 由当事人申请, 由仲裁委员会将申请提交给被申请人住所地或财产所在地法院裁定。

五、仲裁委员会性质

中国国际经济贸易仲裁委员会是(民间组织)

六、有下列情形之一的, 仲裁协议无效: (一) 约定的仲裁事项超出法律规定的仲裁范围的; (二) 无民事行为能力人或者限制民事行为能力人订立的仲裁协议; (三) 一方采取胁迫手段, 迫使对方订立仲裁协议的。

七、被申请人提出证据证明仲裁裁决有下列情形之一的, 经人民法院组成合议庭审查核实, 裁定不予执行:

(一) 当事人在合同中没有订有仲裁条款或者事后没有达成书面仲裁协议的; (二) 裁决的事项不属于仲裁协议的范围或者仲裁机构无权仲裁的; (三) 仲裁庭的组成或者仲裁的程序违反法定程序的; (四) 认定事实的主要证据不足的; (五) 适用法律确有错误的; (六) 仲裁员在仲裁该案时有贪污受贿, 徇私舞弊, 枉法裁决行为的。

金路专家谈行测法律常识之<公司法>要点

[来源: 北京金路公务员考试研究中心]

1、有限责任公司由五十个以下股东出资设立

2、有限责任公司的注册资本为在公司登记机关登记的全体股东认缴的出资额。公司全体股东的首次出资额不得低于注册资本的百分之二十, 也不得低于法定的注册资本最低限额, 其余部分由股东自公司成立之日起两年内缴足; 其中, 投资公司可以在五年内缴足。

3、有限责任公司注册资本的最低限额为人民币三万元。法律、行政法规对有限责任公司注册资本的最低限额有较高规定的, 从其规定。

4、全体股东的货币出资金额不得低于有限责任公司注册资本的百分之三十。

5、股东会会议作出修改公司章程、增加或者减少注册资本的决议, 以及公司合并、分立、解散或者变更公司形式的决议, 必须经代表三分之二以上表决权的股东通过。

6、监事会应当包括股东代表和适当比例的公司职工代表, 其中职工代表的比例不得低于三分之一,

7、董事、高级管理人员不得兼任监事。

8、一人有限责任公司的注册资本最低限额为人民币十万元。股东应当一次足额缴纳公司章程规定的出资额。

8、国有独资公司, 是指国家单独出资、由国务院或者地方人民政府授权本级人民政府国有资产监督管理机构履行出资人职责的有限责任公司。国有独资公司不设股东会股份有限公司

1、股份有限公司的设立, 可以采取发起设立或者募集设立的方式。

2、发起设立, 是指由发起人认购公司应发行的全部股份而设立公司。股份有限公司采取发起设立方式设立的, 注册资本为在公司登记机关登记的全体发起人认购的股本总额。公司全体发起人的首次出资额不得低于注册资本的百分之二十, 其余部分由发起人自公司成立之日起两年内缴足; 其中, 投资公司可以在五年内

《2011年公务员考试行测考试 100 套华图真题》

缴足。在缴足前，不得向他人募集股份。

3、募集设立，是指由发起人认购公司应发行股份的一部分，其余股份向社会公开募集或者向特定对象募集而设立公司。股份有限公司采取募集方式设立的，注册资本为在公司登记机关登记的实收股本总额。以募集设立方式设立股份有限公司的，发起人认购的股份不得少于公司股份总数的百分之三十五；

4、设立股份有限公司，应当有二人以上二百人以下为发起人，其中须有半数以上的发起人在中国境内有住所。

5、股份有限公司注册资本的最低限额为人民币五百万元。法律、行政法规对股份有限公司注册资本的最低限额有较高规定的，从其规定。

6、发行股份的股款缴足后，必须经依法设立的验资机构验资并出具证明。发起人应当自股款缴足之日起三十日内主持召开公司创立大会。创立大会由发起人、认股人组成。

7、发行的股份超过招股说明书规定的截止期限尚未募足的，或者发行股份的股款缴足后，发起人在三十日内未召开创立大会的，认股人可以按照所缴股款并加算银行同期存款利息，要求发起人返还。

8、发起人应当在创立大会召开十五日前将会议日期通知各认股人或者予以公告。创立大会应有代表股份总数过半数的发起人、认股人出席，方可举行。

9、股东大会作出决议，必须经出席会议的股东所持表决权过半数通过。但是，股东大会作出修改公司章程、增加或者减少注册资本的决议，以及公司合并、分立、解散或者变更公司形式的决议，必须经出席会议的股东所持表决权的三分之二以上通过。

1 股份有限公司设董事会，其成员为五人至十九人。

股份有限公司设监事会，其成员不得少于三人。董事、高级管理人员不得兼任监事。

11、发起人持有的本公司股份，自公司成立之日起一年内不得转让。公司公开发行股份前已发行的股份，自公司股票在证券交易所上市交易之日起一年内不得转让。

12、公司董事、监事、高级管理人员应当向公司申报所持有的本公司的股份及其变动情况，在任职期间每年转让的股份不得超过其所持有本公司股份总数的百分之二十五；所持本公司股份自公司股票上市交易之日起一年内不得转让。上述人员离职后半年内，不得转让其所持有的本公司股份。

专家谈行测法律常识之<证券法>考试要点

[来源: 北京金路公务员考试研究中心]

一、有下列情形之一的，为公开发行：

- (一) 向不特定对象发行证券；
- (二) 向累计超过二百人的特定对象发行证券；
- (三) 法律、行政法规规定的其他发行行为。

非公开发行证券，不得采用广告、公开劝诱和变相公开方式

公司公开发行新股，应当符合下列条件：

- (一) 具备健全且运行良好的组织机构；
- (二) 具有持续盈利能力，财务状况良好；
- (三) 最近三年财务会计文件无虚假记载，无其他重大违法行为；

《2011年公务员考试行测考试 100 套华图真题》

(四)经国务院批准的国务院证券监督管理机构规定的其他条件。

二、公开发行公司债券，应当符合下列条件：

(一)股份有限公司的净资产不低于人民币三千万元，有限责任公司的净资产不低于人民币六千万元；

(二)累计债券余额不超过公司净资产的百分之四十；

(三)最近三年平均可分配利润足以支付公司债券一年的利息；

(四)筹集的资金投向符合国家产业政策；

(五)债券的利率不超过国务院限定的利率水平；

(六)国务院规定的其他条件。

公开发行公司债券筹集的资金，必须用于核准的用途，不得用于弥补亏损和非生产性支出。上市公司发行可转换为股票的公司债券，除应当符合第一款规定的条件外，还应当符合本法关于公开发行股票的条件，并报国务院证券监督管理机构核准。

三、有下列情形之一的，不得再次公开发行公司债券：

(一)前一次公开发行的公司债券尚未募足；

(二)对已公开发行的公司债券或者其他债务有违约或者延迟支付本息的事实，仍处于继续状态；

(三)违反本法规定，改变公开发行公司债券所募资金的用途。

四、证券承销

向不特定对象公开发行的证券票面总值超过人民币五千万元的，应当由承销团承销。承销团应当由主承销和参与承销的证券公司组成。证券的代销、包销期限最长不得超过九十日。证券公司在代销、包销期内，对所代销、包销的证券应当保证先行出售给认购人，证券公司不得为本公司预留所代销的证券和预先购入并留存所包销的证券。

五、股票发行采取溢价发行

其发行价格由发行人与承销的证券公司协商确定。股票发行采用代销方式，代销期限届满，向投资者出售的股票数量未达到拟公开发行股票数量百分之七十的，为发行失败。发行人应当按照发行价并加算银行同期存款利息退还股票认购人。

六、股票转让

上市公司董事、监事、高级管理人员、持有上市公司股份百分之五以上的股东，将其持有的该公司的股票在买入后六个月内卖出，或者在卖出后六个月内又买入，由此所得收益归该公司所有，公司董事会应当收回其所得收益。但是，证券公司因包销购入售后剩余股票而持有百分之五以上股份的，卖出该股票不受六个月时间限制。

七、股份有限公司申请股票上市，应当符合下列条件：

(一)股票经国务院证券监督管理机构核准已公开发行；

(二)公司股本总额不少于人民币三千万元；

(三)公开发行的股份达到公司股份总数的百分之二十五以上；公司股本总额超过人民币四亿元的，公开发行股份的比例为百分之十以上；

(四)公司最近三年无重大违法行为，财务会计报告无虚假记载。

八、公司申请公司债券上市交易，应当符合下列条件：

(一)公司债券的期限为一年以上；

(二)公司债券实际发行额不少于人民币五千万元；

《2011年公务员考试行测考试 100 套华图真题》

(三)公司申请债券上市时仍符合法定的公司债券发行条件。

九、重大事件

(一)公司的经营方针和经营范围的重大变化;

(二)公司的重大投资行为和重大的购置财产的决定;

(三)公司订立重要合同,可能对公司的资产、负债、权益和经营成果产生重要影响;

(四)公司发生重大债务和未能清偿到期重大债务的违约情况;

(五)公司发生重大亏损或者重大损失;

(六)公司生产经营的外部条件发生的重大变化;

(七)公司的董事、三分之一以上监事或者经理发生变动;

(八)持有公司百分之五以上股份的股东或者实际控制人,其持有股份或者控制公司的情况发生较大变化;

(九)公司减资、合并、分立、解散及申请破产的决定;

(十)涉及公司的重大诉讼,股东大会、董事会决议被依法撤销或者宣告无效;

(十一)公司涉嫌犯罪被司法机关立案调查,公司董事、监事、高级管理人员涉嫌犯罪被司法机关采取强制措施;

(十二)国务院证券监督管理机构规定的其他事项。

十、股份超比例规定

通过证券交易所的证券交易,投资者持有或者通过协议、其他安排与他人共同持有一个上市公司已发行的股份达到百分之五时,应当在该事实发生之日起三日内,向国务院证券监督管理机构、证券交易所作出书面报告,通知该上市公司,并予公告;在上述期限内,不得再行买卖该上市公司的股票。

投资者持有或者通过协议、其他安排与他人共同持有一个上市公司已发行的股份达到百分之五后,其所持该上市公司已发行的股份比例每增加或者减少百分之五,应当依照前款规定进行报告和公告。在报告期限内和作出报告、公告后二日内,不得再行买卖该上市公司的股票。

通过证券交易所的证券交易,投资者持有或者通过协议、其他安排与他人共同持有一个上市公司已发行的股份达到百分之三十时,继续进行收购的,应当依法向该上市公司所有股东发出收购上市公司全部或者部分股份的要约。

收购上市公司部分股份的收购要约应当约定,被收购公司股东承诺出售的股份数额超过预定收购的股份数额的,收购人按比例进行收购。收购要约约定的收购期限不得少于三十日,并不得超过六十日。在上市公司收购中,收购人持有的被收购的上市公司的股票,在收购行为完成后的十二个月内不得转让。

十一、设立证券公司,应当具备下列条件:

(一)有符合法律、行政法规规定的公司章程;

(二)主要股东具有持续盈利能力,信誉良好,最近三年无重大违法违规记录,净资产不低于人民币二亿元;

(三)有符合本法规定的注册资本;

(四)董事、监事、高级管理人员具备任职资格,从业人员具有证券从业资格;

(五)有完善的风险管理与内部控制制度;

(六)有合格的经营场所和业务设施;

(七)法律、行政法规规定的和经国务院批准的国务院证券监督管理机构规定的其他条件。

证券公司不得为其股东或者股东的关联人提供融资或者担保。

《2011 年公务员考试行测考试 100 套华图真题》

国家机关工作人员和法律、行政法规规定的禁止在公司中兼职的其他人员，不得在证券公司中兼任职务。

十二、证券公司可以经营下列部分或者全部业务

- (一) 证券经纪；
- (二) 证券投资咨询；
- (三) 与证券交易、证券投资活动有关的财务顾问；
- (四) 证券承销与保荐；
- (五) 证券自营；
- (六) 证券资产管理；
- (七) 其他证券业务。

证券公司经营(一)项至第(三)项业务的，注册资本最低限额为人民币五千万元；经营第(四)项至第(七)项业务之一的，注册资本最低限额为人民币一亿元；经营第(四)项至第(七)项业务中两项以上的，注册资本最低限额为人民币五亿元。证券公司的注册资本应当是实缴资本。

十三、证券登记结算机构

是为证券交易提供集中登记、存管与结算服务，不以营利为目的的法人。设立证券登记结算机构必须经国务院证券监督管理机构批准。

十四、设立证券登记结算机构，应当具备下列条件：

- (一) 自有资金不少于人民币二亿元；
- (二) 具有证券登记、存管和结算服务所必须的场所和设施；
- (三) 主要管理人员和从业人员必须具有证券从业资格；
- (四) 国务院证券监督管理机构规定的其他条件。证券登记结算机构的名称中应当标明证券登记结算字样。

十五、证券登记结算机构履行下列职能：

- (一) 证券账户、结算账户的设立；
- (二) 证券的存管和过户；
- (三) 证券持有人名册登记；
- (四) 证券交易所上市证券交易的清算和交收；
- (五) 受发行人的委托派发证券权益；
- (六) 办理与上述业务有关的查询；
- (七) 国务院证券监督管理机构批准的其他业务。

十六、证券服务机构

投资咨询机构、财务顾问机构、资信评级机构、资产评估机构、会计师事务所从事证券服务业务，必须经国务院证券监督管理机构和有关主管部门批准。

证券业协会是证券业的自律性组织，是社会团体法人。证券公司应当加入证券业协会。

2007 年行政职业能力测试数量关系精讲

【来源：北京金路公务员考试研究中心】

如何应对《测验》

用长远的眼光来看待你的课程，投入极大的兴趣，付出艰辛，用自己行动来证明自己。胜利将向你挥手，成功之门为你而开。

答题方略

《2011 年公务员考试行测考试 100 套华图真题》

1, 把握考试时间

2, 答题的顺序

3, 严守考场纪律

4, 保持心理稳定

5, 学会放弃

数字敏感度训练

1、现在有 10 颗树，以怎样的栽植方式，能保证每行每列都是 4 颗？（画出种植图）

化学与数学的结合题型

2、水光潋影晴方好，山色空蒙雨亦奇。

欲把西湖比西子，淡妆浓抹总相宜。

[宋]苏轼《饮湖上初晴后雨》

后人追随意境，写了对联：

山山水水，处处明明秀秀。

晴晴雨雨，时时好好奇奇。

在 以下两式的左边添加适当的数学符号，使其变成正确的等式：

1122334455=10000

6677889900=10000

我们首先应该掌握的数列及平方数

自然数列：1, 2, 3.....

奇数数列：1, 3, 5.....

偶数数列：2, 4, 6.....

素数数列（质数数列）：1, 3, 5, 7, 11, 13.....

自然数平方数列：1*, 2*, 3*..... *=2

自然数立方数列：1*, 2*, 3*... *=3

等差数列：1, 6, 11, 16, 21, 26.....

等比数列：1, 3, 9, 27, 81, 243.....

无理式数列：..... 等

平方数应该掌握 20 以下的，立方数应该掌握 10 以下的；特殊平方数的规律也的掌握：如，15, 25,.. 的平方心算法。

数量关系

数量关系测验主要是测验考生对数量关系的理解与计算的能力，体现了一个人抽象思维的发展水平。

数量关系测验含有速度与难度的双重性质。解答数量关系测验题不仅要求考生具有数字的直觉能力，还需要具有判断、分析、推理、运算等能力。

知识程度的要求：大多数为小学知识，初中高中知识也只占极少部分。

一、数字推理

1. 2000 年—2003 年国家公务员考试数字推理的题量为 5 道题，2004 年国家公务员考试取消了对数字推理这一题型的考查，2005 年又恢复了对该题型的考查，但题量增加为 10 道题，从试卷结构分析来看，2006 年这一题型的题量为 5 道题左右。2007 年可能会增加至

在 10 道题。

2. 题型考查重点将由二级数列转向三级数列

3. 将由以前重点研究两个数字之间的关系到现在重点研究三个数字之间的关

《2011年公务员考试行测考试 100 套华图真题》

系

4. 由以前顺序研究两个数字的关系, 到跳跃研究数字之间的关系

5. 平方数列将出现新的变化

6. 数字与汉字的结合, 会成为考试的一个难点

数字推理的题型分析

一、 等差数列及其变式

二、 等比数列及其变式

三、 等差与等比混合式

四、 求和相加式与求差相减式

五、 求积相乘式与求商相除式

六、 求平方数及其变式

七、 求立方数及其变式

八、 双重数列

九、 简单有理化式

十、 汉字与数字结合的推理题型

十一、 纯数字排列题目

二级等差数列的变式

1、 相减后构成自然数列即新的等差数列

25, 33, (), 52, 63

2、 相减后的数列为等比数列

9, 13, 21, (), 69

3、 相减后构成平方数列

111, 107, 98, (), 57

4、 相减后构成立方数列

1, 28, 92, (), 433

5、 平方数列的隐藏状态

10, 18, 33, (), 92

二级等比数列的变式

1、 相比后构成自然数列 (或等差数列)

6, 6, 12, 36, 144, ()

2、 与交替规律的结合 (相比后构成循环数列)

6, 9, 18, 27 ()

8, 8, 12, 24, 60, ()

3、 常数的参与 (采用+, -, *, /)

11, 23, 48, 99, ()

3, 8, 25, 74, ()

也可称做+1, -1 法则

其他例题我会尽快编出, 供大家参考.

数字推理常见的排列规律

(1) 奇偶数规律: 各个数都是奇数 (单数) 或偶数 (双数); [自然数列, 质数数列等]

(2) 等差: 相邻数之间的差值相等, 整个数字序列依次递增或递减。

(3) 等比: 相邻数之间的比值相等, 整个数字序列依次递增或递减;

(4) 二级等差: 相邻数之间的差或比构成了一个等差数列;

《2011 年公务员考试行测考试 100 套华图真题》

- (5) 二级等比数列：相邻数之间的差或比构成一个等比数列；
- (6) 加法规律：前两个数之和等于第三个数；
- (7) 减法规律：前两个数之差等于第三个数；
- (8) 乘法(除法)规律：前两个数之乘积(或相除)等于第三个数；
- (9) 完全平方数：数列中蕴含着一个完全平方数序列，或明显、或隐含；

2. 数学运算

数学运算题主要考查解决四则运算等基本数字问题的能力。

数学运算的试题一般比较简短，其知识内容和原理多限于小学数中的加、减、乘、除四则运算

解决实际问题的基本步骤：

实际问题（数字应用题）----- 数学模型

推理

演算

实际问题的解-----还原说明-----数学模型的解

1. 数学计算的题量将继续保持在 15 道题左右

2000 年—2004 年国家公务员考试数学计算的题量为 10 道题，2005 年国家公务员考试这一题型的题量增加为 15 道题，从试卷结构分析来看，2006、2007 年这一题型的题量将继续保持在 15 道题左右。

2. 和日常生活结合起来考查专项知识

3. 容斥原理重点考查三个集合的容斥关系

4. 时钟问题将成为新考点

5. 极为复杂的讨论题将成为考试的最难点

时钟问题

. 时钟问题

.... 时针的速度是分针速度的 $\frac{1}{12}$ ，所以分针每分钟比时针多走 $\frac{11}{12}$ 格。

例 1: 现在是 3 点，什么时候时针与分针第一次重合？

[分析]

.... 3 点时分针与时针相差 15 格，要使分针与时针重合，即要分针比时针多走 15 格，才能追上时针。而分针每分钟比时针多走 $\frac{11}{12}$ 格，所以

.... $15 / (\frac{11}{12}) = 16 \text{ 又 } \frac{4}{11} (\text{分})$.

例 7: 在 10 点与 11 点之间，钟面上时针与分针在什么时刻垂直？

[分析]

..... (1)、第一种情况：10 点时分针与时针相差 10 格，要使分针与时针垂直，分针要比时针相差 15 格才行，所以分针要多走 5 格后才能与时针垂直。

..... $5 / (\frac{11}{12}) = 5 \text{ 又 } \frac{5}{11} (\text{分})$

..... (2)、第二种情况：第二次垂直，分针要比时针多走 $50 - 15 = 35$ 格，所以

..... $35 / (\frac{11}{12}) = 38 \text{ 又 } \frac{2}{11} (\text{分})$.

例 8: 在 9 点与 10 点之间的什么时刻，分针与时针在一条直线上？

[分析]

..... 分针与时针成 180 度角时，分针与时针相差 30 格，而 9 点时分针与时针相差 15 格，所以要分针多走 15 格。

..... $15 / (\frac{11}{12}) = 16 \text{ 又 } \frac{4}{11} (\text{分})$

集合与容斥原理

《2011 年公务员考试行测考试 100 套华图真题》

集合是一种基本数学语言、一种基本数学工具。[19 世纪末,德国数学家康托]

有限集元素的个数(容斥原理)

解题公式: (1) $\text{card}(A \cup B) = \text{card}(A) + \text{card}(B) - \text{card}(A \cap B)$; (2) $\text{card}(A \cup B \cup C) = \text{card}(A) + \text{card}(B) + \text{card}(C) - \text{card}(A \cap B) - \text{card}(A \cap C) - \text{card}(B \cap C) + \text{card}(A \cap B \cap C)$

如下图所示:

例题:

开运动会时,高一某班共有 28 名同学参加比赛,有 15 人参加游泳比赛,有 8 人参加田径比赛,有 14 人参加球类比赛,同时参加游泳比赛和田径比赛的有 3 人,同时参加游泳比赛和球类比赛的有 3 人,没有人同时参加三项比赛,问同时参加田径比赛和球类比赛的有多少人?只参加游泳一项比赛的有多少人?

设 $A = \{\text{参加游泳比赛的同学}\}$, $B = \{\text{参加田径比赛的同学}\}$, $C = \{\text{参加球类比赛的同学}\}$

则 $\text{card}(A)=15$, $\text{card}(B)=8$, $\text{card}(C)=14$, $\text{card}(A \cup B \cup C)=28$

且 $\text{card}(A \cap B)=3$, $\text{card}(A \cap C)=3$, $\text{card}(A \cap B \cap C)=0$

由公式②得 $28 = 15 + 8 + 14 - 3 - 3 - \text{card}(B \cap C) + 0$

即 $\text{card}(B \cap C)=3$

所以同时参加田径和球类比赛的共有 3 人,而只参加游泳比赛的人有 $15 - 3 - 3 = 9$ (人)

数学计算的题型分析

1. 四则运算、平方、开方基本计算题型

2. 大小判断

3. 典型问题

(1) 比例问题 (2) 盈亏问题 (3) 工程问题 (4) 行程问题 (5) 栽树问题 (6) 方阵问题 (7) “动物同笼”思维模型 (8) 年龄问题 (9) 利润问题 (10) 面积问题 (11) 爬绳计算又称跳井问题 (12) 台阶问题 (13) 余数计算 (14) 日月计算 (15) 溶液问题 (16) 和差倍问题 (17) 排列组合问题 (18) 计算预资问题 (19) 归一问题 (20) 抽屉原理 (21) 其他问题

数字计算的解题方法

1. 加强训练 提高对数字的敏感度

2. 掌握一些数学计算的解题方法及技巧

3. 认真审题 把握题意

4. 寻找捷径 多用简便方法

5. 利用排除法提高做题 www.wttw.com

数字计算的规律方法概括

1. 基本计算方法

(1) 尾数估算法

(2) 尾数确定法

(3) 凑整法 是简便运算中最常用的方法,即根据交换律、结合律把可以凑成 10、20、30、50、100... 的数放在一起运算,从而提高运算速度。基本的凑整算式: $25 \times 8 = 200$ 等。

(4) 补数法 a、直接利用补数法巧算

b、间接利用补数法巧算又称凑整去补法

《2011 年公务员考试行测考试 100 套华图真题》

(5) 基准数法 当遇到两个以上的数相加且这些数相互接近时, 取一个数做基准数, 然后再加上每个加数与基准数的差, 从而求和。

(6) 数学公式求解法

如: 完全平方差、完全平方和公式的运用考查。

(7) 科学计数法的巧用

2. 工程问题的数量关系

工作量 = 工作效率 \times 工作时间

工作效率 = 工作量 / 工作时间

总工作量 = 各分工作量之和

此类题: 一般设总的工作量为 1;

3. 行程问题

(1) 相遇问题

甲从 a 地到 b 地, 乙从 b 地到 a 地, 然后两人在途中相遇, 实质上是甲乙一起走了 ab 之间这段路程, 如果两人同时出发, 那么: ab 之间的路程 = 甲走的路程 + 乙走的路程 = 甲的速度 \times 相遇时间 + 乙的速度 \times 相遇时间 = 甲乙速度和 \times 相遇时间

相遇问题的核心是速度和时间的问题

(2) 追及问题

追及路程 = 甲走的路程 - 乙走的路程 = 甲乙速度差 \times 追及时间

追及问题的核心是速度差问题

(3) 流水问题

顺水速度 = 船速 + 水速 逆水速度 = 船速 - 水速

因此 船速 = (顺水速度 + 逆水速度) / 2

水速 = (顺水速度 - 逆水速度) / 2

4. 植树问题

(1) 不封闭路线

(a) 两端植树, 则颗树比段数多 1;

颗树 = 全长 / 段数 + 1

(b) 一端植树, 则颗数与段数相等;

颗数 = 全长 / 段数

(c) 两端不植树, 则颗数比段数少 1。

颗数 = 全长 / 段数 - 1

(2) 封闭路线

植树的颗数 = 全长 / 段数

6. 跳井问题或称爬绳问题

完成任务的次数 = 井深或绳长 - 每次所爬米数 + 1

7. 年龄问题

方法 1: 几年后的年龄 = 大小年龄差 / 倍数差 - 小年龄

几年前的年龄 = 小年龄 - 大小年龄差 / 倍数差

方法 2: 一元一次方程解法

方法 3: 结果代入法, 此乃最优方法

甲对乙说: 当我的岁数是你现在岁数时, 你才 4 岁。乙对甲说: 当我的岁数到你现在岁数时, 你将有 67 岁。甲乙现在各有 ()。

A. 45 岁, 26 岁 B. 46 岁, 25 岁

《2011 年公务员考试行测考试 100 套华图真题》

C. 47 岁, 24 岁 D. 48 岁, 23 岁

甲-4=甲-乙, 67-甲=甲-乙

8, 鸡兔同笼问题

1, 《孙子算经》解法: 设头数为 a , 足数是 b 。则 $b/2-a$ 是兔数, $a-(b/2-a)$ 是鸡数。

2, 《丁巨算法》解法: 鸡数= $(4 \times \text{头总数} - \text{总足数}) / 2$ 兔数=总数-鸡数

兔数= $(\text{总足数} - 2 \times \text{头总数}) / 2$

鸡数=总数-兔数

著名古典小说《镜花缘》中的米兰芬算灯用的也是鸡兔同笼问题的解法。

9, 溶液问题

溶液=溶质+溶剂

浓度=溶质/溶液=溶质的质量分数

此类题涉及的考查类型:

(1) 稀释后, 求溶质的质量分数;

(2) 饱和溶液的计算问题;

注意: 一种溶剂可以同时和几种溶质互溶。

有关溶液混合的计算公式是:

$m(\text{浓}) \times c\%(\text{浓}) + m(\text{稀}) \times c\%(\text{稀}) = m(\text{混}) \times c\%(\text{混})$

由于 $m(\text{混}) = m(\text{浓}) + m(\text{稀})$, 上式也可以写成:

$m(\text{浓}) \times c\%(\text{浓}) + m(\text{稀}) \times c\%(\text{稀})$

$= [m(\text{浓}) + m(\text{稀})] \times c\%(\text{混})$

此式经整理可得:

$m(\text{浓}) \times [c\%(\text{浓}) - c\%(\text{混})]$

$= m(\text{稀}) \times [c\%(\text{混}) - c\%(\text{稀})]$

10、利润问题

利润=销售价(卖出价)-成本

利润率=利润/成本=(销售价-成本)/成本=销售价/成本-1

销售价=成本*(1+利润率)

成本=销售价/(1+利润率)

利润总额=营业利润+投资收益(减投资损失)+补贴收入+营业外收入-营业外支出

营业利润=主营业务利润+其他业务利润-营业费用-管理费用-财务费用

主营业务利润=主营业务收入-主营业务成本-主营业务税金及附加 其他业利润=其他业务收入-其他业务支出

1、资本金利润率 是衡量投资者投入企业资本的获利能力的指标。其计算公式为:

资本金利润率=利润总额/资本金总额 X100%

企业资本金利润率越高, 说明企业资本的获利能力越强。 2、销售收入利润率 是衡量企业销售收入的收益水平的指标, 其计算公式是:

销售收入利润率=利润总额/销售收入净额 X100%

销售收入利润率是反映企业获利能力的重要指标, 这项指标越高, 说明企业销售收入获取利润的能力越强。 3、成本费用利润率 是反映企业成本费用与利润的关系的指标。其计算公式为:

《2011 年公务员考试行测考试 100 套华图真题》

成本费用利润率=利润总额/成本费用总额 X100%

1 1、预资问题

对预资问题的分析，我们会发现此类问题与比例问题是相通的。按照比例问题的解法对预资问题同样适用。

1 2、面积问题

解决面积问题的核心是“割、补”思维，既当我们看到一个关于求解面积的问题，不要立刻套用公式去求解，这样解会进如误区。

对于此类问题的通常解法是“辅助线法”，即通过引入新的辅助线将图形分割或者补全为很容易求得面积的规则图形，从而快速求的面积。

1 3、和、差、倍问题

求大小两个数的值

$$1、(和 + 差) / 2 = 较大数$$

$$2、(和 - 差) / 2 = 较小数$$

和差问题的基本解题方法是：

$$1、(和 + 差) / 2 = 较大数$$

$$较大数 - 差 = 较小数$$

$$(和 - 差) / 2 = 较小数$$

$$较小数 + 差 = 较大数$$

2、一元一次方程解法

1、南京长江大桥共分两层，上层是公路桥，下层是铁路桥。铁路桥和公路桥共长 11270 米，铁路桥比公路桥长 2270 米，问南京长江大桥的公路和铁路桥各长多少米？

2、三个小组共有 180 人，一、二两个小组人数之和比第三小组多 20 人，第一小组比第二小组少 2 人，求第一小组的人数

3、甲、乙两筐苹果，甲筐比乙筐多 19 千克，从甲筐取出多少千克放入乙筐，就可以使乙筐中的苹果比甲筐的多 3 千克？

4、在一个减法算式里，被减数、减数与差的和等于 120，而减数是差的 3 倍，那么差等于多少？

1 分析：和差基本问题，和 1127 米，差 2270 米，大数=（和+差）/2，小数=（和-差）/2。解：铁路桥长=(11270+2270)/2=6770 米，公路桥长=(11270-2270)/2=4500 米。

2 分析：先将一、二两个小组作为一个整体，这样就可以利用基本和差问题公式得出第一、二两个小组的人数和，然后对第一、二两个组再作一次和差基本问题计算，就可以得出第一小组的人数。

3 分析：从甲筐取出放入乙筐，总数不变。甲筐原来比乙筐多 19 千克，后来比乙筐少 3 千克，也即对 19 千克进行重分配，甲筐得到的比乙筐少 3 千克。于是，问题就变成最基本的和差问题：和 19 千克，差 3 千克。

4 分析：被减数=减数+差，所以，被减数和减数与差的和就各自等于被减数、减数与差的和的一半，即： 被减数=减数+差=（被减数+减数+差）/2。因此，减数与差的和= 120/2=60。这样就是基本的和倍问题了。小数=和/（倍数+1） 解：减数与差的和=120/2=60，差=60/（3+1）=15

1 4、排列、组合问题

例 1. 书架上放有 3 本不同的数学书，5 本不同的语文书，6 本不同的英语书。

（1）若从这些书中任取一本，有多少种不同的取法？ （2）若从这些书中取数学

《2011 年公务员考试行测考试 100 套华图真题》

书、语文书、英语书各一本，有多少种不同的取法？（3）若从这些书中取不同的科目的书两本，有多少种不同的取法。解：（1）由于从书架上任取一本书，就可以完成这件事，故应分类，由于有 3 种书，则分为 3 类然后依据加法原理，得到的取法种数是： $3+5+6=14$ 种。（2）由于从书架上任取数学书、语文书、英语书各 1 本，需要分成 3 个步骤完成，据乘法原理，得到不同的取法种数是： $3 \times 5 \times 6=90$ （种）。（3）由于从书架上任取不同科目的书两本，可以有 3 类情况（数语各 1 本，数英各 1 本，语英各 1 本）而在每一类情况中又需分 2 个步骤才能完成。故应依据加法与乘法两个原理计算出共得到的不同的取法种数是： $3 \times 5+3 \times 6+5 \times 6=63$ （种）。

例 2、5 位高中毕业生，准备报考 3 所高等院校，每人报且只报一所，不同的报名方法共有多少种？

解：5 个学生中每人都可以在 3 所高等院校中任选一所报名，因而每个学生都有 3 种不同的报名方法，根据乘法原理，得到不同报名方法总共有

$$3 \times 3 \times 3 \times 3 \times 3=3^5=243 \text{ (种)}$$

15、盈亏问题

把一定数量（未知）平分成一定份数（未知），根据两次试分的盈（或亏）数量与每次试分的每份数量，求总数量和份数的公式是

份数=两次盈（或亏）的相差数量 \div 两次每份数量差，

总数量=每份数量 \times 份数+盈（或-亏）

1、用绳测井深，把绳三折，井外余 2 米，把绳四折，还差 1 米不到井口，那么井深多少米？绳长多少米？

典型盈亏问题。盈亏总数= $3 \times 2+4 \times 1=10$ 米。解答：井深= $(3 \times 2+4 \times 1) / (4-3)=10$ 米，绳长= $(10+2) \times 3=36$ 米。

2、有一个班的同学去划船。他们算了一下，如果增加 1 条船，正好每条船坐 6 人；如果减少 1 条船，正好每条船坐 9 个人。问：这个班共有多少名同学？

分析：增加一条和减少一条，前后相差 2 条，也就是说，每条船坐 6 人正好，每条船坐 9 人则空出两条船。这样就是一个盈亏问题的标准形式了。解答：增加一条船后的船数= $9 \times 2 / (9-6)=6$ 条，这个班共有 $6 \times 6=36$ 名同学。

重要书籍介绍

《十万个为什么》数学篇

小学奥数-华罗庚专题讲座

国考行政职业能力测试：法律常识判断习题

【来源：北京金路公务员考试研究中心】

2、共同历史传统的国家或者地区的法律的总称，在法学上，称为（ ）。

- A. 法律体系 B. 法的历史类型
C. 法系 D. 法律制度

3. 委任状、逮捕证、营业执照都属于（ ）。

- A. 规范性法律文件 B. 非规范性法律文件
C. 司法机关公文 D. 证据

4. 法系的分类标准是（ ）。

- A. 法的历史类型 B. 法的历史传统
C. 法律体系 D. 法律部门

《2011年公务员考试行测考试 100 套华图真题》

5. 以判例作为正式意义上的法律渊源的有()。
A. 罗马法系 B. 社会主义法系
C. 罗马法系和普通法系 D. 普通法系
6. 根据《宪法》的规定,全国人民代表大会常务委员会有权制定()。
A. 基本法律 B. 行政法规
C. 特别行政区的基本法 D. 除基本法律以外的其他法律
7. 原始社会的社会规范是()。
A. 自然法 B. 习惯性
C. 不成文法 D. 习惯
8. 大陆法系在法的形式主要采用()。
A. 判例法 B. 习惯法
C. 法典 D. 不成文法
9. 在我国,专门的法律监督机关是指()。
A. 人民法院 B. 人民检察院
C. 公安机关 D. 纪律检查委员会
10. 社会主义法制建设的中心环节是()。
A. 有法可依 B. 有法必依
C. 执法必严 D. 违法必究
11. 司法解释是指()。
A. 司法机关在适用法律时对法所作的解释
B. 最高司法机关在适用法律过程中对具体应用法律问题所作的解释
C. 各级人民法院在审理案件中对法律的解释
D. 各级人民检察院在检察工作中对法律所作的解释
12. 划分国内法与国际法的标准为()。
A. 法律效力范围的不同
B. 法律关系的主体的不同
C. 法律规定的内容的不同
D. 法律地位、法律效力、内容和制定程序的不同
13. 违法客体是指法律所保护的而为违法行为所侵害的()。
A. 人和物 B. 违法对象
C. 社会关系 D. 社会秩序
14. 法律事实包括:一法律事件,二()。
A. 法律后果 B. 法律制裁
C. 法律行为 D. 法律责任
15. 社会主义法产生的特点是()。
A. 在没有自己的经济基础的条件下产生的
B. 在已有自己的经济基础的条件下产生的
C. 最初以资本主义作为自己的经济基础而建立起来的
D. 不需要有自己的经济基础
16. 社会主义法与社会主义道德的共同点是()。
A. 调整范围相同 B. 规范内容相同
C. 要求相同 D. 历史使命相同
17. 法典编纂是指()。
A. 是对原有全部规范性文件进行整理

《2011 年公务员考试行测考试 100 套华图真题》

- B. 是在不改变原有规范性文件内容的前提下进行加工
C. 是对属于某一法律部门的规范性文件进行整理加工,编制成新的系统化的法律文件因而是一种立法活动
D. 不是一种立法活动
18. 根据法律效力的强弱程度,可将法律规范分为()。
A. 确定性规范和准用性规范 B. 委任性规范和准用性规范
C. 强行性规范和任意性规范 D. 授权性规范和义务性规范
19. 法律规定的不以当事人的主观意志为转移的能引起法律关系的产生、变更和消灭的属于()。
A. 法律解释 B. 法律事件
C. 法律行为 D. 法律部门
20. 作为我国社会主义法律渊源之一的国际条约是指()。
A. 国际宣言
B. 国际公约
C. 国际协定
D. 我国同外国缔结或我国加入并生效的国际规范性法律文件
21. 全国人民代表大会常务委员会对法律所作的解释属于()。
A. 立法解释 B. 司法解释
C. 审判解释 D. 行政解释
22. 社会主义法同一切剥削阶级法的一个根本区别,就在于社会主义法体现了()。
A. 阶级性与社会性的统一 B. 阶级性与人民性的统一
C. 阶级性与强制性的统一 D. 阶级性与规范性的统一
23. 法律关系参加者能以自己的行为享有权和承担义务的资格在法学上,称为()。
A. 权利能力 B. 行为能力
C. 法律事实 D. 法律关系内容
24. 在我国,16 周岁以上的未成年人以自己的劳动收入为主要生活来源的,应视为()。
A. 限制行为能力人 B. 无行为能力人
C. 完全行为能力人 D. 部分限制行为能力人
25. 法律对社会发展能否起进步作用,决定于()。
A. 是否适用一切经济基础的需要
B. 是否能积极地为自己的经济基础服务
C. 法律所服务的经济基础是否适应生产力的需要
D. 是否适应国家的需要
26. 最高人民法院对在审判过程中如何具体应用法律、法律规范所作的解释()。
A. 对下级法院具有普遍约束力 B. 没有普遍约束力
C. 对下级法院没有约束力 D. 有普遍的约束力
27. 法律调整的对象是划分部门法的()。

《2011年公务员考试行测考试 100 套华图真题》

- A. 客观标准 B. 唯一标准
C. 唯一的客观标准 D. 首要标准
28. 贯彻“以事实为根据，以法律为准绳”这一原则，适用法律时()。
A. 不应以党的政策为指导 B. 应该以党的政策为指导
C. 有时也要以党的政策为指导 D. 法律应无条件地服从党的政策
29. 法律规范生效的时间，如无明文规定时，其生效时间应是()。
A. 法律通过之日 B. 法律公布之日
C. 法律批准之日 D. 法律签署之日
30. 允许法律关系参加者自行确定其权利和义务具体内容的规范，属于()。
A. 任意性规范 B. 授权性规范
C. 委任性规范 D. 准用性规范
31. 监察机关有权对下列哪种对象实施监察活动?()
A. 国家司法机关。
B. 国家立法机关及其工作人员。
C. 司法机关及其工作人员。
D. 国家行政机关、国家公务员和国家行政机关任命的其他人员。
32. 对违法行为给予行政处罚的规定必须公开，未经公开的，不得作为行政处罚的依
据，这属于《行政处罚法》规定的行政处罚原则中的哪一项?()
A. 处罚法定原则。 B. 处罚公正公开原则。
C. 处罚与教育相结合原则。 D. 保障相对人权利。
33. 行政机关作出责令停产停业行政处罚决定前，当事人要求听证的，应当
在行政机
关告知后几日内提出；行政机关应当在听证前几日通知当事人举行听证的时间，
地点？对此，依次两个日期都正确的选项是哪项?()
A. 5 日，10 日。 B. 7 日，15 日。
C. 3 日，7 日。 D. 5 日，7 日。
34. 部委规章可以创设行政处罚的范围是下列哪个选项?()
A. 警告与罚金。
B. 警告与一定数额的罚款。
C. 警告、罚款与没收财产。
D. 限制人身自由、吊销营业执照以外的行政处罚。
35. 限制人身自由的行政处罚()。
A. 只能由法律设定
B. 只能由行政法规设定
C. 可以由国务院部、委员会制定的规章设定
D. 可以由地方性法规设定
36. 下列关于行政裁决特征的表述，()是不正确的。
A. 行政裁决的对象是特定的民事、刑事纠纷
B. 行政裁决的主体是法律授权的特定行政机关
C. 行政裁决在形式上具有准司法性
D. 行政裁决在效果上具有强制性
37. 下列有关我国国家公务员的论述，正确的一项是()。

《2011 年公务员考试行测考试 100 套华图真题》

- A. 国家公务员就是我国行政机关的一切工作人员
- B. 国家公务员包括行政机关、司法机关中执行国家公务的人员
- C. 国家公务员分为政务类公务员和业务类公务员
- D. 国家公务员分为各级人民政府组成人员的公务员和一般公务员

38. 行政制裁，是指国家行政机关对行政违法者依其行政责任所实施的强制性惩罚

措施。行政制裁不包括()。

- A: 行政处罚 B. 行政处理
- C. 行政处分 D. 劳动教养

39. 根据《立法法》的规定，法律案审议的结果不可能是()。

- A. 签署公布 B. 终止审议
- C. 进一步审议 D. 提请表决

40. 行政诉讼中的原、被告一般是()。

- A. 原告为公民、法人或其他组织，被告是国家行政机关
- B. 原告是国家机关，被告是国家行政机关工作人员
- C. 原被告均是国家机关行政工作人员
- D. 原告是国家行政机关，被告是公民、法人或其他组织

41. 我国历史上第一部社会主义类型的宪法是()。

- A. 1954 年宪法
- B. 《中华苏维埃共和国宪法大纲》
- C. 1957 年宪法
- D. 《中国人民政治协商会议共同纲领》

42. 欧洲大陆上第一部成文宪法是()。

- A. 1689 年英国《权利法案》 B. 1791 年法国宪法
- C. 1789 年法国《人权宣言》 D. 1919 年法国《魏玛宪法》

43. 新中国成立后，从()起宪法以根本法形式确认人民代表大会制度是我国的

政权组织形式。

- A. 1954 年 B. 1975 年
- C. 1978 年 D. 1982 年

44. 将宪法划分为社会主义类型的宪法和资本主义类型的宪法，这种分类的科学性，

是因为它()。

- A. 指出了宪法的内容 B. 总结了宪法形式上的特点
- C. 揭示了宪法的本质属性 D. 指出了国家的不同类型

45. 1954 年宪法所确认的基本原则是()。

- A. 政治协商原则
- B. 民主集中制原则
- C. 本国经验和外国经验相结合的原则
- D. 人民民主原则与社会主义原则

46. 世界历史上第一部资产阶级成文宪法是()。

- A. 1689 年英国《权利法案》 B. 1776 年美国《独立宣言》
- C. 1787 年美国宪法 D. 1791 年法国宪法

47. 我国现行的宪法是新中国建立以来的第()部宪法。

《2011年公务员考试行测考试 100 套华图真题》

A. 2 B. 3 C. 4 D. 5

48. 世界各国普遍重视对宪法实施的保障,其根本原因是()。

- A. 宪法具有最高的法律效力
- B. 宪法确认、维护统治阶级的根本利益
- C. 宪法有严格的修改程序
- D. 宪法规定了公民的基本权利和义务

49. 《共同纲领》规定中央人民政府委员会是当时的()。

- A. 最高国家政务机关 B. 最高国家管理机关
- C. 最高国家行政机关 D. 最高国家权力机关

50. 《宪法》规定今后国家的根本任务是()。

- A. 进行经济体制和政治体制改革 B. 进行社会主义物质文明建设
- C. 进行社会主义精神文明建设 D. 进行社会主义现代化建设

51. 《宪法》规定,我国行使宪法解释权的机关是()。

- A. 全国人民代表大会 B. 全国人大常委会
- C. 全国人大法律委员会 D. 全国人大法工委

52. 把宪法划分为成文宪法和不成文宪法的依据是()。

- A. 是否有统一的法典形式 B. 是否有最高法律效力
- C. 是否容易修改 D. 是否是书面形式

53. 在社会主义现代化建设的新的历史时期,统一战线称为()。

- A. 社会主义统一战线 B. 爱国统一战线
- C. 民族统一战线 D. 广泛的统一战线

54. 我国人民代表大会制度的核心内容和实质是()。

- A. 国家的一切权力属于人民 B. 少数服从多数原则
- C. 平等原则 D. 集体行使职权

55. 中华人民共和国的国家机构实行()原则。

- A. 首长负责制 B. 少数服从多数
- C. 民主集中制 D. 议行合一

56. 全国人大开展工作的基本形式是()。

- A. 组成代表团视察工作 B. 组成特定问题调查委员会
- C. 召开全国人大会议 D. 听取全国人大常委会的工作报告

57. 全国人大代表按照()组成代表团。

- A. 民族 B. 选举单位
- C. 地域 D. 职业

58. 全国人大常委会的重要日常工作,由()处理。

- A. 专门委员会 B. 委员会
- C. 委员长会议 D. 秘书长

59. 我国现行《宪法》规定,全国人民代表大会,委员会的组成人员中,应当有适当名额的()。

- A. 少数民族代表 B. 妇女代表
- C. 华侨代表 D. 军队代表

60. ()以上的地方各级人民政府设立审计机关。

- A. 设区的市 B. 县级
- C. 自治州 D. 省级

《2011 年公务员考试行测考试 100 套华图真题》

61. 地方各级人民法院对()负责。
- A. 上级人民法院
 - B. 本级人民法院
 - C. 本级人民代表团大会及其常务委员会
 - D. 上级人民代表大会及其常委会
62. 我国现行《选举法》规定, 选区划分的原则()。
- A. 可以按地区人口划分
 - B. 可以按居住状况划分
 - C. 可以按生产单位、事业单位或工作单位划分
 - D. 可以按居住状况划分, 也可以按生产单位、事业单位或工作单位划分
63. 选举权的普遍性是指()。
- A. 一切公民在平等的基础上进行选举
 - B. 一个国家内享有选举权的公民的广泛程度
 - C. 所有公民都享有选举权
 - D. 全国人民都有选举权
64. 我国《宪法》规定, 中华人民共和国公民在()的情况下, 有从国家和社会获得物质帮助的权利。
- A. 有病 B. 年老
 - C. 丧失劳动能力 D. 年老、疾病或丧失劳动能力
65. 全国人大会议每年举行一次, 由()召集。
- A. 全国人大常委会 B. 全国人大主席团
 - C. 委员长 D. 委员长会议
66. 下列哪项内容不属于我国行政诉讼受案范围?()
- A. 收容审查。 B. 劳动教养。
 - C. 行政拘留。 D. 逮捕犯罪嫌疑人。
67. 经复议的案件, 复议机关改变原具体行政行为的, 由下列哪个人民法院管辖?()
- A. 最初作出具体行政行为的行政机关所在地。
 - B. 复议机关所在地。
 - C. 最初作出具体行政行为的行政机关所在地人民法院或复议机关所在地。
 - D. c 选项中人民法院共同的上一级法院指定的。
68. 公民、法人或其他组织对具体行政行为在法定期限内不提起诉讼又不履行的, 行政机关可以申请人民法院强制执行其具体行政行为, 由下列哪个法院受理执行?()
- A. 申请人所在地的基层人民法院。 B. 被执行人所在地的基层人民法院。
 - C. 一审人民法院。 D. 终审人民法院。
69. 《行政诉讼法》第 55 条规定, 人民法院判决被告重新作出具体行政行为的, 被告不得以同一事实和理由作出与原具体行政行为基本相同的具体行政行为。下列哪项内容属该条规定的例外情况?()
- A. 人民法院以具体行政行为主要证据不足为由判决撤销的。

《2011 年公务员考试行测考试 100 套华图真题》

- B. 人民法院以具体行政行为适用法律, 法规错误为由判决撤销的。
- C. 人民法院以具体行政行为违反法定程序为由判决撤销的。
- D. 人民法院以行政机关工作人员滥用职权为由判决撤销该具体行政行为的。

70. 土管局批准了陈某建房申请, 陈某房子建好后, 某县水利局因其为违章建筑责令

拆除。陈某以县水利局为被告提起行政诉讼, 人民法院受理后应按下列哪种方

式办理 7. ()

- A. 应追加县土管局为被告, 并通知其参加诉讼。
- B. 应通知县土管局作为共同原告参加诉讼。
- C. 应通知县土管局以第三人的身份参加诉讼。
- D. 应通知县土管局以证人的身份参加诉讼。

71. 在行政诉讼的执行措施中, 不可以对行政机关采取 ()。

- A. 划拨 B. 查封
- C. 扣押 D. 司法建议

72. 行政诉讼法规定, 因限制人身自由的强制措施引起的行政诉讼, 由原告或被告所

在地人民法院管辖, 这里的原告所在地不包括 ()。

- A. 临时居住地 B. 经常居住地
- C. 被限制人身自由所在地 D. 户籍所在地

73. 行政诉讼强制的主体是 ()。

- A. 行政主体 B. 有权国家机关
- C. 人民检察院 D. 人民法院

74. 在诉讼中, 人民法院审理下列哪类案件, 不可以根据原告申请, 依法书面裁定先

予执行? ()

- A. 起诉行政机关没有依法发给抚恤金的。
- B. 起诉行政机关没有依法发给社会保险金的。
- C. 起诉行政机关没有依法发给最低生活保障费的。
- D. 起诉行政机关没有就其违法行政行为给予赔偿的。

75. 行政机关对于重大违法行为给予较重的行政处罚时, 在证据可能灭失的情况下,

下列选项哪个是正确的? ()

- A. 经行政机关负责人批准, 可以先行封存证据。
- B. 经行政机关集体讨论决定, 可以先行扣押证据。
- C. 经行政机关负责人批准, 可以先行登记保存证据。
- D. 犯罪行为所侵害的对象。

76. 下列哪个选项所列人员可以成为非法剥夺公民宗教信仰自由罪的主体? ()

- A. 乡政府办公室秘书。 B. 大学校长。
- C. 电视台主持人。 D. 国有公司经理。

77. 某机场的机械师陆某对机场领导人员心怀不满, 在某次为等待执行任务的一架

波音 747 客机进行机械检修时, 故意对飞机的发动机装置进行了破坏。但恰

《2011 年公务员考试行测考试 100 套华图真题》

好

时

这架飞机此次没有投入运营。在第二天运营前机械师陈某在对飞机进行检修

发现了故障及时进行了排除。对陆某的行为如何认定? ()

A. 故意毁坏公私财物罪未遂。 B. 破坏交通工具罪未遂。

C. 故意毁坏公私财物罪既遂。 D. 破坏交通工具罪既遂。

78. 以下犯罪行为的主体哪一种不限于国家机关工作人员? ()

A. 玩忽职守罪。 B. 帮助犯罪分子逃避处罚罪。

C. 失职造成珍贵文物损毁、流失罪。 D. 故意泄露国家秘密罪。

79. 行为人以谋利为目的, 意欲运送他人偷越国(边)境, 但由于交通工具简陋不具备必要的安全条件, 导致被运送人多人重伤、死亡的后

果, 对该行为应如何认定? ()

A. 运送他人偷越国(边)境罪的严重情节。

B. 运送他人偷越国(边)境界与过失致人死亡、过失致人重伤罪并罚。

C. 运送他人偷越国(边)境罪与过失致人死亡罪, 过失致人重伤罪择一重罪处罚。

D. 过失致人死亡罪与过失致人重伤罪并罚。

80. 行为人高某在盗掘古墓葬的过程中, 造成大量的珍贵文物严重毁损, 对高某的行

为如何认定? ()

A. 盗掘古墓葬罪的严重情节。

B. 故意损毁珍贵文物罪。

C. 盗掘古墓葬罪与故意损毁珍贵文物罪并罚。

D. 盗掘古墓葬罪与故意损毁珍贵文物罪择一重罪处罚。

81. 行为人在实施抢劫行为后, 出于灭口的目的而将被害人杀害, 对行为人的行为如

何认定? ()

A. 抢劫罪的加重情节。 B. 抢劫罪。

C. 抢劫罪与故意杀人罪并罚。 D. 故意杀人罪。

82. 某市黄某开办的个体小煤窑只开了采煤通道即开始采煤, 主管部门检查后发现

该煤窑只有送风口, 没有排风口, 即书面通知其停业整顿, 黄某拖延不改继续采

矿, 终于因瓦斯浓度太高, 发生爆炸致 9 名矿工死亡。黄某的行为构成何种犯

罪? ()

A. 重大责任事故罪。 B. 工程重大安全事故罪。

C. 重大劳动安全事故罪。 D. 过失爆炸罪。

83. 因暴力干涉婚姻自由不成而将被干涉者杀害的行为构成下列哪种罪? ()

A. 暴力干涉婚姻自由罪。

B. 故意杀人罪。

C. 属暴力干涉婚姻自由罪的加重罪状。

D. 暴力干涉婚姻自由罪与故意杀人罪。

《2011 年公务员考试行测考试 100 套华图真题》

84. 某国家机关的机要人员林某利用职务上的便利, 将其所知悉、掌握的大量国家机

密, 绝密提供给境外的反动组织, 对该行为如何认定? ()

- A. 故意泄露国家秘密罪。
- B. 为境外非法提供国家秘密、情报罪。
- C. 故意泄露国家秘密罪与为境外非法提供国家秘密、情报罪。
- D. 非法获取国家秘密罪与为境外非法提供国家秘密、情报罪。

85. 季某的父母对其与村民小张之间恋爱极为不满, 极力进行破坏, 以致发生下列哪

种行为公安机关不可以主动立案侦查? ()

- A. 当众殴打季某后将其禁闭, 季某自杀的。
- B. 将季某捆绑过紧致其身亡的。
- C. 殴打季某, 将季某打成重伤, 由于抢救不及时而死亡的。
- D. 先将季某吊起来毒打, 后又私自将季某许配他人的。

86. 公司犯下下列哪些罪时, 实行双罚, 即单位处罚金, 同时要求直接负责的主管人

员或其他责任人员承担刑事责任? ()

- A. 提供虚假财会报告罪。 B. 欺诈发行股票、债券罪。
- C. 挪用公款罪。 D. 非法经营同类营业罪。 ,

87. 工厂、矿山、林场、建筑业或其他企事业单位的职工不服管理, 违章作业, 造成下

列哪些损失, 不构成重大责任事故罪? ()

- A. 1 人死亡的。
- B. 3 人重伤的。
- C. 直接经济损失达 4. 5 万元。
- D. 直接经济损失达 30 万元, 车间停产 10 天的。

88. 下列各种行为哪项实行数罪并罚? ()

A. 实施了非法制造枪支、非法运输弹药、非法储存爆炸物及非法邮寄弹药行为的。

- B. 犯重大责任事故罪致人重伤、死亡的。
- C. 为追索债务而非法拘禁他人并使用暴力使他人重伤、死亡的。
- D. 强奸妇女后, 又实行杀人行为以图灭口的。

89. 公安局预审员王某在审理卷烟厂女工陈某盗窃案时, 对陈某犯盗窃甲级香烟 209

条(价值 1600 余元)的罪行, 不追查, 不取证, 还将罪证材料销毁, 掩护陈某逃避

惩罚。陈某在王某的掩护下获得释放后, 王某以此要挟, 将陈某多次奸污。

对王

某的行为下列哪项表述正确? ()

- A. 包庇罪和强奸罪。 B. 徇私枉法罪和强奸罪。
- C. 伪证罪和强奸罪。 D. 玩忽职守罪与强奸罪。

90. 行为人王某生产了假冒他人注册商标的商品后, 又销售这种商品的, 对王某行为

的认定与处罚哪项是正确的? ()

《2011 年公务员考试行测考试 100 套华图真题》

- A. 假冒注册商标罪。
- B. 销售假冒注册商标的商品罪。
- C. 假冒注册商标罪与销售假冒注册商标的商品罪并罚。
- D. 假冒注册商标罪与销售假冒注册商标的商品罪择一重罪处罚。

91. 某纳税单位足额缴纳税款后，又采取假报出口或其他欺骗手段骗取全部所缴纳

的税款，数额巨大，对本案的表述下列哪项是正确的？（ ）

- A. 构成偷税罪。
- B. 构成骗取出口退税罪。
- C. 按偷税罪与骗取出口退税罪实行数罪并罚。
- D. 偷税罪与骗取出口退税罪择一重罪处罚。

92. 被告人的下列行为中不属于构成重伤行为的有哪些？（ ）

- A. 伤者当场因失血过多而休克，但及时抢救恢复正常。
- B. 伤者当时表面伤情较轻，但实际伤在脑内，后来因脑组织破裂压迫脑神经死亡。

- c. 伤者当时伤情较轻，及时送往医院，但由于医生治疗错误而导致其死亡。
- D. 伤者当时伤情较重，但事后没有后遗症，身体恢复正常。

93. 姜某使用伪造、变造的金融票据，在签订履行合同的过程中，骗取对方当事人

信任，并骗得其财物，数额较大。下述关于对姜某的行为认定的表述哪项是正确

的？（ ）

- A. 金融票据诈骗罪。
- B. 合同诈骗罪。
- C. 金融票据诈骗罪与合同诈骗罪实行数罪并罚。
- D. 金融票据诈骗罪与合同诈骗罪择一重罪处罚。

94. 一货轮在海上航行，突起大风，并收到强台风警报，当时靠岸避风已不可能。而气象

台预报，台风中正要经过货轮航行的海域，为使货轮和船员的生命免遭损害，船

长下令抛去部分货物（价值 3 万元），以减轻货轮的负载。但当台风刚刚接近该

轮航线海域时，突改方向，并未殃及货轮安全，对船长的行为应如何认定？（ ）

- A. 紧急避险。 B. 假想避险。 -
- C. 事中避险。 D. 事前避险。

5. 刁某花 5000 元从人贩子手中买来一名受骗的四川姑娘作妻子，姑娘知道真相后

欲逃跑，刁某将其手脚捆住，强行与其同房，发生性关系，事后为防止其逃跑将其

锁在屋内，一个月后女方哥哥领公安人员前来解救，刁某持械堵住屋门不许公安

人员进入，相持一个多小时，致使全村的许多人前来围观，后公安人员制服刁某

使该四川姑娘得救，两名公安人员在与刁某搏斗时受轻伤。本案刁某的行为

《2011 年公务员考试行测考试 100 套华图真题》

构

不成下列哪些犯罪?()

- A. 聚众阻碍解救被收买的妇女罪。 B. 强奸罪。
- C. 收买被拐卖的妇女罪。 D. 非法拘禁罪、妨害公务罪。

96. 合伙合同存续期间，合伙人以外的第三人要求入伙，关于法律是否允许的问题下

列表述哪项是正确的?()

- A. 依合伙合同的约定决定是否允许。
- B. 不允许。因为合伙合同是基于合伙人间的信任关系而存在。
- C. 合伙合同有约定的，依合同处理，无约定的，须全体合伙人一致同意。
- D. 合同有约定的依约定处理，无约定的，须经全体合伙人过半数同意。

97. 下列行为中，哪项属于默示的民事法律行为?()

- A. 租期届满后，承租人继续交付租金，出租人继续收取租金。
- B. 代理期限届满后，委托人没有继续委托，而代理人仍然进行代理行为。
- C. 甲向乙提出书面要约，双方在此之前未有联系。甲在要约中明确提出，若

乙

不在 1 个月内提出反对意见，视为同意，. 1 个月后，乙沉默。

- D. 甲向其妻子乙提出离婚，乙沉默，后甲以乙的此行为要求法院判决离婚。

98. 下列情形中，哪一项的诉讼时效为 1 年?()

- A. 某甲买了 1 台电热水器，使用中因电热水器漏电而受伤。
- B. 某甲与某乙签订了一承包经营合同，后某乙违约。
- C. 某甲借给某乙 1 万元，某乙到期不还欠款。
- D. 某甲在某乙处定作一套西服，到期后某甲未及时领取西服，30 天后某乙

将西

服卖掉。

99. 对宣告死亡与宣告失踪的区别，表述正确的是哪些?()

- A. 宣告死亡的效果在于终止下落不明人以其住所地为中心的人身和财产关系；宣告失踪仅在于为完全行为能力失踪人设立财产代管人。
- B. 宣告死亡的法定下落不明期间一般为 2 年，特殊情况下为 1 年；宣告失踪

的

法定失踪期间一律为 2 年。

- C. 宣告死亡的公告期间为 2 年，而宣告失踪的公告期间为 3 个月。

D. 宣告失踪被撤销，发生返还财产，恢复婚姻关系等效果；宣告死亡撤销则没有

这种效果。

100. 下列哪项不属于附条件的民事法律行为?()

- A. 甲乙两公司在租赁合同中约定，如果 3 个月后甲公司有空闲的建筑施工设备，则租给乙公司两台，租期 4 个月。
- B. 甲立下遗嘱：如果自己的儿子在 2 年之内犯罪，则将自己的遗产遗赠给朋友乙。

友乙。

- C. 丙立下遗嘱：如果自己的儿子不故意杀害自己，就将遗产留给他。

D. A 矿场与 B 公司的约定如果矿山开采不发生重大事故，则矿石买卖合同生效。

101. 期待权不包括下列哪项权利?()

《2011 年公务员考试行测考试 100 套华图真题》

- A. 已具备全部要件, 从而被当事人实际享有的权利。
- B. 以附停止条件和附始期法律行为所设定的权利。
- C. 由既存债权产生的将来债权。
- D. 继承开始前的继承权。

102. 在下列情形中哪项构成承诺?()

- A. 甲向乙发出要约, 丙得知后表示接受甲的条件。
- B. 丙向乙发出要约, 丁考虑后向戊表示同意甲的要约。
- C. 何某向刘某发出要约, 要求 10 天内给予答复, 过期视承诺, 刘某未能如期答

期答

复。

- D. 袁某根据广告上刊登的价格, 给某体育用品厂汇款购买某型号的体育用品。

103. 下列选项中哪项应认定为有效的民事行为?()

- A. 某甲与某县政府商定, 某甲赠给某县政府一台轿车, 但实际上此台轿车归

某

乙所有。

- B. 间歇性精神病人, 在确能证明的发病期间实施的民事行为。
- C. 某甲把一幅古画真品错当成复制品卖给某乙。
- D. 11 岁的某丙接受了从英国来的叔叔送给他的一台电脑, 价值 1.5 万元。

104. 甲、乙双方签订了货物买卖合同, 由甲方向乙方提供货物。后经甲方同意, 乙方

将合同中的权利、义务转给丙。这样, 法律关系的()就发生了变更。

- A. 主体、客体 B. 内容
- C. 客体 D. 主体

105. 牛明村未成年人甲的父母在一次车祸中重伤, 丧失监护能力, 现甲的祖父母和外

祖父母就甲的监护人问题发生争议, 可由谁指定监护人?()

- A. 甲的经常居住地的村民委员会。
- B. 甲的父母的所在单位。
- C. 甲的祖父母或外祖父母的住所地的村民委员会。
- D. 以上都不对。

106. 遗产是指公民死亡时遗留下来的()。

- A. 个人所有财产 B. 依法规定享有的财产
- C. 个人合法财产 D. 公民收入和储蓄

107. 某甲 17 周岁, 已参加工作, 有固定收入, 某日因某甲在街上寻衅滋事, 将某乙打

伤, 某乙要求赔偿医药费, 对此下列表述哪些不正确?()

- A. 某甲的父母必须承担赔偿医药费的义务。
- B. 某甲的父母无须承担赔偿医药费的义务。
- C. 某甲的父母可以选择是否替某甲赔偿医药费。
- D. 某甲的父母如赔偿了医药费, 则对某甲有追偿权。

108. 肖强下落不明已达 3 年, 下列哪些人可以向人民法院申请宣告肖强为失

踪

人?()

- A. 肖强的好友。 B. 肖强之妻。

《2011 年公务员考试行测考试 100 套华图真题》

C. 与肖强有权利义务关系的雇主。 D. 上述三个选项都对。

109. 下列合同中, 属于可撤销的合同()。

A. 甲、乙签订质押合同, 约定甲不能如期履行合同义务, 则乙取得质物的所有权

B. 甲、乙两企业之间的资金借贷合同

C. 甲为逃避法院的强制执行, 将其财产赠与乙

D. 甲因治病急需钱, 乙提出以低于市场接近 5 倍的价格购买甲的珍贵油画, 甲无奈之下与乙签订了合同

110. 杜某和钟某 1997 年合伙开饭店, 因经营有方, 饭店生意兴隆, 1998 年 5 月, 钟某

的妻弟李某要求入伙, 以下哪项表述不正确的?()

A. 设杜某不同意李某入伙而钟某同意, 则李某不能入伙。

B. 设杜某和钟某都同意李某入伙, 但在入伙协议中约定李某不执行合伙事务并不能自营饭店。

C. 设李某入伙后, 饭店经营不善致合伙散伙, 对于 1998 年 5 月以前合伙债务李某

某不负偿还之责。

D. 设李某入伙后, 饭店经营不善致合伙散伙, 对入伙之前债务李某与杜某、钟某

负连带责任, 但有权就其承担数额向杜某、钟某追偿。

习题答案

2. C 3. B 4. B 5. D 6; D

7. D 8. C 9. B 10. B 11. B 12; B

13. C 14. C 15. A 16. D 17. C 18; C

19. B 20. D 21. A 22. B 23. B 24-C

25. C 26. A 27. D 28. B 29-B 30; A

31. D 32. B 33. C 34. B 35. A 36; A

37. D 38. B 39. A 40. A 41. A 42; B

43. A 44. C 45. D 46. C 47. C 48; B

49. D 50. D 51. B 52. A 53. B 54; A

55. C 56. C 57. B 58. C 59. A 60-B

61. C 62. D 63. B 64. D 65. A 66; D

67. C 68. A 69. C 70. C 71. B 72; A

73. D 74. D 75、C 76. A 77. D 78; D

79. A 80. A 81. C 82. C 83. B 84-B

85. D 86. B 87. C 88. D 89. B 90; A

91. A 92. C 93. B 94. D 95. A 96; C

97. A 98. A 99. A 100. C 101. A 102; D

103. D 104. D 105. B 106. C 107. A 108; B

109. D 110. C

《2011 年公务员考试行测考试 100 套华图真题》

07 年行政职业能力测验备考：数字推理题规律

[来源: 北京金路公务员考试研究中心]

1、自然数列规律

4, 5, 6, 7, ()

A、8 B、9 C、10 D、11

这个大家当然明白

2、奇数规律

略

3、偶数规律

略

4、等差数列

略

5、二级等差数列，相邻数之间的差构成等差数列。

(分量可能较大)

2, 3, 5, 8, ()

A、8 B、9 C、15 D、12 答案 D

6、等差数列的变式

3, 4, 6, 9, (), 18

A、11 B、13 C、12 D、18 答案 B

7、等比数列，相邻两数的比值相等，整个数列递增或者递减

2, 4, 8, 16, ()

答案 32

8、二级等比数列，相邻数字之间的比构成等比数列

1, 3, 18, 216, ()

A、1023 B、1892 C、243 D、5184 答案 D

(感觉象大数数列了)

9、等比数列的变式

3, 5, 9, 17, ()

A、23 B、33 C、43 D、25 答案 B

10、加法数列，前两数字之和等于第三数

1, 0, 1, 1, 2, (), 5

A、4 B、3 C、5 D、7 答案 B

难一些的:

0, 1, 1, 2, 4, 8, (), 32

A、14 B、16 C、12 D、18 答案 B

(后面的数字为前面所有项的和)

11、减法数列，前两数字之差等于第三数

5, 3, 2, 1, (), 0

A、1 B、-1 C、-2 D、-3 答案 A

难一些的:

60, 67, 53, 74, ()

《2011 年公务员考试行测考试 100 套华图真题》

A、56 B、64 C、46 D、84 答案 C

12、乘法数列，后项为前二项之积

1, 2, 2, 4, 8, ()

A、12 B、15 C、32 D、30 答案 C

13、除法数列，后项为前二项之商

8, 4, 2, 2, 1, ()

A、3 B、4 C、5 D、2 答案 D

14、平方数列数列中的 各数为一个数列的平方（或明或暗）

1, 4, 9, 16, ()

A、23 B、24 C、25 D、26 答案 C

经常考的变式：

2, 3, 10, 15, 26, 35, ()

A、40 B、50 C、55 D、60 答案 B

（1 平方加 1，2 平方减 1，3 平方加 1，4 平方减 1。。。）

15、立方数列数列中的各数为一个数列的立方（或明或暗）

1, 8, 27, 64, ()

A、100 B、115 C、120 D、125 答案 D

立方变式：

3, 10, 29, 66, ()

A、123 B、124 C、126 D、127 答案 D

（N 的立方加 2）

16、质数系列规律

2, 3, 5, 7, ()

A、8 B、9 C、10 D、11 答案 D

17、质数系列的变式

20, 22, 25, 30, 37, ()

A、40 B、42 C、48 D、50 答案 C

（前项加质数，2002 年的考题）

18、双重数列，分为奇数项与偶数项

257, 178, 259, 173, 261, 168, 263 ()

A、275 B、279 C、164 D、163 答案 D

19、混合型数列，由上述两种以上的规律组成的数列

1, 2, 6, 15, 31, ()

A、45 B、50 C、56 D、60 答案 C

1/19, 38, 1/76, 152, 1/304, ()

A、380 B、608 C、719 D、1216 答案 B

6, 14, 30, 62, ()

A、85 B、92 C、126 D、250 答案 C

前项 2 倍加 2

20、题目中出现大数的规律

3, 7, 47, 2207, ()

A、4414 B、6621 C、8828 D、4870847 答案 D

这样的题目中间后面的数字大，用等差的方法显然不行，我们应该想到平方或者

《2011 年公务员考试行测考试 100 套华图真题》

立方，此题目为前项的平方减 2

21、纯数字排列题目

9, 98, 987, 9876, ()

A、9875 B、98765 C、98764 D、98763 答案

22、除法规律加上加法规律

5, 17, 21, 25, ()

A、30 B、31 C、32 D、34 答案 B

除 2 余 1

23、减法加等比的规律

4, 7, 16, 43, 124, ()

A、367 B、248 C、372 D、496 答案 A

24、加法加等比规律

3, 6, 21, 60, ()

A、183 B、189 C、190 D、243 答案 A

前后两个数字相加为：9, 27, 81, 成为公比为 3 的数列。

$81 \times 3 - 60 = 183$

25、立方加加法规律

2, 9, 28, 65, ()

A、128 B、124 C、126 D、129 答案 C

5 的立方加 1=129

27、双重数列加上加法（或者减法）规律

1, 28, 4, 65, 9, 126, 16, ()

A、125 B、216 C、217 D、218 答案 C

$28=3$ 的立方加 1

28、整数加小数的规律

1.1, 2.2, 4.3, 7.4, 11.5, ()

A、16.6 B、15.5 C、15.6 D、15.8 答案 A

将整数和小数分开来看，小数为 12345

整数为前一项数字的和

1. 256, 269, 286, 302, ()

A. 254 B. 307 C. 294 D. 316

分析： $2+5+6=13$ $256+13=269$

$2+6+9=17$ $269+17=286$

$2+8+6=16$ $286+16=302$

$?=302+3+2=307$

2. 72, 36, 24, 18, ()

A. 12 B. 16 C. 14.4 D. 16.4

分析：

（方法一）

相邻两项相除，

《2011 年公务员考试行测考试 100 套华图真题》

72 36 24 18

$\backslash / \backslash / \backslash /$

$2/1$ $3/2$ $4/3$ (分子与分母相差 1 且前一项的分子是后一项的分母)

接下来貌似该轮到 $5/4$, 而 $18/14.4=5/4$. 选 C

(方法二)

$6*12=72$, $6*6=36$, $6*4=24$, $6*3=18$, $6*X$ 现在转化为求 X

12, 6, 4, 3, X

$12/6$, $6/4$, $4/3$, $3/X$ 化简得 $2/1$, $3/2$, $4/3$, $3/X$, 注意前三项有规律, 即分子比分母大一, 则 $3/X=5/4$

可解得: $X=12/5$

再用 $6*12/5=14.4$

3. 8, 10, 14, 18, ()

A. 24 B. 32 C. 26 D. 20

分析: 8, 10, 14, 18 分别相差 2, 4, 4, ? 可考虑满足 $2/4=4/?$ 则 ? = 8

所以, 此题选 $18+8=26$

4. 3, 11, 13, 29, 31, ()

A. 52 B. 53 C. 54 D. 55

分析: 奇偶项分别相差 $11-3=8$, $29-13=16=8\times 2$, ? $-31=24=8\times 3$ 则可得 ? = 55, 故此题选 D

5. 25, 15, 10, 5, 5, ()

A. 10 B. 5 C. 0 D. -5

分析: $25-15=10$; $15-10=5$; $10-5=5$; $5-5=0$

6. 16 8 8 12 24 60 ()

A 90 B 120 C 180 D 240

分析: 相邻两项的商为 0.5, 1, 1.5, 2, 2.5, 3,

所以选 180

7. 2, 3, 6, 9, 17, ()

A、18 B、23 C、36 D、45

分析: $6+9=15=3\times 5$

$3+17=20=4\times 5$ 那么 $2+?=5\times 5=25$ 所以 ?=23

8. 3, 2, $5/3$, $3/2$, ()

A $7/5$ B $5/6$ C $3/5$ D $3/4$

分析: 通分 $3/1$ $4/2$ $5/3$ $6/4$ ---- $7/5$

9. 34, 36, 35, 35, (), 34, 37, ()

A 36, 33 B 33, 36 C 37, 34 D 34, 37

分析: 隔项成等差数列

奇数项为 34, 35, (), 37, 则括号中为 36

《2011 年公务员考试行测考试 100 套华图真题》

偶数项为 36, 35, 34, (), 则括号中为 33

10. 20, 22, 25, 30, 37, ()

A 39 B 45 C 48 D 51

分析: 它们相差的值分别为 2, 3, 5, 7。都为质数, 则下一个质数为 11
则 $37+11=48$

11. 5, 5, 14, 38, 87, ()

A. 167 B. 168

C. 169 D. 170

A

分析: 前三项相加再加一个常数 \times 变量

(即: N_1 是常数; N_2 是变量, $a+b+c+N_1 \times N_2$)

$5+5+14+14 \times 1=38$

$38+87+14+14 \times 2=167$

12. () 36 19 10 5 2

A. 77 B

科技文献版公务员行测: 阅读理解基本功训练

【来源: 金路公务员】

第四节 阅读理解基本功训练

考点分析

这一种类型的题目一般包括选词填空、词语替换、语句表达等几种形式的题型, 其中语句表达能力又通过病句判断、歧义辨析、长句理解三种形式来检验。

这一方面的试题在国家公务员考试中考得比较少, 但却是地方公务员考试的常考题型。阅读理解的这些基础能力的考查通过文章阅读与片断阅读综合体现出来。

知识必备

无论是病句判断、歧义判断, 还是长句判断、选句填空或词语判断等, 都需要熟悉基本的语法知识, 依靠语法知识对句子进行分析。重点检查句子成分是否残缺、搭配是否恰当、次序是否合理、修饰成分运用得是否得当等。同时, 还要注意语感, 注重语意表达的准确性。此外, 要注意新题型的出题规律和解题方法, 在语句表达题目中, 往往有一个或者是几个选项后面没有文字, 这就要求应试者到短文的相关部分(一般是字下面带黑线或黑点等标记)去寻找。因此, 要求应试者悉心熟悉新题型。

典型例题分类详解

一、词语替换◆

这种题型主要考查考生对语句中某一重要词语的理解, 一般是先呈现一个句子, 句子中某个词语下面预先画有一条横线, 要求在四个词语选项中找出一个意义最为贴切的进行替换。

【例题】由于某种人为的原因, 这次实验到年底不得不中止, 但将来总会完

《2011年公务员考试行测考试 100 套华图真题》

成的。()

A. 终止 B. 结束 C. 中断 D. 截止

【解析】正确答案为 C。从句中看,“中止”是在未完成的情况下停止的。而“终止”和“结束”都有完成的意思,“截止”则是指到一定的期限停止,所以答案只能是 C。

二、选词填空◆

这种题型主要是考查应试者对词义的辨别分析能力。一般是先呈现一个句子,在某些关键词的地方已经留出空格,要求你从题后的四个选项中选出一个填入句中空格内,从而使句子的意思表达得最准确、最连贯和最完整。同词语替换题型相类似,选词填空题也是考查应试者因词义相同或相近而造成相互干扰的情况中对不同词汇的辨析能力。只不过因为缺少了句中的参考词汇,难度稍微大了一些。

【例题 1】随着工业和人口的发展,排放的废污水量也相应增加,致使许多江、河、湖、库乃至地下水受污染。()

A. 剧烈 B. 激烈 C. 急剧 D. 加剧

【解析】正确答案为 C。本句是指废污水增加的速度快而猛烈,“剧烈”和“激烈”仅是猛烈的意思,是指程度,没有时间的意义;“加剧”是指比以前更猛烈,有比较的意思,此句没有这个含义,所以用“急剧”恰当。

【例题 2】天山绵延几千里,不论高山、深谷,不论草原、森林,不论溪流、湖泊,处处有丰饶的物产,处处有-----的美景。()

A. 美丽 B. 奇丽 C. 艳丽 D. 绚丽

【解析】正确答案为 B。此题只有选择“奇丽”才能使句子的意思表达得最准确、完整、连贯。虽然“美丽”、“绚丽”、“艳丽”都可以用来形容自然景色或景观,但“绚丽”是灿烂美丽的意思,“艳丽”为鲜明美丽的意思,用于此处均不够贴切。若用“美丽”,则最后一句话就变成“处处有美丽的美景”,更不合适,所以只有“奇丽”最准确。

三、病句判断◆

这种题型通常是给出四句话,其中只有一句话正确,其他三句都存在着语病,要求应试者找出正确的一句话来。在考试中一般出现的语病有用词不当、语法错误、修辞错误和逻辑错误四种。

1. 用词不当

病句中最常出现的错误之一就是用词不当,主要体现在混淆对象、感情色彩不符、风格色彩不协调、搭配有问题等方面。

【例题】对金钱的强烈欲望,已经把他改造成一个冷血运物。

【解析】在此句中,“改造”一词通常指将习惯不好的人变成一个好人,用在这个句子中显然不合适,可以将这个词改成“扭曲”或者“变成”,更符合题意。

2. 语法错误

语法方面的错误,主要有以下表现形式:

(1) 词性误用。所谓词性误用,是把甲类词当乙类词用,如形容词当动词用,名词当动词用,副词当动词用等。

【例题】吃进去的食物足以补充由于运动而消耗的能量,并用来发达我们的身体。

【解析】“发达”是形容词,这里用做及物动词了,可以把最后一句改为“并且用来滋养我们的身体”。

(2) 代词使用不当。代词使用不当一般存在两种情况:一种情况是用错了代

《2011年公务员考试行测考试100套华图真题》

词；另一种是代词指代不清。这两种情况都会让人产生语义的误解。

【例题】《贫嘴张大民的幸福生活》是刘恒的一篇反映现实平民生活的小说，他用诙谐的语言表现了市井寻常百姓的生活。

【解析】此句话存在着指代不清的问题，句中的“他”可以理解为小说的主人公张大民，因为张大民是一个极诙谐有趣的人，也可以指代作者，应将此句中的“他”给以明确化，改为“小说中的主人公”，这样整个句子意思通顺，指代清楚。

(3) 介词使用不当。介词使用不当表现为两种情况：一种情况是用错介词；另一种情况是介词同宾语配合不当。

【例题】这篇文章，对揭露“法轮功”的本质起了重大作用。

【解析】此句中介词使用错误，即“对……上”有误，属于错用介词，应改为“这篇文章，对揭露‘法轮功’的本质起了重大作用。”删掉介词“上”或者也可改为“这篇文章在揭露‘法轮功’的本质起了重大的作用。”

(4) 连词使用不当。此处所指的连词，也包括常用的一些关联词。连词出现的错误常见为搭配不当。

【例题】这是一个伟大的思想，并且缺乏实际意义。

【解析】此句中的连词“并且”使用后，使前、后句意思出现了不连贯的问题，不能准确表达句意，应将这个连词改为“但是”或者“可是”，这样意思更顺畅一些。

(5) 句子成分欠缺。句子中最容易欠缺的成分是主语和宾语，尤其是主语的欠缺，表现得很隐蔽，难以察觉。

【例题】经过一般时间的刻苦学习，使我的成绩有了很大的提高。

【解析】这样的表达，在很多人的言语中和文章中都见过。仔细分析，“使”在句中作谓语，“经过”之后是状语，因此缺少主语。有两种修改方法：删去“经过”，让“一段时间的刻苦学习”作主语；或删去“使”，让“成绩”作主语。

(6) 搭配不当。词与词之间搭配不当是常见的错误。这种错误主要表现为两种情况：一种是主语与谓语搭配不当；另一种是动词与宾语搭配欠妥，造成句子意义有误。

【例题】一个人如果保养好的话，他的寿命能活到一百二十岁。

【解析】此句中的后半句的主语“寿命”与句中谓语“活”并不是正确的搭配，正确的应为：一是删去“的寿命”，让“他”作主语；二是将谓语“能活到”改为“有”，这样主、谓语就搭配得当。

(7) 句子次序颠倒。句子次序颠倒分两种情况：一是句子中语词的次序不正确；二是句子间的次序不对。

【例题】虽然她只有七岁，但是对于父亲的死，她格外显得冷静。

【解析】此句中的“格外”是程度副词，应当用来修饰形容词，因此，应把“格外”和“显得”之间次序颠倒，变成“她显得格外冷静”。

(8) 杂混。所谓杂混，即将两种格式混淆起来。对于这种原因造成的病句，可根据上下文的需要选取其中一个格式。

【例题】这栋建筑有三十层组成。

【解析】这个句子的问题是将“有三十层”和“由三十层组成”两个格式杂混起来，因此，可以把这个句子改成“这栋建筑由三十层组成”。

3. 修辞错误

言语表达中，修辞手法的运用是必不可少的，它能够使句子生动、语言丰富

《2011年公务员考试行测考试100套华图真题》

多彩，富有感染力。因此，正确地使用修辞手法，是每个考生必备的能力。修辞方面的错误，常表现为以下几种情况：

(1) 比喻不当。句子使用的比喻不贴切、不恰当。

【例题】小王非常热爱本职工作，他经常对同事们讲，要像发疯一样热爱自己的事业。

【解析】热爱事业属于理智的行动，而喻体“发疯”常指人丧失理智、不能正常做事，这个比喻是不恰当的。

(2) 重复多余。所谓重复多余，指句子中那些不必要的重复出现的词语，为使句子简练，就应删掉多余而又重复的词语。但有些情况下，句中的反复修辞方法不属于多余重复的情况，对此应认真分析。

【例题】我们十分、十分地热爱伟大的祖国！

【解析】此句中连用了两个“十分”，并不属于重复多余，而且一种表达充沛感情的、一种必要的修辞方法。

(3) 苟简。所谓苟简，即过分简略句子必要成分，使句子出现意思不完整，造成了病句。

【例题】五中教师座谈会，教师们提了许多条意见。

【解析】此句的弊病在于逗号前后两句话不能有效地衔接，应将第一句话加上必要的成分，改为“在五中教师座谈会上”，这样前后连贯起来。

4. 逻辑错误

因为逻辑问题而出现的病句、错句、问题句，在实践中非常多。在这里我们仅从逻辑的角度来分析病句。常见的逻辑方面错误有以下情况：

(1) 错用概念。一般情况下，错用概念表现为错用实词，因为实词通常都能表达概念。

【例题】创作时最棘手的问题之一是，有些句子不知道该怎么形容好，找不到恰当的形容词。

【解析】此句中的“句子”一词，实际上用错了概念，因为“句子”不用形容，应将“句子”改为“事物”。

(2) 偷换概念。也称暗换概念，表现为表面上使用了某一概念，实际上却用了另一个概念。

【例题】陕西李自成的起义，均田免粮，英勇抗击明军的围剿。

【解析】此句中的“起义”这个概念，本是一种行动，不可能有后面的行为，有行为的是人，所以“起义”已经暗换成“起义军”的概念了。

(3) 大小概念并列。句子将外延大小不一致的概念并列起来。

【例题】剧团演出了文艺节目、耍狮子、表演轻功等。

【解析】此句中的“文艺节目”是属概念，而后面的“耍狮子、表演轻功”为种概念，是不能并列的。

(4) 主词宾词不相应。一般情况下，主语相当于逻辑中的主词，谓语（包括宾语）相当于逻辑中的宾词，一般判断采取“主词+系词+宾词”的形式，由于主词和宾词不相符合，造成病句的出现。

【例题】幼儿教育是开发人的智力的最好时期。

【解析】此句中的主词“幼儿教育”是教育的一种类型，跟宾词中的“时期”不是一类概念，用系词“是”把二者联系起来，属不当判断，应把主词改为“幼儿教育时期”。

(5) 逻辑自相矛盾。语句中常出现前后说法不一，后边否定前边的错误，即

《2011年公务员考试行测考试100套华图真题》

自相矛盾。

【例题】整座大楼漆黑一片，只有小王的办公室还灯火通明。

【解析】此句中“漆黑一片”与句尾的“灯火通明”犯了自相矛盾的错误，应改为“整座大楼其他的灯已经灭了，只有小王的办公室还灯火通明”。

(6) 否定不当。在表达否定的句子中，应当清楚，一次否定是否定，两次否定为肯定，三次否定又是否定。一般情况下，反问相当于一次否定。

【例题】进山之前，导游小姐反复强调要防止不发生意外。

【解析】此句意即“不要发生意外”，但多用了否定词“不”后，反倒成了要发生事故，应删去否定词“不”。

四、歧义辨析◆

在汉语文字中，一词多义是非常普遍的，这就使语句的表达因为结构、顺序、理解者所站的角度不同，造成同一个句子也会有不同的理解。在这些不同的理解中，有些是扭曲了原义，有些是误解了原义，造成理解的歧义。

歧义辨析的考查目的，是使应试者在能够准确地把握词义的基础上，从而能够准确地把握整个句子的意思。在语言实践中，造成句子理解歧义的原因主要有词义不明确、层次不清、句法结构不固定三种。

1. 词义不明确

多义词是产生歧义的重要原因，在实际的词语运用中，多义词是歧义产生的重要原因。

【例题】听爷爷说，小叔走了有半个月了。

【解析】此句中的“走”一般意义为“离开”、“行走”，但某些地方却为“死”之意。所以对于“走”这样的多义词就应引起注意，结合上下文的联系来理解、掌握。

2. 层次不清

句子的概念层次之间交代不清，让读者产生歧义。

【例题】陕西和山西的部分地区持续干旱。

【解析】此句存在着层次混乱问题，既可理解为“陕西”和“山西”的部分地区，也可理解为陕西的全部和山西的部分地区。

3. 句法结构不固定

实际中，由于句法结构处于不稳定状态，亦很容易造成句子的歧义。

【例题】领导人民一定要注意相关的政策和原则。

【解析】此句的“领导人民”是一个并列结构的词组，即“领导与人民”，也可以是一个动宾结构的词组“领导着人民”，所以在理解上产生了歧义。

五、长句理解◆

长句是指结构复杂、语句较长的句子，长句并不是很多见，但不乏有时会碰到这类在结构上多重、句子很长的句子。正如英语中的长句一样，中文中的长句在考查时需要应试者对长句有整体的理解能力、把握能力，甚至应用能力。

一般情况下，长句理解的出题方式，是给出一个比较复杂的长句子，然后针对此长句提出一个问题，提供四种可能的理解，要求应试者在理解长句句意基础上，作出正确的选择。

【例题】在对待伊拉克的问题上成员国不得不对美英这种不通过联合国解决问题的方式表示极大的遗憾。

成员国对美英的做法（ ）。

A. 赞成 B. 反对 C. 未置可否 D. 不确定

《2011 年公务员考试行测考试 100 套华图真题》

【解析】正确答案为 B。首先找出句子的主干，即“成员国不得不对英美这种方式表示遗憾。”“不得不”是一个双重否定的用法，表示肯定意味，所以原句的意思是“成员国对英美这种方式表示遗憾”。故正确答案为 B。

高分技巧点拨

1. 词语替换

做词语替换的关键是能够准确而迅速地把握每一个选项的词义。这种题型主要是在词义的相互干扰上做文章，只要善于辨别词语的真实含义，找准语句流畅的感觉，就可以解出这种题了。

2. 选词填空

这种题型的解决，关键在于将备选词，放到整个句子中去，看该词是否能准确地帮助语句完成准确的意思表达，平时要多留意词语的常见用法。

3. 病句判断

做这种题型，有如下几种方法：

(1) 紧缩语句，简化句子从精简后的句子主要成分中判断句子是否表达正确，有没有语病。

(2) 语感分析，通过审读语句，来感觉语句是否有毛病，只要读起来不觉得别扭，就是表达正确的句子。

(3) 分析逻辑意义，概念使用、判断、推理方面考虑是否得当，语句的前后顺序，句子间关系是否合适来确定句子是否表达正确。

(4) 类比造句，即按题中语句模式选一个常用的句子，看是否表达正确。

4. 歧义辨析

对有歧义的短语和句子划分的主要方法是：

(1) 增加或变换词语。如“我营一连发起三次进攻”，可以在“一连”前加“第”或把“一连”换成“连续”。

(2) 变换句式（一般是由简到繁）。如“关心自己的孩子”可变成“这个孩子是关心自己的”或“自己的孩子被人关心”。

(3) 添加上下文（依靠语境）。如“他走了一个钟头了”后边可添加“还没到学校”或“半个钟头前就到了”。又如“是瓦特发明的蒸汽机”前边可分别用“谁发明了蒸汽机”、“这是什么”来提问。

(4) 标明重音和停顿。如“农村中小学教师”可在“中”的前后标明停顿，分别表示农村的中学和小学教师或农村的小学教师。

(5) 正确运用标点。如“有的作品写年轻的妻子死了丈夫发誓不再结婚”可分别在“死了”和“丈夫”后边加逗号。

5. 长句理解

提出句子主干，再逐层按其修饰限制成分分别组成连续的短句。如果长句属肯定句型，则按主语分析含义；长句如果属于否定句型，应把握双重否定即肯定的规律，进行正确的判断分析。

专项梯度训练

一、选词填空

1. 大酒店越来越多，一流厨师供不应求，于是不少店家争相出高价招聘，有人戏称：“酒店挖，肥了大厨师。”（ ）

A. 墙头 B. 墙根 C. 墙脚 D. 墙角

2. 许多农村剩余劳动力从土地的-----中解放出来，纷纷投入到第三产业中去。（ ）

《2011 年公务员考试行测考试 100 套华图真题》

A. 枷锁 B. 约束 C. 拘束 D. 束缚

3. 中共中央、国务院近日发出通知,要求各级政府抓住机遇,-----经济体制改革。()

A. 加强 B. 强化 C. 深化 D. 深入

4. 本来,他想靠自己的力量完成大学学业,但开学临近,他还没有筹措到足够的学杂费。无奈之余,他只好含着泪水向学生处递交了特困-----申请书。()

A. 援助 B. 支援 C. 救济 D. 补助

5. 大学新生入学的日子到了,父亲坚决反对母亲小明去大学,认为小明到了应该自立的时候了。()

A. 携同 B. 偕同 C. 陪同 D. 随同

6. 现代逻辑是以 19 世纪中期出现的数理逻辑为起点的,它使用特别符号和形式系统的方法来研究演绎推理及逻辑规律,是传统形式逻辑的直接延续和。()

A. 延伸 B. 变革 C. 发展 D. 变化

7. 不同历史发展阶段,不同地域的人们,由于生活经验的范围和性质不同,所而形成的思维框架、思维模式也就不同。()

A. 沉淀 B. 积淀 C. 积累 D. 发展

8. 大中小医院都处于高度戒备状态,以 () 突如其来的不明病疫。()

A. 控制 B. 处理 C. 应付 D. 戒备

9. 十月革命一声炮响,为全世界无产阶级争取解放了一条崭新的道路。()

A. 开创 B. 开辟 C. 创立 D. 创建

10. 我这块迷人的土地,这里曾播撒过我许多的梦想。()

A. 留念 B. 依恋 C. 迷恋 D. 爱恋

二、词语替换

1. 技术员陈肯花了整整三个月的时间,攻克了这个技术难题。()

A. 克服 B. 攻坚 C. 攻下 D. 解决

2. 郑培民同志崇高的品德,永远是我们学习的榜样。()

A. 伟大 B. 高尚 C. 宏伟 D. 高大

3. 从根本上说,科技的发展,经济的振兴,乃至整个社会的进步,都有赖于劳动者素质的提高和大量合格人才的培养。()

A. 取决于 B. 鉴于 C. 有待于 D. 寓于

4. 任何违背客观规律的做法都必定遭到失败。()

A. 违反 B. 背离 C. 有悖 D. 偏离

5. 这是一块富饶的土地。()

A. 富有 B. 丰富 C. 丰收 D. 富足

6. 你完全不必牺牲自己的合法利益来迁就那些唯利是图的老板。()

A. 屈就 B. 凑合 C. 奉承 D. 迎合

7. 国民党反动派在制定伪宪法时,一再标榜是遵循孙中山先生的“遗教”。()

A. 表扬 B. 宣扬 C. 标志 D. 标示

8. 在研究、试验和观察的时候,要力求不停留在事实的表面上,不要变成事实的保管人,要坚持不懈寻求那些支配事实的规律。()

A. 锲而不舍 B. 坚持不懈 C. 坚韧不拔 D. 坚贞不屈

9. 李老师桃李满天下,在庆贺他 60 大寿时,时贤名流皆至。宾客盈门,高朋满座。()

A. 济济一堂 B. 高谈阔论 C. 胜友如云 D. 欢声笑语

《2011年公务员考试行测考试100套华图真题》

10. 朋友们的鼓励和支持, 我永远铭记在心。()

A. 牢记 B. 谨记 C. 死记 D. 默记

三、病句判断

1. 从给出的几句话中找出没有语病的一句()。

- A. 微风吹过平静的河面, 水面上荡起细细的波纹
- B. 这次外出旅游, 见闻甚广, 今选择较有意义之事三件, 记录如后
- C. 穿着一身笔直西装的王道吉老先生, 到车站迎接前来贺喜的亲朋好友
- D. 前几年他尽管遇到许多麻烦事但他一点也没有计较

2. 下列各句中, 没有语病的一句是()。

A. 因策划实施美国驻东非大使馆而被通缉的阿布纳斯近日在苏丹首都喀土穆落网, 现被关押在当地一所监狱里

B. 《谈艺录》对许多问题都做了前无古人的发掘和辨析, 出版之初就以视角的独特、观点的新颖和材料的丰赡震动了学界

C. 和传统书法艺术不同, 现代书法艺术追求的是视觉艺术性, 更注重以造型来抒发自己的感情和主张

D. 要提高现代文阅读题的准确率, 考生平时应多读例文、精做习题是行之有效的办法

3. 下列各句中, 没有语病的一句是()。

- A. 1999年, 刘永行被美国《福布斯》杂志评为中国第二首富
- B. 目前, 我国各方面人才的数量和质量还不能满足经济和社会发展
- C. 眼前, 沙沙沙的浪声和银光闪闪的海面构成了一幅美妙绝伦的图画
- D. 欧洲舆论指出, 贫铀弹调查没有透明度, 北约在多大程度上说了真话令人怀疑

4. 从所给出的四句话中, 选出“从”字使用不当的一个病句()。

- A. 小李乘火车从北京到天津用了一个半小时
- B. 小刘的观点上看, 从客观来讲, 他是支持小赵的
- C. 小张从3月到5月不在上海
- D. 小马从院子的南面找到北面, 也没找到他丢的钥匙

5. 找出没有语病的句子()。

- A. 易可的语言天赋早在三岁时就已经显露出来了
- B. 因为他经常做这些事, 于是大家一看到这事就首先想到了他
- C. 幼儿园那些可爱的孩子无时无刻盼望我, 我必须尽快回去
- D. 应聘的外国专家的正式工资一般应高于或维持应用期工资而不低于试用期工资

四、歧义辨析

1. 下列四句话中, 只有一句没有歧义, 请把这句话找出来。()

- A. 香溪发源于鄂西的大神农架群山中
- B. 新来的老王的助手登台唱了一首歌
- C. 他替父亲收集了他自己的一些照片
- D. 李先生感兴趣的是组装电视机

2. 找出没有歧义的一句()。

- A. 你这儿经常有人来吗
- B. 他吩咐张三领人去挖树坑
- C. 湖南和湖北的部分地区今晚有小到大雪
- D. 咬死了猎人的狗怎么办

3. 找出没有歧义的一句()。

- A. 晓萌的哥哥和姐姐的朋友来单位看他
- B. 事物总是处在不断变化中
- C. 这是一个部门全年的财力情况统计表
- D. 这是一个工人工资表

《2011 年公务员考试行测考试 100 套华图真题》

4. 找出没有歧义的一句 ()。

- A. 热爱人民军队是符合我们时代需要的 B. 难道我老得连你都认不出了吗
C. 校长对任课老师说, 他应该做的事太多了 D. 老张告诉何伯, 他的孩子考上大学了

5. 下列句子中有歧义的句子是 ()。

- A. 我以为你让外星人劫走了呢
B. 我已经跟主任说定了, 明天他跟咱们一同去
C. 演员和观众以热烈的掌声欢迎这位英雄的父亲
D. 这部电影我不知道你妈妈看得懂看不懂

五、长句理解

1. 对于领导者来说, 为了实现领导, 不能没有一定的职位权力, 否则难以推进他所负责的并不轻松的工作。

领导者要不要有一定的职位权力? ()

- A. 要 B. 不要 C. 无所谓 D. 无关

2. 有不少人认为对这件事不予理会是最佳选择, 他却不以为然。

他认为对这件事是否应该给予理会 ()。

- A. 应该 B. 不应该 C. 不清楚 D. 无所谓

3. 你认为小明的观点偏激的说法, 我是不能不表示反对的。

我对小明观点是否偏激的表态是 ()。

- A. 偏激 B. 不偏激 C. 不表态 D. 无所谓

4. 中国队今天并非很轻松地重新夺回奖杯, 与一年前的情形不大一样。

一年前中国队可以很轻松地夺回奖杯吗? ()

- A. 是 B. 不是 C. 不清楚 D. 无所谓

5. 陈策不验明银器是真银就不卖, 为此他赎回了先前卖出去的银器是另有原因。

陈策先前卖出的银器是否真银? ()

- A. 是 B. 不是 C. 不清楚 D. 无所谓

参考答案及解析

一、词语填空

1. C 【解析】墙角, 两堵墙相接而形成的角; 墙脚, 墙根。

2. D 【解析】“枷锁”比喻所受压迫和束缚; “约束”限制管束使不超越范围; “拘束”过分约束; “束缚”捆绑, 指约束限制。

3. C 【解析】“加强”增强, 使变得更强和更有效; “强化”增强, 加强; “深化”向更深的程度发展; “深入”: ①研究、思考深刻、透彻; ②进入事物内部或中心。

4. D 【解析】“探助”支援, 帮助; “支援”支持援助; “救济”用金钱或物资帮助生活困难的人。

5. C 【解析】“携同”跟别人做某事, “偕同”跟别人一起; “陪同”陪伴着一起 (进行某一活动); 随同跟着陪着。

6. C 【解析】“延伸”, 即伸展; “变革”是指事物在本质上的改革和改进; “发展”指事物由小到大, 由低级到高级, 由旧到新的不断运动变化; “变化”是指事物在形态上或本质上产生新的状况。现代逻辑既然是传统形式的直接延续, 那只能是它的不断发展, 故正确答案为 C。

7. B 【解析】这句话是说长时间继承、积累下来而形成的思维方式和思维框架。

《2011 年公务员考试行测考试 100 套华图真题》

“沉淀”多指具体难溶的物质在溶液中沉积到下层，不指抽象的事物；“积累”仅指一点一点不断聚集，逐渐增多，但“一层一层地留下来”的意义不如“积淀”；“发展”是指由小到大，由简单到复杂，由低级到高级的变化、扩大，而无“积累”的意思。

8. C 【解析】“应付”是指对人或对事采取的方法和措施。一般指事情的前期准备，其他选项都是指事物中或事后的处理，不符合题意，故正确答案为 C。

9. B 【解析】“开创”开始建立；“开辟”打开通路；“创立”初次建立；“创建”创立。

10. A 【解析】“留念”留作记念；“依恋”留恋；舍不得离开；“迷恋”对某一事物过度爱好而难以舍弃；“爱恋”热爱而难以分离。

二、词语替换

1. D 【解析】“攻克”攻下，指解决了某一疑难问题；“攻坚”比喻努力解决某项任务中最困难的问题；“解决”处理某个问题使有结果。

2. B 【解析】“崇高”最高的，最高尚的，一般用来形容人的精神；“高尚”道德水平高。

3. A 【解析】“有赖于”有依赖于、决定于的意思，所以用“取决于”替换“有赖于”最能符合原意。

4. A 【解析】“违背”违反，不遵守；“违反”不遵守。

5. A 【解析】“富饶”物产多，财富多。

6. C 【解析】“迁就”将就别人；“屈就”客套话，用于请人提任职务；“奉承”用好听的话恭维别人。在本题中用奉承比较合适。

7. B 【解析】“标榜”意为吹嘘，夸耀，含贬义。“表扬”是褒义词，不能替换。“标志”表示某种事物或情况像记号那样，显示另一事物或情况特征。“标示”的意思与“标志”相近；“宣扬”是对外张扬的意思，可作为贬义词使用，与“标榜”最为接近，因此正确答案为 B。

8. A 【解析】用“锲而不舍”替换“坚持不懈”最能保持原意。

9. A 【解析】用“济济一堂”来替换“高朋满座”最能保持原意。

10. A 【解析】“铭记”指深深地记在心里。“牢记”指牢牢地记住。这两个词都可作动词，都有永志不忘的意思。“谨记”指慎重、小心地记住上级或长辈的话语，有郑重、恭敬的意味。C 或 D 明显不合题意，故正确答案为 A。

三、病句判断

1. A 【解析】仔细分析所给以四个选项，发现 B、C、D 三项缺少主语，故不能选。

2. B 【解析】A 搭配不当，“实施……大使馆”不搭配；C 搭配不当，“抒发……主张”不搭配；D 句式杂糅，“应多读例文、精做习题”和“多读例文，精做习题是行之有效的办法”两种句式杂糅在一起。

3. D 【解析】A 不合逻辑；B 成分残缺，“满足”缺宾语；C 搭配不当，“浪声……构成……图画”不搭配。

4. B 【解析】这是由于介词使用不当而产生病句的一道题。A “从”引导的是地点，C “从”引导的是时间，D “从”引导的方向，A、C、D 都正确。B 句中，在“小刘”前，少了一个“从”字。“客观”前面的“从”应该移到“小刘”的前面，使句子变成“从小刘的观点上看，客观来讲，他是支持小赵的”，“从”用在“客观”前有迷惑性。

5. A 【解析】分析这四个选项可以知道，B 项因果连词使用不当，和“因为”

《2011 年公务员考试行测考试 100 套华图真题》

搭配的应该是“所以”。C 项否定不当，应在“盼望”前加上“不在”。D 项中应在“不”后加上“应该”二字。故正确答案为 A。

四、歧义辨析

1. A 【解析】B 项的主语“新来的老王助手”是一个结构层次不同的多义短语，既可以理解为老王的助手是新来的，也可以理解为老王是新来的。C 项属于人称指代不清楚，收集的照片，既可以理解为是“他”的，也可以理解为是“父亲”的。D 项属于语词歧义，李先生可能是对组装的电视机有兴趣，也可能是自己喜欢动手组装。

2. A 【解析】B 产生歧义：①他领人去挖树坑；②张三领人去挖树坑；C 项的歧义：①两省的部分地区；②湖北的部分地区；D 项歧义：①狗咬死了猎人；②猎人的狗被咬死了。

3. B 【解析】A 项歧义：①姐姐的朋友；②哥哥和姐姐两个人的朋友；C 项歧义：①整个部门；②众多部门中的一个；D 项歧义：①一个人的工人工资表；②整个单位的工人工资表。

4. A 【解析】通过对四个选项的逐一分析，知 B、C、D 三项都有歧义，故正确答案为 A。

5. C 【解析】因为选项 C 既可以理解为“英雄的父亲”，又可以理解为“父亲本人是英雄”。

五、长句理解

1. A 【解析】对长句进行压缩可得：领导者为了实现领导，没有一定的职位权力，就难以推进他的工作。

2. A 【解析】对长句可理解成：他对认为这件事不予理会是最佳选择不以为然。

3. B 【解析】注意到本题双重否定表示肯定的句子。

4. A 【解析】前半句叙述中国队现在状况，后半句说一年前的情况与现在不大一样，通过前半句可以知道中国队现在并不轻松，由此可推知中国队一年前很轻松。故正确答案为 A。

5. A 【解析】长句的前半句是一个双重否定表肯定的结构，意思是陈策验明银器是真银才卖，所以陈策先前卖出去的银器是真银。故正确答案为 A。

科技文献版公务员行测：片段阅读

[来源：北京金路公务员考试研究中心]

第二节 片段阅读

考点分析

这种阅读理解一般只有一段话，要求应试者能把握这段话所表述的中心思想和支持的观点以及其他细节问题。

供选择的答案有时可能是对短文内容的复述，有时则满足陈述中其他方面的要求。有一些片段阅读题要求应试者根据自己对材料的理解来找出具体的细节信息，如一些人称代词的具体指代内容。

知识必备

片段阅读所考查的类型主要有：一是对所给片段材料的局部理解与把握，如对片段中某词语或句子的理解；二是对片段材料的整体把握，如由所给的片段材料推出某一方面的信息。

《2011 年公务员考试行测考试 100 套华图真题》

解答这类题首要的问题是完整、准确地理解给定材料的意义，并找出关键句子，进而概括出材料的主题或主要内容。适当使用排除法，在确定正确选项时，即便某项的观点或内容是正确的，但与短文的陈述无关或不是短文主要内容的，也应排除，只有这样才能选出正确的答案。

在片段阅读中，要求应试者回答的问题主要有以下三种类型：（1）给了一段陈述事实的短文，要求考生从题后可供选择的答案中，找出支持前面短文论点或观点的选项；（2）要求考生从短文后给出的四个句子中找出一个最能准确复述这段短文的句子，这就要求考生能够把握短文的中心思想或主题，尤其要注意文意中的一些关键词；（3）给出一段短文，其中某个句子下面画线或者需要填入一句话，要求考生选出对该句理解正确的选项或者需要填入的句子是正确的选项。

典型例题分类详解

一、概括主旨型◆

这种类型要求考生概括所给文字资料的主旨、中心思想、主要内容等，概括要求准确、全面。这种类型提问的形式往往是“这段话的主要观点是……”、“这段话主要说明的是……”、“这段话的中心思想是……”、“这段话的中心意思是……”等。

【例题 1】佛教虽提倡超凡脱俗，四大皆空，但到底不能离开人间，所以它也并不能完全免俗。佛教中也有不少财神爷，看来，爱财之心，根除也难。据佛经上讲，佛祖释迦曾接受过龙女的布施——一颗价值三千大世界的珠宝！释迦马上让她立地成佛。

这段话主要支持的观点是（ ）。

- A. 佛教也不能免俗
- B. 爱财之心，人之常情
- C. 提倡四大皆空的佛教也有爱财之心
- D. 面对财宝，提倡四大皆空的佛教也不能完全免俗

【解析】正确答案为 D。在判断作者的观点时，特别要注意“但”、“但是”、“然而”等转折词，因为作者的观点经常掩藏在转折词的后面，此题就是如此。作者的观点在“但”后面即“（佛教）到底不能离开人间，所以它也并不能完全免俗”。虽然 A、D 都提到了“免俗”，但短文是针对“爱财”的，故 A 项应排除。

【例题 2】凡能创造美的艺术家，其学习起点必高。如其起点甚卑，则易与世俗同流。现代一些老艺术家，其起步多在 20 世纪 30 年代之初，师承鲁迅现实主义之教，投身中国革命洪流，根底甚厚。其积累之经验，可为后代言传身教者，当亦不少。

不符合本文段意思的是（ ）。

- A. 学习起点高的艺术家，可如鲁迅一样不与世俗同流
- B. 学习起点高，可以创造美，并可为后代言传身教
- C. 一些老艺术家师承鲁迅，投身革命，可为后代师表
- D. 学习起点高低，影响艺术家品格，也影响艺术造诣

【解析】正确的答案为 A。这段话前两句说明学习起点高的艺术家多创造美，起点非常低的，容易与世俗同流，这两句概括起来就是本段话的论点：学习起点的高低影响艺术家的品格和创作，故选项 B、D 符合文义。所给这段话后两句通过举例来说明论点，20 世纪 30 年代初的一些艺术家师承鲁迅，很多人可以为后代言传身教，故选项 C 也符合文义。在举例中，最后一句话说：“可为后代言传身教者，当亦不少”，即可以有高成就高品格的人应当不少，但没有肯定全部；选项 A

《2011 年公务员考试行测考试 100 套华图真题》

却肯定了全部，不符合文义。

二、文意推断型◆

此种类型的题目要求考生根据已给的资料准确推断出与文中意思相符合的结果，提问形式往往是“从这段文字可以推出……”、“这段话主要支持这样一种观点……”、“这段话的观点是……”、“这段话说明了这样一个论点……”、“下列哪些观点符合文中观点……”等。也有不少文意推断型属于逆向型的，即不是寻找符合推断结果的答案，而是找出不是推断已给结论的选项，具体提问方式如“不能从这段文字中推出的一项是……”等。

【例题 1】有的地方上一任或上几任领导打下了很好的基础，经济繁荣、社会稳定、人民群众生活富裕、地方财力雄厚，现任领导工作就会很省力。有些新任领导任职时间虽短，但总结起来成绩、经验却很多，这虽有自身努力的因素，但主要是得益于前任的工作基础。我们要做历史的分析，不能仅凭现有的发展水平来衡量现任领导的政绩。

这段话所支持的观点是（ ）。

- A. 现任领导应按前领导制定的政策行事
- B. 现任领导的政绩主要都是得益于前任的工作基础
- C. 现有的发展水平不能用来衡量现任领导的政绩
- D. 应该历史地、综合地评价领导的政绩

【解析】正确答案为 D。由题中可知新任领导虽然任职的时间短，但是业绩与经验却很多，其主要原因是得益于前任所留下的工作基础，由此可推知这段话所支持的观点应该是综合地、历史地评价领导的政绩，而不应单纯地从成绩与经验来评价领导的政绩。

【例题 2】发达国家对发展中国家的经济战略有它的“三部曲”：第一部是输出产品，第二部是输出资本，第三部是输出牌子。输出牌子就是要在市场上进一步打响他们牌子，同时压倒中国的牌子，并起到“征服人心”的作用。如果广大的消费者更多地认同外国牌子，则民族工业必将遇到难以克服的困难。

这段话支持了这样一种观点（ ）。

- A. 发达国家总是要对发展中国家进行经济侵略
- B. 发达国家的“牌子”输出对我国民族工业威胁很大
- C. 外国产品的质量优于国内产品
- D. “牌子”比产品质量更重要

【解析】正确答案为 B。本文的开头先介绍了发达国家对发展中国家的经济战略的“三部曲”，后又着重阐述了输出牌子对我国民族工业的巨大威胁；A、C、D 三项均不能由文段中直接推出，只有 B 项是文段中的内容所支持的观点。

三、词义、句意的理解型◆

1. 对词义的理解，侧重考查一个词或一个短语的理解，这种情况又分为以下两种：

（1）明显的，其含义可以在上下文中找到具体的文字。此类题主要考查考生对代词指代性内容的理解，如“这样”、“它”等。

（2）隐晦的，虽然在语境中有具体的内容，但作者并未用文字明确表示出来，需考生调动自己的知识经验、分析归纳、判断推理，最后结合选项进行分析以选择正确答案。

【例题】今年 2 月份，科尔尼公司对全球 134 家公司进行调查时，85%的公司表示今年将保持或增加外国直接投资。在这次调查中，95%的公司决策人表示对目

《2011 年公务员考试行测考试 100 套华图真题》

前世界经济的担心甚于去年，但他们当中 2/3 的人表示，外国直接投资保持去年的水平。

文段中的“他们”指代的是（ ）。

- A. 科尔尼公司的工作人员 B. 调查中 85% 的公司人员
- C. 调查中 95% 的公司决策人 D. 134 家公司中的决策人

【解析】正确答案为 C。本题主要考查在对整段文意理解的基础上，结合上下文来全面把握关键词。A 项“科尔尼公司的工作人员”显然是调查的主体，而非调查的对象，所以应该排除；B 项是第一句话中的内容，且与第二句话无本质联系，故排除；再看第二句话用了一个转折性的关联词“但”，意味着这“95% 的公司决策人不看好经验形式，但却认为外国直接投资保持去年水平”，由此可知正确答案为 C。

2. 对句义的理解，往往考查一些对文段主旨有重要影响的句子，或者容易造成误解的句子。在科技性片段中，直接宣告科学中的新发现或假想的句子，证明或说明这种发现或假想的正确性的句子，介绍新技术的操作过程和方法的句子，对新发现、新发明进行评价的句子都是重要的句子，比较容易作为考查对象。

【例题】有人也许认为，“写文章只要不妨害所表达的义理，材料细节有点出入是无所谓的。”义理是文章的灵魂，大凡写文章，不会不关注这一点。这种关注就应包含对支撑义理的材料审慎核查与选用。

对画横线文字理解最准确的一项是（ ）。

- A. 批评了只重视表达义理，但是不重视材料真实性的错误认识
- B. 肯定了既重视义理的表达，也重视材料细节必须真实的主张
- C. 批评了借口不妨害表达义理，而忽视材料真实性的错误认识
- D. 肯定了材料对表达义理的作用，不主张苛求材料细节的真实

【解析】正确答案为 C。这句话中的“眼”是“也许认为”，“认为”往往显示说话人的态度是不赞成。根据这一点，首先可以排除 B、D 两个选项。说话人反对的观点是“只要不妨害所表达的义理，材料细节有点出入是无所谓的”。这是一个偏正复句，表达的重点在于后面的分句，前面的条件“不妨害义理”是后面的结论“无所谓”的条件。由此可知，说话人批评的是以不妨害义理为由忽视材料真实性的看法。而选项 A 是转折关系，没有体现这种条件关系，所以不正确，只有 C 符合题意。

四、词语、句子填空型◆

这一类题目就是要求考生根据空白处前后句子间的关系来进行选择，所选择的内容要求做到简明、连贯、得体。这一类题目所考查的内容一般是同义词、近义词的辨析，不同句子与已给材料上的逻辑的契合度。

【例题 1】通过社会的认可获得自身价值的实现，这原本无可厚非。但在一浮躁的时代里，过多的一夜成名被认同为最快捷的成功方式，现实的浮躁在某种程度上也纵容了一些年轻人的冒险心理。对于还没有来得及面对生离死别的年轻人来说，还很难真正理解生命的责任。但一个生命的产生和消失，对于一个家庭的意义却十分深远。所以说，-----。

填入横线上最恰当的一项是（ ）。

- A. 年轻人不能无所顾忌地外出冒险 B. 没有家庭的团圆就没有社会的安定
- C. 珍惜生命是对社会应尽的责任和义务 D. 没有人可以随意将生命置于无谓的牺牲

【解析】正确答案为 D。横线前提到的是“对于一个家庭的意义……”，因此

《2011 年公务员考试行测考试 100 套华图真题》

合适的用语是“没有人可以随意将生命置于无谓的牺牲”，而不应再强调责任和义务，因此选 D 最恰当。

【例题 2】如果我们只把以前的学习文件照抄一遍，-----，更谈不到用其正确地解决问题，那样，即使我们口头上大讲拥护“三个代表”重要思想，实际上也只能是南辕北辙而已。

填在横线上最恰当的句子是（ ）。

- A. 那就是连一般问题也解决不了了 B. 那就不能解决什么问题
C. 那就不能解决任何问题 D. 那就不是解决问题的办法

【解析】正确答案为 B。这是一道需应试者补充的复句题，属语句判断填空题。要把复句补充完整，就先要弄清楚复句中的“如果……，更……”这样两个层次的逻辑关系。第一个层次是假设关系，第二个层次是递进关系，即和“不能正确地解决问题”构成递进关系的是“不能解决问题”。选项 A、C、D 都不能与构成递进关系，只有 B 选项所表达的内容才是如此。

五、作者观点型◆

既指整个文段的态度立场，又包括文段中局部对某个具体问题的立场和观点。这些观点和态度有的直接表达出来，有的是融在文段中，这就需要对那些表示立场性的词语、句子有足够的敏感度，而对文段中引述别人的观点时需要特别小心，必须弄清楚作者对所引述的观点是持肯定、否定还是其他态度，即要分辨它们是否一致。

这种类型常用的提问方式为“作者想要表达的观点是”、“这段话想表达的主要观点是”、“作者支持的观点是”、“这段话主要支持这样一种观点”、“这段话直接支持这样一种观点”、“这段文字是针对下面哪种现象谈的”、“这段文字批判的是”等。

【例题】生长在水中或水边的动植物的遗体是最容易被保存下来的，因为保存动植物遗体的必要条件是快速掩埋，而在淤泥不断淤积的海洋、河流乃至湖泊中，动植物的遗体以及其他东西能够被快速掩埋。

这段话主要支持了这样一种观点，即（ ）。

- A. 动植物遗体很容易在淤泥不断淤积的海洋、河流乃至湖泊中保存下来
B. 只有生长在水中或水边的动植物的遗体才能被保存下来
C. 淤泥不断淤积的海洋、河流乃至湖泊是保存动植物遗体的最佳环境
D. 只要被快速掩埋，动植物遗体就能被保存

【解析】正确答案为 A。B、D 两项的说法过于绝对，应排除；C 项的说法并未从文段的内容出发来理解，材料中只说明了“海洋、河流、湖泊”易于保存动植物的遗体，并未说明是否是最佳环境，故 C 项也应排除。

经典真题回顾

1. [2004 年中央卷（B 类）第 22 题]

曾任全国政协委员的百岁老人袁晓园说：长寿其实没有任何秘诀，想吃就吃，想睡就睡，顺其自然到百年，这就是我的养生之道。英国哲学家罗素活了 98 岁，从来也不认为长寿有什么秘诀，主张该干什么就干什么，想吃什么就吃什么，一切顺其自然。人体的差异性很大，健康虽有一定之规，但没有什么一成不变的养生之道和长寿秘诀。

对画横线的文字理解准确的是（ ）。

- A. 作者完全同意袁晓园和罗素的主张 B. 作者有保留地同意袁晓园和罗素的主张

《2011 年公务员考试行测考试 100 套华图真题》

C. 作者不同意袁晓园和罗素的主张 D. 作者批评了袁晓园和罗素的主张

【解析】正确答案为 A。本段话的作者意在批评一种以为长期有某种特定的长寿秘诀的观点，因此通过袁晓园和罗素的例子来说明没有一成不变的养生之道和长寿秘诀，袁晓园、罗素和作者的观点是一致的，故选 A。

2. [2005 年中央卷（一类）第 14 题]

人，就是想探寻宇宙奥秘，觅其所未见，因之为探天险而丧生者已为数众多。人类必须征服自然，金沙江之类的天堑改造成通途，事关国计民生，造福古今后世。不意缆车之发明却大大发展了旅游事业，大量赚钱，满足了弱者也能登临天险的好奇心，后果却摧毁了人间天险。

对这段文字的主旨最准确的概括是（ ）。

- A. 缆车的发明可以使自然界的天险变成通途
- B. 缆车既使旅游业赚钱，也满足了游客探险的愿望
- C. 缆车可以让弱者登临天险而不必担心有生命危险
- D. 缆车满足了人的好奇心，也限制了人对自然的探寻

【解析】正确答案为 D。第一句话是说人就是想探寻奥秘，甚至因此丧生；第二句话是说征服自然，造福后世；第三句是说缆车发展了旅游、满足了好奇心，但也摧毁了人对自然的探寻。由此，可以看出 A、B、C 三项仅概括了缆车的正面作用，而没有概括由于缆车而产生的负面效果，故正确答案为 D。

3. [2006 年中央卷（一类）第 23 题]

改革开放以来，确实出现了富豪阶层。然而，这个阶层与广大的人民群众相比，毕竟是凤毛麟角。中国的奢侈品消费增长点主要还在“中产阶级”身上，是他们的超前消费，支撑了奢侈品市场。而中国目前的“中产阶级”，无论从收入水平、消费能力还是消费结构上看，都远不能与发达国家的“中产阶级”相比。

这段话表达主要观点是（ ）。

- A. 富豪不是我国消费者的主体
- B. 我国的“中产阶级”引导着消费潮流
- C. 我国的“中产阶级”不同于发达国家
- D. 我国的“奢侈品时代”还远没有到来

【解析】正确答案为 D。A、B 选项不能从文中推导出来，而 C 选项并非短文所要表达的主要观点，根据“是他们的超前消费，支撑了奢侈品市场”和“而中国目前的‘中产阶级’，无论从收入水平、消费能力还是消费结构上看，都远不能与发达国家的‘中产阶级’相比”，可知作者主要是想说明我国的“奢侈品时代”还远没有到来，故选 D。

4. [2006 年中央卷（一类）第 30 题]

数字图书馆是计算机技术、多媒体技术、网络技术和其他相关技术发展的产物，有着传统图书馆无法比拟的优势和特征，其服务的范围大大超出图书馆的围墙。凡网络所联之地，均可使用，可实现全天候、全自动、智能化的服务。近年来，数字图书馆的建设和研究在国内取得了很大的发展，包括公共图书馆、高校图书馆以及各类情报机构等，相继开展了各类不同规模的数字图书馆建设，提供形式多样的服务。

这段话概括最准确的一项是（ ）。

- A. 数字图书馆代表了未来图书馆的发展方向
- B. 数字图书馆具有很多优势，在国内发展很快
- C. 国内数字图书馆的建设和研究取得了很大发展
- D. 数字图书馆具有传统图书馆无法比拟的优势和特征

《2011 年公务员考试行测考试 100 套华图真题》

【解析】正确答案为 B。所给的材料前半段主要介绍数字图书馆的特征与优势，后半段主要介绍我国数字图书馆的建设与研究发展。对比所给的四个选项，只有 B 项概括得最全面，故正确答案为 B。

5. [2006 年中央卷（二类）第 9 题]

在单独的一次博弈中存在较大的机会主义，也就是只要有可能，每个人都倾向于利用自身的优势为自己谋求最大化的利益，这就可能给对方带来损失，而对方也是同样的人，只要有机会也会这么做，于是双方都要采取措施来防范对方，白白增加了很多“交易成本”。

这段话的核心意思是（ ）。

- A. 怎样避免“交易成本” B. 单次博弈中存在“交易成本”
C. 在博弈活动中必须抢先抓住机会

公务员行政法律理论辅导讲座：企业破产法

【来源：北京金路公务员考试研究中心】

第一章 总则

第一条 为规范企业破产程序，公平清理债权债务，保护债权人和债务人的合法权益，维护社会主义市场经济秩序，制定本法。

第二条 企业法人不能清偿到期债务，并且资产不足以清偿全部债务或者明显缺乏清偿能力的，依照本法规定清理债务。

企业法人有前款规定情形，或者有明显丧失清偿能力可能的，可以依照本法规定进行重整。

第三条 破产案件由债务人住所地人民法院管辖。

第四条 破产案件审理程序，本法没有规定的，适用民事诉讼法的有关规定。

第五条 依照本法开始的破产程序，对债务人在中华人民共和国领域外的财产发生效力。

对外国法院作出的发生法律效力的破产案件的判决、裁定，涉及债务人在中华人民共和国领域内的财产，申请或者请求人民法院承认和执行的，人民法院依照中华人民共和国缔结或者参加的国际条约，或者按照互惠原则进行审查，认为不违反中华人民共和国法律的基本原则，不损害国家主权、安全和社会公共利益，不损害中华人民共和国领域内债权人的合法权益的，裁定承认和执行。

第六条 人民法院审理破产案件，应当依法保障企业职工的合法权益，依法追究破产企业经营管理人员的法律责任。

第二章 申请和受理

第一节 申请

第七条 债务人有本法第二条规定的情形，可以向人民法院提出重整、和解或者破产清算申请。

债务人不能清偿到期债务，债权人可以向人民法院提出对债务人进行重整或者破产清算的申请。

企业法人已解散但未清算或者未清算完毕，资产不足以清偿债务的，依法负有清算责任的人应当向人民法院申请破产清算。

第八条 向人民法院提出破产申请，应当提交破产申请书和有关证据。

《2011年公务员考试行测考试 100 套华图真题》

破产申请书应当载明下列事项：

- (一) 申请人、被申请人的基本情况；
- (二) 申请目的；
- (三) 申请的事实和理由；
- (四) 人民法院认为应当载明的其他事项。

债务人提出申请的，还应当向人民法院提交财产状况说明、债务清册、债权清册、有关财务会计报告、职工安置预案以及职工工资的支付和社会保险费用的缴纳情况。

第九条 人民法院受理破产申请前，申请人可以请求撤回申请。

第二节 受理

第十条 债权人提出破产申请的，人民法院应当自收到申请之日起五日内通知债务人。债务人对申请有异议的，应当自收到人民法院的通知之日起七日内向人民法院提出。人民法院应当自异议期满之日起十日内裁定是否受理。

除前款规定的情形外，人民法院应当自收到破产申请之日起十五日内裁定是否受理。

有特殊情况需要延长前两款规定的裁定受理期限的，经上一级人民法院批准，可以延长十五日。

第十一条 人民法院受理破产申请的，应当自裁定作出之日起五日内送达申请人。

债权人提出申请的，人民法院应当自裁定作出之日起五日内送达债务人。债务人应当自裁定送达之日起十五日内，向人民法院提交财产状况说明、债务清册、债权清册、有关财务会计报告以及职工工资的支付和社会保险费用的缴纳情况。

第十二条 人民法院裁定不受理破产申请的，应当自裁定作出之日起五日内送达申请人并说明理由。申请人对裁定不服的，可以自裁定送达之日起十日内向上一级人民法院提起上诉。

人民法院受理破产申请后至破产宣告前，经审查发现债务人不符合本法第二条规定情形的，可以裁定驳回申请。申请人对裁定不服的，可以自裁定送达之日起十日内向上一级人民法院提起上诉。

第十三条 人民法院裁定受理破产申请的，应当同时指定管理人。

第十四条 人民法院应当自裁定受理破产申请之日起二十五日内通知已知债权人，并予以公告。

通知和公告应当载明下列事项：

- (一) 申请人、被申请人的名称或者姓名；
- (二) 人民法院受理破产申请的时间；
- (三) 申报债权的期限、地点和注意事项；
- (四) 管理人的名称或者姓名及其处理事务的地址；
- (五) 债务人的债务人或者财产持有人应当向管理人清偿债务或者交付财产的要求；
- (六) 第一次债权人会议召开的时间和地点；
- (七) 人民法院认为应当通知和公告的其他事项。

第十五条 自人民法院受理破产申请的裁定送达债务人之日起至破产程序终结之日，债务人的有关人员承担下列义务：

- (一) 妥善保管其占有和管理的财产、印章和账簿、文书等资料；
- (二) 根据人民法院、管理人的要求进行工作，并如实回答询问；

《2011年公务员考试行测考试100套华图真题》

- (三) 列席债权人会议并如实回答债权人的询问;
- (四) 未经人民法院许可,不得离开住所地;
- (五) 不得新任其他企业的董事、监事、高级管理人员。

前款所称有关人员,是指企业的法定代表人;经人民法院决定,可以包括企业的财务管理人员和其他经营管理人员。

第十六条 人民法院受理破产申请后,债务人对个别债权人的债务清偿无效。

第十七条 人民法院受理破产申请后,债务人的债务人或者财产持有人应当向管理人清偿债务或者交付财产。

债务人的债务人或者财产持有人故意违反前款规定向债务人清偿债务或者交付财产,使债权人受到损失的,不免除其清偿债务或者交付财产的义务。

第十八条 人民法院受理破产申请后,管理人对破产申请受理前成立而债务人和对方当事人均未履行完毕的合同有权决定解除或者继续履行,并通知对方当事人。管理人自破产申请受理之日起二个月内未通知对方当事人,或者自收到对方当事人催告之日起三十日内未答复的,视为解除合同。

管理人决定继续履行合同的,对方当事人应当履行;但是,对方当事人有权要求管理人提供担保。管理人不提供担保的,视为解除合同。

第十九条 人民法院受理破产申请后,有关债务人财产的保全措施应当解除,执行程序应当中止。

第二十条 人民法院受理破产申请后,已经开始而尚未终结的有关债务人的民事诉讼或者仲裁应当中止;在管理人接管债务人的财产后,该诉讼或者仲裁继续进行。

第二十一条 人民法院受理破产申请后,有关债务人的民事诉讼,只能向受理破产申请的人民法院提起。

第三章 管理人

第二十二条 管理人由人民法院指定。

债权人会议认为管理人不能依法、公正执行职务或者有其他不能胜任职务情形的,可以申请人民法院予以更换。

指定管理人和确定管理人报酬的办法,由最高人民法院规定。

第二十三条 管理人依照本法规定执行职务,向人民法院报告工作,并接受债权人会议和债权人委员会的监督。

管理人应当列席债权人会议,向债权人会议报告职务执行情况,并回答询问。

第二十四条 管理人可以由有关部门、机构的人员组成的清算组或者依法设立的律师事务所、会计师事务所、破产清算事务所等社会中介机构担任。

人民法院根据债务人的实际情况,可以在征询有关社会中介机构的意见后,指定该机构具备相关专业知识和取得执业资格的人员担任管理人。

有下列情形之一的,不得担任管理人:

- (一) 因故意犯罪受过刑事处罚;
- (二) 曾被吊销相关专业执业证书;
- (三) 与本案有利害关系;
- (四) 人民法院认为不宜担任管理人的其他情形。

个人担任管理人的,应当参加执业责任保险。

第二十五条 管理人履行下列职责:

- (一) 接管债务人的财产、印章和账簿、文书等资料;
- (二) 调查债务人财产状况,制作财产状况报告;

《2011年公务员考试行测考试100套华图真题》

- (三) 决定债务人的内部管理事务;
- (四) 决定债务人的日常开支和其他必要开支;
- (五) 在第一次债权人会议召开之前, 决定继续或者停止债务人的营业;
- (六) 管理和处分债务人的财产;
- (七) 代表债务人参加诉讼、仲裁或者其他法律程序;
- (八) 提议召开债权人会议;
- (九) 人民法院认为管理人应当履行的其他职责。

本法对管理人的职责另有规定的, 适用其规定。

第二十六条 在第一次债权人会议召开之前, 管理人决定继续或者停止债务人的营业或者有本法第六十九条规定行为之一的, 应当经人民法院许可。

第二十七条 管理人应当勤勉尽责, 忠实执行职务。

第二十八条 管理人经人民法院许可, 可以聘用必要的工作人员。

管理人的报酬由人民法院确定。债权人会议对管理人的报酬有异议的, 有权向人民法院提出。

第二十九条 管理人没有正当理由不得辞去职务。管理人辞去职务应当经人民法院许可。

第四章 债务人财产

第三十条 破产申请受理时属于债务人的全部财产, 以及破产申请受理后至破产程序终结前债务人取得的财产, 为债务人财产。

第三十一条 人民法院受理破产申请前一年内, 涉及债务人财产的下列行为, 管理人有权请求人民法院予以撤销:

- (一) 无偿转让财产的;
- (二) 以明显不合理的价格进行交易的;
- (三) 对没有财产担保的债务提供财产担保的;
- (四) 对未到期的债务提前清偿的;
- (五) 放弃债权的。

第三十二条 人民法院受理破产申请前六个月内, 债务人有本法第二条第一款规定的情形, 仍对个别债权人进行清偿的, 管理人有权请求人民法院予以撤销。但是, 个别清偿使债务人财产受益的除外。

第三十三条 涉及债务人财产的下列行为无效:

- (一) 为逃避债务而隐匿、转移财产的;
- (二) 虚构债务或者承认不真实的债务的。

第三十四条 因本法第三十一条、第三十二条或者第三十三条规定的行为而取得的债务人的财产, 管理人有权追回。

第三十五条 人民法院受理破产申请后, 债务人的出资人尚未完全履行出资义务的, 管理人应当要求该出资人缴纳所认缴的出资, 而不受出资期限的限制。

第三十六条 债务人的董事、监事和高级管理人员利用职权从企业获取的非正常收入和侵占的企业财产, 管理人应当追回。

第三十七条 人民法院受理破产申请后, 管理人可以通过清偿债务或者提供为债权人接受的担保, 取回质物、留置物。

前款规定的债务清偿或者替代担保, 在质物或者留置物的价值低于被担保的债权额时, 以该质物或者留置物当时的市场价值为限。

第三十八条 人民法院受理破产申请后, 债务人占有的不属于债务人的财产, 该财产的权利人可以通过管理人取回。但是, 本法另有规定的除外。

《2011年公务员考试行测考试100套华图真题》

第三十九条 人民法院受理破产申请时，出卖人已将买卖标的物向作为买受人的债务人发运，债务人尚未收到且未付清全部价款的，出卖人可以取回在运途中的标的物。但是，管理人可以支付全部价款，请求出卖人交付标的物。

第四十条 债权人在破产申请受理前对债务人负有债务的，可以向管理人主张抵销。但是，有下列情形之一的，不得抵销：

（一）债务人的债务人在破产申请受理后取得他人对债务人的债权的；

（二）债权人已知债务人有不能清偿到期债务或者破产申请的事实，对债务人负担债务的；但是，债权人因为法律规定或者有破产申请一年前所发生的原因而负担债务的除外；

（三）债务人的债务人已知债务人有不能清偿到期债务或者破产申请的事实，对债务人取得债权的；但是，债务人的债务人因为法律规定或者有破产申请一年前所发生的原因而取得债权的除外。

第五章 破产费用和共益债务

第四十一条 人民法院受理破产申请后发生的下列费用，为破产费用：

（一）破产案件的诉讼费用；

（二）管理、变价和分配债务人财产的费用；

（三）管理人执行职务的费用、报酬和聘用工作人员的费用。

第四十二条 人民法院受理破产申请后发生的下列债务，为共益债务：

（一）因管理人或者债务人请求对方当事人履行双方均未履行完毕的合同所产生的债务；

（二）债务人财产受无因管理所产生的债务；

（三）因债务人不当得利所产生的债务；

（四）为债务人继续营业而应支付的劳动报酬和社会保险费用以及由此产生的其他债务；

（五）管理人或者相关人员执行职务致人损害所产生的债务；

（六）债务人财产致人损害所产生的债务。

第四十三条 破产费用和共益债务由债务人财产随时清偿。

债务人财产不足以清偿所有破产费用和共益债务的，先行清偿破产费用。

债务人财产不足以清偿所有破产费用或者共益债务的，按照比例清偿。

债务人财产不足以清偿破产费用的，管理人应当提请人民法院终结破产程序。人民法院应当自收到请求之日起十五日内裁定终结破产程序，并予以公告。

第六章 债权申报

第四十四条 人民法院受理破产申请时对债务人享有债权的债权人，依照本法规定的程序行使权利。

第四十五条 人民法院受理破产申请后，应当确定债权人申报债权的期限。债权申报期限自人民法院发布受理破产申请公告之日起计算，最短不得少于三十日，最长不得超过三个月。

第四十六条 未到期的债权，在破产申请受理时视为到期。

附利息的债权自破产申请受理时起停止计息。

第四十七条 附条件、附期限的债权和诉讼、仲裁未决的债权，债权人可以申报。

第四十八条 债权人应当在人民法院确定的债权申报期限内向管理人申报债权。

债务人所欠职工的工资和医疗、伤残补助、抚恤费用，所欠的应当划入职工

《2011年公务员考试行测考试100套华图真题》

个人账户的基本养老保险、基本医疗保险费用，以及法律、行政法规规定应当支付给职工的补偿金，不必申报，由管理人调查后列出清单并予以公示。职工对清单记载有异议的，可以要求管理人更正；管理人不予更正的，职工可以向人民法院提起诉讼。

第四十九条 债权人申报债权时，应当书面说明债权的数额和有无财产担保，并提交有关证据。申报的债权是连带债权的，应当说明。

第五十条 连带债权人可以由其中一人代表全体连带债权人申报债权，也可以共同申报债权。

第五十一条 债务人的保证人或者其他连带债务人已经代替债务人清偿债务的，以其对债务人的求偿权申报债权。

债务人的保证人或者其他连带债务人尚未代替债务人清偿债务的，以其对债务人的将来求偿权申报债权。但是，债权人已经向管理人申报全部债权的除外。

第五十二条 连带债务人人数人被裁定适用本法规定的程序的，其债权人有权就全部债权分别在各破产案件中申报债权。

第五十三条 管理人或者债务人依照本法规定解除合同的，对方当事人以因合同解除所产生的损害赔偿请求权申报债权。

第五十四条 债务人是委托合同的委托人，被裁定适用本法规定的程序，受托人不知该事实，继续处理委托事务的，受托人以由此产生的请求权申报债权。

第五十五条 债务人是票据的出票人，被裁定适用本法规定的程序，该票据的付款人继续付款或者承兑的，付款人以由此产生的请求权申报债权。

第五十六条 在人民法院确定的债权申报期限内，债权人未申报债权的，可以在破产财产最后分配前补充申报；但是，此前已进行的分配，不再对其补充分配。为审查和确认补充申报债权的费用，由补充申报人承担。

债权人未依照本法规定申报债权的，不得依照本法规定的程序行使权利。

第五十七条 管理人收到债权申报材料后，应当登记造册，对申报的债权进行审查，并编制债权表。

债权表和债权申报材料由管理人保存，供利害关系人查阅。

第五十八条 依照本法第五十七条规定编制的债权表，应当提交第一次债权人会议核查。

债务人、债权人对债权表记载的债权无异议的，由人民法院裁定确认。

债务人、债权人对债权表记载的债权有异议的，可以向受理破产申请的人民法院提起诉讼。

第七章 债权人会议

第一节 一般规定

第五十九条 依法申报债权的债权人为债权人会议的成员，有权参加债权人会议，享有表决权。

债权尚未确定的债权人，除人民法院能够为其行使表决权而临时确定债权额的外，不得行使表决权。

对债务人的特定财产享有担保权的债权人，未放弃优先受偿权利的，对于本法第六十一条第一款第七项、第十项规定的事项不享有表决权。

债权人可以委托代理人出席债权人会议，行使表决权。代理人出席债权人会议，应当向人民法院或者债权人会议主席提交债权人的授权委托书。

债权人会议应当有债务人的职工和工会的代表参加，对有关事项发表意见。

第六十条 债权人会议设主席一人，由人民法院从有表决权的债权人中指定。

《2011年公务员考试行测考试 100 套华图真题》

债权人会议主席主持债权人会议。

第六十一条 债权人会议行使下列职权：

- (一) 核查债权；
- (二) 申请人民法院更换管理人，审查管理人的费用和报酬；
- (三) 监督管理人；
- (四) 选任和更换债权人委员会成员；
- (五) 决定继续或者停止债务人的营业；
- (六) 通过重整计划；
- (七) 通过和解协议；
- (八) 通过债务人财产的管理方案；
- (九) 通过破产财产的变价方案；
- (十) 通过破产财产的分配方案；
- (十一) 人民法院认为应当由债权人会议行使的其他职权。

债权人会议应当对所议事项的决议作成会议记录。

第六十二条 第一次债权人会议由人民法院召集，自债权申报期限届满之日起十五日内召开。

以后的债权人会议，在人民法院认为必要时，或者管理人、债权人委员会、占债权总额四分之一以上的债权人向债权人会议主席提议时召开。

第六十三条 召开债权人会议，管理人应当提前十五日通知已知的债权人。

第六十四条 债权人会议的决议，由出席会议的有表决权的债权人过半数通过，并且其所代表的债权额占无财产担保债权总额的二分之一以上。但是，本法另有规定的除外。

债权人认为债权人会议的决议违反法律规定，损害其利益的，可以自债权人会议作出决议之日起十五日内，请求人民法院裁定撤销该决议，责令债权人会议依法重新作出决议。

债权人会议的决议，对于全体债权人均有约束力。

第六十五条 本法第六十一条第一款第八项、第九项所列事项，经债权人会议表决未通过的，由人民法院裁定。

本法第六十一条第一款第十项所列事项，经债权人会议二次表决仍未通过的，由人民法院裁定。

对前两款规定的裁定，人民法院可以在债权人会议上宣布或者另行通知债权人。

第六十六条 债权人对人民法院依照本法第六十五条第一款作出的裁定不服的，债权额占无财产担保债权总额二分之一以上的债权人对人民法院依照本法第六十五条第二款作出的裁定不服的，可以自裁定宣布之日或者收到通知之日起十五日内向该人民法院申请复议。复议期间不停止裁定的执行。

第二节 债权人委员会

第六十七条 债权人会议可以决定设立债权人委员会。债权人委员会由债权人会议选任的债权人代表和一名债务人的职工代表或者工会代表组成。债权人委员会成员不得超过九人。

债权人委员会成员应当经人民法院书面决定认可。

第六十八条 债权人委员会行使下列职权：

- (一) 监督债务人财产的管理和处分；
- (二) 监督破产财产分配；

《2011年公务员考试行测考试 100 套华图真题》

(三) 提议召开债权人会议;

(四) 债权人会议委托的其他职权。

债权人委员会执行职务时, 有权要求管理人、债务人的有关人员对其职权范围内的事务作出说明或者提供有关文件。

管理人、债务人的有关人员违反本法规定拒绝接受监督的, 债权人委员会有权就监督事项请求人民法院作出决定; 人民法院应当在五日内作出决定。

第六十九条 管理人实施下列行为, 应当及时报告债权人委员会:

(一) 涉及土地、房屋等不动产权益的转让;

(二) 探矿权、采矿权、知识产权等财产权的转让;

(三) 全部库存或者营业的转让;

(四) 借款;

(五) 设定财产担保;

(六) 债权和有价证券的转让;

(七) 履行债务人和对方当事人均未履行完毕的合同;

(八) 放弃权利;

(九) 担保物的取回;

(十) 对债权人利益有重大影响的其他财产处分行为。

未设立债权人委员会的, 管理人实施前款规定的行为应当及时报告人民法院。

第八章 重整

第一节 重整申请和重整期间

第七十条 债务人或者债权人可以依照本法规定, 直接向人民法院申请对债务人进行重整。

债权人申请对债务人进行破产清算的, 在人民法院受理破产申请后、宣告债务人破产前, 债务人或者出资额占债务人注册资本十分之一以上的出资人, 可以向人民法院申请重整。

第七十一条 人民法院经审查认为重整申请符合本法规定的, 应当裁定债务人重整, 并予以公告。

第七十二条 自人民法院裁定债务人重整之日起至重整程序终止, 为重整期间。

第七十三条 在重整期间, 经债务人申请, 人民法院批准, 债务人可以在管理人的监督下自行管理财产和营业事务。

有前款规定情形的, 依照本法规定已接管债务人财产和营业事务的管理人应当向债务人移交财产和营业事务, 本法规定的管理人的职权由债务人行使。

第七十四条 管理人负责管理财产和营业事务的, 可以聘任债务人的经营管理人员负责营业事务。

第七十五条 在重整期间, 对债务人的特定财产享有的担保权暂停行使。但是, 担保物有损坏或者价值明显减少的可能, 足以危害担保权的, 担保物权人可以在重整期间, 债务人或者管理人为继续营业而借款的, 可以为该借款设定担保。

第七十六条 债务人合法占有的他人财产, 该财产的权利人在重整期间要求取回的, 应当符合事先约定的条件。

第七十七条 在重整期间, 债务人的出资人不得请求投资收益分配。

在重整期间, 债务人的董事、监事、高级管理人员不得向第三人转让其持有的债务人的股权。但是, 经人民法院同意的除外。

《2011年公务员考试行测考试 100 套华图真题》

第七十八条 在重整期间，有下列情形之一的，经管理人或者利害关系人请求，人民法院应当裁定终止重整程序，并宣告债务人破产：

（一）债务人的经营状况和财产状况继续恶化，缺乏挽救的可能性；
（二）债务人有欺诈、恶意减少债务人财产或者其他显著不利于债权人的行为；

（三）由于债务人的行为致使管理人无法执行职务。

第二节 重整计划的制定和批准

第七十九条 债务人或者管理人应当自人民法院裁定债务人重整之日起六个月内，同时向人民法院和债权人会议提交重整计划草案。

前款规定的期限届满，经债务人或者管理人请求，有正当理由的，人民法院可以裁定延期三个月。

债务人或者管理人未按期提出重整计划草案的，人民法院应当裁定终止重整程序，并宣告债务人破产。

第八十条 债务人自行管理财产和营业事务的，由债务人制作重整计划草案。管理人负责管理财产和营业事务的，由管理人制作重整计划草案。

第八十一条 重整计划草案应当包括下列内容：

- （一）债务人的经营方案；
- （二）债权分类；
- （三）债权调整方案；
- （四）债权受偿方案；
- （五）重整计划的执行期限；
- （六）重整计划执行的监督期限；
- （七）有利于债务人重整的其他方案。

第八十二条 下列各类债权的债权人参加讨论重整计划草案的债权人会议，依照下列债权分类，分组对重整计划草案进行表决：

- （一）对债务人的特定财产享有担保权的债权；
- （二）债务人所欠职工的工资和医疗、伤残补助、抚恤费用，所欠的应当划入职工个人账户的基本养老保险、基本医疗保险费用，以及法律、行政法规规定应当支付给职工的补偿金；
- （三）债务人所欠税款；
- （四）普通债权。

人民法院在必要时可以决定在普通债权组中设小额债权组对重整计划草案进行表决。

第八十三条 重整计划不得规定减免债务人欠缴的本法第八十二条第一款第二项规定以外的社会保险费用；该项费用的债权人不参加重整计划草案的表决。

第八十四条 人民法院应当自收到重整计划草案之日起三十日内召开债权人会议，对重整计划草案进行表决。

出席会议的同一表决组的债权人过半数同意重整计划草案，并且其所代表的债权额占该组债权总额的三分之二以上的，即为该组通过重整计划草案。

债务人或者管理人应当向债权人会议就重整计划草案作出说明，并回答询问。

第八十五条 债务人的出资人代表可以列席讨论重整计划草案的债权人会议。

重整计划草案涉及出资人权益调整事项的，应当设出资人组，对该事项进行表决。

《2011年公务员考试行测考试100套华图真题》

第八十六条 各表决组均通过重整计划草案时，重整计划即为通过。

自重整计划通过之日起十日内，债务人或者管理人应当向人民法院提出批准重整计划的申请。人民法院经审查认为符合本法规定的，应当自收到申请之日起三十日内裁定批准，终止重整程序，并予以公告。

第八十七条 部分表决组未通过重整计划草案的，债务人或者管理人可以同未通过重整计划草案的表决组协商。该表决组可以在协商后再表决一次。双方协商的结果不得损害其他表决组的利益。

未通过重整计划草案的表决组拒绝再次表决或者再次表决仍未通过重整计划草案，但重整计划草案符合下列条件的，债务人或者管理人可以申请人民法院批准重整计划草案：

（一）按照重整计划草案，本法第八十二条第一款第一项所列债权就该特定财产将获得全额清偿，其因延期清偿所受的损失将得到公平补偿，并且其担保权未受到实质性损害，或者该表决组已经通过重整计划草案；

（二）按照重整计划草案，本法第八十二条第一款第二项、第三项所列债权将获得全额清偿，或者相应表决组已经通过重整计划草案；

（三）按照重整计划草案，普通债权所获得的清偿比例，不低于其在重整计划草案被提请批准时依照破产清算程序所能获得的清偿比例，或者该表决组已经通过重整计划草案；

（四）重整计划草案对出资人权益的调整公平、公正，或者出资人组已经通过重整计划草案；

（五）重整计划草案公平对待同一表决组的成员，并且所规定的债权清偿顺序不违反本法第一百一十三条的规定；

（六）债务人的经营方案具有可行性。

人民法院经审查认为重整计划草案符合前款规定的，应当自收到申请之日起三十日内裁定批准，终止重整程序，并予以公告。

第八十八条 重整计划草案未获得通过且未依照本法第八十七条的规定获得批准，或者已通过的重整计划未获得批准的，人民法院应当裁定终止重整程序，并宣告债务人破产。

第三节 重整计划的执行

第八十九条 重整计划由债务人负责执行。

人民法院裁定批准重整计划后，已接管财产和营业事务的管理人应当向债务人移交财产和营业事务。

第九十条 自人民法院裁定批准重整计划之日起，在重整计划规定的监督期内，由管理人监督重整计划的执行。

在监督期内，债务人应当向管理人报告重整计划执行情况和债务人财务状况。

第九十一条 监督期届满时，管理人应当向人民法院提交监督报告。自监督报告提交之日起，管理人的监督职责终止。

管理人向人民法院提交的监督报告，重整计划的利害关系人有权查阅。

经管理人申请，人民法院可以裁定延长重整计划执行的监督期限。

第九十二条 经人民法院裁定批准的重整计划，对债务人和全体债权人均有约束力。

债权人未依照本法规定申报债权的，在重整计划执行期间不得行使权利；在重整计划执行完毕后，可以按照重整计划规定的同类债权的清偿条件行使权利。

债权人对债务人的保证人和其他连带债务人所享有的权利，不受重整计划的

《2011年公务员考试行测考试 100 套华图真题》

影响。

第九十三条 债务人不能执行或者不执行重整计划的，人民法院经管理人或者利害关系人请求，应当裁定终止重整计划的执行，并宣告债务人破产。

人民法院裁定终止重整计划执行的，债权人在重整计划中作出的债权调整的承诺失去效力。债权人因执行重整计划所受的清偿仍然有效，债权未受清偿的部分作为破产债权。

前款规定的债权人，只有在其他同顺位债权人同自己所受的清偿达到同一比例时，才能继续接受分配。

有本条第一款规定情形的，为重整计划的执行提供的担保继续有效。

第九十四条 按照重整计划减免的债务，自重整计划执行完毕时起，债务人不再承担清偿责任。

第九章 和解

第九十五条 债务人可以依照本法规定，直接向人民法院申请和解；也可以在人民法院受理破产申请后、宣告债务人破产前，向人民法院申请和解。

债务人申请和解，应当提出和解协议草案。

第九十六条 人民法院经审查认为和解申请符合本法规定的，应当裁定和解，予以公告，并召集债权人会议讨论和解协议草案。

对债务人的特定财产享有担保权的权利人，自人民法院裁定和解之日起可以行使权利。

第九十七条 债权人会议通过和解协议的决议，由出席会议的有表决权的债权人过半数同意，并且其所代表的债权额占无财产担保债权总额的三分之二以上。

第九十八条 债权人会议通过和解协议的，由人民法院裁定认可，终止和解程序，并予以公告。管理人应当向债务人移交财产和营业事务，并向人民法院提交执行职务的报告。

第九十九条 和解协议草案经债权人会议表决未获得通过，或者已经债权人会议通过的和解协议未获得人民法院认可的，人民法院应当裁定终止和解程序，并宣告债务人破产。

第一百条 经人民法院裁定认可的和解协议，对债务人和全体和解债权人均有约束力。

和解债权人是指人民法院受理破产申请时对债务人享有无财产担保债权的人。

和解债权人未依照本法规定申报债权的，在和解协议执行期间不得行使权利；在和解协议执行完毕后，可以按照和解协议规定的清偿条件行使权利。

第一百零一条 和解债权人对债务人的保证人和其他连带债务人所享有的权利，不受和解协议的影响。

第一百零二条 债务人应当按照和解协议规定的条件清偿债务。

第一百零三条 因债务人的欺诈或者其他违法行为而成立的和解协议，人民法院应当裁定无效，并宣告债务人破产。

有前款规定情形的，和解债权人因执行和解协议所受的清偿，在其他债权人所受清偿同等比例的范围内，不予返还。

第一百零四条 债务人不能执行或者不执行和解协议的，人民法院经和
亡饲肭螭 Φ輩枚口罩购徒庠 榈闹葱校 (12) 颯 祥似撇 ?BR>人民法院裁定终止和解协议执行的，和解债权人在和解协议中作出的债权调整的承诺失去效力。和解债权人因执行和解协议所受的清偿仍然有效，和解债权未受清偿的部分作为

《2011年公务员考试行测考试100套华图真题》

破产债权。

前款规定的债权人，只有在其他债权人同自己所受的清偿达到同一比例时，才能继续接受分配。

有本条第一款规定情形的，为和解协议的执行提供的担保继续有效。

第一百零五条 人民法院受理破产申请后，债务人与全体债权人就债权债务的处理自行达成协议的，可以请求人民法院裁定认可，并终结破产程序。

第一百零六条 按照和解协议减免的债务，自和解协议执行完毕时起，债务人不再承担清偿责任。

第十章 破产清算

第一节 破产宣告

第一百零七条 人民法院依照本法规定宣告债务人破产的，应当自裁定作出之日起五日内送达债务人和管理人，自裁定作出之日起十日内通知已知债权人，并予以公告。

债务人被宣告破产后，债务人称为破产人，债务人财产称为破产财产，人民法院受理破产申请时对债务人享有的债权称为破产债权。

第一百零八条 破产宣告前，有下列情形之一的，人民法院应当裁定终结破产程序，并予以公告：

- (一)第三人为债务人提供足额担保或者为债务人清偿全部到期债务的；
- (二)债务人已清偿全部到期债务的。

第一百零九条 对破产人的特定财产享有担保权的权利人，对该特定财产享有优先受偿的权利。

第一百一十条 享有本法第一百零九条规定权利的债权人行使优先受偿权利未能完全受偿的，其未受偿的债权作为普通债权；放弃优先受偿权利的，其债权作为普通债权。

第二节 变价和分配

第一百一十一条 管理人应当及时拟订破产财产变价方案，提交债权人会议讨论。

管理人应当按照债权人会议通过的或者人民法院依照本法第六十五条第一款规定裁定的破产财产变价方案，适时变价出售破产财产。

第一百一十二条 变价出售破产财产应当通过拍卖进行。但是，债权人会议另有决议的除外。

破产企业可以全部或者部分变价出售。企业变价出售时，可以将其中的无形资产和其他财产单独变价出售。

按照国家规定不能拍卖或者限制转让的财产，应当按照国家规定的方式处理。

第一百一十三条 破产财产在优先清偿破产费用和共益债务后，依照下列顺序清偿：

- (一)破产人所欠职工的工资和医疗、伤残补助、抚恤费用，所欠的应当划入职工个人账户的基本养老保险、基本医疗保险费用，以及法律、行政法规规定应当支付给职工的补偿金；
- (二)破产人欠缴的除前项规定以外的社会保险费用和破产人所欠税款；
- (三)普通破产债权。

破产财产不足以清偿同一顺序的清偿要求的，按照比例分配。

破产企业的董事、监事和高级管理人员的工资按照该企业职工的平均工资计算。

《2011年公务员考试行测考试100套华图真题》

第一百一十四条 破产财产的分配应当以货币分配方式进行。但是，债权人会议另有决议的除外。

第一百一十五条 管理人应当及时拟订破产财产分配方案，提交债权人会议讨论。

破产财产分配方案应当载明下列事项：

- (一) 参加破产财产分配的债权人名称或者姓名、住所；
- (二) 参加破产财产分配的债权额；
- (三) 可供分配的破产财产数额；
- (四) 破产财产分配的顺序、比例及数额；
- (五) 实施破产财产分配的方法。

债权人会议通过破产财产分配方案后，由管理人将该方案提请人民法院裁定认可。

第一百一十六条 破产财产分配方案经人民法院裁定认可后，由管理人执行。

管理人按照破产财产分配方案实施多次分配的，应当公告本次分配的财产额和债权额。管理人实施最后分配的，应当在公告中指明，并载明本法第一百一十七条第二款规定的事项。

第一百一十七条 对于附生效条件或者解除条件的债权，管理人应当将其分配额提存。

管理人依照前款规定提存的分配额，在最后分配公告日，生效条件未成就或者解除条件成就的，应当分配给其他债权人；在最后分配公告日，生效条件成就或者解除条件未成就的，应当交付给债权人。

第一百一十八条 债权人未受领的破产财产分配额，管理人应当提存。债权人自最后分配公告之日起满二个月仍不领取的，视为放弃受领分配的权利，管理人或者人民法院应当将提存的分配额分配给其他债权人。

第一百一十九条 破产财产分配时，对于诉讼或者仲裁未决的债权，管理人应当将其分配额提存。自破产程序终结之日起满二年仍不能受领分配的，人民法院应当将提存的分配额分配给其他债权人。

第三节 破产程序的终结

第一百二十条 破产人无财产可供分配的，管理人应当请求人民法院裁定终结破产程序。

管理人在最后分配完结后，应当及时向人民法院提交破产财产分配报告，并提请人民法院裁定终结破产程序。

人民法院应当自收到管理人终结破产程序的请求之日起十五日内作出是否终结破产程序的裁定。裁定终结的，应当予以公告。

第一百二十一条 管理人应当自破产程序终结之日起十日内，持人民法院终结破产程序的裁定，向破产人的原登记机关办理注销登记。

第一百二十二条 管理人于办理注销登记完毕的次日终止执行职务。但是，存在诉讼或者仲裁未决情况的除外。

第一百二十三条 自破产程序依照本法第四十三条规定终结之日起二年内，管理人未依照本法第一百二十二条规定向破产人的原登记机关办理注销登记的，由人民法院责令改正；逾期不改正的，人民法院可以处以罚款。罚款金额为人民币一千元以上二万元以下。

(一) 发现有依照本法第三十一条、第三十二条、第三十三条、第三十六条规定应当追回的财产的；

(二) 发现破产人有应当供分配的其他财产的。

有前款规定情形，但财产数量不足以支付分配费用的，不再进行追加分配，

《2011年公务员考试行测考试100套华图真题》

由人民法院将其上交国库。

第一百二十四条 破产人的保证人和其他连带债务人，在破产程序终结后，对债权人依照破产清算程序未受清偿的债权，依法继续承担清偿责任。

第十一章 法律责任

第一百二十五条 企业董事、监事或者高级管理人员违反忠实义务、勤勉义务，致使所在企业破产的，依法承担民事责任。

有前款规定情形的人员，自破产程序终结之日起三年内不得担任任何企业的董事、监事、高级管理人员。

第一百二十六条 有义务列席债权人会议的债务人的有关人员，经人民法院传唤，无正当理由拒不列席债权人会议的，人民法院可以拘传，并依法处以罚款。债务人的有关人员违反本法规定，拒不陈述、回答，或者作虚假陈述、回答的，人民法院可以依法处以罚款。

第一百二十七条 债务人违反本法规定，拒不向人民法院提交或者提交不真实的财产状况说明、债务清册、债权清册、有关财务会计报告以及职工工资的支付情况和社会保险费用的缴纳情况的，人民法院可以对直接责任人员依法处以罚款。

债务人违反本法规定，拒不向管理人移交财产、印章和账簿、文书等资料的，或者伪造、销毁有关财产证据材料而使财产状况不明的，人民法院可以对直接责任人员依法处以罚款。

第一百二十八条 债务人有本法第三十一条、第三十二条、第三十三条规定的行为，损害债权人利益的，债务人的法定代表人和其他直接责任人员依法承担赔偿责任。

第一百二十九条 债务人的有关人员违反本法规定，擅自离开住所地的，人民法院可以予以训诫、拘留，可以依法并处罚款。

第一百三十条 管理人未依照本法规定勤勉尽责，忠实执行职务的，人民法院可以依法处以罚款；给债权人、债务人或者第三人造成损失的，依法承担赔偿责任。

第一百三十一条 违反本法规定，构成犯罪的，依法追究刑事责任。

第十二章 附则

第一百三十二条 本法施行后，破产人在本法公布之日前所欠职工的工资和医疗、伤残补助、抚恤费用，所欠的应当划入职工个人账户的基本养老保险、基本医疗保险费用，以及法律、行政法规规定应当支付给职工的补偿金，依照本法第一百一十三条的规定清偿后不足以清偿的部分，以本法第一百零九条规定的特定财产优先于对该特定财产享有担保权的权利人受偿。

第一百三十三条 在本法施行前国务院规定的期限和范围内的国有企业实施破产的特殊事宜，按照国务院有关规定办理。

第一百三十四条 商业银行、证券公司、保险公司等金融机构有本法第二条规定情形的，国务院金融监督管理机构可以向人民法院提出对该金融机构进行重整或者破产清算的申请。国务院金融监督管理机构依法对出现重大经营风险的金融机构采取接管、托管等措施的，可以向人民法院申请中止以该金融机构为被告或者被执行人的民事诉讼程序或者执行程序。

金融机构实施破产的，国务院可以依据本法和有关法律的规定制定实施办法。

第一百三十五条 其他法律规定企业法人以外的组织的清算，属于破产清算

《2011 年公务员考试行测考试 100 套华图真题》

的，参照适用本法规定的程序。

第一百三十六条 本法自 2007 年 6 月 1 日起施行，《中华人民共和国企业破产法（试行）》同时废止。

公务员考试行政法律理论辅导讲座：证券法

[来源: 北京金路公务员考试研究中心]

中华人民共和国证券法(1998 年 12 月 29 日第九届全国人民代表大会常务委员会第六次会议通过 根据 2004 年 8 月 28 日第十届全国人民代表大会常务委员会第十一次会议《关于修改〈中华人民共和国证券法〉的决定》修正 2005 年 10 月 27 日第十届全国人民代表大会常务委员会第十八次会议修订)

第一章 总 则

第一条 为了规范证券发行和交易行为，保护投资者的合法权益，维护社会经济秩序和社会公共利益，促进社会主义市场经济的发展，制定本法。

第二条 在中华人民共和国境内，股票、公司债券和国务院依法认定的其他证券的发行和交易，适用本法；本法未规定的，适用《中华人民共和国公司法》和其他法律、行政法规的规定。

政府债券、证券投资基金份额的上市交易，适用本法；其他法律、行政法规有特别规定的，适用其规定。证券衍生品种发行、交易的管理办法，由国务院依照本法的原则规定。

第三条 证券的发行、交易活动，必须实行公开、公平、公正的原则。

第四条 证券发行、交易活动的当事人具有平等的法律地位，应当遵守自愿、有偿、诚实信用的原则。

第五条 证券的发行、交易活动，必须遵守法律、行政法规；禁止欺诈、内幕交易和操纵证券市场的行为。

第六条 证券业和银行业、信托业、保险业实行分业经营、分业管理，证券公司与银行、信托、保险业务机构分别设立。国家另有规定的除外。

第七条 国务院证券监督管理机构依法对全国证券市场实行集中统一监督管理。

国务院证券监督管理机构根据需要可以设立派出机构，按照授权履行监督管理职责。

第八条 在国家对证券发行、交易活动实行集中统一监督管理的前提下，依法设立证券业协会，实行自律性管理。

第九条 国家审计机关依法对证券交易所、证券公司、证券登记结算机构、证券监督管理机构进行审计监督。

第二章 证券发行

第十条 公开发行证券，必须符合法律、行政法规规定的条件，并依法报经国务院证券监督管理机构或者国务院授权的部门核准；未经依法核准，任何单位和个人不得公开发行证券。

有下列情形之一的，为公开发行：

- (一) 向不特定对象发行证券；
- (二) 向累计超过二百人的特定对象发行证券；

《2011年公务员考试行测考试 100 套华图真题》

(三)法律、行政法规规定的其他发行行为。非公开发行证券，不得采用广告、公开劝诱和变相公开方式。

第十一条 发行人申请公开发行股票、可转换为股票的公司债券，依法采取承销方式的，或者公开发行法律、行政法规规定实行保荐制度的其他证券的，应当聘请具有保荐资格的机构担任保荐人。

保荐人应当遵守业务规则和行业规范，诚实守信，勤勉尽责，对发行人的申请文件和信息披露资料进行审慎核查，督导发行人规范运作。

保荐人的资格及其管理办法由国务院证券监督管理机构规定。

第十二条 设立股份有限公司公开发行股票，应当符合《中华人民共和国公司法》规定的条件和经国务院批准的国务院证券监督管理机构规定的其他条件，向国务院证券监督管理机构报送募股申请和下列文件：

(一)公司章程；

(二)发起人协议；

(三)发起人姓名或者名称，发起人认购的股份数、出资种类及验资证明；

(四)招股说明书；

(五)代收股款银行的名称及地址；

(六)承销机构名称及有关的协议。依照本法规定聘请保荐人的，还应当报送保荐人出具的发行保荐书。

法律、行政法规规定设立公司必须报经批准的，还应当提交相应的批准文件。

第十三条 公司公开发行新股，应当符合下列条件：

(一)具备健全且运行良好的组织机构；

(二)具有持续盈利能力，财务状况良好；

(三)最近三年财务会计文件无虚假记载，无其他重大违法行为；

(四)经国务院批准的国务院证券监督管理机构规定的其他条件。

上市公司非公开发行新股，应当符合经国务院批准的国务院证券监督管理机构规定的条件，并报国务院证券监督管理机构核准。

第十四条 公司公开发行新股，应当向国务院证券监督管理机构报送募股申请和下列文件：

(一)公司营业执照；

(二)公司章程；

(三)股东大会决议；

(四)招股说明书；

(五)财务会计报告；

(六)代收股款银行的名称及地址；

(七)承销机构名称及有关的协议。依照本法规定聘请保荐人的，还应当报送保荐人出具的发行保荐书。

第十五条 公司对公开发行股票所募集资金，必须按照招股说明书所列资金用途使用。改变招股说明书所列资金用途，必须经股东大会作出决议。擅自改变用途而未作纠正的，或者未经股东大会认可的，不得公开发行新股，上市公司也不得非公开发行新股。

第十六条 公开发行公司债券，应当符合下列条件：

(一)股份有限公司的净资产不低于人民币三千万元，有限责任公司的净资产不低于人民币六千万元；

(二)累计债券余额不超过公司净资产的百分之四十；

《2011年公务员考试行测考试 100 套华图真题》

- (三)最近三年平均可分配利润足以支付公司债券一年的利息;
- (四)筹集的资金投向符合国家产业政策;
- (五)债券的利率不超过国务院限定的利率水平;
- (六)国务院规定的其他条件。

公开发行公司债券筹集的资金，必须用于核准的用途，不得用于弥补亏损和非生产性支出。上市公司发行可转换为股票的公司债券，除应当符合第一款规定的条件外，还应当符合本法关于公开发行股票的条件，并报国务院证券监督管理机构核准。

第十七条 申请公开发行公司债券，应当向国务院授权的部门或者国务院证券监督管理机构报送下列文件：

- (一)公司营业执照;
- (二)公司章程;
- (三)公司债券募集办法;
- (四)资产评估报告和验资报告;
- (五)国务院授权的部门或者国务院证券监督管理机构规定的其他文件。

依照本法规定聘请保荐人的，还应当报送保荐人出具的发行保荐书。

第十八条 有下列情形之一的，不得再次公开发行公司债券：

- (一)前一次公开发行的公司债券尚未募足;
- (二)对已公开发行的公司债券或者其他债务有违约或者延迟支付本息的事实，仍处于继续状态;
- (三)违反本法规定，改变公开发行公司债券所募资金的用途。

第十九条 发行人依法申请核准发行证券所报送的申请文件的格式、报送方式，由依法负责核准的机构或者部门规定。

第二十条 发行人向国务院证券监督管理机构或者国务院授权的部门报送的证券发行申请文件，必须真实、准确、完整。

为证券发行出具有关文件的证券服务机构和人员，必须严格履行法定职责，保证其所出具文件的真实性、准确性和完整性。

第二十一条 发行人申请首次公开发行股票的，在提交申请文件后，应当按照国务院证券监督管理机构的规定预先披露有关申请文件。

第二十二条 国务院证券监督管理机构设发行审核委员会，依法审核股票发行申请。

发行审核委员会由国务院证券监督管理机构的专业人员和所聘请的该机构外的有关专家组成，以投票方式对股票发行申请进行表决，提出审核意见。发行审核委员会的具体组成办法、组成人员任期、工作程序，由国务院证券监督管理机构规定。

第二十三条 国务院证券监督管理机构依照法定条件负责核准股票发行申请。核准程序应当公开，依法接受监督。

参与审核和核准股票发行申请的人员，不得与发行人有利害关系，不得直接或者间接接受发行申请人的馈赠，不得持有所核准的发行申请的股票，不得私下与发行人进行接触。

国务院授权的部门对公司债券发行申请的核准，参照前两款的规定执行。

第二十四条 国务院证券监督管理机构或者国务院授权的部门应当自受理证券发行申请文件之日起三个月内，依照法定条件和法定程序作出予以核准或者不予核准的决定，发行人根据要求补充、修改发行申请文件的时间不计算在内；不

《2011年公务员考试行测考试 100 套华图真题》

予核准的，应当说明理由。

第二十五条 证券发行申请经核准，发行人应当依照法律、行政法规的规定，在证券公开发行前，公告公开发行募集文件，并将该文件置备于指定场所供公众查阅。发行证券的信息依法公开前，任何知情人不得公开或者泄露该信息。

发行人不得在公告公开发行募集文件前发行证券。

第二十六条 国务院证券监督管理机构或者国务院授权的部门对已作出的核准证券发行的决定，发现不符合法定条件或者法定程序，尚未发行证券的，应当予以撤销，停止发行。已经发行尚未上市的，撤销发行核准决定，发行人应当按照发行价并加算银行同期存款利息返还证券持有人；保荐人应当与发行人承担连带责任，但是能够证明自己没有过错的除外；发行人的控股股东、实际控制人有过错的，应当与发行人承担连带责任。

第二十七条 股票依法发行后，发行人经营与收益的变化，由发行人自行负责；由此变化引致的投资风险，由投资者自行负责。

第二十八条 发行人向不特定对象公开发行的证券，法律、行政法规规定应当由证券公司承销的，发行人应当同证券公司签订承销协议。证券承销业务采取代销或者包销方式。

证券代销是指证券公司代发行人发售证券，在承销期结束时，将未售出的证券全部退还给发行人的承销方式。证券包销是指证券公司将发行人的证券按照协议全部购入或者在承销期结束时将售后剩余证券全部自行购入的承销方式。

第二十九条 公开发行政券的发行人有权依法自主选择承销的证券公司。证券公司不得以不正当竞争手段招揽证券承销业务。

第三十条 证券公司承销证券，应当同发行人签订代销或者包销协议，载明下列事项：

- (一) 当事人的名称、住所及法定代表人姓名；
- (二) 代销、包销证券的种类、数量、金额及发行价格；
- (三) 代销、包销的期限及起止日期；
- (四) 代销、包销的付款方式及日期；
- (五) 代销、包销的费用和结算办法；
- (六) 违约责任；
- (七) 国务院证券监督管理机构规定的其他事项。

第三十一条 证券公司承销证券，应当对公开发行募集文件的真实性、准确性、完整性进行核查；发现有虚假记载、误导性陈述或者重大遗漏的，不得进行销售活动；已经销售的，必须立即停止销售活动，并采取纠正措施。

第三十二条 向不特定对象公开发行的证券票面总值超过人民币五千万元的，应当由承销团承销。承销团应当由主承销和参与承销的证券公司组成。

第三十三条 证券的代销、包销期限最长不得超过九十日。

证券公司在代销、包销期内，对所代销、包销的证券应当保证先行出售给认购人，证券公司不得为本公司预留所代销的证券和预先购入并留存所包销的证券。

第三十四条 股票发行采取溢价发行的，其发行价格由发行人与承销的证券公司协商确定。

第三十五条 股票发行采用代销方式，代销期限届满，向投资者出售的股票数量未达到拟公开发行股票数量百分之七十的，为发行失败。发行人应当按照发行价并加算银行同期存款利息返还股票认购人。

第三十六条 公开发行股票，代销、包销期限届满，发行人应当在规定的期

《2011年公务员考试行测考试 100 套华图真题》

限内将股票发行情况报国务院证券监督管理机构备案。

第三章 证券交易

第一节 一般规定

第三十七条 证券交易当事人依法买卖的证券，必须是依法发行并交付的证券。

非依法发行的证券，不得买卖。

第三十八条 依法发行的股票、公司债券及其他证券，法律对其转让期限有限制性规定的，在限定的期限内不得买卖。

第三十九条 依法公开发行的股票、公司债券及其他证券，应当在依法设立的证券交易所上市交易或者在国务院批准的其他证券交易场所转让。

第四十条 证券在证券交易所上市交易，应当采用公开的集中交易方式或者国务院证券监督管理机构批准的其他方式。

第四十一条 证券交易当事人买卖的证券可以采用纸面形式或者国务院证券监督管理机构规定的其他方式。

第四十二条 证券交易以现货和国务院规定的其他方式进行交易。

第四十三条 证券交易所、证券公司和证券登记结算机构的从业人员、证券监督管理机构的工作人员以及法律、行政法规禁止参与股票交易的其他人员，在任期或者法定限期内，不得直接或者以化名、借他人名义持有、买卖股票，也不得收受他人赠送的股票。任何人在成为前款所列人员时，其原已持有的股票，必须依法转让。

第四十四条 证券交易所、证券公司、证券登记结算机构必须依法为客户开立的账户保密。

第四十五条 为股票发行出具审计报告、资产评估报告或者法律意见书等文件的证券服务机构和人员，在该股票承销期内和期满后六个月内，不得买卖该种股票。除前款规定外，为上市公司出具审计报告、资产评估报告或者法律意见书等文件的证券服务机构和人员，自接受上市公司委托之日起至上述文件公开后五日内，不得买卖该种股票。

第四十六条 证券交易的收费必须合理，并公开收费项目、收费标准和收费办法。

证券交易的收费项目、收费标准和管理办法由国务院有关主管部门统一规定。

第四十七条 上市公司董事、监事、高级管理人员、持有上市公司股份百分之五以上的股东，将其持有的该公司的股票在买入后六个月内卖出，或者在卖出后六个月内又买入，由此所得收益归该公司所有，公司董事会应当收回其所得收益。但是，证券公司因包销购入售后剩余股票而持有百分之五以上股份的，卖出该股票不受六个月时间限制。

公司董事会不按照前款规定执行的，股东有权要求董事会在三十日内执行。公司董事会未在上述期限内执行的，股东有权为了公司的利益以自己的名义直接向人民法院提起诉讼。

公司董事会不按照第一款的规定执行的，负有责任的董事依法承担连带责任。

第二节 证券上市

第四十八条 申请证券上市交易，应当向证券交易所提出申请，由证券交易所依法审核同意，并由双方签订上市协议。

证券交易所根据国务院授权的部门的决定安排政府债券上市交易。

第四十九条 申请股票、可转换为股票的公司债券或者法律、行政法规规定

《2011年公务员考试行测考试 100 套华图真题》

实行保荐制度的其他证券上市交易，应当聘请具有保荐资格的机构担任保荐人。
本法第十一条第二款、第三款的规定适用于上市保荐人。

第五十条 股份有限公司申请股票上市，应当符合下列条件：

(一) 股票经国务院证券监督管理机构核准已公开发行；

(二) 公司股本总额不少于人民币三千万元；

(三) 公开发行的股份达到公司股份总数的百分之二十五以上；公司股本总额超过人民币四亿元的，公开发行股份的比例为百分之十以上；

(四) 公司最近三年无重大违法行为，财务会计报告无虚假记载。

证券交易所可以规定高于前款规定的上市条件，并报国务院证券监督管理机构批准。

第五十一条 国家鼓励符合产业政策并符合上市条件的公司股票上市交易。

第五十二条 申请股票上市交易，应当向证券交易所报送下列文件：

(一) 上市报告书；

(二) 申请股票上市的股东大会决议；

(三) 公司章程；

(四) 公司营业执照；

(五) 依法经会计师事务所审计的公司最近三年的财务会计报告；

(六) 法律意见书和上市保荐书；

(七) 最近一次的招股说明书；

(八) 证券交易所上市规则规定的其他文件。

第五十三条 股票上市交易申请经证券交易所审核同意后，签订上市协议的公司应当在规定的期限内公告股票上市的有关文件，并将该文件置备于指定场所供公众查阅。

第五十四条 签订上市协议的公司除公告前条规定的文件外，还应当公告下列事项：

(一) 股票获准在证券交易所交易的日期；

(二) 持有公司股份最多的前十名股东的名单和持股数额；

(三) 公司的实际控制人；

(四) 董事、监事、高级管理人员的姓名及其持有本公司股票和债券的情况。

第五十五条 上市公司有下列情形之一的，由证券交易所决定暂停其股票上市交易：

(一) 公司股本总额、股权分布等发生变化不再具备上市条件；

(二) 公司不按照规定公开其财务状况，或者对财务会计报告作虚假记载，可能误导投资者；

(三) 公司有重大违法行为；

(四) 公司最近三年连续亏损；

(五) 证券交易所上市规则规定的其他情形。

第五十六条 上市公司有下列情形之一的，由证券交易所决定终止其股票上市交易：

(一) 公司股本总额、股权分布等发生变化不再具备上市条件，在证券交易所规定的期限内仍不能达到上市条件；

(二) 公司不按照规定公开其财务状况，或者对财务会计报告作虚假记载，且拒绝纠正；

(三) 公司最近三年连续亏损，在其后一个年度内未能恢复盈利；

《2011年公务员考试行测考试 100 套华图真题》

- (四) 公司解散或者被宣告破产;
- (五) 证券交易所上市规则规定的其他情形。

第五十七条 公司申请公司债券上市交易, 应当符合下列条件:

- (一) 公司债券的期限为一年以上;
- (二) 公司债券实际发行额不少于人民币五千万元;
- (三) 公司申请债券上市时仍符合法定的公司债券发行条件。

第五十八条 申请公司债券上市交易, 应当向证券交易所报送下列文件:

- (一) 上市报告书;
- (二) 申请公司债券上市的董事会决议;
- (三) 公司章程;
- (四) 公司营业执照;
- (五) 公司债券募集办法;
- (六) 公司债券的实际发行数额;
- (七) 证券交易所上市规则规定的其他文件。申请可转换为股票的公司债券上市交易, 还应当报送保荐人出具的上市保荐书。

第五十九条 公司债券上市交易申请经证券交易所审核同意后, 签订上市协议的公司应当在规定的期限内公告公司债券上市文件及有关文件, 并将其申请文件置备于指定场所供公众查阅。

第六十条 公司债券上市交易后, 公司有下列情形之一的, 由证券交易所决定暂停其公司债券上市交易:

- (一) 公司有重大违法行为;
- (二) 公司情况发生重大变化不符合公司债券上市条件;
- (三) 公司债券所募集资金不按照核准的用途使用;
- (四) 未按照公司债券募集办法履行义务;
- (五) 公司最近二年连续亏损。

第六十一条 公司有前条第(一)项、第(四)项所列情形之一经查实后果严重的, 或者有前条第(二)项、第(三)项、第(五)项所列情形之一, 在限期内未能消除的, 由证券交易所决定终止其公司债券上市交易。公司解散或者被宣告破产的, 由证券交易所终止其公司债券上市交易。

第六十二条 对证券交易所作出的不予上市、暂停上市、终止上市决定不服的, 可以向证券交易所设立的复核机构申请复核。

第三节 持续信息公开

第六十三条 发行人、上市公司依法披露的信息, 必须真实、准确、完整, 不得有虚假记载、误导性陈述或者重大遗漏。

第六十四条 经国务院证券监督管理机构核准依法公开发行股票, 或者经国务院授权的部门核准依法公开发行公司债券, 应当公告招股说明书、公司债券募集办法。依法公开发行新股或者公司债券的, 还应当公告财务会计报告。

第六十五条 上市公司和公司债券上市交易的公司, 应当在每一会计年度的上半年结束之日起二个月内, 向国务院证券监督管理机构和证券交易所报送记载以下内容的中期报告, 并予公告:

- (一) 公司财务会计报告和经营情况;
- (二) 涉及公司的重大诉讼事项;
- (三) 已发行的股票、公司债券变动情况;
- (四) 提交股东大会审议的重要事项;

《2011年公务员考试行测考试 100 套华图真题》

(五) 国务院证券监督管理机构规定的其他事项。

第六十六条 上市公司和公司债券上市交易的公司，应当在每一会计年度结束之日起四个月内，向国务院证券监督管理机构和证券交易所报送记载以下内容的年度报告，并予公告：

(一) 公司概况；

(二) 公司财务会计报告和经营情况；

(三) 董事、监事、高级管理人员简介及其持股情况；

(四) 已发行的股票、公司债券情况，包括持有公司股份最多的前十名股东名单和持股数额；

(五) 公司的实际控制人；

(六) 国务院证券监督管理机构规定的其他事项。

第六十七条 发生可能对上市公司股票交易价格产生较大影响的重大事件，投资者尚未得知时，上市公司应当立即将有关该重大事件的情况向国务院证券监督管理机构和证券交易所报送临时报告，并予公告，说明事件的起因、目前的状态和可能产生的法律后果。下列情况为前款所称重大事件：

(一) 公司的经营方针和经营范围的重大变化；

(二) 公司的重大投资行为和重大的购置财产的决定；

(三) 公司订立重要合同，可能对公司的资产、负债、权益和经营成果产生重要影响；

(四) 公司发生重大债务和未能清偿到期重大债务的违约情况；

(五) 公司发生重大亏损或者重大损失；

(六) 公司生产经营的外部条件发生的重大变化；

(七) 公司的董事、三分之一以上监事或者经理发生变动；

(八) 持有公司百分之五以上股份的股东或者实际控制人，其持有股份或者控制公司的情况发生较大变化；

(九) 公司减资、合并、分立、解散及申请破产的决定；

(十) 涉及公司的重大诉讼，股东大会、董事会决议被依法撤销或者宣告无效；

(十一) 公司涉嫌犯罪被司法机关立案调查，公司董事、监事、高级管理人员涉嫌犯罪被司法机关采取强制措施；

(十二) 国务院证券监督管理机构规定的其他事项。

第六十八条 上市公司董事、高级管理人员应当对公司定期报告签署书面确认意见。

上市公司监事会应当对董事会编制的公司定期报告进行审核并提出书面审核意见。

上市公司董事、监事、高级管理人员应当保证上市公司所披露的信息真实、准确、完整。

第六十九条 发行人、上市公司公告的招股说明书、公司债券募集办法、财务会计报告、上市报告文件、年度报告、中期报告、临时报告以及其他信息披露资料，有虚假记载、误导性陈述或者重大遗漏，致使投资者在证券交易中遭受损失的，发行人、上市公司应当承担赔偿责任；发行人、上市公司的董事、监事、高级管理人员和其他直接责任人员以及保荐人、承销的证券公司，应当与发行人、上市公司承担连带赔偿责任，但是能够证明自己没有过错的除外；发行人、上市公司的控股股东、实际控制人有过错的，应当与发行人、上市公司承担连带赔偿责任。

《2011年公务员考试行测考试 100 套华图真题》

第七十条依法必须披露的信息，应当在国务院证券监督管理机构指定的媒体发布，同时将其置备于公司住所、证券交易所，供社会公众查阅。

第七十一条国务院证券监督管理机构对上市公司年度报告、中期报告、临时报告以及公告的情况进行监督，对上市公司分派或者配售新股的情况进行监督，对上市公司控股股东及其他信息披露义务人的行为进行监督。证券监督管理机构、证券交易所、保荐人、承销的证券公司及有关人员，对公司依照法律、行政法规规定必须作出的公告，在公告前不得泄露其内容。

第七十二条证券交易所决定暂停或者终止证券上市交易的，应当及时公告，并报国务院证券监督管理机构备案。

第四节 禁止的交易行为

第七十三条禁止证券交易内幕信息的知情人和非法获取内幕信息的人利用内幕信息从事证券交易活动。

第七十四条证券交易内幕信息的知情人包括：

- (一) 发行人的董事、监事、高级管理人员；
- (二) 持有公司百分之五以上股份的股东及其董事、监事、高级管理人员，公司的实际控制人及其董事、监事、高级管理人员；
- (三) 发行人控股的公司及其董事、监事、高级管理人员；
- (四) 由于所任公司职务可以获取公司有关内幕信息的人员；
- (五) 证券监督管理机构工作人员以及由于法定职责对证券的发行、交易进行管理的其他人员；
- (六) 保荐人、承销的证券公司、证券交易所、证券登记结算机构、证券服务机构的有关人员；
- (七) 国务院证券监督管理机构规定的其他人员。

第七十五条证券交易活动中，涉及公司的经营、财务或者对该公司证券的市场价格有重大影响的尚未公开的信息，为内幕信息。

下列信息皆属内幕信息：

- (一) 本法第六十七条第二款所列重大事件；
- (二) 公司分配股利或者增资的计划；
- (三) 公司股权结构的重大变化；
- (四) 公司债务担保的重大变更；
- (五) 公司营业用主要资产的抵押、出售或者报废一次超过该资产的百分之三十；
- (六) 公司的董事、监事、高级管理人员的行为可能依法承担重大损害赔偿责任；
- (七) 上市公司收购的有关方案；
- (八) 国务院证券监督管理机构认定的对证券交易价格有显著影响的其他重要信息。

第七十六条证券交易内幕信息的知情人和非法获取内幕信息的人，在内幕信息公开前，不得买卖该公司的证券，或者泄露该信息，或者建议他人买卖该证券。持有或者通过协议、其他安排与他人共同持有公司百分之五以上股份的自然人、法人、其他组织收购上市公司的股份，本法另有规定的，适用其规定。内幕交易行为给投资者造成损失的，行为人应当依法承担赔偿责任。

第七十七条禁止任何人以下列手段操纵证券市场：

- (一) 单独或者通过合谋，集中资金优势、持股优势或者利用信息优势联合或

《2011年公务员考试行测考试 100 套华图真题》

者连续买卖，操纵证券交易价格或者证券交易量；

(二)与他人串通，以事先约定的时间、价格和方式相互进行证券交易，影响证券交易价格或者证券交易量；

(三)在自己实际控制的账户之间进行证券交易，影响证券交易价格或者证券交易量；

(四)以其他手段操纵证券市场。

操纵证券市场行为给投资者造成损失的，行为人应当依法承担赔偿责任。

第七十八条禁止国家工作人员、传播媒介从业人员和有关人员编造、传播虚假信息，扰乱证券市场。禁止证券交易所、证券公司、证券登记结算机构、证券服务机构及其从业人员，证券业协会、证券监督管理机构及其工作人员，在证券交易活动中作出虚假陈述或者信息误导。

各种传播媒介传播证券市场信息必须真实、客观，禁止误导。

第七十九条禁止证券公司及其从业人员从事下列损害客户利益的欺诈行为：

(一)违背客户的委托为其买卖证券；

(二)不在规定时间内向客户提供交易的书面确认文件；

(三)挪用客户所委托买卖的证券或者客户账户上的资金；

(四)未经客户的委托，擅自为客户买卖证券，或者假借客户的名义买卖证券；

(五)为牟取佣金收入，诱使客户进行不必要的证券买卖；

(六)利用传播媒介或者通过其他方式提供、传播虚假或者误导投资者的信息；

(七)其他违背客户真实意思表示，损害客户利益的行为。

欺诈客户行为给客户造成损失的，行为人应当依法承担赔偿责任。

第八十条禁止法人非法利用他人账户从事证券交易；禁止法人出借自己或者他人的证券账户。

第八十一条依法拓宽资金入市渠道，禁止资金违规流入股市。

第八十二条禁止任何人挪用公款买卖证券。

第八十三条国有企业和国有资产控股的企业买卖上市交易的股票，必须遵守国家有关规定。

第八十四条证券交易所、证券公司、证券登记结算机构、证券服务机构及其从业人员对证券交易中发现的禁止的交易行为，应当及时向证券监督管理机构报告。

第四章 上市公司的收购

第八十五条投资者可以采取要约收购、协议收购及其他合法方式收购上市公司。

第八十六条通过证券交易所的证券交易，投资者持有或者通过协议、其他安排与他人共同持有一个上市公司已发行的股份达到百分之五时，应当在该事实发生之日起三日内，向国务院证券监督管理机构、证券交易所作出书面报告，通知该上市公司，并予公告；在上述期限内，不得再行买卖该上市公司的股票。

投资者持有或者通过协议、其他安排与他人共同持有一个上市公司已发行的股份达到百分之五后，其所持该上市公司已发行的股份比例每增加或者减少百分之五，应当依照前款规定进行报告和公告。在报告期限内和作出报告、公告后二日内，不得再行买卖该上市公司的股票。

第八十七条依照前条规定所作的书面报告和公告，应当包括下列内容：

(一)持股人的名称、住所；

(二)持有的股票的名称、数额；

《2011年公务员考试行测考试 100 套华图真题》

(三)持股达到法定比例或者持股增减变化达到法定比例的日期。

第八十八条通过证券交易所的证券交易，投资者持有或者通过协议、其他安排与他人共同持有一个上市公司已发行的股份达到百分之三十时，继续进行收购的，应当依法向该上市公司所有股东发出收购上市公司全部或者部分股份的要约。

收购上市公司部分股份的收购要约应当约定，被收购公司股东承诺出售的股份数额超过预定收购的股份数额的，收购人按比例进行收购。

第八十九条依照前条规定发出收购要约，收购人必须事先向国务院证券监督管理机构报送上市公司收购报告书，并载明下列事项：

(一)收购人的名称、住所；

(二)收购人关于收购的决定；

(三)被收购的上市公司名称；

(四)收购目的；

(五)收购股份的详细名称和预定收购的股份数额；

(六)收购期限、收购价格；

(七)收购所需资金额及资金保证；

(八)报送上市公司收购报告书时持有被收购公司股份数占该公司已发行的股份总数的比例。收购人还应当将上市公司收购报告书同时提交证券交易所。

第九十条收购人在依照前条规定报送上市公司收购报告书之日起十五日后，公告其收购要约。在上述期限内，国务院证券监督管理机构发现上市公司收购报告书不符合法律、行政法规规定的，应当及时告知收购人，收购人不得公告其收购要约。

收购要约约定的收购期限不得少于三十日，并不得超过六十日。

第九十一条在收购要约确定的承诺期限内，收购人不得撤销其收购要约。收购人需要变更收购要约的，必须事先向国务院证券监督管理机构及证券交易所提出报告，经批准后，予以公告。

第九十二条收购要约提出的各项收购条件，适用于被收购公司的所有股东。

第九十三条采取要约收购方式的，收购人在收购期限内，不得卖出被收购公司的股票，也不得采取要约规定以外的形式和超出要约的条件买入被收购公司的股票。

第九十四条采取协议收购方式的，收购人可以依照法律、行政法规的规定同被收购公司的股东以协议方式进行股份转让。

以协议方式收购上市公司时，达成协议后，收购人必须在三日内将该收购协议向国务院证券监督管理机构及证券交易所作出书面报告，并予公告。

在公告前不得履行收购协议。

第九十五条采取协议收购方式的，协议双方可以临时委托证券登记结算机构保管协议转让的股票，并将资金存放于指定的银行。

第九十六条采取协议收购方式的，收购人收购或者通过协议、其他安排与他人共同收购一个上市公司已发行的股份达到百分之三十时，继续进行收购的，应当向该上市公司所有股东发出收购上市公司全部或者部分股份的要约。但是，经国务院证券监督管理机构免除发出要约的除外。

收购人依照前款规定以要约方式收购上市公司股份，应当遵守本法第八十九条至第九十三条的规定。

第九十七条收购期限届满，被收购公司股权分布不符合上市条件的，该上市公司的股票应当由证券交易所依法终止上市交易；其余仍持有被收购公司股票

《2011年公务员考试行测考试 100 套华图真题》

股东，有权向收购人以收购要约的同等条件出售其股票，收购人应当收购。

收购行为完成后，被收购公司不再具备股份有限公司条件的，应当依法变更企业形式。

第九十八条在上市公司收购中，收购人持有的被收购的上市公司的股票，在收购行为完成后的十二个月内不得转让。

第九十九条收购行为完成后，收购人与被收购公司合并，并将该公司解散的，被解散公司的原有股票由收购人依法更换。

第一百条收购行为完成后，收购人应当在十五日内将收购情况报告国务院证券监督管理机构和证券交易所，并予公告。

第一百零一条收购上市公司中由国家授权投资的机构持有的股份，应当按照国务院的规定，经有关主管部门批准。

国务院证券监督管理机构应当依照本法的原则制定上市公司收购的具体办法。

第五章 证券交易所

第一百零二条证券交易所是为证券集中交易提供场所和设施，组织和监督证券交易，实行自律管理的法人。证券交易所的设立和解散，由国务院决定。

第一百零三条设立证券交易所必须制定章程。证券交易所章程的制定和修改，必须经国务院证券监督管理机构批准。

第一百零四条证券交易所必须在其名称中标明证券交易所字样。其他任何单位或者个人不得使用证券交易所或者近似的名称。

第一百零五条证券交易所可以自行支配的各项费用收入，应当首先用于保证其证券交易场所和设施的正常运行并逐步改善。

实行会员制的证券交易所的财产积累归会员所有，其权益由会员共同享有，在其存续期间，不得将其财产积累分配给会员。

第一百零六条证券交易所设理事会。

第一百零七条证券交易所设总经理一人，由国务院证券监督管理机构任免。

第一百零八条有《中华人民共和国公司法》第一百四十七条规定的情形或者下列情形之一的，不得担任证券交易所的负责人：

(一)因违法行为或者违纪行为被解除职务的证券交易所、证券登记结算机构的负责人或者证券公司的董事、监事、高级管理人员，自被解除职务之日起未逾五年；

(二)因违法行为或者违纪行为被撤销资格的律师、注册会计师或者投资咨询机构、财务顾问机构、资信评级机构、资产评估机构、验证机构的专业人员，自被撤销资格之日起未逾五年。

第一百零九条因违法行为或者违纪行为被开除的证券交易所、证券登记结算机构、证券服务机构、证券公司的从业人员和被开除的国家机关工作人员，不得招聘为证券交易所的从业人员。

第一百一十条进入证券交易所参与集中交易的，必须是证券交易所的会员。

第一百一十一条投资者应当与证券公司签订证券交易委托协议，并在证券公司开立证券交易账户，以书面、电话以及其他方式，委托该证券公司代其买卖证券。

第一百一十二条证券公司根据投资者的委托，按照证券交易规则提出交易申报，参与证券交易所场内的集中交易，并根据成交结果承担相应的清算交收责任；证券登记结算机构根据成交结果，按照清算交收规则，与证券公司进行证券和资

《2011年公务员考试行测考试 100 套华图真题》

金的清算交收，并为证券公司客户办理证券的登记过户手续。

第一百一十三条证券交易所应当为组织公平的集中交易提供保障，公布证券交易即时行情，并按交易日制作证券市场行情表，予以公布。

未经证券交易所许可，任何单位和个人不得发布证券交易即时行情。

第一百一十四条因突发性事件而影响证券交易的正常进行时，证券交易所可以采取技术性停牌的措施；因不可抗力的突发性事件或者为维护证券交易的正常秩序，证券交易所可以决定临时停市。

证券交易所采取技术性停牌或者决定临时停市，必须及时报告国务院证券监督管理机构。

第一百一十五条证券交易所对证券交易实行实时监控，并按照国务院证券监督管理机构的要求，对异常的交易情况提出报告。

证券交易所应当对上市公司及相关信息披露义务人披露信息进行监督，督促其依法及时、准确地披露信息。证券交易所根据需要，可以对出现重大异常交易情况的证券账户限制交易，并报国务院证券监督管理机构备案。

第一百一十六条证券交易所应当从其收取的交易费用和会员费、席位费中提取一定比例的金额设立风险基金。风险基金由证券交易所理事会管理。

风险基金提取的具体比例和使用办法，由国务院证券监督管理机构会同国务院财政部门规定。

第一百一十七条证券交易所应当将收存的风险基金存入开户银行专门账户，不得擅自使用。

第一百一十八条证券交易所依照证券法律、行政法规制定上市规则、交易规则、会员管理规则和其他有关规则，并报国务院证券监督管理机构批准。

第一百一十九条证券交易所的负责人和其他从业人员在执行与证券交易有关的职务时，与其本人或者其亲属有利害关系的，应当回避。

第一百二十条按照依法制定的交易规则进行的交易，不得改变其交易结果。对交易中违规交易者应负的民事责任不得免除；在违规交易中所获利益，依照有关规定处理。

第一百二十一条在证券交易所内从事证券交易的人员，违反证券交易所有关交易规则的，由证券交易所给予纪律处分；对情节严重的，撤销其资格，禁止其入场进行证券交易。

第六章 证券公司

第一百二十二条设立证券公司，必须经国务院证券监督管理机构审查批准。未经国务院证券监督管理机构批准，任何单位和个人不得经营证券业务。

第一百二十三条本法所称证券公司是指依照《中华人民共和国公司法》和本法规定设立的经营证券业务的有限责任公司或者股份有限公司。

第一百二十四条设立证券公司，应当具备下列条件：

(一)有符合法律、行政法规规定的公司章程；

(二)主要股东具有持续盈利能力，信誉良好，最近三年无重大违法违规记录，净资产不低于人民币二亿元；

(三)有符合本法规定的注册资本；

(四)董事、监事、高级管理人员具备任职资格，从业人员具有证券从业资格；

(五)有完善的风险管理与内部控制制度；

(六)有合格的经营场所和业务设施；

(七)法律、行政法规规定的和经国务院批准的国务院证券监督管理机构规定

《2011年公务员考试行测考试 100 套华图真题》

的其他条件。

第一百二十五条经国务院证券监督管理机构批准，证券公司可以经营下列部分或者全部业务：

- (一) 证券经纪；
- (二) 证券投资咨询；
- (三) 与证券交易、证券投资活动有关的财务顾问；
- (四) 证券承销与保荐；
- (五) 证券自营；
- (六) 证券资产管理；
- (七) 其他证券业务。

第一百二十六条证券公司必须在其名称中标明证券有限责任公司或者证券股份有限公司字样。

第一百二十七条证券公司经营本法第一百二十五条第(一)项至第(三)项业务的，注册资本最低限额为人民币五千万元；经营第(四)项至第(七)项业务之一的，注册资本最低限额为人民币一亿元；经营第(四)项至第(七)项业务中两项以上的，注册资本最低限额为人民币五亿元。证券公司的注册资本应当是实缴资本。国务院证券监督管理机构根据审慎监管原则和各项业务的风险程度，可以调整注册资本最低限额，但不得少于前款规定的限额。

第一百二十八条国务院证券监督管理机构应当自受理证券公司设立申请之日起六个月内，依照法定条件和法定程序并根据审慎监管原则进行审查，作出批准或者不予批准的决定，并通知申请人；不予批准的，应当说明理由。证券公司设立申请获得批准的，申请人应当在规定的期限内向公司登记机关申请设立登记，领取营业执照。证券公司应当自领取营业执照之日起十五日内，向国务院证券监督管理机构申请经营证券业务许可证。未取得经营证券业务许可证，证券公司不得经营证券业务。

第一百二十九条证券公司设立、收购或者撤销分支机构，变更业务范围或者注册资本，变更持有百分之五以上股权的股东、实际控制人，变更公司章程中的重要条款，合并、分立、变更公司形式、停业、解散、破产，必须经国务院证券监督管理机构批准。

证券公司在境外设立、收购或者参股证券经营机构，必须经国务院证券监督管理机构批准。

第一百三十条国务院证券监督管理机构应当对证券公司的净资本，净资本与负债的比例，净资本与净资产的比例，净资本与自营、承销、资产管理等业务规模的比例，负债与净资产的比例，以及流动资产与流动负债的比例等风险控制指标作出规定。

证券公司不得为其股东或者股东的关联人提供融资或者担保。

第一百三十一条证券公司的董事、监事、高级管理人员，应当正直诚实，品行良好，熟悉证券法律、行政法规，具有履行职责所需的经营管理能力，并在任职前取得国务院证券监督管理机构核准的任职资格。有《中华人民共和国公司法》第一百四十七条规定的情形或者下列情形之一的，不得担任证券公司的董事、监事、高级管理人员：

- (一) 因违法行为或者违纪行为被解除职务的证券交易所、证券登记结算机构的负责人或者证券公司的董事、监事、高级管理人员，自被解除职务之日起未逾五年；
- (二) 因违法行为或者违纪行为被撤销资格的律师、注册会计师或者投资咨

《2011年公务员考试行测考试 100 套华图真题》

询机构、财务顾问机构、资信评级机构、资产评估机构、验证机构的专业人员，自被撤销资格之日起未逾五年。

第一百三十二条因违法行为或者违纪行为被开除的证券交易所、证券登记结算机构、证券服务机构、证券公司的从业人员和被开除的国家机关工作人员，不得招聘为证券公司的从业人员。

第一百三十三条国家机关工作人员和法律、行政法规规定的禁止在公司中兼职的其他人员，不得在证券公司中兼任职务。

第一百三十四条国家设立证券投资者保护基金。证券投资者保护基金由证券公司缴纳的资金及其他依法筹集的资金组成，其筹集、管理和使用的具体办法由国务院规定。

第一百三十五条证券公司从每年的税后利润中提取交易风险准备金，用于弥补证券交易的损失，其提取的具体比例由国务院证券监督管理机构规定。

第一百三十六条证券公司应当建立健全内部控制制度，采取有效隔离措施，防范公司与客户之间、不同客户之间的利益冲突。

证券公司必须将其证券经纪业务、证券承销业务、证券自营业务和证券资产管理业务分开办理，不得混合操作。

第一百三十七条证券公司的自营业务必须以自己的名义进行，不得假借他人名义或者以个人名义进行。证券公司的自营业务必须使用自有资金和依法筹集的资金。

证券公司不得将其自营账户借给他人使用。

第一百三十八条证券公司依法享有自主经营的权利，其合法经营不受干涉。

第一百三十九条证券公司客户的交易结算资金应当存放在商业银行，以每个客户的名义单独立户管理。具体办法和实施步骤由国务院规定。

证券公司不得将客户的交易结算资金和证券归入其自有财产。禁止任何单位或者个人以任何形式挪用客户的交易结算资金和证券。证券公司破产或者清算时，客户的交易结算资金和证券不属于其破产财产或者清算财产。非因客户本身的债务或者法律规定的其他情形，不得查封、冻结、扣划或者强制执行客户的交易结算资金和证券。

第一百四十条证券公司办理经纪业务，应当置备统一制定的证券买卖委托书，供委托人使用。采取其他委托方式的，必须作出委托记录。

客户的证券买卖委托，不论是否成交，其委托记录应当按照规定的期限，保存于证券公司。

第一百四十一条证券公司接受证券买卖的委托，应当根据委托书载明的证券名称、买卖数量、出价方式、价格幅度等，按照交易规则代理买卖证券，如实进行交易记录；买卖成交后，应当按照规定制作买卖成交报告单交付客户。

证券交易中确认交易行为及其交易结果的对账单必须真实，并由交易经办人员以外的审核人员逐笔审核，保证账面证券余额与实际持有的证券相一致。

第一百四十二条证券公司为客户买卖证券提供融资融券服务，应当按照国务院的规定并经国务院证券监督管理机构批准。

第一百四十三条证券公司办理经纪业务，不得接受客户的全权委托而决定证券买卖、选择证券种类、决定买卖数量或者买卖价格。

第一百四十四条证券公司不得以任何方式对客户证券买卖的收益或者赔偿证券买卖的损失作出承诺。

第一百四十五条证券公司及其从业人员不得未经过其依法设立的营业场所私

《2011年公务员考试行测考试 100 套华图真题》

下接受客户委托买卖证券。

第一百四十六条证券公司的从业人员在证券交易活动中，执行所属的证券公司的指令或者利用职务违反交易规则的，由所属的证券公司承担全部责任。

第一百四十七条证券公司应当妥善保存客户开户资料、委托记录、交易记录和与内部管理、业务经营有关的各项资料，任何人不得隐匿、伪造、篡改或者毁损。上述资料的保存期限不得少于二十年。

第一百四十八条证券公司应当按照规定向国务院证券监督管理机构报送业务、财务等经营管理信息和资料。国务院证券监督管理机构有权要求证券公司及其股东、实际控制人在指定的期限内提供有关信息、资料。证券公司及其股东、实际控制人向国务院证券监督管理机构报送或者提供的信息、资料，必须真实、准确、完整。

第一百四十九条国务院证券监督管理机构认为有必要时，可以委托会计师事务所、资产评估机构对证券公司的财务状况、内部控制状况、资产价值进行审计或者评估。具体办法由国务院证券监督管理机构会同有关主管部门制定。

第一百五十条证券公司的净资本或者其他风险控制指标不符合规定的，国务院证券监督管理机构应当责令其限期改正；逾期未改正，或者其行为严重危及该证券公司的稳健运行、损害客户合法权益的，国务院证券监督管理机构可以区别情形，对其采取下列措施：

- (一) 限制业务活动，责令暂停部分业务，停止批准新业务；
- (二) 停止批准增设、收购营业性分支机构；
- (三) 限制分配红利，限制向董事、监事、高级管理人员支付报酬、提供福利；
- (四) 限制转让财产或者在财产上设定其他权利；
- (五) 责令更换董事、监事、高级管理人员或者限制其权利；
- (六) 责令控股股东转让股权或者限制有关股东行使股东权利；
- (七) 撤销有关业务许可。

证券公司整改后，应当向国务院证券监督管理机构提交报告。国务院证券监督管理机构经验收，符合有关风险控制指标的，应当自验收完毕之日起三日内解除对其采取的前款规定的有关措施。

第一百五十一条证券公司的股东有虚假出资、抽逃出资行为的，国务院证券监督管理机构应当责令其限期改正，并可责令其转让所持证券公司的股权。在前款规定的股东按照要求改正违法行为、转让所持证券公司的股权前，国务院证券监督管理机构可以限制其股东权利。

第一百五十二条证券公司的董事、监事、高级管理人员未能勤勉尽责，致使证券公司存在重大违法违规行为或者重大风险的，国务院证券监督管理机构可以撤销其任职资格，并责令公司予以更换。

第一百五十三条证券公司违法经营或者出现重大风险，严重危害证券市场秩序、损害投资者利益的，国务院证券监督管理机构可以对该证券公司采取责令停业整顿、指定其他机构托管、接管或者撤销等监管措施。

第一百五十四条在证券公司被责令停业整顿、被依法指定托管、接管或者清算期间，或者出现重大风险时，经国务院证券监督管理机构批准，可以对该证券公司直接负责的董事、监事、高级管理人员和其他直接责任人员采取以下措施：

- (一) 通知出境管理机关依法阻止其出境；
- (二) 申请司法机关禁止其转移、转让或者以其他方式处分财产，或者在财产上设定其他权利。

《2011年公务员考试行测考试 100 套华图真题》

第七章 证券登记结算机构

第一百五十五条证券登记结算机构是为证券交易提供集中登记、存管与结算服务，不以营利为目的的法人。设立证券登记结算机构必须经国务院证券监督管理机构批准。

第一百五十六条设立证券登记结算机构，应当具备下列条件：

- (一) 自有资金不少于人民币二亿元；
- (二) 具有证券登记、存管和结算服务所必须的场所和设施；
- (三) 主要管理人员和从业人员必须具有证券从业资格；
- (四) 国务院证券监督管理机构规定的其他条件。证券登记结算机构的名称中应当标明证券登记结算字样。

第一百五十七条证券登记结算机构履行下列职能：

- (一) 证券账户、结算账户的设立；
- (二) 证券的存管和过户；
- (三) 证券持有人名册登记；
- (四) 证券交易所上市证券交易的清算和交收；
- (五) 受发行人的委托派发证券权益；
- (六) 办理与上述业务有关的查询；
- (七) 国务院证券监督管理机构批准的其他业务。

第一百五十八条证券登记结算采取全国集中统一的运营方式。

证券登记结算机构章程、业务规则应当依法制定，并须经国务院证券监督管理机构批准。

第一百五十九条证券持有人持有的证券，在上市交易时，应当全部存管在证券登记结算机构。证券登记结算机构不得挪用客户的证券。

第一百六十条证券登记结算机构应当向证券发行人提供证券持有人名册及其有关资料。

证券登记结算机构应当根据证券登记结算的结果，确认证券持有人持有证券的事实，提供证券持有人登记资料。证券登记结算机构应当保证证券持有人名册和登记过户记录真实、准确、完整，不得隐匿、伪造、篡改或者毁损。

第一百六十一条证券登记结算机构应当采取下列措施保证业务的正常进行：

- (一) 具有必备的服务设备和完善的数据安全保护措施；
- (二) 建立完善的业务、财务和安全防范等管理制度；
- (三) 建立完善的风险管理系统。

第一百六十二条证券登记结算机构应当妥善保存登记、存管和结算的原始凭证及有关文件和资料。其保存期限不得少于二十年。

第一百六十三条证券登记结算机构应当设立结算风险基金，用于垫付或者弥补因违约交收、技术故障、操作失误、不可抗力造成的证券登记结算机构的损失。证券结算风险基金从证券登记结算机构的业务收入和收益中提取，并可以由结算参与人按照证券交易业务量的一定比例缴纳。

证券结算风险基金的筹集、管理办法，由国务院证券监督管理机构会同国务院财政部门规定。

第一百六十四条证券结算风险基金应当存入指定银行的专门账户，实行专项管理。

证券登记结算机构以风险基金赔偿后，应当向有关责任人追偿。

第一百六十五条证券登记结算机构申请解散，应当经国务院证券监督管理机

《2011年公务员考试行测考试100套华图真题》

构批准。

第一百六十六条投资者委托证券公司进行证券交易,应当申请开立证券账户。证券登记结算机构应当按照规定以投资者本人的名义为投资者开立证券账户。投资者申请开立账户,必须持有证明中国公民身份或者中国法人资格的合法证件。国家另有规定的除外。

第一百六十七条证券登记结算机构为证券交易提供净额结算服务时,应当要求结算参与人按照货银对付的原则,足额交付证券和资金,并提供交收担保。在交收完成之前,任何人不得动用用于交收的证券、资金和担保物。

结算参与人未按时履行交收义务的,证券登记结算机构有权按照业务规则处理前款所述财产。

第一百六十八条证券登记结算机构按照业务规则收取的各类结算资金和证券,必须存放于专门的清算交收账户,只能按业务规则用于已成交的证券交易的清算交收,不得被强制执行。

第八章 证券服务机构

第一百六十九条投资咨询机构、财务顾问机构、资信评级机构、资产评估机构、会计师事务所从事证券服务业务,必须经国务院证券监督管理机构和有关主管部门批准。

投资咨询机构、财务顾问机构、资信评级机构、资产评估机构、会计师事务所从事证券服务业务的审批管理办法,由国务院证券监督管理机构和有关主管部门制定。

第一百七十条投资咨询机构、财务顾问机构、资信评级机构从事证券服务业务的人员,必须具备证券专业知识和从事证券业务或者证券服务业务二年以上经验。认定其证券从业资格的标准和管理办法,由国务院证券监督管理机构制定。

第一百七十一条投资咨询机构及其从业人员从事证券服务业务不得有下列行为:

- (一)代理委托人从事证券投资;
- (二)与委托人约定分享证券投资收益或者分担证券投资损失;
- (三)买卖本咨询机构提供服务的上市公司股票;
- (四)利用传播媒介或者通过其他方式提供、传播虚假或者误导投资者的信息;
- (五)法律、行政法规禁止的其他行为。有前款所列行为之一,给投资者造成损失的,依法承担赔偿责任。

第一百七十二条从事证券服务业务的投资咨询机构和资信评级机构,应当按照国务院有关主管部门规定的标准或者收费办法收取服务费用。

第一百七十三条证券服务机构为证券的发行、上市、交易等证券业务活动制作、出具审计报告、资产评估报告、财务顾问报告、资信评级报告或者法律意见书等文件,应当勤勉尽责,对所制作、出具的文件内容的真实性、准确性、完整性进行核查和验证。其制作、出具的文件有虚假记载、误导性陈述或者重大遗漏,给他人造成损失的,应当与发行人、上市公司承担连带赔偿责任,但是能够证明自己没有过错的除外。

第九章 证券业协会

第一百七十四条证券业协会是证券业的自律性组织,是社会团体法人。

证券公司应当加入证券业协会。

证券业协会的权力机构为全体会员组成的会员大会。

第一百七十五条证券业协会章程由会员大会制定,并报国务院证券监督管理

《2011年公务员考试行测考试 100 套华图真题》

机构备案。

第一百七十六条证券业协会履行下列职责：

- (一) 教育和组织会员遵守证券法律、行政法规；
- (二) 依法维护会员的合法权益，向证券监督管理机构反映会员的建议和要求；
- (三) 收集整理证券信息，为会员提供服务；
- (四) 制定会员应遵守的规则，组织会员单位的从业人员的业务培训，开展会员间的业务交流；
- (五) 对会员之间、会员与客户之间发生的证券业务纠纷进行调解；
- (六) 组织会员就证券业的发展、运作及有关内容进行研究；
- (七) 监督、检查会员行为，对违反法律、行政法规或者协会章程的，按照规定给予纪律处分；
- (八) 证券业协会章程规定的其他职责。

第一百七十七条证券业协会设理事会。理事会成员依章程的规定由选举产生。

第十章 证券监督管理机构

第一百七十八条国务院证券监督管理机构依法对证券市场实行监督管理，维护证券市场秩序，保障其合法运行。

第一百七十九条国务院证券监督管理机构在对证券市场实施监督管理中履行下列职责：

- (一) 依法制定有关证券市场监督管理的规章、规则，并依法行使审批或者核准权；
- (二) 依法对证券的发行、上市、交易、登记、存管、结算，进行监督管理；
- (三) 依法对证券发行人、上市公司、证券交易所、证券公司、证券登记结算机构、证券投资基金管理公司、证券服务机构的证券业务活动，进行监督管理；
- (四) 依法制定从事证券业务人员的资格标准和行为准则，并监督实施；
- (五) 依法监督检查证券发行、上市和交易的信息公开情况；
- (六) 依法对证券业协会的活动进行指导和监督；
- (七) 依法对违反证券市场监督管理法律、行政法规的行为进行查处；
- (八) 法律、行政法规规定的其他职责。国务院证券监督管理机构可以和其他国家或者地区的证券监督管理机构建立监督管理合作机制，实施跨境监督管理。

第一百八十条国务院证券监督管理机构依法履行职责，有权采取下列措施：

- (一) 对证券发行人、上市公司、证券公司、证券投资基金管理公司、证券服务机构、证券交易所、证券登记结算机构进行现场检查；
- (二) 进入涉嫌违法行为发生场所调查取证；
- (三) 询问当事人和与被调查事件有关的单位和个人，要求其对与被调查事件有关的事项作出说明；
- (四) 查阅、复制与被调查事件有关的财产权登记、通讯记录等资料；
- (五) 查阅、复制当事人和与被调查事件有关的单位和个人的证券交易记录、登记过户记录、财务会计资料及其他相关文件和资料；对可能被转移、隐匿或者毁损的文件和资料，可以予以封存；
- (六) 查询当事人和与被调查事件有关的单位和个人的资金账户、证券账户和银行账户；对有证据证明已经或者可能转移或者隐匿违法资金、证券等涉案财产或者隐匿、伪造、毁损重要证据的，经国务院证券监督管理机构主要负责人批准，可以冻结或者查封；
- (七) 在调查操纵证券市场、内幕交易等重大证券违法行为时，经国务院证券

《2011年公务员考试行测考试 100 套华图真题》

监督管理机构主要负责人批准，可以限制被调查事件当事人的证券买卖，但限制的期限不得超过十五个交易日；案情复杂的，可以延长十五个交易日。

第一百八十一条国务院证券监督管理机构依法履行职责，进行监督检查或者调查，其监督检查、调查的人员不得少于二人，并应当出示合法证件和监督检查、调查通知书。监督检查、调查的人员少于二人或者未出示合法证件和监督检查、调查通知书的，被检查、调查的单位有权拒绝。

第一百八十二条国务院证券监督管理机构工作人员必须忠于职守，依法办事，公正廉洁，不得利用职务便利牟取不正当利益，不得泄露所知悉的有关单位和个人的商业秘密。

第一百八十三条国务院证券监督管理机构依法履行职责，被检查、调查的单位和个人应当配合，如实提供有关文件和资料，不得拒绝、阻碍和隐瞒。

第一百八十四条国务院证券监督管理机构依法制定的规章、规则和监督管理工作制度应当公开。国务院证券监督管理机构依据调查结果，对证券违法行为作出的处罚决定，应当公开。

第一百八十五条国务院证券监督管理机构应当与国务院其他金融监督管理机构建立监督管理信息共享机制。国务院证券监督管理机构依法履行职责，进行监督检查或者调查时，有关部门应当予以配合。

第一百八十六条国务院证券监督管理机构依法履行职责，发现证券违法行为涉嫌犯罪的，应当将案件移送司法机关处理。

第一百八十七条国务院证券监督管理机构的人员不得在被监管的机构中任职。

第十一章 法律责任

第一百八十八条未经法定机关核准，擅自公开或者变相公开发行证券的，责令停止发行，退还所募资金并加算银行同期存款利息，处以非法所募资金金额百分之以上百分之五以下的罚款；对擅自公开或者变相公开发行证券设立的公司，由依法履行监督管理职责的机构或者部门会同县级以上地方人民政府予以取缔。对直接负责的主管人员和其他直接责任人员给予警告，并处以三万元以上三十万元以下的罚款。

第一百八十九条发行人不符合发行条件，以欺骗手段骗取发行核准，尚未发行证券的，处以三十万元以上六十万元以下的罚款；已经发行证券的，处以非法所募资金金额百分之以上百分之五以下的罚款。对直接负责的主管人员和其他直接责任人员处以三万元以上三十万元以下的罚款。

发行人的控股股东、实际控制人指使从事前款违法行为的，依照前款的规定处罚。

第一百九十条证券公司承销或者代理买卖未经核准擅自公开发行的证券的，责令停止承销或者代理买卖，没收违法所得，并处以违法所得一倍以上五倍以下的罚款；没有违法所得或者违法所得不足三十万元的，处以三十万元以上六十万元以下的罚款。给投资者造成损失的，应当与发行人承担连带赔偿责任。对直接负责的主管人员和其他直接责任人员给予警告，撤销任职资格或者证券从业资格，并处以三万元以上三十万元以下的罚款。

第一百九十一条证券公司承销证券，有下列行为之一的，责令改正，给予警告，没收违法所得，可以并处三十万元以上六十万元以下的罚款；情节严重的，暂停或者撤销相关业务许可。给其他证券承销机构或者投资者造成损失的，依法承担赔偿责任。对直接负责的主管人员和其他直接责任人员给予警告，可以并处

《2011年公务员考试行测考试 100 套华图真题》

三万元以上三十万元以下的罚款；情节严重的，撤销任职资格或者证券从业资格：

(一) 进行虚假的或者误导投资者的广告或者其他宣传推介活动；

(二) 以不正当竞争手段招揽承销业务；

(三) 其他违反证券承销业务规定的行为。

第一百九十二条保荐人出具有虚假记载、误导性陈述或者重大遗漏的保荐书，或者不履行其他法定职责的，责令改正，给予警告，没收业务收入，并处以业务收入一倍以上五倍以下的罚款；情节严重的，暂停或者撤销相关业务许可。对直接负责的主管人员和其他直接责任人员给予警告，并处以三万元以上三十万元以下的罚款；情节严重的，撤销任职资格或者证券从业资格。

第一百九十三条发行人、上市公司或者其他信息披露义务人未按照规定披露信息，或者所披露的信息有虚假记载、误导性陈述或者重大遗漏的，由证券监督管理机构责令改正，给予警告，处以三十万元以上六十万元以下的罚款。对直接负责的主管人员和其他直接责任人员给予警告，并处以三万元以上三十万元以下的罚款。发行人、上市公司或者其他信息披露义务人未按照规定报送有关报告，或者报送的报告有虚假记载、误导性陈述或者重大遗漏的，由证券监督管理机构责令改正，处以三十万元以上六十万元以下的罚款。对直接负责的主管人员和其他直接责任人员给予警告，并处以三万元以上三十万元以下的罚款。

发行人、上市公司或者其他信息披露义务人的控股股东、实际控制人指使从事前两款违法行为的，依照前两款的规定处罚。

第一百九十四条发行人、上市公司擅自改变公开发行证券所募集资金的用途的，责令改正，对直接负责的主管人员和其他直接责任人员给予警告，并处以三万元以上三十万元以下的罚款。

发行人、上市公司的控股股东、实际控制人指使从事前款违法行为的，给予警告，并处以三十万元以上六十万元以下的罚款。对直接负责的主管人员和其他直接责任人员依照前款的规定处罚。

第一百九十五条上市公司的董事、监事、高级管理人员、持有上市公司股份百分之五以上的股东，违反本法第四十七条的规定买卖本公司股票的，给予警告，可以并处三万元以上十万元以下的罚款。

第一百九十六条非法开设证券交易场所的，由县级以上人民政府予以取缔，没收违法所得，并处以违法所得一倍以上五倍以下的罚款；没有违法所得或者违法所得不足十万元的，处以十万元以上五十万元以下的罚款。对直接负责的主管人员和其他直接责任人员给予警告，并处以三万元以上三十万元以下的罚款。

第一百九十七条未经批准，擅自设立证券公司或者非法经营证券业务的，由证券监督管理机构予以取缔，没收违法所得，并处以违法所得一倍以上五倍以下的罚款；没有违法所得或者违法所得不足三十万元的，处以三十万元以上六十万元以下的罚款。对直接负责的主管人员和其他直接责任人员给予警告，并处以三万元以上三十万元以下的罚款。

第一百九十八条违反本法规定，聘任不具有任职资格、证券从业资格的人员的，由证券监督管理机构责令改正，给予警告，可以并处十万元以上三十万元以下的罚款；对直接负责的主管人员给予警告，可以并处三万元以上十万元以下的罚款。

第一百九十九条法律、行政法规规定禁止参与股票交易的人员，直接或者以化名、借他人名义持有、买卖股票的，责令依法处理非法持有的股票，没收违法所得，并处以买卖股票等值以下的罚款；属于国家工作人员的，还应当依法给予

《2011年公务员考试行测考试 100 套华图真题》

行政处分。

第二百条证券交易所、证券公司、证券登记结算机构、证券服务机构的从业人员或者证券业协会的工作人员，故意提供虚假资料，隐匿、伪造、篡改或者毁损交易记录，诱骗投资者买卖证券的，撤销证券从业资格，并处以三万元以上十万元以下的罚款；属于国家工作人员的，还应当依法给予行政处分。

第二百零一条为股票的发行、上市、交易出具审计报告、资产评估报告或者法律意见书等文件的证券服务机构和人员，违反本法第四十五条的规定买卖股票的，责令依法处理非法持有的股票，没收违法所得，并处以买卖股票等值以下的罚款。

第二百零二条证券交易内幕信息的知情人或者非法获取内幕信息的人，在涉及证券的发行、交易或者其他对证券的价格有重大影响的信息公开前，买卖该证券，或者泄露该信息，或者建议他人买卖该证券的，责令依法处理非法持有的证券，没收违法所得，并处以违法所得一倍以上五倍以下的罚款；没有违法所得或者违法所得不足三万元的，处以三万元以上六十万元以下的罚款。单位从事内幕交易的，还应当对直接负责的主管人员和其他直接责任人员给予警告，并处以三万元以上三十万元以下的罚款。证券监督管理机构工作人员进行内幕交易的，从重处罚。

第二百零三条违反本法规定，操纵证券市场的，责令依法处理其非法持有的证券，没收违法所得，并处以违法所得一倍以上五倍以下的罚款；没有违法所得或者违法所得不足三十万元的，处以三十万元以上三百万元以下的罚款。单位操纵证券市场的，还应当对直接负责的主管人员和其他直接责任人员给予警告，并处以十万元以上六十万元以下的罚款。

第二百零四条违反法律规定，在限制转让期限内买卖证券的，责令改正，给予警告，并处以违法买卖证券等值以下的罚款。对直接负责的主管人员和其他直接责任人员给予警告，并处以三万元以上三十万元以下的罚款。

第二百零五条证券公司违反本法规定，为客户买卖证券提供融资融券的，没收违法所得，暂停或者撤销相关业务许可，并处以非法融资融券等值以下的罚款。对直接负责的主管人员和其他直接责任人员给予警告，撤销任职资格或者证券从业资格，并处以三万元以上三十万元以下的罚款。

第二百零六条违反本法第七十八条第一款、第三款的规定，扰乱证券市场的，由证券监督管理机构责令改正，没收违法所得，并处以违法所得一倍以上五倍以下的罚款；没有违法所得或者违法所得不足三万元的，处以三万元以上二十万元以下的罚款。

第二百零七条违反本法第七十八条第二款的规定，在证券交易活动中作出虚假陈述或者信息误导的，责令改正，处以三万元以上二十万元以下的罚款；属于国家工作人员的，还应当依法给予行政处分。

第二百零八条违反本法规定，法人以他人名义设立账户或者利用他人账户买卖证券的，责令改正，没收违法所得，并处以违法所得一倍以上五倍以下的罚款；没有违法所得或者违法所得不足三万元的，处以三万元以上三十万元以下的罚款。对直接负责的主管人员和其他直接责任人员给予警告，并处以三万元以上十万元以下的罚款。证券公司为前款规定的违法行为提供自己或者他人的证券交易账户的，除依照前款的规定处罚外，还应当撤销直接负责的主管人员和其他直接责任人员的任职资格或者证券从业资格。

第二百零九条证券公司违反本法规定，假借他人名义或者以个人名义从事证

《2011年公务员考试行测考试 100 套华图真题》

券自营业务的，责令改正，没收违法所得，并处以违法所得一倍以上五倍以下的罚款；没有违法所得或者违法所得不足三十万元的，处以三十万元以上六十万元以下的罚款；情节严重的，暂停或者撤销证券自营业务许可。对直接负责的主管人员和其他直接责任人员给予警告，撤销任职资格或者证券从业资格，并处以三万元以上十万元以下的罚款。

第二百一十条证券公司违背客户的委托买卖证券、办理交易事项，或者违背客户真实意思表示，办理交易以外的其他事项的，责令改正，处以一万元以上十万元以下的罚款。给客户造成损失的，依法承担赔偿责任。

第二百一十一条证券公司、证券登记结算机构挪用客户的资金或者证券，或者未经客户的委托，擅自为客户买卖证券的，责令改正，没收违法所得，并处以违法所得一倍以上五倍以下的罚款；没有违法所得或者违法所得不足十万元的，处以十万元以上六十万元以下的罚款；情节严重的，责令关闭或者撤销相关业务许可。对直接负责的主管人员和其他直接责任人员给予警告，撤销任职资格或者证券从业资格，并处以三万元以上三十万元以下的罚款。

第二百一十二条证券公司办理经纪业务，接受客户的全权委托买卖证券的，或者证券公司对客户买卖证券的收益或者赔偿证券买卖的损失作出承诺的，责令改正，没收违法所得，并处以五万元以上二十万元以下的罚款，可以暂停或者撤销相关业务许可。对直接负责的主管人员和其他直接责任人员给予警告，并处以三万元以上十万元以下的罚款，可以撤销任职资格或者证券从业资格。

第二百一十三条收购人未按照本法规定履行上市公司收购的公告、发出收购要约、报送上市公司收购报告书等义务或者擅自变更收购要约的，责令改正，给予警告，并处以十万元以上三十万元以下的罚款；在改正前，其持有或者通过协议、其他安排与他人共同持有被收购公司股份超过百分之三十的部分不得行使表决权。对直接负责的主管人员和其他直接责任人员给予警告，并处以三万元以上三十万元以下的罚款。

第二百一十四条收购人或者收购人的控股股东利用上市公司收购损害被收购公司及其股东的合法权益的，责令改正，给予警告；情节严重的，并处以十万元以上六十万元以下的罚款。给被收购公司及其股东造成损失的，依法承担赔偿责任。对直接负责的主管人员和其他直接责任人员给予警告，并处以三万元以上三十万元以下的罚款。

第二百一十五条证券公司及其从业人员违反本法规定，私下接受客户委托买卖证券的，责令改正，给予警告，没收违法所得，并处以违法所得一倍以上五倍以下的罚款；没有违法所得或者违法所得不足十万元的，处以十万元以上三十万元以下的罚款。

第二百一十六条证券公司违反规定，未经批准经营非上市证券的交易，责令改正，没收违法所得，并处以违法所得一倍以上五倍以下的罚款。

第二百一十七条证券公司成立后，无正当理由超过三个月未开始营业的，或者开业后自行停业连续三个月以上的，由公司登记机关吊销其公司营业执照。

第二百一十八条证券公司违反本法第一百二十九条的规定，擅自设立、收购、撤销分支机构，或者合并、分立、停业、解散、破产，或者在境外设立、收购、参股证券经营机构的，责令改正，没收违法所得，并处以违法所得一倍以上五倍以下的罚款；没有违法所得或者违法所得不足十万元的，处以十万元以上六十万元以下的罚款。对直接负责的主管人员给予警告，并处以三万元以上十万元以下的罚款。

《2011年公务员考试行测考试 100 套华图真题》

证券公司违反本法第一百二十九条的规定，擅自变更有关事项的，责令改正，并处以十万元以上三十万元以下的罚款。对直接负责的主管人员给予警告，并处以五万元以下的罚款。

第二百一十九条证券公司违反本法规定，超出业务许可范围经营证券业务的，责令改正，没收违法所得，并处以违法所得一倍以上五倍以下的罚款；没有违法所得或者违法所得不足三十万元的，处以三十万元以上六十万元以下罚款；情节严重的，责令关闭。对直接负责的主管人员和其他直接责任人员给予警告，撤销任职资格或者证券从业资格，并处以三万元以上十万元以下的罚款。

第二百二十条证券公司对其证券经纪业务、证券承销业务、证券自营业务、证券资产管理业务，不依法分开办理，混合操作的，责令改正，没收违法所得，并处以三十万元以上六十万元以下的罚款；情节严重的，撤销相关业务许可。对直接负责的主管人员和其他直接责任人员给予警告，并处以三万元以上十万元以下的罚款；情节严重的，撤销任职资格或者证券从业资格。

第二百二十一条提交虚假证明文件或者采取其他欺诈手段隐瞒重要事实骗取证券业务许可的，或者证券公司在证券交易中有严重违法行为，不再具备经营资格的，由证券监督管理机构撤销证券业务许可。

第二百二十二条证券公司或者其股东、实际控制人违反规定，拒不向证券监督管理机构报送或者提供经营管理信息和资料，或者报送、提供的经营管理信息和资料有虚假记载、误导性陈述或者重大遗漏的，责令改正，给予警告，并处以三万元以上三十万元以下的罚款，可以暂停或者撤销证券公司相关业务许可。对直接负责的主管人员和其他直接责任人员，给予警告，并处以三万元以下的罚款，可以撤销任职资格或者证券从业资格。证券公司为其股东或者股东的关联人提供融资或者担保的，责令改正，给予警告，并处以十万元以上三十万元以下的罚款。对直接负责的主管人员和其他直接责任人员，处以三万元以上十万元以下的罚款。股东有过错的，在按照要求改正前，国务院证券监督管理机构可以限制其股东权利；拒不改正的，可以责令其转让所持证券公司股权。

第二百二十三条证券服务机构未勤勉尽责，所制作、出具的文件有虚假记载、误导性陈述或者重大遗漏的，责令改正，没收业务收入，暂停或者撤销证券服务业务许可，并处以业务收入一倍以上五倍以下的罚款。对直接负责的主管人员和其他直接责任人员给予警告，撤销证券从业资格，并处以三万元以上十万元以下的罚款。

第二百二十四条违反本法规定，发行、承销公司债券的，由国务院授权的部门依照本法有关规定予以处罚。

第二百二十五条上市公司、证券公司、证券交易所、证券登记结算机构、证券服务机构，未按照有关规定保存有关文件和资料的，责令改正，给予警告，并处以三万元以上三十万元以下的罚款；隐匿、伪造、篡改或者毁损有关文件和资料的，给予警告，并处以三十万元以上六十万元以下的罚款。

第二百二十六条未经国务院证券监督管理机构批准，擅自设立证券登记结算机构的，由证券监督管理机构予以取缔，没收违法所得，并处以违法所得一倍以上五倍以下的罚款。

投资咨询机构、财务顾问机构、资信评级机构、资产评估机构、会计师事务所未经批准，擅自从事证券服务业务的，责令改正，没收违法所得，并处以违法所得一倍以上五倍以下的罚款。

证券登记结算机构、证券服务机构违反本法规定或者依法制定的业务规则的，

《2011 年公务员考试行测考试 100 套华图真题》

由证券监督管理机构责令改正，没收违法所得，并处以违法所得一倍以上五倍以下的罚款；没有违法所得或者违法所得不足十万元的，处以十万元以上三十万元以下的罚款；情节严?/

行政法律理论辅导讲座：国际经济法（一）

窗

体时间：2006 年 11 月 02 日
顶15:17
部



我来说两句

Sogou 搜狗

搜索

窗体底部

精彩世界杯 精彩进球视频

【作者：李祖华】

【来源：北京金路公务员考试研究中心】

第一章 绪论

第一节 国际经济法的产生和发展

国际经济法，是泛指国际经济关系的各种法律规范。换句话说，它是调整国际经济关系的各种法律规范的总称。

国际经济交往中所发生的国际经济关系，在每一特定历史阶段，往往形成某种相对稳定的格局、结构或模式，通常称之为国际经济秩序。国际经

济秩序的建立和变迁，取决于国际社会种类成员间的经济、政治和军事实力对比。国际经济秩序与国际经济法之间，有着极其密切的关系。

国际经济法，就其广义的内涵而言，是各国统治阶级在国际经济交往方面协调意志或个别意志的表现。

国际经济法是巩固现存经济秩序的重要工具，也是促进变革旧国际经济秩序、建立新国际经济秩序的重要手段。

一、萌芽阶段的国际经济法

（一）罗得法

某些商事法规或商事习惯法，实质上就是国际经济法的最初萌芽。

长年实践积累形成的商务习惯常为当地的商务法庭断案时所援引适用，并且逐渐被汇辑为法典，这就是传说中的“罗得法”。

（三）中世纪的国际性商事法典

这些特设的商务法庭依据求同存异的商业习惯或共同的行为规范所作出的判决，往往被编纂为各种商事习惯法法典，成为日后处理同类案件的依据。其中影响最大、颇负盛名的是大约编纂于 13 世纪的《康索拉多海商法典》。

《2011年公务员考试行测考试100套华图真题》

该法典与其他海事商法法典其共同特点则在于它们都不单一国家的国内立法，而都是用来调整国际商务关系的国际习惯法，在不同程序上得到了国际社会的承认。

二、发展阶段的国际经济法

从17世纪到20世纪40年代以前，数百年间，用以调整国际经济关系的国际条约、国际习惯和国内立法，大量出现，日益完备。

（一）双边国际商务条约

在各国之间大量的双边商务条约相继出现以后，由于其中许多主要条款基本相同或相似，这些条款及其所体现的国际经济贸易惯例，就逐渐形成用以调整国际经济关系的国际法的一般规则或具有普遍约束力的国际行为准则。

（三）多边国际商务专题公约

其中影响较大的，如1883年签订的《关于保护工业产权的巴黎公约》。

第二节 国际经济法涵义

一、狭义说：国际经济法是国际公法的新分支

持此类观点的主要代表人物，有英国的施瓦曾伯格、日本的金泽良雄以及法国的卡罗等人。

二、广义说：国际经济法是调整国际（跨国）经济关系的国际法、国内法的边缘性综合体

它所调整的对象，不仅仅限于国家政府相互之间、国际组织相互之间以及国家政府与国际组织之间的经济关系，而且包括大量的分属于不同国家的个人之间、法人之间、个人与法人之间以及他们与异国政府或国际组织之间的各种经济关系。

在国际经济法发挥调整作用的过程中，在国际经济关系领域里享受法定权利和承担法定义务的主体，即国际经济法的主体，不但包括从事跨越国境的经济交往的国家政府和国际组织，而且包括从事此种经济交往的一切自然人和法人。

因此，国际经济法的内容并不仅仅局限于调整国际（跨国）经济关系的国际公约、条约、协定以及属于公法性质的各种国际惯例，它还理应包括用以调整一切跨越国境的经济关系的国际私法、国际商法和国际商务惯例，以及各国民商法和经济法的涉外部分。

持此类观点的主要代表人物，有美国的杰塞普、斯泰纳、杰克逊、洛文费尔德以及日本的樱井雅夫等人。

第三节 国际经济法的范围及其与相邻法律部门的交错

一、国际经济法与国际公法的联系与区别

大体说来，用以调整国际经济关系的国际公法规范，属于国际经济法范畴；用以调整国际政治关系以及其他非经济关系的国际公法规范，不属于国际经济法范畴。

二、国际经济法与国际私法的联系与区别

国际私法中涉及经济方面的冲突规范是国际经济法的渊源，国际私法中与经济无关的冲突规范并非国际经济法的渊源。

只有在特殊的情况下，如果国家以及各国政府间组织不以主权实体的身份，而以非主权实体的身份，即一般私法法人的身份，从事超越一国国界的经济交往或经贸活动，它们才可能成为国际私法关系上的主体。

如果单从调整的对象方面看，国际经济法所调整的对象范围，远比国际私法狭窄；从总体上看，国际经济法所调整的对象的范围，又远比国际私法广泛得多。

四、国际经济法与国际商务惯例的联系和区别

《2011 年公务员考试行测考试 100 套华图真题》

国际商务惯例当然也是国际经济法这一边缘性综合体的有机组成部分。换句话说，它既不属于国际公法范畴，也不属于国际私法（冲突法）或各国经济法的范畴，却自成一类。其独特之处在于：

第一，它的确立，并非基于国家的立法或国家间的缔约。

第二，它对于特定当事人具有的法律上的约束力，并非来源于国家主权或其他强制力，而是来源于当事人各方的共同协议和自愿选择，如果没有当事人的合意采用，它就毫无约束力可言。

第三，当事人在订立合同时，对于某一项现在的国际商务惯例，只要各方合意认定，就既可以全盘采用，也可以有所增删，悉听自便。

第四，国际商务惯例对于特定当事人的约束力，虽然并非来源于国家主权或其他强制权力，但是，这种约束力的实施或兑现，却往往必须借助于国家的主权或其他强制权。

第二章 国际经济法的基本原则

国际经济法的基本原则，指的是贯串于调整国际经济关系的各类法律规范之中的主要精神和指导思想，是这些法律规范的基础和核心。

二、经济主权原则的基本内容及其形成过程

经济主权原则是国际经济法中的首要基本规范。

1974 年 12 月 12 日，联合国大会第 29 届会议通过了《各国经济权利和义务宪章》。

经济主权原则的主要内容体现在《宪章》第 2 条：“每个国家对本国的财富、自然资源以及全部经济活动，都享有并且可以自由行使完整的、永久的主权，其中包括占有、使用和处置的权利。”

国家经济主权原则的具体内容大体上可分为以下三个方面：

- （一）各国对境内的一切自然资源享有永久主权
- （二）各国对境内的外国投资以及跨国公司的活动享有管理监督权
- （三）各国对境内的外国资产有权收归国有或征用

第三节 公平互利原则

二、公平互利原则的初步实践一例：非互惠的普遍优惠待遇

为了加速发展中国家的经济增长，消除发达国家与发展中国家之间的经济鸿沟，发达国家应当尽可能在国际经济合作的领域内给予发展中国家普遍优惠的、不要求互惠的和不予以歧视的待遇。

发达国家对发展中国家实行“非互惠的普惠待遇”，是公平互利原则的一种具体运用和初步体现。

第四节 全球合作原则

全球合作的基本目标：实行世界经济结构改革，建立公平合理的国际经济关系和国际经济新秩序，使全球所有国家都实现更普遍的繁荣，所有民族都达到更高的生活水平。

全球合作的基本范围：合作是多领域、多层次和全方位的。

全球合作的首要途径：所有国家在法律上一律平等，并且作为国际社会的平等成员，有权充分地 and 切实有效地参加解决世界性经济、财政、货币问题的国际决策，从而公平地分享由此而来的各种利益。

全球合作的中心环节：在于开展南北合作。

一、全球合作原则的中心环节：南北合作

当代国际社会各类成员之间，存在着许多对矛盾与合作的关系。其中比较重

《2011年公务员考试行测考试100套华图真题》

要的有：“东西关系”，通常指社会主义国家与资本主义发达国家之间的关系；“南北关系”，通常是指发展中国家与发达国家之间的关系；“南南关系”，通常指发展中国家相互之间的关系；“北北关系”，通常指发达国家之间的关系。

南北关系是全世界政治经济关系中的主要矛盾。

南北矛盾实质是发达国家凭借历史上长期形成的、在国际经济体系中的垄断地位和绝对优势，继续控制和盘剥发展中国家，力图维护国际经济旧秩序；而历史上长期积贫积弱的发展中国家，不愿继续忍受发达国家的控制和剥削，起而抗争，维护本国的民族经济权益，力图变革国际经济旧秩序和建立国际经济新秩序。

二、南北合作原则的初步实践一例：《洛美协定》

《洛美协定》的全称是《欧洲经济共同体——非洲、加勒比和太平洋（国家）洛美协定》。简称《洛美协定》或《洛美公约》。它在当前的南北关系中，是最大的经济贸易集团，缔约成员国已达80个。

1975年2月，在西非国家多哥的首都洛美，签订了贸易和经济协定，有效期5年。通称第一个《洛美协定》。

1979年10月在多哥洛美签订的《洛美协定》，通称第二个《洛美协定》，有效期仍为5年。

1984年12月在多哥洛美签订的《洛美协定》，通称第三个《洛美协定》，有效期也是5年。

1989年12月在多哥洛美签订的《洛美协定》，通称第四个《洛美协定》，有效期延长一倍，即10年。

综观上述四个《洛美协定》的发展进程，可以看出：发展中国家与发达国家之间的互利使用关系是有生命力的。

但也应当看到：迄今为止，《洛美协定》式的南北合作，仍然远未能从根本上改变南北双方之间很不平等、很不公平的经济关系。

三、全球合作的新兴模式和强大趋势：南南合作

南南合作与南北合作，都是全球合作的重要组成部分，这是两者的共同点。但南南合作的政治基础、经济基础、内在实质及实践效应，却与南北合作有重大的差异。

简言之，第三世界各国独立以来经济结构的变化和经济力量的增强，乃是发展南南合作的良好经济基础。

第五节 有约必守原则

这里所阐述的“有约必守”原则，就包括“条约必须遵守”以及“合同（契约）必须遵守”这两重涵义。

一、有约必守原则的基本内容

就国家间的条约而言，“有约必守”指的是当事国一旦参加签订双边经济条约或多边经济条约，就在享受该项条约赋予的国际经济权利的同时，也受到该条约和国际法的约束，必须信守条约的规定，实践自己作为缔约国的诺言，履行自己的国际经济义务。否则，不履行条约所课予自己一方的国际义务，就意味着侵害了他方缔约国的国际权利，构成了国际侵权行为或国际不法行为，就要承担由此引起的国家责任。

有约必守原则已被正式载入国际公约：《维也纳条约法公约》、《各国经济权利和义务宪章》。

就自然人、法人相互间或他们与国家之间的合同（契约）而言，“有约必守”指的是有关各方当事人一旦达成协议，依法订立合同，它就具有法律上的约束力，

《2011年公务员考试行测考试 100 套华图真题》

非依法律或当事人重新协议，不得单方面擅自改变。任何一方无合法原因不履行或不完全履行合同义务时，对方有权请求履行或解除合同；并有权就不履行或迟延履行所造成的损失要求赔偿。在近现在各国民商立法中，普遍都有这一类基本条款规定。

二、有约必守原则的限制

对有约必守原则的限制，主要有以下两个方面：

（一）合同或条约必须是合法、有效的。

1. 就合同而言，违法合同和缺乏其他必备条件的合同，都是自始无效的。

2. 就条约而言，要贯彻有约必守原则，其前提条件也在于条约本身必须是合法、有效的。

（二）合同或条约往往受“情势变迁”的制约

一般认为，上述条文可作如下解释：

第一，条文以否定式、消极性的措词，规定了适用“情势变迁”的狭小范围，即在一般情况下“不得”援引它作为理由要求废约或退约，“除非”在特殊情况下才可以援用这个理由。

第二，实现这种例外，必须同时具备许多要件，即：

1. 发生情势变迁的时间必须是在缔约之后。

2. 情势变迁的程度必须是根本性的。

3. 情势变迁的实况必须是当事国所未预见的。

4. 情势变迁的结果必须是丧失了当事国当初同意接受该条约拘束的必要基础或基本前提。

5. 情势变迁的影响必须是势将根本改变依据该条约尚待履行的义务的范围或程度。

6. 情势变迁的原因必须不是出于该当事国本身的违约行为。

7. “情势变迁”原则适用的对象必须不是边界条约或边界条款。

第三章 国际货物买卖法

第一节 国际货物买卖法概说

二、国际货物买卖的法律

国际货物买卖的法律，主要包括三部分：1. 国际贸易惯例；2. 各国有关国际货物买卖的国内立法及其冲突规范；3. 国际货物买卖公约。

第二节 国际货物买卖合同

二、国际货物买卖合同的订立

（一）合同的成立要件

1. 实质要件

（1）关于发价

A. 发价的含义：发价是一方当事人以进行国际货物买卖为目的，向另一方当事人发出的愿按一定条件和他订立合同的意思表示。在外贸实践中，发价亦称“报价”、“发盘”、“开盘”。作此意思表示的人是发价人，对方是被发价人。

B. 发价的构成：“向一个或一个以上特定的人提出的订立合同的建议，如果十分确定并且表明发价人在得到接受时承受约束的意旨，即构成发价”。可见一项发价的构成，必须具备三个条件：一是应向一个或一个以上特定的人提出。二是建议的内容必须十分确定，以便对方考虑。三则必须表明发价人在其发价一旦得到接受就将受其约束，亦即发价人与被发价人之间将按发价内容成立合同，发价人应允承担卖方或买方的全部义务。

《2011 年公务员考试行测考试 100 套华图真题》

C. 发价的效力：发价于到达发价人时生效。

D. 发价的撤回和撤销：发价在送达被发价人之间，尚未发生效力，发价人可以随时把它撤回，便发价不发生效力；即使是不可撤销的发价，也可以撤回。但如有下列两种情况之一，发价不得撤销：一、发价写明接受发价的期限或以其他方式表示发价是不可撤销的；二、被发价人有理由信赖该项发价是不可撤销的，而且被发价人已本着对该项发价的依赖行事。

（2）关于接受

A. 接受的含义：接受是被发价人作出的同意发价的意思表示；这意思，有时也以某种行为来表示。但缄默或不行动本身不等于接受。

B. 接受的效力：被发价人表示了接受的意思，是发价人、被发价人之间达成协议，合同即告成立。这便是接受的效力。

C. 逾期的接受：接受没有在应到达的时间内到达，是为逾期的接受，亦即迟到的接受。前已提及，逾期的接受无效；但有例外：其一为倘若发价人在收到接受函电时，毫不迟延地用口头或书面通知被发价人说，接受虽已逾期，但他仍视为有效的接受，则接受即为有效，可以订立合同，迟到的接受实际到达之时，即为合同成立时。另一为如果载有逾期接受的信件或其他书面文件表明，依照它寄发时的情况，只要传递正常，它本应是能够在期限内到达的，则此项逾期接受应被认为具有接受的效力，除非发价人毫不迟延地用口头或书面通知被发价人：他认为他的发价已经失效，从而不能因该接受而订立合同。

（4）“第三方要求”问题

所谓“第三方要求”的问题，也就是权利担保问题。

六、违反合同及其补救

（一）违反合同与补救

2. 有一种违反合同特别严重，《公约》称之为“根本违反合同”。根据公约 25 条，一方当事人违反合同的结果，如使另一方当事人蒙受损害，以至于实际上剥夺了他根据合同规定有权期待得到的东西，即为根本违反合同。

是不是根本违反合同，引致的法律后果很不一样：是根本违反合同，受损害的一方有权宣告合同无效，有权要求损害赔偿；如果不是根本违反合同，则受损害的一方不能宣告合同无效，而只能要求损害赔偿和采取其他补救措施办法。

《公约》第 74 条：“一方当事人违反合同应负的损害赔偿额，应与另一方当事人因他违反合同而遭受的包括利润在内的损失额相等。”

但赔偿额有一个限制，即“这种损害赔偿不得超过违反合同一方在订立合同时，依照他当时已知道或理应知道的事实和情况，对违反合同预料到或理应预料到的可能损失”。

七、风险的转移

（一）风险转移的含义

在国际货物买卖，依据合同，货物要由卖方交付给买方，货物的所有权要由卖方转移给买方。货物的风险，原是卖方承担着的，也应于某个时候，改归买方承担，这就是国际货物买卖中的风险转移。

（二）风险转移的时间

风险转移问题的要害在转移的时间，即风险在什么时候从卖方转移给买方。

第三节 国际货物买卖公约

一、国际货物买卖公约的性质、作用和它的制定

《公约》已于 1988 年 1 月 1 日起生效，对我国有约束力。

《2011 年公务员考试行测考试 100 套华图真题》

二、关于《联合国国际货物销售合同公约》

(三)《公约》的适用范围

1. 属于《公约》适用范围的货物买卖及其他有关事项

(1) 据《公约》，营业在不同国家的当事人之间所订立的货物销售合同，如果这些国家是缔约国，即属于《公约》的适用范围。

(2) 据《公约》，营业地在不同国家的当事人之间所订立的合同，这些国家或其中一个国家虽非缔约国，但如果国际私法规则导致适用某一缔约国的法律，也就属于《公约》的适用范围。

2. 不属于《公约》适用范围的货物买卖或其他事项

(1) 据《公约》第 2 条规定，它不适用下列六种销售：

- (a) 购供私人、家人或家庭使用的货物的销售；
- (b) 经由拍卖的销售；
- (c) 根据法律执行令状或其他令状的销售；
- (d) 公债、股票、投资证券、流通票据或货币的销售；
- (e) 船舶、船只、气垫船或飞机的销售；
- (f) 电力的销售。

《公约》明文许可的保留，有以下三项：

1. 对《公约》的“合同的订立”部分或“货物销售”部分可以声明保留（92 条）；

2. 对《公约》的“国际私法规则导致适用”的规定，可以声明保留（95 条）；

3. 《公约》规定，合同的订立、更改或终止，无须以书面为之。对这一规定，可以声明保留（96 条）。

我国在核准《公约》时，即据《公约》第 95 条、第 96 条的规定，作了保留声明。

第六节 国际货物买卖中的支付

三、信用证

(一) 信用证的含义和作用

信用证是银行应国际货物买卖中买方的请求，开给卖方的一种在一定条件下保证付款的凭证。

(二) 信用证的当事人和他们之间的关系

信用证的当事人，可以多达六、七个，他们是：

1. 开证申请人，即买卖合同中的买方；
2. 开证行；

开证行通常是开证申请人所在地的银行。开证申请人与开证行之间存在着一种委托关系；

3. 受益人，即买卖合同中的卖方；

受益人有权享有信用证上的利益。受益人在接收了开证行开出的不可撤销的信用证之时，他们之间便形成了以信用证条款为内容的合同关系。受益人与开证申请人没有直接关系；至于他们之间本来存在买卖合同关系，那是另一问题。

4. 通知行，即接受开证行的委托，负责将信用证通知受益人，它通常是卖方即受益人所在地的银行；

通知行与开证行是委托代理关系，通知行与受益人之间没有合同关系。

5. 议付行，即愿意买入或贴现受益人按信用证所开出的汇票的银行；

6. 付款行，即信用证上指定的付款银行；

《2011 年公务员考试行测考试 100 套华图真题》

7. 保兑行，即就开证行开出的不可撤销的信用证愿承担保兑责任的银行。在信用证的诸多当事人中，并不一定有保兑行。

第七节 国际货物买卖的管制

新规定的措施，则有如下三种：

一、保障措施

《对外贸易法》第 29 条规定：“因进口产品数量增加，使国内相同产品或者与其直接竞争的产品的生产者受到严重损害或者严重损害的威胁时，国家可以采取必须的保障措施，消除或者减轻这种损害或者损害的威胁。”

二、反倾销

三、反补贴

第四章 国际技术转让法

第一节 国际技术转让法的概说

四、国际技术转让法

（一）国际技术法律让的概念

国际技术转让法是调整跨越国界有偿技术转让的法律规范的总称，它是国际贸易法的组成部分。国际技术转让法有如下法律特点：

第一，国际技术转让法的主体，即国际技术转让关系的当事人是处于不同国家境内的自然人、法人以及其他经济组织。

第二，国际技术转让法的客体，是一种无形财产——技术知识和经验的使用权。

第三，国际技术转让法调整的对象是跨越国界的技术转让法律关系。

（二）国际技术转让法的渊源

1. 国内立法

2. 法院判例

3. 国际条约

五、国际技术转让合同

专利技术的概念：专利技术是依照法律规定取得专利权的技术。

专有技术的概念：专有技术是指一种在长期生产实践中形成和积累起来的，为从事生产活动所必需的，从未公开过并可转让又未取得专利保护的专门技术知识、工艺程序、经验、设计和技能。

专有技术不仅包括产业性技术知识，也包括商务性技术知识，即商业秘密或行为秘密。

专有技术和专利技术无论是在法律上还是在技术范围上都是不相同的，区别两者的意义在于，国际技术转让当事人可在国际技术转让交易中选择对自己更为合适、更为有利的技术。但他们之间存在着很大的差异，主要有以下几个方面：

（1）专有技术是没有取得工业产权保护的技术，但不等于说专有技术就不受法律保护，只是其由于其法律性质的不确定性，各国对其保护的情况不同，有的根据民法、合同法；有的根据禁止不正当竞争法、侵权行为法；有的根据刑法的规定对其进行法律保护。而专利技术有被批准的专利证书，受有关国家专利法和国际公约的保护，是一种法定的权利，除法律规定外，任何人实施他人专利技术都必须取得专利权人的许可，否则即构成侵权行为。

（2）专有技术是不向社会公开的技术，它是一种以保密性为条件的事实上的独占性。专有技术包括本身不具备专利条件的技术知识和经验，也包括本身具备专利条件但其所有人不愿意在申请专利时被披露，因而没有申请专利权。选择自

《2011年公务员考试行测考试 100 套华图真题》

行保密的技术知识和经验。这样，专有技术包含的范围较为庞杂，通常表现为技术知识、经验、数据、方法、配方等。专利技术是必须依专利法向社会公开的技术，并依专利法享有独占权。专利技术的范围比较狭窄，通常是指发明、实用新型和外观设计专利技术。

(3) 专有技术是依靠所有人自行保密的具有事实上的独占权的技术和经验，没有严格的时间限制和地域限制。只要该项专有技术未泄露，其所有人便可以在事实上独占该项专有技术，法律也就保护其所有人的这种独占权。专利技术作为国家依专利法公开给予保护的技术，因而具有严格的时间限制和地域限制。如果超过了法定的期限，该项专利技术就是社会共同的财富；如果超越授予专利权的国家，该项专利技术也不受保护。

(4) 从总体技术水平上说，专有技术的范围既广又杂，既包括技术知识、设计方案，又包括经验、方法、配方，因而缺乏规范性，总体技术水平比较低。而专利技术的范围较窄又简单，一般只有发明、实用新型、外观设计，而且取得专利权必须依法具有新颖性、实用性和先进性，因而有较强的规范性，总体技术水平比较高。

第二节 国际许可合同

一、国际许可合同的概念和种类

它是指营业地在不同国家的当事人，一方准许另一方用自己所拥有的工业产权无形财产或专有技术的使用权，并收取使用费，而另一方获得该项使用权并支付使用费的书面协议。

根据供方授予使用权的大小以及受方在生产经营范围和地域上所受到的限制，可以把国际许可合同分为以下几种：

- (一) 独占许可合同
- (二) 排它许可合同
- (三) 普通许可合同

根据许可合同对受方是否有权把受让的技术再行转让的规定，国际许可合同又可分为以下两种：

- (一) 可转让许可合同
- (二) 不可转让许可合同

合同的价格和支付方式：

1. 统包价格，也称为“一次总算”。
2. 提成价格，也称为“提成支付”。
3. 固定与提成相结合的价格。分为固定和滑动两部分，固定部分通常叫初付费或入门费。

第五章 国际投资法

第一节 国际投资法概说

国际投资法，是调整国际（跨国）投资活动的各种法律规范的总称，是国际经济法的一个重要分支。它的主要组成部分，包含发展中国家和发达国家的涉外投资法或对外投资法；涉及跨国投资问题的各类双边性国际条约、区域性国际条约和全球性国际公约；以及国际政府间机构制定的有关跨国投资活动的规范性文件；还有有关投资的国际惯例，等等。

第二节 发展中国家的涉外投资立法

一国的涉外投资法，通常包含两个基本方面：吸引外国投资的立法和向外国投资的立法。

《2011年公务员考试行测考试 100 套华图真题》

一、发展中国家吸收外国投资的法制

与发达国家相比较，发展中国家的外资立法主要有以下特征：

第一，大多数发展中国家吸收外资的立法都以法典或系列性专门法规的形式，对有关外资的审批、待遇、国有化及补偿、财税优惠及争端解决等法律问题，作出特别规定，以与国内投资相区别；发展中国家甚至在宪法中专门规定了有关吸收外国投资的立法原则，以其对外国投资之重视。而发达国家除少数例外，一般不对外国投资进行系列的特别规定；其适用于内国投资的法规，往往同样适用外国投资。

第二，发展中国家的外资立法在对外资进行限制、管理、监督的同时，往往在税收、外汇使用及争端解决等许多方面，给予外资优于内资的种种特惠待遇，这在发达国家的外资立法中是鲜有的。

第三，20 世纪 60—70 年代的对外投资实行国有化的国际风潮及 80 年代的债务危机，使得 80 年代流向发展中国家的外国直接投资在国际直接资本跨国流动总额中的比例急剧下降。在认识到充分利用外国直接投资以促进本国经济发展的重要作用之后，发展中国家竞相采取适应形势发展的新措施，以吸引外资。因此他们的外资立法晚近的发展趋势是逐步放宽限制，给予外资更多的是保护和优惠，从而促使大量国际游资向发展中国家回流。可以说，自第二次世界大战后数十年来，发展中国家吸收外资的立法经历了一个“波浪式”的发展进程。

以下从对外国投资的管制以及对外国投资的保护和鼓励这两个方面，简述发展中国家外资立法的基本内容：

（一）对外国投资的管制

1. 外国投资项目的审批。
2. 投资范围和出资比例的限制
3. 经营管理和雇佣职工的限制
4. 对外投资期限的限制
5. 对外国投资“本地化”的要求
6. 对外商投资企业行为的管理监督

（二）对外国投资的保护和鼓励

主要体现在以下几个方面：

1. 待遇

在中国，外资企业在所得税、关税、外汇、进出口权等许多方面享有的待遇远比内资企业优惠（超国民待遇）。

2. 资本和利润汇出的保障

3. 慎重征收（或国有化）及给予补偿

许多发展中国家规定在一般情况下对外商投资企业不实行国有化和征收，在特殊情况下，国家可以根据社会公共利益的需要，对外商投资企业实行征收，但必须通过合法手段和法定程序，并予以补偿。

4. 给予各种财税优惠

5. 妥善解决涉外投资争端

第三节 发达国家的涉外投资立法

一、发达国家鼓励海外投资的法制

（一）信贷优惠

（二）避免双重征税

（三）其他援助

《2011 年公务员考试行测考试 100 套华图真题》

二、发达国家的海外投资保险制度

(五) 承保的政治风险险别

各资本输出国的投资保险机构通常承保三种主要的政治风险，分别是外汇禁兑险、财产征用险和战争内乱险。

二、保护国际投资的双边条约的类型

有关国际投资保护的双边条约，有如下三种模式：

(一) 友好通商航海条约

(二) 投资保证协议（美国式）

(三) 促进和保护投资协定（德国式）

目前国际法学文献中所称的“双边投资条约”或“双边投资保护条约”，一般是指此协定。

第七节 《华盛顿公约》与 ICSID 体制

三、“中心”的管辖权

凡双方已经书面表示同意提交“中心”管辖的争端，应当受到三项限制：（1）当事人任何一方不得片面撤回其同意；（2）除非另有声明，提交“中心”仲裁应视为双方同意排除其他任何救济办法。但东道国可以要求优先用尽当地的各种行政救济或司法救济手段，作为它同意提交“中心”仲裁的条件；（3）对于已经书面同意提交“中心”仲裁的争端，投资者国籍所属国家不得另外主张给予外交保护或提出国际索赔要求，除非东道国不遵守和不履行对此项争端所作出的裁决。

第八节 《汉城公约》与 MIGA 体制

多边投资担保机构成立于 1988 年 4 月。

ICSID 通过受理和处断国际投资争端，为海外投资家在东道国所可能遇到的各种政治风险（非商业性风险），提供法律上的保障；MIGA 则通过直接承保各种政治风险，为海外投资家提供经济上的保障，并且进一步加强法律上的保障。

二、MIGA 的法律地位和内部组织机构

MIGA 作为世界银行集团的一个成员，拥有完全的法人地位，有权缔结合同，取得并处理不动产和动产及进行法律诉讼。

MIGA 内设理事会、董事会、总裁和职员。

四、MIGA 的担保业务

(二) 合格的投资

《MIGA 公约》除了要求前来投保的投资须是在投保申请注册之后才开始执行的新的投资（包括现有投资的更新、扩大或发展以及利润的再投资）。还特别要求该投资符合以下几个条件：（1）必须具备经济合理性；（2）能够给东道国带来良好的经济、社会效益；（3）符合东道国的法律和条例（这一点以东道国事先批准 MIGA 对该项投资的担保为准）；（4）与东道国宣布的发展目标和发展重点相一致；（5）在东道国可以得到公平待遇和法律保护。

行政法律理论辅导讲座：国际经济法（二）

《2011年公务员考试行测考试 100 套华图真题》

第六章 国际货币金融法

(重点内容: 1. 各国家对自己货币的安排; 2. 国际贷款。)

第一节 国际货币金融法概说

第一部分涉及国际货币法律制度。

第二部分涉及国际资金融通的法律问题。

第三部分涉及对跨国银行的法律管制。

第二节 国际货币法律制度

一、各国涉外货币法律制度

(一) 各国货币性质的确定

1. 确定本国货币为完全可兑换的货币。
2. 确定本国货币为部分可兑换的货币。
3. 确定本国货币为不可兑换的货币。

(二) 各国汇率制度的选择

1. 固定汇率制

2. 浮动汇率制

二、国际货币体系

(三) 金融资助

2. 基金组织的贷款

基金组织只对各会员国政府贷款, 贷款的额度与该会员国缴纳的份额成正比, 贷款主要用于解决该会员国国际收支不平衡。

目前, 基金组织主要向各会员国提供以下几类贷款:

(1) 普通贷款

(2) 出口波动补偿贷款

(3) 缓冲库存贷款

(4) 中期贷款

(5) 扩大资金贷款

(6) 结构性调整贷款

(7) 追加结构性调整贷款

3. 基金组织的特别提款权

(1) 特别提款权的概念

(2) 特别提款权的使用

(3) 特别提款权的定值

第四节 国际贷款的法律问题

一、国际定期贷款

二、欧洲货币贷款

欧洲货币贷款是指在贷款货币发行国以外国家的国际金融市场上发放的一种国际商业贷款。

三、国际银团贷款

四、项目贷款

目前, 国际上一般都采用有限追索权的项目贷款方式。这种项目贷款方式牵涉到诸多当事人, 从当事人签订的各种协议的层次来分, 主要采用以下三种形式:

1. 双层次结构项目贷款

双层次结构项目贷款的当事人涉及: (1) 贷款人。(2) 项目主办人。(3) 项目公司。

《2011 年公务员考试行测考试 100 套华图真题》

主办人与贷款人或项目公司签订以下三种担保协议，由主办人向贷款人提供担保：

（1）完工担保协议。

（2）投资协议。

（3）购买协议。

第五节 国际证券发行与流通的法律制度

一、国际证券概述

国际证券种类繁多，各国对国际证券范围的界定也不尽相同，主要有国际股票和国际债券两大类：

（一）国际股票

（二）国际债券

二、国际证券发行的方式

1. 国际证券的私募发行

2. 国际证券的公募发行

第六节 国际租赁的法律与实务

一、融资性租赁

融资性租赁是国际租赁业务中使用最多、最基本的形式。通常由一国出租人按另一国承租人的要求购买租赁物并出租给承租人使用，而租赁的维修和保养由承租人承担的一种租赁方式。

二、经营性租赁

经营性租赁，又称服务性租赁，这种租赁的出租人除提供租赁物外，还负责租赁物的维修和保养等服务。

三、维修租赁

维修租赁由融资性租赁与出租人提供多项服务相结合构成。

四、综合租赁

综合租赁是租赁与其他贸易方式结合在一起的一种租赁形式。

第七节 对跨国银行的法律管制

一、跨国银行的概念

跨国银行分支机构的形式及主要特点如下：

（一）代表处

（二）经理处

（三）分行

（四）附属银行

（五）联属银行

（六）联营银行

第七章 国际税法

第二节 税收管辖权

一、居民税收管辖权

居民有自然人与法人之分。

（一）自然人居民身份的确定

居所与居住期限相结合，是国际上最常用的确定居民身份的方法。

（二）法人居民身份的确定

1. 法人注册成立地标准

2. 实际控制与管理中心所在地标准

《2011 年公务员考试行测考试 100 套华图真题》

3. 总机构所在地标准

二、收入来源地税收管辖权

收入来源地税收管辖权是征税国，即收入来源国用来针对非居民来自境内的所得。非居民在收入来源国的所得一般包括四个方面，要对这些所得实行收入来源地税收管辖权，必须首先确定它们的来源地，分述如下：

- (一) 营业所得
- (二) 投资所得
- (三) 劳务所得
- (四) 财产所得

财产所得指转让各种财产的所得。

第三节 国际重复征税与重叠征税

一、国际重复征税的概念

国际重复征税是国际税收关系的焦点，一般指两个国家各自依据自己的税收管辖权按同一税种对同一纳税人的同一征税对象在同一征税期限内同时征税。

二、国际重复征税的消除或缓解

- (一) 免税制
- (二) 抵免制
- (三) 扣除制
- (四) 减税制

同其他避免国际重复征税的方法相比较，减税制最为灵活。

第四节 国际避税与逃税

一、国际避税与逃税的概念及方式

跨国公司在国际避税和国际逃税方面就能够采取两个主要的手段：一是设立基地公司；另一是大搞转让定价。

所谓基地公司，就是跨国公司在避税港设立的公司，其本身往往并不从事实际经营，而将跨国公司在世界各地的投资、贸易、信贷、劳务、技术转让等所得归在它的名下，以达到不纳税或少纳税的目的。

所谓转让定价，就是跨国公司在内部交易中利用各国税率高低不一和税收规定各异人为地抬价或压价以达到逃避税收的一种手段。

第八章 国际海事法

第一节 国际海事法概说

一、国际海事法的概念

国际海事法是调整国际（跨国）商业活动中海上运输关系及其他涉及船舶的各种关系的法律规范的总称，是国际经济法的又一个重要分支。

二、国际海事法的渊源

国际海事法的渊源，是指国际海事法的规范形式。国际海事规范形式有：各国海事法、国际海事公约以及国际海事惯例。

三、国际海事法的特点

- (一) 国际海事法具有悠久的历史
- (二) 国际海事法拥有独特的法律制度

海难救助、共同海损、责任限制、船舶优先权等制度，就是国际海事法所独有的制度。

- (三) 国际海事法所涉及的法律关系比较复杂
- (四) 国际海事法有着明显的统一性

《2011 年公务员考试行测考试 100 套华图真题》

第二节 国际班轮运输合同

一、国际班轮运输合同的涵义

国际班轮运输合同是指船公司按照预先公布的固定的时间、航线、港口顺序和运费率，从事国际货物运输所订立的合同。

二、提单

(二) 提单的种类

1. 已装船提单与收货待运提单。这是以货物是否实际装船为分类标准的。

2. 记名提单、指示提单与不记名提单。这是以提单上由托运人填写的收货人一栏中的抬头为分类标准的。

3. 清洁提单与不清洁提单。这是以承运人在提单上是否对货物的外在状况进行不良批注为划分标准的。

(三) 提单的法律性质

1. 提单是货物运输合同的证明

2. 提单是承运人接管货物的证据

3. 提单是据以提取货物的凭证

三、有关提单的国际公约

目前，管制提单的国际公约有三个，即《海牙规则》、《维斯比规则》以及《汉堡规则》。

第五节 船舶碰撞

二、船舶碰撞的责任原则

(一) 过失碰撞

1. 船员过失。

2. 船东过失。

3. 推定过失。

(二) 无过失碰撞，包括：

1. 不可避免的碰撞

2. 原因不明的碰撞

(三) 过失碰撞的损害赔偿制度

1. 单方过失。

2. 双方过失。

三、损害赔偿的计算方法

从上例中看出，船舶碰撞事故发生的货物损坏的赔偿，一般不包括本船对本船所载货物的赔偿。

第六节 海难救助

一、海难救助的概念及其成立要件

海难救助是指在海上或者与海相通的可航水域，有遇险的船舶或其他财产进行救助而在被救助人与救助人间产生的法律关系。

海难救助是海事法特有的制度，其核心是给予海难救助人救助报酬，借以鼓励人们积极参预救助行动。

一般认为，海难救助法律关系的成立，也即如救助请求人请求被救助支付海难救助报酬，须满足以下三个条件（习惯上称之为“海难救助三原则”）：

1. 船舶或者货物及其他财产遭受了某种不能自救的海上危险。

2. 救助人的救助行为必须是自愿的，救助并无法定义务进行救助。

3. 救助须有效果，这是指船舶、货物或其他财产全部或部分得救。

《2011年公务员考试行测考试100套华图真题》

二、海难救助报酬原则及其例外

《1989年救助公约》“特别补偿条款”规定，对有污染环境危险的船舶以及船上的财产进行救助，救助人可以按照下列标准得到被救助船东的特别补偿：

（1）如果没有获救价值，或者虽有，按传统无效果无报酬原则计算的救助报酬少于本条的特别补偿，救助人至少有权获得相当于他消耗的救助费用的特别补偿。

（2）如果救助人在保护环境方面有功绩，他还可获得相当于救助费用的30-100%的特别补偿；

（3）如果因救助人的过失未能防止和减少环境污染，救助人则丧失取得全部或部分补偿的权利。

1990年劳氏救助合同格式也根据《1989年救助公约》，对于1980年劳氏救助合同格式进行了修订，规定了与该公约大致相同的特别补偿。

三、海难救助法律关系

（一）劳氏救助合同格式

1990年劳氏救助合同的主要特点为：

第一，规定了无效果、无报酬的原则，并对环境污损救助问题作出例外规定。

第二，规定了救助报酬由经验丰富的伦敦仲裁员事后根据多种客观标准予以确定。

第三，规定了一套较完整的担保和执行仲裁裁决的程序。

第七节 共同海损

共同海损是指在同一海上航程中，船舶、货物和其他财产遭遇共同危险，为了共同安全，有意和合理地采取措施所直接造成的特殊牺牲、支付的特殊费用。海损的成立，必须满足如下条件：

（一）船舶及货物必须处于共同危险情境中。

（二）采取的措施必须是有意的、合理的。

（三）所发生的损失必须是特殊的。

三、共同海损损失的构成

共同海损损失可分为两大类，即共同海损牺牲和共同海损费用。

（一）共同海损牺牲

共同海损牺牲是指船舶或货物所遭受的物质损害，它包括：

1. 船舶牺牲

（1）起浮搁浅船舶所遭受的损坏。

（2）船舶有意搁浅。

（3）锚和锚链的牺牲。

（4）将船用物料充作燃料。

（5）为共同安全抛弃船舶属具、开舱、凿洞以及救火造成船舶的部分牺牲。

2. 货物牺牲

（1）抛弃货物。

（2）为灭火致使货物损失。

3. 运费牺牲

（二）共同海损费用

共同海损费用指具有共同海损性质的费用支出。包括：

1. 避难港费用。

（1）驶往、驶离避难港口的费用；

《2011 年公务员考试行测考试 100 套华图真题》

- (2) 避难港的港口费;
- (3) 避难期间船员的工资、伙食以及所耗用的物料和燃料;
- (4) 修理船舶所必需的在船上搬移或卸下货物、燃料或物料的费用。

2. 救助费用。

3. 代替费用。

五、共同海损理算

共同海损理算是指由专门机构认定共同海损是否成立以及如果成立, 为确定共同海损损失金额及受益方应分摊的金额而进行专业技术性较强的核算工作。

第九节 船舶优先权

一、船舶优先权的涵义

船舶优先权, 是指以船舶为标的, 以担保特定的债权为目的, 特定的债权人通过司法程序扣押船舶以至变卖船舶, 得以从变卖船舶的所得价款中依法定程序优先受偿的权利。

二、船舶优先权的特征

(一) 船舶优先权具有优先性

其一般原则是:

- (1) 有担保的债权优先于无担保的债权;
- (2) 有担保的债权之间, 船舶优先权优先于受抵押权、留置权担保的债权;
- (3) 受同一种担保物权担保的债权之间, 其受偿位序由法律规定。抵押权以登记先后为准, 先登记的抵押权优先于其后登记的抵押权。

(二) 船舶优先权具有附着性

(三) 船舶优先权具有秘密性

(四) 船舶优先权具有法定性

四、船舶优先权的标的

船舶优先权的对象是船舶。这里所谓“船舶”, 应理解为船舶本身的价值、运费、其他附属权益, 但不包括船舶的保险赔偿金。

五、船舶优先权的消灭有以下三种情形:

- 1. 船舶优先权自产生之日起已满 1 年, 优先权人仍未行使 (指向法院提出申请, 扣押船舶, 主张优先受偿)。
- 2. 船舶经法院强制出售。
- 3. 船舶灭失。

船舶优先权消灭, 原来享有船舶优先权的债权就转化为普通债权, 只是丧失了船舶优先权的优先受偿性。

第十节 海上保险

四、海上保险的索赔与理赔

(一) 海上保险的索赔与理赔

所谓推定全损, 是指保险标的发生保险事故后, 认为实际全损已经不可避免, 或者为避免发生实际全损所需支付的费用 (如保险标的是货物则再加上继续将货物运抵目的地的费用) 超过保险价值的, 为推定全损。

(二) 代位求偿权与委付

2. 委付

委付是指保险标的发生推定全损时, 被保险人向保险人发出书面通知, 将有关保险标的物的权利义务转让给保险人, 由保险人按全部损失予以赔偿的做法。委付如成立, 须具备以下条件:

《2011 年公务员考试行测考试 100 套华图真题》

- (1) 保险标的发生承保范围内的推定全损;
 - (2) 被保险人向保险人发出不附带任何条件的委付通知,其中载明将保险标的物的权利义务转移给保险人的意愿;
 - (3) 保险人接受委付。委付一经保险人接受,不得撤回。
- 委付成立后,其法律后果是:
- (1) 保险人取得保险标的相关权利,并承担相应义务;
 - (2) 保险人应按全部损失赔偿被保险人。
- 委付如未成立,其法律后果是:
- (1) 如保险标的物未发生推定全损,只是发生了局部损失,或者被保险人在保险标的物发生推定全损时未及时发出委付通知,则保险人有权按局部损失赔偿被保险人,保险标的归被保险人所有;
 - (2) 如果保险标的物发生了推定全损,保险人不接受被保险人发出的委付通知,则保险人仍有义务按推定全损赔偿被保险人,保险标的仍归被保险人所有。

第十章 国际经济争端处理法

第一节 国际经济争端处理法概说

一、处理国际经济争端的主要方式

国际经济争端是指国际经济法主体之间在国际经济交往中产生的法律争端,国际经济法的主体包括自然人、法人、国家和国际经济组织。

(一) 司法解决方式

1. 国际司法解决方式

国际司法解决方式是指将国际经济争端提交国际法院解决的方式。

国际法院是联合国主要法定组织之一。《国际法院规约》有关国际法院诉讼管辖权的规定是:(1) 国际法院的诉讼当事人限于国家,任何组织、团体或个人均不得成为诉讼当事人;(2) 国际法院管辖的案件主要包括:各当事国提交的一切案件;《联合国宪章》或现行条约及协定中所特定的一切事件;关于条约的解释、国际法的任何问题、任何事实的存在如经确定即属违反国际义务者;因违反国际义务而应予赔偿的性质及其范围等四类争端,以当事国声明接受强制管辖为前提。

2. 国内司法解决方式

国内司法解决方式是指将国际经济争端提交各国法院解决的方式。

(二) 调解解决方式

调解是争端当事人在中立的第三人(即调解人)协助下解决争端的程序。

(三) 仲裁解决方式

仲裁指双方当事人自愿将争端提交第三者审理,由其作出裁决。

仲裁成为解决国际经济争端的最主要方式。

仲裁解决方式包括特设仲裁庭仲裁和常设仲裁机构仲裁两种方式。特设仲裁庭根据争端当事人合意并按照一定程序组成,案件审理完毕即自动解散。常设仲裁机构则依国际条约或国内法律而设立,可分为世界性常设仲裁机构、区域性常设仲裁机构和各国常设仲裁机构三种类型。特设仲裁庭和常设仲裁机构仲裁两种方式紧密联系,并相互影响。例如,《联合国国际贸易法委员会仲裁规则》是根据一些常设仲裁机构(即国际商会、美国仲裁协会、美洲国家商事仲裁委员会)的仲裁规则制定的。

第三节 各国常设仲裁机构及其规则

三、中国国际经济贸易仲裁委员会及其仲裁规则

对外贸易仲裁委员会根据 1954 年国务院通过的《关于在中国国际贸易促进委

《2011 年公务员考试行测考试 100 套华图真题》

员会内设立对外贸易仲裁委员会的决定》于 1956 年成立。

1988 年 6 月，国务院批准中国贸促会“对外经济贸易仲裁委员会”改名为“中国国际经济贸易仲裁委员会”。

（三）审理

仲裁庭应开庭审理案件，但经双方当事人申请或者征得双方当事人同意，仲裁庭也认为不必开庭审理的，仲裁庭可以只依据书面文件进行审理并作出裁决。如果双方当事人要求公开审理，则由仲裁庭作出决定。

（四）仲裁裁决

仲裁庭对其作出的仲裁裁决，应当说明裁决所依据的理由，但按照双方当事人和解协议的内容作出的裁决除外。仲裁裁决是终局的，任何一方均不得向法院起诉，也不得向其他机构提出变更。

金路专家王一丁解答行政职业能力题(四)

[来源: 金路公务员]

一题：小明和小强都是张老师的学生，张老师的生日是 M 月 N 日，2 人都有知道张老师和生日是下列 10 组中的一天，张老师把 M 值告诉了小明，把 N 值告诉了小强，张老师问他们知道他的生日是那一天？

3 月 4 日 3 月 5 日 3 月 8 日 6 月 4 日 6 月 7 日

9 月 1 日 9 月 5 日 12 月 1 日 12 月 2 日 12 月 8 日

小明说：如果我不知道的话，小强肯定也不知道

小强说：本来我也不知道，但现在我知道了

小明说：哦，那我也知道了

请根据以上对话推断出张老师的生日是那一天

答：小明说：“如果我不知道的话，小强肯定也不知道”

说明生日所在月份中不存在与其他月份无重复的日期，即不是 6 月或 12 月。

小强说：“本来我也不知道，但是现在我知道了”

根据小明的话，小强这么说，说明日期不是 9 月或 12 月中共有的 5 号

小明说：“哦，那我也知道了”

剩下的日子中，若是 3 月 4 号或 8 号，小强能判断，但小明不能。只有是 9 月 1 号小明才能判断。

答案是 9 月 1 日

二题：1, 2, 3, 5, 7, (), 13 a12 b9 c11 d10

答：两两之间的差为：1, 1, 2, 2, 3, 3, 选 10

三题：8, 17, 24, 35, () a47 b50 c53 d69

答：8=3²-1, 17=4²+1, 24=5²-1, 35=6²-1, 7²+1=50

四题：(), 853, 752, 561, 154 a235 b952 c358 d352

答：D, 百位与十位的差的绝对值等于个位

五题：小明家的电话号码是 7 位数。将前四数组成的数与后三位数组成的数相加得 9534，将前三位组成的数与后四位组成的数相加得 2523。那么小明家的电话号码是？

解析：设电话号码为 ABCDEFG，根据题意得：

ABCD+EFG ...

《2011 年公务员考试行测考试 100 套华图真题》

答:

$$\begin{array}{r|l} \text{ABCD} & \text{ABC} \\ + \text{EFG} & + \text{DEFG} \\ \hline =9534 & =2523 \end{array}$$

这就是竖式

六题: 34、36、35、35、()、()、34、37

A、36、33 B、33、36 C、34、37 D、37、34

请问老师这题怎么解

答: 已知数项数大于等于 6 项的, 首先考虑双数列

有两个空缺项的题目, 95% 的可能性是双数列

综上所述, 99% 的几率为双数列

选 A

注: 双数列的规律是奇数项和偶数项呈不同的规律

七题: 批商品按期望获得 50% 的利润来定价, 结果只销售 70%, 为销售其余商品, 决定打折出售, 实际所获得的利润是原期望利润的 82%, 打多少折扣?

A, 6 B, 7 C, 8 D, 9

答: 期望值是 150, 实际销售额是 $100 \times (1 + 50\% \times 82\%) = 141$

打折前销售了: $150 \times 70\% = 105$, 打折后销售了: $141 - 105 = 36$

而这 30% 的实际期望值是 45, $36 \div 45 = 80\%$, 八折

八题: 一批商品按期望获得 50% 的利润来定价, 结果只销售 70%, 为销售其余商品, 决定打折出售, 实际所获得的利润是原期望利润的 82%, 打多少折扣?

A, 6 B, 7 C, 8 D, 9

答: 设原价为 100, 则期望值是 150, 卖了 70%, $150 \times 70\% = 105$, 还要卖 45 才能达到期望值

实际利润: $50\% \times 82\% = 41\%$, 打折后实际售出: $141 - 105 = 36$, $36 \div 45 = 80\%$, 8 折

九题: 无因管理, 是债发生的一种依据, 它是指没有法定的或约定的义务, 为避免他人受到损失而进行管理和服务的行为。根据以上定义, 下列情况中发生无因管理之债的是:

A. 未受委托, 为他人代收货物 B. 未受委托, 代他人放弃继承权

C. 路遇自杀者进行抢救 D. 受人委托, 代人看管家禽

答: 这道题应该都是选 A

十题: 价格需求弹性: 指需求对价格变动的反应程度或敏感程度, 其大小以系数 $E_p = \text{需求变动}(\%) \div \text{价格变动}(\%)$ 的绝对值来表示。根据上述定义, 下面哪一种说法是正确的?

A. 当需求价格弹性系数 $E_p > 1$ 时, 表示价格的变化会引起需求量较大幅度的变化

B. 当 $E_p = 1$ 时, 表明价格变动对需求量变动的影响很小, 因而可以尽可能提价销售

C. E_p 的大小实际上反应了需求对成本变动的敏感程度

D. 根据供求规律, 不可能存在 $E_p < 1$ 的商品

答: 这道题应该都是选 A

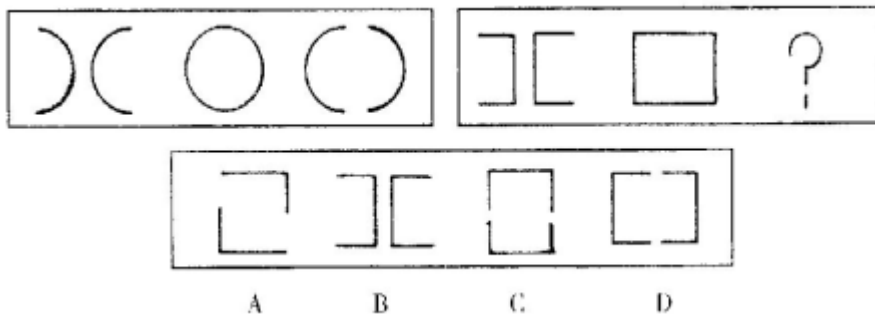
《2011 年公务员考试行测考试 100 套华图真题》

图形推理

一：

图形推理：每道题包含两套图形和可供选择的 4 个图形，这两套图形具有某种相似性，也存在某种差异，要求你从四个选项中选择你认为最适合取代问号的一个，正确的答案应不仅使两套图形表现出最大的相似性，而且使第二套图形也表现出自己的特征。

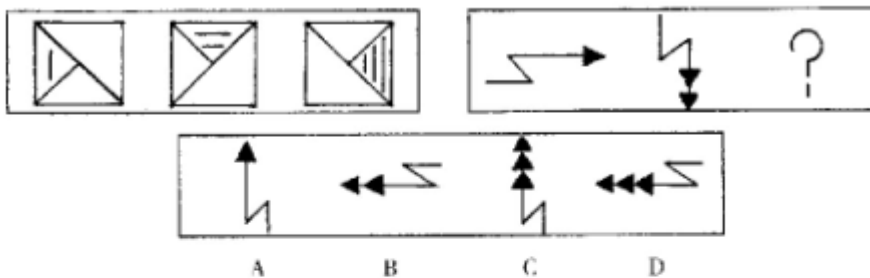
例题：



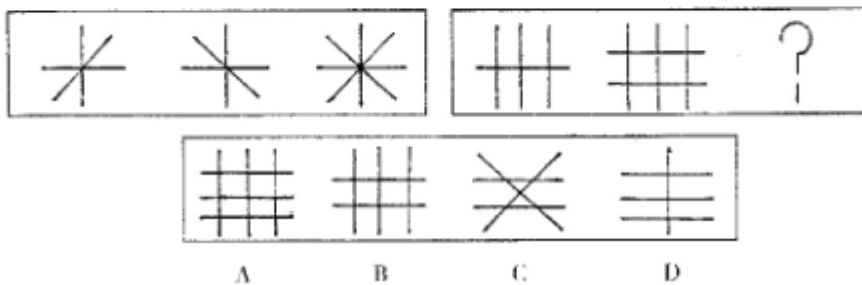
解答：正确答案为 D。因为只有 D 能使两套图形具有相似性，仅仅元素不同，一个是半圆，一个是正方形，但两组图形中元素的排列规律相同。

请开始答题：

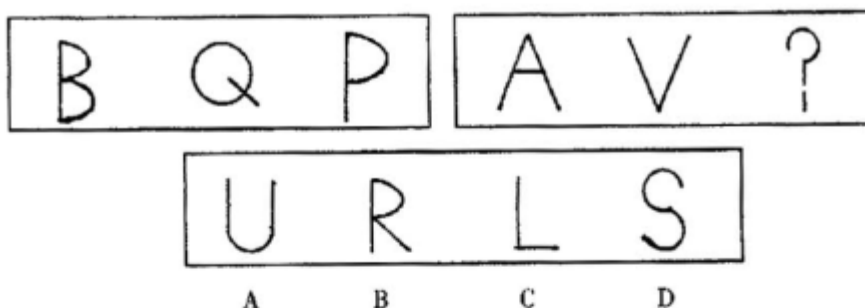
36.



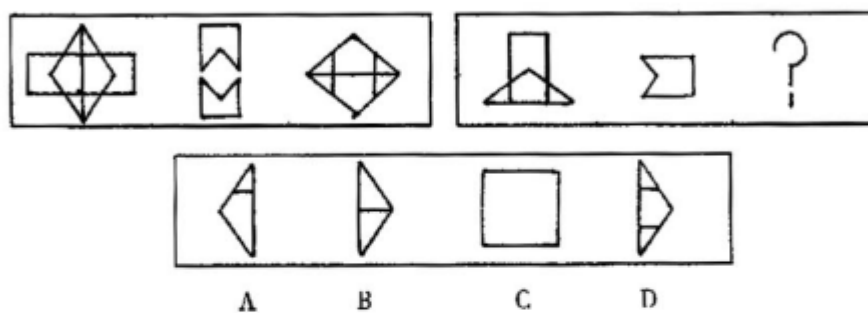
37.



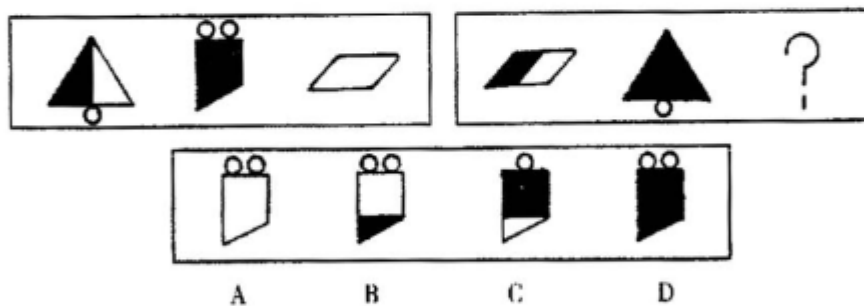
38.



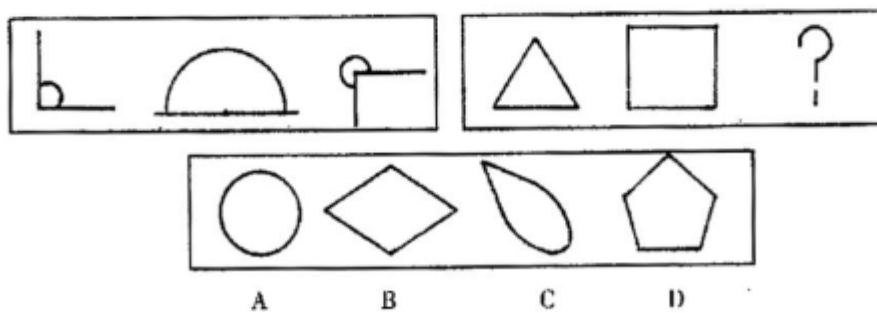
39.



40.

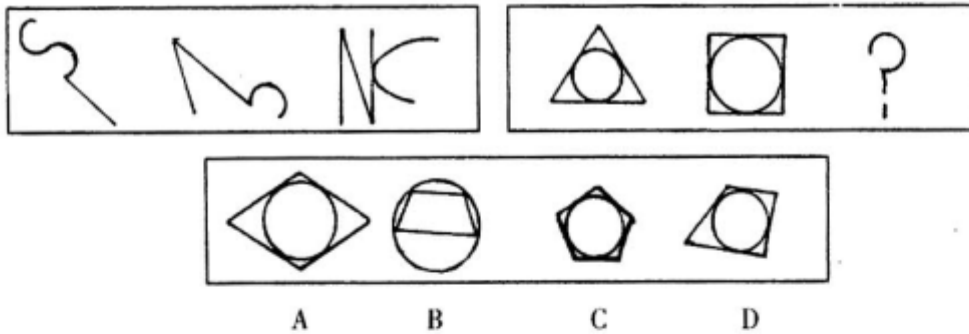


41.

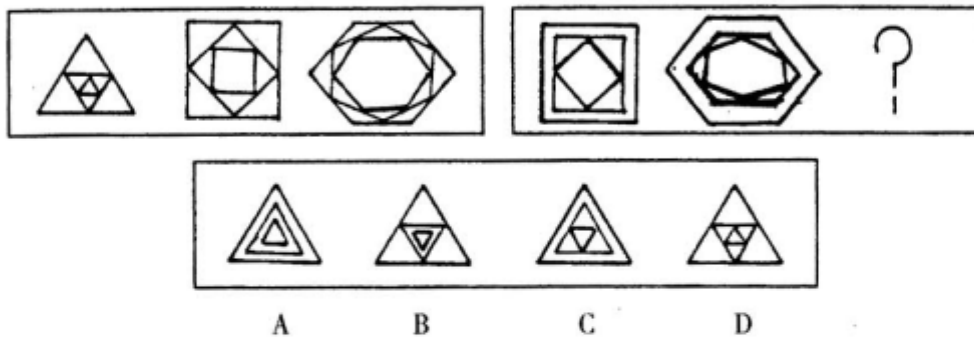


《2011 年公务员考试行测考试 100 套华图真题》

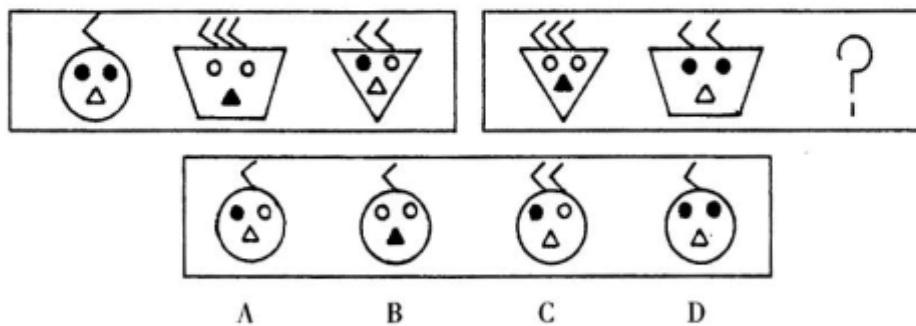
42.



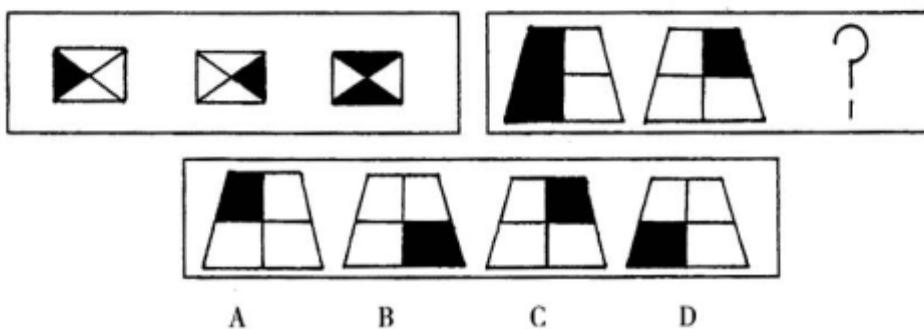
43.



44.



45.



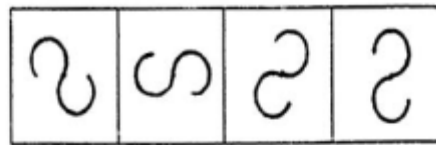
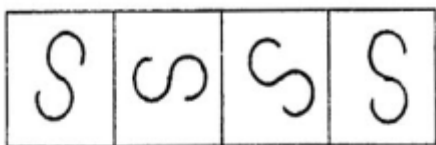
二:

图形推理：包括三种类型的题目，共 10 题。

每道题目的左边 4 个图形呈现一定的规律性。根据这种规律，你需要在右边所给出的备选答案中选出一个最合理的答案。每道题只有一个正确答案。

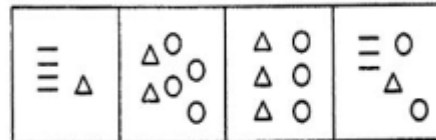
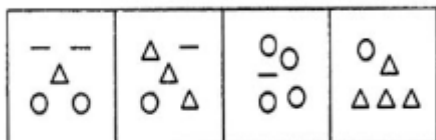
《2011 年公务员考试行测考试 100 套华图真题》

51.



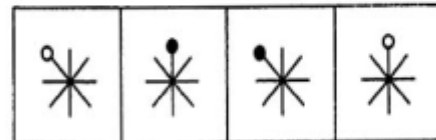
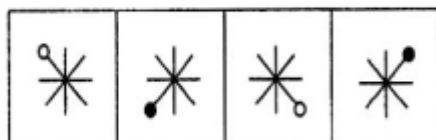
A. B. C. D.

52.



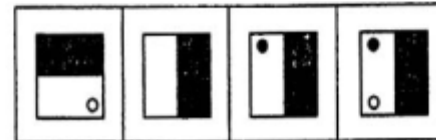
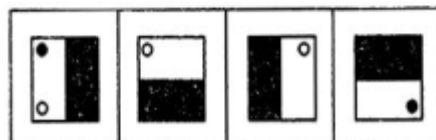
A. B. C. D.

53.



A. B. C. D.

54.



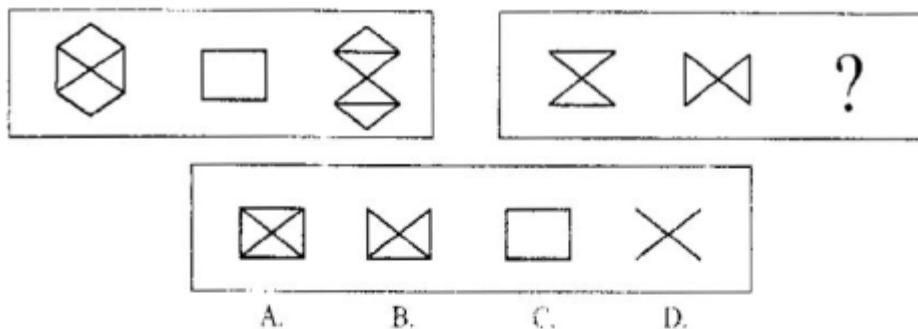
A. B. C. D.

2. 每道题包含两套图形。这两套图形具有某种相似性，也存在某种差异。要求你从四个选项中选择你认为最适合取代问号的一个。正确的答案应不仅使两套图形表现出最大的相似性，而且使第二套图形也表现也自己的特征。

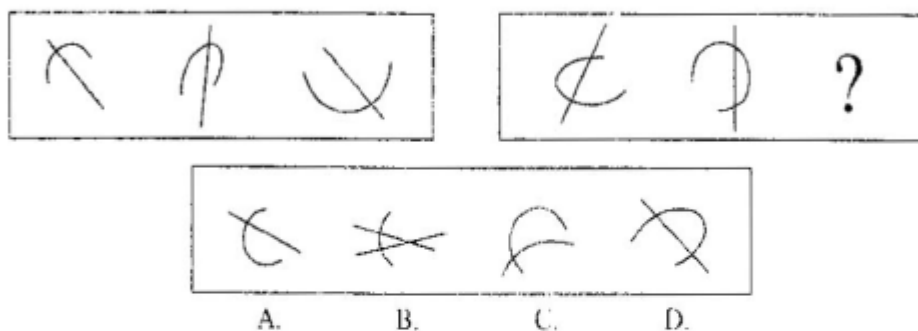
请开始答题：

《2011 年公务员考试行测考试 100 套华图真题》

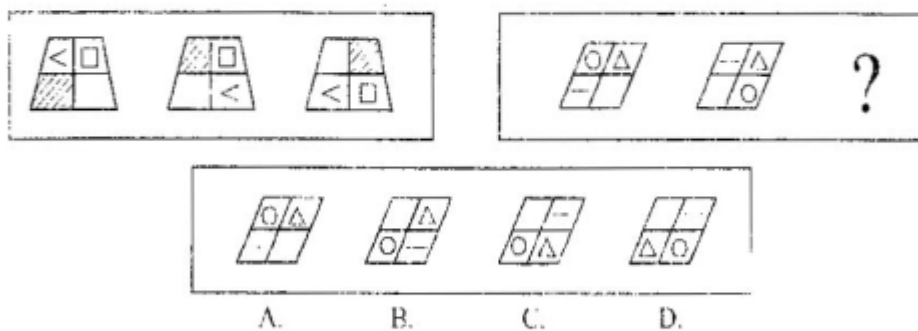
55.



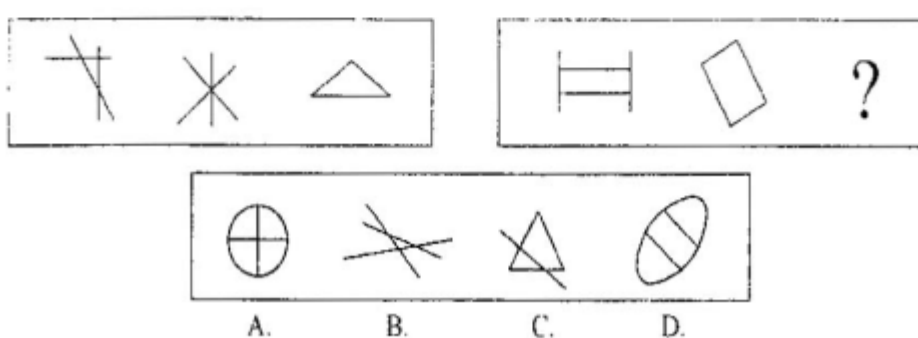
56.



57.



58.

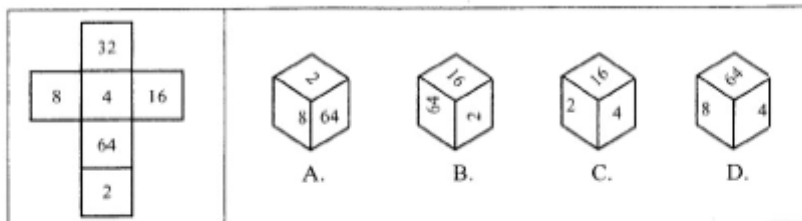


3. 在右面的 4 个图形中，只有一个是左面的纸板折叠而成的。你需要选出正确的一个。

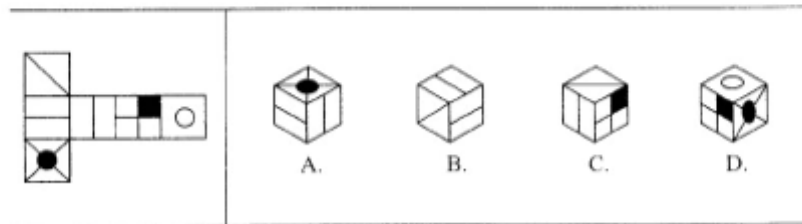
《2011 年公务员考试行测考试 100 套华图真题》

请开始答题:

59.



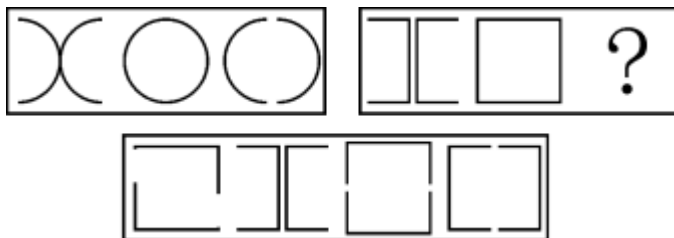
60.



三:

图形推理（共 10 题。每道题包含两套图形和可供选择的 4 个图形。这两套图形具有某种相似性，也存在某种差异。要求你从四个选项中选择你认为最适合取代问号的一个。正确的答案应不仅使两套图形表现出最大的相似性，而且使第二套图形也表现出自己的特征。）

【例题】



A B C D

【答案】 D

【解析】 因为只有 D 能使两套图形具有相似性，仅仅元素不同，一个是半圆，一个是半个正方形，但两组图形中元素的排列规律完全相同。

请开始答题:

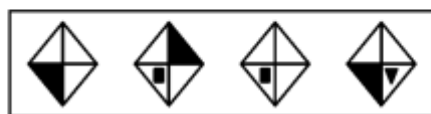
26. ()

《2011 年公务员考试行测考试 100 套华图真题》



A B C D

27. ()



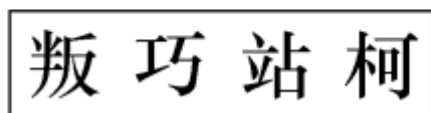
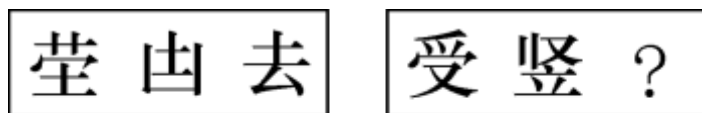
A B C D

28. ()



A B C D

29. ()



A B C D

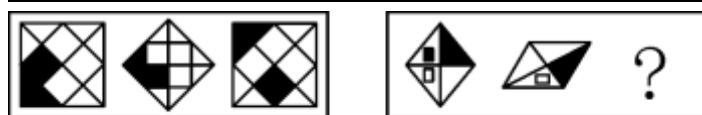
30. ()



A B C D

31. ()

《2011 年公务员考试行测考试 100 套华图真题》



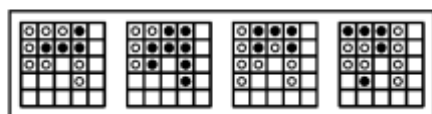
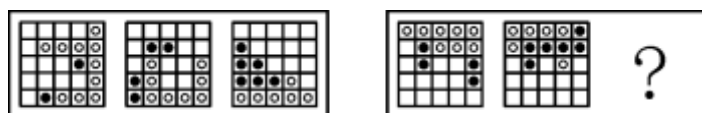
A B C D

32. ()



A B C D

33. ()



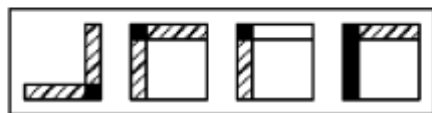
A B C D

34. ()



A B C D

35. ()



A B C D

四:

图形推理: 本部分包括三种类型的题目, 共 10 题。

《2011 年公务员考试行测考试 100 套华图真题》

(一) 每道题目的左边 4 个图形呈现一定的规律性。你需要在右边所给出的备选答案中选出一个最合理的正确答案。每道题只有一个正确答案。

请看例题。

【例题】



A B C D



A B C D

【解答】在例题 1 中，最左边的图形中的直线是向上直立的，其后的图形中的直线逐渐向右倒下，第五个图形中的直线应该恰好倒下。因此，正确的答案是 D。在例题 2 中，墨点在正方形中，顺时针移动。在第五个图形中，墨点应该正好移动到左上角。因此，正确的答案是 B。

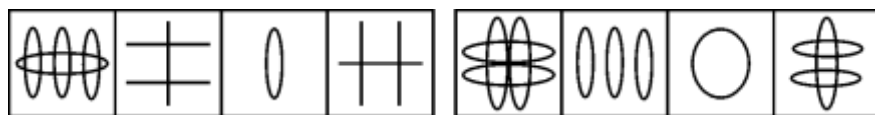
请开始答题：

51.



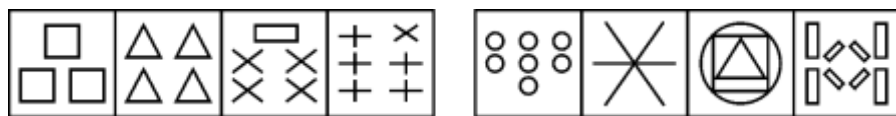
A B C D

52.



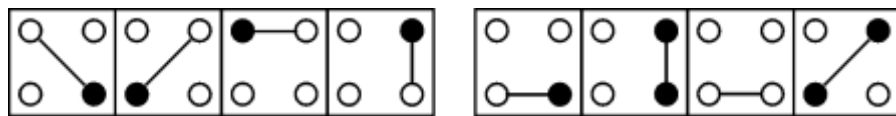
A B C D

53.



A B C D

54.



A B C D

(二) 每道题包含两套图形和可供选择的 4 个图形。这两套图形具有某种相似性，也存在某种差异。要求你从四个选项中选择你认为最适合取代问号的一个。正确的答案应不仅使两套图形表现出最大的相似性，而且使第二套图形也表现出自己的特征。

【例题】

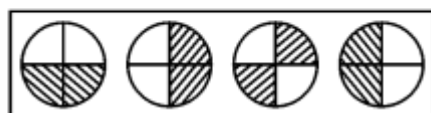
《2011 年公务员考试行测考试 100 套华图真题》



A B C D

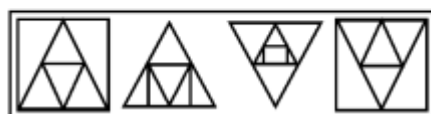
【解答】 正确答案为 B。因为只有 B 能使两套图形具有相似性，仅仅元素不同，一个是半圆，一个是半正方形，但两组图形中元素的排列规律完全相同。请开始答题：

55.



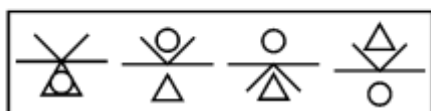
A B C D

56.



A B C D

57.

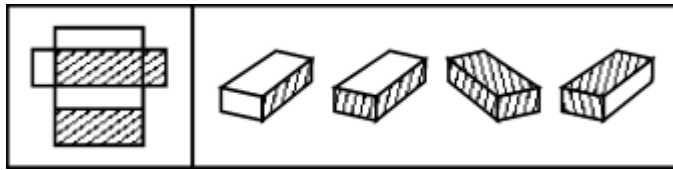


A B C D

《2011 年公务员考试行测考试 100 套华图真题》

(三) 在右面的 4 个图形中, 只有一个是由左边的纸板折叠而成。你需要选出正确的一个。

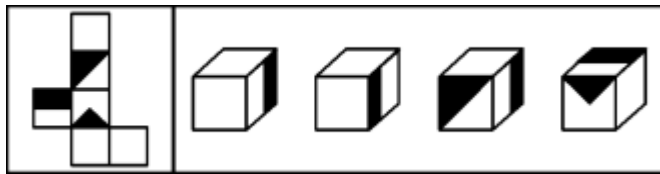
【例题】



A B C D

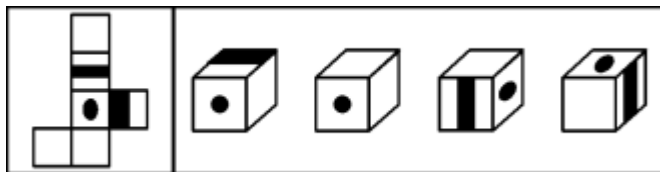
【解答】在例题中, 只有 D 可以由左边的纸板折叠而成。因此, 正确答案是 D。
请开始答题:

58.



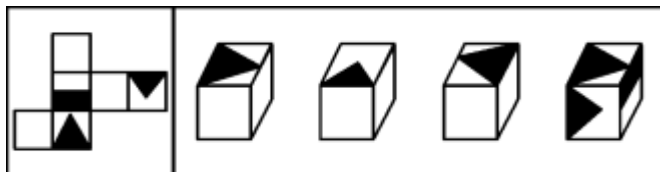
A B C D

59.



A B C D

60.



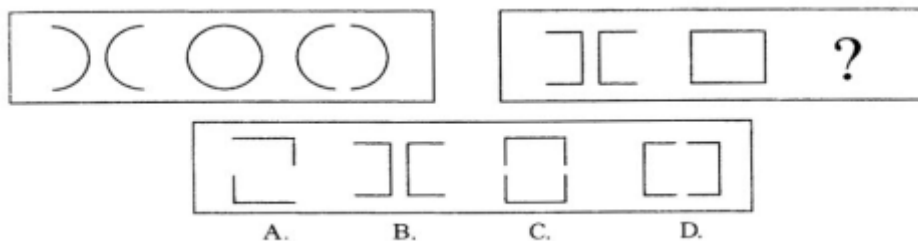
A B C D

五:

图形推理: 共 5 题, 每道题包含两套图形和可供选择的 4 个图形。这两套图形具有某种相似性, 也存在某种差异。要求你从四个选项中选择你认为最适合取代问号的一个。正确的答案应不仅使两套图形表现出最大的相似性, 而且使第二套图形也表现出自己的特征。

例题:

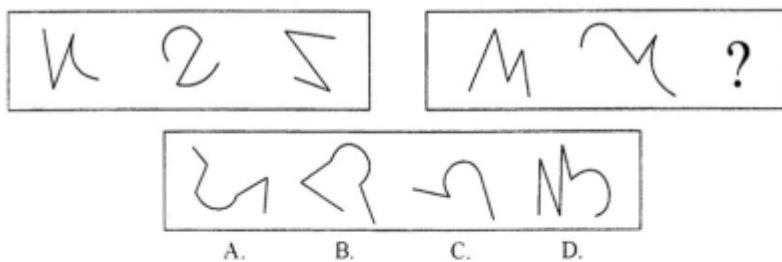
《2011 年公务员考试行测考试 100 套华图真题》



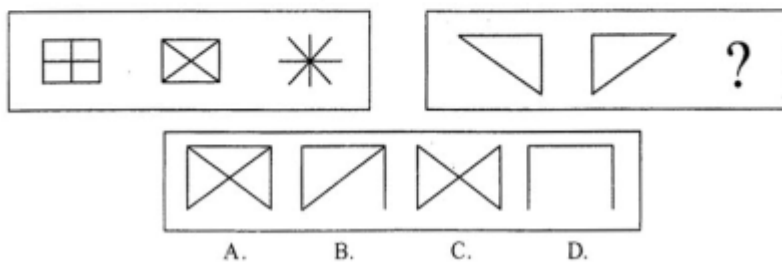
解答：正确答案为 D。因为只有 D 能使两套图形具有相似性，仅仅元素不同，一个是半圆，一个是正方形，但两组图形中元素的排列规律相同。

请开始答题：

66.

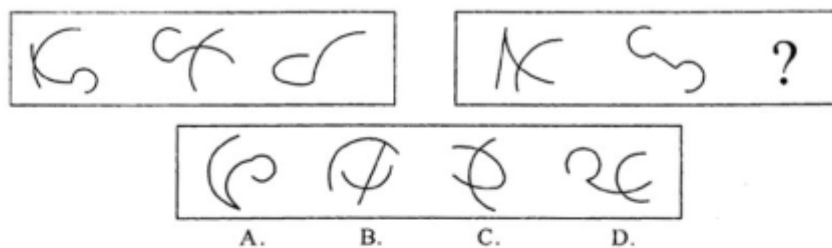


67.

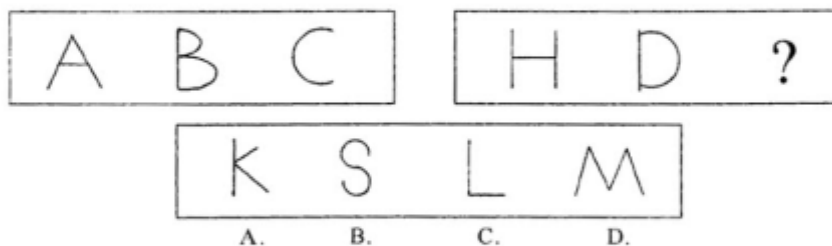


《2011 年公务员考试行测考试 100 套华图真题》

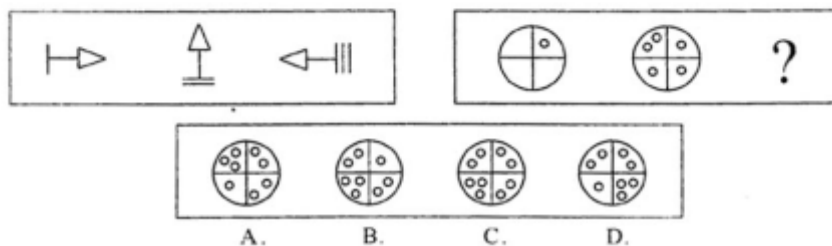
68.



69.



70.



图形推理（判断推理）答案

一： 36-45： D、 A、 C、 D、 A、 D、 C、 C、 A、 B

二： 51-60： B、 A、 A、 D、 C、 D、 C、 C、 B、 C

三： 26-35： B、 A、 D、 A、 A、 C、 A、 B、 A、 B

四： 51-60： B、 A、 A、 A、 B、 A、 D、 A、 B、 B

五： 66-70： B、 C、 C、 B、 C

资料分析：①文字资料②统计表③统计图

针对下列文字、图或表回答问题。你应根据资料提供的信息进行分析、比较、计算、处理。

一、根据下列文字材料回答 1-5 题。

最新统计数字显示，截至 2000 年底，全国党员总数已达 6451 万名，占全国人口

《2011 年公务员考试行测考试 100 套华图真题》

总数的 5.2%；女党员 1119 万名，占党员总数的 17.4%；少数民族党员 401.1 万名，占党员总数的 6.2%。

党员队伍结构不断改善，分布状况更趋合理。目前全国 35 岁以下的党员有 1439.1 万名，占党员总数的 22.3%。党员队伍中具有高中以上学历的 3237.4 万名，占党员总数的 50.2%。其中，大学本、专科学历 1319.3 万名，占 20.5%；研究生学历 41.1 万名，占 0.6%。

2000 年底，党员队伍中有工人、农牧渔民 3166 万名，占党员总数的 49.1%；各类专业技术人员 776.3 万名；机关干部 592.3 万名；事业、企业单位管理人员 618.2 万名。

据介绍，近年来，全国发展党员数量保持均衡，1990 年至 2000 年，全国共发展党员 2175.9 万名，平均每年发展党员 197.8 万名；新党员的构成、分布明显改善，去年全国发展的党员中，35 岁以下青年占 73.95%，生产、工作一线的党员约占 50%；同时女党员在党员队伍中所占比例明显增长，1995 年全国发展女党员数占新党员总数的 20.9%，2000 年达到 26.7%。入党积极分子队伍不断壮大，到 2000 年底，全国共有入党申请人 1395.4 万名，入党积极分子 764.6 万名，分别比 10 年前增加了 315.2 万名和 211.6 万名。

1. 截至 2000 年底，我国男性党员人数为：

- A. 5332 万 B. 1439 万 C. 6451 万 D. 3794 万

2. 2000 年底党员队伍中，具有大学本、专科学历以上的党员约有：

- A. 3237.4 万 B. 2157.2 万 C. 1360.4 万 D. 784.8 万

3. 2000 年底事业企业单位管理人员中的党员人数占全国党员总数的比例约为：

- A. 9.2% B. 9.6% C. 9.3% D. 9.8%

4. 2000 年全国新发展的女党员占新党员总数的比例与 1995 年相比，高出了几个百分点：

- A、5.6 B、7.2 C、6.4 D、5.8

5. 1990 年底全国共有入党申请人和入党积极分子各多少人：

- A. 1080.2 万 627.8 万 B. 897.6 万 627.8 万
C. 1080.2 万 553 万 D. 897.6 万 553 万

二、根据下列文字和图表回答 6—10 题。

“九五”期间(1996—2000年),我国全面完成了现代化建设第二步战略部署:1996—2000年,我国国内生产总值(GDP)分别为67884.6亿元,74462.6亿元,78345.1亿元,81910.9亿元和89404亿元;全社会固定资产投资总额分别为22913.5亿元,24941.1亿元,28406.2亿元,29854.7亿元和32619亿元。附:“九五”期间我国经济增长率和商品零售价格增长率图:

[illegible]

Figure 1 is a combined bar and line chart showing the 'Economic Growth Rate' (represented by bars) and the 'Consumer Price Index Growth Rate' (represented by a line with square markers) from 1994 to 2000. The Y-axis represents the percentage growth rate, ranging from -5% to 25% in increments of 5. The X-axis lists the years from 1994 to 2000. The Economic Growth Rate starts at 12.6% in 1994 and declines to 8.0% in 2000. The Consumer Price Index Growth Rate starts at 21.7% in 1994 and declines to -1.5% in 2000, crossing below zero in 1998.

Year	Economic Growth Rate (%)	Consumer Price Index Growth Rate (%)
1994	12.6	21.7
1995	10.5	14.8
1996	9.6	6.1
1997	8.8	0.8
1998	7.8	-2.6
1999	7.1	-3
2000	8.0	-1.5

A. 25 %
B. 30 %
C. 35 %
D. 40 %

A. 1998 年
B. 1999 年
C. 1998 年和 1999 年
D. 2000 年

A. 29854.7 亿元 B. 32619 亿元
C. 22913.5 亿元 D. 81910.9 亿元

C、针对“九五”后期出现需求不足的迹象，我国应实施积极的财政政策和

《2011 年公务员考试行测考试 100 套华图真题》

稳健的货币政策。
D. “九五”期间，我国经济增长率出现明显的下降趋势，商品零售价格增长率的持续回落表明我国经济已进入到相当严重的通货紧缩期。

三、根据下列图表回答 11—14 题。

【例题】根据下表，回答①～②题：

博物馆四个入口处自动计数器的读数

自动计数器在不同时间的读数（人数）					
入口(时间)	7：00	8：00	9：00	10：00	11：00
1	7111	7905	8342	8451	8485
2	8432	9013	9152	9237	9306
3	5555	5921	5989	6143	6233
4	954	1063	1121	1242	1299

- ① 从早上 7：00 到 11：00 通过入口 1 进入博物馆的参观人数是（ ）。
- A. 580 B. 94 C. 1 374 D. 1 594
- ② 在早上 7：00 到 8：00 之间，通过人数最多的入口是（ ）。
- A. 1 B. 2 C. 3 D. 4

【解答】题①应为 8 485-7 111=1 374，答案是 C；

题②比较两数之间的差，差值最大的是入口 1 的两个数，故答案是 A。

20 世纪 90 年代中国出口商品结构变动情况

	出口额(亿美元)		比重(%)		1989 年—1998 年 平均增长率(%)
	1989 年	1998 年	1989 年	1998 年	
全部产品	525.4	1837.6	100.0	100.0	14.9
初级产品	150.7	206.0	28.7	11.2	3.5
食品及活动物	61.4	106.2	11.2	5.8	6.3
动植物油脂及蜡	0.9	3.1	0.2	0.2	14.7
饮料及烟类	3.1	9.8	0.6	0.5	13.6
非食用原料(燃料除外)	42.1	35.2	8.0	1.9	-2.0
矿物燃料和润滑油及有关原料	43.2	51.8	8.0	2.8	19.9
工业制成品	374.6	1631.6	71.3	88.8	17.8
机械及运输设备	38.7	502.3	7.4	27.3	33.0
化学成品及有关产品	32.0	103.2	6.1	5.6	13.9

《2011 年公务员考试行测考试 100 套华图真题》

钢铁	7.1	31.8	1.4	1.7	18.1
有色金属	4.5	25.8	0.9	1.4	21.4
纺纱和织物制品及有关产品	69.9	128.2	13.3	7.0	7.0
服装及衣着附件	61.3	300.6	11.7	16.4	19.3
旅游用品和手提包及类似品	4.0	32.6	0.8	1.8	26.3

资料来源：中国统计年鉴相关年份

11. 1998 年中国初级产品的出口额比 1989 年增加了多少亿美元：
 A. 1312.2 B. 55.3
 C. 45.3 D. 1278.2
12. 1998 年与 1989 年相比，出口比重下降的工业制成品是：
 A. 钢铁 B. 服装及衣着附件
 C. 饮料及烟类 D. 化学成品及有关产品
13. 在七类工业制成品中，1989—1998 年的平均增长率低于 20%的有几种：
 A. 5 B. 2 C. 2 D. 4
99. 全部十二类出口商品中，在 1998 年出口额最高的是：
14. 以下说法不正确的是：
 A. 在 1989 年和 1998 年，动植物油脂及蜡的出口额在各类出口商品中都是最低的
 B. 自 1989 年—1998 年，非食用原料的出口呈下降状态
 C. 1989—1998 年间，机械及运输设备的平均增长速度最快
 C. 在 1989 年，初级产品的出口额比工业制成品高

四、根据下列图表回答 15—19 题。

2001 年苏南五市与广东五市经济发展比较

城市	土地面积(平方公里)	国内生产总值(亿元)	人均国内生产总值(万元)	第一产业占 GDP 比重(%)	第三产业占 GDP 比重(%)	出口依存度(%)	城镇居民人均可支配收入(元)	农民人均纯收入(元)
苏州	8488	1760	3.04	5.2	38.0	57.9	1.515	5796
无锡	4650	1360	3.12	4.0	40.8	21.9	9454	5524

《2011 年公务员考试行测考试 100 套华图真题》

常州	4375	673	1.97	7.0	36.4	26.6	9406	4896
南京	6598	1150	2.06	5.1	47.3	41.4	8848	4311
镇江	3843	503	1.89	6.7	38.1	12.3	7698	4191
广州	3719	2674	3.80	3.6	54.0	36.0	14416	6446
东莞	2465	578	3.76	5.4	39.5	271.8	16938	7366
中山	1800	359	2.68	6.8	36.3	100.4	12803	6738
顺德	807	389	3.61	5.3	39.5	65.7	15113	5282
深圳	1949	1908	4.23	0.9	46.5	162.6	23544	9869

15. 10 城市中，土地面积最大与最小的城市分别是：
 A. 南京 镇江 B. 苏州 镇江 C. 苏州 顺德
 D. 广州 顺德
16. 2001 年深圳市城镇居民人均可支配收入比南京市高：
 A. 5558 元 B. 758 元 C. 1 5396 元
 D. 14696 元
17. 下面的描述不正确的是：
 A. 2001 年，10 城市中农民人均纯收入低于 5000 元的城市有 3 个
 B. 总的来看，广东五市经济发展的出口依存度高于苏南五市
 C. 2001 年，广东五市的国内生产总值大于苏南五市的国内生产总值
 D. 广州市的人均国内生产总值在 10 城市中处于首位
18. 根据上表，我们可以推算出 2001 年广州市第二产业的产值约为：
 A. 1134 亿元 B. 1144 亿元 C. 997.6 亿元
 D. 1096.8 亿元
19. 如果 2001 年南京市的城镇居民人均可支配收入比 2000 年增长了 7.5%，那么 2000 年南京市的城镇居民人均可支配收入约为：
 A. 8276 元 B. 8231 元 C. 8195 元
 D. 8849 元

五、根据下列文字资料，完成 20—24 题。

截至 2002 年底，全省建设银行本外币一般性存款余额为 1411.52 亿元，比年初新增 252.86 亿元，增幅为 21.82%，其中人民币一般性存款余额 1363.2 亿元(人

《2011 年公务员考试行测考试 100 套华图真题》

民币企业存款余额 776.16 亿元，新增 150.95 亿元；个人储蓄存款余额 587.04 亿元，新增 104.70 亿元)，新增 255.65 亿元，增幅为 23.08%。

截至 2002 年底，全行本外币贷款余额为 1031.29 亿元，比年初新增 250.24 亿元，其中人民币贷款余额 1020.47 亿元，新增 245.59 亿元。

2002 年全行实现中间业务收入 2.12 亿元，比上年增长 53.10%。全年完成国际结算

35.34 亿美元，比上年增加 7.02 亿美元。全年累计结售汇 23.51 亿美元，比上年增加 4.60 亿美元。实现个人外汇买卖交易 13 亿美元。累计发行龙卡 751.2 万张，实现龙卡消费交易额 21.3 亿元，比上年增加 6.8 亿元。办理速汇通业务 203.33 万笔，累计汇入汇出金额 412.19 亿元，实现手续费收入 2144.5 万元，比上年增长 79.6%。资金清算系统累计汇划业务量为 385 万笔，汇划金额 4972 亿元。审价咨询业务继续保持同业领先水平，其中造价咨询实现收入 8560 万元，比上年增长 10.51%。

截至 2002 年底，全行“一逾两呆”（即逾期、呆滞、呆账贷款）口径本外币不良贷款余额为 42.59 亿元，比年初下降 5.67 亿元；不良率为 4.13%，比年初下降 2.05 个百分点。全年全行实现本外币账面利润 17.14 亿元。

20. 2002 年初，全省建设银行人民币一般性存款余额为：

- A. 1411.52 亿
元
B. 1363.2 亿元
C. 1158.66 亿
元
D. 1107.55 亿元

21. 已知 2001 年底全省建设银行本外币贷款余额比 2001 年初增加了 132.92 亿元，则 2001 年初全行本外币贷款余额为：

- A. 648.13 亿
元
B. 732.18 亿元
C. 675.41 亿
元
D. 710.42 亿元

22. 2001 年全省建设银行实现中间业务收入约多少亿元？

- A. 0.57 亿元
B. 1.38 亿元
C. 2.05 亿元
D. 2.46 亿元

23. 下图的阴影部分最能体现 2002 年底全行人民币个人储蓄存款余额占人民币一般性存款余额的比例的是：

《2011 年公务员考试行测考试 100 套华图真题》



24. 根据资料所提供的信息，下列说法正确的是：

I：2002 年全行累计结售汇 23.51 亿美元

II：2002 年全省实行造价咨询收入 8560 万元

III：2002 年初，全行“一逾两呆”口径本外币不良贷款余额为 36.92 亿元

A. I、II B. I、III

C. II、III D. I、II、III 都正确

六、根据下列图表、文字资料，完成 25—29 题。

2001 年，在世界旅游业出现负增长的不利形势下，中国入境旅游市场继续全面增长：入境旅游人数达 8901.29 万人次，比上年增长 6.7%，其中：外国人 1122.63 万人次，比上年增长 10.5% 香港同胞 5856.85 万人次，与上年持平；澳门同胞 1577.61 万人次，比上年增长 36.7%；台湾同胞 344.20 万人次，比上年增长 10.7%。国际旅游（外汇）收入达 177.92 亿美元，比上年增长 9.7%。首次跃居世界第 5 倍。

1995 年—2001 年中国旅游产业概况表

年份	入境旅游人数(单位: 万人次)			国际旅游(外汇)收入		
	总计	外国人	港澳台同胞	旅游(外汇)收入(亿美元)	旅游(外汇)收入世界排名	发展指数(1978 年为 100)
1995	4638.65	588.67	4049.98	87.33	10	3321.7
1996	5112.75	674.43	4438.32	102	9	3880
1997	5758.79	742.8	5015.99	120.74	8	4592.7
1998	6347.84	710.77	5637.07	126.02	7	4793.4
1999	7279.56	843.23	6436.33	140.99	7	5362.7
2000	8344.39	1016.04	7326.80	162.24	7	6171.2
2001	8901.29	1122.63	×	177.92	5	6767.6

25. 上表中 2001 年港澳台同胞的入境旅游人数是用“X”表示的，“X”应为：

A.

7778.66

B. 7814.85

C. 7863.21

D. 8014.9

2

26. 1998 年我国的国际旅游(外汇)收入比 1997 年增长了：

A. 10.3%

B. 9.6%

C. 6.7

%

D. 4.4%

27. 2001 年我国的入境旅游人数比 1995 年多多少万人次？

A. 3945.12

B. 4076.37

C. 4262.64

D. 5138.06

《2011 年公务员考试行测考试 100 套华图真题》

28. 下面的描述中不正确的是:

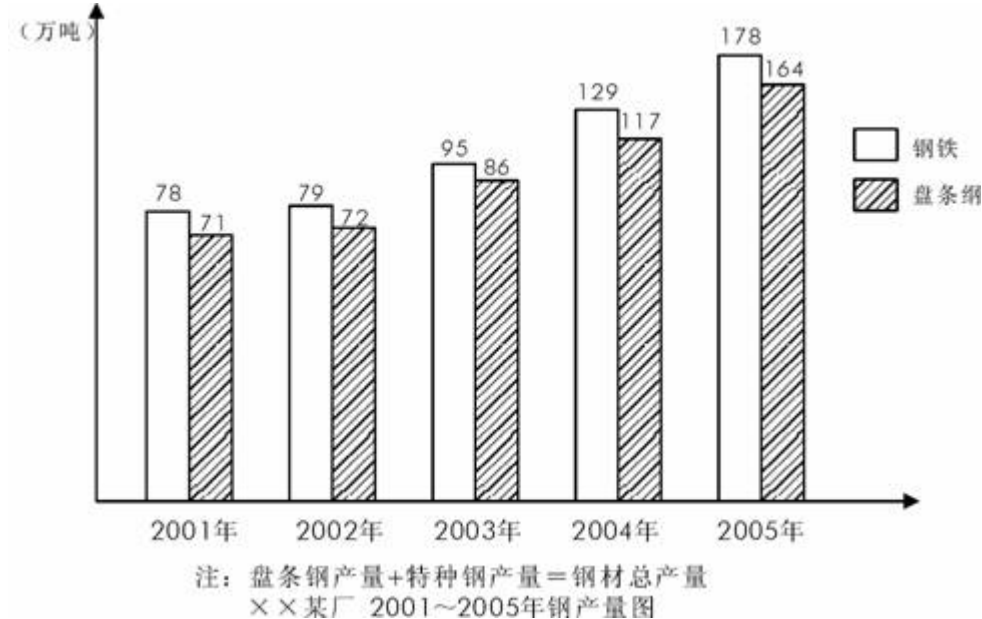
- A. 1995—2001 年我国的入境旅游人数呈逐年递增状态
- B. 1998 年我国的入境旅游外国人比 1997 年减少了 32.03 万人次
- C. 1996—2001 年, 港澳台同胞入境旅游人数的增幅都很大, 每年都比上一年增加 350 万人次以上
- D. 1995—2001 年, 我国的国际旅游(外汇)收入总值超过了 1000 亿美元

29. 1978 年我国的国际旅游(外汇)收入约为多少亿美元?

- A. 0.38 亿美元
- B. 2.63 亿美元
- C. 0.76 亿美元
- D. 3.29 亿美元

七、根据下列统计图完成 30—34 题。

自 2001 年至 2005 年, 出口特种钢材的增加带来了外汇收入的增加。自 2001 年至 2005 年, 各年度为 7900 万美元、8000 万美元、9000 万美元、1.2 亿美元、1.3 亿美元。



30. 2002 年该钢厂出口的特种钢材量占总产量的多少? ()

- A. 9%
- B. 10%
- C. 7%
- D. 6%

31. 自 2001 年至 2005 年, 该钢厂总共出口了多少吨特种钢材? ()

- A. 48 万
- B. 53 万
- C. 49 万
- D. 51 万

32. 该钢厂哪一年出口的特种钢材增加的最多? ()

- A. 2002 年
- B. 2003 年
- C. 2004 年
- D. 2005 年

《2011 年公务员考试行测考试 100 套华图真题》

33. 该钢厂出口的特种钢材增加的最少的一年的钢材总量为多少? ()
A. 78 B. 79 C. 95 D. 178
34. 2005 年比 2002 年相比, 该钢厂出口的特种钢材数量增加了多少? ()
A. 12.8% B. 100% C. 56% D. 228%

八、根据下列统计表回答 35-39 问题

亚洲各国和地区的人口 单位: 万人

国家和地区	1990	1995
(1) 日本	12 361	12 557
(2) 新加坡	271	299
(3) 中国香港	570	619
(4) 中国台湾	2 023	2 122
(5) 韩国	4 287	4 485
(6) 泰国	5 630	5 946
(7) 印度尼西亚	17 948	19 375
(8) 中国大陆	114 333	121 121
(9) 巴基斯坦	11 240	13 025
(10) 孟加拉国	10 812	12 043

35. 1990 年, 人口最少的国家比人口最多的国家少多少? ()
A. 99.8% B. 98.7% C. 40.6% D. 76.8%
36. 1990~1995 年, 人口增长率最大的国家是 ()。
A. 新加坡 B. 孟加拉国 C. 巴基斯坦 D. 印度尼西亚
37. 1990~1995 年, 人口增长量最多的国家比人口增长量最少的国家多多少? ()
A. 6760 万 B. 4980 万 C. 5780 万 D. 7680 万
38. 1990~1995 年, 中国大陆平均每年增加多少万人口? ()
A. 11313000 B. 1131.3 C. 13576000 D. 1357.6
39. 下列说法错误的是 ()。
A. 孟加拉国的人口增长率约为 11% B. 泰国平均每年增加 63.2 万人
C. 韩国的人口增长率最低 D. 新加坡的人口最少

《2011 年公务员考试行测考试 100 套华图真题》

九、根据下列统计表回答 40-44 问题

H、L 地区劳动人口分布表（前面为 H 地区数据，后面为 L 地区）

	第一产业人口所 占比例（%）	第二产业人口所 占比例（%）	第三产业人口所 占比例（%）	劳动人口（万 人）
2004 年	(50.4, 30.5)	(14.4, 34)	(35.2, 35.5)	(190, 106)
2005 年	(50, 17.5)	(16.3, 40.8)	(33.7, 41.7)	(220, 152)

40. 2005 年，地区 L 的劳动人口为地区 H 的百分之几？（ ）
A. 69 % B. 80 % C. 60 %
D. 75 %
41. 2004 年地区 H 的劳动人口比地区 L 多多少倍？（ ）
A. 0.79 B. 0.5
C. 1.79 D. 2
42. 2004 年到 2005 年，地区 L 劳动人口增幅为（ ）。
A. 150 % B. 60 % C. 140 %
D. 43 %
43. 2005 年地区 H 与地区 L 相比较，现代化较高的是哪个地区？（ ）
A. 地区 H B. 地区 L C. 总体相同
D. 无可比性
44. 地区 L，2005 年农业人口与第二产业人口的比例是多少？（ ）
A. 1 : 2.3 B. 1 : 3.3 C. 1 : 4.3
D. 1 : 4.3

十、根据下列统计表回答 45-49 问题

2005 年，国民经济保持较快增长，某地区实现国内生产总值 3478 亿元，同比增长 11.84 %；共批准外商投资 43200 个，其中外商直接投资占 83.4 %，同比增长 24 %；利用外资规模基本稳定，实现利用外资 460 亿元，占全国的 11.4 %；进出口贸易总额达 886 亿元，占全国的 18.7 %。

某地区的商业、服务网点共 1740 个，比去年增加了 240 个；就业人员 0.7 万人，同比增加了 1.6 倍。城乡人民的生活水平继续提高，在消费品零售额中，日用品类占 26.7 %，同比增加 14 个百分点；服装类占 19.3 %，同比增加 4 个百分点；文化娱乐类占 34 %，同比增加 12 个百分点；其他类占 20 %。

45. 2004 年，某地区共批准多少个外商直接投资？（ ）
A. 29055 B. 30016 C. 29016
D. 30055

《2011 年公务员考试行测考试 100 套华图真题》

17645

D. 25430

46. 2004 年, 某地区的就业人员是多少? ()

A. 0.479 万

B. 0.157 万

C.

0.269 万

D. 0.43 万

47. 假如该地区共吸引外商投资 967 亿元, 则外资的实际利用率是多少? ()

A. 40 %

B. 48 %

C.

56 %

D. 61 %

48. 2005 年, 某地区实现的国内生产总值比去年多多少? ()

A. 279.4 亿元

B. 411.8 亿元

C. 478.6

亿元

D. 368.2 亿元

49. 下列说法中, 错误的是 ()。

A. 2004 年, 在消费品零售额中, 其他类占 50 %

B. 2005 年, 我国进出口贸易总额为 4738 亿元

C. 2005 年, 全国利用外资 4035 亿元

D. 2004 年, 在所占消费品零售额的比重中, 日用品所占比重高于服装类所占比重

十一、根据下列统计表回答 50-54 问题

小明的父亲上周六买进某公司股票 1000 股, 每股 27 元, 下表为本周内每日该股票的涨跌情况 (单位: 元)

星期	一	二	三	四	五	六	每股
涨跌	+4	+4.5	-1	-2.5	-6	+2	

50. 星期三收盘时, 每股是多少元? ()

A. 34.5

B. 31.5

C. 26

D. 21

51. 本周内最高价与最低价的差是多少元? ()

A. 10.5

B. 9.5

C. 8.5

D. 4.5

52. 小明的父亲哪天将股票卖出, 获利最多? ()

A. 星期一

B. 星期二

C. 星期三

D. 星期四

53. 如果小明的父亲星期一将股票卖出, 又于星期五买入, 星期六再卖出, 他可以获利多少元? ()

A. 12000

B. 8000

C. 6000

D. 4000

54. 已知小明父亲买进股票时付了 1.5‰ 的手续费, 卖出时需付成交额 1.5‰ 的手续费和 1‰ 的交易税, 如果他在星期六将全部股票卖出, 他的收益情况如何? ()

A. 收益 860.5 元

B. 损失 879.5 元


C. 损失 883.5 元

D. 收益 889.5

《2011 年公务员考试行测考试 100 套华图真题》

元

十二、根据下列统计表回答 55-59 问题



1990~2003 年我国铜版纸市场总体走势

55. 我国铜版纸自给量最高的是 () 年。
A. 2003 B. 2001 C. 1990 D. 1995
56. 1990 年我国铜版纸的消费量是 2003 年的 ()。
A. 10 % B. 17 % C. 25 % D. 26.7 %
57. 我国铜版纸进口最多的一年进口量是 ()。
A. 50 万吨 B. 90 万吨 C. 100 万吨 D. 108 万吨
58. 2003 年我国铜版纸出口量比进口量少 ()。
A. 51 % B. 40 % C. 30 % D. 22 %
59. 下列判断正确的是 ()。
A. 我国铜版纸消费量有逐渐增大的趋势
B. 我国铜版纸国内产量逐渐增大
C. 我国铜版纸出口量有逐渐减小的趋势
D. 我国铜版纸进口量有逐渐增大的趋势

十三、根据下列统计表回答 60-69 问题

根据中国汽车工业协会统计,截止到 2004 年 6 月底,我国汽车累计产量为 267.71 万辆,同比增长 27.10%,累计销售汽车 255.36 万辆,同比增长 24.15%,与上年同期相比,产销增幅同比分别降低了 7.03 个百分点和 7.84 个百分点。

据中国汽车工业协会统计,2004 年 1~7 月,我国汽车累计产量突破 300 万辆,达到 303.05 万辆,同比增长 23.5%。累计销售 289 万辆,同比增长 20.6%,产销率为 95.6%。

其中,轿车累计产销 144.89 万辆和 133.55 万辆,同比分别增长 30.2%和 27.1%;

《2011 年公务员考试行测考试 100 套华图真题》

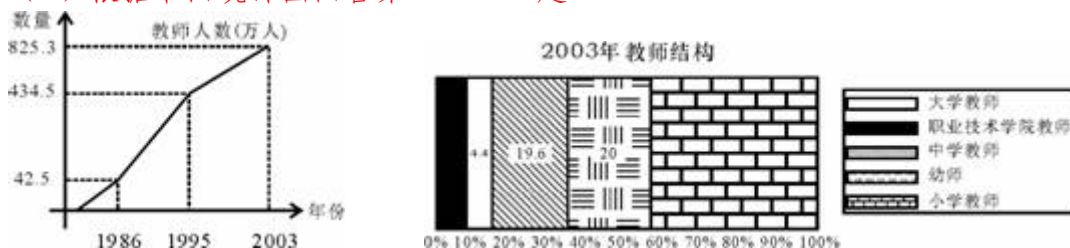
客车累计产销 73.37 万辆和 70.84 万辆，同比分别增长 20.9% 和 10.1%；载货车累计产销 84.78 万辆和 85.40 万辆，同比分别增长 15.7% 和 20.4%。

与上年同期相比，整体上汽车产销仍然保持了 20% 以上的较快增长速度。前 7 个月汽车产量已接近 2000 年全年产量，其中轿车产量更是比 2000 年全年轿车产量多出近 40 万辆。

60. 2004 年 7 月我国汽车的产量是多少万辆？（ ）
 A. 35.34 B. 33.64 C. 27.10 D. 24.15
61. 2003 年 1~7 月，我国轿车的产量是（ ）万辆。
 A. 110.65 B. 111.28 C. 101.13 D. 207.59
62. 2000 年全年轿车产量是（ ）万辆。
 A. 33.37 B. 30.84 C. 104.89 D. 93.55
63. 2003 年 1~7 月，我国汽车的产销率是（ ）。
 A. 97.66% B. 98.97% C. 99.1% D. 97.97%
64. 客车产量占汽车总产量的百分比用图形表示，是下列（ ）。



(4) 根据下面统计图回答第 131~135 题:



65. 与 1986 年相比，1995 年我国教师人数增加了（ ）。
 A. 6 倍 B. 7 倍 C. 8 倍 D. 9 倍
66. 2003 年教师中所占比重最大的是（ ）。
 A. 大学教师 B. 中学教师 C. 幼师 D. 小学教师
67. 2003 年，我国中学教师有（ ）。
 A. 16175.88 人 B. 161758800 人 C. 1617588 人 D. 16175880 人
68. 2003 年我国幼师比大学教师多（ ）万人。

《2011 年公务员考试行测考试 100 套华图真题》

A. 12875 B. 128.75 C. 125.43 D. 123.86

69. 下列说法正确的是（ ）。
- A. 1986 年我国教师数量比 2003 年少 95%
 - B. 我国教师中人数最少的是职业技术学院教师
 - C. 我国小学教师占教师比例的 50%
 - D. 我国小学教师有 217.2 万人

十四、根据下列统计表回答 70-74 问题

2001 年部分沿海省市国民经济主要指标

(一)

2001 年部分沿海省市国民经济主要指标

省市名	国内生产总值 (亿元)	人均国内生产总值 (元)	出口总值 (亿美元)	进口总值 (亿美元)	全社会固定资产投资总额 (亿元)	社会消费品零售总额 (亿元)	城镇居民人均可支配收入 (元)	农村居民人均纯收入 (元)
上海	4950.8	37300	276.3	332.7	1994.7	1861.3	12883	5850
天津	1827	19986	95	86.9	705	832.7	8959	4825
辽宁	5033.1	12041	111.1	88	1421	2034.9	5797	2558
山东	9438.3	10465	181.29	108.3	2778.44	2834.92	7101.08	2804.51
江苏	9511.91	12922	288.8	224.8	3303.0	2868.99	7375	3785
浙江	6748.15	14655	229.77	98.22	2776.69	2555.46	10465	4582
福建	4253.68	12362	139.22	87.04	1134.48	1499.46	8313	3381
广东	10557	13730	954.2	810.7	3547	4515.3	10415	3770

70. 2001 年浙江省的国内生产总值比上海市多多少亿元?
- A. 1797.35 B. 1897.35
 - C. 1798.35 D. 1898.35
71. 进出口呈现顺差的省市有:
- A. 1 B. 2 C. 6 D. 7
72. 全社会固定资产投资总额最多的两个省市的投资总额之和为:
- A. 6850 亿元 B. 6081.44 亿元
 - C. 6079.69 亿元 D. 5555.13 亿元
73. 城镇居民人均可支配收入与农村居民人均纯收入差距最大的省市是:
- A. 广东省 B. 浙江省 C. 山东省 D. 上海市
74. 以下说法中, 不正确的是:
- A. 广东省的出口总值居第一位
 - B. 上海市的人均国内生产总值超过其他任何两个省市的人均国内生产总值之和

《2011 年公务员考试行测考试 100 套华图真题》

- C. 除了人均国内生产总值, 天津市的其他经济指标都是最低的
D. 浙江省的社会消费品零售总额居第四位

十五、根据下列统计表回答 75-84 问题

1999 年, 杭州市全市 GDP 达 1225 亿元, 同比增长 10.2%, 已连续第 9 年保持两位数增长; 全市人均 GDP 为 2414 美元, 比上年增长 9.5%, 其中市区人均 GDP 达到 4171 美元, 继续

在全国各大城市中名列前茅。市区居民恩格尔系数为 42.2%, 比上年下降 2.5 个百分点。

附: 1999 年杭州市主要经济数据表:

类 别	金 额	比上年增幅
国内生产总值 (GDP)	1225 亿元	10.2%
外贸出口总额	50.79 亿美元	15%
财政总收入	102.66 亿元	7.3%
农村人均纯收入	4209 元	5.1%

75.1 998 年杭州市人均 GDP 约为多少美元?

- A. 2205 B. 2250 C. 2287 D. 2310

76. 按人民币: 美元 8.27: 1 的汇率计算, 可知 1999 年杭州市人口总数约为:

- A. 575 万 B. 599 万 C. 613 万 D. 627 万

77. 按上述汇率计算, 1999 年杭州市区人均 GDP 达到多少元(人民币)?

- A. 19964 B. 20877 C. 31055 D. 34494

78. 1999 年杭州市农村人均纯收入比 1998 年增加了多少?

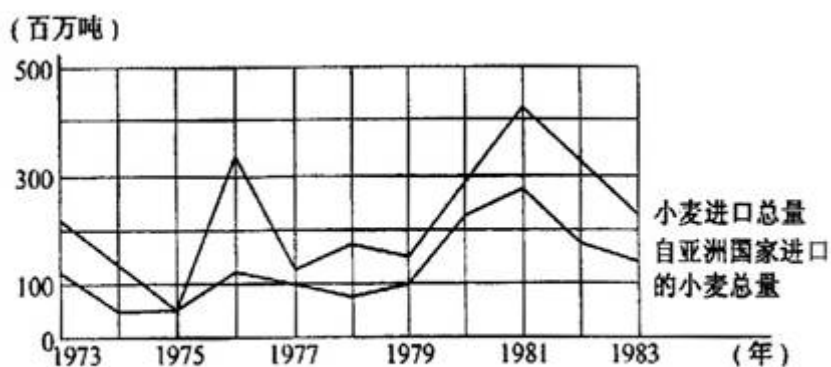
- A. 205 元 B. 215 元 C. 225 元 D. 235 元

79. 下列叙述中, 错误的是:

- A. 1998 年杭州市财政总收入不到 96 亿元
B. 1998 年杭州市外贸进出口总额不到 45 亿美元
C. 1999 年杭州市区人均 GDP 1 比全市人均 GDP 高出约 73 个百分点
D. 1999 年杭州市区人均 GDP 的增长速度大于全市 GDP 的增长速度

(三)

《2011 年公务员考试行测考试 100 套华图真题》



图：某国 1973—1983 年小麦进口量

80. 从 1973 年到 1977 年中，该国大约共从亚洲国家进口多少吨小麦？
A. 450 万 B. 400 万 C. 350 万 D. 300 万
81. 该国小麦年进口量大于 200 百万吨的年份有几个？
A. 8 B. 6 C. 5 D. 7
82. 该国在哪一年，自亚洲以外其他国家进口的小麦数量最多？
A. 1976 年 B. 1978 年 C. 1981 年 D. 1983 年
83. 该国在进口小麦几乎完全依赖于从亚洲进口的这一年中，进口的小麦总量比上一年减少了几个百分点？
A. 16 B. 20 C. 56 D. 70
84. 在小麦进口量最多的那个年份里，从亚洲进口的小麦量与从亚洲以外的其他国家进口的小麦量之比约为：
A. 1:3 B. 1:2 C. 2:1 D. 3:2

参考答案：

资料分析：①文字资料②统计表③统计图 答案：

20: ACBDC BBCAD BDDDC DDABC

21-40: A BCBA DCDBA CCBBA CADCA

41-60: ADBA A CBDDA BBCDA BDDAA

61-84: BCDDD DCBA A DADCA CDADA BACC

公务员行政职业能力测验复习－演绎推理

每题给出一段陈述，这段陈述被假设为正确的，不容置疑的。要求你根据这段陈述，选择一个答案。注意，正确的答案应与所给的陈述相符合，不需要任何附加说明即可从陈述中直接推出。

《2011 年公务员考试行测考试 100 套华图真题》

例题：

对于穿鞋来说，正合脚的鞋子比过大的好。

不过，在寒冷的天气，尺寸稍大点的毛衣与正合身的毛衣的差别不大。这意味着：

- A. 不合脚的鞋不能在冬天穿
- B. 毛衣的大小只不过是式样的问题，与其功能无关
- C. 不合身的衣服有时仍有穿用价值
- D. 在买礼物时，尺寸不如用途那样重要

解答：只有 C 是可以从陈述中直接推出的，故选 c。

请开始答题：

1. 有甲、乙、丙、丁四个果园，其中甲园的各种果树都能在乙园找到，丙园的果树种类包含所有的乙园果树种类，而丙园中有一些果树在丁园也有种植，则：

- A. 甲园中有二些果树能在丁园中找到
- B. 甲园中所有的果树都能在丙园中找到
- C. 丁园中所有的果树都能在乙园中找到
- D. 乙园中有一些果树能在丁园中找到

2. 在一次社会调查中发现，A 市的人均国民生产总值高于 B 市和 c 市，而 D 市的人均国民生产总值比 C 市高又低于 E 市，由此可以推出：

- A. E 市的人均国民生产总值高于 A 市
- B. B 市的人均国民生产总值高于 C 市
- C. A 市的人均国民生产总值高于 D 市
- D. 在五个城市的人均国民生产总值中，C 市最多名列第四

3. 有 A、B、C、D、E 五个亲戚，其中 4 人每人讲了一个真实情况，如下：① B 是我父亲的兄弟，② E 是我的岳母，③ c 是我女婿的兄弟，④ A 是我兄弟的妻子。上面提到的每个人都是这五个人中的一个(例如，①中“我父亲”和“我父亲的兄弟”都是 A、B、C、D、E 五人中的一个)，则由此可以推出

- A. B 和 D 是兄弟关系 B. A 是 B 的妻子
- C. E 是 C 的岳母 D. D 是 B 的子女

4. 下列推理中错误的一项是：

A. 病毒都需要侵入细胞中进行复制和繁殖。这种病原体侵入到了细胞中，所以它是一种病毒。

B. 中子是一种基本粒子，而中子是不带电的，所以有些基本粒子不带电。

C. 企鹅虽是鸟类但不会飞，居住在新西兰的仙企鹅自然也是只会游泳不会飞了。

D. 吸烟者不一定都患肺癌，但不少肺癌者都有 10 年至 20 年以上的吸烟史，其中绝大多数是烟瘾过大者。所以肺癌和吸烟特别是大量吸烟有很大关系。

5. 在智囊团里有这样一个倾向：机构中每一个较低层的成员在把信息传递到上一级机构前，都对信息进行筛选、修改。这样信息被渲染或歪曲以迎合上级的期望。这种倾向的典型例子是东京湾事件。虽然玛多克斯驱逐舰发出了第二条消息以取代第一条消息，并要求给予时间对数据重新估价。但第二条消息被官僚机构截取了。中层机构的负责人没有把消息传给总统是因为他们知道他。

下面哪一条能合理地完成上文？

- A. 已经知道了第二条消息的内容
- B. 对第一条消息的内容感到满意

《2011 年公务员考试行测考试 100 套华图真题》

C. 对第一条消息的内容不感兴趣

D. 已经在第一条消息的基础上做出了决定

6. 西方每一个国家的现代化都有各自的特点。中国许多东西都有自己的传统, 这些传统与西方很不一样, 所以:

A. 中国不需要向外国学习

B. 中国现代化会自发地实现

C. 中国现代化特点与西方的现代化特点有着明显的区别

D. 中国的传统与现代化之间不存在矛盾

7. 市场是有效的资源配置方式; 市场对经济活动的反应具有客观性\直接性\灵敏性等特点, 现在世界上大多数国家都采用市场经济制度, 但是完全靠市场机制自发调节的国家是不存在的, 市场调节的滞后性\盲目性以及市场失灵等问题要求国家对国民经济进行宏观调控。所以:

A. 市场是惟一的资源配置方式

B. 市场制度自身不存在任何缺陷

C. 只要采用市场经济制度, 一国的经济就会快速发展

D. 社会主义市场经济条件下实行政府宏观调控是现代市场经济的客观要求

8. 甲、乙、丙三人是同一家公司的职员, 他们的未婚妻 A、B、C 也都是这家公司的职员。知情者介绍说: “A 的未婚夫是乙的好友, 并在三个男子中最年轻; 丙的年龄比 C 的未婚夫大。” 依据该知情者提供的信息, 我们可以推出三对夫妻分别是:

A. 甲—A, 乙—B, 丙—C B. 甲—A, 乙—C, 丙—B

C. 甲—B, 乙—C, 丙—A D. 甲—C, 乙—B, 丙—A

9. 许多研究者相信: 脑细胞中的 RNA 是记忆的生理基础, 也就是说, RNA 使我们具有记忆能力。由于某些化学物质抑制体内 RNA 的合成, 所以我们可以利用这种 RNA 抑制剂来检验上面的说法正确与否。现把 RNA 抑制剂注入那些已掌握了某些特殊反应的动物, 然后检验那些动物对所学反应的记忆情况。问: 下面哪一种检验结果最能反驳上面的说法?

A. 注射了 RNA 抑制剂后, 这些动物就学不会新的反应了

B. 注射了 RNA 抑制剂后, 这些动物忘记了原来已掌握的反应

C. 注射了 RNA 抑制剂后, 包括原已掌握的反应在内, 许多行为受到影响

D. 一些以前不能一致地对所学到的反应有所表现的动物, 在注射了 RNA 抑制剂后, 就能有所表现了

10. 在目前财政拮据的情况下, 在 A 市增加警力的建议不可取。在计算增加警力所需的经费开支时, 光考虑到支付新增警员的工资是不够的, 同时还要考虑到支付法庭和监狱新雇员的工资, 由于警力的增加带来的逮捕、宣判和监管任务的增加, 势必需要相关机构同时增员。以下哪项如果为真, 最能削弱上述论证?

A. 虽然财政状况比较紧张, 但新增警员需要的费用在整个财政支出中的比例是很小的

B. 增加一定的警力后, A 市的犯罪率会大大降低

C. 去年 B 市的警力增加了 15%, 逮捕个案增加了 37%, 判决个案增加了 9.5%

D. 可通过其他途径来承担一部分由于新增警力而带来的费用

11. 有三名国际象棋特级大师和三名国际象棋大师进行一场循环比赛, 即每一名选手都要和其他五名选手比赛。比赛计分规则如下: 击败国际象棋特级大师

《2011 年公务员考试行测考试 100 套华图真题》

可得 2 分，击败国际象棋女大师可得 1 分；国际象棋特级大师输一场失 2 分，国际象棋大师输一场失 1 分。如果；有一名国际象棋特级大师已输了两场，那么他最高可获几分？

A. 0 分 B. 1 分 C. 2 分 D. 3 分

12. 乒乓球教练组将从右手执拍的选手 R、S、T 和左手执拍的选手 L、M、N、O 中选出四名队员去参加奥运会。要求至少有两名右手执拍的选手，而且选出的四名队员都可以互相配对进行双打。已知 s 不能与 L 配对，T 不能与 N 配对，M 不能与 L 或 N 配对。若 R 不被选入队中，那么有几种不同的选法？

A. 只有一种 B. 两种 C. 三种 D. 四种

13. 几乎所有的地方国有企业都是地方专业银行的债务人。而其中的亏损企业又大都挂有地方专业银行的呆账。债权人出于对呆账变成死账的担心而反对债务人破产是一种可以理解的市场行为动机。但是，许多地方却宁愿继续给长期亏损企业贷款，继续使贷款成为已成定局的“死账”这其中的原因是：只要企业不破产，反映银行工作成绩的指标——“贷款余额”就不会下滑。从这段话中我们可以知道：

- A. 在地方专业银行的“贷款余额”中实际有相当数量的“死账”
- B. 地方专业银行反对企业破产的主要原因是担心呆账变成死账
- C. 亏损企业的破产将损害银行的长期经济利益
- D. 银行的财务利益直接影响到银行贷款工作人员的个人利益

14 在美国，献血者所献血液中的 45% 是 O 型血，O 型血在紧急情况下是必不可少的，因为在紧急情况下根本没有时间去检验受血者的血型，而 O 型血可供任何人使用。O 型血的独特性在于：它和一切类型的血都相合，因而不论哪一种血型的人都可以接受它，但是正因为它的这种特性，O 型血长期短缺。由此可知：

- A. 血型为 O 型的献血者越来越受欢迎
- B. O 型血的特殊用途在于它与大多数人的血型是一样的
- C. 输非 O 型血给受血者必须知道受血者的血型
- D. 在美国，45% 的人的血型为 O 型，O 型是大多数人共同的血型

15. 南方航空公司目前开始为旅行者提供网上订票服务。然而，在近期内，电话订票并不会因此减少。以下各项不能解释上述现象的是：

- A. 网上订票系统处于试用期，许多旅行者为了保险起见更愿意选择电话订票
- B. 目前正值旅游旺季，订票数量将大大增加
- C. 绝大多数通过电话订票的旅行者还没有条件使用网络
- D. 网上订票服务的成本大大低于电话订票，而且还具有电话订票所没有的其他服务功能

16. 要从编号为 A、B、C、D、E、F 的六个侦察员中挑选若干人去破案，人员的配备要求如下：A、B 中至少去一人；A、D 不能一起去；A、E、F 中要派两人去；B、C 都去或都不去；C、D 中去一人；若 D 不去，则 E 也不去。由此可见，被挑去的人是：

A. A、B、F B. A、B、C、F C. B、C、E D. B、C、D、E

17. 对二百只同一种类且都没患有白血病的老鼠进行试验，让它们接受相同剂量、相同强度

的某种射线的照射，然后一半的老鼠不被限制地吃它们平常所吃的食物，而另一半给它

们提供相同的食物，但量是有所限定的。结果发现，前一组有 55 只老鼠得了

《2011 年公务员考试行测考试 100 套华图真题》

白血病，而

后一组只有 3 只老鼠得了白血病。由此可知：

- A. 无论是否受到某种射线的照射，让老鼠吃它们平常所吃的食物会增加患白血病的可 能性
- B. 对任何种类的老鼠，患白血病与受到某种射线是没有关系的
- C. 通过控制这些老鼠的食物数量，可以减少它们因某种射线的照射而患上白血病的可 能性
- D. 凡是受到某种射线照射的老鼠最终一定会患上白血病

18. 为了减少汽车追尾事故，有些国家的法律规定，汽车在白天行驶时也必须打开尾灯。一般地说，一个国家的地理位置离赤道越远，其白天的能见度越差；而白天的能见度越差，实施上述法律的效果越显著。事实上，目前世界上实施上述法律的国家都比中国离赤道远。

上述断定最能支持以下哪项相关结论？

- A. 中国离赤道较近，没有必要制定和实施上述法律
- B. 在实施上述法律的国家中，能见度差是造成白天汽车追尾的最主要原因
- C. 一般地说，和目前已实施上述法律的国家相比，如果在中国实施上述法律，其效果将较不显著
- D. 如果离赤道的距离相同，则实施上述法律的国家每年发生的白天汽车追尾事故的数量，少于未实施上述法律的国家

19. 在州长任职的三年里经常被指控对女性有性别歧视的态度。然而，他已经在他的管理层的 19 个高层空缺职位中任用了 5 名妇女，她们中的所有人仍在服务，这表明州长并不是一名性别歧视者。

下列哪一个如果正确，最反对上面的结论？（ ）

- A. 州长任命的一名高层职位的女性正准备辞职
- B. 州长所在政党的纲领要求他在高层职位中至少任命 5 名女性
- C. 三年前的州长投票中，47% 的女性投票支持这位州长
- D. 州长在其管理层任命了两名黑人，两名西班牙裔美国人，一名亚裔美国人

20. 恐龙专家：一些古生物学家声称鸟类是一群叫做 dromeosaurs 的恐龙的后裔。他们求助于化石记录，结果发现，与鸟类和大多数的恐龙相比，dromeosaurs 具有的特征与鸟类更为相似。但是，他们的论述存在致命的缺点，已发现的最早的鸟类的化石比最古老的已知 dromeosaurs 的化石早几千万年，因此，古生物学家的声明是错误的。

专家的论述依赖于下面哪条假设？（ ）

- A. 具有相似的特征不是不同类型的生物在进化上相联系的标志
- B. dromeosaurs 和鸟类可能会有共同的祖先
- C. dromeosaurs 化石和早期鸟类化石的知识是完整的
- D. 已知化石揭示了鸟类和 dromemaurs 起源的确定日期

21. 一群在实验室里研究老鼠体内钙的新陈代谢的科学家发现去除老鼠的甲状旁腺可以导致老鼠血液中钙的水平比正常水平低很多，这个发现使科学家们假设甲状旁腺的功能是调节血液中的钙的水平。当钙的水平降到正常范围之下，它就升高钙的水平。在进一步的实验中，科学家们不但去除了老鼠的甲状旁腺，而且去除了它们的肾上腺，他们出人意料地发现老鼠血液内钙的水平的下降比单是去除甲状旁腺时慢很多。

下面哪一项，如果正确，能与科学家的假设相一致地解释那个出人意料的发

《2011 年公务员考试行测考试 100 套华图真题》

现? ()

- A. 甲状旁腺的缺乏能促使肾上腺增加血液中的钙水平
- B. 肾上腺与甲状旁腺在调节血液内的钙的水平时的作用是一样的
- C. 肾上腺的作用是降低血液中的钙的水平
- D. 如果只是把老鼠的肾上腺, 而没有把其他的腺移去, 这只老鼠的血液内的钙的水平将会维持不变

22. 设想一下三条鱼成群而游。一条鱼可能被捕食者 Y 看到的空间是以该鱼为圆心, Y 能看到的最远距离为半径的圆。当 Y 在这三个圆之中的一个时, 该鱼群可能受到攻击。由于三条鱼的鱼群之间距离很近, 这三个圆在很大程度上重叠在一起。

下面哪一项是从上面一段中得出的结论? ()

- A. 捕食者 Y 攻击四条鱼的鱼群的可能性比攻击三条鱼的鱼群的可能性小
- B. 整个鱼群的易受攻击性比鱼群中的每一条鱼的易受攻击性大不了多少
- C. 一条鱼能被看见的最大距离不怎么取决于鱼的大小, 而更多地取决于该鱼是否成群地游动
- D. 如果捕食者 Y 本身游在一群 Y 之中, 则 Y 能看到其他猎物的最大距离有所增加

23. 轻型实用卡车已越来越受流水作业消费者的欢迎, 他们购买这种卡车主要是因为它们具有结实的外表。然而尽管这类卡车看起来制作结实, 但是它们并不需要达到政府的汽车安全标准, 该标准规定了车顶的最低强度和汽车最低抗冲击能力。因此, 如果这类卡车遇上了一起非常严重的高速碰撞事故。这类卡车的司机就很有可能比那些符合政府标准的汽车司机更易受伤害。

上述论述依赖于下列哪个假设? ()

- A. 那些买车时只在乎汽车外表的人很可能比其他的人开车粗心
- B. 轻型实用卡车比其他类型的车辆更易卷入致使伤残的事故
- C. 卡车坚固的外表具有欺骗性, 因为他们的发动机不是特别地强劲有力
- D. 轻型实用卡车达到汽车安全标准的可能性不如那些符合标准的汽车大

24. 一政府机构出版了航空公司的信用等级, 把晚点航班比例最小的航空公司列入最高信誉等级, 这家机构的目的是要建立一个客观的方法来衡量不同航空公司在遵守出版的航空时刻表方面的相对有效性。

以下哪项如果为真, 将使得这家机构信用等级的使用无效?

()

- A. 班机经常由于糟糕的天气条件而晚点, 而某些航空公司受坏天气影响要多于其他航空公司
- B. 所有航空公司的班机时刻表允许班机有额外的时间进入或离开繁忙的机场
- C. 航空公司的职员意识到这家政府机构正在监管所有晚点的航空公司班机
- D. 当且仅当班机比预定到达时间晚到 15 分钟以上时, 才定义为班机晚点, 并且记录他们晚点超过 15 分钟的时间

25. 最近几年, 北亚的气候普遍比较凉。但是, 在北亚的日平均气温和湿度比正常水平稍高的那段时间内, 那儿生长的庄稼的产量却显著增加。在下个世纪, 在那一段时间内获得的增加的日平均气温和湿度将有望成为下个世纪的正常状态。然而科学家预测。在下个世纪大多数地区的庄稼的年产量会下降。

下面哪一点, 如果正确, 最能有助于解决以上信息中的矛盾? ()

《2011 年公务员考试行测考试 100 套华图真题》

A. 即使南亚地区的日平均气温和湿度都比现在有所增加后,那儿的庄稼产量也有望保持不变

B. 任何有关温度和湿度的增加,都伴随着大气中二氧化碳含量的升高,二氧化碳对农作物的呼吸是至关重要的

C. 北亚最近几年的气候普遍太冷太干燥使得许多庄稼害虫不能大规模地生长

D. 在亚洲的许多地方,气候变得温暖湿润致使每年的降雨量增加,从而使大多数的可食作物茂盛地生长

26. 在某次税务检查后,四个工商管理人员有如下结论:

甲:所有个体户都没纳税。

乙:服装个体户陈老板没有纳税。

丙:个体户不都没有纳税。

丁:有的个体户没纳税。

如果四人中只有一个断定属实,则以下哪项是真的? ()

A. 甲断定属实,陈老板没有纳税 B. 丙断定属实,陈老板纳了税

C. 丙断定属实,但陈老板没纳税 D. 丁断定属实,陈老板未纳税

27. 在某国进行的人口普查中,婚姻状况分为四种:未婚、已婚、离婚和丧偶。其中,已婚分为正常婚姻和分居;分居分为合法分居和非法分居;非法分居指分居者与人非法同居;非法同居指无婚姻关系的异性之间的同居。普查显示,2003 年,非法同居的分居者中,女性比男性多 100 万。

如果以上调查及数据都是真实的,并且上述非法同居者都是该国人,则以下关于该国的断定哪些必为真? ()

I. 与分居者非法同居的未婚、离婚或丧偶者中,男性多于女性。

II. 与分居者非法同居的人中,男性多于女性。

III. 与分居者非法同居的分居者中,男性多于女性。

A. 仅 I B. 仅 III C. I、II 和 III D. I 和 II

28. 现在国土的概念已不仅限于陆地,领海领空同为国家主权范围。按照现有国际法,沿某国海岸线延伸 200 海里范围内的岛屿为该国所有,因而许多国家展开了争夺岛屿的斗争。我国的南沙群岛被东南亚各国侵占,可见 ()。

A. 中国领土过多,管不过来

B. 这是战争的前奏

C. 东南亚各国国力贫弱,以争夺新国土来扩充资源

D. 南沙群岛与东南亚许多国家相邻

29. 一位海关检查员认为,他在特殊工作经历中培养了一种特殊的技能,即能够准确的判定一个人是否在欺骗他。他的根据是,在海关通道执行公务时,短短的几句话就能使他确定对方是否可疑;而在他认为可疑的人身上,无一例外地都查出了违禁物品。

以下哪项如果为真,能削弱上述海关员检查员的论证? ()

I. 在他认为不可疑而未经检查的入关人员中,有人无意地携带了违禁物品。

II. 在他认为不可疑而未经检查的入关人员中,有人有意地携带了违禁物品。

III. 在他认为可疑并查出违禁物品的入关人员中,有人是无意地携带了违禁物品。

A. 只有 I B. 只有 II C. 只有 III D. 只有 II 和 III

30. 桌子上摆着金匣子、银匣子和铜匣子。金匣子上写着一句话:“珠宝不在

《2011 年公务员考试行测考试 100 套华图真题》

此匣中”，银匣子上写着一句话：“珠宝在金匣中”，铜匣子上写着一句话：“珠宝不在此匣中”。

现已知道，这三句话中，只有一句话是真的，那么（ ）。

- A. 珠宝在金匣中 B. 珠宝在银匣中
- C. 珠宝在铜匣中 D. 珠宝不在任何匣中

31. “子非鱼，安知鱼乐。”

“子亦非鱼，安知鱼之非乐。”

下面哪项与上文的对话最为类似？（ ）

- A. “你为什么不去送行？”“你怎么知道我没有去呢？”
- B. “你怎么负的伤？”“我怎么回忆得起当时的情况呢？”
- C. “你为什么到军事禁区里来？”“难道我不能到这里来看看吗？”
- D. “唐玄宗来烧过香，你有什么证据？”“你又有什么证据说唐玄宗没来烧过香？”

32. 在中国，能不能做好各项工作，很大程度上取决于干部能不能一身正气，起带头作用。天津市和平区在建设精神文明的过程中，首先抓的是由群众评选十佳公仆这个活动。这有效地提高了干部的素质。因此（ ）。

- A. 和平区的干部个个都清正廉洁
- B. 和平区的经济发展水平在天津市是最高的
- C. 和平区在精神文明建设中，克服了一个又一个困难，成果丰硕
- D. 和平区一劳永逸地解决了精神文明建设问题

33. 传统的问题解决方法强调以往的知识经验，而现代问题解决方法则强调从达到目标的所有可能途径中选择出最佳的一种，由于两者均不能成功地解决所有问题，因此（ ）。

- A. 应该根据不同的问题选择一种方法
- B. 根据实际情况来决定用适合的方法，或者传统或者现代
- C. 不能只采用一种方法
- D. 没有完全满意的解决方法

34. 罗素是数学家，罗素是哲学家。

可见（ ）。

- A. 罗素要么是数学家，要么是哲学家 B. 有些数学家是哲学家
- C. 数学家都是哲学家 D. 哲学家都是数学家

35. 北美自由贸易协定规定：在 5 年内，美国对墨西哥出口 3/4 的零件的关税将取消，立即取消 2.5 亿美元美国向墨西哥出口的纺织品和服装的贸易限制，将在 6 年内取消对另外 7 亿美元的纺织品和服装的限制。墨西哥开放金融服务市场，允许美国银行和证券公司建立独资机构，允许目前的公司到 1996 年获得 100% 的所有权。可见（ ）。

- A. 墨西哥将成为美国的第一大出口市场
- B. 墨西哥将成为美国具有极大潜力的出口市场
- C. 墨西哥的纺织业与服装业将被美国商品挤垮
- D. 美国将控制墨西哥的金融业

36. 根据男婴出生率，甲和乙展开了辩论。

甲：人口统计发现一条规律：在新生婴儿中，男婴的出生率总是摆动于 22 / 43 这个数值，而不是 1/2。

乙：不对，许多资料都表明，多数国家和地区，例如苏联、日本、美国、西

《2011 年公务员考试行测考试 100 套华图真题》

德，以及我国的台湾省都是女人比男人多。可见，认为男婴出生率总在 22 / 43 上下波动是不成立的。

试分析甲乙的对话，指出下列选项中哪一个能说明甲或乙的逻辑错误？（ ）

- A. 甲所说的统计规律不存在
- B. 甲的统计调查不符合科学
- C. 乙的资料不可信
- D. 乙混淆了概念

37. 罗伯特、欧文、叶赛宁都新买了汽车，汽车的牌子是奔驰、本田、皇冠。他们一起来到朋友汤姆家里，让汤姆猜猜他们三人各买的是什么牌子的车。汤姆猜道：“罗伯特买的是奔驰车，叶赛宁买的肯定不是皇冠车，欧文自然不会是奔驰车。”很可惜，汤姆的这种猜法，只猜对了一个。

据此可以推知（ ）。

- A. 罗伯特买的是本田车，欧文买的是奔驰车，叶赛宁买的是皇冠车
- B. 罗伯特买的是奔驰车，欧文买的是皇冠车，叶赛宁买的是本田车
- C. 罗伯特买的是奔驰车，欧文买的是本田车，叶赛宁买的是皇冠车
- D. 罗伯特买的是皇冠车，欧文买的是奔驰车，叶赛宁买的是本田车

38. 为了防止利益冲突，国会可以阻止高级政府官员离开政府后的三年内接受说客的职务。然而一位官员断言，这个限制是不幸的。因为它将阻止高级官员三年的谋生之道。

这位政府官员的结论逻辑依靠以下哪条假设？（ ）

- A. 法律不应限制前政府官员的行为
- B. 说客主要由曾在政府担任高级官员的人来担任
- C. 政府的低级官员离开政府后不经常担任说客
- D. 高级官员离开政府后只能以说客谋生

39. 泰山电影院实行对中小学生购票半价优惠，这实际上是吸引顾客的一种经营策略，电影院并没有实际让利，因为当某场电影的满座率超过 90% 时，就停售当场的学生优惠票，而在目前电影业不景气的情况下，电影院的满座率很少超过 90%。有座位空着，何不以优惠价促销它呢？

以下哪项如果是真的，将最有力地削弱上述论证？（ ）

- A. 绝大多数中小观众并不是因为票价优惠才选择泰山电影院看电影的
- B. 泰山电影院实施学生优惠价的 7 月份的营业额比未实行优惠价的 2 月份增加了 30%
- C. 实施学生优惠票价是表示对教育青少年的一种重视，不应从功利角度对此进行评价
- D. 泰山电影院在实施学生优惠价的同时，实施早、午场优惠价

40. 主人每天早晨给小猴子三颗荔枝，晚上四颗，小猴子很不高兴。于是主人很大方地说：“好吧！从明天起早晨给你四颗，晚上三颗。”小猴子开心极了。

下列哪项与上述寓言有相同的欺骗手法？（ ）

- A. 许多厂家为了推销自己的产品，常常给对方经办人员 5% 左右的回扣，以此为诱饵，增加对方的订货
- B. “佳美”羊毛衫零售价一般是 200 元，但销路很不好，某一商店突发奇招，在柜台前贴一张海报：佳美羊毛衫，原价 250 元，现价 200 元，八折优惠。从此门庭若市
- C. 张某为实现自己的非分之想，给领导李某 1 万元好处费，结果是李某开心，张某称心
- D. 某烟贩销售假“红塔山”，8 元一包，并谎称是批发价，结果顾客抢购如

《2011 年公务员考试行测考试 100 套华图真题》

潮

41. 在对某生产事故原因的民意调查中, 70% 的人认为是设备故障; 30% 的人认为是违章操作; 25% 的人认为原因不清, 需要深入调查。

以下哪项最能合理地解释上述看来包含矛盾的陈述? ()

- A. 被调查的有 125 人
- B. 有的被调查者后来改变了自己的观点
- C. 有的被调查者认为事故的发生既有设备故障的原因, 也有违章操作的原因
- D. 很多认为原因不清的被调查实际上有自己倾向性的判断, 但是不愿意透露

42. 甲、乙、丙、丁四人涉嫌某案被传讯。

甲说: 作案者是乙。

乙说: 作案者是甲。

丙说: 作案者不是我。

丁说: 作案者在我们四人中。

如果四人中有且只有一个说真话, 则以下哪项断定成立? ()

- A. 作案者是甲 B. 作案者是乙
- C. 作案者是丙 D. 题干中的条件不足以断定谁是作案者

43. 以下一组字母是一组常用英语词的第二个字母, 请推理其下一个字母:

N, W, H, O, I, I, ——

- A. F B. E C. A D. K

44. 某地有两个奇怪的村庄, A 庄的人在星期一、三、五说谎, B 庄的人在星期二、四、六说谎。在其他日子他们都说实话。一天, 外地的孙铁来到这里, 见到两个人, 分别向他们提出关于日期的问题。两个人都说: “前天是我说谎的日子。” 如果此两人分别来自 A、B 两庄, 那么最可能为真的是:

- A. 这一天是星期日或星期五 B. 这一天是星期六或星期三
- C. 这一天是星期四或星期二 D. 这一天是星期三或星期一

45. 某日, A 夫妇邀请了三对夫妇来吃饭, 他们分别是 B 夫妇、C 夫妇和 D 夫妇。用餐时, 他们八人均匀地坐在一张圆桌旁, 且只有一对夫妇是被隔开的, 现已知 I: A 太太对面的人是坐在 B 先生左边的先生。 II: C 太太左边的人是坐在 D 先生对面的一位女士:。 III: D 先生右边的人是位女士, 她坐在 A 先生左边第二位置上的女士的对面。问哪对夫妇在安排座位时被隔开了:

- A. A 夫妇 B. B 夫妇 C. C 夫妇 D. 夫妇

46. 四个人在谈论老田的存款。甲说: “老田至少有五千元存款。” 乙说: “不对, 至少有一万元。” 丙说: “他的存款不到两万。” 丁说: “老田的存折上最少有一百元钱。” 实际上他们只有一个人说得对。据此, 可以得到:

- A. 甲说得对 B. 丁说得对
- C. 老田的存款连一百元钱都不到 D. 老田的存款在五千元到两万元之间

47. 在美国, 企业高级主管和董事们买卖他们手里的本公司股票是很普遍的。一般来说, 某种股票内部卖与买的比率低于 2 / 1 时, 股票价格会迅速上升。近些天来, 虽然 MEGA 公司的股票价格一直在下跌, 但公司的高级主管和董事们购进的股票却九倍于卖出的股票。以上事实最能支持以下哪种预测?

- A. MEGA 股票的价格会马上上涨
- B. MEGA 股票的内部购买会马上停止
- C. MEGA 股票的价格会继续下降, 但速度放慢
- D. MEGA 股票的大部分仍将由其高级主管和董事们持有

《2011 年公务员考试行测考试 100 套华图真题》

48. 某旅馆内住着不同职业、不同国籍的 A、B、C、D 四个人，他们来自英、法、德、美四个国家，现已知德国人是医生，美国人年龄最小且是警察，C 比德国人年纪大，B 是法官且是英国人的朋友，D 从未学过医。由此可知 C 是：

A. 英国人 B. 法国人 C. 美国人 D. 不确定

49. 美国前总统林肯说：“最高明的骗子，可能在某个时刻欺骗所有的人，也可能在所有的时刻欺骗某些人，但不可能在所有时刻欺骗所有的人。”如果林肯的上述断定是真的，那么下述哪项断定是假的？

A. 林肯可能在任何时刻都不受骗
B. 不存在某一时刻有人可能不受骗
C. 林肯可能在某个时刻受骗
D. 不存在某一时刻所有的人都必然不受骗

50. 在司法审判中，所谓肯定性误判是指把无罪者判为有罪，否定性误判是指把有罪判为无罪。肯定性误判就是所谓的错判，否定性误判就是所谓的错放。而司法公正的根本原则是“不放过一个坏人，不冤枉一个好人”。某法学家认为，目前，衡量一个法院在办案中对司法公正的原则贯彻得是否足够好，就看它的肯定性误判率是否足够低。以下哪项如果为真，能最有力地支持上述法学家的观点？

A. 各个法院的办案正确率普遍有明显的提高
B. 各个法院的否定性误判率基本相同
C. 错放，只是放过了坏人；错判，则是既放过了坏人，又冤枉了好人
D. 错放造成的损失，大多是可以弥补的；错判对被害人造成的伤害，是不可弥补的

51. 据《科学日报》消息，1998 年 5 月，瑞典科学家在研究中首次提出，一种对防治老年痴呆症有特殊功效的微量元素，只有在未经加工的加勒比椰果中才能提取。如果《科学日报》的上述消息是真实的，那么，以下哪项不可能是真实的？

(1) 1977 年 4 月，芬兰科学家在相关领域的研究中提出过，对防治老年痴呆症有特殊功效的微量元素，除了未经加工的加勒比椰果，不可能在其他对象中提取。

(2) 荷兰科学家在相关领域的研究中证明，在未经加工的加勒比椰果中，并不能提取对防治老年痴呆症有特殊功效的微量元素，这种微量元素可以在某些深海微生物中提取。

(3) 著名的苏格兰医生查理博士在相关的研究领域中证明，该微量元素对防治老年痴呆症并没有特殊功效。

A. (1) B. (2) C. (3) D. (2) 和 (3)

52. 下列推理有错误的一句是：

A. 伯尔蒂昂认为人体各部分尺寸的比例是长久不变的，且因人而异的，据此可以查出重复犯罪的罪犯。有一次，他查出名叫杜邦的犯罪分子同已释放的马尔顿身体各部分比例相同，因而断定杜邦可能就是马尔顿。

B. 现场发现的烟头上有牙咬痕迹，而查出高某牙齿痕迹正好与之相同，因而推断高某可能到过现场。

C. 商店窗子被撬后什么也没有丢，但是后来查账时却发现了 6000 多元的现金缺口，因而肯定是商店贪污分子为转移注意而假造了撬窗现场。

D. 很多罪犯多次作案时，总是使用同样的方法，马某总用假支票作案，此次案犯也使用了假支票，因而此次案犯可能是马某。

《2011 年公务员考试行测考试 100 套华图真题》

演绎（逻辑）推理 答案：

1-10: B、D、B、A、B、C、D、B、B、A

11-20: D、A、C、A、D、B、C、C、B、D

21-30: C、B、D、A、C、B、D、D、B、C

31-40: D、C、B、B、B、D、D、D、A、B

41-52: C、C、B、D、C、C、A、A、B、B、D、C

数字运算

你可以在草稿纸上运算，遇到难题，你可以跳过不做，待有时间再返回来做。

例题：

84.78、59.50、121.61、12.43 以及 66.50 的总和是：

A、343.73

B、343.83

C、344.73

D、344.82

解答，正确答案为 D。实际上你只要把最后一位小数加一下，就会发现的未位是 2，只有 D 符合要求。

请开始答题：

1. $32.8+76.4+67.2+23.6-17$ 的值是 L

A、176

B、182.4

C、183

D、173

2. 已知正数 a 、 b 满足 $a+b=1$ ，则 $\sqrt{2a+1} + \sqrt{2b+1}$ 的值。

A、 $>2\sqrt{2}$

B、 $\geq 3\sqrt{2}$

C、 $\leq \sqrt{6}$

D、 $\leq 2\sqrt{2}$

3. $478 \times 365 - 1$ 的值是：

A、174473

B、174469

C、16729

D、16723

4. 少先队第四中队发动队员种蓖麻，第一天种了 180 棵，第二天种了 166 棵，第三天种了 149 棵。平均每天种了多少棵：

A、166

B、167

C、164

D、165

5. 如图一所示，平行四边形 ABCD 的周长是 28cm， $CA-AD=2\text{cm}$ ，则 AB 的长度是：

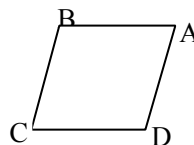
A、8cm

B、6cm

C、7cm

D、9cm

(图一)



6. 已知 $X=-2$ ， $Y=\frac{2}{3}$ ，则 $\frac{1}{2}X-2(X-\frac{1}{3}Y^2)-(\frac{3}{2}X-\frac{1}{3}Y^2)$ 的值是：

A、 $\frac{50}{9}$

B、 $-\frac{50}{9}$

C、 $\frac{58}{9}$

D、 $-\frac{58}{9}$

7. 一瓶内装有酒精，倒进 500 克以后又倒出一半，然后再倒进 500 克，这时瓶内有酒精 1200 克，问瓶内原有酒精多少克：

A、750 克

B、800 克

C、850 克

D、900 克

8. 我国粮食总产量，新中国成立前的 1936 年是 8488 万吨，1949 年比 1936 年多 2830 万吨，1989 年比 1949 年的 3 倍还多 6801 万吨。1989 年我国粮食产量是

《2011 年公务员考试行测考试 100 套华图真题》

多少万吨:

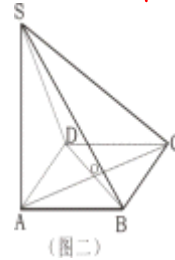
- A、42875 万吨 B、40755 万吨 C、37625 万吨 D、39875 万吨

9. 下列选项中, 值最小的是:

- A、 $\sqrt{3}$ B、 $\frac{1}{\sqrt{3}}$ C、 $\sqrt{3} - 1$ D、 $\frac{\sqrt{3}}{2}$

10. 如图二所示, 直线 SA 垂直于正方形 ABCD, AC 与 BD 相交于 O, $AB=2\sqrt{2}$ cm, $SC=5$ cm, 则点 S 到直线 BC 的距离是:

- A、 $\sqrt{15}$ cm B、4cm
C、 $\sqrt{17}$ cm D、 $3\sqrt{2}$ cm



11. $2745 \times 962 - 2746 \times 1961$ 的值是:

- A. 674 B. 694 C. 754 D. 784

12. $72 \times 22 + 64 \times 31 + 99 + 7$ 的值是:

- A. 3872 B. 3759 C. 3674 D. 35

13. “胜利”号货轮在 3 天内共航行了 150 海里, 请问货轮平均每天约航行多少千米?

- A. 92.6 千米 B. 78.4 千米 C. 120.6 千米 D. 140.5 千米

14. 小蔡去超市购物, 她买了 1.6 千克苹果, 4 磅食油和 3.8 市斤芦柑。请问小蔡买的这二种食品最重的是哪一种?

- A. 苹果 B. 食油 C. 芦柑 D. 三者一样重

15. 浙江大学紫金港校区一期工程的占地面积约为 2400 市亩, 如果用另两个常用面积单位“公顷”和“平方米”来表示, 它的面积分别约为:

- A. 80 公顷 8×10^5 平方米 B. 80 公顷 16×10^5 平方米
C. 160 公顷 8×10^5 平方米 D. 160 公顷 16×10^5 平方米

16. 一个等腰三角形, 一边长是 30 厘米, 另一边长是 65 厘米, 则这个三角形的周长是:

- A. 125 厘米 B. 160 厘米 C. 125 厘米或 160 厘米 D. 无法确定

17. 一个圆能把平面分成两个区域, 两个圆能把平面分成四个区域, 四个圆最多能把平面分成多少个区域?

- A. 13 B. 14 C. 15 D. 16

18. 两个工人必须完成一项生产任务, 第一个工人单独干, 可以在 5 天内完成, 第二个工人单独干, 可以在 4 天内完成, 如果两个人一起干, 一天以后, 他们还剩下多少任务?

- A. $\frac{4}{9}$ B. $\frac{11}{20}$ C. $\frac{1}{3}$ D. $\frac{3}{5}$

19. 右图是由 9 个等边三角形拼成的六边形, 现已知中间最小的等边三角形的边长是 a, 问这个六边形的周长是多少?

- A. 30a

32a

34a



《2011 年公务员考试行测考试 100 套华图真题》

无法计算

20. A、B 两人步行的速度之比是 7: 5, A、B 两人分别从 C、D 两地同时出发。如果相向而行, 0.5 / 小时后相遇, 如果同向而行, A 追上 B 需要几小时?

- A. 2.5 / 小时 B. 3 / 小时 C. 3.5 / 小时 D. 4 小时

21. 甲、乙两盒共有棋子 108 颗, 先从甲盒中取出 $\frac{1}{4}$ 放入乙盒, 再从乙盒取出 $\frac{1}{4}$ 放回甲盒, 这时两盒的棋子数相等, 问甲盒原有棋子多少颗?

- A. 40 颗 B. 48 颗 C. 52 颗 D. 60 颗

22. 某班有 35 个学生, 每个学生至少参加英语小组、语文小组、数学小组中的一个课外活动小组。现已知参加英语小组的有 17 人。参加语文小组的有 30 人, 参加数学小组的有 13 人。如果有 5 个学生三个小组全参加了, 问有多少个学生只参加了一个小组?

- A. 15 人 B. 16 人 C. 17 人 D. 18 人

23. 我们知道。一个正方形可以剪成 4 个小正方形, 那么一个正方形能否剪成 9 个正方形, 能否剪成 11 个正方形 (大小不一定要相同)

- A. 前者能、后者不能 B. 前者不能、后者能
C. 两者都不能 D. 两者都能

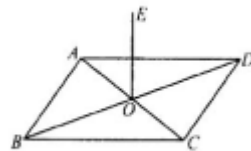
24. 如图所示, 在 $\triangle ABC$ 中。AB = AC, D 是 BC 延长线上一点, E 是 AB 上任意一点, DE 交 AC 于 F, 则:

- A. $AE < AF$
B. $AE = AF$
C. $AE < AF$ 或 $AE = AF$
D. 不确定



25. 如图所示, ABCD 是边长为 a 的正方形, AC、BD 相交于 O. OE \perp 平面 ABCD, 已知 OE = b, 则点 E 到 AB 的距离为:

- A. $\frac{1}{4}\sqrt{a^2 + 4b^2}$
B. $\frac{1}{4}\sqrt{4a^2 + b^2}$
C. $\frac{1}{2}\sqrt{a^2 + 4b^2}$
D. $\frac{1}{2}\sqrt{4a^2 + b^2}$

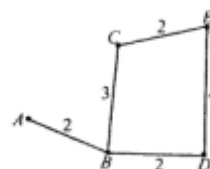


26. 从装有 100 克浓度为 10% 的盐水瓶中倒出 10 克盐水后, 再向瓶中倒入 10 克清水, 这样算一次操作, 照这样进行下去, 第三次操作完成后, 瓶中盐水的浓度为:

- A. 7% B. 7.12% C. 7.22% D. 7.29%

27. 如图所示, A、B、C、D、E 五所学校间有公路相通, 图上标出了每段公路的长度。现要选择一个学校召开一次会议, 已知出席会议的代表人数为: A 校 6 人、B 校 4 人、C 校 8 人、D 校 7 人, E 校 10 人, 问为使参加会议的代表所走的路程总和最小, 会议应选在哪个学校召开?

- A 校
B 校
C 校



《2011 年公务员考试行测考试 100 套华图真题》

D 校

28. $1 \div (2 \div 3) \div (3 \div 4) \div (4 \div 5) \div (5 \div 6)$ 的值是 ()。
- A. $\frac{1}{6}$ B. $\frac{1}{2}$ C. 3 D. 6
29. 一根铁丝用去 $\frac{2}{5}$, 再用去 8 米, 这样共用去这根铁丝的 $\frac{3}{4}$ 还多 1 米。求这根铁丝原长多少米? ()
- A. 20 B. 24 C. 30 D. 18
30. 用 0~9 这 10 个数字可以组成多少个没有重复数字的四位偶数? ()
- A. 5040 B. 4000 C. 9000 D. 2296
31. 四个工程队合筑一条渠道, 各队参加人数之比为: 甲:乙=8:7, 乙:丙=5:6, 丙:丁=14:15, 已知丁队参加 45 人, 求甲队参加的人数 ()。
- A. 35 B. 40 C. 27 D. 55
32. 1986 年春节 (2 月 9 日) 是星期日, 再过 1988^{1986} 天是星期几? ()
- A. 星期一 B. 星期日 C. 星期五 D. 星期四
33. 甲数除以 13 余 7, 乙数除以 13 余 9, 现将甲乙两数相乘, 积除以 13 应该余几? ()
- A. 16 B. 3 C. 11 D. 7
34. 有四个小朋友, 他们的年龄恰好是一个比一个大一岁, 他们年龄相乘的积是 360。其中年龄最大的一个是多少岁? ()
- A. 6 B. 12 C. 5 D. 8
35. 4 点钟后, 时针与分针在什么时刻成直线? ()
- A. 4 点 30 分 B. 4 点 45 分 C. 4 点 $54\frac{6}{11}$ 分 D. 4 点 57 分
36. 在酒与水之比是 6:1 的混合酒若干千克中掺水 3 千克, 这样, 酒与水之比成为 3:1。问原来的混合酒有多少千克? ()
- A. 20 B. 16 C. 14 D. 21
37. 一个水池子, 甲、乙两管同时开, 5 小时灌满, 乙、丙两管同时开, 4 小时灌满。如果乙管先开 6 小时, 还需要甲、丙两管同时开 2 小时才能灌满 (这时乙管关闭), 那么乙管单独灌满水池需要 () 小时。
- A. 15 B. 10 C. 20 D. 25
38. 125 名乒乓球运动员进行淘汰赛, 最后决出冠军, 共需打 () 场球。
- A. 124 B. 62 C. 98 D. 125
39. 有甲、乙两掘土机, 甲每小时比乙多掘土 60 米³, 现甲工作了 20 时, 乙工作了 18 时, 共掘土 10320 米³。问甲每小时掘土多少立方米? ()
- A. 300 B. 240 C. 260 D. 280
40. 一批苹果平均分装在 20 个筐中, 如果每筐多装 $\frac{1}{9}$, 可省下 () 只筐。
- A. 3 B. 4 C. 2 D. 1
41. 小明爷爷的年龄是一个二位数, 将此二位数的数字交换得到的数就是小明爸爸的年龄, 又知道他们的年龄之差是小明年龄的 4 倍。求小明的年龄? ()
- A. 8 岁 B. 12 岁 C. 10 岁 D. 9 岁

《2011 年公务员考试行测考试 100 套华图真题》

42. 某银行设立大学生助学贷款,分 3~4 年期,5~7 年期两种。贷款年利率分别为 6.03%、6.21%,贷款利息的 50%由国家财政贴补。某大学生预计 7 年后能一次性偿还 3 万元,问他现在大约可以贷款多少(精确到 0.1 万元)? ()

A. 2.5 万 B. 1.7 万 C. 2.3 万 D. 2.7 万

43. $1+2+3+4+5+6+\dots+20$ 的值是 ()。

A. 105 B. 210 C. 360 D. 189

44. $(36^2-18) \div 36$ 的值是 ()。

A. 20 B. 35.5 C. 19 D. 36

45. $793504+999999+999999$ 的值为 ()。

A. 2793502 B. 2793594 C. 2593520 D. 2593549

46. $895+896+897+898+899+900$ 的和为 ()。

A. 5375 B. 5385 C. 5355 D. 5185

47. 一个数是 $10\frac{1}{2}$, 另一个数比它小 2.75, 另一个数是多少? ()

A. 2.75 B. 7.55 C. 7.75 D. $10\frac{1}{2}$

48. 最大的四位数与最小的五位数相差多少? ()

A. 1 B. 10000 C. 1000 D. 1111

49. $(24 \times 0.8 \times 3.5) \div (7 \times 4.8 \times 16 \times 10)$ 的值为 ()。

A. 0.125 B. 0.0125 C. 1.25 D. 12.5

50. $18\frac{1}{4} \times 11\frac{4}{5} - 11\frac{4}{5} \times 17\frac{1}{4}$ 的值为 ()。

A. 1 B. $\frac{4}{5}$ C. $11\frac{4}{5}$ D. $1\frac{4}{5}$

51. 一个正方形边长增加 20%后, 它的面积增加百分之几? ()

A. 36% B. 40% C. 44% D. 48%

52. 今年, 小冬爸爸的年龄正好是小冬的 5 倍, 已知爸爸比小冬大 28 岁, 求小冬和他爸爸今年各多少岁? ()

A. 835 B. 735 C. 636 D. 836

53. 一个正方形操场, 面积为 2500 米^2 , 那么周长为 () 米。

A. 50 B. 100 C. 150 D. 200

54. 今有鸡兔同笼, 上有 35 个头, 下有 94 只脚, 问鸡兔各有多少只? ()

A. 鸡 23, 兔 12 B. 鸡 12, 兔 23 C. 鸡 21, 兔 9 D. 鸡 9, 兔 21

55. 有一条长 360 米的公路, 在路的一旁每隔 8 米种树一棵, 共需种树多少棵? ()

A. 45 B. 46 C. 47 D. 48

56. 两地相距 170 千米, 甲、乙两辆汽车同时从两地相向开出, 甲车每小时行 32 千米, 乙车每小时行 36 千米, 两车开出后几小时相遇? ()

A. 1.5 B. 2 C. 2.5 D. 3

57. 一件工程, A 单独做需 10 天完成, B 单独做需 15 天完成。两人合作需 () 天完成?

《2011 年公务员考试行测考试 100 套华图真题》

A. 10 B. 15 C. 6 D. 8

58. 已知 $a = b^2 + 1$, 且 a 的算术平方根为 3, 则 b 的值是:

A. $\pm 2\sqrt{2}$ B. $\pm \sqrt{10}$ C. $\pm 4\sqrt{3}$ D. 以上都不对

59. $54.54 - 0.87 - 3.54 + 7.96 - 0.13$ 的值与以下哪个数最接近:

A. 56.92 B. 56.95 C. 57.94 D. 57.99

60. 已知 $x = \frac{1}{49}$, $y = \frac{1}{7}$, 则 $7x - 3(\frac{2}{3}y^2 + \frac{1}{5}x) - (y^2 + \frac{2}{5}x) + 2y^2$ 的值是:

A. 0 B. 1 C. -1 D. $\frac{5}{49}$

61. 甲、乙、丙三人沿湖边散步, 同时从湖边一固定点出发。甲按顺时针方向行走, 乙与丙按逆时针方向行走, 甲第一次遇到乙后 $1\frac{1}{4}$ 分钟遇到丙, 再过 $3\frac{3}{4}$ 分钟第二次遇到乙。

已知乙的速度是甲的 $\frac{2}{3}$, 湖的周长为 600 米, 则丙的速度为:

A. 24 米/分 B. 25 米/分 C. 26 米/分 D. 27 米/分

62. 在一个长 16 米, 宽 12 米, 高 8 米的库房中最多可以装下多少只长 4 市尺, 宽 3 市尺, 高 2 市尺的箱子;

A. 1564 B. 1728 C. 1686 D. 1835

63. 甲容器中有浓度为 4% 的盐水 150 克, 乙容器中有某种浓度的盐水若干, 从乙中取出 450 克盐水, 放入甲中混合成浓度为 8.2% 的盐水。那么, 乙容器中的浓度是:

A. 9.6% B. 9.8% C. 9.9% D. 10.1%

64. 某城市共有四个区, 甲区人口数是全城的 $\frac{4}{13}$, 乙区的人口数是甲区的 $\frac{5}{6}$,

丙区人口数是前两区人口数的 $\frac{4}{11}$, 丁区比丙区多 4000 人, 全城共有人口:

A. 18.6 万 B. 15.6 万 C. 21.8 万 D. 22.3 万

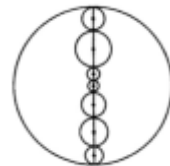
65. 某校的学生刚好排成一个方阵, 最外层的人数是 96 人, 问这个学校共有学生:

A. 600 人 B. 615 人 C. 625 人 D. 640 人

66. 如图所示, 以大圆的一条直径上的七个点为圆心, 画出七个圆的周长紧密相连的小圆。请问, 大圆的周长与大圆内部七个小圆的周长之和相比较, 结果是

A. 大圆的周长大于小圆的周长之和
B. 圆的周长之和大于大圆的周长
C. 一样长

D. 无法判断



67. 一辆汽车从 A 地到 B 地的速度为每小时 30 千米, 返回时速度为 20 千米, 则它的平均速度为: 每小时

《2011 年公务员考试行测考试 100 套华图真题》

A. 24 千米 / 小时 / 小时

B. 24.5 千米

C. 25 千米 / 小时

D. 25.5 千米 / 时

68. 商家对其新鲜葡萄进行减价促销活动, 规定每天比前一天减价 20%. 某人在出售的第二天买了 3 千克, 在出售的第三天又买了 5 千克, 两次共花了 42 元, 问如果这 8 千克葡萄第四天买只要:

A. 30.72 元

B. 31.64 元

C. 31.84 元

D. 32.08 元

69. 已知: 如图 $\triangle ABC$ 是等腰三角形, $AB = AC$, P 是 BC 上的任意一点, $PE \perp AC$, $PD \perp AB$, $BF \perp AC$, 则 $PE + PD$ 的长度之和与 BF 的长度关系为:

$PE + PD = BF$

$PE + PD > BF$

$PE + PD < BF$

不确定

70. 在直角三角形 ABC 中, 已知 $\angle ACB = 90^\circ$, $AC = 3$, $BC = 4$, PC 垂直于平面 ABC , 且 $PC = \frac{9}{5}$. 则点 P 到直线 AB 的距离为:

A. 2.6

B. 2.8

C. 3.2

D. 3

71. 如图, PA 、 PB 与圆相切于 A 和 B , C 是圆上的一点, 若 $\angle P = 80^\circ$, 则 $\angle ACB =$

45°

B. 50°

55°

D. 60°

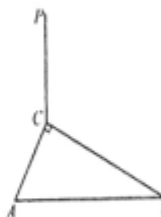
72. 用七条直线最多可画出几个不重叠的三角形?

A. 10 个

B. 11 个

C. 12 个

D. 13 个



数字运算 (数量关系) 答案

1-10: C、D、B、D、A、C、D、B、B、C

11-20: D、C、A、C、D、B、B、B、A、B

21-30: B、A、D、A、C、D、C、C、A、D

31-40: B、B、C、A、C、D、C、A、A、C

41-50: D、A、B、B、A、B、C、A、B、C

51-60: C、B、D、A、B、C、C、A、C、D

61-70: A、B、A、B、C、C、A、A、A、D

71-72: B、B

行政职业能力测验复习 - 事件排序

《2011 年公务员考试行测考试 100 套华图真题》

顶部

窗体底部

精彩世界杯 精彩进球视频

(在回答问题时,要根据自己的一般知识和对事件间的逻辑关系的理解做些补充或合理的假设,以填补缺欠的信息。)

每道题给出五个事件,每个事件是以简短语句表述的,接着给出四种假定发生顺序的数字序列,请你选择其中最合乎逻辑的一种事件顺序。

注意要以最少的假设来联系和安排这五个事件的发生顺序。

【例题】(1)收集书籍 (2)购买材料 (3)打造书架 (4)雇用木工 (5)排列书籍

A. 4-3-1-2-5 B. 1-4-2-3-5 C. 4-3-2-1-5 D. 3-2-1-5-4

【答案】 B

【解析】 此题正确答案为 B: 收集书籍(1)——雇用木工(4)——购买材料(2)——打造书架(3)——排列书籍(5),这一顺序相对于其它顺序而言最合理。

请开始答题:

1. ①月黑风高夜,杀人越货时 ②携宝乘孤帆,见财起贪念
③推司细思谋,悬赏擒疑凶 ④误事因贪杯,俯首供其罪
⑤浮尸漂江渚,惊煞夜路人

A. ①-②-⑤-③-④ B. ②-①-⑤-③-④
C. ②-①-④-③-⑤ D. ⑤-③-④-①-②

2. ①植被被破坏,黄河泛滥 ②改堵为疏,治黄根本
③泥沙沉积,水位上升 ④修筑堤坝,消除灾祸
⑤增高堤坝,遂成“悬河”

A. ②-①-③-④-⑤ B. ①-③-⑤-④-②
C. ②-④-①-③-⑤ D. ①-④-③-⑤-②

3. ①官中多谄媚,宁不事权贵 ②仗剑思报国,高歌盛唐情
③少时多乖蹇,老妪劝其行 ④寓情山水间,斗酒赋诗篇
⑤十载凤不鸣,一鸣震九鼎

A. ③-②-⑤-④-① B. ②-③-①-⑤-④
C. ③-⑤-②-①-④ D. ③-①-⑤-④-②

4. ①原恒星收缩,核反应开始,恒星发光
②恒星核收缩后最终爆炸,形成超新星,恒星结束
③恒星膨胀,发出红光,形成红巨星
④氢气耗尽,恒星核收缩,表面气体膨胀
⑤气尘云在自身引力作用下,形成原恒星

A. ③-②-⑤-①-④ B. ⑤-①-④-②-③

《2011 年公务员考试行测考试 100 套华图真题》

- C. ⑤ - ① - ④ - ③ - ② D. ⑤ - ④ - ② - ① - ③
5. ①艺术家对树根进行细致加工 ②发现奇形怪状的大块树根
③对根雕价款归属产生争议 ④经过法院协商调解解决
⑤根雕被拍卖, 价值 8 万元
A. ① - ② - ③ - ⑤ - ④ B. ② - ① - ③ - ⑤ - ④
C. ② - ① - ⑤ - ③ - ④ D. ② - ⑤ - ③ - ① - ④
6. (1) 某地风景秀丽 (2) 某地成为旅游胜地
(3) 政府决定开发旅游资源 (4) 投资修建旅游景点
(5) 吸引大批游客
A. 3—1—4—2—5 B. 1—5—3—2—4
C. 1—3—5—4—2 D. 1—3—4—2—5
7. (1) 鲜菜摆上货架 (2) 给西红柿浇水
(3) 建造玻璃暖房 (4) 给炉子添加煤炭
(5) 采摘成熟果实
A. 3—4—2—5—1 B. 5—1—3—2—4
C. 2—5—1—3—4 D. 1—2—3—5—4
8. (1) 有关部门将王村开辟为旅游景点
(2) 记者对王村的溶洞作了报道
(3) 王村的许多农民搞起了第三产业
(4) 王村发现了一个天然溶洞
(5) 许多人到王村来参观溶洞
A. 2—4—5—3—1 B. 4—1—5—2—3
C. 3—4—1—2—5 D. 4—2—1—5—3
9. (1) 同学们希望听到名家讲京戏
(2) 同学们对京戏有了更进一步的了解和喜爱
(3) 某高校开设了一门京剧课程
(4) 引起同学们极大兴趣
(5) 学校邀请著名京剧艺术家来校办讲座
A. 3—4—1—5—2 B. 2—5—4—1—3
C. 2—4—5—1—3 D. 3—2—4—1—5
10. (1) 足球滚入球门
(2) 对方前锋抬脚怒射
(3) 教练员愤怒地离开球场
(4) 报纸抨击球员打假球
(5) 守门员表现失常
A. 5—1—2—3—4 B. 2—5—1—3—4
C. 3—2—4—1—5 D. 1—4—5—3—2
11. (1) 记者与当事人电话联系
(2) 记者听说一件资助失学少年的事情
(3) 一篇感人的报道引起了反响
(4) 当事人不愿将自己的事情“曝光”
(5) 记者到学校进行调查和采访
A. 2—1—4—5—3 B. 3—4—5—1—2
C. 1—2—4—5—3 D. 2—5—3—4—1

《2011 年公务员考试行测考试 100 套华图真题》

12. (1) 大雁好几年未孵出雏雁
(2) 公园小岛上的雁卵常常被偷
(3) 大学生自愿为大雁巢值守
(4) 某企业捐资表彰大学生
(5) 小雁顺利诞生
A. 1—2—3—4—5 B. 1—2—3—5—4
C. 2—1—3—5—4 D. 2—3—5—1—4
13. (1) 推广可重复使用的竹筷 (2) 推广使用一次性木筷
(3) 对生产木筷作出限制 (4) 生产木筷出口创汇
(5) 森林资源日趋萎缩
A. 1—2—4—3—5 B. 2—4—5—3—1
C. 1—2—3—4—5 D. 2—4—3—5—1
14. (1) 攀登比斯特峰 (2) 与队伍失去联系
(3) 被采药人抬下山 (4) 遇到雪崩
(5) 昏迷冻伤
A. 1—2—4—3—5 B. 4—1—5—2—3
C. 1—4—2—5—3 D. 2—1—4—3—5
15. (1) 去钓鱼 (2) 发现很多蚯蚓
(3) 向朋友借渔具 (4) 挖坑栽树苗
(5) 改变计划
A. 4—3—1—2—5 B. 1—4—2—3—5
C. 4—2—5—3—1 D. 3—2—1—5—4
16. (1) 考古学家买了一个古陶器 (2) 一个古陶器被人发现
(3) 考古学家寻找一座古城堡 (4) 古陶器被卖给小贩
(5) 考古学家发现了一座古城堡
A. 2—4—1—3—5 B. 5—3—4—2—1
C. 1—2—4—5—3 D. 5—2—4—3—1
17. (1) 洗脸刷牙 (2) 吃早饭
(3) 起床 (4) 做早饭
(5) 出门上班
A. 3—4—2—1—5 B. 3—4—1—2—5
C. 5—4—3—2—1 D. 3—1—2—4—5
18. (1) 射门得分 (2) 玻璃被打碎
(3) 孩子们吓跑了 (4) 孩子们在踢足球
(5) 房屋主人寻找肇事者
A. 3—4—2—5—1 B. 5—2—3—1—4
C. 4—1—2—5—3 D. 1—4—2—5—3
19. (1) 中场才至 (2) 一人独往
(3) 久等不来 (4) 约好看电影
(5) 电影已开演
A. 4—3—2—1—5 B. 5—4—2—3—1
C. 4—3—2—5—1 D. 5—2—3—4—1
20. (1) 面试 (2) 岗前培训
(3) 上岗工作 (4) 通知录取

《2011年公务员考试行测考试 100 套华图真题》

- (5) 申请工作
A. 5—1—4—2—3 B. 5—1—4—3—2
C. 1—2—3—5—4 D. 1—3—2—4—5
21. (1) 效益提高 (2) 政企分开
(3) 国力增强 (4) 上缴利税增多
(5) 企业活力增强
A. 1—5—3—4—2 B. 3—4—1—5—2
C. 4—3—5—2—1 D. 2—5—1—4—3
22. (1) 打碎花瓶 (2) 父母回家
(3) 清理卫生 (4) 受到表扬
(5) 主动承认错误
A. 3—2—5—1—4 B. 1—5—2—3—4
C. 1—2—3—5—4 D. 3—1—2—5—4
23. (1) 依法查处 (2) 牟取暴利
(3) 建筑物倒塌 (4) 判刑入狱
(5) 偷工减料
A. 5—2—3—1—4 B. 2—3—1—4—5
C. 2—4—5—3—1 D. 1—4—3—2—5
24. (1) 小孩得救 (2) 追认烈士
(3) 楼房失火 (4) 冲入火海
(5) 伤重去世
A. 4—3—1—5—2 B. 3—4—1—5—2
C. 2—3—1—5—4 D. 1—3—5—4—2
25. (1) 救治无效，家属告状 (2) 身患重病，借款购药
(3) 企业胜诉，报社致歉 (4) 药品鉴定，真伪不同
(5) 记者撰文，药厂蒙冤
A. 2-4-1-5-3 B. 5-2-4-1-3
C. 2-1-5-4-3 D. 5-4-2-1-3
26. (1) 准备射门 (2) 恢复知觉
(3) 急救 (4) 防守队员犯规
(5) 比赛达到高潮
A. 1-4-5-3-2 B. 5-1-4-3-2
C. 2-3-5-1-4 D. 3-1-5-4-2
27. (1) 中场才到 (2) 一人独往
(3) 久等不来 (4) 约好看电影
(5) 电影已开演
A. 4-3-2-1-5 B. 5-4-2-3-1
C. 4-3-2-5-1 D. 5-2-3-4-1
28. (1) 点火 (2) 倒计时
(3) 腾空而起 (4) 准备就绪
(5) 进入预定轨道
A. 2-1-5-4-3 B. 5-4-3-2-1
C. 4-2-1-3-5 D. 1-2-4-3-5
29. (1) 小孩得救 (2) 追认烈士

《2011年公务员考试行测考试 100 套华图真题》

- (3) 楼房失火 (4) 冲入火海
(5) 伤重去世
A. 4-3-1-5-2 B. 3-4-1-5-2
C. 2-3-1-5-4 D. 1-3-5-4-2
30. (1) 下岗 (2) 优化组合
(3) 设备更新 (4) 重新上岗
(5) 学习新技能
A. 3-2-1-5-4 B. 2-1-3-4-5
C. 1-2-4-5-3 D. 4-5-1-3-2
31. (1) 考古挖掘 (2) 绘制壁画 (3) 建造陵墓 (4) 拼接图案 (5) 盗墓取宝
A. 3-5-1-2-4 B. 3-2-5-1-4
C. 2-3-4-5-1 D. 2-3-5-1-4
32. (1) 救治无效, 家属告状 (2) 身患重病, 借款购药 (3) 企业胜诉, 报社致歉 (4) 药品鉴定, 真伪不同 (5) 记者撰文, 药厂蒙冤
A. 2-4-1-5-3 B. 5-2-4-1-3
C. 2-1-5-4-3 D. 5-4-2-1-3
33. (1) 绿叶葱葱, 森林茂密 (2) 厂房林立, 马达轰鸣 (3) 钻机飞转, 原油滚滚 (4) 燃气发电, 远程送电
(5) 阳光明媚, 百花齐放
A. 3-4-5-1-2 B. 5-4-1-2-3
C. 1-2-3-4-5 D. 5-1-3-4-2
34. (1) 融入异族自谋出路 (2) 一支残部向西突围 (3) 跨过界河向北征战 (4) 战火熄灭回国通商
(5) 青年男子被征入伍
A. 3-5-2-1-4 B. 3-2-1-4-5
C. 5-2-3-4-1 D. 5-3-2-1-4
35. (1) 嫌疑人聚焦在印刷厂一名职工身上 (2) 死者所穿衣服完好无损 (3) 工作服前襟上有一块补丁 (4) 战火熄回国通商 (5) 青年男子被征入伍
A. 2-5-1-4-3 B. 2-5-4-3-1
C. 5-2-4-1-3 D. 5-2-3-4-1
36. (1) 大量有机物积聚 (2) 形成石油 (3) 复杂的化学变化 (4) 剧列的质变化 (5) 古浮游生物残骸沉积海底
A. 1-5-3-4-2 B. 5-4-1-2-3
C. 3-1-2-5-4 D. 1-2-3-4-5
37. (1) 诸葛亮显示出卓越的军事才华 (2) 三顾茅庐 (3) 刘备拜诸葛亮为军师 (4) 赤壁之战大败曹军
(5) 提出三分天下战略
A. 1-4-5-2-3 B. 5-4-3-2-1
C. 2-5-3-4-1 D. 1-2-3-4-5
38. (1) 商品经济出现 (2) 资本主义生产方式产生 (3) 生产力发展 (4) 资本原始积累 (5) 地球生物圈
A. 1-5-3-4-2 B. 3-4-2-5-1
C. 3-5-1-4-2 D. 1-2-3-5-4
39. (1) 生命单体 (2) 原始水生物 (3) 生物大分子 (4) 简单有机物 (5)

《2011 年公务员考试行测考试 100 套华图真题》

地球生物圈

A 4-1-2-3-5 B 3-2-4-5-1

C 4-3-1-2-5 D 3-4-2-1-5

40 (1) 工人失业增多 (2) 自由竞争 (3) 劳动生产率提高 (4) 贫富差距加大 (5) 采用先进生产技术

A 5-3-2-4-1 B 2-5-3-1-4

C 5-2-3-4-1 D 1-2-5-3-4

事件排序 (判断推理) 答案:

1-10: B、D、C、C、C、D、A、D、A、B

11-20: A、C、B、C、C、A、B、C、C、A

21-30: D、D、A、B、C、B、C、C、B、A

31-40: B、C、D、D、C、D、C、C、C、B

行政职业能力测验复习 - 类比推理

每道题给出一对相关的词, 然后要求考生在备选答案中找出一对与之在逻辑关系上最为贴近或相似的词。

【例题】努力 : 成功

A. 生根 : 发芽 B. 耕耘 : 收获

C. 城市 : 乡村 D. 原告 : 被告

【解答】此题的正确答案为 B。

题干中的两个词具有某种条件 (或因果) 关系, 即只有努力才能成功或者说努力是成功必不可少的原因之一。

请开始答题:

1. 义工 : 职员

A. 球迷 : 球员 B. 学生 : 教师

C. 初学者 : 生手 D. 志愿者 : 雇员

2. 努力 : 成功

A. 生根 : 发芽 B. 耕耘 : 收获

C. 城市 : 乡村 D. 原告 : 被告

3. 锯子 : 木头

A. 窗户 : 玻璃 B. 刀片 : 铅笔

C. 剪刀 : 布匹 D. 牙膏 : 牙刷

4. 售货员 : 顾客

A. 董事长 : 经理 B. 作家 : 读者

C. 政府 : 官员 D. 江苏 : 园林

5. 风俗 : 习惯

A. 男生 : 女生 B. 青年 : 男人

C. 江苏 : 泰州 D. 跳跃 : 动作

6. 温度计 : 气温

A. 南京 : 江苏 B. 饮料 : 矿泉水

C. 愉快 : 高兴 D. 磅秤 : 重量

7. 射击 : 手枪

《2011 年公务员考试行测考试 100 套华图真题》

- A. 投掷：石头 B. 个性：温和
C. 小桥：流水 D. 追求：光明
8. 熊猫：动物
A. 中国：国家 B. 植物：药材
C. 楚国：赵国 D. 数学：几何
9. 杀人：犯罪
A. 书法：艺术 B. 美丽：漂亮
C. 鲁迅：周树人 D. 历史：通史
10. 番茄：西红柿
A. 泰州：南京 B. 亚洲：欧洲
C. 菠萝：凤梨 D. 果酱：柑桔
11. 自行车：公路
A. 河流：芦苇 B. 飞机：天空
C. 城市：农村 D. 家具：灯具
12. 聊斋志异：蒲松龄
A. 吴承恩：西游记 B. 水浒：施耐庵
C. 黄飞虎：封神演义 D. 王勃：长恨歌
13. 红薯：地瓜
A. 铅笔：钢笔 B. 土豆：马铃薯
C. 苹果：水果 D. 扬子江：黄河
14. 老师：学生
A. 水杯：玻璃杯 B. 医生：病人
C. 电脑：计算机 D. 苏州：常州
15. 面粉：小麦
A. 大米：稻谷 B. 桔子：葡萄
C. 饼干：面粉 D. 罐头：菠萝
16. 雨果：法国
A. 园林：苏州 B. 德国：希特勒
C. 马克·吐温：美国 D. 长城：中国
17. 勤奋：成功
A. 失败：胜利 B. 破坏：损坏
C. 懒惰：灾难 D. 耕耘：收获
18. 书籍：纸张
A. 毛笔：宣纸 B. 文具：文具盒
C. 菜肴：萝卜 D. 飞机：大炮
19. 红孩儿：西游记
A. 水浒传：林冲 B. 蒲松龄：聊斋志异
C. 黄飞虎：封神演义 D. 红楼梦：林黛玉
20. 馒头：食物
A. 食品：饼干 B. 头：身体
C. 手：食指 D. 钢铁：金属
21. 水：龙头
A. 电：电线 B. 电：开关
C. 电：发电 D. 电：电灯

《2011 年公务员考试行测考试 100 套华图真题》

22. 稠密：稀疏

A. 宽敞：明亮 B. 词语：词汇

C. 伟大：平凡 D. 酷热：炎热

23. 节约：浪费

A. 成功：失败 B. 进：让

C. 软：弱 D. 复杂：深奥

24. 比尔盖茨：微软

A. 爱因斯坦：相对论 B. 法拉第：汽车

C. 牛顿：蒸汽机 D. 史蒂芬孙：蒸汽机车

25. 三令五申：孙武

A. 以卵击石：孔子 B. 欺世盗名：班固

C. 鹿死谁手：曹操 D. 退避三舍：重耳

26. 茄子：蔬菜

A. 马铃薯：土豆 B. 工人：农民

C. 猫：动物 D. 花菜：大白菜

27. 画圣：吴道子

A. 武圣：张飞 B. 医圣：华佗

C. 酒圣：杜康 D. 茶圣：陆游

28. 《静夜思》：李白

A. 《示儿》：辛弃疾 B. 《春日》：朱熹

C. 《清明》：王安石 D. 《题西林壁》：苏彻

29. 世界环境日：6 月 5 日

A. 地球日：4 月 22 日 B. 中国植树节：3 月 1 日

C. 世界无烟日：5 月 30 日 D. 世界艾滋病日：2 月 1 日

30. 上海：沪

A. 河南：豫 B. 福建：鲁

C. 江西：皖 D. 河北：赣

31. 马：牲畜

A. 蜘蛛：琥珀 B. 南瓜：瓜农

C. 铁：金属 D. 布：纺织

32. 面粉：馒头

A. 鱼：池塘 B. 鸡蛋：母鸡

C. 米：米饭 D. 茶叶：茶水

33. 黑龙江：哈尔滨

A. 湖北：湖南 B. 海南：海口

C. 四川：重庆 D. 青海：银川

34. 杭州：西湖

A. 长城：北京 B. 无锡：太湖影视城

C. 杭州：留园 D. 青岛：趵突泉

35. 聪明：愚笨

A. 强壮：瘦弱 B. 新鲜：健康

C. 黑暗：亮光 D. 水：土

36. 温暖：暖和

A. 镇定：冷默 B. 夸奖：批评

《2011年公务员考试行测考试 100 套华图真题》

- C. 珍贵：贵重 D. 愉快：烦恼
37. 士别三日：吕蒙
A. 窃符救赵：信陵君 B. 奇货可居：张骞
C. 纸上谈兵：关羽 D. 一发千钧：王安石
38. 车厢：火车
A. 手指：身体 B. 花架：花盆
C. 课本：书包 D. 茶叶：开水
39. 资治通鉴：司马光
A. 史记：司马迁 B. 汉书：班超
C. 论语：孔子 D. 春秋：老子
40. 本是同根生，相煎何太急：曹植
A. 儿童相见不相识，笑问客从何处来：贺知章
B. 羌笛何须怨杨柳，春风不度玉门关：李白
C. 野旷天低树，江清月近人：孟浩然
D. 空山不见人，但闻人语响：白居易
41. 山城：重庆
A. 羊城：银川 B. 泉城：青岛
C. 雾城：伦敦 D. 成都：花城
42. 水：火
A. 大：强 B. 苦：辣
C. 多：少 D. 笨：拙
43. 思考：思索
A. 支持：反对 B. 谦虚：谨慎
C. 鄙视：赞许 D. 奔跑：奔走
44. 衣服：人
A. 羽毛：鸟 B. 捕食：动物
C. 水：鱼 D. 勋章：军服
45. 负荆请罪：廉颇
A. 天涯海角：李白 B. 中饱私囊：和绅
C. 一丘之貉：曹操 D. 洛阳纸贵：左思
46. 老三界：陆定一
A. 巴黎圣母院：大仲马 B. 红与黑：雨果
C. 人间喜剧：马克·吐温 D. 安娜·卡列尼娜：列夫·托尔斯泰
47. 张家界：湖南
A. 九寨沟：贵州 B. 黄果树瀑布：贵州
C. 黄山：海南 D. 华山：北京
48. 鲁智深：《水浒传》
A. 红娘：《白蛇传》 B. 姜子牙：《西游记》
C. 刘备：《三国演义》 D. 司马迁：《史记》
49. 瓷都：景德镇
A. 陶都：宜兴 B. 煤都：大同
C. 钢都：宝山 D. 盐都：商丘
50. 苏东坡：宋代
A. 韩愈：唐代 B. 王安石：唐代

《2011 年公务员考试行测考试 100 套华图真题》

- C. 白居易：宋代 D. 杨万里：唐代
51. 春分：谷雨
- A. 小满：芒种 B. 处暑：秋分
- C. 大暑：立秋 D. 大雪：大寒
52. 但丁：《神曲》
- A. 拉伯雷：《巨人传》 B. 屠格涅夫：《猎人笔记》
- C. 惠特曼：《草叶集》 D. 雨果：《巴黎圣母院》
53. 鱼：卵
- A. 师傅：徒弟 B. 鸟：蛋
- C. 狮子：母狮 D. 机枪：子弹
54. 孔乙己：鲁迅
- A. 水浒传：鲁智深 B. 鲁迅：闰土
- C. 红粉世家：张恨水 D. 贾宝玉：曹雪芹
55. 丝线：刺绣
- A. 中国：国家 B. 瓷砖：镶嵌
- C. 山脉：山峦 D. 书：书籍
56. 紫竹：物学家
- A. 金属：非金属 B. 直接经验：间接经验
- C. 动物：植物 D. 蝴蝶：昆虫学家
57. 瓷器：黏土
- A. 花朵：芳香 B. 喜讯：开心
- C. 米酒：粮食 D. 名人：默默无闻
58. 普陀山：浙江
- A. 龙虎山：江西 B. 衡山：湖南
- C. 泰山：山东 D. 九华山：安徽
59. 春秋：孔子
- A. 南明：朱熹 B. 南宋：程颐
- C. 南唐：董仲舒 D. 南汉：黄宗羲
60. 森林：树林
- A. 头：身体 B. 花：菊花
- C. 山脉：山 D. 身体：身躯
61. 皮带：带扣
- A. 鞋子：鞋带 B. 子弹：步枪
- C. 手套：围巾 D. 帽子：头发
62. 啤酒：杯子
- A. 漏斗：木桶 B. 电灯：插座
- C. 眼镜：镜盒 D. 象棋：棋盘
63. 售货员：顾客
- A. 学校：学生 B. 奶奶：孙子
- C. 医生：病人 D. 工人：机器
64. 李时珍：《本草纲目》
- A. 孔子：《论语》 B. 孙武：《孙子兵法》
- C. 周瑜：《公羊传》 D. 诸葛亮：《东周列国志》
65. 出席：缺席

《2011 年公务员考试行测考试 100 套华图真题》

- A. 左：右 B. 敌人：邻居
C. 悲观：悲伤 D. 朝气：傍晚
66. 抱怨：埋怨
A. 胆怯：怯弱 B. 真挚：虚假
C. 精确：近似 D. 隐蔽：公开
67. 完璧归赵：蔺相如
A. 勾践：卧薪尝胆 B. 身在曹营：周瑜
C. 高枕无忧：孙权 D. 呆若木鸡：秦王
68. 家祭无忘告乃翁：陆游
A. 每逢佳节倍思亲：王维 B. 一片冰心在玉壶：冰心
C. 不知明镜里：李白 D. 润物细无声：杜牧
69. 长江：亚洲
A. 尼罗河：非洲 B. 亚马逊河：北美洲
C. 莱茵河：澳洲 D. 阿尔卑斯山：北美洲
70. 自然灾害：海啸
A. 生物：牛 B. 省会城市：重庆
C. 篮球：比赛 D. 轻工业：采矿业
71. 猪：猪腿树：（ ）
A. 果树 B. 绿色
C. 草地 D. 树枝
72. 中国：北京
A. 日本：东京 B. 美国：纽约
C. 泰国：老挝 D. 西班牙：海牙
73. 香蕉：水果
A. 高山：天山 B. 树枝：树木
C. 黄梨：香梨 D. 桌子：家具
74. 荷花：芙蕖
A. 嫦娥：月亮 B. 住宅：高楼
C. 兄弟：姐妹 D. 寺庙：伽蓝
75. 面条：食物
A. 苹果：水果 B. 手指：身体
C. 菜肴：萝卜 D. 食品：巧克力
76. 香瓜：木瓜
A. 绿豆：豌豆 B. 松鼠：树林
C. 鲨鱼：鲸鱼 D. 家具：灯具
77. 铅笔：笔
A. 馒头：食物 B. 食品：饼干
C. 头：身体 D. 金属：钢铁
78. 售货员：顾客
A. 董事长：经理 B. 作家：读者
C. 政府：官员 D. 江苏：园林
79. 南京：江苏
A. 石家庄：河北 B. 渤海：中国
C. 泰州：江苏 D. 秦岭：淮河

《2011 年公务员考试行测考试 100 套华图真题》

80. 易卜生：玩偶之家

- A. 堂吉诃德：塞万提斯 B. 闰土：鲁迅
C. 欧?亨利：麦琪的礼物 D. 宋江：水浒传

81. 兄弟：手足

- A. 父母：昆仲 B. 夫妻：配偶
C. 妇女：须眉 D. 男子：巾帼

82. 锯子：木头

- A. 窗户：玻璃 B. 刀片：铅笔
C. 剪刀：布匹 D. 牙膏：牙刷

83. 佛教：印度

- A. 基督教：罗马 B. 儒教：中国
C. 伊斯兰教：古兰经 D. 锡克教：瑞士

84. 火把节：风俗

- A. 泼水节：傣族 B. 端午节：屈原
C. 元旦：节日 D. 国庆：祝福

85. 马铃薯：土豆

- A. 地瓜：红薯 B. 西红花：玫瑰
C. 甘蓝：大白菜 D. 杨花：柳絮

86. 逗号：中止

- A. 拂晓：黎明 B. 节省：吝啬
C. 回车：换行 D. 好像：好比

87. 红楼梦：林黛玉

- A. 孙悟空：西游记 B. 罗贯中：三国演义
C. 水浒传：宋江 D. 聊斋志异：蒲松龄

类比推理（判断推理）答案：

1. D 2. B 3. C 4. B 5. D 6. D 7. A 8. A 9. A 10. C 11. B 12. B 13. B 14. B 15.
A 16. C
17. D 18. C 19. C 20. D 21. B 22. C 23. A 24. A 25. D 26. C 27. C 28.
B 29. A 30. A
31. C 32. C 33. B 34. B 35. A 36. C 37. A 38. A 39. A 40. A 41. C 42.
C 43. D 44. A
45. D 46. D 47. B 48. C 49. A 50. A 51. B 52. A 53. B 54. D 55. B 56.
D
57. C 58. D 59. B 60. C 61. A 62. C 63. C 64. B 65. A 66. A 67. A 68.
A 69. A 70. A
71. D 72. A 73. D 74. D 75. A 76. A 77. A 78. B 79. A 80. C 81. B 82. C 83. B
84. C 85. C 86. C 87. C

《2011 年公务员考试行测考试 100 套华图真题》

窗

体时间：2006 年 10 月 26 日
顶 11:08



我来说两句

Sogou 搜狗

搜索

窗体底部

精彩世界杯 精彩进球视频

每道题先给出一个概念的定义，然后分别列出四种行为，要求你严格依据定义从中选出一个最符合或最不符合定义的答案。注意：假设这个定义是正确的，不容置疑的。

例题：

服从：指在他人命令域要求下所实现的自己本来不愿做的行为，亦即按他人旨意行事。

根据此定义，下列哪一项属于服从：

- A. 他按照图纸说明组装了一台电视机。
- B. 大家一致推举他做班

长，他只好做了。

- C. 经他人提醒，小王才想起自己有件事才做了一半，得马上完成它。
- D. 小王星期日携妻子逛街购物。

解答：严格依据定义进行衡量，此题的正确答案为 B。

请开始答题：

1. 抽象行政行为，是指由行政主体针对不特定的行政相对人，单方作出的具有普遍约束力的行政行为。根据以上定义，下列属于抽象行政行为的是：

- A. 工商局对某企业的处罚决定
- B. 行政机关购买办公用品
- C. 县级人民政府制定规范性文件
- D. 人民法院执行行政法规关于处罚的决定

2. 我国《刑法》第 25 条第 1 款规定：共同犯罪是指二人以上共同故意犯罪，根据以上定义，下列属于共同犯罪的是：

A、甲、乙两人共谋要给丙一点教训，在去丙家的路上，乙因为家中有急事而返回家中，甲仍然入室殴打丙。

B. 甲欲杀乙，故意将装好子弹的枪支给丙，并骗丙说是空枪，叫丙向乙瞄准恐吓乙，结果枪走火乙中弹身亡。

C、两辆汽车相撞后一同冲向路边压死行人。

D. 甲、乙合谋抢劫丙的录音机，甲先将丙打伤，乙趁机将录音机枪走。

3、健康：指一个智力正常，行为合乎情理，能够适应正常工作、社会交往或者学习，能够抵御一般疾病。根据健康的定义，下列属于健康的是：

A. 大学教授老李，虽然 50 多岁但工作起来仍然精力充沛，在今年春天患过流感。

《2011 年公务员考试行测考试 100 套华图真题》

B. 张婶 19 岁的儿子肖聪, 读书 11 年还是小学二年级水平, 但是从小到大没生过什么大病, 体力活可以干得很好。

C. 小胡硕士毕业后, 工作表现一直很优秀。自一次事故后, 当工作压力比较大的时候就会精神失常。

D. 小刘身体很好, 工作非常努力, 孝敬父母, 但是很多同事说他古怪, 不愿与其交往。

4、正当防卫, 是指为了使国家、公共利益, 本人或者他人的人身、财产和其他权利免受正在进行的不法侵害, 而对不法侵害者所实施的有限度的行为。根据以上定义, 下列属于正当防卫的是:

A. 甲持刀抢劫乙的财物, 乙奋起反击搏斗夺下甲的刀, 并将甲腿刺伤, 甲动弹不得, 随后乙用刀将甲杀死。

B. 甲在公共场合多次扬言, 要杀死乙, 乙听后既气愤又害怕, 就决定先下手为强, 乘甲不备时将其杀死。

C. 甲处心积虑想谋害乙且又苦于没有借口, 一日甲见到乙, 就用辱骂等方式挑逗, 引诱乙先动手, 乙动手后甲拿出事先准备好的菜刀将乙杀死。

D. 某晚, 小红遭遇抢劫, 抢劫犯手持匕首, 扬言如不交出钱财就要杀人, 小红不得已交出身上的钱包, 当抢劫犯低头数钱时, 她拾起一块砖头砸晕了抢劫犯, 然后拿起自己的钱包离开现场。后来获知抢劫犯因抢救无效死亡。

5、社区是指人们共同生活的一定区域, 也称为占有一定地域的人口集中体, 它由五个要素组成, 分别是人口、地域、制度、政策和机构。根据以上定义, 下列哪一项不属于社区?

A. 工厂 B. 公园 C. 学校 D. 居委会

6、演绎, 是从某些一般性规律出发, 并将其运用于特殊事件。下列哪一项属于演绎?

A. 孙华比王刚高, 王刚比李健高, 因此孙华比李健高。

B. 北方人比南方人的身材高大, 这是生活条件差异造成的

C. 市场比集市大, 集市比市场小。

D. 发达国家的人均 GDP 都高于中国, 加拿大是发达国家, 所以加拿大的人均 GDP 也高于中国。

7、无因管理, 是债发生的一种依据, 它是指没有法定的或约定的义务, 为避免他人受到损失而进行管理和服务的行为。根据以上定义, 下列情况中发生无因管理之债的是:

A. 未受委托, 为他人代收货物 B. 未受委托, 代他人放弃继承权

C. 路遇自杀者进行抢救 D. 受人委托, 代人看管家禽

8. 不当得利, 是指没有法律和合同上的根据而受利益, 致使他人受到损失。按法律规定, 受损失的一方有请求不当得利人返还所得到的利益的权利。而不当得利人有返还利益的义务, 据此定义, 下列属于不当得利的是:

A. 债务人清偿未到期的债务

B. 顾客多付售货员的货款

C. 给付因赌博而输的钱

D. 养子女给其生父母的赡养费

9. 非程序化决策: 指管理者在计划管理中对不经常出现的新问题所进行的非常规的决策。根据上述定义, 下列属于非程序化决策的是:

A. 制定工资定额 B. 确定年终奖的分配方法

《2011 年公务员考试行测考试 100 套华图真题》

C. 确定产品的销售价格 D. 决定是否要跨行业经营

10. 诬告陷害罪是指以陷害他人受刑事处罚为目的,捏造事实,伪造证据。向有关机关虚假告发的行为。根据上述定义,下列行为不属于诬陷罪的是:

- A. 为了报复王某的无情无意,孙某无中生有.向公安机关说王某强奸了她
- B. 为了整垮别人,孙某向检察机关举报总经理有重大经济问题,但经检察机关审查,总经理并无经济问题
- C. 张某多次绘声绘色造谣葛某与孙某有不正当的男女关系,结果造成葛某夫妻关系破裂
- D. 为了报复,钱某谎称自己家里的财物被盗,并向公安机关提供蒋某有重大嫌疑的假线索

11. 价格需求弹性:指需求对价格变动的反应程度或敏感程度,其大小以系数 $E_p = \text{需求变动}(\%) \div \text{价格变动}(\%)$ 的绝对值来表示。根据上述定义,下面哪一种说法是正确的?

- A. 当需求价格弹性系数 $E_p > 1$ 时,表示价格的变化会引起需求量较大幅度的变化
- B. 当 $E_p = 1$ 时,表明价格变动对需求量变动的影响很小,因而可以尽可能提价销售
- C. E_p 的大小实际上反应了需求对成本变动的敏感程度
- D. 根据供求规律,不可能存在 $E_p < 1$ 的商品

12. 类比推理:指根据两个对象在一系列上是相同的,而且已知其中一个还具有其他属性,由此推出另一个对象也具有相同的其他属性的结论。根据上述定义,下列属于类比推理的是:

- A. 水星、金星、地球、火星、木星都是沿椭圆形轨道绕太阳运行的,所以所有的太阳系大行星都是沿椭圆轨道绕太阳运行的
- B. 美国加利福尼亚州与我国南方地区的自然环境相似,我国南方地区适合于种植柑橘,所以美国加利福尼亚州也适合于种植柑橘
- C. 只有建立必要的规章制度,生产才能顺利进行。A 工厂的生产没有顺利进行,所以该工厂一定没有建立起必要的规章制度
- D. 我们反对一切不正之风,以权谋私是不正之风,所以,我们反对以权谋私

13. 妨害公务罪:指以暴力威胁的方法,阻碍国家工作人员执行公务的行为。根据上述定义。下列行为属于妨害公务罪的是:

- A. 某公安人员骑车上街买东西时,与一人相撞,被撞者怒气冲冲,揪住公安人员不放,引起众人围观,严重影响了交通秩序
- B. 某检察院检察员小刘在侦查一起贪污案时,被该案嫌疑犯吴某的家属围攻、谩骂、殴打,并扬言若继续调查就将小刘家的房子砸烂
- C. 某公司会计叶某被告犯有贪污罪,检察人员到叶某公司查账,检察员杨某因为生气将一本账本的封页撕碎了,叶某公司的经理对此十分不满,与杨某争吵并收回了账本
- D. 胡某是一名个体户,因偷税而被罚款,为此胡某非常痛恨税务干部。一天胡某纠集了几个流氓,找到税务所干部董某家,将其家的门窗玻璃全部砸碎后扬长而去

14. 事实婚姻:指男女双方虽未办理结婚登记,但符合结婚实质条件,并且以夫妻名义同居生活所形成的男女关系。所谓结婚实质条件包括法定条件和禁止条件,前者指双方自愿、达到法定婚龄、一夫一妻(第二项可随着时间变化而由

《2011 年公务员考试行测考试 100 套华图真题》

不具备变为具备);后者指直系血亲 and 三代以内的旁系血亲以及患有医学上认为不应当结婚的疾病。这种婚姻形式同时要求当事人双方必须具有终生共同生活的意思,并以夫妻名义公开共同生活,群众也认为是夫妻关系,否则仍不能认为其有效。

以下属于事实婚姻的是()。

A. 李云与程红结婚时身体健康,但程红只有 18 岁,而且两人只举行了简单婚礼,并未去登记;5 年后,两人欲离婚,此时两人的婚姻关系

B. 赵飞与黄花系同年表兄妹,自小青梅竹马,两人于 25 岁时在某教堂举行了隆重婚礼,亲朋好友纷纷到场祝贺,二人因嫌麻烦就未到婚姻登记机关办理结婚证

C. 史密斯系英籍华人,在英已结婚,后在中国结识了中国姑娘陶莹,二人共坠爱河,遂同居在一起,周围邻居均认为他们是一对非常般配的夫妻

D. 卢雄与张咪大学时曾是公开的恋人,毕业后即同居在一起,但后来卢雄想与张咪分手,张咪多次以死相威胁,卢无奈,只有和张继续一起生活,并在某市一起办理了结婚登记

15. 时效取得领土:指国际法上一国凭借非武力手段长期不间断和公开地占有和统治他国部分领土而取得该部分领土的主权,这种行为并不以“善意”为条件,即使最初是不正当地或非法地占有他国的部分领土。但这种做法只限于解决历史遗留问题,20 世纪八九十年代之后不再适用。

以下取得领土方式属于时效取得领土的是()。

A. 甲国东部有一片面积约 1 万平方公里的荒地无人居住,但历史上一直处于其管辖范围内。“一战”期间,与其邻接的乙国通过逐步定居方式占有该荒地,甲国一直未提出异议

B. 丙国南部有面积 8 万平方公里的领土,丁国凭借强大的经济实力作后盾,于 1815 年通过领土买卖正式将此地划入自己版图

C. 戊国于 1905 年在枪炮的掩护下强行侵占己国的一个岛屿,己国奋起反抗,但最终失败

D. 庚国在 18 世纪发现了西太平洋深处的一个面积为 6000 平方公里的岛屿,遂派兵占领,并迁移居民到此定居

16. 窝藏、包庇罪:指非共同犯罪人明知他人犯罪,而为其提供隐藏处所、财物,帮助其逃匿或者作假证明包庇的行为:

以下属于窝藏、包庇罪的是()。

A. 张老汉亲眼目睹一青年人在夜晚杀死一年轻姑娘,后在法庭作证中,他害怕犯罪嫌疑人事后报复,遂说他在白天看到的杀人情景,结果该青年在该时段有不在场的证明,最终被无罪释放

B. 李老太的儿子酒后开车撞死了人,神情紧张地跑回家中。李老太问明情况下,遂和儿子一起擦洗了汽车上的血迹,并拿出三千块钱让其到外地躲避风头

C. 秦某、李某共谋去窃取一家珠宝店,后二人分工,由秦某去准备逃往处省的车辆及假身份证,而身手灵活的李某则入室行窃,后二人得手,秦某开车将李某送出本地

D. 黄女士一天早晨发现门口趴着一个浑身尘土、发着高烧的流浪汉,出于好心,将其扶进屋内,并和丈夫一起照料。后该人恢复健康,千恩万谢下拿着两人义赠的 500 块钱远走高飞。翌日,两人通过电视发现此人乃是公安部通缉的要犯

17. 演绎作品:又称派生作品,指在已有作品的基础上,经过改编、翻译、

《2011 年公务员考试行测考试 100 套华图真题》

注释、整理等创造性劳动而产生的作品。改编，是指改变作品，创作出具有独创性的新作品；翻译，是指将作品从一种语言文字转换成为另一种语言文字；注释，是指对文字作品中的字、词、句进行解释；整理，是指对内容零散、层次不清的已有文字作品或材料进行条理化、系统化的加工。

以下不属于演绎作品的是（ ）。

- A. 《〈红楼梦〉精典诗句评析》
- B. 《巴黎圣母院》日文版
- C. 《三个火枪手》电影剧本
- D. 《〈古文观止〉难点词汇释义》

18. 上诉：指因民事、行政诉讼当事人或刑事诉讼被告人不服各级审判机关生效的第一审裁定、判决而在法定期间内向上一级审判机关提起诉讼、请求改判的诉讼程序。

下列属于上诉的是（ ）。

- A. 胡某与刘某因债务纠纷诉至林阳区基层人民法院，一审结束后，两人均无异议。一年后，刘某发现了新的证据，遂再次提起诉讼
- B. 吴某一审中被认定为故意伤害罪既遂，判处有期徒刑 1 年，检察院认为刑罚太轻，于是要求上级人民法院重新审理
- C. 陈某因不服公安机关对其行政拘留的处罚而提起诉讼，一审后，公安机关认为法院判决不当，在两日后向上级人民法院提出重新审理的要求
- D. 卜某因与邻居发生纠纷而持刀砍伤了邻居，后派出所所以违反治安管理规定为由处罚了卜某，卜某对该处罚不满，遂要求公安局重新作出决定

19. 电子商务：是指通过数字通讯进行商品和服务的买卖以及资金的转账。

下列不属于电子商务的是（ ）。

- A. 新浪网每天向人们提供大量的商品信息
- B. 企业与企业之间通过网络银行实现转账支付
- C. 微软公司建立自己的主页，提供网上订购电脑软件业务
- D. 亚马逊网上书店在网络上接受订单，但通过邮寄的方法交付产品

20. 马太效应：指社会对已经出名（得到社会承认）的人才，给予愈来愈多，而对不出名的人才，则连应该给予也不给予的现象。

下列不属于马太效应的是（ ）。

- A. 社会对已成名的科学家，不断地加给他们各种头衔、名誉和各种优厚待遇
- B. 某科学院院士成名后仍刻苦求进，不断攻克科学难题，获得很大成功
- C. 许多科学家没有成名以前，论文无处发表，成果无人承认，甚至生活无所着落
- D. 当一个知名教授与一个学生争执不下时，人们总是相信教授是对的

21. 企业倒闭：指企业经济状况恶化，产品销售困难或没有销路，货款收不回来，不能支付工人工资和原材料费，不能偿还银行到期贷款，从而使企业不能再继续营业。

下列不属于企业倒闭主要原因的是（ ）。

- A. 企业投放的资本被工厂的机器、设备、原材料和库存产品等长期占用而造成资金周转不灵
- B. 投资和技术开发失败，销售呆滞和发生劳资纠纷
- C. 银行不信任而对企业停止支援
- D. 企业领导离婚了

22. 卡特尔：垄断组织形式之一，指同一生产部门的资本主义企业，以获取垄断高额利润加强自己在竞争中的地位为目的，彼此之间签订关于销售市场、商

《2011 年公务员考试行测考试 100 套华图真题》

品产量和商品价格的一种垄断联合。

下列不属于卡特尔的一项是 ()。

A. 各生产者签订协议, 规定销售市场

B. 各生产者签订协议, 规定销售价格

C. 各生产者签订协议, 规定生产和销售商品的一定数量, 并要求每个参加者遵守

D. 迫于成本核算, 各商家停止了打折竞争

23. 公共政策是以政府为主的公共机构, 为确保社会朝着政治系统所确定、承诺的正确方向发展, 通过广泛参与和连续的抉择, 以及具体实施产生效果的途径, 利用公共资源, 达到解决社会公共问题, 平衡、协调社会公众利益为目的的公共管理活动过程。

下列不符合这一定义的是 ()。

A. 公共政策制定的主体是以政府为主的一系列公共机构

B. 公共政策就是政府要少花钱多办事的各种方法和途径

C. 公共政策的目的在于确保社会朝着政治系统所确定、承诺的正确方向发展

D. 公共政策是一种公共管理活动过程

24. 虐待罪: 是指对共同生活的家庭成员, 经常以打骂、冻饿、禁闭、强迫过度劳动, 有病不给治疗或者其他方法进行摧残、折磨的行为。

根据定义, 下列不构成虐待罪的是 ()。

A. 王浩的父亲经常生病, 王浩觉得其父已是知天命之年, 所以也就不给其医治

B. 某企业老板经常强迫员工过度劳动, 克扣员工工资

C. 张志看妻子不顺眼, 经常对其进行毒打或关禁闭

D. 李某常使用体罚来教育调皮的儿子, 有时还不让做错事的儿子吃饭

25. 考核: 是指各级行政机关根据法定的管理权限, 在一定时间内, 对公务员的工作成绩和服务情形进行定期和不定期的考察与评价。

下列不属于考核的一项是 ()。

A. 机关规定, 公务员在规定时间内, 必须按时上、下班, 以考察勤勉程度

B. 英国文官被要求考察工作知识、人格性情、判断力、热心情形等因素

C. 机关团委组织去泰山秋游, 书记建议大家比一比谁先上到山顶

D. 美国实行工作标准考绩制, 主要对公务员的工作数量、工作质量和工作适应能力进行考察评定

26. 民事诉讼是人民法院和诉讼参加人, 在审理民事案件的过程中所进行的各种诉讼活动的总和。

下列不属于民事诉讼的一项是 ()。

A. 赵某为取回李某欠付的一万元装修费而起诉

B. 李老汉到法院起诉, 要求村里必须按遗赠抚养协议办事

C. 张某在押 15 天里, 无故受看守员殴打致重伤, 故起诉

D. 李某和黄某不和, 退出合伙, 遂向法院起诉, 要求分割合伙财产

27. 《中华人民共和国担保法》规定, 本法所称留置, 是指依照本法的有关规定, 债权人按照合同约定占有债务人的财产, 债务人不按照合同约定的期限履行债务的, 债权人有权依照本法规定留置该财产, 以该财产折价或以拍卖、变卖该财产的价款优先受偿。

请根据《中华人民共和国担保法》有关留置的规定, 判断下列哪项正确? ()

《2011 年公务员考试行测考试 100 套华图真题》

A. 因保管合同、运输合同、加工承揽合同发生的债权，债务人不履行债务的，债权人享有留置权

B. 留置的财产为可分物的，留置物的价值应当大于债务的金额

C. 债权人与债务人应当在合同中约定，债权人留置财产后，债权人应当在不少于六个月的期限内履行债务，债权人与债务人在合同中未约定的，债权人留置债务人财产后，应当确定三个月以上期限，通知债务人在该期限内履行债务

D. 当事人不可以在合同中约定不得留置的财物

28. 不当得利：指一方并非因为自己的违法行为而获得利益，但利益的获得又没有合法根据，致使他人利益受到损害的情况。

根据上述定义，下列哪种情况属于不当得利？（ ）

A. 小章在一次运货中，虽然发现对方因失误算多了很多的货物，但是没有告诉对方

B. 某甲为某乙介绍一笔生意给某丙，然后他分别从某乙和某丙处提取“联系费”

C. 卖水果的鲁某将顾客遗忘在水果摊上的手提包加以藏匿，将财物据为己有

D. 王某偷的 5000 元钱

29. 从众行为：个人因受到群体的压力而在知觉判断、动作等方面做出的与众人趋于一致的行为。下列哪一例不属于从众行为？

A. 演讲并不精彩，但别人都鼓掌，我也鼓掌

B. 我打心眼里认为这首歌好，没想到这歌确实很流行

C. 今年流行皮大衣，虽然我不宽裕，但还是咬牙买了件皮大衣

D. 既然大家都同意，我也没有什么说的，我同意大家的意见

30. 重婚：有配偶而又与他人结婚，或者明知他人有配偶而与之结婚的行为。根据以上定义，下面哪一种为重婚？

A. 李小青与王刚相恋多年，举行了正式的订婚仪式，并已接受了王刚家的许多彩礼，但后来李小青撕毁婚约与一外地男人结婚。

B. 黄某因受其夫虐待，遂与本厂一同事相好，两人有时一起偷偷外出旅行，其夫知道后，向法院起诉，状告黄某与其同事重婚。但黄某则说，她心目中真正的丈夫就是那位同事。

C. 阿雪家住江西一偏远乡村，已婚且有一子。在一次外出途中，被一同乡拐骗至安徽一偏远山村，卖给了该村的邱某，未经登记就做了邱某的妻子。

D. 孙某与周某结婚一年，因性格不合决定离婚，周某的父母也立即把女儿接回家。半年后，在未办理离婚手续的情况下，孙某又与另一外地女子结婚，周某也嫁给了邻村一男子。

31. 行政复议参加人：是指行政争议的当事人和与行政争议的具体行政行为有利害关系而参加行政复议的人。根据以上定义，下列不是行政复议参加人的是：

A. 行政复议的第三人 B. 行政复议的鉴定人

C. 行政复议的被申请人 D. 行政复议第三人委托的律师

32. 取保候审：人民法院、人民检察院和公安机关责令被告人提供保证人，由保证人担保被告人不逃避或妨碍侦查、起诉和审判并随传随到的一种强制措施。根据以上定义，下面哪种情况是取保候审？

A. 张青因伤害罪被判处有期徒刑一年有期徒刑，因其是初犯，且认罪态度极好，法院为他规定了一年半的考验期，即在一一年半之内张不再犯罪，就不必去监狱服刑。考验期内由张青所在单位考察。

《2011 年公务员考试行测考试 100 套华图真题》

B. 王荣，女，因过失杀人罪被判八年有期徒刑，服刑期间，王某积极改造，四年后被提前释放，但规定了四年考验期，考验期内如果不犯罪了，剩下的刑期不再执行。考验期内由公安机关监督。

C. 董某，女，因涉嫌贪污而被检察机关审查，经查贪污属实，且数额较大，应当逮捕。但检查人员考虑其孩子尚不满一周岁，就决定在判决前暂不羁押，由其单位领导出面保证，她随时接受检察院和法院的传唤。

D. 马某因诈骗罪被判处五年有期徒刑，在监狱服刑两年后患了严重的风湿性心脏病，由其家人担保转到一家医院治疗。治疗期间公安机关负责监督。半年后病愈回到监狱服完剩下的刑期。

33. 诉讼时效中止：指在诉讼时效期间最后 6 个月内，因不可抗力或者其他障碍，权利人不能行使请求权，而使诉讼时效停止计算。根据以上定义，下面哪种情形将导致诉讼时效中止？

A. 甲向法院起诉，要求乙偿还欠款。法院受理了此案。在审理过程中，甲突然死亡

B. 甲借给乙人民币若干，约定一年后归还。到期后，乙未归还。经甲催讨，乙同意归还。

C. 甲于前年 2 月 15 日被乙自行车撞伤，造成很大损失。经协商，由乙赔偿给甲 2500 元。直到今年 2 月 10 日，乙仍未支付赔款。甲准备起诉，但由于山洪暴发，道路不通，持续了十几天，因此直到 2 月底，甲才向法院提起诉讼。

D. 小张与小黄系夫妻，两人感情一直不和。小张向法院起诉，要求与小黄离婚。法院受理了此案。在审理终结前，小张在出差中因车祸死亡。

定义判断（判断推理）答案：

1-10: C、D、A、D、B、D、A、B、D、C

11-20: A、B、B、A、A、B、A、C、A、B

21-30: D、D、B、B、C、C、A、A、B、D

31-33: B、C、C

行政职业能力测验复习 - 政治常识

解题技巧：

1. 淘汰法。对于单选题，利用淘汰法以节省时间。
2. 去同存异法。确定一个选择项为参照项，其他选择项与之比较。
3. 印象认定法。选择最先在头脑中形成正确答案。
4. 比较法。

把四个选项进行纵横向比较。

5. 大胆猜测法。

△ 注意平时多阅览报刊、多看电视，了解相关常识并善于寻找社会问题的深层次原因。多掌握信息、多观察生活、多注意思考。

考点直击

1. 哲学基本知识。
2. 马克思列宁主义、毛泽东思想、邓小平理论。
3. 我国的政治制度、社会发展，旧民主主义革命开始至今的重大历史事件。
4. “三个代表”。
5. 时事。

《2011 年公务员考试行测考试 100 套华图真题》

经典例题透析

例 1. 不是德国古典哲学主要代表人物的是 ()。

A. 康德 B. 黑格尔 C. 谢林 D. 尼采

【解析】 答案为 D。

相关链接:

德国古典哲学最著名的代表人物是康德、谢林和黑格尔。康德继承和发展了西方哲学史上关于认识过程的三分法,用“感性”、“知性”和“理性”三个环节构成了他的整个认识论的体系。黑格尔创立了西方哲学史上最庞大的哲学体系,第一个系统地自觉地阐述了辩证法的一般运动形式,谢林也是德国古典哲学的主要代表之一。尼采则是唯意志论和生命哲学的主要代表。

例 2. 2004 年 8 月 29 日,第 28 届奥运会圆满落下帷幕。我国体育健儿取得枚金牌、17 枚银牌、14 枚铜牌的优异成绩,高居奥运会金牌榜第二位,实现了历史性突破,开辟了中国体育的新纪元。

A. 29 B. 30 C. 31 D. 32

【解析】 答案为 D。

例 3. 我国国家最高监督权的行使机构是 ()。

A. 最高人民法院 B. 最高人民检察院
C. 全国人民代表大会 D. 中共中央纪律检查委员会

【解析】 答案为 C。

相关链接:

人民代表大会制度是中国的根本政治制度,是中国人民民主专政的政权组织形式,是中国的政体。全国人民代表大会是最高国家权力机关,由省、自治区、直辖市、特别行政区和军队选出的代表组成。各少数民族都应当有适当名额的代表。它行使国家立法权,决定国家政治生活中的重大问题。全国人民代表大会主要职权是:修改宪法,监督宪法的实施,制定和修改刑事、民事、国家机构和其他的基本法律;审查和批准国民经济和社会发展规划和计划执行情况的报告,以及国家的预算和预算执行情况的报告;批准省、自治区和直辖市的建置,决定特别行政区的设立及其制度;决定战争和和平问题;选举、决定最高国家机关领导人员,即选举全国人民代表大会常务委员会组成人员,选举国家主席、副主席,决定国务院总理和其他组成人员的人选,选举中央军事委员会主席和决定其他组成人员的人选,选举最高人民法院院长,选举最高人民检察院检察长。全国人民代表大会有权罢免上述人员。全国人民代表大会每届任期五年,每年举行一次会议。在全国人民代表大会闭会期间,由它的常设机关常务委员会行使国家最高权力。全国人民代表大会常务委员会由委员长、副委员长、秘书长和委员组成。中国立法包括全国人大及其常委会立法、国务院及其部门立法、一般地方立法、民族自治地方立法、经济特区和特别行政区立法。

例 4. 下列国家中,尚未加入欧元区的是 ()。

A. 西班牙 B. 比利时 C. 卢森堡公国 D. 英国

【解析】 答案为 D。

相关链接:

欧元区总共包括 12 个国家,它们分别是:奥地利、比利时、德国、希腊、法国、芬兰、爱尔兰、意大利、卢森堡、荷兰、葡萄牙、西班牙。

实战演习

1 胡锦涛同志在“七一”讲话中指出:“三个代表”重要思想是()。

《2011 年公务员考试行测考试 100 套华图真题》

- A 马克思主义在中国发展的最新成果
B 毛泽东思想在中国发展的最新成果
C 邓小平理论在中国发展的最新成果
D 中华民族优秀传统文化在中国发展的最新成果
- 2 胡锦涛同志在“七一”讲话中指出：决定一个政党、一个政权盛衰的根本因素是（）。
- A 经济的发展 B 人心向背
C 政权的性质 D 党的执政能力
- 3 2003 年 2 月，中国共产党第十六届中央委员会第二次全体会议在北京举行。会议讨论了（）。
- A 《全面贯彻党的十六大精神，努力开创党风廉政建设和反腐败工作新局面》的报告
B 《关于深化行政管理体制和机构改革的意见》
C 《关于中央政治局同志出国访问的规定》
D 《关于进一步改进会议和领导同志活动新闻报道的意见》
- 4 马克思主义的理论来源是（）。
- A 19 世纪德国古典哲学 B 古希腊朴素唯物主义哲学
C 17 世纪英国唯物主义哲学 D 18 世纪德国古典哲学
- 5 社会发展的决定力量是（）。
- A 生产方式 B 经济基础
C 生产关系 D 上层建筑
- 6 国体决定政体，政体反映国体。我国是人民民主专政的社会主义国家，我国的根本政治制度是（）。
- A 民主集中制 B 人民代表大会制
C 单一制 D 三权分立制
7. 哲学与具体科学之间的关系表现为（）。
- A. 一般和特殊的关系 B. 理性认识和感性认识的关系
C. 本质和现象的关系 D. 无限和有限的关系
- 8 认识过程的第二次飞跃是（）。
- A 从实践到认识 B 从理性认识到实践
C 从感觉到知觉 D 从具体到抽象
- 9 2010 年的主要目标是（）。
- A 建成一个中等发达国家的水平，基本实现现代化
B 实现国民生产总值比 2000 年翻一番
C 形成比较完善的社会主义市场经济体制
D 人民生活达到小康水平
- 10 实践作为检验认识的标准具有不确定性，是指（）。
- A 实践标准是不可靠的
B 实践不是检验认识真理性的唯一标准
C 实践有历史局限性，它对真理的检验是一个过程
D 科学理论也是检验真理的标准
- 11 一个社会的上层建筑的核心是（）。
- A 军队 B 政党 C 政权 D 思想
- 12 改革的实质和目的是（）。

《2011年公务员考试行测考试100套华图真题》

- A 否定或取消社会主义基本制度 B 完善和发展社会主义
C 实现现代化军事强国的战略目标 D 否定中国共产党的领导
- 13 从唯物辩证法的观点看,水果与苹果、梨子、香蕉之间的关系是()。
A 整体与部分的关系 B 共性与个性的关系
C 多数与少数的关系 D 质量和数量的关系
- 14 党的干部路线要以()为原则。
A 任人唯贤 B 五湖四海
C 德才兼备 D 群众公认
- 15 国家的实质是()。
A 阶级调和的机关 B 为全民服务的机关
C 正义、公正的社会组织 D 统治阶级进行阶级压迫的暴力工具
- 16 “三个有利于”的判断标准是由()提出来的。
A 毛泽东 B 江泽民 C 周恩来 D 邓小平
- 17 在我国,()是解决社会主要矛盾的根本途径。
A 切实加强党的领导 B 确保公有制经济的主导地位
C 走共同富裕之路 D 大力发展生产力
- 18 从邓小平同志关于社会主义本质的新概括来看,实现社会主义的关键是()。
A 必须抓住经济建设这个中心 B 要发展生产力,就必须坚持改革开放
C 必须坚持公有制和按劳分配的主体地位 D 坚持共同富裕,防止两极分化
- 19 反对霸权主义和强权政治,维护世界和平,是()。
A 我国外交政策的基本目标 B 我国外交政策的根本原则
C 我国处理国际关系的基本原则 D 我国对外政策的纲领
20. 社会主义精神文明的基础工程是()。
A. 道德建设 B. 理想教育
C. 发展教育事业 D. 开展群众性文化活动
21. 关于苏联解体、东欧剧变的说法不正确的是()。
A. 使国际共产主义运动和世界社会主义事业受到严重挫折
B. 标志着雅尔塔体系的解体
C. 俄罗斯不再是世界政治舞台中重要的一极
D. 对世界格局产生深远影响
22. 我国坚持独立自主的和平外交政策,要把()。
A. 实行真正的不结盟放在首位
B. 国家主权和国家利益放在首位
C. 对国际问题采取客观公正的态度放在首位
D. 反对霸权主义,维护世界和平放在首位
23. 中国共产党十六大报告指出,中国共产党坚持先进性和增强创造力的决定性因素是()。
A. 坚持党的思想路线,解放思想,实事求是,与时俱进
B. 搞清楚什么是社会主义以及如何建设社会主义
C. 坚持党的基本路线和基本纲领
D. 加强和改进党的作风
24. 实现“一国两制”的前提和核心是()。

《2011 年公务员考试行测考试 100 套华图真题》

- A. 港、澳、台享有高度自治权
B. 港、澳、台保持原有的资本主义制度不变
C. 中国坚持社会主义
D. 国家的主权统一于中华人民共和国
25. 中国共产党十六大报告指出,贯彻“三个代表”重要思想,本质在于()。
A. 坚持以经济建设为中心 B. 坚持四项基本原则
C. 坚持改革开放 D. 坚持执政为民
26. 在社会主义初级阶段,非公有制经济是()。
A. 社会主义公有制经济的补充 B. 社会主义市场经济的重要组成部分
C. 具有公有性质的经济 D. 逐步向公有制过渡的经济
27. 胡锦涛同志在“七一”讲话中指出:十六大提出的一个战略举措是()。
A. 兴起全面建设小康社会新高潮
B. 兴起学习贯彻“三个代表”重要思想新高潮
C. 兴起学习贯彻“依法治国”方略新高潮
D. 兴起全面推动改革开放和现代化建设新高潮
28. 胡锦涛同志在“七一”讲话中指出:“三个代表”重要思想创造性地回答了()。
A. 建设中国特色社会主义的思想路线成果
B. 什么是社会主义、怎样建设社会主义
C. 建设什么样的党、怎样建设党的问题
D. 建设中国特色社会主义的发展道路问题
29. 胡锦涛同志在“七一”讲话中指出:“三个代表”重要思想坚持党的最高纲领和最低纲领的统一,为我们()。
A. 在新的时代运用辩证唯物主义和历史唯物主义认识 and 把握社会发展规律、更好地推进我国社会主义事业作出了新理论概括
B. 坚持马克思主义的最终奋斗目标、根据实际制定和实施推动我国社会主义发展的战略提供新的理论基础
C. 坚持马克思主义的群众观点、不断实现最广大人民的根本利益提出了理论要求
D. 坚持马克思主义基本原理、不断在实践中推进理论创新打开了新的理论视野
30. 胡锦涛同志在“七一”讲话中指出,“三个代表”重要思想系统概括我们党对社会主义建设规律探索成果,科学预测现代化建设的的发展趋势,规划了()。
A. 社会主义工业化的道路
B. 中国特色社会主义发展的宏伟蓝图和一整套发展战略
C. 共产主义的宏伟蓝图
D. 可持续发展的战略
31. 胡锦涛同志在“七一”讲话中指出:衡量有没有真正学懂,是不是真心实践“三个代表”重要思想最重要的村志,是必须()。
A. 牢牢把握立党为公、执政为民 B. 把发展作为第一要务
C. 加强和改善党的领导 D. 牢牢把握以经济建设为中心
32. 2003 年 2 月,中国共产党第十六届中央委员会第二次全体会议在北京举行,会议讨论了()。
A. 《全面贯彻党的十六大精神,努力开创党风廉政建设和反腐败工作新局面》

《2011 年公务员考试行测考试 100 套华图真题》

- B. 《关于深化行政管理体制和机构改革的意见》
- C. 《关于中央政治局同志出国访问的决定》
- D. 《关于进一步改进会议和领导同志活动新闻报道的意见》

33. 2004 年 2 月,“朝核问题”第二轮六方会谈在北京举行,六方会谈的最终目标是实现()。

- A. 东北亚无核化 B. 亚洲无核化
- C. 朝鲜半岛无核化 D. 朝鲜无核化

34. 2004 年 9 月 15 日,胡锦涛在首都各界纪念全国人民代表大会成立 50 周年大会上的讲话中指出,中国社会主义民主政治最鲜明的特点是()。

- A. 人民民主专政
- B. 人民代表大会制度
- C. 人民当家作主
- D. 党的领导、人民当家作主和依法治国的有机统一

35. 2004 年 2 月 20 日,中共中央、国务院在北京隆重举行了国家科学技术奖励大会。荣获 2003 年度国家最高科学技术奖的是()。

- A. 吴文俊、袁隆平 B. 王选、黄昆 C. 刘东生、王永志 D. 金怡濂、徐匡迪

36. 胡锦涛于 2003 年 12 月 26 日在纪念毛泽东同志诞辰 110 周年座谈会上的讲话(以下简称《讲话》)中指出,关系中国革命能否取得成功的极为关键的问题或无产阶级革命上极其复杂的新课题是()。

- A. 用马克思列宁主义革命理论和革命风格武装起来的无产阶级政党
- B. 在党的绝对领导下为人民的解放事业英勇奋战的人民军队
- C. 团结全民族绝大多数人共同奋斗的统一战线
- D. 结合当时的中国国情和时代条件,适合适合中国实际的革命道路和革命方略,并作出科学的理论概括

政治常识(常识部分)答案

- 1. A2. B3. B4. A5. A6. B
- 7. A8. B9. B10. C11. C12. B
- 13. B14. C15. D16. D17. D18. B
- 19. D20. C21. C22. B23. A24. D
- 25. D26. B27. B28. C29. B30. B
- 31. A32. B33. C34. B35. C36. D

行政职业能力测验复习 - 科技常识

考点直击

- 1. 最新科学技术,例如基因、纳米等。
- 2. 与日常生活密切相关的科技知识。
- 3. 科学与技术,科学精神及特征,科学技术是第一生产力。
- 4. 注意热点事件所反应的科技知识及本学科的其他主要基本知识。

经典例题透析

例 1. 人类最早使用的金属是 O。

- A. 铜 B. 铁 C. 银 D. 铅

【解析】 答案为 A。

相关链接:

《2011 年公务员考试行测考试 100 套华图真题》

铜是人类认识并应用最早的金属之一。我国是最早使用铜器的国家之一。到目前为止，发现的中国最早的青铜器出自新石器时代后期。在商代早期遗址中出土了较大型的青铜器。

中国商代早期的大型青铜器还很粗陋，器壁厚，外形多模仿陶器，花纹多为线条的兽面纹。1939 年在安阳市出土的礼器“司母戊鼎”是殷代前期青铜器的代表作，是商王为其母铸造的，重达 875 kg，高 133 cm，横长 110 cm，宽 78 cm。经检测，铜占 84.11%，锡占 11.64%，铅占 2.79%，是世界上最大的出土青铜器。

我国古代很早就认识到铜盐溶液里的铜能被铁取代，从而发明了“水法炼铜”的新途径，这一方法以我国为最早，是湿法冶金技术的起源，在世界化学史上是一项重大贡献。

在现代，铜仍旧有着极其广泛的用途。铜的导电性能仅次于银，居金属中的第二位，大量用于电气工业。

铜和铁、锰、铝、硼、锌、钴等元素都可用作微量元素肥料。微量元素是植物正常生命活动所不可缺少的，它可以提高酶的活性，促进糖、淀粉、蛋白质、核酸、维生素和酶的合成，有利于植物的生长。

铜在生命系统中有重要作用，人体中有 30 多种蛋白质和酶含有铜元素，现已知铜的最重要生理功能是人血清中的铜蓝蛋白，它有催化铁的生理代谢过程功能。铜还可以提高白细胞消灭细菌的能力，增强某些药物的治疗效果。铜虽然是生命攸关的元素，但如果摄入过多，会引起多种疾病。

例 2. 电话的发明者是（ ）。

A. 摩尔 B. 爱迪生 C. 贝尔 D. 法拉第

【解析】 答案为 C。

例 3. 在人类社会的发展史上，经历了三次科技革命，其标志为（ ）。

- A. 蒸汽机的发明、纺织机的发明、电子计算机的发明
- B. 蒸汽机的发明、电力的发明、电子计算机的发明
- C. 蒸汽机的发明、电力的发明、电子计算机的发明和原子能的发明和使用
- D. 蒸汽机的发明、纺织机的发明、原子能的发明和使用

【解析】 答案为 C。

例 4. 全球气候变暖是世界各国所关注的问题，大气中能产生温室效应的气体已经发现近 30 种，造成温室效应最重要的气体是（ ）。

A. 二氧化碳 B. 氟利昂 C. 一氧化二氮 D. 臭氧

【解析】 答案为 A。

相关链接：

温室有两个特点：温度较室外高，不散热。生活中我们可以见到的玻璃育花房和蔬菜大棚就是典型的温室。使用玻璃或透明塑料薄膜来做温室，是让太阳光能够直接照射进温室，加热室内空气，而玻璃或透明塑料薄膜又可以不让室内的热空气向外散发，使室内的温度保持高于外界的状态，以提供有利于植物快速生长的条件。由环境污染引起的温室效应是指地球表面变热的现象。它会带来以下几种恶果：1) 地球上的病虫害增加；2) 海平面上升；3) 气候反常，海洋风暴增多；4) 土地干旱，沙漠化面积增大。科学家预测：如果地球表面温度的升高按现在的速度继续发展，到 2050 年全球温度将上升 2~4 摄氏度，南北极地冰山将大幅度融化，导致海平面大大上升，一些岛屿国家和沿海城市将淹于水中，其中包括几个著名的国际大城市：纽约，上海，东京和悉尼。温室效应主要是由于现代化

《2011 年公务员考试行测考试 100 套华图真题》

工业社会过多燃烧煤炭、石油和天然气，这些燃料燃烧后放出大量的二氧化碳气体进入大气造成的。二氧化碳气体具有吸热和隔热的功能。它在大气中增多的结果是形成一种无形的玻璃罩，使太阳辐射到地球上的热量无法向外层空间发散，其结果是地球表面变热起来。因此，二氧化碳也被称为温室气体。人类活动和大自然还排放其他温室气体，它们是：氯氟烃（CFC）、甲烷、低空臭氧和氮氧化物气体、地球上可以吸收大量二氧化碳的是海洋中的浮游生物和陆地上的森林，尤其是热带雨林。

实战演习

1. 沙漠中生长的植物其叶子都比较小，而根却极深，其原因主要是 0。

- A. 沙漠中降雨量少，气候干旱，叶小是为了减少蒸发，根深利于吸收水分
- B. 沙漠中生长的植物品种都是那种叶小根深的
- C. 叶小有利减少日晒面积，不会被晒死
- D. 根深不会被风吹倒

2. 在互联网迅速发展的基础上，电子商务正在悄然兴起，但差不多所有的电子商务网站都在亏损，这主要原因是因为 0。

- A. 顾客太少，没有人上网购物
- B. 初期投资巨大，短期难以实现盈利
- C. 商品过于便宜，低于成本
- D. 税务负担沉重，增加了成本

3. 在冰箱产业中，无氟冰箱似乎正成为主流产品，厂家纷纷上马无氟冰箱生产线，消费者对无氟冰箱也很青睐，其主要原因是 0。

- A. 无氟冰箱的功能更先进
- B. 无氟冰箱的技术含量高

C. 由于氟对保护人类免受紫外线伤害的臭氧层有很大的破坏作用，而我国的公众与产业界的环保意识日益增强

- D. 生产无氟冰箱比较低，因而销售价值也比较低

4. 冬天人们用煤炉取暖，而且窗户紧闭时有时会发生煤气中毒，其原因是 0。

- A. 煤燃烧用去了大部公的氧气，产生的二氧化碳使人窒息
- B. 由于各种原因，煤不完全燃烧产生的一氧化碳会阻止人的血液与氧的结合
- C. 煤炭中会含有少量的硫等矿物质，其燃烧后产生的气体有剧毒
- D. 有些人对煤燃烧后的气体过敏

5. 近几年，电信业对电话等通信费用不断下调，这样做的原因是 0。

- A. 电信行为为人民利益着想

B. 电信部门在中国有巨大垄断利益，这种不合理现象招致全国范围的不满，同时通信费用下调幅度不足危及其自身利益和地位

- C. 电信业属国家所有

- D. 中外合资合作的结果

6. 在晴朗的夜晚，偶尔抬头仰望星空，我们可能发现星星在“眨眼睛”，星星为什么会眨眼睛呢？（ ）

- A. 星星在不同时刻释放的能量不同
 - B. 亮度不同的星星的光线相互影响的结果
 - C. 人们的眼睛要不停的眨，所以看起来星星是在眨眼睛了
 - D. 星星穿过大气层时产生折射的结果
7. 走路或坐在车上时，不适合看书，是因为 0。

《2011 年公务员考试行测考试 100 套华图真题》

A. 车太拥挤，不方便看书

B. 因为不断震动，对眼睛的刺激较大，不利于眼睛

C. 车内太暗，看不清字

D. 走路的时候应该听音乐，而不是看书

8. 在社会各个领域迅速发展的今天，全球却面临着气候方面的危机——“温室效应”，这种“温室效应”的最终原因是 0。

A. 人类大量砍伐树木

B. 工业生产当中大量的二氧化碳进入到大气层中

C. 全球的植被面积的减少

D. 人口的增多

9. 民间通常所说的“鬼火”是化学中的 0 现象。

A. 焰色反应 B. 自燃

C. 潮解 D. 熔化

10. 目前环境污染在世界范围内很大部分的原因是对能源的利用引起的，这主要是 0。

A. 化石资源利用 B. 煤炭资源利用

C. 电磁能利用 D. 核裂变能利用

11. 人们在谈到计算机的时候，往往要谈到计算机的 386、486 或 586，那么 X86 到底代表什么呢？简单的说，它代表着计算机的 0。

A. 主机板 B. 硬盘

C. 内存 D. CPU（中央处理器）

12. 与复印机、激光打印机一起构成现代化的光电子印刷技术，从而彻底取代了铅字手工排版的是 0。

A. 打字机 B. 计算机

C. 激光照排机 D. 激光印刷机

13. 形成风的主要原因是 0。

A. 空气上升与下降的对流运动

B. 水平方向上气压的差异

C. 地势高低的不同

D. 不同高度空气的密度不同

14. 一架飞机从北京飞往乌鲁木齐，用了 3.5 个小时，而从乌鲁木齐返航北京时，飞行速度不变，却只需要 3 小时，原因是 0。

A. 地球自转的影响

B. 两地时差的影响

C. 中纬度高空西风的影响

D. 飞行线路的影响

15. 被西方称为“物理学之父”，并提出了“只要给我一个支点，我就通俗拍手撬动地球”的名言的物理学家是 0。

A. 亚里士多德 B. 阿基米德

C. 伽利略 D. 开普勒

16. 第一个公开向神学挑战并宣告自然科学的独立的科学家是 0。

A. 亚里士多德 B. 哥白尼

C. 伽利略 D. 牛顿

17. 20 世纪 60 年代出现的“绿色革命”的含义是 0。

《2011 年公务员考试行测考试 100 套华图真题》

- A. 扩大耕地面积，提高单位产量
- B. 抓好育苗，培育新品种
- C. 改造沙漠，营造人工牧场
- D. 采用农作物高产良种

18. 我国制定的旨在使高科技成果商品化和产业化的计划是 0。

- A. “火炬”计划 B. “星火”计划
- C. “863”计划 D. “信息”计划

19. 在 18 世纪英国的产业革命中，被称之为改变了整个世界的发明是 0。

- A. 工厂制度的建立
- B. 以纺织机为代表的工具的革新
- C. 蒸汽机的发明和应用
- D. 机床的发明和应用]

20. 分子生物学的研究表明 0。

- A. 细胞是遗传信息的载体
- B. 信息的获取、传递技术
- C. DNA 是遗传信息的载体
- D. 染色体是遗传信息的载体

21. 月球表面之所以没有空气主要是因为 0。

- A. 月球离地球太远，越是高空的位置空气越稀薄
- B. 月球体积小，其引力不足以吸引住太空中的气体
- C. 月球上温度太低，空气都以液体或固体的形式存在
- D. 月球上没有植物，也没有动物，用不着空气

22. 航天飞机以很高的速度绕地球飞行，宇航员能够离开航天飞机在太空中行走而不被甩掉的原因是 0。

- A. 宇航员用一根绳子与航天飞机相连
- B. 这种传闻是错误的，人不可能在太空行走
- C. 他们身上都背着一个火箭助推器，使他们的速度与航天飞机同步
- D. 太空中没有阻力，他们在太空中仍然保持着与航天飞机相同的速度

23. 炎热的夏季使人难以忍受，年轻的王龙躲进有空调的小汽车里过夜，第二天人们发现他时，他已死在车里多时，经法医解剖，排除了王龙因疾病死亡的可能和被人谋杀的可能。那么王龙是怎么死的 0

- A. 汽车里缺氧而死 B. 温度调得太低冻死
- C. 一氧化碳中毒死亡 D. 不能确定

24. 把带有水分的钢片，放在酒精灯上烤一烤后拿开，钢片上会有一层蓝色的光，这是因为 0。

- A. 火苗是蓝色的
- B. 铁和水在高温下发生化合，生成蓝色的四氧化三铁
- C. 人的视觉在钢片加热后产生错觉
- D. 火光照耀下的铁片上的蓝色特别显眼

25. “月有阴晴圆缺”，用科学的观点看待这件事，原因是 0。

- A. 人有悲欢离合
- B. 地球绕太阳转动，月球绕地球转动，两者转速不一样，出现偏角，使地球掩住了月球的一部分
- C. 地球绕月球转动偏角不同

《2011 年公务员考试行测考试 100 套华图真题》

- D. 太阳光照射不均匀
26. 南极上空臭氧空洞的形成是因为 ()。
- A. 太阳光太强
B. 南极太冷
C. 人类活动中排放大量氟化化合物的缘故
D. 空气中二氧化碳太多, 形成温室效应
27. 出海远行的船, 在视线中最后消失的是船的桅杆, 既然水是平的, 为什么会出现这种情况? ()
- A. 船越走越远, 人的眼看不清楚
B. 船下沉了
C. 海平面并不是平的, 它和地球表面是平行的, 是一个平滑的球面
D. 是类似于海市蜃楼的一种错觉
28. 因为坚持哥白尼的日心学说被宗教裁判所活活烧死的科学家是 ()。
- A. 哥伦布 B. 布鲁诺
C. 伽利略 D. 达尔文
29. 太阳系中的小行星带位于 ()。
- A. 火星轨道和木星轨道之间
B. 木星轨道和土星轨道之间
C. 地球轨道和火星轨道之间
D. 火星轨道和金星轨道之间
30. 本世纪 80 年代初出现的“蓝色革命”新构想, 其含义是运用现代科学技术向蓝色海洋乃至内陆水域索取人们所需要的众多的优质水产品。提出蓝色革命的国家是 ()。
- A. 印度 B. 中国
C. 日本 D. 澳大利亚
31. 纳米是一种 ()。
- A. 水稻的一种 B. 长度单位
C. 粒子 D. 时间单位
32. 一天之中气温最高值出现在 ()。
- A. 正午时分 B. 午时 2 时前后
C. 上午 8.9 点钟 D. 日落之时
33. 计算机的运算采用 ()。
- A. 十进位制 B. 八进位制
C. 二进位制 D. 六十进位制
34. 当炉火快要熄灭时, 往里面撒一把盐, 火将变旺起来, 其原因是 ()。
- A. 盐里的水分能燃烧 B. 盐能助燃
C. 盐能燃烧; D. 盐里的水分助燃

科技常识 (常识部分) 答案

1. A 2. B 3. C 4. B 5. B 6. D 7. B 8. B 9. B 10. A 11. D 12. C 13. B 14. C 15. B 16. B 17. D 18. A 19. C 20. C 21. B 22. D 23. C 24. B 25. B 26. C 27. C 28. B 29. A 30. B 31. B 32. B 33. C 34. D

《2011 年公务员考试行测考试 100 套华图真题》

行政职业能力测验复习 - 经济常识

考点直击

1. 西方经济学的经典理论的提出者及其内容,例如亚当·斯密的“看不见的手”理论。
2. 与当前经济形势密切相关的经济理论,例如通货膨胀与通货紧缩。
3. 商品经济的基本理论知识,例如商品二因素、价值规律等等。
4. 社会主义市场经济与资本主义市场经济之异同。

经典例题透析

例 1. 理性经济人假设是西方经济学理论的逻辑基础,这一理论基础的核心是认为人()。

- A. 追求经济利益的最大化 B. 追求自我利益的最大化
C. 没有利他心 D. 追求经济利益和社会利益的最大化

【解析】 答案为 D。

相关链接:

西方经济学、管理科学及行为科学的理论基础之一就是关于人的理性的假设:每个人都以其效用最大化为目标,而效用通常指个人利益,或者是从个人出发的自我实现。人们的行为和思维活动只表现为个人需要的单回路结构。古典经济学中“经济人”的假设,也称为 X 理论,认为被管理对象是由无组织的个人组成,他们在行动和思想上力求符合个人利益,追求最大限度的个人收入。行为学派中最有影响的代表人物是美国的马斯洛。他主张人的需要有五个层次:基本需要、安全需要、归属和爱的需要、受尊重的需要、自我实现的需要。有人把马斯洛描写的追求自我实现的人叫做“成就人”。马斯洛后来又补充了求知的需要和审美的需要。现代管理理论中有两个著名的理论:经济人与社会人。经济人的假设认为人的本性是懒惰的,尽可能逃避工作,不愿承担责任等;而社会人的假设则认为人都是勤奋的。人们可以自我激励、自我控制,在人群中存在着高度的想象力和创造性。经济人的假设,必然导致“胡萝卜加大棒”的管理方式。而这正是一些小企业的管理方式——时刻监督,处处防范,惩罚严厉,常常喜欢“杀一儆百”。然而,按社会人假设,管理者应采取的是截然相反的管理方式——创造适宜的工作环境;满足职工的尊严需要和自我实现需要;让职工担负更多的责任,使他们发挥潜力,自我控制,以达到个人与组织目标的一体化。虽然社会人假设仅是一种理想状态,但是真正尊重人就会把人性好的一面发扬光大,同时使企业的利益最大化。如果是把员工当作“经济人”,员工的自尊心得不到满足,久而久之,员工就会真的变成“经济人”,对工作不满,能少干就少干,并时刻酝酿离开这个“大棒”常现的地方。

当代管理学派中对人性的假设也犹如丛林,其中较有代表性的是西蒙在他的决策理论中阐述的决策人假设。他认为管理就是决策,并且在组织中,不同层次的员工都在做决策,所以都是决策人。

随着知识经济时代的到来,管理学对人性的假设必将超越经济人、社会人、决策人假设,升华为复杂人假设。

例 2. 经济学领域所谓的“看不见的手”的最初提出者是()。

- A. 亚当·斯密 B. 凯恩斯
C. 大卫·李嘉图 D. 萨缪尔森

【解析】 答案为 A。

《2011 年公务员考试行测考试 100 套华图真题》

相关链接:

亚当·斯密把市场形容为一只“看不见的手”，指的是市场可以把个人的自利行为化为共同的

社会福利的奇妙结果。经济学有一个“看不见的手”原理，讲的是市场像一只看不见的手，对资源配置起

基础性作用。亚当·斯密提出了“劳动分工”，哈耶克则提出了“知识分工”，亚当·斯密提出了“看不见的手”，哈耶克则提出了“自生秩序”。萨缪尔森

在经济理论上的卓越贡献是对数理经济学的发展。他在哈佛大学获得博士学位的论文 *Foundations of Economic Analysis* (1947 年) 提出, 所有经济行为的研究都可以用数学分析的方法解决最大化问题。为此, 1970 年, 他成为美国历史上第一个诺贝尔经济学奖获得者。但是, 给萨缪尔森带来国际声誉的却是一本普及性的经济学教科书——《经济学》。《经济学》出版于 1948 年。最初写作这本教科书的目的是为了将凯恩斯的宏观经济学和马歇尔的微观经济学进行综合, 从而推动经济学的普及。实际上, 《经济学》出版后不仅成为美国最畅销的经济学教科书, 而且畅销世界各国。

实战演习

1 转变政府职能的关键是 ()。

- A 处理好计划与市场的关系 B 处理好价格与价值的关系
C 中央与地方分权 D 政企职能分开

2 市场经济在本质上是一种 ()。

- A. 保护型经济 B. 竞争型经济 C. 垄断型经济 D. 封闭型经济

3 市场调节是指 ()。

- A 通过制定国民经济发展方案, 有目的、有计划地进行调节
B 通过市场竞争, 由价值规律自发地进行调节
C 把市场作为基础和主要手段的资源配置方式
D 以市场为基础, 辅之以必要的宏观调控

4 市场机制作用得到充分发挥的前提是 ()。

- A. 政府放弃宏观调控 B. 政府加强宏观调控
C. 完备、统一的市场体系 D. 计划与市场相结合

5 货币的本质是 ()。

- A 商品交换的媒介 B 衡量商品价值大小的尺度
C 一般等价物 D 社会财富的代表

6 因为变质而卖不出去的商品有没有价值, 下列看法你认为哪个是正确的?

()

- A 有价值, 因为这些商品同样凝结了人类的一般劳动
B 没有价值, 因为商品卖不出去, 意味着生产商品的劳动没有得到社会承认

认

- C 有价值, 只不过这些商品的价值没有得到实现
D 没有价值, 但仍然有一定的使用价值

7 商品内在的使用价值和价值的矛盾, 其完备的外在表现形式是 ()。

- A. 商品与商品的对立 B. 私人劳动与社会劳动的对立
C. 商品与货币的对立 D. 具体劳动与抽象劳动的对立

8 现代企业制度一般采用 ()。

- A 公司制 B 股份合作制 C 业主制 D 合伙制

《2011 年公务员考试行测考试 100 套华图真题》

- 9 影响社会总供求形成的最根本的因素是 ()。
- A 物质生产的发展规模和水平 B 进口商品的规模和水平
C 出口商品的规模和水平 D 商品储备动用的规模
- 10 据《经济学家》杂志刊登,1995 年全球保险费用首次超过 2 万亿美元。《经济学家》指出,私人保险费用支出最多的国家往往是最富有的。在这些国家,购买保险是一种大众化的投资手段。其主要原因是 ()。
- A 贫穷国家开展保险事业的效用很小
B 经济实力是保险业的坚实后盾,现代保险业日益发达
C 保险费占 CNP 比重的增长导致了基础投资不足
D 保险只是富人或富国的事
- 11 企业兼并 ()。
- A 可以跨地区、跨行业,但不能跨所有制
B 可以跨行业、跨所有制,但不能跨地区
C 可以跨所有制、跨地区,但不能跨行业
D 既可以跨地区、跨所有制,也可以跨行业
- 12 我国社会保障制度的目标是 ()。
- A 推动社会保障事业逐步走向规范化 B 提高社会成员的生活质量
C 保证国民经济持续健康发展 D 推动市场经济的健康发展
- 13 存款储蓄有多种形式,其中能够最大限度地吸收社会闲散资金的有效形式是 ()。
- A 活期存款 B 整存整取
C 零存整取 D 整存零取
- 14 近年来,随着我国经济从卖方市场转向买方市场,许多企业根据市场需求变化,积极开发和研制新产品,取得良好的经济效益。但也有一些企业因商品滞销而减产甚至停产。这说明 ()。
- A 生产水平决定消费水平 B 消费对生产具有反作用
C 消费结构决定生产结构 D 消费方式决定生产方式
- 15 要采取积极措施,依靠社会各方面的力量,关心和安排好下岗职工的生活, (), 推进再就业工程。
- A 搞好失业救济 B 搞好社会福利
C 搞好职业培训,拓宽就业门路 D 搞好就业再教育工作
- 16 我国国有经济在国民经济发展中的主导作用和优势,主要是通过 ()。
- A 国有资产在社会总资产中的量的优势体现出来
B 国有大型企业和企业集团的规模和实力体现出来
C 对经济发展的控制力和其市场竞争力体现出来
D 国家对市场活动的正确指导和有效调控体现出来
- 17 世界市场,也叫国际市场,它主要指的是 ()。
- A 各国之间的商品流通活动 B 各国之间的科学技术联系
C 各国之间的思想文化交流 D 各国之间的劳务相互交换
- 18 对股票价格的认识,下列说法正确的是 ()。
- A 股票价格和股票的票面金额通常是一致的
B 股票价格是可以变动的
C 股票价格趋向涨高,银行存款利息往往上涨
D 股票价格与预期股息成正比

《2011 年公务员考试行测考试 100 套华图真题》

- 19 我国现行税制把税种分为 ()。
- A. 流转税、所得税和财产税 B. 中央税、共享税和地方税
C. 增值税、营业税和消费税 D. 企业所得税和个人所得税
- 20 经济全球化是 ()。
- A. 资本主义基本矛盾发展的客观趋势
B. 生产社会化发展的客观趋势
C. 垄断资本主义发展的客观趋势
D. 发达资本主义国家进行资本输出的客观趋势

经济常识 (常识部分) 答案

1. D 2. B 3. B 4. C 5. C 6. C 7. D 8. A
9. A 10. B 11. D 12. A 13. A 14. B 15. C
16. C 17. B 18. B 19. C 20. B

行政职业能力测验复习 - 管理常识

考点直击

1. 公共管理基本知识。
2. 企业管理基本知识。
3. 行政管理基本知识。
4. 注意热点事件所反映的知识及本学科的其他基本知识。

实战演习

1. 在行政决策组织体系中被称为“神经系统”的是 ()。
A. 信息系统
B. 中枢系统
C. 控制系统
D. 研究咨询系统
2. 国家教委与各省、自治区、直辖市教委之间属于 ()。
A. 平行关系
B. 不相隶属的关系
C. 业务指导关系
D. 隶属关系
3. 我国公务员制度同西方文官制度强调的官方“政治中立”具有本质区别的是 ()。
A. 坚持党管干部的原则
B. 坚持为人民服务的宗旨
C. 坚持党的基本路线
D. 坚持德才兼备的用人标准
4. 在归部委管理的国家局中, 国家技术监督局归哪个部 (委) 管理? ()
A. 国家计划委员会
B. 国家经济贸易委员会
C. 国家科学技术委员会
D. 国家教育委员会
5. H 省审计厅内设各处, 上与国家审计署各司, 下与各县市审计局各股相对

《2011年公务员考试行测考试 100 套华图真题》

应，其上下对应的部门业务性质相同，其管理幅度随级别升高而扩大，这种体制是按 O 类型而设定的。

A. 职能制 B. 层级制

C. 分级制 D. 分权制

6. 我国行政首长负责制的行政首长进行决策最重要的关键环节是 O。

A. 同工作首长负责制以及工作责任制相结合

B. 领导本级政府的工作

C. 召集和主持本级政府的全体会议和常务会议

D. 向本级人民代表大会及其常委会负责

7. 某市人民政府就开展国有资产核定工作向所属下级机关行文，阐述该项工作的必要性，并交代具体的工作任务及时间安排，同时针对有关的步骤方法、政策界限、注意事项、报告方式与期限等提出具体要求。这时可选用的文种包括 O。

A. 命令 B. 指示 C. 通告 D. 条例

8. 程序化决策主要是对日常的、重复出现的、具有规则性的问题作出决策，在一个组织部门中 O。

A. 管理部门的层次越低，越少负责程序化决策问题

B. 管理部门的层次越高，越少负责程序化决策问题

C. 战略性的决策一般都属于程序化决策

D. 非程序化决策都是无关紧要的

9. 政府通过制定和运用财政税收政策和货币政策，对整个国民经济运行进行间接的宏观的调控是政府的 O 职能。

A. 社会 B. 文化 C. 经济 D. 政治

10. “首长制”的特点是 O。

A. 职权集中，责任明确，行动迅速，减少权力冲突和摩擦

B. 能集思广益，合乎民主精神，彼此监督，利于克服滥用权力

C. 能够兼容各种领导体制的长处

D. 能够消除集权制和分权制的短处

11. 中国行政体制改革的目标是 O。

A. 提高政府的整体管理水平

B. 推进“市场模式”的行政改革

C. 建立具有中国特色的行政管理体系

D. 促进社会主义市场经济和现代化建设

12. “一头狮子率领的一群绵羊可以打败一头绵羊率领的一群狮子”，这句话的哲理在于说明 O。

A. 领导群体的士气至关重要

B. 领导班子结构合理化至关重要

C. 领导班子中一把手的选用至关重要

D. 领导者和被领导者的合作至关重要

13. 行政监督的对象是 O。

A. 国家公务员的公务行为 B. 国家公务员的日常行为

C. 国家公务员的一切行为 D. 国家公务员的民事诉讼行为

14. 政府机构之间最重要的关系是 ()。

A. 协调关系 B. 业务关系

C. 协作关系 D. 领导关系

《2011年公务员考试行测考试 100 套华图真题》

15. 可以自由选择沟通渠道,具有感情交流特点的沟通是()。
- A. 下行沟通 B. 上行沟通 C. 平行沟通 D. 非正式沟通
16. 向同一系统的同级机关或非同一系统的任何机关发送的文件是()。
- A. 上行公文 B. 下行公文 C. 平行公文 D. 领导指导性公文
17. 当作者与主要受文者存在不相隶属关系时,只能选取()。
- A. 上行文 B. 平行文 C. 下行文 D. 公布性文件
18. 公文区别于其他信息记录的特点是()。
- A. 传播知识 B. 具备查考知识
C. 书面文字材料 D. 具备法定的权威性
19. 公文的作者是指()。
- A. 撰拟文章机关工作人员 B. 制发文件的机关
C. 审核签发文件的机关工作人员 D. 参与文件形成过程的全体机关工作人员
20. 文件的连续性指()。
- A. 对同一行为加以约束和规范的文件之间必要的继承关系
B. 文件结构与语言必须周严有效
C. 文件内容、形式同其他文件、同作者权利的高度统一和一致关系
D. 指整个文件的所有部分所具有高度的一体性关联
21. 当问题重大,确急需直接向上级和更高层次的上级机关同时了解公文内容时可采用()。
- A. 超级行文 B. 直接行文 C. 多级行文 D. 逐级行文
22. 向下级机关的重要行文,应抄送()。
- A. 所有上级机关 B. 直接上级机关
C. 上两级机关 D. 所有上级领导机关
23. 来函收悉。关于征地的有关()请速与××市人民政府联系解决。
- A. 事情 B. 事务 C. 事实 D. 事宜
24. 领导者把决策权力交给下级,对下级的工作不闻不问,这种领导方式称作()。
- A. 民主型领导方式 B. 参与型领导方式
C. 放任型领导方式 D. 自决型领导方式
25. 为了维护政令一致,凡下行公文()。
- A. 都要请示上级
B. 都要和有关机关协商
C. 内容涉及其他机关的职权范围时,行文前应与其协商一致
D. 都与有关部门联合发文
26. 清退保密文件时,要()。
- A. 摘录文件内容 B. 复制原文
C. 按原文标注密级处理 D. 按平件清退
27. 公务员在任职方式中,由用人单位与应聘人签订协约的任命方式是()。
- A. 委任制 B. 选举制 C. 聘任制 D. 考任制
28. 决定必须由()。
- A. 党政机关联合发文 B. 会议讨论之后才能发文
C. 政府部门制发 D. 党、政府领导机关制发
29. 批复不具有下列哪个特点?()
- A. 法定的权威性和执行性 B. 指导性

《2011 年公务员考试行测考试 100 套华图真题》

C. 被动性 D. 针对性

30. 应立卷归档的公文是 ()。

A. 具有查考价值的已处理完毕的公文

B. 明令撤消的公文

C. 秘密公文

D. 未经本人审阅的领导人讲话稿

31. 我国人事制度历来不可动摇的根本原则是 ()。

A. 公平竞争原则 B. 依法管理原则

C. 党管干部原则 D. 分类管理原则

32. 行政领导者决策能力的强弱与决策艺术高低主要体现在 () 上。

A. 宏观决策 B. 风险型决策

C. 非程序性决策 D. 理想决策

33. 在政府部门担任领导职务的人员，为有效完成组织目标，对下属人员所采取的各种影响和激励的过程，是 () 职能。

A. 计划 B. 控制

C. 领导 D. 组织

34. 行政领导把主要精力集中于一些重要的例外事情，即超常好或特别坏的情形，是行政控制中的 ()。

A. 例外原则 B. 事前控制原则

C. 适应行政 D. 符合计划要求原则

35. 我国现行的中央和地方的预算编制方式为 ()。

A. 单一预算 B. 复式预算

C. 零基预算 D. 绩效预算

36. 国家公务员回避制度的种类不包括 ()。

A. 任职回避 B. 工作性质回避

C. 公务回避 D. 地区回避

37. 国家公务员录用的首要原则是 () 原则。

A. 平等 B. 公开

C. 竞争 D. 择优

38. 根据被管理者的成就需要、权利需要和合群需要对其进行管理，其出发点是将被管理者视为 ()。

A. 经济人 B. 社会人

C. 决策人 D. 文化人

39. 围绕目标，制定实施方案，在政府管理运行中所处的阶段为 ()。

A. 计划职能 B. 组织职能

C. 领导职能 D. 控制职能

40. 下列几种形式中，不属于国家公务员惩处种类的是 ()。

A. 降级 B. 降职

C. 撤职 D. 开除

41. 国家公务员向有关单位提出申诉的必要理由是 ()。

A. 对公务员个人的处理不公正

B. 公务员涉及本人的人事处理决定不服

C. 公务员认为自身受到的处理或待遇不合理

D. 须有涉及公务员个人的处理决定

《2011 年公务员考试行测考试 100 套华图真题》

管理常识（常识部分）答案

1. A2. C3. A4. B5. D6. C
7. B8. B9. C10. A11. C12. C
13. A14. D15. D16. C17. B18. D
19. B20. A21. C22. B23. D24. C
25. C26. C27. C28. D29. C30. A
31. C32. C33. C34. A35. B36. B
37. B38. B39. A40. B41. B

行政职业能力测验复习 - 法律常识

考点直击

1. 与日常生活密切相关的基本法律及法规。
2. 注意热点事件所反应的知识及本学科的其他基本知识。

经典例题透析

例题. 《汉谟拉比法典》出自 O。

- A. 古埃及 B. 古巴比伦 C. 古罗马 D. 古印度

【解析】 答案为 B。

相关链接:

美索不达米亚平原上苏美尔人制定了《乌尔纳木法典》，古巴比伦人制定了《汉谟拉比法典》。

实战演习

- 1 我国社会主义法制的中心环节是 ()。
A 有法可依 B 有法必依 C 执法必严 D 违法必究
- 2 2004 年，在《公民道德建设实施纲要》印发两周年之际，经党中央同意，中央精神文明建设指导委员会决定，将《纲要》印发的时间定为“公民道德宣传日”，即 ()。
A 7 月 20 日 B 9 月 20 日
C 8 月 20 日 D 9 月 20 日
- 3 下列哪种情形，国家不承担赔偿责任？ ()
A 工商局工作人员刘某在市场检查时发现个体摊贩王某售卖的食品不合格，便没收了王某的营业执照，后来发现产品合格
B 政府工作人员张某周日借用单位的车去商场买家具，途中将一小学生撞伤
C 某公安局认为李某是某重大案件嫌疑犯，便将其逮捕，后发现李某确实无罪
D 某乡政府以整修公路为由，从农民的公粮款中扣留了一笔款项
- 4 立法监督是指 ()。
A 各级政府对其下属行政机关及公务员的监督
B 各级政协对国家行政机关及其公务员的监督
C 各级人大及其常务委员会对国家行政机关及其公务员的监督
D 社会各阶层对国家行政机关及其公务员的监督
- 5 国家机关工作人员行使职权时违背法律授权的宗旨，超越职权范围或者违反职权行使的程序，从而导致公共财产、国家和人民利益遭受重大损失的行为，

《2011 年公务员考试行测考试 100 套华图真题》

应判处 ()。

- A 玩忽职守罪
- B 滥用职权罪
- C 徇私枉法罪
- D 徇私舞弊罪

6 营业税按次纳税的起征为每次 (日) 营业额 () 元。

- A 500 B 200 C 100 D 50

7 行政许可由 () 行政机关在法定职权范围内行使。

- A 具有管理公共事务职能的
- B 具有行政管理权的
- C 具有行政许可权的
- D 各级人民政府的

8. 下列哪项行为属于行政处罚? ()

- A. 市环保局对某造纸厂的超标排污行为给予 1 万元的罚款
- B. 村委会对农民张甲私捞塘鱼给予 50 元罚款
- C. 公司领导批准对违反厂规厂纪的鲁某给予 100 元的罚款
- D. 税务局对某厂延迟纳税征滞纳金

9 法律、法规授权的具有 () 职能的组织, 在法定授权范围内以自己的名义实施行政许可。

- A 行政管理
- B 行政收费
- C 行政审批
- D 管理公共事务

10 下列关于行政许可实施程序的说法错误的是 ()。

- A 违反法定程序, 作出行政许可决定的, 应当一律予以撤销
- B 国务院实施行政许可的程序, 适用有关法律、行政法规的规定
- C 公民、法人或者其他组织从事特定活动, 依法需要取得行政许可的, 应当向行政机关提出申请
- D 行政机关受理或者不予受理行政许可申请, 应当出具加盖本行政机关专用印章和注明日期的书面凭证

11 行政机关在其法定职权范围内, 依照法律、法规、规章的规定, 可以委托 () 实施行政许可。

- A 其他行政机关
- B 其他国家机关
- C 有关企业、事业组织
- D 具有管理公共事务职能的社会团体

12 经国务院批准, () 人民政府根据精简、统一、效能的原则, 可以决定一个行政机关行使有关行政机关的行政许可权。

- A 较大的市 B 设区的市
- C 县级以上 D 省、自治区、直辖市

13 行政许可依法由地方人民政府两个以上部门分别实施的, 本级人民政府可以确定一个部门受理行政许可申请并转告有关部门分别提出意见后 (), 或者组织有关部门 ()、()。

- A 统一办理 联合办理 集中办理

《2011 年公务员考试行测考试 100 套华图真题》

- B 集中办理 统一办理 联合办理
- C 集中办理 联合办理 分别办理
- D 联合办理 集中办理 统一办理

14 行政机关实施行政许可，依照法律、行政法规收取费用的，应当按照公布的（ ）收费；所收取的费用必须全部上缴（ ），任何机关或者个人不得以任何形式截留、挪用、私分或者变相私分。

- A 标准和内容 本级人民政府
- B 法定项目和标准 国库
- C 法定范围 上级行政机关
- D 法定项目和标准 财政

15 2004 年 3 月 5 日，温家宝总理在政府工作报告中指出，（ ）是我国现代化建设中的一个重大战略问题。

- A 促进区域协调发展
- B 推进西部大开发
- C 促进中部地区崛起
- D 振兴东北地区等老工业基地

16 关于行政许可审查，下列说法错误的是（ ）。

A 申请人提交的申请材料齐全、符合法定形式，能够当场决定的，行政机关应当当场作出书面的行政许可决定

B 根据法定条件和程序，需要对申请材料的实质内容进行核实的，行政机关应当指派两名以上工作人员进行核查

C 依法应当先经下级行政机关审查后报上级行政机关决定的行政许可，下级行政机关应当在法定期限内将初步审查意见和全部申请材料直接报送上级行政机关

D 行政机关发现行政许可事项关系他人利益的，应当告知该利害关系人

17 行政机关作出行政许可决定，正确的是（ ）。

A 行政机关作出行政许可决定，包括作出准予行政许可决定和作出不予行政许可决定

B 行政机关作出行政许可决定，可以说明理由

C 行政机关作出行政许可决定，应当予以公开，公众有权查阅

D 行政机关作出准予行政许可的决定，应当向申请人颁发加盖本行政机关印章的行政许可证件

18 关于行政许可变更和延续，下列说法错误的是（ ）。

A 行政机关不可以主动变更行政许可事项

B 变更行政许可事项，应当符合法定条件、标准

C 行政机关应当在行政许可有效期届满前作出是否准予延续的决定

D 行政机关逾期未作延续行政许可决定的，视为准予延续

19 除可以当场作出行政许可决定的外，行政机关应当自受理行政许可申请之日起多少日内作出行政许可决定？（ ）

- A 15 日 B 10 日 C 20 日 D 5 日

20 下列关于行政许可的说法正确的是（ ）。

A 行政审批都是行政许可

B 行政许可包括行政机关对其直接管理的事业单位的人事、财务、外事等事项的审批

《2011 年公务员考试行测考试 100 套华图真题》

C 行政许可，是指行政机关根据公民、法人或者其他组织的申请，经依法审查，准予其从事特定活动的行为

D 行政许可包括基于所有者身份对国有资产管理事项的许可

21. 公民、法人或者其他组织依法取得的行政许可，下列说法错误的是（ ）。

A. 行机关可以依法变更或者撤回已经生效的行政许可

B. 行政机关不得擅自改变已经生效的行政许可

C. 法律、法规规定依照法定条件和程序可以转让

D. 行政机关可以随时撤消

22. 行政诉讼由下列何种机关或团体来主持？()

A. 人民法院

B. 人民检察院

C. 原行政机关

D. 原行政机关的上级行政机关

23. 国家对下列行为承担赔偿责任的有()。

A. 司法机关的民事行为

B. 国家机关和国家机关工作人员违法行使职权的行为

C. 工作人员的个人行为

D. 省民政厅盖办公大楼，因违约而与包工方发生纠纷，导致的 20 万元经济损失

24. 死刑只适用于()犯罪分子。

A. 危害国家安危的

B. 危害公共安全的

C. 罪行极其严重的

D. 贪污贿赂的

25. 以下不属于犯罪特征的是()。

A. 严重的社会危害性

B. 刑事违法性

C. 应受刑罚处罚性

D. 应该被判处有期徒刑

26. 下列哪项属于单位犯罪？()

A. 个体户王某偷税 1 万元

B. 骆马公司向某官员行贿 3 万元

C. 李某为谋取不正当利益，向远方公司行贿 1 万元

D. 天奇公司董事长因玩忽职守，严重不负责任，在与外商签订贸易合同时被骗，致使国家损失 600 万元

27. 以下属于防卫过当的是()。

A. 张某欲强奸赵某，赵某趁张某不备，一砖头砸死张某

B. 小明发觉王某正在偷窃自己的钱包，摸出水果刀，一刀刺死王某

C. 陈某在一头疯牛冲过来的时候，急忙躲进别人的屋里

D. 张某见郑某正在持刀抢劫一少女的手机，趁郑某不备，一棍子将郑某打伤

28. 民事法律行为成立的条件不包括()。

A. 行为人具有相应的民事行为能力

B. 有承担行为后果的财力

C. 不违反法律

《2011 年公务员考试行测考试 100 套华图真题》

- D. 采用法律要求的形式
29. 下列不属于民事诉讼的一项是 ()。
- A. 李某和妻子感情破裂，遂向法院起诉，要求离婚并分割财产
- B. 张某被公安机关拘留 15 日，他认为公安机关的做法是违法的，故提起诉讼
- C. 赵某为取回邻居欠他的一万元债而起诉
- D. 王奶奶到法院起诉，要求她的儿子必须按时给她赡养费
30. 某工厂有法人资格，法人应该是 ()。
- A. 该厂厂长
- B. 该厂的党支部书记
- C. 该厂
- D. 该厂的工会主席

经济常识（常识部分）答案

1. B 2. C 3. B 4. C 5. B 6. C 7. C 8. A
9. D 10. A 11. A 12. D 13. A 14. B 15. A 16. D
17. A 18. A 19. C 20. C 21. D 22. A 23. B 24. C
25. D 26. B 27. B 28. B 29. B 30. C

公务员行政知识阅读篇 - 法律篇

对于法律专业的学生来说，行政职业能力测验中的法律常识是非常简单的；但对于非法律专业的学生来说，又是非常棘手的，原因在于他们没学过法律，更不知道会考些什么。为了帮助广大考生把握复习方向，明确复习重点，下面就一些经常会考到的知识点作简要论述。

一、法律的概念

法，是由国家制定或认可，并由国家强制力保证实施的，反映统治阶级意志的规范体系，这一意志的内容是由统治阶级的物质生活条件决定的，它通过规定人们相互关系中的权利和义务，确认、保护和发展对统治阶级有利的社会关系和社会秩序。

二、当代中国的法律体系

法律体系，也称为部门法体系，是指一国的现行法律规范，按照一定的标准和原则，划分为不同的法律部门而形成的内部和谐一致、有机联系的整体。当代中国的法律体系通常包括下列部门法：宪法、行政法、刑法、民法、商法、经济法、劳动与社会保障法、自然资源与环境保护法、诉讼法。

三、宪法修正案(四)

第十届全国人民代表大会第二次会议于 2004 年 3 月 14 日通过了中华人民共和国宪法修正案。由于宪法是国家的根本大法，具有最高法律效力和权威，因此对于宪法的每一次修改，都会引起各界的广泛关注。这一次修改是对 1982 年宪法的第四次修改，共 14 条。

四、《中华人民共和国行政许可法》的颁布实施

2003 年 8 月 27 日，备受关注的《中华人民共和国行政许可法》获第十届全国人民代表大会常务委员会第四次会议通过，2004 年 7 月 1 日起正式施行。该法

《2011 年公务员考试行测考试 100 套华图真题》

的颁布与实施，是继 1989 年《行政诉讼法》及 1996 年《行政处罚法》颁布实施后行政法制建设领域又一部极其重要的法律，是我国民主法制建设史上的又一座里程碑。

五、行政赔偿

行政赔偿，是指国家行政机关或者行政机关的工作人员，在行使职权时侵犯了公民、法人或者其他组织的合法权益，并造成了损害，由行政机关作为赔偿义务机关对造成的损害履行赔偿义务。构成行政赔偿的，必须同时具备以下四个条件：

(1) 必须是行政机关行使职权的行为。

(2) 必须是行为依法确认违法的。

(3) 必须存在损害事实。

(4) 损害事实是在执行公务、行使行政管理权过程中发生的，而且与违法的具体行政行为有因果关系。

根据《行政诉讼法》第 68 条规定，行政机关作出的具体行政行为造成的损害，由该行政机关负责赔偿；行政机关工作人员作出的具体行政行为造成的损害，由该工作人员所在的行政机关负责赔偿，行政机关赔偿后，应当责令有故意或者重大过失的行政机关工作人员承担部分或者全部赔偿费用。

六、犯罪

《刑法》第 13 条规定：“一切危害国家主权、领土完整和安全，分裂国家、颠覆人民民主专政的政权和推翻社会主义制度，破坏社会秩序和经济秩序，侵犯国有财产或者劳动群众集体所有的财产，侵犯公民私人所有的财产，侵犯公民的人身权利、民主权利和其他权利，以及其他危害社会的行为，依照法律应当受刑罚处罚的，都是犯罪，但是情节显著轻微危害不大的，不认为是犯罪。”

七、年龄与承担刑事责任的关系

(1) 我国刑法规定公民完全承担刑事责任年龄为 16 周岁，相对负刑事责任年龄为 14 周岁，完全不负刑事责任年龄为 14 周岁以下。

(2) 已满 14 周岁的公民，犯以下各罪应承担刑事责任：故意杀人、故意伤害致人重伤或死亡、强奸、抢劫、贩卖毒品、放火、爆炸、投毒。

八、刑事追诉时效期限

犯罪行为经过下列期限不再追诉：

(1) 法定最高刑为不满 5 年有期徒刑的经过 5 年；

(2) 法定最高刑为 5 年以上不满 10 年有期徒刑的经过 10 年；

(3) 法定最高刑为 10 年以上不满 15 年有期徒刑的经过 15 年；

(4) 法定最高刑为无期徒刑、死刑的经过 20 年，如果 20 年以后认为必须追诉的须报请最高人民检察院核准。

在人民检察院、公安机关、国家安全机关立案侦查或者人民法院受理案件以后逃避侦查或者审判的，不受追诉时效期限的限制，被害人在追诉期限内提出控告，人民法院、人民检察院、公安机关应当立案而不予立案的，不受追诉期限的限制。

追诉期限从犯罪之日起计算，犯罪行为有连续或继续状态的，从犯罪行为终了之日起计算，在追诉期限以内又犯罪的前罪追诉的期限从犯后罪之日起计算。

九、合同的一般条款

除由法律、法规直接规定外，合同双方当事人的权利义务是通过合同条款来确定的。因此，《合同法》第 12 条规定，合同的内容由当事人约定，但一般包括

《2011年公务员考试行测考试100套华图真题》

以下条款：

(1) 当事人的姓名或者名称和住所。(2) 标的。(3) 数量。(4) 质量。(5) 价款或者报酬。(6) 履行期限、地点和方式。

十、解决合同争议的途径

公正地及时地解决合同争议对于保护当事人的合法权益，加强合同领域的法治建设，有着不可忽视的重大意义。根据《合同法》第128条之规定，当事人可以通过4种途径解决合同争议，即：(1) 协商和解；(2) 调解；(3) 提请仲裁机构仲裁；(4) 向人民法院提起诉讼。当事人不愿和解、调解或者和解、调解不成的，可以根据仲裁协议向仲裁机构申请仲裁。涉外合同的当事人可以根据仲裁协议向中国仲裁机构或者其他仲裁机构申请仲裁。当事人没有订立仲裁协议或者仲裁协议无效的，可以向人民法院起诉。当事人应当履行发生法律效力的判决、仲裁裁决、调解书；拒不履行的，对方可以请求人民法院执行。

十一、劳动争议的解决

因签订、履行劳动合同发生的劳动争议，当事人可以向本单位劳动争议调解委员会申请调解，调解不成，当事人一方要求仲裁的，应当自劳动争议发生之日起六十日内向劳动争议仲裁委员会提出书面申请。当事人一方也可以直接向劳动争议仲裁委员会申请仲裁。对仲裁裁决不服的，可以向人民法院提起诉讼。

十二、关于民间借贷

(1) 民间借贷的利率可以适当高于银行的利率，但最高不得超过银行同类贷款利率的四倍（包含利率本数）。

(2) 根据我国的法律规定和司法实践，借款的利息不得预先在本金中扣除。在借款时将利息扣除的，应当按实际借款数返还并计算利息。

(3) 在借贷关系中，仅起联系、介绍作用，对债务的履行没有保证意思表示的，不承担保证责任。

(4) 有保证人的借贷债务到期后，债务人有清偿能力的，由债务人承担责任；债务人不能履行债务的或者债务人下落不明的，由保证人承担连带责任。

十三、无效婚姻、可撤销婚姻

修订后的婚姻法增设了无效婚姻和可撤销婚姻制度，规定：

(一) 有下列情形之一的，婚姻无效：(1) 重婚的；(2) 有禁止结婚的亲属关系的；(3) 婚前患有医学上认为不应当结婚的疾病，婚后尚未治愈的；(4) 未到法定婚龄的。

(二) 因胁迫结婚的，受胁迫的一方可以向婚姻登记机关或人民法院请求撤销该婚姻。

(三) 无效或被撤销的婚姻，自始无效。当事人不具有夫妻的权利义务。同居期间所得的财产，由当事人协议处理，协议不成时，由人民法院根据照顾无过错方利益的原则判决。对重婚导致的婚姻无效的财产处理，不得侵害合法婚姻当事人的财产权益。当事人所生的子女，适用本法有关父母子女的规定。

十四、夫妻共同财产、个人所有财产和约定财产

修改后的婚姻法对夫妻共同财产、个人特有财产和约定财产制作出具体规定：

1. 共同财产，规定：夫妻在婚姻关系存续期间所得的下列财产，归夫妻共同所有：(1) 工资、奖金；(2) 生产、经营的收益；(3) 知识产权的收益；(4) 因继承或赠予所得的财产，但遗嘱或赠予合同中确定只归夫或妻一方的财产除外；(5) 其他共同所有的财产。

2. 个人所有财产，规定：有下列情形之一的，为夫妻一方的财产：(1) 一方

《2011年公务员考试行测考试 100 套华图真题》

的婚前财产；(2) 一方因身体受到伤害获得的医疗费、残疾人生活补助费等费用；(3) 遗嘱或赠与合同中确定只归夫或妻一方的财产；(4) 一方专用的生活用品；(5) 其他应当归一方的财产。

3. 约定财产，规定：(1) 夫妻可以约定婚姻关系存续期间所得的财产以及婚前财产归共同所有、各自所有或部分共同所有、部分各自所有。没有约定或约定不明确的，适用婚姻法关于共同财产制或个人财产制的规定。(2) 夫妻对婚姻关系存续期间所得的财产以及婚前财产的约定，对双方具有约束力。(3) 夫妻对婚姻关系存续期间所得的财产约定归各自所有的，夫或妻一方对外所负的债务，第三人知道该约定的，以夫或妻一方的财产清偿。(4) 离婚时，原为夫妻共同生活所负的债务，应当共同偿还。共同财产不足清偿的，或财产归各自所有的，由双方协议清偿，协议不成时，由人民法院判决。

十五、遗产

根据《继承法》的有关规定，遗产必须符合三个特征：第一，必须是公民死亡时遗留的财产；第二，必须是公民个人所有的财产；第三，必须是合法财产。这三个条件必须同时具备，才能成为遗产。遗产包括以下几项：

(1) 公民的合法收入。如，工资、奖金、存款利息、从事合法经营的收入、继承或接受赠予所得的财产。

(2) 公民的房屋、储蓄、生活用品。

(3) 公民的树木、牲畜和家禽。树木，主要指公民在宅基地上自种的树木和自留山上种的树木。

(4) 公民的文物、图书资料。公民的文物一般指公民自己收藏的书画、古玩、艺术品等。如果上述文物之中有特别珍贵的文物，应按《中华人民共和国文物保护法》的有关规定处理。

(5) 法律允许公民个人所有的生产资料。如农村承包专业户的汽车、拖拉机、加工机具等。城市个体经营者、华侨和港、澳、台同胞在内地投资所拥有的各类生产资料。

(6) 公民的著作权、专利权中的财产权利，即基于公民的著作被出版而获得的稿费、奖

金，或者因发明被利用而取得的专利转让费和专利使用费等。

(7) 公民的其他合法财产，如公民的国库券、债券、股票等有价证券，复员、转业军人

的复员费、转业费，公民的离退休金、养老金等。

十六、法定继承的顺序

法定继承，遗产按照下列顺序继承：

第一顺序：配偶、父母、子女。

第二顺序：兄弟姐妹、祖父母、外祖父母。

继承开始后，由第一顺序继承人继承，第二顺序继承人不继承。没有第一顺序继承人继承的，由第二顺序继承人继承。

继承法所说的子女，包括婚生子女、非婚生子女、养子女和有扶养关系的继子女。父母，包括生父母、养父母和有扶养关系的继父母。兄弟姐妹，包括同父母的兄弟姐妹、同父异母或者同母异父的兄弟姐妹、养兄弟姐妹、有扶养关系的继兄弟姐妹。

十七、仲裁

仲裁制度是指民（商）事争议的双方当事人达成协议，自愿将争议提交选定

《2011 年公务员考试行测考试 100 套华图真题》

的第三者根据一定程序规则和公正原则作出裁决，并有义务履行裁决的一种法律制度。

仲裁通常为行业性的民间活动，是一种私行为，即私人裁判行为，而非国家裁判行为，它与和解、调解、诉讼并列为解决民（商）事争议的方式。但仲裁依法受国家监督，国家通过法院对仲裁协议的效力、仲裁程序的制定以及仲裁裁决的执行和遇有当事人不自愿执行的情况时可按照审判地法律所规定的范围进行干预。因此，仲裁活动具有司法性，是中国司法制度的一个重要组成部分。

十八、证据

《民事诉讼法》第 63 条规定了证据有下列几种：

- （一）书证；
- （二）物证；
- （三）视听资料；
- （四）证人证言；
- （五）当事人的陈述；
- （六）鉴定结论；
- （七）勘验笔录。

由当事人提交的，主要有书证、物证和视听资料。书证应当提交原件，物证应当提交原物，提交原件或原物确有困难的，可以提交复制品。

十九、管辖

管辖是人民法院对符合受理条件的案件确定应由何级、何地法院受理的法律制度，分为级别管辖和地域管辖。

按照《民事诉讼法》第 29 条的规定，因侵权提起的诉讼，由侵权行为地或者被告住所地人民法院管辖。

按照《民事诉讼法》第 24 条规定，因合同纠纷提起的诉讼，由被告住所地或者合同履行地人民法院管辖。（因经济纠纷案件大都涉及合同）。

二十、简易程序

简易程序就是简化了的普通程序，是基层人民法院和它派出的法庭审理简单的民事案件所适用的程序。适用简易程序，在起诉方式、传唤方式以及开庭审理等方面比普通程序更简便易行，极大地方便了当事人进行诉讼。同时，快速、及时审结案件，可以减少当事人的讼累，提高办案效率，节省诉讼成本，并为人民法院集中力量审理好复杂、重大的民事案件腾出必要的时间和精力。

行政职业能力测验应试技巧

第一节数量关系解答技巧与题型介绍

一、数量关系的含义

对数量关系的理解与基本的运算能力，体现了一个人抽象思维的发展水平，是人类认识世界的基本能力之一。

几乎所有的智力问题专家都十分看重数量关系，并把它作为预测人们在事业上能否成功的标准之一。

数量关系的理解能力有多种表现形式，因而对其测量的方法也是多种多样的。在行政职业能力测验中主要从数字推理和数学运算两个角度来测查应试者的数量关系理解能力和反应速

《2011 年公务员考试行测考试 100 套华图真题》

度。

数量关系测验含有速度与难度测验的双重性质。在速度方面,要求应试者反应灵活,思维敏捷;在难度方面,其实是很有意思的,该测验涉及的数学知识或原理都不超过初中水平,甚至多数是小学水平的。如果时间充足,获得正确答案是不成问题的。但在一定的时间限制下,要求考生答题既快又准,个体之间的能力差异就显现出来了。可见,该测验难并不难在数字的运算上,而在于对规律的发现和把握,它实际测验的是个体的抽象思维能力。因此,解答数量关系测验题不仅要求考生具有数字知觉能力,还需要判别、分析、推理、运算等能力的综合运用。

二、数量关系题的解答方法

数量关系测验题的解答,要把握下面 5 个原则:

(1) 运算题尽可能采用心算。该测验共有 15 道题,其中 5 题是数字推理题,10 题是数学运算题,作答时限为 10 分钟。也就是说,平均一道题仅有 40 秒的时间作答,可见对速度的要求之高了。而在数量关系测验中,运算题一般比较简单,采用心算可以节省时间,将十分有限的时间尽量集中用于较难试题的解答上。

(2) 遇到一时做不出来的题目,可以先跳过去,待完成其他较容易的试题后,若有时间再回头攻坚。总之,不能在一道题目上停留太久。如果因一题解答受阻,而失去解答更多试题的机会,造成不应有的丢分,那实在太可惜了。

(3) 数字推理题应从逻辑关系上把握,不能仅从数字外形上判断。譬如,若题干数列均由奇数组成,就判定正确答案应是奇数,这种判断显然过于简单武断了。

(4) 对于数量关系测验来说,速度十分重要,但必须要在准确性的前提下来追求速度。如果做得很快却无一正确,结果毫无意义。为此,每道题最好在心算基础上都验算一次,以保证准确无误。

(5) 不少数学运算题可以采用简便的速算方法,而不需要死算。为此,拿到题目后,先花一点时间考察有没有简便算法来解题,这点时间的花费是值得的,也是必要的。如果找到简便算法,会大大减少解题所用的时间,取得事半功倍的作用。

第二节 数字推理题解答技巧与题型介绍

数字推理含义

数字推理题由题干与选项组成。

题干是由一组按某种规律排列的数字组成的(其中缺少一个数字),选项为 4 个数字,要求应试者分析题干数列的排列规律,根据规律推导出空

缺中应填入的数字,然后从选项列出的数字中选出应填的一个,将题目答案填写在答题纸上。

做数字推理题的基本思路是“尝试错误”。很多数字推理题都不能一眼就看出规律,找到答案,而要经过两三次的尝试,逐步排除错误的假设,最后才能找到正确的规律。目前这类题目倾向于越出越难,应试者更需要在心理上做好这种思想准备。当然,考前进行适度的练习,注意总结经验,了解有关的出题形式,会使考试时更为得心应手。

《2011 年公务员考试行测考试 100 套华图真题》

数字推理题难度较大，但并非无规律可循，了解和掌握一定的方法和技巧，对解答数字推理问题大有帮助。

(1) 在解答数字推理题时，反应要快，一般要先快速扫描已给出的几个数字，仔细观察和分析各数之间的关系，尤其是前三个数之间的关系，大胆假设出一种符合这个数字关系的规律，并迅速将这种假设应用到下一个数字之间的关系上，如果得到验证，就说明假设的规律是正确的，问题即迎刃而解；如果假设被否定，马上改变思路，提出另一种数量规律的假设。如此反复，直到找到正确规律为止。当然，有一些题型是需要首先考察前三项（如前两项之和等于第三项的数字排列规律）甚至是前四项（如双重数列的排列规律）才会发现规律的。另外，有时从后往前推，或者“中间开花”向两边推也是较为有效的。

(2) 推导规律时，往往需要简单计算，为节省时间，要尽量多用心算，少用笔算或不用笔算。

(3) 空缺项在最后的，从前往后推导规律；空缺项在最前面的，则从后往前寻找规律；空缺项在中间的可以两边同时推导。

(4) 若一时难以找出规律，可用常见的规律来“对号入座”，加以验证。常见的排列规律有：

① 奇偶数规律：各个数都是奇数（单数）或偶数（双数）。

② 等差：相邻数之间的差值相等，整个数字序列依列递增或递减。

③ 等比：相邻数之间的比值相等，整个数字序列依次递增或递减。

④ 二级等差：相邻数之间的差或比构成了一个等差数列。

⑤ 二级等比数列：相邻数之间的差或比构成一个等比数列。

⑥ 加法规律：前两个数之和等于第三个数。

⑦ 减法规律：前两个数之差等于第三个数。

⑧ 乘法（除法）规律：前两个数之乘积（或相除）等于第三个数。

⑨ 完全平方数：数列中蕴含着一个完全平方数序列，或明显、或隐含。

⑩ 混合型规律：由以上基本规律组合而成，可以是二级、三级的基本规律，也可能是两个规律的数列交叉组合成一个数列。需要补充说明一点，近年来数学推理题的趋势是越来越难。因此，当遇到难题时，可以先跳过去做其他较容易的题目，等有时间再返回来答难题。这种处理不但节省了时间，保证了容易题目的得分率，甚至会对难题的解答有所帮助。有时一道题之所以解不出来，是因为我们的思路走进了死胡同，无法变化角度思考问题。此时，与其死“卡”在这里，不如抛开这道题做别的题。在做其他题的过程中也许就会有新的解题思路。在解答阅读理解试题时，考生应注意以下一些重要环节。

1. 注重对文章中关键词语的理解

阅读理解的困难之一，主要表现为对文章中一些关键词语的正确理解。

它又分为两种情况：一是意义明显的，可以在上下文中找到解释；另一种情况是意义隐晦的词语，虽然在语言环境中具体的内容，但作者并没有把它用文字明确地表示出来，需要应试者调动自己以往的知识和经验，通过归纳和分析，用自己的语言表达出来。

针对文章中关键词语出题的基本形式，是词语替换和选词填空，即原有的两种基本题型。另外，还有可能直接让考生判别关键词的准确含义或挑出用得不当的词语。在解答这些题时，考生应把握以下两点：

(1) 首先要准确理解整个句子的意义。一个词只有在具体的语言环境中才有其确切含义，只有依靠具体的语言环境，才能把词义理解准确、透彻。对字义、

《2011 年公务员考试行测考试 100 套华图真题》

词义的理解，其基本原则是“字不离词，词不离句”。

(2) 把选项中的词代入到句中，默念一遍，找语感。

2. 注重对文章中的关键语句的理解

关键语句是指在文章中起关键作用的语句，在意义或结构上起衔接、照应的作用。要理解它们的含义，离不开具体的语言环境。

在应付针对关键语句命制的试题时，考生应注意以下两点：

(1) 熟悉基本的语法知识，依靠语法知识对句子进行分析，重点检查句子成分是否残缺，搭配是否恰当，次序是否合理，定语修饰的主体是否明确等等。

(2) 要依赖于语感，注重语意表达的准确性。

3. 对片段或文章的概括理解能力

概括文章的内容，是一种从具体到抽象、从个别到一般、从现象到本质的提炼与升华过程。在这个过程中，要做到内容完整而不片面、语言恰当而不偏颇、文字简明而不拖沓。当然，阅读的主要目的是从书面语言中吸取有用的信息，这些信息往往分布在文章的各个部分。因此，阅读理解不仅仅是对某一个词语或语句的分析，更重要的是对文章的大量重要信息进行筛选，以便作出正确的理解。

4. 把握作者的写作意图和目的

这一点至关重要。考生可通过以下途径来实现这个目标：

(1) 首先应对整篇文章有完整、准确的理解，从总体上把握文章的主题；

(2) 要善于抓住文中关键句子或关键词，它们有时会出现于文章的开头，有时也会出现在文章的结尾或中间；

(3) 要对文章的引申含义进行分析和深加工；

(4) 从选项与原文在意思上是否一致入手。

(一) 事件排序的技巧

事件排序主要是考查应试者为掌握全部事实的条件下解决问题的能力，一般都是基本

的生活事实，可以根据生活常识来判断，这里介绍几种方法：

(1) 排除法。

做这类题首先迅速看一遍题干，粗略判断最先环节或者最后一个环节，把备选答案中最不可能的选项排除。

(2) 假设法。迅速浏览一遍题干，利用自己掌握的基本常识做出判断，并对已知的事实做出大胆的假设，然后按事件发生的先后顺序进行排列。

(3) 合理性。看完题干对所给出的事实有一定的了解，根据自己已有的知识，做出合理的分析，从反向的角度进行推理，从而得到正确的顺序。

(二) 图形推理的技巧

从近年来中央、国家机关录用考试的情况看，图形推理基本包括两套图形。这类试题的解答需要掌握一定的技巧和方法。

(1) 排除法。先观察给出的图形，找出大概的规律性，再看备选图形，把最明显违背这一规律的予以排除。

(2) 观察点。仔细观察，同时注意常考的基本观察点，主要有方向性，元素的多少，折叠伸展、形状的相似性等。

(三) 演绎推理的技巧

(1) 掌握法则。行政职业能力考试考查的演绎推理包括简单推理和复杂推理，多数是逻辑性的，要掌握一定的推断法则，由于在演绎推理中，前提与结论之间有必然性的联系，结论不能超出前提所断定的范围。因此，在解答此种试题

《2011年公务员考试行测考试100套华图真题》

时，必须紧扣题干部分陈述的内容，正确答案应与所给的陈述相符。

(2) 直接推出。这部分试题的备选答案一般都具有很强的迷惑性，每个选项看上去都有道理，但有道理并不等于与这段陈述相关。所以要选择与陈述直接有关的，即从陈述中直接推出答案。

(3) 避免干扰。演绎推理过程包括一系列的语句，其中最后一句是结论，它是从前几句的逻辑中推理出来的。结论的正确性取决于前提的正确性。然而在行政职业能力考试中，题干的陈述有的合乎常理，有的可能不太合乎常理。但必须明白这段陈述被假设是正确的，不容置疑的，所以避免为常理所干扰。

(四) 定义判断的技巧

(1) 抓住关键。在定义判断中，一定要理解定义的正确含义，抓住定义的关键，然后把选项与定义相对照，选择符合定义规定和要求的选项。

(2) 对比排除。仔细读完题干定义，对备选项进行分析，不符合题干定义要求的逐个对比排除。

一、邓小平理论的形成

首先，邓小平理论是总结我国和其他社会主义国家进行社会主义建设的历史经验和教训，对社会主义进行再认识的产物。

其次，当代国际形势的新发展所形成的新的时代特征，要求社会主义顺乎世界潮流，反映时代变化，这是邓小平理论形成的国际大背景。

二、邓小平理论的探索与实践过程

十二大以后，确立了解放思想、实事求是的思想路线，将工作中心转移到经济建设上来，并及时提出必须坚持四项基本原则，初步形成“一个中心，两个基本点”的思想。

十二大到十三大，提出社会主义商品经济和社会主义初级阶段理论。

十三大系统地论证了社会主义初级阶段的理论和党在社会主义初级阶段的基本路线，阐述了党在十一届三中全会以来社会主义理论方面取得的成果，回答了我国社会主义建设的发展阶段、任务、动力、条件、步骤以及所处的国际环境和时代特征问题，构成了邓小平理论的基本轮廓。

十四大对建设有中国特色社会主义理论的形成、基本内容做了全面的概括和论述，并将建立社会主义市场经济体制确立为我国经济体制改革的目标，至此，邓小平理论形成比较完整的科学体系。

三、邓小平理论精髓

邓小平理论的精髓是解放思想、实事求是。其二者的共同要求是：人的主观认识要符合客观实际，要随着实践的发展而发展。

首要问题是要搞清楚什么是社会主义、怎样建设社会主义。社会主义的本质：“解放生产力，发展生产力，消灭剥削，消除两极分化，最终达到共同富裕”。

四、社会主义初级阶段

社会主义初级阶段的基本特征 首先，我国已具备了社会主义社会的一般特征：GCD领导的人民民主专政的国家政权；以马克思主义为指导的思想文化；以公有制和按劳分配为主体的经济基础。

其次，我国尚处于不发达的社会主义阶段。

第三，建设社会主义需要一个较长的历史阶段。

五、社会主义初级阶段的主要矛盾

《2011 年公务员考试行测考试 100 套华图真题》

在社会主义基本完成以后,我国的主要矛盾是人民日益增长的物质文化需要同落后的社会生产力之间的矛盾。

社会主义初级阶段的主要矛盾决定了党和国家的工作中心是经济建设,根本任务是集中力量发展社会生产力。

党在社会主义初级阶段的基本路线 我国还处在社会主义初级阶段的科学论述是邓小平建设有中国特色社会主义理论的重要基础,是我们制定路线、方针、政策的根本出发点。

党在社会主义初级阶段的基本路线是:“领导和团结全国各族人民,以经济建设为中心,坚持四项基本原则,坚持改革开放,自力更生,艰苦创业,为把我国建设成为富强、民主、文明的社会主义现代化国家而奋斗。”

社会主义的根本任务是发展生产力:

六、三个有利于判断的标准是

是否有利于发展社会主义社会的生产力,是否有利于增强社会主义国家的综合国力,是否有利于提高人民的生活水平。

七、社会主义市场经济基本特征

与资本主义经济的共同特征:企业的自主经营,资源配置的市场性,经济活动的开放性,完善的市场体系,市场管理的法制性,宏观调控的间接性,市场竞争的平等性。

社会主义市场经济自身特征:(1)在所有制结构上,以公有制为主体,多种所有制经济共同发展。(2)在分配制度上,坚持按劳分配为主体,多种分配方式并存的制度。(3)在宏观调控上,能把人民的当前利益与长远利益、局部利益与整体利益结合起来,更好地发挥计划和市场两手段的长处。(4)在政治制度上,中国共产党领导下的人民民主政权是社会主义的基本政治制度。

八、现代企业制度

现代企业制度是以企业法人制度为主体、以有限责任制度为核心、以经营为特征的新型企业制度。

企业制度的形式:个人业主企业;合伙制企业;公司制企业

我国要建立的现代企业制度特征:(1)产权清晰:主要是由法律明确界定出包括国家在内的出资者权利和企业法人财产权利,实现出资者所有权与法人财产权的分离。(2)权责明晰:指所有者(出资者)同企业经营者有各自明确的权利和责任。(3)政企分开:企业和政府之间不存在行政机构的隶属关系,政府作为社会经济管理者不能直接干预企业的生产经营活动。(4)管理科学:指建立科学的企业领导体系和组织管理制度,调节所有者、经营者和职工之间的关系,形成激励和约束相结合的经营机制。建立合理的决策、执行和监督体系,防止国有资产流失

九、市场体系

市场体系是相互联系各类市场的有机统一体,商品市场、资本市场、劳动力市场是市场体系的最基本内容,是市场体系的三大支柱。

市场体系中的各类市场

(1)商品市场主要包括消费资料市场和生产资料市场。

消费资料市场的特点:多样性、层次性、分散性、流动性。

生产资料市场的特点:购买者以各类企业为主;以中间产品的交换为主;生产企业对生产资料的需求变化小但需求量大;需求相对稳定,决定了生产资料市场有可能相对集中和相对独立,有利于发展期货市场。

《2011年公务员考试行测考试100套华图真题》

生产资料市场的功能：制约社会发展的速度和规模；制约社会物质资料的生产结构；制约社会经济资源的配置。

(2) 金融市场：金融是指货币资金的融通，包括货币的发行、流通和回笼，贷款的吸收和提取，贷款的发放和收回，投资资金的筹集等一切与货币流通有关的活动。

金融市场的主要作用：引导资金合理配置资源；聚集资金扩大生产规模；影响利率实现宏观调控；提供竞争改善经营管理。

(3) 劳动力市场：劳动力市场是指劳动力进行流通和交流的场所。其作用是运用市场机制调节劳动力供求关系，推动人才的合理流动，实现劳动力资源的合理配置。劳动力市场上流动的是人的劳动能力，包括体力和智力两个方面。

在市场经济条件下，劳动力的供求是由市场机制决定的，劳动力市场的特点在于：具有很强的地域性；具有流动性；具有相对稳定性；具有双向选择性。

(4) 房地产市场

房地产的市场组织形式主要有六种：

A. 土地的一级市场。由国家采取公开拍卖、招标、协议等方式^{①②}或划拨土地使用权。

B. 房地产开发市场。主要包括资金筹措和建筑施工两大环节的活动。

C. 房地产交易市场。指有组织、有领导建立的有形房地产交易市场。包括所有与房地产经营有关的活动，如集资建房、房屋互换、房地产信托代办、新房^{①②}和预售、旧房的买卖和租赁。

D. 商品销售市场。有两种形式：房屋产权^{①②}；房屋使用权的转让。

E. 房地产金融市场。

F. 涉外房地产市场

(5) 技术和信息市场

广义的技术市场是指技术商品交换关系的总和，包括技术商品的开发、应用和流通的全过程；狭义的技术市场是指技术商品交换的场所。

(6) 期货市场

狭义的期货市场是指期货交易的场所，即期货交易所；广义的期货市场是指构成期货交易的全部要素，包括交易所、经纪公司、结算所、期货交易等。

十、宏观调控的目标和手段

宏观调控体系与现代企业制度、市场体系、收入分配制度和社会保障制度构成社会主义市场经济体制的基本框架。

党的十四届三中全会《中共中央关于建立社会主义市场经济体制若干问题的决定》中要求建立以间接手段为主的完善的宏观调控体系。

宏观调控的目标：保持社会总供给与总需求的基本平衡；保持国民经济的适度增长率；合理调整产业结构；保持物价总水平的基本稳定；实现劳动力的充分就业；公平的收入分配；国际收支平衡。

宏观调控的基本手段：经济手段(为主)；行政手段；法律手段。

宏观调控的经济政策：财政政策；货币政策；产业政策。

十一、社会保障制度

(1) 社会保险。是社会保障的核心内容，是社会保障体系的基本纲领，起到补偿劳动者收入损失的功能。

(2) 社会救助。其目的是帮助社会成员获得最低限度的生活条件，是社会保障体系中的最低纲领。

《2011 年公务员考试行测考试 100 套华图真题》

(3) 社会福利。一个国家的社会福利状况,是其国民经济发展水平的重要反映,是社会保障体系的最高纲领。

(4) 社会优抚。是社会保障体系中的特殊纲领。

(5) 社会互助和个人储蓄积累。是社会保障体系的补充纲领。

十二、改革

改革是社会发展的动力,是解决社会主义社会基本矛盾,推动社会主义发展的直接动力。

我国经济体制改革的目标是逐步完善和建立社会主义市场经济体制,

政治保证 坚持四项基本原则是党在社会主义初级阶段基本路线的两个基本点之一,是立国之本,是社会主义建设的政治保证。

中国 GCD 的领导是四项基本原则的核心,也是建设有中国特色社会主义的根本保证。

深入、扎实、持久地用邓小平理论武装全党,是党的建设的首要任务。

十三、外交政策

独立自主是我国外交政策的根本原则,维护我国的独立和主权,促进世界的和平发展,是我国外交政策的基本目标。

和平共处五项原则是我国处理国际关系的基本原则。

反对霸权主义和强权政治,维护世界和平,是我国对外政策的基本方针和首要任务。

建立国际经济政治新秩序,是我国外交为之奋斗的基本目标。

十四、一国两制

1979 年邓小平同志出访美国时表示:“只要台湾和大陆统一,我们将尊重台湾的生活方式和现行制度。”首次表达了一国两制的思想。

1982 年邓小平同志在会见撒切尔夫人时,对关于恢复香港主权问题,明确提出可以用“一个国家,两种制度”的方法解决。

1984 年第六届人大二次会议将“一国两制”作为基本国策。

1997 年 7 月 1 日,香港回归祖国。

1999 年 12 月 20 日,澳门回归祖国

公务员考试行测常识判断—信息技术知识判断

1. 在计算机中,用文字、图像、语言、情景、现象等所表示的内容都可称为信息。

2. 信息的主要特征:可传递性和共享性、载体的可变换性、可处理性和可增值性;

3. 信息技术 (Information Technology, IT) 主要包括感测技术、通信技术、计算机技术、控制技术等。

4. 信息技术的五次革命:语言的使用、文字的使用、印刷术的使用、电报电话广播电视的发明和普及、计算机技术与现代通讯技术的发明和使用。第五次信息技术革命将人类社会推进到信息化时代。

5. 1946 年 2 月在美国宾夕法尼亚大学(),世界上第一台被称作 ENIAC 的电子计算机在美国问世,美籍匈牙利数学家冯·诺依曼是主要设计者之一,他的理论的最基本思想是存储程序和程序控制。

6. 计算机发展的四个阶段:第一代计算机(1946-1957)主要部件为电子管;第二代计算机(1958-1964)主要部件为晶体管;第三代计算机(1965-1970)主

《2011 年公务员考试行测考试 100 套华图真题》

要部件为中小规模集成电路；第四代计算机（1971 到现在）主要部件大规模或超大规模集成电路。电子计算机主要就是以电子元件划分发展阶段的。我们现在所使用的个人计算机（简称微机）属于第四代计算机，它是在 70 年代随着集成电路的发展而发展起来的，而最早的计算机主要由电子管元件组成的，其用途主要是用于科学计算。

7. 计算机的主要特点有：惊人的运算速度是计算机的重要特征，除此以外还有很高的计算机精度、超强的存贮能力、准确的逻辑判断能力、自动控制能力。

8. 计算机的应用主要应用在：数值计算、信息处理、过程控制、计算机辅助系统、人工智能。

9. 信息、物质、能源并称为人类社会必不可少的三大资源，计算机是处理信息的最重要工具。

10. 信息处理是指运用计算机实现信息的收集、加工、存贮和传输、利用信息进行决策的全过程。

11. CAI：多媒体辅助教学系统，CAD：计算机辅助设计系统，CAM：计算机辅助制造。

12. 计算机的分类：根据规模大小可分为巨型计算机、大型计算机、中型计算机、小型计算机、微型计算机五类

13. 计算机的发展方向将向网络化、智能化、高度集成化的方向发展

14. 一台完整的计算机必须由软件和硬件两部分组成

15. 计算机硬件一般由运算器、控制器、存贮器、输入设备和输出设备五部分组成。

16. 中央处理器简称 CPU，由运算器和控制器组成，计算机的最主要部件，是计算机的“中枢神经”。CPU 的好坏、档次高低，基本决定一台计算机的好坏与档次高低，CPU 是计算机的核心部件。主频是 CPU 的运算速度的标志，数字越大，运算速度越快，即 CPU 越好。

17. 存储器分为内存储器（简称内存）和外存储器（简称辅存）组成；内存储器又由只读存储器（ROM）和随机存储器（RAM）两部分组成；只读存贮器（ROM）存贮计算机本身特征，内部数据，不能修改，能长久保存内部数据，容量较小；随机存贮器（RAM）是 CPU 吞吐数据的场所，其存贮的内容可读可写，关机或停电后，存贮内容全部丢失。内存条是计算机的主存中的 RAM 部分。辅助存储器主要有硬盘、软盘、光盘、优盘等。

18. 输入设备：键盘、鼠标、手写笔、麦克风、扫描仪（Scanner）、视频输入设备、条形码扫描器、数码相机、数码摄像机等向计算机输入数据与指令的设备。

19. 输出设备：显示器、打印机、绘图仪、音箱等向操作提供输出结果的设备。

20. 既属于输入设备又属于输出设备的有：磁盘驱动器、触摸屏显示器等。

21. 存贮速度最快而容量最小的是 CPU 内部的寄存器。访问速度由快到慢依次是快存（寄存器）、主存、辅存。

22. 计算机软件一般分为系统软件、应用软件、应用支持软件三大类。

23. 计算机是通过电信号来控制电脑操作的，这些简单的电信号及其组合被称为计算机的指令，这些指令用一系列的二进制符号表示（即 0 和 1 表示），计算机能直接读懂他们，所以称这些二进制指令及其所代表的意义为机器语言。机器语言属于低级语言。计算机所能直接识别和执行的语言就只有机器语言。

《2011 年公务员考试行测考试 100 套华图真题》

24. 1 字节的空间能存贮一个英文字符的编码, 而需 2 字节才能存贮下一个汉字的编码

25. 文件是一个个的应用程序或一些数据资料, 是计算机里组织信息的基本单元。文件夹是计算机用来将一些列相关的程序和数据文件关联在一起的组织形式。文件名的组成: 主文件名. 文件扩展名。主文件名和文件扩展名中间用英文句点隔开。文件扩展名决定了文件的类型。计算机内的数据和程序都是以文件形式存储在磁盘上的。文件的创建日期和最新修改日期可以在资源管理器中看到。在树型目录结构中, 同一个磁盘的同一个文件目录下不允许出现两个文件名(包括主文件名和扩展文件名)完全相同。

26. Windows 资源管理器是 Windows 系统的重要内容, 是系统提供给用户管理软硬件资源的界面。某些资源名前带有“+”号的方框, 表示该资源可被展开并显示下属关系, 点击该方框则展开; 有的带有“-”号的方框, 表示其下属关系已展开, 点击则该方框折叠。文件查找是资源管理器的一项重要功能。两个通配符“*”和“?”的使用方法区别, “*”可以代表任何多个字符, “?”只代表一个字符。

27. Windows 系统启动后在内存中开辟一块空间, 称做剪贴板。

28. Windows98 中的回收站是一个特殊的文件夹, 存放的只能是硬盘上被删除的文件或文件夹; 从软盘或优盘上删除的文件或文件夹, 将会被直接删除而不会放到回收站去。

29. 文件类型: .txt——纯文本文件(记事本生成的默认文件)、.doc——Word 生成的文本文件、图像文件主要有: .bmp、.jpg、.gif 等; 声音文件主要有: .wav、.mid、.mp3、.wma 等; 视频动画文件主要有: .mpg、.avi、.mov 等。可执行文件有: 扩展名为 .exe 的可执行文件、.com 的命令文件、.bat 的批处理文件三类。如果在同一目录下存在两个或三个扩展名不同而主文件名相同的可执行文件, 则计算机每次只能执行其中一个, 其执行的优先顺序为: .com、.exe、.bat

30. 计算机病毒最早出现于上世纪 80 年代, 所谓的计算机病毒, 实质上它是人为制造、蓄意编制的一种特殊程序。其特殊性表现在隐蔽性、繁衍性、传染性、破坏性等方面。

31. 计算机的产生与发展

计算机的产生是 20 世纪最重要的科学技术大事件之一。世界上的第一台计算机(ENIAC)于 1946 年诞生在美国宾夕法尼亚大学, 到目前为止, 计算机的发展大致经历了四代:

① 第一代电子管计算机, 始于 1946 年, 结构上以 CPU 为中心, 使用计算机语言, 速度慢, 存储量小, 主要用于数值计算;

② 第二代晶体管计算机, 始于 1958 年, 结构上以存储器为中心, 使用高级语言, 应用范围扩大到数据处理和工业控制;

③ 第三代中小规模集成电路计算机, 始于 1964 年, 结构上仍以存储器为中心, 增加了多种外部设备, 软件得到了一定的发展, 文字图象处理功能加强;

④ 第四代大规模和超大规模集成电路计算机, 始于 1971 年, 应用更广泛, 很多核心部件可集成在一个或多个芯片上, 从而出现了微型计算机。

我国从 1956 年开始电子计算机的科研和教学工作, 1983 年研制成功 1 亿/秒运算速度的“银河”巨型计算机, 1992 年 11 月研制成功 10 亿/秒运算速度的“银河 II”巨型计算机, 1997 年研制了每秒 130 亿运算速度的“银河 III”巨型计算机。

《2011 年公务员考试行测考试 100 套华图真题》

目前计算机的发展向微型化和巨型化、多媒体化和网络化方向发展。计算机的通信产业已经成为新型的高科技产业。计算机网络的出现,改变了人们的工作方式、学习方式、思维方式和生活方式。

32. 计算机的系统组成

计算机系统由软件和硬件两部分组成。硬件即构成计算机的电子元器件;软件即程序和有关文档资料。

(1) 计算机的主要硬件

输入设备:键盘、鼠标、扫描仪等。

输出设备:显示器、打印机、绘图仪等。

中央处理器(CPU):包括控制器和运算器运算器,可以进行算术运算和逻辑运算;控制器是计算机的指挥系统,它的操作过程是取指令——分析指令——执行指令。

存储器:具有记忆功能的物理器件,用于存储信息。存储器分为内存和外存

①内存是半导体存储器(主存):

它分为只读存储器(ROM)和随机存储器(RAM)和高速缓冲存储器(Cache);

ROM:只能读,不能用普通方法写入,通常由厂家生产时写入,写入后数据不容易丢失,也可以用特殊方法(如紫外线擦除(EPROM)或电擦除(EEPROM)存储器);

RAM:可读可写,断电后内容全部丢失;

Cache:因为CPU读写RAM的时间需要等待,为了减少等待时间,在RAM和CPU间需要设置高速缓存Cache,断电后其内容丢失。

②外存:磁性存储器——软盘和硬盘;光电存储器——光盘,它们可以作为永久存储器;

③存储器的两个重要技术指标:存取速度和存储容量。内存的存取速度最快(与CPU速度相匹配),软盘存取速度最慢。存储容量是指存储的信息量,它用字节(Byte)作为基本单位,

1字节用8位二进制数表示,1KB=1024B,1MB=1024KB,1GB=1024MB

(2) 计算机的软件

计算机软件主要分为系统软件和应用软件两类:

①系统软件:为了使用和管理计算机软件,主要有操作系统软件如,WINDOWS 95/98/2000/NT4.0、DOS 6.0、UNIX等;WINDOWS 95/98/2000/NT4.0是多任务可视化图形界面,而DOS是字符命令形式的单任务的操作系统。

②应用软件:为了某个应用目的而编写的软件,主要有辅助教学软件(CAI)、辅助设计软件(CAD)、文字处理软件、工具软件以及其他的应用软件。

33. 计算机的网络安全

(1)、不同环境中的应用中的网络安全

运行系统安全,即保证信息处理和传输系统的安全。它侧重于保证系统正常运行,避免因系统的崩溃和损坏而对系统存储、处理和传输的信息造成破坏和损失,避免因电磁泄漏,产生信息泄露,干扰他人,受他人干扰。

网络上系统信息的安全。包括用户口令鉴别,用户存取权限控制,数据存取权限、方式控制,安全审计,安全问题跟踪,计算机病毒防治,数据加密。

网络上信息传播安全,即信息传播后果的安全。包括信息过滤等。它侧重于防止和控制非法、有害的信息进行传播后的后果。避免公用网络上大量自由传输的信息失控。

网络上信息内容的安全。它侧重于保护信息的保密性、真实性和完整性。避

《2011 年公务员考试行测考试 100 套华图真题》

免攻击者利用系统的安全漏洞进行窃听、冒充、诈骗等有益于合法用户的行为。本质上是保护用户的利益和隐私。

网络安全的特征

(2)、网络安全应具有以下四个方面的特征:

保密性: 信息不泄露给非授权用户、实体或过程, 或供其利用的特性。

完整性: 数据未经授权不能进行改变的特性。即信息在存储或传输过程中保持不被修改、不被破坏和丢失的特性。

可用性: 可被授权实体访问并按需求使用的特性。即当需要时能否存取所需的信息。例如网络环境下拒绝服务、破坏网络和有关系统的正常运行等都属于对可用性的攻击;

可控性: 对信息的传播及内容具有控制能力。

(3)、主要的网络安全威胁

自然灾害、意外事故;

计算机犯罪;

人为行为, 比如使用不当, 安全意识差等;

“黑客” 行为: 由于黑客的入侵或侵扰, 比如非法访问、拒绝服务计算机病毒、非法连接等;

内部泄密;

外部泄密;

信息丢失;

电子谍报, 比如信息流量分析、信息窃取等;

信息战;

网络协议中的缺陷, 例如 TCP/IP 协议的安全问题等等。

1) ——政府职能的含义

1. 含义:

亦称行政职能, 是国家行政机关, 依法对国家和社会公共事务进行管理时应承担的职责和所具有的功能。

2. 包括几层意思

行政职能

a. 实施主体: 政府机构

b. 主要内容: 管理国家和社会公共事务

c. 实施手段: 依法行政

d. 是完整统一的体系

2) ——政府职能的发展变化

1. 自然经济状态下的政府职能: 御外和安内。

2. 近代资本主义国家的政府职能:

御外、安内和建设公共设施

3. 现代资本主义国家的政府职能:

提供公共产品和服务

稳定宏观经济

调节社会分配

《2011年公务员考试行测考试 100 套华图真题》

维护市场秩序

4. 传统社会主义国家计划体制下的政府职能:

正在转变

3)——政府职能的重要地位

政府职能

- a. 体现了公共行政的本质要求
- b. 是政府机构设置的根本依据
- c. 转变是行政管理体制和机构改革的关键
- d. 政府职能的实施情况是衡量行政效率的重要标准

4)——政府的基本职能

1. 定义:

依据政府管理的事务性质横向划分的政府职能称为政府的基本职能。

2. 内容

- a. 政治职能(包括军事保卫、外交、治安、民主政治建设)
- b. 经济职能(宏观调控、提供公共产品和服务、市场监督)
- c. 文化职能(教育、科技、文化、卫生、体育、新闻出版、广播影视)
- c. 社会职能(其他的社会公共性的职能)

5)——政府的层级职能

1. 含义:

是按政府所辖行政区域划分的职能。

2. 政府层级职能包括:

- a. 中央政府专有职能
- b. 地方政府专有职能
- c. 中央和地方政府共享的职能(如:社会治安、公共福利、城市发展、环境保护、国土管理、民族事务、司法监察)

注:

目前,我国政府层级职能并没有在宪法或法律上明确规定。

6)——政府的管理运行职能

1. 含义:

是按照管理运行程序划分的职能。符合管理学中的“封闭性原则”

2. 可分为:

计划职能

组织职能

领导职能

控制职能

7)——影响与制约政府职能转变的因素

- 1. 社会环境的变迁(是转变的外因)
- 2. 公共行政的科学化(是转变的内在动力)
- 3. 技术手段的创新(是转变的根本保障)
- 4. 传统行政文化的影响(是转变的制约因素)

8)——政府职能转变的内容

主要有三个方面:

- 1. 政府职能的外部转移
(政府与非政府组织之间)

《2011 年公务员考试行测考试 100 套华图真题》

2. 政府职能的系统转移
(或叫内部转移, 是政府内部重划分职能)

3. 行政管理方式的转变
(包括工作方式、工作作风、运行程序等)

9) ——政府职能转变的关键

关键是: 政企分开

10) ——政府机构的含义

广义:

是指国家的立法、司法、行政机关等所有国家机构的总称。

狭义:

国家行政机关

11) ——政府机构与非政府机构的关系

注意区分政府机构与其它机构之间的联系和区别:

1. 国家机构: 国家机构包含政府机构。

2. 政党组织

3. 群众组织:

如工会、共青团、妇联、文联、村委会、居委会

4. 事业单位(因为不以行政管理为主要职责, 因而不属于政府机构): 如地震局、气象局

12) ——机构编制管理

1. 领导体制:

统一领导、分级管理

2. 管理机关:

党中央、国务院设立中央机构编制委员会。

地方各级党委和政府设机构编制委员会。

3. 主要任务:

a. 职能管理: “三定” -

定职能、定机构、定人员编制

b. 机构管理

c. 人员编制管理:

即人员总额、人员结构、领导职数、职位配置

注: 政府机构的名称一般包括:

域名(表明地理位置或管理范围)、矢名(表明管理内容)、格名(表明规格级别)。

13) ——职能优先原则

主要有四层意思:

1. 职能是机构存在的前提

(因职能而设机构)

2. 科学界定政府总体职能

3. 科学配置和划分政府总体职能

4. 以政府职能是否顺利实现来检验政府机构设置的合理性

14) ——完整统一原则

主要有三层意思:

1. 政府职能是完整统一的

《2011 年公务员考试行测考试 100 套华图真题》

2. 行政权力是完整统一的

3. 政府机构设置是完整统一的

15) ——管理幅度与层次相适应的原则

在实际运用中，要遵循以下几条规律：

1. 在管理对象和内容不变的情况下，管理幅度和层次成反比。

2. 管理幅度与事务的难易程度成反比

3. 管理幅度同管理者的能力及管理手段的先进程度成正比

4. 管理幅度与下属人员的能力成正比

5. 管理层次与组织效率成反比

注：管理幅度指管理的数额

16) ——权责一致原则

有三层意思

1. 设计合理的职位体系

2. 权责相称的制约机制

3. 奖惩分明的激励机制

注：一般来讲，上级对下级的权力应负连带责任。

17) ——精简与效能的原则

包括三层意思：

1. 机构设置要精简

2. 人员编制要精干

3. 办事程序要简化

18) ——依法设置的原则

包括二层意思：

1. 政府机构设置程序要依照有关法律法规进行。

2. 有关政府机构的各项规范要由法律法规来确定。

19) ——政府机构改革的动因

原因如下：

a. 经济体制改革的需要

b. 政治体制改革的需要

c. 精简机构和人员的需要

d. 减轻财政负担的需要

e. 提高行政效率的需要

20) ——政府机构改革的渐进式过渡与阶段性突破

我国政府机构改革采取渐进式。

1. 1982 年改革：

a. 提出干部的四化，

"革命化、知识化、专业化、年轻化"。

b. 实行首长负责制，并将这一原则写入宪法。

2. 1988 年改革：

a. 提出转变政府职能的概念。

b. 提出政企分开、党政分开的原则。

3. 1993 年改革：

a. 把适应社会主义市场经济体制作为机构改革的目标。

b. 强调了转变职能的根本途径是政企分开。

《2011 年公务员考试行测考试 100 套华图真题》

c. 提出行政管理体制改革的概念。

4. 1998 年改革：

仍是过渡性方案

21) ——中央人民政府的架构

1. 国务院是最高国家行政机关。

2. 国务院的组织体制：

(1) 国务院组成人员：

总理、副总理、国务委员、部长、委员会主任、审计长、秘书长

(2) 任期：5 年，总理、副总理、国务院委员连续任职不得超过两届

(3) 领导体制：

总理负责制

(4) 会议制度：国务院实行全体会议、常务会议、总理办公会议制度。注：常务会议由总理、副总理、国务委员、秘书长组成。

3. 国务院行政机构：

包括：

国务院办公厅、

国务院组成部门、

国务院直属机构、

国务院办事机构、

国务院组成部门管理的 国家行政机构、

国务院议事协调机构

注：

(1) 国务院组成部门包括：各部、各委员会、中国人民银行、审计署

(2) 国务院直属机构具有独立行政管理职能，但行政首长不属于国务院组成人员，但可列席国务院全体会议。

(3) 国务院办事机构不具有独立的行政管理职能。

22) ——地方各级人民政府的架构

1. 地方各级人民政府组成：

a. 省、地级市设秘书长。秘书长是领导职务。

b. 乡镇原则上不设工作部门。

2. 任期：

省、市、县(区)：五年

乡镇：三年

正副行政首长均由人大选举产生。

3. 地方各级人民政府实行首长负责制。即省长、市长、镇长负责制。

4. 地方政府工作部门与上级垂直管理部门、派出机构的关系：

a. 地方政府工作部门的设立增加减少合并，要由本级政府报请上级政府批准，并报本级人大常委会备案。

b. 实行中央业务主管部门垂直管理的机构有：

中国人民银行、海关、国家税务

c. 实行省级政府垂直的有：地方税务、工商管理、质量技术监督管理

5. 派出机构：

其不属于一级行政机关，但它有权以自己的名义实施管理，并在管理效力上与派出它的政府或政府部门相同。

《2011 年公务员考试行测考试 100 套华图真题》

23)——我国公务员制度建立的过程

1. 我国公务员的定义:

是指各级国家行政机关中除工勤人员以外的工作人员(包括国家行政机关中从事党团工作的专职人员)

2. 制度

1993 年颁布的《国家公务员暂行条例》+ 以后制定的近 40 个单项法规

3. 我国公务员制度建立的过程:

第一阶段. 1984-93 年: 国家公务员制度的创立。

第二阶段. 1993-96 年:

在全国推行公务员制度

注:

(1) 1982-86 年, 草拟《国家工作人员法》后改名为《国家行政机关工作人员条例》

(2) 1986-88 年, 将上述条例更名, 并在党的十三大和七届全国人大上, 分别将建立公务员制度作为政治体制及干部从事制度改革的重点, 还形成了建立国家公务员制度的三大要件:

组建从事部、筹建国家行政学院、制定公务员法规

24)——我国公务员制度的特色

特色有 4 点:

1. 坚持党的基本路线, 国家公务员不搞"政治中立"

2. 坚持为人民服务的宗旨, 国家公务员不是独立的利益集团。

3. 坚持党管干部的原则, 国家公务员不搞"两官分途"

4. 坚持德才兼备的用人标准

25)——我国公务员制度的实施范围与公务员的义务权利

1. 实施公务员制度的对象:

行政机关中除工勤人员以外的工作人员 + 行使国家行政职能的事业单位中除工勤人员以外的工作人员 + 从事党群工作的人员

2. 实施公务员制度的机关:

国务院办公厅各部委 + 直属机构 + 办事机构 + 国家局 + 派出机构 + 行使政府行政职能的事业单位 + 议事协调机构 + 各级人民政府及其部门

注: 凡实行国家公务员制度的单位, 不实行企业、事业单位的职称、工资、奖金等人事管理制度。

3. 参照实行国家公务员制度的范围:

党的机关、一些群众组织

4. 不属于实施范围的单位: 不具有行政职能的事业单位(如新华通讯社)、学会、协会、其他培训机构

5. 国家公务员义务共八项:

遵守宪法、法律和法规; 依照国家法律、法规、政策执行公务; 密切联系群众, 倾听群众意见, 接受群众监督, 努力为人民服务; 维护国家的安全、荣誉和利益; 忠于职守, 勤奋工作, 尽职尽责, 服从命令; 保守国家秘密和工作秘密; 公正廉洁, 克己奉公; 宪法和法律规定的其他义务。

6. 国家公务员权利共八项:

非因法定事由和非经法定程序不得被免职、降职、辞退或者行政处分; 获得履行职责所应有的权力; 获得劳动报酬和享受保险、福利待遇; 参加政治理论和

《2011 年公务员考试行测考试 100 套华图真题》

业务知识的培训；对国家行政机关及其领导人员的工作提出批评和建议；提出申诉和控告；依照规定辞职；宪法和法律规定的其他权利。

26) ——国家公务员录用制度

1. 录用的前提条件：

- a. 职位出现空缺
- b. 根据空缺职位确定资格条件

2. 录用的职务范围：

办事员、科员、副主任科员、主任科员
(全是非领导职务)

注：从政府机关以外选拔人员担任领导职务或者助理调研员以上非领导职务的，不属录用的范围。

3. 录用的原则：

公开、平等、竞争、择优、德才兼备、因事择人

4. 录用国家公务员的程序：七个步骤

发布公告

报名和资格审查

考试

录用体检

提出拟录用人员名单报 设区的市以上人民政府人事部门审批

试用

培训

27) ——国家公务员考核制度

1. 原则：

客观公正的原则

民主公开的原则

注重实绩的原则

依法考核的原则

2. 内容：

德、勤、能、绩

3. 标准：

划分为优秀、称职、不称职

4. 方法：

平时考核 + 年度考核

5. 程序：

准备、进行考核、反馈与运用考核的结果

6. 考核结果的使用：

a. 连续三年被确定为优秀或连续五年称职以上的，在本职务级别内晋升一级。

b. 连续二年优秀或连续三年称职以上的，具有晋升职务的资格。

7. 有关规定：

a. 受党内警告处分的：当年不得被评为优秀

b. 受党内严重警告处分的：不称职或不确定等次

c. 受留党察看处分的：

当年：不称职

《2011 年公务员考试行测考试 100 套华图真题》

d. 受开除党籍处分的:

当年: 不称职

第二、第三年: 只写评语不确定等次

28) ——国家公务员奖励制度

1. 原则:

a. 精神鼓励与物质鼓励相结合, 以精神为主的原则

b. 公平合理, 奖不虚施的原则

c. 奖励及时、注重时效的原则

2. 种类:

嘉奖、记三等功、二等功、一等功、授予荣誉称号

3. 程序:

评定、审批、实施

4. 权限:

嘉奖、记三等功:

县级以上政府批准

二等功:

地级以上政府批准

一等功:

省、直辖市以上

荣誉称号:

国务院

29) ——国家公务员纪律与行政处分制度

1. 种类:

警告

记过

记大过

降级

撤职

开除

说明:

(1) 没有"降职"是因为, "降职"是由于不称职, 而不是由于受处分

(2) 受处分期间, 不得晋升职务、级别; 若受的是警告, 年度考核定为"称职"还可以按时晋升工资档次。

2. 解除公务员行政处分的期限:

警告: 自决定之日起满 半年

记过、记大过、降级:

满一年

撤职: 满二年

注: 提前解除期限不得超过原行政处分解除期限的一半。

30) ——国家公务员培训交流回避制度

1. 培训的类型:

a. 新录用人员的培训

b. 晋升领导职务的任职培训

c. 专门业务培训

《2011 年公务员考试行测考试 100 套华图真题》

d. 更新知识培训

注：每人每年参加培训的时间不得少于 7 天。

2. 交流制度：

四种形式：

调任、转任、轮换、挂职锻炼

3. 回避的类型：

任职回避

公务回避

地区回避

注：一般由职务较低的一方回避。

31) ——国家公务员工资保险福利制度

1. 工资构成：

职务工资+级别+基础工资+工龄工资+地区津贴+岗位津贴

注：前四项为工资的基本形式。后二项目为补充形式。

2. 保险制度：

生育、养老、疾病、伤残、死亡保险

32) ——国家公务员辞职辞退退休制度

1. 辞职条件：

a. 本人愿意并提出申请

b. 满最低服务年限(三至五年)

c. 正在接受审查的不得辞职

说明：

(1) 辞职后，不得重新录用

(2) 二年内到与原机关有隶属关系的企业或事业单位任职，须经原任免机关批准

2. 辞退条件：

a. 连续二年不称职

b. 不胜任现职又不接受其他安排的

c. 旷工连续超过 15 年，或一年内累计超过 30 年

d. 其他

3. 退休条件：

a. 男年满 60 岁

b. 女年满 55 岁

c. 丧失工作能力的

4. 提前退休条件

a. 男 55 女 50+工作年限满 20

b. 或工作年限满 30

33) ——国家公务员申诉控告制度

注：

申诉、控告只能向国家行政机关提出。因为它们不属于行政诉讼的范围，属于内部行政行为。

34) ——行政领导体制的类型

1. 按职权是由首长一人或者由委员数人行使，或者一部分职权由首长，一部分由委员数人行使分：

《2011 年公务员考试行测考试 100 套华图真题》

首长制

委员制

混合制

2. 按上下级行政组织享有的职权大小分:

集权制 (权力集中在上级)

分权制

均权制

3. 按机关业务性质及其管辖范围不同划分:

层级制

职能制

并用制

4. 按处于同一层级的各政府行政机关的指挥监控权, 集中或分散于上级一个或多个主体的不同而划分:

完整制: 集中于一人

分离制: 分属于多人

35) ——行政首长负责制

1. 时间:

(1) 1982 年以前: 我国行政领导体制一直是委员制。

(2) 1982 年 12 月 4 日五届全国人大五次会议通过: 实行行政首长负责制。

2. "首长"的范围:

a. 第一类: 法定的首长: 包括国务院总理、各委员会主任、部长、省长、自治区主席、市长、州长、县长、区长、镇长、乡长

b. 第二类: 推定的首长:

包括国务院秘书长、中国人民银行行长、审计署审计长、国务院直属机构的正职领导、县级以上地方各级政府组成部门的正职领导+其他

3. 主要内容:

a. 向谁负责:

向本级人大及其常委会负责、向国务院负责, 向上级行政机关负责、向本级政府负责

b. 负什么责:

行政责任/政治责任/领导责任

36) ——行政领导职务及其非领导职务序列

1. 行政领导职务序列:

(1) 中央国家行政机关: 8 个等级, 最低为副处。

(2) 地方: 8 个等级, 最低为副科。

(3) 对应的级别有 13 个:

国务院总理: 一级

国务院副总理, 国务委员: 二至三级

省部级正职: 三至四

省部级副职: 四至五

厅司级正职: 五至七

厅司级副职: 六至八

县处级正职: 七至十

县处级副职: 八至十一

《2011 年公务员考试行测考试 100 套华图真题》

乡科级正职：九至十二

乡科级副职：九至十三

2. 非领导职务序列：

共 8 个：

巡视员

助理巡视员

调研员

助理调研员

主任科员

副主任科员

科员

办事员

37)——行政领导者的产生方式

共有四种：

a. 选任制

b. 委任制

c. 考任制

d. 聘任制

注：

(1) 省人大常委会有权任命副省长，无权任命省长。

(2) 聘任制主要用于专业技术职务和基层行政职务，不适用于高层行政领导

者

38)——行政领导的职务升降

1. 行政领导职务升降的人员范围：

有两类：

a. 各级政府组成人员，升降由同级人大和常委会决定。
(其实是领导组成人员)

b. 非政府组成人员，其升降由行政系统自身决定。

2. 行政领导职务晋升的资格条件：

a, 文化程度：

晋升科级正副职：

高中、中专以上学历

晋升副处-正司：

大专以上学历

晋升副部级：

本科以上学历

b. 下一级任职年限：

晋升科、处正职：

应分别任下一级职务 两年以上

晋升科、处、司、部副职：三年以上

注：非领导职务的公务员晋升与此相同

39)——行政领导职务任免

1. 任免的主体：

即各级人大及其常委会，国务院和县级以上地方各级人民政府及其工作部

《2011 年公务员考试行测考试 100 套华图真题》

门。

2. 权限:

a. 各级人大有权任命或决定各级政府组成人员、除各级政府组成人员外的领导职务(如市政府的副局长)

b. 政府: 任免其他公务员职务(包括非领导职务)

3. 行政领导兼职的规定:

原则上实行一人一职。确因需要, 只可兼任一职。但也有两个例外: a. 常设机关领导职务担任非常设机关领导职务

b. 名义上兼职而实际上还是本职范围内的职责

40) ——转向现代科学行政决策的标志

主要体现在以下五个方面:

1. 决策主体由个人转向集体

2. 决策过程由主观随意转向程序化

3. "谋"与"断"相对分离

4. "断"与"行"相对分离

5. 决策手段的运用日益增强

41) ——现代行政决策组织体制的架构

架构主要有:

1. 行政决策的中枢系统:

重要任务是"断"。

2. 行政决策信息系统

3. 研究咨询系统

4. 审批控制系统

注: 我国具有综合性审批控制职能的组织系统有二:

a. 全国和县级以上地方各级人大常委会

b. 中央和地方各级国家行政机关

42) ——行政决策过程

过程如下:

a. 问题的确认

b. 问题进入决策议程

c. 决策规划的拟订

d. 决策合法化与采纳

43) ——行政执行及其层级、手段

1. 定义:

是国家行政机关及其国家公务员实施决策中心发出的决策指令, 以达到预期目的职务行为。

2. 层次:

中央级

省级

县级

乡级

3. 手段:

法律手段

行政手段

经济手段

《2011 年公务员考试行测考试 100 套华图真题》

44) ——行政执行的环节

五个主要环节：

- a. 行政执行计划
- b. 组织落实与人员配置
- c. 行政执行中的指挥
- d. 行政执行中的控制
- e. 行政执行评估总结

45) ——行政协调的含义与作用

1. 定义：

是指协商、调整行政系统与其外部环境之间、行政系统内部纵横向之间的各种关系，使之分工合作、权责清晰，相互配合，有效地实现行政目标和提高整体效能的行为。

2. 作用：

- a. 协调与外部环境的关系，增强行政系统的适应力、创新力。
- b. 协调内部纵横向的关系，以增强行政系统的协作力、整合力。
- c. 协调内外部、纵横向的人际关系，增强行政系统的凝聚力、驱动力。

46) ——行政协调的类型及其机制

1. 分类：

a. 以协调的主体及内容分

与外部环境的...

内部纵横向的...

内外部、纵横向人际关系的...

b. 以协调所解决的中心问题及其具有的性质分：

(同上)

c. 以协调所涉及的管理层次和管理手段分：

高层、中层、基层；

权责体制、规制协调；

利益、心理协调；

2. 几种类型的行政协调及其机制：

a. 与外部环境的：

协调机制主要有三种：

行政反馈(首要机制)

职能调查

行政参与

b. 内部纵横向的：

(1)纵向垂直府际关系：关键是解决好事权与财权、人事权与决策权的配置机制。

(2)横向平行府际关系：

关键是解决好分工又合作的机制。

47) ——行政协调的前提条件

1. 前提条件是：

行政沟通

2. 行政沟通的种类：

下行沟通

《2011 年公务员考试行测考试 100 套华图真题》

上行沟通

平行沟通

48) ——加强行政监督的重要性

1. 教育是加强依法监督的基础

2. 法制是加强依法监督的保证

49) ——我国行政系统的内部监督

1. 内部监督主要包括:

a. 一般监督(上、下级之间的相互监督; 职能部门和主管业务部门的监督)

b. 专门监督(主要指行政监察和审计监督)

2. 行政监察:

指政府系统内部的专门监察机构, 主要是监察部、地方各级监察厅、局。

(1) 监察对象:

政府各部门及其国家公务员、政府任命的其他人员、下一级政府及其领导人

员

(2) 领导体制:

监察机关实行双重领导, 既受本级人民政府领导, 又受上一级监察机关领导。

(3) 程序:

立项、调查、提出检查处理情况报告、作出监察决定或建议

3. 审计监督:

(1) 审计机关拥有检查权、调查权、建议权和处理权

(2) 审计机关的领导体制:

双重领导体制。

50) ——我国行政系统的外部监督

1. 外部监督主要包括:

国家权力机关的监督

人民法院的监督

人民检察院的监督

政党监督

社会及舆论的监督

2. 国家权力机关的监督包括:

a. 听取和审议工作报告(这是监督最基本的形式)

b. 审查和批准国民经济计划和财政预算、决算

c. 审查政府的法规、决定 和命令

d. 质询和询问

e. 代表视察和执法检查

f. 罢免政府组成人员

注: 各级人大有权撤销同级政府不适当的决定和命令。

3. 人民检察院的监督有:

法纪检察

经济检察

侦查检察

监所监督

4. 政党监督:

主要方式有三:

《2011 年公务员考试行测考试 100 套华图真题》

各级党委监督

党的基层组织监督

党的各级纪检监督

行政与行政诉讼法--第四章 具体行政行为

中法网学校

字体 大 中 小 关闭

第四章 具体行政行为

第一节 具体行政行为概念

第二节 具体行政行为的成立和效力

第三节 具体行政行为的一般合法要件

第四节 具体行政行为的类型

第一节 具体行政行为概念

一、具体行政行为的定义和构成

具体行政行为，是国家行政机关依法就特定事项对特定的公民、法人和其他组织的权利义务作出的行政职权行为。构成具体行政行为的基本要素有以下各项：

1. 具体行政行为是法律行为。具体行政行为是行政机关对公民、法人或者其他组织作出的行政意思表示。这种意思表示的目的是要发生一定的法律后果，使行政法上的权利义务得以建立、变更或者消灭。

2. 具体行政行为是对特定人与特定事项的处理。个别性特征具体行政行为区别于抽象行政行为的主要标志。它表现为以下三种形式：第一是就特定事项对特定人的处理。第二是就特定事项对可以确定的一群人的处理。第三是就特定事项对不特定人的处理。无论是哪种情形，归根结底还是看这个行为有没有直接地、确定地影响当事人的权利和义务。

3. 具体行政行为绝大多数属于单方行使职权行为。具体行政行为是对公民、法人或者其他组织所安排的权利义务，是行政机关依据国家行政法律以命令形式单方面设定的，不需要公民、法人或者其他组织的同意。

4. 具体行政行为是外部性处理。具体行政行为是对公民、法人或者其他组织权利义务的排列，是实现行政职能的外部行为措施，而不是行政机关的内部措施。

二、具体行政行为的分类

1. 依职权的和依申请的具体行政行为。划分标准是行政机关是否以当事人的申请作为作出具体行政行为的条件。前者指行政机关不需要公民、法人或其他组织申请，直接依职权采取具体行政行为；后者则需要经过当事人的申请，行政机关才能作出具体行政行为。

这种分类的标准，是看谁能启动行政行为。如果是依职权的行为，行政机关根据自己的判断就可以直接启动，如果是一个依申请的行为，必须由当事人申请，行政机关才能启动。谁可以启动，就直接决定了这个行政行为合法的要件。如果是一个依申请的行为，当事人没有提出申请，行政机关自己启动，那么这个行为就是无效的。所以，依职权和依申请的分类，目的主要是判断具体行政行为合法

《2011 年公务员考试行测考试 100 套华图真题》

性的标准是什么。

2. 羁束的和裁量的具体行政行为。划分标准是具体行政行为受法律拘束的程度。立法对具体行政行为的范围、方法、手段等条件作出严格规定，行政机关采取时基本没有选择余地，是羁束的具体行政行为；立法对具体行政行为的范围、方法、手段等方面给予行政机关根据实际情况裁量余地的，是裁量的具体行政行为。

这个区分的意义是，对于羁束行为，行政机关必须按照法律规定去做，违反了法律规定，直接的法律后果是违法。对于裁量行为，行政机关有一定的裁判空间，违反了这个裁判空间的规定，直接的法律后果是不合理、不适当。超出这个裁判空间以外，才构成违法不违法的问题。

3. 授益的和负担的具体行政行为。划分标准是具体行政行为与当事人之间的权益关系。为当事人授予权利、利益或者免除负担义务的，是授益的具体行政行为；为当事人设定义务或者剥夺其权益的，是负担的具体行政行为。

4. 要式的与不要式的具体行政行为。划分标准是具体行政行为是否需要具备法定的形式。需要具备书面文字等其他特定意义符号为生效必要条件的，是要式的具体行政行为；不需要具备书面文字或者其他特定意义符号就可以生效的，是不要式的具体行政行为。

比如说，行政机关在作出行政处罚决定之前，必须听取当事人的陈述和申辩。但是法律没有规定行政机关听取当事人陈述和申辩的具体方式，可以打电话，可以当面谈。

如果是吊销许可证和执照、责令停产停业、较大数额的罚款，必须以听证的方式来听取当事人陈述和申辩。行政机关作出行政处罚决定，必须采取书面形式，如果没有书面处罚决定，行政处罚决定就无效。如果行政机关当场收取罚款，没有出具省级财政部门统一制发的收据，而是打白条，就是无效的。因为，这些都是要式行政行为。

第二节 具体行政行为的成立和效力

一、具体行政行为的成立

具体行政行为的成立，是指具体行政行为在法律上存在。具体行政行为成立的一般条件是：

1. 在主体上，作出具体行政行为的是享有行政职权的行政机关，实施该具体行政行为的工作人员意志健全具有行为能力。
2. 在内容上，向对方当事人作出具有效果意思的表示。
3. 在程序上，按照法律规定的时间和方式进行送达。

一般情况下行政行为的成立要件是这些。在单行法律另有规定的情况下，成立要件可能还有其他的要件。如：《行政处罚法》第 41 条规定，行政机关根据一般程序在作出行政处罚决定之前，必须要告知对方当事人将要作出处罚的事实、理由和根据。行政机关在告知以后还要听取当事人的陈述和申辩。行政机关如果没有履行这两个程序作出的处罚决定，按《行政处罚法》的规定叫“不成立”。那么这两个要件，就是在三个要件的基础上多出来的。

二、具体行政行为效力的种类

具体行政行为的公定力。这是具体行政行为具有效力的基本前提。什么是公定力？行政机关作出一个具体行政行为，这种行为完成以后，送达当事人，有两

《2011年公务员考试行测考试100套华图真题》

种可能性：一种是合法，一种是违法。如果这个行政行为合法，就有效；如果违法，就无效。合法就有效，有什么效？有效就是指行政行为具有确定力、拘束力、执行力。如果无效，根本就不产生这些效力。我们讲的公定力是什么呢？行政机关作出一个行为，这个行为一旦作出，就假定这个行为是合法的。如果将来法院根据法律程序撤销它，另外再说。但是一旦作出，就假定合法。既然合法，当然就有效。

合法就有效，有效会产生什么效力？产生了三个效力：

1. 确定力，是指具体行政行为不再争议、不得更改的效力，具体行政行为因此取得不可撤销性。确定力就是指行政机关作出决定以后，就不能轻易更改。这个力，叫确定力，内容具有确定性。行政机关如果改变已经确定的内容而给当事人造成损失的，要予以补偿。

这就是信赖保护原则。已经确定的内容才能去拘束当事人，并且强制执行。

2. 拘束力，是指具体行政行为一经生效，行政机关和对方当事人都必须遵守，其他国家机关和社会成员必须予以尊重的效力。

3. 执行力，是指国家强制力迫使当事人履行义务或者以其他方式实现具体行政行为权利义务安排的效力。行政行为的执行力是与其确定力和拘束力联系在一起的，是最终保障性效力。行政行为的这三种效力是行政法上诸多规则产生的基础，比如在行政法上，对于生效的行政行为一般采取不停止执行的原则，即使相对人有异议，或在申请行政复议或提起行政诉讼期间，也不能停止行政行为的执行。只有在例外的情形下，才可以暂停行政行为的执行。

行政机关的具体行为都是有确定力、拘束力，但不一定都有执行力。执行力产生的条件有两个，一个是负有作为的义务，一个是不作为。

三、具体行政行为的无效、撤销和废止

（一）具体行政行为的开始、停止和终止

具体行政行为效力的开始。符合具体行政行为的成立条件，不存在具体行政行为的无效因素，具体行政行为在理论上就可以开始发生法律效力。行政行为的开始有三种方法，一种是送达生效，一种是附期限生效。在实践中最主要的是第一种，自送达之日起生效。具体行政行为效力的停止。申请行政复议和提起行政诉讼可能会导致具体行政行为执行力的停止。我国《行政诉讼法》、《行政复议法》规定了停止具体行政行为执行的情形。特殊情况下停止，不停止是原则，停止是例外。什么情况下停止呢？行政复议当中规定了四种情况，行政诉讼当中规定了三种情况。

行政复议中的四种情况是：(1)被申请人认为需要停止的。被申请人即作出行政行为的行政机关。(2)复议机关依申请停止的。(3)复议机关依职权停止的。(4)法律规定停止的。

行政诉讼当中三种需要停止的情况：(1)被告认为需要停止执行的。(2)法院依申请需要停止的(不能依职权停止)。(3)法律规定的停止。

谁可以去停止呢？三类机关：(1)作出行为的机关。(2)复议机关：依申请、依职权。(3)人民法院：依申请。

导致具体行政行为效力终止的原因，可以分为没有违法因素的和有违法因素的两类情形。有违法因素的情形主要有：无效的具体行政行为，可撤销的具体行政行为。两者的区别是违法的程度不同。

（二）无效的具体行政行为

1. 构成具体行政行为无效的条件。如果一个具体行政行为有严重和明显的法

《2011年公务员考试行测考试100套华图真题》

律缺陷，这种违法达到一个有正常理智的普通人的常识性理解都可以明显看出的程度，那么它就是无效的具体行政行为。

如果一个具体行政行为发生如下情形，就可以构成无效的理由：(1)要求从事将构成犯罪的违法行为。(2)明显缺乏法律依据的。(3)明显缺乏事实根据的。

2. 具体行政行为无效的后果。无效就意味着这个行为根本就没有，意味着相对人可以去抵抗，可以不服从，因为它没有公定力。如在行政处罚当中，行政机关如果当场收缴罚款的话，必须要提交省级财政部门统一制发的收据，如果没有提交收据，被处罚人可以拒绝交纳罚款，因为它明显违法。如果在此情形下，去法院起诉，没有一个时效问题，什么时候都可以去法院起诉，对于无效行为，法院应当怎么判呢？法院只能确认它无效，自始无效。但是，法院不能去撤销，因为行为从开始就没有。

在实体法上，无效的具体行政行为自它发布之时就没有任何法律约束力，当事人不受它的拘束，其他国家机关和其他社会成员也可以不尊重它。当事人不履行它所规定的义务，不承担法律责任。

在程序法上，该具体行政行为致使其合法权益受到损害的公民、法人或者其他组织，可以在任何时候主张该具体行政行为无效，有权国家机关可在任何时候宣布该具体行政行为无效，因为无效行政行为不具有确定力。在后果处理上，具体行政行为被确定无效后，原则上应当尽可能恢复到具体行政行为发布以前的状态。

(三)可撤销的具体行政行为

1. 可撤销的具体行政行为的条件。构成可撤销具体行政行为的条件，主要是具体行政行为违法和明显不适当。

2. 可撤销的具体行政行为的后果。在程序法上，可撤销的具体行政行为必须经过法定程序由国家有权机关作出撤销决定，才能否定法律效力。法定程序是指行政复议、行政诉讼和行政监督程序。

在实体法上，具体行政行为被撤销的效力可以溯及至该具体行政行为成立之日。在处理后果上，具体行政行为因为被撤销而丧失或者不能取得法律效力后，如果相关义务已经履行或者已经执行的，能够恢复原状的应当恢复原状。违法不一定无效，违法在大部分情况下无效，少量的情况下有效。如果确认无效的弊大于利，就承认它的效力。

具体行为违法不一定都予以撤销，无法撤销的或者撤销会导致更严重后果的，只能确认其违法。

再来比较一下吊销和撤销的关系。撤销的对象是行政机关的行为，撤销的原因是行政行为违法。吊销的对象是当事人所获得的许可证和执照，原因是当事人违法，而不是行政机关的行为违法。吊销是一种处罚，撤销不是一种处罚。吊销是对当事人的处罚，而撤销是对行政机关责任的追究。《行政处罚法》里只有吊销而没有撤销，撤销是一种管理活动，不适用于行政处罚法的程序。行政机关发给当事人一个许可证，这是正确的合法的。当事人领到许可证以后运用许可证中赋予他的资格、权能时发生违法行为，这时予以吊销。撤销一般情况下自始无效，吊销是从吊销那一天开始无效，被吊销之前是有效的。

(四)具体行政行为的废止

1. 具体行政行为废止的条件。废止是行政机关依职权使具体行政行为丧失法律效力的行为。废止的理由和条件是由于客观条件的变化，具体行政行为没有继续保持其效力的必要。

《2011 年公务员考试行测考试 100 套华图真题》

废止的条件通常有：

- (1) 具体行政行为所依据的法律、法规、规章、政策，已经为有权机关依法修改、废止或撤销。
- (2) 具体行政行为所根据的客观事实已经发生重大变化或者已经不复存在，具体行政行为的继续存在已经没有事实根据，需要废止原来的具体行政行为；
- (3) 具体行政行为所期望的法律效果已经实现，没有继续存在的必要。

2. 行政行为废止的法律结果。被废止的具体行政行为，自废止之日起丧失效力。如果废止使当事人的合法权益受到严重损失，或者带来严重的社会不公正，行政机关应当给予受到损失的当事人以必要的补偿。

第三节 具体行政行为的一般合法要件

判断具体行政行为合法性的基本标准是：(1) 行使行政职权的主体合法；(2) 合乎法定职权范围；(3) 作出具体行政行为的证据确凿；(4) 适用法律、法规正确；(5) 符合法定程序；(6) 不滥用职权。

一、有确凿的事实证据要求行政决定应当有确实可靠的证据。

第一，作出行政决定首先要有事实，即存在需要行使行政职权的客观事实。

第二，事实应当是确实充分的。

二、正确适用法律、法规行政管理是一种适用法律的国家活动。

适用法律不能取决于行政官员的任意和偏好，而必须以法律所要求的事实条件作为适用法律的根据。

三、遵守法定行政程序

法定程序赋予这些方法和形式以权利义务的法律属性，要求行政机关行使职权时必须遵守，成为判断行政行为是否正确合法的重要标准。目前行政法中对行政程序规定比较好的和体现时代精神的，是《行政处罚法》。该法规定了行政处罚的决定程序和执行程序。

四、不得超越职权和滥用职权

关于超越职权的要件，是要求行政机关应当在法律授予的权限以内活动。行政机关的职权范围主要由行政组织法和授权法规定。

行政机关在进行行政管理时，不只是机械和简单地按照有关法律和有关条款办事，而且还要执行法律的精神和立法目的，不能滥用职权。

第四节 具体行政行为的类型

一、行政许可

《行政许可法》的内容和考点与《行政处罚法》比较相似，但是前者比后者有很多进步，所以可考的地方更多一些。常考的内容应当是行政许可的设定、实施和监督等。

(一) 行政许可的概念和特点

《行政许可法》第 2 条规定：“本法所称行政许可，是指行政机关根据公民、法人或者其他组织的申请，经依法审查，准予其从事特定活动的行为。”

要理解《行政许可法》的基本原则和规定，必须首先要理解什么是行政许可。行政许可是什么呢？在法律基于正当理由确定的范围之内，行政许可实际上是一种禁止的解除。《行政许可法》实质上是控制政府权力、保障公民权利的法。政

《2011 年公务员考试行测考试 100 套华图真题》

府只有基于正当理由在法定范围内去设定人们经过许可后才能做什么事情,只能按照法定条件和程序去实施行政许可,其余的都是人们自由的空间。

行政许可的特点:(1)行政许可是行政主体对管理相对人所为的具体行政行为。它是对被许可人这一特定对象,就被许可事项这一特定事实而作出的产生直接法律效果的行为。(2)行政许可是依申请的行政行为。(3)行政许可是承认被许可人有某种能力或资格的行为。

(二)行政许可的种类

根据不同的标准,可将行政许可作如下分类:

1. 以许可的性质为标准,分为行为许可和资格许可。行为许可是指允许符合条件的申请人从事某项活动的许可,如生产、经营许可。这类许可在内容上仅限于许可被许可人进行某种行为活动,不包含资格权能的特别证明内容,也无需对被许可人进行资格能力方面的考核。资格许可是指行政主体应申请人的申请,经过一定的考核程序核发一定的证明文书,允许其享有某种资格或具备某种能力的许可,如律师证、会计师执照、驾驶执照等。一般来说,资格许可中同时也包含了对被许可人的行为许可。

2. 以许可的书面形式及其能否单独使用为标准,分为独立许可和附文件许可。独立许可指许可证已经规定了所有许可内容,不需其它文件补充说明的许可。如林木采伐许可证,特种刀具购买证等。明确的范围、事项、时间等是独立许可的显著特点。附文件许可是指由于特殊条件的限制,需要附文件加以说明的许可。这种许可在申请、审批或使用,均应将附加文件附在许可证后作补充性说明,如商标许可证书中还需附有商标的设计图样,否则许可证将无法使用。

3. 以许可是否附有附加义务为标准,分为权利性许可和附义务的许可。权利性许可也称无条件放弃的许可,指申请人取得行政许可后,并不承担作为义务,可自由放弃被许可的权利,并且并不因此承担任何法律责任的许可,如持枪证、排污许可证等。附义务的许可也称有条件放弃的许可,指被许可人获得许可的同时,亦承担一定期限内从事该活动的义务,否则要承担一定法律责任的许可。承担法律责任的方式一般表现为丧失被许可的权利。如我国《企业登记管理条例》规定,企业在获准登记,取得营业执照后一年内应开展经营活动,否则将视为自动放弃,工商行政管理部门有权吊销营业执照。这种许可就是附义务的许可。

4. 以许可享有的程度为标准,分为排他性许可和非排他性许可。排他性许可又称独占许可,是指某个人或组织获得该项许可后,其他任何人或组织均不能再获得该项许可,最具代表性的是商标许可。非排他性许可又称共存许可,是指可以为具备法定条件的任何个人或组织所申请并获得的许可,大部分行政许可是非排他性许可。

5. 以许可的范围为标准,分为一般许可和特殊许可。一般许可是指行政主体对符合法定条件的许可申请人直接发放许可证,无特殊限制的许可,如申请驾驶执照的许可。特殊许可是指除符合一般许可的条件外,对申请人还规定有特别限制的许可,又称特许。如持枪许可,只有符合《中华人民共和国枪支管理办法》规定的五种人可以获得持枪许可,其他人员均不能获得此种权利。

6. 以许可有效期的长短,分为长期许可和短期许可。长期许可是指许可机关赋予申请人许可证的有效期较长的一种许可。行政许可机关根据申请人条件和法律赋予其许可证的有效期较短,则称其为临时许可或短期许可。

(三)行政许可的原则

1. 法定原则。《行政许可法》第4条规定:“设定和实施行政许可,应当依照

《2011 年公务员考试行测考试 100 套华图真题》

法定的权限、范围、条件和程序。”这是行政许可的一项最基本原则，即行政许可的法定性。

2. 公开、公平、公正原则。《行政许可法》第 5 条规定：“设定和实施行政许可，应当遵循公开、公平、公正的原则。有关行政许可的规定应当公布；未经公布的，不得作为实施行政许可的依据。行政许可的实施和结果，除涉及国家秘密、商业秘密或者个人隐私的外，应当公开。符合法定条件、标准的，申请人有依法取得行政许可的平等权利，行政机关不得歧视。”

3. 便民原则。《行政许可法》第 6 条规定：“实施行政许可，应当遵循便民的原则，提高办事效率，提供优质服务。”

4. 救济原则。《行政许可法》第 7 条规定：“公民、法人或者其他组织对行政机关实施行政许可，享有陈述权、申辩权；有权依法申请行政复议或者提起行政诉讼；其合法权益因行政机关违法实施行政许可受到损害的，有权依法要求赔偿。”

5. 信赖保护原则。《行政许可法》第 8 条规定：“公民、法人或者其他组织依法取得的行政许可受法律保护，行政机关不得擅自改变已经生效的行政许可。行政许可所依据的法律、法规、规章修改或者废止，或者准予行政许可所依据的客观情况发生重大变化的，为了公共利益的需要，行政机关可以依法变更或者撤回已经生效的行政许可。由此给公民、法人或者其他组织造成财产损失的，行政机关应当依法给予补偿。”这是我国法律中第一次对这一原则的确定，具有非同寻常的意义。

6. 禁止转让原则。《行政许可法》第 9 条规定：“依法取得的行政许可，除法律、法规规定依照法定条件和程序可以转让的外，不得转让。”

7. 监督原则。《行政许可法》第 10 条规定：“县级以上人民政府应当建立健全对行政机关实施行政许可的监督制度，加强对行政机关实施行政许可的监督检查。行政机关应当对公民、法人或者其他组织从事行政许可事项的活动实施有效监督。”

(四) 行政许可的设定

行政许可的设定是指国家机关依照职权和实际需要，在有关法律、法规、规章中自行创制行政许可的行为。

行政许可的设定原则是：“设定行政许可，应当遵循经济和社会发展规律，有利于发挥公民、法人或者其他组织的积极性、主动性，维护公共利益和社会秩序，促进经济、社会和生态环境协调发展。”这是《行政许可法》第 11 条的规定。

根据《行政许可法》第 12 条规定，下列事项可以设定行政许可：

1. 直接涉及国家安全、公共安全、经济宏观调控、生态环境保护以及直接关系人身健康、生命财产安全等特定活动，需要按照法定条件予以批准的事项；

2. 有限自然资源开发利用、公共资源配置以及直接关系公共利益的特定行业的市场准入等，需要赋予特定权利的事项；

3. 提供公众服务并且直接关系公共利益的职业、行业，需要确定具备特殊信誉、特殊条件或者特殊技能等资格、资质的事项；

4. 直接关系公共安全、人身健康、生命财产安全的重要设备、设施、产品、物品，需要按照技术标准、技术规范，通过检验、检测、检疫等方式进行审定的事项；

5. 企业或者其他组织的设立等，需要确定主体资格的事项；

6. 法律、行政法规规定可以设定行政许可的其他事项。

同时，《行政许可法》第 13 条还规定即使是以上事项，通过下列方式能够予

《2011年公务员考试行测考试 100 套华图真题》

以规范的，可以不设定行政许可：(1)公民、法人或者其他组织能够自主决定的；(2)市场竞争机制能够有效调节的；(3)行业组织或者中介机构能够自律管理的；(4)行政机关采用事后监督等其他行政管理方式能够解决的。

有关行政许可的设定权问题，法律分别规定了法律、行政法规、地方性法规和规章的权限。

《行政许可法》第14条规定：“本法第十二条所列事项，法律可以设定行政许可。尚未制定法律的，行政法规可以设定行政许可。必要时，国务院可以采用发布决定的方式设定行政许可。实施后，除临时性行政许可事项外，国务院应当及时提请全国人民代表大会及其常务委员会制定法律，或者自行制定行政法规。”

《行政许可法》第15条规定：“本法第十二条所列事项，尚未制定法律、行政法规的，地方性法规可以设定行政许可；尚未制定法律、行政法规和地方性法规的，因行政管理的需要，确需立即实施行政许可的，省、自治区、直辖市人民政府规章可以设定临时性的行政许可。临时性的行政许可实施满一年需要继续实施的，应当提请本级人民代表大会及其常务委员会制定地方性法规。地方性法规和省、自治区、直辖市人民政府规章，不得设定应当由国家统一确定的公民、法人或者其他组织的资格、资质的行政许可；不得设定企业或者其他组织的设立登记及其前置性行政许可。其设定的行政许可，不得限制其他地区的个人或者企业到本地区从事生产经营和提供服务，不得限制其他地区的商品进入本地区市场。”

《行政许可法》第16条规定：“行政法规可以在法律设定的行政许可事项范围内，对实施该行政许可作出具体规定。地方性法规可以在法律、行政法规设定的行政许可事项范围内，对实施该行政许可作出具体规定。规章可以在上位法设定的行政许可事项范围内，对实施该行政许可作出具体规定。法规、规章对实施上位法设定的行政许可作出的具体规定，不得增设行政许可；对行政许可条件作出的具体规定，不得增设违反上位法的其他条件。”《行政许可法》第17条规定：“除本法第十四条、第十五条规定的外，其他规范性文件一律不得设定行政许可。”

上述关于行政许可设定权的分配，特别需要注意以下几点：

第一，与《行政处罚法》中关于行政处罚设定权分配规定相比较，其中的相同点和不同点是什么。

第二，国务院行政法规之外的决定的设定权问题。

第三，规章关于行政许可的设定权问题。

第四，地方性法规和省级政府规章设定行政许可的限制。

《行政许可法》还规定了行政许可的评价制度和授权停止实施行政许可制度。

该法第20条规定：行政许可的设定机关应当定期对其设定的行政许可进行评价；对已设定的行政许可，认为通过本法第十三条所列方式能够解决的，应当对设定该行政许可的规定及时予以修改或者废止。行政许可的实施机关可以对已设定的行政许可的实施情况及存在的必要性适时进行评价，并将意见报告该行政许可的设定机关。公民、法人或者其他组织可以向行政许可的设定机关和实施机关就行政许可的设定和实施提出意见和建议。

第21条规定，省、自治区、直辖市人民政府对行政法规设定的有关经济事务的行政许可，根据本行政区域经济和社会发展的情况，认为通过本法第十三条所列方式能够解决的，报国务院批准后，可以在本行政区域内停止实施该行政许可。

(五) 行政许可的实施机关

《2011 年公务员考试行测考试 100 套华图真题》

《行政许可法》第 22 条至第 28 条对此作出了规定。

1. 行政许可由具有行政许可权的行政机关在其法定职权范围内实施。法律、法规授权的具有管理公共事务职能的组织，在法定授权范围内，以自己的名义实施行政许可。被授权的组织适用本法有关行政机关的规定。

2. 行政机关在其法定职权范围内，依照法律、法规、规章的规定，可以委托其他行政机关实施行政许可。委托机关应当将受委托行政机关和受委托实施行政许可的内容予以公告；委托行政机关对受委托行政机关实施行政许可的行为应当负责监督，并对该行为的后果承担法律责任。受委托行政机关在委托范围内，以委托行政机关名义实施行政许可；不得再委托其他组织或者个人实施行政许可。

3. 经国务院批准，省、自治区、直辖市人民政府根据精简、统一、效能的原则，可以决定一个行政机关行使有关行政机关的行政许可权。

4. 行政许可需要行政机关内设的多个机构办理的，该行政机关应当确定一个机构统一受理行政许可申请，统一送达行政许可决定。行政许可依法由地方人民政府两个以上部门分别实施的，本级人民政府可以确定一个部门受理行政许可申请并转告有关部门分别提出意见后统一办理，或者组织有关部门联合办理、集中办理。

理解行政许可的实施机关需要与理解行政处罚的实施机关结合起来。可以实施行政许可的主体通常都可以实施行政处罚，但有权实施行政处罚的主体不一定可以实施行政许可，如综合执法机关、行政机关的派出机关和派出机构、行政机关委托的组织等。

行政机关实施行政许可，不得向申请人提出购买指定商品、接受有偿服务等不正当要求。行政机关工作人员办理行政许可，不得索取或者收受申请人的财物，不得谋取其他利益。

对直接关系公共安全、人身健康、生命财产安全的设备、设施、产品、物品的检验、检测、检疫，除法律、行政法规规定由行政机关实施的外，应当逐步由符合法定条件的专业技术组织实施。专业技术组织及其有关人员对所实施的检验、检测、检疫结论承担法律责任。

(六) 行政许可的实施程序

《行政许可法》第 29 条至第 57 条对此作出规定。

1. 申请与受理。

公民、法人或者其他组织从事特定活动，依法需要取得行政许可的，应当向行政机关提出申请。

行政机关应当将法律、法规、规章规定的有关行政许可的事项、依据、条件、数量、程序、期限以及需要提交的全部材料的目录和申请书示范文本等在办公场所公示。申请人要求行政机关对公示内容予以说明、解释的，行政机关应当说明、解释，提供准确、可靠的信息。

申请人申请行政许可，应当如实向行政机关提交有关材料和反映真实情况，并对其申请材料实质内容的真实性负责。行政机关不得要求申请人提交与其申请的行政许可事项无关的技术资料和其他材料。

2. 审查与决定。

行政机关应当对申请人提交的申请材料进行审查。申请人提交的申请材料齐全、符合法定形式，行政机关能够当场作出决定的，应当当场作出书面的行政许可决定。根据法定条件和程序，需要对申请材料的实质内容进行核实的，行政机

《2011 年公务员考试行测考试 100 套华图真题》

关应当指派两名以上工作人员进行核查。

依法应当先经下级行政机关审查后报上级行政机关决定的行政许可，下级行政机关应当在法定期限内将初步审查意见和全部申请材料直接报送上级行政机关。上级行政机关不得要求申请人重复提供申请材料。

行政机关对行政许可申请进行审查时，发现行政许可事项直接关系他人重大利益的，应当告知该利害关系人。申请人、利害关系人有权进行陈述和申辩。行政机关应当听取申请人、利害关系人的意见。

行政机关对行政许可申请进行审查后，除当场作出行政许可决定的外，应当在法定期限内按照规定程序作出行政许可决定。申请人的申请符合法定条件、标准的，行政机关应当依法作出准予行政许可的书面决定。行政机关依法作出不予行政许可的书面决定的，应当说明理由，并告知申请人享有依法申请行政复议或者提起行政诉讼的权利。

行政机关作出准予行政许可的决定，需要颁发行政许可证件的，应当向申请人颁发加盖本行政机关印章的下列行政许可证件：(1)许可证、执照或者其他许可证书；(2)资格证、资质证或者其他合格证书；(3)行政机关的批准文件或者证明文件；(4)法律、法规规定的其他行政许可证件。行政机关实施检验、检测、检疫的，可以在检验、检测、检疫合格的设备、设施、产品、物品上加贴标签或者加盖检验、检测、检疫印章。

法律、行政法规设定的行政许可，其适用范围没有地域限制的，申请人取得的行政许可在全国范围内有效。

3. 期限。

除可以当场作出行政许可决定的外，行政机关应当自受理行政许可申请之日起 20 日内作出行政许可决定。20 日内不能作出决定的，经本行政机关负责人批准，可以延长 10 日，并应当将延长期限的理由告知申请人。但是，法律、法规另有规定的，依照其规定。依照本法第二十六条的规定，行政许可采取统一办理或者联合办理、集中办理的，办理的时间不得超过 45 日；45 日内不能办结的，经本级人民政府负责人批准，可以延长 15 日，并应当将延长期限的理由告知申请人。

4. 听证。

法律、法规、规章规定实施行政许可应当听证的事项，或者行政机关认为需要听证的其他涉及公共利益的重大行政许可事项，行政机关应当向社会公告，并举行听证。

行政许可直接涉及申请人与他人之间重大利益关系的，行政机关在作出行政许可决定前，应当告知申请人、利害关系人享有要求听证的权利；申请人、利害关系人在被告知听证权利之日起 5 日内提出听证申请的，行政机关应当在 20 日内组织听证。申请人、利害关系人不承担行政机关组织听证的费用。

听证按照下列程序进行：(1)行政机关应当于举行听证的七日前将举行听证的时间、地点通知申请人、利害关系人，必要时予以公告；(2)听证应当公开举行；(3)行政机关应当指定审查该行政许可申请的工作人员以外的人员为听证主持人，申请人、利害关系人认为主持人与该行政许可事项有直接利害关系的，有权申请回避；(4)举行听证时，审查该行政许可申请的工作人员应当提供审查意见的证据、理由，申请人、利害关系人可以提出证据，并进行申辩和质证；(5)听证应当制作笔录，听证笔录应当交听证参加人确认无误后签字或者盖章。行政机关应当根据听证笔录，作出行政许可决定。

《2011年公务员考试行测考试100套华图真题》

5. 特别规定。国务院实施行政许可的程序，适用有关法律、行政法规的规定。

实施本法第十二条第二项所列事项的行政许可的，行政机关应当通过招标、拍卖等公平竞争的方式作出决定。但是，法律、行政法规另有规定的，依照其规定。实施本法第十二条第三项所列事项的行政许可，赋予公民特定资格，依法应当举行国家考试的，行政机关根据考试成绩和其他法定条件作出行政许可决定；赋予法人或者其他组织特定的资格、资质的，行政机关根据申请人的专业人员构成、技术条件、经营业绩和管理水平等的考核结果作出行政许可决定。但是，法律、行政法规另有规定的，依照其规定。

实施本法第十二条第四项所列事项的行政许可的，应当按照技术标准、技术规范依法进行检验、检测、检疫，行政机关根据检验、检测、检疫的结果作出行政许可决定。行政机关实施检验、检测、检疫，应当自受理申请之日起五日内指派两名以上工作人员按照技术标准、技术规范进行检验、检测、检疫。不需要对检验、检测、检疫结果作进一步技术分析即可认定设备、设施、产品、物品是否符合技术标准、技术规范的，行政机关应当当场作出行政许可决定。行政机关根据检验、检测、检疫结果，作出不予行政许可决定的，应当书面说明不予行政许可所依据的技术标准、技术规范。

实施本法第十二条第五项所列事项的行政许可，申请人提交的申请材料齐全、符合法定形式的，行政机关应当当场予以登记。需要对申请材料的实质内容进行核实的，行政机关依照本法第三十四条第三款的规定办理。

有数量限制的行政许可，两个或者两个以上申请人的申请均符合法定条件、标准的，行政机关应当根据受理行政许可申请的先后顺序作出准予行政许可的决定。但是，法律、行政法规另有规定的，依照其规定。

(七) 行政许可的费用

行政机关实施行政许可和对行政许可事项进行监督检查，不得收取任何费用。但是，法律、行政法规另有规定的，依照其规定。

行政机关提供行政许可申请书格式文本，不得收费。

行政机关实施行政许可所需经费应当列入本级行政机关的预算，由本级财政予以保障，按照批准的预算予以核拨。

行政机关实施行政许可，依照法律、行政法规收取费用的，应当按照公布的法定项目和标准收费；所收取的费用必须全部上缴国库，任何机关或者个人不得以任何形式截留、挪用、私分或者变相私分。财政部门不得以任何形式向行政机关返还或者变相返还实施行政许可所收取的费用。

(八) 监督检查

行政机关可以对被许可人生产经营的产品依法进行抽样检查、检验、检测，对其生产经营场所依法进行实地检查。检查时，行政机关可以依法查阅或者要求被许可人报送有关材料；被许可人应当如实提供有关情况和材料。行政机关根据法律、行政法规的规定，对直接关系公共安全、人身健康、生命财产安全的重要设备、设施进行定期检验。对检验合格的，行政机关应当发给相应的证明文件。

行政机关实施监督检查，不得妨碍被许可人正常的生产经营活动，不得索取或者收受被许可人的财物，不得谋取其他利益。

取得直接关系公共利益的特定行业的市场准入行政许可的被许可人，应当按照国家规定的服务标准、资费标准和行政机关依法规定的条件，向用户提供安全、方便、稳定和价格合理的服务，并履行普遍服务的义务；未经作出行政许可决定的行政机关批准，不得擅自停业、歇业。被许可人不履行前款规定的义务的，行

《2011年公务员考试行测考试 100 套华图真题》

政机关应当责令限期改正，或者依法采取有效措施督促其履行义务。

有下列情形之一的，作出行政许可决定的行政机关或者其上级行政机关，根据利害关系人的请求或者依据职权，可以撤销行政许可：(1)行政机关工作人员滥用职权、玩忽职守作出准予行政许可决定的；(2)超越法定职权作出准予行政许可决定的；(3)违反法定程序作出准予行政许可决定的；(4)对不具备申请资格或者不符合法定条件的申请人准予行政许可的；(5)依法可以撤销行政许可的其他情形。被许可人以欺骗、贿赂等不正当手段取得行政许可的，应当予以撤销。依照前两款的规定撤销行政许可，可能对公共利益造成重大损害的，不予撤销。依照本条第一款的规定撤销行政许可，被许可人的合法权益受到损害的，行政机关应当依法给予赔偿。依照本条第二款的规定撤销行政许可的，被许可人基于行政许可取得的利益不受保护。撤销的事由是行政机关实施行政许可的行为违法，因此，撤销决定具有溯及力，行政许可自始无效。

有下列情形之一的，行政机关应当依法办理有关行政许可的注销手续：(1)行政许可有效期届满未延续的；(2)赋予公民特定资格的行政许可，该公民死亡或者丧失行为能力的；(3)法人或者其他组织依法终止的；(4)行政许可依法被撤销、撤回，或者行政许可证件依法被吊销的；(5)因不可抗力导致行政许可事项无法实施的；(6)法律、法规规定的应当注销行政许可的其他情形。注销的事由是基于合法原因行政许可不能或没有必要继续存续，因此，注销决定没有溯及力，自注销之日起无效。

(九) 法律责任

违反本法第十七条规定设定的行政许可，有关机关应当责令设定该行政许可的机关改正，或者依法予以撤销。

行政机关及其工作人员违反本法的规定，有下列情形之一的，由其上级行政机关或者监察机关责令改正；情节严重的，对直接负责的主管人员和其他直接责任人员依法给予行政处分：(1)对符合法定条件的行政许可申请不予受理的；(2)不在办公场所公示依法应当公示的材料的；(3)在受理、审查、决定行政许可过程中，未向申请人、利害关系人履行法定告知义务的；(4)申请人提交的申请材料不齐全、不符合法定形式，不一次告知申请人必须补正的全部内容的；(5)未依法说明不予受理行政许可申请或者不予行政许可的理由的；(6)依法应当举行听证而不举行听证的。

行政机关实施行政许可，有下列情形之一的，由其上级行政机关或者监察机关责令改正，对直接负责的主管人员和其他直接责任人员依法给予行政处分；构成犯罪的，依法追究刑事责任：(1)对不符合法定条件的申请人准予行政许可或者超越法定职权作出准予行政许可决定的；(2)对符合法定条件的申请人不予行政许可或者不在法定期限内作出准予行政许可决定的；(3)依法应当根据招标、拍卖结果或者考试成绩择优作出准予行政许可决定，未经招标、拍卖或者考试，或者不根据招标、拍卖结果或者考试成绩择优作出准予行政许可决定的。

行政机关违法实施行政许可，给当事人的合法权益造成损害的，应当依照《国家赔偿法》的规定给予赔偿。

行政许可申请人隐瞒有关情况或者提供虚假材料申请行政许可的，行政机关不予受理或者不予行政许可，并给予警告；行政许可申请属于直接关系公共安全、人身健康、生命财产安全事项的，申请人在一年内不得再次申请该行政许可。被许可人以欺骗、贿赂等不正当手段取得行政许可的，行政机关应当依法给予行政处罚；取得的行政许可属于直接关系公共安全、人身健康、生命财产安全事项

《2011年公务员考试行测考试100套华图真题》

的，申请人在三年内不得再次申请该行政许可；构成犯罪的，依法追究刑事责任。

被许可人有下列行为之一的，行政机关应当依法给予行政处罚；构成犯罪的，依法追究刑事责任：(1)涂改、倒卖、出租、出借行政许可证件，或者以其他形式非法转让行政许可的；(2)超越行政许可范围进行活动的；(3)向负责监督检查的行政机关隐瞒有关情况、提供虚假材料或者拒绝提供反映其活动情况的真实材料的；(4)法律、法规、规章规定的其他违法行为。

公民、法人或者其他组织未经行政许可，擅自从事依法应当取得行政许可的活动的，行政机关应当依法采取措施予以制止，并依法给予行政处罚；构成犯罪的，依法追究刑事责任。

二、行政强制措施

行政强制措施，是指行政机关为了防止和制止可能发生或者正在发生的违法行为，或者进行行政调查检查，对公民、法人或者其他组织的人身、财产等采取的国家行政强制措施。行政强制措施和行政强制执行不一样，行政强制措施的对象有两种，一是违法行为，为了控制、预防、调查违法行为，而对违法行为人的人身自由或财产加以控制的措施。另外一种主要对危害公共安全的人加以限制，比如把传染病人、吸毒者限制起来，是为了公共安全。行政强制执行是什么呢？

行政强制措施分为：

1. 对人身的强制。是指国家有权机关，如公安、海关等对那些可能威胁现行的社会秩序或公共利益或者拒不履行法定或规定义务的行政相对人所采取的限制人身自由或迫使其履行义务的强制措施。根据我国现行有关法律、法规的规定，对人身的强制措施主要有：收容审查、强制治疗、强制戒毒、强制传唤、强制扣留、强制隔离、强制遣返、强制带离现场等。

2. 对财产的强制。是指行政主体对负有履行法定财产义务，却拒不履行的行政相对人，所采取的迫使其履行义务或达到与履行义务相同状态的强制措施。根据我国现行法律、法规的规定，对财产的强制措施主要有：查封、冻结、扣押、划拨、扣缴、强行拆除建筑物、变价出售、强制抵缴、强制退还等。

3. 对行为的强制。是指行政主体对拒不履行行政作为或不作为义务行政相对人，所采取的强制其履行作为或不作为义务的行政强制措施。如强制许可、强制登记、强制检定。

三、行政征收

行政征收，是行政机关为保证国家机关进行正常职能活动或者为保证提供公共服务，无偿和强制地向公民、法人或者其他组织征收钱物的活动，征收内容主要是税和费。

特别需要掌握其两个特点：强制、无偿，以区别于行政征用和行政征购。行政征用和行政征购都是强制的，然而是有偿的。而行政征收是无偿的，最突出的是税收，是强制的、无偿的。

从我国现行法律、法规的规定来看，行政征收的内容主要有：

1. 税收征收，它是行政征收中最主要的方面，从我国的税法规定来看，包括对内税收征收和涉外税收征收两方面的内容。

2. 资源费征收。在我国，城市土地、矿藏、水流、山岭、草原、荒地、滩涂等自然资源属于国家所有。单位和个人在开采、使用国有自然资源时必须依法向国家缴纳资源费。如水资源费的征收、矿产资源补偿费的征收等。

3. 建设资金征收。这是为确保国家的重点建设，解决重点建设资金不足问题

《2011年公务员考试行测考试100套华图真题》

面向公民、法人或其他组织实施的征收。例如，公路养路费的征收、港口建设费的征收、国家能源交通重点建设基金的征收等。

四、行政裁决

行政裁决，是行政机关依法裁决公民、法人或者其他组织之间权益争议的活动。行政裁决的特征有以下方面：(1)行政裁决的主体是法律授权的特定行政机关。(2)行政裁决的对象是特定的民事、经济纠纷。(3)行政裁决在形式上具有准司法性。(4)行政裁决在效果上具有强制性。

根据我国现行法律的规定，行政裁决主要有以下几类：(1)损害赔偿裁决。这是指行政机关对平等主体之间发生的、因涉及与行政管理相关的合法权益受到侵害而引起的赔偿争议所作的裁决。(2)权属纠纷裁决。这是指行政主体对平等主体之间，因涉及与行政管理相关的某一财产、资源的所有权、使用权的归属发生争议所作出的裁决。(3)侵权纠纷裁决。这是指在平等主体之间，一方当事人认为其行政法上的合法权益受到了另一方侵犯时，依法请求行政机关制止侵害，并责令侵权方对其侵害行为已造成的损失予以赔偿。

比较一下，行政裁决和行政复议。行政裁决，裁决的对象是民事纠纷，行政复议的对象是行政纠纷。两者之间的共同点都是行政机关解决争议，行政机关的作用类似法院，所以有时把这两种行为概括称为“行政司法”。两者的不同点是对象的不同，行政裁决的对象是民事纠纷，行政复议的对象是行政纠纷。一般说来，民事纠纷发生后，一方当事人可诉至法院。为什么行政机关也可以裁决民事争议呢？主要有两个条件，一个是法律授权行政机关解决；二是当事人提出了申请。只有在这两种情况下，行政机关才能解决民事纠纷。

行政调解和仲裁的对象也是民事纠纷。但是，行政机关调解民事纠纷不属于具体行政行为。因为经行政机关调解，民事纠纷双方当事人所达成的调解协议体现的是纠纷双方当事人的意思，并没有体现行政机关的意思，行政机关在一方当事人不履行协议时不能强制执行，即调解行为不具有行政法上的效力，所以不是具体行政行为。在行政管理中，对民事纠纷的仲裁只有一种，即劳动争议仲裁。劳动合同发生争议，到劳动局里的劳动争议仲裁委员会去仲裁，仲裁也不是具体行政行为。因为劳动局里的劳动争议仲裁委员会不是行政机关，而是具有中立性的社会组织。当事人不服行政仲裁，可以提起民事诉讼。

五、行政应急

(一)行政应急的概念与基本原则

行政应急是指行政机关依法运用行政紧急权力控制突发紧急事态以恢复正常社会秩序的制度。行政应急制度的基本特征是：(1)出现了突发紧急事态，而且该事态达到了运用平时的行政管理手段无法应对的程度；(2)有权国家机关依法启动紧急程序，授权政府依法运用紧急权力、采取紧急措施；(3)在进入紧急状态下，某些宪法和法律的条款处于中止状态，公民的某些宪法权利和法律权利处于中止状态、某些公民权利受到比平时状态更多的限制。

行政应急的基本原则主要有三项：

(1)法治原则。行政机关在紧急状态下所拥有的行政紧急权力可以使宪法和法律的某些条款处于中止状态，也就是公民的某些基本权利处于克减状态，如果不对这种特殊状态下的行政权力预先在法律上作出设定，不规定这种特殊权力行使时的条件和程序，这种权力必然会被滥用。

(2)人权保障原则。行政机关在紧急状态下之所以要拥有行政紧急权力，是为了迅速恢复秩序，保障人权；而行政机关拥有行政紧急权力也可能侵犯人权。因

《2011 年公务员考试行测考试 100 套华图真题》

此，行政机关在采取行政应急措施时，必须从人权保障出发。

（3）比例原则。行政机关所采取的行政应急措施必须是以应对紧急事态、恢复秩序为目的；行政机关所采取的行政应急措施必须是对社会成员的合法权益造成最低限度损害的措施；行政机关所采取的行政应急措施必须是为了保护更大利益，才可以牺牲更小的利益。

我国宪法规定，全国人大常委会有权决定全国范围和省、自治区、直辖市范围进入紧急状态；国务院有权决定省、自治区、直辖市范围内部分地区进入紧急状态。需要采取行政应急措施的紧急事态通常有严重的自然灾害、安全事故、公共卫生、经济危机、社会冲突等。

（二）行政应急措施

根据行政机关所采取的行政应急措施对社会成员的权利义务产生的影响，可以将其分为以下三类：

1. 授益性行政应急措施。即行政机关为在紧急事态中受害的公民或者组织提供救助和保护的措施。如提供救助物质、食品、医疗措施等。

2. 负担性行政应急措施。即行政机关临时性征用公民或者组织的物质、人力、房屋、土地等。

3. 限制性行政应急措施。即行政机关对公民或者组织的宪法权利或者法律权利作出必要的限制的措施。如在宣布进入紧急状态的情况下，宪法规定的公民的集会、游行、示威自由处于中止状态；在出现严重公共卫生事件时，某些公民或者某个区域的公民的人身自由要受到限制。