

2012 年度国家公务员录用考试 《行政职业能力测验》全真模拟预测试卷(二)

注意事项

- 1.行政职业能力测验共有五个部分,135 道题,总时限为 120 分钟。各部分不分别计时,但都给出了参考时限,供答题时参考。
- 2.将姓名与准考证号在指定位置上用黑色字迹的钢笔、签字笔或圆珠笔填写,并用 2B 铅笔在准考证号对应的数字上填涂。
- 3.请将题本上的条形码揭下,贴在答题卡指定位置。没有贴条形码的答题卡将按作废处理,成绩计为零分。
- 4.题目应在答题卡上作答,在题本上作答一律无效。
- 5.待监考老师宣布考试开始后,你才可以开始答题。
- 6.监考老师宣布考试结束时,你应立即停止作答,将题本、答题卡和草稿纸都翻过来放在桌上,待监考老师确认数量无误、发出离开指令后,方可离开考场。
- 7.试题答错不倒扣分。
- 8.严禁折叠答题卡!

第一部分 常识判断 (共 25 题,参考时限 15 分钟)

根据题目要求,在四个选项中选出一个最恰当的答案。

请开始答题:

1.构建社会主义和谐社会,要按照民主法治、公平正义、诚信友爱、充满活力、安定有序、人与自然和谐相处的总要求和_____的原则,着力解决人民最关心、最直接、最现实的利益问题,努力形成全体人民各尽其能、各得其所而又和谐相处的局面,为发展提供良好社会环境。

- A.效率与公平相统一 B.共同建设、共同享有
C.注重效率、兼顾公平 D.各尽所能、各取所需

2.创新是一个民族进步的灵魂,是一个国家兴旺发达的不竭动力,也是一个政党永葆生机的源泉。创新包括理论创新、制度创新、技术创新、文化创新及其他各方面的创新。在各种创新中处于先导地位的是:

- A.科技创新 B.制度创新 C.文化创新 D.理论创新

3.下列表述不正确的是:

- A.目前我国已经建设客运专线 8358 公里,这标志着高速铁路运营总里程已位居世界第一
- B.2010 年 7 月 10 日是“中国 2010 年上海世博会志愿者主题日”,也是世博历史上首次设立的“志愿者主题日”
- C.在 2010 年全球货物吞吐量排行榜中,中国稳占 8 席,深圳港继续保持全球第一大港的位置
- D.我国“天河一号”高性能计算机位列世界超级计算机 500 强排行榜首位
- 4.民族区域自治制度是新中国的重要政治制度。在我国五个自治区中,最早和最晚建立的是:
- A.内蒙古自治区、西藏自治区
- B.内蒙古自治区、宁夏回族自治区
- C.新疆维吾尔自治区、宁夏回族自治区
- D.广西壮族自治区、西藏自治区
- 5.“十二五”时期,我国对外开放战略将实现的转变不包括:
- A.从以往的以出口创汇为核心目标转变为以促进经济发展模式转变为目标
- B.从以往追求外资外贸规模与速度转为讲求质量与效益
- C.从以往的以“引进来”为主转变为以“走出去”为主
- D.从以往的制造业开放为主转变为制造业与服务业开放并重
- 6.根据《选举法》,下列说法正确的是:
- A.选举委员会根据选民的要求,可以组织代表候选人与选民见面
- B.代表候选人的近亲属可以担任监票人、计票人
- C.每一代表所代表的城乡人口数相同
- D.选举时可以设有秘密写票处
- 7.根据《突发事件应对法》,下列说法正确的是:
- A.突发事件应对工作实行预防为主、预防与应急相结合的原则
- B.涉及两个以上行政区域的,由有关行政区域的人民政府共同负责
- C.国务院和县级以上地方各级人民政府的办事机构是突发事件应对工作的行政领导机关
- D.突发事件预警级别,可分为一级、二级、三级和四级,四级为最高级别
- 8.下列有关政务公开的说法不正确的是:
- A.要认真贯彻实施政府信息公开条例,一切政府信息,都要向社会公开
- B.对人民群众申请公开政府信息的,要依法在规定时限内予以答复
- C.要把公开透明作为政府工作的基本制度,拓宽办事公开领域
- D.创新政务公开方式,方便人民群众通过互联网办事
- 9.下列历史事件时间排序正确的一组是:
- A.戊戌变法——马关条约——五四运动
- B.郑和下西洋——戚继光抗击倭寇——郑成功收复台湾
- C.张衡发明地动仪——诸葛亮写《出师表》——张骞出使西域
- D.虎门销烟——中日甲午战争——第一次鸦片战争
- 10.以下人物及其成就说法不正确的是:
- A.巴甫洛夫发现了条件反射
- B.拉瓦锡揭示了物质燃烧的本质

C.亚当·斯密的《就业、利息与货币通论》

D.冯·诺依曼被称为计算机之父

11.下列关于中国的航天航空发展说法错误的是:

A.“中国航天第一港”是酒泉卫星发射中心

B.“神舟七号”载人飞船于 2008 年 9 月 25 日发射,翟志刚实现了中国历史上的首次太空漫步

C.我国第一颗人造卫星“东方红”一号于 1968 年遨游太空

D.航空火箭学家、空气动力学家钱学森被誉为“中国航天之父”和“火箭之王”

12.我国最大的天然林区分布在:

A.西北地区

B.东北地区

C.西南地区

D.东南地区

13.贯彻科学发展观,就要树立正确的政绩观,彻底改变“唯 GDP 论英雄”的政绩评价方式,这是因为 GDP 不能:

A.反映经济实力和市场规模

B.进行国际经济的横向比较

C.全面反映人民的幸福程度

D.反映社会经济结构的变动情况

14.关于我国的卫生医疗事业,下列说法不正确的是:

A.人人享有基本医疗卫生服务是我国的卫生发展目标

B.隋末唐初的医学家“药王”孙思邈著有《本草纲目》

C.从 2000 年起,我国开始建立城镇职工基本医疗保险制度

D.砭石是我国古代最早发明、使用的一种医疗用具,是新石器时代的产物

15.关于我国的地形,以下说法不正确的是:

A.吐鲁番盆地是我国地势最低的盆地

B.华北平原是我国最大的平原

C.我国西北—东南走向的山脉主要有两条:阿尔泰山和祁连山

D.我国地势的第一级阶梯是青藏高原,平均海拔在 4000 米以上

16.科学发展观是按照“统筹城乡发展、统筹区域发展、统筹_____发展、统筹人与自然和谐发展、统筹国内发展和对外开放”的要求推进各项事业的改革和发展的一种方法论,是中国共产党的重大战略思想。

A.政治社会

B.经济社会

C.文化社会

D.精神社会

17.社会主义和谐社会的核心价值是:

A.自由民主

B.公平正义

C.社会稳定

D.以人为本

18.当地自然资源对建筑风格的影响最弱的是:

A.西双版纳的傣家竹楼

B.纽约的摩天大楼

C.因纽特人的雪屋

D.黄土高原的窑洞

19.关于国画,以下说法不正确的是:

A.中国画自古分为人物、山水、花鸟三大科

B.长沙楚墓出土的《人物龙凤图》、《御龙图》是现存最古老的帛画

C.元四家是指黄公望、王蒙、倪瓒和文征明

D.郑板桥的代表作有《兰石图》、《竹石图》

20.下列各项,说法不正确的是:

A.人们习惯于把坐在药铺里看病的医生称为“坐堂先生”,起源于“医圣”张仲景

B.初唐“四杰”是指王勃、杨炯、卢照邻和骆宾王

C.十二地支包括子、丑、寅、卯、辰、巳、午、未、申、酉、戌、亥

D.我国现代文学史上最早的一部白话文小说是《阿 Q 正传》

21.关于低碳经济,下列表述不正确的是:

A.温室气体排放量尽可能低的经济发展方式

B.尤其是二氧化硫这一主要温室气体的排放量要有效控制

C.实质是能源高效利用、清洁能源开发、追求绿色 GDP

D.核心是能源技术和减排技术创新、产业结构和制度创新以及人类生存发展观念的根本性转变

22.下列文物在长江流域出土的是:

A.嵌错赏功宴乐铜壶

B.甲骨文

C.秦陵兵马俑

D.莲鹤方壶

23.下列文学常识的表述不正确的是:

A.亚里士多德的文艺理论著作是《诗学》

B.古希腊悲剧三大诗人是:埃斯库罗斯、索福克勒斯、欧里庇得斯

C.莫里哀是十七世纪法国最重要的喜剧作家

D.海涅是恐怖小说的鼻祖

24.以下说法不正确的是:

A.Http 协议是用于从 www 服务器传输超文本到本地浏览器的传送协议

B.第四届中美互联网论坛的主题是“为了更加有用、更加可信赖的互联网”

C.南极科考站的建设每年只有 3 个月的工期

D.云计算是一种计算机自身的计算方式

25.以下关于生活常识,说法不正确的是:

A.微波炉的加热原理是电能转化为电磁能,再将电磁能转化为内能

B.堆煤的墙角变黑是因为分子永不停息地做无规则的运动

C.人民币最早的硬币材质是铝镍合金

D.低碳生活会降低城市居民的生活水平

※※※第一部分结束,请继续做第二部分!※※※

第二部分 言语理解与表达

(共 40 题,参考时限 35 分钟)

本部分包括表达与理解两方面的内容。请根据题目要求,在四个选项中选出一个最恰当的答案。

请开始答题:

26.文化名人的隐退,有两种境界,一是被迫隐退,二是自觉隐退。自觉隐退的人,要么有审

时度势、急流勇退的_____,要么有超身世外、看轻名利的_____,不论是哪一种情况,都是值得敬佩的。

填入划横线部分最恰当的一项是:

- A.智慧 豁达 B.勇气 练达
C.气魄 风度 D.魄力 淡泊

27.原始民族的艺术作品大半都不是纯粹从审美的动机出发,它们的创作常常是为了_____的目的,而且后者往往还是主要的动机,审美的要求只是满足次要的_____而已。

填入划横线部分最恰当的一项是:

- A.实用 欲望 B.生活 情感
C.娱乐 目标 D.交换 生存

28.我们国家和民族的文化遗产的确得天独厚,无比丰富,但我们要对历史对文化心存_____,而不能_____过度开发滥用,更不能将其当成赚钱和政绩的卖点与砝码。

填入划横线部分最恰当的一项是:

- A.敬重 肆意 B.敬畏 肆意
C.敬重 决意 D.敬畏 决意

29.根据第四次全国结核病流行病学抽样调查报告,我国结核菌感染率为 44.5%,估算全国感染人口 5.5 亿,结核病的防治已经_____。

填入划横线部分最恰当的一项是:

- A.不容忽视 B.迫在眉睫 C.任重道远 D.时不我待

30.任何一个真实的文明人,都会自觉不自觉地地在心理上过着多种年龄相重叠的生活,没有这种重叠,生命就会失去_____,很容易风干和_____。

填入划横线部分最恰当的一项是:

- A.弹性 脆折 B.快乐 夭折
C.趣味 苍白 D.色彩 老化

31.大抵是对那些过分关心的回帖有些不堪承受的好笑,她于是在自己的一首诗后的跟帖做了一个不_____的答复:文字只是一种姿态,不要把作者和其笔下的人物作_____的连接。

填入划横线部分最恰当的一项是:

- A.领情 无谓 B.明智 相应
C.在意 无端 D.冷静 对等

32.《卡门》以女工、农民出身的士兵和群众为主人公,这一点,在那个时代的歌剧作品中是_____的、可贵的。也许正因为作者的_____创新,本剧在初演时并不为观众接受,但随着时间的推移,这部作品的艺术价值逐渐得到人们的认可,此后变得长盛不衰。

填入划横线部分最恰当的一项是:

- A.罕见 刻意 B.独特 蓄意
C.稀有 不断 D.新奇 坚持

33.在舆论指责国内油价虚高的_____见诸报端后,中石化派出一位所谓的专家拿裸油价进行比较,试图证明中国的裸油价低于美国,不过显然是_____,起到的作用适得其反。

填入划横线部分最恰当的一项是:

A.批评 文过饰非

B.批判 不言自明

C.评论 欲盖弥彰

D.论述 指鹿为马

34.网络并不是文学经典遭遇尴尬的_____,但网络_____的癖性,确实将文学经典本来就脆弱的存在又推入到了一个更加感伤的历史时空。

填入划横线部分最恰当的一项是:

A.元凶巨恶 首当其冲

B.罪魁祸首 无懈可击

C.元凶巨恶 钻头觅缝

D.罪魁祸首 无孔不入

35.近些年来,人才外流,精英滞留海外,仿佛成了国人心中的隐伤,并日益焦灼不已,很多人认为出国不归的精英,是忘恩负义,是_____。_____,人才外流的确让人黯然,但动辄口诛笔伐,也实属不必。

填入划横线部分最恰当的一项是:

A.背信弃义 尽管

B.崇洋媚外 当然

C.数典忘祖 诚然

D.以怨报德 虽然

36.其实早在 2005 年,MBC 电视台和李导演都曾坚决表示,不会为《大长今》拍摄续集,他们认为,《大长今》所造成的轰动效应已经到达了一个高度,想要超越非常困难,_____另辟蹊径也不会“_____”。

填入划横线部分最恰当的一项是:

A.宁可 狗尾续貂

B.即使 画蛇添足

C.宁愿 虎头蛇尾

D.尽管 依样葫芦

37.任何一项伟大的事业,都不会一帆风顺。在历史进程中,突破与阻力、_____与守旧,永远是一对相生相克的孪生姐妹。古代被称为贤君的,用今天的话讲,都是能_____社会矛盾的成功者。

填入划横线部分最恰当的一项是:

A.创新 调和

B.前进 缓和

C.开放 化解

D.革新 解决

38.近年来,我国除了依据国际法不断向非法占有中国文物的国家提出严正_____外,每年还拨出数千万资金到海外回购流失文物。然而,每年 5000 万元的财政拨款,相对于百万件的流失文物和动辄天价的文物,无异于_____。

填入划横线部分最恰当的一项是:

A.抗议 徒劳无功

B.交涉 杯水车薪

C.谈判 蚍蜉撼树

D.申诉 螳臂当车

39.文化本来应该是一种提醒和思索的力量,却又常常_____,变成了颠倒轻重缓急的迷魂阵。

填入横线部分最恰当的一项是:

A.黑白颠倒

B.自以为是

C.刚愎自用

D.适得其反

40.一个国家要将力量投诸海外就得高瞻远瞩,_____,能够_____未来,预测意外,_____人民受到攻击。

填入划横线部分最恰当的一项是:

A.以小见大 预计 防止

B.原始见终 预料 阻止

C.可见一斑 预感 避免 D.见微知著 预见 预防

41.用一夜读完的小说有一种是靠情节取胜,象《达·芬奇密码》。还有一种就是像《朗读者》,很难说它靠什么来吸引人需要用一夜读完,没有_____的情节设置,也没有_____的人物关系。

填入划横线部分最恰当的一项是:

A.环环相扣 千头万绪 B.引人入胜 纷繁芜杂
C.抑扬顿挫 扑朔迷离 D.跌宕起伏 错综复杂

42.在这个世界上,依然有很多朋友热爱纸质的芬芳,翰墨的留香,也依然有很多人经过岁月的_____后仍坚守着朴实的_____,渴望真诚的交流,欣赏丰富而_____的灵魂。

填入划横线部分最恰当的一项是:

A.淘洗 信念 淡定 B.洗礼 理想 平静
C.磨砺 理念 激扬 D.检验 作风 优雅

43.儒学最大的缺陷是过分强调个人的内心_____而轻视_____建设。它既没有宗教的精神约束,也没有_____的配套法律。因此,它不仅不能约束帝王的行为,也不能约束官员的行为,否则不能解释为何历史上出了这么多的昏君和贪官。

填入划横线部分最恰当的一项是:

A.修养 制度 世俗 B.素养 法制 现实
C.修为 规则 有效 D.修行 机制 可行

44.明年的春节联欢晚会上,将有文艺界的曲艺演员、歌星、奥运冠军以及青年明星教师等_____献艺,为全国人民打造出一桌_____的“年夜饭”。

填入划横线部分最恰当的一项是:

A.联合 精彩纷呈 B.联合 精美绝伦
C.联袂 美轮美奂 D.联袂 盛况空前

45._____,文理分科虽然能集中优势兵力于一科,但其所造成的综合素质较差等弊端也正在日益_____。于此,叫停文理分科之声_____。

填入划横线部分最恰当的一项是:

A.毋庸讳言 凸显 不绝于耳 B.无可辩驳 明显 不绝如缕
C.不容置疑 显现 此起彼伏 D.不可否认 暴露 络绎不绝

46.一把坚实的大锁挂在大门上,一根铁杆费了九牛二虎之力,还是无法将它撬开。钥匙来了,他瘦小的身子钻进锁孔,只轻轻一转,大锁就“啪”地一声打开了。铁杆奇怪地问:“为什麼我费了那麽大力气也打不开,而你却轻而易举地就把它打开了呢?”钥匙说:“因为我最了解他的心。”

这个寓言意在告诉人们:

A.策略正确,便柔能克刚 B.方法要有针对性,切中要害
C.一把钥匙开一把锁 D.给人关怀才能得到回报

47.俗话说,“人往高处走,水往低处流”。这里的高处是就比喻义而言的,但仅就地理意义来说,人类其实是倾向于向低处走的。海拔高的地区往往气温低,交通不便,当然,人类无法往高处走还有一个重要原因:高山地区的河流往往在河谷或峡谷里,很难利用。同理,沙漠中一些绿洲型的文明古国遗址往往出现在沙漠深处河流尾间的地方,而不是中上游,那也是因为取水容

易。还有那些古国的遗址为什么总是变动?其实这也容易解释——河流的尾闾不断摆动,它们追随着河流的尾闾生存。

对这段文字的主旨概括最准确的一项是:

- A.我们对“人往高处走,水往低处流”的理解是有偏差的
- B.对水源的追求是人类选择居住地的首要考虑因素
- C.从地理学角度阐释“人往低处走”的内在合理性
- D.解释文明古国遗址出现在沙漠深处并不断变动的原因

48.“行为科学”认为人的欲望(或称需要)是人行为的发动器,倘若欲望完全被行为实现而满足了,它就会立即消失,产生索然之感,这时候就需要另一种新的欲望来发动新的行为。而“朦胧”总是使人不识庐山真面目,赏美心理永远不能完全满足,也就不会兴味索然。美感最强烈之点是刚刚触到迫切欲赏的美物而又没有完全得到的那一瞬间,这一瞬间就产生“临界点美感”,朦胧的美学功能就包括使人总是保持在兴趣盎然而不是索然的“临界点美感”上。

以下对“临界点美感”理解不正确的一项是:

- A.它产生于刚刚触到迫切欲赏的美物而又没有完全得到的那一瞬间
- B.从心理学的角度来看,“临界点美感”是最强烈的美的感受
- C.“临界点美感”所构成的心理基础是对美的事物的一种满足
- D.使人保持在兴趣盎然的“临界点美感”上,是朦胧的美学功能之一

49.如果说“家电下乡”给了家电企业开拓农村消费市场的机遇,那么,“进城”则更能为企业创造更好的销售业绩。因为在城市里,居民更容易接受新的生活和消费方式。假如“家电进城”也得到政府的相关政策支持和补贴的话,企业应当有理由在城镇市场上发掘出新的消费潜力,客观上让城市低收入和失业居民也得到家电产品消费的实惠。

这段文字的主要观点是:

- A.“家电下乡”有可能给企业带来良好的销售业绩
- B.城市低收入和失业居民更需要政策支持和补贴
- C.政府应该支持企业的“家电进城”,大力推广新产品
- D.和农村市场比较,城镇消费市场同样具有挖掘的潜力

50.早在公元前 7000—6000 年,亚述人就意识到了指纹的特点,并使用指纹作为身份的象征。19 世纪中叶开始了对指纹在科学意义上的研究。20 世纪 60 年代起用计算机自动识别指纹,同时刑侦用的指纹自动识别系统逐渐在全球广泛应用。而这时的指纹采集一般都采用油墨捺印的方式。1980 年后,随着个人计算机和光学指纹采集器的发明,指纹识别技术开始进入了一些非司法领域,如居民身份证等。1990 年以后,廉价指纹采集器和计算设备的出现,解决了快速准确的匹配算法问题,使指纹识别技术走向了基于个人的应用。

以下对这段文字的理解准确的一项是:

- A.廉价指纹采集器和计算设备加速了指纹识别技术基于个人的应用
- B.指纹自动识别系统在 20 世纪 60 年代就被全球广泛应用
- C.使用指纹作为身份的象征在公元前就十分流行
- D.居民身份证是指纹识别技术在非司法领域最早应用的实例

51.现代科学普遍认为催眠是无意识知觉占了主导,压制住了知觉而形成的状态。无意识知觉平时就好像是背景,比如我们呼吸、走路、开车,大部分时候我们手脚身体的控制都是无意识

的,除非让你把注意力放在这些事情上面,你才会意识到。而催眠正是这种无意识知觉被唤醒,而知觉被带到后台休息去了的状态。科学家发现,被催眠了以后,管理逻辑思维的左脑的活动明显减弱,而感性十足的右脑活动增强,整个大脑处于一种半睡半醒的状态。这种状态下,人脑仿佛显得很脆弱,可以受外界无意识地控制。

对文段的主要内容概括最准确的是:

- A.催眠的实质是唤醒人的无意识知觉,而让知觉暂时“休息”
- B.催眠术能够控制人的思维,侵犯个人隐私,应该予以限制
- C.每个人平时都由两种知觉支配,只是我们没有意识到而已
- D.催眠术能够改变人的知觉状态,具有心理矫治的应用前景

52.真正美的东西,都是充满了感情的。面对美的东西,我们常常一往情深,或者一见钟情。而感情这个东西很奇怪,一方面,它是个人的,富有极端强烈的个性色彩,只有达到高度个性化的时候,它才是最真挚的。正是因为这样,感情这个东西,常常是隐秘的。人与人之间,难于传达,所谓父不能喻之于子,夫不能喻之于妻。然而,另一方面,感情这个东西却又最具有社会性,最需要普遍的传达,最需要人与人之间的交流。

这段文字意在说明:

- A.人们容易对美的东西产生真情
- B.感情既是个人的,又是社会的
- C.充分体现了个人意志的情感才是真挚的
- D.人们之间的感情是隐秘的,不易传达

53.基础研究,指的是一种并未考虑其实际应用性,而源于我们深入自然和人类的激情的科学研究。本世纪的许多最有实际意义的发现之所以能够实现,是因为学者们不是出于追求发明创造的实用性,而是探索自然界的基本知识。今天人类遗传基因领域内的进步可以追溯到半个世纪以前 DNA 的发现,当时却很少有人能够预见到这一发现的巨大作用。强大工具如激光、硅能、超导、卫星、光学纤维、核磁共振成像的发现,最初也并未考虑它的实际应用性,而只是在最基本的层次上对于知识的探索。

这段文字意在强调:

- A.基础研究在推动人类科技进步方面具有重要价值
- B.科学研究不应以追求实用性为终极目标
- C.科学研究应重视对基本知识的探索
- D.基础研究的价值常在表现出实用性时才被人认识

54.独立学院的办学成本,是指学校在培养学生知识、技能、技巧等各种综合素质过程中所发生的各种耗费。具体包括学院教职员工的工资性支出、学院各部门的行政事业经费支出、学院保证教学活动的正常进行所需要的各种业务支出、校园校舍维护修缮支出、固定资产购建与用费等内容。对办学成本进行适当的分类,一方面可以为办学成本核算提供具体的成本核算指标要求,另一方面也为对办学成本进行全面系统的有效控制提供更为有用的信息指标体系。

作者接下来最有可能介绍的是:

- A.独立学院的特点
- B.独立学院办学成本控制的有效途径
- C.独立学院办学成本的分类
- D.独立学院的办学成本怎样核算

55.道家与道教的教义不仅不同,甚至相反。道家教人顺乎自然,而道教教人反乎自然。举例

来说,照老子、庄子讲,生而有死是自然过程,人应当平静地顺着这个自然过程。但是道教的主要教义则是如何避免死亡的原理和方术,显然是反乎自然而行的。道教有征服自然的科学精神。

这段文字意在强调:

- A.道家与道教的教义迥然不同
- B.与道教相比,道家的教义更理性
- C.道教教人顺乎自然,道教教人反乎自然
- D.道家讲究自然,道教讲究科学

56.中国的各级政府,一直对制造业,对“项目”十分偏爱,因为制造业可以带来投资和税收。各种政策优惠也都向投资和发展制造业倾斜,这直接导致了中国制造业的相对过大,服务业则相对过小的现状。这件事情,对增长的数字有利,毕竟制造业往往是增长最快的部门,但对就业的数字而言,则是另一番情景了。这大概也部分地解释了,过去这几年中国的经济增速基本是两位数,位列世界之冠,而中国的就业增长却只有区区1%~2%左右,高增长并没有真正转化为高就业。

这段文字意在说明:

- A.一味支持制造业不利于中国经济的整体发展
- B.经济的高增长并不一定带来高就业,其影响可能是相反的
- C.制造业与服务业的不均衡发展凸显出我国产业格局的不合理
- D.应采取积极措施促进服务业发展,以实现其对就业的促进作用

57.医学界流行一句话,在美国买枪很容易,但买抗生素很难。然而,我国的情况则完全不同。据了解,虽然经过多方的艰辛努力,我国医院的抗菌药物使用率在2007年仍然高达74%,高于欧美国家20%~50%。一些医生和患者甚至将抗生素视为万能药。抗生素的滥用会造成细菌耐药性增强,致使抗生素在较短时期内失效。目前我国每研制一个抗生素要10年,而细菌产生耐药性只需两年。专家称:“如果我们再不对抗生素的使用加以控制,过不了多长时间老百姓看病吃药就没有有效的抗生素可以用了。”

这段文字意在说明:

- A.抗生素不是万能药,使用须谨慎
- B.抗生素的管理存在漏洞,应提高其销售门槛
- C.应采取有效措施遏制滥用抗生素的现象
- D.细菌耐药性增强,抗生素研发面临困境

58.依次填入下面一段文字横线处的语句,衔接最恰当的一项是:

鲁迅几百万字的遗著,其中很大一部分必将永远受到读者的喜爱,后世读者将以一种赞叹和欣赏的态度阅读它。_____。

- ①他作为中国知识分子的楷模,这形象,这精神,必将永世长存
- ②比起文章来,更重要的是鲁迅这个人,他的入世的态度,他的爱国心和正义感
- ③更有若干篇在写作的当时就并不正确,就只能作为一种研究资料保留下去了
- ④他对强暴的反抗和对弱者的同情,他为了中国进步不懈的努力
- ⑤还有一部分时过境迁,不再使人感到兴趣
- ⑥他身上那种中国优秀知识分子传统的骨气,用他的话说,“这就是中国的脊梁”

- A.④⑥①②⑤③
- C.⑤③①⑥②④

- B.④①⑥⑤③②
- D.⑤③②④⑥①

59.依次填入下面一段文字横线处的语句,衔接最恰当的一组是:

传说中的荆棘鸟,是自然界一种奇特的动物。它一生只唱一次歌。_____,_____。
_____,_____,_____!一曲终了,荆棘鸟终于气竭命殒,以身殉歌——以
一种惨烈的悲壮塑造了美丽的永恒,给人们留下一段悲怆的谜。

- ①使人间所有的声音刹那间黯然失色
- ②当它终于如愿以偿
- ③便不停执着地找寻荆棘树
- ④从离开鸟巢开始
- ⑤就把自己娇小的身体扎进一株最长、最尖的荆棘树上
- ⑥和着血和泪放声歌唱——那凄美动人、婉转如霞的歌声

- A.①③②④⑥⑤
- B.④③②⑤⑥①
- C.③②④⑥⑤①
- D.④②③①⑤⑥

60.①一方面,以娱乐为职能的大众文化得到蓬勃发展的机会。

②与此同时,文化领域却有全然不同的景观。

③问题是怎样产生的呢?

④90年代中国,商品大潮汹涌而起,给社会经济生活带来无限生机。

⑤一方面,一部分“曲高和寡”的精英文化则陷入举步维艰的境地。

⑥原因有多方面,其中之一就是文化的二重性。

将以上6个句子重新排列,语序正确的是:

- A.⑥⑤①②③④
- B.④③⑤①②⑥
- C.③①⑤④②⑥
- D.④②①⑤③⑥

61.尊严的具体性不只表现在工作有岗位、生活有保障上,更表现在你可以自由、独立地存在,不会依附于强权,可以建立并实现你的自我价值。这样,_____。

填入划横线部分最恰当的一句是:

A.每个国民才是有尊严的国民,无数个有尊严的国民构成的国家才是真正有尊严的国家,才会真正赢得世界的尊重与敬重

B.国家才是有尊严的国家,每个国民才是有尊严的国民,才会真正赢得世界的尊重与敬重

C.才会赢得世界的尊重与敬重,才使每个国民成为有尊严的国民,国家才是真正有尊严的国家

D.每个国民才是有尊严的国民,才会真正赢得世界的尊重与敬重,国家才会由无数个有尊严的国民构成真正有尊严的国家

62.“头顶马聚源,脚踩内联升,身穿瑞蚨祥,腰缠四大恒”,这首老北京民谣形象地反映了老字号在市民心目中的地位。荣宝斋的字画,亨得利的钟表,月盛斋的酱肉,张一元的茶叶,十八街的麻花,狗不理的包子……这些耳熟能详的老字号,构成了人们对悠悠岁月的珍贵记忆。

这段文字主要说的是:

- A.老字号在老百姓心目中的位置和意义
- B.老字号的诚信为自己赢得良好的信誉
- C.老字号的沉淀,积累了丰富的商业文化
- D.每家老字号都有自己独特的传统记忆

63. 以往认为最适合哲学的领域,如今已被人类存在的各方面经验作出成功解释的科学所占领。在一个信息技术取得支配地位的世界上,哲学似乎已败下阵来,它至少不能把智慧切成一个个可以测量的小块提供给人们。在 20 世纪,有无数哲学家讥讽自己从事的学科,认为哲学活动在经历了三千年之后,至今还在希望能把我们引向真理,那不过是遥遥无期的幻象而已。然而,哲学仍然比以往任何时候都受人喜爱,这或许是因为几十年来,哲学一直从科学和其他学科中寻求庇护,而今已从这种专业束缚中解脱出来的缘故吧。

这段文字意在说明:

- A. 当前哲学所面临的危机,恰恰为其发展提供了机遇
- B. 对哲学命运的悲观认识,致使很多哲学家妄自菲薄
- C. 哲学智慧,内涵丰富,不能仅依经验作为评价标准
- D. 哲学现今所获得的独立性,赋予其新的魅力与动力

64. 我们不拒斥时尚,并乐于承认自己在生活中还曾受惠于时尚。但说文学不能脱离时代与不能脱离时尚,其间区别是巨大而本质的。因为作家不是模特、艺人或设计师,他可以追随时代,但永远不能攀附潮流。因为跟着潮流亦步亦趋,只能使他变成一个受塑者而做不成创造者。并且,这种随潮流旋趋旋弃,力求尽人而悦之,必然会使他丧失独立的个体意志,既不能复苏一种精神,又难以启迪更有意义的人生,最终不是在畅销中迷失,就是在时尚中死亡。

这段文字的主旨是:

- A. 真正的文学与时尚无关
- B. 文学多少要受惠于时尚
- C. 时尚文学必然死亡
- D. 作家既要追随时代更应跟随时尚

65. 用石头造房子太慢,在古代光是石料加工和运输就是旷日持久的劳役。罗马彼得大教堂造了整整一百年,巴黎圣母院造了一百八十多年,而德国的科隆大教堂前后耗时竟达六百年之久。神是永恒的,不妨天长地久耗下去。可是钟情于现世的中国人绝对等不起,尤其是中国的皇帝和官员们。中国历史上每一次改朝换代都是一番大兴土木,嵯峨相接的宫殿一转眼就起来了,实在是靠了木结构的施工便利。换作西方人凿石垒堡的搞法,怕是皇帝等到死也住不进宫里。

对这段文字的主旨概括最准确的是:

- A. 揭示建筑的木结构相对于石结构具有的独特优势
- B. 比较中国人与西方人在人居理念上的差异
- C. 阐明中国人钟情于现世的特点对建筑风格的影响
- D. 分析中国古代建筑采用木结构而非石结构的原因

※※※第二部分结束,请继续做第三部分! ※※※

第三部分 数量关系

(共 15 题,参考时限 20 分钟)

在这部分试题中,每道题呈现一段表述数字关系的文字,要求你迅速、准确地计算出答案。

请开始答题:

66. A、B、C、D、E 五个人干一项工作,若 A、B、C、D 四人一起干需要 6 天完成;若 B、C、D、E

四人一起干需要 8 天完工;若 A、E 两人一起干需要 12 天完工。那么,若 E 一人单独干需要几天完工?

- A.36 B.42 C.48 D.64

67.某单位派 60 名运动员参加运动会开幕式,他们着装白色或黑色上衣,黑色或蓝色裤子。其中有 12 人穿白上衣蓝裤子,有 34 人穿黑裤子,29 人穿黑上衣,那么穿黑上衣黑裤子的有多少人?

- A.12 B.14 C.15 D.29

68.0、1、2、3、4、5、6 这七个数字能够组成多少个被 125 整除的无重复数字的五位数?

- A.9 B.12 C.21 D.24

69.甲、乙两车分别从 A、B 两地同时出发,在 A、B 间不断地往返行驶。甲车每小时行 20 千米,乙车每小时行 50 千米,已知两车第 10 次与第 18 次迎面相遇的地点相距 60 千米,那么 A、B 间的路程是多少千米?

- A.105 B.120 C.125 D.145

70.某人以分期付款的方式买一台电视机,现有两种付款方式:(1)第一个月付 800 元,以后每个月付 200 元;(2)前一半时间每个月付 400 元,后一半时间每个月付 100 元。两种付款方式的付款总数和时间都相同,请问该电视机的价格为多少元?

- A.2500 B.2750
C.3000 D.3250

71.某年级有学生若干人,列成三层中空方阵,多出 9 人,如在中空部分增列两层,则少 15 人,问该年级有学生多少人?

- A.120 B.105 C.110 D.100

72.为节约水资源,某城市规定,每户每月用水不超过 7 立方米,按 11 元/立方米收费;超过 7 立方米的,超过部分按 19 元/立方米收费,每次收费用水量都按整数计算。某个月月底结算时,王家比陈家多交了 106 元。问王家比陈家多用了多少立方米的水?

- A.3 B.4 C.5 D.6

73.一次数学考试共有 20 道题,规定:答对一题得 2 分,答错一题扣 1 分,未答的题不计分。考试结束后,小明共得 23 分,他想知道自己做错了几道题,但只记得未答的题的数目是个偶数。请问,他答错了多少道题?

- A.3 B.4 C.5 D.6

74.某学校有一批树苗需要栽种在学院路两旁,每隔 5 米栽一棵。已知每个学生栽 4 棵树,则有 202 棵树没有人栽;每个学生栽 5 棵树,则有 348 人可以少栽一棵。问学院路共有多少米?

- A.6000 B.12000 C.12006 D.12012

75.近日,某区域饱受台风侵袭,台风所到之处,半径为 130 千米的区域都受到影响。某时刻台风刚好抵达 A 市,并沿着北偏东 15° 的方向以每小时 40 千米的速度前进。已知 B 市位于 A 市的东北方,相距 130 千米,求再过几小时,台风对于 B 市的影响最为强烈?

- A.4 B.5 C.6 D.7

76.A、B 两地相距 1350 米,甲和乙分别从 A、B 两地出发,相向而行。已知甲的速度为 4 千米/小时,乙的速度为 5 千米/小时,1 分钟后两人调头反方向而行,再过 3 分钟,两人再次调头反方向而行,以此类推,再过 5、7、……(连续奇数)分钟调头而行,请问,出发多少分钟后两人才

能相遇?

- A.9 B.25 C.49 D.81

77.某年级有 84 名学生,其中男生的年龄之和是女生的 3 倍。3 年后,男生的年龄之和比女生年龄之和的 3 倍少 36 岁。问该年级男生有多少人?

- A.48 B.54 C.60 D.66

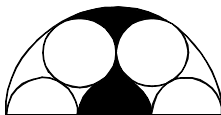
79.甲、乙、丙三名运动员囊括了全部比赛项目的前三名,他们的总分分别是 8、7 和 17 分,甲得了 1 个第一名,已知各个比赛项目分数相同,且第一名的得分不低于二、三名得分的和,那么比赛共有多少个项目?

- A.3 B.4 C.5 D.6

79.32 头牛和若干匹马的价钱相等,如果把牛的头数和马的头数互换,马的头数再减少 14 头,此时二者的价钱又相等了。请问,每头牛和马的价格比为多少?

- A.2:1 B.3:2 C.4:3 D.3:4

80.如图所示,图中的圆和半圆都两两相切,两个小圆和三个半圆的半径长都是 1。求阴影部分的面积。



- A. $\frac{7}{8}\pi$ B. $\frac{5}{6}\pi$ C. $\frac{3}{4}\pi$ D. $\frac{2}{3}\pi$

※※※第三部分结束,请继续做第四部分! ※※※

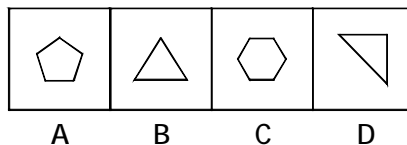

第四部分 判断推理

(共 40 题,参考时限 35 分钟)

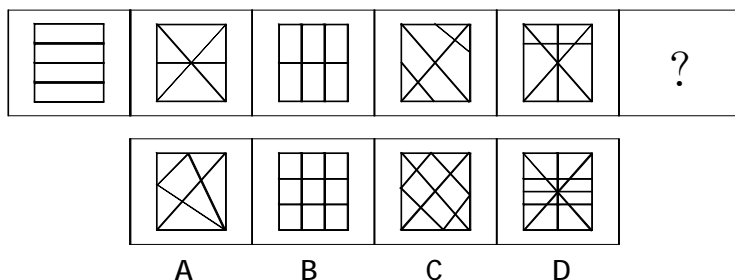
一、图形推理。请按每道题的答题要求作答。

请开始答题:

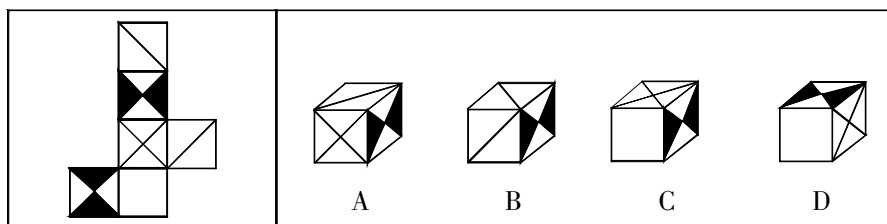
81.从所给的四个选项中,选择最合适的一个填入问号处,使之呈现一定的规律性:



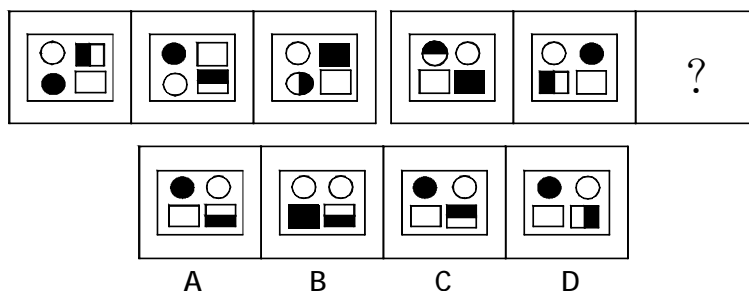
82.从所给的四个选项中,选择最合适的一个填入问号处,使之呈现一定的规律性:



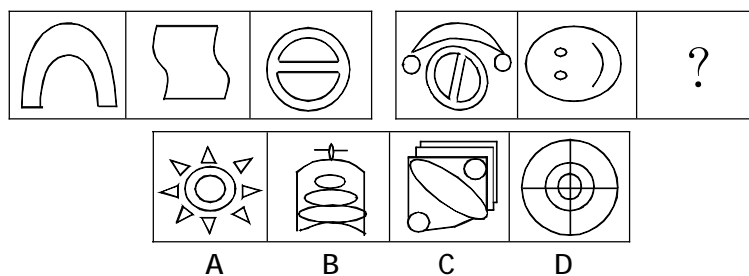
83.左边给定的是纸盒的外表面,下面哪一项能由它折叠而成?




84.从所给的四个选项中,选择最合适的一个填入问号处,使之呈现一定的规律性:



85.从所给的四个选项中,选择最合适的一个填入问号处,使之呈现一定的规律性:



86.把下面的六个图形分为两类,使每一类图形都有各自的共同特征或规律,分类正确的一项是:



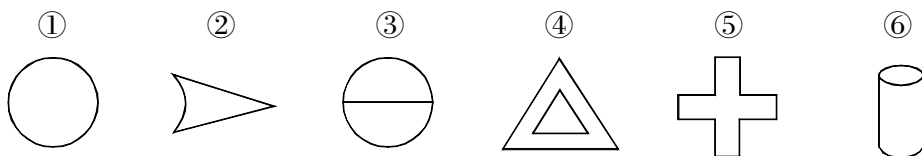
A. ①②③, ④⑤⑥

B. ①②⑥, ③④⑤

C.①③④,②⑤⑥

D.①④⑤,②③⑥

87.把下面的六个图形分为两类,使每一类图形都有各自的共同特征或规律,分类正确的一项是:




A.①②⑤,③④⑥

B.①③④,②⑤⑥

C.①④⑥,②③⑤

D.①③⑥,②④⑤

88.把下面的六个图形分为两类,使每一类图形都有各自的共同特征或规律,分类正确的一项是:



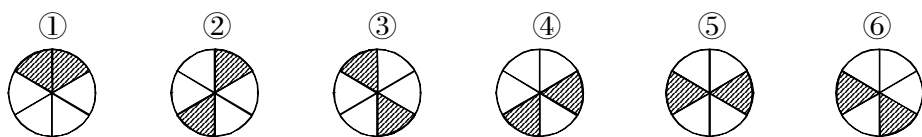
A.①②③,④⑤⑥

B.①③④,②⑤⑥

C.①④⑥,②③⑤

D.①③⑥,②④⑤

89.把下面的六个图形分为两类,使每一类图形都有各自的共同特征或规律,分类正确的一项是:



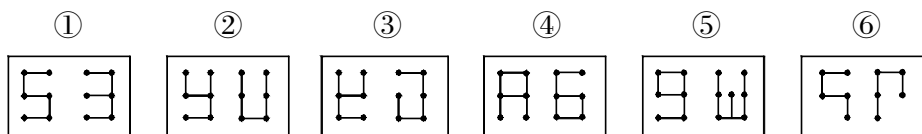
A.①②③,④⑤⑥

B.①③④,②⑤⑥

C.①③⑥,②④⑤

D.①④⑥,②③⑤

90.把下面的六个图形分为两类,使每一类图形都有各自的共同特征或规律,分类正确的一项是:



A.①②③,④⑤⑥

B.①②④,③⑤⑥

C.①④⑥,②③⑤

D.①③⑥,②④⑤

二、定义判断。每道题先给出定义,然后列出四种情况,要求你严格依据定义,从中选出一个最符合或最不符合该定义的答案。注意:假设这个定义是正确的,不容置疑的。

请开始答题:

91.市场定位是指企业根据竞争者现有产品在市场上所处的位置,针对顾客对该类产品某些特征和属性的重视程度,为本企业产品塑造与众不同的、给人印象鲜明的形象,并将这种形

象生动地传递给顾客,从而使该产品在市场上确定适当的位置。

根据上述定义,下列各项中最符合市场定位的是:

- A.某地打算发展旅游业,经过对外地考察,发现一些地方因兴建仿古街、发展农家乐赚了不少钱,于是决定在本地规划几条仿古街,并鼓励农民兴办农家乐
- B.某公司根据自身技术优势,选择与农民合作发展种植业,采用类似野生的方式种植野菜
- C.某企业为了让自己的产品销路更广,销量更大,打出广告说该产品适用于各种人群
- D.由于社会竞争越来越激烈,年轻人的工作压力越来越大,很多人愿意在业余时间玩一些不动脑筋又能回归自然的的游戏,而不是那些耗时耗力的游戏,某网站趁机推出开心农场游戏

92.转移支付,是指政府或企业无偿地支付给个人或下级政府,以增加其收入和购买力的费用。是政府或企业的一种不以取得商品或劳务作补偿的支出,是一种收入再分配的形式。

根据上述定义,下列属于转移支付的是:

- A.某企业在年终总结会议上对工作优异的员工进行表彰,并给予一定的奖励
- B.汶川大地震后,某高校积极组织全校师生向灾区进行捐款,并组织志愿者到灾区服务
- C.春节期间,哈尔滨市组织全市各类志愿服务队开展“我陪空巢老人过大年”活动
- D.元旦来临之际,某市政府开展“送温暖”活动,给生活贫困户发放了慰问金

93.恐惧症:对某种物体或某种环境的一种非理性的、不适当的恐惧感。一旦面对这种物体或环境时,尽管当时并无危险,恐惧症患者仍会产生一种极端的恐惧感。

根据上述定义,下列属于恐惧症的是:

- A.陈女士从小就胆小,一次去乡下办事经过一户农家的门口,冷不防一只体型壮硕的狼狗钻出来凶恶地盯着她,吓得她立刻尖叫着跑掉了
- B.工程师小徐每次看到印有深海的照片时,就感觉自己像置身于深海之中,四周都是幽暗深邃的海水,感到呼吸困难、心跳加快,害怕得再也不敢看那些照片一眼
- C.晚饭后,有点醉意的老同事执意送大家回去,小李还没到小区门口就喊着要下车,因为他快受不了那种害怕会出车祸的精神压力了
- D.看了一部日本恐怖片后,小钱感觉脑子里总是浮现电影里的恐怖场景,好几天都睡不好觉

94.技术壁垒是商品进口国在实施贸易进口管制时,通过颁布法律、法令、条例、规定、建立技术标准、认证制度、卫生检验检疫制度、检验程序以及包装、规格标签和标准等,提高对进口产品的技术要求,增加进口难度,最终达到限制进口、保障国家安全、保护消费者利益和保持国际收支平衡的目的的非关税壁垒。

以下属于技术壁垒的是:

- A.乙国政府认为,甲国在乙国的纺织品价格过低,已经使本国纺织业受到本质损害,于是对甲国纺织品实施反倾销调查,由此甲国纺织品的出口受到限制
- B.某国生产的皮鞋,因被发现质量严重不合格,其使用的胶水含有大量有毒物质,而被欧盟禁止进口
- C.日本于 2006 年 5 月 29 日,正式实施“肯定列表制度”,将进口茶业残留检测项目由 71 项增加到 276 项
- D.某国的法律规定,在政府采购时禁止采购外国商品,以支持本国产业的发展

95.供给诱导需求,是指供应商利用优于消费者的资讯,以自身的利益为优先考量,促使消费者购买更多的产品和服务。

根据上述定义,下列不属于供给诱导需求的是:

- A.某百货商场为促销,在元旦期间先对某商品进行提价,再以“满 200 元送 50 元”的手段促销该商品
- B.某超市售货员让顾客免费品尝国外某品牌饮料,并宣称该饮料是该国成功人士的首选
- C.林女士凭免费券到某美容店美容时,美容师说其美白产品效果很好,用了能使人年轻 10 岁,林女士随后订购了一年的美容消费
- D.李先生为更换手机到某电器城,他详细咨询了销售员,买到了一部自己称心的手机

96.分权,是指现代企业组织为发挥低层组织的主动性和创造性,而把生产管理决策权分给下属组织,最高领导层只集中少数关系全局利益和重大问题的决策权。授权,则是指主管将职权或职责授给某位部属负担,并责令其负责管理性或事务性工作。

根据上述定义,下列选项属于授权的一项是:

- A.某市市委组织部任命王某为该市 A 区副区长,主管 A 区的科技教育工作
- B.某电信公司将具体业务交给各省区子公司负责,总公司只负责战略制定和技术支持
- C.某企业人力资源总监因为要去外地出差,将新员工的招聘工作交给副总监负责
- D.某国际著名奢侈品牌将旗下所有产品在大陆的独家经营权交给了国内一家贸易公司

97.血缘关系是以血统或生理的联系为基础形成的人际关系;或者是指在婚姻和血缘基础上形成的人际关系。

根据上述定义,下列人际关系中属于血缘关系的是:

- A.张三出差外地,巧遇家乡来的一个堂叔
- B.某高校中文系 88 级同学毕业后第一次聚会
- C.小张被公司派往日本学习,在东京遇到了多年前的一个老朋友
- D.京剧《红灯记》里,李铁梅唱道:“我家的表叔数不清……虽说是亲人又不相认……可他比亲人还要亲。”

98.社会化过度是指把成年人某些社会化的任务前移到了部分青少年身上。现在我们的教育过早及过多地给予孩子们社会规范、纪律约束和强求一律的认同,极易造成青少年的社会化过度。

根据上述定义,下列行为中不属于社会化过度的是:

- A.老周说,同事李先生的小孩太聪明了,小小年纪就懂得“见人说人话,见鬼说鬼话”
- B.一项调查显示,现在中小学生中想当班组长的人非常多,而长大以后想当官是不少孩子主要的人生目标
- C.2007 年,香港 9 岁神童沈诗钧被香港某大学录取一事引起广泛关注
- D.有人形容时下青少年中流行的啃老族是:“一直无业,二老啃光,三餐饱食,四肢无力,五官端正,六亲不认,七分任性,八方逍遥,九(久)坐不动,十分无用。”

99.人才开发是指将人的智慧、知识、才干作为一种资源加以发掘、培养,以便促进人才本身素质的提高和更加合理的使用。

根据上述定义,下列不属于人才开发的一项是:

- A.对毕业生进行入职培训
- B.委托猎头公司招聘人才
- C.人事安排上做到人尽其才
- D.对员工进行能力素质测试

100.统一指挥原则是指在正式组织里,无论什么时候,一个下属都应接受而且只应接受一

个上级的命令并向这个上级汇报自己的工作。

根据上述定义,下列选项违背了统一指挥原则的是:

A.总经理把产品销售的职责委派给一位分管市场经营的副总经理,由其负责所在地区的经销办事处,同时总经理又要求各地区经销办事处的经理们直接向总会计师汇报每天的销售数量

B.主任科员小张在省级政府部门工作,发现他的直接上司有索贿受贿的行为,于是就向省纪委举报其上司的违法行为

C.王大夫是某医院的外科医生,同时也是医院工会会员。有一天,王大夫接到手术安排的同时也接到了工会主席要求参加一项活动的通知,他在向直接上司请假后参加了工会的活动

D.某商业集团公司的刘总到公司下属某商场暗访,现场发现一些员工违反公司制度的行为,刘总并没有现场责令员工改进,而是将问题反映给了商场经理

三、类比推理。每道题先给出一组相关的词,要求你在备选答案中找出一组与之在逻辑关系上最为贴近、相似或匹配的词。

请开始答题:

101.高山:陆地

A.波浪:海洋

B.暴雨:雷电

C.乌云:蓝天

D.电能:电网

102.南辕:北辙

A.声东:击西

B.虚情:假意

C.南腔:北调

D.阳春:白雪

103.运动场:运动员

A.木匠:钉子

B.篮球架:篮球

C.学校:学生

D.救护队员:病人

104.售货员:顾客:销售

A.校长:老师:学校

B.警察:长官:领导

C.交警:司机:指挥

D.演员:观众:表演

105.抢劫:犯罪:坐牢

A.地震:灾害:伤亡

B.登山:运动:受伤

C.广告:营销:购买

D.法律:规范:约束

106.茶叶:福建:铁观音

A.旅游:海南:椰子

B.文房四宝:安徽:宣纸

C.京剧:北京:京胡

D.蔬菜:上海:上海青

107.时间:小时:分钟

A.重力:压力:牛顿

B.质量:千克:克

C.路程:里:公里

D.容积:升:立方分米

108.世博会 对于 () 相当于 () 对于 跳水

A.欧洲杯 游泳

B.展览会 郭晶晶

C.奥运会 体操

D.亚运会 跳板

109.() 对于 精英 相当于 古典 对于 ()

A.草根 前卫

B.名牌 传统

C.时尚 基层

D.人才 艺术

- 110.() 对于 绝版 相当于 生产 对于 ()
- A.邮票 先进 B.收藏 人类
- C.发行 文物 D.再版 复制

四、逻辑判断。每道题给出一段陈述,这段陈述被假设是正确的,不容置疑的。要求你根据这段陈述,选择一个答案。注意:正确的答案应与所给的陈述相符合,不需要任何附加说明即可以从陈述中直接推出。

请开始答题:

111.根据文物保护法,被作为文物保护的建筑物或其他设施,其所有权即使属于个人,所有者也无权对其进行修缮、装饰乃至改建。有人认为这一规定不允许任何例外的开工是不妥当的,因为有时有的所有者提出对文物进行外观和内部结构的改造,是因为他们确信,这样做有利于加固和美化文物而提高它们的价值。

以下哪项如果为真,最能削弱上述论证?

- A.对文物建筑的改造,不一定就能起到加固和美化的作用
- B.有的文物建筑年久失修,如不及时改造,将严重损其价值
- C.文物建筑的真正价值在于保持其历史原貌,对原貌的任何改变只能降低其价值
- D.一个所有者不能对其所有物进行处置,这是对其基本权利的侵犯

112.为了对付北方夏季的一场罕见干旱,某市居民用水量受到严格限制。不过,该市目前的水库储水量与8年前该市于干旱期间的蓄水量持平。既然当时居民用水量并未受到限制,那么现在也不应该受到限制。

如果以下陈述为真,哪一项将最严重地削弱作者的主张?

- A.自上次干旱以来,该市并没有建造新的水库
- B.按计划,对居民用水量的限制在整个夏天仅仅持续两个月
- C.居民用水量占总用水量的50%还多
- D.自上次干旱以来,该市总人口有了极大的增长

113.现在越来越多的人拥有了自己的轿车,但他们明显地缺乏汽车保养的基本知识,这些人会按照维修保养手册或4S店售后服务人员的提示做定期保养。可是,某位有经验的司机告诉你,每行驶5千公里做一次定期检查,只能检查出汽车可能存在问题的一小部分,这样的检查是没有意义的,是浪费时间和金钱。

以下哪项不能削弱该司机的结论?

- A.每行驶5千公里做一次定期检查是保障车主安全所需要的
- B.每行驶5千公里做一次定期检查能发现引擎的某些主要故障
- C.赵先生的新车未作定期检查行驶到5100公里时出了问题
- D.某公司新购的一批汽车未作定期检查,均安全行驶了7000公里以上

114.大投资的所谓巨片的票房收入,一般是影片制作与商业宣传总成本的二至三倍。但是电影产业的年收入大部分来自中小投资的影片。

以下哪项如果为真,最能解释题干的现象?

- A.票房收入不是评价影片质量的主要标准
- B.大投资巨片的票价明显高于中小投资影片

C.对观众的调查显示,大投资巨片的平均受欢迎程度并不高于中小投资的影片

D.投入市场的影片中,大部分是中小投资的影片

115.小东在玩“勇士大战”游戏,进入第二关时,界面出现四个选项。第一个是“选择任意选项都需要支付游戏币”,第二个选项是“选择本项后可以得到额外游戏奖励”,第三个选项是“选择本项游戏后游戏不会进行下去”,第四个选项是“选择某个选项不需要支付游戏币”。

如果四个选项中的陈述只有一句为真,则以下哪项一定为真?

A.选择任意选项都需要支付游戏币

B.选择任意选项都不需要支付游戏币

C.选择第二个选项后可以得到额外游戏奖励

D.选择第三个选项后游戏能继续进行下去

116.如果人体缺碘,就会发生甲状腺肿大,俗称“大脖子病”。过去我国缺碘人口达7亿多,从1994年起我国实行食盐加碘政策。推行加碘盐十多年后,大脖子病的发病率直线下降,但在部分地区,甲亢、甲状腺炎等甲状腺疾病却明显增多。有人认为,食盐加碘是导致国内部分地区甲状腺病增多的原因。

如果以下陈述为真,哪一项能给上述观点以最强的支持?

A.我国沿海地区居民常吃海鱼、海带、紫菜等,这些海产品含有丰富的碘

B.甲亢、甲状腺炎等甲状腺疾病患者应禁食海产品、含碘药物和加碘食盐

C.目前,我国在绝大多数高碘地区已经停止供应加碘食盐

D.某项调查表明,食盐加碘8年的乡镇与未加碘乡镇相比,其年均甲亢发病率明显增高

117.张林是奇美公司的总经理,潘洪是奇美公司的财务主管。奇美公司每年生产的紫水晶占全世界紫水晶产品的2%。潘洪希望公司通过增加产量使公司利润增加。张林却认为:增加产量将会导致全球紫水晶价格下降,反而会导致利润减少。

以下哪项最为恰当地指出了张林的逻辑推断中的漏洞?

A.将长期需要与短期需要互相混淆

B.将未加工的紫水晶与加工后紫水晶的价格互相混淆

C.不当地假设公司的生产目标与财务目标不一定是一致的

D.不当地假设奇美公司的产品供给变化会显著改变整个水晶市场产品的总供给

118.财政专家指出,公共风险不仅产生于因政府政策不当导致的国有资产流失,而且由于政府直接积极参与经济生活,如政府直接参与国有企业,调控金融机构,这些重要经济领域一旦发生大面积损失,将会直接酿成公共风险,从而造成财政赤字、债务偿还压力。因此,如果要想实施稳健的财政和货币政策,仅仅调整财政政策是不够的。

从这段文字可以推出:

A.只要政府保证国有资产不流失,即使决策失误,也不会产生公共风险

B.只要政府不直接参与经济生活,或者国有企业、金融机构这些重要的经济领域不发生大面积损失,就不会产生公共风险

C.如果能够防范公共风险的产生,就可以实施稳健的财政和货币政策

D.由于重要经济领域发生大面积损失,所以即使政府政策决策正确,仍有可能产生公共风险

119.张先生有一位夫人和一个女儿;女儿有一位丈夫和一个儿子。这些人有如下的情况:

(1)五人中有一人是医生,而在其余四人中有一人是这位医生的病人;

(2)医生的孩子和病人亲生父母亲中年龄较大的那一位性别相同;

(3)医生的孩子不是病人;

(4)医生的孩子不是病人亲生父母亲中年龄较大的那一位。

那么医生是:

A.张先生

B.张先生的夫人

C.张先生的女儿

D.张先生的女婿

120.在过去的两年中,有 5 架 F717 飞机坠毁。针对 F717 存在设计问题的说法,该飞机制造商反驳说:调查表明,每一次事故都是由于飞行员操作失误造成的。

飞机制造商的上述反驳基于以下哪一项假设?

A.过去两年间,商业飞行的空难事故并不是由飞行员操作失误造成的

B.调查人员能够分辨出,飞机坠毁是由于设计方面的错误,还是由于制造方面的缺陷

C.有关 F717 飞机设计有问题的说法并没有明确指出任何具体的设计错误

D.在 F717 飞机的设计中,不存在任何会导致飞行员操作失误的设计缺陷

※※※第四部分结束,请继续做第五部分!※※※

第五部分 资料分析

(共 15 题,参考时限 15 分钟)

所给出的图、表、文字或综合型资料均有若干个问题要你回答。你应根据资料提供的信息进行分析、比较、计算和判断处理。

请开始答题:

一、根据以下资料,回答 121~125 题。

2009 年以来,山东省工业生产增速呈波动回升态势,8 月份规模以上工业增加值增长 15.0%,比年初增速提高 3.3 个百分点。1-8 月,累计实现增加值 12188.4 亿元,增长 12.6%,较上半年增速提高 0.6 个百分点,比全国平均增速快 4.5 个百分点。工业品产量回升面继续扩大,增势稳步升高。8 月份,在国家重点调度的 120 种工业产品中,有 95 种产品产量同比增长,占重点调度产品的 79.0%,占比较 7 月份提高 14.0 个百分点;增速较 7 月份提高的有 77 种,占重点调度产品的 64.2%。

1-8 月,全社会固定资产投资完成 12872.1 亿元,增长 23.0%,增幅比上半年提高 0.2 个百分点,同比提高 1.5 个百分点。其中,城镇投资 10557.4 亿元,增长 22.7%,增幅比上半年提高 0.2 个百分点。第一、二产业投资保持稳定增长,依次增长 19.2%和 16.2%;第三产业投资增速加快,增长 33.0%,增幅比上半年提高 1.0 个百分点;上年同期的三次产业投资构成之比为 3.9:56.3:39.8。1-8 月,房地产开发投资完成额 1507.0 亿元,增长 22.5%,比全国平均增速高 7.8 个百分点。房屋销售面积 3424.1 万平方米,增幅由上半年、1-7 月的 11.0%、19.5%提升至 24.9%。

今年以来,全省消费市场逐步走强,社会消费品零售额增长由 2 月份的 14.4%增至 8 月份的 18.8%,提高 4.4 个百分点。1-8 月累计实现零售额 7808.4 亿元,增长 18.1%,增速同比回落 5.4 个百分点,比上半年提高 0.2 个百分点,比全国平均增速高 3.0 个百分点;扣除价格因素,实

际增长 19.2%, 同比提高 2.4 个百分点。其中, 县以上城市市场实现零售额 5075.0 亿元, 增长 18.5%; 县及县以下农村市场实现零售额 2733.4 亿元, 增长 17.4%。

8 月份, 居民消费价格比上月上涨 0.3%, 为自今年 3 月份以来首次出现月环比上涨。与上年同月比, 居民消费价格下降 0.7%, 比上月降幅收窄 0.1 个百分点。1-8 月, 居民消费价格同比下降 0.2%, 继续延续上月累计同比价格首次出现的降势, 降幅比前 7 个月扩大 0.1 个百分点, 比全国平均降幅低 1.0 个百分点。8 月份, 原材料燃料动力购进价格和工业品出厂价格环比分别上涨 0.6% 和 0.8%。与上年同月比, 两类价格依次下降 7.6% 和 8.8%, 其中, 工业品出厂价格同比自上年 12 月由升转降以来, 降幅首次出现缩减, 比 7 月份降幅收窄 0.6 个百分点。1-8 月, 两类价格累计同比分别下降 5.6% 和 7.1%, 较全国平均降幅依次低 3.8 个百分点和高 0.7 个百分点。

121. 2009 年 7 月份, 在国家重点调度产品中, 山东省工业品产量同比增长的有() 种。

- A. 65 B. 78 C. 93 D. 95

122. 2007 年 1-8 月, 山东省累计实现零售额:

- A. 7466.9 亿元 B. 5866.6 亿元 C. 5353.6 亿元 D. 5075.0 亿元

123. 2009 年 7 月, 山东省居民消费价格与上年同月相比:

- A. 上涨 0.6% B. 下降 0.6%
C. 上涨 0.8% D. 下降 0.8%

124. 2009 年 1-8 月, 山东省三次产业投资构成之比为:

- A. 3.2:55.4:41.4 B. 3.4:58.5:38.1
C. 3.8:53.2:43.0 D. 4.3:51.2:44.5

125. 下列说法不正确的是:

- A. 2009 年 1-8 月, 全国累计实现增加值的平均增速为 8.1%
B. 2009 年 1-8 月, 全国居民消费价格同比平均降幅为 1.2%
C. 与去年同期相比, 2008 年 1-8 月山东省县以上城市市场实现零售额增加值比县及县以下农村市场零售额增加值多 508.3 亿元
D. 2009 年 1-8 月, 山东经济稳步提升, 向好趋势进一步展现

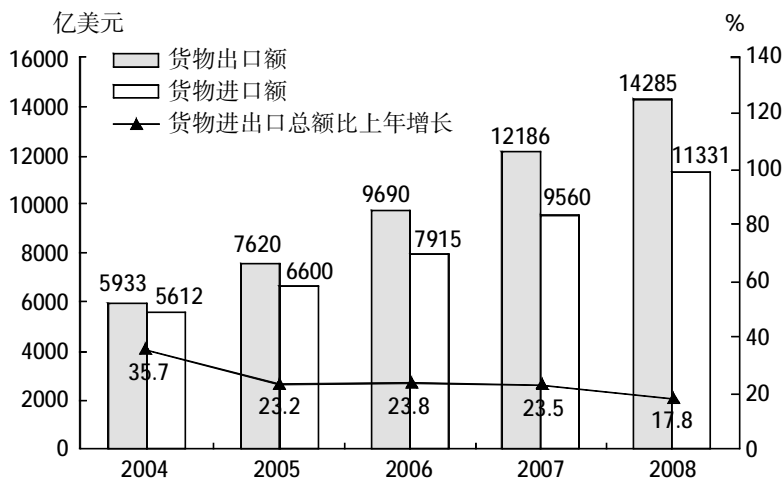
二、根据以下资料, 回答 126~130 题。

2008 年我国大陆地区对主要国家和地区货物进出口额及其增长速度

单位: 亿美元

国家和地区	货物出口额	比上年增长%	货物进口额	比上年增长%
欧盟	2929	19.5	1327	19.6
美国	2523	8.4	814	17.4
中国香港	1907	3.4	129	0.9
日本	1161	13.8	1507	12.5
东盟	1141	20.7	1170	7.9
韩国	740	31.0	1122	8.1
俄罗斯	330	15.9	238	21.0
印度	315	31.2	203	38.7
中国台湾	259	10.3	1033	2.3

2004-2008 年我国大陆地区货物进出口总额及其增长速度



126. 2007 年我国大陆地区对美国的货物进出口总额为:

- A. 2523 亿美元 B. 3337 亿美元
C. 3021 亿美元 D. 814 亿美元

127. 2008 年对主要国家和地区货物进出口贸易逆差额(进口额-出口额)最大的国家(地区)是:

- A. 欧盟 B. 美国
C. 韩国 D. 中国台湾

128. 2007 年对东盟的进口额占当年进口额的比重约是:

- A. 7.7% B. 11.3%
C. 23% D. 34%

129. 与 2004 年相比, 2008 年货物进出口总额的增长幅度约为:

- A. 121.9% B. 93.7%
C. 221.9% D. 54.8%

130. 下列说法中, 不正确的是:

- A. 与上年相比, 我国大陆地区对外进出口总额的增加额在 2007 年达到最大
B. 与上年相比, 2008 年我国大陆地区对主要国家和地区货物进出口总额增长率都超过 10%
C. 2008 年, 我国大陆地区对主要国家和地区货物出口额总共约为 11305 亿美元
D. 2004 年-2008 年, 我国大陆地区的进口额和出口额都呈现出上升趋势

三、根据以下资料, 回答 131~135 题。

2009 年全年全国房地产开发投资 36232 亿元, 比上年增长 16.1%。其中, 商品住宅投资 25619 亿元, 增长 14.2%; 办公楼投资 1378 亿元, 增长 18.1%; 商业营业用房投资 4172 亿元, 增长 24.4%。

2009 年房地产开发和销售主要指标完成情况

指 标	单 位	绝对数	比上年增长%
投资完成额	亿元	36232	16.1
其中:住宅	亿元	25619	14.2
其中:90 平方米以下住宅	亿元	8351	24.1
其中:经济适用房	亿元	1139	17.3
房屋施工面积	万平方米	319650	12.8
其中:住宅	万平方米	250804	12.5
房屋新开工面积	万平方米	115385	12.5
其中:住宅	万平方米	92463	10.5
房屋竣工面积	万平方米	70219	5.5
其中:住宅	万平方米	57694	6.2
商品房销售面积	万平方米	93713	42.1
其中:住宅	万平方米	85294	43.9
本年资金来源	亿元	57128	44.2
其中:国内贷款	亿元	11293	48.5
其中:个人按揭贷款	亿元	8403	116.2
本年购置土地面积	万平方米	31906	-18.9
完成开发土地面积	万平方米	23006	-19.9
土地购置费	亿元	6039	0.7

131.2008 年全国商品住宅投资占房地产开发总投资的比例为:

- A.57% B.60% C.72% D.78%

132.2009 年全国平均每平方米住宅施工面积投资完成额为:

- A.899 元/平方米 B.1021 元/平方米
C.1.02×10⁴ 元/平方米 D.1.21×10³ 元/平方米

133.以下各项数值与上年相比,增长的幅度最大的是:

- A.商业营业用房投资额 B.商品房销售面积
C.个人按揭贷款金额 D.完成开发土地面积

134.2009 年用于经济适用房的投资完成额比上年多:

- A.181 亿元 B.159 亿元
C.174 亿元 D.168 亿元

135.以下说法错误的是:

- A.2009 年办公楼投资额比上一年的增长幅度大于全年全国房地产开发投资额
B.2009 年 90 平方米以下住宅的投资完成额占住宅总投资完成额的比重不足三分之一
C.2009 年购置土地面积明显小于上年
D.2009 年房屋施工面积是房屋竣工面积的 4.2 倍

※※※全部测验到此结束! ※※※